

第1問題 10点

問 1	(1)	ユーラシア大陸	ウ (1点)	南アメリカ大陸	ア (1点)
	(2)	B (2点)	(3)	B (2点)	
	(4)	(例) 暖房の熱で永久凍土の表面が溶けることによる家屋の傾きを防ぐため。(2点)			
	(5)	(例) 北西方向に移動する太平洋プレートの下にホットスポットが存在するから。(2点)			

第2問題 10点

問 1	(1)	海岸段丘 (1点)	(2)	C (2点)	
	(3)	中央構造線 (メディアンライン) (1点)			
	(4)	①	促成 (1点)	②	端境 (1点)
	(5)	C (2点)		(6)	A (2点)

第3問題 14点

問 1	B (2点)			
問 2	く (1点)	山脈名	ピレネー山脈 (1点)	
問 3	C (1点)	問 4	青いバナナ (ブルーバナナ) (1点)	
問 5	オランダ	A (1点)	イタリア	C (1点)
問 6	ドイツ	B (1点)	フランス	D (1点)
問 7	B (2点)	問 8	A (2点)	

整理番号	

(この欄は記入しないこと)

第4問題 8点

問1	B (2点)		問2	C (2点)	
問3	(1)	D (2点)			
	(2)	(例) 疫病の流行や武家の台頭など社会変化が起こる中で、末法思想が流行したから。(2点)			

第5問題 11点

問1	C (2点)		問2	厳島神社 (1点)	
問3	F (2点)		問4	D (2点)	
問5			問6	A (2点)	
問6	喧嘩両成敗 (法) (2点)				

第6問題 7点

問1	出雲お国 (阿国、出雲阿国) (1点)		問2	C (2点)		問3	C (2点)		問4	D (2点)	
----	------------------------	--	----	-----------	--	----	-----------	--	----	-----------	--

第7問題 7点

問1	A (2点)		問2	A (2点)		問3	岡田啓介 (1点)	
問4	F (2点)							

第8問題 5点

問1	聖徳太子 (1点)		問2	C (2点)	
問3	C (2点)				

第9問題 10点

問1	C (2点)		問2	労働基本権 (労働三権) (2点)		問3	議院内閣制 (2点)		
問4	(ア)	控訴		(イ)	地方		問5	C (2点)	

(完答2点)

整理番号	

(この欄は記入しないこと)

第10問題 10点

問 1	E (2点)	問 2	国内総生産 (GDP) (2点)	問 3	B (2点)
問 4	(例) 安い労働力を背景に海外で活動する日系企業が増加したが、国内生産量が低下し、産業の空洞化が進んでいる。 (2点)				
問 5	F (2点)				

第11問題 8点

問 1	G (2点)	問 2	持続可能な開発 (2点)	問 3	D (2点)	問 4	C (2点)
--------	-----------	--------	-----------------	--------	-----------	--------	-----------

整理番号	

(この欄は記入しないこと)

令和9年度 公立学校教員採用候補者選考試験問題

社 会

1 / 19 枚中

注意1 答はすべて解答用紙の解答欄に記入すること。

注意2 解答にあたっては、事象名、人名、地名等の中で、漢字で表記すべき用語は漢字で記入すること。

第1問題 世界の地理に関する次の問に答えよ。

問1 表1は図1に示したユーラシア、アフリカ、北アメリカ、南アメリカ、オーストラリアの各大陸と南極大陸の気候区の割合を示したものである。後の(1)、(2)に答えよ。

表1 大陸別気候区の割合 (単位: %)

気候区		(ア)	(イ)	(ウ)	(エ)	オーストラリア	南極	陸地全域
熱帯	A f	26.9	19.8	3.5	2.8	7.9	-	9.4
	A w	36.5	18.8	3.9	2.4	9.0	-	10.5
乾燥帯	B S	6.7	21.5	15.9	10.7	25.8	-	14.3
	B W	7.3	25.2	10.2	3.7	31.4	-	12.0
温帯	C s	0.3	1.3	2.2	0.8	7.9	-	1.7
	C w	6.7	13.1	9.6	2.0	6.8	-	7.5
	C f	14.0	0.3	5.7	10.7	11.2	-	6.2
亜寒帯	D f	-	-	25.8	43.4	-	-	16.5
	D w	-	-	13.4	-	-	-	4.8
寒帯	E T	1.6	-	9.8	17.3	-	3.6	6.4
	E F	-	-	-	6.2	-	96.4	10.7

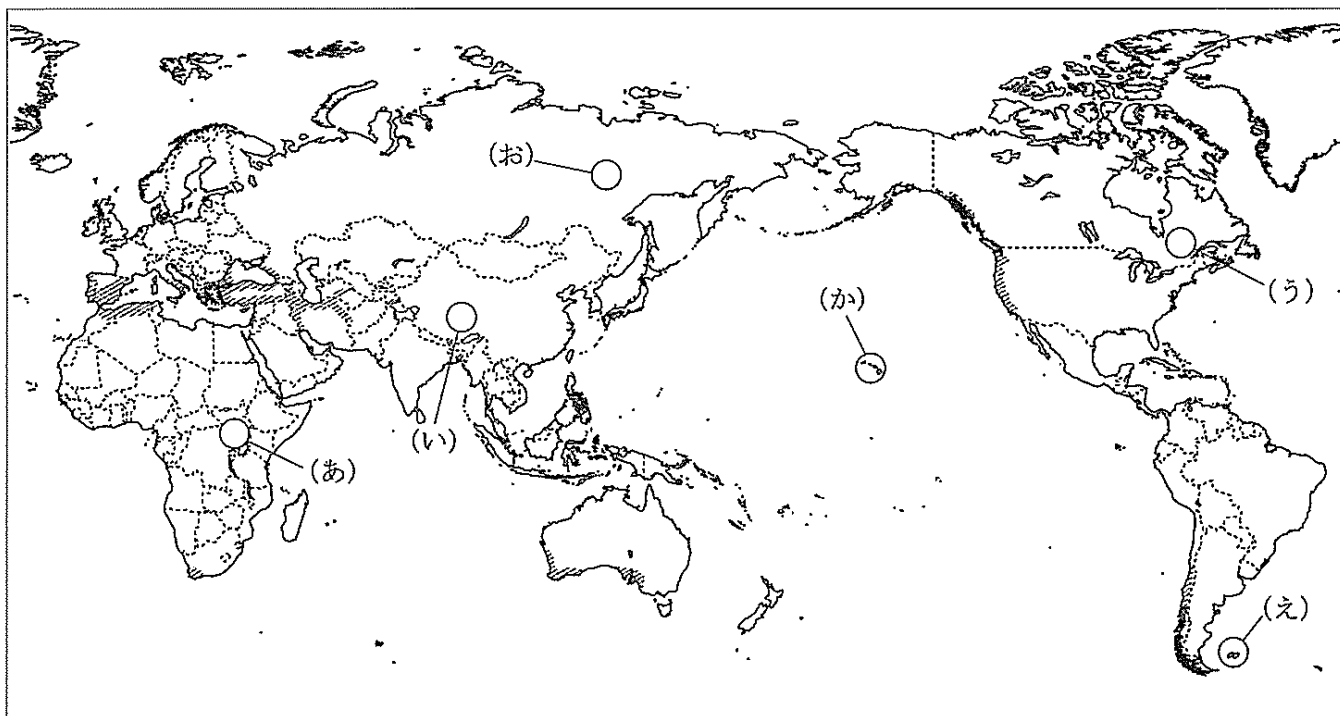



図1

(1) 表1中の(ア)～(エ)のうち、ユーラシア大陸、南アメリカ大陸にあてはまるものを、(ア)～(エ)からそれぞれ一つ選び、記号で答えよ。

(2) 表1中のCs気候は、図1の  で着色した地域に見られる。この気候区の説明として適当なものを、A～Dから一つ選び、記号で答えよ。

- A 年間降水量は多いが、冬季に少雨となる。
- B 各大陸の西岸を中心に分布している。
- C 乾燥に強いジュートなどの作物が栽培される。
- D 陸地全域では、もっとも分布割合が高い。

(3) 図1中の(あ)～(え)の各地域では、人種・民族や国境をめぐる紛争が発生している。(あ)～(え)の各地域の説明として 適当でないものを、A～Dから一つ選び、記号で答えよ。

- A (あ)の地域では、支配勢力である多数派のフツ族と少数派のツチ族が対立し、深刻な難民問題が発生した。
- B (い)の地域では、第二次世界大戦後、オランダからの独立を契機としたチベット仏教(ラマ教)徒の分離独立運動が起こった。
- C (う)の地域では、フランス系住民が8割を占め、主権の拡大、分離・独立を強く要求している。
- D (え)の地域では、スペインから独立した国とイギリスが互いに領有権を主張し、1982年に軍事衝突が起こった。

(4) 図1中の(お)の地域では、図2のような高床式の住居が見られる。高床式になっている理由を、「暖房」という語を使用して説明せよ。




図2

(5) 図1中の(か)のハワイ諸島は北西から南東に連なる島々からなり、南東の島ほど新しい。その理由を答えよ。

第2問題 日本の諸地域に関する後の問に答えよ。

問1 図3は図4の(あ)の地域の電子地形図25000「羽根」の一部を示したものである。後の(1)、(2)に答えよ。

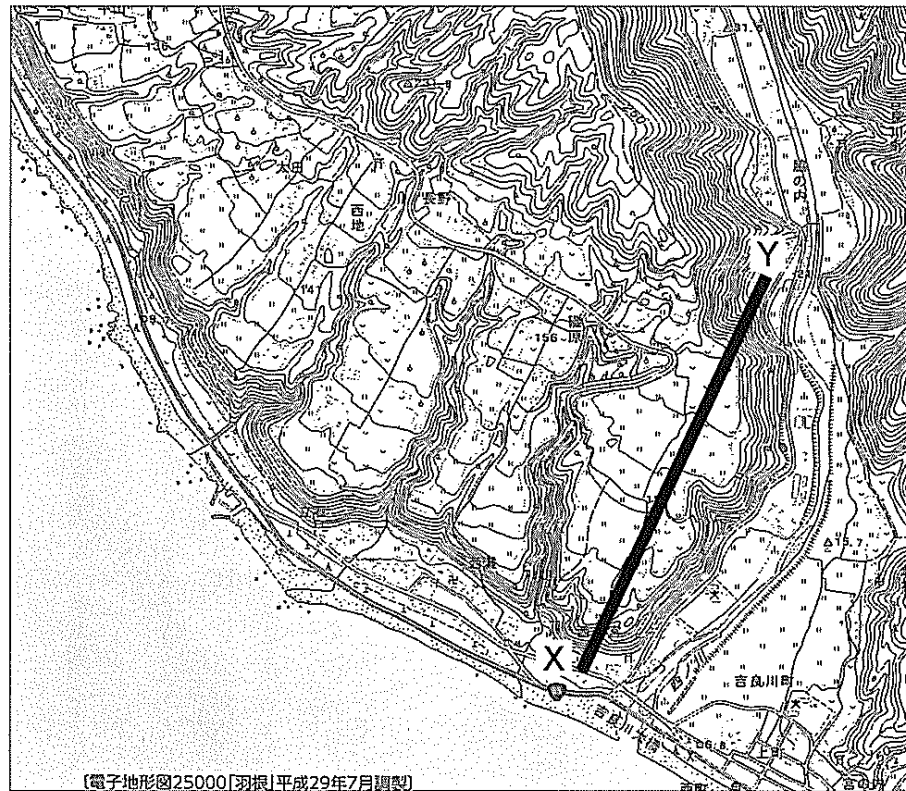


図3

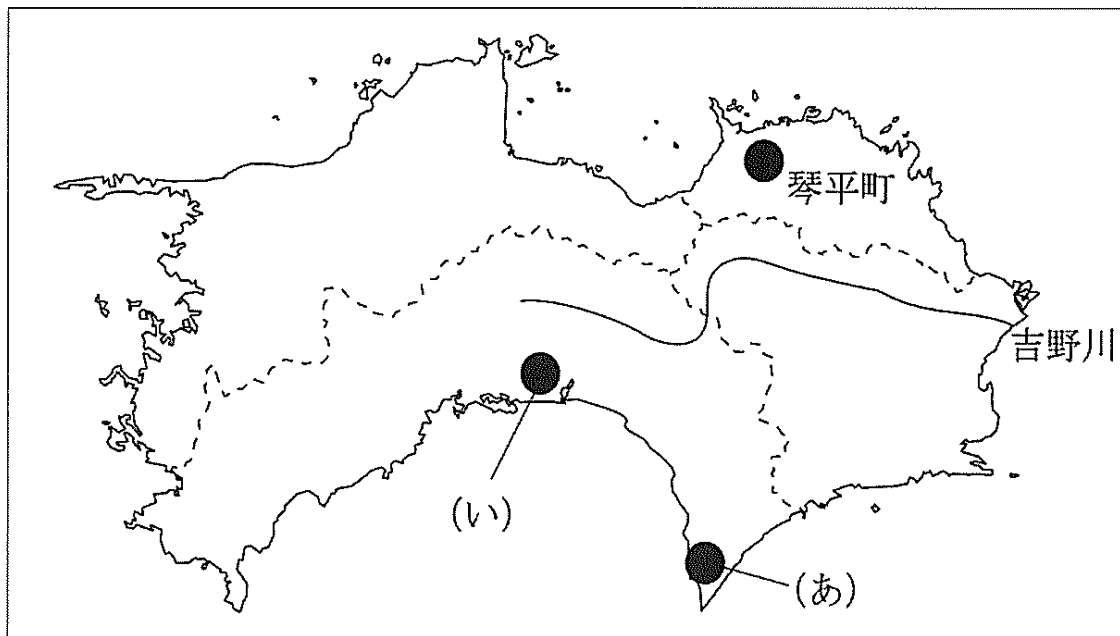
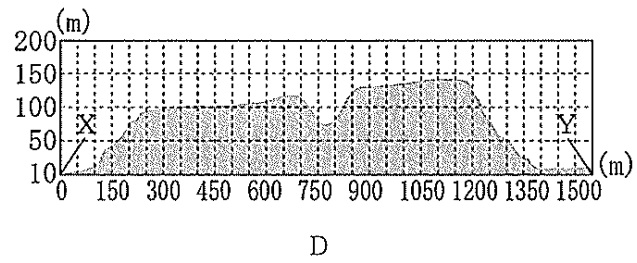
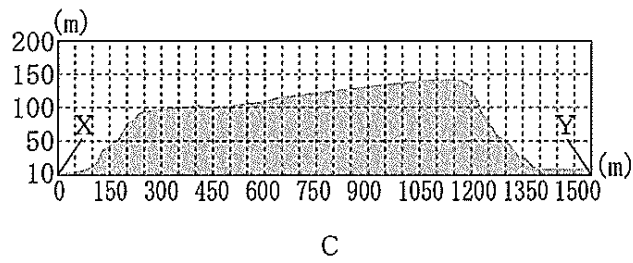
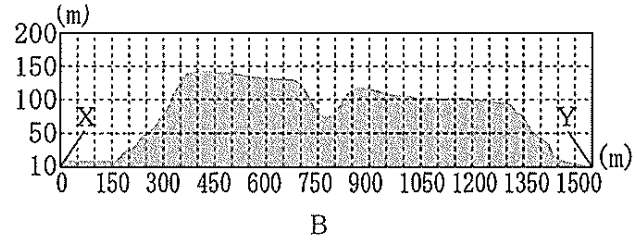
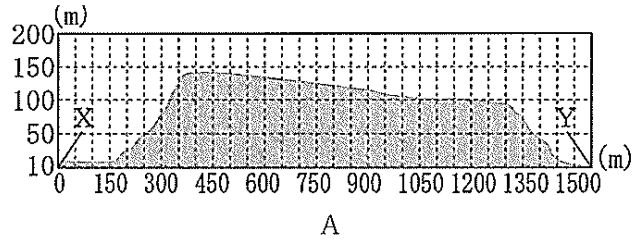


図4

(1) 図3の地形図には急崖を伴う台地状の土地が見られる。このような海岸地形を何というか。漢字4文字で答えよ。

(2) 図3中のX-Yの断面図として適当なものを、A～Dから一つ選び、記号で答えよ。



(3) 図4中の吉野川は、日本列島を内帯と外帯に分ける地帯構造上の境界線と一致する。この境界線の名称を答えよ。

(4) 図4中の (い) では野菜の栽培が盛んである。図5のグラフは東京市場への「なす」の出荷量と価格を示したものである。

このグラフに関する後の【説明文】中の ①・② にあてはまる語をそれぞれ漢字2文字で答えよ。

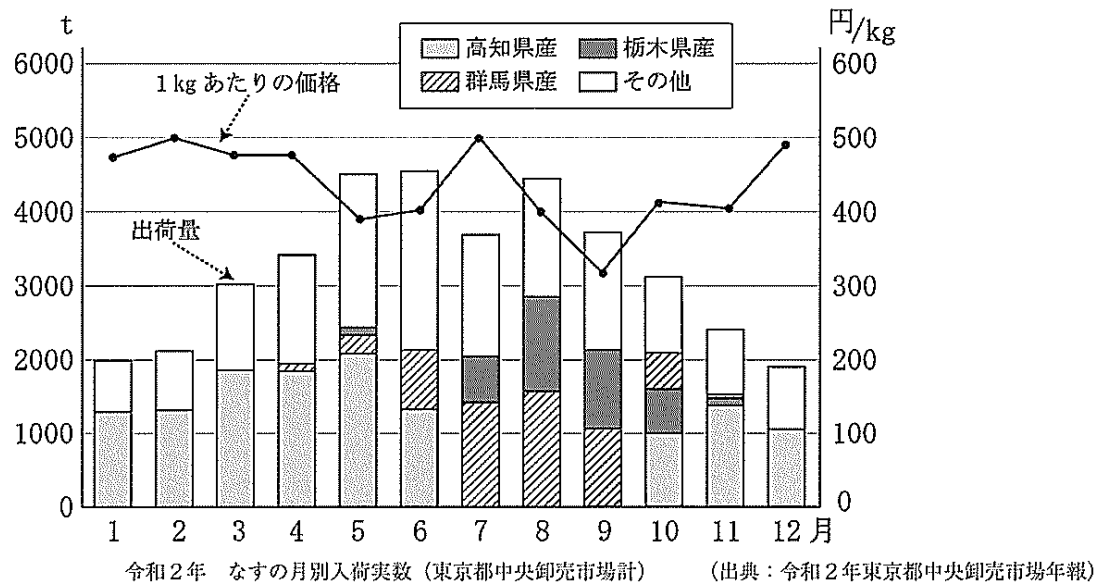


図5

【説明文】

高知県は温暖な気候を利用して、「なす」などの ① 栽培が盛んであり、他の産地の出荷が少なくなる ② 期に出荷することで高値での販売を可能にしている。

(5) 琴平町は、神社を中心とした鳥居前町として発達した都市である。都市の起源と都市名の組合せとして適当でないものを、A～Dから一つ選び、記号で答えよ。

〔起源〕      〔都市名〕

- A 寺内町      富田林
- B 港町        博多
- C 城下町      札幌
- D 門前町      長野

(6) 愛媛県は、パルプ・紙・紙加工品の製造品出荷額が静岡県に次いで全国第2位である。紙・パルプ工業はどのような立地条件による工業に分類されるか、A～Dから一つ選び、記号で答えよ。

- A 用水指向型工業
- B 電力指向型工業
- C 市場指向型工業
- D 労働力指向型工業

第3問題 図6に関する後の問に答えよ。

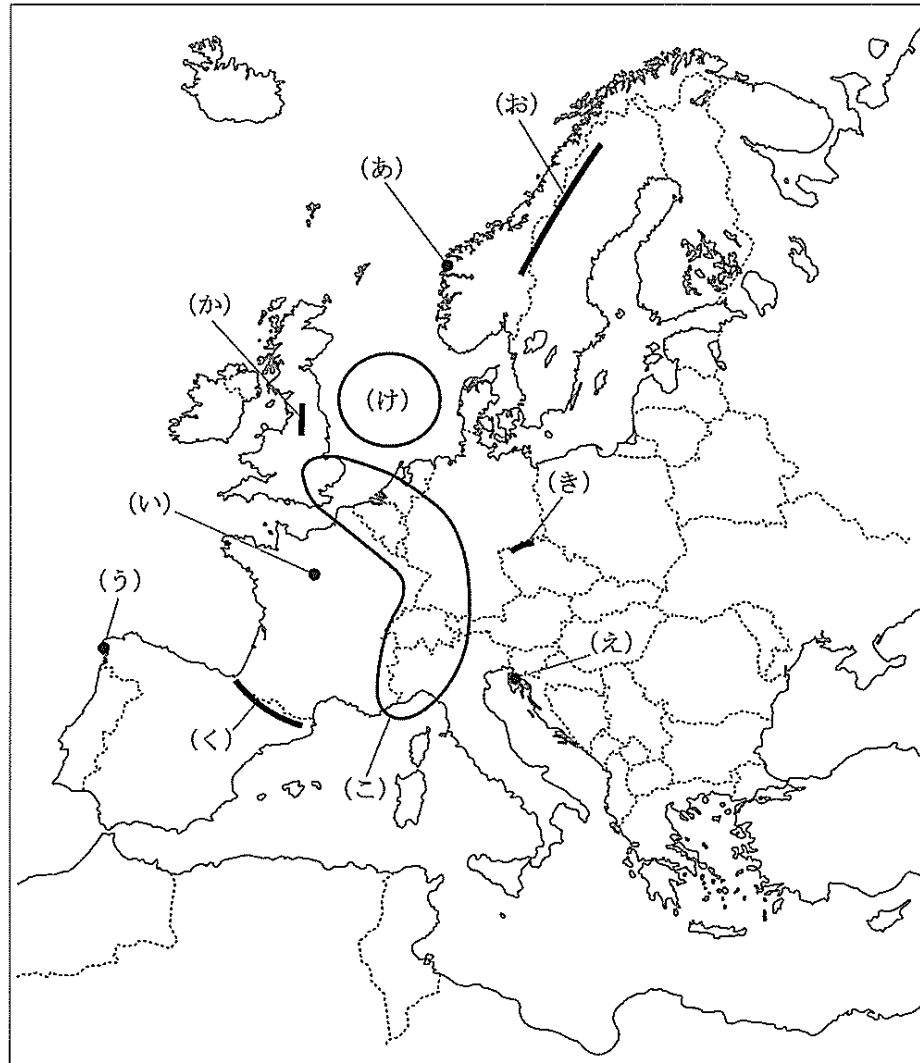


図6

問1 図6中の(あ)～(え)に見られる地形の説明として適当なものをA～Dから一つ選び、記号で答えよ。

- A (あ)には、陸地の沈水によってできたエスチュアリが見られる。
- B (い)には、侵食作用によってできたケスタ地形が見られる。
- C (う)には、断層活動によってできたカルスト地形が見られる。
- D (え)には、陸地の隆起によってできたリアス海岸が見られる。

問2 図6中の(お)～(く)の山脈のうち、新期造山帯に属するもの一つを選び、その山脈名を答えよ。

問3 図6中の(け)の説明として適当なものを、A～Dから一つ選び、記号で答えよ。

- A 南北方向に海溝が連なっている。
- B 冬季は沿岸の港が氷で閉ざされる。
- C たらなどの好漁場となっている。
- D 海底資源には恵まれていない。

問4 図6中の(こ)は、多くの大都市と発達した先端技術産業や交通網があり、ヨーロッパの経済や文化の中心となっている。この地域を何と呼ぶか答えよ。

問5 表2は、オランダ、イタリア、スイス、スウェーデンの農業指数を示しており、A～Dにはそれぞれの国名が入る。オランダとイタリアに該当するものを、A～Dからそれぞれ一つ選び、記号で答えよ。

表2 ヨーロッパの主な国の農業指標と地域性 (FAOSTAT『世界の統計』2022、令和2年度『食料需給表』などによる)

	農林水産業就業者 1人当たり農用地 (ha) (2018年)	国土面積に対する割合 (%) (2018年)		農林水産業就業 人口率 (%) (2019年)	食料自給率 (%) (2018年)						農業生産額の割合 (%) (2019年)	
		耕地・樹園 地	牧場・牧草 地		穀類	いも類	野菜類	果実類	肉類	牛乳・ 乳製品	農作物	畜産物
A	9.9	25.2	18.2	2.1	10	150	411	40	273	157	56.3	43.7
B	10.5	10.3	26.5	2.6	46	94	52	44	90	101	44.5	55.5
C	14.1	30.3	10.7	3.9	62	54	149	109	75	85	66.7	33.3
D	34.9	5.8	1.0	1.7	102	78	34	7	85	84	52.0	48.0

問6 表3は、ドイツ、フランス、スペイン、イギリスの移民数 (外国生まれの人口) を示しており、A～Dにはそれぞれの国名が入る。ドイツとフランスに該当するものを、A～Dからそれぞれ一つ選び、記号で答えよ。

表3 ヨーロッパ諸国の移民数 (外国生まれの人口) (2019年、千人)

出身国	A		B		C		D	
	インド	847	ポーランド	1,638	モロッコ	752	アルジェリア	1,397
ポーランド	746	トルコ	1,339	ルーマニア	587	モロッコ	1,020	
パキスタン	519	ロシア	1,076	コロンビア	431	ポルトガル	615	
ルーマニア	370	カザフスタン	926	エクアドル	412	チュニジア	427	
アイルランド	364	ルーマニア	813	ベネズエラ	312	イタリア	315	

問7 2024年現在、EUに加盟しているが、共通通貨ユーロは導入していない国の組合せとして適当なものを、A～Dから一つ選び、記号で答えよ。

- A イギリス・ギリシャ
- B スウェーデン・ポーランド
- C ベルギー・デンマーク
- D アイルランド・イタリア

問8 図7は、EU、アメリカ合衆国、ASEAN、日本を比較した指標である。このうち、EUに該当するものを、A～Dから一つ選び、記号で答えよ。

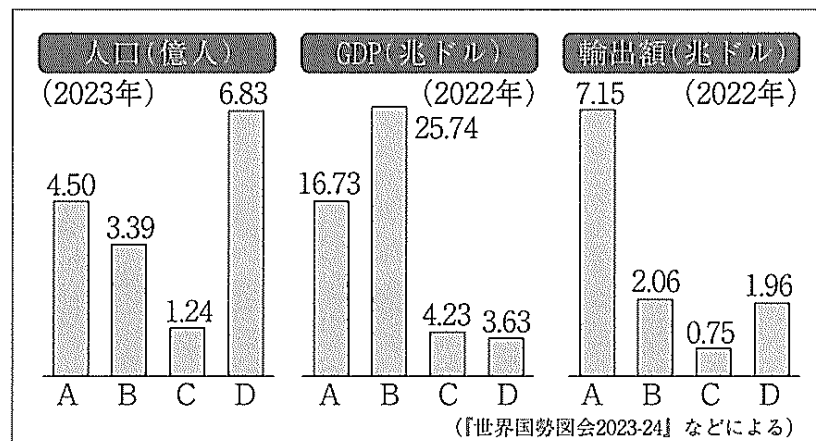


図7

第4問題 日本の古代について、次の問に答えよ。

問1 飛鳥文化の特徴を最もよく表しているものを、A～Dから一つ選び、記号で答えよ。

著作権等保護の観点から掲載いたしません

- A 高松塚古墳壁画
- B 中宮寺天寿国繡帳
- C 薬師寺吉祥天像
- D 阿弥陀聖衆来迎図

問2 聖武天皇の政治について述べた文として適当なものを、A～Dから一つ選び、記号で答えよ。

- A 改新の詔が出され、豪族の田荘・部曲を廃止した。
- B 唐の律令を手本にした大宝律令が制定され、律令国家のしくみが整った。
- C 大仏造立の詔が出され、奈良で大仏造立が続けられた。
- D 社会の変化に応じて律令の補足・修正や施行細則が出され、弘仁格式として編纂された。

問3 平安時代について、次の(1)、(2)に答えよ。

(1) 藤原氏北家の地位が不動のものとなるきっかけとなった出来事について述べた文として適当なものを、A～Dから一つ選び、記号で答えよ。

- A 伴善男による応天門の放火
- B 藤原基経による宇多天皇の勅書撤回
- C 藤原時平による菅原道真の左遷
- D 源満仲による源高明の失脚

(2) 史料1は、平安末期に皇円が著した『扶桑略記』の一部である。この時代に浄土教が流行した社会背景を、史料1を参考に説明せよ。

史料1

永承七年壬辰正月廿六日癸酉、千僧を大極殿に屈請し、観音経を転読せしむ。去年の冬より疾疫流行し、改年已後、弥以て熾盛なり。仍りて其の災いを除かむが為なり。今年始めて末法に入る。(永保元年)九月十三日丙申、三井寺大衆中不羈なる倫等三百人計、密々相招き、夜半山に登りて乱逆す。一事も報ぜず残滅せられ畢ぬ。……十五日戊戌、未の時、山僧数百の兵衆を引率して三井寺に行き向ふ。重ねて残る堂舎僧房等を焼き畢ぬと云ふ。堂院二十処、経藏五所、神社九処、僧房一百八十三処。但し舎宅はこれを注載せず。其の数幾千なるかを知らざる而已。……今年末法に入りてより三十年を歴たり。  
(扶桑略記)

第5問題 日本の中世について、次の問に答えよ。

問1 白河上皇の時代に、院の警備に当たるために組織され、後に武士の成長につながったとされる集団の名称を、A～Dから一つ選び、記号で答えよ。

- A 押領使
- B 追捕使
- C 北面の武士
- D 西面の武士

問2 平安時代末期に、平清盛が平家一門の繁栄を願い、平家納経を奉納した安芸国の神社の名称を答えよ。

問3 次の(あ)～(う)について、年代の古いものから順に並べたものとして正しいものを、後のA～Fから一つ選び、記号で答えよ。

- (あ) 後醍醐天皇が親政を行い、中央には記録所や雑訴決断所が設置された。
- (い) モンゴル軍が二度にわたって襲来し、一度目の襲来ののちに異国警固番役を強化した。
- (う) 安徳天皇を擁した平氏と源氏が長門国で戦い、平家一門が滅亡した。

- A (あ)－(い)－(う)
- B (あ)－(う)－(い)
- C (い)－(あ)－(う)
- D (い)－(う)－(あ)
- E (う)－(あ)－(い)
- F (う)－(い)－(あ)

問4 年表1について、朝貢形式に反対し、中断していた明との国交・貿易を再開した時期として正しいものを、後のA～Eから一つ選び、記号で答えよ。

年表1

時期	将軍	主な事項
I	足利尊氏	征夷大将軍就任
II	足利義満	南北朝の合体
III	足利義持	応永の外寇
IV	足利義晴	寧波の乱

- A Iの前
- B IとIIの間
- C IIとIIIの間
- D IIIとIVの間
- E IVより後

問5 史料2と図8が説明している出来事として正しいものを、後のA～Dから一つ選び、記号で答えよ。

史料2

九月 日、一天下の土民蜂起す。徳政と号し、酒屋・土倉・寺院等を破却せしめ、雑物等恣にこれを取り、借錢等悉これを破る。官領これを成敗す。凡そ亡国の基、これに過ぐべからず。日本開白以来、土民蜂起是れ初めなり。(『大乘院日記目録』原漢文)

- A 正長の徳政一揆
- B 播磨の土一揆
- C 山城の国一揆
- D 加賀の一向一揆

著作権等保護の観点  
から掲載いたしません

柳生の徳政碑文

図8

問6 史料3は、ある戦国大名の領国における分国法である。史料3を参考に、下の【説明文】中の「ア」にあてはまる語を答えよ。

史料3

- 一 喧嘩の事、是非に及ばず成敗を加ふべし。但し、取り懸ると雖も、堪忍せしむるの輩に於ては、罪科に処すべからず。(甲州法度之次第、原漢文)
- 一 駿・遠兩國の輩、或はわたくしとして他国より嫁をとり、或は婿にとり、娘をつかはす事、自今以後停止し畢ぬ。(今川仮名目録)
- 一 百姓、地頭の年貢所当相つとめず、他領へ罷り去る事、盗人の罪科たるべし。(塵芥集)

【説明文】

分国法とは、戦国大名が領国統治のために制定した施政方針・法令のことである。武田氏の分国法では、家臣同士が紛争を私闘で解決することを禁止し、大名の裁定で決着する「ア」が定められた。

第6問題 日本の近世について、次の問に答えよ。

問1 図9の中央に描かれた人物は、17世紀初めに都市で盛んだった風流踊りを「かぶき者」の姿で踊り、「かぶき踊り」の創始者として知られる。この人物名を答えよ。

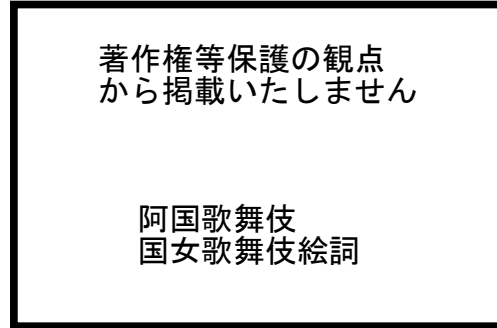


図9

問2 8代将軍徳川吉宗が行った政策として適当なものを、A～Dから一つ選び、記号で答えよ。

- A 殉死の禁止
- B 閑院宮家の創設
- C 公事方御定書の制定
- D 株仲間の解散

問3 史料4は、江戸時代に作られた狂歌である。この狂歌で風刺されている江戸時代の改革・政治を、A～Dから一つ選び、記号で答えよ。

史料4

世の中に蚊ほどうるさきものはなし  
 ぶんぶといふて夜もねられず  
 白河の清きに魚のすみかねて  
 もとの濁りの田沼こひしき

問4 次の文は、幕末に藩政改革に成功し、政局に強い発言権をもつようになった雄藩の一つが行った改革内容について説明したものである。この改革を行った藩を、後のA～Dから一つ選び、記号で答えよ。

下級武士を登用し、藩が抱える莫大な借財を事実上棚上げし、奄美三島（大島・徳之島・喜界島）特産の黒砂糖の専売制を強化し、琉球王国との密貿易を行い、藩財政を立て直した。その後、反射炉と藩営工場を建設して近代化を図った。

- A 水戸藩
- B 長州藩
- C 土佐藩
- D 薩摩藩

第7問題 日本の近現代について、次の問に答えよ。

問1 図10で風刺された外交政策を行った人物について述べた文として適当なものを、A～Dから一つ選び、記号で答えよ。

- A 不平等条約改正の交渉を有利に進めるため、鹿鳴館の建設や生活文化を欧米化する欧化政策を行った。
- B 第一次世界大戦後に戦争再発の防止と列強国との協調を進めるため、ワシントン会議に参加した。
- C 太平洋戦争を終結させるため、日本政府の代表として降伏文書であるポツダム宣言に署名した。
- D 日本が独立国として国際社会に復帰するため、サンフランシスコ平和会議に出席して条約に署名した。

著作権等保護の観点  
から掲載いたしません

鹿鳴館外交への風刺画

図10

問2 次のa、bの文は、それぞれある団体について説明したものである。それぞれの団体と関わりが深い図を、(あ)～(え)から選んだ上で、その組合せとして適当なものを、後のA～Fから一つ選び、記号で答えよ。

- a 被差別部落の住民に対する社会的差別からの解放を、政府の融和政策に頼ることなく実現することを目指して結成された。
- b 社会的に差別されていた女性の解放を文学の面から行うことを目指して結成された。

著作権等保護の観点  
から掲載いたしません

あ 荊冠旗  
い 青鞥  
う 改造  
え 麦と兵隊

- A a - (あ)    b - (い)
- B a - (い)    b - (う)
- C a - (う)    b - (え)
- D a - (え)    b - (あ)
- E a - (あ)    b - (う)
- F a - (い)    b - (え)

問3 1936年に起こった「二・二六事件」で、襲撃の標的となりながらも一命をとりとめた当時の内閣総理大臣の人物名を答えよ。

問4 次の(あ)～(う)の出来事について、年代の古いものから順に並べたものとして正しいものを、後のA～Fから一つ選び、記号で答えよ。

- (あ) プラザ合意
- (い) 特需景気
- (う) ドッジ=ライン

- A (あ) — (い) — (う)
- B (あ) — (う) — (い)
- C (い) — (あ) — (う)
- D (い) — (う) — (あ)
- E (う) — (あ) — (い)
- F (う) — (い) — (あ)

第8問題 倫理分野に関する次の文を読み、後の問に答えよ。

①中国で生まれた儒教は、百済の王仁によって古代日本に伝えられたとされ、7世紀初めに  によってつくられたとされる憲法十七条にもその教えが取り入れられた。②17世紀、江戸幕府が開かれると、出世間的な仏教にかわって、日常の現実世界の人倫のあり方を重視する新しい秩序理念として儒教が求められるようになった。

問1 文中の  にあてはまる人物名を答えよ。

問2 下線部①について述べたa、bの文について、その正誤の組合せとして正しいものを、後のA～Dから一つ選び、記号で答えよ。

- a 孔子は、すべての人々を差別なく愛する兼愛にもとづいて人々が互いに利益をもたらしあう社会を目指すべきだとする兼愛交利説を説いた。
- b 孔子は、社会秩序を実現するためには、刑罰をともなう法律による法治主義をしりぞけ、仁と礼にもとづく徳治主義をその理想として目指した。

- |   | a | b |
|---|---|---|
| A | 正 | 正 |
| B | 正 | 誤 |
| C | 誤 | 正 |
| D | 誤 | 誤 |

問3 表4のⅠ～Ⅲは、下線部②の時代に活躍した儒学者の教えの内容、人物名、学派をまとめたものである。それぞれの正誤の組合せとして適当なものを、後のA～Fから一つ選び、記号で答えよ。

表4

	教えの内容	人物名	学派
Ⅰ	天は上にあり、地は下にあるは、天地の礼也。この天地の礼を人む（生）まれながら心にえたるものなれば、万事につきて上下・前後の次第あり。	林羅山	朱子学派
Ⅱ	就中人は天地の徳、万物の霊なるゆえに、人の心と身に孝の実体みなそなはりたるにより、身をたて道をおこなふをもつて功夫の要領とす。	新井白石	陽明学派
Ⅲ	良知とは、赤子幼童の時からその親を愛敬する最初の一念を根本にして、善悪の分別是非を真実に弁え知る徳性の知をいうのである。	伊藤仁斎	古義学派

	Ⅰ	Ⅱ	Ⅲ
A	正	正	誤
B	正	誤	正
C	正	誤	誤
D	誤	正	正
E	誤	正	誤
F	誤	誤	正

第9問題 政治分野に関する次の問に答えよ。

問1 日本国憲法に定められた自由権について述べたa～cの文について、その正誤の組合せとして正しいものを、後のA～Fから一つ選び、記号で答えよ。

- a 信教の自由をより効果的に保障するために、国家権力の宗教への介入を禁じる政教分離の原則を定めている。
- b 憲法は身体の自由を保障する上で、居住や移転の自由を認めており、公共の福祉に反しない限り認められる。
- c 逮捕や捜査をする際に令状が必要となるが、令状を発行できるのは検察官とされている。

	a	b	c
A	正	正	誤
B	正	誤	正
C	正	誤	誤
D	誤	正	正
E	誤	正	誤
F	誤	誤	正

問2 労働者には雇用主と対等に交渉できるよう、団結権・団体交渉権・団体行動権を保障しているが、これら三つの権利を総称して何というか、答えよ。

問3 次の条文は、日本国憲法第65条及び第66条3項である。ここで規定されている議会と内閣の関係を示す語を漢字で答えよ。

第六十五条 行政権は、内閣に属する。

第六十六条3項 内閣は、行政権の行使について、国会に対し連帯して責任を負ふ。

問4 図11は、わが国の三審制を示したものである。図11中の「ア」、「イ」にあてはまる語を答えよ。

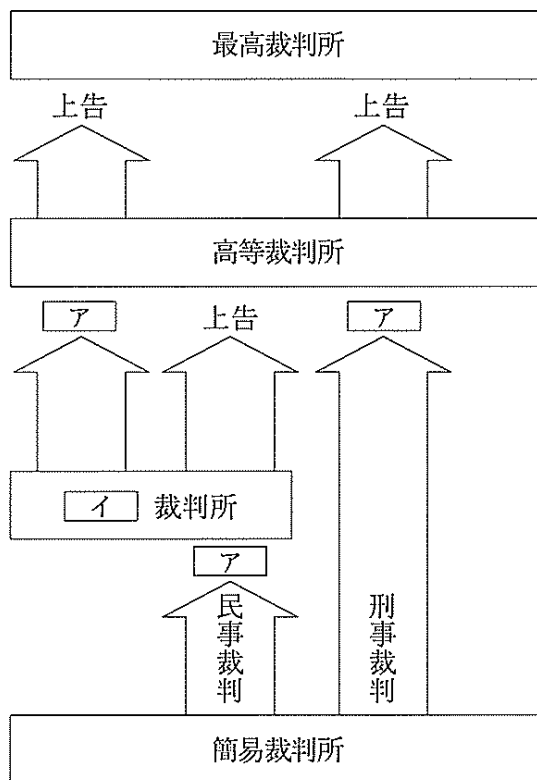


図11

問5 世論形成や行政について述べた a～d の文について、その正誤の組合せとして正しいものを、後の A～H から一つ選び、記号で答えよ。

- a 公共の問題について、多数の人々が持つ意見のことを世論といい、現代の政治において政権の存続も世論における内閣支持率に左右されることが多い。
- b 世論の形成に対して、マスメディアがもつ影響力は大きく、マスメディアが報道した世論の動向が、選挙の際のアナウンス効果となることがある。
- c 現代国家は、福祉や教育への国民の要求が高まったことなどが要因となり、行政機能が増大され、官僚機構も拡大した。その結果、立法権の優越が見られるようになった。
- d 行政の民主化をねらい、情報公開法の制定やオンブズマン制度を設け、国民による行政監視が進んでいる。

	a	b	c	d
A	正	正	正	正
B	正	正	正	誤
C	正	正	誤	正
D	正	誤	正	正
E	誤	正	誤	正
F	誤	誤	正	誤
G	誤	誤	誤	正
H	誤	誤	誤	誤

第10問題 経済分野に関する次の問に答えよ。

問1 経済生活とルールについて述べた a～c の文について、その正誤の組合せとして正しいものを、後の A～F から一つ選び、記号で答えよ。

- a 現代の経済は、一国の経済を単位とする国民経済で形成され、主として家計・企業・銀行という三つの経済主体から構成されている。
- b 民法や商法などの私法は、私たちの生活に密接に関係するルールで、所有権保護の原則、契約自由の原則、過失責任の原則という三つの原則がある。
- c 憲法は財産権を保障しているが、この財産権を詳しく規定しているのが商法であり、所有権や占有権などの物権や債権も規定している。

	a	b	c
A	正	正	誤
B	正	誤	正
C	正	誤	誤
D	誤	正	正
E	誤	正	誤
F	誤	誤	正

問2 国内において、1年間に新たに生産された財やサービスの合計からその原材料などの金額を差し引いたものを何というか、答えよ。

問3 図12は国内における「携帯電話機」「キャベツ」「スポーツドリンク」の価格の変化をグラフで表したものである。このうち「スポーツドリンク」に該当するものをA～Cから一つ選び、記号で答えよ。

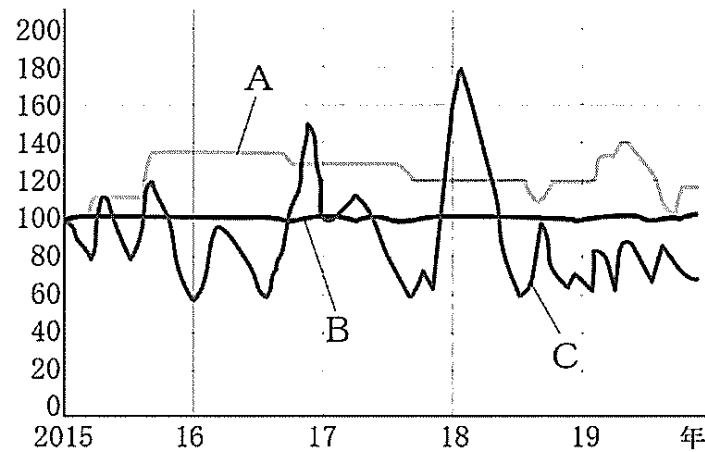


図12

さまざまな価格の変化（小売物価統計調査ほか）※2015年1月を100とした指数

問4 図13、図14、図15の資料を見て、1985年以降における日系企業の活動の特徴とその経済的背景及び日本国内の産業構造への影響について、「労働力」「産業」という語を必ず用いて説明せよ。

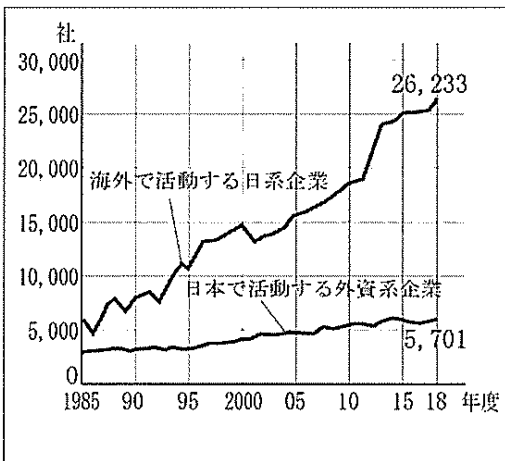


図13

海外で活動する日系企業および日本で活動する外資系企業の推移  
(出典：経済産業省資料、ほか)

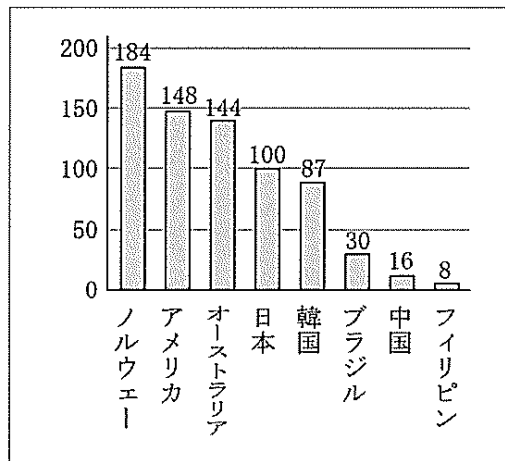


図14

日本と主要国の賃金  
※日本を100とした場合の製造業全雇用者の賃金  
(中国は2013年の参考値。それ以外は2016年)  
(出典：全米産業審議会資料)

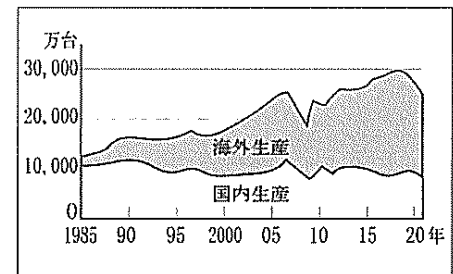


図15

日本の自動車メーカーの生産台数の推移  
(出典：経済産業省資料)

問5 現代の労働問題について述べた a～c の文について、その正誤の組合せとして正しいものを、後の A～F から一つ選び、記号で答えよ。

- a 男女雇用機会均等法は、労使対等・均等待遇・男女同一賃金・強制労働の禁止などの原則をはじめ、労働者の生存権と使用者が守るべき労働条件が定められている。
- b 高度経済成長期に、企業別労働組合、終身雇用制などを基本とした日本型経営システムが確立し、安定的な労使関係が生み出され、バブル崩壊以降も非正規雇用労働者の割合は減少している。
- c 性別を問わず育児・介護休暇を取得でき、仕事に復帰しやすくすることを目的とした、育児・介護休業法が改正され、多様で柔軟な働き方を選択できる環境を整えている。

	a	b	c
A	正	正	誤
B	正	誤	正
C	正	誤	誤
D	誤	正	正
E	誤	正	誤
F	誤	誤	正

第11問題 国際分野に関する次の問に答えよ。

問1 国際連合について述べた a～d の文について、その正誤の組合せとして正しいものを、後の A～H から一つ選び、記号で答えよ。

- a 国連の目的は、国際平和と安全の維持、国際協力の推進であり、これを達成するために主要機関のみが置かれ、総会が決定機関となっている。
- b 総会は全加盟国で構成され、各国はそれぞれ一票の投票権と拒否権をもっており、意思を表明できる。また、参加国の多数決によって可決される。
- c 安全保障理事会は、五つの常任理事国と10の非常任理事国で構成され、非常任理事国は2年に1回、常任理事国の推薦により決定される。
- d 経済社会理事会は、平和維持のために、経済・社会・文化的な国際交流を促進し、理事会の下に任務の遂行に必要な委員会が設けられている。

	a	b	c	d
A	正	正	正	正
B	正	正	正	誤
C	正	正	誤	正
D	正	誤	正	正
E	誤	正	誤	正
F	誤	誤	正	誤
G	誤	誤	誤	正
H	誤	誤	誤	誤

問2 資料1は「2030アジェンダ」の一部を抜粋したものであり、資料2は「パリ協定」から抜粋したものである。アに共通してあてはまる語句を答えよ。

資料1

このアジェンダは、人間、地球及び繁栄のための行動計画である。これはまた、より大きな自由における普遍的な平和の強化を追求するものでもある。我々は、極端な貧困を含む、あらゆる形態と側面の貧困を撲滅することが最大の地球規模の課題であり、アのための不可欠な必要条件であると認識する。

資料2

第2条

1 この協定は、条約（その目的を含む。）の実施を促進する上で、ア及び貧困を撲滅するための努力の文脈において、気候変動の脅威に対する世界全体での対応を、次のことによるものを含め、強化することを目的とする。

問3 兵器開発や軍縮に関する（あ）～（う）の出来事について、年代の古いものから順に並べたものとして正しいものを、後のA～Fから一つ選び、記号で答えよ。

- （あ）国益にとらわれないNGOの活動により、対人地雷全面禁止条約が発効された。
  - （い）第五福竜丸事件は大きな衝撃を人々に与え、原水爆禁止世界大会の開催につながった。
  - （う）キューバ危機後、米ソ間で戦略兵器制限交渉が行われ、INF全廃条約が締結された。
- A （あ）－（い）－（う）
  - B （あ）－（う）－（い）
  - C （い）－（あ）－（う）
  - D （い）－（う）－（あ）
  - E （う）－（あ）－（い）
  - F （う）－（い）－（あ）

問4 図16と関連のある宗教の建造物として適当なものを、後のA～Dから一つ選び、記号で答えよ。

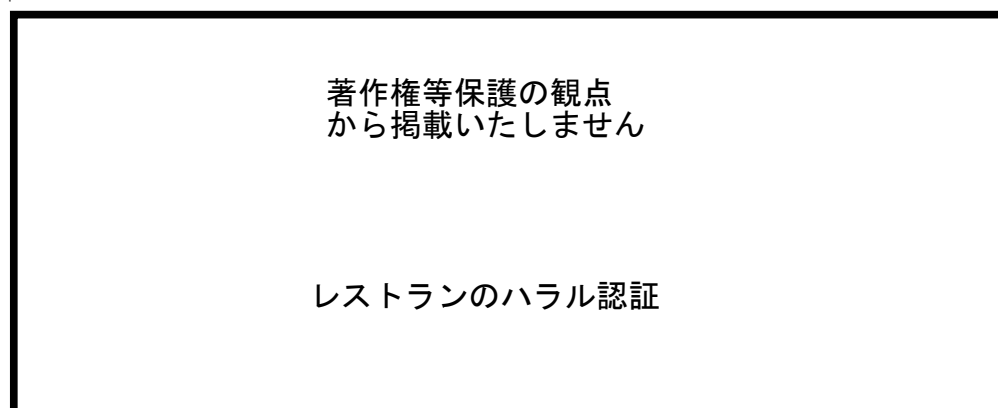


図16

著作権等保護の観点から掲載いたしません

- A サン＝ピエトロ大聖堂
- B 法隆寺
- C イマームの広場
- D アンコール＝ワット