

令和9年度長崎県公立学校
教員採用選考第1次試験問題

教科・科目

高校 世界史

受験番号

氏名

実施日 令和8年5月10日(日)

高校世界史

※ 解答はすべて解答用紙の該当欄に記入すること。

※ 漢字で書くべき人物・用語は漢字で正確に記入すること。

1 以下の各問いに答えよ。

問1 次の文章中の下線部について述べた文Ⅰ・Ⅱの正誤の組み合わせとして正しいものを、下の中から1つ選び、記号で答えよ。

18世紀後半、イギリスで産業革命が始まった。産業革命では、工場に機械が導入されたことにより、産業資本家と工場労働者からなる資本主義社会が本格的に形成され、農村から都市への人口集中が進み、新興の工業都市が急激に発展した。

Ⅰ 石炭を動力源とする蒸気機関が発明・改良された。

Ⅱ インド産に匹敵する絹織物をイギリス国内で生産することが目指された。

ア. Ⅰ－正 Ⅱ－正 イ. Ⅰ－正 Ⅱ－誤

ウ. Ⅰ－誤 Ⅱ－正 エ. Ⅰ－誤 Ⅱ－誤

問2 次の資料を読み、これを1861年に布告した国を、次の中から1つ選び、記号で答えよ。

資料

- ア. イギリス
- イ. ドイツ
- ウ. ロシア
- エ. アメリカ

新しい規定により、農民は、自由な農村住民としての完全な権利を、適時に受け取ることとなる。…農民は、土地買戻しにより、地主への義務負担から解放され、まさしく、自由な土地所有農民の身分となる。…

(『歴史総合』(実教出版)より)

問3 次の文章中の空欄□に適する語句を答えよ。

孫文は、□主義を掲げ、1905年に革命勢力を結集して中国同盟会を結成し、武装蜂起を行った。1911年、革命運動の影響を受けた軍隊が武昌で蜂起し、翌年には、中華民国が成立し、孫文は臨時大総統に就いた。

問4 次の文章中の空欄[]に適する語句を答えよ。なお、空欄[]には同じ語句が入る。

第一次世界大戦では、参戦した国々の国民や物資が全面的に動員される総力戦となった。また、男性が徴兵されたあとの労働力不足を補うため、多くの[]が職場に進出し、いくつかの国では戦後に[]参政権が実現した。

問5 次の文章中の空欄[]に適する語句として正しいものを、下の中から1つ選び、記号で答えよ。

1985年にソ連共産党書記長に就任したゴルバチョフが、新思考外交を展開した。この結果、1987年には中距離核戦力（[]）全廃条約が締結され、1989年には米ソ両国首脳によるマルタ会談によって冷戦の終結が宣言された。

ア. PKO イ. INF ウ. START エ. ICBM

2 以下の各問いに答えよ。

問1 次の文章中の空欄[]に適する語句を答えよ。

中大兄皇子は、中臣鎌足らの協力を得て、天皇中心の官僚制による政治を目指し、645年に蘇我蝦夷・入鹿を滅ぼした。この政変を「[]」と呼ぶ。

問2 次の文章中の下線部について述べた文Ⅰ・Ⅱの正誤の組み合わせとして正しいものを、下の中から1つ選び、記号で答えよ。

9世紀の半ば以降、藤原氏のうちとくに北家が、天皇家との結びつきを強めて、しだいに勢力をのぼした。

Ⅰ 藤原道長は、平等院鳳凰堂を建立した。

Ⅱ 藤原定家は、古今和歌集を編纂した。

ア. Ⅰ－正 Ⅱ－正 イ. Ⅰ－正 Ⅱ－誤

ウ. Ⅰ－誤 Ⅱ－正 エ. Ⅰ－誤 Ⅱ－誤

問3 次の文章中の空欄[]に適する語句を答えよ。

織田信長は、今川義元を桶狭間の戦いで破り、軍勢を率いて足利義昭とともに京都に上り、義昭を将軍として室町幕府を再興させた。その後、さらに勢力を広げ、近江の琵琶湖畔に[]城を築きはじめた。

問4 次の文章中の空欄[]に適する語句を答えよ。

1872年(明治5年)には、西洋諸国の例にならって暦法を改め、旧暦を廃して[](新暦)を採用し、1日を24時間とし、のちには日曜を休日とした。また、天皇と関わる祝祭日が制定された。

問5 次の文章中の下線部について述べた文Ⅰ・Ⅱの正誤の組み合わせとして正しいものを、下の中から1つ選び、記号で答えよ。

日本では、1970年代に、新幹線と高速道路による交通網整備などの列島改造政策が打ち出され、地価の高騰を引き起こした。さらに、第1次石油危機の発生による原油価格の高騰が重なり、狂乱物価と呼ばれる激しいインフレーションが発生し深刻な不況に陥った。

Ⅰ この時の首相は福田赳夫であった。

Ⅱ これは第1次中東戦争が原因で起きた。

ア. Ⅰ－正 Ⅱ－正 イ. Ⅰ－正 Ⅱ－誤

ウ. Ⅰ－誤 Ⅱ－正 エ. Ⅰ－誤 Ⅱ－誤

3

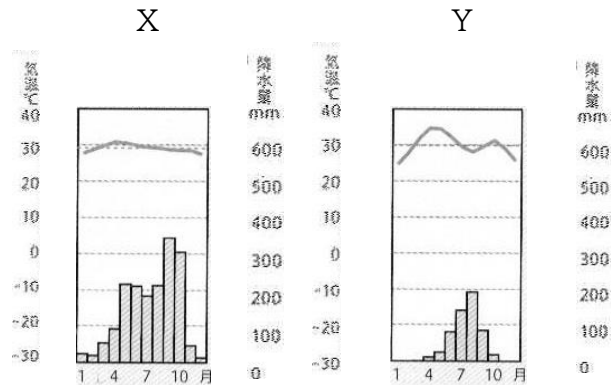
以下の各問いに答えよ。

問1 次の文章中の空欄 **A** と **B** に適する語句の組み合わせとして正しいものを、下の中から1つ選び、記号で答えよ。

図の雨温図Xは、年中気温が高く、雨季と乾季が明瞭であることから **A** 気候であると判断できる。この気候区では、まばらな樹木と草原が広がっている。

雨温図Yは、わずかに雨が降ることから、**B** 気候であると判断できる。この気候区では、丈の短い草原が広がっている。

図



(『新編 新しい社会 地理』(東京書籍)より)

- ア. A-熱帯雨林 B-ステップ
 イ. A-サバナ B-砂漠
 ウ. A-熱帯雨林 B-砂漠
 エ. A-サバナ B-ステップ

問2 次の文章中の空欄 **A** と **B** に適する語句の組み合わせとして正しいものを、下の中から1つ選び、記号で答えよ。

ムスリム(イスラーム教徒)は、1日5回、聖地の **A** に向かって礼拝をする。金曜日にはイスラームの礼拝堂に集まって大勢で祈りをささげる。また、イスラームでは酒を飲むことや豚肉を食べることなどが禁止されており、ムスリムが安心して食事ができるように、こうした決まりを守った食材や料理は「**B**」として認証されている。

- ア. A-メッカ B-クルアーン イ. A-メッカ B-ハラール
 ウ. A-リヤド B-クルアーン エ. A-リヤド B-ハラール

問3 次の文章中の空欄 **A** と **B** に適する語句の組み合わせとして正しいものを、下の中から1つ選び、記号で答えよ。

ドイツでは、環境に優しい都市交通の取り組みである **A** を導入することで、中心市街地の交通渋滞が減り、大気汚染がおさえられている。郊外の駅には広い **B** が設けられて、朝夕の通勤・通学時間帯には中心市街地に向けて多くの列車が運行されている。

- ア. A-ターミナル駅 B-公園 イ. A-パークアンドライド B-公園
 ウ. A-パークアンドライド B-駐車場 エ. A-ターミナル駅 B-駐車場

問4 次の文章中の空欄 と に適する語句の組み合わせとして正しいものを、下の中から1つ選び、記号で答えよ。

日本では、限りある にたよる割合を低下させ、環境の汚染を減らすために、太陽光や風力などの再生可能エネルギーを利用する取り組みが、全国各地で行われている。また、工場や家庭での廃棄物やごみを減らすために、ごみの減量 () や再使用、再生利用といった取り組みも広がってきている。さらに、日本の企業は、環境に優しい素材や、自動車の開発などを通じて、環境問題への対策でも大きな役割を果たしている。

- ア. A－鉱産資源 B－リユース
 イ. A－鉱産資源 B－リデュース
 ウ. A－都市鉱山 B－リユース
 エ. A－都市鉱山 B－リデュース

問5 次の文章中の空欄 と に適する語句の組み合わせとして正しいものを、下の中から1つ選び、記号で答えよ。

日本固有の領土である北方領土はロシアに、同じく日本固有の領土であり 県に属する竹島は韓国に各々不当に占拠されている。なお、 県に属する尖閣諸島をめぐって解決しなければならない領土問題はないが、中国や台湾が領有権を主張している。

- ア. A－鳥取 B－鹿児島
 イ. A－島根 B－鹿児島
 ウ. A－鳥取 B－沖縄
 エ. A－島根 B－沖縄

4 以下の各問いに答えよ。

問1 日本国憲法について述べた文Ⅰ・Ⅱの正誤の組み合わせとして正しいものを、下の中から1つ選び、記号で答えよ。

- Ⅰ 日本国憲法は、1946年11月3日に公布され、1947年5月3日に施行された。
 Ⅱ 日本国憲法の改正は、各議院の総議員の過半数の賛成で国会が発議する。

- ア. Ⅰ－正 Ⅱ－正 イ. Ⅰ－正 Ⅱ－誤
 ウ. Ⅰ－誤 Ⅱ－正 エ. Ⅰ－誤 Ⅱ－誤

問2 次の文章中の空欄□に適する語句を答えよ。

現在の日本における選挙は、全ての成年者が選挙権を持つ普通選挙、代表を直接選ぶ直接選挙、一人一票の平等選挙、どの政党や候補者に投票したかを他人に知られないように無記名で投票する□選挙の、4原則の下で行われている。

問3 次の文章中の下線部について述べた文Ⅰ・Ⅱの正誤の組み合わせとして正しいものを、下の中から1つ選び、記号で答えよ。

社会集団での生活を成り立たせるためには、対立を合意に導く解決策を考えるだけでなく、その後も同じような対立が起こるのを防ぐために、あらかじめ社会集団の中や集団どうして決まり（ルール）を作り、共有していくことも重要である。

- Ⅰ 決まり（ルール）を守ることで、一人一人の自由や平等が保障される。
 Ⅱ 多数決で決定する場合には、少数の意見を十分に聞くことが重要である。

- ア. Ⅰ－正 Ⅱ－正 イ. Ⅰ－正 Ⅱ－誤
 ウ. Ⅰ－誤 Ⅱ－正 エ. Ⅰ－誤 Ⅱ－誤

問4 日本の社会保障について述べた文として正しいものを次の中から1つ選び、記号で答えよ。

- ア. 1920年代に、国民皆保険、国民皆年金が実現した。
 イ. 介護保険制度では、40歳以上の人の加入が義務付けられている。
 ウ. 社会保険には、医療保険、生活保護が含まれる。
 エ. 社会保障費の増加に対応するため、池田勇人内閣で消費税が導入された。

問5 次の文章中の空欄□に適する語句を答えよ。なお□には同じ語句が入る。

憲法第15条では、「すべて公務員は、全体の□であつて、一部の□ではない。」と規定されている。

5 以下の各問いに答えよ。

【A】次の文章を読み、以下の各問いに答えよ。

3世紀前半に後漢が滅亡すると、華北の魏、四川の蜀、長江中下流域の呉が並び立ち、近隣の異民族を引き入れながら抗争を繰り返した。その後、魏の将軍（①）が帝位を奪って建てた（②）が中国を統一するが、まもなく③皇帝の一族の抗争によって混乱に陥った。こうしたなか、4世紀初め、華北への移住を進めていた遊牧諸民族が蜂起し、洛陽・長安を攻略された（②）は滅んだ。

また、後漢が滅亡し4世紀以降になると、西方からの人や文化の到来に伴って④仏教が盛んになった。

問1 文章中の（①）・（②）に適する語句の組み合わせとして正しいものを、次の中から1つ選び、記号で答えよ。

- ア. ① 司馬睿 ② 晋（西晋）
 イ. ① 司馬睿 ② 北魏
 ウ. ① 司馬炎 ② 晋（西晋）
 エ. ① 司馬炎 ② 北魏

問2 下線部③について、この反乱名として正しいものを、次の中から1つ選び、記号で答えよ。

- ア. 六鎮の乱 イ. 赤眉の乱 ウ. 呉楚七国の乱 エ. 八王の乱

問3 下線部④に関連して、その後の仏教の普及に貢献した人物の業績について、50字以内で説明せよ。ただし、次の2つの語句を必ず使用すること。

〔 鳩摩羅什 法顕 〕

【B】次の文章を読み、以下の各問いに答えよ。

前4世紀、マケドニアの（①）がアケメネス朝を滅ぼし、さらに西北インドにまで進出した。彼はインダス川流域を転戦し、各地にギリシア系の政権が誕生した。この混乱から、前4世紀末に南アジアで最初の統一王朝であるマウリヤ朝が誕生した。

マウリヤ朝の衰退後、②インドを支配した王朝は、2世紀半ばに最盛期を迎え、中央アジアからガンジス川中流域に至る地域を支配した。③この王朝は交通路の要衝にあり、国際的な交易が活発に行われた。

紀元前後には、仏教のなかから新しい運動が生まれ、菩薩信仰が広まった。そして、王朝の保護を受けた大乘仏教は、④仏教美術とともに各地に伝えられ、中央アジアから中国・日本にまで影響を与えた。

問4 空欄（①）に適する人物名として正しいものを、次の中から1つ選び、記号で答えよ。

ア. フィリッポス2世 イ. アレクサンドロス大王 ウ. スパルタクス エ. カエサル

問5 下線部②の王朝名として正しいものを、次の中から1つ選び、記号で答えよ。

ア. クシャーナ朝 イ. サータヴァーハナ朝 ウ. グプタ朝 エ. ヴアルダナ朝

問6 下線部③について、この王朝のもとで行われていたことを述べた文Ⅰ・Ⅱの正誤の組み合わせとして正しいものを、下の中から1つ選び、記号で答えよ。

Ⅰ カーリミー商人が南アジア・東南アジアからもたらされた香辛料を扱う交易に従事した。
Ⅱ ローマとの交易が盛んであり、大量の金がインドにもたらされた。

ア. Ⅰ－正 Ⅱ－正 イ. Ⅰ－正 Ⅱ－誤
ウ. Ⅰ－誤 Ⅱ－正 エ. Ⅰ－誤 Ⅱ－誤

問7 下線部④について、大乘仏教の成立に伴い、如来や菩薩の像がつくられるようになった。ヘレニズム美術の影響を受けたこの仏教美術を何というか答えよ。

【C】 次の図は古代ギリシア人の都市国家の分布を示した地図である。以下の各問いに答えよ。

図



(『詳説世界史』(山川出版社)より)

問8 図中のアテネとスパルタの奴隷制度について述べた文Ⅰ・Ⅱの正誤の組み合わせとして正しいものを、下の中から1つ選び、記号で答えよ。

- Ⅰ アテネでは奴隷の数は総人口の3分の1にのぼった。
 Ⅱ スパルタでは被征服民をペリオイコイという奴隷身分にし、農業に従事させた。

- ア. Ⅰ－正 Ⅱ－正 イ. Ⅰ－正 Ⅱ－誤
 ウ. Ⅰ－誤 Ⅱ－正 エ. Ⅰ－誤 Ⅱ－誤

問9 図中のアテネで、前7世紀に法律を成文化し、法による秩序の維持をはかった人物名として正しいものを、次の中から1つ選び、記号で答えよ。

- ア. ドラコン イ. ソロン ウ. ペイストラトス エ. クレイステネス

問10 ペルシア戦争後、アテネを盟主とする同盟とスパルタを盟主とする同盟が対立し、戦争があった。この戦争を何というか答えよ。

6

以下の各問いに答えよ。

【A】次の資料Ⅰについての会話文を読み、以下の問いに答えよ。

資料Ⅰ

アブー＝バクルが演説した。神を讃えるにふさわしい言葉で神を誉め讃えてから、言った。「諸君、私はあなたたちに指揮権を託された。あなたたちの中で最良のものでもないのに。だから、私がよいことをしたら協力し、悪いことをしたら正してほしい。誠実は信用を生み、虚偽は背信を生む。……私が神とその使徒（ムハンマド）に従っているかぎり、私に従え。私が神とその使徒に背いたなら、私に従う必要はない。さあ、立って礼拝をせよ。あなたたちに神の慈悲があるように。」
 （イブン・イスハーク著、イブン・ヒシャーム編註、後藤明他訳『預言者ムハンマド伝3』）

先生：この資料は、7世紀にアラブ人の諸部族のあいだに広まったイスラーム教の①預言者ムハンマドの後継者であるアブー＝バクルが、その任についたときに語ったとされる資料です。

生徒a：はい、イスラーム教を旗印とするアラブ＝ムスリム軍は（②）を滅ぼしてイラク・イランを獲得し、また（③）からシリア・エジプトを奪ったのですよね。

先生：そうですね。その後、第4代後継者アリーが暗殺され、ムアーウィアはウマイヤ朝を開きました。

生徒b：このとき、ウマイヤ朝の支配に反対した人を④シーア派というのですよね。

先生：そうです。ウマイヤ朝は、被征服地の人々から人頭税と土地税を徴収したのですが、これがアラブ人との間に軋轢を生むこととなります。ウマイヤ朝を滅ぼしたのは⑤アッバース朝です。アッバース朝のときに、国家の中心をシリアからイラン・イラクに移して⑥新都を造営しました。この都市はどのような特徴がありますか？

生徒c：はい、円形をしています。

先生：その通りです。この都市は三重の城壁をもつ円形の都市になっています。そして、この時代は、インド・イラン・ギリシアなどの文化的な伝統が融合し、多様な学問も興隆しました。イスラーム教では偶像を禁止していたため、モスクなどで用いられる装飾では⑦植物や文字を文様化したものが発達しました。

生徒d：とてもきれいな幾何学的模様ですね。

問1 下線部①を示す語句として正しいものを、次の中から1つ選び、記号で答えよ。

ア. ウンマ イ. スルタン ウ. カリフ エ. アミール

問2 空欄（②）と（③）に適する語句の組み合わせとして正しいものを、次の中から1つ選び、記号で答えよ。

ア. ②－ビザンツ帝国 ③－ブワイフ朝 イ. ②－ササン朝 ③－ビザンツ帝国
 ウ. ②－フランク王国 ③－ササン朝 エ. ②－ブワイフ朝 ③－フランク王国

問3 下線部④について述べた文Ⅰ・Ⅱの正誤の組み合わせとして正しいものを、下の中から1つ選び、記号で答えよ。

- Ⅰ 預言者の言行に従う人々である。
Ⅱ イスラーム教において多数派である。

- ア. Ⅰ - 正 Ⅱ - 正 イ. Ⅰ - 正 Ⅱ - 誤
ウ. Ⅰ - 誤 Ⅱ - 正 エ. Ⅰ - 誤 Ⅱ - 誤

問4 下線部⑤に関連して、次の表はウマイヤ朝の税制の体系を示している。表を参考に、イスラーム教徒の平等を図るためにアッバース朝が行った税制の特徴を70字以内で説明せよ。

表


	ウマイヤ朝の税制
アラブ人	喜捨
マワーリー (非アラブのムスリム)	ジズヤ (人頭税) ハラージュ (地租)
ズィンミー (非ムスリム)	ジズヤ ハラージュ

問5 下線部⑥の都市名として正しいものを、次の中から1つ選び、記号で答えよ。

- ア. ダマスクス イ. サマルカンド ウ. イスファハーン エ. バグダード

問6 次の資料Ⅱは、下線部⑦の文様が用いられている。この文様は何と呼ばれるか答えよ。

資料Ⅱ



(『詳説世界史』(山川出版社)より)

【B】次の文章を読み、以下の各問いに答えよ。

中世の西ヨーロッパでは、11世紀に、教皇グレゴリウス7世とドイツ国王ハインリヒ4世の間で叙任権闘争が始まった。ハインリヒ4世は当初は教皇を無視したが、破門されると①教皇に謝罪し許された。その後、1122年の(②)で両者の妥協が成立し、叙任権闘争は終結した。

一方、11世紀に聖地エルサレムを支配下においたセルジューク朝は、アナトリアに進出して③ビザンツ帝国をおびやかした。教皇ウルバヌス2世は(④)を招集し、聖地回復の聖戦をおこすことを提唱した。これが十字軍の始まりである。

また、この頃には農業生産が増大した結果、余剰生産物の交換が活発になり、⑤都市と商業が発達した。ムスリム商人やノルマン人の商業活動によって貨幣経済が広がり、さらに十字軍の影響で交通が発達し、遠隔地貿易で発達する都市も現れた。

問7 資料Ⅲは、下線部①の様子を描かれたものである。この出来事を何というか答えよ。

資料Ⅲ



ハインリヒ4世(中央)がクリュニー修道院長(左)とトスカナ女伯(右)に教皇へのとりなしを願っている場面
(『詳説世界史』(山川出版社)より)

問8 空欄(②)と(④)に適する語句の組み合わせとして正しいものを、次の中から1つ選び、記号で答えよ。

- | | |
|----------------|-------------|
| ア. ②-ヴォルムス協約 | ④-クレルモン宗教会議 |
| イ. ②-ヴォルムス協約 | ④-コンスタンツ公会議 |
| ウ. ②-コンスタンツ公会議 | ④-クレルモン宗教会議 |
| エ. ②-コンスタンツ公会議 | ④-ヴォルムス協約 |
| オ. ②-クレルモン宗教会議 | ④-コンスタンツ公会議 |
| カ. ②-クレルモン宗教会議 | ④-ヴォルムス協約 |

問9 下線部③について述べた文Ⅰ・Ⅱの正誤の組み合わせとして正しいものを、下の中から1つ選び、記号で答えよ。

- Ⅰ レオン3世は、ハギア=ソフィア聖堂の建立事業をおこなった。
 Ⅱ ユスティニアヌス大帝は、『ローマ法大全』を編纂した。

- ア. Ⅰ-正 Ⅱ-正 イ. Ⅰ-正 Ⅱ-誤
 ウ. Ⅰ-誤 Ⅱ-正 エ. Ⅰ-誤 Ⅱ-誤

問10 図は中世のヨーロッパの主要な商業圏を示したものである。下線部⑤について述べた文Ⅰ・Ⅱの正誤の組み合わせとして正しいものを、下の中から1つ選び、記号で答えよ。

図



- Ⅰ 図中のフランドル地方は、海産物・木材・穀物などの生産で繁栄した。
 Ⅱ 図中のロンバルディア地方は、商業圏を結ぶ定期市として繁栄した。

- ア. Ⅰ-正 Ⅱ-正 イ. Ⅰ-正 Ⅱ-誤
 ウ. Ⅰ-誤 Ⅱ-正 エ. Ⅰ-誤 Ⅱ-誤

7

以下の各問いに答えよ。

【A】次の図Iは、16世紀半ばのヨーロッパを示した地図である。下の図Iについての文章を読み、以下の各問いに答えよ。

図I



(『詳説世界史』(山川出版社)より)

16世紀のヨーロッパでは、各国が激しい勢力争いを繰り広げたため、戦争が頻発した。そのため各国は、国境を画定しながら国家としてのまとまりを追求した。このような国家を主権国家という。①近世のヨーロッパでは主権国家体制のもとで、いくつかの強国が現れた。16世紀後半には②スペイン、③17世紀半ばにはオランダが他国に優越する覇権の立場を獲得した。

問1 下線部①について述べた文I・IIの正誤の組み合わせとして正しいものを、下の中から1つ選び、記号で答えよ。

- I フランスでは、アンリ4世が即位し、ユグノー戦争を終結させた。
- II ポルトガルは、広大な植民地を含む「太陽の沈まぬ帝国」を手中にした。

- ア. I-正 II-正 イ. I-正 II-誤
- ウ. I-誤 II-正 エ. I-誤 II-誤

問2 下線部②について、次の図Ⅱは16世紀後半にオスマン帝国の海軍に勝利した戦いの様子を描いている。このときのスペイン国王とこの海戦の名称の組み合わせとして正しいものを、下の中から1つ選び、記号で答えよ。

図Ⅱ



(『詳説世界史』(山川出版社)より)

- ア. カルロス1世-レパントの海戦 イ. カルロス1世-アルマダ海戦
ウ. フェリペ2世-レパントの海戦 エ. フェリペ2世-アルマダ海戦

問3 下線部③に関連して、オランダが香辛料交易を独占するきっかけとなった1623年の事件について、40字以内で説明せよ。

【B】19世紀初めのヨーロッパの主要国は、ナポレオンにより支配されていた。次の図Ⅲは、その頃、フランス軍に抵抗したスペイン市民が殺される場面を描いたものである。以下の各問いに答えよ。

図Ⅲ



(1808年5月3日『詳説世界史』(山川出版社)より)

問4 この作品の作者として正しいものを、次の中から1つ選び、記号で答えよ。

ア. ゴヤ イ. ダヴィド ウ. ドラクロワ エ. ゴーガン

問5 図Ⅲで描かれた出来事の前に、ナポレオンはトラファルガーの海戦で敗れたことをきっかけにイギリスに対する経済戦をしかけ、ヨーロッパ諸国にイギリスとの貿易を禁じた。この命令を何というか答えよ。

【C】次の文章を読み、以下の各問いに答えよ。

18世紀後半になると、清朝の財政難は深刻化し、対外的には、①列強との度重なる戦争によって秩序維持能力は低下していった。同治帝の即位後、西太后らが実権を掌握するなか、反乱鎮圧と対外関係の改善にともない、清朝支配は安定に向かった。②太平天国鎮圧の際に欧米の近代兵器の威力を認識した漢人官僚たちは、富国強兵をはかり、③兵器工場の設立や西洋式軍事教育の導入によって軍事力の近代化を進め、さらに紡績工場・汽船会社の設立、鉱山開発、電信敷設などの近代化事業を推進した。

問6 下線部①に関連して、年表に示した時期のうち、資料Aの条約が結ばれた時期として正しいものを、年表中のア～エから1つ選び、記号で答えよ。

年表

1840～42年	アヘン戦争
<input type="checkbox"/>	ア
1856～60年	第2次アヘン戦争（アロー戦争）
<input type="checkbox"/>	イ
1884～85年	清仏戦争
<input type="checkbox"/>	ウ
1894～95年	日清戦争
<input type="checkbox"/>	エ

資料A

第21条 [アメリカ] 合衆国国民に対して犯罪行為をなした清朝の臣民は、清朝の法に基づき清朝当局によって逮捕・処罰しなければならない。中国において罪を犯した合衆国民は合衆国の領事なし合衆国の法律により委任された官憲によって審理・処罰されなければならない。


（『詳説世界史図録』（山川出版社）より）

問7 下線部②について述べた文として正しいものを、次の中から1つ選び、記号で答えよ。

- ア. 大院君を指導者として、キリスト教の影響を受けた宗教結社が挙兵して打ち立てられた。
- イ. 太平天国軍は、長江流域に移動するなかで勢力を拡大し、北京を占領して首都とした。
- ウ. 反乱に対して、漢人官僚の曾国藩・李鴻章が率いた常勝軍が編制された。
- エ. イギリス・フランスは清朝支持に転じ、太平天国の鎮圧に協力した。

問8 下線部③に関連して、次の資料Bは当時の南京の武器製造工場を示したものである。このような近代化事業を何というか答えよ。




資料B



（『詳説世界史』（山川出版）より）

8 以下の各問いに答えよ。

【A】あるクラスで、次のような写真入りのカードを使って、歴史について学習した。カードについての会話文を読み、以下の各問いに答えよ。



生徒a：彼らは、19世紀後半から20世紀前半にかけて、植民地支配に対して抵抗する運動を指導した人たちの写真です。

生徒b：私はAの人物を知っています。当時スペインの植民地支配を受けていた（①）の人で、スペインの大学に留学した後、植民地統治を批判し、民衆の啓蒙活動を始めた人です。

生徒c：そうですね。最後は処刑されたのですが、その後（②）を中心とした革命軍が、共和国を樹立しました。

生徒a：それでは、Bの人物について何か知っていますか？

生徒c：彼は、ファン＝ボイ＝チャウではないですか？ フランスからの独立をめざした人で、③日露戦争に勝利した日本へ留学生を送って新しい学問や技術を学ばせようとしたと聞きました。

生徒a：はい。しかし、留学生は当時フランスとの提携を重視した日本政府によって国外退去となりましたね。

生徒b：当時の西アジアの独立の動きはどうだったのでしょうか？

生徒a：はい。当時のイランでは、Cの（④）が西アジア各地のほか、インド・ヨーロッパ・ロシアでも活動し、（⑤）主義を説きました。

生徒c：アジア全体で民族運動が高まっていったのがよくわかりますね。

問1 空欄（①）と（②）に入る国名と人名の組み合わせとして正しいものを、次の中から1つ選び、記号で答えよ。

- ア. ①-インドネシア ②-ホセ＝リサール イ. ①-フィリピン ②-ホセ＝リサール
ウ. ①-インドネシア ②-アギナルド エ. ①-フィリピン ②-アギナルド

問2 下線部③について、このような動きを何というか答えよ。

問3 空欄（④）と（⑤）に入る人名と語句の組み合わせとして正しいものを、次の中から1つ選び、記号で答えよ。

- ア. ④-アフガーニー ⑤-トルコ民族
イ. ④-アフガーニー ⑤-パン＝イスラーム
ウ. ④-ムハンマド＝アリー ⑤-トルコ民族
エ. ④-ムハンマド＝アリー ⑤-パン＝イスラーム

【B】次の資料は、1919年連合国がドイツと調印したパリ講和会議のようすである。資料についての下の文章を読み、以下の各問いに答えよ。

資料



『詳説世界史』(山川出版社)より

1919年、パリに連合国代表が集まり、第一次世界大戦の講和会議が開催され、アメリカ合衆国ウィルソン大統領は「十四カ条」を掲げ、①民族自決の理念や②国際平和機構の設立などが提唱された。

そして、連合国がドイツと調印したヴェルサイユ条約では、③巨額の賠償金の支払い、全植民地の放棄、大幅な軍備制限、徴兵制の廃止がドイツに課された。

イタリアは戦勝国であったが、期待していた領土拡張がパリ講和会議で実現できなかったため、世論は大戦の結果に不満をいだいた。そのような中、ファシスト党のムッソリーニが支配層の支持を集めた。彼は、1924年に(④)を併合し、29年にローマ教皇庁と(⑤)条約を結び、イタリア国家と教皇庁との対立も解消した。

問4 下線部①について述べた文として正しいものを、次の中から1つ選び、記号で答えよ。

- ア. オーストリア=ハンガリー帝国は維持された。
- イ. オスマン帝国からチェコスロバキアの独立が承認された。
- ウ. 民族自決の理念が適用されなかった中国で三・一運動がおこった。
- エ. ドイツの植民地の大半は、委任統治という名目で戦勝国に配分された。

問5 下線部②について、1920年に国際連盟が創設されたが、後の第二次世界大戦の開戦を防ぐことができなかった。国際連盟が創設時から抱えていた課題を90字以内で説明せよ。ただし、次の3つの語句を必ず使用すること。

[孤立主義 軍事制裁 議決方法]

問6 下線部③に関連しておこったフランスのルール占領に対し国際的批判が高まった。そこで、フランス外相の主導でルールからの撤兵が実現した。このときのフランス外相として正しいものを、次の中から1つ選び、記号で答えよ。

- ア. ブリアン イ. マクドナルド ウ. ドーズ エ. シュトレゼマン

問7 空欄(④)と(⑤)に適する語句の組み合わせとして正しいものを、次の中から1つ選び、記号で答えよ。

- ア. ④-アルバニア ⑤-セーヴル イ. ④-アルバニア ⑤-ラテラノ
 ウ. ④-フィウメ ⑤-セーヴル エ. ④-フィウメ ⑤-ラテラノ

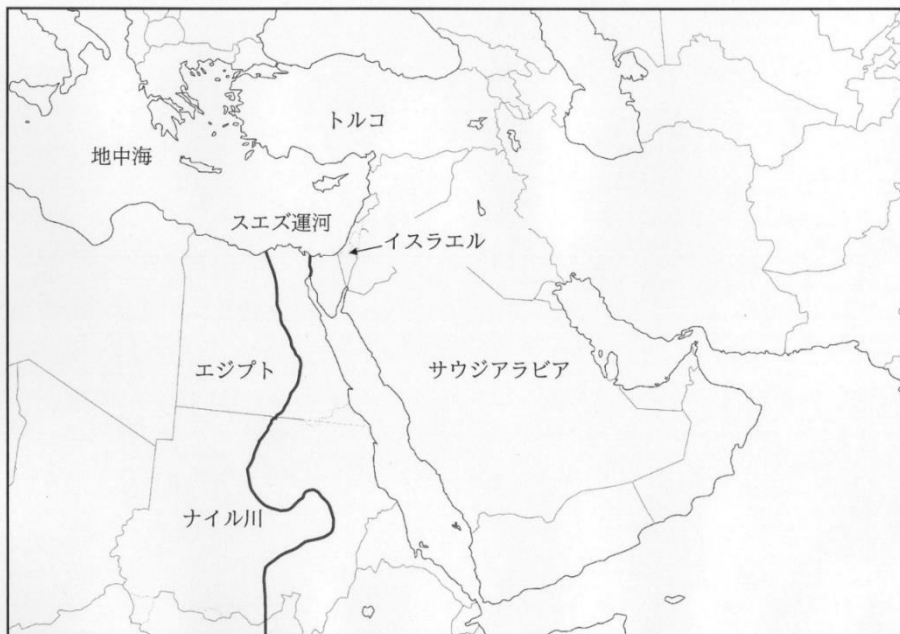
【C】次の文章を読み、以下の各問いに答えよ。

第二次世界大戦後、①地域紛争がおこるとともに、東西両陣営による②冷戦が続いた。その一方、経済システムにおいては③社会主義国の中でも市場経済への転換をはかる国も現れた。そして、冷戦の終焉に伴い、世界の諸地域では新たな紛争や④民族運動がおこるようになった。

また、20世紀には科学技術のめざましい改革がおこった。科学技術の高度化は現代思想や⑤文化に影響を及ぼすとともに人々の生活を大きく変えた。

問8 下線部①に関連して、第2次中東戦争がおこった原因について、次の図を参考に30字以内で説明せよ。

図



問9 下線部②に関連して、次のX～Zの出来事を古い順に並べたものとして正しいものを、下の中から1つ選び、記号で答えよ。

- X：ソ連は西側地区の通貨改革に反対し、西ベルリンへの交通を遮断した。
 Y：ソ連共産党大会でフルシチョフ第一書記は、スターリン時代の個人崇拜を批判した。
 Z：ソ連のキューバでのミサイル基地建設の着手に対抗し、ケネディ大統領は海上を封鎖した。

- ア. X→Y→Z
 イ. X→Z→Y
 ウ. Y→X→Z
 エ. Y→Z→X
 オ. Z→X→Y
 カ. Z→Y→X

問10 下線部③について述べた文Ⅰ・Ⅱの正誤の組み合わせとして正しいものを、下の中から1つ選び、記号で答えよ。

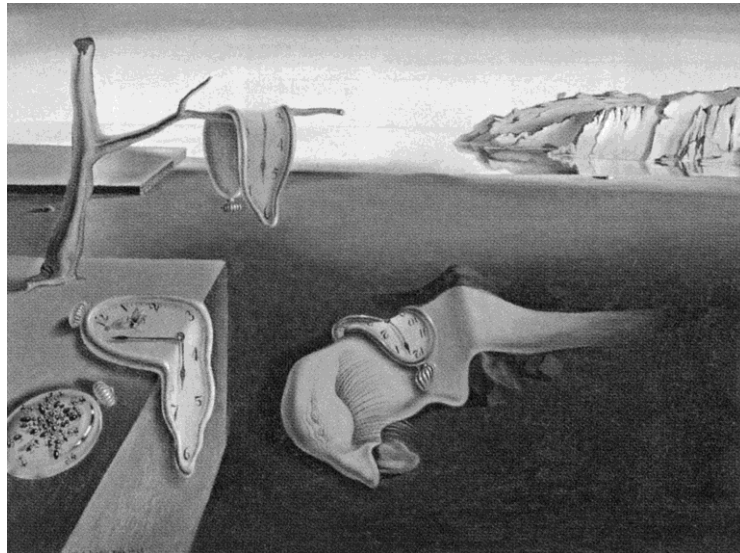
- Ⅰ 中国では、鄧小平らが改革開放路線を推進していった。
Ⅱ カンボジアでは、ドイモイ政策のもとに、市場開放を進めた。

- ア. Ⅰ-正 Ⅱ-正 イ. Ⅰ-正 Ⅱ-誤
ウ. Ⅰ-誤 Ⅱ-正 エ. Ⅰ-誤 Ⅱ-誤

問11 下線部④に関連して、現在、ミャンマーとバングラディシュとの境界地域に居住するムスリムの少数民族が、ミャンマー政府から不法移民とみなされ抑圧されている。この民族名を何というか答えよ。

問12 下線部⑤に関連して、次の図は、精神分析学の影響のもと超現実的な想像を表現したダリ作の「記憶の固執」である。このような芸術・文学運動を示す語句として正しいものを、下の中から1つ選び、記号で答えよ。

図



(『詳説世界史』(山川出版社)より)

- ア. プラグマティズム イ. シュルレアリスム
ウ. ポスト=コロニアリズム エ. ポスト=モダニズム

高校 世界史	受験 番号		氏名	
-----------	----------	--	----	--

令和9年度長崎県公立学校教員採用選考試験解答用紙

1 5点(各1点)

問1	イ	問2	ウ
問3	三民	問4	女性(婦人)
問5	イ		

2 5点(各1点)

問1	乙巳の変	問2	エ
問3	安土	問4	太陽暦
問5	エ		

3 5点(各1点)

問1	エ	問2	イ
問3	ウ	問4	イ
問5	エ		

高校 世界史	受験 番号		氏名	
-----------	----------	--	----	--

令和9年度長崎県公立学校教員採用選考試験解答用紙

4 5点(各1点)

問1	イ	問2	秘密
問3	ア	問4	イ
問5	奉仕者		

5 20点(問3 6点、問6 3点、問5 問7 問10 各2点、それ以外 各1点)

問1	ウ	問2	エ
問3	鳩摩羅什は仏典の漢訳に活躍し、法顕は仏の教えを求めて中国からインドにおもむいた。(40字)		
問4	イ	問5	ア
問6	ウ	問7	ガンダーラ (美術)
問8	イ	問9	ア
問10	ペロポネソス戦争		

高校 世界史	受験 番号		氏名	
-----------	----------	--	----	--

令和9年度長崎県公立学校教員採用選考試験解答用紙

6 20点(問4 6点、問6 3点、問1 問7 問9 各2点、それ以外 各1点)

問1	ウ	問2	イ
問3	イ 又は エ		
問4	<p>アッバース朝は、ムスリムであればアラブ人でも非アラブ人でもジズヤを免除して</p> <p>ハラージュを課し、ズィンミーにはジズヤとハラージュを課した。(67字)</p>		
問5	エ	問6	アラベスク
問7	カノッサの屈辱	問8	ア
問9	ウ	問10	エ

※問3について、シーア派が預言者の言行に従わないということはないため、Iは誤であるとは言えない。よって、正解を「イ」又は「エ」とする。

高校 世界史	受験 番号		氏名	
-----------	----------	--	----	--

令和9年度長崎県公立学校教員採用選考試験解答用紙

7 16点(問3 4点、問4～問8 各2点、それ以外 各1点)

問1	イ	問2	ウ
問3	アンボイナ(アンボン)島において、オランダ人がイギリス商館員を殺害した事件。 ----- (32字)		
問4	ア	問5	大陸封鎖令
問6	ア	問7	エ
問8	洋務運動		

高校 世界史	受験 番号		氏名	
-----------	----------	--	----	--

令和9年度長崎県公立学校教員採用選考試験解答用紙

8 24点(問5 6点、問8 4点、問3 問4 問9 問10 各2点、それ以外 各1点)

問1	エ	問2	ドンズー運動 (東遊運動)
問3	イ	問4	エ
問5	アメリカが第一次世界大戦後に国内で孤立主義が強まったため参加しなかったこと、国際連盟が侵略国家に対して軍事制裁の手段はもたず、議決方法に総会での全会一致を採用したことがある。(87字)		
問6	ア	問7	エ
問8	エジプトのナセルが、スエズ運河の国有化を宣言したから。(27字)		
問9	ア	問10	イ
問11	ロヒンギャ	問12	イ