

令和9年度長崎県公立学校
教員採用選考第1次試験問題

教科・科目

高校 日本史

受験番号

氏名

実施日 令和8年5月10日(日)

令和9年度長崎県公立学校教員採用選考試験

高校日本史

- ※ 解答はすべて解答用紙の該当欄に記入すること。
 ※ 漢字で書くべき人物・用語は漢字で正確に記入すること。

1	以下の各問いに答えよ。
---	-------------

問1 次の文章中の下線部について述べた文Ⅰ・Ⅱの正誤の組み合わせとして正しいものを、下の中から1つ選び、記号で答えよ。

<p>18世紀後半、<u>イギリス</u>で産業革命が始まった。産業革命では、工場に機械が導入されたことにより、産業資本家と工場労働者からなる資本主義社会が本格的に形成され、農村から都市への人口集中が進み、新興の工業都市が急激に発展した。</p>

- Ⅰ 石炭を動力源とする蒸気機関が発明・改良された。
 Ⅱ インド産に匹敵する絹織物をイギリス国内で生産することが目指された。

- ア. Ⅰ－正 Ⅱ－正 イ. Ⅰ－正 Ⅱ－誤
 ウ. Ⅰ－誤 Ⅱ－正 エ. Ⅰ－誤 Ⅱ－誤

問2 次の資料を読み、これを1861年に布告した国を、次の中から1つ選び、記号で答えよ。

資料

- ア. イギリス
 イ. ドイツ
 ウ. ロシア
 エ. アメリカ

<p>新しい規定により、農民は、自由な農村住民としての完全な権利を、適時に受け取ることとなる。…農民は、土地買戻しにより、地主への義務負担から解放され、まさしく、自由な土地所有農民の身分となる。…</p>
--

(『歴史総合』(実教出版)より)

問3 次の文章中の空欄□に適する語句を答えよ。

<p>孫文は、□主義を掲げ、1905年に革命勢力を結集して中国同盟会を結成し、武装蜂起を行った。1911年、革命運動の影響を受けた軍隊が武昌で蜂起し、翌年には、中華民国が成立し、孫文は臨時大総統に就いた。</p>
--

問4 次の文章中の空欄[]に適する語句を答えよ。なお、空欄[]には同じ語句が入る。

第一次世界大戦では、参戦した国々の国民や物資が全面的に動員される総力戦となった。また、男性が徴兵されたあとの労働力不足を補うため、多くの[]が職場に進出し、いくつかの国では戦後に[]参政権が実現した。

問5 次の文章中の空欄[]に適する語句として正しいものを、下の中から1つ選び、記号で答えよ。

1985年にソ連共産党書記長に就任したゴルバチョフが、新思考外交を展開した。この結果、1987年には中距離核戦力（[]）全廃条約が締結され、1989年には米ソ両国首脳によるマルタ会談によって冷戦の終結が宣言された。

ア. PKO

イ. INF

ウ. START

エ. ICBM

2 以下の各問いに答えよ。

問1 次の文章中の空欄[]に適する語句を答えよ。

中大兄皇子は、中臣鎌足らの協力を得て、天皇中心の官僚制による政治を目指し、645年に蘇我蝦夷・入鹿を滅ぼした。この政変を「[]」と呼ぶ。

問2 次の文章中の下線部について述べた文Ⅰ・Ⅱの正誤の組み合わせとして正しいものを、下の中から1つ選び、記号で答えよ。

9世紀の半ば以降、藤原氏のうちとくに北家が、天皇家との結びつきを強めて、しだいに勢力をのぼした。

Ⅰ 藤原道長は、平等院鳳凰堂を建立した。

Ⅱ 藤原定家は、古今和歌集を編纂した。

ア. Ⅰ－正 Ⅱ－正 イ. Ⅰ－正 Ⅱ－誤

ウ. Ⅰ－誤 Ⅱ－正 エ. Ⅰ－誤 Ⅱ－誤

問3 次の文章中の空欄[]に適する語句を答えよ。

織田信長は、今川義元を桶狭間の戦いで破り、軍勢を率いて足利義昭とともに京都に上り、義昭を将軍として室町幕府を再興させた。その後、さらに勢力を広げ、近江の琵琶湖畔に[]城を築きはじめた。

問4 次の文章中の空欄[]に適する語句を答えよ。

1872年(明治5年)には、西洋諸国の例にならって暦法を改め、旧暦を廃して[](新暦)を採用し、1日を24時間とし、のちには日曜を休日とした。また、天皇と関わる祝祭日が制定された。

問5 次の文章中の下線部について述べた文Ⅰ・Ⅱの正誤の組み合わせとして正しいものを、下の中から1つ選び、記号で答えよ。

日本では、1970年代に、新幹線と高速道路による交通網整備などの列島改造政策が打ち出され、地価の高騰を引き起こした。さらに、第1次石油危機の発生による原油価格の高騰が重なり、狂乱物価と呼ばれる激しいインフレーションが発生し深刻な不況に陥った。

Ⅰ この時の首相は福田赳夫であった。

Ⅱ これは第1次中東戦争が原因で起きた。

ア. Ⅰ－正 Ⅱ－正 イ. Ⅰ－正 Ⅱ－誤

ウ. Ⅰ－誤 Ⅱ－正 エ. Ⅰ－誤 Ⅱ－誤

3

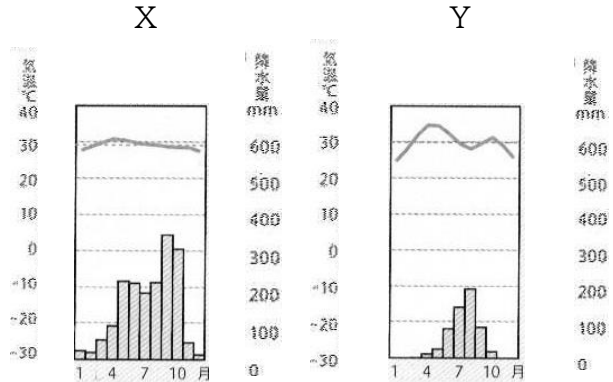
以下の各問いに答えよ。

問1 次の文章中の空欄 **A** と **B** に適する語句の組み合わせとして正しいものを、下の中から1つ選び、記号で答えよ。

図の雨温図Xは、年中気温が高く、雨季と乾季が明瞭であることから **A** 気候であると判断できる。この気候区では、まばらな樹木と草原が広がっている。

雨温図Yは、わずかに雨が降ることから、**B** 気候であると判断できる。この気候区では、丈の短い草原が広がっている。

図



(『新編 新しい社会 地理』(東京書籍)より)

- ア. A-熱帯雨林 B-ステップ
 イ. A-サバナ B-砂漠
 ウ. A-熱帯雨林 B-砂漠
 エ. A-サバナ B-ステップ

問2 次の文章中の空欄 **A** と **B** に適する語句の組み合わせとして正しいものを、下の中から1つ選び、記号で答えよ。

ムスリム(イスラーム教徒)は、1日5回、聖地の **A** に向かって礼拝をする。金曜日にはイスラームの礼拝堂に集まって大勢で祈りをささげる。また、イスラームでは酒を飲むことや豚肉を食べることなどが禁止されており、ムスリムが安心して食事ができるように、こうした決まりを守った食材や料理は「**B**」として認証されている。

- ア. A-メッカ B-クルアーン イ. A-メッカ B-ハラール
 ウ. A-リヤド B-クルアーン エ. A-リヤド B-ハラール

問3 次の文章中の空欄 **A** と **B** に適する語句の組み合わせとして正しいものを、下の中から1つ選び、記号で答えよ。

ドイツでは、環境に優しい都市交通の取り組みである **A** を導入することで、中心市街地の交通渋滞が減り、大気汚染がおさえられている。郊外の駅には広い **B** が設けられて、朝夕の通勤・通学時間帯には中心市街地に向けて多くの列車が運行されている。

- ア. A-ターミナル駅 B-公園 イ. A-パークアンドライド B-公園
 ウ. A-パークアンドライド B-駐車場 エ. A-ターミナル駅 B-駐車場

問4 次の文章中の空欄 と に適する語句の組み合わせとして正しいものを、下の中から1つ選び、記号で答えよ。

日本では、限りある にたよる割合を低下させ、環境の汚染を減らすために、太陽光や風力などの再生可能エネルギーを利用する取り組みが、全国各地で行われている。また、工場や家庭での廃棄物やごみを減らすために、ごみの減量 () や再使用、再生利用といった取り組みも広がってきている。さらに、日本の企業は、環境に優しい素材や、自動車の開発などを通じて、環境問題への対策でも大きな役割を果たしている。

- ア. A-鉱産資源 B-リユース
 イ. A-鉱産資源 B-リデュース
 ウ. A-都市鉱山 B-リユース
 エ. A-都市鉱山 B-リデュース

問5 次の文章中の空欄 と に適する語句の組み合わせとして正しいものを、下の中から1つ選び、記号で答えよ。

日本固有の領土である北方領土はロシアに、同じく日本固有の領土であり 県に属する竹島は韓国に各々不当に占拠されている。なお、 県に属する尖閣諸島をめぐって解決しなければならない領土問題はないが、中国や台湾が領有権を主張している。

- ア. A-鳥取 B-鹿児島
 イ. A-島根 B-鹿児島
 ウ. A-鳥取 B-沖縄
 エ. A-島根 B-沖縄

4 以下の各問いに答えよ。

問1 日本国憲法について述べた文Ⅰ・Ⅱの正誤の組み合わせとして正しいものを、下の中から1つ選び、記号で答えよ。

- Ⅰ 日本国憲法は、1946年11月3日に公布され、1947年5月3日に施行された。
Ⅱ 日本国憲法の改正は、各議院の総議員の過半数の賛成で国会が発議する。

- ア. Ⅰ-正 Ⅱ-正 イ. Ⅰ-正 Ⅱ-誤
ウ. Ⅰ-誤 Ⅱ-正 エ. Ⅰ-誤 Ⅱ-誤

問2 次の文章中の空欄□に適する語句を答えよ。

現在の日本における選挙は、全ての成年者が選挙権を持つ普通選挙、代表を直接選ぶ直接選挙、一人一票の平等選挙、どの政党や候補者に投票したかを他人に知られないように無記名で投票する□選挙の、4原則の下で行われている。

問3 次の文章中の下線部について述べた文Ⅰ・Ⅱの正誤の組み合わせとして正しいものを、下の中から1つ選び、記号で答えよ。

社会集団での生活を成り立たせるためには、対立を合意に導く解決策を考えるだけでなく、その後も同じような対立が起こるのを防ぐために、あらかじめ社会集団の中や集団どうして決まり（ルール）を作り、共有していくことも重要である。

- Ⅰ 決まり（ルール）を守ることで、一人一人の自由や平等が保障される。
Ⅱ 多数決で決定する場合には、少数の意見を十分に聞くことが重要である。

- ア. Ⅰ-正 Ⅱ-正 イ. Ⅰ-正 Ⅱ-誤
ウ. Ⅰ-誤 Ⅱ-正 エ. Ⅰ-誤 Ⅱ-誤

問4 日本の社会保障について述べた文として正しいものを次の中から1つ選び、記号で答えよ。

- ア. 1920年代に、国民皆保険、国民皆年金が実現した。
イ. 介護保険制度では、40歳以上の人の加入が義務付けられている。
ウ. 社会保険には、医療保険、生活保護が含まれる。
エ. 社会保障費の増加に対応するため、池田勇人内閣で消費税が導入された。

問5 次の文章中の空欄□に適する語句を答えよ。なお□には同じ語句が入る。

憲法第15条では、「すべて公務員は、全体の□であつて、一部の□ではない。」と規定されている。

5

史料A・Bをそれぞれ読み、以下の各問いに答えよ。

史料A

興死して弟武立つ。自ら使持節都督倭・百濟・新羅・任那・加羅・秦韓・慕韓七国諸軍事安東大將軍倭国王と称す。順帝の昇明二年、使を遣して上表して曰く、「封国は偏遠にして、藩を外に作す。昔より祖禰躬ら甲冑を擐き、山川を跋涉して寧処に違あらず。東は毛人を征すること五十五国、西は衆夷を服すること六十六国、渡りて海北を平ぐること九十五国……」と。詔して武を使持節都督倭・新羅・任那・加羅・秦韓・慕韓六国諸軍事安東大將軍倭王に除す。

(『宋書』倭国伝、原漢文)

史料B

a 開皇二十年、倭王あり、姓は阿每、字は多利思比孤、阿輩雞弥と号す。使を遣して闕に詣る。上、所司をしてその風俗を訪わしむ。

中略

b 大業三年、其の王多利思比孤、使を遣して朝貢す。使者曰く、「聞くならく、海西の菩薩天子、重ねて仏法を興すと。故、遣して朝拝せしめ、兼ねて沙門数十人、来りて仏法を学ぶ。」と。其の国書に曰く、「日出づる処の天子、書を日没する処の天子に致す。恙無きや、云々」と。帝、之を覽て悦ばず、鴻臚卿に謂ひて曰く、「蛮夷の書、無礼なる有らば、復た以て聞する勿れ」と。

(『隋書』倭国伝、原漢文)

問1 史料Aについて、生徒が自分で調べたことをメモにまとめた。文章中の空欄[]に適する語句を答えよ。

メモ

史料では、朝鮮半島南部をめぐる外交・軍事上の立場を有利にするため、5世紀から約1世紀近くの間、史料に記された倭の五王があいついで中国の[]朝に朝貢していることがうかがえる。

問2 メモの下線部について述べた文Ⅰ・Ⅱの正誤の組み合わせとして正しいものを、下の中から1つ選び、記号で答えよ。

Ⅰ 武については、欽明天皇に比定されている。

Ⅱ 武は、倭の五王として初めて、中国に朝貢したとされる。

ア. Ⅰ－正 Ⅱ－正 イ. Ⅰ－正 Ⅱ－誤

ウ. Ⅰ－誤 Ⅱ－正 エ. Ⅰ－誤 Ⅱ－誤

問3 史料Aについて、生徒はさらに、5世紀が古墳時代であった点に注目して、「古墳時代の人々の生活」についてのカードを作成した。カードの正誤の組み合わせとして正しいものを、下の中から1つ選び、記号で答えよ。

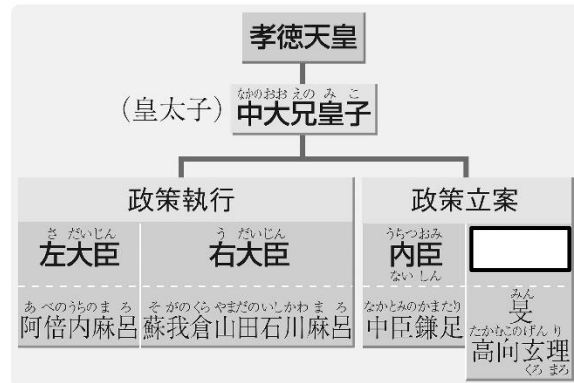
カード

- A 衣服は、男性が衣と乗馬ズボン風の袴、女性が衣とスカート風の裳という上下に分かれたものが多かった。
- B 農耕に関する祭祀は、もっとも大切なものであり、なかでも豊作を祈る春の新嘗の祭りや収穫を感謝する秋の祈年の祭りは重要なものであった。
- C 円錐形の整った形の山や高い樹木、巨大な岩、絶海の孤島、川の淵などを神のやどる所と考え、祭祀の対象とした。
- D 穢れをはらい、災いを免れるための禊^{みそぎ}や祓^{はらえ}、鹿の骨を焼いてその割れ目から吉凶を占う盟神探湯などの呪術的な風習も行われていた。

	A	B	C	D
ア	正	誤	正	正
イ	正	誤	正	誤
ウ	誤	正	誤	正
エ	誤	正	誤	誤

問4 史料B以降、遣隋使として同行し、唐に王朝が変わった中国から帰国した留学生・学問僧の中には、中国の制度などの新知識を伝えて、新政権の中枢に登用される者もいた。図1は孝徳天皇を中心とする新政権の体制を示している。空欄に適する役職名を答えよ。

図1



(『詳説日本史図録』(山川出版社)より)

問5 史料Bについて、下線部 a と同じ 6 世紀の出来事として正しいものを、次の中から 1 つ選び、記号で答えよ。

- ア. 大友皇子と大海人皇子とのあいだで皇位継承をめぐる戦いが起きた。
- イ. 蘇我馬子が、物部守屋を滅ぼし、当時の天皇を暗殺した。
- ウ. 現存最古の漢詩集『懐風藻』が編まれた。
- エ. 朝鮮半島から硬質で灰色の土器の製作技術が伝えられた。

問6 史料Bについて、下線部 b とされる年に摂政を務めていた人物が行ったことについて述べた文 I・II の正誤の組み合わせとして正しいものを、下の中から 1 つ選び、記号で答えよ。

- I 儒教を新しい政治理念として重んじた。
- II 氏族ではなく個人の才能・功績に応じて冠位を与えた。

- ア. I - 正 II - 正 イ. I - 正 II - 誤
- ウ. I - 誤 II - 正 エ. I - 誤 II - 誤

問7 史料A・Bは、日本列島の古代社会と海外との交流を知ることができる中国の歴史書である。日本列島の古代社会における仏像の写真 I ~ III について、仏像がつくられたとされる文化の年代が古い順に正しく配列されたものを、下のア~カの中から 1 つ選び、記号で答えよ。

写真


I



東大寺法華堂不空羅索観音像

(『詳説日本史探究』(山川出版社)より)


II



法隆寺金堂釈迦三尊像

(『詳説日本史探究』(山川出版社)より)

III



薬師寺金堂薬師三尊像

(『詳説日本史探究』(山川出版社)より)

- ア. I - II - III イ. I - III - II ウ. II - I - III
- エ. II - III - I オ. III - I - II カ. III - II - I

問8 **史料B**では、倭からの国書に対して隋の皇帝が無礼とした様子が記されている。無礼だとされた理由を、次の**条件**に従い、解答欄の書き出しに続けて25字以内で答えよ。

条件

- | |
|--|
| <p>(1) 隋の皇帝名を明らかにすること。
(2) 「臣属」という語句を使うこと。</p> |
|--|

6

文章A・Bをそれぞれ読み、以下の各問いに答えよ。

A

14世紀後半から15世紀にかけて、東アジアの世界の情勢は大きく変わりつつあった。この頃、対馬・壱岐・肥前松浦地方の住民を中心とする海賊集団が、朝鮮半島や中国大陸の沿岸を襲い、倭寇と呼ばれて恐れられていた。

中国では、1368年に朱元璋が元の支配を排して、明を建国した。朝鮮半島では、①1392年、李成桂が高麗を倒し、朝鮮を建てた。明は中国を中心とする伝統的な国際秩序の回復を目指して、近隣の諸国に通交を求めた。②モンゴル襲来ののちも元と日本のあいだに正式な外交関係はなく、私的な商船の往来があるにすぎなかったが、明の呼びかけを知った日本は、明に使者を派遣して国交を開き、③日明貿易を行った。

問1 下線部①について、同年代には日本で南北朝時代が終わった。南北朝時代の動乱期について生徒が教科書を読み、まとめたメモの空欄□に適する語句を答えよ。

メモ

- この動乱期に、武家・公家を問わず広く連歌が流行した。
- 茶寄合が各地で行われ、茶の異同を飲みわけて、かけ物を争う闘茶が流行した。
- これらの流行を導いたのは、動乱の中で成長してきた新興武士たちであった。
- この新興武士たちの気質は、派手・ぜいたくを意味する□の名で呼ばれた。

問2 下線部②について、モンゴルの再襲来に備え、鎌倉幕府が御家人に対して博多湾岸に築かせた石造のとりでを何というか答えよ。なお、写真Ⅰは福岡市生の松原に残る石造のとりで（一部復元）である。

写真Ⅰ



(『詳説日本史探究』(山川出版社)より)

問3 下線部③について述べた文Ⅰ・Ⅱの正誤の組み合わせとして正しいものを、下の中から1つ選び、記号で答えよ。

- Ⅰ 日明貿易は、明を中心とする国際秩序の中で行われた朝貢貿易の形式であった。
- Ⅱ 遣明船は、日本の将軍から公布された勘合と呼ばれる証票の持参を義務づけられた。

- ア. Ⅰ－正 Ⅱ－正 イ. Ⅰ－正 Ⅱ－誤
- ウ. Ⅰ－誤 Ⅱ－正 エ. Ⅰ－誤 Ⅱ－誤

問4 下線部③について述べた文として誤っているものを、次の中から1つ選び、記号で答えよ。

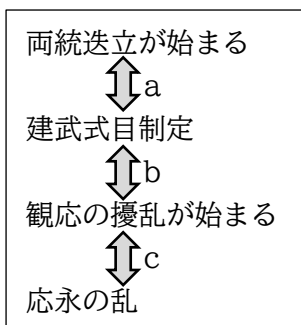
- ア. 日明貿易を開始した将軍により京都の北山に金閣が建立された。
- イ. 日明貿易を一時中断した将軍の時代は、将軍と有力守護の勢力均衡が保たれていた。
- ウ. 一時中断されていた日明貿易を再開した将軍の頃に出た日親は、戦闘的な布教を行った。
- エ. 日明貿易の実権はしだいに堺商人と結んだ大内氏や博多商人と結んだ細川氏の手に移った。

B

④14世紀には畿内と津軽の十三湊とを結ぶ日本海交易がさかんにおこなわれ、サケ・コンブなど北海の産物が京都にもたらされた。やがて人々は本州から、蝦夷ヶ島と呼ばれた北海道の南部に進出し、各地の海岸に港や館（道南十二館）を中心にした居住地をつくった。彼らは和人と呼ばれ、津軽の豪族安藤氏の支配下に属して勢力を拡大した。古くから北海道に住んでいたアイヌは、漁労・狩猟や交易を生業として和人とも交易をおこなった。しかし、和人の進出はしだいにアイヌを圧迫し、たえかねたアイヌは⑤15世紀半ばに、大首長□□□□を中心に蜂起し、一時は和人居住地のほとんどを攻め落としたが、⑥制圧した和人が道南地域の和人居住地の支配者に成長した。

問5 下線部④について、日本史探究の授業で先生が14世紀以降の出来事を年代の古い順から配列した年表を生徒たちに配布した。グループワークで、年表のa～cに入る出来事を生徒が各々発言した。次の生徒の発言について述べた文として正しいものを、下のア～エの中から1つ選び、記号で答えよ。

年表



発言（生徒A）

aの期間には、「後醍醐天皇親政」が入る。

発言（生徒B）

bの期間には、「足利義満、室町に花の御所造営」が入る。

発言（生徒C）


cの期間には、「半濟令発布」が入る。

- ア. 生徒Aと生徒Bの発言が正しい。
- イ. 生徒Aと生徒Cの発言が正しい。
- ウ. 生徒Bと生徒Cの発言が正しい。
- エ. 三人とも正しい。

問6 下線部⑤に関して、室町時代の様子を描いた図として正しいものを、次の中からすべて選び、記号で答えよ。


図

ア. 観世能




(『詳説日本史探究』(山川出版社)より)

イ. 足輕




(『詳説日本史探究』(山川出版社)より)

ウ. 「一遍上人絵伝」



(『詳説日本史探究』(山川出版社)より)

エ. 「伴大納言絵巻」



(『詳説日本史探究』(山川出版社)より)

問7 文章中の空欄[]に入る語句 i・ii と、下線部⑥の説明 X・Y の組み合わせとして正しいものを、下の中から1つ選び、記号で答えよ。なお、資料は、道南十二館と周辺図を示している。

空欄[]に入る語句

- i シャクシャイン
- ii コシャミン

下線部⑥の説明

- X この倭人は上ノ国の領主安藤氏である。
- Y この倭人は江戸時代には松前氏と名乗る大名となった。

- ア. i-X イ. i-Y
- ウ. ii-X エ. ii-Y

資料



(『詳説日本史探究』(山川出版社)より)

問8 写真Ⅱは、琉球王国の王都にある首里城である。琉球王国の貿易が発展した理由について、下の(1)・(2)の条件に従い、解答欄の書き出しに続けて50字以内で答えよ。

写真Ⅱ



(『詳説日本史探究』(山川出版社)より)

条件

- | |
|---|
| <p>(1) 王都首里の外港の名称を記すこと。</p> <p>(2) (1)の外港がどのような港となったかについてふれること。</p> |
|---|

日本史探究の授業で、「近世の史料を読み解く」という課題でグループワークが行われた。
史料A～Eをそれぞれ読み、以下の各問いに答えよ。

史料A

一¹ 諸国百姓、刀・脇指・弓・やり・てつほう、其外
武具のたぐひ所持候事、堅く御停止候。其子細は、
入らざる道具をあひたくはへ、年貢・所当を難渋せ
しめ、自然、一揆を企て、給人にたいし非儀の動を
なすやから、勿論御成敗あるべし。然れば其所の田
畠不作せしめ、知行ついえになり候の間、其国主、
給人、代官として、右武具、悉取りあつめ、進上致
すべき事。

一² 右取をかるべき刀・脇指、ついえにさせらるべ
き儀にあらず候の間、今度大仏御建立の釘・かすか
ひに仰せ付けらるべし。然れば、今生の儀は申すに
及ばず、来世までも百姓たすかる儀に候事。

一³ 百姓は農具さへもち、耕作専に仕り候へハ、子々
孫々まで長久に候。百姓御あはれミをもって、此の
如く仰せ出され候。誠に国土安全万民快樂の基也。
右道具急度取り集め、進上有るべく候也。

史料B

一¹ 祭礼・仏事など結構に仕るまじき事。
一² 男女衣類の事、これ以前より御法度の如く、庄
屋は絹紬・布・木綿を着すべし。わき百姓は布・も
めんたるべし。右の外は、えり・帯などにも仕るま
じき事。

一³ 嫁とりなどに乗物無用の事。
一⁴ 似合わない家作、自今以後仕るまじき事。
一⁵ 御料・私領共に、本田畑にたばこ作らざるよう
に申しつくべき事。

史料C

……各耕シテ子ヲ育て、子壯
ニナリ、能ク耕シテ親ヲ養ヒ
子ヲ育て、一人之ヲ為レバ万
万人之ヲ為テ、貪り取ル者無
レバ貪ラルル者モ無ク、転定
モ人倫モ別ツコト無ク、転定
生ズレバ、人倫耕シ、此ノ外
一点私事無シ。是レ自然ノ世
ノ有様ナリ。

史料D

侍が来ては買つてく高楊枝
役人の子はにぎにぎを能く覚え
芭蕉翁ほちゃんと言ふと立ちどまり

史料E

一体いきりす二限らず、南蛮・西洋の儀は、御制
禁邪教の国二候間、以来何れの浦方ニおるても、異
国船乗寄せ候を見受け候ハバ其所ニ有合せ候人夫
を以て、有無に及ばず、一凶ニ打払ひ、逃延び候ハ
バ、追船等差出すに及ばず、其分ニ差置き、若し押
して上陸致し候ハバ、搦捕り、又は打留め候ても苦
しからず候。……二念無く打払ひを心掛け、凶を失
わざる様取計ひ候処、専要の事に候条、油断無く申
し付けらるべく候。

問1 史料Aを読み解いたi班が発表を行った。次のi班の発表のI・IIの正誤の組み合わせとして正しいものを、下の中から1つ選び、記号で答えよ。

i班の発表

I：この史料は、豊臣秀吉の刀狩令であり、大陸侵攻に向けて、全国の石高を調査し、大名らを戦争に動員する軍役の基準として掌握した後に出された。

II：この史料は、一揆を防止し、百姓を耕作に専念させる意図を示し、大名に百姓から刀・脇差などの武具を取り上げるよう命じたものである。

- ア. I－正 II－正 イ. I－正 II－誤
ウ. I－誤 II－正 エ. I－誤 II－誤

問2 史料Bを読み解いたii班が、史料Bの傍線部に注目して意見をまとめた。ii班の意見の空欄に適する語句を答えよ。

ii班の意見

幕府が百姓に対して、百姓の小経営をできるだけ安定させ、一方で[]にあまり巻き込まれないようにし、年貢・諸役を確実に徴収しようとしたからではないかと考える。

問3 史料Cを読み解いているiii班で、一人の生徒が発言した。一人の生徒の発言の下線部①～④のうち、誤っているものを1つ選び、記号で答えよ。

一人の生徒の発言

この史料は、医者の安藤昌益が著した『自然真営道』です。この史料では、①万人がみずから耕作して生活する自然の世を理想とし、武士が百姓から搾取する社会の仕組みや身分制度を批判していることが読み取れると考えます。同じころに、『赤蝦夷風説考』の意見書が幕府に取り入れられた医師の②最上徳内の娘の只野真葛は、③国学の儒教批判にも学びながら、④男女の才知の平等を主張したことも調べました。身分社会を根本から改めようとする思想は、現代社会にも通ずるのでないかと考えます。

問4 史料Dを読み解いたiv班が、この中に、正風俳諧を確立した松尾芭蕉の名前があることに着目し、近世の文化の特色について、各々が思いつく文化の特色を簡単にまとめたカードを作成した。作成後に、松尾芭蕉が登場した時代の文化とカードに書かれた文化とを年代の古い順から配列したものとして正しいものを、下の中から1つ選び、記号で答えよ。

カード

A	寺小屋が各地につくられ、民衆の中にも識字層が大幅に増加し、読書をする人々が全国に広がり、書籍や印刷物が多様に制作・出版された。
---	---

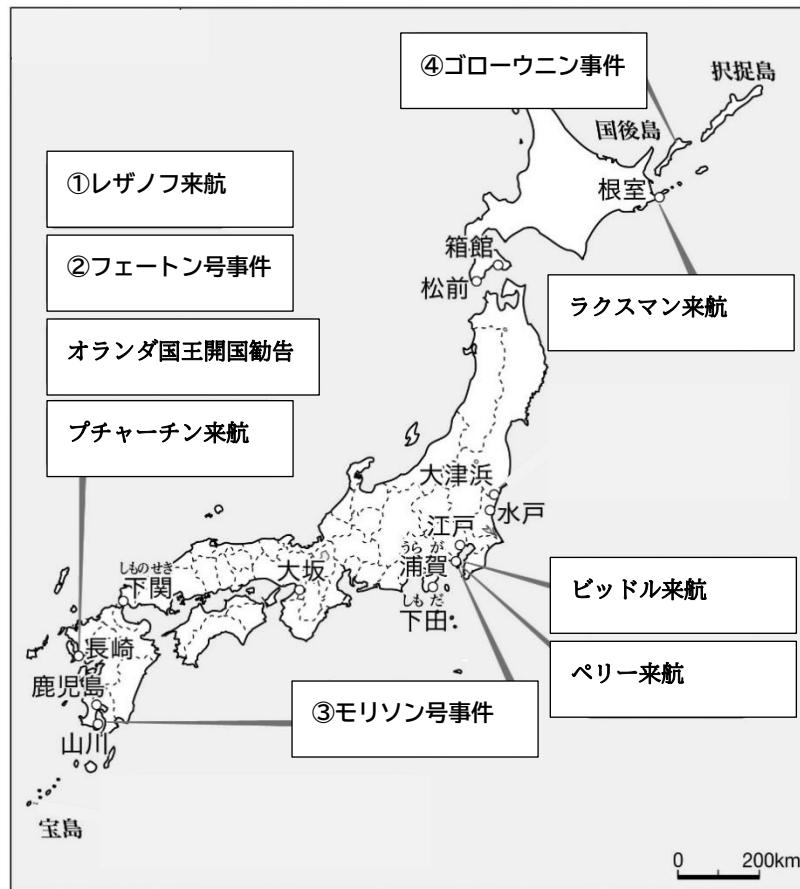
B	君臣・父子の別をわきまえ、上下の秩序を重んじる学問が幕府や藩に受け入れられ、京都相国寺の禅僧が還俗してその学問の啓蒙に努めた。
---	---

C	城主の居館・政庁となった城の中心には天守と呼ばれる高樓建築のほか、大広間をもつ書院造の御殿がつくられた。
---	--

- ア. B-C-A-松尾芭蕉が登場した時代
- イ. B-C-松尾芭蕉が登場した時代-A
- ウ. C-B-松尾芭蕉が登場した時代-A
- エ. C-B-A-松尾芭蕉が登場した時代

問5 史料Eを読み解いたV班が、史料Eなどについて、教科書や副教材にある資料Iを用いてディスカッションを行い、まとめを作成した。

資料I



(『詳説日本史探究』(山川出版社)より作成)

まとめ

史料Eは文政8年に出された外国船を砲撃するよう命じた令である。この法令が出された背景には、後のイギリス船・アメリカ船の日本近海への出沒があった。この令が出された後のについて、幕府の対外政策を批判した二人が厳しく罰せられた。

- (1) まとめの空欄・に入る出来事として正しいものを、資料Iの①～④の中からそれぞれ1つ選び、①～④の記号で答えよ。
- (2) まとめの下線部について、罰せられた人物のうち、『慎機論』を書いた人物を答えよ。

問6 幕末期に多量の金貨が海外に流出したが、その原因について、次の語句をすべて使用し、解答欄の書き出しに続けて40字以内で答えよ。なお、指定語句は1回のみ使用し、解答文中で用いた語句には下線を引いて明示すること。

語句

金銀比価

外国銀貨

日本の金貨

8

次の先生と生徒の会話文を読み、以下の各問いに答えよ。

先生と生徒の会話文

生徒：最近、アナログレコードが人気になっているというニュースをスマートフォンでよく見ますが、先生もアナログレコードをよく聴かれていたのですか。

先生：そうだね、私が高校生だった①1980年代後半頃にCDが普及していましたが、アナログレコードもよく聴いていましたよ。

生徒：そもそもアナログレコードっていつからあるのですか。

先生：アナログレコードの原型は1877年にエジソンが発明した蓄音機に始まるみたいです。当時は②陸奥宗光や③森有礼らが日本の近代化のために活躍しました。その後、蓄音機は1892年に国産化が開始されたそうです。

生徒：アナログレコードもエジソンが発明したのですか。蓄音機の国産化は、例えば、ことと並んでa 1890年代の日本の産業革命を代表する出来事かもしれませんね。


先生：それはちょっと言い過ぎかもしれないけれどね。ただ、過去の出来事が文字として残されたことに加えて、音声までも残るようになったのはすごいことですよね。その後、1920年代には新聞・雑誌・映画などのマスメディアが急速に発達しました。

生徒：それは普通選挙制による総選挙で、④田中義一や⑤犬養毅が首相になった時代とも重なりますね。

先生：その通りです。同じ頃にb ラジオ放送が始まり、写真Iのようなラジオが普及し全国一斉に情報が伝わる時代の幕開けとなりました。今の選挙もSNSの普及に対応することが話題となっていますよね。さてそろそろ時間かな。久しぶりにアナログレコードの話ができて懐かしかったです。ありがとうございます。

生徒：こちらこそありがとうございました。それでは失礼します。

写真I



初期のラジオ 写真提供：NHK
 (『高等学校 日本史探究』(第一学習社)より)

- 問1 写真Ⅱは下線部①の年代のものであり、左から、アメリカ合衆国のレーガン大統領、イギリスのサッチャー首相、日本の中曽根（康弘）首相である。中曽根首相が行った経済政策について、(1)～(3)の条件に従い40字以内で答えよ。

写真Ⅱ



Bob Daugherty/AP/アフロ

条件

- (1) レーガン大統領、サッチャー首相、中曽根首相に共通する「新自由主義」を説明すること。
 (2) 「民営化」という語句を使用すること。
 (3) 民営化されることとなった三公社を明らかにすること。

- 問2 下線部②～⑤の人物に関して述べた文として正しいものを、次の中から1つ選び、記号で答えよ。

- ア. 第2次伊藤博文内閣の外務大臣陸奥宗光は、日清戦争後に、領事裁判権の撤廃と関税率の引上げなどを内容とする日英通商航海条約の調印に成功した。
 イ. 森有礼文部大臣のもとでいわゆる学校令が公布され、小学校・中学校・師範学校・帝国大学などからなる学校体系が整備された。
 ウ. 田中義一内閣の時期には、日本の外交は中国政策をめぐって強硬姿勢に転じ、中国共産党による北伐に対抗するため、満州軍閥の張作霖を殺害した。
 エ. 加藤高明内閣の成立から二・二六事件で犬養毅内閣が崩壊するまでの8年間、二大政党の総裁が交代で内閣を組閣する「憲政の常道」が続いた。

問3 下線部bが普及した1920年代は、いわゆる普通選挙法が成立した。この普通選挙法を成立させた首相は、大隈重信内閣の外務大臣時代に、北京の袁世凱政府に対していわゆる二十一カ条の要求をおこなった。二十一カ条の要求について述べた文Ⅰ・Ⅱの正誤の組み合わせとして正しいものを、下の中から1つ選び、記号で答えよ。

Ⅰ 南満州のドイツの権益の継承などを求めた。

Ⅱ 袁世凱政府はこの要求を拒否した。

ア. Ⅰ－正 Ⅱ－正 イ. Ⅰ－正 Ⅱ－誤

ウ. Ⅰ－誤 Ⅱ－正 エ. Ⅰ－誤 Ⅱ－誤

問4 次の年表は下線部bに関して、ラジオ等のマスメディアで報道された出来事を簡潔に示している。年表中の空欄に適する語句を答えよ。

年表	
年	出来事
1954年	昭仁皇太子と正田美智子さんのご成婚パレード
1963年	テレビアニメーション「鉄腕アトム」放送開始
1964年	東京 <input type="text"/> 開催（93の国と地域から参加）
1970年	大阪で日本万国博覧会開催


問5 先生と生徒の会話文の空欄[]について、写真Ⅲ・Ⅳ、資料Ⅰを参考にして、下線部aの生徒の発言につながるように、60字以内で答えよ。

写真Ⅲ



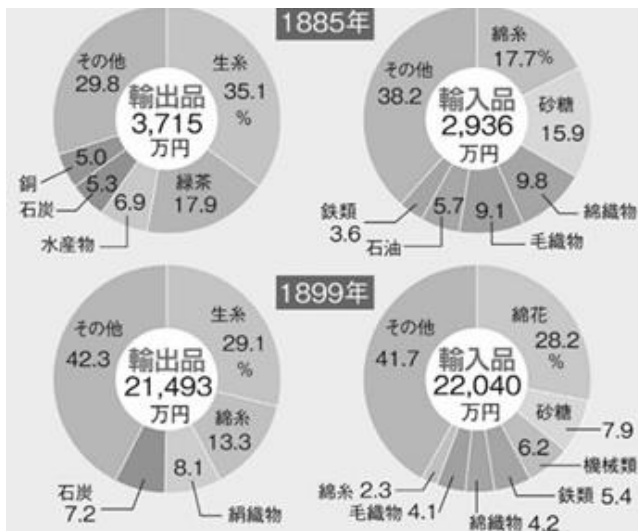
2024年発行の日本銀行券の肖像画となった人物
(埼玉県深谷市ホームページより)

写真Ⅳ



写真Ⅲの写真の人物が設立に関わった会社
(『詳説日本史探究』(山川出版社)より)

資料Ⅰ



日本の輸出入品の割合
(『詳説日本史探究』(山川出版社)より)

問6 先生と生徒の会話文では、近代・現代の出来事などにふれている。次の近代・現代の年表について各問いに答えよ。

近代・現代の年表

西暦	1850	60	70	80	90	1900	10	20	30	40	50	60	70	80	90	2000	10	
時代	江戸		明治				大正		昭和						平成			
政治	〔幕末維新〕		〔自由民権〕		〔大陸進出〕		〔政党政治〕		〔軍部支配〕		〔占領期〕		〔安保体制〕					
主要事項	ペリー来航 英・清間の天津条約 日米修好通商条約 米南北戦争		大政奉還 ドイツ統一 廃藩置県 西南戦争 清仏戦争		露仏同盟 大日本帝国憲法		A 日清戦争 日露戦争		韓国併合 シベリア出兵 第一次世界大戦		満洲事変 世界恐慌 国際連盟成立		B サンフランシスコ平和条約 朝鮮戦争 日本国憲法 太平洋戦争 日中戦争		C 日中平和友好条約		東日本大震災	
中国	清					中華民国					中華人民共和国 (台湾)							
朝鮮	朝鮮			大韓帝国		(日本領)			朝鮮民主主義人民共和国 大韓民国									

(『山川&二宮ライブラリー』より作成)

(1) 近代・現代の年表のAには北清事変(義和団戦争)が入る。北清事変(義和団戦争)について述べた文Ⅰ・Ⅱの正誤の組み合わせとして正しいものを、下の中から1つ選び、記号で答えよ。

- Ⅰ 日本を含む列国は、連合軍を派遣して清を降伏させた。
Ⅱ 清は天津条約を結び、北京における列国の公使館守備隊の駐留などを承認した。

- ア. Ⅰ-正 Ⅱ-正 イ. Ⅰ-正 Ⅱ-誤
ウ. Ⅰ-誤 Ⅱ-正 エ. Ⅰ-誤 Ⅱ-誤

(2) 近代・現代の年表のBに入る出来事について述べた次の文中の空欄[]に適する語句を答えよ。

1964年に成立した佐藤栄作内閣は、まず外交的懸案の日韓交渉を進め、1965年に[]を結んで、1910年の韓国併合以前に締結された条約および協定の無効を確認し、韓国政府を「朝鮮にある唯一の合法的な政府」と認め、韓国との国交を樹立した。

(3) 近代・現代の年表のCに入る出来事について述べた次の文中の空欄[]に適する語句を答えよ。

1980年代後半の内需景気は、地価や株価の高騰をともなって進行し、のちに「[]」と呼ばれることとなった。

高校 日本史	受験 番号		氏名	
-----------	----------	--	----	--

令和9年度長崎県公立学校教員採用選考試験解答用紙

1 5点(各1点)

問1	イ	問2	ウ
問3	三民	問4	女性(婦人)
問5	イ		

2 5点(各1点)

問1	乙巳の変	問2	エ
問3	安土	問4	太陽暦
問5	エ		

3 5点(各1点)

問1	エ	問2	イ
問3	ウ	問4	イ
問5	エ		

高校 日本史	受験 番号		氏名	
-----------	----------	--	----	--

令和9年度長崎県公立学校教員採用選考試験解答用紙

4 5点(各1点)

問1	イ	問2	秘密
問3	ア	問4	イ
問5	奉仕者		

5 20点(問8は4点、問1・問4は各3点、他各2点)

問1	南	問2	エ												
問3	イ	問4	国博士												
問5	イ	問6	ウ												
問7	エ														
問8	隋の皇帝である							煬	帝	は	倭	国	が	臣	属
	し	な	い	形	式	を	と	っ	た	こ	と				
	に不満を持ったから。											19字			

高校 日本史	受験 番号		氏名	
-----------	----------	--	----	--

令和9年度長崎県公立学校教員採用選考試験解答用紙

6 20点 (問8は4点、問1・問2は各3点、他各2点)

問1	バサラ						問2	石築地 (石塁・防塁)							
問3	イ						問4	エ							
問5	イ						問6	ア、イ							
問7	エ														
問8	琉球船は、明の海禁政策のもと、						東	ア	ジ	ア	諸	国	間	の	
	中	継	貿	易	に	活	躍	し	た	の	で	、	首	里	の
	外	港	で	あ	る	那	覇	は	重	要	な	国	際	貿	易
	港	と	な	っ	た	か	ら	。	46字						

7 20点 (問6は4点、問2・問5 (2) は各3点、他各2点)

問1	ウ						問2	貨幣経済							
問3	②						問4	ウ							
問5	(1)	i	②												
		ii	③												
	(2)	渡辺華山													
問6	日本と外国の				金	銀	比	価	が	異	な	り	、	外	
	国	人	は	外	国	銀	貨	を	日	本	に	も	ち	込	ん
	で	日	本	の	金	貨	を	入	手	し	た	た	め	。	39字

高校 日本史	受験 番号		氏名	
-----------	----------	--	----	--

令和9年度長崎県公立学校教員採用選考試験解答用紙

8 20点(問1は5点、問5は4点、問6(3)は1点、他2点)

問1	当時、世界的な風潮であった新自由主義は、										小	さ	な	政	府
	を	め	ぎ	す	も	の	で	あ	り	、	電	電	公	社	、
	専	売	公	社	、	国	鉄	の	民	営	化	を	断	行	し
	た	。	37字												
問2	イ			問3	エ			問4	オリンピック						
問5	渋	沢	栄	一	に	よ	り	設	立	さ	れ	た	大	阪	紡
	績	会	社	の	紡	績	機	械	の	導	入	を	き	っ	か
	け	に	、	綿	糸	の	生	産	が	急	増	し	綿	糸	の
	輸	出	量	が	輸	入	量	を	上	回	っ	た		57字	
問6	(1)	イ			(2)	日韓基本条約									
	(3)	バブル経済 (バブル景気、平成景気)													