

令和9年度長崎県公立学校  
教員採用選考第1次試験問題

教科・科目

高校 公民

受験番号

氏名

実施日 令和8年5月10日（日）



## 令和9年度長崎県公立学校教員採用選考試験

<h2 style="margin: 0;">高校公民</h2>
----------------------------------

- ※ 解答はすべて解答用紙の該当欄に記入すること。  
 ※ 漢字で書くべき人名、用語は、正確な漢字で記入すること。

1	以下の各問いに答えよ。
---	-------------

問1 次の文章中の下線部について述べた文Ⅰ・Ⅱの正誤の組み合わせとして正しいものを、下の中から1つ選び、記号で答えよ。

18世紀後半、イギリスで産業革命が始まった。産業革命では、工場に機械が導入されたことにより、産業資本家と工場労働者からなる資本主義社会が本格的に形成され、農村から都市への人口集中が進み、新興の工業都市が急激に発展した。

- Ⅰ 石炭を動力源とする蒸気機関が発明・改良された。  
 Ⅱ インド産に匹敵する絹織物をイギリス国内で生産することが目指された。

- ア. Ⅰ－正 Ⅱ－正                      イ. Ⅰ－正 Ⅱ－誤  
 ウ. Ⅰ－誤 Ⅱ－正                      エ. Ⅰ－誤 Ⅱ－誤

問2 次の資料を読み、これを1861年に布告した国を、次の中から1つ選び、記号で答えよ。

**資料**

- ア. イギリス  
 イ. ドイツ  
 ウ. ロシア  
 エ. アメリカ

新しい規定により、農民は、自由な農村住民としての完全な権利を、適時に受け取ることとなる。…農民は、土地買戻しにより、地主への義務負担から解放され、まさしく、自由な土地所有農民の身分となる。…

(『歴史総合』(実教出版)より)

問3 次の文章中の空欄□に適する語句を答えよ。

孫文は、□主義を掲げ、1905年に革命勢力を結集して中国同盟会を結成し、武装蜂起を行った。1911年、革命運動の影響を受けた軍隊が武昌で蜂起し、翌年には、中華民国が成立し、孫文は臨時大総統に就いた。

問4 次の文章中の空欄[ ]に適する語句を答えよ。なお、空欄[ ]には同じ語句が入る。

第一次世界大戦では、参戦した国々の国民や物資が全面的に動員される総力戦となった。また、男性が徴兵されたあとの労働力不足を補うため、多くの[ ]が職場に進出し、いくつかの国では戦後に[ ]参政権が実現した。

問5 次の文章中の空欄[ ]に適する語句として正しいものを、下の中から1つ選び、記号で答えよ。

1985年にソ連共産党書記長に就任したゴルバチョフが、新思考外交を展開した。この結果、1987年には中距離核戦力（[ ]）全廃条約が締結され、1989年には米ソ両国首脳によるマルタ会談によって冷戦の終結が宣言された。

ア. PKO      イ. INF      ウ. START      エ. ICBM

2 以下の各問いに答えよ。

問1 次の文章中の空欄[ ]に適する語句を答えよ。

中大兄皇子は、中臣鎌足らの協力を得て、天皇中心の官僚制による政治を目指し、645年に蘇我蝦夷・入鹿を滅ぼした。この政変を「[ ]」と呼ぶ。

問2 次の文章中の下線部について述べた文Ⅰ・Ⅱの正誤の組み合わせとして正しいものを、下の中から1つ選び、記号で答えよ。

9世紀の半ば以降、藤原氏のうちとくに北家が、天皇家との結びつきを強めて、しだいに勢力をのぼした。

Ⅰ 藤原道長は、平等院鳳凰堂を建立した。

Ⅱ 藤原定家は、古今和歌集を編纂した。

ア. Ⅰ－正 Ⅱ－正           イ. Ⅰ－正 Ⅱ－誤

ウ. Ⅰ－誤 Ⅱ－正           エ. Ⅰ－誤 Ⅱ－誤

問3 次の文章中の空欄[ ]に適する語句を答えよ。

織田信長は、今川義元を桶狭間の戦いで破り、軍勢を率いて足利義昭とともに京都に上り、義昭を将軍として室町幕府を再興させた。その後、さらに勢力を広げ、近江の琵琶湖畔に[ ]城を築きはじめた。

問4 次の文章中の空欄[ ]に適する語句を答えよ。

1872年(明治5年)には、西洋諸国の例にならって暦法を改め、旧暦を廃して[ ](新暦)を採用し、1日を24時間とし、のちには日曜を休日とした。また、天皇と関わる祝祭日が制定された。

問5 次の文章中の下線部について述べた文Ⅰ・Ⅱの正誤の組み合わせとして正しいものを、下の中から1つ選び、記号で答えよ。

日本では、1970年代に、新幹線と高速道路による交通網整備などの列島改造政策が打ち出され、地価の高騰を引き起こした。さらに、第1次石油危機の発生による原油価格の高騰が重なり、狂乱物価と呼ばれる激しいインフレーションが発生し深刻な不況に陥った。

Ⅰ この時の首相は福田赳夫であった。

Ⅱ これは第1次中東戦争が原因で起きた。

ア. Ⅰ－正 Ⅱ－正           イ. Ⅰ－正 Ⅱ－誤

ウ. Ⅰ－誤 Ⅱ－正           エ. Ⅰ－誤 Ⅱ－誤

3

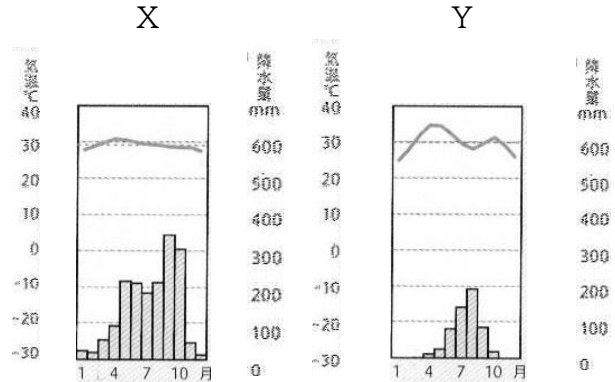
以下の各問いに答えよ。

問1 次の文章中の空欄 **A** と **B** に適する語句の組み合わせとして正しいものを、下の中から1つ選び、記号で答えよ。

図の雨温図Xは、年中気温が高く、雨季と乾季が明瞭であることから **A** 気候であると判断できる。この気候区では、まばらな樹木と草原が広がっている。

雨温図Yは、わずかに雨が降ることから、**B** 気候であると判断できる。この気候区では、丈の短い草原が広がっている。

図



(『新編 新しい社会 地理』(東京書籍)より)

- ア. A-熱帯雨林      B-ステップ  
 イ. A-サバナ      B-砂漠  
 ウ. A-熱帯雨林      B-砂漠  
 エ. A-サバナ      B-ステップ

問2 次の文章中の空欄 **A** と **B** に適する語句の組み合わせとして正しいものを、下の中から1つ選び、記号で答えよ。

ムスリム(イスラーム教徒)は、1日5回、聖地の **A** に向かって礼拝をする。金曜日にはイスラームの礼拝堂に集まって大勢で祈りをささげる。また、イスラームでは酒を飲むことや豚肉を食べることなどが禁止されており、ムスリムが安心して食事ができるように、こうした決まりを守った食材や料理は「**B**」として認証されている。

- ア. A-メッカ    B-クルアーン      イ. A-メッカ    B-ハラール  
 ウ. A-リヤド    B-クルアーン      エ. A-リヤド    B-ハラール

問3 次の文章中の空欄 **A** と **B** に適する語句の組み合わせとして正しいものを、下の中から1つ選び、記号で答えよ。

ドイツでは、環境に優しい都市交通の取り組みである **A** を導入することで、中心市街地の交通渋滞が減り、大気汚染がおさえられている。郊外の駅には広い **B** が設けられて、朝夕の通勤・通学時間帯には中心市街地に向けて多くの列車が運行されている。

- ア. A-ターミナル駅      B-公園      イ. A-パークアンドライド    B-公園  
 ウ. A-パークアンドライド    B-駐車場      エ. A-ターミナル駅      B-駐車場

問4 次の文章中の空欄  と  に適する語句の組み合わせとして正しいものを、下の中から1つ選び、記号で答えよ。

日本では、限りある  にたよる割合を低下させ、環境の汚染を減らすために、太陽光や風力などの再生可能エネルギーを利用する取り組みが、全国各地で行われている。また、工場や家庭での廃棄物やごみを減らすために、ごみの減量 () や再使用、再生利用といった取り組みも広がってきている。さらに、日本の企業は、環境に優しい素材や、自動車の開発などを通じて、環境問題への対策でも大きな役割を果たしている。

- ア. A－鉱産資源      B－リユース  
 イ. A－鉱産資源      B－リデュース  
 ウ. A－都市鉱山      B－リユース  
 エ. A－都市鉱山      B－リデュース

問5 次の文章中の空欄  と  に適する語句の組み合わせとして正しいものを、下の中から1つ選び、記号で答えよ。

日本固有の領土である北方領土はロシアに、同じく日本固有の領土であり  県に属する竹島は韓国に各々不当に占拠されている。なお、 県に属する尖閣諸島をめぐって解決しなければならない領土問題はないが、中国や台湾が領有権を主張している。

- ア. A－鳥取      B－鹿児島  
 イ. A－島根      B－鹿児島  
 ウ. A－鳥取      B－沖縄  
 エ. A－島根      B－沖縄

4 以下の各問いに答えよ。

問1 日本国憲法について述べた文Ⅰ・Ⅱの正誤の組み合わせとして正しいものを、下の中から1つ選び、記号で答えよ。

- Ⅰ 日本国憲法は、1946年11月3日に公布され、1947年5月3日に施行された。  
 Ⅱ 日本国憲法の改正は、各議院の総議員の過半数の賛成で国会が発議する。

- ア. Ⅰ－正 Ⅱ－正    イ. Ⅰ－正 Ⅱ－誤  
 ウ. Ⅰ－誤 Ⅱ－正    エ. Ⅰ－誤 Ⅱ－誤

問2 次の文章中の空欄[ ]に適する語句を答えよ。

現在の日本における選挙は、全ての成年者が選挙権を持つ普通選挙、代表を直接選ぶ直接選挙、一人一票の平等選挙、どの政党や候補者に投票したかを他人に知られないように無記名で投票する[ ]選挙の、4原則の下で行われている。

問3 次の文章中の下線部について述べた文Ⅰ・Ⅱの正誤の組み合わせとして正しいものを、下の中から1つ選び、記号で答えよ。

社会集団での生活を成り立たせるためには、対立を合意に導く解決策を考えるだけでなく、その後も同じような対立が起こるのを防ぐために、あらかじめ社会集団の中や集団どうして決まり（ルール）を作り、共有していくことも重要である。

- Ⅰ 決まり（ルール）を守ることで、一人一人の自由や平等が保障される。  
 Ⅱ 多数決で決定する場合には、少数の意見を十分に聞くことが重要である。

- ア. Ⅰ－正 Ⅱ－正    イ. Ⅰ－正 Ⅱ－誤  
 ウ. Ⅰ－誤 Ⅱ－正    エ. Ⅰ－誤 Ⅱ－誤

問4 日本の社会保障について述べた文として正しいものを次の中から1つ選び、記号で答えよ。

- ア. 1920年代に、国民皆保険、国民皆年金が実現した。  
 イ. 介護保険制度では、40歳以上の人の加入が義務付けられている。  
 ウ. 社会保険には、医療保険、生活保護が含まれる。  
 エ. 社会保障費の増加に対応するため、池田勇人内閣で消費税が導入された。

問5 次の文章中の空欄[ ]に適する語句を答えよ。なお[ ]には同じ語句が入る。

憲法第15条では、「すべて公務員は、全体の[ ]であつて、一部の[ ]ではない。」と規定されている。

5

以下の各問いに答えよ。

【A】史料は大日本帝国憲法の第一条 天皇からの抜粋である。この史料をもとにした先生と生徒の会話を読み、以下の各問いに答えよ。

### 史料

第1条 大日本帝国ハ万世一系ノ天皇之を統治ス  
 第2条 皇位ハ皇室典範ノ定ムル所ニ依リ皇男子孫ヲ継承ス  
 第3条 天皇ハ神聖ニシテ侵スベカラズ  
 第4条 天皇ハ国ノ元首ニシテ統治権ヲ総攬シ此ノ憲法ノ条規ニ依リ之ヲ行フ  
 第5条 天皇ハ帝国議會ノ協賛ヲ以テ立法権を行フ  
 第6条 天皇ハ法律ヲ裁可シ其ノ公布及執行ヲ命ス  
 第7条 天皇ハ帝国議會ヲ召集シ其ノ開会閉会停会及衆議院ノ解散ヲ命ス  
 以下略

大日本帝国憲法 第一章 天皇より

先生：これは明治維新後、伊藤博文らが草案し①明治天皇が発布した大日本帝国憲法の一部だけど、現在の日本国憲法と大きく違うところがあるのわかりますか？

生徒A：まず、第1条で、天皇によって国が統治されているというところが違うと思います。

先生：そうですね。現在の日本国憲法では、天皇の地位は「主権の存する日本国民の総意に基く」（第1条）となっています。

生徒B：日本国憲法では、②国事行為のみを行うこととなっているんですね。

生徒A：ところで、第4条にでてくる総攬とはどういう意味なのですか？

先生：はい。総攬とはすべてを掌握することです。大日本帝国憲法では、立法権・行政権・司法権は統治権の総攬者である天皇の名において行使されていました。一方、天皇も内閣などとともに国家機関の一つであるとみなす学説が美濃部達吉らによって唱えられました。

生徒A：（ a ）説のことですね。

先生：はい、その通りです。また、第5条では、議会は天皇の協賛機関となっていますが、現在の日本国憲法では議会の地位はどのようになっていますか。

生徒B：はい、第41条で、「国会は、国権の（ b ）機関であって、国の唯一の（ c ）機関である。」となっています。

先生：その通りです。また、大日本帝国憲法が、天皇の立法権によって「臣民の権利」を制限できるという考えに立っていたのに対し、日本国憲法では、③自然権の思想が採用され、法律の内容が基本的人権を侵すようなものであってはならないという、「法の支配」の原理が明確化されています。

問1 下線部①について、君主によって制定された憲法を何というか答えよ。

問2 下線部②について、この行為として誤っているものを、次の中から1つ選び、記号で答えよ。

- ア. 内閣総理大臣の任命      イ. 最高裁判所長官の指名      ウ. 国会の召集  
エ. 衆議院の解散      オ. 批准書などの認証

問3 空欄（ a ）～（ c ）に適する語句を答えよ。

問4 下線部③の自然権に関して述べた文として正しいものを、次の中から1つ選び、記号で答えよ。

- ア. 個人の自由と尊厳を守るため、国家権力による不当な干渉を排除するだけでなく、「人間らしい」生活を実現する権利のことである。  
イ. 人間が生まれながらに持つ、国家がこれを侵害することは許されないとされる権利のことである。  
ウ. 思想・信条の自由、信教の自由、身体の自由、経済の自由といった権利（国家からの自由）のことである。  
エ. 国民そのものが絶対的な政治権力をもつという意味で、民主政治の理念と深く関わっている権利のことである。

【B】次の文章を読み、以下の各問いに答えよ。

選挙制度には大別して、一選挙区から一人の議員を選出する①小選挙区制と複数の議員を選出する大選挙区制、各政党の得票に応じて議席を配分する比例代表制がある。

現在の選挙制度には、さまざまな課題が指摘されており、第一は一票の格差の問題であり、第二は②選挙運動の規制の問題である。また第三は投票率の低下の問題であり、投票率を上昇させるため、投票日に投票所に行けない有権者に対しては、投票日の前日までに投票できる（ d ）投票があり、2025年7月の第27回参議院議員通常選挙における選挙人名簿登録者数に占める（ d ）投票者数の割合は25.12%であった。

国民の意思は、選挙のほかにも、請願、陳情、デモなどの大衆行動や、パブリックコメントによって表明されるが、世論も政治を動かす原動力となる。現代社会において、テレビや新聞などのマス・メディアが世論形成に果たす役割は非常に大きくなっている。私たちは、これまで以上に情報の正確さを確認したり、個人のプライバシーに配慮したりするなど、情報発信に必要な倫理観や能力を身に付ける必要がある。また③メディアの情報を主体的に読み取り、活用する能力をもつことがいっそう必要になってきている。

問5 下線部①について、小選挙区制の特徴に関して述べた文として正しいものを、次の中から1つ選び、記号で答えよ。

- ア：二大政党制になりやすい。      イ：死票が少ない。  
ウ：少数意見を反映しやすい。      エ：小党分立になりやすい。

問6 現在のわが国の衆議院議員総選挙の制度について、次の語句の中から必要な語句を用いて、簡潔に説明せよ。

【語句：小選挙区比例代表並立制、非拘束名簿式比例代表制、重複立候補、選挙区選出制】

問7 下線部②について、公職選挙法に記載されている文Ⅰ・Ⅱの正誤の組み合わせとして正しいものを、下の中から1つ選び、記号で答えよ。

- Ⅰ 立候補を届け出る前の選挙運動は認められている。  
Ⅱ 戸別訪問・署名運動は禁止されている。

- ア. Ⅰ－正 Ⅱ－正      イ. Ⅰ－正 Ⅱ－誤  
ウ. Ⅰ－誤 Ⅱ－正      エ. Ⅰ－誤 Ⅱ－誤

問8 空欄（ d ）に適する語句を答えよ。なお、同じ記号には、同じ語句が入る。

問9 下線部③のことを何というか、カタカナで答えよ。

【C】次の文章を読み、以下の問いに答えよ。

わが国の裁判には、①民事裁判と刑事裁判がある。刑事裁判は、犯罪を疑われて起訴された被告人について、検察官による犯罪の立証が十分かどうかを裁判官や裁判員が検討して、犯罪事実の有無を認定し、有罪の場合には刑罰の程度を決めるものである。

また、②裁判所は、裁判を通して一切の法律、命令、規則、処分が憲法に反していないかどうかを判断する権限を持っている。すべての裁判所によって行使されうるが、最終的な判断は最高裁判所が下すため、最高裁判所は（ e ）とよばれる。

問10 下線部①について、民事裁判と刑事裁判について述べた文として誤っているものを、次の中から1つ選び、記号で答えよ。

- ア. 民事裁判では、裁判よりも手続きが簡単な調停によって解決する方法がある。
- イ. 民事裁判では、家族関係をめぐる争いも取り扱われる。
- ウ. 刑事裁判における裁判員裁判では、公判前整理手続が導入されている。
- エ. 刑事裁判では、検察官側と被告人側が和解することがある。

問11 下線部②について、最高裁判所が違憲判決を下したのものとして正しいものを、次の中からすべてを選び、記号で答えよ。

- ア. 薬事法距離制限違憲判決
- イ. 愛媛玉ぐし料訴訟違憲判決
- ウ. 津地鎮祭訴訟違憲判決
- エ. 性別変更新殖不能要件違憲判決


問12 空欄（ e ）に適する語句を答えよ。

6

以下の各問いに答えよ。

【A】次の資料は日本の各市場における寡占の状況を示している。この資料をもとにした先生と生徒の会話を読み、以下の各問いに答えよ。

## 資料



(『高等学校政治・経済』(第一学習社)より)

先生：この資料は、近年の日本のいくつかの製品におけるマーケットシェアの状況を示したものです。

生徒A：どれも日本を代表するような製品ですが、製造している企業はごく少数なのですね。

先生：このような市場を①寡占市場といいましたね。寡占市場では市場機構が機能していないことが原因だと考えられています。このような現象を何というか知っていますか。

生徒B：市場の失敗です。

先生：その通りです。市場の失敗について、寡占市場以外に何か知っていることはありますか。

生徒A：②独占市場があります。

生徒C：③公共財の供給も市場の失敗の一例だと思います。

生徒D：中古車の売買などにもみられると聞いたことがあります。

先生：みなさん正解です。ところで、独占市場や寡占市場では、その弊害が国民生活に及ぶことがあります。これを防ぐために、わが国では(④)法が制定されています。この法律の目的を達成するために(⑤)が設けられています。中古車の売買においては、買い手が個々の中古車の品質を完全には把握できない場合が多くあります。市場では平均的な品質をもとに価格付けがなされるため、高品質の中古車の売り手が市場での価格での販売を諦めることにより、市場には平均より低品質な中古車のみが残ることといったことがおきます。

問1 下線部①について、寡占市場について述べた文Ⅰ・Ⅱの正誤の組み合わせとして正しいものを、下の中から1つ選び、記号で答えよ。

- Ⅰ 独占と同様に、高価格で少量生産になることがある。  
Ⅱ 大企業がプライスリーダーとなって価格を設定し、その価格は下がりにくくなる。

- ア. Ⅰ-正 Ⅱ-正           イ. Ⅰ-正 Ⅱ-誤  
ウ. Ⅰ-誤 Ⅱ-正           エ. Ⅰ-誤 Ⅱ-誤

問2 下線部②について、次の文は独占の形態を説明したものである。空欄（ a ）～（ c ）に適する語句を答えよ。

独占の形態の一つとして、企業が競争を避け、利潤を確保するために、価格・生産量・販売地域などを協定して（ a ）を形成することがある。このほかにも合併や統合によって規模の利益を図る（ b ）や、持株会社がさまざまな分野の企業を傘下において支配する（ c ）がある。

問3 下線部③について、公共財には非競合性と非排除性という性質がある。非排除性について述べた文として正しいものを、次の中から1つ選び、記号で答えよ。

- ア. ある人が消費しても、他の人の消費できる量は減らない。  
イ. ある人が消費すると、他の人の消費できる量が減る。  
ウ. 費用を負担しない人は利用できない。  
エ. 費用を負担しない人でも利用することができる。

問4 空欄（ ④ ）、（ ⑤ ）に適する語句を答えよ。

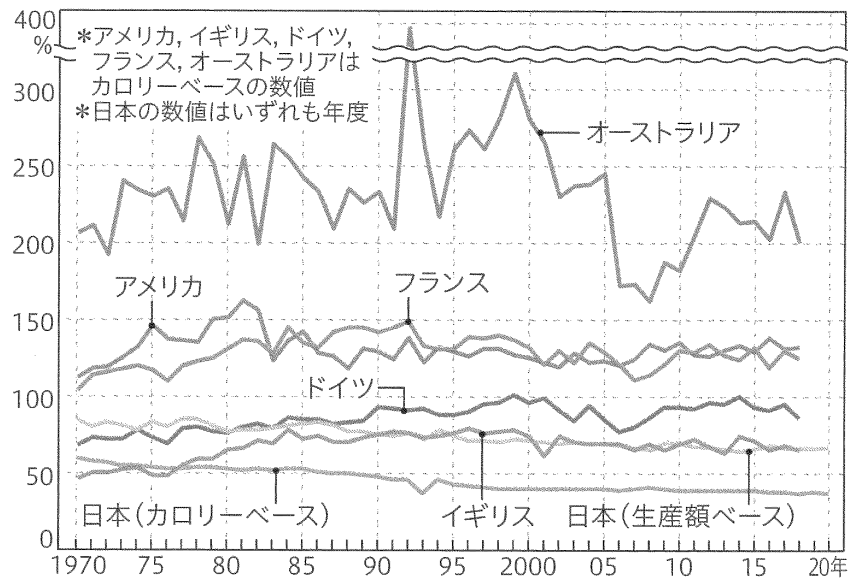
問5 次の文章の空欄（ d ）に適する語句を答えよ。

多くの場合、経済的な取引の当事者間には、もっている情報量に差がある。このような情報量の格差を（ d ）という。

問6 市場の失敗のうち、公害のように市場での取引を通じることなく他の経済主体に不利益をもたらすことを何というか、答えよ。

【B】次のグラフは、各国の総合食料自給率の推移（カロリーベース）を示したものである。以下の各問いに答えよ。

### グラフ



(『政治・経済』(東京書籍)より)

問7 上のグラフにおいて、わが国の総合食料自給率は、1990年代に50%を切っていることが分かる。1990年代にわが国の農業分野で起こった出来事を述べた文として正しいものを、次の中から1つ選び、記号で答えよ。

- ア. 農業基本法を制定し、農作物の選択的拡大や経営の近代化などを図った。
- イ. 生産調整のため減反政策を実施した。
- ウ. GATTのウルグアイ・ラウンドの交渉の結果、コメの部分開放が決まった。
- エ. 農地法が改正され、株式会社の農業への参入が認められるようになった。
- オ. 食料自給率の向上と農業経営の改善を図るための経営所得安定対策が本格的に導入された。

問8 農業を魅力ある産業にするために取り組まれている方策の1つにグリーンツーリズムがある。これについて簡潔に述べよ。

問9 食の安全を確保するために、流通履歴を管理して、生産から小売りまでの食品の移動の経路を把握する制度であり、日本では牛肉とコメに義務づけられている。この制度を何というか、カタカナで答えよ。

【C】次の文章を読み、以下の各問いに答えよ。

現在、少子高齢化と非正規労働者の増加などにより、さまざまな労働問題が存在している。これまで、女性の社会進出への対応と男女平等の推進のため、労働基準法以外にも、①男女雇用機会均等法、育児・介護休業法、男女共同参画社会基本法、女性活躍推進法などが制定されている。

また、労働力人口に占める高齢者の割合が高まる中、高齢者雇用安定法が改正され、定年の延長などにより（ g ）歳までは働くことができる制度が整えられた。

今後は、仕事に対する充実感をもちつつ、豊かで健康な人生を送るために仕事と生活の調和が求められるとともに、②企業も、性別や国籍、年齢、障害の有無を乗り越え、多様な人材を活用していくという考え方を推進していく必要がある。

問10 下線部①のうち、1999年に制定された「男女が対等な立場であらゆる社会活動に参加し、利益と責任を分かち合う社会の実現を目指す」法律として正しいものを、次の中から1つ選び、記号で答えよ。

- |                |             |
|----------------|-------------|
| ア. 男女雇用機会均等法   | イ. 育児・介護休業法 |
| ウ. 男女共同参画社会基本法 | エ. 女性活躍推進法  |

問11 空欄（ g ）に適する数字を答えよ。

問12 下線部②について、このような考え方を何というか、カタカナで答えよ。

7

以下の各問いに答えよ。なお、同じ番号には同じ語句が入る。

【A】次の文章を読み、以下の各問いに答えよ。

17世紀の科学革命は、中世の（①）哲学の世界観を揺るがせた。

イギリス経験論の祖とされる②フランシス・ベーコンは、自然を支配し、人類の生活を改善する力こそ、新たな時代の学問に求められると考えた。

ベーコンによって基礎づけられたイギリス経験論は、その後（③）によって理論的に確立された。（③）は、生得観念を否定し、人間の心は白紙であり、経験によってあとからさまざまな観念が書き込まれていくものと考えた。

一方、（④）は、経験論の立場から、色や形は感覚器官を通して知覚されるものとし、「存在するとは知覚されることである」と主張した。

デカルトによって唱えられた合理論は、⑤スピノザやライプニッツによって継承された。

問1 空欄（①）に適する語句を答えよ。

問2 下線部②のベーコンと、同時代のフランスの哲学者デカルトでは、真理を探求する方法論に違いがある。ベーコンが唱えた「**帰納法**」とデカルトが唱えた「**演繹法**」について簡潔に説明せよ。

問3 空欄（③）と（④）に適する人物名をそれぞれ答えよ。

問4 下線部⑤のスピノザのことばとして正しいものを、次の中から1つ選び、記号で答えよ。

ア. 自然に帰れ    イ. 万人の万人に対する闘争    ウ. 永遠の相の下に    エ. 考える葦

【B】次の資料は、ロールズの『正義論』の一部である。この資料をもとにした先生と生徒の会話を読み、以下の問いに答えよ。

### 資料

原初状態の規定は、私たちを取り巻く状況の特異性によって妨げられることなく原理の選択を考察するよう強く促す、論証上の制約を意味している。無知のヴェールがかけられているため、各人特有の愛着や利害関心に合わせておのれの道徳観を形成することができなくなる。社会的秩序を自分たちがおかれている状況から考察するのではなく、すべての人が対等な立場で採用しうる観点を選び取る。この意味において、私たちは自分たちの社会とそこでの境遇を客観的に考察する。

先生：原初状態というのは、正義の原理を導き出すために、社会の全員の地位や財産などについては知らないという条件が課された架空の状況のことですね。

生徒A：ロールズは、これを「無知のヴェール」と呼んでいるんですね。

先生：ロールズは、社会契約説の影響のもとに正義論を唱えたのですが、彼は自然状態をモデルにした「原初状態」から出発して、自由で平等な人々が合意できる①二つの正義の原理を導き出しています。

生徒B：聞いたことがあります。この主張を批判している意見はないのでしょうか。

先生：センは、ロールズの思想に批判的です。ロールズが主張するような財の配分によっては、十分な福祉の理論になり得ないとしています。

生徒A：もう少し詳しく教えてください。

先生：はい。彼は、教育や健康など、良い人生という観点から個々人が達成できていることを（②）とよびました。センによれば、限られた資源は、（②）を改善するためにこそ配分されるべきものであるとっています。

生徒B：ほかにもロールズの意見を批判している人はいないのでしょうか？

先生：ノージックは、（③）の代表的な思想家で、彼は何よりも個人の自由を重視しています。彼によれば、個人にはその正当な所有物の処分について絶対的な権限があり、国家すら侵すべきでないし、国家による強制的な徴税にも反対しているんですよ。その点で、ロールズ正義論は「拡張国家」とであると批判しています。

問5 下線部①について、二つの正義について述べた文Ⅰ・Ⅱの組み合わせとして正しいものを、下の中から1つ選び、記号で答えよ。

Ⅰ 第一原理は、基本的な自由は各人に平等に配分されるというものである。

Ⅱ 第二原理は、もっとも不遇な人に最大の利益がもたらされたとしても、それだけでは不平等が許されないというものである。

ア. Ⅰ－正 Ⅱ－正                      イ. Ⅰ－正 Ⅱ－誤

ウ. Ⅰ－誤 Ⅱ－正                      エ. Ⅰ－誤 Ⅱ－誤

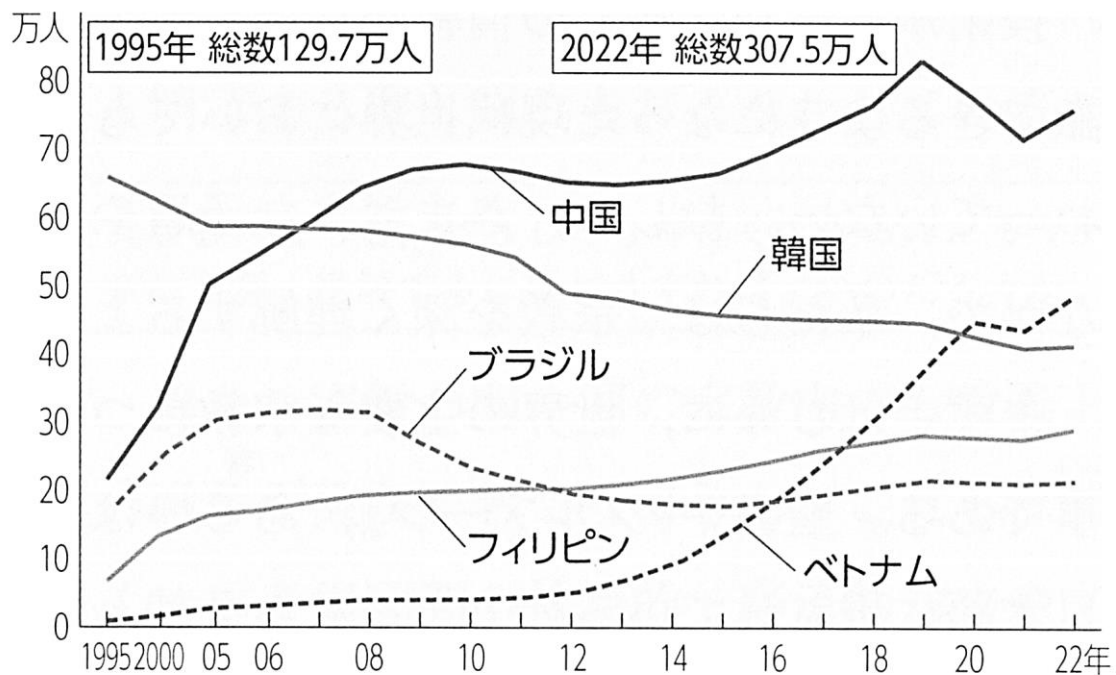
問6 空欄部（②）に入る語句を答えよ。

問7 空欄( ③ )に適する語句として正しいものを、次の中から1つ選び、記号で答えよ。

- ア. リベラリズム                      イ. リバタリアニズム                      ウ. コミュニタリアニズム  
エ. ポストコロニアリズム                      オ. ホーリズム

【C】次のグラフは、わが国の国籍別外国人登録者数の推移を示したものである。下の文章を読み、以下の問いに答えよ。

### グラフ



※2012年より統計の取り方が変更されたため、2012年の数値はそれ以前の数値とは連続しない。韓国は、2011年までは韓国・朝鮮の数値。

(『倫理』(第一学習社)より)

グローバル化の進展にともない、現代社会では国境をまたぐ経済活動がさかんになり、日本を訪れたり、日本に居住したりする外国人の数も年々増加している。

外国の文化について知識を得ても、その文化や生活様式を十分に理解できていないとはかぎらない。ともすると、「変わった風習」や「困った生活態度」と、彼らの行為を批判的に見てしまう。①これは私たちの心のなかに、無意識のうちに自分の慣れ親しんだ文化や生活様式だけをよしとする考え方があるからである。

問8 下線部①について、このような考え方を何というかを答えよ。

8

以下の各問いに答えよ。

【A】次の文章を読み、以下の各問いに答えよ。

国際機構によって平和と安全を維持するという考え方は、第二次世界大戦後、国際連合へと受け継がれた。その原型は大西洋憲章に表れ、( a ) 会議から具体化に向けた動きが始まり、米英ソによるヤルタ会談で国際連合の設立と運営原則が取り決められた。1945年の( b ) 会議で国際連合憲章が採択され、51カ国を原加盟国として国際連合は発足した。

国際連合は、国際平和と安全の維持、経済、社会、文化、そして人道などの面で、国際協調の促進と国際問題の解決を目的としており、総会、①安全保障理事会、経済社会理事会、信託統治理事会、②国際司法裁判所および事務局の主要機関がある。

③国連平和維持活動は、関係国の同意を得たうえで、紛争の鎮静化や再発防止のために加盟国が自発的に提供した要員を国連が編成して派遣する。

近年では、国連や加盟国による平和構築への関心が高まっている。

問1 空欄( a )、( b )に入る地名の組み合わせとして正しいものを、次の中から1つ選び、記号で答えよ。

- |                  |               |
|------------------|---------------|
| ア. a ウィーン        | b サンフランシスコ    |
| イ. a ダンバートン・オークス | b サンフランシスコ    |
| ウ. a ウィーン        | b ダンバートン・オークス |
| エ. a ダンバートン・オークス | b ウィーン        |
| オ. a サンフランシスコ    | b ダンバートン・オークス |
| カ. a サンフランシスコ    | b ウィーン        |

問2 下線部①について述べた文として正しいものを、次の中から1つ選び、記号で答えよ。

- ア. 世界の平和と安全に関する問題について、軍事的措置を含めて決定する強い権限をもっている。
- イ. アメリカ、イギリス、フランス、ロシア、中国の常任理事国と、総会で選任された任期4年の8カ国の非常任理事国で構成される。
- ウ. 手続き事項については過半数の賛成が必要となり、国際平和と安全のための集団的措置を勧告するには、すべての国の賛成が必要となる。
- エ. 常任理事国は拒否権を持ち、1国でも反対すれば決議は成立しないが、これまで拒否権が発動されたことはない。

問3 下線部②に関連して、国際司法裁判所について、次の語句の中から必要な語句を用いて、簡潔に説明せよ。

【語句：国家、個人、当事国】

問4 下線部③について、日本では1992年にPKO協力が成立し、自衛隊が派遣されるようになった。これまでにPKOとして日本の自衛隊が派遣された派遣先として正しいものを、次の中から1つ選び、記号で答えよ。

ア. イラク      イ. レバノン      ウ. カンボジア      エ. ソマリア

【B】次の文章を読み、以下の各問いに答えよ。

アメリカの経済力とドルの圧倒的優位が、ドルを基軸通貨とする国際通貨体制を生み出した。アメリカはIMF-GATT体制の下で自由貿易を推進するとともに、IMFと同様にブレトン・ウッズ協定により設立された（ a ）により、戦後の経済復興を図った。

しかし、西側諸国への経済援助や軍事援助などを通じて、ドルが世界中に散布されると、アメリカの対外債務が金準備を上回るようになった。その結果、ドルへの信用不安が高まり、大量の金が国外に流出して（ b ）とよばれる事態が発生した。アメリカはドル防衛策を講じたが、1971年8月当時のアメリカ大統領は新経済政策を発表し、①金・ドル交換を停止した。同年12月（ c ）協定によって新レートでの固定為替相場制の再建が図られたが、（ b ）がその後も続いたため、主要国は変動相場制に移行した。

1981年アメリカ大統領に就任したレーガンは、アメリカの経済力と軍事力の強化を図ろうとしたが、軍事支出の激増と減税により財政赤字が拡大、また石油危機後のインフレ抑制のため通貨量を抑えてきたことで金利が上昇した結果、ドルの需要をよんでドル高となり、輸出が不振となった。こうして1980年代のアメリカは、②財政赤字と経常収支の赤字が同時に拡大し、アメリカ国内では保護主義が台頭し始めた。

問5 空欄（ a ）～（ c ）に適する語句を答えよ。なお、同じ記号には、同じ語句が入る。

問6 下線部①について、このことを何というか答えよ。

問7 下線部②について、このことを何というか答えよ。

高校 公民	受験 番号		氏名	
----------	----------	--	----	--

## 令和9年度長崎県公立学校教員採用選考試験解答用紙

1 5点(各1点)

問1	イ	問2	ウ
問3	三民	問4	女性(婦人)
問5	イ		

2 5点(各1点)

問1	乙巳の変	問2	エ
問3	安土	問4	太陽暦
問5	エ		

3 5点(各1点)

問1	エ	問2	イ
問3	ウ	問4	イ
問5	エ		

高校 公民	受験 番号		氏名	
----------	----------	--	----	--

令和9年度長崎県公立学校教員採用選考試験解答用紙

4

5点(各1点)

問1	イ	問2	秘密
問3	ア	問4	イ
問5	奉仕者		

高校 公民	受験 番号		氏名	
----------	----------	--	----	--

## 令和9年度長崎県公立学校教員採用選考試験解答用紙

5

25点(問1 問2 問3 問8 問9 問12 各2点、問6 4点、その他 各1点  
問11は完全正答のみ)

問1	欽定憲法		問2	イ
問3	a	天皇機関		
	b	最高		
	c	立法		
問4	イ		問5	ア
問6	<p>衆議院では小選挙区制と比例代表制を組み合わせた小選挙区比例代表並立制が採用され、</p> <hr/> <p>小選挙区と比例代表の両方に立候補する重複立候補が認められている。</p>			
問7	ウ			
問8	期日前			
問9	メディア・リテラシー			
問10	エ		問11	ア、イ、エ
問12	憲法の番人			

高校 公民	受験 番号		氏名	
----------	----------	--	----	--

## 令和9年度長崎県公立学校教員採用選考試験解答用紙

6 25点(問4 問5 問6 問7 問9 問11 問12 各2点、問8 3点、その他 各1点)

問1	ア			
問2	a	カルテル	b	トラスト
	c	コンツェルン		
問3	エ			
問4	④	独占禁止	⑤	公正取引委員会
問5	情報の非対称性			
問6	外部不経済			
問7	ウ			
問8	観光の一環として農業を体験すること。			
問9	トレーサビリティ(制度)			
問10	ウ	問11	65	
問12	ダイバーシティ			

高校 公民	受験 番号		氏名	
----------	----------	--	----	--

## 令和9年度長崎県公立学校教員採用選考試験解答用紙

7 15点(問1 問6 問8 各2点、問2 4点、その他 各1点)

問1	スコラ			
問2	ベーコンが唱えた帰納法とは、観察を通して得られる個別的な経験的事実を多く集め、			
	それらと比較し分類することで、共通する一般的法則を発見しようとするものである。			
	デカルトが唱えた演繹法は、得られた確実な原理を出発点して、さらに論理的思考を進めることによって、個々の結論を導く学問的方法である。			
問3	③	ロック	④	パークリー
問4	ウ			
問5	イ			
問6	潜在能力 (ケイパビリティ)			
問7	イ			
問8	エスノセントリズム (自民族中心主義)			

高校 公民	受験 番号		氏名	
----------	----------	--	----	--

## 令和9年度長崎県公立学校教員採用選考試験解答用紙

8 15点(問5 問7 各2点、問3 3点、その他 各1点)

問1	イ		問2	ア	
問3	<p>国家間の紛争を平和的に解決するための、国際法にもとづいた司法的解決の場であり、</p> <hr/> <p>国際裁判が成立するためには、当事国双方の合意が必要であるなどの限界がある。</p>				
問4	ウ				
問5	a	国際復興開発銀行 (IBRD、世界銀行でも可)		b	ドル危機
	c	スミソニアン			
問6	ニクソン・ショック (ドル・ショック)				
問7	双子の赤字				