

令和9年度長崎県公立学校
教員採用選考第1次試験問題

教科・科目

中学 社会

受験番号

氏名

実施日 令和8年5月10日（日）

令和9年度長崎県公立学校教員採用選考試験

<h2 style="margin: 0;">中学社会</h2>

※解答はすべて解答用紙の該当欄に記入すること。

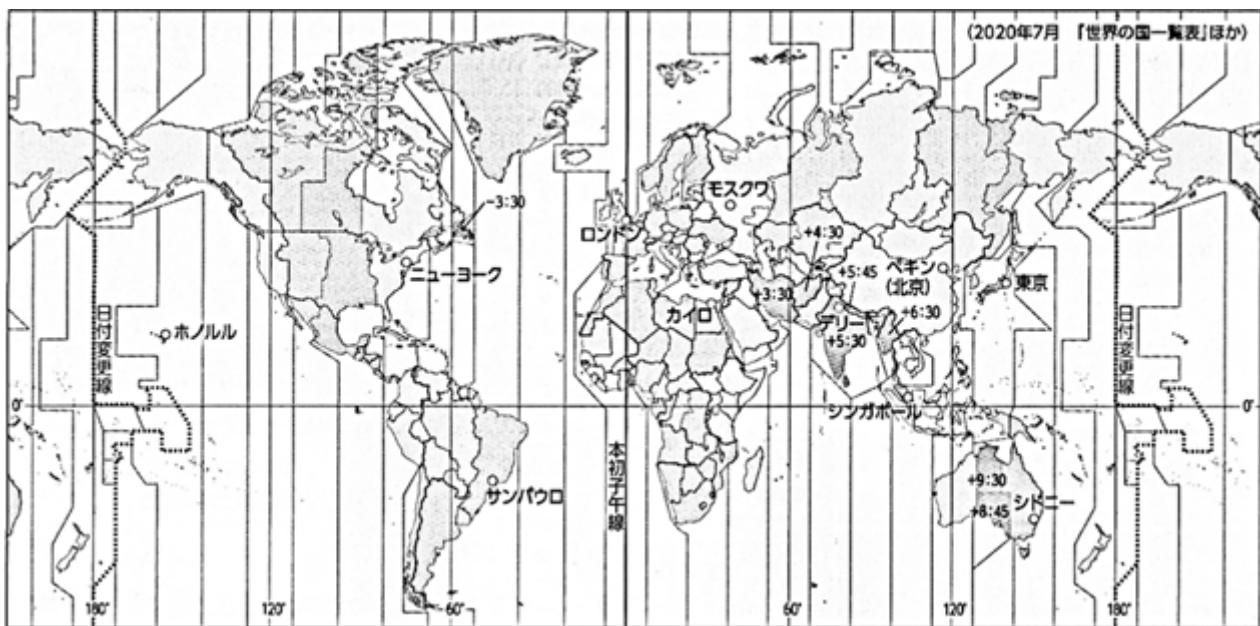
1	次の資料を見て、以下の各問いに答えよ。
---	---------------------

問1 **資料I**は、世界の等時帯と日本との時差を示している。

(1) 日本時間5月3日の20時に成田国際空港を離陸した飛行機が、9時間後アメリカ合衆国のサンフランシスコ国際空港(西経120度)に到着したとき、現地時刻は何月何日の何時か。次の中から1つ選び、記号で答えよ。なお、サマータイムは考慮しないものとする。

- | | |
|------------|-------------|
| ア. 5月3日の5時 | イ. 5月3日の12時 |
| ウ. 5月4日の5時 | エ. 5月4日の12時 |

資料I



(『中学社会 地理 地域にまなぶ』(教育出版)より)

(2) **資料I**を見ると、複数の標準時を定めている国があることが分かる。複数の標準時を定めている理由を、次の書き出しに続けて答えよ。

書き出し

標準時を1つに統一すると

問2 世界を構成する六つの州は、それぞれの州を細かく区分する場合もある。例えば、アジア州は、東アジア、東南アジア、南アジア、西アジア、中央アジアなどの地域に分けられる。このうち、東アジアに位置する中国の首都の対せき点となる国がある州を、次の中から1つ選び、記号で答えよ。

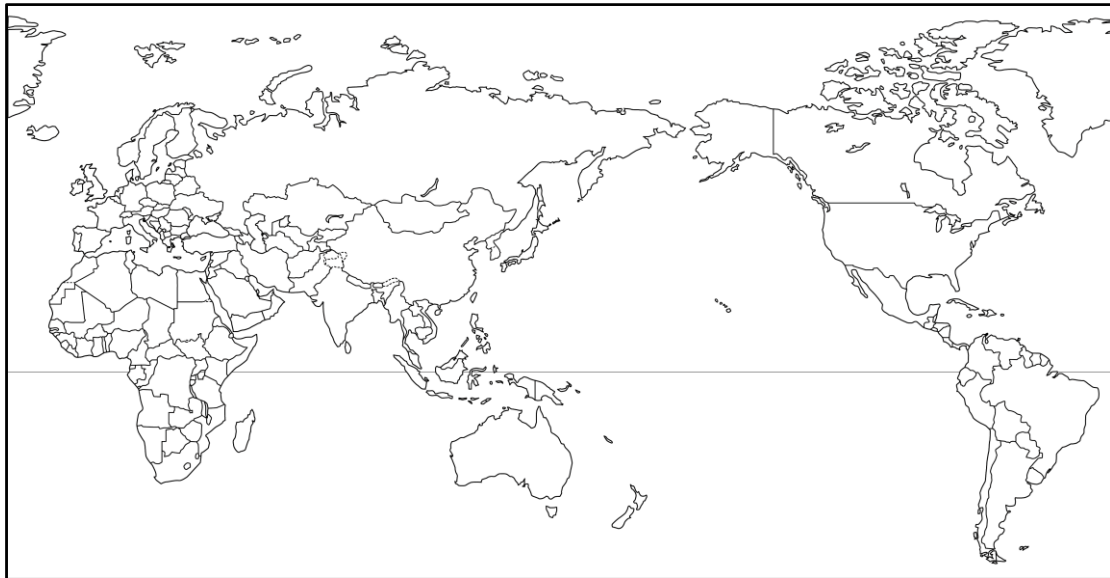
ア. ヨーロッパ州 イ. 北アメリカ州 ウ. 南アメリカ州 エ. オセアニア州

問3 地図について述べた先生と生徒の会話文の中の に適する文を答えよ。ただし、次の語句を必ず使うこと。

語句

緯線 経線

地図



先生と生徒の会話文

先生：アフリカ州にはどのような歴史があるか知っていますか。

生徒：アフリカ州の多くの国は、ヨーロッパ州の国々の植民地となっていた時代があったと学びました。

先生：アフリカ州のいくつかの国どうしの国境線を見ても、植民地となっていた時代のなごりがあり、 ことがわかりますね。

生徒：本当ですね。国境線には、その国の歴史があらわれていることがあるんですね。

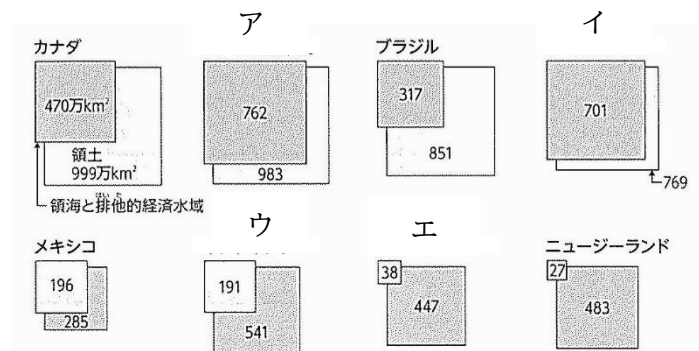
問4 **資料Ⅱ**は、国際連合のマークである。このマークのデザインの基となった図法に関する説明として正しいものを、次の中からすべて選び、記号で答えよ。

資料Ⅱ

(『中学社会 地理 地域にまなぶ』
(教育出版)より)

- ア. 図の中心からの正しい方位を知ることができる。
- イ. 図の中心からの正しい角度を知ることができる。
- ウ. 図の中心からの最短コース(距離)を知ることができる。
- エ. 赤道から離れるほど、陸地の形がゆがんで表される。

問5 **資料Ⅲ**は、主な国の領海・排他的経済水域と領土の面積を示したものである。日本に該当するものを、**資料Ⅲ**の中から1つ選び、記号で答えよ。

資料Ⅲ

(『新編 新しい社会 地理』(東京書籍)より作成)

問6 日本の都道府県に関する説明として誤っているものを、次の中から1つ選び、記号で答えよ。

- ア. 都道府県制度は、明治政府が藩を廃止し、「府」と「県」を置いたことで始まった。
- イ. 都道府県の境界は、河川や山脈、海峡などの地形によって定められていることが多い。
- ウ. 富士山の山頂付近のように、どこの都道府県の範囲か定まっていない所も存在している。
- エ. 県庁所在地の多くは、門前町として発展してきた都市である。

2

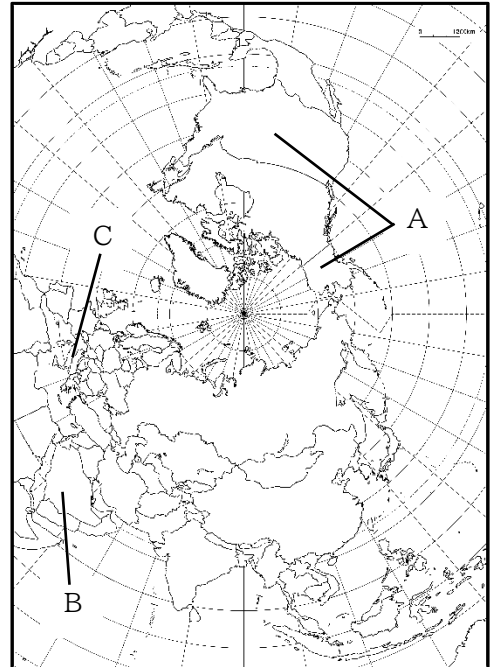
次の資料を見て、以下の各問いに答えよ。

問1 地図Ⅰを見て、以下の問いに答えよ。

- (1) Aに関する説明として正しいものを、次の中から1つ選び、記号で答えよ。

- ア. 穀物をあつかう穀物メジャーとよばれる巨大商社があり、その影響力は世界におよぶ。
 イ. 北緯 37 度以南のラストベルトは世界有数の先端技術産業が集まっている。
 ウ. ポルトガル語を話すヒスパニックの移民の労働力にたよっている。
 エ. サイクロンが発生することが多く、大きな被害を受けることがある。

地図Ⅰ

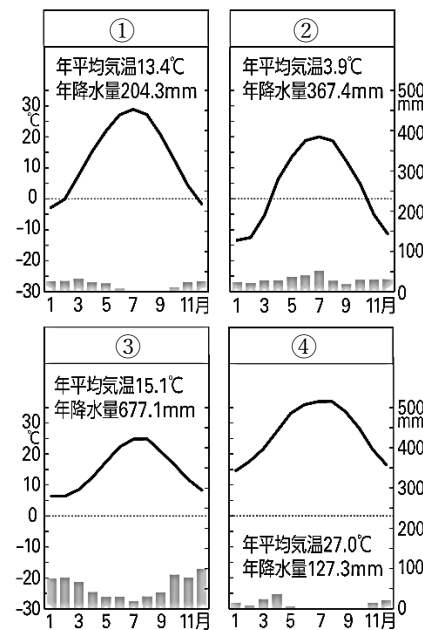


- (2) 資料Ⅰは、主な都市の雨温図である。地図Ⅰ中のBに位置する都市の雨温図とBの気候や生活などの特徴について述べた文 i ~ v の正誤の組合せとして正しいものを、下の中から1つ選び、記号で答えよ。

- i. Bに位置する都市の雨温図は④である。
 ii. Bでは樹木や草がよく育つ。
 iii. Bでは豚肉がよく食べられている。
 iv. Bでは主にイスラーム教が信仰されている。
 v. Bはダイヤモンドの鉱山資源が豊富である。

	i	ii	iii	iv	v
ア	正	誤	誤	正	正
イ	正	誤	誤	正	誤
ウ	誤	正	誤	正	誤
エ	誤	正	正	誤	正

資料Ⅰ



(『山川&二宮ライブラリー』より作成)

(3) 次の文章は、**地図Ⅰ**中のCの気候と農業について述べたものである。文章中の□に適する語句を答えよ。また、この気候の特徴を答えよ。


Cでは、□気候に適したぶどう、オリーブ、トマトなどが栽培される。

問2 写真と**地図Ⅱ**を見て、以下の各問いに答えよ。

写真

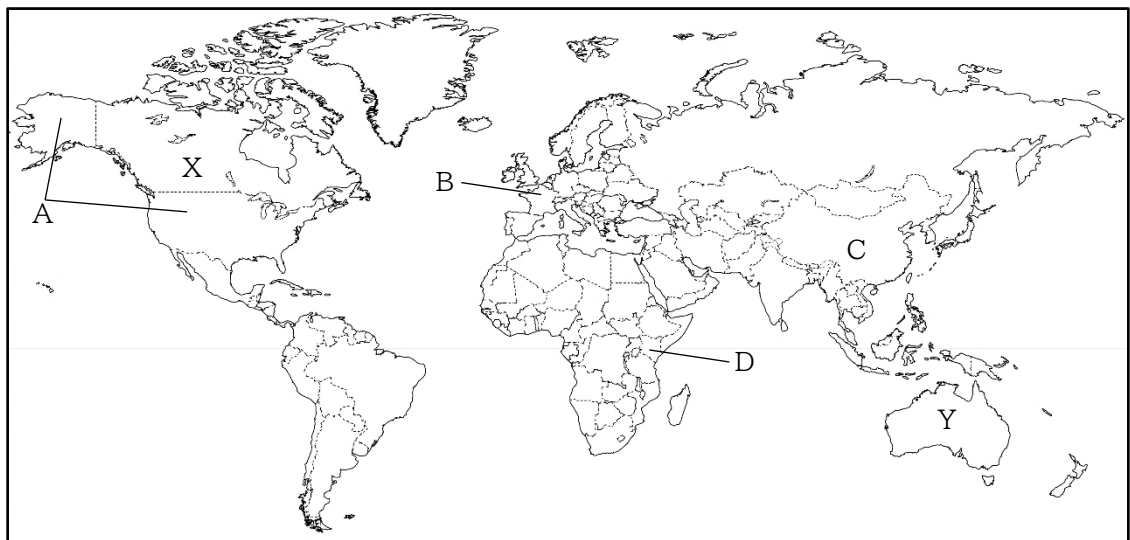


(『中学社会 地理 地域にまなぶ』(教育出版)より) (『中学社会 地理 地域にまなぶ』(教育出版)より)



(『新編 新しい社会 地理』(東京書籍)より) (『新編 新しい社会 地理』(東京書籍)より)

地図Ⅱ



(1) 写真と地図Ⅱに関する説明として正しいものを、次の中からすべて選び、記号で答えよ。

- ア. 写真①は、自動車の販売台数、電気自動車の販売台数とも世界第1位となっている国で、自動車を製造している工場の様子であるが、その国は地図ⅡのAである。
- イ. 写真②は、複数国の企業が協力して設立した航空機製造会社の工場がある国で、各国で製造した部品を組み立てている工場の様子であるが、その国の1つは地図ⅡのBである。
- ウ. 写真③は、酸性雨が原因と考えられる樹木の立ちがれがみられるジュバルツバルトを有する国で、再生可能エネルギーを利用した発電を行っている様子であるが、その国は地図ⅡのCである。
- エ. 写真④は、気候や地形を生かしてバラを栽培し、主要な輸出品となっている国で、バラを出荷している様子であるが、その国は地図ⅡのDである。

(2) 次の文章は、地図ⅡのXとYの国の共通点について述べたものである。文章中の空欄□に適する語句を答えよ。

□主義とは、異なる言語や文化をもつ人々が暮らしていくうえで、さまざまな文化が共存できる社会の実現を旨とする考え方である。XとYでは、この考え方を国の方針として政策をとっている。

3 次の資料を見て、以下の各問いに答えよ。

問1 次の文章は、資料の地図記号が表すものについて述べたものである。この地図記号の名称を答えよ。

我が国では被害にあうことを防ぐ防災と、災害を予測して被害をできるだけ小さくおさえる減災に向けて、さまざまな取組が行われてきた。例えば、昔の人たちは、災害の教訓を石碑などに残して過去の自然災害の情報を伝承し、被害を小さくしようとした。

資料

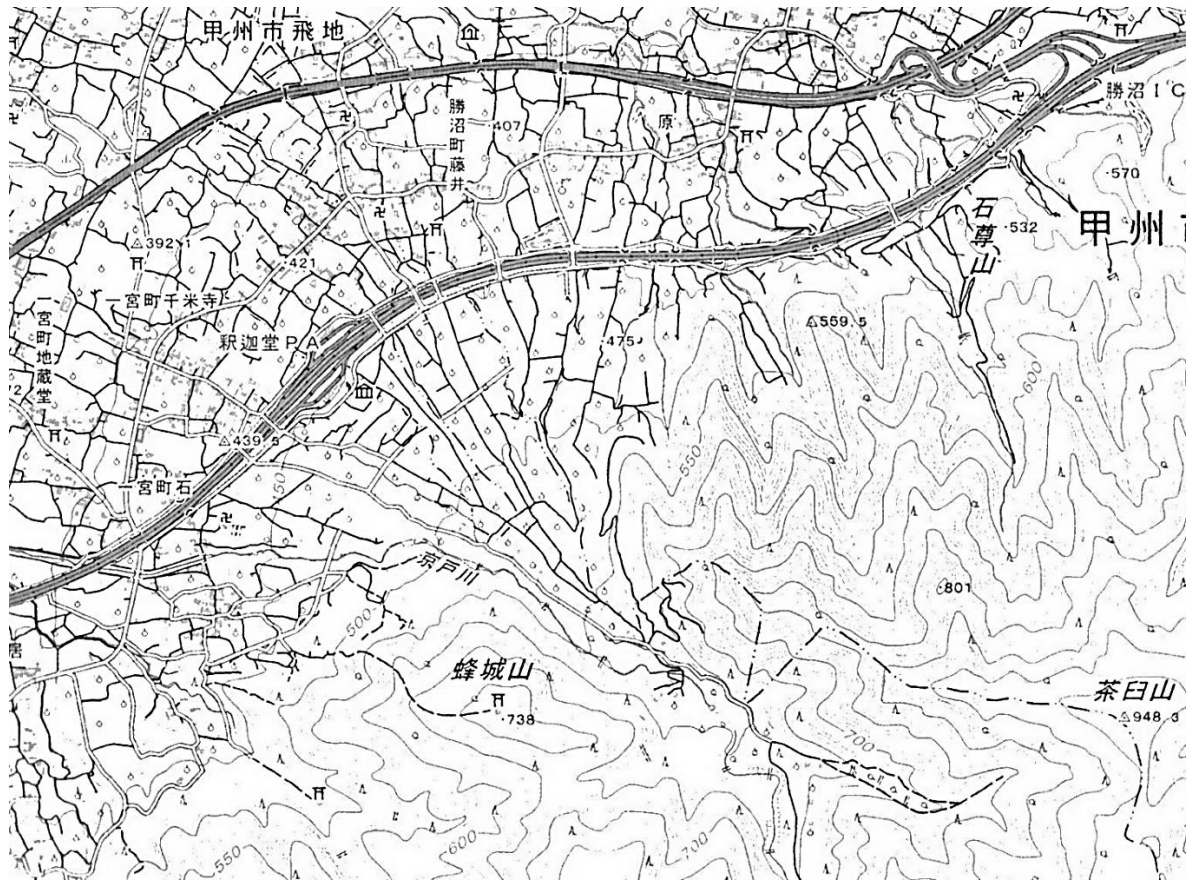


問2 ハザードマップについて述べたものとして誤っているものを、次の中から1つ選び、記号で答えよ。

- ア. 国土交通省の外局である気象庁では、自然災害による被害が予測される地域が分かるハザードマップを作って公開している。
- イ. ハザードマップを読み取って、もし災害が発生した場合、どのように避難して自分や家族の安全を守るか、日ごろから意識しておく。
- ウ. ハザードマップは、洪水や土砂災害、津波などといった災害ごとに作られており、身近な場所の危険を読み取ることができる。
- エ. 国土交通省の「重ねるハザードマップ」は、災害ごとに危険の度合いが高い地域を色で表示することができる。

問3 地図Ⅰについて述べた下の文章中の①～③に当てはまる語句を答えよ。

地図Ⅰ

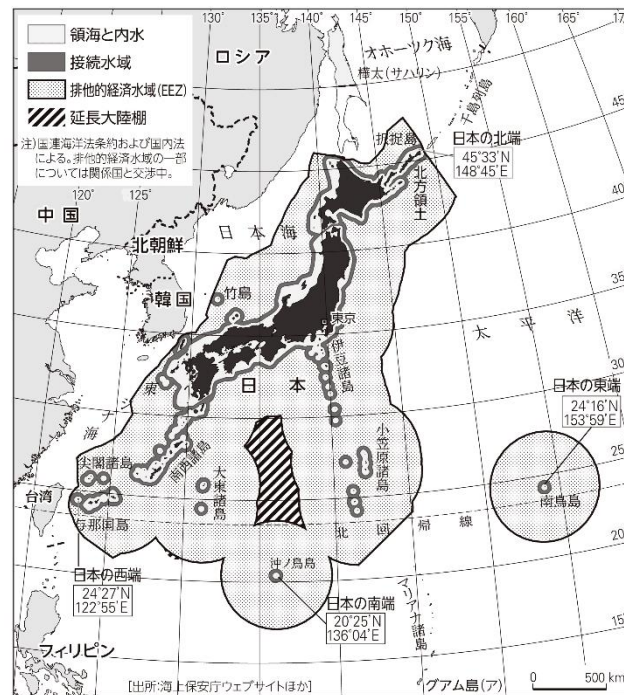


(『地理院地図』より作成)

地図Ⅰに見られる地形を(①)という。この地形では、地下に水がしみこみやすいため、かつては桑畑に、現在は(②)などに利用されている。また、土地改良を行って用水路を整備し、(③)として利用される地域もある。

問4 地図Ⅱは、日本の領域と排他的経済水域・大陸棚を示したものである。日本の領域に関する説明として正しいものを、下の中からすべて選び、記号で答えよ。

地図Ⅱ



(『地理探究』(山川出版社(旧二宮書店))より)

- ア. 日本の排他的経済水域やその上空では、アメリカの船舶は自由に航行できるが、飛行機は自由に飛行することができない。
- イ. 北海道東方の歯舞群島、色丹島、国後島、択捉島は北方領土とよばれ、日本固有の領土であるが、現在はロシアが不法に占拠している。
- ウ. 竹島は、島根県隠岐の島町に属し、日本固有の領土であるが、韓国が不法に占拠している。
- エ. 尖閣諸島は、沖縄県石垣市に属する日本固有の領土であり、日本が有効に支配をしているため、領土問題はないが、中国や台湾が領有権を主張している。

4

以下の各問いに答えよ。

問1 次の文章を読み、以下の各問いに答えよ。

(1) 古代までの日本

課題を追究したり解決したりする活動を通して、次の事項を身に付けることができるよう指導する。

ア 次のような知識を身に付けること。

(ア) 世界の古代文明や宗教のおこり

世界の古代文明や宗教のおこりを基に、世界の各地で文明が築かれたことを理解すること。

(イ) 日本列島における国家形成

日本列島における農耕の広まりと生活の変化や当時の人々の信仰、大和朝廷(大和政権)による統一の様子と(①)との関わりなどを基に、(①)の文明の影響を受けながら我が国で国家が形成されていったことを理解すること。

(ウ) 律令国家の形成

律令国家の確立に至るまでの過程、摂関政治などを基に、(①)の文物や制度を積極的に取り入れながら国家の仕組みが整えられ、その後、天皇や貴族による政治が展開したことを理解すること。

(エ) 古代の文化と(①)との関わり

仏教の伝来とその影響、仮名文字の成立などを基に、(②)な要素をもった文化が栄え、それらを基礎としながら文化の国風化が進んだことを理解すること。

イ 次のような思考力、判断力、表現力等を身に付けること。

(ア) 古代文明や宗教が起こった場所や環境、農耕の広まりや生産技術の発展、(①)との接触や交流と政治や文化の変化などに着目して、事象を相互に関連付けるなどして、アの(ア)から(エ)までについて古代の社会の変化の様子を(③)に考察し、表現すること。

(イ) 古代までの日本を大観して、時代の特色を(③)に考察し、表現すること。

(「中学校学習指導要領(平成29年告示)第2章 第2節 社会 第2 各分野の目標及び内容〔歴史的分野〕 2 内容 B 近世までの日本とアジア」)

(1) 文章中の①～③に適する語句を答えよ。なお、文章中の同じ番号には同じ語句が入る。

(2) 文章中の下線部について、**写真**に関する説明として誤っているものを、次の中から1つ選び、記号で答えよ。

- ア. **写真①**の遺跡がある文明では、月の満ち欠けに基づく太陰暦や、1週間を7日とすることが考え出された。
- イ. **写真②**の遺跡がある文明では、整備された道路や水路を持つ都市があったが文字は使用されなかった。
- ウ. **写真③**の人物は、人は身分によらず平等であり、修行してきとりを開けば、この世の苦しみから救われると説いた。
- エ. **写真④**の教会がある宗教では、人はみな生まれながらに罪を負っているが、神を信じればその愛を受けて救われると説き、その教えは弟子たちによって聖書にまとめられた。

写真

①



(『新編 新しい社会 歴史』(東京書籍)より)

③



(『中学社会 歴史 未来をひらく』(教育出版)より)

②



(『新編 新しい社会 歴史』(東京書籍)より)

④



(『新編 新しい社会 歴史』(東京書籍)より)

問2 古代から中世について、先生と生徒が会話を行った。先生と生徒の会話文を読んで、以下の各問いに答えよ。

先生と生徒の会話文

先生：今日は、古代から中世にかけての日本の歴史を振り返ってみよう。まず、飛鳥時代の政治改革から。中大兄皇子は蘇我蝦夷・入鹿を倒したあと、それまで皇族や豪族が支配していた土地と人民を、国家が直接支配し、税の制度を整えることなどを目ざしましたね。この一連の改革を何というか覚えているかな。

生徒：えっと、大化の改新ですか。

先生：そう、その通りです。では、奈良時代です。人口が増えて、口分田が不足してきたこともあり、朝廷は新しい法律を出し人々に開墾を勧めたんだ。それは新たに開墾した土地であれば、開墾した者が永久に所有することを認めるという内容なんだけど、覚えているかな。

生徒：墾田永年私財法ですね。

先生：正解。これで私有地が増えていったんだ。それでは平安時代です。政治を立て直そうとした は、784年に都を長岡京に移し、794年には平安京に移しました。その一方で地方はどうなったかな。

生徒：国司や郡司が不正を行うなど、政治は乱れました。

先生：そうそう。次は鎌倉時代です。北条氏はある重要な地位に就いて代々その地位を独占したんだが、その地位の名前は覚えているかな。

生徒：執権ですね。

先生：その通り。幕府の政治は北条氏を中心とする有力な による話合いで決められていったんだ。

生徒：はい、よく理解できました。ありがとうございました。

- (1) 下線部について、この人物は、大野城や水城などを築いたが、その背景について述べた次の文章中の空欄 と に適する語句を答えよ。なお、文章中の同じ番号には同じ語句が入る。

朝鮮半島で、唐と により がほろぼされると、中大兄皇子は、 の復興を助けるために大軍を送ったが、663年、白村江の戦いで唐と の連合軍に敗れた。皇子は、唐や の攻撃に備え、山城や水城を築き、防人とよばれる兵士を九州の北部に配置した。

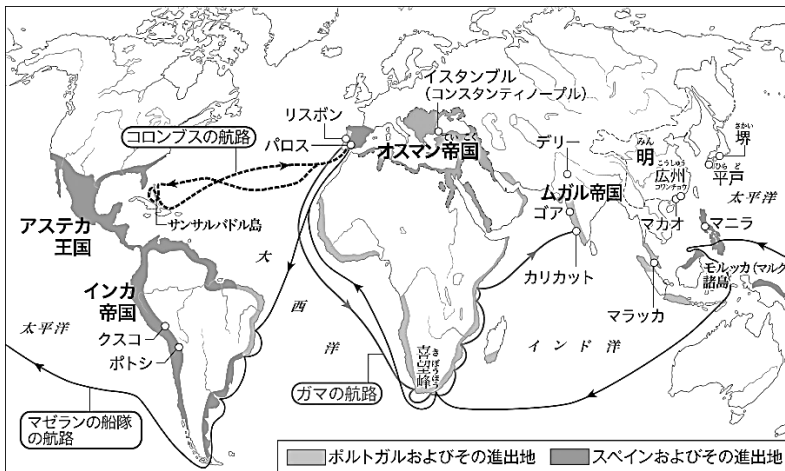
- (2) 文章中の空欄 と に適する語句を漢字で答えよ。

5 次の資料を見て、以下の各問いに答えよ。

問1 次の文章は、**地図**と**写真I**について述べたものである。文章を読み、以下の各問いに答えよ。

遠洋航海の技術を手に入れたヨーロッパ人が世界各地に進出したことで、大航海時代が始まった。その先がけとなったのは、カトリック国のa ポルトガルとスペインであった。両国の主な目的は、b キリスト教を広めることと、アジアの**写真I**の□などの香辛料を手に入れることであった。**地図**はその動きを示した16世紀ごろの世界である。

地図



(『山川&二宮ライブラリー』より)

写真I



(『中学社会 歴史 未来をひらく』
(教育出版)より)

(1) 文中の空欄□に適する語句を答えよ。

(2) 下線部aの両国に関する説明として正しいものを、次の中からすべて選び、記号で答えよ。

- ア. ポルトガルは、アメリカ大陸や東南アジアに植民地を広げ、一時は「日のしずむことのない帝国」と呼ばれた。
- イ. バスコ・ダ・ガマがインドに到達したときには、コロンブスはまだカリブ海の島には到達していなかった。
- ウ. スペイン人は、先住民の支配者を武力でたおした後、先住民を労働させて銀の鉱山を開発した。
- エ. ポルトガルと競っていたスペインは、大西洋を横断してアジアに向かおうとするコロンブスの計画を支援した。

(3) 下線部bに関する説明として誤っているものを、次の中から1つ選び、記号で答えよ。

- ア. 来日したイエズス会宣教師たちは、布教だけではなく慈善事業も行った。
- イ. キリシタン大名は、キリスト教信者の少年をローマ教皇のもとへ派遣した。
- ウ. 豊臣秀吉は、キリスト教宣教師の国外追放を命じ、南蛮貿易を禁止した。
- エ. 徳川家康は、初めは貿易の利益を重視してキリスト教の布教を黙認していた。

問2 資料Ⅰは、歴史の授業のグループワークで生徒たちが、「歴史の教科書に掲載されている女性」をテーマにして教科書から資料を選んだもので、各自が選択した資料について発表を行った。資料Ⅰと生徒の発表を読んで、説明が正しいものを、下の中から1つ選び、記号で答えよ。

資料Ⅰ



(『新編 新しい社会 歴史』(東京書籍)より)



(『中学社会 歴史 未来をひらく』(教育出版)より)



(『新編 新しい社会 歴史』(東京書籍)より)



(『中学社会 歴史 未来をひらく』(教育出版)より)

生徒の発表

ア	生徒A	資料Ⅰのiの時代には、土倉や酒屋、商人や手工業者などが、同業者ごとに株仲間という団体を作っていました。
イ	生徒B	資料Ⅰのiiの時代には、宣教師たちが活版印刷機を使って、布教用の本などをかな文字で印刷していました。
ウ	生徒C	資料Ⅰのiiiの時代、京都では、町衆・町人と呼ばれる住民たちの集団によって地域の安全が守られていました。
エ	生徒D	資料Ⅰのivの時代には、当時の政府が欧米の文化や習慣を取り入れる欧化政策によって、条約改正の交渉に成功しました。

問3 次の文章は、資料Ⅱについて述べたものである。文章を読み、以下の各問いに答えよ。

資料Ⅱ



(『中学社会 歴史 未来をひらく』
(教育出版)より)

資料Ⅱは、1902年に、日本が「ある国」と同盟を結んだことを記念して発行された絵はがきである。同盟を結んだ背景には、中国で起きた義和団事件の際、日本やロシアを中心とする8か国が、共同で軍隊を送って、これをしずめた出来事がある。ロシアはその後も兵をとどめて満州を占領し、軍事施設を強化した。朝鮮半島を勢力下におこうとしていた日本政府は、ロシアが東アジアで勢力を拡大することを警戒していた「ある国」と、ロシアに対抗するために同盟を結んだ。

(1) 文章中の「ある国」について述べた文X・Yの正誤の組み合わせとして正しいものを、下のの中から1つ選び、記号で答えよ。

X. 国王と議会の内戦の結果、国王は処刑されて、マグナ・カルタが定められた。

Y. 18世紀後半の産業革命により、人の働く場所が工場から家が変わった。

	X	Y
ア	正	正
イ	正	誤
ウ	誤	正
エ	誤	誤

(2) 下線部に関する説明として正しいものを、次の中からすべて選び、記号で答えよ。

ア. 16世紀末に日本の侵略を受けたが、亀甲船を用いる明の水軍などの活躍で阻止した。

イ. 17世紀初めに日本と国交を回復し、慶賀使を派遣するようになった。

ウ. 19世紀末に民間信仰を基にした宗教を信仰する農民軍が半島南部で武装蜂起した。

エ. 19世紀末に清から独立を認められたが、20世紀に入り日本により併合された。

問4 写真Ⅱは、第一次世界大戦後における、大正時代の都市の様子などを示したものである。写真Ⅱを見て、この時代の社会の変化について、次の語句を用いて答えよ。ただし、「都市では、」の書き出しに続けて答えるものとする。

語句

一般大衆 社会進出

写真Ⅱ

i



「ラジオが置かれた部屋」

(『新編 新しい社会 歴史』(東京書籍)より)

ii



「バスガール」

(『新編 新しい社会 歴史』(東京書籍)より)

iii



「映画のポスター」

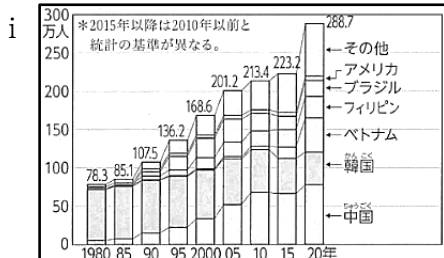
(『新編 新しい社会 歴史』(東京書籍)より)

6

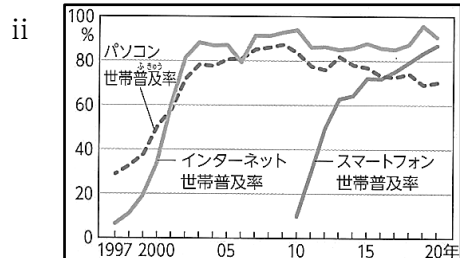
次の資料を見て、以下の各問いに答えよ。

問1 生徒が日本に関するデータを集めて資料を作成し、データを分析した結果をカードにまとめた。資料とカードの正誤の組み合わせとして正しいものを、下の中から1つ選び、記号で答えよ。

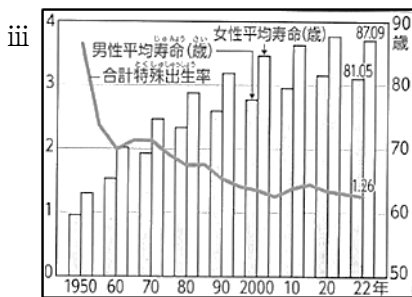
資料



i 日本で暮らす外国人の数の推移
(『新編 新しい社会 公民』(東京書籍)より)



ii 日本の情報機器の普及率の推移
(『新編 新しい社会 公民』(東京書籍)より)



iii 日本の合計特殊出生率と平均寿命の推移
(『新編 新しい社会 公民』(東京書籍)より)

	2025年	2011年
文化遺産	21件	12件
自然遺産	5件	4件
無形文化遺産	22件	15件

iv 日本の世界遺産・無形文化遺産登録数
(『中学社会 歴史 未来をひらく』(教育出版)その他より)

カード

A	iのデータについて、グローバル化の影響で、日本にやって来る外国人や日本で働く外国人が多くなり、そうした人たちと交流する際には、言葉や文化、宗教、生活習慣の違いなど互いを理解、尊重したうえで協力しあう共生の意識や姿勢が大切になる。
B	iiのデータで、情報機器普及率が上がっているのはインターネットの普及が要因だと考える。現代は、コンピューターやインターネットなどのIoT(情報通信技術)が発達している。
C	iiiのデータでは、日本の少子高齢化が進んでいることが分かる。結婚年齢の低下などにより合計特殊出生率が減少し、少子化が進んでいる。また、男性・女性の平均寿命が伸びたことによって、高齢化が進んでいる。
D	ivのデータについて、日本は、近年、世界文化遺産や自然遺産の登録数が増えている。国や自治体では、文化財保護法に基づき、有形、無形の大切な文化を重要文化財に指定し、その保護に努めている。

	A	B	C	D
ア	正	正	正	正
イ	正	正	正	誤
ウ	正	誤	誤	正
エ	誤	正	誤	正
オ	誤	誤	誤	正
カ	誤	誤	誤	誤

問2 世界及び日本における人権に関する法令・条約・宣言などについて述べた文X～Zの正誤の組み合わせとして正しいものを、下の中から1つ選び、記号で答えよ。

- X. アイヌ文化振興法により、初めてアイヌ民族が先住民族と法的に位置づけされた。
 Y. 世界人権宣言は、条約としての効力があり、各国の人権保障の模範となっている。
 Z. 男女共同参画社会基本法で、雇用面での女性への差別が禁止された。

	X	Y	Z
ア	正	正	正
イ	正	正	誤
ウ	正	誤	誤
エ	誤	誤	誤
オ	誤	正	正
カ	誤	誤	正

問3 写真Iは男女共学の様子を示しているが、男女共学だけではなく、教育の機会均等、義務教育などを定めた民主主義の基本を示した法律の名称を答えよ。

写真I



(新編 新しい社会 歴史 (東京書籍) より)

問4 歴史の授業で先生が1960年代から1970年代の国際関係の変化に関する出来事を年代の古い順から配列した**年表**を生徒たちに配付した。グループワークで、**年表**のa～cに入る出来事を生徒が各々発言した。次の生徒の発言について述べた正誤の組み合わせとして正しいものを、下の中から1つ選び、記号で答えよ。

年表

1960年：岸信介内閣により新しい日米安全保障条約が結ばれた。	⇕ a
1962年：キューバをめぐる、米ソ間の緊張が極度に高まった。	
1972年：アメリカとの沖縄返還協定により、沖縄の本土復帰が実現した。	⇕ b
1978年：日中平和友好条約が結ばれ、その後の中国との関係が深まっていった。	

発言（生徒A）

aの期間には、「田中角栄首相が中国を訪問し、日中共同声明に調印して国交を正常化させた。」が入ります。

発言（生徒B）

bの期間には、「日本政府は韓国と日韓基本条約を結び、韓国政府を朝鮮半島にある唯一の合法的な政府と認めた。」が入ります。

発言（生徒C）

cの期間には、「鳩山一郎内閣によって日ソ共同宣言が調印され、ソ連との国交が回復した。」が入ります。

	生徒A	生徒B	生徒C
ア	正	正	正
イ	正	正	誤
ウ	正	誤	誤
エ	誤	誤	正
オ	誤	正	誤
カ	誤	誤	誤

問5 写真Ⅱ～Ⅶについて述べた写真の説明のうち誤っているものをすべて選び、記号で答えよ。

写真Ⅱ



(『新編 新しい社会 公民』(東京書籍)より)

写真Ⅲ



(『中学社会 歴史 未来をひらく』(教育出版)より)

写真Ⅳ




(『新編 新しい社会 公民』(東京書籍)より)

写真Ⅴ



(『中学社会 歴史 未来をひらく』(教育出版)より)

写真Ⅵ



(『中学社会 歴史 未来をひらく』(教育出版)より)

写真Ⅶ



(『中学社会 歴史 未来をひらく』(教育出版)より)

写真の説明

ア	写真Ⅱは、1950年に公開された黒澤明が監督した映画「羅生門」のポスターである。黒澤明監督は世界的にも高い評価を受けた。
イ	写真Ⅲは、日本車を壊して抗議しているアメリカ人を映しており、日本の輸入超過によって生じたアメリカとの貿易摩擦は、1980年代になると激しくなっていた。
ウ	写真Ⅳは、1989年、冷戦の象徴であったベルリンの壁の崩壊を喜ぶ市民を映しており、同じ年に米ソの首脳が地中海のマルタ島で会談し、冷戦の終結を宣言した。
エ	写真Ⅴは、1989年の元号「平成」の発表を映している。平成に入った1993年には細川護熙を首相とする自民党を含む連立内閣が成立し、55年体制が終わった。
オ	写真Ⅵは、2001年にアメリカで起きた同時多発テロを映しているが、アメリカはこれを理由にイラクを攻撃した。
カ	写真Ⅶは、2008年にイギリスの証券会社の破綻を報じた新聞を映しており、このことをきっかけに世界金融危機が起こり、日本の経済にも大きな衝撃を与えた。

7

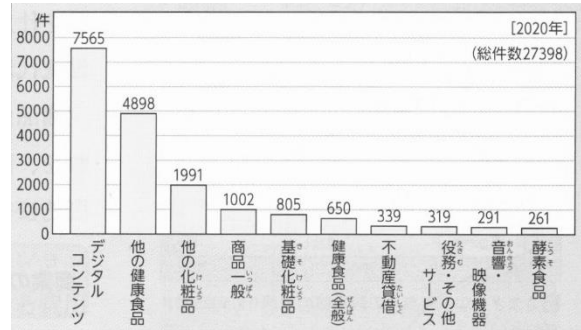
次の資料を見て、以下の各問いに答えよ。

問1 資料Ⅰは、消費者相談において、20歳未満の相談が多い商品を示している。資料Ⅰを見て、以下の各問いに答えよ。

(1) 1960年代のアメリカでは、消費者問題が深刻化したことで、消費者主権の確立を目指す消費者運動が活発になった。1962年にかかげられた「消費者の四つの権利」は、世界各国の消費者の権利のための政策に大きな影響を与えた。「消費者の四つの権利」として誤っているものを、次の中から1つ選び、記号で答えよ。

- ア. 安全性を知る権利
- イ. 安全を求める権利
- ウ. 選択する権利
- エ. 意見を反映させる権利

資料Ⅰ



(『新編 新しい社会 公民』(東京書籍)より)

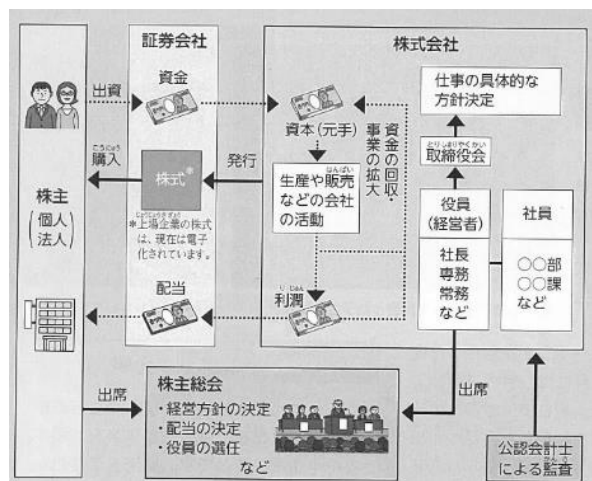
(2) 日本において、消費者が受けた被害を、国や地方公共団体が救済するという考え方だけでは、消費者の権利を十分に守れないとして、消費者の権利を明確に規定するため、2004年に法改正されて成立した法律名を答えよ。

問2 資料Ⅱは、株式会社の仕組みを示している。資料Ⅱを見て、以下の各問いに答えよ。

(1) 株式会社について述べた文X・Yの正誤の組合せとして正しいものを、下の中から1つ選び、記号で答えよ。

- X. 企業の株式を持っている人を株主といい、その企業の所有者と考えることができる。
- Y. 株主には、株主総会に出席して議決に参加する権利や、利潤の一部を配当として受け取る権利が保障されている。

資料Ⅱ



(『新編 新しい社会 公民』(東京書籍)より)

	X	Y
ア	正	正
イ	正	誤
ウ	誤	正
エ	誤	誤

(2) 資料Ⅲについて述べた文章の空欄 に適する語句を答えよ。

資料Ⅲ

損益計算書

〇〇会社 20〇〇年1月1日から20〇〇年12月31日まで(単位:万円)

費用	金額	収益	金額
売上原価	1500	売上高	3600
給料	1000	受取手数料	400
旅費交通費	500		
通信費	300		
支払利息	200		
当期純利益	500		
合計	4000	合計	4000

株式会社への出資者にとって、会社の営業成績などを正しく評価するために欠かせないのが、会社の会計情報である。株式会社の場合は、会社の資本金や負債の額を示す貸借対照表や、1年間の営業結果を示す資料Ⅲの損益計算書などの を公開している。

(『中学社会 公民 ともに生きる』(教育出版)より)

(3) 投資は、投資先の会社の金銭的な情報だけで決められるとは限らず、投資先の会社が、企業の社会的責任(CSR)を果たしているかどうかも重要なポイントとなる。この「企業の社会的責任(CSR)」とは何か答えよ。ただし、次の語句を必ず使うこと。

語句

利潤 社会

問3 写真について述べた説明の下線部①～⑥のうち、誤っているものを1つ選び、丸数字で答えよ。

写真



(『新編 新しい社会 公民』(東京書籍)より)

写真の説明

写真は、企業の合同説明会の風景である。企業は、就職活動をする人にこうした説明会を行うことで、労働力を確保しようとする。①労働力も「労働市場」で取引されているといえる。

②市場（しじょう）とは商品が売買される場をいう。③市場（いちば）やデパート、商店なども商品が売買される場であるが、④市場（しじょう）という場合は、商店などではなく、ある商品が売買される場の全体を考えることである。例えば、石油については、原油市場（しじょう）で売買されていると、大きくとらえる。⑤インターネットオークションは、インターネット上に商品を出品し、最も高い値段をつけた人がその値段で購入する。これは市場（しじょう）とはいえない。

なお、⑥現代の経済では、市場が生活のすみずみまで行きわたっており、市場経済ともよばれる。

8

次の表および資料を見て、以下の各問いに答えよ。

表

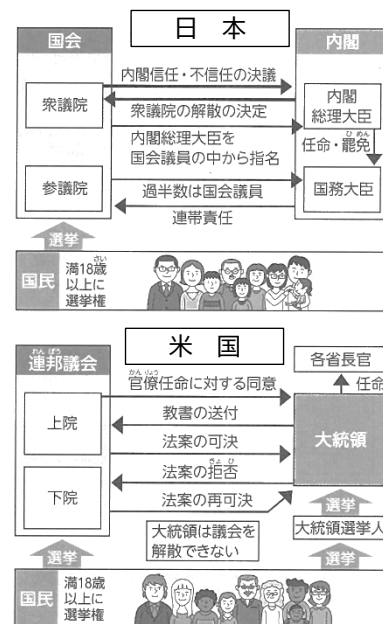
分野	テーマ
三権分立	a <u>立法・行政</u> ・b <u>司法</u> の三権のそれぞれの役割は何だろうか。
選挙制度	c <u>投票</u> の意義とは何だろうか。
政党政治	d <u>政党政治</u> にはどのような歴史や内容があるのだろうか。
地方自治	e <u>地方自治</u> の仕組みはどうなっているのだろうか。

問1 公民的分野のまとめとして、公民の授業のグループワークで、生徒たちが、自分の興味のある分野からテーマを選び、表にまとめた。表中の下線部 a について、資料 I は、日本とアメリカ合衆国の立法と行政の関係を示している。生徒たちが、資料 I を見て、話し合った意見 X～Z の正誤の組み合わせとして正しいものを、下の中から1つ選び、記号で答えよ。

- X. 日本もアメリカ合衆国も、行政の首長を国民が選挙で選ぶ。
 Y. 日本もアメリカ合衆国も、議会の議員を選挙で選ぶ。
 Z. 日本もアメリカ合衆国も、議院内閣制を採っている。

	X	Y	Z
ア	正	正	正
イ	正	誤	正
ウ	誤	正	誤
エ	誤	誤	誤

資料 I




(『新編 新しい社会 公民』(東京書籍)より)

問2 表中の下線部 b について、日本の司法制度改革に関する説明として正しいものを、次の中からすべて選び、記号で答えよ。

- ア. 司法制度改革により、だれもが司法に関するサービスを受けられるように、日本司法支援センター（法テラス）が設けられた。
 イ. 裁判員制度では、国民が裁判員として裁判に参加し、裁判官とともに被告人をどのような刑罰にするかのみを決める。
 ウ. 裁判員制度の対象になるのは刑事裁判で、裁判員が参加するのは地方裁判所で行われる第一審だけである。
 エ. 刑事裁判が被害者の気持ちに配慮して行われるよう、一部の事件では、被害者が裁判の傍聴のみできる被害者参加制度などが設けられた。

問3 表中の下線部cについて、次の写真は、投票用紙である。生徒たちが写真を見て、話し合った意見の①と②に適する語句を答えよ。なお、「名簿記載」は書かないものとする。また、同じ番号には同じ語句が入る。

写真



意見

衆議院議員の選挙制度は、小選挙区比例代表並立制で、比例代表制は（①）を書いて投票する。参議院議員の選挙制度は、比例代表選挙と選挙区選挙とに分かれ、比例代表制は（①）以外に（②）を記入して投票することもできる。

（『社会科 中学生の公民 よりよい社会を目指して』（帝国書院）より）

問4 表中の下線部dについて、資料Ⅱは1990年代以降の選挙ごとの与党の移り変わりを示している。総選挙のとき多くの政党は、政治で実現したい理念や政権を担当したときに実施する予定の政策などを記した政権公約を発表する。政権公約は、国民にとってどのような利点があるか答えよ。ただし、次の語句を必ず使うこと。

語句

比べる 投票

資料Ⅱ

1991.11～	自
93. 8～	社 さ 新 公 白 民 社
94. 4～	社 新 公 白 民
94. 6～	自 社 さ
96.11～	自 社 さ
98. 7～	自
99. 1～	自 自
99.10～	自 自 公
2000. 4～	自 公 保
03.11～	自 公
09. 9～	民 社 国
10. 5～	民 国
12.12～	自 公

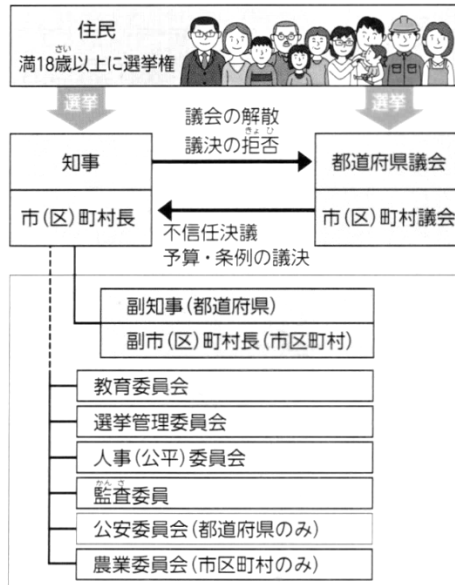
○ は閣外協力

自 自由民主党	民 民社党
社 日本社会党 (1996.1から 社会民主党)	社 社会民主連合
さ 新党さきがけ	自 自由党
新 新生党	保 保守党 (2002.12から 保守新党)
公 公明党	民 民主党
白 日本新党	国 国民新党

（『新編 新しい社会 公民』（東京書籍）より）

問5 表中の下線部eについて、資料Ⅲは地方自治の主な仕組みを示したものである。地方公共団体の首長である都道府県知事や市（区）町村長は、住民が直接選挙によって選ぶ。また、地方議会である都道府県議会や市（区）町村議会の議員も、住民が直接選挙で選ぶ。このように、住民が首長と地方議員という2種類の代表を選ぶ制度名を答えよ。

資料Ⅲ




(『新編 新しい社会 公民』(東京書籍)より)

9


次の資料・写真を見て、以下の各問いに答えよ。

写真Ⅰ



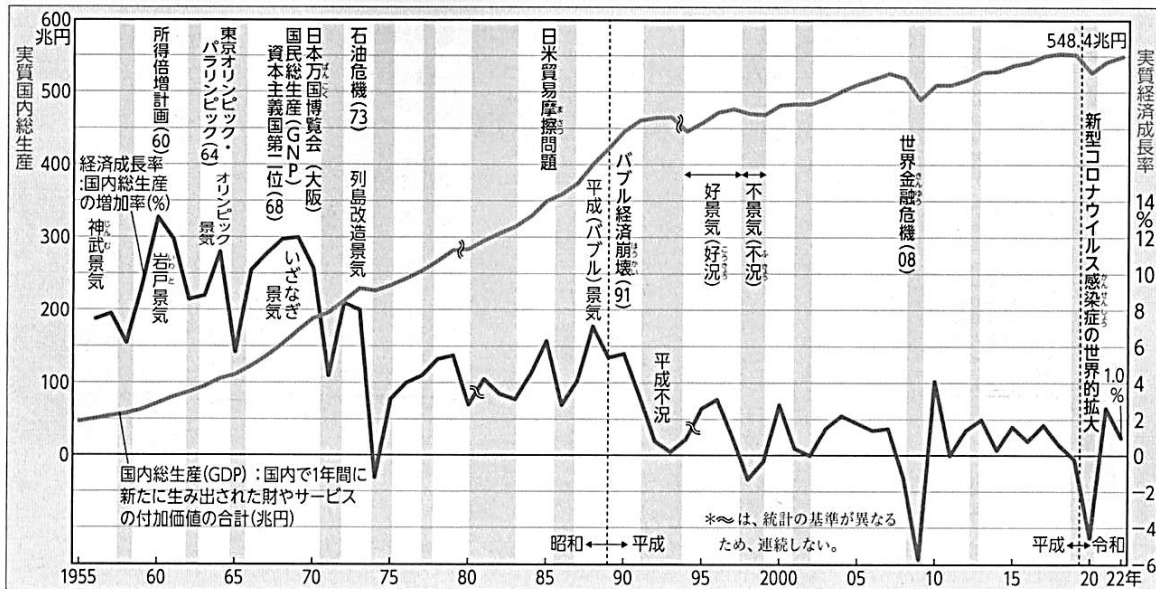
(『新編 新しい社会 公民』(東京書籍)より)

写真Ⅱ



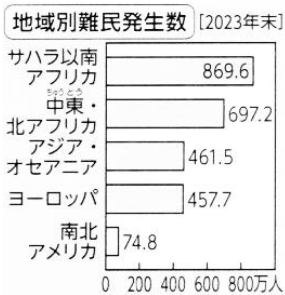
(『新編 新しい社会 公民』(東京書籍)より)

資料Ⅰ



(『新編 新しい社会 公民』(東京書籍)より)

資料Ⅱ



(『新編 新しい社会 公民』(東京書籍)より)

写真Ⅲ



(『新編 新しい社会 公民』(東京書籍)より)

写真Ⅳ



(『新編 新しい社会 歴史』(東京書籍)より)

問1 写真Ⅰは、国際連合本部の前に並ぶ加盟国の国旗である。国旗と国歌について述べた次の文章中の空欄〔 〕に適する語句を答えよ。なお、空欄〔 〕には同じ語句が入る。

〔 〕は、国を象徴する国旗や国歌などを定めている。国旗や国歌などにはその国の歴史や文化が反映されている。日本は、1999年に「国旗及び国家に関する法律」を制定し、日章旗を国旗、「君が代」を国歌と定めた。国どうしの関係ではお互いが〔 〕であることを尊重し、他の国の国旗や国歌などを大切にしなければならない。

問2 写真Ⅱは、国際連合のPKOに参加する自衛隊の様子である。PKOに関する生徒どうしの会話文の①～③に入る語句の組み合わせとして正しいものを、下の中から1つ選び、記号で答えよ。

生徒同士の会話文

生徒A：今日の公民の授業で平和主義を勉強したけど、PKOは、(①)とも言うんだね。
 生徒B：そうだね。国際連合が主体で行っているんだよね。日本では自衛隊がPKO協力法に基づいて、(②)などでPKOに参加したんだね。自衛隊は近年、日本の防衛だけでなく、さまざまな国際貢献の活動を行っているんだよね。
 生徒A：こうした活動は、武力の行使にならない範囲で行うことが求められています。
 生徒B：PKO以外にも、(③)に、国民の生命や財産を守ることも、自衛隊の重要な任務だね。

	①	②	③
ア	国際平和協力	ソマリア沖・アデン湾	自然災害などが起こったとき
イ	国際平和協力	ハイチ	自然災害などが起こる可能性があるとき
ウ	平和維持活動	ソマリア沖・アデン湾	自然災害などが起こる可能性があるとき
エ	平和維持活動	ハイチ	自然災害などが起こったとき

問3 **資料Ⅰ**は、日本の国内総生産と経済成長率の推移を示している。景気変動に関して述べた次の文章中の**下線部X**の説明A・Bと空欄**Y**に入る語句i・iiの組み合わせとして正しいものを、下の中から1つ選び、記号で答えよ。

第二次世界大戦後の日本の経済は、好景気と**X不景気**を繰り返しながら、経済成長を続けてきた。1955年からの高度経済成長では、国内総生産（GDP）が急速にのび、年平均で10%程度の成長が続いた。

1973年の石油危機で成長は止まったが、1980年代後半には、地価や株価が異常に高くなるバブル経済となった。1991年にバブル経済が崩壊すると、地価や株価は急激に下がり、**Y**とよばれる不景気となった。

下線部Xの説明

- A 不景気るとき、日本銀行は銀行に国債などを売る公開市場操作（オペレーション）を行う。
B 不景気るとき、日本銀行は銀行が自由に使えるお金を増やし、企業にお金を貸し出すようながして景気を回復させる量的緩和政策を行う。

空欄Yに入る語句

- i 平成不況
ii 昭和不況

ア. A-i イ. B-i ウ. A-ii エ. B-ii

問4 **資料Ⅱ**は、2023年度の地域別難民発生数を示している。難民を保護する活動を行うため、1950年に設立された国際連合の機関の名称を英語のアルファベットの略語で答えよ。

問5 **写真Ⅲ**は、新しいエネルギー資源として注目されているメタンハイドレードである。気候変動と資源・エネルギー問題に関する説明として、下線部①～⑨のうち、誤っているものをすべて選び、丸数字で答えよ。

①化石燃料、特に石炭と石油を用いる火力発電では温室効果ガス（GHG）が多く排出される。気候変動への対応のために、新しいエネルギー資源や省エネルギーの技術とともに、温室効果ガスを排出しない、②大規模で安定的な発電方法が必要となっている。

③原子力発電は温室効果ガスを排出しないという利点があるが、④1973年のチェルノブイリ原子力発電所や2011年の東日本大震災の際の福島第一原子力発電所のように、事故が起こると大量の放射性物質が放出される可能性がある。また、⑤放射性廃棄物の処分の問題もある。

⑥温室効果ガスを排出しない発電方法として注目されているのが、再生可能エネルギーである。⑦太陽光、風力、地熱、バイオマスなどを用いる方法である。しかし、⑧太陽光発電や地熱発電は発電量が自然条件に左右され、⑨地熱発電は周辺の自然や観光施設との共存が大きな課題である。

問6 写真Ⅳは、原子爆弾投下後の広島の様子である。写真Ⅳを基にして、公民の授業のグループワークで「軍縮」について話し合い考えたことをメモにまとめた。次の生徒の中の2人のメモの正誤について述べた文として正しいものを、下の中から1つ選び、記号で答えよ。

メモ（生徒A）

一度に多くの人々の命をうばったり、悲惨な被害をもたらしたりする大量破壊兵器の廃絶に向けて、1968年に核拡散防止条約、2017年に核兵器禁止条約が採択されたが、核兵器に関する全ての問題を解決する状況になっていない。

メモ（生徒B）

大量破壊兵器以外にも、戦争が終わった後も一般の人々に被害をあたえ続ける地雷の廃絶については、NGOなどの働きかけがあったが、2024年末段階で、対人地雷全面禁止条約はまだ採択されていない。

- ア. 生徒Aさんのメモのみが正しい。
- イ. 生徒Bさんのメモのみが正しい。
- ウ. 二人とも誤っている。
- エ. 二人とも正しい。

中学 社会	受験 番号		氏名	
----------	----------	--	----	--

令和9年度長崎県公立学校教員採用選考試験解答用紙

1	12点（問1（1）（2）・問2・問3・問4は各2点、他各1点）
---	---------------------------------

問1	(1)	イ
	(2)	標準時を1つに統一すると 地域によって時間と昼夜の感覚にずれが生じ、国民生活に混乱が起こるため。
問2	ウ	
問3	緯線や経線を利用して（直線的に）引かれている。	
問4	ア、ウ	
問5	エ	
問6	エ	

中学 社会	受験 番号		氏名	
----------	----------	--	----	--

令和9年度長崎県公立学校教員採用選考試験解答用紙

2 11点 (問1 (3) 気候は1点、他各2点)

問1	(1)	ア	(2)	イ
	(3)	地中海性 (気候)		
		特徴：夏は降水量が少なく乾燥するが、冬は降水量が多い。		
問2	(1)	イ、エ		
	(2)	多文化 (多文化共生)		

3 10点 (問2・問4は各1点、他各2点)

問1	自然災害伝承碑		
問2	ア		
問3	①	扇状地	
	②	果樹園	
	③	水田	
問4	イ、ウ、エ		

中学 社会	受験 番号		氏名	
----------	----------	--	----	--

令和9年度長崎県公立学校教員採用選考試験解答用紙

4 11点 (問1 (1)・問2 (1) は各1点、他各2点)

問1	(1)	①	東アジア
		②	国際的
		③	多面的・多角的
	(2)	イ	
問2	(1)	①	新羅
		②	百済
	(2)	X	桓武天皇
		Y	御家人 (評定衆)

中学 社会	受験 番号		氏名	
----------	----------	--	----	--

令和9年度長崎県公立学校教員採用選考試験解答用紙

5 13点(問1(1)は1点、他各2点)

問1	(1)	胡椒 (こしょう、コショウ)
	(2)	ウ、エ
	(3)	ウ
問2	ウ	
問3	(1)	エ
	(2)	ウ、エ
問4	都市では、一般大衆に向けた文化が発展した。(さらに、)女性の社会進出が進んだ。	

6 10点(各2点)

問1	ウ
問2	エ
問3	教育基本法
問4	オ
問5	イ、エ、オ、カ

中学 社会	受験 番号		氏名	
----------	----------	--	----	--

令和9年度長崎県公立学校教員採用選考試験解答用紙

7 12点(各2点)

問1	(1)	ア
	(2)	消費者基本法
問2	(1)	ア
	(2)	財務諸表
	(3)	利潤を求めるだけでなく、社会に貢献しようとする事。
問3		⑤

8 11点(問3は各1点、問4は3点、他各2点)

問1		ウ
問2		ア、ウ
問3	①	政党名
	②	候補者名(候補者氏名)
問4	それぞれの党の政権公約を比べることで、選挙でどの政党に投票し、どのような政策を実現させたいかを選びやすくなる。	
問5		二元代表制

中学 社会	受験 番号		氏名	
----------	----------	--	----	--

令和9年度長崎県公立学校教員採用選考試験解答用紙

9 10点(問1・問3は各1点、他各2点)

問1	主権国家
問2	エ
問3	イ
問4	UNHCR
問5	④、⑧
問6	ア