

令和 8 年度採用

岐阜県公立学校教員採用選考試験 第 1 次選考試験

教科専門

高等学校 地理歴史（地理）

受験番号	
------	--

試験時間

1 0 時 3 0 分 ~ 1 1 時 4 0 分（7 0 分）

【注意事項】

- 1 放送で指示があるまで、この問題冊子に手を触れないでください。
- 2 解答用紙（マークシート）は、マークシート記入要領に従って記入してください。
- 3 問題の印刷が不鮮明な場合には挙手をして、試験官が来るのを待ってください。
- 4 終了後、解答用紙（マークシート）のみ回収します。この問題冊子は各自持ち帰ってください。

1 次の設問（１）～（１２）に答えよ。

（１） 11月20日の午前6時に羽田空港を出発した飛行機が、飛行時間10時間でアメリカのシアトルに到着した。到着した時のシアトルの現地時間として最も適切なものを、次の①～⑤の中から一つ選べ。なお、日本は東経135度、アメリカのシアトルは西経120度を標準時子午線とする。解答番号は11。

- ① 11月19日午後1時
- ② 11月19日午後11時
- ③ 11月20日午前11時
- ④ 11月20日午後11時
- ⑤ 11月21日午前9時

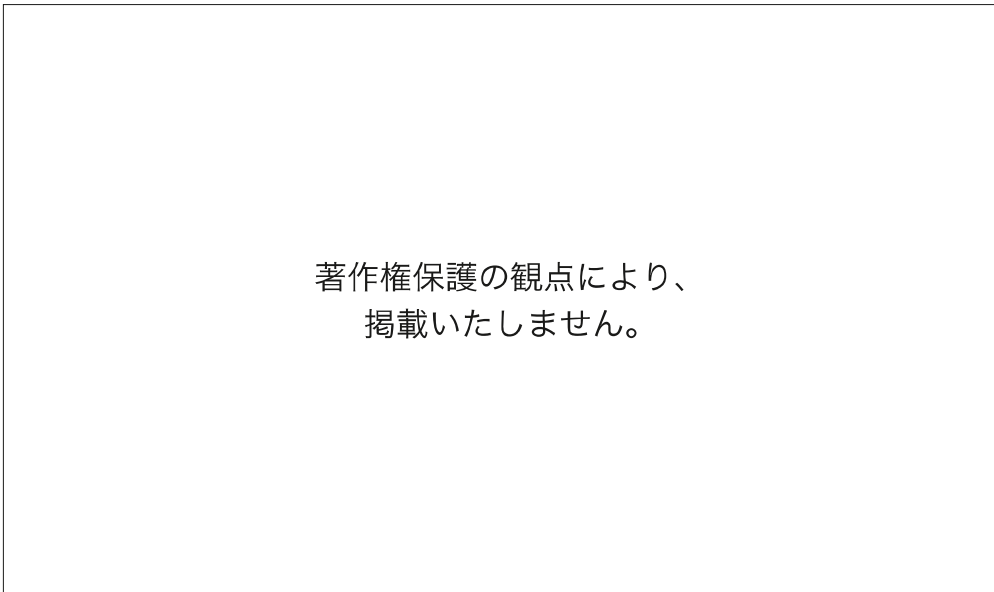
（２） 次のグラフは、日本、インド、コンゴ民主共和国、フランス、カナダの労働生産性と土地生産性を示したものである。日本に当たるものを、グラフ中の①～⑤の中から一つ選べ。解答番号は12。

著作権保護の観点により、
掲載いたしません。

（帝国書院「高等学校 新地理総合」より作成 一部改変）

- (3) 次の、時期の異なる鹿児島県の地形図を比較して分かることの説明として正しいものを、次の①～④の中から全て選べ。ただし、全て誤っている場合は⑤を選べ。なお、地形図の縮尺は原寸から縮小して示している。解答番号は13。

地形図A (1966年)



(2万5千分の1地形図「鹿児島北部」〔昭和41年〕より作成 一部改変)

地形図B（2024年）

著作権保護の観点により、
掲載いたしません。

（電子地形図 25000 より作成 一部改変）

- ① 地形図Aでは刑務所であった場所は，地形図Bでは体育館になっている。
- ② 地形図Bにみられる「南ふ頭旅客ターミナル」は，もともとあった海岸を掘り込んで建設されたことが分かる。
- ③ 地形図Aにみられた路面電車は，地形図Bでは全てみられなくなった。
- ④ 地形図Bの「城山（一）」「城山（二）」付近にある「**文**」と記された学校は，山を造成してつくられた住宅地に立地している。

- (4) 次の表のア～ウは、小樽、旭川、釧路のいずれかについて示したものである。ア～ウと都市名の組合せとして最も適切なものを、次の①～⑥の中から一つ選べ。解答番号は14。

	6月～8月の日照時間の合計（時間）	気温の年較差（℃）
ア	363.3	23.0
イ	490.9	28.2
ウ	501.4	24.8

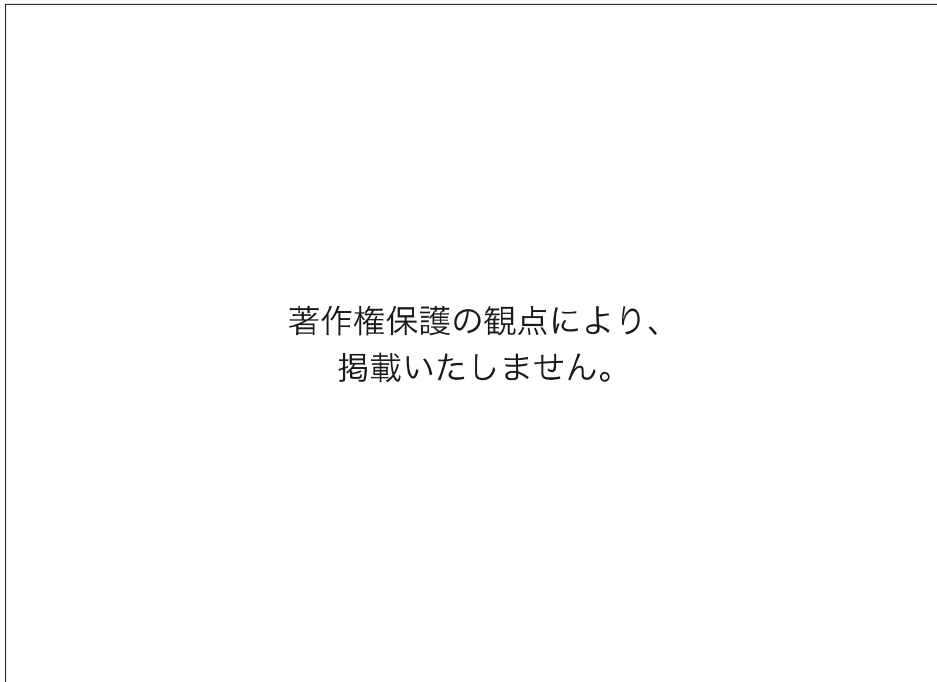
注：ア～ウの各値は平年値による。

（「気象庁資料」より作成）

著作権保護の観点により、
掲載いたしません。

	小樽	旭川	釧路
①	ア	イ	ウ
②	ア	ウ	イ
③	イ	ア	ウ
④	イ	ウ	ア
⑤	ウ	ア	イ
⑥	ウ	イ	ア

- (5) 次のア～ウのグラフは、日本における商品販売額、農業生産額、工業生産額のいずれかについて、各地方の全国に占める割合を示したものである。ア～ウが示しているものの組合せとして最も適切なものを、次の①～⑥の中から一つ選べ。解答番号は15。

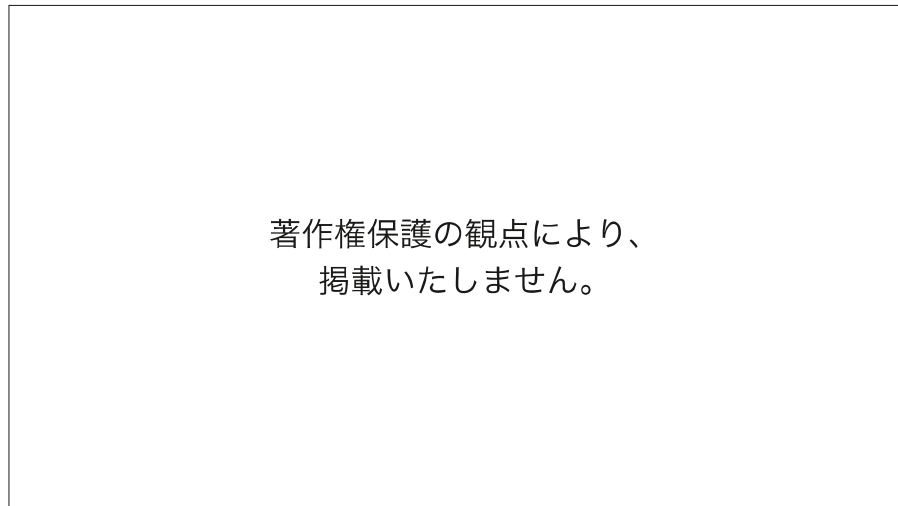


(「令和3年経済センサス」などより作成)

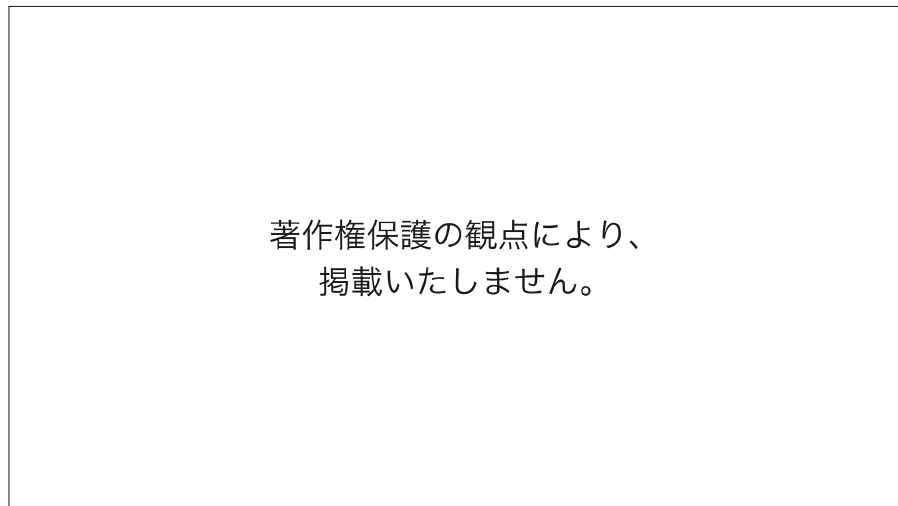
	商品販売額	農業生産額	工業生産額
①	ア	イ	ウ
②	ア	ウ	イ
③	イ	ア	ウ
④	イ	ウ	ア
⑤	ウ	ア	イ
⑥	ウ	イ	ア

- (6) 次の二つのグラフは、日本、中国、インド、アメリカの合計特殊出生率と高齢化率（65歳以上の人口割合）の推移を示したものである。アメリカに当たるものを、グラフ中の①～④、⑤～⑧の中からそれぞれ一つずつ選べ。ただし、グラフ中の線やマーカーの種類が同じ場合に同一の国を示しているとは限らない。解答番号は16。

合計特殊出生率



高齢化率



(「World Population Prospects」などより作成)

- (7) 写真の建築物が建てられた頃の社会の様子に関する記述として最も適切なものを、次の①～⑤の中から一つ選べ。解答番号は17。

著作権保護の観点により、
掲載いたしません。

- ① 宮廷や貴族の豊かな生活と仏教の発展に支えられ、光明皇后が造営した興福寺西金堂に、乾漆像の技法でつくられた興福寺阿修羅像が安置された。
- ② 仮名文字による文学作品が盛んにつくられ、「古事記」や「日本書紀」、紫式部の「源氏物語」や清少納言の随筆「枕草子」が生み出された。
- ③ 一心に「南無阿弥陀仏」と念仏を唱えれば、だれでも極楽浄土に生まれ変われると説く浄土宗が法然によって開かれ、貴族や庶民に伝わった。
- ④ 盗賊や乱闘が多くなり、災厄がしきりに起こった世情が、仏教の説く末法の世の姿によく当てはまると考えられ、貴族をはじめ庶民にも来世で救われたいという願望がいつそう高まった。
- ⑤ 天皇から民衆に至るまで、様々な階層の人々によって、約4500首を収録した歌集である「万葉集」がつけられた。

(8) 次の史料A, Bは御成敗式目の条文, 史料Cは北条泰時が弟の重時にあてた書簡である。下の空欄X, Yに当てはまる語句と, 史料Cから読み取れることについて正しいものの組合せとして最も適切なものを, 次の①～⑥の中から一つ選べ。解答番号は18。

史料A

著作権保護の観点により、
掲載いたしません。

史料B

著作権保護の観点により、
掲載いたしません。

史料C

著作権保護の観点により、
掲載いたしません。

- ア この式目は, 武家社会の道理を基礎にして作成したものである。
- イ この式目は, 武士が支配する庶民の便宜のために定められた。
- ウ この式目によって, 朝廷の法である律令は廃止された。

	X	Y	史料C
①	地頭	守護	ア
②	地頭	守護	イ
③	地頭	守護	ウ
④	守護	地頭	ア
⑤	守護	地頭	イ
⑥	守護	地頭	ウ

- (9) 次のグラフは、近世の日本で鑄造された貨幣の金貨成分比の推移を示したものである。また、下の文章はいずれかの貨幣改鑄に関して述べたものである。文章が示す経緯により改鑄された貨幣として最も適切なものを、次の①～⑤の中から一つ選べ。解答番号は19。

著作権保護の観点により、
掲載いたしません。

(「日本通貨変遷図鑑」より作成)

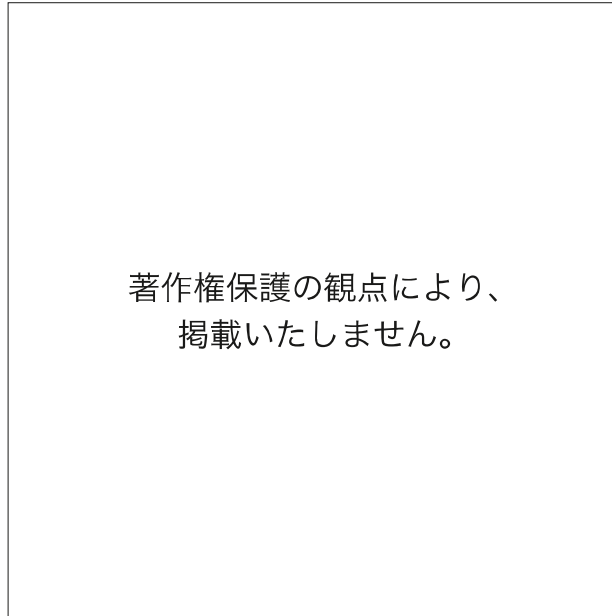
比較的豊かだった佐渡金山などの鉱山での金・銀産出量が減少し、幕府財政は収入減となった。そのうえ明暦の大火後の江戸城と市街の再建費用、引き続き寺社造営費用は大きな支出増となり、幕府財政の悪化をまねいた。

そこで、勘定吟味役は収入増の方策として貨幣の改鑄を上申し、将軍はこれを採用した。幕府は多大な収益を上げたが、貨幣価値の下落は物価の騰貴を引き起こし、人々の生活を圧迫した。

- ① 元禄小判
- ② 正徳小判
- ③ 文政小判
- ④ 安政小判
- ⑤ 万延小判

- (10) 次の地図は、20世紀初めのアフリカにおけるA～Cの国の植民地を示したものである。地図中のA～Cの国が19世紀後半から20世紀初めにかけて進めた政策に関する記述の組合せとして最も適切なものを、次の①～⑥の中から一つ選べ。解答番号は20。

20世紀初めのアフリカにおけるA～Cの国の植民地

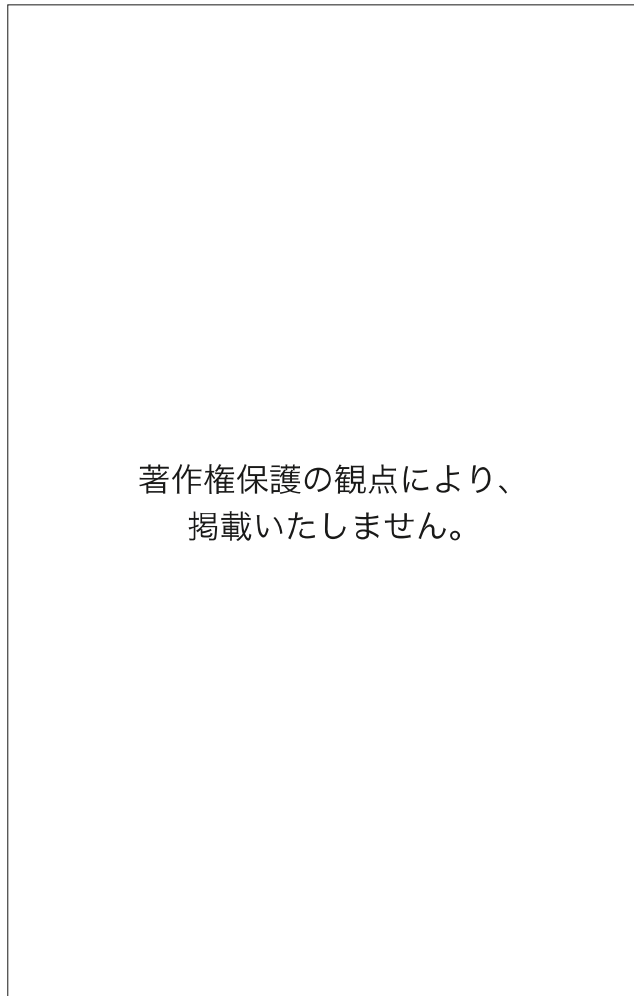


<政策>

- ア アルジェリアを拠点に、チュニジアを保護国化し、さらにサハラ砂漠地域からジブチやマダガスカル方面との連結をめざした。
- イ エジプトを事実上の保護国とし、スーダンも征服して、さらにはブル人の国を併合するなどケープタウンとカイロを結びつけることをめざした。
- ウ 会議を開催してアフリカを植民地化する際の実効支配の原則を定めるなどしたが、アフリカ進出に出遅れ、沿岸部のいくつかの地域を獲得するにとどまった。

	A	B	C
①	ア	イ	ウ
②	ア	ウ	イ
③	イ	ア	ウ
④	イ	ウ	ア
⑤	ウ	ア	イ
⑥	ウ	イ	ア

- (11) 次のA～Cのグラフは、1885年、1913年、1935年のいずれかの日本の輸出入品の割合を示したものである。年代とグラフの組合せとして最も適切なものを、次の①～⑥の中から一つ選べ。解答番号は21。



(「日本貿易精覧」などより作成)

	1885年	1913年	1935年
①	A	B	C
②	A	C	B
③	B	A	C
④	B	C	A
⑤	C	A	B
⑥	C	B	A

(12) 20世紀後半以降の社会事象について説明した記述として**適切でないもの**を、次の①～④の中から一つ選べ。ただし、全て適切である場合は⑤を選べ。解答番号は22。

- ① 1960～70年代以降、欧米諸国や日本などにおいて女性解放運動が高揚し、女性差別を生み出す社会構造の変革をめざすフェミニズム理論も活発に論じられ、1979年には国連総会で女性差別撤廃条約（女子差別撤廃条約）が採択された。
- ② 2015年の国連サミットで採択された「持続可能な開発目標（SDGs）」は、貧困を克服し、開発や経済成長と地球環境の保護を両立させ、すべての人が平和と公正、そして豊かさを享受できる国際社会の実現をめざしている。
- ③ 2010年代以降、社会は、Society 5.0という仮想空間と現実空間を融合させて経済発展と社会的課題の解決を両立させる人間中心の社会に向かっているといわれている。
- ④ 第二次世界大戦後、原子力発電の開発が進められたが、2000年代にはチェルノブイリ（チェルノブイリ）原子力発電所、東京電力福島第一原子力発電所で、放射性物質の放出をとまなう深刻な事故が発生した。

2 次の設問（１）～（８）に答えよ。

- （１） 次のグラフ①～⑤は、下の地図のニジェール川、コンゴ川、インダス川、長江、ミシシッピ川のいずれかの河川の観測地点における月別平均流量を示している。ミシシッピ川を示したものとして最も適切なものを、次の①～⑤の中から一つ選べ。解答番号は２３。

著作権保護の観点により、
掲載いたしません。

●観測地点

著作権保護の観点により、
掲載いたしません。

(「GRDC データ」より作成)

- (2) 次の表中のA～Cは、オランダ、ドイツ、フランスのいずれかにおける食料の品目別自給率（重量ベース）（2021年）（試算）を示したものである。A～Cと国名の組合せとして最も適切なものを、次の①～⑥の中から一つ選べ。解答番号は24。

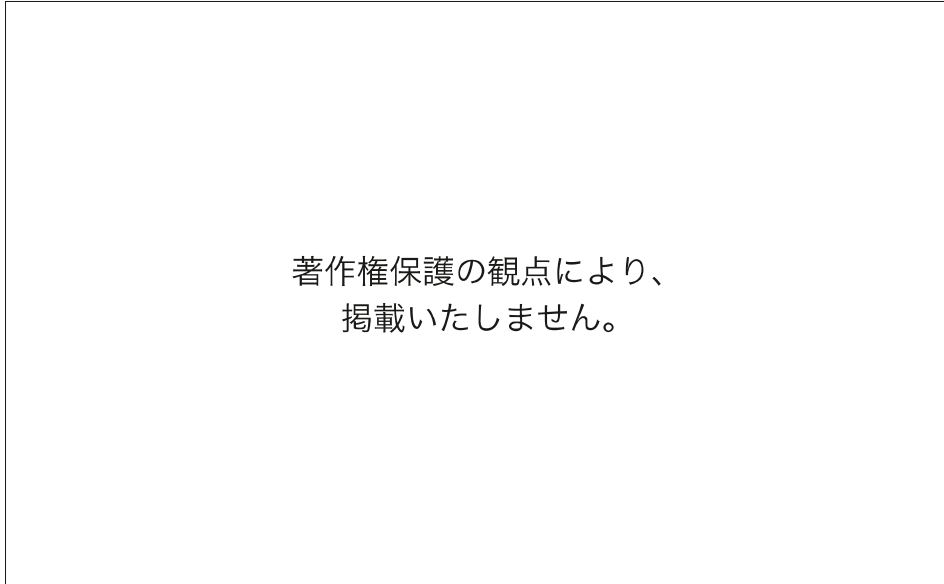
（単位：％）

	穀類	いも類	野菜類	果実類	肉類	牛乳・乳製品
A	177	129	65	50	95	97
B	102	134	21	22	118	96
C	8	162	185	24	247	100

（「食料需給表（令和5年度 農林水産省）」より作成）

	オランダ	ドイツ	フランス
①	A	B	C
②	A	C	B
③	B	A	C
④	B	C	A
⑤	C	A	B
⑥	C	B	A

- (3) 次のグラフA～Cは、インド、シンガポール、マレーシアのいずれかの宗教別人口構成を示したものである。A～Cと国名の組合せとして最も適切なものを、次の①～⑥の中から一つ選べ。解答番号は25。



(「World fact book」より作成)

	インド	シンガポール	マレーシア
①	A	B	C
②	A	C	B
③	B	A	C
④	B	C	A
⑤	C	A	B
⑥	C	B	A

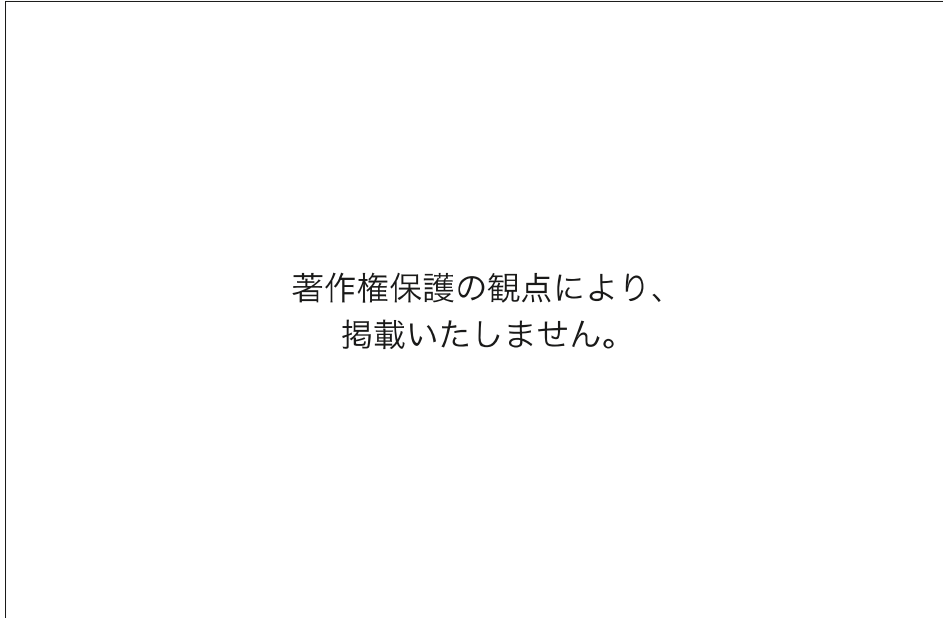
- (4) 次の表A～Cは、アルミニウム、製紙パルプ、ビールのいずれかについて、主な生産国と世界生産量に占める割合を示したものである。A～Cと品目名の組合せとして最も適切なものを、次の①～⑥の中から一つ選べ。解答番号は26。

著作権保護の観点により、
掲載いたしません。

(「世界国勢図会 2024/25」より作成)

	アルミニウム	製紙パルプ	ビール
①	A	B	C
②	A	C	B
③	B	A	C
④	B	C	A
⑤	C	A	B
⑥	C	B	A

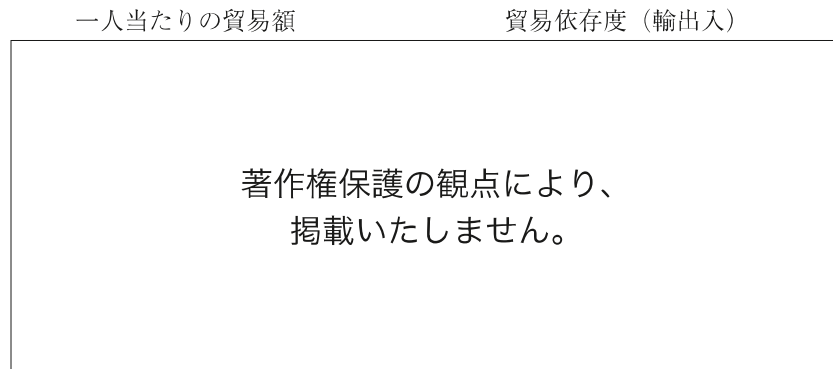
- (5) 次のグラフA～Cは、フィリピン、ブラジル、デンマークのいずれかにおける再生可能エネルギーについて、その発電量の内訳を示したものである。A～Cと国名の組合せとして最も適切なものを、次の①～⑥の中から一つ選べ。解答番号は27。



(「IEA (国際エネルギー機関) 資料」より作成)

	フィリピン	ブラジル	デンマーク
①	A	B	C
②	A	C	B
③	B	A	C
④	B	C	A
⑤	C	A	B
⑥	C	B	A

- (6) 次のグラフは、シンガポール、韓国、日本の一人当たりの貿易額とそれぞれの国における貿易依存度を示したものである。A～Cと国名の組合せとして最も適切なものを、次の①～⑥の中から一つ選べ。解答番号は28。



(「世界国勢図会 2024/25」より作成)

	シンガポール	韓国	日本
①	A	B	C
②	A	C	B
③	B	A	C
④	B	C	A
⑤	C	A	B
⑥	C	B	A

- (7) 次のグラフA～Cは、日本、セネガル、アメリカのいずれかにおける家計消費構成割合を示したものである。A～Cと国名の組合せとして最も適切なものを、次の①～⑥の中から一つ選べ。解答番号は29。



(「UN data」より作成)

	日本	セネガル	アメリカ
①	A	B	C
②	A	C	B
③	B	A	C
④	B	C	A
⑤	C	A	B
⑥	C	B	A

- (8) 次の図A～Cは、山形県の市町村別の状況を、高齢化率（65歳以上の人口割合）、売り場面積100m²以上の事業所数、1世帯当たりの自動車保有台数の3つの指標に基づいてそれぞれ示したものである。A～Cと指標の組合せとして最も適切なものを、次の①～⑥の中から一つ選べ。解答番号は30。

著作権保護の観点により、
掲載いたしません。

〔令和3年 山形県の商業〕などより作成

	高齢化率 (65歳以上の人口割合)	売り場面積100m ² 以上の 事業所数	1世帯当たりの 自動車保有台数
①	A	B	C
②	A	C	B
③	B	A	C
④	B	C	A
⑤	C	A	B
⑥	C	B	A

令和8年度採用 岐阜県公立学校教員採用選考試験
第1次選考試験 中高共通 社会

解答番号	11	12	13	14	15	16	17	18	19	20
正解	②	④	①④	⑥	③	④⑤	④	④	①	⑤

解答番号	21	22
正解	⑤	④

令和8年度採用 岐阜県公立学校教員採用選考試験
第1次選考試験 地理歴史（地理）

解答番号	23	24	25	26	27	28	29	30
正解	②	⑥	⑤	①	③	⑥	②	③