

令和8年度採用

岐阜県公立学校教員採用選考試験 第1次選考試験

教科専門
高等学校 地理歴史（日本史・世界史）

受験番号	
------	--

試験時間

10時30分～11時40分（70分）

【注意事項】

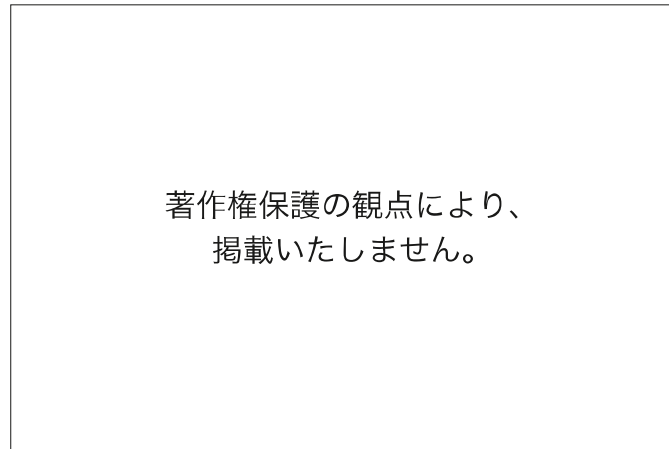
- 1 放送で指示があるまで、この問題冊子に手を触れないでください。
- 2 解答用紙（マークシート）は、マークシート記入要領に従って記入してください。
- 3 問題の印刷が不鮮明な場合には挙手をして、試験官が来るのを待ってください。
- 4 終了後、解答用紙（マークシート）のみ回収します。この問題冊子は各自持ち帰ってください。

1 次の設問(1)～(12)に答えよ。

(1) 11月20日の午前6時に羽田空港を出発した飛行機が、飛行時間10時間でアメリカのシアトルに到着した。到着した時のシアトルの現地時間として最も適切なものを、次の①～⑤の中から一つ選べ。なお、日本は東経135度、アメリカのシアトルは西経120度を標準時子午線とする。解答番号は11。

- ① 11月19日午後1時
- ② 11月19日午後11時
- ③ 11月20日午前11時
- ④ 11月20日午後11時
- ⑤ 11月21日午前9時

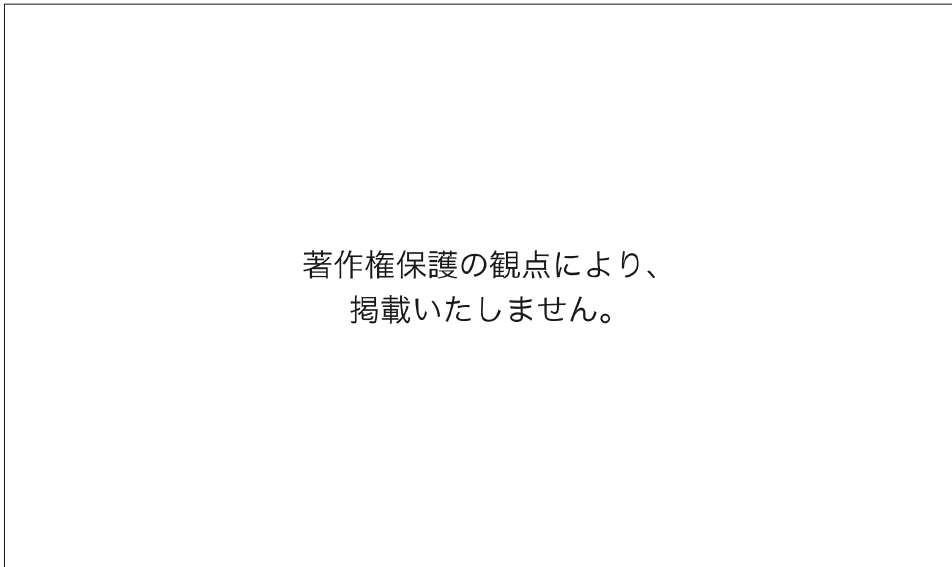
(2) 次のグラフは、日本、インド、コンゴ民主共和国、フランス、カナダの労働生産性と土地生産性を示したものである。日本に当たるものを、グラフ中の①～⑤の中から一つ選べ。解答番号は12。



(帝国書院「高等学校 新地理総合」より作成 一部改変)

- (3) 次の、時期の異なる鹿児島県の地形図を比較して分かることの説明として正しいものを、次の①～④の中から全て選べ。ただし、全て誤っている場合は⑤を選べ。なお、地形図の縮尺は原寸から縮小して示している。解答番号は13。

地形図A (1966年)



(2万5千分の1地形図「鹿児島北部」〔昭和41年〕より作成 一部改変)

地形図B（2024年）

著作権保護の観点により、
掲載いたしません。

（電子地形図25000より作成 一部改変）

- ① 地形図Aでは刑務所であった場所は、地形図Bでは体育館になっている。
- ② 地形図Bにみられる「南ふ頭旅客ターミナル」は、もともとあった海岸を掘り込んで建設されたことが分かる。
- ③ 地形図Aにみられた路面電車は、地形図Bでは全てみられなくなった。
- ④ 地形図Bの「城山（一）」「城山（二）」付近にある「**文**」と記された学校は、山を造成してつくられた住宅地に立地している。

- (4) 次の表のア～ウは、小樽、旭川、釧路のいずれかについて示したものである。ア～ウと都市名の組合せとして最も適切なものを、次の①～⑥の中から一つ選べ。解答番号は14。

	6月～8月の日照時間の合計（時間）	気温の年較差（℃）
ア	363.3	23.0
イ	490.9	28.2
ウ	501.4	24.8

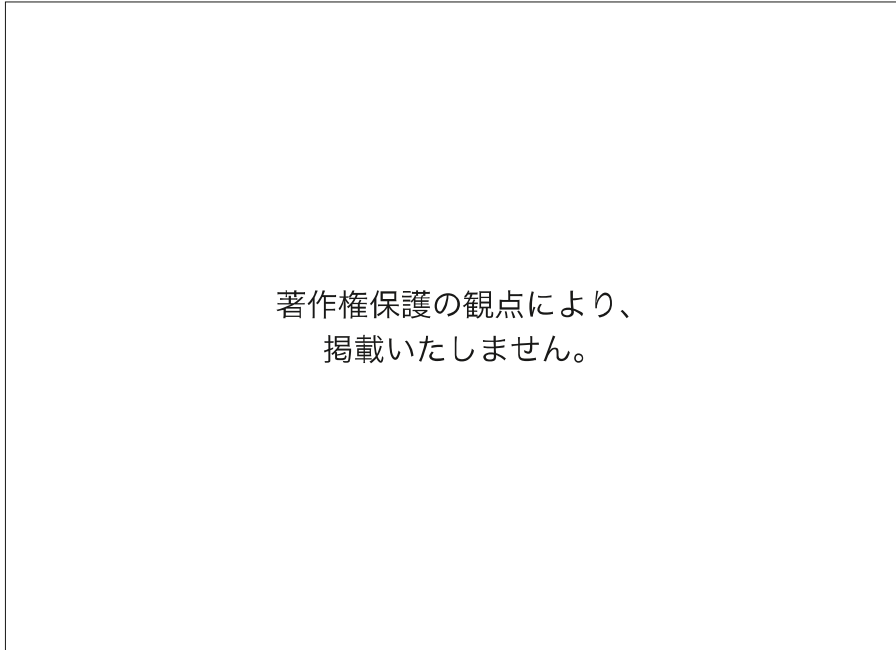
注：ア～ウの各値は平年値による。

（「気象庁資料」より作成）

著作権保護の観点により、
掲載いたしません。

	小樽	旭川	釧路
①	ア	イ	ウ
②	ア	ウ	イ
③	イ	ア	ウ
④	イ	ウ	ア
⑤	ウ	ア	イ
⑥	ウ	イ	ア

- (5) 次のア～ウのグラフは、日本における商品販売額、農業生産額、工業生産額のいずれかについて、各地方の全国に占める割合を示したものである。ア～ウが示しているものの組合せとして最も適切なものを、次の①～⑥の中から一つ選べ。解答番号は15。

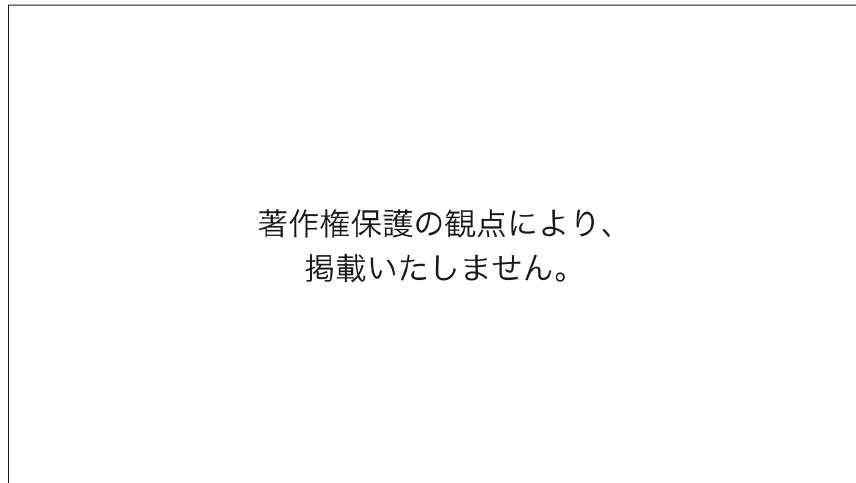


(「令和3年経済センサス」などより作成)

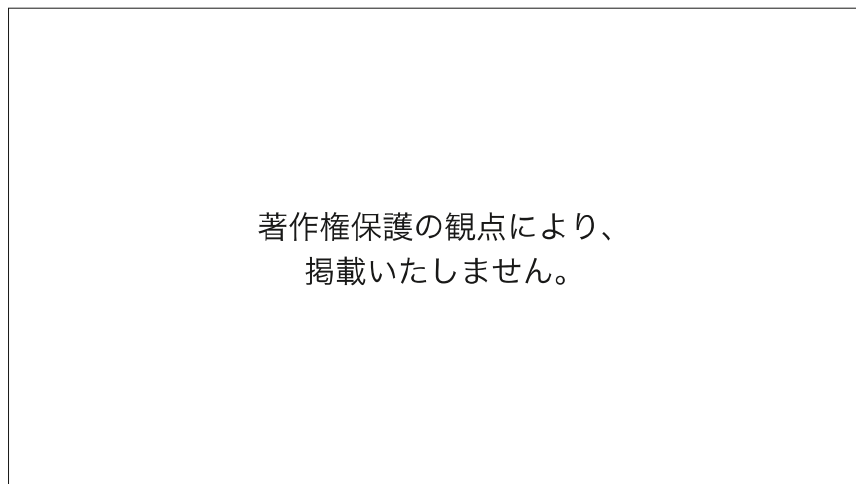
	商品販売額	農業生産額	工業生産額
①	ア	イ	ウ
②	ア	ウ	イ
③	イ	ア	ウ
④	イ	ウ	ア
⑤	ウ	ア	イ
⑥	ウ	イ	ア

- (6) 次の二つのグラフは、日本、中国、インド、アメリカの合計特殊出生率と高齢化率（65歳以上の人口割合）の推移を示したものである。アメリカに当たるものを、グラフ中の①～④、⑤～⑧の中からそれぞれ一つずつ選べ。ただし、グラフ中の線やマーカーの種類が同じ場合に同一の国を示しているとは限らない。解答番号は16。

合計特殊出生率



高齢化率



(「World Population Prospects」などより作成)

- (7) 写真の建築物が建てられた頃の社会の様子に関する記述として最も適切なものを、次の①～⑤の中から一つ選べ。解答番号は17。

著作権保護の観点により、
掲載いたしません。

- ① 宮廷や貴族の豊かな生活と仏教の発展に支えられ、光明皇后が造営した興福寺西金堂に、乾漆像の技法でつくられた興福寺阿修羅像が安置された。
- ② 仮名文字による文学作品が盛んにつくられ、「古事記」や「日本書紀」、紫式部の「源氏物語」や清少納言の随筆「枕草子」が生み出された。
- ③ 一心に「南無阿弥陀仏」と念仏を唱えれば、だれでも極楽浄土に生まれ変わると説く浄土宗が法然によって開かれ、貴族や庶民に伝わった。
- ④ 盗賊や乱闘が多くなり、災厄がしきりに起こった世情が、仏教の説く末法の世の姿によく当てはまると考えられ、貴族をはじめ庶民にも来世で救われたいという願望がいっそう高まった。
- ⑤ 天皇から民衆に至るまで、様々な階層の人々によって、約4500首を収録した歌集である「万葉集」がつけられた。

(8) 次の史料A, Bは御成敗式目の条文, 史料Cは北条泰時が弟の重時にあてた書簡である。下の空欄X, Yに当てはまる語句と, 史料Cから読み取れることについて正しいものの組合せとして最も適切なものを, 次の①~⑥の中から一つ選べ。解答番号は18。

史料A

著作権保護の観点により、
掲載いたしません。

史料B

著作権保護の観点により、
掲載いたしません。

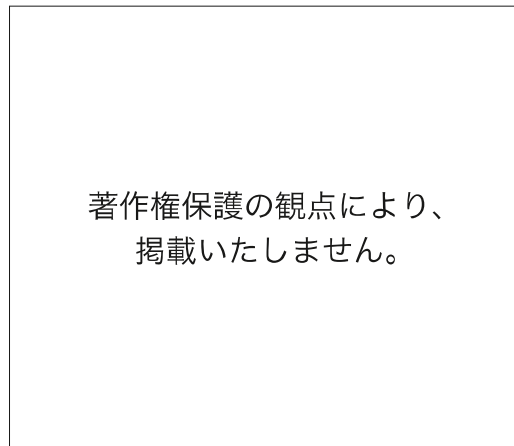
史料C

著作権保護の観点により、
掲載いたしません。

- ア この式目は, 武家社会の道理を基礎にして作成したものである。
- イ この式目は, 武士が支配する庶民の便宜のために定められた。
- ウ この式目によって, 朝廷の法である律令は廃止された。

	X	Y	史料C
①	地頭	守護	ア
②	地頭	守護	イ
③	地頭	守護	ウ
④	守護	地頭	ア
⑤	守護	地頭	イ
⑥	守護	地頭	ウ

- (9) 次のグラフは、近世の日本で鑄造された貨幣の金貨成分比の推移を示したものである。また、下の文章はいずれかの貨幣改鑄に関して述べたものである。文章が示す経緯により改鑄された貨幣として最も適切なものを、次の①～⑤の中から一つ選べ。解答番号は19。



(「日本通貨変遷図鑑」より作成)

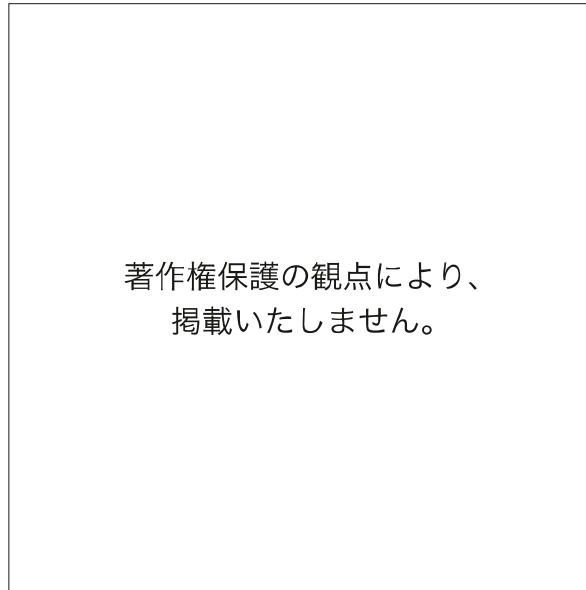
比較的豊かだった佐渡金山などの鉱山での金・銀産出量が減少し、幕府財政は収入減となった。そのうえ明暦の大火後の江戸城と市街の再建費用、引き続き寺社造営費用は大きな支出増となり、幕府財政の悪化をまねいた。

そこで、勘定吟味役は収入増の方策として貨幣の改鑄を上申し、将軍はこれを採用した。幕府は多大な収益を上げたが、貨幣価値の下落は物価の騰貴を引き起こし、人々の生活を圧迫した。

- ① 元禄小判
- ② 正徳小判
- ③ 文政小判
- ④ 安政小判
- ⑤ 万延小判

- (10) 次の地図は、20世紀初めのアフリカにおけるA～Cの国の植民地を示したものである。地図中のA～Cの国が19世紀後半から20世紀初めにかけて進めた政策に関する記述の組合せとして最も適切なものを、次の①～⑥の中から一つ選べ。解答番号は20。

20世紀初めのアフリカにおけるA～Cの国の植民地

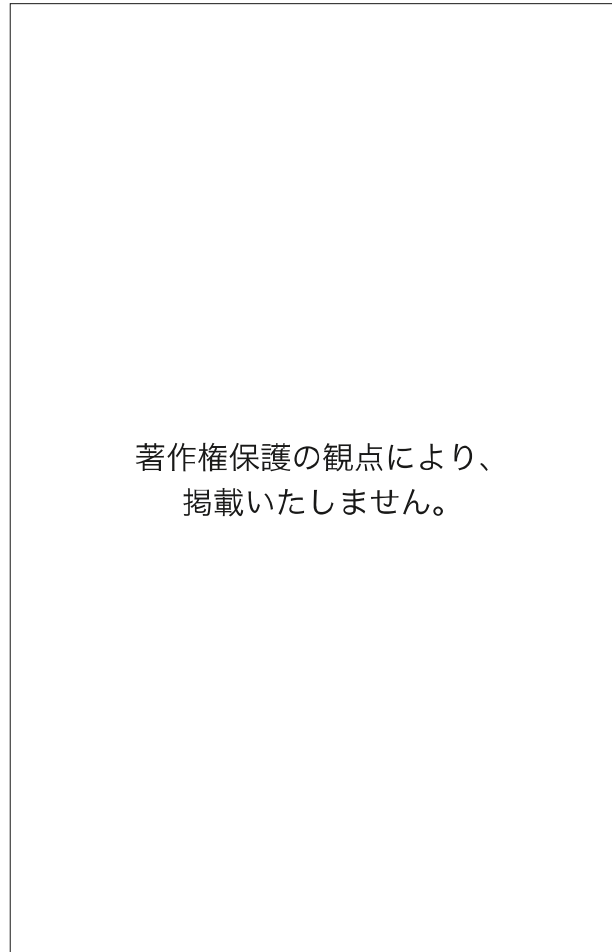


<政策>

- ア アルジェリアを拠点に、チュニジアを保護国化し、さらにサハラ砂漠地域からジブチやマダガスカル方面との連結をめざした。
- イ エジプトを事実上の保護国とし、スーダンも征服して、さらにはブル人の国を併合するなどケープタウンとカイロを結びつけることをめざした。
- ウ 会議を開催してアフリカを植民地化する際の実効支配の原則を定めるなどしたが、アフリカ進出に出遅れ、沿岸部のいくつかの地域を獲得するにとどまった。

	A	B	C
①	ア	イ	ウ
②	ア	ウ	イ
③	イ	ア	ウ
④	イ	ウ	ア
⑤	ウ	ア	イ
⑥	ウ	イ	ア

- (11) 次のA～Cのグラフは、1885年、1913年、1935年のいずれかの日本の輸出入品の割合を示したものである。年代とグラフの組合せとして最も適切なものを、次の①～⑥の中から一つ選べ。解答番号は21。



(「日本貿易精覧」などより作成)

	1885年	1913年	1935年
①	A	B	C
②	A	C	B
③	B	A	C
④	B	C	A
⑤	C	A	B
⑥	C	B	A

(12) 20世紀後半以降の社会事象について説明した記述として**適切でないもの**を、次の①～④の中から一つ選べ。ただし、全て適切である場合は⑤を選べ。解答番号は22。

- ① 1960～70年代以降、欧米諸国や日本などにおいて女性解放運動が高揚し、女性差別を生み出す社会構造の変革をめざすフェミニズム理論も活発に論じられ、1979年には国連総会で女性差別撤廃条約（女子差別撤廃条約）が採択された。
- ② 2015年の国連サミットで採択された「持続可能な開発目標（SDGs）」は、貧困を克服し、開発や経済成長と地球環境の保護を両立させ、すべての人が平和と公正、そして豊かさを享受できる国際社会の実現をめざしている。
- ③ 2010年代以降、社会は、Society 5.0という仮想空間と現実空間を融合させて経済発展と社会的課題の解決を両立させる人間中心の社会に向かっているといわれている。
- ④ 第二次世界大戦後、原子力発電の開発が進められたが、2000年代にはチェルノブイリ（チェルノブイリ）原子力発電所、東京電力福島第一原子力発電所で、放射性物質の放出をともなう深刻な事故が発生した。

2 次の設問（１）～（８）に答えよ。

- （１） 次のグラフ①～⑤は、下の地図のニジェール川、コンゴ川、インダス川、長江、ミシシッピ川のいずれかの河川の観測地点における月別平均流量を示している。ミシシッピ川を示したものとして最も適切なものを、次の①～⑤の中から一つ選べ。解答番号は２３。

著作権保護の観点により、
掲載いたしません。

●観測地点

著作権保護の観点により、
掲載いたしません。

(「GRDC データ」より作成)

- (2) 次の表中のA～Cは、オランダ、ドイツ、フランスのいずれかにおける食料の品目別自給率（重量ベース）（2021年）（試算）を示したものである。A～Cと国名の組合せとして最も適切なものを、次の①～⑥の中から一つ選べ。解答番号は24。

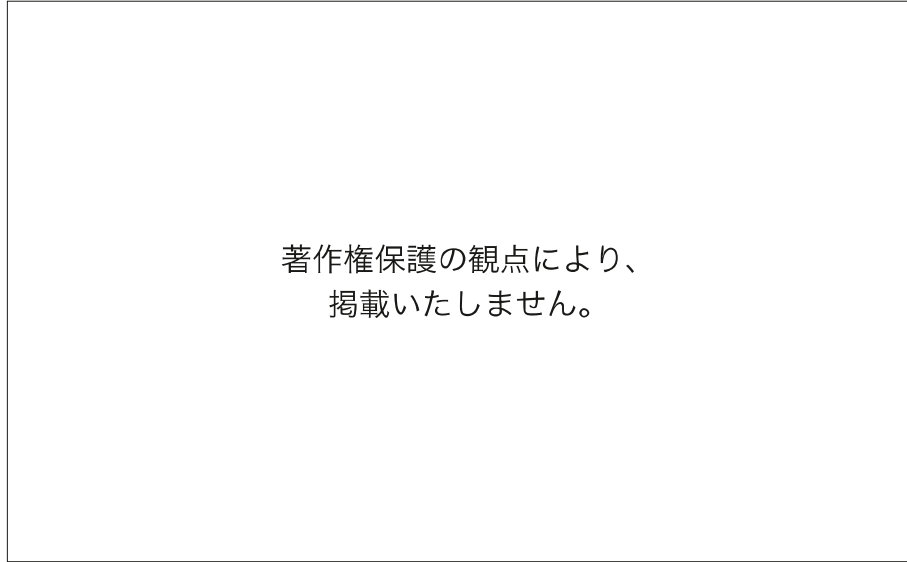
(単位：%)

	穀類	いも類	野菜類	果実類	肉類	牛乳・乳製品
A	177	129	65	50	95	97
B	102	134	21	22	118	96
C	8	162	185	24	247	100

(「食料需給表（令和5年度 農林水産省）」より作成)

	オランダ	ドイツ	フランス
①	A	B	C
②	A	C	B
③	B	A	C
④	B	C	A
⑤	C	A	B
⑥	C	B	A

- (3) 次のグラフA～Cは、インド、シンガポール、マレーシアのいずれかの宗教別人口構成を示したものである。A～Cと国名の組合せとして最も適切なものを、次の①～⑥の中から一つ選べ。解答番号は25。



(「World fact book」より作成)

	インド	シンガポール	マレーシア
①	A	B	C
②	A	C	B
③	B	A	C
④	B	C	A
⑤	C	A	B
⑥	C	B	A

- (4) 次の表A～Cは、アルミニウム、製紙パルプ、ビールのいずれかについて、主な生産国と世界生産量に占める割合を示したものである。A～Cと品目名の組合せとして最も適切なものを、次の①～⑥の中から一つ選べ。解答番号は26。

著作権保護の観点により、
掲載いたしません。

(「世界国勢図会 2024/25」より作成)

	アルミニウム	製紙パルプ	ビール
①	A	B	C
②	A	C	B
③	B	A	C
④	B	C	A
⑤	C	A	B
⑥	C	B	A

- (5) 次のグラフA～Cは、フィリピン、ブラジル、デンマークのいずれかにおける再生可能エネルギーについて、その発電量の内訳を示したものである。A～Cと国名の組合せとして最も適切なものを、次の①～⑥の中から一つ選べ。解答番号は27。



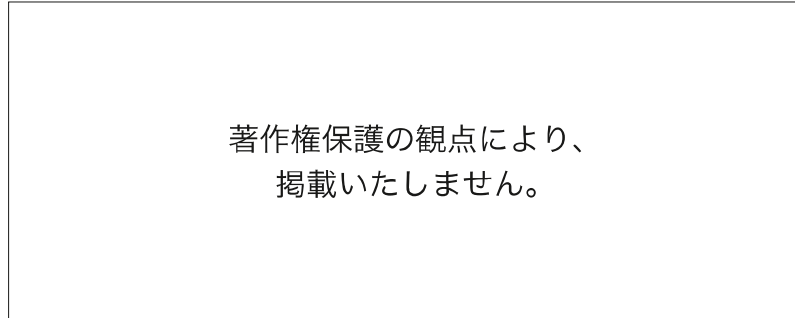
(「IEA (国際エネルギー機関) 資料」より作成)

	フィリピン	ブラジル	デンマーク
①	A	B	C
②	A	C	B
③	B	A	C
④	B	C	A
⑤	C	A	B
⑥	C	B	A

- (6) 次のグラフは、シンガポール、韓国、日本の一人当たりの貿易額とそれぞれの国における貿易依存度を示したものである。A～Cと国名の組合せとして最も適切なものを、次の①～⑥の中から一つ選べ。解答番号は28。

一人当たりの貿易額

貿易依存度（輸出入）



(「世界国勢図会 2024/25」より作成)

	シンガポール	韓国	日本
①	A	B	C
②	A	C	B
③	B	A	C
④	B	C	A
⑤	C	A	B
⑥	C	B	A

- (7) 次のグラフA～Cは、日本、セネガル、アメリカのいずれかにおける家計消費構成割合を示したものである。A～Cと国名の組合せとして最も適切なものを、次の①～⑥の中から一つ選べ。解答番号は29。



(「UN data」より作成)

	日本	セネガル	アメリカ
①	A	B	C
②	A	C	B
③	B	A	C
④	B	C	A
⑤	C	A	B
⑥	C	B	A

- (8) 次の図A～Cは、山形県の市町村別の状況を、高齢化率（65歳以上の人口割合）、売り場面積100m²以上の事業所数、1世帯当たりの自動車保有台数の3つの指標に基づいてそれぞれ示したものである。A～Cと指標の組合せとして最も適切なものを、次の①～⑥の中から一つ選べ。解答番号は30。

著作権保護の観点により、
掲載いたしません。

〔令和3年 山形県の商業〕などより作成

	高齢化率 (65歳以上の人口割合)	売り場面積 100m ² 以上の 事業所数	1世帯当たりの 自動車保有台数
①	A	B	C
②	A	C	B
③	B	A	C
④	B	C	A
⑤	C	A	B
⑥	C	B	A

2 次の設問（１）～（８）に答えよ。

（１） 古代東アジアの国際関係に関する史料A～Cについて、記された内容が古いものから年代順に正しく並べられているものを、次の①～⑥の中から一つ選べ。解答番号は23。

<史料>

A

著作権保護の観点により、掲載いたしません。

B

著作権保護の観点により、掲載いたしません。

C

著作権保護の観点により、掲載いたしません。

- ① A → B → C ② A → C → B ③ B → A → C
④ B → C → A ⑤ C → A → B ⑥ C → B → A

- (2) 次の略年表は、18世紀の日本の主な出来事についてまとめたものである。略年表のXの時期の幕府政治に関する記述として最も適切なものを選択肢A群の①～③の中から、また、Xの時期の為政者に重用された儒学者を選択肢B群の④～⑥の中から、それぞれ一つずつ選べ。解答番号は24。

世紀	日本の主な出来事
18	<p>赤穂浪士大石良雄ら、吉良義央を討つ</p> <p>長崎貿易での金・銀の流出を防ぐため、貿易額を制限する</p> <p style="text-align: center;">↑ X ↓</p> <p>冷害から始まった飢饉が、浅間山の噴火を経て数年に及ぶ大飢饉となる</p> <p>ロシア使節が来航し、漂流民を届けるとともに通商を求める</p>

<A群>

- ① 倭約令によって支出をおさえる一方、上げ米を実施し、そのかわりに参勤交代の負担をゆるめた。また、幕領の代官らの不正を徹底的に摘発する一方、検見法を改めて定免法を広く取り入れ、年貢の増徴を目指した。
- ② 幕府は大名の末期養子の禁止を緩和し、牢人の増加を防ぐ一方、江戸に住む牢人とともにかぶき者の取締りを強化した。また、殉死の禁止を命じ、主人の死後は殉死することなく、跡継ぎの新しい主人に奉公することを義務づけた。
- ③ 旗本・御家人たちの生活安定のために、棄捐令を出して札差に貸金を放棄させた。また、朱子学を正学とし、湯島聖堂の学問所で朱子学以外の講義や研究を禁じ、学術試験をおこなって人材登用につなげた。

<B群>

- ④ 林羅山
- ⑤ 熊沢蕃山
- ⑥ 荻生徂徠

- (3) 日本の近代教育について、史料A～Cに関する記述の正誤の組合せとして最も適切なものを、次の①～⑧の中から一つ選べ。解答番号は25。

史料A

著作権保護の観点により、
掲載いたしません。

(「学制百年史」より作成)

史料B

著作権保護の観点により、
掲載いたしません。

史料C

著作権保護の観点により、掲載いたしません。

- ア 史料Aによると、男女の平均就学率は、日清戦争が始まった年には50%を超えており、日露戦争が始まった年には90%を超えていた。
- イ 史料Bは、治安維持法が制定された頃に、国体の変革と私有財産制度の否認に関する記述を墨で塗りつぶさせた教科書である。
- ウ 史料Cは、教育の機会均等や男女共学の原則をうたっており、教育基本法の前文になっていた。

	ア	イ	ウ
①	○	○	○
②	○	○	×
③	○	×	○
④	○	×	×
⑤	×	○	○
⑥	×	○	×
⑦	×	×	○
⑧	×	×	×

- (4) 次の地図は、8世紀の世界に関する地図である。地図に関する記述ア～エについて、正しいものの組合せとして最も適切なものを、次の①～⑥の中から一つ選べ。解答番号は26。

著作権保護の観点により、掲載いたしません。

- ア 751年のタラス河畔の戦いで、唐は新興のアッバース朝軍を破り、中央アジアへの勢力拡大をはたした。
- イ ティグリス川の中流域に造営されたアッバース朝の都バグダードは、内陸および海洋を結んだ国際交易都市になるように建設された。
- ウ 唐では、アラブ系・イラン系のムスリム商人が海路で来航するようになったために市舶司がおかれた広州のほかにも揚州などの港湾都市が繁栄した。
- エ 732年のトゥール・ポワティエ間の戦いで敗れたフランク王国は、イスラーム勢力に大幅な領土割譲を余儀なくされた。

- ① ア・イ ② ア・ウ ③ ア・エ
④ イ・ウ ⑤ イ・エ ⑥ ウ・エ

(5) 明および東アジア・東南アジア世界の動向に関する記述として適切でないものを、次の①～⑤の中から一つ選べ。解答番号は27。

- ① マラッカ王国は、鄭和の遠征を契機に成長し、インド洋と東南アジアを中継する位置を利用してマジャパヒト王国にかわる東南アジア最大の交易拠点となった。
- ② 室町幕府の足利義満は、明から日本国王に冊封され、明との勘合貿易をおこなった。
- ③ 琉球は、明に頻繁に朝貢し、東アジア・東南アジア諸国を結ぶ中継貿易を展開することで利益を得た。
- ④ 洪武帝は倭寇の被害をおさえて秩序の回復をはかるために中国商人の海外渡航と交易を禁じる海禁をおこなった。
- ⑤ 明の朝貢国であった朝鮮（李朝）は、科挙の整備や骨品制の導入など、明の制度を模した改革を進めた。

(6) 産業革命および環大西洋革命に関する記述ア～オのうち、正しいものの組合せとして最も適切なものを、次の①～⑥の中から一つ選べ。解答番号は28。

- ア アメリカ東部13植民地は、1776年に独立宣言を発し、翌年にはアメリカ合衆国と名乗り、同時にイギリスからの正式な独立の承認を得た。
- イ アメリカ合衆国独立やフランス革命の影響を受け、フランス領サン・ドマングでは、トゥサン・ルヴェルチュールを指導者に黒人奴隷の反乱がおこった。
- ウ 南米では、クリオーリョを中心とした独立運動が本格化し、サン・マルティンによって、大コロンビア共和国の独立が宣言された。
- エ イギリスでは、ジョン・ケイによって、スティーヴンソンの改良した蒸気機関を動力源として利用した力織機が発明された。
- オ フランスでは、国民議会が発した人権宣言によって、すべての人間の自由と権利における平等、国民の主権、私有財産の不可侵などの理想が示され、国王にも認めさせた。

- ① ア・エ ② ア・オ ③ イ・エ
- ④ イ・オ ⑤ ウ・エ ⑥ ウ・オ

- (7) 地図中のAとBの都市名と、その都市の歴史上の出来事に関する記述の組合せとして最も適切なものを、次の①～⑧の中からそれぞれ一つずつ選べ。ただし、都市Aについては①～④、都市Bについては⑤～⑧から選ぶものとする。解答番号は29。

著作権保護の観点により、
掲載いたしません。

- ア 清は、康熙帝の時代に南進してきたロシアと戦い、この地で条約を結んで国境を定めた。
- イ ロシアは、ロシア領トルキスタンを形成し、この地で締結した条約によって中国との境界を有利に画定した。
- ウ 日清戦争で清が敗れ清の弱体化があきらかになると、ロシアは旅順とともにこの地を租借地とした。
- エ 甲申事変で悪化した清との関係を打開するため日本の政府は、この地に伊藤博文を派遣し、清の全権李鴻章とのあいだで条約を結んだ。

	都市名	記述
①	イリ	ア
②	イリ	イ
③	ネルチンスク	ア
④	ネルチンスク	イ
⑤	大連	ウ
⑥	大連	エ
⑦	天津	ウ
⑧	天津	エ

(8) 国際連盟と国際連合に関する記述の正誤の組合せとして最も適切なものを、次の①～⑧の中から一つ選べ。解答番号は30。

- ア 国際連盟が発足したとき、日本は、アメリカ、イギリス、フランス、イタリアとともに常任理事国を担っていた。
- イ 軍事制裁の手段を持たない国際連盟に対して、国際連合は安全保障理事会に軍事行動の実施を含む強制措置発動の決定権を付与した。
- ウ 国際連盟の総会決議が全会一致を必要としたことに対して、国際連合では総会の意思決定が多数決とされた。

	ア	イ	ウ
①	○	○	○
②	○	○	×
③	○	×	○
④	○	×	×
⑤	×	○	○
⑥	×	○	×
⑦	×	×	○
⑧	×	×	×

令和8年度採用 岐阜県公立学校教員採用選考試験
第1次選考試験 中高共通 社会

解答番号	11	12	13	14	15	16	17	18	19	20
正解	②	④	①④	⑥	③	④⑤	④	④	①	⑤

解答番号	21	22
正解	⑤	④

令和8年度採用 岐阜県公立学校教員採用選考試験
第1次選考試験 地理歴史（日本史・世界史）

解答番号	23	24	25	26	27	28	29	30
正解	⑤	①, ⑥	④	④	⑤	④	③, ⑧	⑤