

令和8年度長崎県公立学校 教員採用選考第1次試験問題

教科・科目

高校 世界史

受験番号		氏名	
------	--	----	--

実施日 令和7年5月11日（日）

令和8年度長崎県公立学校教員採用選考試験

高校世界史

※解答はすべて解答用紙の該当欄に記入すること。

※漢字で書くべき人名・用語は漢字で正確に記入すること。

1 以下の各問いに答えよ。

問1 古代文明のうち、モエンジョ＝ダーロやハラッパーなどの都市遺跡に代表される文明の名称を答えよ。

問2 次の資料はある人物の見聞をまとめた文章の一部で、日本の情報に関するものである。ある人物とは誰か。

資料

ジパングは東方の島で、大洋の中にある。大陸から1500マイルはなれた大きな島で、住民は肌の色が白く礼儀正しい。また、偶像崇拜者である。島では、金が見つかるので、かれらは限りなく金を所有している。しかし大陸からあまりにはなれているので、この島に向かう商人はほとんどおらず、そのため法外の量の金であふれている。

(東京書籍『新しい社会 歴史』より)

問3 次の資料はルネサンス期に描かれたものの一部である。この資料の作者として正しいものを下の中から1つ選び、記号で答えよ。

資料



(東京書籍『新しい社会 歴史』より)

- ア. レオナルド・ダ・ビンチ
- イ. ボッティチェリ
- ウ. ミケランジェロ
- エ. ラファエロ

問4 次の文章中の空欄 P に入る人物名を答えよ。

フランスでは1804年に P が民法典を制定して人権宣言の理想を法制化し、フランス社会の近代化を進めた。

問5 次の文を年代の古い順に並べたときに、3番目にくるものを1つ選び、記号で答えよ。

- ア. 世界的な経済不況に対応するため、初の先進国首脳会議が開催された。
- イ. インドネシアのバンドンで開かれた会議で植民地支配から独立した国々が平和共存を訴えた。
- ウ. キューバでのミサイル基地建設を巡り米ソ間の緊張が極度に高まった。
- エ. イラクのサダム＝フセインがイランを攻撃してイラン＝イラク戦争が始まった。

2

以下の各問いに答えよ。

問1 8世紀の出来事に関して述べた次の文について、年代の古い順に正しく配列したものを下の中から1つ選び、記号で答えよ。

- I 藤原仲麻呂（恵美押勝）は、道鏡と対立して反乱をおこし敗死した。
- II 武蔵国から銅が献上されたことをきっかけに、和同開珎が発行された。
- III 藤原不比等の4人の子は不比等の娘の光明子を皇后にすることに成功した。
- IV 舎人親王が中心となって編纂した『日本書紀』が完成した。

- ア. II－III－IV－I イ. II－IV－III－I
- ウ. IV－II－I－III エ. IV－III－I－II

問2 13～14世紀の出来事に関して述べた次の文のうち、正しいものの組合せを下の中から1つ選び、記号で答えよ。

- I 承久の乱後、執権北条時政は、有力な御家人や政務にすぐれた者を引付衆に選んで、幕府の政務処理や裁判に関わらせ、合議制に基づく政治を展開した。
- II 地頭の支配権拡大に苦慮した荘園・公領の領主たちには、幕府に地頭の年貢未納などを訴える者もいたが地頭の行動を阻止することは難しく、現地を地頭と折半し、相互の支配権を認めあう取決めをおこなうこともあった。
- III 文永の役後、幕府は元の再度の襲来に備えて、博多湾岸など九州の要地を御家人に警備させる異国警固番役を強化するとともに、博多湾沿いに石造の防塁を構築した。
- IV 得宗専制政治の強化に対する御家人の不満が募る中、後醍醐天皇の呼びかけに応じて新田義貞が幕府に背いて六波羅探題を攻め落とすなど反幕府の動きが広がり、14世紀前半に鎌倉幕府は滅びた。

- ア. I・III イ. I・IV ウ. II・III エ. II・IV

問3 江戸時代の農村の生活や税負担に関して述べた文として、正しいものを次の中から1つ選び、記号で答えよ。

- ア. 近世の村は、名主・地頭・百姓代からなる村方三役を中心とする本百姓によって運営され、田植え・稲刈りなどの農繁期には結などとよばれる共同作業が行われた。
- イ. 収益性の高い商品作物栽培のための肥料として、自給的な下肥のほか、草木灰・刈敷などの金肥の使用が広まった。
- ウ. 本百姓の負担は、石高の40～50%を米穀などで納めた本途物成のほか、河川の土木工事での夫役労働などの国役、街道近辺の村で公用交通に人足や馬を差し出す伝馬役などがあった。
- エ. 幕藩体制を確立した将軍家光の代には、田畑の売買に制限を加えた田畑永代売買の禁令や、分割相続による田畑の細分化を防いだ分地制限令など、農民の生活に関する規制法令が相次いで出された。

問4 明治時代の文化に関連して、この時期に設立された西洋美術団体の名称とその創立者の組合せとして正しいものを、下の中から1つ選び、記号で答えよ。

西洋美術団体の名称

X 白馬会	Y 日本美術院
-------	---------

創立者

a 浅井忠	b 黒田清輝	c 狩野芳崖	d 横山大観
-------	--------	--------	--------

ア. X－a イ. X－b ウ. Y－c エ. Y－d

問5 次の史料は、1972年に、日本がある国と取り決めた内容である。史料中の空欄aに入る語句として、正しいものを下の中から1つ選び、記号で答えよ。

史料

二、日本国政府は、中華人民共和国政府が中国の唯一の合法政府であることを承認する。 三、中華人民共和国政府は、台湾が中華人民共和国の領土の不可分の一部であることを重ねて表明する。日本国政府は、この中華人民共和国の立場を十分理解し、尊重し、 a 第八項に基づく立場を堅持する。 <div style="text-align: right;">（日本外交主要文書・年表）</div>
--

ア. ポツダム宣言 イ. 日中共同声明 ウ. ヤルタ協定 エ. 日中平和友好条約

3

以下の各問いに答えよ。

- 問1 次の表は、1990年から2019年までの京浜、阪神、中京、北九州工業地帯、関東内陸、瀬戸内工業地域の製造品出荷額（億円）の推移を示したものである。A～Dの組合せとして正しいものを、下の中から1つ選び、記号で答えよ。

表

	1990年	2000年	2010年	2019年
A	515,908	402,530	257,710	252,929
B	445,033	427,472	481,440	589,550
C	405,725	325,518	301,386	336,597
北九州工業地帯	77,793	74,264	82,491	99,760
瀬戸内工業地域	266,875	242,029	292,784	311,899
D	336,323	304,815	290,180	320,161

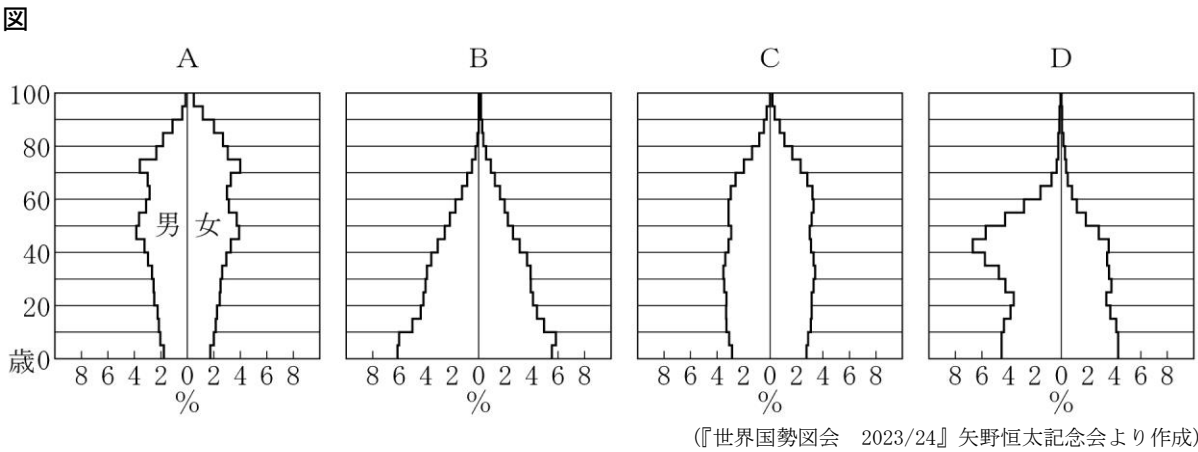
(『日本国勢図会 2023/24』矢野恒太記念会より作成)

	A	B	C	D
ア	京浜	中京	関東内陸	阪神
イ	中京	阪神	京浜	関東内陸
ウ	京浜	中京	阪神	関東内陸
エ	中京	阪神	関東内陸	京浜

- 問2 観光のグローバル化と多様化に関する記述のうち正しいものを、次の中から1つ選び、記号で答えよ。

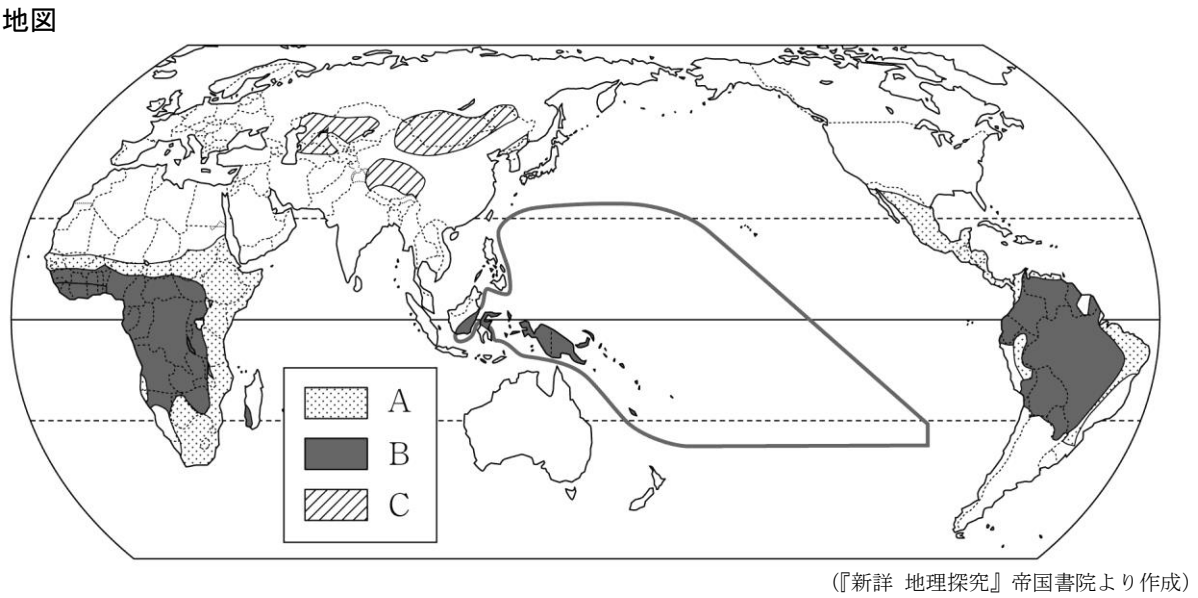
- ア. 国際観光は、距離が近く、経済的な結びつきの強い国や地域、先進国間で活発な傾向にある。
 イ. 日本は、1960年代は国際観光収入が支出を上回っていたが、2010年代以降は国際観光支出が収入を上回っている。
 ウ. 近年、持続可能な環境保全への理解を深めるために体験しながら学ぶグリーンツーリズムがさかんである。
 エ. ヨーロッパでは、毎年夏に地中海沿岸の南フランス、イタリアなどからイギリスやドイツなどの保養地に長期間滞在する保養型の観光の需要が大きい。

問3 次の図は、2021年のサウジアラビア、エジプト、日本、アメリカの人口ピラミッドを示したものである。A～Dの組合せとして正しいものを、下の中から1つ選び、記号で答えよ。



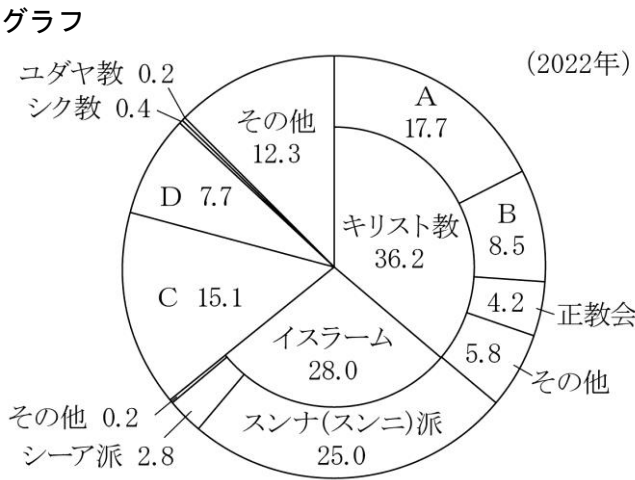
	A	B	C	D
ア	日本	サウジアラビア	アメリカ	エジプト
イ	アメリカ	エジプト	日本	サウジアラビア
ウ	日本	エジプト	アメリカ	サウジアラビア
エ	アメリカ	サウジアラビア	日本	エジプト

問4 次の地図は、世界の主食となる食べ物を示したもので、A～Cは、肉と乳、いも類、とうもろこしのいずれかである。A～Cの組合せとして正しいものを、下の中から1つ選び、記号で答えよ。



	A	B	C
ア	いも類	とうもろこし	肉と乳
イ	とうもろこし	肉と乳	いも類
ウ	いも類	肉と乳	とうもろこし
エ	とうもろこし	いも類	肉と乳

問5 次のグラフは、世界の宗教（宗派）別人口の割合（％）を示したもので、A～Dは、ヒンドゥー教、仏教、カトリック、プロテスタントのいずれかである。A～Dの組合せとして正しいものを、下の中から1つ選び、記号で答えよ。



(『データブック オブ・ザ・ワールド 2024年版』 二宮書店より作成)

	A	B	C	D
ア	プロテスタント	カトリック	仏教	ヒンドゥー教
イ	カトリック	プロテスタント	ヒンドゥー教	仏教
ウ	プロテスタント	カトリック	ヒンドゥー教	仏教
エ	カトリック	プロテスタント	仏教	ヒンドゥー教

4

以下の各問いに答えよ。

問1 次の文章を読んで、（Ⅰ）、（Ⅱ）に適する語句の組合せとして正しいものを下の中から1つ選び、記号で答えよ。

【文章】1968年に制定された消費者保護基本法は、2004年に消費者の自立支援を基本理念とする（Ⅰ）に改正された。具体的な消費者支援制度として、契約自由の原則の例外である（Ⅱ）がある。（Ⅱ）により、消費者が製造業者の過失（欠陥への認識など）を証明しなくても、賠償を請求できるようになった。

- ア. Ⅰ－消費者基本法 Ⅱ－クーリング・オフ制度
 イ. Ⅰ－消費者契約法 Ⅱ－クーリング・オフ制度
 ウ. Ⅰ－消費者基本法 Ⅱ－製造物責任法（PL法）
 エ. Ⅰ－消費者契約法 Ⅱ－製造物責任法（PL法）

問2 次の文章を読んで、（Ⅰ）、（Ⅱ）に適する語句の組合せとして正しいものを下の中から1つ選び、記号で答えよ。

【文章】情報通信技術（ICT）の発展とともに、（Ⅰ）と呼ばれるICTと金融の融合が進み、スマートフォンなどを使った支払い方法が普及しつつある。これらは従来の金融機関ではなく、ICT企業によって開発・提供されるものが多い。金融機関は中央銀行としての日本銀行や、（Ⅱ）のゆうちょ銀行など多くの種類が存在している。

- ア. Ⅰ－クラウドファンディング Ⅱ－公的金融機関
 イ. Ⅰ－フィンテック Ⅱ－公的金融機関
 ウ. Ⅰ－フィンテック Ⅱ－民間金融機関
 エ. Ⅰ－クラウドファンディング Ⅱ－民間金融機関

問3 次のⅠ、Ⅱの公共料金は、下の表の①～④のどこに分類されるか、組合せとして正しいものを下の中から1つ選び、記号で答えよ。

- Ⅰ. 電気料金
 Ⅱ. 公営水道料金

【表】

国が決定するもの	①
国が認可や上限を認可するもの	②
国に届け出るもの	③
地方公共団体が決定するもの	④

- ア. Ⅰ－② Ⅱ－④ イ. Ⅰ－② Ⅱ－③
 ウ. Ⅰ－① Ⅱ－③ エ. Ⅰ－① Ⅱ－④

問4 次の公害・環境問題関連の年表中（Ⅰ）、（Ⅱ）に適する語句の組合せとして正しいものを下の中から1つ選び、記号で答えよ。

【年表】

年	できごと
1890	足尾銅山の鉱毒被害が拡大
1992	国連環境開発会議開催
1993	（Ⅰ）の制定
1997	地球温暖化防止京都会議開催
2001	（Ⅱ）の設置
2003	環境教育推進法制定

- ア. Ⅰ－公害対策基本法 Ⅱ－環境省
 イ. Ⅰ－環境基本法 Ⅱ－環境庁
 ウ. Ⅰ－公害対策基本法 Ⅱ－環境庁
 エ. Ⅰ－環境基本法 Ⅱ－環境省

問5 次の表は、主要国（日本、ドイツ、フランス、アメリカ、イギリス）における直接税と間接税の直間比率（国税＋地方税）の比較を示したものである。表中のⅠ～Ⅲのうち日本とアメリカに適するものの組合せとして正しいものを下の中から1つ選び、記号で答えよ。

【表】

Ⅰ	Ⅱ	イギリス	Ⅲ	フランス
66 : 34	78 : 22	59 : 41	55 : 45	55 : 45

（注）日本は令和3年度（2021年度）実績額。諸外国はOECD “Revenue Statistics 1965-2022” による2021年の計数（ドイツは推計値）。

OECD “Revenue Statistics” の区分に従って作成しており、所得課税、給与労働力課税及び資産課税のうち流通課税を除いたものを直接税、それ以外の消費課税等を間接税等とし、両者の比率を直間比率として計算している。

- ア. 日本－Ⅰ アメリカ－Ⅲ
 イ. 日本－Ⅲ アメリカ－Ⅱ
 ウ. 日本－Ⅰ アメリカ－Ⅱ
 エ. 日本－Ⅲ アメリカ－Ⅰ

5

次の【A】～【C】の文章を読み、以下の各問いに答えよ。

【A】メソポタミアでは、アムル人がバビロン第一王朝をおこし、①ハンムラビ王の時に全メソポタミアを支配した。

エジプトでは、メソポタミアより早く王による統一国家がつけられた。中王国時代末期にシリア方面から遊牧民の□P□が流入したが、紀元前16世紀に□P□を撃退して新王国が成立した。前14世紀には□Q□がテル＝エル＝アマルナに都を定めて宗教改革を行った。

インドでは、前4世紀末にマウリヤ朝が成立し、クシャーナ朝を経て、4世紀に②グプタ朝がおこった。グプタ期は③6世紀半ばに滅亡した。

問1 下線部①が発布した法典における「目には目を、歯には歯を」で知られる刑法の原則は何か。

問2 文章中の空欄□P□・□Q□に入る語の組合せとして正しいものを次の中から1つ選び、記号で答えよ。

- | | |
|-----------|------------|
| ア. P－スキタイ | Q－アメンヘテプ4世 |
| イ. P－ヒクソス | Q－ラメス2世 |
| ウ. P－ヒクソス | Q－アメンヘテプ4世 |
| エ. P－スキタイ | Q－ラメス2世 |

問3 下線部②の時代の文化について述べた次の文X・Yの正誤の組合せとして正しいものを下の中から1つ選び、記号で答えよ。

X. マヌ法典では4つのヴァルナの規範について規定し、バラモンの特権的地位が強調されている。

Y. 詩人カーリダーサによって戯曲「イリアス」がつけられた。

- | | |
|--------|-----|
| ア. X－正 | Y－正 |
| イ. X－正 | Y－誤 |
| ウ. X－誤 | Y－正 |
| エ. X－誤 | Y－誤 |

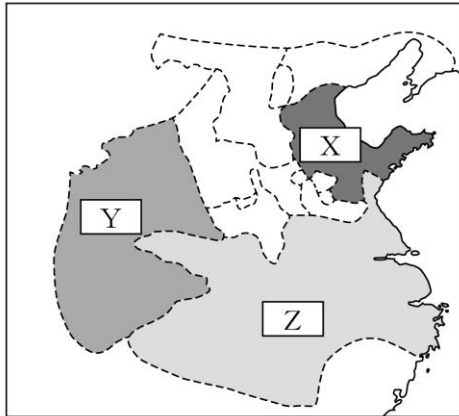
問4 下線部③の出来事について述べた文として正しいものを次の中から1つ選び、記号で答えよ。

- | |
|--------------------------|
| ア. ソンツェン＝ガンボが吐蕃を建てた。 |
| イ. クローヴィスがメロヴィング朝を開いた。 |
| ウ. 鑑真が来日した。 |
| エ. ササン朝は突厥と結んでエフタルを滅ぼした。 |

【B】戦国時代に特に有力であった7つの国は④「戦国の七雄」と呼ばれた。前漢の時代に即位した⑤武帝は、南越国や衛氏朝鮮を滅ぼして、漢の支配下に入れた。三国時代の魏で始まった⑥九品中正や北魏で始まった均田制などの効果は限定的であった。隋の文帝は九品中正にかわる新しい人材登用制度として を始めた。唐の太宗は支配下にいた諸民族に自治を認めつつ、各方面においた に監督させた。

問5 文章中の下線部④を示した次の地図 I 中の空欄 ～ にあてはまる国の組合せとして正しいものを下の中から1つ選び、記号で答えよ。

地図 I



ア. X—齊 Y—楚 Z—秦
 ウ. X—秦 Y—齊 Z—楚
 オ. X—楚 Y—秦 Z—齊

イ. X—齊 Y—秦 Z—楚
 エ. X—秦 Y—楚 Z—齊
 カ. X—楚 Y—齊 Z—秦

問6 下線部⑤が行ったことについて正しいものを次の中から1つ選び、記号で答えよ。

- ア. 大月氏に班超を派遣した。
- イ. 国内を郡・県にわけて官僚を派遣する郡県制を導入した。
- ウ. 度量衡・文字の統一や焚書・坑儒を行った。
- エ. 物価調整策として均輸・平準を行った。

問7 下線部⑥の内容とその結果を次の語句を用いて説明せよ。

〔 中正官 推薦 貴族 〕

問8 文章中の空欄 ・ に入る語の組合せとして正しいものを次の中から1つ選び、記号で答えよ。

- ア. P—骨品制 Q—節度使
- イ. P—科举 Q—都護府
- ウ. P—骨品制 Q—都護府
- エ. P—科举 Q—節度使

【C】⑦ギリシアから都市国家の伝統を継いだローマは、地中海周辺に大帝国を築いた。キリスト教は1世紀にローマ支配下のパレスチナで生まれ、⑧4世紀にコンスタンティヌス帝により公認された。

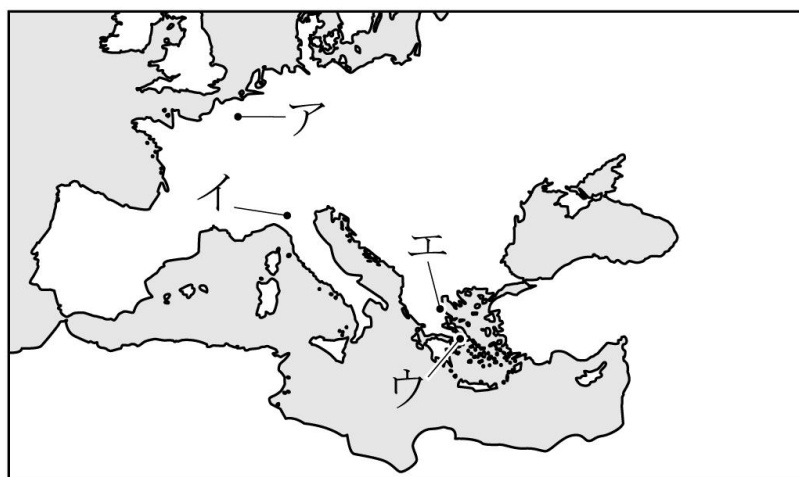
7世紀前半にムハンマドによってとなえられた⑨イスラーム教は、ユダヤ教、キリスト教の系譜のうえに生まれた宗教である。

問9 下線部⑦に関連して、ギリシア文化について述べた文として正しいものを次の中から1つ選び、記号で答えよ。

- ア. ソクラテスは、事象の背後にあるイデアこそ永遠不変の実在であるとした。
- イ. プロタゴラスは精神快楽主義を唱え、エピクロス派の祖となった。
- ウ. ゼノンは精神的禁欲主義を唱え、ストア派の祖となった。
- エ. プラトンは真理の絶対性を説き、哲学を創始した。

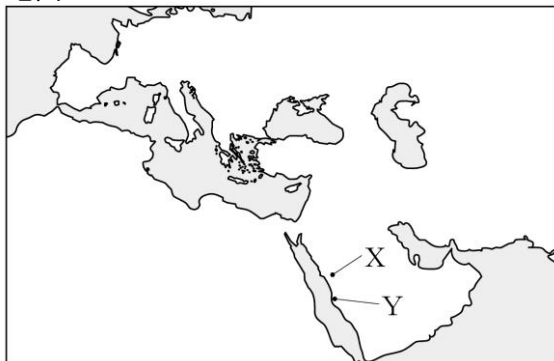
問10 下線部⑧についての勅令が発布された場所を次の地図Ⅱ中のア～エの中から1つ選び、記号で答えよ。

地図Ⅱ



問11 下線部⑨に関連する次の地図Ⅲ中のYからXへとムハンマドは移住した。この出来事について説明せよ。なおその際、その年号と地名を明示すること。

地図Ⅲ



問12 下線部⑨に関連して、イスラーム文化について述べた文として正しいものを次の中から1つ選び、記号で答えよ。

- ア. モスクなどで用いられる装飾では植物や文字を文様化したミニアチュールが発達した。
- イ. イブン＝ハルドゥーンがアリストテレスの著作をもとにイスラーム哲学を完成させた。
- ウ. イブン＝シーナーは「世界史序説」を著した。
- エ. 散文学では「千夜一夜物語（アラビアン・ナイト）」など大衆文芸が好まれた。

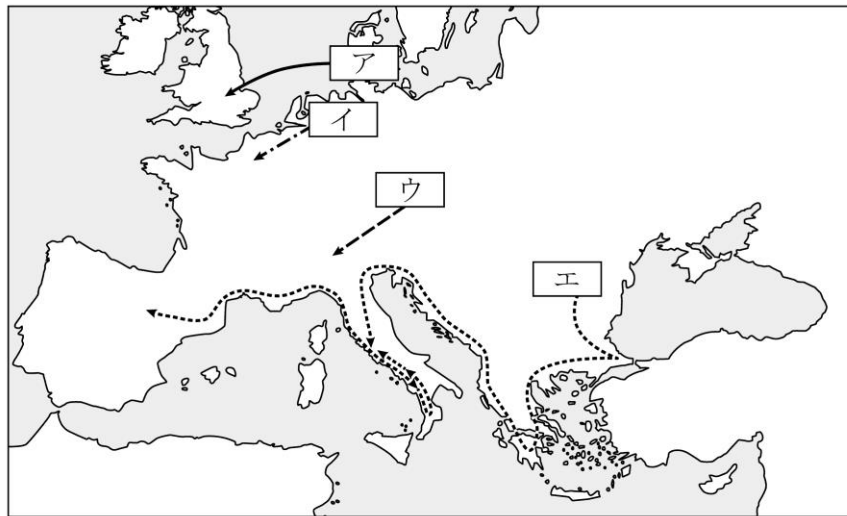
6

次の【A】～【C】の文章を読み、以下の各問いに答えよ。

【A】①約200年におよぶゲルマン人の大移動は長期間におよんだが、最有力国として西ヨーロッパ世界の形成に大きな役割を果たしたのは②フランク王国であった。その後、ゲルマン人の一派である③ノルマン人は8世紀後半から11世紀にかけてヨーロッパ各地に進出した。

問1 下線部①を示した次の地図のうち、西ゴートにあてはまるものを、地図中のア～エの中から1つ選び、記号で答えよ。

地図



問2 下線部②に関連して、カールの戴冠は、西ヨーロッパが政治的・文化的・宗教的に独立したという歴史的意義をもつとされている。このことについて次の語を用いて説明せよ。

〔 レオ3世 ビザンツ皇帝 ローマ文化 〕

問3 下線部③に関連する文として正しいものを次の中から1つ選び、記号で答えよ。

- ア. 南フランスにノルマンディー公国を建てた。
- イ. 南イタリアとシチリア島に両シチリア王国を建てた。
- ウ. アルフレッド大王がアングロ＝サクソン王国を征服した。
- エ. リューリクがノルマン朝を開いた。

【B】11～12世紀には④十字軍の影響で交通が発達すると、毛織物工業の発展を基礎に遠隔地貿易で発達する都市も現れた。各地の都市は次々に自治権を獲得し、⑤自治都市になった。13～14世紀以後ヨーロッパ各国の王は、課税などを要請するため、貴族・聖職者および都市の代表が出席する⑥身分制議会を開き、話し合いを通して国内統一をはかった。中世の西ヨーロッパはキリスト教の時代であり、⑦学問もその影響下にあった。

問4 文章中の下線部④について説明した次の文X・Yの正誤の組合せとして正しいものを下の中から1つ選び、記号で答えよ。

X 十字軍の派遣が決められた背景にはウマイヤ朝によるエルサレム占領があった。

Y 第7回十字軍ではマムルーク朝に直接攻撃を試みたが、失敗した。

ア. Xー正 Yー正

イ. Xー正 Yー誤

ウ. Xー誤 Yー正

エ. Xー誤 Yー誤

問5 下線部⑤について述べた文で正しいものを次の中から1つ選び、記号で答えよ。

ア. 北ドイツ諸都市がロンバルディア同盟を結成した。

イ. フィレンツェのフッガー家が一族から教皇を出した。

ウ. 商人ギルドと同職ギルドがツunft闘争を行った。

エ. アウクスブルクのメディチ家が神聖ローマ皇帝に融資してその地位を左右した。

問6 下線部⑥について、1295年にイギリスで招集された議会が「模範議会」と呼ばれている理由を、次の語を用いて説明せよ。

〔 高位聖職者 騎士 〕

問7 下線部⑦について、ウィリアム＝オブ＝オッカムが主張したものを次の中から1つ選び、記号で答えよ。

ア. 実在論

イ. 進化論

ウ. 唯物論

エ. 唯名論

【C】10世紀以降、遼（キタイ）・金は、遊牧・農耕をたばねる唐の支配を継承した。⑧宋の時代は、中国商人の海上進出も活発化し、絹や陶磁器・銅銭などが輸出された。13世紀になると、⑨モンゴル帝国がユーラシアの陸と海を結合した。

14世紀後半に⑩明が成立し、15世紀末以降「世界の一体化」にともなって国際交易が発展するなか、アジアでは、⑪オスマン帝国・サファヴィー朝・ムガル帝国・清など諸帝国が繁栄した。

問8 下線部⑧が、1004年に遼（キタイ）と結んだ和議を何というか。

問9 下線部⑨に関連して述べた次の文X・Yの正誤の組合せとして正しいものを下の中から1つ選び、記号で答えよ。

X ローマ教皇は、ルブルックを使節としてモンゴル高原に送った。

Y 修道士モンテ＝コルヴィノは、大都でカトリックの布教にあたった。

ア. Xー正 Yー正

イ. Xー正 Yー誤

ウ. Xー誤 Yー正

エ. Xー誤 Yー誤

問10 下線部⑩において、靖難の役を経て皇帝となった人物は誰か。

問11 下線部⑩に関連する次の資料の右の人物名と代表する著作を下の中から1つ選び、記号で答えよ。

資料



(山川出版社『詳説世界史』より)

ア. 李時珍—『本草綱目』

イ. 徐光啓—『農政全書』

ウ. 宋応星—『天工開物』

エ. 利瑪竇—『坤輿万国全図』

問12 下線部⑪のセリム1世の事績として正しいものを次の中から1つ選び、記号で答えよ。

- ア．ウィーンを包囲し、ヨーロッパに脅威を与えた。
- イ．ビザンツ帝国を滅ぼした。
- ウ．フランスにカピチュレーションを公認した。
- エ．マムルーク朝を滅ぼし、シリア・エジプトを支配下に収めた。

7

次の【A】～【C】の文章を読み、以下の各問いに答えよ。

【A】中世末期のヨーロッパでは文芸・科学・技術などの多様な方面で文化活動が展開されるようになり、これを①ルネサンスと総称する。

中世末期のカトリック圏では、聖職者の贅沢や怠惰と疫病や戦争の社会不安により、一般信徒の信仰心は高まり、教会の改革を求める声が続いていた。ローマ教皇は14～15世紀に生じた改革の動きを異端として処断し、カトリック圏の一体性を保ったが、16世紀の運動は異端にとどめることができず、②宗教改革が始まった。

問1 次の資料は、下線部①に関連する資料の一部である。この作者名を下の中から1つ選び、記号で答えよ。

資料

現在では、法王*のお役目中一番骨の折れる部分は、お閑暇な聖ペテロや聖パウロに大体任せ切りにしてありまして、法王様のほうでは、豪華なお儀式やお楽しみのほうを受け持って居られます。……お儀式で、監視の目を光らせさえしていれば、十分にキリストの為に尽くすことになると思っていますからなのですよ。

*教皇のこと

(帝国書院『新詳世界史探究』より)

ア. チョーサー イ. シェークスピア ウ. ボッカチオ エ. エラスムス

問2 下線部②について述べた次の文X・Yの正誤の組合せとして正しいものを下の中から1つ選び、記号で答えよ。

X ドイツの修士ルターは「九十五カ条の論題」で贖宥状に異議をとなえた。

Y フランス出身の神学者カルヴァンは長老主義を確立した。

ア. X—正 Y—正

イ. X—正 Y—誤

ウ. X—誤 Y—正

エ. X—誤 Y—誤

【B】16世紀後半以降のヨーロッパでは、各国が国境を画定しながら、国家としてのまとまりを追求した。こうした国家を主権国家、それが織りなす国際秩序を主権国家体制とよぶ。その代表が、16世紀後半のスペイン、17世紀半ばの③オランダ、同世紀末の④フランス、18世紀後半のイギリスである。

問3 下線部③の独立について述べた次のX・Yの正誤の組合せとして正しいものを下の中から1つ選び、記号で答えよ。

X ネーデルラント南部10州がユトレヒト同盟を結んだ。
Y ウェストファリア条約によってオランダの独立が正式に認められた。

- ア. Xー正 Yー正
- イ. Xー正 Yー誤
- ウ. Xー誤 Yー正
- エ. Xー誤 Yー誤

問4 下線部④の国王ルイ14世について説明したものとして正しいものを次の中から1つ選び、記号で答えよ。

- ア. ナントの王令を発した。
- イ. 絶対王政を行った。
- ウ. サン＝バルテルミの虐殺を行った。
- エ. 三十年戦争に介入した。

問5 次の地図はロシアの領土拡大を表したものである。17世紀後半から18世紀前半にかけてXの範囲まで領土を広げ、新都ペテルブルグを築いた人物名を下の中から1つ選び、記号で答えよ。

地図



- ア. イヴァン4世
- イ. ピョートル1世
- ウ. アレクサンドル1世
- エ. エカチェリーナ2世

問6 近世ヨーロッパの科学革命について説明した文として正しいものを次の中から1つ選び、記号で答えよ。

- ア. ガリレイが万有引力の法則を発見し、『プリンキピア』を著した。
- イ. ジェンナーが血液の循環を発見した。
- ウ. ライプニッツは微積分法を発見し、『单子論』を著した。
- エ. ハーヴェーは植物分類学を確立した。

【C】1814年にヨーロッパ諸国の代表がウィーンに集まり、ナポレオン戦争後の国際体制について話し合い、会議の結果は⑤ウィーン議定書にまとめられた。

ところで、資本主義のものとヨーロッパ諸国では、資本家と労働者の経済格差が新たな問題となっていた。これに対し自由競争の制限や私的所有の廃止によって、貧困や社会問題を解決しようとする⑥社会主義が生まれた。

19世紀後半のロシアではクリミア戦争の敗北後、⑦農奴解放令が出された。ドイツではプロセイン国王ヴィルヘルム1世がドイツ諸侯によってドイツ皇帝に推挙され、⑧ドイツ帝国が成立した。

問7 下線部⑤について説明したものとして正しいものを次の中から1つ選び、記号で答えよ。

- ア. スイスが永世中立国として承認された。
- イ. フランスやスペインでヴァロア朝が復活した。
- ウ. イギリスはケープ植民地を失った。
- エ. タレーランのよびかけで神聖同盟が結成された。

問8 下線部⑥の成立について述べた次の文X・Yの正誤の組合せとして正しいものを下の中から1つ選び、記号で答えよ。

- X ルイ＝ブランは工場経営や生活必需品の購入を共同で行う協同組合を組織した。
- Y サン＝シモンは、労働者は連帯し社会の主役になるべきと唱えた。

- ア. Xー正 Yー正
- イ. Xー正 Yー誤
- ウ. Xー誤 Yー正
- エ. Xー誤 Yー誤

問9 下線部⑦を次の語を用いて説明せよ。ただし、発布年、皇帝名は明示すること。

〔 土地 〕

問10 下線部⑧について、次のⅠ～Ⅲの出来事を年代の古い順に並べたものとして正しいものを下の
中から1つ選び、記号で答えよ。

- Ⅰ ドイツ＝フランス戦争が起きた。
- Ⅱ プロイセンを盟主とする北ドイツ連邦が形成された。
- Ⅲ フランクフルト国民議会が開かれた。

- ア. Ⅰ→Ⅱ→Ⅲ
- イ. Ⅰ→Ⅲ→Ⅱ
- ウ. Ⅱ→Ⅰ→Ⅲ
- エ. Ⅱ→Ⅲ→Ⅰ
- オ. Ⅲ→Ⅰ→Ⅱ
- カ. Ⅲ→Ⅱ→Ⅰ

8


次の【A】～【C】の文章を読み、以下の各問いに答えよ。

【A】1861年アメリカでは南北間の対立が始まり、①南北戦争が起こった。この戦争はアメリカ史上最多の死者を出す戦争となった。

19世紀後半の欧米では、市民社会の成熟、近代科学・技術の急速な発展、工業化による社会階層の格差の広がりで人々の意識も変化した。ロマン主義は現実の動向をみていないと批判され②写実主義や自然主義が登場した。

問1 次の資料Ⅰに描かれたような先住民の強制移住は、1830年に制定された法律によって実施された。この法律を制定した大統領として正しいものを下の中から1つ選び、記号で答えよ。

資料Ⅰ



(山川出版社『詳説世界史』より)

- ア. ワシントン
- イ. ジャクソン
- ウ. ジェファソン
- エ. マッキンリー

問2 下線部①に関連する次の資料Ⅱは1863年のゲティスバーグで演説する大統領を描いたものである。この大統領が国際世論を味方につけるため、同年に発したのは何か。

資料Ⅱ



(山川出版社『詳説世界史』より)

問3 下線部②に関連する次の資料Ⅲの作者を下の中から1つ選び、記号で答えよ。

資料Ⅲ



(山川出版社『詳説世界史』より)

- ア. クールベ
- イ. セザンヌ
- ウ. ゴッガン
- エ. ロダン

【B】19世紀の清はイギリスからのアヘンの密輸入が止まらず、林則徐がイギリス商人からアヘンを没収して廃棄すると、イギリスは清朝に武力で迫り③アヘン戦争を起こした。1890年代以降、清の各地で王朝打倒をめざす革命組織がつくられた。広東出身の④孫文は中国同盟会を結成し、三民主義を掲げた。

問4 下線部③についてアヘン戦争の背景となった、東インド会社による中国へのアヘンの輸出がはじまった経緯を次の語を用いて説明せよ。

〔 茶 綿花 〕

問5 下線部④について述べた次のX・Yの正誤の組合せとして正しいものを下の中から1つ選び、記号で答えよ。

- X 辛亥革命が起きたことを知り、亡命先から帰国した。
- Y 武装蜂起は成功し、袁世凱の独裁を防いだ。

- ア. Xー正 Yー正
- イ. Xー正 Yー誤
- ウ. Xー誤 Yー正
- エ. Xー誤 Yー誤

問6 1870～90年代の西アジア、北アフリカの情勢について述べた文として正しいものを次の中から1つ選び、記号で答えよ。

- ア. アフガニスタンはイギリスの保護国化を防いだ
- イ. エジプトではタバコ＝ボイコット運動がおこった。
- ウ. イランではウラービー運動がおこった。
- エ. スーダンではマフディー運動がおこった。

【C】1914年にサラエヴォでオーストリアの帝位継承者が暗殺されると、オーストリアがセルビアに宣戦布告をし、第一次世界大戦が始まった。1917年⑤ロシアで革命がおこり革命政権はドイツと単独講和に踏み切り、ブレスト・リトフスク条約を締結して戦線から離脱した。

1922年ドイツとソヴィエトの間でラパロ条約が結ばれ両国の外交が再開し、1925年英・独・仏をはじめとする7か国が⑥ロカルノ条約を結んだ。パリ講和会議では民族自決の原則がかかげられたものの、それはアジア・アフリカには適用されなかった。そのため⑦各地で独立をめざす民族運動がさかんになった。

問7 下線部⑤について説明した次のX・Yの正誤の組合せとして正しいものを下の中から1つ選び、記号で答えよ。

- X レーニンが四月テーゼを発表し、臨時政府との対決を主張した。
- Y メンシェヴィキはペトログラードで武装蜂起し、ソヴィエト政権を樹立した。

- ア. Xー正 Yー正
- イ. Xー正 Yー誤
- ウ. Xー誤 Yー正
- エ. Xー誤 Yー誤

問8 下線部⑥によってヨーロッパの戦後秩序が転換した。このことについて次の語を用いて説明せよ。

[ラインラント ドイツ 国際連盟]

問9 下線部⑦について、次の資料Ⅳはインドにおける民族運動の様子である。ガンディーが1930年に始めた海岸に向かうこの運動を何というか。

資料Ⅳ



(山川出版社『現代の歴史総合 みる・読みとく・考える』より)

問10 第二次世界大戦開戦までのドイツの動向について、次のⅠ～Ⅲの出来事を年代の古い順に並べたものとして正しいものを下の中から1つ選び、記号で答えよ。

- Ⅰ チェコスロヴァキアを解体した。
- Ⅱ 独ソ不可侵条約を結んだ。
- Ⅲ ヒトラーは「民族自決」を掲げ、オーストリアを併合した。

- ア. Ⅰ→Ⅱ→Ⅲ イ. Ⅰ→Ⅲ→Ⅱ ウ. Ⅱ→Ⅰ→Ⅲ
エ. Ⅱ→Ⅲ→Ⅰ オ. Ⅲ→Ⅰ→Ⅱ カ. Ⅲ→Ⅱ→Ⅰ

問11 次の表は1900～1991年までの先進国の平均経済成長率を示したものである。表中のP、Q、Rにあてはまる国の組合せとして正しいものを下の中から1つ選び、記号で答えよ。

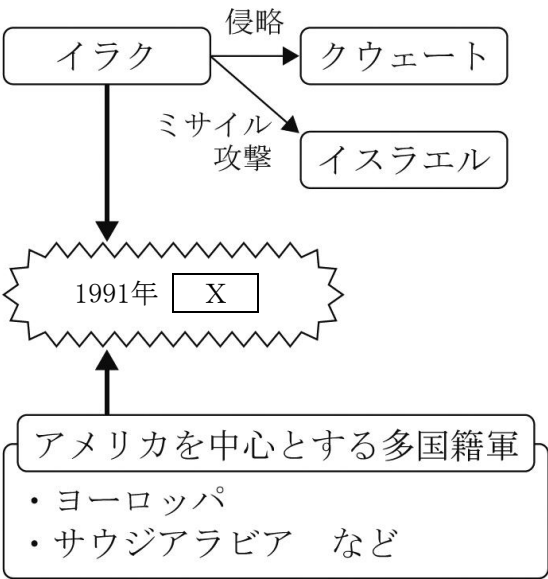
表

国 \ 期間(年)	1900～1913	1913～1950	1950～1973	1973～1987	1987～1991
P	4.0	2.8	3.7	2.5	1.9
Q	2.5	1.8	9.3	3.7	4.9
R	3.0	1.3	5.9	1.8	3.7

単位：％
(山川出版社『詳説世界史』より)

- ア. P－アメリカ Q－西ドイツ R－日本
イ. P－アメリカ Q－日本 R－西ドイツ
ウ. P－日本 Q－西ドイツ R－アメリカ
エ. P－西ドイツ Q－アメリカ R－日本

問12 次の図中の X にあてはまる戦争の名称を答えよ。



高 校 世界史	受験 番号		氏名	
------------	----------	--	----	--

令和8年度長崎県公立学校教員採用選考試験解答用紙

1

5点（各1点）

問1	インダス文明	問2	マルコ＝ポーロ
問3	エ	問4	ナポレオン（ナポレオン1世）
問5	ア		

2

5点（各1点）

問1	イ
問2	ウ
問3	ウ
問4	イ
問5	ア

高 校 世界史	受験 番号		氏名	
------------	----------	--	----	--

令和8年度長崎県公立学校教員採用選考試験解答用紙

3

5点（各1点）

問1	ウ
問2	ア
問3	ウ
問4	エ
問5	イ

4

5点（各1点）

問1	ウ
問2	ウ
問3	ア
問4	エ
問5	ウ

高 校 世界史	受験 番号		氏名	
------------	----------	--	----	--

令和8年度長崎県公立学校教員採用選考試験解答用紙

5

20点（問7 6点、問11 4点、その他 各1点）

問1	復讐法（の原則）	問2	ウ
問3	イ	問4	エ
問5	イ	問6	エ
問7	官位を九つの品に分類し、地方におかれた中正官が人材を推薦する制度。その結果、有力な豪族が高級官職を独占し貴族が形成された。		
問8	イ	問9	ウ
問10	イ		
問11	622年メッカからメディナへ移住した。このことをヒジュラという。		
問12	エ		

高 校 世界史	受験 番号		氏名	
------------	----------	--	----	--

令和8年度長崎県公立学校教員採用選考試験解答用紙

6

20点（問2 6点、問6 4点、その他 各1点）

問 1	エ		
問 2	政治的には、ビザンツ皇帝に対抗するため、レオ 3 世は帝冠を与え西ローマ帝国の復活を示すことができた。また文化的には、ローマ文化、キリスト教、ゲルマン人が融合した西ヨーロッパ中世世界が誕生した。宗教的には、ローマ＝カトリック教会はビザンツ皇帝への従属から独立した。		
問 3	イ	問 4	ウ
問 5	ウ		
問 6	高位聖職者や大貴族だけではなく、各地の騎士や市民、下位聖職者の代表を招集しその後の議会の模範となったため。		
問 7	エ	問 8	澶淵の盟
問 9	ウ	問10	永楽帝
問11	イ	問12	エ

高 校 世界史	受験 番号		氏名	
------------	----------	--	----	--

令和8年度長崎県公立学校教員採用選考試験解答用紙

7

20点（問5 問6 問7 問8 問10 各2点、問9 6点、その他 各1点）

問1	エ	問2	ア
問3	ウ	問4	イ
問5	イ	問6	ウ
問7	ア	問8	ウ
問9	1861年にアレクサンドル2世が農奴に人格的自由を認めたもの。ただし、農民は土地を貴族領主から買い戻す必要があった。		
問10	カ		

高 校 世界史	受験 番号		氏名	
------------	----------	--	----	--

令和8年度長崎県公立学校教員採用選考試験解答用紙

8

20点（問4 4点、問8 6点、その他 各1点）

問 1	イ	問 2	奴隷解放宣言
問 3	ア		
問 4	東インド会社は、清からイギリスへの茶の輸出が増大し、銀が流出したことをイギリス本国に批判された。そこでインド産の綿花、ついでアヘンを輸出した。		
問 5	イ	問 6	エ
問 7	イ		
問 8	ラインラントの非武装化が再確認され、翌年ドイツは国際連盟に加入し、ヨーロッパの国際協調に繋がった。		
問 9	塩の行進	問10	オ
問11	イ	問12	湾岸戦争