

| |
|-------------------------------|
| 令和8年度長崎県公立学校 教員採用選考第1次試験問題 |
|-------------------------------|

| |
|-------|
| 教科・科目 |
|-------|

| |
|--------|
| 高校 日本史 |
|--------|

| | | | |
|------|--|----|--|
| 受験番号 | | 氏名 | |
|------|--|----|--|

実施日 令和7年5月11日（日）

令和8年度長崎県公立学校教員採用選考試験

高校日本史

※解答はすべて解答用紙の該当欄に記入すること。

※漢字で書くべき人名・用語は漢字で正確に記入すること。

1 以下の各問いに答えよ。

問1 古代文明のうち、モエンジョ＝ダーロやハラッパーなどの都市遺跡に代表される文明の名称を答えよ。

問2 次の資料はある人物の見聞をまとめた文章の一部で、日本の情報に関するものである。ある人物とは誰か。

資料

ジパングは東方の島で、大洋の中にある。大陸から1500マイルはなれた大きな島で、住民は肌の色が白く礼儀正しい。また、偶像崇拜者である。島では、金が見つかるので、かれらは限りなく金を所有している。しかし大陸からあまりにはなれているので、この島に向かう商人はほとんどおらず、そのため法外の量の金であふれている。

(東京書籍『新しい社会 歴史』より)

問3 次の資料はルネサンス期に描かれたものの一部である。この資料の作者として正しいものを下の中から1つ選び、記号で答えよ。

資料



(東京書籍『新しい社会 歴史』より)

- ア. レオナルド・ダ・ビンチ
- イ. ボッティチェリ
- ウ. ミケランジェロ
- エ. ラファエロ

問4 次の文章中の空欄 P に入る人物名を答えよ。

フランスでは1804年に P が民法典を制定して人権宣言の理想を法制化し、フランス社会の近代化を進めた。

問5 次の文を年代の古い順に並べたときに、3番目にくるものを1つ選び、記号で答えよ。

- ア. 世界的な経済不況に対応するため、初の先進国首脳会議が開催された。
- イ. インドネシアのバンドンで開かれた会議で植民地支配から独立した国々が平和共存を訴えた。
- ウ. キューバでのミサイル基地建設を巡り米ソ間の緊張が極度に高まった。
- エ. イラクのサダム＝フセインがイランを攻撃してイラン＝イラク戦争が始まった。

2

以下の各問いに答えよ。

問1 8世紀の出来事に関して述べた次の文について、年代の古い順に正しく配列したものを下の中から1つ選び、記号で答えよ。

- I 藤原仲麻呂（恵美押勝）は、道鏡と対立して反乱をおこし敗死した。
- II 武蔵国から銅が献上されたことをきっかけに、和同開珎が発行された。
- III 藤原不比等の4人の子は不比等の娘の光明子を皇后にすることに成功した。
- IV 舎人親王が中心となって編纂した『日本書紀』が完成した。

- ア. II－III－IV－I イ. II－IV－III－I
 ウ. IV－II－I－III エ. IV－III－I－II

問2 13～14世紀の出来事に関して述べた次の文のうち、正しいものの組合せを下の中から1つ選び、記号で答えよ。

- I 承久の乱後、執権北条時政は、有力な御家人や政務にすぐれた者を引付衆に選んで、幕府の政務処理や裁判に関わらせ、合議制に基づく政治を展開した。
- II 地頭の支配権拡大に苦慮した荘園・公領の領主たちには、幕府に地頭の年貢未納などを訴える者もいたが地頭の行動を阻止することは難しく、現地を地頭と折半し、相互の支配権を認めあう取決めをおこなうこともあった。
- III 文永の役後、幕府は元の再度の襲来に備えて、博多湾岸など九州の要地を御家人に警備させる異国警固番役を強化するとともに、博多湾沿いに石造の防塁を構築した。
- IV 得宗専制政治の強化に対する御家人の不満が募る中、後醍醐天皇の呼びかけに応じて新田義貞が幕府に背いて六波羅探題を攻め落とすなど反幕府の動きが広がり、14世紀前半に鎌倉幕府は滅びた。

- ア. I・III イ. I・IV ウ. II・III エ. II・IV

問3 江戸時代の農村の生活や税負担に関して述べた文として、正しいものを次の中から1つ選び、記号で答えよ。

- ア. 近世の村は、名主・地頭・百姓代からなる村方三役を中心とする本百姓によって運営され、田植え・稲刈りなどの農繁期には結などとよばれる共同作業が行われた。
- イ. 収益性の高い商品作物栽培のための肥料として、自給的な下肥のほか、草木灰・刈敷などの金肥の使用が広まった。
- ウ. 本百姓の負担は、石高の40～50%を米穀などで納めた本途物成のほか、河川の土木工事での夫役労働などの国役、街道近辺の村で公用交通に人足や馬を差し出す伝馬役などがあった。
- エ. 幕藩体制を確立した将軍家光の代には、田畑の売買に制限を加えた田畑永代売買の禁令や、分割相続による田畑の細分化を防いだ分地制限令など、農民の生活に関する規制法令が相次いで出された。

問4 明治時代の文化に関連して、この時期に設立された**西洋美術団体の名称**とその**創立者**の組合せとして正しいものを、下の中から1つ選び、記号で答えよ。

西洋美術団体の名称

| | |
|-------|---------|
| X 白馬会 | Y 日本美術院 |
|-------|---------|

創立者

| | | | |
|-------|--------|--------|--------|
| a 浅井忠 | b 黒田清輝 | c 狩野芳崖 | d 横山大観 |
|-------|--------|--------|--------|

ア. X－a イ. X－b ウ. Y－c エ. Y－d

問5 次の**史料**は、1972年に、日本がある国と取り決めた内容である。史料中の空欄aに入る語句として、正しいものを下の中から1つ選び、記号で答えよ。

史料

| |
|--|
| 二、日本国政府は、中華人民共和国政府が中国の唯一の合法政府であることを承認する。 三、中華人民共和国政府は、台湾が中華人民共和国の領土の不可分の一部であることを重ねて表明する。日本国政府は、この中華人民共和国の立場を十分理解し、尊重し、 a 第八項に基づく立場を堅持する。 <div style="text-align: right;">（日本外交主要文書・年表）</div> |
|--|

ア. ポツダム宣言 イ. 日中共同声明 ウ. ヤルタ協定 エ. 日中平和友好条約

3

以下の各問いに答えよ。

- 問1 次の表は、1990年から2019年までの京浜、阪神、中京、北九州工業地帯、関東内陸、瀬戸内工業地域の製造品出荷額（億円）の推移を示したものである。A～Dの組合せとして正しいものを、下の中から1つ選び、記号で答えよ。

表

| | 1990年 | 2000年 | 2010年 | 2019年 |
|---------|---------|---------|---------|---------|
| A | 515,908 | 402,530 | 257,710 | 252,929 |
| B | 445,033 | 427,472 | 481,440 | 589,550 |
| C | 405,725 | 325,518 | 301,386 | 336,597 |
| 北九州工業地帯 | 77,793 | 74,264 | 82,491 | 99,760 |
| 瀬戸内工業地域 | 266,875 | 242,029 | 292,784 | 311,899 |
| D | 336,323 | 304,815 | 290,180 | 320,161 |

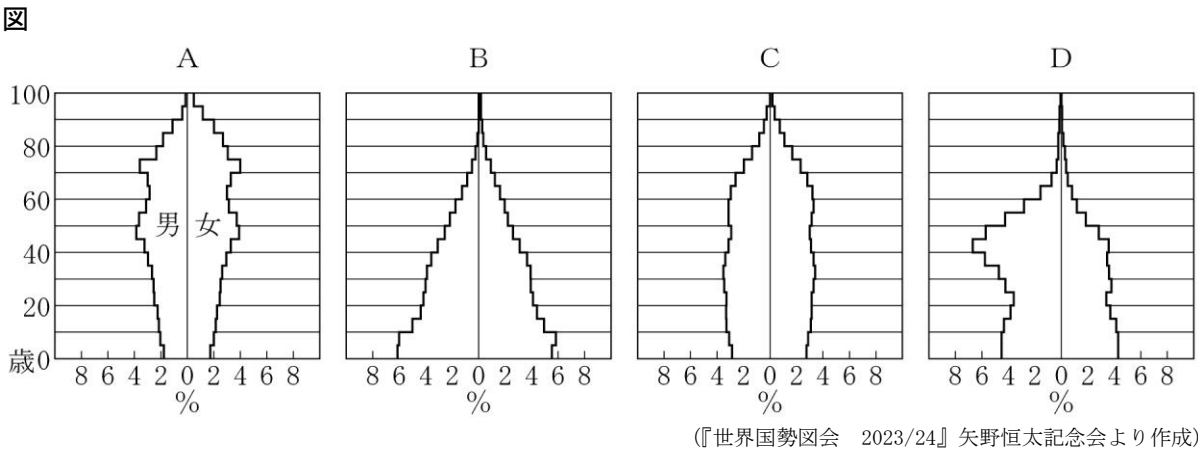
(『日本国勢図会 2023/24』矢野恒太記念会より作成)

| | A | B | C | D |
|---|----|----|------|------|
| ア | 京浜 | 中京 | 関東内陸 | 阪神 |
| イ | 中京 | 阪神 | 京浜 | 関東内陸 |
| ウ | 京浜 | 中京 | 阪神 | 関東内陸 |
| エ | 中京 | 阪神 | 関東内陸 | 京浜 |

- 問2 観光のグローバル化と多様化に関する記述のうち正しいものを、次の中から1つ選び、記号で答えよ。

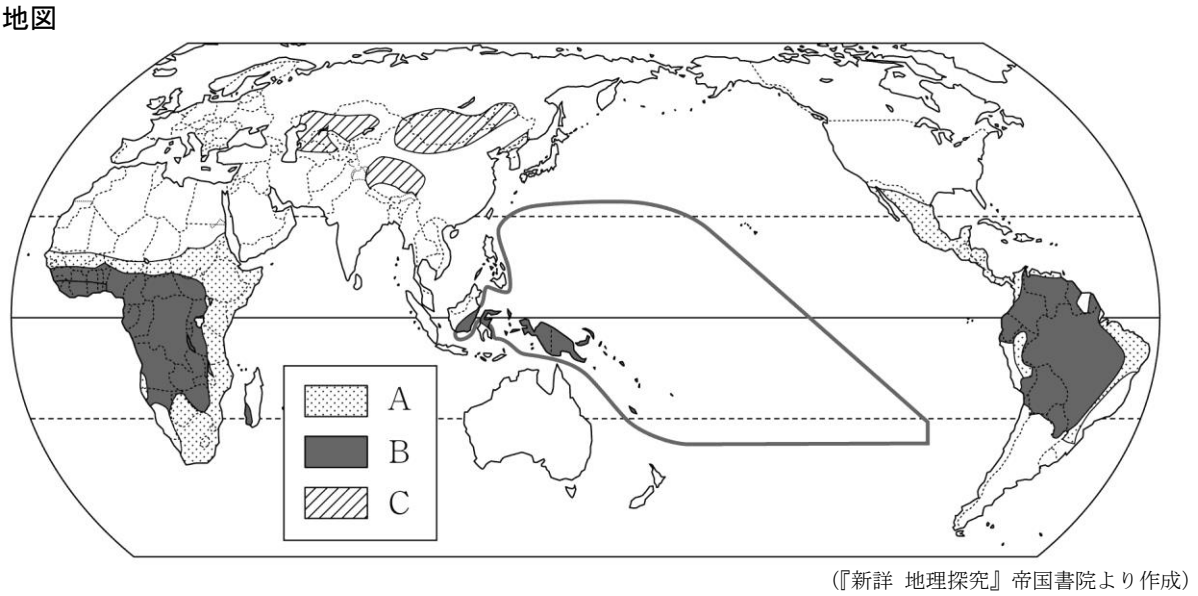
- ア. 国際観光は、距離が近く、経済的な結びつきの強い国や地域、先進国間で活発な傾向にある。
 イ. 日本は、1960年代は国際観光収入が支出を上回っていたが、2010年代以降は国際観光支出が収入を上回っている。
 ウ. 近年、持続可能な環境保全への理解を深めるために体験しながら学ぶグリーンツーリズムがさかんである。
 エ. ヨーロッパでは、毎年夏に地中海沿岸の南フランス、イタリアなどからイギリスやドイツなどの保養地に長期間滞在する保養型の観光の需要が大きい。

問3 次の図は、2021年のサウジアラビア、エジプト、日本、アメリカの人口ピラミッドを示したものである。A～Dの組合せとして正しいものを、下の中から1つ選び、記号で答えよ。



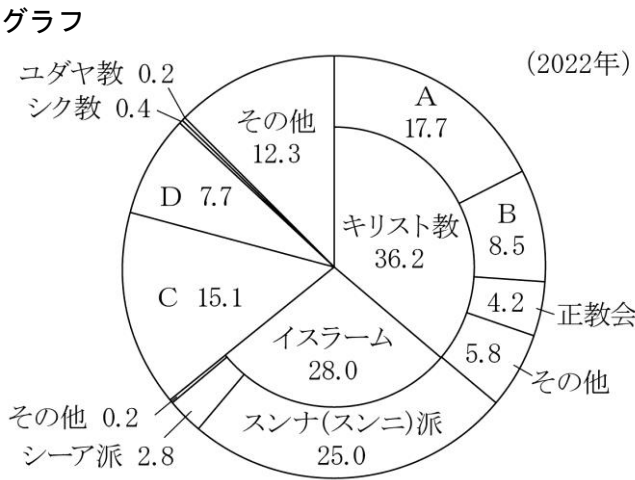
| | A | B | C | D |
|---|------|---------|------|---------|
| ア | 日本 | サウジアラビア | アメリカ | エジプト |
| イ | アメリカ | エジプト | 日本 | サウジアラビア |
| ウ | 日本 | エジプト | アメリカ | サウジアラビア |
| エ | アメリカ | サウジアラビア | 日本 | エジプト |

問4 次の地図は、世界の主食となる食べ物を示したもので、A～Cは、肉と乳、いも類、とうもろこしのいずれかである。A～Cの組合せとして正しいものを、下の中から1つ選び、記号で答えよ。



| | A | B | C |
|---|--------|--------|--------|
| ア | いも類 | とうもろこし | 肉と乳 |
| イ | とうもろこし | 肉と乳 | いも類 |
| ウ | いも類 | 肉と乳 | とうもろこし |
| エ | とうもろこし | いも類 | 肉と乳 |

問5 次のグラフは、世界の宗教（宗派）別人口の割合（％）を示したもので、A～Dは、ヒンドゥー教、仏教、カトリック、プロテスタントのいずれかである。A～Dの組合せとして正しいものを、下の中から1つ選び、記号で答えよ。



(『データブック オブ・ザ・ワールド 2024年版』二宮書店より作成)

| | A | B | C | D |
|---|---------|---------|--------|--------|
| ア | プロテスタント | カトリック | 仏教 | ヒンドゥー教 |
| イ | カトリック | プロテスタント | ヒンドゥー教 | 仏教 |
| ウ | プロテスタント | カトリック | ヒンドゥー教 | 仏教 |
| エ | カトリック | プロテスタント | 仏教 | ヒンドゥー教 |

4

以下の各問いに答えよ。

問1 次の文章を読んで、（Ⅰ）、（Ⅱ）に適する語句の組合せとして正しいものを下の中から1つ選び、記号で答えよ。

【文章】1968年に制定された消費者保護基本法は、2004年に消費者の自立支援を基本理念とする（Ⅰ）に改正された。具体的な消費者支援制度として、契約自由の原則の例外である（Ⅱ）がある。（Ⅱ）により、消費者が製造業者の過失（欠陥への認識など）を証明しなくても、賠償を請求できるようになった。

- ア. Ⅰ－消費者基本法 Ⅱ－クーリング・オフ制度
 イ. Ⅰ－消費者契約法 Ⅱ－クーリング・オフ制度
 ウ. Ⅰ－消費者基本法 Ⅱ－製造物責任法（PL法）
 エ. Ⅰ－消費者契約法 Ⅱ－製造物責任法（PL法）

問2 次の文章を読んで、（Ⅰ）、（Ⅱ）に適する語句の組合せとして正しいものを下の中から1つ選び、記号で答えよ。

【文章】情報通信技術（ICT）の発展とともに、（Ⅰ）と呼ばれるICTと金融の融合が進み、スマートフォンなどを使った支払い方法が普及しつつある。これらは従来の金融機関ではなく、ICT企業によって開発・提供されるものが多い。金融機関は中央銀行としての日本銀行や、（Ⅱ）のゆうちょ銀行など多くの種類が存在している。

- ア. Ⅰ－クラウドファンディング Ⅱ－公的金融機関
 イ. Ⅰ－フィンテック Ⅱ－公的金融機関
 ウ. Ⅰ－フィンテック Ⅱ－民間金融機関
 エ. Ⅰ－クラウドファンディング Ⅱ－民間金融機関

問3 次のⅠ、Ⅱの公共料金は、下の表の①～④のどこに分類されるか、組合せとして正しいものを下の中から1つ選び、記号で答えよ。

- Ⅰ. 電気料金
 Ⅱ. 公営水道料金

【表】

| | |
|----------------|---|
| 国が決定するもの | ① |
| 国が認可や上限を認可するもの | ② |
| 国に届け出るもの | ③ |
| 地方公共団体が決定するもの | ④ |

- ア. Ⅰ－② Ⅱ－④ イ. Ⅰ－② Ⅱ－③
 ウ. Ⅰ－① Ⅱ－③ エ. Ⅰ－① Ⅱ－④

問4 次の公害・環境問題関連の年表中（Ⅰ）、（Ⅱ）に適する語句の組合せとして正しいものを下の中から1つ選び、記号で答えよ。

【年表】

| 年 | できごと |
|------|---------------|
| 1890 | 足尾銅山の鉱毒被害が拡大 |
| 1992 | 国連環境開発会議開催 |
| 1993 | （Ⅰ）の制定 |
| 1997 | 地球温暖化防止京都会議開催 |
| 2001 | （Ⅱ）の設置 |
| 2003 | 環境教育推進法制定 |

- ア. Ⅰ－公害対策基本法 Ⅱ－環境省
 イ. Ⅰ－環境基本法 Ⅱ－環境庁
 ウ. Ⅰ－公害対策基本法 Ⅱ－環境庁
 エ. Ⅰ－環境基本法 Ⅱ－環境省

問5 次の表は、主要国（日本、ドイツ、フランス、アメリカ、イギリス）における直接税と間接税の直間比率（国税＋地方税）の比較を示したものである。表中のⅠ～Ⅲのうち日本とアメリカに適するものの組合せとして正しいものを下の中から1つ選び、記号で答えよ。

【表】

| Ⅰ | Ⅱ | イギリス | Ⅲ | フランス |
|---------|---------|---------|---------|---------|
| 66 : 34 | 78 : 22 | 59 : 41 | 55 : 45 | 55 : 45 |

（注）日本は令和3年度（2021年度）実績額。諸外国はOECD “Revenue Statistics 1965-2022” による2021年の計数（ドイツは推計値）。

OECD “Revenue Statistics” の区分に従って作成しており、所得課税、給与労働力課税及び資産課税のうち流通課税を除いたものを直接税、それ以外の消費課税等を間接税等とし、両者の比率を直間比率として計算している。

- ア. 日本－Ⅰ アメリカ－Ⅲ
 イ. 日本－Ⅲ アメリカ－Ⅱ
 ウ. 日本－Ⅰ アメリカ－Ⅱ
 エ. 日本－Ⅲ アメリカ－Ⅰ

5

博物館の各展示室を見学した高校生はそこで掲げられたテーマについて学んで思考を深めていった。以下の問いに答えよ。

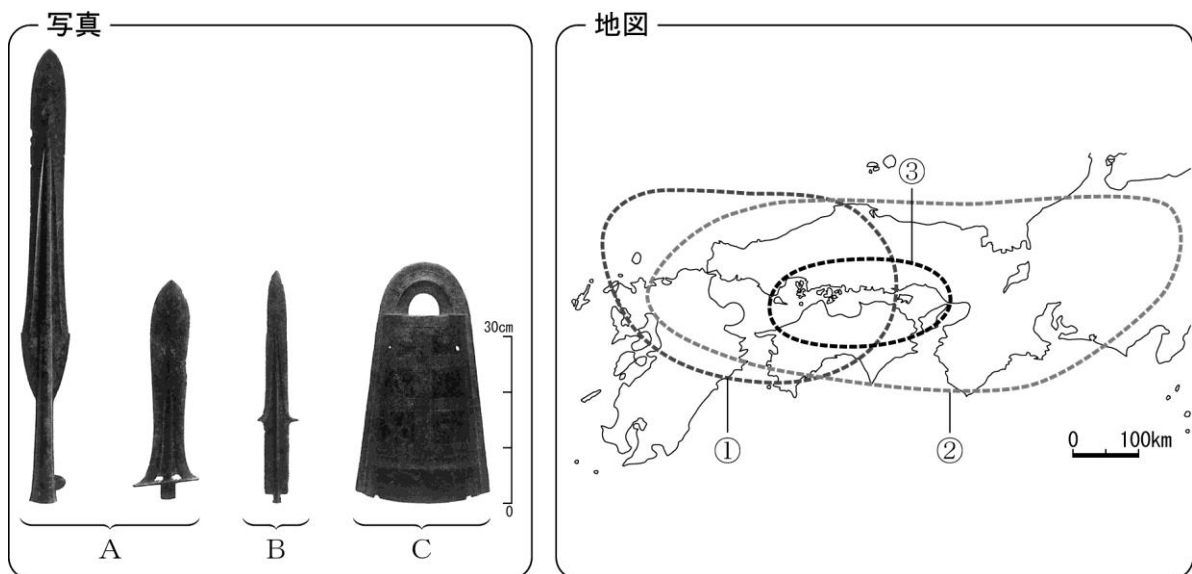
【弥生時代展示室：テーマ「農業と環境」「葬制と地域性」】

問1 弥生時代の社会に関して述べた文として正しいものの組合せを下の中から1つ選び、記号で答えよ。

- a 収穫物は須恵器に貯蔵され、高床倉庫におさめられた。
- b 稲の収穫には石包丁、脱穀には木臼や堅杵が使用された。
- c 死者は共同墓地に埋葬され、埋葬方法では伸展葬が多くみられた。
- d 関東地方では地上に大石を配した甕棺墓が多くみられた。

ア. a・c イ. a・d ウ. b・c エ. b・d

問2 次の写真^①は弥生時代中期の青銅製祭器であり、地図^②はこれらが出土する分布を示したものである。それぞれの青銅製祭器と地図上の分布の組合せとして正しいものを下の中から1つ選び、記号で答えよ。



資料の出典：『詳説日本史』（山川出版社）

- ア. A－① B－② C－③
- イ. A－① B－③ C－②
- ウ. A－② B－① C－③
- エ. A－② B－③ C－①

【古代の外交展示室：テーマ「唐・新羅・渤海と日本」】

問3 次の史料や図を見て8世紀前半における日本は唐・新羅それぞれについてどのような外交関係を保持していたか、40字以内で答えよ。その際、下の語句を必ず使用し、解答文中で用いた語句には下線をつけて明示すること。

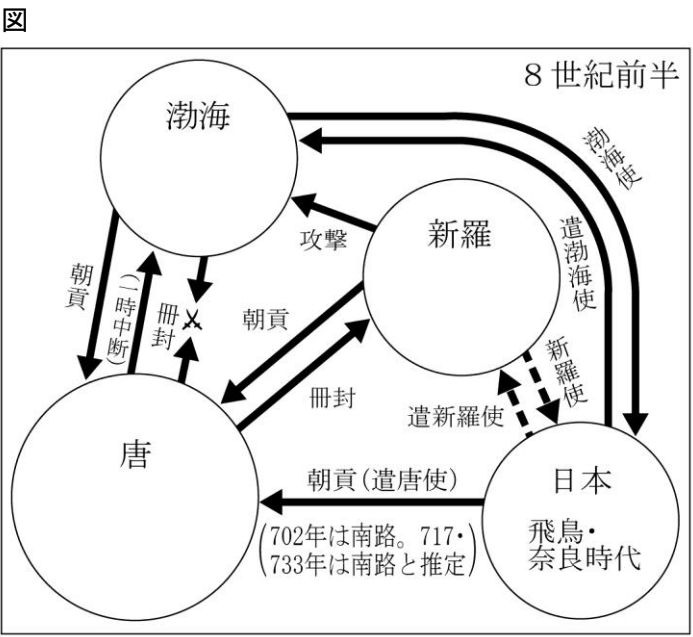
史料

(701年元日)天皇、大極殿に御しまして朝を受けたまふ。その儀、正門に鳥形の幡^{はた}を樹つ。左は日像・青龍・朱雀の幡、右は月像・玄武・白虎の幡なり。蕃夷の使者、左右に陳列す。文物の儀、是に備れり。『続日本紀』

史料

「隣国と蕃国の違いは何か。隣国は唐である。蕃国は新羅である。」『令集解』公式令の注釈部分

| 8世紀前半の東アジア | |
|------------|---|
| 年 | 出来事 |
| 701 | 日本の正月朝賀に新羅使参列 |
| 702 | 日本、第8回遣唐使(新羅、720年頃まで来日が減り、唐への朝貢増加) |
| 713 | 唐、渤海を冊封 |
| 717 | 日本、第9回遣唐使 |
| 727 | 初めて渤海使が来日 |
| 732 | 渤海、唐を攻撃 |
| 733 | 唐、新羅に渤海討伐を命じる |
| | 日本、第10回遣唐使 |
| 735 | 渤海、唐に謝罪し朝貢再開 |
| 743 | 新羅使が日本に「調(貢献物)」ではなく「土毛(土地の産物)」という語を用いたため帰国させる |

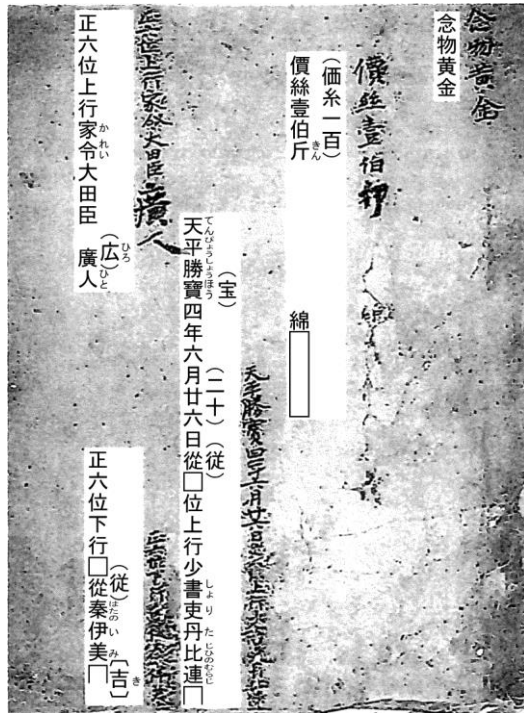


語句

臣従 従属

- 問4 次の史料は、貴族が新羅使の持参した品物(香料、薬物、染料)を購入するための申請書である。
- 3行目にある天平勝宝四年は752年を示す。この年は国内の仏教史上重要な事象のおこった年であり、この史料が作成された背景にはその事象も関係している可能性がある。その国内の仏教史上重要な事象として正しいものを下の中から1つ選び、記号で答えよ。

史料

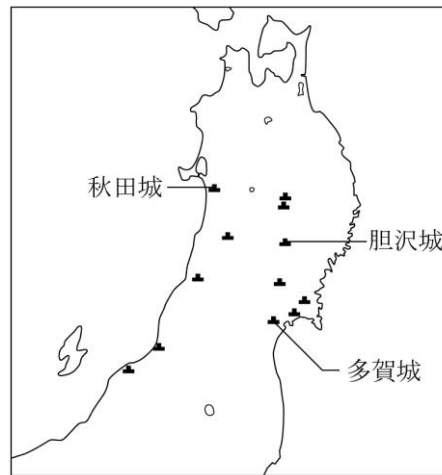


史料の出典：『新詳日本史』（浜島書店）

- ア．東大寺大仏開眼供養が行われた。
- イ．国分寺建立の詔が出された。
- ウ．聖武天皇の遺品が正倉院におさめられた。
- エ．唐招提寺が建立された。

【展示室 テーマ「古代の東北と九州」】
 【古代の東北と九州展示室：テーマ「蝦夷・城柵と隼人」】

地図



地図の出典：『詳説日本史』（山川出版社）

問5 次の文章を読んで、以下の各問いに答えよ。

古代の東北地方は蝦夷を意識した施策が日本海側と太平洋側それぞれから行われた。7世紀半ばに日本海側に2つの柵が設けられ阿倍比羅夫が派遣された。8世紀前半には出羽国がおかれた。同じころ陸奥国府となる（a）が築かれた。8世紀後半には蝦夷の豪族の反乱で（a）を焼き払われる事態も生じた。9世紀前半には鎮守府は移された。

- （1）（a）に入る語句を地図中から選び答えよ。
 （2）9世紀前半には東北地方への派兵等の是非が貴族により議論されたが、当時の天皇の施策として正しいものを次の中から1つ選び、記号で答えよ。

- ア．健児の制度を採用した。 イ．蔵人頭を設けた。
 ウ．検非違使を設置した。 エ．弘仁格式を整備した。

問6 古代の九州南部に関して述べた次の文X・Yについて、その正誤の組合せとして正しいものを下の中から1つ選び、記号で答えよ。


- X 8世紀初めには薩摩国ついで肥前国が置かれた。
 Y 南九州の隼人は推古天皇の頃には服属した。

- ア．X－正 Y－正 イ．X－正 Y－誤
 ウ．X－誤 Y－正 エ．X－誤 Y－誤


【展示室 テーマ「古代の仏教美術」】

問7 次のⅠ～Ⅳの仏像について、年代の古い順に正しく配列したものを下の中から1つ選び、記号で答えよ。

Ⅰ



Ⅱ



Ⅲ




Ⅳ




ア. Ⅰ→Ⅱ→Ⅲ→Ⅳ イ. Ⅰ→Ⅲ→Ⅱ→Ⅳ ウ. Ⅲ→Ⅱ→Ⅳ→Ⅰ エ. Ⅲ→Ⅳ→Ⅱ→Ⅰ

問8 平安時代初期の文化遺産として、山地を切り開いて建立した室生寺金堂がある。これと同時期に製作された仏教絵画として正しいものを下の中から1つ選び、記号で答えよ。

ア.



イ.



ウ.




エ.



問9 次の図は1007（寛弘4）年にある貴族が吉野の金峯山に登って祭儀をおこない、法華経などを埋納した容器である。拡大した写真の「大日本国左大臣正二位藤原朝臣」という銘文の末尾には、この人物の名前が刻まれている。のちに後一条・後朱雀・後冷泉三代の天皇の外祖父として権勢をほこった人物の名前を書け。

図



6

次の先生と生徒の会話文を読み、以下の各問いに答えよ。

- 先生 今日の授業は、今まで学習した①中世の理解度を深めるため、②鎌倉時代と室町時代をいくつかのテーマで比較したいと思います。まずは「幕府の機構」というテーマで比較しましょう。生徒1さん、2つの幕府の共通点と相違点を説明してください。
- 生徒1 共通点は、③鎌倉幕府も室町幕府も侍所と政所があったことです。相違点は、将軍の補佐役が前者は④執権、後者は⑤管領だったことです。
- 先生 ありがとうございます。ただ、侍所の場合、形式的には共通していますが、その中身を見ると、異なる部分もありました。生徒2さん、どうでしょうか。
- 生徒2 確か鎌倉幕府と室町幕府の侍所は、長官の呼び名が違っていたような気がします。
- 先生 その通りです。鎌倉幕府は別当、室町幕府は所司と呼んでいました。この呼び名の違いの理由を調べてみると、鎌倉幕府と室町幕府の性質の相違点が読み取れるかもしれませんね。次は「外交」というテーマで比較しましょう。生徒2さん、中国との関係はどうでしたか。
- 生徒2 ⑥鎌倉幕府は中国の宋王朝と正式な国交を開いていませんでした。明の呼びかけを知った室町幕府の3代将軍足利義満は、⑦1401年に明に使者を派遣して国交を開きました。
- 生徒1 そして、⑧4代将軍足利義持は朝貢形式が不服だったから中断したけど、⑨6代将軍が再開したんですよ。
- 先生 朝貢形式の貿易は、滞在費・運搬費など全て明側が負担したため、日本側の利益が大きかったのです。しかし、幕府が衰退すると、貿易の実権は大内氏などに移り、16世紀半ばにその大内氏が滅亡すると、日明貿易も断絶してしまいました。ところで、朝鮮との関係はどうでしたか。
- 生徒1 鎌倉幕府と朝鮮の関係は、蒙古襲来の時の高麗のイメージがある程度です。でも、室町幕府は⑩日朝貿易に積極的に取り組んでいたと思います。日本は東アジアと強く結びついていたんですね。
- 先生 日本史と世界史を結びつけて理解することは、去年、学習した歴史総合と共通していますね。

- 問1 下線部①に関連して、史料Ⅰ～Ⅲで描かれた時代を古い順に正しく配列したものを下の中から1つ選び、記号で答えよ。

史料Ⅰ

六波羅殿の御一家の君達といひてしかば、花族も栄耀も面をむかへ肩をならぶる人なし。

史料Ⅱ

天下の政をとること五十七年、在位十四年、位を避るの後四十三年、意に任せ、法に拘らず、除目・叙位を行ひ給ふ。古今未だあらず。

史料Ⅲ


宇治殿ノ時、一ノ所ノ御領御領トノミ云テ、庄園諸国ニミチテ受領ノツトメタヘガタシナド云フ、キコシメシモチタリケルニコソ。

- ア. Ⅰ－Ⅱ－Ⅲ イ. Ⅰ－Ⅲ－Ⅱ ウ. Ⅱ－Ⅰ－Ⅲ
エ. Ⅱ－Ⅲ－Ⅰ オ. Ⅲ－Ⅰ－Ⅱ カ. Ⅲ－Ⅱ－Ⅰ

問2 下線部②に関連して、「武士同士のつながり」というテーマで2つの時代を比較した場合、どのような説明が可能になるか。結合の形態という視点から45字以内で書け。

問3 下線部③に関連して、次の図は、当時の武士の生活を描いたものである。ここで描かれた訓練を何というか、答えよ。

図



問4 下線部④について述べた文として正しいものを次の中から1つ選び、記号で答えよ。

- ア. 2代執権の北条義時は三浦泰村を滅ぼして、北条氏の地位を不動のものとした。
- イ. 3代執権の北条泰時は和田義盛を滅ぼして、その地位を固めた。
- ウ. 5代執権の北条時頼は藤原将軍に代わり、皇族将軍を迎えた。
- エ. 8代執権の北条時宗は平頼綱を滅ぼし、幕府の全権を握った。

問5 下線部⑤に就任できる一族の組合せとして正しいものを次の中から1つ選び、記号で答えよ。

- ア. 細川－山名－畠山
- イ. 細川－斯波－山名
- ウ. 細川－斯波－畠山
- エ. 細川－山名－斯波

問6 下線部⑥であっても、僧侶の往来などは盛んに行われていた。日本の僧侶で南宋に渡り、帰国後、『喫茶養生記』を著し、鎌倉新仏教を開いた人物名X・Yと、その説明a・bの組合せとして正しいものを下の中から1つ選び、記号で答えよ。

人物名

| | |
|------|------|
| X 栄西 | Y 日蓮 |
|------|------|

説明

- | |
|--|
| a この人物は、京都に建仁寺を開山し、公家や幕府の有力者の帰依を受けた。 b この人物は、山梨に久遠寺を開山し、他宗を激しく攻撃しながら布教を進めた。 |
|--|

- ア. X－a イ. X－b ウ. Y－a エ. Y－b

問7 下線部⑦の時に派遣された博多商人は誰か、答えよ。

問8 下線部⑧に関連して、次の図は、彼が活躍した時代に描かれた水墨画である。この図の作者は誰か、答えよ。

図



問9 下線部⑨は、幕府に反抗的な鎌倉公方を滅ぼした。この鎌倉公方は誰か、答えよ。

問10 下線部⑩の主な輸入品として正しいものを次の中から1つ選び、記号で答えよ。

ア. 陶磁器 イ. 木綿 ウ. 銅銭 エ. 生糸

7

次の文章を読み、以下の各問いに答えよ。

徳川家康以来の江戸幕府の対外政策を概観すると、国内や国外の政治の影響を受けながら対応にあたっていたことが分かる。1600年オランダ船が豊後に漂着すると、徳川家康は、①その船の同乗者を外交顧問とし、のちにオランダ・イギリスとの貿易も認めるなど、②海外との貿易を活発化させた。その後、江戸幕府は、幕藩体制が固まるにつれて、活発であった日本人の海外渡航や貿易に制限を加えた。島原・天草一揆後、③オランダ商館は長崎の出島に移され、貿易は許された。こうして日本はいわゆる鎖国の状態となり、以後の200年の間、長崎のオランダ商館、中国の民間商船や④朝鮮・琉球王国・アイヌ民族以外との交渉を閉ざすこととなった。その後、海外との貿易では⑤新井白石が、海舶互市新例を出し、長崎貿易に制限を加えた。

いわゆる鎖国のもとで西洋の学術や知識の吸収や研究は困難であったが、⑥徳川吉宗が将軍に就任すると、漢訳洋書の輸入制限をゆるめ、青木昆陽らにオランダ語を学ばせたことで、洋学はまず蘭学として発達した。吉宗の後、⑦田沼意次が幕府の政治を握ると、商人の力を利用しながら、幕府財政の改善がめざされる一方、蝦夷地の開発やロシアとの交易についても調査が行われた。田沼の失脚後、松平定信が老中に就くと、田沼時代の政策の多くを改め、⑧寛政の改革と呼ばれる改革政治を進め、国内外の危機に対応した。定信が老中辞任後、⑨11代将軍徳川家斉が約50年間にわたり実権を握った。

吉宗以降の政権担当者は、⑩幕府財政の再建など国内政治へ対応する一方、西洋諸国が徐々に日本周辺へ進出してきたことを踏まえ、それらの国の学問や技術の導入、対応に苦心することとなった。

問1 下線部①となったイギリス人をカタカナで答えよ。

問2 下線部②に関連して、幕府が設けた糸割符制度の背景や目的と制度の内容を75字以内で答えよ。

問3 下線部③までの鎖国に関する出来事について述べたⅠ～Ⅲを古い順に正しく配列したものを下の中から1つ選び、記号で答えよ。

- Ⅰ イギリス、平戸商館を閉鎖し退去。
- Ⅱ 幕府が全国に禁教令を発令。
- Ⅲ ポルトガル船の来航禁止。

- | | | |
|--------------|--------------|--------------|
| ア. Ⅰ - Ⅱ - Ⅲ | イ. Ⅰ - Ⅲ - Ⅱ | ウ. Ⅱ - Ⅰ - Ⅲ |
| エ. Ⅱ - Ⅲ - Ⅰ | オ. Ⅲ - Ⅰ - Ⅱ | カ. Ⅲ - Ⅱ - Ⅰ |

問4 下線部④との関わりについて述べた文として正しいものを次の中から1つ選び、記号で答えよ。

- ア. 対馬藩の尚氏と朝鮮の間で己酉条約が結ばれ、釜山に倭館が設置された。
- イ. アイヌは、将軍の代がわりごとに奉祝する慶賀使を幕府に派遣した。
- ウ. 徳川吉宗は、朝鮮から日本宛の国書を「日本国王」と記させた。
- エ. 琉球王国は、国王の代がわりごとにその就任に感謝する謝恩使を幕府に派遣した。

問5 下線部⑤が行った政策について述べた文として正しいものを次の中から1つ選び、記号で答えよ。

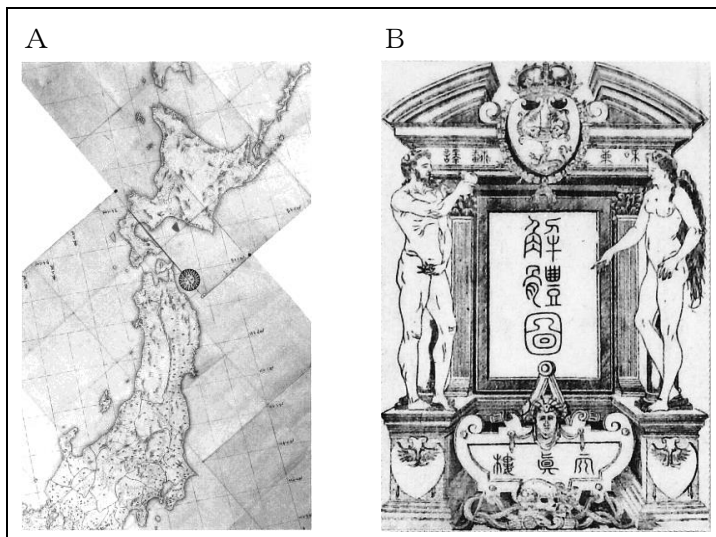
- ア. 復古派の公家たちと尊王論を説いた竹内式部を、閑白・武家伝奏らを軽んじたとして処分した。
 イ. 閑院宮家を創設し、将軍家継と2歳の皇女との婚約をまとめ、天皇家との結びつきを強化した。
 ウ. 後水尾天皇が届け出なく紫衣着用を勅許したことを問題にし、これに抗議した沢庵らを処罰した。
 エ. 霊元天皇の悲願であった大嘗会の再興など朝廷儀式のうちいくつかを復興させた。

問6 下線部⑥のような時期を背景に活躍した次の人物と、その人物に関する作品の組合せとして正しいものを下の中から1つ選び、記号で答えよ。

人物

| | | |
|--------|---------|----------|
| I 伊能忠敬 | II 緒方洪庵 | III 前野良沢 |
|--------|---------|----------|

作品



- ア. I - A イ. I - B ウ. II - A
 エ. II - B オ. III - A カ. III - B

問7 下線部⑦に関して、この当時発行された次の図について述べた文として正しいものの組合せを下の中から1つ選び、記号で答えよ。

図



- a. この銀貨8片をもって金2朱と引きかえることができた。
- b. この銀貨8片をもって1両小判と引きかえることができた。
- c. この政策により、計数貨幣である金貨を中心とする貨幣制度への一本化が試みられた。
- d. この政策により、秤量貨幣である銀貨を中心とする貨幣制度への一本化が試みられた。

ア. a・c イ. a・d ウ. b・c エ. b・d

問8 下線部⑧について、この時実施された政策について述べた文として正しいものを次の中から1つ選び、記号で答えよ。

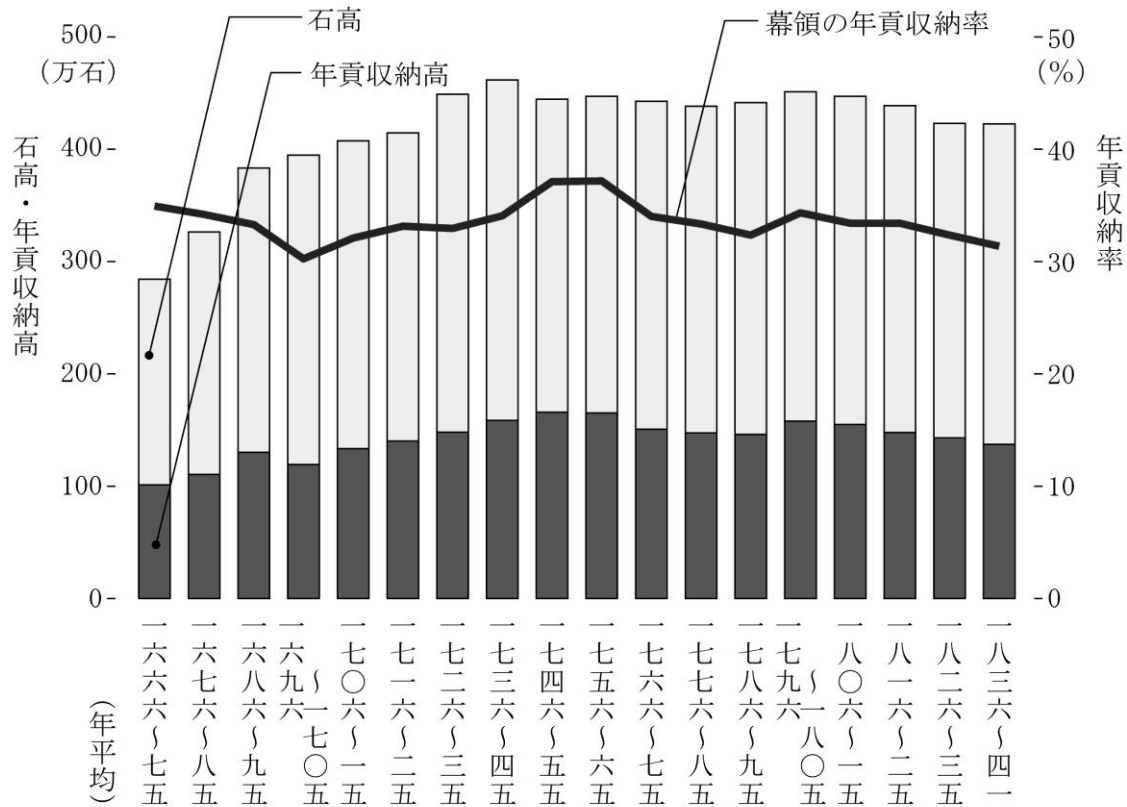
- ア. 町々に町費節約を命じ、節約分の7割を積み立てさせ、新たに設けた江戸町会所によってこれを運用させて、米・金を蓄え、飢饉・災害時に困窮した貧民の救済体制を整えた。
- イ. 江戸に、広小路・火除地などの防火施設を設け、定火消を中心としてきた消火制度を強化するために、江戸町方の町々を当初、「いろは」47組に編成し、町方独自の町火消を組織させた。
- ウ. 江戸を取り巻く関東の農村では博打が蔓延し、無宿人や博徒らによる治安の乱れも生じたため、幕府は関東取締出役を設けて犯罪者の取締りをおこなった。
- エ. 江戸の人別改めを強化し、百姓の出稼ぎを禁じて、江戸に流入した貧民を帰郷させる人返しの法を出し、飢饉で荒廃した農村の再建をはかった。

問9 下線部⑨の時期の文化について述べた文として正しいものを次の中から1つ選び、記号で答えよ。

- ア. 渋川春海が京都の土御門家へ入門のうえ、暦の誤差を修正して日本独自の暦である貞享暦をつくった。
- イ. 荻生徂徠は、政治・経済にも関心を示し『政談』で、都市の膨張をおさえることや武士の土着が必要であると説いて、統治の具体策を説く経世論に道を開いた。
- ウ. 海保青陵は『稽古談』で商売をいやしいものとする武士の見方を批判して、藩財政の再建は商品経済の発展がもたらす殖産興業によるべきと主張した。
- エ. 松尾芭蕉は、さび・かるみで示される幽玄閑寂の蕉風俳諧を確立し、『奥の細道』などの紀行文を著した。

問10 下線部⑩に関連して、次の資料は江戸時代の中頃から終わりにかけての幕領の石高と年貢の収納について表したものである。資料中の石高と年貢に関して述べた文X・Yの正誤の組合せとして正しいものを下の中から1つ選び、記号で答えよ。

資料



資料の出典：『詳説日本史』（山川出版社）

- X 石高・年貢収納高が最高に達した時期は、田沼意次が印旛沼・手賀沼の干拓工事を始め、新田開発を積極的に試みたからだと考えられる。
- Y 1786～95年の間に幕領の年貢収納率が減少しているのは、収穫が例年の半分以上の凶作となり、全国的な米不足をまねいた天保の飢饉が発生したからだと考えられる。

- ア. X - 正 Y - 正 イ. X - 正 Y - 誤
 ウ. X - 誤 Y - 正 エ. X - 誤 Y - 誤

8

あるクラスで、「女性の歴史」をテーマとして発表する授業が行われた。次のA～Cさんの発表原稿を見て、以下の各問いに答えよ。

Aさんの発表原稿

私は、明治時代は社会進出や政治参加を目指した女性が登場し始めた時代だと考えます。例えば①岩倉使節団の一行に留学生として参加した津田梅子は、アメリカ留学ののち、1900年に女子英学塾を設立します。また、政治の世界では、高知県で男女同権を訴えて婦人参政権を要求した楠瀬喜多や、岡山女子懇親会に参加して民権運動を展開した②景山（福田）英子が活躍します。私は今後、③明治時代に女性が置かれた立場や境遇について、調査を進めたいと思います。

問1 下線部①に加わった人物X・Yと著書a・bの組合せとして正しいものを下の中から1つ選び、記号で答えよ。

人物

| | | | |
|---|------|---|------|
| X | 中江兆民 | Y | 久米邦武 |
|---|------|---|------|

著書

| | | | |
|---|----------|---|--------|
| a | 『米欧回覧実記』 | b | 『自由之理』 |
|---|----------|---|--------|

ア. X - a イ. X - b ウ. Y - a エ. Y - b

問2 下線部②が、1885年に大井憲太郎とともに朝鮮の政権を打倒しようとして検挙された事件を何というか、答えよ。

問3 下線部③について、Aさんに対して教師が与える助言として、**適切でないもの**を次の中から1つ選び、記号で答えよ。

ア. 長野県の博物館や図書館に連絡をとって、製糸工場で働いた女性の労働条件について質問しよう。

イ. 衆議院の会議録を調べて、中等教育での男女共学の原則がなぜ実現したのか考察しよう。

ウ. 治安警察法の条文を確認して、女性の政治参加が認められていたかどうかを調べよう。

エ. 鹿鳴館で開かれた舞踏会を描いた絵を分析して、参加した女性が果たした役割について考えよう。

Bさんの発表原稿

私は多面的に女性の歴史を調べて、「歴史の光と影」を明らかにしたいと思います。20世紀に入ると、④一部の女性は社会の中で積極的に発言を行うようになります。また、第一次世界大戦が終結して⑤新しい国際秩序が形成されるなか、日本でも都市を中心に生活の洋風化や近代化が進み、「モガ」と呼ばれる女性が登場したそうです。一方、⑥日本経済が深刻な不況に陥ると、仕事を失う女性や、「身売り」によって本人が望まない職に就く女性もいました。また、1937年に日中戦争が勃発すると、女性も戦争協力を求められます。1941年に太平洋戦争が勃発し、1944年に⑦サイパン島が陥落した頃から、戦争に巻き込まれて亡くなる女性が増加します。

問4 下線部④に関連して、20世紀初めに女性によって発表された次の史料Ⅰ～Ⅲについて、その史料が発表された古い順に正しく配列したものを下の中から1つ選び、記号で答えよ。

史料Ⅰ

元始、女性は実に太陽であった。真正の人であった。今、女性は月である。他に依って生き、他の光によって輝く、病人のやうな蒼白い顔の月である。

史料Ⅱ

内、普選獲得の歴史に倣ひ外、婦選獲得の実績に鑑み、一致団結の力によつてその実現を一日も早からしむるよう努めねばならぬ。されば多くの婦人がその感情や宗教、思想の別を措いて、唯女性の名によつて協力すると共に目的を参政権獲得の唯一に限り、凡ての力をこゝに集注すべきである。

史料Ⅲ

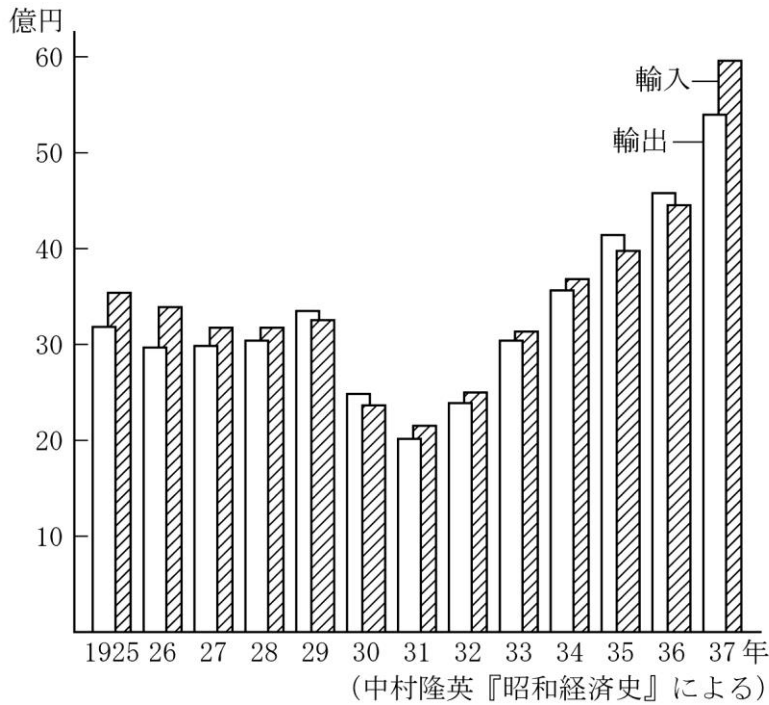
あゝをとうとよ君を泣く 君死にたまふことなかれ (中略) 旅順の城はほろぶとも ほろびずとても何事か

- | | | |
|--------------|--------------|--------------|
| ア. Ⅰ - Ⅱ - Ⅲ | イ. Ⅰ - Ⅲ - Ⅱ | ウ. Ⅱ - Ⅰ - Ⅲ |
| エ. Ⅱ - Ⅲ - Ⅰ | オ. Ⅲ - Ⅰ - Ⅱ | カ. Ⅲ - Ⅱ - Ⅰ |

問5 下線部⑤に関して、中国の領土と主権の尊重、中国における各国の経済上の門戸開放・機会均等を約束して1922年に結ばれた条約を何というか、答えよ。

問6 下線部⑥に関連して、次の資料Ⅰは1920年代から30年代にかけての輸出額・輸入額の推移を示したグラフである。グラフの中で最も急激に輸出額が減少している箇所に注目し、なぜこのような減少が起きたのかを100字以内で説明せよ。その際、下の語句を必ず使用し、解答文中で用いた語句には下線を用いて明示すること。

資料Ⅰ



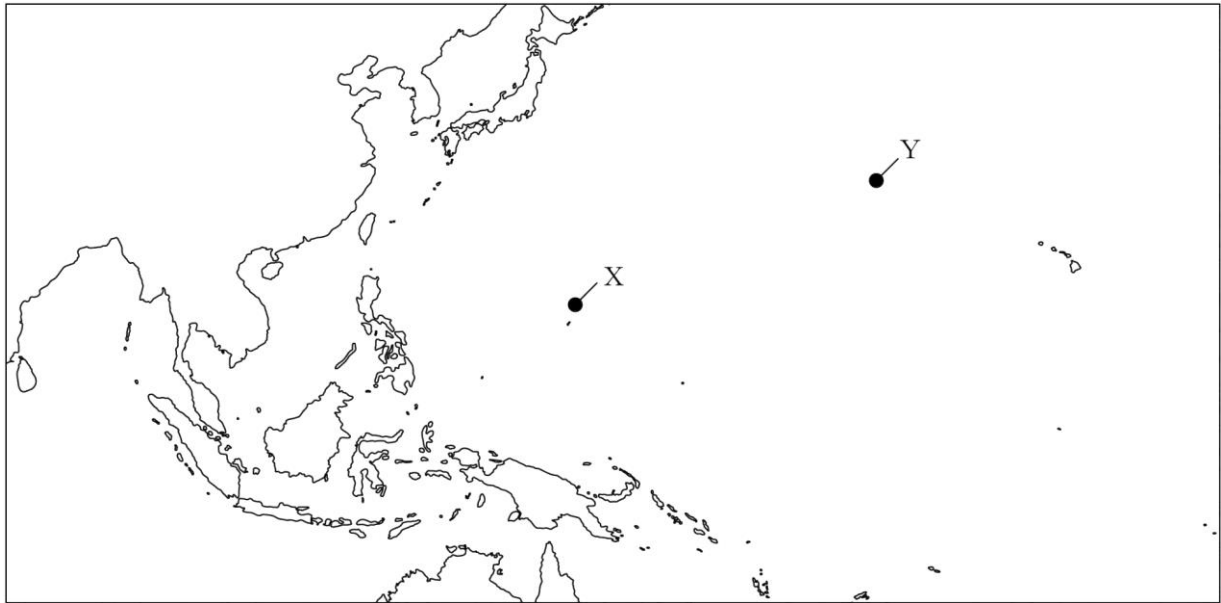
資料の出典：有馬学『日本の歴史 第23巻 帝国の昭和』（講談社）

語句

| | |
|-------|----|
| 井上準之助 | 生糸 |
|-------|----|

問7 下線部⑦に関連して、次の地図上のサイパン島を示すX・Yと、サイパン島での戦いに関する説明a・bの組合せとして正しいものを下の中から1つ選び、記号で答えよ。

地図



説明

- a この戦いの敗北によって「絶対国防圏」の一角が崩壊し、以後日本本土はこの島の基地から飛来するアメリカ軍機による激しい空襲にさらされた。
- b ひめゆり学徒隊や鉄血勤皇隊が結成され、島民を巻き込んだ激しい地上戦が展開されたが、軍民合わせて約18万人の死者を出して日本軍は敗北した。

ア. X - a イ. X - b ウ. Y - a エ. Y - b

Cさんの発表原稿

1950年代後半には、55年体制の成立や⑧ソ連との国交回復など、歴史的に重要なできごとがたくさんありました。そのなかでも私は、経済成長が女性の生活を大きく変えたのではないかと考えて調査を進め、⑨1957年につくられた電気洗濯機の広告を発見しました。私は、女性の生活の変化を考える上でこの広告はとても興味深いと感じます。今後は、1972年に田中角栄が発表した⑩「日本列島改造論」を、女性はどのように受け止めたのかを調べたいと思います。

問8 下線部⑧についてまとめた次のメモ中のX～Zに入る語句の組合せとして正しいものを下の中から1つ選び、記号で答えよ。

メモ

1956年、首相がソ連を訪問し、に調印した。その結果、が実現した。

- | | | | |
|----|----------|------------|-----------------|
| ア. | X - 鳩山一郎 | Y - 日ソ基本条約 | Z - 日本の国際連合加盟 |
| イ. | X - 鳩山一郎 | Y - 日ソ基本条約 | Z - 歯舞諸島・色丹島の返還 |
| ウ. | X - 鳩山一郎 | Y - 日ソ共同宣言 | Z - 日本の国際連合加盟 |
| エ. | X - 鳩山一郎 | Y - 日ソ共同宣言 | Z - 歯舞諸島・色丹島の返還 |
| オ. | X - 岸信介 | Y - 日ソ基本条約 | Z - 日本の国際連合加盟 |
| カ. | X - 岸信介 | Y - 日ソ基本条約 | Z - 歯舞諸島・色丹島の返還 |
| キ. | X - 岸信介 | Y - 日ソ共同宣言 | Z - 日本の国際連合加盟 |
| ク. | X - 岸信介 | Y - 日ソ共同宣言 | Z - 歯舞諸島・色丹島の返還 |

問9 下線部⑨に関連して、Cさんが発見した広告の中の宣伝文が、次の史料Ⅳである。史料Ⅳについて述べた下の文X・Yの正誤の組合せとして正しいものを下の中から1つ選び、記号で答えよ。

史料Ⅳ

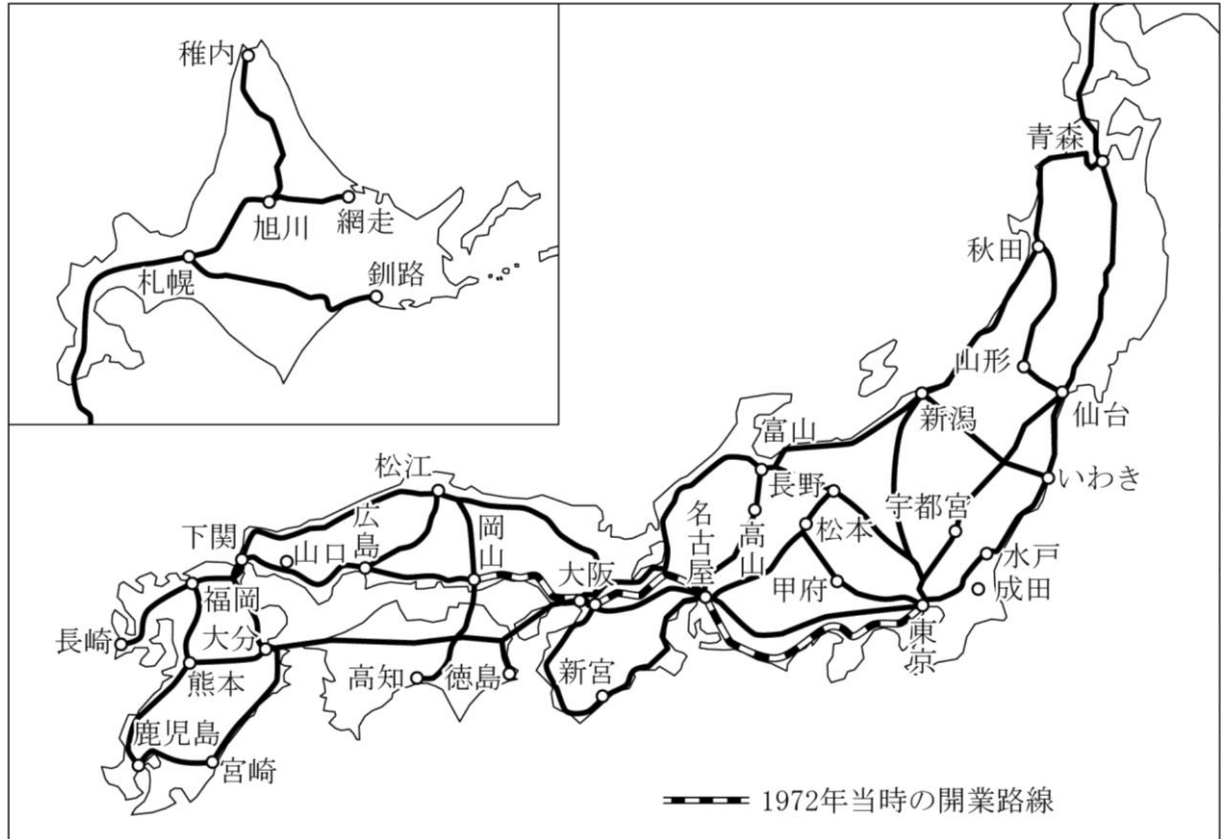
いま全国で洗たく機をご使用のご家庭の数は100軒に9台ということです。
 まだまだ、たくさんの奥さま方が、日々のお洗たくに、ご苦労なさっておられるわけでありまして。
 そこで、このたび皆さまのナショナルでは、「日本中すべてのご家庭に洗たく機を…」のねがいから、その名も“愛妻号”と名づけ、お使い下さる身になって、合理的に設計した素晴らしい性能、その上きっとご満足いただけるお値段の、新型を発売いたしました。

- X 史料Ⅳからは、いわゆる「三種の神器」の一つである電気洗濯機の各家庭の普及率が1/10に満たないことが読みとれる。
- Y 史料Ⅳで宣伝される電気洗濯機が発売された頃、日本では省エネ型のライフスタイルが追求されていた。

- | | | | | | |
|----|-------|-------|----|-------|-------|
| ア. | X - 正 | Y - 正 | イ. | X - 正 | Y - 誤 |
| ウ. | X - 誤 | Y - 正 | エ. | X - 誤 | Y - 誤 |

問10 下線部⑩に関連して、次の資料Ⅱは田中角栄が構想した全国の新幹線鉄道網の理想図である。田中が資料Ⅱに示される新幹線鉄道網を整備しようとした理由を、高度経済成長期に発生した社会問題に触れながら、60字以内で答えよ。その際、下の語句を必ず使用し、解答文中で用いた語句には下線を用いて明示すること。

資料Ⅱ



資料の出典：『高等学校 日本史探究』（清水書院）

語句

太平洋ベルト

| | | | | |
|------------|----------|--|----|--|
| 高 校 日本史 | 受験 番号 | | 氏名 | |
|------------|----------|--|----|--|

令和8年度長崎県公立学校教員採用選考試験解答用紙

1

5点（各1点）

| | | | |
|----|--------|----|----------------|
| 問1 | インダス文明 | 問2 | マルコ＝ポーロ |
| 問3 | エ | 問4 | ナポレオン（ナポレオン1世） |
| 問5 | ア | | |

2

5点（各1点）

| | |
|----|---|
| 問1 | イ |
| 問2 | ウ |
| 問3 | ウ |
| 問4 | イ |
| 問5 | ア |

| | | | | |
|------------|----------|--|----|--|
| 高 校 日本史 | 受験 番号 | | 氏名 | |
|------------|----------|--|----|--|

令和8年度長崎県公立学校教員採用選考試験解答用紙

3

5点（各1点）

| | |
|----|---|
| 問1 | ウ |
| 問2 | ア |
| 問3 | ウ |
| 問4 | エ |
| 問5 | イ |

4

5点（各1点）

| | |
|----|---|
| 問1 | ウ |
| 問2 | ウ |
| 問3 | ア |
| 問4 | エ |
| 問5 | ウ |

| | | | | |
|------------|----------|--|----|--|
| 高 校 日本史 | 受験 番号 | | 氏名 | |
|------------|----------|--|----|--|

令和8年度長崎県公立学校教員採用選考試験解答用紙

5

20点(問4 問5(1) 各1点、問3 4点、問1 問2 問5(2) 問6～問9 各2点)

| | | | | | | | | | | | | | | | |
|----|------|---|-----|---|---|---|---|-----|---|---|---|---|---|---|---|
| 問1 | ウ | | | | | | | | | | | | | | |
| 問2 | イ | | | | | | | | | | | | | | |
| 問3 | 日 | 本 | は | 、 | 唐 | に | は | 朝 | 貢 | し | 臣 | 従 | す | る | 一 |
| | 方 | 、 | 新 | 羅 | に | 対 | し | て | は | 従 | 属 | 国 | と | し | て |
| | 扱 | お | う | と | し | た | 。 | 37字 | | | | | | | |
| 問4 | ア | | | | | | | | | | | | | | |
| 問5 | (1) | a | 多賀城 | | | | | | | | | | | | |
| | (2) | ア | | | | | | | | | | | | | |
| 問6 | エ | | | | | | | | | | | | | | |
| 問7 | エ | | | | | | | | | | | | | | |
| 問8 | ア | | | | | | | | | | | | | | |
| 問9 | 藤原道長 | | | | | | | | | | | | | | |

| | | | | |
|------------|----------|--|----|--|
| 高 校 日本史 | 受験 番号 | | 氏名 | |
|------------|----------|--|----|--|

令和8年度長崎県公立学校教員採用選考試験解答用紙

6

20点（問1・4 各1点、問3・5～10 各2点、問2 4点）

| | | | | | | | | | | | | | | | |
|----|------|---|---|---|---|---|---|-----|----|---|---|---|---|-----|---|
| 問1 | カ | | | | | | | | | | | | | | |
| 問2 | 鎌 | 倉 | 時 | 代 | は | 血 | 縁 | 的 | 結 | 合 | が | 重 | 視 | さ | れ |
| | て | い | た | が | 、 | 室 | 町 | 時 | 代 | は | 地 | 縁 | 的 | 結 | 合 |
| | が | 重 | 視 | さ | れ | る | よ | う | に | な | っ | た | 。 | 43字 | |
| 問3 | 笠懸 | | | | | | | 問4 | ウ | | | | | | |
| 問5 | ウ | | | | | | | 問6 | ア | | | | | | |
| 問7 | 肥富 | | | | | | | 問8 | 如拙 | | | | | | |
| 問9 | 足利持氏 | | | | | | | 問10 | イ | | | | | | |

| | | | | |
|------------|----------|--|----|--|
| 高 校 日本史 | 受験 番号 | | 氏名 | |
|------------|----------|--|----|--|

令和8年度長崎県公立学校教員採用選考試験解答用紙

7

20点(問1 1点、問2 3点、問3～10 各2点)

| | | | | | | | | | | | | | | | |
|----|------------|---|---|---|---|---|---|-----|---|-----|-----|---|---|---|---|
| 問1 | ウィリアム＝アダムズ | | | | | | | | | | | | | | |
| 問2 | ポ | ル | ト | ガ | ル | 商 | 人 | が | 、 | 中 | 国 | 産 | の | 生 | 糸 |
| | を | 長 | 崎 | へ | 運 | び | 巨 | 利 | を | 得 | て | い | た | が | 、 |
| | 幕 | 府 | は | 糸 | 割 | 符 | 仲 | 間 | に | 輸 | 入 | 生 | 糸 | を | 一 |
| | 括 | 購 | 入 | さ | せ | 、 | ポ | ル | ト | ガ | ル | 商 | 人 | ら | の |
| | 利 | 益 | 独 | 占 | を | 排 | 除 | し | た | 。 | 70字 | | | | |
| | | | | | | | | | | | | | | | |
| | 別 | 解 | : | 中 | 国 | 産 | 生 | 糸 | で | 巨 | 利 | を | 得 | て | い |
| | た | ポ | ル | ト | ガ | ル | 商 | 人 | ら | の | 利 | 益 | 独 | 占 | を |
| | 排 | 除 | す | る | た | め | 、 | 幕 | 府 | は | 糸 | 割 | 符 | 仲 | 間 |
| | と | 呼 | ば | れ | る | 特 | 定 | の | 商 | 人 | ら | に | 輸 | 入 | 生 |
| 糸 | を | 一 | 括 | 購 | 入 | さ | せ | た | 。 | 67字 | | | | | |
| | | | | | | | | | | | | | | | |
| 問3 | ウ | | | | | | | 問4 | エ | | | | | | |
| 問5 | イ | | | | | | | 問6 | カ | | | | | | |
| 問7 | ウ | | | | | | | 問8 | ア | | | | | | |
| 問9 | ウ | | | | | | | 問10 | エ | | | | | | |

| | | | | |
|------------|----------|--|----|--|
| 高 校 日本史 | 受験 番号 | | 氏名 | |
|------------|----------|--|----|--|

令和8年度長崎県公立学校教員採用選考試験解答用紙

8

20点（問1・3 各1点、問2・4・5・7～9 各2点、問6・10 3点）

| | | | |
|-----|-------------------------------|------|------|
| 問1 | ウ | 問2 | 大阪事件 |
| 問3 | イ | 問4 | オ |
| 問5 | 九か国条約 | | |
| 問6 | 世 界 恐 慌 の 影 響 を 受 け て 、 日 本 産 | | |
| | 生 糸 の 主 要 な 輸 出 先 で あ っ た ア メ | | |
| | リ カ で 生 糸 の 消 費 が 激 減 し た こ と | | |
| | に 加 え 、 大 蔵 大 臣 の 井 上 準 之 助 が | | |
| | 旧 平 価 で の 金 輸 出 解 禁 を 断 行 し た | | |
| | こ と で 、 日 本 企 業 が 円 高 に よ る 輸 | | |
| | 出 不 振 に 陥 っ た た め 。 | 100字 | |
| 問7 | ア | 問8 | ウ |
| 問9 | イ | | |
| 問10 | 太 平 洋 ベ ル ト に 人 口 や 産 業 が 集 中 | | |
| | し て い た た め 、 高 速 鉄 道 網 で 都 市 | | |
| | と 地 方 を 結 び つ け 、 人 口 と 産 業 の | | |
| | 地 方 分 散 化 を は か ろ う と し た 。 | 59字 | |