

令和 8 年度長崎県公立学校 教員採用選考第 1 次試験問題
-----------------------------------

教科・科目
-------

中学 社会
-------

受験番号		氏名	
------	--	----	--

実施日 令和 7 年 5 月 1 1 日（日）

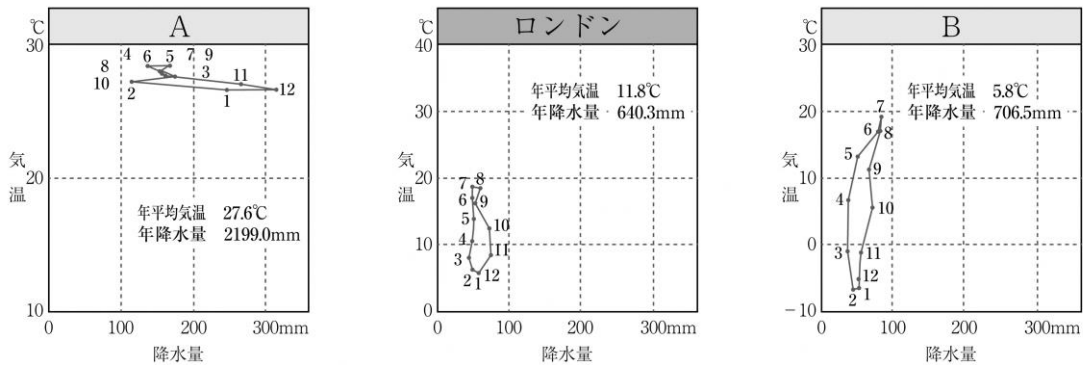
中学社会

※解答はすべて解答用紙の該当欄に記入すること。

1 次の資料を見て、以下の各問いに答えよ。

問1 資料1は、ロンドンとある2つの都市の気温と降水量を示したハイサーグラフである。以下の各問いに答えよ。

資料1



〔「高等学校 新地理A」帝国書院より作成〕

(1) 都市Aと都市Bが属する気候区分の組合せとして正しいものを、次の中から1つ選び、記号で答えよ。

	ア	イ	ウ	エ
A	サバナ気候	熱帯雨林気候	ステップ気候	地中海性気候
B	ツンドラ気候	冷帯（亜寒帯）	温帯湿潤気候	西岸海洋性気候

(2) ハイサーグラフは、その形状から気候区を判断することができる。グラフの見方と判断の仕方を、次の語句を用いて説明せよ。

〔 グラフの縦幅      年較差      グラフの横幅      降水量    〕

問2 資料2は、主な国の国土と排他的経済水域の面積（領海も含む）を示したものである。以下の各問いに答えよ。

資料2 (単位 万km<sup>2</sup>)

	a	b	c	d
国土面積	983	960	852	769
排他的経済水域の面積	762	96	317	701

(「中学生の地理」帝国書院 「中学社会地理」教育出版より作成)

(1) 資料2のa・b・c・dにあたる国名として正しいものを、次の中から1つ選び、記号で答えよ。

	a	b	c	d
ア	ロシア	オーストラリア	中華人民共和国	アメリカ合衆国
イ	カナダ	ブラジル	アメリカ合衆国	中華人民共和国
ウ	アメリカ合衆国	中華人民共和国	ブラジル	オーストラリア
エ	中華人民共和国	カナダ	オーストラリア	ブラジル

(2) 資料2及び排他的経済水域に関する説明文の正誤の組合せとして正しいものを、下の中から1つ選び、記号で答えよ。

- ① 排他的経済水域の範囲は、国連海洋法条約で海岸線から200海里以内の範囲と定められている。  
 ② 日本の領海と排他的経済水域を合わせた面積は、国土面積の10倍以上になる。


ア ①正②正      イ ①正②誤      ウ ①誤②正      エ ①誤②誤

問3 現在の大陸の分布は、プレートとよばれる厚さ100kmほどの巨大な岩盤が、長い年月をかけて地球の表面を滑り動いたことにより形成されたと考えられている。この理論を何というか。

問4 資料3は、日本、ドイツ、アメリカ、中国、フランスのいずれかの国における発電量の内訳の変化を示したグラフである。

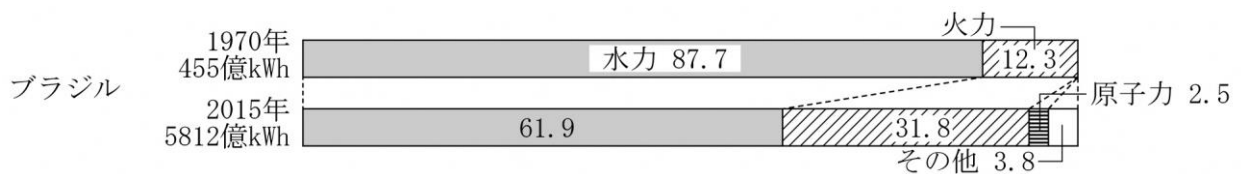
(1) 日本とドイツのグラフをそれぞれ資料3から1つ選び、記号で答えよ。

資料3



(「中学生の地理」 帝国書院より作成)

(2) 次のグラフはブラジルの発電量の内訳をまとめたものである。その他にはさとうきびを原料とする燃料が含まれる。この燃料を何というか。



(「中学生の地理」 帝国書院より作成)

2

次の資料と地図を見て、以下の各問いに答えよ。

- 問1 資料1は、九州各県の2020年の人口密度、老年人口の割合、農業産出額、海面漁業漁獲量、製造品出荷額等を示したものである。B・D・G・Hの県名の組合せとして正しいものを、下の中から1つ選び、記号で答えよ。

資料1

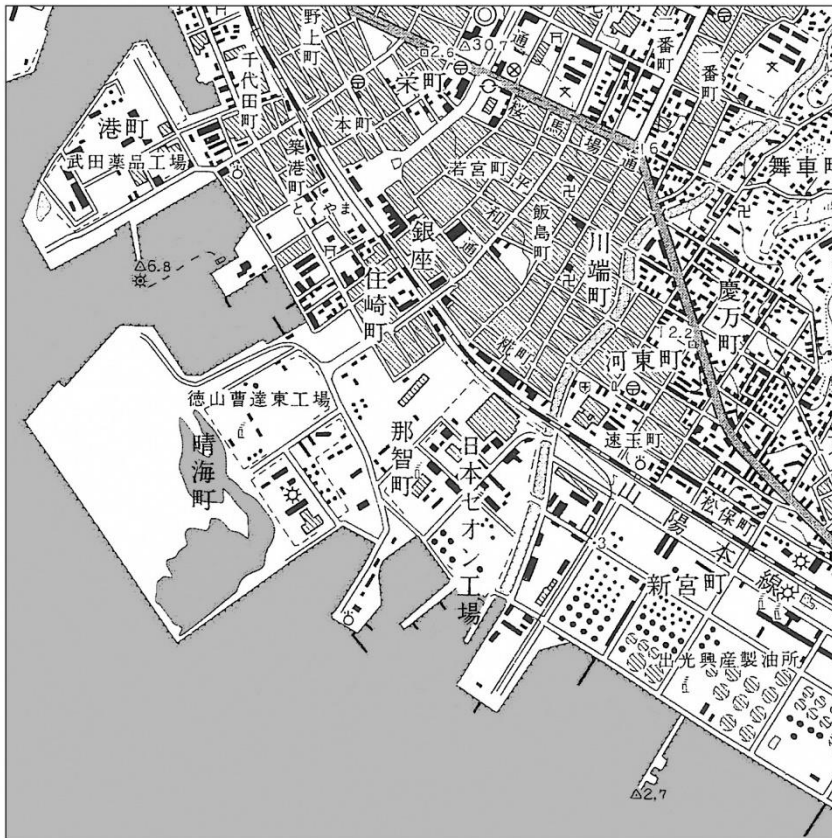
	人口密度 (人/㎢)	老年人口の割合 (%)	農業産出額 (億円)	海面漁業漁獲量 (万 t)	製造品出荷額等 (億円)
A	1030	27.9	1977	1.6	89950
B	643	22.6	910	1.3	4730
C	333	30.6	1219	0.7	20334
D	318	33.0	1491	22.8	16301
E	235	31.4	3407	1.3	28311
F	177	33.3	1208	3.6	38579
G	173	32.5	4772	5.4	20027
H	138	32.6	3348	11.9	16463

(「日本国勢図会」矢野恒太記念会より作成)

	B	D	G	H
ア	沖縄県	長崎県	鹿児島県	宮崎県
イ	佐賀県	宮崎県	熊本県	大分県
ウ	大分県	長崎県	宮崎県	鹿児島県
エ	沖縄県	熊本県	鹿児島県	大分県

問2 同じ地点の新旧を比較した地形図を見て、以下の各問いに答えよ。

地形図



国土地理院地形図 (25000分の1)

(1) 上下の地形図を比較して読み取れることとして誤っているものを、次の中から1つ選び、記号で答えよ。

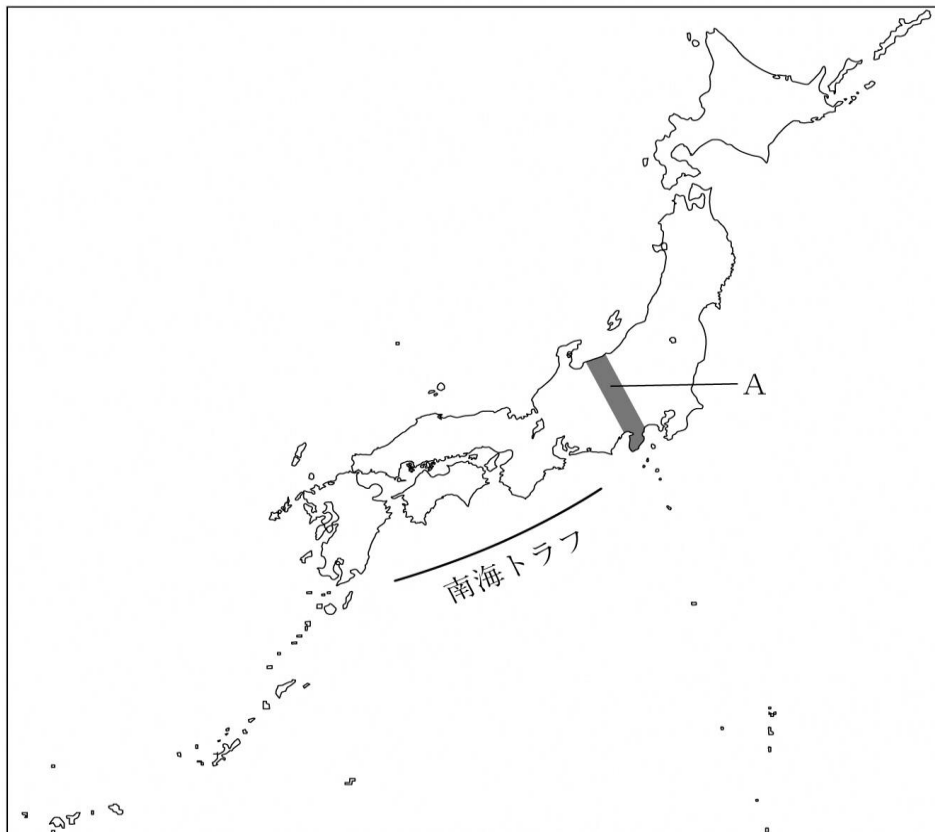
- ア. 地形図で確認できる範囲では、灯台が設置されている場所は全く変わっていない。
- イ. 市名が周南市に変更されたことに伴い、旧国鉄（現JR）の駅名も変更された。
- ウ. 右の地形図には、平成以降に作られた新しい地図記号が表記されている。速玉町にその一例が見られる。
- エ. 新たに敷設された山陽新幹線は、従来の山陽本線とほぼ平行に海側を走っている。

(2) 2つの地形図からは、沿岸部に化学工場や石油の製油所が増えてきたことがわかる。これに関連して、立地による工業の分類の説明として誤っているものを、次の中から1つ選び、記号で答えよ。

- ア. 周南市の化学工場や石油の製油所は、石油などの原料資源の輸入に便利な臨海部に立地する交通指向型である。
- イ. 原料の石灰石鉱山の近くに立地するセメント工場などは原料指向型である。
- ウ. 原料が容易に入手可能な場合、製品の輸送距離がなるべく短くなるように、市場の近くに工場を建設する。これは市場指向型である。
- エ. 電気製品の組み立て加工など労働集約的な製造過程の場合、工業立地としては集積指向型である。

問3 次の地図を見て、以下の各問いに答えよ。

地図



- (1) 次の説明文中の ( ① ) ～ ( ④ ) に当てはまる語句の組合せとして正しいものを、下の中から1つ選び、記号で答えよ。

海底の深い部分にある幅をもった溝で、海溝ほどの深さのない所はトラフとよばれる。日本の太平洋側にはいくつかのトラフがあり、地図上の南海トラフでは、( ① ) プレートと ( ② ) プレートの境界でおこるずれにより、過去に東海地震・東南海地震・南海地震という3つの地震が繰り返し発生してきた。これらの地震は ( ③ ) 型地震とよばれ、( ④ ) が生じる恐れがある。

	①	②	③	④
ア	フィリピン海	ユーラシア	海溝	津波
イ	太平洋	北米	直下	液状化
ウ	太平洋	ユーラシア	海溝	液状化
エ	フィリピン海	北米	直下	津波

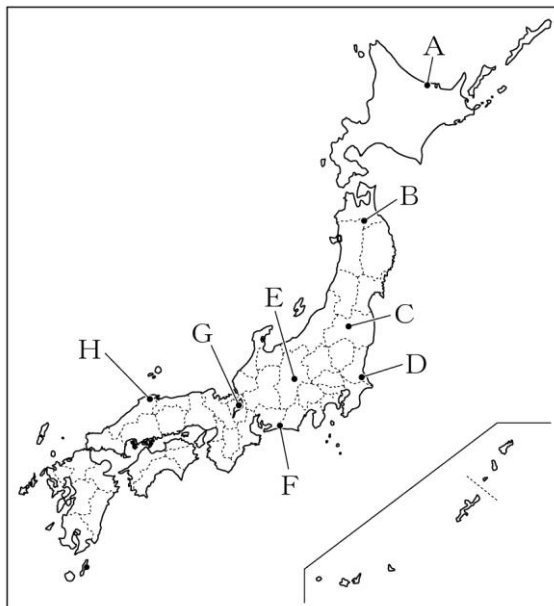
- (2) 地図中のAでは、地質学的に大きな特徴が見られる。この帯状の地域を何というか。



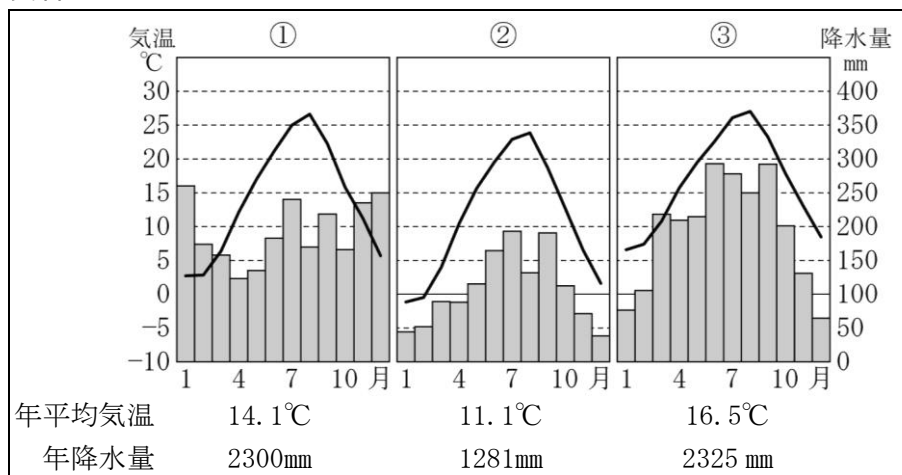
3

次の地図と資料を見て、以下の各問いに答えよ。

地図



資料



中学生の地理 帝国書院より

問1 地図中のAからHは、日本の主な湖を示している。

(1) AからHの中で、日本で2番目に面積が広い湖を1つ選び、記号とその名称を答えよ。

(2) A・F・Hはいずれも海水と淡水がまじり合うという特徴を持っている。これらは何湖と呼ばれるか、答えよ。

問2 資料は富山市、諏訪市、静岡市の雨温図である。EとFがある県に位置する都市の雨温図との組合せとして正しいものを、次の中から1つ選び、記号で答えよ。

ア. E-① F-③

イ. E-② F-③

ウ. E-③ F-②

エ. E-② F-①

オ. E-① F-②

カ. E-③ F-①

問3 A～Hの湖がある各地の農業に関する記述の正誤の組合せとして正しいものを、下の中から1つ選び、記号で答えよ。

- ① Aのある都道府県の根釧台地は、日本有数の畑作地帯で、小麦、てんさい、じゃがいも、豆類などが栽培されている。
- ② 2県にまたがるBの北側にあたる県では、りんごの生産量（2018年）が全国1位であり、Cのある県では、さくらんぼの生産量（2018年）が全国1位である。
- ③ Eのある県では、冷涼な気候を生かしてレタスやキャベツなどの高原野菜の抑制栽培を行い、ほかの産地の出荷量が少ない時期に出荷している。
- ④ Fのある県では、温暖な気候を生かし日当たりと水はけのよい台地で、茶の栽培がさかんである。

	①	②	③	④
ア	正	正	正	誤
イ	誤	正	正	誤
ウ	誤	誤	正	正
エ	誤	誤	誤	正
オ	正	誤	正	誤

4

次の略年表を見て、以下の各問いに答えよ。

## 略年表

646年	①改新の詔
743年	②墾田永年私財法 初期荘園の成立
1185年	③守護の配置
1582～98年	④太閤検地
1603年	⑤江戸幕府の成立
1873年	⑥地租改正
1946年	⑦第2次農地改革

問1 ①改新の詔が出された時、都はどこに置かれたか、次の中から1つ選び、記号で答えよ。

ア. 大津宮      イ. 恭仁京      ウ. 藤原京      エ. 難波宮

問2 ②墾田永年私財法について、下記の史料を読み、以下の各問いに答えよ。

## 史料

（a 天平十五年五月）乙丑、詔して曰く、「聞くならく、墾田はb 養老七年の格に依りて、限満つる後、例に依りて収授す。是に由りて農夫怠倦して、開ける地復た荒る。今より以後、任に私財と為し、…」と。

（「詳説日本史」山川出版社）より

（1）下線部 a について、天平十五年（743年）には、墾田永年私財法以外にも聖武天皇が命令を出している。その命令を次の中から1つ選び、記号で答えよ。

ア. 国分寺建立の詔      イ. 賦役令      ウ. 軍防令      エ. 大仏造立の詔

（2）下線部 b は何を指すか。

問3 ③守護について、守護が権限を拡大していく過程についての説明として正しいものを、次の中から1つ選び、記号で答えよ。

- ア. 荘園領主と守護で現地を折半し、相互の支配権を認め合う下地中分を行い、土地の領有権を得た。
- イ. 年貢の半分を守護が徴発する権利を認めた守護請は、幕府が守護に対して認めたものである。
- ウ. 守護の中には、一国全体におよぶ支配権を確立する者もあり、しだいに任国も世襲されるようになり、守護大名と呼ばれるようになった。
- エ. 室町幕府では、細川氏・斯波氏・畠山氏などの有力な守護大名が、将軍を補佐する執権に任命された。

問4 ④太閤検地をはじめとする豊臣秀吉の諸政策によって、近世社会の仕組みが固まったと言われる。その要因を、次の語句を用いて説明せよ。

〔 一地一作人      刀狩令      兵農分離 〕

問5 ⑤江戸幕府について、幕府の政策・改革として正しいものを、次の中から1つ選び、記号で答えよ。

- ア．幕藩体制が確立すると、3代将軍徳川家光は、武力ではなく学問や礼節を重んじる文治政治への転換を行い、学問を奨励し、儒学の中でも朱子学を重視した。
- イ．18世紀後半に老中となった田沼意次は、商業資本を利用した財政の立て直しを図り、株仲間の積極的公認や新たな通貨の鑄造を行った。
- ウ．8代将軍徳川吉宗は、幕府の財政の立て直しに取り組み、質素・儉約を掲げ、収入の中心である年貢米を増やすため上知令を出した。
- エ．田沼意次の後に老中となった松平定信は、徳川吉宗の政治を理想とし、質素・儉約を掲げ、飢饉に備えるため上米の制を発令した。

問6 資料1～資料5を見て、以下の各問いに答えよ。

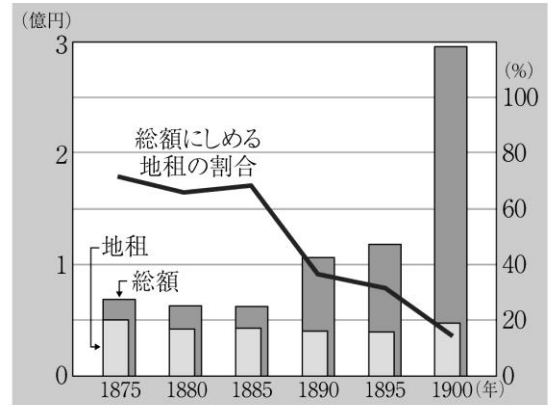
- (1) ⑥地租改正について、資料1、資料2から読み取れる説明文①、②の正誤の組合せとして正しいものをア～エから1つ選び、記号で答えよ。

資料1 地券



(東京都 国文学研究資料館蔵)

資料2 政府の収入の移り変わり  
「明治以降 本邦主要経済統計」



(「新しい社会歴史」東京書籍より作成)

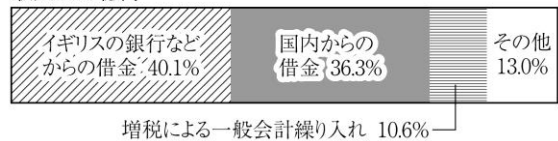
資料3 重税に苦しむ国民



(「社会科 中学生の歴史」帝国書院)

資料4 日露戦争における軍事費

収入 17.2 億円



(「社会科 中学生の歴史」帝国書院より作成)

説明文① 地券には、地名・面積・所有者・地価・地租率が記載された。

説明文② 税の総額全体に占める地租の割合は、1885年以降に減少している。

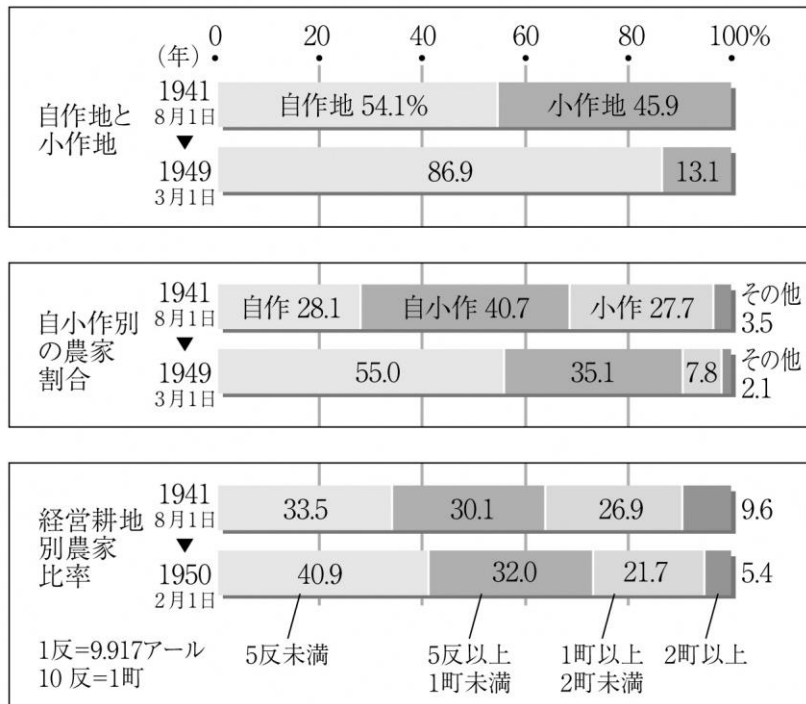
ア ①正②正      イ ①正②誤      ウ ①誤②正      エ ①誤②誤

- (2) 資料3と資料4から読み取れる日露戦争前後の国民の様子を、次の語句を用いて説明せよ。

[ 軍事費      日比谷焼き討ち事件 ]

問7 ⑦第二次農地改革について、資料5から読み取れることとして正しいものを、下の中から1つ選び、記号で答えよ。

資料5 農地改革表



(「詳説日本史」山川出版社より作成)

- ア. 1941年と1950年の経営耕地別農家比率を見ると、1町未満の農家が増え、零細化が進んでいる。
- イ. 1941年と1949年の自作農家、自小作農家、小作農家の割合の変化を比較すると、小作農家の割合の変化が最も大きい。
- ウ. 1941年と1949年を比較すると、自作地、自作農の割合ともに約2倍に増加している。
- エ. 1941年と1950年の経営耕地別農家比率のうち、最も大きく割合が変化したのは、2町以上の大規模農家である。

5

次の資料を見て、各問いに答えよ。

問1 資料1の作品を制作年代の古い順に並べた時、3番目となるものを選び、記号で答えよ。

資料1

ア.



(「新しい社会 歴史」  
東京書籍) より

イ.




(「新しい社会 歴史」  
東京書籍) より

ウ.




(「新しい社会 歴史」  
東京書籍) より

エ.



(「新しい社会 歴史」  
東京書籍) より

オ.



(「詳説日本史」  
山川出版社) より

問2 資料2を見て、以下の各問いに答えよ。

資料2

(1) 左側の浮世絵の作者として正しいものを、次の中から1つ選び、記号で答えよ。

- ア. 葛飾北斎
- イ. 歌川広重
- ウ. 喜多川歌麿
- エ. 東洲斎写楽




(「新しい社会歴史」東京書籍)より

(2) 右側の絵画は、ゴッホが描いたものである。輸出品の梱包材として海外にわたった浮世絵が印象派の画家に大きな影響を与えた。この風潮を何というか。

問3 資料3の風刺画に関する説明文の正誤の組合せとして正しいものを、下の中から1つ選び、記号で答えよ。

資料3



(「新しい社会 歴史」東京書籍)より

- ① aは日露戦争当時、bは日清戦争後の国際情勢を風刺している。
- ② aのXの人物はフランスを表している。
- ③ bに描かれたパイは中国の領土を表しており、それを切り分けている人物はヨーロッパ列強と日本を示している。
- ④ a、bの両方に登場する国は、日本・ロシア・アメリカである。

	①	②	③	④
ア	正	誤	正	正
イ	誤	正	誤	誤
ウ	誤	誤	正	誤
エ	正	誤	正	誤



問4 資料4を読んで、日露戦争の日本の勝利がアジアの諸国民からどのように見られ、その後どのように変化したのかについて、下の語句を用いて述べよ。

#### 資料4

日本のロシアに対する勝利がどれほどアジアの諸国民をよろこばせ、こおどりさせたかを、われわれはみた。ところが、その直後の成果は、少数の侵略的帝国主義諸国のグループに、もう一国をつけくわえたというのにすぎなかった。そのにがい結果を、まず最初になめたのは、朝鮮であった。

＜ジャワーハルラル＝ネルー著 大山聰訳『父が子に語る世界歴史4』より、一部要約＞

（「中学生の歴史」帝国書院）より

〔近代化 希望と自信 韓国の植民地化〕

問5 資料5は『時事新報』の「脱亜論」に関する社説である。以下の各問いに答えよ。

#### 資料5

##### 『時事新報』の「脱亜論」

今日の謀を為すに、我国は隣国の開明を待て共に亜細亜を興すの猶予ある可らず、寧ろ其伍を脱して西洋の文明国と進退を共にし、其支那朝鮮に接するの法も隣国なるが故にとて特別の会釈に及ばず、正に西洋人が之に接するの風に從て処分す可きのみ。悪友を親しむ者は共に悪名を免かる可らず。我れは心に於て亜細亜東方の悪友を謝絶するものなり。

＜『時事新報』社説 1885年3月16日付＞

(1) 「脱亜論」は誰の意見か、次の中から1つ選び、記号で答えよ。

- ア. 福沢諭吉
- イ. 内村鑑三
- ウ. 新島襄
- エ. 幸徳秋水

(2) 「脱亜論」では、中国・朝鮮との関わり方を述べているが、明治政府の両国との関係を正しく表したものを、次の中から1つ選び、記号で答えよ。

- ア. 1871年に結ばれた日清修好条規は、日本が一方的に領事裁判権を持つ不平等条約であった。
- イ. 1876年に結ばれた日朝修好条規は、朝鮮と対等な条約であった。
- ウ. 武力に訴えてでも朝鮮に開国を迫ろうとする征韓論を唱えたのは、西郷隆盛や板垣退助らであった。
- エ. 1905年日本は韓国から外交権を奪って保護国とし、初代統監として寺内正毅を派遣した。

6

次の地図を見て、各問いに答えよ。

地図



問1 次の各文は、地図中のア～エのどこに該当するか、記号で答えよ。

- ① 江戸時代、朝鮮との交流の窓口となった島である。
- ② 物見やぐらを構え、柵と深い壕に囲まれた弥生時代の遺跡がある。
- ③ 大型掘立柱建物がある縄文時代の遺跡がある。
- ④ 1543年にポルトガル人によって鉄砲が伝えられた島である。

問2 以下の各問いに答えよ。

(1) 地図中のa～cの港に関する説明文の正誤の組合せとして正しいものを、下の中から1つ選び、記号で答えよ。

- a 1854年、日米和親条約によって開港された。日米修好通商条約で開港された5港の中にも入っている。
- b 1858年、日米修好通商条約によって外国に開港された。江戸時代は東回り航路の港であった。b港のある県は、1892年まで全国一の人口を誇っていた。
- c 1854年、日米和親条約によって開港され、アメリカの領事が置かれた。日米修好通商条約によって閉ざされた。

	a	b	c
ア	誤	正	正
イ	正	誤	正
ウ	正	正	誤
エ	誤	誤	誤

(2) 日明貿易の根拠地として栄えたdの港名を答えよ。

問3 資料1を見て、以下の各問いに答えよ。

資料1 日本の輸出・輸入の移り変わり

ア	輸出		輸入品	
	生糸	29.8%	綿花	32.0%
	綿糸	11.3%	鉄類	7.8%
	絹織物	6.2%	機械類	7.0%
	綿織物	5.3%	米	6.7%

イ	輸出		輸入品	
	鉄鋼	18.2%	原油	34.0%
	自動車	14.5%	金属鉱・金属くず	7.6%
	機械類	12.1%	機械・輸送機器	6.6%
	電気機器	11.0%	石炭類	6.0%

ウ	輸出		輸入品	
	生糸	79.4%	毛織物	40.3%
	茶	10.5%	綿織物	33.5%
	蚕卵紙	3.9%	武器	7.0%
	海産物	2.9%	艦船	6.3%

エ	輸出		輸入品	
	鉄鋼	12.9%	綿花	15.5%
	機械類	12.3%	石油	11.2%
	綿織物	11.4%	米	8.0%
	人造繊維織物	7.7%	小麦	6.8%

(「図説日本史通覧」帝国書院)より

(1) 資料1のア～エは、1865、1913、1955、1975年のいずれかの日本の貿易品目と割合を示している。年代の古い順に左から並びかえよ。

(2) 次の出来事のうち、1975年より後に起こったものをすべて記号で答えよ。

ア. 日中平和友好条約調印  
エ. イラン革命

イ. 沖縄の復帰  
オ. 日中共同声明

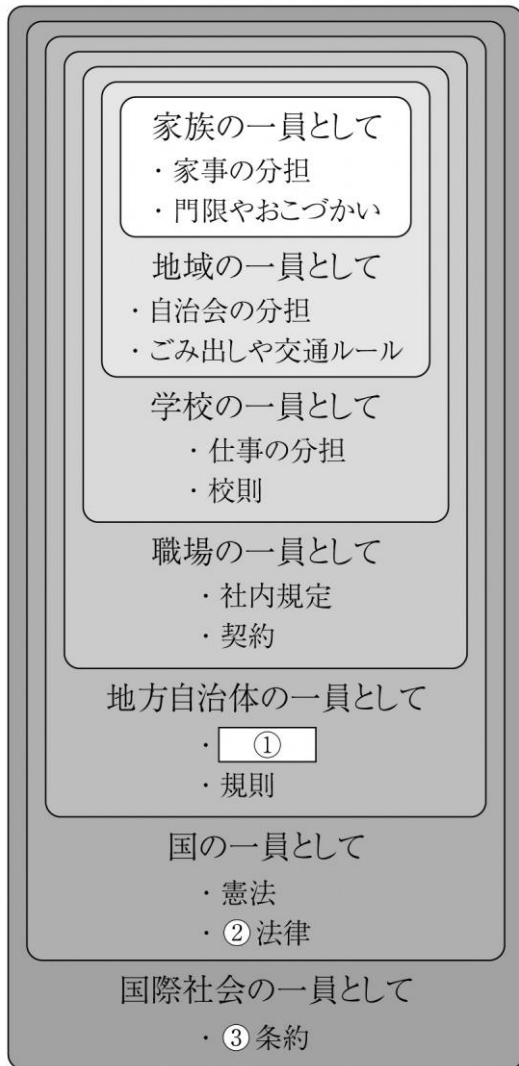
ウ. 第1次石油危機

7

資料1は、社会集団の広がりとなんルールを図式化したものである。以下の各問いに答えよ。

問1 ①に当てはまる地方自治体が定める法形式の名称を答えよ。

資料1



(「中学社会 公民」教育出版より作成)

問2 ②の法律に関連して、国の唯一の立法機関である国会、および国会議員について述べたもののうち正しいものを、次の中から1つ選び、記号で答えよ。

- ア. 国会議員は民主主義における国民の代表であり、大きな責任を持つため、その身分が保障され、会期中現行犯を除いて逮捕されないという不逮捕特権を持っている。
- イ. 国会の主な仕事は、法律案の議決・予算の議決・条約の承認・国政調査権・弾劾裁判所の設置・内閣総理大臣の任命・内閣不信任決議・憲法改正の発議などである。
- ウ. 国会には年1回、6月に召集される常会、内閣またはいずれかの議院の総議員の4分の1以上の要求で開かれる臨時会、衆議院解散後の総選挙の日から30日以内に開かれる特別会、参議院の緊急集会の4種類がある。
- エ. 解散があり、任期の短い衆議院は国民の意思を反映しやすいとされ、参議院より大きな権限を与えられ、衆議院の優越が認められている。法律案の議決・予算の議決と条約の締結・予算の先議・内閣不信任決議がその内容である。

問3 ③について、次の中から日本が批准している条約を1つ選び、記号で答えよ。

- ア 核兵器禁止条約      イ 核拡散防止条約      ウ 死刑廃止条約
- エ 差別待遇条約

問4 次のルール決定は、それぞれ効率と公正の観点に基づいたものである。このうち効率を重視したものを1つ選び、記号で答えよ。

- ア. 4個のケーキを3人で分ける場合、一人が1個ずつ食べ、残った1個を3等分して分け合って食べる。
- イ. ゴミ集積場を決めるとき、住民全員で話し合いを行い、住民の誰にとっても利用しやすい場所を選ぶ。
- ウ. スーパーマーケットのレジやデパートのトイレでは、順番を待つ人は一列に並び、空いたところを順番に利用するといった方法をとっている。
- エ. テーマパークなどのアトラクションでは、空いた1席に一人の客を案内し、空席を少なくする工夫をしている。

問5 資料2は日本国憲法の条文の一部である。これを読んで、以下の各問いに答えよ。

資料2

第14条

①すべて国民は、に平等であつて、人種、信条、性別、社会的身分又は門地により、政治的、経済的又は社会的関係において、差別されない。

第24条

②配偶者の選択、財産権、相続、住居の選定、離婚並びに婚姻及び家族に関するその他の事項に関しては、法律は、個人の尊厳と両性の本質的平等に立脚して、制定されなければならない。

(1) 資料2中のに当てはまる語句を答えよ。

(2) 資料2中の、「両性の本質的平等」に関して説明した文のうち正しいものを、次の中から1つ選び、記号で答えよ。

- ア. 1979年に国連で採択された女子差別撤廃条約を受け、1985年に男女雇用機会均等法が制定されたが、募集や採用における女性差別禁止は努力義務となっている。
- イ. 1999年に制定された男女共同参画社会基本法は、社会のあらゆる場面で男女が責任をもって対等に役割を担うことを定め、マタニティ・ハラスメントへの対策を企業に義務付けた。
- ウ. 1995年には育児・介護休業法が制定され、仕事と家庭の両立の支援が目指されたが、男女の育児休暇取得率には大きな差がある。
- エ. 2015年には政治分野でも女性活躍推進法が制定され、政界における女性の一層の活躍が図られているが、国会議員における女性の比率は低いままである。

(3) 働く場での男女の格差や社会的・構造的な差別などの解消を目指した、実質的な機会均等を実現するための取組みを何というか。

問6 新しい人権について、次の各問いに答えよ。

(1) 新しい人権の1つである「忘れられる権利」とは、どのようなものか。次の語句を用いて説明せよ。

[ インターネット 削除 ]

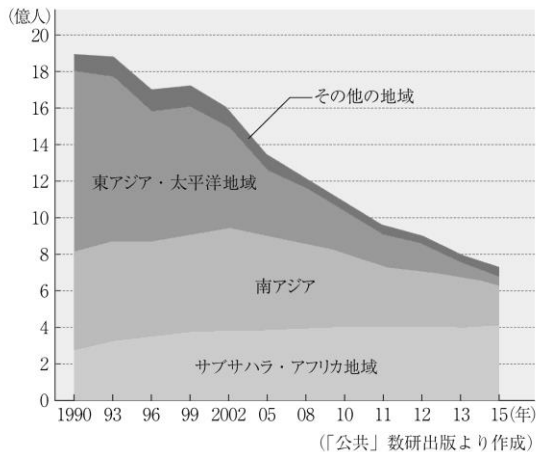
(2) 「忘れられる権利」以外の新しい人権を2つ答えよ。

8

資料を見て、以下の各問いに答えよ。

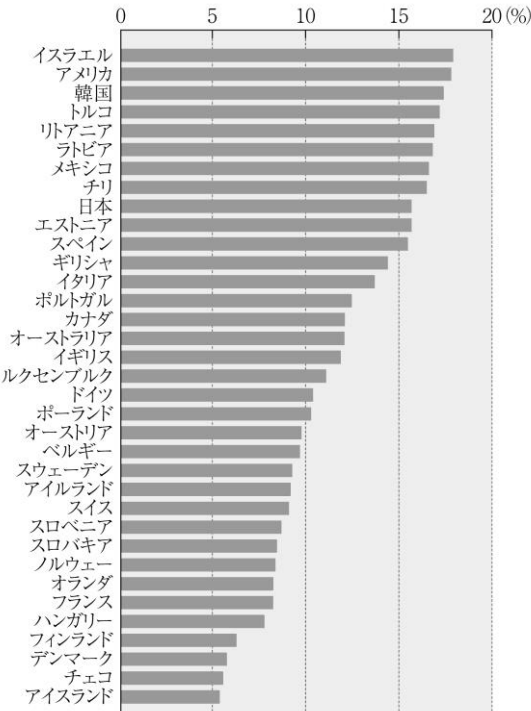
資料 1

1日あたり1.90ドル未満で生活している貧困層の人数の推移



A

OECD加盟国の相対的貧困率(2015～2017年)



B

問 1 資料 1 の A、B について読み取った、次の①、②の文の正誤の組合せとして正しいものを、下の中から 1 つ選び、記号で答えよ。

- ① Aを見ると、貧困層の人数は大幅に減少しており、東アジア・太平洋地域での減少幅が最も大きい。しかし、サブサハラ・アフリカ地域だけは増加している。
- ② Bを見ると、日本の貧困率は15%を越えており、G 7 の中ではアメリカに次いでワースト 2 位となっている。

ア. ①-正 ②-正      イ. ①-正 ②-誤      ウ. ①-誤 ②-誤      エ. ①-誤 ②-正

問2 貧困の是正に関する次の資料2を読み、以下の各問いに答えよ。

資料2

1990年代には、個々の人間の生活・福祉を重視した「人間中心の開発」という考え方にもとづき、国連開発計画は人間開発指数を導入して、貧困層に直接届く援助を提唱した。世界銀行も、発展途上国の自立をうながすための融資などの支援を行っている。21世紀の到来を契機に、a 国連は、教育、保健、衛生などの分野で、2015年までに達成すべき「( 1 ) = MDGs」を設定した。( 1 ) が達成期限をむかえた2015年には、新たな国際目標として「( 2 ) = SDGs」が設定された。また、NGOなどの活躍も顕著になり、b 自立支援を行うグラミン銀行やエシカル消費の一つであるc フェアトレードなどの取組みも注目されている。

「現代社会（東京書籍）」より

(1) 文中の空欄 ( 1 )、( 2 ) に当てはまる語句を答えよ。

(2) 下線部 a に関して、国連の機関のうち発展途上国の子どもたちへの食糧・医療品・医療などの支援を行う専門機関は何か。次の中から1つ選び、記号で答えよ。

ア. UNESCO      イ. WHO      ウ. UNHCR      エ. UNICEF

(3) 下線部 b のグラミン銀行が行う貧困層への少額の融資を何というか。

(4) 下線部 c のフェアトレードとは、どのようなものか。次の語句を用いて説明せよ。

〔 生産者      適正な価格      自立 〕



9

資料を見て、以下の各問いに答えよ。

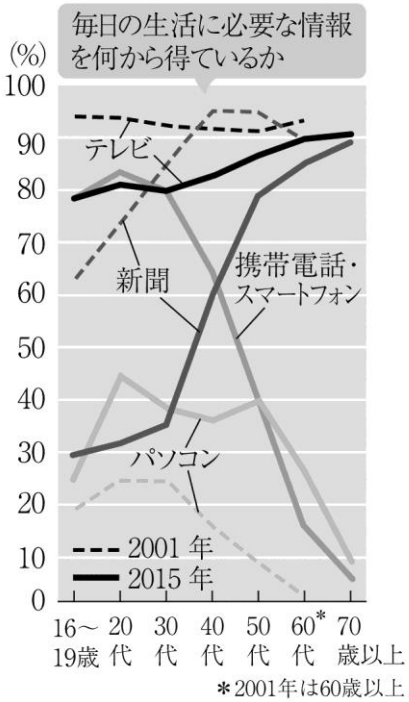
問1 資料1を見て、以下の各問いに答えよ。

(1) 資料1は、情報取得に関する世論調査である。ここから読み取れることとして正しいものを、次の中から1つ選び、記号で答えよ。

- ア. 2015年のテレビの割合は、年代が上がるに従って高くなっている。
- イ. 2015年のパソコン、携帯電話・スマートフォンとも割合が最も高いのは20代で、年代が上がるに従って割合が低くなっている。
- ウ. 2001年にはテレビの割合が最も高いのは10代であり、新聞の割合が最も低いのも10代である。
- エ. 2001年、2015年とも新聞の割合は年代とともに高くなっており、70歳以上が最も高い。

(2) 2015年の割合は、60代、70代のパソコン、携帯電話・スマートフォンともに割合が低い。パソコンやスマートフォンなどのICT機器を使いこなせる人とそうでない人との格差を何というか。

資料1



(「現代社会」東京書籍より作成)

問2 次の文章を読み、以下の各問いに答えよ。

2016年に日本政府は、「我が国が目指すべき未来社会の姿」としてSociety5.0を掲げた。Society1.0、Society2.0、Society3.0、Society4.0に続く新たな社会として位置づけられている。a インターネットと結びついた電化製品の普及や、AI（人工知能）の実用化などによる 少子高齢化・環境問題・都市への人口集中といった課題の解決が目指されている。

(1) Society1.0は狩猟社会、Society3.0は工業社会とよばれる。Society2.0とSociety4.0はそれぞれ何社会とよばれるか。

(2) 下線部aのような電化製品のことを何というか、次の中から1つ選び、記号で答えよ。

- ア. ユビキタス      イ. I o T      ウ. I C T      エ. ビッグデータ

問3 次の文章の空欄（ 1 ）～（ 3 ）に当てはまる語句をそれぞれ下の語群から選び、答えよ。

情報化の進展はきわめて速い。わたしたちの意識も、法律などの社会制度も、なかなか現実  
に追いついていないのが現状である。情報セキュリティ機能が向上したり、（ 1 ）保護な  
どの法律が制定されたりしても、（ 2 ）の流失、コンピュータ・ウィルスの侵入やインタ  
ーネット上での誹謗中傷などを防ぎきれていない。これらの事態は、人間本来の倫理性の問題  
である。（ 1 ）や（ 3 ）権の尊重など、情報化社会の秩序を適正に維持するためのル  
ールを守ることだけでなく、情報ネットワーク上の適切なコミュニケーション・スキルも求め  
られている。

〔 環境      知的財産      デジタル・トランスフォーメーション      プライバシー      個人情報 〕

中学 社会	受験 番号		氏名	
----------	----------	--	----	--

## 令和8年度長崎県公立学校教員採用選考試験解答用紙

1

13点（問1（1）問2 問4（2）1点、問3、問4（1）各2点、問1（2）3点）

問1	(1)	イ			
	(2)	グラフの縦幅は気温の年較差、グラフの横幅は月別降水量の最大値と最小値の差を表す。縦長であれば夏季と冬季の気温差が大きい気候区分、横長であれば雨季と乾季が明確な気候区分であることが判断できる。			
問2	(1)	ウ		(2)	ア
問3	プレートテクトニクス				
問4	(1)	日本	②	ドイツ	①
	(2)	バイオエタノール			

中学 社会	受験 番号		氏名	
----------	----------	--	----	--

令和8年度長崎県公立学校教員採用選考試験解答用紙

2

10点（各2点）

問1	ア			
問2	(1)	イ	(2)	エ
問3	(1)	ア	(2)	フォッサマグナ

中学 社会	受験 番号		氏名	
----------	----------	--	----	--

令和8年度長崎県公立学校教員採用選考試験解答用紙

3

7点（問1（1） 2点、（2） 1点、問2、問3 各2点）

問 1	( 1 )	記 号	D	名 称	霞ヶ浦
	( 2 )	汽水湖			
問 2	イ				
問 3	ウ				

中学 社会	受験 番号		氏名	
----------	----------	--	----	--

## 令和8年度長崎県公立学校教員採用選考試験解答用紙

4

14点（問4 問6（2） 各3点、問2（2） 2点、その他 各1点）

問1	エ			
問2	(1)	エ	(2)	三世一身法
問3	ウ			
問4	検地帳に基づき一地一作人を原則とし、刀狩令を出して農民から武器を取り上げたことにより兵農分離が進み、身分に応じた職業によって生活するという社会の仕組みが固まったから。			
問5	イ			
問6	(1)	ア		
	(2)	明治政府は日露戦争の軍事費を、国内・外国からの借金と国民に対する増税で賄った。国民は重い増税に苦しみつつ戦争に協力したが、ポーツマス条約ではロシアから賠償金が得られないことがわかり、国民の不満が日比谷焼き討ち事件などの暴動を招いた。		
問7	ア			

中学 社会	受験 番号		氏名	
----------	----------	--	----	--

令和8年度長崎県公立学校教員採用選考試験解答用紙

5

10点（問1 問2（1） 問3 問5 各1点、問2（2） 2点、問4 3点）

問1	エ			
問2	(1)	イ	(2)	ジャボニズム
問3	エ			
問4	近代化を成し遂げ大国ロシアに勝利した日本は、植民地支配に苦しむアジア諸国に希望と自信を与えた。しかし、日本が韓国の植民地化を進めたため、日本に対する好意的な見方は失望に変わった。			
問5	(1)	ア	(2)	ウ

中学 社会	受験 番号		氏名	
----------	----------	--	----	--

令和8年度長崎県公立学校教員採用選考試験解答用紙

6

1 1点（問1 問2（1） 各1点、問2（2） 問3 各2点）

問1	①	イ	②	ウ
	③	ア	④	エ
問2	(1)	イ	(2)	堺
問3	(1)	ウ → ア → エ → イ	(2)	ア・エ



中学 社会	受験 番号		氏名	
----------	----------	--	----	--

令和8年度長崎県公立学校教員採用選考試験解答用紙

7

11点（問1～問5 各1点、問6 各2点）

問1	条例			
問2	ア			
問3	イ			
問4	エ (ウでも可)			
問5	(1)	法の下	(2)	ウ
	(3)	アファーマティブアクション (ポジティブアクション)		
問6	(1)	インターネット上の個人情報を、個人の意思で削除できる、または削除を求めることができる権利。		
	(2)	プライバシーの権利・自己決定権・知る権利・環境権 などの中から2つ		

中学 社会	受験 番号		氏名	
----------	----------	--	----	--

## 令和8年度長崎県公立学校教員採用選考試験解答用紙

8

13点（問2（4） 3点、その他 各2点）

問1	ア				
問2	(1)	(1)	ミレニアム開発目標		
		(2)	持続可能な開発目標		
	(2)	エ		(3)	マイクロ・クレジット
	(4)	発展途上国の生産者と先進国の消費者を適正な価格でつなぐ公正な取引で、生産者の自立を支援することを目指すもの。			

中学 社会	受験 番号		氏名	
----------	----------	--	----	--

令和8年度長崎県公立学校教員採用選考試験解答用紙

9

11点（問1問2 各2点、問3 完全解答 1点）

問 1	( 1 )	ウ		( 2 )	デジタルデバインド (情報格差)
問 2	( 1 )	Society2.0	農耕社会		
		Society4.0	情報社会		
	( 2 )	イ			
問 3	( 1 )	プライバシー			
	( 2 )	個人情報			
	( 3 )	知的財産			