

令和8年度長崎県公立学校 教員採用選考第1次試験問題
-------------------------------

教科・科目
-------

高校 公民
-------

受験番号		氏名	
------	--	----	--

実施日 令和7年5月11日（日）

令和8年度長崎県公立学校教員採用選考試験

## 高校公民

※解答はすべて解答用紙の該当欄に記入すること。

※漢字で書くべき人名・用語は漢字で正確に記入すること。

1 以下の各問いに答えよ。

問1 古代文明のうち、モエンジョ＝ダーロやハラッパーなどの都市遺跡に代表される文明の名称を答えよ。

問2 次の資料はある人物の見聞をまとめた文章の一部で、日本の情報に関するものである。ある人物とは誰か。

### 資料

ジパングは東方の島で、大洋の中にある。大陸から1500マイルはなれた大きな島で、住民は肌の色が白く礼儀正しい。また、偶像崇拜者である。島では、金が見つかるので、かれらは限りなく金を所有している。しかし大陸からあまりにはなれているので、この島に向かう商人はほとんどおらず、そのため法外の量の金であふれている。

(東京書籍『新しい社会 歴史』より)

問3 次の資料はルネサンス期に描かれたものの一部である。この資料の作者として正しいものを下の中から1つ選び、記号で答えよ。

### 資料



(東京書籍『新しい社会 歴史』より)

- ア. レオナルド・ダ・ビンチ
- イ. ボッティチェリ
- ウ. ミケランジェロ
- エ. ラファエロ

問4 次の文章中の空欄 P に入る人物名を答えよ。

フランスでは1804年に P が民法典を制定して人権宣言の理想を法制化し、フランス社会の近代化を進めた。

問5 次の文を年代の古い順に並べたときに、3番目にくるものを1つ選び、記号で答えよ。

- ア．世界的な経済不況に対応するため、初の先進国首脳会議が開催された。
- イ．インドネシアのバンドンで開かれた会議で植民地支配から独立した国々が平和共存を訴えた。
- ウ．キューバでのミサイル基地建設を巡り米ソ間の緊張が極度に高まった。
- エ．イラクのサダム＝フセインがイランを攻撃してイラン＝イラク戦争が始まった。

2

以下の各問いに答えよ。

問1 8世紀の出来事に関して述べた次の文について、年代の古い順に正しく配列したものを下の中から1つ選び、記号で答えよ。

- I 藤原仲麻呂（恵美押勝）は、道鏡と対立して反乱をおこし敗死した。
- II 武蔵国から銅が献上されたことをきっかけに、和同開珎が発行された。
- III 藤原不比等の4人の子は不比等の娘の光明子を皇后にすることに成功した。
- IV 舎人親王が中心となって編纂した『日本書紀』が完成した。

- ア. II－III－IV－I      イ. II－IV－III－I
- ウ. IV－II－I－III      エ. IV－III－I－II

問2 13～14世紀の出来事に関して述べた次の文のうち、正しいものの組み合わせを下の中から1つ選び、記号で答えよ。

- I 承久の乱後、執権北条時政は、有力な御家人や政務にすぐれた者を引付衆に選んで、幕府の政務処理や裁判に関わらせ、合議制に基づく政治を展開した。
- II 地頭の支配権拡大に苦慮した荘園・公領の領主たちには、幕府に地頭の年貢未納などを訴える者もいたが地頭の行動を阻止することは難しく、現地を地頭と折半し、相互の支配権を認めあう取決めをおこなうこともあった。
- III 文永の役後、幕府は元の再度の襲来に備えて、博多湾岸など九州の要地を御家人に警備させる異国警固番役を強化するとともに、博多湾沿いに石造の防塁を構築した。
- IV 得宗専制政治の強化に対する御家人の不満が募る中、後醍醐天皇の呼びかけに応じて新田義貞が幕府に背いて六波羅探題を攻め落とすなど反幕府の動きが広がり、14世紀前半に鎌倉幕府は滅びた。

- ア. I・III      イ. I・IV      ウ. II・III      エ. II・IV

問3 江戸時代の農村の生活や税負担に関して述べた文として、正しいものを次の中から1つ選び、記号で答えよ。

- ア. 近世の村は、名主・地頭・百姓代からなる村方三役を中心とする本百姓によって運営され、田植え・稲刈りなどの農繁期には結などとよばれる共同作業が行われた。
- イ. 収益性の高い商品作物栽培のための肥料として、自給的な下肥のほか、草木灰・刈藁などの金肥の使用が広まった。
- ウ. 本百姓の負担は、石高の40～50%を米穀などで納めた本途物成のほか、河川の土木工事での夫役労働などの国役、街道近辺の村で公用交通に人足や馬を差し出す伝馬役などがあった。
- エ. 幕藩体制を確立した将軍家光の代には、田畑の売買に制限を加えた田畑永代売買の禁令や、分割相続による田畑の細分化を防いだ分地制限令など、農民の生活に関する規制法令が相次いで出された。

問4 明治時代の文化に関連して、この時期に設立された西洋美術団体の名称とその創立者の組み合わせとして正しいものを、下の中から1つ選び、記号で答えよ。

西洋美術団体の名称

X 白馬会	Y 日本美術院
-------	---------

創立者

a 浅井忠	b 黒田清輝	c 狩野芳崖	d 横山大観
-------	--------	--------	--------

ア. X－a      イ. X－b      ウ. Y－c      エ. Y－d

問5 次の史料は、1972年に、日本がある国と取り決めた内容である。史料中の空欄aに入る語句として、正しいものを下の中から1つ選び、記号で答えよ。

史料

二、日本国政府は、中華人民共和国政府が中国の唯一の合法政府であることを承認する。 三、中華人民共和国政府は、台湾が中華人民共和国の領土の不可分の一部であることを重ねて表明する。日本国政府は、この中華人民共和国の立場を十分理解し、尊重し、 <span style="border: 1px solid black; padding: 0 5px;">a</span> 第八項に基づく立場を堅持する。 <div style="text-align: right;">（日本外交主要文書・年表）</div>
--

ア. ポツダム宣言      イ. 日中共同声明      ウ. ヤルタ協定      エ. 日中平和友好条約

3

以下の各問いに答えよ。

- 問1 次の表は、1990年から2019年までの京浜、阪神、中京、北九州工業地帯、関東内陸、瀬戸内工業地域の製造品出荷額（億円）の推移を示したものである。A～Dの組み合わせとして正しいものを、下の中から1つ選び、記号で答えよ。

表

	1990年	2000年	2010年	2019年
A	515,908	402,530	257,710	252,929
B	445,033	427,472	481,440	589,550
C	405,725	325,518	301,386	336,597
北九州工業地帯	77,793	74,264	82,491	99,760
瀬戸内工業地域	266,875	242,029	292,784	311,899
D	336,323	304,815	290,180	320,161

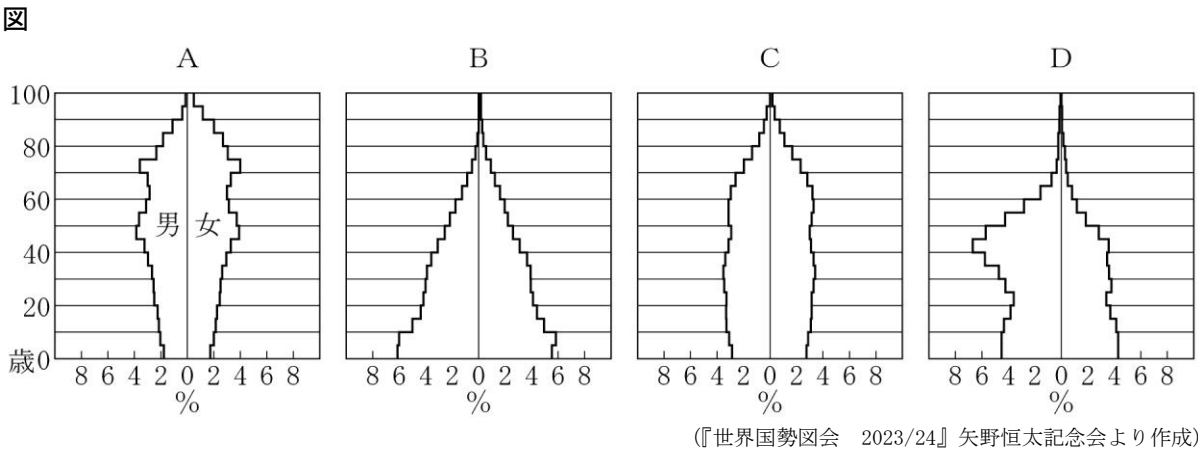
(『日本国勢図会 2023/24』矢野恒太記念会より作成)

	A	B	C	D
ア	京浜	中京	関東内陸	阪神
イ	中京	阪神	京浜	関東内陸
ウ	京浜	中京	阪神	関東内陸
エ	中京	阪神	関東内陸	京浜

- 問2 観光のグローバル化と多様化に関する記述のうち正しいものを、次の中から1つ選び、記号で答えよ。

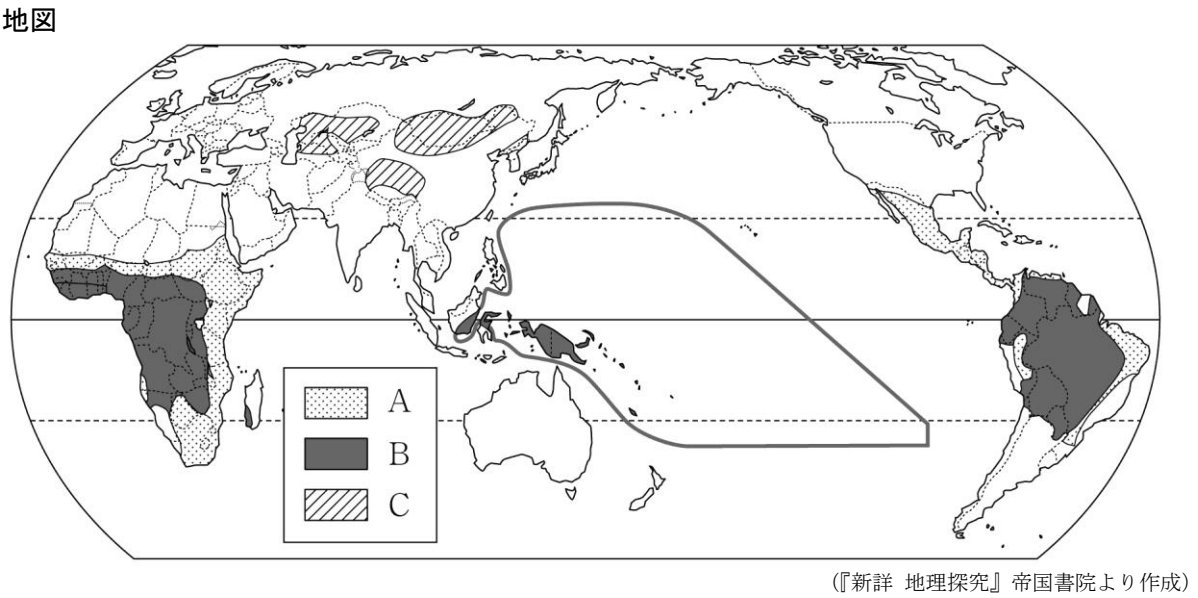
- ア. 国際観光は、距離が近く、経済的な結びつきの強い国や地域、先進国間で活発な傾向にある。  
 イ. 日本は、1960年代は国際観光収入が支出を上回っていたが、2010年代以降は国際観光支出が収入を上回っている。  
 ウ. 近年、持続可能な環境保全への理解を深めるために体験しながら学ぶグリーンツーリズムがさかんである。  
 エ. ヨーロッパでは、毎年夏に地中海沿岸の南フランス、イタリアなどからイギリスやドイツなどの保養地に長期間滞在する保養型の観光の需要が大きい。

問3 次の図は、2021年のサウジアラビア、エジプト、日本、アメリカの人口ピラミッドを示したものである。A～Dの組み合わせとして正しいものを、下の中から1つ選び、記号で答えよ。



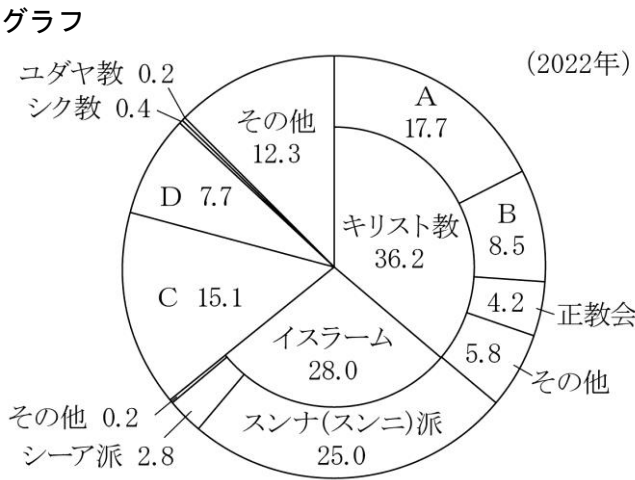
	A	B	C	D
ア	日本	サウジアラビア	アメリカ	エジプト
イ	アメリカ	エジプト	日本	サウジアラビア
ウ	日本	エジプト	アメリカ	サウジアラビア
エ	アメリカ	サウジアラビア	日本	エジプト

問4 次の地図は、世界の主食となる食べ物を示したもので、A～Cは、肉と乳、いも類、とうもろこしのいずれかである。A～Cの組み合わせとして正しいものを、下の中から1つ選び、記号で答えよ。



	A	B	C
ア	いも類	とうもろこし	肉と乳
イ	とうもろこし	肉と乳	いも類
ウ	いも類	肉と乳	とうもろこし
エ	とうもろこし	いも類	肉と乳

問5 次のグラフは、世界の宗教（宗派）別人口の割合（％）を示したもので、A～Dは、ヒンドゥー教、仏教、カトリック、プロテスタントのいずれかである。A～Dの組み合わせとして正しいものを、下の中から1つ選び、記号で答えよ。



(『データブック オブ・ザ・ワールド 2024年版』 二宮書店より作成)

	A	B	C	D
ア	プロテスタント	カトリック	仏教	ヒンドゥー教
イ	カトリック	プロテスタント	ヒンドゥー教	仏教
ウ	プロテスタント	カトリック	ヒンドゥー教	仏教
エ	カトリック	プロテスタント	仏教	ヒンドゥー教



4

以下の各問いに答えよ。

問1 次の文章を読んで、（Ⅰ）、（Ⅱ）に適する語句の組み合わせとして正しいものを下の中から1つ選び、記号で答えよ。

【文章】1968年に制定された消費者保護基本法は、2004年に消費者の自立支援を基本理念とする（Ⅰ）に改正された。具体的な消費者支援制度として、契約自由の原則の例外である（Ⅱ）がある。（Ⅱ）により、消費者が製造業者の過失（欠陥への認識など）を証明しなくても、賠償を請求できるようになった。

- ア. Ⅰ－消費者基本法      Ⅱ－クーリング・オフ制度  
 イ. Ⅰ－消費者契約法      Ⅱ－クーリング・オフ制度  
 ウ. Ⅰ－消費者基本法      Ⅱ－製造物責任法（PL法）  
 エ. Ⅰ－消費者契約法      Ⅱ－製造物責任法（PL法）

問2 次の文章を読んで、（Ⅰ）、（Ⅱ）に適する語句の組み合わせとして正しいものを下の中から1つ選び、記号で答えよ。

【文章】情報通信技術（ICT）の発展とともに、（Ⅰ）と呼ばれるICTと金融の融合が進み、スマートフォンなどを使った支払い方法が普及しつつある。これらは従来の金融機関ではなく、ICT企業によって開発・提供されるものが多い。金融機関は中央銀行としての日本銀行や、（Ⅱ）のゆうちょ銀行など多くの種類が存在している。

- ア. Ⅰ－クラウドファンディング      Ⅱ－公的金融機関  
 イ. Ⅰ－フィンテック      Ⅱ－公的金融機関  
 ウ. Ⅰ－フィンテック      Ⅱ－民間金融機関  
 エ. Ⅰ－クラウドファンディング      Ⅱ－民間金融機関

問3 次のⅠ、Ⅱの公共料金は、下の表の①～④のどこに分類されるか、組み合わせとして正しいものを下の中から1つ選び、記号で答えよ。

- Ⅰ. 電気料金  
 Ⅱ. 公営水道料金

【表】

国が決定するもの	①
国が認可や上限を認可するもの	②
国に届け出るもの	③
地方公共団体が決定するもの	④

- ア. Ⅰ－②    Ⅱ－④      イ. Ⅰ－②    Ⅱ－③  
 ウ. Ⅰ－①    Ⅱ－③      エ. Ⅰ－①    Ⅱ－④

問4 次の公害・環境問題関連の年表中（Ⅰ）、（Ⅱ）に適する語句の組み合わせとして正しいものを下の中から1つ選び、記号で答えよ。

【年表】

年	できごと
1890	足尾銅山の鉱毒被害が拡大
1992	国連環境開発会議開催
1993	（Ⅰ）の制定
1997	地球温暖化防止京都会議開催
2001	（Ⅱ）の設置
2003	環境教育推進法制定

- ア. Ⅰ－公害対策基本法      Ⅱ－環境省  
 イ. Ⅰ－環境基本法          Ⅱ－環境庁  
 ウ. Ⅰ－公害対策基本法      Ⅱ－環境庁  
 エ. Ⅰ－環境基本法          Ⅱ－環境省

問5 次の表は、主要国（日本、ドイツ、フランス、アメリカ、イギリス）における直接税と間接税の直間比率（国税＋地方税）の比較を示したものである。表中のⅠ～Ⅲのうち日本とアメリカに適するものの組み合わせとして正しいものを下の中から1つ選び、記号で答えよ。

【表】

Ⅰ	Ⅱ	イギリス	Ⅲ	フランス
66 : 34	78 : 22	59 : 41	55 : 45	55 : 45

（注）日本は令和3年度（2021年度）実績額。諸外国はOECD “Revenue Statistics 1965-2022” による2021年の計数（ドイツは推計値）。

OECD “Revenue Statistics” の区分に従って作成しており、所得課税、給与労働力課税及び資産課税のうち流通課税を除いたものを直接税、それ以外の消費課税等を間接税等とし、両者の比率を直間比率として計算している。

- ア. 日本－Ⅰ      アメリカ－Ⅲ  
 イ. 日本－Ⅲ      アメリカ－Ⅱ  
 ウ. 日本－Ⅰ      アメリカ－Ⅱ  
 エ. 日本－Ⅲ      アメリカ－Ⅰ

5

次の文章を読み、以下の各問いに答えよ。

日本国憲法は、形式的には明治憲法の改正手続きに従って制定されたが、①主権原理を全く異にしており、実質的には、国民主権・平和主義（戦争の放棄）・②基本的人権の尊重の三大基本原理を有する新たな憲法であった。日本国憲法は、憲法を「国の最高法規」（第98条）と規定し、これに反する法律・命令、国の行為を無効とした。天皇や公務員には憲法を尊重し擁護する義務を課し、③裁判所には④違憲審査権を与えた。また、⑤憲法改正には慎重な手続きを規定している。

国会審議は衆議院と参議院に分かれている。両院は、委員会制度を採用している。委員会中心の国会審議は、議員の専門化や議事運営の効率化がはかれるという長所をもつが、関係省庁や圧力団体と結びつきやすく特定の利益集団と議員との癒着をもたらしやすいという課題もある。また、議決について⑥党議拘束の課題も指摘されている。

地方自治に目を向けると、日本の地域社会においては、少子高齢化が進む中、大幅に人口が減少し、行政サービスの提供すら困難になる自治体が増加している。地域再生のために政府は2005年に地域再生法を制定して対応しているが、⑦財源問題を含め地域の再生は今後の重要な政策課題の一つである。

問1 下線部①に関連して、次の社会契約説を比較した表のⅠ～Ⅲに当てはまる語句の組み合わせとして正しいものを、下の中から1つ選び、記号で答えよ。

思想家名	ホッブズ	ロック	ルソー
人間観	Ⅰ	Ⅱ	Ⅲ
自然状態	万人の万人に対する闘争	自然法が支配し、平和だが不完全な状態	各々孤立しているが、完全に自由・平等で自足している
国家・社会の契約	・絶対的権力に自然権を譲渡し絶対服従 ・自然状態を脱却するために国家を設立する	・個人相互の契約により共同社会を設立する ・人民の信託により政府を樹立し、自然状態を補完する	・人民の自発的意志によって、一般意志への服従を相互に契約し、共同社会を設立する

- ア. Ⅰ－人間は本来自然な感情をもつ未発達な存在      Ⅱ－人間は利己的動物  
Ⅲ－人間は本来理性的
- イ. Ⅰ－人間は本来理性的      Ⅱ－人間は本来自然な感情をもつ未発達な存在  
Ⅲ－人間は利己的動物
- ウ. Ⅰ－人間は利己的動物      Ⅱ－人間は本来自然な感情をもつ未発達な存在  
Ⅲ－人間は本来理性的
- エ. Ⅰ－人間は本来自然な感情をもつ未発達な存在      Ⅱ－人間は本来理性的  
Ⅲ－人間は利己的動物
- オ. Ⅰ－人間は利己的動物      Ⅱ－人間は本来理性的  
Ⅲ－人間は本来自然な感情をもつ未発達な存在
- カ. Ⅰ－人間は本来理性的      Ⅱ－人間は利己的動物  
Ⅲ－人間は本来自然な感情をもつ未発達な存在

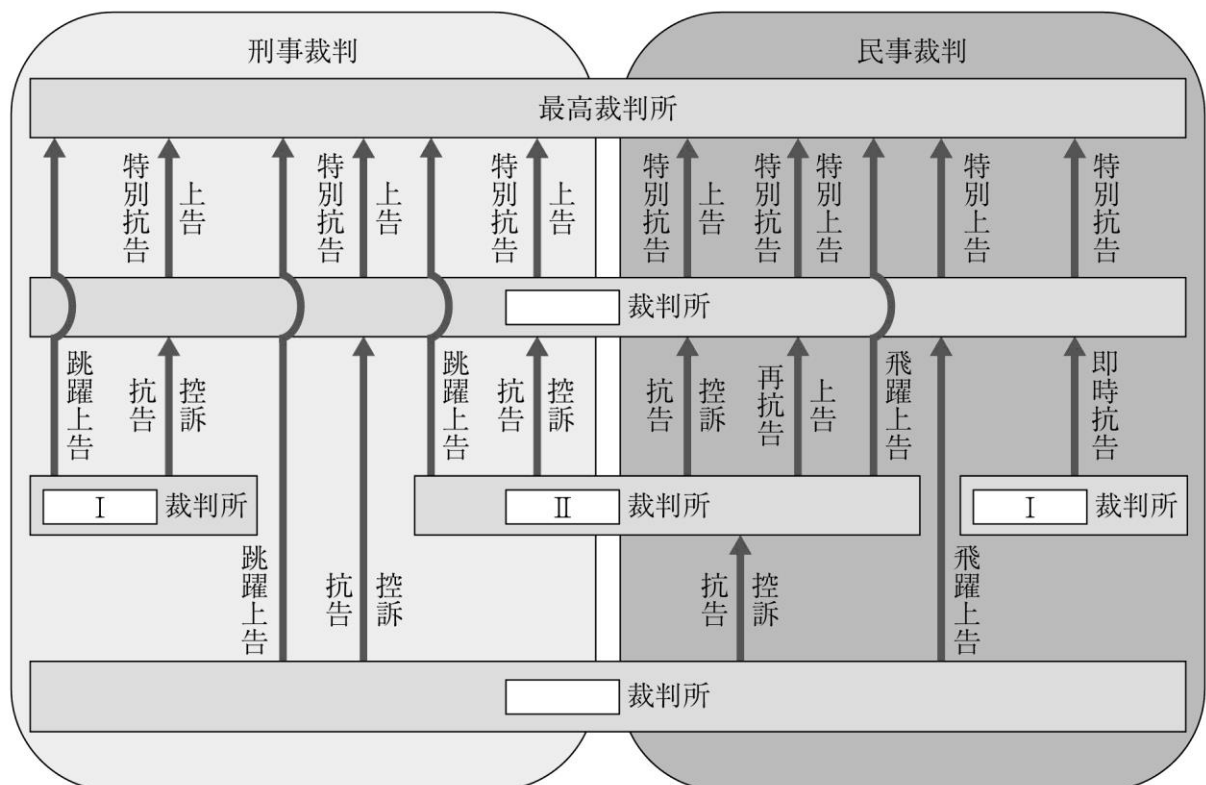
問2 下線部②に関連して、実質的平等を確保する観点から、従来社会で不利益を受けてきた人々への優遇措置が認められるという考え方が提唱されている。そのような考え方を何というか、答えよ。

問3 下線部②に関連して、プライバシーの権利について争われた裁判について正しいものを、次の中から1つ選び、記号で答えよ。

- ア. 那覇市情報公開取消訴訟                      イ. 「宴のあと」事件  
ウ. 堀木訴訟    エ. 国立マンション訴訟

問4 下線部③に関連して、2004年に犯罪被害者等基本法が制定されたのを受けて、2008年から設けられた被害者が公判に参加して意見などを述べることができる制度を何というか、答えよ。

問5 下線部③に関連して、日本の裁判制度を示す次の図のⅠ、Ⅱに当てはまる語句の組み合わせとして正しいものを下の中から1つ選び、記号で答えよ。



- ア. Ⅰ－地方      Ⅱ－家庭                      イ. Ⅰ－高等      Ⅱ－簡易  
ウ. Ⅰ－簡易      Ⅱ－高等                      エ. Ⅰ－家庭      Ⅱ－地方

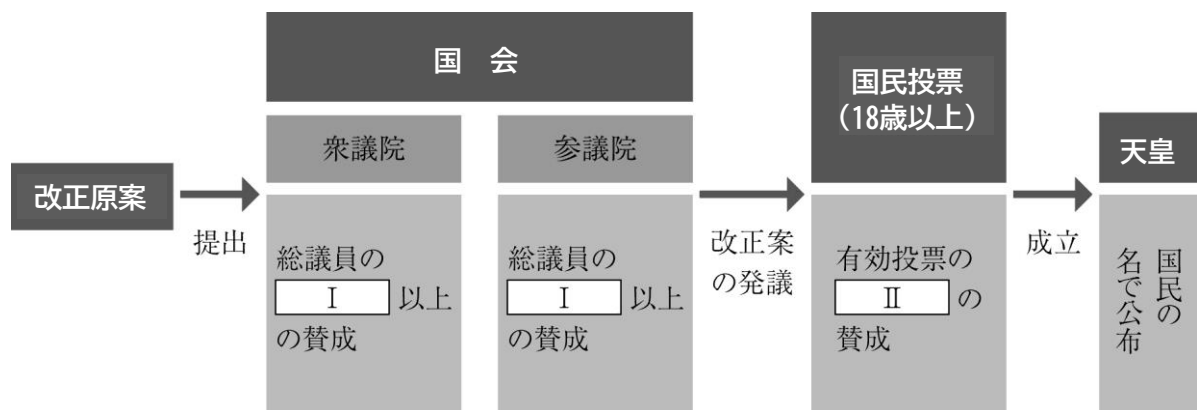
問6 下線部③に関連して、自衛隊や日米安保条約にかかわる裁判などでは、しばしば「高度な政治的判断が求められ、司法審査の範囲外である」とする考え方が採用された。この考え方を何というか、答えよ。

問7 下線部④に関連して、最高裁判所の主な違憲判決・決定について、次のⅠ～Ⅳを古い順から並べた場合、一番新しいものとして正しいものを次の中から1つ選び、記号で答えよ。

- ア. 郵便法違憲判決                      イ. 国籍法違憲訴訟  
 ウ. 再婚禁止期間規定違憲判決       エ. 在外選挙権制限違憲判決

問8 下線部⑤に関連して、衆参両議院に設置されている、憲法改正原案の提出権を持つ機関は何か、答えよ。

問9 下線部⑤に関連して、次の図のⅠ、Ⅱに当てはまる語句の組み合わせとして正しいものを下の中から1つ選び、記号で答えよ。



- ア. Ⅰ－2分の1      Ⅱ－4分の3      イ. Ⅰ－3分の2      Ⅱ－4分の3  
 ウ. Ⅰ－2分の1      Ⅱ－過半数      エ. Ⅰ－3分の2      Ⅱ－過半数

問10 下線部⑥の意味を簡潔に述べよ。

問11 下線部⑦に関連して、任意の自治体に寄付を行うことで、寄付金額の一部が所得税・住民税から控除される仕組みを何というか、答えよ。

6

次の文章を読み、以下の各問いに答えよ。

主権国家が国際社会を構成するようになったのは、カトリックとプロテスタントによる宗教戦争を発端とする三十年戦争を終了させるための講和条約である、a条約（1648年）締結以降である。これにより、それまでのヨーロッパで絶大であったローマ教皇の権威が弱まり、国家に権力が集中することになった。国際法を理論的に体系づけたのは、「国際法の父」として知られるオランダのbであった。彼は、自然法の立場から、国際社会にも諸国家が従わなければならない国際法があるとした。①国際社会における国家間の対立は、時として②武力による紛争に発展しやすい。軍縮がさけられている一方で③核開発はいまだ行われている。

日本の外交の課題の中には、日本固有の領土である④北方領土、竹島、尖閣諸島などに関することがある。戦後の日本の安全保障政策は、⑤日米安全保障条約に基づくアメリカとの同盟体制を軸に形成された。日本の防衛予算に計上されている在日アメリカ軍の駐留経費の日本側負担金をc予算と呼んでいる。

問1 文章中aに当てはまる語句は何か、答えよ。

問2 文章中bに当てはまる人物名は何か、答えよ。

問3 下線部①に関連して、次のⅠ、Ⅱの文の正誤の組み合わせとして正しいものを下の中から1つ選び、記号で答えよ。

- Ⅰ. 国際司法裁判所（ICJ）での裁判は、両当事国の合意を必要とするため、裁判に付されない紛争が多い。裁判の判決は法的拘束力をもつ。  
Ⅱ. 国際海洋法裁判所は、国連海洋法条約に基づいて、1996年に設置された。世界の海洋において発生したさまざまな紛争を解決するために活動し、その判決は法的拘束力をもつ。

- ア. Ⅰ－正    Ⅱ－正    イ. Ⅰ－正    Ⅱ－誤  
ウ. Ⅰ－誤    Ⅱ－正    エ. Ⅰ－誤    Ⅱ－誤

問4 下線部②に関連して、図1・図2の防衛費の上位10か国（2022年）について、Ⅰ～Ⅳに当てはまる国名は何か、それぞれ答えよ。

図1 （世界計に占める割合）

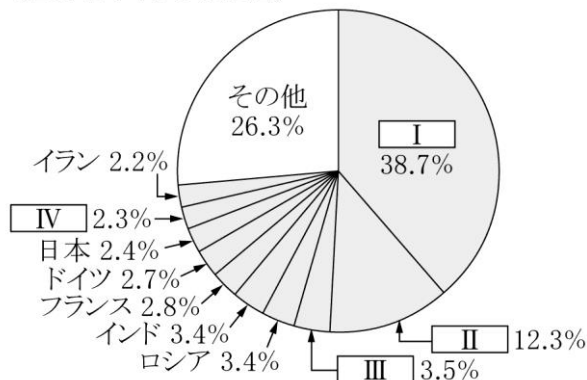



図2 （各国のGDPに占める割合）



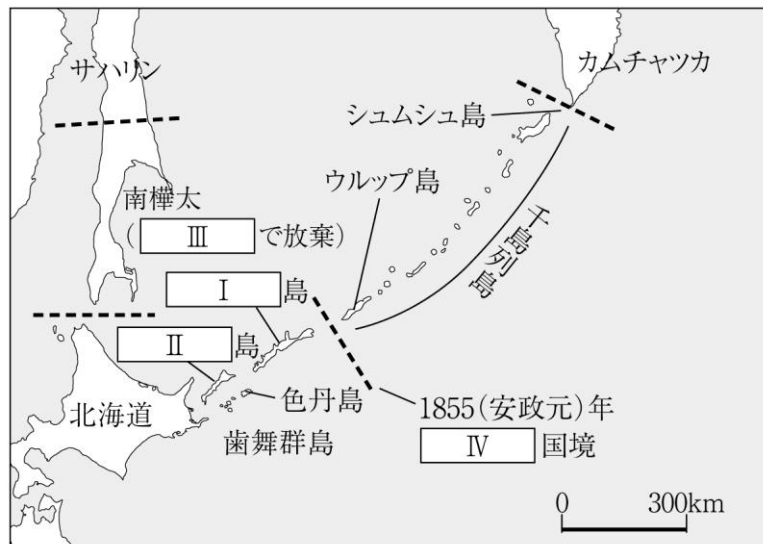
矢野恒太記念会『世界国勢図絵2023/24』

問5 下線部③に関連して、第五福竜丸事件（ビキニ事件）について、簡潔に説明せよ。

問6 下線部③に関連して、2009年4月にチェコのプラハで「核なき世界」を目指す演説（プラハ演説）を行い、同年10月にノーベル平和賞を受賞した人物は誰か、答えよ。

問 7 下線部④に関連して、次の地図のⅠ、Ⅱに当てはまる語句は何か、答えよ。

また、Ⅲ、Ⅳに当てはまる条約名の組み合わせとして正しいものを、下の中から1つ選び、記号で答えよ。



- |                   |             |
|-------------------|-------------|
| ア. Ⅲ－ポーツマス条約      | Ⅳ－日露通好条約    |
| イ. Ⅲ－サンフランシスコ平和条約 | Ⅳ－日露通好条約    |
| ウ. Ⅲ－ポーツマス条約      | Ⅳ－樺太・千島交換条約 |
| エ. Ⅲ－サンフランシスコ平和条約 | Ⅳ－樺太・千島交換条約 |

問 8 下線部⑤に関連して、次の表は在日アメリカ軍基地（施設・区域(専用施設)）の都道府県別面積を示すものである。表中のⅠ～Ⅳに示す府県のうち、沖縄県に当てはまるものを、下の中から1つ選び、記号で答えよ。（2024年1月1日現在）

都道府県名	面積（千㎡）	全体面積に占める割合
北海道	4274	1.63%
I	23744	9.04%
東京都	13177	5.02%
II	14730	5.61%
広島県	3536	1.35%
III	8672	3.30%
IV	184545	70.27%

- ア. I      イ. II      ウ. III      エ. IV

問9 文章中 c に当てはまる語句は何か、答えよ。

7

次の[A]、[B]の文章を読み、以下の各問いに答えよ。

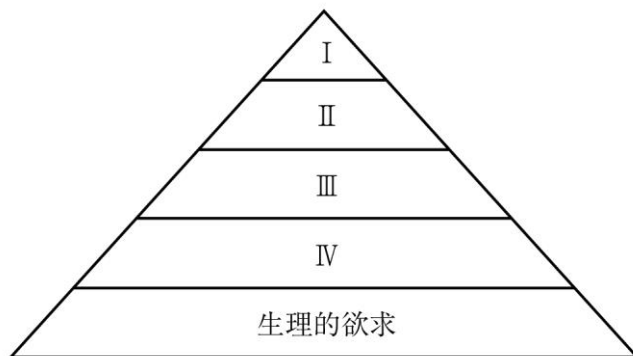
[A] 親に依存した子どもの状態を抜け出し、自分という存在を意識し、自分らしく生きたいという①欲求が高まる時期が青年期である。フランスの思想家ルソーは、青年期を第二の誕生と呼んでいる。アメリカの心理学者エリクソンは、②青年期を社会で自立するための準備期間と捉えた。また、心理学者マズローは、③人間の欲求を五つの階層に分類した。スイスの心理学者・精神分析学者である④ユングは、心のエネルギーが向かう方向によって性格を分類した。ドイツの文学者・詩人であるヘルマン＝ヘッセは、自己実現の過程などを描いた作品を残した。

問1 下線部①に関連して、同一の対象に愛と憎しみ、好ましさと恐ろしさなど、相反する感情や態度が同時に存在することを何というか。正しいものを次の中から1つ選び、記号で答えよ。

- ア. コンプレックス
- イ. トランス
- ウ. フラストレーション
- エ. アンビバレンス

問2 下線部②に関連して、このような社会的な責任や義務を免除されている状態を何というか。

問3 下線部③に関連して、「安全の欲求」は次の図のⅠ～Ⅳのどこに当てはまるか。正しいものを下の中から1つ選び、記号で答えよ。



- ア. Ⅰ    イ. Ⅱ    ウ. Ⅲ    エ. Ⅳ

問4 下線部④が説いた元型（アーキタイプ）のうち、男性の心のうちにある女性の魂を示すものとして正しいものを次の中から1つ選び、記号で答えよ。

- ア. アニムス
- イ. グレート＝マザー
- ウ. アニマ
- エ. シャドウ



【B】 諸子百家の中でも、最も早い春秋時代の末期に活躍した孔子の死後、人間の内面性に信頼を寄せ、仁と並んで義を重視したのが孟子である。孟子は、人間に生まれつきそなわっている仁・義・礼・智の四つの徳（四徳）の芽生えを【a】と呼び、これを大切に育てていけば、誰でも優れた人格者になることができるとした。その後、時を経て、朱子学や①陽明学が創設されていった。

近代の科学革命は、それまでの考え方に大きな変化を見せた。コペルニクスは地動説を唱えたり、【b】は楕円軌道などの惑星の運動法則を発見したりした。②新たな思想も生み出されたりした。その後の、社会主義思想の中でマルクスは、生産手段は固定化する傾向にあるため、階級闘争が生じ、階級間の矛盾が大きくなると、生産関係は新たな形態に移行せざるを得ない。これが革命であるとした。このような考え方を【c】と呼ぶ。

③和辻哲郎は、様々な文化について風土と生活の関連付から三つに分類した。

問5 文章中【a】～【c】に当てはまる語句をそれぞれ記入せよ。

問6 下線部①に関連して、陽明学の創始者である王陽明が述べた良知とは何か。簡潔に説明せよ。

問7 下線部②に関連して、次の文Ⅰ、Ⅱの正誤の組み合わせとして正しいものを下の中から1つ選び、記号で答えよ。

Ⅰ デカルトは、人間の身体も含めて、自然界に存在する物体は、振り子時計のように、さまざまな部品を組み合わせでつくられた機械のようなものであるという『機械論的自然観』を述べた。

Ⅱ ライプニッツは、自然は神そのものの現れ（神即自然）であり、あらゆる出来事は神に起因するものであるという汎神論を説いた。

ア. Ⅰ－正      Ⅱ－正      イ. Ⅰ－正      Ⅱ－誤  
ウ. Ⅰ－誤      Ⅱ－正      エ. Ⅰ－誤      Ⅱ－誤

問8 下線部③に関連して、下の図のⅠ～Ⅲに当てはまる語句の組み合わせとして正しいものを下の中から1つ選び、記号で答えよ。

類型		Ⅰ	Ⅱ	Ⅲ
風土	自然	・人に恵みと一過性の暴威をもたらす ・水稻耕作などの農耕生活	・人を寄せつけない乾燥した土地と厳しい自然 ・遊牧生活	・牧草地帯に恵まれた穏やかな自然 ・農耕と牧畜
	人間と宗教	・定住性 ・自然に対しては受容的で忍従的 ・仏教、ヒンドゥー教	・移動性 ・自然に対しては戦闘的で対抗的 ・ユダヤ教、イスラーム	・開拓と定住性 ・自然に対しては主体的で征服的 ・キリスト教が発展

ア. Ⅰ－砂漠型      Ⅱ－牧場型      Ⅲ－モンスーン型  
イ. Ⅰ－モンスーン型      Ⅱ－砂漠型      Ⅲ－牧場型  
ウ. Ⅰ－牧場型      Ⅱ－モンスーン型      Ⅲ－砂漠型  
エ. Ⅰ－モンスーン型      Ⅱ－牧場型      Ⅲ－砂漠型  
オ. Ⅰ－砂漠型      Ⅱ－モンスーン型      Ⅲ－牧場型  
カ. Ⅰ－牧場型      Ⅱ－砂漠型      Ⅲ－モンスーン型

8

次の[A]、[B]の文章を読み、以下の各問いに答えよ。

[A] 1995年に設立された①WTO体制下で、世界の貿易は大きく変貌した。発展途上国を含めてほぼすべての国が自由貿易体制に統合されるようになり、知的財産の保護規定が設けられたりした。先進国の農作物市場の自由化が始まった。全世界的な貿易自由化を中心とする経済のグローバル化（グローバリゼーション）は、かえって南北格差を拡大させる傾向をみせはじめた。

金融活動の規制緩和は、国境を越えた資本取引や地球規模での金融機関の活動による金融のグローバル化をもたらした。今日の②国際金融市場で大きな影響力をもつ [a] と呼ばれる、特定の富裕層や企業から私的に大口の資金を集めて外国為替や株式などに投資し、利益を出資者に分配する投資信託が、本拠地をタックス・ヘイブンにおくことが多く、行政機関からの規制や監督を免れてきた。

問1 下線部①に関連して、GATTとWTOの違いを整理した次の図のⅠ～Ⅳに当てはまる語句の組み合わせとして正しいものを下の中から1つ選び、記号で答えよ。

	GATT	WTO
形態	多国間協定	国際機関
対象	Ⅰ	Ⅱ
違反国への報復	Ⅲ	Ⅳ

- ア. Ⅰ－物品のみ  
Ⅱ－サービスや知的財産権まで含む  
Ⅲ－全加盟国の反対がない限り実施できる。  
Ⅳ－全会一致方式で決定するため、当事国が反対すれば実施できない。

- イ. Ⅰ－物品のみ  
Ⅱ－サービスや知的財産権まで含む  
Ⅲ－全会一致方式で決定するため、当事国が反対すれば実施できない。  
Ⅳ－全加盟国の反対がない限り実施できる。

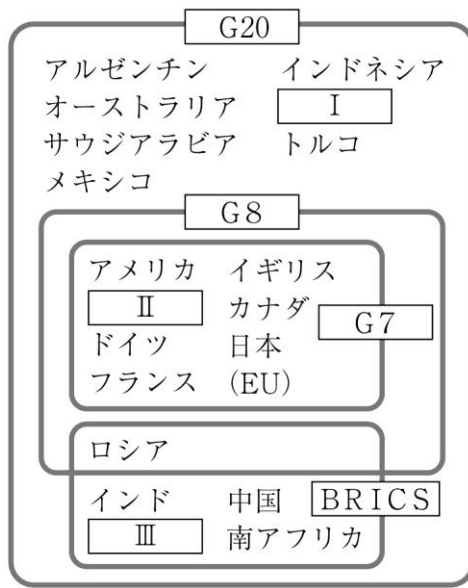
- ウ. Ⅰ－サービスや知的財産権まで含む  
Ⅱ－物品のみ  
Ⅲ－全会一致方式で決定するため、当事国が反対すれば実施できない。  
Ⅳ－全加盟国の反対がない限り実施できる。

- エ. Ⅰ－サービスや知的財産権まで含む  
Ⅱ－物品のみ  
Ⅲ－全加盟国の反対がない限り実施できる。  
Ⅳ－全会一致方式で決定するため、当事国が反対すれば実施できない。

問2 下線部②に関連して、「レバレッジ」と「デリバティブ」の相違を簡潔に述べよ。

問3 文章中 [a] に当てはまる語句は何か、答えよ。

問4 次の図のⅠ～Ⅲに当てはまる国名の組み合わせとして正しいものを、下の中から1つ選び、記号で答えよ。



- ア. Ⅰ－イタリア      Ⅱ－韓国      Ⅲ－ベトナム  
 イ. Ⅰ－韓国      Ⅱ－イタリア      Ⅲ－ベトナム  
 ウ. Ⅰ－イタリア      Ⅱ－韓国      Ⅲ－ブラジル  
 エ. Ⅰ－韓国      Ⅱ－イタリア      Ⅲ－ブラジル

[B] 今日では、①公害を防止するためにいくつかの②原則が確立している。しかしながら③地球温暖化やオゾン層の破壊、野生生物種の減少をはじめとした④地球環境問題が生じている。

問5 下線部①に関連して、「産業公害」と「都市公害（都市生活型公害）」の相違を、具体的な公害を示しながら簡潔に説明せよ。

問6 下線部②に関連して、公害防止の原則などを説明した次の文章のうち、誤っているものを次の中から1つ選び、記号で答えよ。

- ア. ゼロ・エミッションとは、排出量にあった二酸化炭素量を、植林・森林保護活動等の活動で相殺しようとする取り組みである。  
 イ. 環境影響評価（環境アセスメント）は、地域開発が環境にどのような影響を及ぼすかを事前に予測・評価するものである。  
 ウ. 無過失責任の原則とは、企業に故意や過失がなくても賠償責任を義務づけるものである。  
 エ. 汚染者負担の原則（P P P）は、公害防止費用や企業が社会に与えた損害は、本来、企業が負担すべきであるという考え方である。

問7 下線部③に関連して、次の表は主な国の二酸化炭素排出量を示したものである。表中のⅠ～Ⅲに当てはまる国名は何か、それぞれ答えよ。

(百万 t)

国名	二酸化炭素排出量 (2020年)
Ⅰ	10081
Ⅱ	4258
ドイツ	590
インド	2075
Ⅲ	1552
日本	990

問8 下線部④に関連して、次の条約や議定書とその説明として誤っているものを次の中から1つ選び、記号で答えよ。

	条約・議定書	説明
ア	ワシントン条約	絶滅の恐れのある野生動植物の保護を目的としたもの。正式名称は「絶滅のおそれのある野生動植物の種の国際取引に関する条約」。
イ	モントリオール議定書	地球上のあらゆる生物種の多様性を、その生息する生態系とともに保存、利用し、遺伝子資源からの利益を公平に分配することを目的としたもの。
ウ	ラムサール条約	渡り鳥などの生息地として重要度の高い湿地を登録し、保護を義務づけることで、水鳥を保護することを目的としたもの。
エ	気候変動枠組み条約 (地球温暖化防止条約)	大気中の炭酸ガスなど、温室効果ガスの濃度を、地球の気候に危険な影響を及ぼさない水準に安定化させ、地球温暖化を防止することを目的としたもの。

高校 公民	受験 番号		氏名	
----------	----------	--	----	--

## 令和8年度長崎県公立学校教員採用選考試験解答用紙

1

5点（各1点）

問1	インダス文明	問2	マルコ＝ポーロ
問3	エ	問4	ナポレオン（ナポレオン1世）
問5	ア		

2

5点（各1点）

問1	イ
問2	ウ
問3	ウ
問4	イ
問5	ア

高校 公民	受験 番号		氏名	
----------	----------	--	----	--

令和 8 年度長崎県公立学校教員採用選考試験解答用紙

3

5 点（各 1 点）

問 1	ウ
問 2	ア
問 3	ウ
問 4	エ
問 5	イ

4

5 点（各 1 点）

問 1	ウ
問 2	ウ
問 3	ア
問 4	エ
問 5	ウ

高校 公民	受験 番号		氏名	
----------	----------	--	----	--

令和8年度長崎県公立学校教員採用選考試験解答用紙

5

20点（問1 問2 問4 問6 問8 問11 各2点、問10 4点、その他 各1点）

問 1	オ	問 2	アフーマティブ・アクション
問 3	イ	問 4	被害者参加制度
問 5	エ	問 6	統治行為論
問 7	ウ	問 8	憲法審査会
問 9	エ		
問10	国会での採決などにあたり、各政党が所属議員に党としての賛否に従うことを強制すること。		
問11	ふるさと納税制度		

高校 公民	受験 番号		氏名	
----------	----------	--	----	--

## 令和8年度長崎県公立学校教員採用選考試験解答用紙

6

20点（問6 問8 問9 各2点、問5 4点、その他 各1点）

問1	ウエストファリア		問2	グロティウス	
問3	ア				
問4	I	アメリカ	II	中国	
	III	イギリス	IV	サウジアラビア	
問5	1954年に太平洋ビキニ環礁近海で日本の漁船・第五福竜丸などがアメリカの水爆実験による「死の灰」を浴び、のちに乗組員が死亡した事件。				
問6	オバマ				
問7	I	択捉	II	国後	
	記号	イ			
問8	エ				
問9	思いやり				



高校 公民	受験 番号		氏名	
----------	----------	--	----	--

令和8年度長崎県公立学校教員採用選考試験解答用紙

7

19点（問6 4点、問1 問3 問4 各1点、その他 各2点）

A	問1	エ		問2	心理・社会的モラトリアム
	問3	エ		問4	ウ
B	問5	a	四端		
		b	ケプラー		
		c	唯物史観		
	問6	人間に生まれながらにそなわっている、善悪を分別する心の本体。			
	問7	イ		問8	イ

高校 公民	受験 番号		氏名	
----------	----------	--	----	--

## 令和8年度長崎県公立学校教員採用選考試験解答用紙

8

21点（問2 問5 各4点、問7 各1点、その他 各2点）

A	問1	イ		
	問2	レバレッジは借入金を組み合わせるなどして小さな元手で大きな運用を可能にする手法であり、デリバティブは金融取引をする際のリスクを低くする手法であるといった違いがある。		
	問3	ヘッジファンド	問4	エ
B	問5	「産業公害」とは産業活動によってもたらされる公害であり、工場廃水による水質汚濁などがある。一方で「都市公害（都市生活型公害）」は、都市への産業や人口集中によっておこる公害であり、ごみ問題などがある。		
	問6	ア		
	問7	I	中国	
		II	アメリカ	
		III	ロシア	
問8	イ			