

6 九州地方に関する次の各問いに答えよ。

1 次の文を読んで、各問いに答えよ。

九州地方の北部には筑後川の下流域に(①)平野が広がっている。中央部には、(②)山の噴火で火山灰や溶岩が噴き出した後にできた大きなくぼ地の(③)がある。南部には(④)とよばれる過去の大規模な火山活動の噴出物が厚く積もってきた(④)台地が広がっている。

(1) 文中の(①)(②)について、右の資料1のAの平野名とBの火山名を書け。

(2) 文中の(③)(④)に当てはまる語句を書け。なお、同じ番号には同じ語句が入るものとする。

2 右の資料2の①～③は、資料1の三つの都市C・D・Eのものである。雨温図と都市の組合せとして正しいものを次の(ア)～(エ)から一つ選び、記号で答えよ。

- (ア) ①-C ②-D ③-E
- (イ) ①-E ②-C ③-D
- (ウ) ①-D ②-C ③-E
- (エ) ①-D ②-E ③-C

3 次の資料3の(X)(Y)に当てはまる県の所在地を資料4のA～オから一つずつ選び、記号で答えよ。

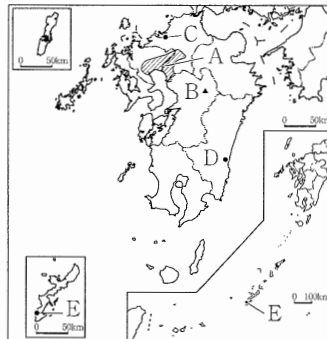
資料3 野菜の主産地(2021年産収獲量/主産県調査)

トマト		ピーマン	
(X)	132 500	茨 城	33 400
北海道	65 200	(Y)	26 800
愛 知	49 200	鹿児島	13 300
茨 城	47 600	高 知	13 000
千 葉	32 500		

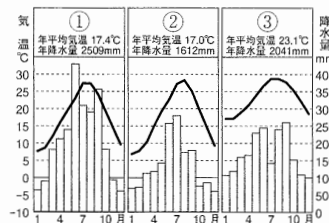
(単位：t)

(「日本国勢図会2023/24」より作成)

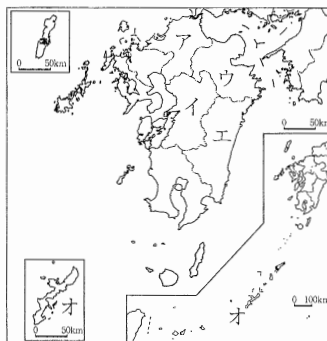
資料1



資料2 九州地方の主な都市の雨温図



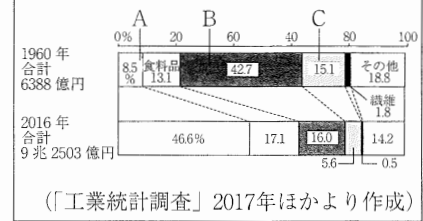
資料4



4 右の資料5は、北九州工業地帯(工業地域)の工業製品出荷額の内訳を表したグラフである。グラフ中のA～Cに当てはまるものの組合せとして正しいものを次の(ア)～(エ)から一つ選び、記号で答えよ。

- (ア) A-金属 B-機械 C-化学
- (イ) A-機械 B-化学 C-金属
- (ウ) A-化学 B-金属 C-機械
- (エ) A-機械 B-金属 C-化学

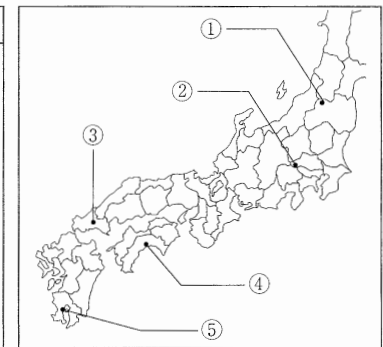
資料5



(「工業統計調査」2017年ほかより作成)

7 次の年表と地図を見て、各問いに答えよ。

年	出来事
1868	五箇条の御誓文
1869	(①)が行われる・・・A
	↑ X ↓
1874	板垣退助らが(②)を政府に提出する
	↑ Y ↓
1889	大日本帝国憲法の発布・・・B
1890	第1回帝国議会・・・C



1 年表中のAは新政府が、藩主に土地と人民を政府に返させた出来事である。年表中の(①)に当てはまる語句を書け。

2 年表中のXの期間中の出来事として正しいものを、次の(ア)～(エ)から全て選び、記号で答えよ。

- (ア) 地租改正が実施される
- (イ) 戊辰戦争が始まる
- (ウ) 琉球藩を廃止して沖縄県が設置される
- (エ) 廃藩置県が行われる

3 年表中の(②)に当てはまる語句を書け。

4 年表中のYの期間には、士族の反乱や民権派が関係した事件が度々起こった。次の(ア)(イ)の出来事に関係のある場所を、地図中の①～⑤からそれぞれ一つ選び、記号で答えよ。

- (ア) 西南戦争 (イ) 秩父事件

5 年表中のBについて、この憲法はおもにドイツの憲法を参考に定められた。その理由を「君主」という語句を用いて、簡潔に説明せよ。

6 年表中のCと同じ年に、最初の衆議院議員の総選挙が行われた。この選挙の有権者の全人口に対する割合は何%か。次の(ア)～(エ)から一つ選び、記号で答えよ。

- (ア) 1.1% (イ) 3.3% (ウ) 5.5% (エ) 10.1%