

受験番号	
------	--

令和 8 年度大阪府公立学校教員採用選考テスト

高等学校 地理歴史（日本史） 解答用紙 （2枚のうち1）

5

得点	
----	--

--

問 Ⅰ	(1) ア	5	／	(1) イ	堺	京都	／	(1) ウ	糸割符	／	
	(2) ア	検見（毛見）	／	(2) イ	4		／				
	(3) ア	参勤交代 （参観交替）	／	(3) イ	3・4		／				
	(3) ウ	産地から貿易港である横浜へ直送し、江戸へ入る品物が減少することで、物価が高騰したので、貿易港への直送を禁止し、江戸問屋に価格の決定権を持たせるために必ず江戸を経由するように流通経路を変えようとした。								／	
	(4) ア	松平定信	／	(4) イ	田沼		／	(4) ウ	3	／	

受験番号	
------	--

令和8年度大阪府公立学校教員採用選考テスト

高等学校 地理歴史（日本史） 解答用紙（2枚のうち2）

5（続き）

--

問
2

(1) ア	時事新報	／	(1) イ	1・3	／	(1) ウ	甲申政変 (甲申事変)	／												
(2) ア	大津事件 (湖南事件)	／	(2) イ	3・4	／	(2) ウ	陸奥宗光	／												
(3) ア	第	一	次	世	界	大	戦	中	、	ア	メ	リ	カ	が	交	戦	諸	国	へ	の
	輸	出	に	よ	っ	て	好	況	に	な	り	、	日	本	は	生	糸	を	中	心
	と	し	て	対	米	輸	出	を	急	増	さ	せ	た	。	ま	た	、	イ	ギ	リ
	ス	が	ア	ジ	ア	市	場	か	ら	後	退	す	る	の	に	伴	っ	て	、	日
	本	の	綿	製	品	輸	出	が	増	大	し	た	。							
(3) イ	5	／																		
(3) ウ	最	後	の	元	老	と	な	っ	た	西	園	寺	公	望	は	、	衆	議	院	に
	勢	力	が	あ	る	政	党	の	指	導	者	を	後	継	首	相	に	推	薦	す
	る	こ	と	で	政	党	政	治	の	保	持	に	寄	与	し	た	。			
(4) ア	東方会議	／	(4) イ	2	／	(4) ウ	1・5	／												

高等学校 地理歴史（日本史）

解答についての注意点

- 1 解答用紙は、マーク式解答用紙と記述式解答用紙の2種類があります。
- 2 大問 **1** ～大問 **4** については、マーク式解答用紙に、大問 **5** については、記述式解答用紙に記入してください。
- 3 解答用紙が配付されたら、まずマーク式解答用紙に受験番号等を記入し、受験番号に対応する数字を、鉛筆で黒くぬりつぶしてください。
記述式解答用紙は、全ての用紙の上部に受験番号のみを記入してください。
- 4 大問 **1** ～大問 **4** の解答は、選択肢のうちから、**問題で指示された解答番号**の欄にある数字のうち一つを黒くぬりつぶしてください。
例えば、「解答番号は 」と表示のある問題に対して、「**3**」と解答する場合は、解答番号 の欄に並んでいる ① ② ③ ④ ⑤ の中の ③ を黒くぬりつぶしてください。
- 5 間違ってぬりつぶしたときは、消しゴムできれいに消してください。二つ以上ぬりつぶされている場合は、その解答は無効となります。
- 6 その他、係員が注意したことをよく守ってください。

指示があるまで中をあけてはいけません。

I 次の(1)～(7)の問いに答えよ。

(1) 紀元前1世紀から4世紀にかけての古代ローマについて述べた文として、誤っているものを次の1～5から一つ選べ。解答番号は

- 1 カエサルはポンペイウス、クラッススとともに第一回三頭政治を結成し、ガリアを平定したのちに独裁官となった。
- 2 オクタヴィアヌスはサラミスの海戦においてアントニウスを破り、元老院よりアウグストゥスの称号を与えられた。
- 3 五賢帝最後の皇帝であるマルクス＝アウレリウス＝アントニヌスは、ストア派の哲学者としても知られ、「自省録」を著した。
- 4 ディオクレティアヌスは軍人皇帝時代の混乱をおさめ、テトラルキア（四分統治）を行った。
- 5 コンスタンティヌスはミラノ勅令においてキリスト教を公認したのち、コンスタンティノープル（コンスタンティノポリス）を新しい首都とした。

(2) ルネサンスについて述べた文として、誤っているものを次の1～5から一つ選べ。

解答番号は

- 1 スペインの小説家であるセルバンテスは、「ガリバー旅行記」を書いた。
- 2 オランダの人文学者であるエラスムスは、「愚神礼賛」を書いた。
- 3 イタリアの画家であるボッティチェリは、「春」「ヴィーナスの誕生」を描いた。
- 4 ポーランドの天文学者であるコペルニクスは、「天球の回転について」の中で、地動説を唱えた。
- 5 イギリスの劇作家であるシェークスピアは、「ハムレット」「ベニスの商人」等の悲劇・喜劇を書いた。

(3) ムガル帝国第5代皇帝で、インドの代表的なイスラム建築であるタージ＝マハルを建てた人物を次の1～5から一つ選べ。解答番号は

- 1 バーブル
- 2 フマーユーン
- 3 アクバル
- 4 シャー＝ジャハーン
- 5 アウラングゼーブ

(4) 17世紀から19世紀にかけての中国について述べた次のア～エを、古い順に左から右へ並べた場合に、正しいものを次の1～5から一つ選べ。解答番号は

- ア 道光帝の時代、アヘン戦争に敗れて、南京条約が結ばれた。
- イ 雍正帝の時代、軍機を司る目的で軍機処が設けられた。
- ウ 康熙帝の時代、ロシアとの間にネルチンスク条約が結ばれ、国境が画定した。
- エ 乾隆帝の時代、中国最大の叢書である「四庫全書」が編纂された。

- 1 ウ → イ → エ → ア
- 2 イ → ウ → エ → ア
- 3 ウ → イ → ア → エ
- 4 イ → ウ → ア → エ
- 5 ウ → エ → イ → ア

(5) 17世紀から20世紀にかけての東南アジアについて述べた文として、正しいものを次の1～5から一つ選べ。解答番号は

- 1 インドネシアでは、香料貿易の利権をめぐり、イギリスとフランスの間でアンボイナ事件が起こった。
- 2 ビルマでは、コンバウン朝がフランスとの戦いに敗れ、滅亡した。
- 3 タイでは、ラーマ5世が国内の近代化政策をすすめ、イギリスやフランスの干渉を受けながらも、国の独立を維持した。
- 4 フィリピンは、米西戦争にスペインが勝利した結果、スペイン領となった。
- 5 ベトナムでは、ホー＝チ＝ミンが日本への留学をベトナム人に呼びかける東遊運動を起こした。

(6) 17世紀から18世紀にかけてのイギリスについて述べた文として、誤っているものを次の1～5から一つ選べ。解答番号は

- 1 スチュアート朝を開いたジェームズ1世は、王権神授説を唱えた。
- 2 清教徒革命でチャールズ1世が処刑された後、クロムウェルが独裁政治を行った。
- 3 ジェームズ2世のカトリック復興政策等に対し、名誉革命が起こった。
- 4 メアリ2世とウィリアム3世が王位につき、権利の章典が制定された。
- 5 アン女王の死後、ジョージ1世が即位し、テューダー朝が始まった。

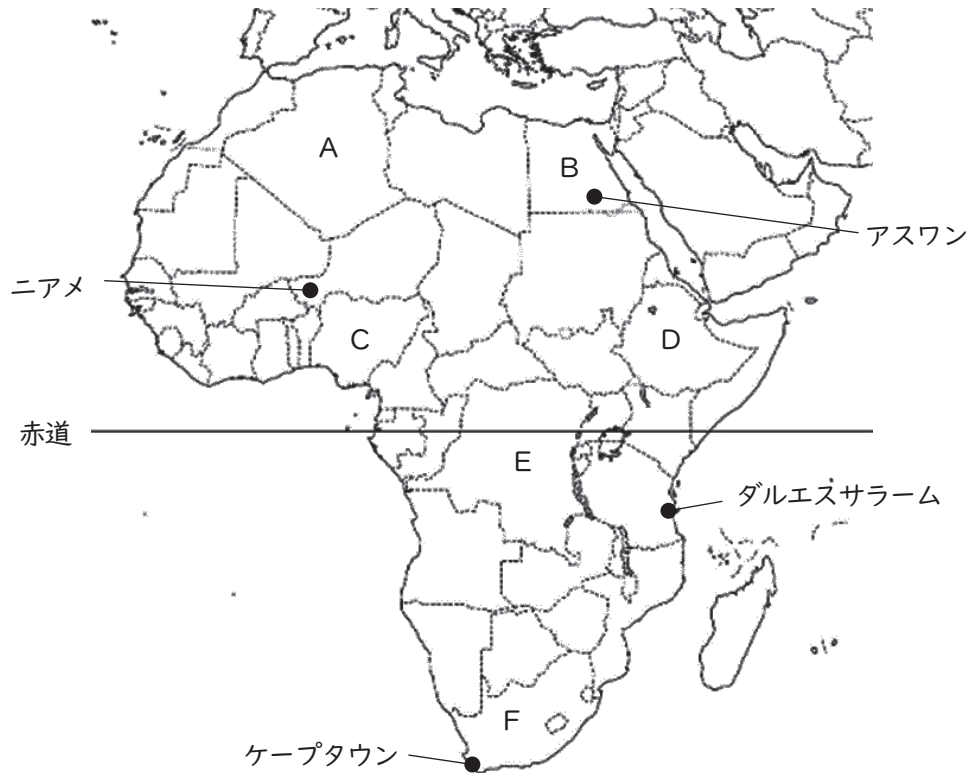
(7) 20世紀のできごとについて述べた文として、正しいものを次の1～5から一つ選べ。
解答番号は

- 1 中国の毛沢東とインドのネルーは、共同で平和五原則を発表した。
- 2 インドネシアのジャカルタで開かれたアジア・アフリカ会議において、平和十原則が採択された。
- 3 エジプトの軍人であるナギブは、革命を成功させ、エジプト共和国初代大統領となった。
- 4 インドネシア国民党を結成したスハルトは、インドネシア共和国初代大統領となった。
- 5 カンボジアの政治家であるシハヌークは、イギリスからの独立を達成した。

2 地理に関する次の問1～問3の問いに答えよ。

問1 下の図1はアフリカの周辺を示したものであり、図1中のA～Fは国を示している。次の(1)～(2)の問いに答えよ。

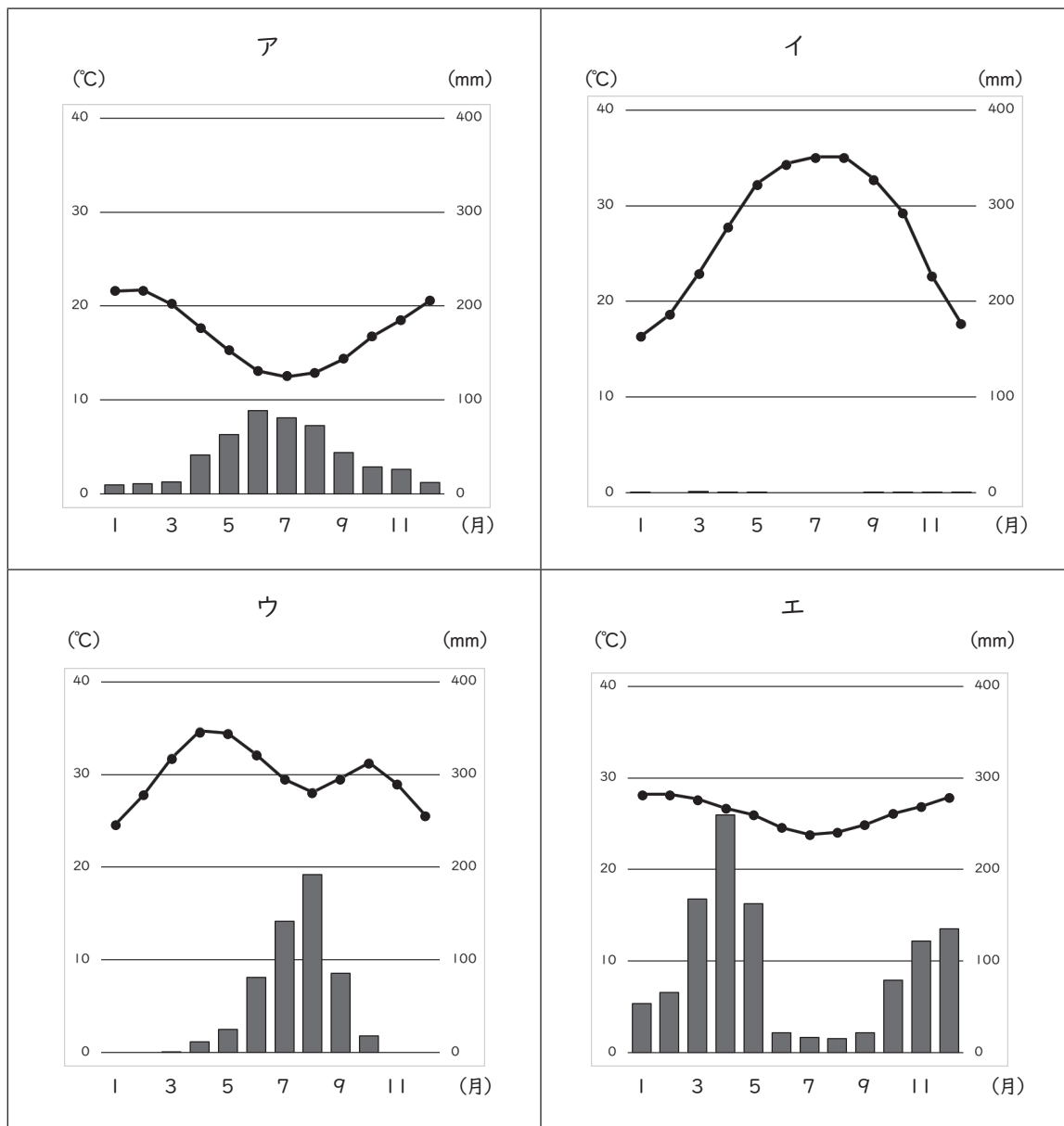
図1



(1) 図1中のA～Fの国及びアフリカについて説明している文として正しいものはどれか。1～5から一つ選べ。解答番号は

- 1 A国とB国の公用語はアラビア語であり、イスラーム（イスラム教）が多く信仰されている。A国の北岸にはアトラス山脈が走っており、B国には南北にナイル川が貫流している。ナイル川河口の東にはスエズ運河があり、紅海と大西洋を結んでいる。
- 2 C国は、アフリカ最多の人口を有する国で、西はカカオ豆の生産が盛んなガーナと国境と接している。C国は、アフリカ最大の産油国であり、OPEC加盟国である。
- 3 アフリカ連合（AU）の本部は、D国の首都であるアディスアベバに置かれ、アフリカ連合には2025年2月現在、西サハラ（サハラ・アラブ民主共和国）を含むアフリカ55の国・地域が加盟している。
- 4 E国からF国にかけて、カッパーベルト（コッパーベルト）とよばれる世界有数の銅鉱床地帯が広がっている。E国の公用語はフランス語であり、中央部をニジェール川が貫流している。
- 5 F国は、アフリカ大陸最南端の国であり、ブラジル・トルコ・インド・中国とともにBRICSを構成している。F国にあるカラハリ砂漠南縁部にはサヘル地域が広がっている。

(2) 次のア～エのグラフは、図1中のアスワン、ケープタウン、ダルエスサラーム、ニアメの月平均気温と月降水量をそれぞれ示したものである。ア～エのグラフに該当する都市の組合せとして正しいものはどれか。1～5から一つ選べ。解答番号は 9



(『理科年表2025』より作成)

	ア	イ	ウ	エ
1	ケープタウン	アスワン	ニアメ	ダルエスサラーム
2	ニアメ	ケープタウン	アスワン	ダルエスサラーム
3	ダルエスサラーム	アスワン	ニアメ	ケープタウン
4	ケープタウン	アスワン	ダルエスサラーム	ニアメ
5	ニアメ	アスワン	ケープタウン	ダルエスサラーム

問2 次の(1)～(4)の問いに答えよ。

(1) 次の表1は日本・中国・EU(ヨーロッパ連合)の3つの国・地域とアメリカ合衆国の貿易について示したものである。表1中の国・地域A、B、Cに該当する正しい組合せはどれか。1～5から一つ選べ。解答番号は

表1

	アメリカ合衆国への輸出(百万ドル)			アメリカ合衆国から輸入(百万ドル)		
	2000年	2010年	2022年	2000年	2010年	2022年
A	150,632	123,556	154,445	65,252	60,543	80,305
B	107,615	382,954	575,688	16,252	91,878	153,837
C	217,190	320,742	527,513	187,772	224,410	372,356

EUの構成国は、2000年15か国、2010年27か国、2022年27か国。
(『データブック オブ・ザ・ワールド』2024年版より作成)

	A	B	C
1	日本	EU(ヨーロッパ連合)	中国
2	日本	中国	EU(ヨーロッパ連合)
3	EU(ヨーロッパ連合)	中国	日本
4	中国	EU(ヨーロッパ連合)	日本
5	中国	日本	EU(ヨーロッパ連合)

(2) 次の文は領域について述べたものである。文中のア～ウに当てはまる語句の正しい組合せはどれか。1～5から一つ選べ。解答番号は

国家の領域は、領土、領海、領空から成り立っている。日本では海岸線から（ ア ）以内を領海と定めている。領海の外側に海岸の基線から測って200海里までの範囲内で設定される水域は排他的経済水域（EEZ）といわれ、さらにその外側の（ イ ）はすべての国に開放されている。なお、日本の領海、排他的経済水域（EEZ）の合計面積は447万km²で国土面積の約（ ウ ）に及ぶ。

	ア	イ	ウ
1	10海里	公海	18倍
2	10海里	大洋	12倍
3	12海里	公海	18倍
4	12海里	大洋	18倍
5	12海里	公海	12倍

(3) 次の表2は、2022（令和4）年における米、茶、かんしょ、みかんの生産量が多い上位3都道府県を示したものである。また、下の表3のア～エの文は、表2中のA～Dの都府県について説明している文である。A～Dの都府県に該当する正しい組合せはどれか。1～5から一つ選べ。

解答番号は 12

表2

米		茶		かんしょ		みかん	
新潟県	8.7%	B	37.0%	C	29.5%	D	22.4%
北海道	7.6%	C	34.6%	茨城県	27.3%	愛媛県	16.0%
A	6.3%	三重県	6.8%	千葉県	12.5%	B	15.1%

（『日本国勢図会』2023／24年版、2024／25年版より作成）

表3

ア	この都府県は、日本で最も大きな半島の西半を占め、沿岸を黒潮が流れている。この都府県は、2022（令和4）年におけるうめやかき（果実）の生産量も全国1位である。
イ	この都府県の臨海部には、太平洋ベルトに位置する工業地域が広がっており、国の特別史跡である登呂遺跡もある。
ウ	この都府県の北西部には、東アジア最大級の原生的なブナの自然林が残されている山地があり、この山地は世界自然遺産として登録されている。
エ	この都府県の面積の約6割は、噴火のときの火砕流や、空中に舞いあがった軽石や火山灰などが堆積したシラスが覆っている。この都府県の離島には、日本最大のロケット発射場である宇宙センターもある。

	A	B	C	D
1	ア	イ	ウ	エ
2	イ	ウ	エ	ア
3	ウ	エ	ア	イ
4	ウ	イ	エ	ア
5	エ	イ	ウ	ア

(4) 次の表4は、2022年10月1日における東京都、大阪府、島根県、沖縄県の年齢別人口割合及び産業別人口構成を示したものである。表4中の都府県A～Dに該当する正しい組合せはどれか。

1～5から一つ選べ。解答番号は

表4

都府県	年齢別人口割合 (%)			産業別人口構成 (%)		
	0～14歳	15歳～64歳	65歳以上	第1次産業	第2次産業	第3次産業
A	11.4	60.9	27.7	0.3	21.1	78.6
B	12.0	53.3	34.7	4.9	22.8	72.3
C	16.3	60.2	23.5	3.4	14.7	81.8
D	10.9	66.3	22.8	0.3	14.3	85.5

(『日本国勢図会』2023／24年版、2024／25年版より作成)

	A	B	C	D
1	島根県	大阪府	沖縄県	東京都
2	東京都	島根県	沖縄県	大阪府
3	東京都	沖縄県	大阪府	島根県
4	大阪府	島根県	東京都	沖縄県
5	大阪府	島根県	沖縄県	東京都

問3 下の図2は、国土地理院が発行する地形図『徳島』(平成31年1月1日発行)の一部を120%に拡大したものである。下の文は、図2について読み取った内容をまとめたものである。文中のア～エに当てはまる語句の正しい組合せはどれか。1～5から一つ選べ。解答番号は 14

図2



- ・この地形図の計曲線は（ ア ）m間隔で引かれているので、（ イ ）地形図であることがわかる。
- ・県庁からみて、（ ウ ）方向に図書館がある。
- ・徳島市の市街地は（ エ ）川の形成した三角州上に形成されており、新町川は（ エ ）川水系の一級河川である。

	ア	イ	ウ	エ
1	50	2万5千分1	北西	吉野
2	100	2万5千分1	北西	四万十
3	10	5万分1	南東	四万十
4	50	5万分1	南西	吉野
5	100	5万分1	北西	吉野

3 次の（１）～（７）の問いに答えよ。

（１）日本国憲法の前文及び条文中の（ア）～（エ）に入る語句の組合せとして正しいものを１～５から一つ選べ。解答番号は

前文

日本国民は、（ ア ）の平和を念願し、人間相互の関係を支配する崇高な理想を深く自覚するのであつて、平和を愛する諸国民の公正と（ イ ）に信頼して、われらの安全と生存を保持しようと決意した。われらは、平和を維持し、専制と隷従、圧迫と偏狭を地上から永遠に除去しようと努めてゐる国際社会において、名誉ある地位を占めたいと思ふ。

第十二条

この憲法が国民に保障する自由及び権利は、国民の（ ウ ）の努力によつて、これを保持しなければならない。又、国民は、これを濫用してはならないのであつて、常に公共の（ エ ）のためにこれを利用する責任を負ふ。

	ア	イ	ウ	エ
1	恒久	協和	普段	福祉
2	永遠	協和	不断	利益
3	恒久	信義	不断	利益
4	永遠	信義	普段	利益
5	恒久	信義	不断	福祉

(2) 日本の司法について述べた次のア～オの文のうち、正しいものを○、誤っているものを×とした場合、正しい組合せはどれか。1～5から一つ選べ。解答番号は 16

ア 民事裁判において、簡易裁判所の判決に不服がある場合、地方裁判所に控訴し、その判決にも不服がある場合は、最高裁判所に上告することができる。

イ 刑事裁判では、自身に不利益な内容でも正直に話さなければならないので、被告人の黙秘権は認められていない。

ウ 裁判員裁判は、地方裁判所で行われる刑事裁判のうち、殺人罪や強盗致死傷罪など、一定の重大な犯罪が対象となる。

エ 最高裁判所は東京都に1か所、高等裁判所本庁は全国に10か所ある。

オ 違憲審査権は最高裁判所だけでなく、高等裁判所や地方裁判所などの下級裁判所にも認められている。

	ア	イ	ウ	エ	オ
1	○	○	○	×	×
2	×	×	○	○	×
3	○	○	×	×	○
4	×	×	○	×	○
5	○	○	×	○	×

(3) 日本の国際貢献のうち、国際連合平和維持活動（PKO）と政府開発援助（ODA）について述べた次のア～オの文のうち、正しいものを○、誤っているものを×とした場合、正しい組合せはどれか。1～5から一つ選べ。解答番号は 17

ア ODAの一環として、「国境なき医師団」のように、主に海外の課題に取り組む活動を行っているNGO（非政府組織）に資金援助を行っている。

イ 国際連合平和維持活動等に対する協力に関する法律では、国際連合平和維持活動、国際連合平和安全活動、人道的な国際救援活動、国際的な選挙監視活動の4つの活動への協力を規定している。

ウ ODAを通じて、日本は資金を提供しているが、人材育成の支援や技術提供は行っていない。

エ 日本がPKOに参加するにあたっての基本方針に、紛争当事国の間で停戦合意が成立しているかどうかは定められていない。

オ ODAは、開発途上国の経済開発や福祉の向上に役立つことを主な目的としている。

	ア	イ	ウ	エ	オ
1	×	○	×	○	○
2	○	○	×	×	○
3	○	×	×	○	×
4	○	○	○	×	×
5	×	×	○	○	○

(4) 日本の内閣について述べた次のア～オの文のうち、正しいものを○、誤っているものを×とした場合、正しい組合せはどれか。1～5から一つ選べ。解答番号は 18

ア 内閣総理大臣は、国会議員の中から国会の議決で指名されなければならない。

イ 内閣の仕事には、条約の承認、予算の作成及び国会への提出、天皇の国事行為に対する助言と承認、などがある。

ウ 衆議院議員総選挙の後に初めて国会の召集があったときは、内閣は総辞職をしなければならない。

エ 内閣は、内閣不信任案の決議が可決された場合のみ、衆議院を解散することができる。

オ 内閣は内閣総理大臣及びその他の国务大臣で組織されるが、国务大臣の3分の1以上は国会議員の中から選ばなければならない。

	ア	イ	ウ	エ	オ
1	○	×	○	×	×
2	×	○	×	×	○
3	○	×	○	○	×
4	×	○	○	○	×
5	○	○	×	×	○

(5) 日本の国会について述べた次のア～オの文のうち、正しいものを○、誤っているものを×とした場合、正しい組合せはどれか。1～5から一つ選べ。解答番号は 19

- ア 国会議員には、国会の会期中は原則として逮捕されない不逮捕特権や国会で行った演説や採決などについて法的な責任を問われない免責特権が認められている。
- イ 通常国会は、毎年1回、1月中に召集され、会期は150日間である。
- ウ 臨時国会は、衆議院解散後の総選挙の日から30日以内に召集される。
- エ 衆議院の解散中に緊急の必要があるときは、内閣の求めによって参議院の特別国会が開かれることがある。
- オ 法律案は、衆議院と参議院の両議院で可決されなければ、法律とならない。

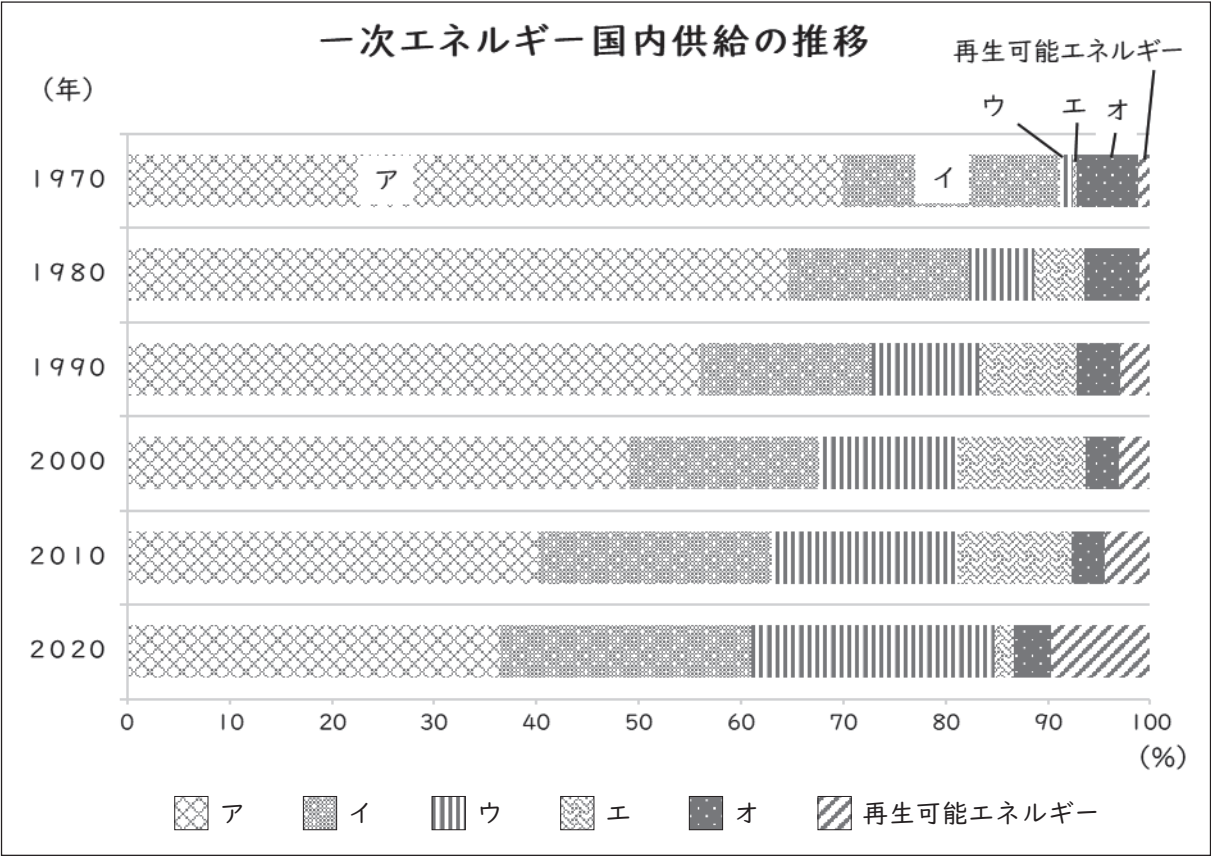
	ア	イ	ウ	エ	オ
1	○	○	×	○	×
2	○	×	×	×	○
3	○	○	×	×	×
4	×	○	○	○	×
5	×	×	○	×	○

(6) 日本の経済について述べた次のア～オの文のうち、正しいものを○、誤っているものを×とした場合、正しい組合せはどれか。1～5から一つ選べ。解答番号は 20

- ア 日本の2024年度予算の一般会計歳入112.6兆円のうち、半分以上が公債金に依存している。
- イ 日本銀行は物価の変動をおさえ、景気を安定させるために、公開市場操作（オペレーション）などの金融政策を行う。
- ウ 財政の機能の1つに、過度の経済格差を是正する所得の再分配がある。
- エ 1955年頃から始まった高度経済成長により日本のGNP（国民総生産）は世界第1位となった。
- オ 政府は景気の安定を図るため、増税や減税、公共投資の増減などの財政政策を行う。

	ア	イ	ウ	エ	オ
1	×	○	×	○	○
2	○	×	○	×	○
3	×	○	○	○	×
4	○	×	×	○	×
5	×	○	○	×	○

(7) 次のグラフは、日本の一次エネルギー国内供給の推移を表したものである。次のア～オにあてはまる組合せとして、正しいものを1～5から一つ選べ。解答番号は 21



経済産業省「令和3年度エネルギーに関する年次報告（エネルギー白書2022）」より作成

	ア	イ	ウ	エ	オ
1	石炭	石油	水力	原子力	天然ガス
2	石炭	石油	水力	天然ガス	原子力
3	石油	石炭	天然ガス	原子力	水力
4	石油	石炭	水力	天然ガス	原子力
5	石油	石炭	天然ガス	水力	原子力

4 次の問1～問3の問いに答えよ。

問1 次の史料を読んで、(1)～(2)の問いに答えよ。

著作権保護の観点により、本文を掲載いたしません。

出典：詳説 日本史史料集 再訂版

笹山晴生・五味文彦・吉田伸之・鳥海靖 山川出版社

63ページ13行目から18行目まで

(1) 空欄【 ア 】に当てはまる語句として、正しいものはどれか。次の1～5から一つ選べ。

解答番号は

- 1 後三条
- 2 後冷泉
- 3 醍醐
- 4 堀河
- 5 村上

(2) 荘園や公領について説明した次のア～エのうち、正しいものを○、誤っているものを×とした場合、正しい組合せはどれか。下の1～5から一つ選べ。解答番号は

ア 初期荘園は原則として不輸不入の権を認められていた。

イ 墾田永年私財法により、貴族、地方豪族、社寺等の土地私有の動きが活発化し、荘園制成立の要因となった。

ウ 寄進地系荘園では、典型的には土地の寄進を行った者が本家として実質的な土地所有と経営をおこない、被寄進者である権門勢家は下司として荘園を保護した。

エ 知行主である公卿などは、自身の子弟などを国守に申任し、吏務の実権を持った状態で収益を得ることが慣例となった。

	ア	イ	ウ	エ
1	○	×	○	×
2	×	○	×	○
3	×	×	○	×
4	○	○	×	○
5	×	○	×	×

問2 次の史料を読んで、(1)～(3)の問いに答えよ。

著作権保護の観点により、本文を掲載いたしません。

出典：詳説 日本史史料集 再訂版

笹山晴生・五味文彦・吉田伸之・鳥海靖 山川出版社

94ページ2行目から7行目まで

(1) 空欄【 ア 】～【 ウ 】には、鎌倉時代の諸国守護の果たすべき基本的な職務権限である三カ条について記載されている。空欄【 ア 】～【 ウ 】に当てはまる語句の組合せとして、正しいものはどれか。次の1～5から一つ選べ。解答番号は

	ア	イ	ウ
1	大番催促	御恩	殺害人
2	半済	御恩	使節遵行
3	大番催促	謀叛	殺害人
4	大番催促	謀叛	使節遵行
5	半済	謀叛	殺害人

(2) 下線部①に関して、地頭について述べた文として、正しいものはどれか。次の1～5から一つ選べ。解答番号は

- 1 1185年の守護・地頭設置の勅許では、源頼朝が要求した、諸国の荘公一律の、段別五升の加徴米の賦課権が認められた。
- 2 鎌倉幕府の地頭に補任されたものの職権内容は、一般には、荘園・国衙領における土地の管理権・徴税権のみであり、警察および裁判権は認められなかった。
- 3 御家人による土地の相続のうち、地頭の所領で行われた分割相続を下地中分と呼んだ。
- 4 1221年に後鳥羽上皇とその近臣たちが乱を起こした後、率法にもとづく得分をもって補任された地頭も現れ、本補地頭と呼ばれた。
- 5 地頭請とは、荘園・国衙領において地頭が契約した定額年貢の貢納を請け負うことであり、原則として一定の年貢を納入する以外は、みずからの力で徴収した分をすべて掌中にできた。

(3) 下線部②に関して、御成敗式目が制定されたときの執権である北条泰時について述べた文として、正しいものはどれか。次の 1 ～ 5 から一つ選べ。解答番号は

26

- 1 将軍であった源頼家を廃し、源実朝を将軍に擁立した。
- 2 訴訟の公正迅速を目的として、引付衆を設置した。
- 3 和田義盛を滅ぼし、政所別当に加えて侍所別当を兼ねた。
- 4 平頼綱らを誅し、みずから政治の実権を掌握した。
- 5 北条時房を連署とし、評定衆を設置した。

問3 次の史料を読んで、(1)～(2)の問いに答えよ。

著作権保護の観点により、本文を掲載いたしません。

出典：詳説 日本史史料集 再訂版

笹山晴生・五味文彦・吉田伸之・鳥海靖 山川出版社

159ページ18行目から160ページ3行目まで

160ページ6行目から7行目まで、9行目から10行目まで

(1) 空欄【 ア 】、【 イ 】に当てはまる語句の組合せとして、正しいものはどれか。次の1～5から一つ選べ。解答番号は

	ア	イ
1	河内	紀伊
2	薩摩	大隅
3	伊予	土佐
4	出羽	奥州
5	播磨	備中

(2) 下線部に関して、史料中の「関白殿」が全国的規模で実施した検地の説明として誤っているものはどれか。次の1～5から一つ選べ。解答番号は

- 1 従来の不統一な長さ・面積の単位を統一して、曲尺の6尺3寸を1間と定め、1間四方を1歩、300歩を1段とした。
- 2 この検地では、石盛に京都を中心に用いられていた京枡を採用した。
- 3 検地と並行して村の境界を確定する村切が行われた。
- 4 畿内近国の検地条目では、田畑それぞれを上、中、下、下々の4段階に分けた。
- 5 検地では当初、諸大名が縄打ちを行うなど実際に土地丈量を行っていたが、のちに検地奉行による指出検地が実施された。

5 次の問1～問2の問いに答えよ。

問1 江戸時代の統制政策に関連した(1)～(4)の問いに答えよ。

(1) 次の史料Ⅰは、幕府が輸入白糸(中国産の生糸)を統制した制度に関する史料である。下の問いア・イ・ウに答えよ。

史料Ⅰ

著作権保護の観点により、本文を掲載いたしません。

出典：詳説 日本史史料集 再訂版

笹山晴生・五味文彦・吉田伸之・鳥海靖 山川出版社

179ページ3行目から4行目まで、10行目

ア) ある国の人々は、マカオ周辺の中国の広東市場から白糸を購入し、日本に輸出することで利益をあげていたが、この制度によって利益を抑制された。利益が抑制されることとなった国として正しいものはどれか。次の1～5から一つ選び、番号で答えよ。

- 1 ドイツ
- 2 フランス
- 3 イギリス
- 4 スペイン
- 5 ポルトガル

イ) 下線部について、1604年に長崎を含む3都市の有力町人が年寄に任命され、その年寄を中心に輸入白糸の値段について協議が行われた。長崎を除いた残り2つの都市はどこか。漢字で答えよ。

ウ) 空欄【A】にあてはまる語句は何か、漢字3字で答えよ。

(2) 次の史料Ⅱは、農民統制に関する史料である。下の問いア・イに答えよ。

史料Ⅱ

著作権保護の観点により、本文を掲載いたしません。

出典：詳説 日本史史料集 再訂版

笹山晴生・五味文彦・吉田伸之・鳥海靖 山川出版社

172ページ6行目から8行目まで

ア) 下線部は、稲などの作物を見分けたうえ坪刈りをし、稲の豊凶に従い租税を決定する方法について示したものである。この方法の名称は何か。漢字2字で答えよ。

イ) 江戸時代の農民統制に関するできごとについて述べた文として、誤っているものはどれか。次の1～5から一つ選び、番号で答えよ。

- 1 相続あるいは分与にあたり農民が所持耕地を分割することに一定の制限を加えた法令が出された。
- 2 田畑を売却して年貢負担能力を失うことを防止するための措置として、田畑を売買することを禁止した法令が出された。
- 3 検地によって石高に結ばれた土地に賦課された本年貢である本途物成が課せられた。
- 4 地下百姓といわれた農民たちの共同責任において、荘園の年貢や公事納入を請け負う地下請がとられた。
- 5 領主が農民に課する年貢、諸役を、村ごとにまとめて提出する村請がとられた。

- (3) 次の史料Ⅲは、江戸幕府3代将軍である徳川家光の頃に改訂された、武家の守るべき義務について定めた法令の一部である。下の問いア・イ・ウに答えよ。

史料Ⅲ

著作権保護の観点により、本文を掲載いたしません。

出典：詳説 日本史史料集 再訂版

笹山晴生・五味文彦・吉田伸之・鳥海靖 山川出版社

168ページ3行目、169ページ5行目から11行目まで

ア) この法令が出された頃、主従関係としての拝謁、勤役を前提とした参府として、江戸に伺候することが正式に制度化された。この制度の名称は何か。漢字4字で答えよ。

イ) 下線部①は、17世紀後半に「文武忠孝を励し、礼儀を正すべきの事」と修正された。17世紀後半に起こったできごとについて述べた文として、正しいものはどれか。次の1～5から二つ選び、番号で答えよ。

- 1 皇室の繁栄のため、新宮家として閑院宮が創設された。
- 2 裁判、行政の準拠として、公事方御定書が編纂された。
- 3 勘定奉行以下の勘定所諸役人・代官を監督・統制する役職として勘定吟味役が創置された。
- 4 近親の死に際して、喪に服すべき期間を定めた法である服忌令が木下順庵らの参画の下に制定公布された。
- 5 家臣団の財政窮乏を救うため、高利貸商人の札差に一方的に命じた借金帳消し・軽減令である棄捐令が発布された。

ウ) 下線部②は、大名統制の一つである大船建造の禁に関する文言であるが、大船建造の禁は1853年に解かれた。その翌年である1854年には日米和親条約、1858年には安政五カ国条約が結ばれ、鎖国体制を堅持していた日本は、世界資本主義の市場の一環に組み込まれることになった。そのような中、貿易に関して統制を行うために1860年に幕府が発した五品江戸廻令について、発した理由と発した時点での流通経路を明らかにしたうえで、その流通経路をどのように変えようとしたかを、次の枠内の言葉をすべて使い説明せよ。

物価

江戸

(4) 次の史料Ⅳは、18世紀後半に起こった政治改革に関する史料である。下の問いア・イ・ウに答えよ。

史料Ⅳ

著作権保護の観点により、本文を掲載いたしません。

出典：詳説 日本史史料集 再訂版

笹山晴生・五味文彦・吉田伸之・鳥海靖 山川出版社

209ページ15行目から16行目まで

210ページ1行目から4行目まで、6行目から11行目まで

ア) 下線部は、白河藩主となって藩政の建直しに努めた実績などを評価され、後に江戸幕府の老中となって政治改革を起こした人物について示している。この人物は誰か。漢字4字で答えよ。

イ) 空欄【A】にあてはまる人名は何か。漢字2字で答えよ。

ウ) 右の作品は、洒落本などが並んでいる様子を描いたものである。18世紀後半、流行した洒落本や政治批判を内容とする出版物などを禁じるため、出版統制令が出された。次の表は、出版統制令違反で処罰された人物と著作について示したものである。表の空欄【あ】～【う】にあてはまる人名の正しい組合せはどれか。下の1～6から一つ選び、番号で答えよ。

著作権保護の観点により、本作品を掲載いたしません。

出典：画本東都遊3巻

浅草庵市人・葛飾北斎

国立国会図書館

22ページ

『画本東都遊』（国立国会図書館蔵）

表

人名	著作
【あ】	海国兵談
【い】	仕懸文庫
【う】	鸚鵡返文武二道

	あ	い	う
1	山東京伝	林子平	恋川春町
2	山東京伝	恋川春町	林子平
3	林子平	山東京伝	恋川春町
4	林子平	恋川春町	山東京伝
5	恋川春町	林子平	山東京伝
6	恋川春町	山東京伝	林子平

問2 明治時代から昭和時代の外交に関連した(1)～(4)の問いに答えよ。

(1) 次の史料Ⅰは、1885(明治18)年3月16日に、ある日刊紙で発表された社説である。下の問いア・イ・ウに答えよ。

史料Ⅰ

著作権保護の観点により、本文を掲載いたしません。

出典：時事新報(明治前期編)4巻～(1)／855号～956号
北村正光編 龍溪書舎
257ページ

ア) 空欄【A】にあてはまる1882(明治15)年に創刊されたこの日刊紙の名称は何か、漢字で答えよ。

イ) この日刊紙を創刊した福沢諭吉の著作として正しいものはどれか。次の1～5からすべて選び、番号で答えよ。

- 1 『西洋事情』
- 2 『西洋紀聞』
- 3 『文明論之概略』
- 4 『戊戌夢物語』
- 5 『経済要録』

ウ) 1884(明治17)年に朝鮮で発生し、この社説が発表されたきっかけともなった政変を漢字4字で答えよ。

(2) 次の史料Ⅱは、1894(明治27)年から1895(明治28)年までのできごとを記録した戦争外交秘録の一部である。下の問いア・イ・ウに答えよ。

史料Ⅱ

著作権保護の観点により、本文を掲載いたしません。

出典：詳説 日本史史料集 再訂版
笹山晴生・五味文彦・吉田伸之・鳥海靖 山川出版社
279ページ7行目から12行目まで

ア) 下線部①に関連して、この人物は第一次山県有朋内閣の外務大臣を務めたが、1891(明治24)年に発生したロシア皇太子襲撃事件の責任を取り、外務大臣を辞職した。このロシア皇太子襲撃事件を何というか。漢字4字で答えよ。

イ) 下線部②について述べた文として、正しいものはどれか。次の1～5から二つ選び、番号で答えよ。

- 1 この条約はイギリス外相ジョン＝ヘイとの交渉によりロンドンで調印された。
- 2 この条約はアメリカ大統領セオドア＝ルーズヴェルトの斡旋によって調印された。
- 3 この条約により日本の内地開放を代償として領事裁判権を撤廃した。
- 4 この条約により日本の関税自主権が部分的に回復した。
- 5 この条約により遼東半島を日本に割譲することが定められた。

ウ) 史料中の「余」は、この回想録の筆者で第二次伊藤博文内閣の外務大臣を務めた。この人物は誰か、漢字で答えよ。

- (3) 次の史料Ⅲは、元老井上馨が、1914（大正3）年8月に当時の首相大隈重信と元老山県有朋に宛てた書簡の引用である。下の問いア・イ・ウに答えよ。

史料Ⅲ

著作権保護の観点により、本文を掲載いたしません。

出典：詳説 日本史史料集 再訂版

笹山晴生・五味文彦・吉田伸之・鳥海靖 山川出版社

305ページ6行目から10行目まで

- ア) 下線部に関連して、次の表は1914（大正3）年と1919（大正8）年の日本の産業構造を示したものである。

表

1914（大正3）年		1919（大正8）年	
生産総額 30.9億円		生産総額 118.7億円	
農業	45.4%	工業	56.8%
工業	44.4%	農業	35.1%
鉱業	5.1%	鉱業	4.3%
水産業	5.1%	水産業	3.8%

※『日本資本主義発達史年表』により作成

1914（大正3）年から1919（大正8）年にかけて、生産総額が大幅に増加した原因の一つに海外需要の急増が挙げられるが、海外需要が急増した要因について、日本がアメリカの需要に応じて盛んに輸出した製品を明らかにしたうえで次の枠内の言葉をすべて使い、100字以内で説明せよ。

アジア市場

イギリス

- イ) 空欄【A】【B】にあてはまる語句の正しい組合せはどれか。次の1～5から一つ選び、番号で答えよ。

- | | |
|---------|---------|
| 1 【A】天祐 | 【B】軍財抱合 |
| 2 【A】恩寵 | 【B】挙国一致 |
| 3 【A】天祐 | 【B】憲政擁護 |
| 4 【A】恩寵 | 【B】軍財抱合 |
| 5 【A】天祐 | 【B】挙国一致 |

- ウ) 1924（大正13）年に松方正義が死去したことで最後の元老となった人物が、第一次加藤高明内閣の成立から犬養毅内閣の成立にかけて果たした政治的な役割について、最後の元老となった人物名を明らかにしたうえで次の枠内の言葉をすべて使い、50字以上60字以内で説明せよ。

政党政治

首相

- (4) 次の史料Ⅳは、1927（昭和2）年6月27日から7月7日まで行われた会議で決定した、中国に対する政策に関する史料である。下の問いア・イ・ウに答えよ。

史料Ⅳ

著作権保護の観点により、本文を掲載いたしません。

出典：詳説 日本史史料集 再訂版

笹山晴生・五味文彦・吉田伸之・鳥海靖 山川出版社

322ページ3行目から8行目まで、11行目

ア) この会議は、中国関係の外交官と軍代表を東京に招集して行われた。この会議の名称は何か。
漢字4字で答えよ。

イ) 下線部は、中国東北地区の旧称である。三省の組合せとして正しいものはどれか。次の1～5から一つ選び、番号で答えよ。

- 1 奉天（遼寧）省・吉林省・河南省
- 2 奉天（遼寧）省・吉林省・黒竜江省
- 3 山東省・吉林省・奉天（遼寧）省
- 4 山東省・吉林省・黒竜江省
- 5 山東省・河南省・黒竜江省

ウ) この会議を開催した内閣の組閣から総辞職までのできごとについて述べた文として、誤っているものはどれか。次の1～5のうちから二つ選び、番号で答えよ。

- 1 この内閣が出した台湾銀行救済のための緊急勅令案を枢密院が否決した。
- 2 この内閣は第一次山東出兵を行って北伐に干渉した。
- 3 この内閣は緊急勅令によって治安維持法の改正を行った。
- 4 この内閣のときに張作霖の乗っていた列車が関東軍の指示によって爆破された。
- 5 この内閣はロンドン海軍軍縮会議に全権団を派遣した。

令和8年度大阪府公立学校教員採用選考テスト

第二次選考択一問題の正答について

校種	高等学校	教科・科目	地理歴史（日本史）
----	------	-------	-----------

大問番号	1							2							3							4						
解答番号	1	2	3	4	5	6	7	8	9	10	11	12	13	14	15	16	17	18	19	20	21	22	23	24	25	26	27	28
正答番号	2	1	4	1	3	5	3	3	1	2	5	4	5	1	5	4	2	1	3	5	3	1	2	3	5	5	4	5