

高等学校 公民（政治・経済）

解答についての注意点

- 1 解答用紙は、マーク式解答用紙と記述式解答用紙の2種類があります。
- 2 大問 **1** ～大問 **4** については、マーク式解答用紙に、大問 **5** については、記述式解答用紙に記入してください。
- 3 解答用紙が配付されたら、まずマーク式解答用紙に受験番号等を記入し、受験番号に対応する数字を、鉛筆で黒くぬりつぶしてください。
記述式解答用紙は、全ての用紙の上部に受験番号のみを記入してください。
- 4 大問 **1** ～大問 **4** の解答は、選択肢のうちから、**問題で指示された解答番号**の欄にある数字のうち一つを黒くぬりつぶしてください。
例えば、「解答番号は 」と表示のある問題に対して、「**3**」と解答する場合は、解答番号 の欄に並んでいる ① ② ③ ④ ⑤ の中の ③ を黒くぬりつぶしてください。
- 5 間違ってぬりつぶしたときは、消しゴムできれいに消してください。二つ以上ぬりつぶされている場合は、その解答は無効となります。
- 6 その他、係員が注意したことをよく守ってください。

指示があるまで中をあけてはいけません。

Ⅰ 日本史について、(Ⅰ)～(Ⅶ)の問いに答えよ。

(Ⅰ) 7世紀～8世紀に起きた出来事における次のア～オの内容を、古い順に左から右へ並べた場合、正しいものはどれか。下のⅠ～5から一つ選べ。解答番号は

- ア 平城京へ遷都した。
- イ 国分寺建立の詔が出された。
- ウ 庚午年籍が作成された。
- エ 大宝律令が施行された。
- オ 三世一身の法が施行された。

- Ⅰ ウ → ア → イ → エ → オ
- Ⅱ エ → ウ → ア → イ → オ
- Ⅲ ウ → エ → ア → オ → イ
- Ⅳ エ → ウ → オ → イ → ア
- Ⅴ ウ → エ → オ → ア → イ

(Ⅱ) 次のア～オのうち、平安時代に起きた出来事について説明したものとして、正しいものを○、誤っているものを×とした場合、正しい組合せはどれか。下のⅠ～5から一つ選べ。

解答番号は

- ア 平将門は、関東で反乱を起こし、平貞盛らによって討たれた。
- イ 日本の百済救援軍は、白村江の戦で唐と新羅連合軍に敗れた。
- ウ 平清盛は、平治の乱で藤原信頼を討った。
- エ 源義家は、清原一族の内紛に介入し、清原清衡を助け内紛を制圧した。
- オ 北条時宗は、弘安の役において、元軍の日本来寇を退けた。

- | | ア | イ | ウ | エ | オ |
|---|---|---|---|---|---|
| Ⅰ | × | ○ | ○ | × | ○ |
| Ⅱ | ○ | × | × | ○ | × |
| Ⅲ | ○ | × | ○ | × | × |
| Ⅳ | ○ | × | ○ | ○ | × |
| Ⅴ | × | ○ | × | × | ○ |

(3) 次のア～オのうち、室町時代の絵図や文芸作品として、正しいものを○、誤っているものを×とした場合、正しい組合せはどれか。下の 1～5 から一つ選べ。解答番号は

- ア 「秋冬山水図」
イ 「燕子花図屏風」
ウ 「見返り美人図」
エ 「風姿花伝」
オ 「古事記伝」

	ア	イ	ウ	エ	オ
1	○	×	×	○	×
2	○	×	○	×	×
3	○	○	×	×	○
4	×	×	×	○	×
5	×	○	○	○	○

(4) 次のア～エのうち、17世紀～19世紀に起きた出来事について説明したものとして、正しいものを○、誤っているものを×とした場合、正しい組合せはどれか。下の 1～5 から一つ選べ。解答番号は

- ア 幕府や諸藩が流通統制や警察的取締りをおこなうことなどを目的に、商人や手工業者たちによる株仲間を設定・認可した。
イ 伊勢神宮の神符等が降下したということを契機に、民衆が「ええじゃないか」等と踊りながら唱える民衆運動がおこった。
ウ 守護勢力と対立し、国持体制の実現をめざし、南山城で在地武士などが一揆を起こした。
エ 幕府がキリシタンを摘発するために宗門改を行った。

	ア	イ	ウ	エ
1	○	○	○	×
2	×	○	○	○
3	○	○	×	×
4	×	×	○	○
5	○	○	×	○

(5) 次のア～オのうち、明治時代に起きた出来事について説明したものとして、正しいものを○、誤っているものを×とした場合、正しい組合せはどれか。下の1～5から一つ選べ。

解答番号は

- ア 廃藩置県が行われ、大阪府と京都府のみ、政府任命の府知事が地方行政を担当した。
- イ 特命全権大使岩倉具視を中心とした岩倉使節団が欧米に派遣され、伊藤博文も参加した。
- ウ 前島密の建議により、官営の郵便制度が発足した。
- エ 地租改正法が公布され、地租はその年の豊凶によって増減して徴収された。
- オ 大隈重信は民撰議院設立の建白書を政府に提出した。

	ア	イ	ウ	エ	オ
1	×	○	○	×	○
2	○	×	○	○	×
3	×	×	○	○	×
4	○	○	×	×	○
5	×	○	○	×	×

(6) 明治時代の外交にかかわる次のア～オの出来事を、古い順に左から右に並べた場合、正しいものはどれか。下の1～5から一つ選べ。解答番号は

- ア 陸奥宗光外相が日英通商航海条約を結ぶ。
- イ ノルマントン号事件が起きる。
- ウ 第1回日英同盟（日英同盟協約）が結ばれる。
- エ 小村寿太郎外相がアメリカとの条約を結び関税自主権が完全回復する。
- オ 日比谷焼き打ち事件が起きる。

1	ア → イ → ウ → エ → オ
2	イ → ア → エ → ウ → オ
3	ア → ウ → イ → エ → オ
4	イ → ア → ウ → オ → エ
5	ア → イ → ウ → オ → エ

(7) 次のア～オのうち、大正時代における出来事について説明したものとして、正しいものを○、誤っているものを×とした場合、正しい組合せはどれか。下の1～5から一つ選べ。

解答番号は

7

- ア 市川房枝らが婦人参政権要求などを目標とした新婦人協会を結成した。
イ 中江兆民がルソーの『社会契約論』を一部漢訳した『民約訳解』を刊行した。
ウ 吉野作造は民本主義を唱え、黎明会を組織した。
エ 西光万吉が水平社宣言を起草した。
オ 植木枝盛が「日本国国憲案」を起草した。

	ア	イ	ウ	エ	オ
1	○	×	○	×	×
2	○	×	○	○	×
3	×	○	×	×	○
4	○	○	○	×	×
5	×	○	×	○	○

2 次の(1)～(7)の問いに答えよ。

(1) 紀元前1世紀から4世紀にかけての古代ローマについて述べた文として、誤っているものを次の1～5から一つ選べ。解答番号は

- 1 カエサルはポンペイウス、クラッスとともに第一回三頭政治を結成し、ガリアを平定したのちに独裁官となった。
- 2 オクタヴィアヌスはサラミスの海戦においてアントニウスを破り、元老院よりアウグストゥスの称号を与えられた。
- 3 五賢帝最後の皇帝であるマルクス＝アウレリウス＝アントニヌスは、ストア派の哲学者としても知られ、「自省録」を著した。
- 4 ディオクレティアヌスは軍人皇帝時代の混乱をおさめ、テトラルキア（四分統治）を行った。
- 5 コンスタンティヌスはミラノ勅令においてキリスト教を公認したのち、コンスタンティノープル（コンスタンティノポリス）を新しい首都とした。

(2) ルネサンスについて述べた文として、誤っているものを次の1～5から一つ選べ。

解答番号は

- 1 スペインの小説家であるセルバンテスは、「ガリバー旅行記」を書いた。
- 2 オランダの人文学者であるエラスムスは、「愚神礼賛」を書いた。
- 3 イタリアの画家であるボッティチェリは、「春」「ヴィーナスの誕生」を描いた。
- 4 ポーランドの天文学者であるコペルニクスは、「天球の回転について」の中で、地動説を唱えた。
- 5 イギリスの劇作家であるシェークスピアは、「ハムレット」「ベニスの商人」等の悲劇・喜劇を書いた。

(3) ムガル帝国第5代皇帝で、インドの代表的なイスラム建築であるタージ＝マハルを建てた人物を次の1～5から一つ選べ。解答番号は

- 1 バーブル
- 2 フマーユーン
- 3 アクバル
- 4 シャー＝ジャハーン
- 5 アウラングゼーブ

(4) 17世紀から19世紀にかけての中国について述べた次のア～エを、古い順に左から右へ並べた場合に、正しいものを次の1～5から一つ選べ。解答番号は

- ア 道光帝の時代、アヘン戦争に敗れて、南京条約が結ばれた。
- イ 雍正帝の時代、軍機を司る目的で軍機処が設けられた。
- ウ 康熙帝の時代、ロシアとの間にネルチンスク条約が結ばれ、国境が画定した。
- エ 乾隆帝の時代、中国最大の叢書である「四庫全書」が編纂された。

- 1 ウ → イ → エ → ア
- 2 イ → ウ → エ → ア
- 3 ウ → イ → ア → エ
- 4 イ → ウ → ア → エ
- 5 ウ → エ → イ → ア

(5) 17世紀から20世紀にかけての東南アジアについて述べた文として、正しいものを次の1～5から一つ選べ。解答番号は

- 1 インドネシアでは、香料貿易の利権をめぐり、イギリスとフランスの間でアンボイナ事件が起こった。
- 2 ビルマでは、コンバウン朝がフランスとの戦いに敗れ、滅亡した。
- 3 タイでは、ラーマ5世が国内の近代化政策をすすめ、イギリスやフランスの干渉を受けながらも、国の独立を維持した。
- 4 フィリピンは、米西戦争にスペインが勝利した結果、スペイン領となった。
- 5 ベトナムでは、ホー＝チ＝ミンが日本への留学をベトナム人に呼びかける東遊運動を起こした。

(6) 17世紀から18世紀にかけてのイギリスについて述べた文として、誤っているものを次の1～5から一つ選べ。解答番号は

- 1 スチュアート朝を開いたジェームズ1世は、王権神授説を唱えた。
- 2 清教徒革命でチャールズ1世が処刑された後、クロムウェルが独裁政治を行った。
- 3 ジェームズ2世のカトリック復興政策等に対し、名誉革命が起こった。
- 4 メアリ2世とウィリアム3世が王位につき、権利の章典が制定された。
- 5 アン女王の死後、ジョージ1世が即位し、テューダー朝が始まった。

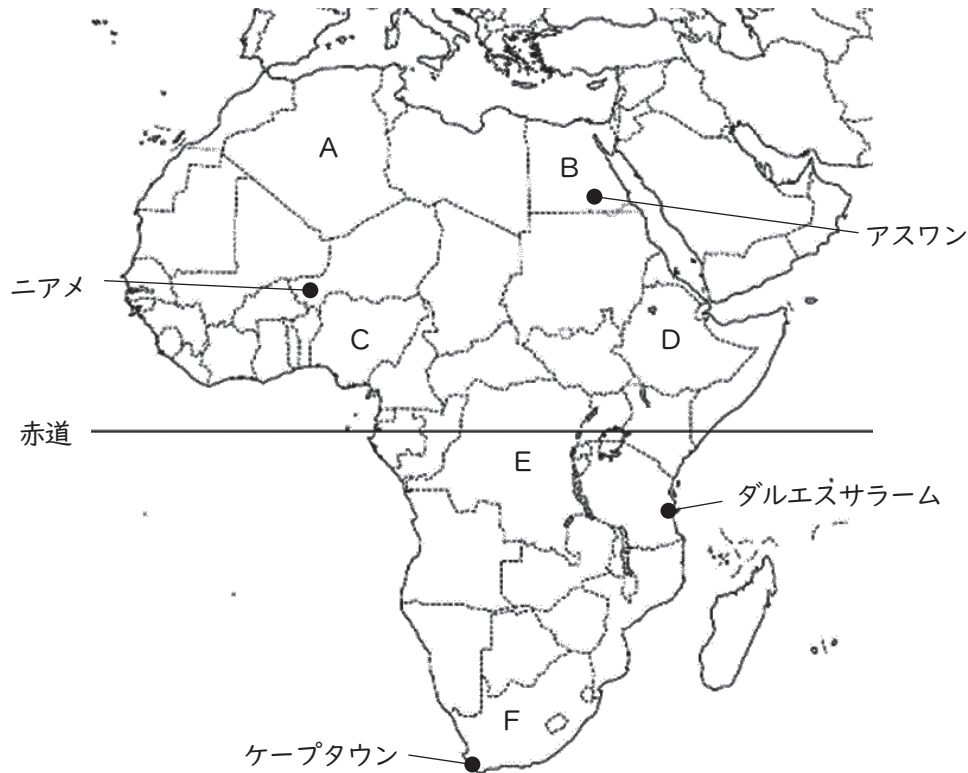
(7) 20世紀のできごとについて述べた文として、正しいものを次の1～5から一つ選べ。
解答番号は

- 1 中国の毛沢東とインドのネルーは、共同で平和五原則を発表した。
- 2 インドネシアのジャカルタで開かれたアジア・アフリカ会議において、平和十原則が採択された。
- 3 エジプトの軍人であるナギブは、革命を成功させ、エジプト共和国初代大統領となった。
- 4 インドネシア国民党を結成したスハルトは、インドネシア共和国初代大統領となった。
- 5 カンボジアの政治家であるシハヌークは、イギリスからの独立を達成した。

3 地理に関する次の問1～問3の問いに答えよ。

問1 下の図1はアフリカの周辺を示したものであり、図1中のA～Fは国を示している。次の(1)～(2)の問いに答えよ。

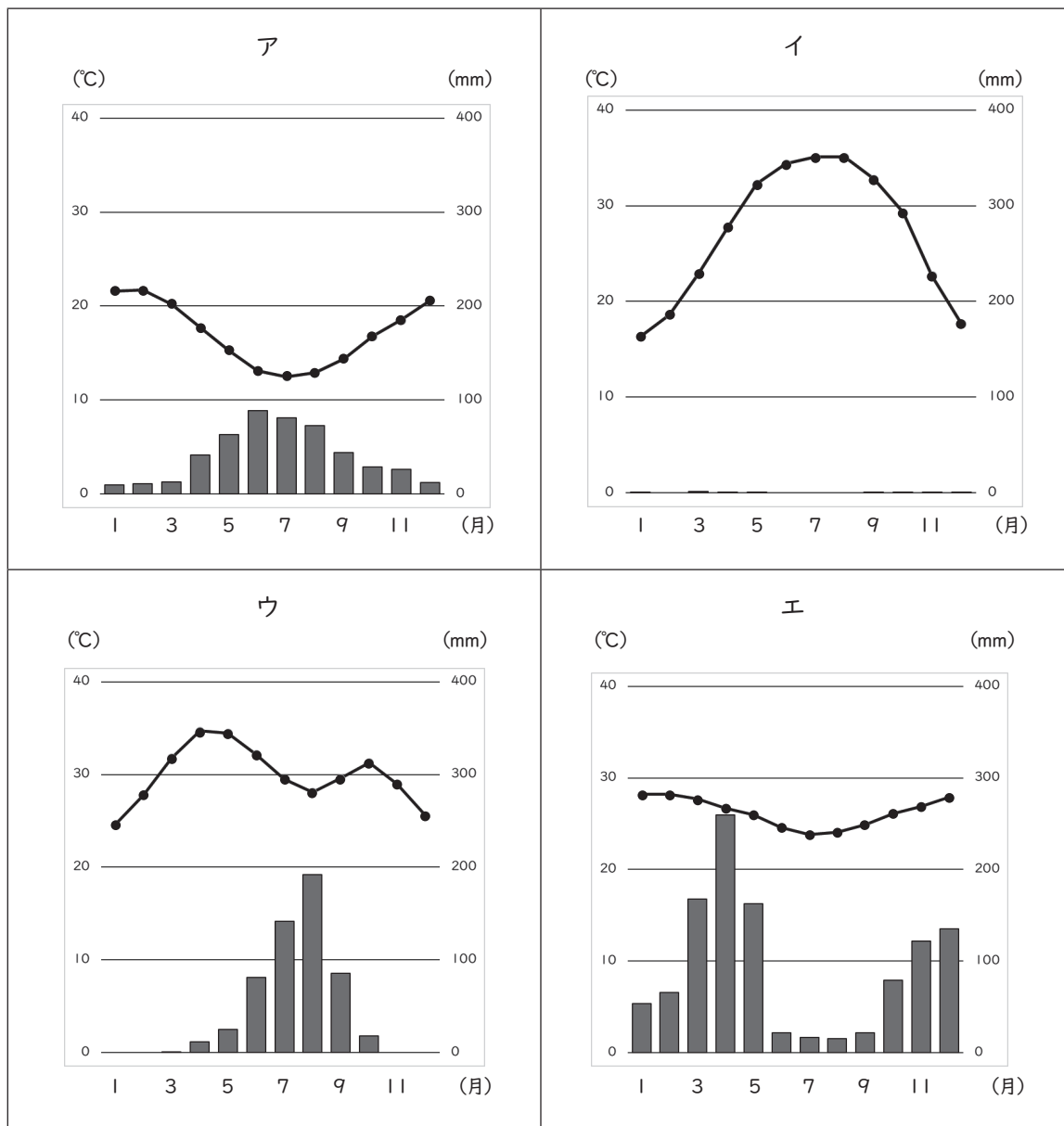
図1



(1) 図1中のA～Fの国及びアフリカについて説明している文として正しいものはどれか。1～5から一つ選べ。解答番号は

- 1 A国とB国の公用語はアラビア語であり、イスラーム（イスラム教）が多く信仰されている。A国の北岸にはアトラス山脈が走っており、B国には南北にナイル川が貫流している。ナイル川河口の東にはスエズ運河があり、紅海と大西洋を結んでいる。
- 2 C国は、アフリカ最多の人口を有する国で、西はカカオ豆の生産が盛んなガーナと国境と接している。C国は、アフリカ最大の産油国であり、OPEC加盟国である。
- 3 アフリカ連合（AU）の本部は、D国の首都であるアディスアベバに置かれ、アフリカ連合には2025年2月現在、西サハラ（サハラ・アラブ民主共和国）を含むアフリカ55の国・地域が加盟している。
- 4 E国からF国にかけて、カッパーベルト（コッパーベルト）とよばれる世界有数の銅鉱床地帯が広がっている。E国の公用語はフランス語であり、中央部をニジェール川が貫流している。
- 5 F国は、アフリカ大陸最南端の国であり、ブラジル・トルコ・インド・中国とともにBRICSを構成している。F国にあるカラハリ砂漠南縁部にはサヘル地域が広がっている。

(2) 次のア～エのグラフは、図1中のアスワン、ケープタウン、ダルエスサラーム、ニアメの月平均気温と月降水量をそれぞれ示したものである。ア～エのグラフに該当する都市の組合せとして正しいものはどれか。1～5から一つ選べ。解答番号は 16



(『理科年表2025』より作成)

	ア	イ	ウ	エ
1	ケープタウン	アスワン	ニアメ	ダルエスサラーム
2	ニアメ	ケープタウン	アスワン	ダルエスサラーム
3	ダルエスサラーム	アスワン	ニアメ	ケープタウン
4	ケープタウン	アスワン	ダルエスサラーム	ニアメ
5	ニアメ	アスワン	ケープタウン	ダルエスサラーム

問2 次の(1)～(4)の問いに答えよ。

(1) 次の表1は日本・中国・EU(ヨーロッパ連合)の3つの国・地域とアメリカ合衆国の貿易について示したものである。表1中の国・地域A、B、Cに該当する正しい組合せはどれか。1～5から一つ選べ。解答番号は

表1

	アメリカ合衆国への輸出(百万ドル)			アメリカ合衆国から輸入(百万ドル)		
	2000年	2010年	2022年	2000年	2010年	2022年
A	150,632	123,556	154,445	65,252	60,543	80,305
B	107,615	382,954	575,688	16,252	91,878	153,837
C	217,190	320,742	527,513	187,772	224,410	372,356

EUの構成国は、2000年15か国、2010年27か国、2022年27か国。
(『データブック オブ・ザ・ワールド』2024年版より作成)

	A	B	C
1	日本	EU(ヨーロッパ連合)	中国
2	日本	中国	EU(ヨーロッパ連合)
3	EU(ヨーロッパ連合)	中国	日本
4	中国	EU(ヨーロッパ連合)	日本
5	中国	日本	EU(ヨーロッパ連合)

(2) 次の文は領域について述べたものである。文中のア～ウに当てはまる語句の正しい組合せはどれか。1～5から一つ選べ。解答番号は

国家の領域は、領土、領海、領空から成り立っている。日本では海岸線から（ ア ）以内を領海と定めている。領海の外側に海岸の基線から測って200海里までの範囲内で設定される水域は排他的経済水域（EEZ）といわれ、さらにその外側の（ イ ）はすべての国に開放されている。なお、日本の領海、排他的経済水域（EEZ）の合計面積は447万km²で国土面積の約（ ウ ）に及ぶ。

	ア	イ	ウ
1	10海里	公海	18倍
2	10海里	大洋	12倍
3	12海里	公海	18倍
4	12海里	大洋	18倍
5	12海里	公海	12倍

- (3) 次の表2は、2022（令和4）年における米、茶、かんしょ、みかんの生産量が多い上位3都道府県を示したものである。また、下の表3のア～エの文は、表2中のA～Dの都府県について説明している文である。A～Dの都府県に該当する正しい組合せはどれか。1～5から一つ選べ。
- 解答番号は

表2

米		茶		かんしょ		みかん	
新潟県	8.7%	B	37.0%	C	29.5%	D	22.4%
北海道	7.6%	C	34.6%	茨城県	27.3%	愛媛県	16.0%
A	6.3%	三重県	6.8%	千葉県	12.5%	B	15.1%

（『日本国勢図会』2023／24年版、2024／25年版より作成）

表3

ア	この都府県は、日本で最も大きな半島の西半を占め、沿岸を黒潮が流れている。この都府県は、2022（令和4）年におけるうめやかき（果実）の生産量も全国1位である。
イ	この都府県の臨海部には、太平洋ベルトに位置する工業地域が広がっており、国の特別史跡である登呂遺跡もある。
ウ	この都府県の北西部には、東アジア最大級の原生的なブナの自然林が残されている山地があり、この山地は世界自然遺産として登録されている。
エ	この都府県の面積の約6割は、噴火のときの火砕流や、空中に舞いあがった軽石や火山灰などが堆積したシラスが覆っている。この都府県の離島には、日本最大のロケット発射場である宇宙センターもある。

	A	B	C	D
1	ア	イ	ウ	エ
2	イ	ウ	エ	ア
3	ウ	エ	ア	イ
4	ウ	イ	エ	ア
5	エ	イ	ウ	ア

(4) 次の表4は、2022年10月1日における東京都、大阪府、島根県、沖縄県の年齢別人口割合及び産業別人口構成を示したものである。表4中の都府県A～Dに該当する正しい組合せはどれか。

1～5から一つ選べ。解答番号は

20

表4

都府県	年齢別人口割合 (%)			産業別人口構成 (%)		
	0～14歳	15歳～64歳	65歳以上	第1次産業	第2次産業	第3次産業
A	11.4	60.9	27.7	0.3	21.1	78.6
B	12.0	53.3	34.7	4.9	22.8	72.3
C	16.3	60.2	23.5	3.4	14.7	81.8
D	10.9	66.3	22.8	0.3	14.3	85.5

(『日本国勢図会』2023／24年版、2024／25年版より作成)

	A	B	C	D
1	島根県	大阪府	沖縄県	東京都
2	東京都	島根県	沖縄県	大阪府
3	東京都	沖縄県	大阪府	島根県
4	大阪府	島根県	東京都	沖縄県
5	大阪府	島根県	沖縄県	東京都

問3 下の図2は、国土地理院が発行する地形図『徳島』(平成31年1月1日発行)の一部を120%に拡大したものである。下の文は、図2について読み取った内容をまとめたものである。文中のア～エに当てはまる語句の正しい組合せはどれか。1～5から一つ選べ。解答番号は 21

図2



- ・この地形図の計曲線は（ ア ）m間隔で引かれているので、（ イ ）地形図であることがわかる。
- ・県庁からみて、（ ウ ）方向に図書館がある。
- ・徳島市の市街地は（ エ ）川の形成した三角州上に形成されており、新町川は（ エ ）川水系の一級河川である。

	ア	イ	ウ	エ
1	50	2万5千分1	北西	吉野
2	100	2万5千分1	北西	四万十
3	10	5万分1	南東	四万十
4	50	5万分1	南西	吉野
5	100	5万分1	北西	吉野

4 政治・経済、倫理について、次の（１）～（７）の問いに答えよ。

（１）GHQによる占領・管理下の日本で起きた出来事に関する記述として誤っているものはどれか。

１～５から一つ選べ。解答番号は

- １ 警察予備隊は保安隊と改称された。
- ２ 婦人に参政権が認められた。
- ３ 労働基準法が公布された。
- ４ 日本国憲法が公布された。
- ５ 学校教育法が公布された。

（２）日本の介護保険制度に関する記述として誤っているものはどれか。１～５から一つ選べ。

解答番号は

- １ 介護保険制度の導入は、高齢化の進展に伴い介護ニーズが増大したことや核家族化の進行など要介護高齢者を支える家族をめぐる状況が変化したことが背景にある。
- ２ 介護保険制度の被保険者は、65歳以上の者（第１号被保険者）と40歳から64歳までの医療保険加入者（第２号被保険者）に分けられる。
- ３ 介護保険サービスは、65歳以上の者は原因を問わず要支援・要介護状態となったときに受けることができる。
- ４ 介護保険の財源構成は、公費７割、保険料３割とされており、運営主体は、市町村と特別区（広域連合を設置している場合は広域連合）である。
- ５ 介護保険制度における要介護認定では、認定調査員による心身の状況調査及び主治医意見書に基づくコンピュータ判定を行う。

(3) 日本経済に関する記述として正しいものはどれか。1～5から一つ選べ。

解答番号は

- 1 1948（昭和23）年に示された経済安定9原則では、日本のデフレ脱却による経済の安定化と自立化がアメリカ政府によって要請された。
- 2 1963（昭和38）年、国際収支の悪化を理由に貿易制限が認められないGATT11条国に移行した。
- 3 1971（昭和46）年、日本万国博覧会後の景気の冷え込みに対する経済政策として戦後初の赤字国債の発行を決定した。
- 4 1993（平成5）年から始まった日米包括経済協議では、日本の対米貿易赤字が問題になった。
- 5 1996（平成8）年に金融機関の破綻が表面化するとペイオフが凍結され、2025（令和7）年現在も全面的に解除に至っていない。

(4) 次の表において、第三次産業に分類される産業の就業者数の合計として適切なものはどれか。

1～5から一つ選べ。解答番号は

産業	就業者数（万人）
農業、林業	156
建設業	476
情報通信業	284
運輸業、郵便業	330
卸売業、小売業	1005
金融業、保険業	159
宿泊業、飲食サービス業	421
製造業	1054

- 1 156万人
- 2 773万人
- 3 1426万人
- 4 1530万人
- 5 2199万人

(5) 旧約聖書に関する記述として誤っているものはどれか。1～5から一つ選べ。

解答番号は

- 1 古代イスラエル民族が生み出し、そのほとんどの部分は古代ヘブライ語で書かれている。
- 2 「創世記」をはじめ、ユダヤ人の歴史や思想に関する書物を集録している。
- 3 旧約聖書の一部は、イスラームでは、信仰対象としての「啓典」に認められている。
- 4 ユダヤ教における唯一の正典であり、キリスト教にとっては、『聖書』正典の一部をなす。
- 5 神ヤハウェによる人類全体への平等な愛を説いている。

(6) 大陸合理論に関する記述の空欄（ア）～（ウ）に当てはまる語句の組合せとして正しいものはどれか。1～5から一つ選べ。解答番号は

フランスの哲学者である（ア）は、感覚的経験よりも理性を重んじ、理性を確実な知識の源泉とみなした。このような考え方を大陸合理論とよぶ。また、（ア）は、明晰・判明な一般的な法則や原理から、理性による推論を通じて個別的な判断を引き出す方法である（イ）を提唱した。

大陸合理論は、主にヨーロッパ大陸で発展し、オランダの哲学者で『エチカ』を著した（ウ）に継承された。

	ア	イ	ウ
1	デカルト	帰納法	バークリー
2	デカルト	演繹法	スピノザ
3	デカルト	帰納法	スピノザ
4	ベーコン	演繹法	バークリー
5	ベーコン	帰納法	スピノザ

(7) 江戸時代の思想家に関する記述として誤っているものはどれか。1～5から一つ選べ。

解答番号は

28

- 1 のちの昌平坂学問所の基となる私塾を開いた林羅山は、君臣・父子の上下の人間関係は天地自然なものであると、「上下定分の理」を説いた。
- 2 日本陽明学の祖とされる中江藤樹は、著作『翁問答』の中であらゆる道德の根源は「忠」とであると説いた。
- 3 石門心学の祖であり商人出身の石田梅岩は、商業の社会的役割を説き、利潤追求の正当性を論じた。
- 4 医師であり自然哲学者である安藤昌益は、農業生産（直耕）こそ農民を疲弊から救う道であるとして自然真営道を説いた。
- 5 古典解釈に取り組んだ賀茂真淵は、「高く直きこころ」「ますらをぶり」などの概念を抽出して、儒教を批判した。

5 次の（１）～（３）の問いに答えよ。

（１）次の文章は令和 7（2025）年 2 月に公表された「日本経済レポート（2024年版）」の一部である。以下のア～カの問いに答えよ。

第 1 章 マクロ経済の動向

第 1 節 2024 年の日本経済の動向と持続的回復に向けた課題

1. GDP 等の動向

（我が国の A 名目 GDP は初めて 600 兆円を超え、B 景気は緩やかな回復が続く）

はじめに、2024 年における我が国の GDP の動きを確認する。名目 GDP の長期的な動向を振り返ると、第 1-1-1 図（1）のとおり、C 1973 年に 100 兆円を超えて以降、およそ 5 年ごとに 100 兆円ずつ増加し、1991 年中には 500 兆円となった。しかし、D 1990 年代初頭にいわゆるバブルが崩壊し、1997～1998 年の あ や日本の金融システム危機を経て、デフレに陥ったこと、2000 年代後半には世界金融危機、2011 年の東日本大震災、さらに 2020 年には新型コロナウイルス感染症の感染拡大など、外的ショックにも見舞われたことから、名目 GDP は 30 年超にわたって 500 兆円台ないしその前後の推移が続いた。この間、E 賃金・物価が共に据え置きで動かないという状況が続いてきたが、コロナ禍後の世界的な需要回復や、2022 年 2 月のロシアによるウクライナ侵略に伴う資源価格の高騰を背景とする輸入物価の上昇を起点として、国内物価の上昇が始まった。

ア 下線部 A について、名目 GDP と実質 GDP の違いを説明せよ。

イ 下線部 B に関連して、資本主義経済で、経済活動が拡張する好況と収縮する不況とが交互に発生する、その周期的変動のことを景気循環と呼ぶ。次の表は、景気循環の種類についてまとめたものである。（ i ）～（ iii ）に入る語句の組合せとして正しいものはどれか。1～5 から一つ選び、数字で答えよ。

名称	キチンの波	（ i ）	（ ii ）	（ iii ）
周期	約 40 カ月	約 10 年	約 20 年	約 50 年
主な原因	企業の在庫変動	企業の設備投資	建設需要	技術革新

	i	ii	iii
1	クズネッツの波	ジュグラーの波	コンドラチェフの波
2	コンドラチェフの波	クズネッツの波	ジュグラーの波
3	ジュグラーの波	コンドラチェフの波	クズネッツの波
4	ジュグラーの波	クズネッツの波	コンドラチェフの波
5	コンドラチェフの波	ジュグラーの波	クズネッツの波

ウ 下線部Cの時期に発生した第一次石油危機に関連して、次の文章中の空欄 と に当てはまる語句を答えよ。

第二次世界大戦後、1950年代から1960年代にかけて比較的順調な歩みを続けてきた欧米先進国経済は、1970年代に入って、二度にわたる石油危機の中で、不況とインフレーションが同時進行する と呼ばれる状況に陥った。

アメリカの経済学者である は、ケインズ経済学に基づく裁量的経済政策に反対し、市場機構の作用に信頼をおき、貨幣増加率の固定化を主張する政策的立場であるマネタリズムを唱えた。

エ 下線部Dについて、1980年代後半に日本はバブル経済とよばれる好景気の時代を迎えた。このバブル経済を引き起こした要因は何か、以下の語句を用いて説明せよ。

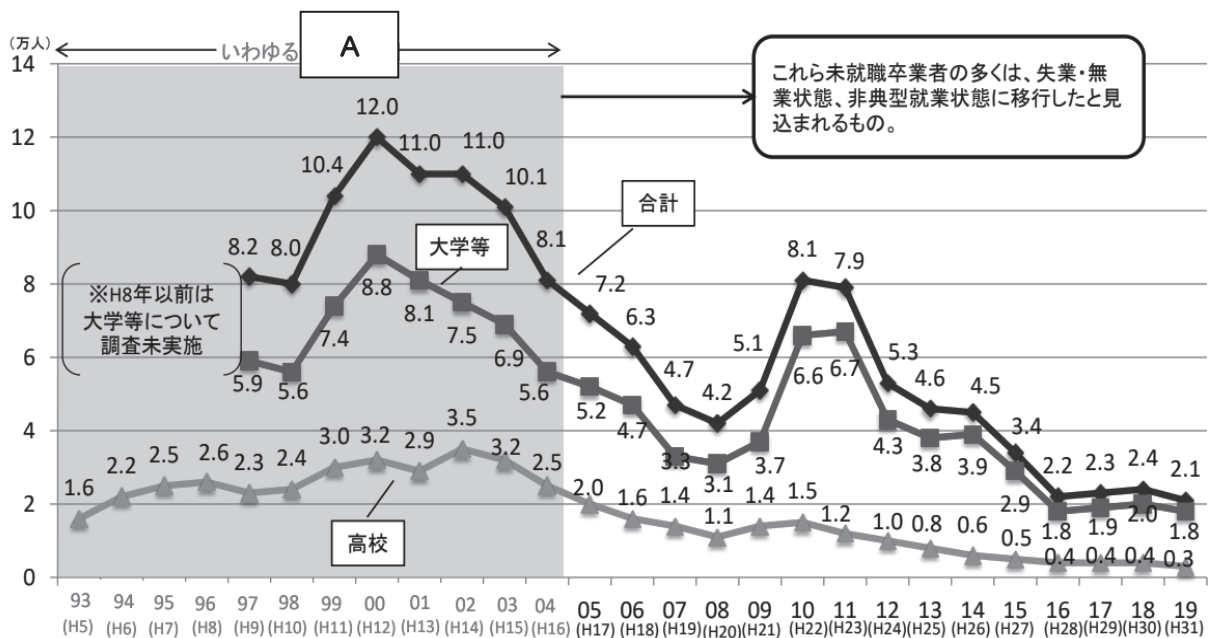
プラザ合意

土地

日本銀行

オ 文中の には、1997年7月、タイの通貨バーツの対ドル交換比率が暴落したことをきっかけとする金融危機の名称が入る。 に入る語句を答えよ。

カ 下線部Eに関連して、次のグラフは内閣官房が作成した未就職卒業者数（大学等または高校）の推移を示したものである。以下の①～③の問いに答えよ。



① グラフ中の には、バブル経済崩壊後の雇用環境が厳しい時期（平成5（1993）年～平成16（2004）年）に就職活動を行った世代をあらわす語句が入る。この世代は、新卒時に希望する就職ができず、その後も不本意ながら不安定な仕事に就いている、あるいは、無業の状態にあるなど、様々な課題に直面している人が含まれる。この世代を何というか、漢字7字で答えよ。

- ② 以下は、「短時間・有期雇用労働者及び派遣労働者に対する不合理な待遇の禁止等に関する指針（平成30年厚生労働省告示第430号）」の一部である。文章中の空欄 に入る語句を答えよ。

我が国が目指す は、同一の事業主に雇用される通常の労働者と短時間・有期雇用労働者との間の不合理と認められる待遇の相違及び差別的取扱いの解消並びに派遣先に雇用される通常の労働者と派遣労働者との間の不合理と認められる待遇の相違及び差別的取扱いの解消（協定対象派遣労働者にあつては、当該協定対象派遣労働者の待遇が労働者派遣法第30条の4第1項の協定により決定された事項に沿った運用がなされていること）を目指すものである。

もとより賃金等の待遇は労使の話合いによって決定されることが基本である。しかし、我が国においては、通常の労働者と短時間・有期雇用労働者及び派遣労働者との間には、欧州と比較して大きな待遇の相違がある。政府としては、この問題への対処に当たり、 の考え方が広く普及しているといわれる欧州の制度の実態も参考としながら政策の方向性等を検証した結果、それぞれの国の労働市場全体の構造に応じた政策とすることが重要であるとの示唆を得た。

- ③ バブル経済崩壊後の不況の中で、多くの企業が雇用調整を迫られることとなり、いわゆる「日本的雇用システム」が大きく揺らぐこととなった。2019年のOECD経済調査でも日本の雇用慣行の特徴として取りあげられた「日本的雇用システム」とは具体的にどのようなものを指すか、OECD経済調査で示されたもののうち2つ答えよ。

(2)『高等学校学習指導要領（平成30年告示）』における「政治・経済」の内容のうち、「A 現代日本における政治・経済の諸課題（1）現代日本の政治・経済」に関する以下のア～ウの問いに答えよ。

ア 次は、「日本国憲法 第八章 地方自治」に示されている条文である。以下の①・②の問いに答えよ。

第九十二条	地方公共団体の組織及び運営に関する事項は、 <input type="text" value="あ"/> に基いて、法律でこれを定める。
第九十三条	地方公共団体には、法律の定めるところにより、その議事機関として議会を設置する。
2	<u>A 地方公共団体の長、その議会の議員及び法律の定めるその他の吏員は、その地方公共団体の住民が、直接これを選挙する。</u>
第九十四条	地方公共団体は、その財産を管理し、事務を処理し、及び行政を執行する権能を有し、法律の範囲内で <input type="text" value="い"/> を制定することができる。
第九十五条	一の地方公共団体のみに適用される <input type="text" value="う"/> は、法律の定めるところにより、その地方公共団体の住民の投票においてその過半数の同意を得なければ、国会は、これを制定することができない。

① 文章中の空欄 ～ に入る適切な語句を答えよ。

② 下線部Aについて、地方公共団体では首長と議会議員をともに住民が直接選挙で選ぶという二元代表制をとっている。二元代表制における首長と議会の関係について、以下の語句を用いて説明せよ。

均衡	拒否権
----	-----

イ 次の表は、「令和6年版地方財政白書（令和4年度決算）」における地方財政の歳入決算額をまとめたものである。以下の①・②の問いに答えよ。

区 分	決 算 額		構 成 比		増 減 額	増 減 率
	令和4年度	令和3年度	4年度	3年度		
	億円	億円	%	%	億円	%
地方税	440,522	424,089	36.1	33.1	16,432	3.9
地方譲与税	27,621	24,468	2.3	1.9	3,153	12.9
地方特例交付金等	2,227	4,547	0.2	0.4	△ 2,320	△ 51.0
地方交付税	186,310	195,049	15.3	15.2	△ 8,739	△ 4.5
国庫支出金	267,115	320,716	21.9	25.0	△ 53,601	△ 16.7
地方債	87,812	117,454	7.2	9.2	△ 29,641	△ 25.2
うち臨時財政対策債	16,402	44,213	1.3	3.4	△ 27,811	△ 62.9
その他	207,845	196,588	17.0	15.2	11,257	5.7
合 計	1,219,452	1,282,911	100.0	100.0	△ 63,459	△ 4.9

(注) 国庫支出金には、交通安全対策特別交付金及び国有提供施設等所在市町村助成交付金を含む。

① 歳入区分のうち、一般財源にあたるものはどれか、次のA～Dからすべて選び、記号で答えよ。

- A 地方税
- B 地方譲与税
- C 地方特例交付金
- D 国庫支出金

② 地方交付税の原資となる国税は何か、地方交付税法6条に規定されているもののうち2つ答えよ。

ウ 最高裁判所に関する次の①～③の問いに答えよ。

① 最高裁判所裁判官国民審査に関する記述として誤っているものを次の1～4から一つ選び、数字で答えよ。

- 1 憲法79条で規定されている最高裁判所裁判官国民審査とは、既に任命されている最高裁判所の裁判官が、その職責にふさわしい者かどうかを国民が審査する解職の制度である。
- 2 最高裁判所の裁判官は、任命された後に初めて行われる衆議院議員総選挙の投票日に国民審査を受け、この審査の日から10年を経過した後に初めて行われる衆議院議員総選挙の投票日に更に審査を受ける。
- 3 裁判官ごとに、辞めさせたい意思がある場合は投票用紙に「×」を記載し、なければ何も記載せずに投票を行う。
- 4 最高裁判所裁判官国民審査については在外投票や洋上投票等は認められていない。

② 憲法81条で規定されている裁判所の権限を何というか。漢字7字で答えよ。

第八十一条 最高裁判所は、一切の法律、命令、規則又は処分が憲法に適合するかしないかを決定する権限を有する終審裁判所である。

③ 砂川事件（日本国とアメリカ合衆国との間の安全保障条約第三条に基く行政協定に伴う刑事特別法違反、昭和34（あ）710、昭和34年12月16日、最高裁判所大法廷）や、苫米地事件（衆議院議員資格並びに歳費請求、昭和30（オ）96、昭和35年6月8日、最高裁判所大法廷）において、最高裁判所はいわゆる「統治行為論」と呼ばれる考え方を示した。「統治行為論」とはどのような考え方か、簡潔に説明せよ。

(3) 人間としての在り方生き方に関するア～オの問いに答えよ。

ア 次の作品を著し、人間を「神と無の中間者」としてみなした人間観を示したフランスの思想家は誰か答えよ。

著作権保護の観点により、本文を掲載いたしません。

出典：パンセ

パスカル著 前田陽一・由木康訳 中央公論新社
111ページ4行目から5行目まで

イ 次の文章は、プラトンが著した『ソクラテスの弁明』の一部である。下線部Aについて、もとも古代ギリシアでは人を含む生きものの呼吸する「息」を意味した語句を答えよ。

著作権保護の観点により、本文を掲載いたしません。

出典：ソクラテスの弁明・クリトン

プラトン著 三嶋輝夫・田中享英訳 講談社
49ページ13行目から15行目まで
50ページ1行目から3行目まで

ウ 次の文章はモーセ五書の一部である。ユダヤ教においてモーセ五書をさし、ヘブライ語で「教え」という意味を持つ語句を答えよ。

著作権保護の観点により、本文を掲載いたしません。

出典：聖書 新共同訳 旧約聖書続編つき

共同訳聖書実行委員会 日本聖書協会
出エジプト記 20章12節から20章17節まで

エ 欲求階層説を提唱し、『人間性の心理学』を著したアメリカの心理学者は誰か答えよ。

オ オーストリアの精神科医であるフロイト (S.Freud) は、乳幼児期から青年期までの発達段階を、リビドーの集中する身体部分あるいは対象の変化によって分類する心理学的発達理論を提唱した。この心理学的発達理論について、次の①・②の問いに答えよ。

① フロイト (S.Freud) が説くリビドーとはどのようなものか、説明せよ。

② 心理学的発達理論における最初の段階は何か答えよ。

令和8年度大阪府公立学校教員採用選考テスト

第二次選考択一問題の正答について

校種	高等学校	教科・科目	公民（政治・経済）
----	------	-------	-----------

大問番号	1							2							3							4						
解答番号	1	2	3	4	5	6	7	8	9	10	11	12	13	14	15	16	17	18	19	20	21	22	23	24	25	26	27	28
正答番号	3	4	1	5	5	4	2	2	1	4	1	3	5	3	3	1	2	5	4	5	1	1	4	2	5	5	2	2

受験番号

令和8年度大阪府公立学校教員採用選考テスト

高等学校 公民（政治・経済） 解答用紙 （3枚のうち1）

5

得点

(1)	ア	一定期間に国内で生産された商品・サービスの合計額である国内総生産（GDP）をその時点の市場価格で評価したものを名目 GDP、基準年の価格で評価したもの（名目 GDP から物価の上昇・下落による影響を取り除いたもの）を実質 GDP という。		／	
	イ	4	／		
	ウ	i スタグフレーション	／	ii フリードマン	／
	エ	1985 年のプラザ合意以降、急激な円高が進行し、日本は円高不況の状態となった。そのため、日本政府は財政出動も含めた大規模な内需拡大政策を行い、日本国内は内需拡大による好景気に突入した。景気拡大の中においても、日本銀行による超低金利政策が続けられたこともあり、株式や土地などの資産市場に大量の資金が流入し、株価・地価が急騰した。			／
	オ	アジア通貨危機	／		
	カ	① 就職氷河期世代	／	② 同一労働同一賃金	／
		③ 新卒者の同時採用、終身雇用、年功序列型賃金・昇進制度、定年退職、企業研修 のうち 2 つ			／

受験番号

令和8年度大阪府公立学校教員採用選考テスト

高等学校 公民（政治・経済） 解答用紙 （3枚のうち2）

5（続き）

(2)	ア	① あ 地方自治の本旨	/	い 条例	/		
		う 特別法	/				
	イ	② 二元代表制においては、ともに住民の直接選挙で選ばれた首長と議会は対等の機関として、相互に抑制し合い、均衡を保っている。議会は首長に対する不信任決議権を有し、首長は議会に対して解散権と拒否権を有している。				/	
		① A、B、C	/				
		② 所得税、法人税、酒税、消費税、地方法人税 のうち2つ	/				
	ウ	① 4	/				
		② 違憲立法審査権	/				
		③ 国家機関の行為のうち、極めて高度の政治性を有する行為については、裁判所の司法審査の対象とならないとする考え方。				/	

受験番号	
------	--

令和8年度大阪府公立学校教員採用選考テスト

高等学校 公民（政治・経済） 解答用紙 （3枚のうち3）

5（続き）

--

--

(3)	ア	パスカル	／	
	イ	プシュケー	／	
	ウ	トーラー	／	
	エ	マズロー	／	
	オ	① 欲求や快感の源泉となる、 人間に生得的な性衝動の根底にあるエネルギー	／	
		② ロ唇期	／	