

高等学校 地理歴史（世界史）

解答についての注意点

- 1 解答用紙は、マーク式解答用紙と記述式解答用紙の2種類があります。
- 2 大問 **1** ～大問 **4** については、マーク式解答用紙に、大問 **5** については、記述式解答用紙に記入してください。
- 3 解答用紙が配付されたら、まずマーク式解答用紙に受験番号等を記入し、受験番号に対応する数字を、鉛筆で黒くぬりつぶしてください。
記述式解答用紙は、全ての用紙の上部に受験番号のみを記入してください。
- 4 大問 **1** ～大問 **4** の解答は、選択肢のうちから、**問題で指示された解答番号**の欄にある数字のうち一つを黒くぬりつぶしてください。
例えば、「解答番号は 」と表示のある問題に対して、「**3**」と解答する場合は、解答番号 の欄に並んでいる ① ② ③ ④ ⑤ の中の ③ を黒くぬりつぶしてください。
- 5 間違ってぬりつぶしたときは、消しゴムできれいに消してください。二つ以上ぬりつぶされている場合は、その解答は無効となります。
- 6 その他、係員が注意したことをよく守ってください。

指示があるまで中をあけてはいけません。

I 日本史について、(1)～(7)の問いに答えよ。

(1) 7世紀～8世紀に起きた出来事における次のア～オの内容を、古い順に左から右へ並べた場合、正しいものはどれか。下の1～5から一つ選べ。解答番号は

- ア 平城京へ遷都した。
- イ 国分寺建立の詔が出された。
- ウ 庚午年籍が作成された。
- エ 大宝律令が施行された。
- オ 三世一身の法が施行された。

- 1 ウ → ア → イ → エ → オ
- 2 エ → ウ → ア → イ → オ
- 3 ウ → エ → ア → オ → イ
- 4 エ → ウ → オ → イ → ア
- 5 ウ → エ → オ → ア → イ

(2) 次のア～オのうち、平安時代に起きた出来事について説明したものとして、正しいものを○、誤っているものを×とした場合、正しい組合せはどれか。下の1～5から一つ選べ。

解答番号は

- ア 平将門は、関東で反乱を起こし、平貞盛らによって討たれた。
- イ 日本の百済救援軍は、白村江の戦で唐と新羅連合軍に敗れた。
- ウ 平清盛は、平治の乱で藤原信頼を討った。
- エ 源義家は、清原一族の内紛に介入し、清原清衡を助け内紛を制圧した。
- オ 北条時宗は、弘安の役において、元軍の日本来寇を退けた。

- | | ア | イ | ウ | エ | オ |
|---|---|---|---|---|---|
| 1 | × | ○ | ○ | × | ○ |
| 2 | ○ | × | × | ○ | × |
| 3 | ○ | × | ○ | × | × |
| 4 | ○ | × | ○ | ○ | × |
| 5 | × | ○ | × | × | ○ |

(3) 次のア～オのうち、室町時代の絵図や文芸作品として、正しいものを○、誤っているものを×とした場合、正しい組合せはどれか。下の 1～5 から一つ選べ。解答番号は

- ア 「秋冬山水図」
イ 「燕子花図屏風」
ウ 「見返り美人図」
エ 「風姿花伝」
オ 「古事記伝」

	ア	イ	ウ	エ	オ
1	○	×	×	○	×
2	○	×	○	×	×
3	○	○	×	×	○
4	×	×	×	○	×
5	×	○	○	○	○

(4) 次のア～エのうち、17世紀～19世紀に起きた出来事について説明したものとして、正しいものを○、誤っているものを×とした場合、正しい組合せはどれか。下の 1～5 から一つ選べ。
解答番号は

- ア 幕府や諸藩が流通統制や警察的取締りをおこなうことなどを目的に、商人や手工業者たちによる株仲間を設定・認可した。
イ 伊勢神宮の神符等が降下したということを契機に、民衆が「ええじゃないか」等と踊りながら唱える民衆運動がおこった。
ウ 守護勢力と対立し、国持体制の実現をめざし、南山城で在地武士などが一揆を起こした。
エ 幕府がキリシタンを摘発するために宗門改を行った。

	ア	イ	ウ	エ
1	○	○	○	×
2	×	○	○	○
3	○	○	×	×
4	×	×	○	○
5	○	○	×	○

(5) 次のア～オのうち、明治時代に起きた出来事について説明したものとして、正しいものを○、誤っているものを×とした場合、正しい組合せはどれか。下の1～5から一つ選べ。

解答番号は

5

- ア 廃藩置県が行われ、大阪府と京都府のみ、政府任命の府知事が地方行政を担当した。
- イ 特命全権大使岩倉具視を中心とした岩倉使節団が欧米に派遣され、伊藤博文も参加した。
- ウ 前島密の建議により、官営の郵便制度が発足した。
- エ 地租改正法が公布され、地租はその年の豊凶によって増減して徴収された。
- オ 大隈重信は民撰議院設立の建白書を政府に提出した。

	ア	イ	ウ	エ	オ
1	×	○	○	×	○
2	○	×	○	○	×
3	×	×	○	○	×
4	○	○	×	×	○
5	×	○	○	×	×

(6) 明治時代の外交にかかわる次のア～オの出来事を、古い順に左から右に並べた場合、正しいものはどれか。下の1～5から一つ選べ。解答番号は

6

- ア 陸奥宗光外相が日英通商航海条約を結ぶ。
- イ ノルマントン号事件が起きる。
- ウ 第1回日英同盟（日英同盟協約）が結ばれる。
- エ 小村寿太郎外相がアメリカとの条約を結び関税自主権が完全回復する。
- オ 日比谷焼き打ち事件が起きる。

1	ア	→	イ	→	ウ	→	エ	→	オ
2	イ	→	ア	→	エ	→	ウ	→	オ
3	ア	→	ウ	→	イ	→	エ	→	オ
4	イ	→	ア	→	ウ	→	オ	→	エ
5	ア	→	イ	→	ウ	→	オ	→	エ

(7) 次のア～オのうち、大正時代における出来事について説明したものとして、正しいものを○、誤っているものを×とした場合、正しい組合せはどれか。下の 1～5 から一つ選べ。

解答番号は

7

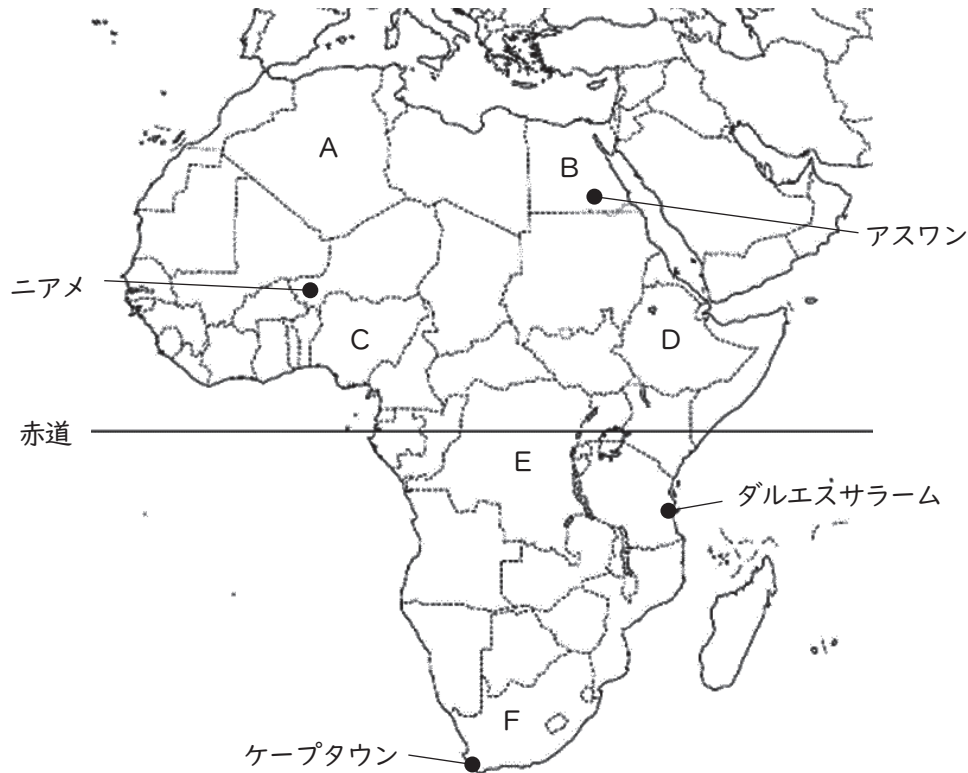
- ア 市川房枝らが婦人参政権要求などを目標とした新婦人協会を結成した。
- イ 中江兆民がルソーの『社会契約論』を一部漢訳した『民約訳解』を刊行した。
- ウ 吉野作造は民本主義を唱え、黎明会を組織した。
- エ 西光万吉が水平社宣言を起草した。
- オ 植木枝盛が「日本国国憲案」を起草した。

	ア	イ	ウ	エ	オ
1	○	×	○	×	×
2	○	×	○	○	×
3	×	○	×	×	○
4	○	○	○	×	×
5	×	○	×	○	○

2 地理に関する次の問1～問3の問いに答えよ。

問1 下の図1はアフリカの周辺を示したものであり、図1中のA～Fは国を示している。次の(1)～(2)の問いに答えよ。

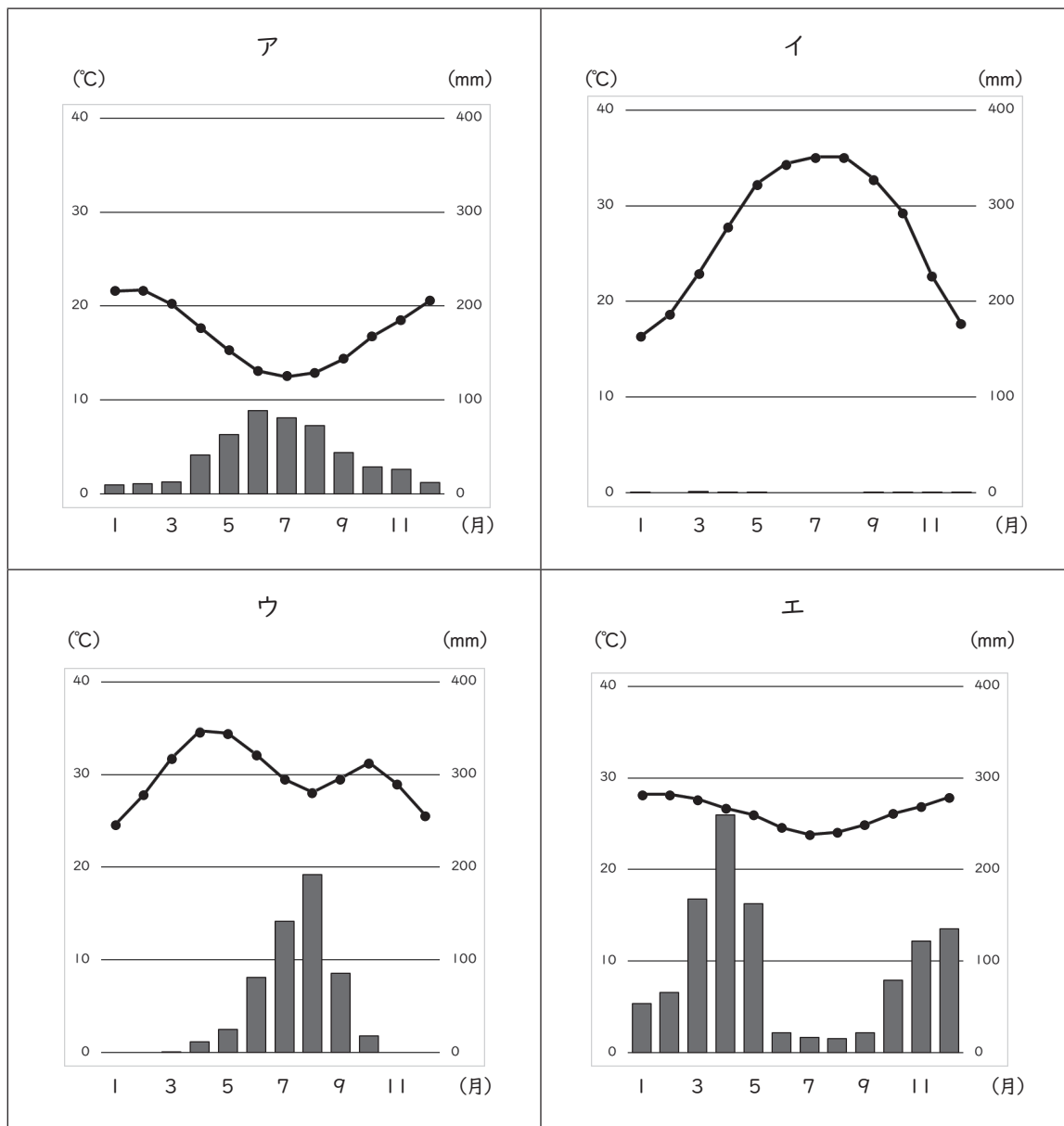
図1



(1) 図1中のA～Fの国及びアフリカについて説明している文として正しいものはどれか。1～5から一つ選べ。解答番号は

- 1 A国とB国の公用語はアラビア語であり、イスラーム（イスラム教）が多く信仰されている。A国の北岸にはアトラス山脈が走っており、B国には南北にナイル川が貫流している。ナイル川河口の東にはスエズ運河があり、紅海と大西洋を結んでいる。
- 2 C国は、アフリカ最多の人口を有する国で、西はカカオ豆の生産が盛んなガーナと国境と接している。C国は、アフリカ最大の産油国であり、OPEC加盟国である。
- 3 アフリカ連合（AU）の本部は、D国の首都であるアディスアベバに置かれ、アフリカ連合には2025年2月現在、西サハラ（サハラ・アラブ民主共和国）を含むアフリカ55の国・地域が加盟している。
- 4 E国からF国にかけて、カッパーベルト（コッパーベルト）とよばれる世界有数の銅鉱床地帯が広がっている。E国の公用語はフランス語であり、中央部をニジェール川が貫流している。
- 5 F国は、アフリカ大陸最南端の国であり、ブラジル・トルコ・インド・中国とともにBRICSを構成している。F国にあるカラハリ砂漠南縁部にはサヘル地域が広がっている。

(2) 次のア～エのグラフは、図1中のアスワン、ケープタウン、ダルエスサラーム、ニアメの月平均気温と月降水量をそれぞれ示したものである。ア～エのグラフに該当する都市の組合せとして正しいものはどれか。1～5から一つ選べ。解答番号は 9



(『理科年表2025』より作成)

	ア	イ	ウ	エ
1	ケープタウン	アスワン	ニアメ	ダルエスサラーム
2	ニアメ	ケープタウン	アスワン	ダルエスサラーム
3	ダルエスサラーム	アスワン	ニアメ	ケープタウン
4	ケープタウン	アスワン	ダルエスサラーム	ニアメ
5	ニアメ	アスワン	ケープタウン	ダルエスサラーム

問2 次の(1)～(4)の問いに答えよ。

(1) 次の表1は日本・中国・EU(ヨーロッパ連合)の3つの国・地域とアメリカ合衆国の貿易について示したものである。表1中の国・地域A、B、Cに該当する正しい組合せはどれか。1～5から一つ選べ。解答番号は

表1

	アメリカ合衆国への輸出(百万ドル)			アメリカ合衆国から輸入(百万ドル)		
	2000年	2010年	2022年	2000年	2010年	2022年
A	150,632	123,556	154,445	65,252	60,543	80,305
B	107,615	382,954	575,688	16,252	91,878	153,837
C	217,190	320,742	527,513	187,772	224,410	372,356

EUの構成国は、2000年15か国、2010年27か国、2022年27か国。
(『データブック オブ・ザ・ワールド』2024年版より作成)

	A	B	C
1	日本	EU(ヨーロッパ連合)	中国
2	日本	中国	EU(ヨーロッパ連合)
3	EU(ヨーロッパ連合)	中国	日本
4	中国	EU(ヨーロッパ連合)	日本
5	中国	日本	EU(ヨーロッパ連合)

(2) 次の文は領域について述べたものである。文中のア～ウに当てはまる語句の正しい組合せはどれか。1～5から一つ選べ。解答番号は

国家の領域は、領土、領海、領空から成り立っている。日本では海岸線から（ ア ）以内を領海と定めている。領海の外側に海岸の基線から測って200海里までの範囲内で設定される水域は排他的経済水域（EEZ）といわれ、さらにその外側の（ イ ）はすべての国に開放されている。なお、日本の領海、排他的経済水域（EEZ）の合計面積は447万km²で国土面積の約（ ウ ）に及ぶ。

	ア	イ	ウ
1	10海里	公海	18倍
2	10海里	大洋	12倍
3	12海里	公海	18倍
4	12海里	大洋	18倍
5	12海里	公海	12倍

- (3) 次の表2は、2022（令和4）年における米、茶、かんしょ、みかんの生産量が多い上位3都道府県を示したものである。また、下の表3のア～エの文は、表2中のA～Dの都府県について説明している文である。A～Dの都府県に該当する正しい組合せはどれか。1～5から一つ選べ。
- 解答番号は

表2

米		茶		かんしょ		みかん	
新潟県	8.7%	B	37.0%	C	29.5%	D	22.4%
北海道	7.6%	C	34.6%	茨城県	27.3%	愛媛県	16.0%
A	6.3%	三重県	6.8%	千葉県	12.5%	B	15.1%

（『日本国勢図会』2023／24年版、2024／25年版より作成）

表3

ア	この都府県は、日本で最も大きな半島の西半を占め、沿岸を黒潮が流れている。この都府県は、2022（令和4）年におけるうめやかき（果実）の生産量も全国1位である。
イ	この都府県の臨海部には、太平洋ベルトに位置する工業地域が広がっており、国の特別史跡である登呂遺跡もある。
ウ	この都府県の北西部には、東アジア最大級の原生的なブナの自然林が残されている山地があり、この山地は世界自然遺産として登録されている。
エ	この都府県の面積の約6割は、噴火のときの火砕流や、空中に舞いあがった軽石や火山灰などが堆積したシラスが覆っている。この都府県の離島には、日本最大のロケット発射場である宇宙センターもある。

	A	B	C	D
1	ア	イ	ウ	エ
2	イ	ウ	エ	ア
3	ウ	エ	ア	イ
4	ウ	イ	エ	ア
5	エ	イ	ウ	ア

(4) 次の表4は、2022年10月1日における東京都、大阪府、島根県、沖縄県の年齢別人口割合及び産業別人口構成を示したものである。表4中の都府県A～Dに該当する正しい組合せはどれか。

1～5から一つ選べ。解答番号は

表4

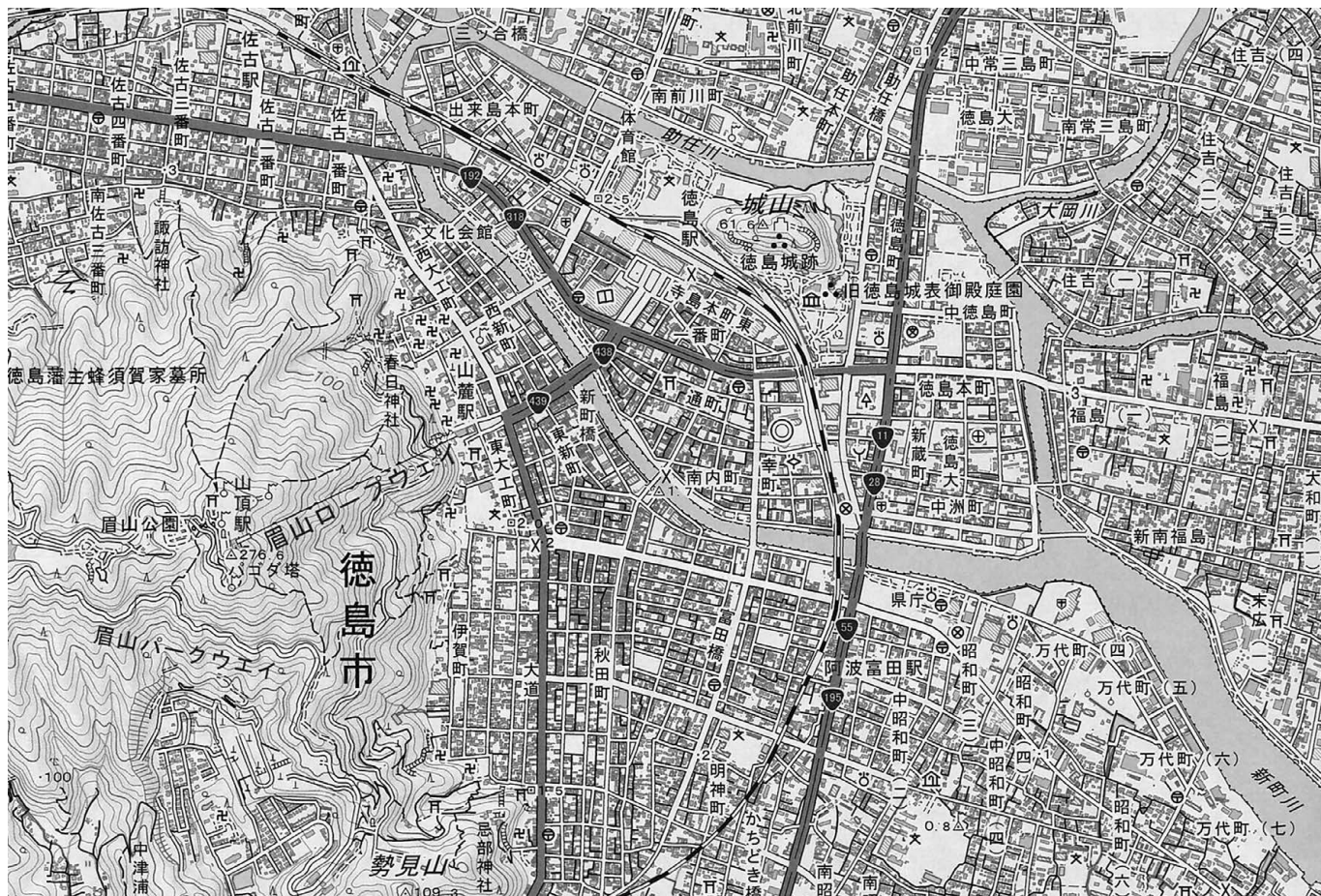
都府県	年齢別人口割合 (%)			産業別人口構成 (%)		
	0～14歳	15歳～64歳	65歳以上	第1次産業	第2次産業	第3次産業
A	11.4	60.9	27.7	0.3	21.1	78.6
B	12.0	53.3	34.7	4.9	22.8	72.3
C	16.3	60.2	23.5	3.4	14.7	81.8
D	10.9	66.3	22.8	0.3	14.3	85.5

(『日本国勢図会』2023／24年版、2024／25年版より作成)

	A	B	C	D
1	島根県	大阪府	沖縄県	東京都
2	東京都	島根県	沖縄県	大阪府
3	東京都	沖縄県	大阪府	島根県
4	大阪府	島根県	東京都	沖縄県
5	大阪府	島根県	沖縄県	東京都

問3 下の図2は、国土地理院が発行する地形図『徳島』(平成31年1月1日発行)の一部を120%に拡大したものである。下の文は、図2について読み取った内容をまとめたものである。文中のア～エに当てはまる語句の正しい組合せはどれか。1～5から一つ選べ。解答番号は 14

図2



- ・この地形図の計曲線は（ ア ）m間隔で引かれているので、（ イ ）地形図であることがわかる。
- ・県庁からみて、（ ウ ）方向に図書館がある。
- ・徳島市の市街地は（ エ ）川の形成した三角州上に形成されており、新町川は（ エ ）川水系の一級河川である。

	ア	イ	ウ	エ
1	50	2万5千分1	北西	吉野
2	100	2万5千分1	北西	四万十
3	10	5万分1	南東	四万十
4	50	5万分1	南西	吉野
5	100	5万分1	北西	吉野

3 次の（１）～（７）の問いに答えよ。

（１）日本国憲法の前文及び条文中の（ア）～（エ）に入る語句の組合せとして正しいものを１～５から一つ選べ。解答番号は

前文

日本国民は、（ ア ）の平和を念願し、人間相互の関係を支配する崇高な理想を深く自覚するのであつて、平和を愛する諸国民の公正と（ イ ）に信頼して、われらの安全と生存を保持しようと決意した。われらは、平和を維持し、専制と隷従、圧迫と偏狭を地上から永遠に除去しようと努めてゐる国際社会において、名誉ある地位を占めたいと思ふ。

第十二条

この憲法が国民に保障する自由及び権利は、国民の（ ウ ）の努力によつて、これを保持しなければならない。又、国民は、これを濫用してはならないのであつて、常に公共の（ エ ）のためにこれを利用する責任を負ふ。

	ア	イ	ウ	エ
1	恒久	協和	普段	福祉
2	永遠	協和	不断	利益
3	恒久	信義	不断	利益
4	永遠	信義	普段	利益
5	恒久	信義	不断	福祉

(2) 日本の司法について述べた次のア～オの文のうち、正しいものを○、誤っているものを×とした場合、正しい組合せはどれか。1～5から一つ選べ。解答番号は 16

ア 民事裁判において、簡易裁判所の判決に不服がある場合、地方裁判所に控訴し、その判決にも不服がある場合は、最高裁判所に上告することができる。

イ 刑事裁判では、自身に不利益な内容でも正直に話さなければならないので、被告人の黙秘権は認められていない。

ウ 裁判員裁判は、地方裁判所で行われる刑事裁判のうち、殺人罪や強盗致死傷罪など、一定の重大な犯罪が対象となる。

エ 最高裁判所は東京都に1か所、高等裁判所本庁は全国に10か所ある。

オ 違憲審査権は最高裁判所だけでなく、高等裁判所や地方裁判所などの下級裁判所にも認められている。

	ア	イ	ウ	エ	オ
1	○	○	○	×	×
2	×	×	○	○	×
3	○	○	×	×	○
4	×	×	○	×	○
5	○	○	×	○	×

(3) 日本の国際貢献のうち、国際連合平和維持活動（PKO）と政府開発援助（ODA）について述べた次のア～オの文のうち、正しいものを○、誤っているものを×とした場合、正しい組合せはどれか。1～5から一つ選べ。解答番号は

17

ア ODAの一環として、「国境なき医師団」のように、主に海外の課題に取り組む活動を行っているNGO（非政府組織）に資金援助を行っている。

イ 国際連合平和維持活動等に対する協力に関する法律では、国際連合平和維持活動、国際連合平和安全活動、人道的な国際救援活動、国際的な選挙監視活動の4つの活動への協力を規定している。

ウ ODAを通じて、日本は資金を提供しているが、人材育成の支援や技術提供は行っていない。

エ 日本がPKOに参加するにあたっての基本方針に、紛争当事国の間で停戦合意が成立しているかどうかは定められていない。

オ ODAは、開発途上国の経済開発や福祉の向上に役立つことを主な目的としている。

	ア	イ	ウ	エ	オ
1	×	○	×	○	○
2	○	○	×	×	○
3	○	×	×	○	×
4	○	○	○	×	×
5	×	×	○	○	○

(4) 日本の内閣について述べた次のア～オの文のうち、正しいものを○、誤っているものを×とした場合、正しい組合せはどれか。1～5から一つ選べ。解答番号は 18

ア 内閣総理大臣は、国会議員の中から国会の議決で指名されなければならない。

イ 内閣の仕事には、条約の承認、予算の作成及び国会への提出、天皇の国事行為に対する助言と承認、などがある。

ウ 衆議院議員総選挙の後に初めて国会の召集があったときは、内閣は総辞職をしなければならない。

エ 内閣は、内閣不信任案の決議が可決された場合のみ、衆議院を解散することができる。

オ 内閣は内閣総理大臣及びその他の国务大臣で組織されるが、国务大臣の3分の1以上は国会議員の中から選ばなければならない。

	ア	イ	ウ	エ	オ
1	○	×	○	×	×
2	×	○	×	×	○
3	○	×	○	○	×
4	×	○	○	○	×
5	○	○	×	×	○

(5) 日本の国会について述べた次のア～オの文のうち、正しいものを○、誤っているものを×とした場合、正しい組合せはどれか。1～5から一つ選べ。解答番号は 19

- ア 国会議員には、国会の会期中は原則として逮捕されない不逮捕特権や国会で行った演説や採決などについて法的な責任を問われない免責特権が認められている。
- イ 通常国会は、毎年1回、1月中に召集され、会期は150日間である。
- ウ 臨時国会は、衆議院解散後の総選挙の日から30日以内に召集される。
- エ 衆議院の解散中に緊急の必要があるときは、内閣の求めによって参議院の特別国会が開かれることがある。
- オ 法律案は、衆議院と参議院の両議院で可決されなければ、法律とならない。

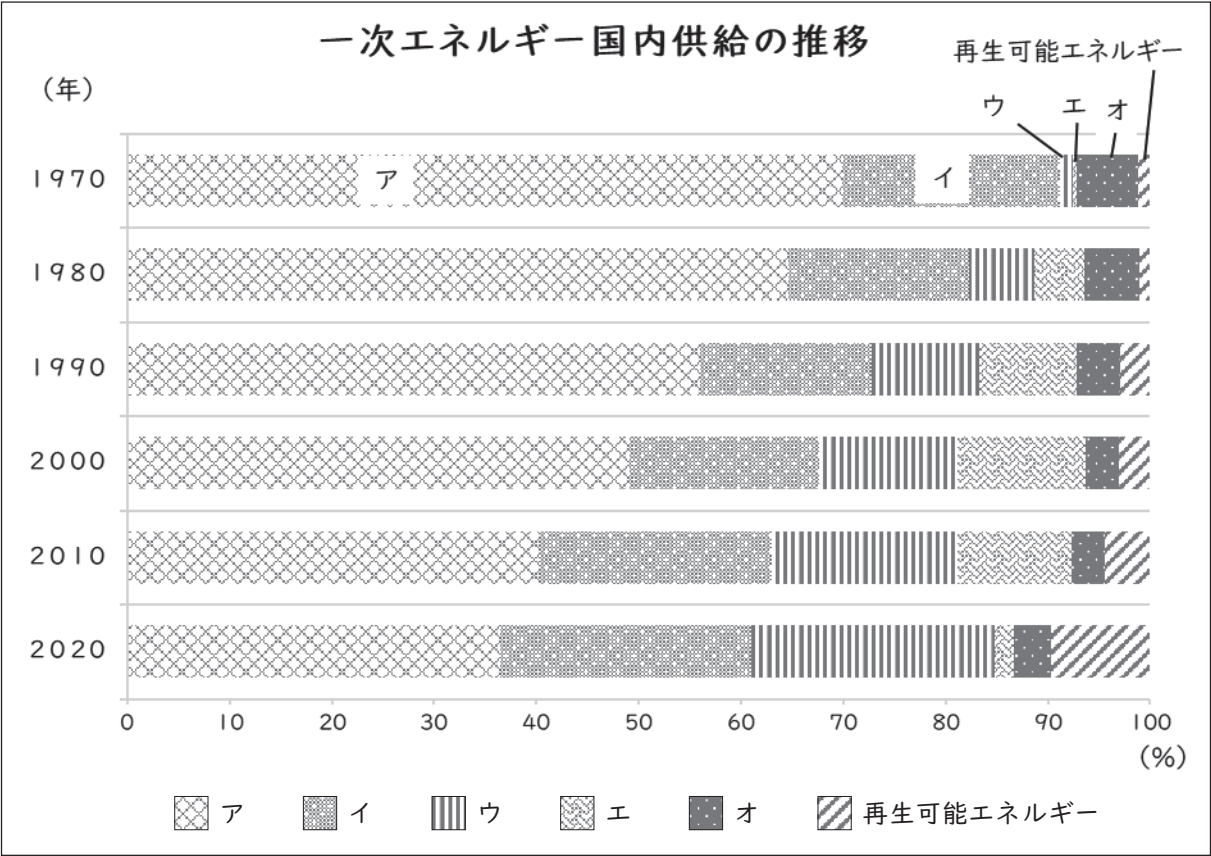
	ア	イ	ウ	エ	オ
1	○	○	×	○	×
2	○	×	×	×	○
3	○	○	×	×	×
4	×	○	○	○	×
5	×	×	○	×	○

(6) 日本の経済について述べた次のア～オの文のうち、正しいものを○、誤っているものを×とした場合、正しい組合せはどれか。1～5から一つ選べ。解答番号は 20

- ア 日本の2024年度予算の一般会計歳入112.6兆円のうち、半分以上が公債金に依存している。
- イ 日本銀行は物価の変動をおさえて、景気を安定させるために、公開市場操作（オペレーション）などの金融政策を行う。
- ウ 財政の機能の1つに、過度の経済格差を是正する所得の再分配がある。
- エ 1955年頃から始まった高度経済成長により日本のGNP（国民総生産）は世界第1位となった。
- オ 政府は景気の安定を図るため、増税や減税、公共投資の増減などの財政政策を行う。

	ア	イ	ウ	エ	オ
1	×	○	×	○	○
2	○	×	○	×	○
3	×	○	○	○	×
4	○	×	×	○	×
5	×	○	○	×	○

(7) 次のグラフは、日本の一次エネルギー国内供給の推移を表したものである。次のア～オにあてはまる組合せとして、正しいものを1～5から一つ選べ。解答番号は 21



経済産業省「令和3年度エネルギーに関する年次報告（エネルギー白書2022）」より作成

	ア	イ	ウ	エ	オ
1	石炭	石油	水力	原子力	天然ガス
2	石炭	石油	水力	天然ガス	原子力
3	石油	石炭	天然ガス	原子力	水力
4	石油	石炭	水力	天然ガス	原子力
5	石油	石炭	天然ガス	水力	原子力

4 次の(1)～(7)の問いに答えよ。

(1) 次のア～オのうち、南アジアの王朝に関して述べた文として正しいものを○、誤っているものを×とした場合、正しい組合せはどれか。1～5から一つ選べ。解答番号は 22

- ア マウリヤ朝は、ナンダ朝を倒した Chandragupta 王によって創始された。
イ クシャーナ朝の時代に、Ashoka 王が中央アジアから北インドにかけて統治した。
ウ サータヴァーハナ朝は、ローマ帝国との交易を盛んに行った。
エ グプタ朝の時代に、Kalidasa が『Mahabharata』を作った。
オ ヴァルダナ朝は、Harsha 王によって建国され、Kanauj を都とした。

	ア	イ	ウ	エ	オ
1	○	○	×	×	×
2	○	×	○	×	○
3	○	×	×	○	○
4	×	○	○	×	×
5	×	×	○	○	○

(2) 17～19世紀のロシア皇帝に関して述べた文として正しいものを○、誤っているものを×とした場合、正しい組合せはどれか。1～5から一つ選べ。解答番号は 23

- ア ピョートル1世は、バルト海進出を図り、1700年にスウェーデンとの間で北方戦争を開始した。
イ エカチェリーナ1世は、プロイセンなどとともにポーランドを分割し、領土を拡大した。
ウ アレクサンドル2世は、ウィーン会議に参加し、神聖同盟を提唱した。
エ ニコライ1世は、1853年にオスマン帝国との間でクリミア戦争を開始した。
オ ニコライ2世は、1861年に農奴解放令を発した。

	ア	イ	ウ	エ	オ
1	○	○	×	×	○
2	○	○	×	×	×
3	○	×	×	○	×
4	×	×	○	○	○
5	×	○	○	×	×

(3) 18～19世紀の技術革新について述べたア～エを、古い順に左から右へ並べた場合、正しいものはどれか。1～5から一つ選べ。解答番号は

- ア スティーブンソンが蒸気機関車ブリュッヘル号を製作した。
イ カートライトが力織機の特許を取得した。
ウ ジョン＝ケイが飛び杼を発明した。
エ フルトンが蒸気船クラモント号を建造した。

- 1 イ → ウ → ア → エ
2 イ → ウ → エ → ア
3 イ → エ → ア → ウ
4 ウ → イ → ア → エ
5 ウ → イ → エ → ア

(4) 東南アジア諸地域では19世紀後半から民族運動が起こり、次のア～エに示す活動家が現れた。インドネシア・フィリピン・ベトナムにおける活動家の組合せとして正しいものはどれか。1～5から一つ選べ。解答番号は

- ア ホセ＝リサル
イ カルティニ
ウ ファン＝ボーイ＝チャウ
エ アギナルド

	インドネシア	フィリピン	ベトナム
1	エ	ウ	ア
2	ウ	ア	イ
3	ア	イ	ウ
4	イ	エ	ウ
5	ア	イ	エ

(5) 次のア～エのうち、20世紀前半のアメリカ合衆国に関して述べた文として正しいものを○、誤っているものを×とした場合、正しい組合せはどれか。1～5から一つ選べ。解答番号は 26

- ア フォード社がT型フォードを発売した。
イ 禁酒法が制定されたが、密造密売が横行した。
ウ 1920年、女性参政権を規定する憲法修正が発効した。
エ 1924年に制定された移民法は、日本以外のアジア諸国の移民を全面的に禁止した。

	ア	イ	ウ	エ
1	×	×	○	×
2	×	○	×	×
3	○	○	○	×
4	○	×	○	○
5	○	×	×	○

(6) 20世紀のアラビア半島周辺地域に関して述べた文として誤っているものはどれか。1～5から一つ選べ。解答番号は 27

- 1 1922年、エジプトでエジプト王国が成立したが、イギリスが特権を維持し続けた。
2 1923年、トルコは連合国との間でサイクス・ピコ協定を締結し、トルコ共和国の成立を宣言した。
3 1925年、イランではレザー＝ハーンがパフレヴィー朝を開いた。
4 1932年、イラクはファイサルによって独立を果たした。
5 1932年、アラビア半島ではイブン＝サウードがサウジアラビア王国を建国した。

(7) 20世紀のアフリカ大陸で独立した国に関して述べた文として誤っているものはどれか。1～5から一つ選べ。解答番号は 28

- 1 1947年、リベリアがアメリカ合衆国から独立した。
2 1956年、モロッコがフランスから独立した。
3 1957年、ガーナがイギリスから独立した。
4 1960年、コンゴ民主共和国がベルギーから独立した。
5 1962年、アルジェリアがフランスから独立した。

(1) 次の文章を読み、問いに答えよ。

①1871年に成立したドイツ帝国は、22の邦（君主国）と3自由都市からなる連邦制をとり、プロイセン王がドイツ皇帝位を世襲した。帝国宰相となったビスマルクは、国民統合を進めるために、②反プロイセン感情の強い南ドイツやプロイセン東部の旧ポーランド領のカトリック教徒を警戒し、抑圧した。また、労働者階級へ③社会主義運動の影響が広がるのを防ぐため、(A) 法を制定し、他方で労働者の支持を得るために社会保険制度を導入した。④外交面では、幾多の同盟・条約の体系をつくりあげ、いわゆるビスマルク体制を構築し、ドイツの国際的地位の安定化と向上を図った。

1870年代、オスマン帝国支配下のスラブ諸民族の独立運動が活発になるなか、1877年、ロシアはオスマン帝国と開戦し、翌年に勝利した。ロシアは講和条約である(B) 条約でブルガリアを保護下におき、バルカン半島に進出した。しかし、オーストリア・イギリスがロシアの進出に反対したため、ビスマルクは⑤ベルリン会議を開いて対立を調停し、(B) 条約は破棄された。

1. 文中(A)、(B)に入る語句を答えよ。

2. 下線部①について、三月革命後からドイツ帝国成立までの過程について、以下の語句を全て用いて説明せよ。

【 ヴェルサイユ宮殿 北ドイツ連邦 フランクフルト国民議会 鉄血政策 】

3. 下線部②について、ビスマルクが行ったカトリック弾圧政策の結果生じた政府・カトリック間の争いを何と呼ぶか答えよ。

4. 下線部③について、1875年に2つの政党が合同して成立した、ドイツ社会民主党の前身となる社会主義政党を答えよ。

5. 下線部④について、具体的な同盟や条約を挙げながら、ビスマルク体制の目的について150字程度で説明せよ。

6. 下線部⑤について、これにより i) イギリスが行政権を獲得した島、ii) オーストリアが行政権・管理権を認められた地域を、それぞれ答えよ。

(2) 次の文章を読み、問いに答えよ。

隋の初代皇帝となった(A)は、589年に南朝の王朝である(B)を倒して中国を統一し、大興城(長安)を都とした。また官吏任用制度として①科挙を導入し、州県制を整備することで、中央集権化を進めた。(A)と煬帝は開発の進んでいた江南を華北と結びつける(C)を建設した。しかし、相次ぐ土木事業や外征に不満が募り、(D)遠征の失敗を契機に全土で反乱が起こり、7世紀初頭に隋は滅亡した。

618年、北周出身の(E)が唐を建国し、2代皇帝である(F)が中国を統一した。外交では、東突厥を従え、吐蕃と和親し、中央ユーラシアへの影響力を拡大した。続く高宗は西突厥を服属させ、朝鮮半島へ進出し、唐は東ユーラシアの広範囲を支配した。

内政では、律・令・格・式からなる法制を整え、中央政府には三省・六部をはじめとする中央官制を整備し、均田制・租庸調制・府兵制といった諸制度を定め、国の基礎を固めた。

8世紀、6代皇帝の玄宗は国政改革を進めたが、晩年には混乱が生じた。9世紀には辺境の防衛軍団の司令官である(G)が軍閥化し、さらに塩の密売人による反乱が発生すると、反乱は華中・華南まで広がり、10世紀初頭に唐は滅亡した。

②唐代は多くの詩人や学者が活躍し、国際交流も盛んであった。特に、『春望』の作者である(H)は「詩聖」、『少年行』の作者である(I)は「詩仙」と称され、彼らの詩は後世に大きな影響を与えた。

1. 文中の空欄(A)～(I)に入る最も適切な語句を答えよ。

(※同じ記号の空欄には同じ語句が入る。)

2. 下線部①に関して、漢代～清代までの中国の官吏任用制度の変遷とその影響について、以下の語句を全て用いて説明せよ。

【 豪族 門閥貴族 殿試 中断 廃止 】

3. 下線部②に関連して、次の文章のうち、唐代の文化や宗教について正しく述べているものはどれか。ア～エから一つ選べ。

ア 東西交易で活躍したソグド人らにより、オアシス地方から唐三彩が伝わった。

イ 亀茲出身の鳩摩羅什や仏図澄は、共に唐に招かれて仏教の広まりに貢献した。

ウ 絵画では『女史箴図』の作者である顧愷之、書では『蘭亭序』の作者である王羲之が活躍した。

エ 儒学では、孔穎達らが訓詁学の成果を集大成した『五経正義』を編集した。

令和8年度大阪府公立学校教員採用選考テスト

第二次選考択一問題の正答について

校種	高等学校	教科・科目	地理歴史（世界史）
----	------	-------	-----------

大問番号	1							2							3							4						
解答番号	1	2	3	4	5	6	7	8	9	10	11	12	13	14	15	16	17	18	19	20	21	22	23	24	25	26	27	28
正答番号	3	4	1	5	5	4	2	3	1	2	5	4	5	1	5	4	2	1	3	5	3	2	3	5	4	3	2	1

受験番号

令和8年度大阪府公立学校教員採用選考テスト

高等学校 地理歴史（世界史） 解答用紙 （2枚のうち1）

5

得点

(1)	1	A 社会主義者鎮圧	/	B サン＝ステファノ	/	
	2	1848 年のフランクフルト国民議会では、プロイセンを中心としてオーストリアを排除する小ドイツ主義が優勢となったが、プロイセン王の帝冠拒否により自由主義的立場からの統一が挫折した。1862 年、プロイセンでビスマルクが首相に就任すると、軍備拡張の鉄血政策によるドイツ統一をめざした。1864 年、デンマークと戦い、シュレスヴィヒ・ホルシュタイン両州を獲得した。1866 年には普墺戦争でオーストリアを破り、ドイツ連邦を解体し、1867 年に北ドイツ連邦を組織した。1870 年、ドイツ＝フランス戦争が開戦、北ドイツ連邦と南ドイツ諸邦の支持を得たプロイセンはフランスに勝利し、1871 年、ヴィルヘルムⅠ世がヴェルサイユ宮殿で皇帝に即位し、ドイツ帝国が誕生した。				/
	3	文化闘争	/	4	ドイツ社会主義労働者党	/
	5	1873 年にはドイツ・オーストリア・ロシアで三帝同盟を締結、1882 年にはドイツ・オーストリア・イタリアの三国同盟、1887 年には三帝同盟崩壊を契機にロシアとの再保障条約を結んだ。これらの同盟網により、ドイツへの報復を掲げるフランスを孤立化させること、またヨーロッパの現状維持をめざした。				/
	6	i) キプロス島	/	ii) ボスニア・ヘルツェゴヴィナ	/	

高等学校 地理歴史（世界史） 解答用紙 （2枚のうち2）

	I	A 楊堅（文帝）	／	B 陳	／		
		C 大運河	／	D 高句麗	／		
		E 李淵（高祖）	／	F 李世民（太宗）	／		
		G 節度使	／	H 杜甫	／		
		I 李白	／				
	(2)	2	<p>前漢の武帝期に郷挙里選が導入され、地方豪族が中央政治に進出した。魏の九品中正法では中正官が人材を推薦し、門閥貴族層が形成された。隋で公平な試験による人材の採用をめざして科挙が始まったが、唐代では依然として貴族の影響力が強かった。宋代になると皇帝自らが試験官となる殿試が設けられたことで、皇帝と官僚の結びつきが強化され、皇帝独裁の基盤が確立し、貴族層の影響力が低下した。元代には一時中断されたが、明代に再開され、制度が整備され、清代にはさらに制度が厳格化された。しかし、西洋の学問や技術の重要性が増す中、時代遅れとされ、1905年に廃止された。</p>				／
	3	エ	／				