

専 門 教 養
令和 7 年 7 月
60分

受 験 教 科 等
小・中・高等学校共通 家庭
小・中・高等学校共通 家庭(調理)

注 意

- 1 指示があるまで、問題冊子を開いてはいけません。
- 2 全て係員の指示に従って、静粛に受験してください。
- 3 机上には、受験票、筆記用具、時計以外のものを出してはいけません。
- 4 他の受験者の迷惑になるような行為、スマートフォン、スマートウォッチ等の電子機器の使用及び不正行為をしてはいけません。
- 5 解答時間は60分です。途中退出はできません。
- 6 問題冊子のページ数は、13ページです。はじめにページ数を確認してください。
- 7 解答用紙に、**必要事項が正しく記入・マークされていない場合には、解答は全て無効**となります。解答用紙の【1】の欄には、**受験番号**を記入し、**受験番号に対応する数字をマーク**してください。【2】の欄には、**氏名**を記入してください。ただし、【3】の選択問題を表す欄のマークは**不要**です。
- 8 問題冊子の余白等は、適宜使用しても構いませんが、どのページも切り離してはいけません。
- 9 問題文中の「学習指導要領」は、特に指示がある場合を除いて、平成29年、平成30年又は平成31年告示の「学習指導要領」を表しています。
- 10 問題の内容についての質問には一切応じません。


解答上の注意

- 1 解答は、問題文や解答用紙の注意事項に従って、解答欄にマークしてください。各問に対して、正答は一つだけです。**各解答欄に二つ以上マークした場合は誤り**とします。
- 2 「解答番号は 1 。」と表示のある問に対して、**3**と解答する場合には、次の(例1)のように解答番号 1 の解答欄の③にマークしてください。

(例1)

解答番号	解答欄
1	① ② ● ④ ⑤ ⑥ ⑦ ⑧ ⑨ ⑩ ⊖

解答上の注意の続きを、問題冊子の裏表紙に記載してあります。問題冊子を裏返して必ず読んでください。

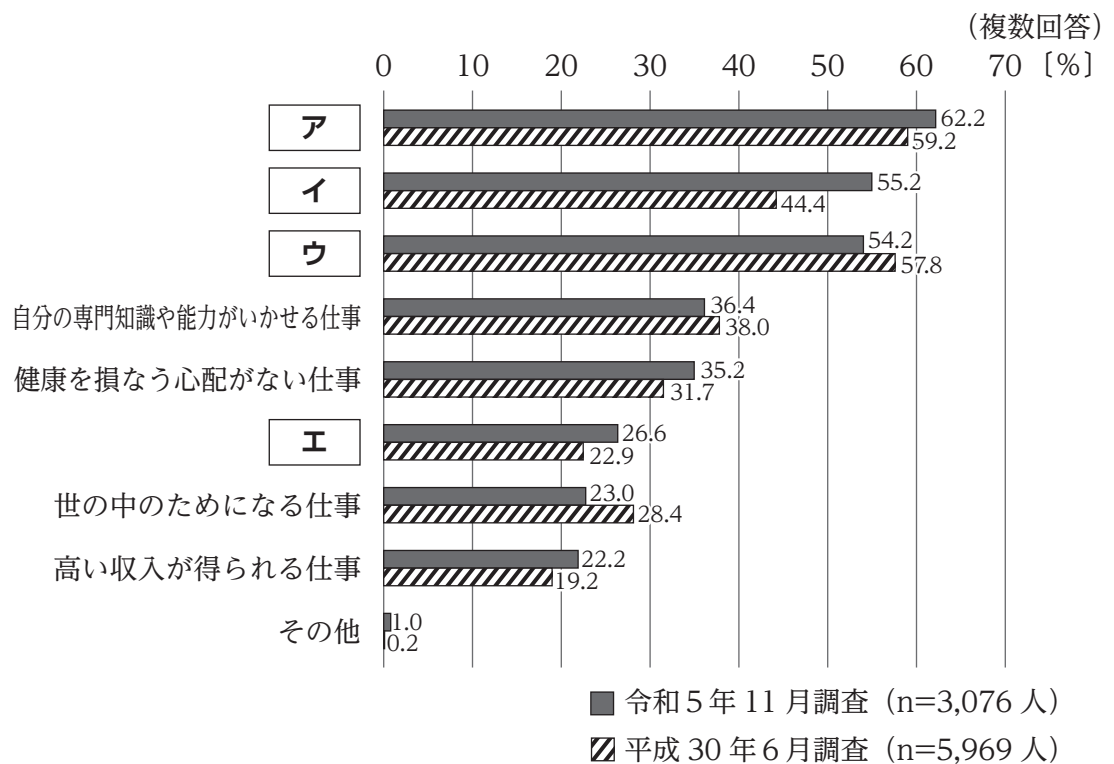


1

次の各問に答えよ。

〔問 1〕 次の図は、令和5年及び平成30年の「国民生活に関する世論調査」において、「どのような仕事が理想的だと思うか」の質問項目に対して理想的だと思うと回答した結果をまとめたものである。図中の空欄 **ア** ～ **エ** には、それぞれ、私生活とバランスがとれる仕事、失業の心配がない仕事、自分にとって楽しい仕事、収入が安定している仕事のいずれかが当てはまる。**イ** に当てはまるものとして適切なものは、下の1～4のうちのどれか。解答番号は **1** 。

図



※ nは質問に対する回答者数を表している。

(内閣府「国民生活に関する世論調査(平成30年6月調査)」(2018年8月)及び
 「国民生活に関する世論調査(令和5年11月調査)」(2024年3月)から作成)

- 1 私生活とバランスがとれる仕事
- 2 失業の心配がない仕事
- 3 自分にとって楽しい仕事
- 4 収入が安定している仕事

〔問 2〕 消費者信用に関する記述として適切なものは、次の 1～4 のうちのどれか。解答番号は 2。

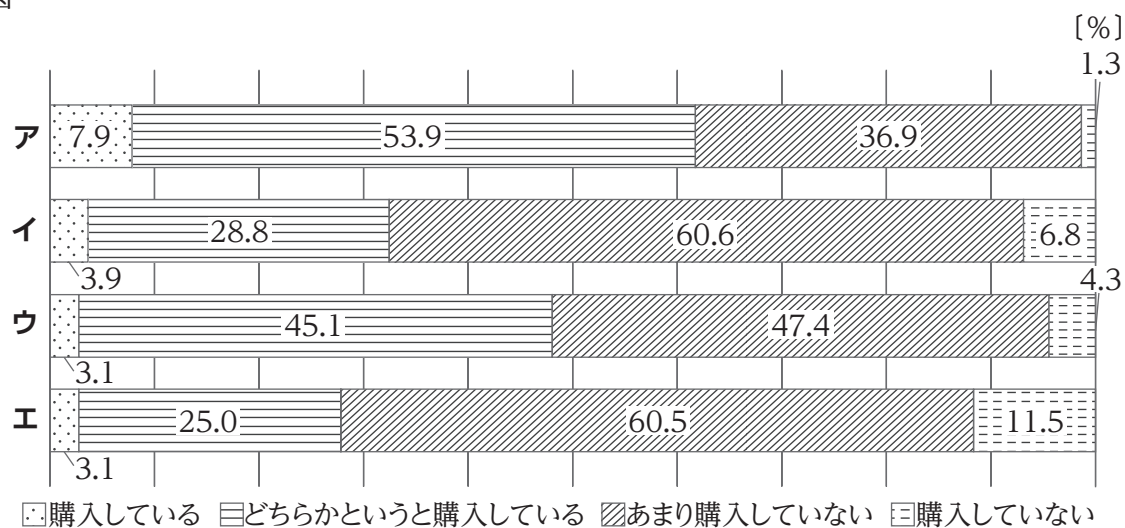
- 1 消費者信用は、消費者金融と販売信用とに分けられる。消費者金融とは、商品の購入やサービスの利用の際に、代金を後払いできる取引のことである。
- 2 金利は、利息制限法と出資法により定められている。利息制限法は刑事罰の対象となる金利の限界を、出資法は民事的な効力の限界を定めている。
- 3 クレジットカードの三者間契約の場合の仕組みとして、クレジットカード会社と販売店は加盟店契約を、消費者と販売店は売買契約を、消費者とクレジットカード会社は立替払契約を結んでいる。
- 4 リボルビング払いとは、利用残高に対して毎月定額を支払う方法で、手数料がかからない。毎月の支払額は少ないが、支払期間は長期化する。

〔問 3〕 悪質商法に関する記述として適切なものは、次の 1～4 のうちのどれか。解答番号は 3。

- 1 ネガティブ・オプションは、街角や SNS などで言葉たくみに誘い、異性に好意を抱かせ、高額な商品を契約させる商法である。
- 2 デート商法は、友人や親類に「新しい会員を勧誘すると手数料がもらえる」などと言い、商品を買わせ、次の人を勧誘させて販売を拡大していく商法である。
- 3 マルチ商法は、注文されていない商品を一方的に送りつけ、受け取った以上支払う義務があると消費者が誤解して代金を支払うことをねらう商法である。
- 4 アポイントメントセールスは、電話やダイレクトメールなどを使い「抽選に当たりました」などと言って喫茶店や営業所に呼び出し、強引に契約させる商法である。

〔問 4〕 次の図は、2020年の「『倫理的消費（エシカル消費）』に関する消費者意識調査報告書」において、「あなたは、エシカル消費につながる商品・サービスをどの程度購入していますか。」に対する回答をまとめたものである。図中のア～エには、それぞれ衣料品、家電・贅沢品、食料品、その他生活用品のいずれかが当てはまる。ア～エのうち、食料品に当てはまるものとして適切なものは、下の1～4のうちのどれか。解答番号は 4。

図



※ 回答率〔%〕は小数第2位を四捨五入し、小数第1位までを表示している。このため、合計数値は必ずしも100%とはならない場合がある。

（消費者庁「『倫理的消費（エシカル消費）』に関する消費者意識調査報告書」
（2020年2月）から作成）

- 1 ア
- 2 イ
- 3 ウ
- 4 エ

〔問 5〕 子供の健康に関する記述として適切なものは、次の 1～4 のうちのどれか。解答番号は 5。

- 1 乳幼児突然死症候群とは、それまでの健康状態及び既往歴からその死亡が予測できず、しかも死亡状況調査及び解剖検査によってもその原因が同定されない、原則として 1 歳未満の児に突然の死をもたらした症候群である。
- 2 乳幼児の健康診査は、母子保健法に基づいて市町村が行うものであり、1 歳 6 か月児健診が義務付けられており、3 歳児健診は任意となっている。
- 3 予防接種は、接種を受けるよう努めなければならない定期接種と、希望者が受ける任意接種の 2 種類に分けられる。任意接種には、ジフテリア、百日咳、破傷風、ポリオの四種混合ワクチンがある。
- 4 6 歳以下の乳幼児では、高熱を出したときに、熱性けいれんによるひきつけを起こすことがあるが、けいれんしたときには、体を上向きにして寝かせる。

〔問 6〕 パーテンによる遊びの分類に関する記述として適切なものは、次の 1～4 のうちのどれか。解答番号は 6。

- 1 連合遊びは、ほかの子供の遊びには関心をもたず、自分の遊びに専念し、一人で遊んでいる状態である。
- 2 一人遊びは、友達存在は意識し、そばで遊ぶが、それぞれ自分の思いで別々に遊んでいる状態である。
- 3 平行遊びは、友達と一緒に同じ遊びをし、ものの貸し借りや遊びのなかの会話もある。互いにやり取りをして遊んでいるが、まだ全体的なまとまりがない状態である。
- 4 協同遊びは、友達との間で共通の目的をもって遊び、役割分担が行われ、子供たちが協力して遊ぶ姿がみられる状態である。

〔問 7〕 高齢期に起こりやすい疾患に関する記述として適切なものは、次の 1～4 のうちのどれか。解答番号は 7。

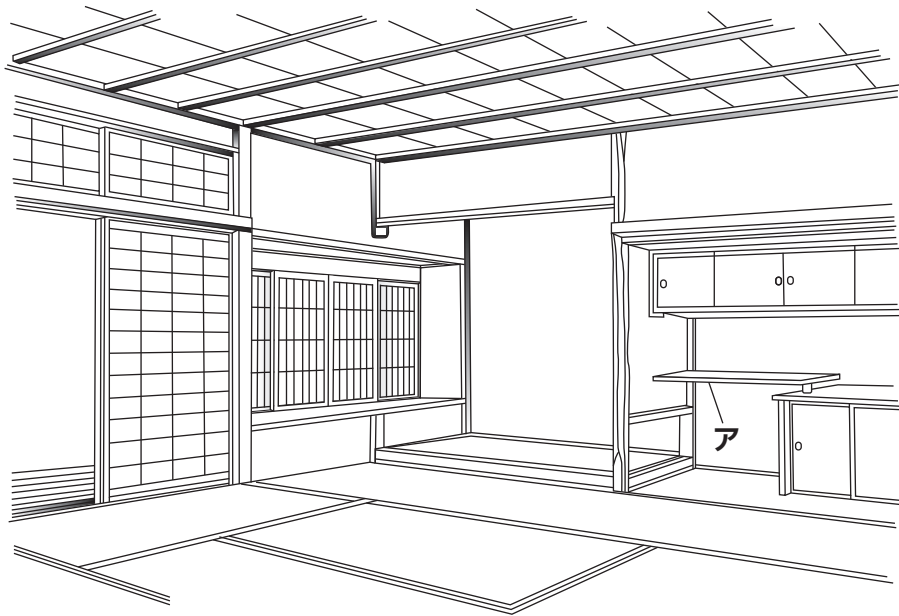
- 1 骨粗鬆症とは、骨量の増加により骨の強度が増大しすぎる疾患である。
- 2 誤嚥性肺炎とは、痰や食べ物が食道に詰まることで起こる疾患である。
- 3 白内障とは、眼圧上昇などにより、視神経が障害され、視野が狭くなる疾患である。
- 4 パーキンソン病とは、脳内のドパミンが欠乏する疾患である。安静時振戦、無動、筋固縮、姿勢反射障害が特徴である。

〔問 8〕 合掌造りに関する記述として適切なものは、次の 1～4 のうちのどれか。解答番号は 8。

- 1 ニガタケという細い竹でつくられた垣根のことをいい、日本海から吹きつける冬の風から家屋を守り、夏は日ざしをさえぎる。
- 2 かやぶきの急勾配の屋根が特徴であり、雪が落ちやすいようにしたものである。かつては、屋根裏部屋で養蚕が営まれていた。
- 3 漁業と生活が一体化した住宅形式である。1 階は海で船のガレージとなっており、船を直接引きこむようにつくられ、2 階が居住スペースである。
- 4 台風の暴風から守るため、サンゴの岩を積み上げた塀で、家の周りを囲んでいる。

〔問 9〕 次の図は、伝統的な和室を模式的に表したものである。図中のアの名称として適切なものは、下の 1～4 のうちのどれか。解答番号は 9。

図



- 1 欄間
- 2 地袋
- 3 書院
- 4 違い棚

〔問10〕 次の記述は、「住生活基本計画（全国計画）」（閣議決定 令和3年3月）に示された、住宅政策の3つの視点及び8つの目標をまとめたものである。記述中の空欄

ア

 に当てはまるものとして適切なものは、下の1～4のうちのどれか。解答番号は

10

 。

1. 「社会環境の変化」からの視点

目標1 「新たな日常」やDXの進展等に対応した新しい住まい方の実現

目標2 頻発・激甚化する災害新ステージにおける安全な住宅・住宅地の形成と被災者の住まいの確保

2. 「居住者・コミュニティ」からの視点

目標3 子どもを産み育てやすい住まいの実現

目標4 多様な世代が支え合い、高齢者等が健康で安心して暮らせるコミュニティの形成とまちづくり

目標5 住宅確保要配慮者が安心して暮らせるセーフティネット機能の整備

3. 「住宅ストック・産業」からの視点

目標6 脱炭素社会に向けた住宅循環システムの構築と良質な住宅ストックの形成

目標7

ア

目標8 居住者の利便性や豊かさを向上させる住生活産業の発展

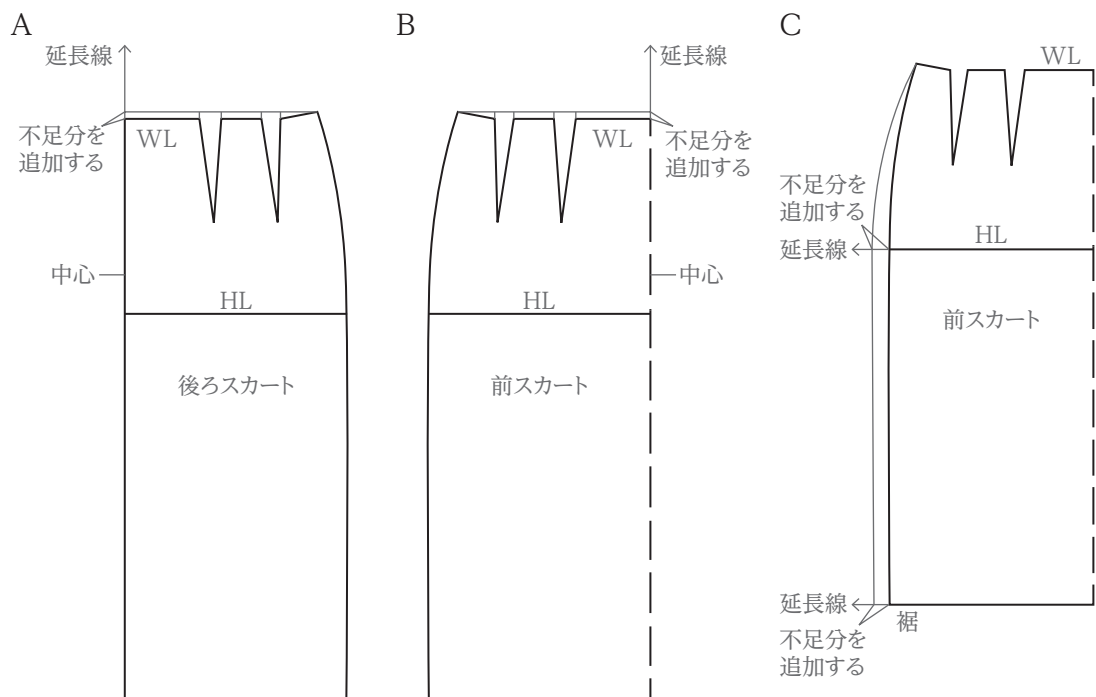
- 1 住宅地の魅力の維持・向上
- 2 安全・安心で豊かな住生活を支える生活環境の構築
- 3 空き家の状況に応じた適切な管理・除却・利活用の一体的推進
- 4 多様な居住ニーズが適切に実現される住宅市場の環境整備

〔問11〕 繊維に関する記述として適切なものは、次の 1～4 のうちのどれか。解答番号は 11。

- 1 綿は、綿花が原料で、肌触りがよく、吸湿性、吸水性が小さい。ぬれると強くなり、洗濯にたえる。
- 2 レーヨン（レーヨン）は、木材パルプが原料で、吸湿性、吸水性が大きい。ぬれると強くなる。
- 3 ポリウレタンは、石油が原料で、伸縮性に富む。塩素に弱く、経年劣化が早い。
- 4 キュプラは、コットンリンターが原料で、光沢はなく、ぬれると弱くなり、しわになりやすい。

〔問12〕 スカートの着装状態に関する次の記述ア～ウと、スカートの型紙の補正の仕方の図A～Cとの組合せとして適切なものは、下の 1～4 のうちのどれか。解答番号は 12。

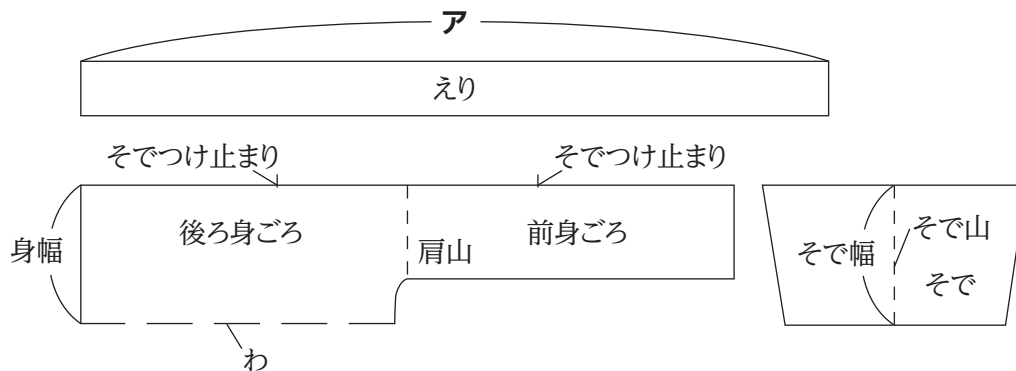
- ア 臀部の張りが強い場合、ヒップに引っ張られ、後ろのすそがつり上がる。
 イ 腹部の張りが強い場合、腹部に引かれ、前のすそがつり上がる。
 ウ 大腿部のふくらみが強い場合、大腿部のふくらみに引かれ、つれじわが出る。



- | | | | |
|---|-----|-----|-----|
| 1 | ア－A | イ－B | ウ－C |
| 2 | ア－B | イ－A | ウ－C |
| 3 | ア－B | イ－C | ウ－A |
| 4 | ア－C | イ－A | ウ－B |

〔問13〕 次の図は、下の寸法ではっぴを製作するときの型紙を示したものである。図中の**ア**の長さ〔cm〕として最も適切なものは、下の**1～4**のうちではどれか。ただし、型紙の図は、縫い代を省略しているものとする。解答番号は **13** 。

図

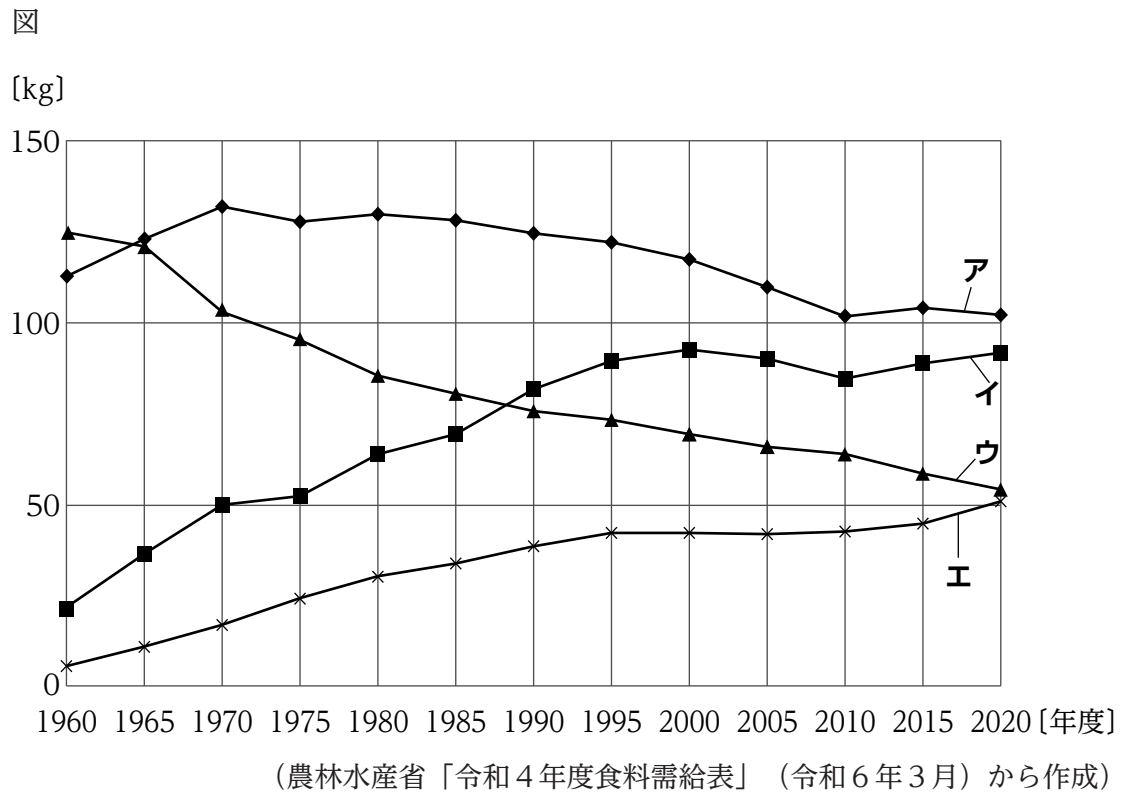


寸法

着たけ…	70cm
身幅…	31cm
そで幅…	35cm
そでつけ…	30cm
そで口…	26cm
えり幅…	4.5cm
えりぐり…	8cm

- 1 78
- 2 140
- 3 148
- 4 156

[問14] 次の図は、1960年から2020年までに我が国の国民1人・1年当たり供給粗食料の推移を示したものであり、図中のア～エには、それぞれ米、牛乳及び乳製品、肉類、野菜のいずれかが当てはまる。ア～エのうち、肉類に当てはまるものとして適切なものは、下の1～4のうちのどれか。解答番号は 14。



- 1 ア
- 2 イ
- 3 ウ
- 4 エ

〔問15〕 中国料理に関する記述として適切なものは、次の 1～4 のうちのどれか。解答番号は 15 。

- 1 青椒肉絲の「絲」には、さいの目切りにするという意味がある。
- 2 粟米湯の「湯」には、セイロなどで蒸すという意味がある。
- 3 涼拌海蜇の「拌」には、調味料などであえるという意味がある。
- 4 炒飯の「炒」には、油で揚げるという意味がある。

〔問16〕 我が国の郷土料理に関する記述として適切なものは、次の 1～4 のうちのどれか。解答番号は 16 。

- 1 いちご煮は、青森県の郷土料理である。
- 2 ほうとうは、静岡県の郷土料理である。
- 3 めはりずしは、滋賀県の郷土料理である。
- 4 水炊きは、宮崎県の郷土料理である。

〔問 17〕 次の記述ア～ウは、それぞれ下の食品群A～Cのいずれかに関するものである。ア～ウと、A～Cとの組合せとして適切なものは、下の 1～4 のうちのどれか。解答番号は

17

 。

ア 良質なタンパク質を多く含むものとして、「魚、肉、卵、大豆・大豆製品」が示されている。

イ 栄養を完全にするものとして、「乳・乳製品、卵」が示されている。

ウ 血や肉をつくるものとして、「魚、肉、豆類、乳、卵」が示されている。

A 4つの食品群

B 6つの基礎食品群

C 3色食品群

- | | | | |
|---|-----|-----|-----|
| 1 | ア－B | イ－A | ウ－C |
| 2 | ア－B | イ－C | ウ－A |
| 3 | ア－C | イ－A | ウ－B |
| 4 | ア－C | イ－B | ウ－A |

〔問18〕 嗜好食品に関する記述として適切なものは、次の 1～4 のうちのどれか。解答番号は

18。

- 1 茶は、製造法の違いによって不発酵茶、半発酵茶、発酵茶に分けられる。紅茶は、茶葉を加熱して酵素を不活性化させた不発酵茶である。
- 2 清涼飲料水は、乳酸菌飲料、乳及び乳製品を含むアルコール分1%未満の飲料である。炭酸飲料や果実飲料等がある。
- 3 アルコール飲料は、原料に含まれるでんぷん又はぶどう糖を発酵して製造する。清酒は、発酵後に蒸留してアルコール濃度を高めた蒸留酒である。
- 4 ココアは、カカオ豆を焙煎し、胚乳部をすり潰したものからココアバターの一部を取り除き、粉末にしたものである。

〔問19〕 食品添加物に関する記述として適切なものは、次の 1～4 のうちのどれか。解答番号は

19。


- 1 ソルビン酸は、加工食品の長期保存のために使用される保存料で、みそ、魚肉ねり製品に用いられる。
- 2 サッカリンは、かび防止のために使用される防かび剤で、レモン、オレンジに用いられる。
- 3 オルトフェニルフェノールは、色素の漂白のために使用される漂白剤で、かんぴょうに用いられる。
- 4 亜硫酸ナトリウムは、甘みの強化のために使用される甘味料で、菓子、漬物に用いられる。

〔問20〕 中学校学習指導要領技術・家庭の「各分野の目標及び内容」の〔家庭分野〕の「目標」に関する記述として適切なものは、次の1～4のうちのどれか。解答番号は

20

 。

- 1 家族・家庭の機能について理解を深め、家族・家庭、衣食住、消費や環境などについて、生活の自立に必要な基礎的な理解を図るとともに、それらに係る技能を身に付けるようにする。
- 2 人間の生涯にわたる発達と生活の営みを総合的に捉え、家族・家庭の意義、家族・家庭と社会との関わりについて理解を深め、家族・家庭、衣食住、消費や環境などについて、生活を主体的に営むために必要な理解を図るとともに、それらに係る技能を身に付けるようにする。
- 3 家庭や地域及び社会における生活の中から問題を見いだして課題を設定し、解決策を構想し、実践を評価・改善し、考察したことを根拠に基づいて論理的に表現するなど、生涯を見通して生活の課題を解決する力を養う。
- 4 様々な人々と協働し、よりよい社会の構築に向けて、地域社会に参画しようとするとともに、自分や家庭、地域の生活を主体的に創造しようとする実践的な態度を養う。



3 問題文中の 2、34 などの には、数字又は符号(－)が入ります。次の(1)～(4)の方法でマークしてください。

(1) 2、3、4、……の一つ一つは、それぞれ1～9、0の数字又は符号(－)のいずれか一つに対応します。それらを 2、3、4、……で示された解答欄にマークしてください。

例えば、234 に－84 と解答する場合には、次の(例2)のようにマークします。

(例2)

解答 番号	解答欄
2	① ② ③ ④ ⑤ ⑥ ⑦ ⑧ ⑨ ⑩ ●
3	① ② ③ ④ ⑤ ⑥ ⑦ ● ⑨ ⑩ ⊖
4	① ② ③ ● ⑤ ⑥ ⑦ ⑧ ⑨ ⑩ ⊖

なお、同一の問題文中に 2、34 などが2度以上現れる場合、原則として、2度目以降は、2、34 のように細字で表記します。

(2) 分数形で解答する場合は、符号は分子に付け、分母に付けてはいけません。また、分数は既約分数で答えてください。

例えば、 $\frac{\text{56}}{\text{7}}$ に $-\frac{4}{5}$ と解答する場合には、 $\frac{-4}{5}$ として、次の(例3)のように

マークします。

(例3)

解答 番号	解答欄
5	① ② ③ ④ ⑤ ⑥ ⑦ ⑧ ⑨ ⑩ ●
6	① ② ③ ● ⑤ ⑥ ⑦ ⑧ ⑨ ⑩ ⊖
7	① ② ③ ④ ● ⑥ ⑦ ⑧ ⑨ ⑩ ⊖

(3) 小数の形で解答する場合は、特に指示されていなければ、指定された桁数の一つ下の桁を四捨五入して答えてください。また、必要に応じて、指定された桁まで⑩にマークしてください。

例えば、8.910 に2.6 と解答する場合には、2.60 として答えてください。

(4) 根号を含む形で解答する場合は、根号の中に現れる自然数が最小となる形で答えてください。

問題番号			解答 番号	正答	配点	備考
大問	小問					
1	問1		1	1	5	
	問2		2	3	5	
	問3		3	4	5	
	問4		4	1	5	
	問5		5	1	5	
	問6		6	4	5	
	問7		7	4	5	
	問8		8	2	5	
	問9		9	4	5	
	問10		10	3	5	
	問11		11	3	5	
	問12		12	1	5	
	問13		13	4	5	
	問14		14	4	5	
	問15		15	3	5	
	問16		16	1	5	
	問17		17	1	5	
	問18		18	4	5	
	問19		19	1	5	
	問20		20	1	5	