

専門教養
令和7年7月
60分

受験教科等
中・高等学校共通 地理歴史

注 意

- 指示があるまで、問題冊子を開いてはいけません。
- 全て係員の指示に従って、静粛に受験してください。
- 机上には、受験票、筆記用具、時計以外のものを出してはいけません。
- 他の受験者の迷惑になるような行為、スマートフォン、スマートウォッチ等の電子機器の使用及び不正行為をしてはいけません。
- 解答時間は60分です。途中退出はできません。
- 問題冊子のページ数は、24ページです。はじめにページ数を確かめてください。
- 解答用紙に、**必要事項が正しく記入・マークされていない場合には、解答は全て無効**となります。解答用紙の【1】の欄には、**受験番号**を記入し、**受験番号に対応する数字をマーク**してください。【2】の欄には、**氏名**を記入してください。また、【3】の欄には、**選択した問題を表す記号（A、B又はC）を必ずマーク**してください。
- この問題は、**共通問題** 1 ~ 4、科目別の**選択問題** A 世界史、B 日本史、C 地理の各問題から構成されています。次の表に従って、解答してください。

共通問題（全員が解答する）		
共通問題 1 ~ 4 （1ページ～7ページ）		
選択問題（いずれか一つを選択して解答する）		
A 世界史 (8ページ～12ページ)	B 日本史 (13ページ～17ページ)	C 地理 (18ページ～24ページ)

- 問題冊子の余白等は、適宜使用しても構いませんが、どのページも切り離してはいけません。
- 問題文中の「学習指導要領」は、特に指示がある場合を除いて、平成29年、平成30年又は平成31年告示の「学習指導要領」を表しています。
- 問題の内容についての質問には一切応じません。


解答上の注意

- 解答は、問題文や解答用紙の注意事項に従って、解答欄にマークしてください。各問に対して、正答は一つだけです。**各解答欄に二つ以上マークした場合は誤り**とします。
- 「解答番号は 1。」と表示のある問に対して、3と解答する場合には、次の（例1）のように解答番号 1 の解答欄の③にマークしてください。

（例1）

解答番号	解答欄
1	① ② ● ④ ⑤ ⑥ ⑦ ⑧ ⑨ ⑩ ⊖

解答上の注意の続きを、問題冊子の裏表紙に記載してあります。問題冊子を裏返して必ず読んでください。



共 通 問 題

1 学習指導要領に関する次の問に答えよ。

〔問〕 中学校学習指導要領社会の「各分野の目標及び内容」の〔歴史的分野〕の「目標」に関する記述として適切なものは、次の**1**～**4**のうちのどれか。解答番号は **1**。

- 1** 我が国の国土及び世界の諸地域に関して、地域の諸事象や地域的特色を理解するとともに、調査や諸資料から地理に関する様々な情報を効果的に調べまとめる技能を身に付けるようにする。
- 2** 個人の尊厳と人権の尊重の意義、特に自由・権利と責任・義務との関係を広い視野から正しく認識し、民主主義、民主政治の意義、国民の生活の向上と経済活動との関わり、現代の社会生活及び国際関係などについて、個人と社会との関わりを中心に理解を深めるとともに、諸資料から現代の社会的事象に関する情報を効果的に調べまとめる技能を身に付けるようにする。
- 3** 地理に関わる事象の意味や意義、特色や相互の関連を、位置や分布、場所、人間と自然環境との相互依存関係、空間的相互依存作用、地域などに着目して、多面的・多角的に考察したり、地理的な課題の解決に向けて公正に選択・判断したりする力、思考・判断したことを説明したり、それらを基に議論したりする力を養う。
- 4** 歴史に関わる諸事象について、よりよい社会の実現を視野にそこで見られる課題を主体的に追究、解決しようとする態度を養うとともに、多面的・多角的な考察や深い理解を通して涵養される我が国の歴史に対する愛情、国民としての自覚、国家及び社会並びに文化の発展や人々の生活の向上に尽くした歴史上の人物と現在に伝わる文化遺産を尊重しようとするものの大切さについての自覚などを深め、国際協調の精神を養う。

2

地理的分野に関する次の各問に答えよ。

〔問 1〕 次の記述は、地図の図法に関するものである。記述中の空欄 **ア** ～ **ウ** に当てはまる語句の組合せとして適切なものは、下の 1～4 のうちのどれか。解答番号は

2。

ア 図法は、グード図法ともいう。この図法は、**イ** 図法の低緯度部分と、**ウ** 図法の高緯度部分とを、緯度40度44分で接合し、海洋を断裂させて大陸のゆがみを小さくした図法である。

- | | | | |
|---|-----------------|-----------------|-----------------|
| 1 | ア ホモロサイン | イ サンソン | ウ モルワイデ |
| 2 | ア ホモロサイン | イ モルワイデ | ウ サンソン |
| 3 | ア モルワイデ | イ サンソン | ウ ホモロサイン |
| 4 | ア モルワイデ | イ ホモロサイン | ウ サンソン |

〔問 2〕 我が国の人口問題に関する記述として適切なものは、次の 1～4 のうちのどれか。解答番号は **3**。

- 1 我が国は、1994年には老年人口の割合が14%を超えて、高齢社会になった。1997年には老年人口が年少人口よりも多くなり、2007年には老年人口の割合が21%を超えて、高齢化社会へと転換した。
- 2 農村では、人口流出が続き、人口が著しく減少して過疎になっている地域が多い。老年人口の割合が50%を超えて、社会的な共同生活が困難になった、限界集落と呼ばれる地域がある。
- 3 高度経済成長期には、大都市圏に人口が過密になったが、地方圏から大都市圏へ移住した者が、その後再び生まれ育った場所へ戻る J ターンや、生まれ育った場所の近くにある中規模以上の都市など出身地以外へ移住する U ターンが見られるようになった。
- 4 我が国の合計特殊出生率は、1970年代以降、2.00を上回り続けている。政府は、少子化社会対策大綱を定め、結婚の支援や男女の働き方改革などを含め、様々な少子化対策を打ち出している。

〔問 3〕 北アメリカ大陸の地形に関する記述として適切なものは、次の 1～4 のうちのどれか。

解答番号は

4

。

- 1 大陸の西側には、環太平洋造山帯に属する比較的なだらかなロッキー山脈が、東側には古期造山帯に属する急峻なアパラチア山脈が南北に走っている。
- 2 東西の山脈の間には、中央平原や台地状の大平原であるグレートプレーンズが広がっている。
- 3 ミシシッピ川は、北アメリカ大陸で最も長い川であり、中央平原を南へ流れ、カリフォルニア湾に注いでいる。
- 4 五大湖は、世界最大の断層湖であり、スペリオール湖、ミシガン湖、ヒューロン湖、エリー湖、オンタリオ湖から成る。

3

歴史的分野に関する次の各問に答えよ。

〔問 1〕 大宝律令に関する記述として適切なものは、次の 1～4 のうちのどれか。解答番号は

5

。

- 1 我が国の実情をふまえて唐の律令に修正を加えたものであり、701年、刑部親王や藤原頼通らによって完成された。
- 2 中央の行政組織には、神祇祭祀を司る太政官と、一般の政務を統括する神祇官がおかれ、神祇官のもとに行政を分担する八省が配置された。
- 3 太政大臣、左大臣、右大臣、大納言の合議で国政を審議し、重要事項は天皇の許可を必要とした。
- 4 官人を監査する五衛府と軍事警察を担当する弾正台は、二官八省の統括系統から独立しておかれた。

〔問 2〕 江戸時代の学問に関する記述として適切なものは、次の 1～4 のうちのどれか。解答番号は

6

。

- 1 前野良沢や杉田玄白らによって、オランダ語の解剖書「ターヘル＝アナトミア」の訳書「解体新書」が刊行され、医学分野で蘭学はめざましく発展した。
- 2 伊能忠敬は、幕府天文方である高橋至時から天文学を学び、幕府の命により全国の沿岸を測量して「群書類従」を作成した。
- 3 新井白石は、イタリア人宣教師シドッチから得た知識をもとに、「大日本沿海輿地全図」をまとめた。
- 4 土木工事や検地の必要から、実用算術として和算が発達した。関孝和は、「経済録」を著し、筆算による代数学や高度な数学理論を説いた。

[問 3] アメリカの大統領の行った政治に関する記述として適切なものは、次の 1～4 のうちのどれか。解答番号は

7

。


- 1 リンカン大統領は、1863年に奴隷解放宣言を発して、南部地域の奴隷を解放し、内外の世論を味方につけた。
- 2 セオドア・ローズヴェルト大統領は、中米諸国に対して武力干渉を伴うカリブ海政策を展開し、1903年にコロンビアをパナマから分離独立させた。
- 3 フーヴァー大統領は、恐慌の拡大を防ぐため、1931年に賠償と戦債の3年間の支払い停止宣言を出したが、効果はなかった。
- 4 トルーマン大統領は、1947年にソ連勢力の拡張に対する封じ込め政策を宣言して、エジプトに、軍事・経済援助を与えることを約束した。

4

公民的分野に関する次の各問に答えよ。

- 〔問 1〕 次の図は、国内生産総額、国内総生産、国民総所得、国民純生産、国民所得の相互関係を模式的に表したものである。図中のア～エには、それぞれ国内総生産、国民総所得、国民純生産、国民所得のいずれかが当てはまる。ウに当てはまるものとして適切なものは、下の 1～4 のうちのどれか。解答番号は 8。

図



- 1 国内総生産
- 2 国民総所得
- 3 国民純生産
- 4 国民所得

〔問 2〕 我が国の環境に関する法律に関する記述として適切なものは、次の 1～4 のうちのどれか。解答番号は 9。

- 1 公害対策基本法は、1997年に制定され、アセスメントの対象は、道路、ダム、鉄道、飛行場、発電所などの13種とし、事前に住民や地方公共団体の意見を聞いて事業計画を立てるとしている。
- 2 循環型社会形成推進基本法は、1967年に制定され、事業者、国及び地方公共団体の公害の防止に関する責務を明らかにし、公害の防止に関する施策の基本となる事項を定め、公害対策の総合的推進を図ることで、国民の健康を保護することと、生活環境を保全することを目的とされた。
- 3 環境基本法は、1993年に制定され、事業活動その他の人間活動がもたらす大気汚染、水質汚濁、土壌汚染、騒音、振動、地盤沈下、悪臭が、相当の範囲にわたって、人々の健康を損ねたり、生活環境を悪化させるなどの被害を与えたりすることを公害と定義している。
- 4 環境影響評価法は、2000年に制定され、リデュースはごみの発生を抑えること、リユースは出たごみを再利用すること、リサイクルは出たごみを再生利用することが規定された。

〔問 3〕 我が国の政治機構に関する記述として適切なものは、次の 1～4 のうちのどれか。解答番号は 10。

- 1 国会の国政調査権は、国会議員が国政に関する諸問題を究明する権限であり、その対象は、立法や内閣の行政権の行使に対する調査・監督など国政の全般に及び、証人の出頭や証言・記録の提出を要求することができる。
- 2 内閣は、内閣総理大臣とその他の国务大臣で構成される。憲法では、内閣総理大臣は、国会議員の中から国会が指名し、国务大臣は、全て国会議員でなければならないと規定されている。
- 3 裁判官は、心身の故障のために職務を行うことができない場合や、国会に設けられている特別裁判所の裁判による場合を除いて罷免されず、行政機関が裁判官を懲戒処分にはできない。
- 4 中央省庁は1府12省庁体制で、内閣府は12省庁より下位に位置し、各省庁間の総合調整などを行っている。内閣官房は、内閣と内閣総理大臣を直接補佐する機関である。

選 択 問 題

8 ページから24ページまでの選択問題 **A** 世界史（8 ページ～12ページ）、**B** 日本史（13ページ～17ページ）、**C** 地理（18ページ～24ページ）のうちから、表紙の指示に従って、一つを選択し解答せよ。

なお、解答用紙の【3】の欄には、選択した問題を表す記号（A、B又はC）を必ずマークすること。

A 世界史

〔問 1〕 高等学校学習指導要領地理歴史の「各科目」の「世界史探究」の「目標」に関する記述として適切なものは、次の 1～4 のうちのどれか。解答番号は **11**。

- 1 近現代の歴史の変化に関わる事象の意味や意義、特色などを、時期や年代、推移、比較、相互の関連や現在とのつながりなどに着目して、概念などを活用して多面的・多角的に考察したり、歴史に見られる課題を把握し解決を視野に入れて構想したりする力や、考察、構想したことを効果的に説明したり、それらを基に議論したりする力を養う。
- 2 近現代史を中心とする世界の歴史を諸資料に基づき地理的条件や日本の歴史と関連付けながら理解させ、現代の諸課題を歴史的観点から考察させることによって、歴史的思考力を培い、国際社会に主体的に生きる日本国民としての自覚と資質を養う。
- 3 世界の歴史の大きな枠組みと展開に関わる事象の意味や意義、特色などを、時期や年代、推移、比較、相互の関連や現代世界とのつながりなどに着目して、概念などを活用して多面的・多角的に考察したり、歴史に見られる課題を把握し解決を視野に入れて構想したりする力や、考察、構想したことを効果的に説明したり、それらを基に議論したりする力を養う。
- 4 近現代の歴史の変化に関わる諸事象について、よりよい社会の実現を視野に課題を主体的に追究、解決しようとする態度を養うとともに、多面的・多角的な考察や深い理解を通して涵養される日本国民としての自覚、我が国の歴史に対する愛情、他国や他国の文化を尊重することの大切さについての自覚などを深める。

〔問 2〕 人類の進化に関する記述として適切なものは、次の 1～4 のうちのどれか。解答番号は 12。

- 1 猿人は、約700万年前のアフリカに出現した人類のことであり、サヘラントロプスやホモ・サピエンスが属する。猿人の中には、簡単な打製石器を用いるものがいたと考えられている。
- 2 原人は、約240万年前のアフリカに登場し、世界各地に分散した。約180万年前にホモ・エレクトゥスが登場し、火を使用していたと考えられている。原人の代表例としてジャワ原人と北京原人がある。
- 3 旧人は、約60万年前に出現し、約30万年前のヨーロッパに分布したクロマニヨン人が代表である。旧人は、死者の埋葬法などから、宗教意識や美意識がめばえていたと考えられている。
- 4 新人は、約20万年前のアフリカに出現し、アウストラロピテクスという現生人類に属する。新人は、精巧な剥片石器である石刃や骨角器を用いて狩猟・漁労を行ったり、洞窟に彩色画を描いたりした。

〔問 3〕 漢王朝に関する記述として適切なものは、次の 1～4 のうちのどれか。解答番号は 13。

- 1 楚の貴族出身の劉邦と農民出身の項羽が争い、項羽が勝利して漢王朝をたて長安を都とした。高祖は、直轄地では郡県制、東方では一族・功臣を王・侯に封建する制度を併用した。
- 2 漢はしだいに諸王の権力削減をはかり、これに反発して前154年に起こった陳勝・呉広の乱を鎮圧して実質的に郡県制へ移行した。
- 3 武帝は、官吏登用法として、地方長官に官吏候補者を推薦させる郷举里選を実施した。
- 4 王莽は、儒教の經典に書かれた周代を理想とし、非現実的な政策を進めたため、赤眉の乱など、農民の反乱が各地で起こり、漢は滅亡した。

〔問 4〕 東南アジアの国家に関する記述として適切なものは、次の 1～4 のうちのどれか。解答番号は 14。

- 1 パガン朝は、港市国家群が連合して建てた国家で、マラッカ海峡を管理した。インドから仏教を導入し、都が置かれたスマトラ島のパレンバンは東南アジアにおける仏教の中心となった。
- 2 真臘は、マレー人が建てた国家で、内陸のアンコール地域に中心をおき、最盛期には、ヒンドゥー教寺院アンコール・ワットや、都城アンコール・トムを建設した。
- 3 シュリーヴィジャヤは、ビルマ人がエーヤワディー川の中流部に建てた国家で、海岸部にも進出した。その後、元軍の侵略とタイ系のシャン人の南下によって衰退した。
- 4 林邑は、チャム人が建てた国家で、中国文化を取り入れていたが、インド文化に方向転換し、国名をチャンパーとした。

〔問 5〕 イスラーム世界の成立に関する記述として適切なものは、次の 1～4 のうちのどれか。解答番号は 15。

- 1 ムハンマドは、神の啓示を受けた預言者として宗教活動を開始したが、故郷の有力者らに迫害された。622年にメッカへ亡命し、新しいムスリム共同体を成立させた。多神教徒と戦争を行い、630年にはメディナを征服した。
- 2 第2代正統カリフのウマルは、大規模なジハードを行い、ビザンツ帝国からシリアやエジプトを奪うとともに、642年のニハーヴァンドの戦いで、ササン朝ペルシアをやぶった。
- 3 シリア総督のムアーウィヤは、対立していた第4代正統カリフのアリーが661年に暗殺されると、カイロを首都にウマイヤ朝を開き、一族であるウマイヤ家の出身者が代々のカリフ位を世襲する体制を確立した。
- 4 アッバース朝の第2代カリフのハールーン・アッラシードは、ティグリス川の中流域にバグダードを建設して、新都に定めた。バグダードを起点として交通・通信網を整備した。

〔問 6〕 大航海時代に起こった出来事に関する記述として適切なものは、次の 1～4 のうちのどれか。解答番号は 16。

- 1 カブラルは、インドに向かう途中で、1500年にブラジルに漂着した。トルデシリャス条約に基づいて、ブラジルは、ポルトガル領とされた。
- 2 バルトロメウ・ディアスは、スペイン王の援助を受け、西まわりのアジア航路を発見するために、南アメリカ大陸南端を通過して太平洋に出て、1521年にフィリピン諸島に到達した。
- 3 マゼランは、1498年に喜望峰をまわり、ムスリムの水先案内人を得て、インド西岸のカリカットにたどりつき、ヨーロッパとアジアを直結するインド航路を開いた。
- 4 アメリゴ・ヴェスプッチは、航海王子とも呼ばれたエンリケの死後、アフリカ西岸航路の開拓を推進し、1488年に喜望峰に到達した。

〔問 7〕 ムガル帝国に関する記述として適切なものは、次の 1～4 のうちのどれか。解答番号は 17。

- 1 アウラングゼーブは、ティムールの子孫であり、ローディー朝をやぶってデリーを占領し、ムガル帝国を建て、初代皇帝となった。
- 2 第3代皇帝バーブルは、アグラに都をおき、官僚の官位に応じて土地の徴税権を与え、功績によって官位を上下させるマンサブダール制を導入した。
- 3 第5代皇帝シャー・ジャハーンは、妃ムムターズ・マハルの墓廟として、アグラ郊外にタージ・マハルを建てた。
- 4 第6代皇帝アクバルは、ジズヤの復活やヒンドゥー寺院の破壊などを行ったため、ヒンドゥー教徒の反発を招いた。

〔問 8〕 18～19世紀の産業革命に関する記述として適切なものは、次の 1～4 のうちのどれか。解答番号は 18。

- 1 スティーヴンソンは、石炭を加工したコークスを燃料に用いた製鉄法を開発した。
- 2 ワットは、炭坑の排水用に使用されていた蒸気機関を改良した。
- 3 フルトンは、蒸気機関車を実用化し、イギリスでは、1850年前後には、鉄道網が完成した。
- 4 ダービーは、蒸気船を実用化したが、燃料の石炭補給が遠隔地では困難なこともあって、急速には普及しなかった。

〔問 9〕 19～20世紀における中国で起こった出来事に関する記述として適切なものは、次の 1～4 のうちのどれか。解答番号は 19。

- 1 西太后ら保守派は、義和団を支持し、列強に宣戦布告した。列強は、8 か国連合軍を組織して、清軍と義和団を破って南京を占領した。
- 2 清朝では、光緒新政が行われ、総理各国事務衙門にかわり、外務部を設け、科举を廃止し、西洋式軍隊の整備を進めた。
- 3 四川省で暴動が発生し、さらに武昌で革命派の影響を受けた新軍が蜂起すると、清を見限った各省は次々と独立を宣言した。独立各省は1912年1月に南京で袁世凱を臨時大總統に選出し、中華民国の成立を宣言した。
- 4 皇族の身分、生活保障に関する優待条件とひきかえに康熙帝が退位し、清の統治は終焉した。

〔問10〕 1950年代から1970年代におけるアフリカで起こった出来事に関する記述として適切なものは、次の 1～4 のうちのどれか。解答番号は 20。

- 1 旧フランス領コンゴでは、1960年の独立後、銅資源をめぐる紛争に欧米諸国も干渉してコンゴ動乱が起こった。
- 2 エジプトでは、1952年にエンクルマがエジプト革命を主導し、その後大統領となった。エンクルマはアスワン・ハイダムの建設をめざしたが、イギリスなどが建設費の援助を拒否すると、財源確保のために、1956年にスエズ運河の国有化を宣言した。
- 3 南アフリカ共和国では、少数の白人支配を維持するために、黒人に対する人種隔離政策がとられていたが、1960年の南アフリカ共和国の独立とともに撤廃された。
- 4 アルジェリアでは、民族解放戦線が、独立を求めて激しい反仏抵抗運動を展開したのに対し、フランス側が武力による制圧を試みて、戦争が起こり、結局フランス側が独立を認めた。

B 日本史

〔問 1〕 高等学校学習指導要領地理歴史の「各科目」の「日本史探究」の「内容」の「B 中世の日本と世界」において、身に付けることができるよう指導するとされている事項に関する記述として適切なものは、次の 1～4 のうちのどれか。解答番号は **21**。

- 1 「古代の国家・社会の展開と画期（歴史の解釈、説明、論述）」については、中国大陸・朝鮮半島との関係、隋・唐など中国王朝との関係と政治や文化への影響などに着目して、主題を設定し、小国の形成と連合、古代の国家の形成の過程について、事象の意味や意義、関係性などを多面的・多角的に考察し、歴史に関わる諸事象の解釈や歴史の画期などを根拠を示して表現すること。
- 2 「中世の国家・社会の展開と画期（歴史の解釈、説明、論述）」については、武家政権の変容、日明貿易の展開と琉球王国の成立、村落や都市の自立、多様な文化の形成や融合などを基に、地域権力の成長、社会の変容と文化の特色を理解すること。
- 3 「近世への転換と歴史的環境」については、織豊政権の政治・経済政策、貿易や対外関係などを基に、中世から近世への時代の転換を理解すること。
- 4 「近世の国家・社会の展開と画期（歴史の解釈、説明、論述）」については、産業の発達、飢饉や一揆の発生、幕府政治の動揺と諸藩の動向、学問・思想の展開、庶民の生活と文化などを基に、幕藩体制の変容、近世の庶民の生活と文化の特色、近代化の基盤の形成を理解すること。

〔問 2〕 弥生時代に関する記述として適切なものは、次の 1～4 のうちのどれか。解答番号は **22**。

- 1 強力な集落は周辺のいくつかの集落を統合し、各地に「クニ」と呼ばれる政治的なまとまりが分立していった。小国の分立状況は、中国の歴史書である「漢書」地理志によると、倭人の社会は100余国に分かれているとされている。
- 2 九州北部で始まった水稲耕作は、稲作に適した気候条件の西日本一帯に急速に広まったが、同時期に東北地方北部まで達することはなかった。
- 3 収穫した作物に余裕が生じると、蓄えた作物をめぐる集落や集団同士で奪いあう争いが起こるようになり、争いにそなえて、集落の周囲を深い濠で囲った環濠集落が出現した。青森県の三内丸山遺跡は、弥生時代最大級の環濠集落の遺跡である。
- 4 死者は、集落の近くの共同墓地に葬られた。埋葬方法では、土坑墓、木棺墓、箱式石棺墓などに伸展葬したものが多い。九州北部などでは、地上に大石を配した甕棺墓や、特製の大型の土器に死者を葬った支石墓がみられる。

〔問 3〕 鎌倉幕府に関する記述として適切なものは、次の 1～4 のうちのどれか。解答番号は 23。

- 1 将軍が御家人に対し、先祖伝来の所領の支配を保障するという新恩給与を行ったり、御家人に対し、功に応じて新たな所領を与えるという本領安堵を行ったりした。
- 2 鎌倉には、中央機関として、御家人を組織し統制する政所、一般政務や財務事務をつかさどる侍所、裁判事務を担当する問注所をおいた。
- 3 御家人の中から地頭を任命し、主に、平家没官領を中心とする謀反人の所領におき、年貢の徴収、納入と土地の管理及び治安の維持を任務とさせた。
- 4 1185年に九州に鎮西探題をおき、地域の御家人を統轄するとともに、大宰府の実権も握った。

〔問 4〕 日明貿易に関する記述として適切なものは、次の 1～4 のうちのどれか。解答番号は 24。

- 1 足利義満が明との正式な国交を開き、明皇帝から「日本国王」に冊封され、1404年から日明貿易が開始された。
- 2 足利義持のときに、日明貿易が中止され、足利義教が再開した。再開後、博多商人と結んだ細川氏と、堺商人と結んだ大内氏が貿易の主導権をめぐる対立し、1523年、寧波で武力衝突を起こした。
- 3 日明貿易の貿易船は、私貿易の船と区別するため、明の皇帝が発行する朱印状をたずさえる朱印船貿易の形式がとられた。
- 4 日明貿易では、明からは銅、硫黄、金、刀剣が輸入され、我が国からは永楽通宝などの大量の銅銭、生糸、陶磁器が輸出された。

〔問 5〕 織田信長に関する記述として適切なものは、次の 1～4 のうちのどれか。解答番号は 25。

- 1 1560年、領内に侵入してきた今川義元を桶狭間の戦いで破り、その後、美濃の斎藤竜興を滅ぼして濃尾平野を支配した。
- 2 1570年、姉川の戦いで、近江の浅井長政と越前の朝倉義景の連合軍を破り、翌年、石山本願寺を焼き打ちした。
- 3 1580年、10年間にわたって敵対してきた比叡山延暦寺を屈服させ、畿内全域をほぼ支配下に置いた。
- 4 自治都市として繁栄した堺を従わせて直轄地とした。また、城下町では商工業者に自由な営業を認める撰銭令を出し、貨幣の円滑な流通のために楽市令を出した。

〔問 6〕 江戸幕府が制定した法令に関する記述として適切なものは、次の 1～4 のうちのどれか。

解答番号は 26 。

- 1 一国一城令は、1615年に制定されたものであり、諸大名の軍事力を増強する目的で、居城以外に、領内に城を一つ建てることを命じたものである。
- 2 武家諸法度は、1615年に制定されたものであり、主として大名の心構えを示した。また、1635年に改定され、大名には国元と江戸とを原則として3年交代で往復する参勤交代を義務づけた。
- 3 禁中並公家諸法度は、1615年に制定されたものであり、朝廷を統制し、天皇の責務として学問に専念することや、公家の任免や席次などについて規定した。
- 4 諸社禰宜神主法度は、1665年に制定されたものであり、宗派ごとに本山・本寺の地位を保障して末寺を組織させ、本末制度を確立させた。

〔問 7〕 江戸時代の外交に関する記述として適切なものは、次の 1～4 のうちのどれか。解答番号は 27 。

- 1 1842年、天保の薪水給与令を廃止し、異国船打払令を出し、漂着した外国船には燃料である薪や水・食料を与えないことにした。
- 2 1853年、アメリカ東インド艦隊司令長官ペリーは、6月に浦賀沖に現れ、アメリカ大統領のフィルモアの国書を提出して、我が国に開国を求めた。
- 3 1854年、日米和親条約を結び、アメリカ船が必要とする燃料や食料などを供給すること、下田と神戸の2港を開いて領事の駐在を認めることなどを取り決めた。
- 4 1858年、アメリカに領事裁判権を認め、関税については、我が国が税率の決定権をもつとした日米修好通商条約に調印した。

〔問 8〕 19世紀における我が国で起こった出来事に関する記述として適切なものは、次の 1～4 のうちのどれか。解答番号は 28。

- 1 1866年、土佐藩出身の坂本龍馬、中岡慎太郎らの仲介で、薩摩藩は長州藩と軍事同盟の密約を結び、反幕府の態度を固めた。同年、第2次長州征討の戦況は、幕府軍に不利に展開し、幕府はまもなく、大坂城中に出陣中の将軍徳川家茂の急死を理由に戦闘を中止した。
- 2 1867年、15代将軍徳川慶喜は、新しい政治体制でも主導権を握ろうと考え、政権を朝廷に返上することを申し出た。これに対して朝廷は、12月に五箇条の御誓文を出し、天皇を中心とする新政府の樹立を宣言した。
- 3 1868年、東征軍の参謀と勝海舟との交渉により、4月に江戸城が無血開城された。榎本武揚は、奥羽越列藩同盟を結成した東北諸藩の抵抗を打ち破り、9月に会津藩の若松城を攻め落とした。
- 4 1877年、江藤新平を首領として、私学校生らの鹿児島士族を中心とした最大規模の士族反乱が発生した。九州各地の士族がこれに呼応したが、政府は約半年を費やして全て鎮圧した。

〔問 9〕 文明開化に関する記述として適切なものは、次の 1～4 のうちのどれか。解答番号は 29。

- 1 人間の自由権は、国家から与えられるものではなく、国家も侵すことのできない固有の権利であるとする天賦人権の思想がとなえられ、植木枝盛は「三酔人経綸問答」を著した。
- 2 西洋諸国の例にならって歴法を改め、旧暦を廃止して太陰暦を採用し、1日を24時間とし、のちには日曜を休日とした。
- 3 文部省の新設に続いて、1872年に、ドイツの学校制度にならい、全国を8大学区に分けるなどした学制が公布された。
- 4 政府は、祭政一致を掲げて神祇官を再興し、国学者や神道家を登用した。1870年には大教宣布の詔を発し、神道を中心とした国民教化を目指した。

〔問10〕 20世紀に起こった出来事に関する記述として適切なものは、次の1～4のうちのどれか。解答番号は

30

 。

- 1 五・一五事件では、陸軍の皇道派の青年将校が、約1400名の兵士をひきいて首相官邸や警視庁などを襲撃し、蔵相の高橋是清、内大臣の斎藤実らを殺害した。
- 2 中国国民党の国民革命軍に対抗するため、日本人居留民の保護を名目に山東出兵を実施した。済南事件では、第二次山東出兵の際に、日本軍が済南城を占領した。
- 3 二・二六事件では、海軍の青年将校の一団が首相官邸におし入り、犬養毅首相を射殺した。
- 4 盧溝橋事件では、関東軍が参謀の石原莞爾を中心として、奉天郊外の盧溝橋で南満州鉄道の線路を爆破し、それを中国軍の行為と主張して軍事行動を開始した。

C 地理

〔問 1〕 高等学校学習指導要領地理歴史の「各科目」の「地理総合」の「目標」に関する記述として適切なものは、次の 1～4 のうちのどれか。解答番号は 31。

- 1 現代世界の地理的な諸課題を地域性や歴史的背景、日常生活との関連を踏まえて考察し、現代世界の地理的認識を養うとともに、地理的な見方や考え方を培い、国際社会に主体的に生きる日本国民としての自覚と資質を養う。
- 2 地理に関わる諸事象に関して、世界の空間的な諸事象の規則性、傾向性や、世界の諸地域の地域的特色や課題などを理解するとともに、地図や地理情報システムなどを用いて、調査や諸資料から地理に関する様々な情報を適切かつ効果的に調べまとめる技能を身に付けるようにする。
- 3 地理に関わる事象の意味や意義、特色や相互の関連を、位置や分布、場所、人間と自然環境との相互依存関係、空間的相互依存作用、地域などに着目して、系統地理的、地誌的に、概念などを活用して多面的・多角的に考察したり、地理的な課題の解決に向けて構想したりする力や、考察、構想したことを効果的に説明したり、それらを基に議論したりする力を養う。
- 4 地理に関わる諸事象について、よりよい社会の実現を視野にそこで見られる課題を主体的に追究、解決しようとする態度を養うとともに、多面的・多角的な考察や深い理解を通して涵養される日本国民としての自覚、我が国の国土に対する愛情、世界の諸地域の多様な生活文化を尊重しようとすることの大切さについての自覚などを深める。

〔問 2〕 次の図は、ある統計地図を模式的に表したものである。この統計地図の種類として適切なものは、下の 1～4 のうちのどれか。解答番号は 32。

図



- 1 階級区分図
- 2 流線図
- 3 カルトグラム
- 4 ドットマップ

〔問 3〕 カルスト地形に関する記述として適切なものは、次の 1～4 のうちのどれか。解答番号は 33。

- 1 カレンフェルトとは、石灰岩の溶食によってつくられた、すり鉢状の凹地形のことである。
- 2 タワーカルストとは、ピナクルと呼ばれる溶食から残った石灰岩の石塔が林立する原野のことである。
- 3 鍾乳洞は、地下水によって石灰岩が溶食されて生じた洞穴で、鐘乳石や石筍、石柱などの特異な地形がみられる。
- 4 ドリーネとは、石灰岩の厚い層が、高温多雨な熱帯気候のもとで溶食を受けてできた地形で、石灰岩の岩塔や小山が林立する。

〔問 4〕 次の表は、熱帯気候の都市の月平均気温と月降水量をまとめたものであり、表中の **ア～エ** には、それぞれケアンズ、ジャカルタ、シンガポール、バンコクのいずれかが当てはまる。シンガポールに当てはまるものとして適切なものは、下の **1～4** のうちのどれか。解答番号は 34。

表

	1月	2月	3月	4月	5月	6月	7月	8月	9月	10月	11月	12月
ア	27.6	27.5	26.8	25.5	23.8	22.2	21.4	21.9	23.5	25.1	26.5	27.4
	393.6	496.4	372.4	178.9	74.6	41.2	35.3	26.9	30.5	66.2	90.3	195.4
イ	27.9	27.8	28.4	29.1	29.3	29.0	28.8	28.8	29.2	29.4	28.9	28.3
	337.4	476.2	233.3	114.1	94.8	84.4	74.3	49.7	59.9	74.3	126.0	182.1
ウ	26.8	27.3	27.9	28.2	28.6	28.5	28.2	28.1	28.0	27.9	27.2	26.8
	221.0	104.9	151.1	164.0	164.3	136.5	144.9	148.8	133.4	166.5	254.2	333.1
エ	27.6	28.7	29.8	30.8	30.5	29.8	29.3	29.1	28.7	28.5	28.4	27.4
	24.2	19.4	53.6	92.7	215.4	209.9	182.9	212.0	343.6	304.0	46.5	13.5

(上段：月平均気温 [℃]、下段：月降水量 [mm])

(二宮書店「データブック オブ・ザ・ワールド 2025年版」から作成)

- 1 **ア**
- 2 **イ**
- 3 **ウ**
- 4 **エ**

〔問 5〕 農業に関する記述として適切なものは、次の 1～4 のうちのどれか。解答番号は 35 。

- 1 企業の穀物農業は、広大な耕地でトラクターやコンバインなどの大型機械を使って穀物生産を行うものであり、土地生産性は高いが、労働生産性は低い。
- 2 プランテーション農業は、熱帯・亜熱帯地域の広大な農園で、コーヒーや茶、サトウキビ、カカオなどの単一耕作が中心である。
- 3 企業の牧畜とは、温暖湿潤の地域の大牧場で行われる大規模な牧畜であり、鉄道の発達や冷凍船の発明により飛躍的に発展した。センターピボット方式による肉牛の肥育が行われている。
- 4 園芸農業は、穀物や飼料作物の栽培と、肉牛や豚などの家畜の飼育を結び付けた農業で、ヨーロッパでよく見られる。

〔問 6〕 次の表は、1980年、2000年、2020年における乗用車 1 台当たり人口をまとめたものである。表中の **ア～エ** には、それぞれアメリカ、インド、中国、日本のいずれかが当てはまる。中国に当てはまるものとして適切なものは、下の 1～4 のうちのどれか。解答番号は 36 。

表

	〔人〕		
	1980年	2000年	2020年
ア	1.9	2.1	2.8
イ	4.9	2.4	2.0
ウ	737.9	218.7	36.4
エ	16,386.2	218.6	6.3

(二宮書店「データブック オブ・ザ・ワールド 2023年版」から作成)

- 1 **ア**
- 2 **イ**
- 3 **ウ**
- 4 **エ**

〔問 7〕 次の記述は、ある国に関するものである。この国の名称として適切なものは、下の 1～4 のうちのどれか。解答番号は 37。

少数派で牧畜民のツチと多数派で農耕民のフツという民族が、長い間、共存してきた。第1次世界大戦後にベルギーの支配下に入ると、ツチがフツを支配する社会構造が強化され、両民族の対立が深まった。

今では、高い経済成長率を維持しており、「アフリカの奇跡」と呼ばれている。

- 1 ルワンダ
- 2 エジプト
- 3 モロッコ
- 4 南アフリカ

〔問 8〕 東南アジアの国々に関する記述として適切なものは、次の 1～4 のうちのどれか。解答番号は 38。

- 1 フィリピンでは、いくつもの民族がそれぞれ独自の言語をもち、国内全域で通じる共通言語がなかったため、英語とともにマレー語を公用語としている。
- 2 マレーシアでは、先住民であるマレー系住民と、植民地時代の移民で経済的に優位にあった中国系住民との格差が大きかったため、雇用や教育の面でマレー系住民を優遇するブミプトラ政策を行い、経済格差の是正が図られている。
- 3 ベトナムでは、1986年からトランスミグラシと呼ばれる社会主義体制を維持しつつ、市場経済化と対外開放を推し進める市場開放政策を取るようになった。
- 4 インドネシアでは、人口の一極集中を解消するために、首都ジャカルタを含むジャワ島から他の島への移住を推奨し、農業振興や資源開発を行うルックイースト政策が行われ、地域格差の是正を目指した。

〔問 9〕 ヨーロッパの地域統合に関する記述として適切なものは、次の 1～4 のうちのどれか。

解答番号は

39

 。

- 1 ヨーロッパ石炭鉄鋼共同体は、石炭と鉄鋼業を共同管理するために、ベルギー、オランダ、ルクセンブルク、フランス、イタリア、イギリスの 6 か国によって、1952年に設立された。
- 2 1993年のマーストリヒト条約の発効によって、ヨーロッパ連合が発足し、加盟国間の経済活動の自由化と統合が強化された。1999年には、全ての加盟国で単一通貨ユーロが導入された。
- 3 1995年のシェンゲン協定の発効によって、ヨーロッパ連合の加盟国を中心に国境管理が廃止され、人の移動に関する障壁が大きく緩和された。
- 4 2009年のリスボン条約の発効によって、ヨーロッパ連合の政治的な統合を進めるために、行政の運営を簡素化、合理化した条約で、ヨーロッパ連合の大統領ともいべき欧州理事会の常任議長職の創設は見送られた。

〔問10〕 次のア～ウは、2021年におけるオーストラリア、ニュージーランド及び日本の貿易における主要輸出品の上位5品目と、主要輸出品の輸出額に占める割合とをまとめたものである。ア～ウに当てはまる国名の組合せとして適切なものは、下の1～4のうちのどれか。解答番号は 40 。

ア

	輸出額に占める割合 [%]
機械類	35.9
自動車	17.9
精密機械	5.9
鉄鋼	4.6
化学薬品	3.6

イ


	輸出額に占める割合 [%]
鉄鉱石	33.9
石炭	13.6
液化天然ガス	10.9
金（非貨幣用）	5.1
肉類	3.3

ウ

	輸出額に占める割合 [%]
酪農品	27.3
肉類	14.2
木材	7.7
野菜と果実	6.4
食用調製品	4.9

（二宮書店「データブック オブ・ザ・ワールド 2023年版」から作成）

- | | | |
|-------------|------------|------------|
| 1 ア オーストラリア | イ ニュージーランド | ウ 日本 |
| 2 ア オーストラリア | イ 日本 | ウ ニュージーランド |
| 3 ア 日本 | イ オーストラリア | ウ ニュージーランド |
| 4 ア 日本 | イ ニュージーランド | ウ オーストラリア |



3 問題文中の 2、34 などの には、数字又は符号(－)が入ります。次の(1)～(4)の方法でマークしてください。

(1) 2、3、4、……の一つ一つは、それぞれ1～9、0の数字又は符号(－)のいずれか一つに対応します。それらを 2、3、4、……で示された解答欄にマークしてください。

例えば、234 に－84 と解答する場合には、次の(例2)のようにマークします。

(例2)

解答 番号	解答欄
2	① ② ③ ④ ⑤ ⑥ ⑦ ⑧ ⑨ ⑩ ●
3	① ② ③ ④ ⑤ ⑥ ⑦ ● ⑨ ⑩ ⊖
4	① ② ③ ● ⑤ ⑥ ⑦ ⑧ ⑨ ⑩ ⊖

なお、同一の問題文中に 2、34 などが2度以上現れる場合、原則として、2度目以降は、2、34 のように細字で表記します。

(2) 分数形で解答する場合は、符号は分子に付け、分母に付けてはいけません。また、分数は既約分数で答えてください。

例えば、 $\frac{\text{56}}{\text{7}}$ に $-\frac{4}{5}$ と解答する場合には、 $\frac{-4}{5}$ として、次の(例3)のように

マークします。

(例3)

解答 番号	解答欄
5	① ② ③ ④ ⑤ ⑥ ⑦ ⑧ ⑨ ⑩ ●
6	① ② ③ ● ⑤ ⑥ ⑦ ⑧ ⑨ ⑩ ⊖
7	① ② ③ ④ ● ⑥ ⑦ ⑧ ⑨ ⑩ ⊖

(3) 小数の形で解答する場合は、特に指示されていなければ、指定された桁数の一つ下の桁を四捨五入して答えてください。また、必要に応じて、指定された桁まで⑩にマークしてください。

例えば、8.910 に2.6 と解答する場合には、2.60 として答えてください。

(4) 根号を含む形で解答する場合は、根号の中に現れる自然数が最小となる形で答えてください。

問題番号			解答 番号	正答	配点	備考
大問	小問					
1	問		1	4	5	
2	問1		2	1	5	
	問2		3	2	5	
	問3		4	2	5	
3	問1		5	3	5	
	問2		6	1	5	
	問3		7	1	5	
4	問1		8	3	5	
	問2		9	3	5	
	問3		10	1	5	
A	問1		11	3	5	
	問2		12	2	5	
	問3		13	3	5	
	問4		14	4	5	
	問5		15	2	5	
	問6		16	1	5	
	問7		17	3	5	
	問8		18	2	5	
	問9		19	2	5	
	問10		20	4	5	

問題番号			解答 番号	正答	配点	備考
大問	小問					
B	問1		21	2	5	
	問2		22	1	5	
	問3		23	3	5	
	問4		24	1	5	
	問5		25	1	5	
	問6		26	3	5	
	問7		27	2	5	
	問8		28	1	5	
	問9		29	4	5	
	問10		30	2	5	
C	問1		31	4	5	
	問2		32	2	5	
	問3		33	3	5	
	問4		34	3	5	
	問5		35	2	5	
	問6		36	4	5	
	問7		37	1	5	
	問8		38	2	5	
	問9		39	3	5	
	問10		40	3	5	