

専門教養
令和7年7月
60分

受験教科等
中・高等学校共通 公民

注 意

- 指示があるまで、問題冊子を開いてはいけません。
- 全て係員の指示に従って、静粛に受験してください。
- 机上には、受験票、筆記用具、時計以外のものを出してはいけません。
- 他の受験者の迷惑になるような行為、スマートフォン、スマートウォッチ等の電子機器の使用及び不正行為をしてはいけません。
- 解答時間は60分です。途中退出はできません。
- 問題冊子のページ数は、20ページです。はじめにページ数を確かめてください。
- 解答用紙に、必要事項が正しく記入・マークされていない場合には、解答は全て無効となります。解答用紙の【1】の欄には、受験番号を記入し、受験番号に対応する数字をマークしてください。【2】の欄には、氏名を記入してください。また、【3】の欄には、選択した問題を表す記号（A又はB）を必ずマークしてください。Cにマークした場合には、解答は全て無効となります。
- この問題は、共通問題 1 ～ 4、科目別の選択問題 A 政治・経済、B 倫理の各問題から構成されています。次の表に従って、解答してください。

共通問題（全員が解答する）	
共通問題 1 ～ 4 （1ページ～7ページ）	
選択問題（いずれか一つを選択して解答する）	
A 政治・経済 (8ページ～13ページ)	B 倫理 (14ページ～20ページ)

- 問題冊子の余白等は、適宜使用しても構いませんが、どのページも切り離してはいけません。
- 問題文中の「学習指導要領」は、特に指示がある場合を除いて、平成29年、平成30年又は平成31年告示の「学習指導要領」を表しています。
- 問題の内容についての質問には一切応じません。

解答上の注意


- 解答は、問題文や解答用紙の注意事項に従って、解答欄にマークしてください。各問に対して、正答は一つだけです。各解答欄に二つ以上マークした場合は誤りとします。
- 「解答番号は 1。」と表示のある問に対して、3と解答する場合には、次の（例1）のように解答番号 1 の解答欄の③にマークしてください。

(例1)

解答番号	解答欄
1	① ② ● ④ ⑤ ⑥ ⑦ ⑧ ⑨ ⑩ ⊖

解答上の注意の続きを、問題冊子の裏表紙に記載しております。問題冊子を裏返して必ず読んでください。







## 共 通 問 題

**1** 学習指導要領に関する次の問に答えよ。

〔問〕 中学校学習指導要領社会の「各分野の目標及び内容」の〔歴史的分野〕の「目標」に関する記述として適切なものは、次の**1**～**4**のうちのどれか。解答番号は **1**。

- 1** 我が国の国土及び世界の諸地域に関して、地域の諸事象や地域的特色を理解するとともに、調査や諸資料から地理に関する様々な情報を効果的に調べまとめる技能を身に付けるようにする。
- 2** 個人の尊厳と人権の尊重の意義、特に自由・権利と責任・義務との関係を広い視野から正しく認識し、民主主義、民主政治の意義、国民の生活の向上と経済活動との関わり、現代の社会生活及び国際関係などについて、個人と社会との関わりを中心に理解を深めるとともに、諸資料から現代の社会的事象に関する情報を効果的に調べまとめる技能を身に付けるようにする。
- 3** 地理に関わる事象の意味や意義、特色や相互の関連を、位置や分布、場所、人間と自然環境との相互依存関係、空間的相互依存作用、地域などに着目して、多面的・多角的に考察したり、地理的な課題の解決に向けて公正に選択・判断したりする力、思考・判断したことを説明したり、それらを基に議論したりする力を養う。
- 4** 歴史に関わる諸事象について、よりよい社会の実現を視野にそこで見られる課題を主体的に追究、解決しようとする態度を養うとともに、多面的・多角的な考察や深い理解を通して涵養される我が国の歴史に対する愛情、国民としての自覚、国家及び社会並びに文化の発展や人々の生活の向上に尽くした歴史上の人物と現在に伝わる文化遺産を尊重しようとするものの大切さについての自覚などを深め、国際協調の精神を養う。

2

地理的分野に関する次の各問に答えよ。

〔問 1〕 次の記述は、地図の図法に関するものである。記述中の空欄 **ア** ～ **ウ** に当てはまる語句の組合せとして適切なものは、下の 1～4 のうちのどれか。解答番号は

**2**。

**ア** 図法は、グード図法ともいう。この図法は、**イ** 図法の低緯度部分と、**ウ** 図法の高緯度部分とを、緯度40度44分で接合し、海洋を断裂させて大陸のゆがみを小さくした図法である。

- |   |                 |                 |                 |
|---|-----------------|-----------------|-----------------|
| 1 | <b>ア</b> ホモロサイン | <b>イ</b> サンソン   | <b>ウ</b> モルワイデ  |
| 2 | <b>ア</b> ホモロサイン | <b>イ</b> モルワイデ  | <b>ウ</b> サンソン   |
| 3 | <b>ア</b> モルワイデ  | <b>イ</b> サンソン   | <b>ウ</b> ホモロサイン |
| 4 | <b>ア</b> モルワイデ  | <b>イ</b> ホモロサイン | <b>ウ</b> サンソン   |

〔問 2〕 我が国の人口問題に関する記述として適切なものは、次の 1～4 のうちのどれか。解答番号は **3**。

- 1 我が国は、1994年には老年人口の割合が14%を超えて、高齢社会になった。1997年には老年人口が年少人口よりも多くなり、2007年には老年人口の割合が21%を超えて、高齢化社会へと転換した。
- 2 農村では、人口流出が続き、人口が著しく減少して過疎になっている地域が多い。老年人口の割合が50%を超えて、社会的な共同生活が困難になった、限界集落と呼ばれる地域がある。
- 3 高度経済成長期には、大都市圏に人口が過密になったが、地方圏から大都市圏へ移住した者が、その後再び生まれ育った場所へ戻る J ターンや、生まれ育った場所の近くにある中規模以上の都市など出身地以外へ移住する U ターンが見られるようになった。
- 4 我が国の合計特殊出生率は、1970年代以降、2.00を上回り続けている。政府は、少子化社会対策大綱を定め、結婚の支援や男女の働き方改革などを含め、様々な少子化対策を打ち出している。

〔問 3〕 北アメリカ大陸の地形に関する記述として適切なものは、次の 1～4 のうちのどれか。

解答番号は 

4
---

。

- 1 大陸の西側には、環太平洋造山帯に属する比較的なだらかなロッキー山脈が、東側には古期造山帯に属する急峻なアパラチア山脈が南北に走っている。
- 2 東西の山脈の間には、中央平原や台地状の大平原であるグレートプレーンズが広がっている。
- 3 ミシシッピ川は、北アメリカ大陸で最も長い川であり、中央平原を南へ流れ、カリフォルニア湾に注いでいる。
- 4 五大湖は、世界最大の断層湖であり、スペリオール湖、ミシガン湖、ヒューロン湖、エリー湖、オンタリオ湖から成る。

3

歴史的分野に関する次の各問に答えよ。

〔問 1〕 大宝律令に関する記述として適切なものは、次の 1～4 のうちのどれか。解答番号は

5

。

- 1 我が国の実情をふまえて唐の律令に修正を加えたものであり、701年、刑部親王や藤原頼通らによって完成された。
- 2 中央の行政組織には、神祇祭祀を司る太政官と、一般の政務を統括する神祇官がおかれ、神祇官のもとに行政を分担する八省が配置された。
- 3 太政大臣、左大臣、右大臣、大納言の合議で国政を審議し、重要事項は天皇の許可を必要とした。
- 4 官人を監査する五衛府と軍事警察を担当する弾正台は、二官八省の統括系統から独立しておかれた。

〔問 2〕 江戸時代の学問に関する記述として適切なものは、次の 1～4 のうちのどれか。解答番号は

6

。

- 1 前野良沢や杉田玄白らによって、オランダ語の解剖書「ターヘル＝アナトミア」の訳書「解体新書」が刊行され、医学分野で蘭学はめざましく発展した。
- 2 伊能忠敬は、幕府天文方である高橋至時から天文学を学び、幕府の命により全国の沿岸を測量して「群書類従」を作成した。
- 3 新井白石は、イタリア人宣教師シドッチから得た知識をもとに、「大日本沿海輿地全図」をまとめた。
- 4 土木工事や検地の必要から、実用算術として和算が発達した。関孝和は、「経済録」を著し、筆算による代数学や高度な数学理論を説いた。

[問 3] アメリカの大統領の行った政治に関する記述として適切なものは、次の 1～4 のうちのどれか。解答番号は 

7
---

。


- 1 リンカン大統領は、1863年に奴隷解放宣言を発して、南部地域の奴隷を解放し、内外の世論を味方につけた。
- 2 セオドア・ローズヴェルト大統領は、中米諸国に対して武力干渉を伴うカリブ海政策を展開し、1903年にコロンビアをパナマから分離独立させた。
- 3 フーヴァー大統領は、恐慌の拡大を防ぐため、1931年に賠償と戦債の3年間の支払い停止宣言を出したが、効果はなかった。
- 4 トルーマン大統領は、1947年にソ連勢力の拡張に対する封じ込め政策を宣言して、エジプトに、軍事・経済援助を与えることを約束した。

4

公民的分野に関する次の各問に答えよ。

- 〔問 1〕 次の図は、国内生産総額、国内総生産、国民総所得、国民純生産、国民所得の相互関係を模式的に表したものである。図中のア～エには、それぞれ国内総生産、国民総所得、国民純生産、国民所得のいずれかが当てはまる。ウに当てはまるものとして適切なものは、下の 1～4 のうちのどれか。解答番号は 8。

図



- 1 国内総生産
- 2 国民総所得
- 3 国民純生産
- 4 国民所得



〔問 2〕 我が国の環境に関する法律に関する記述として適切なものは、次の 1～4 のうちのどれか。解答番号は 9。

- 1 公害対策基本法は、1997年に制定され、アセスメントの対象は、道路、ダム、鉄道、飛行場、発電所などの13種とし、事前に住民や地方公共団体の意見を聞いて事業計画を立てるとしている。
- 2 循環型社会形成推進基本法は、1967年に制定され、事業者、国及び地方公共団体の公害の防止に関する責務を明らかにし、公害の防止に関する施策の基本となる事項を定め、公害対策の総合的推進を図ることで、国民の健康を保護することと、生活環境を保全することを目的とされた。
- 3 環境基本法は、1993年に制定され、事業活動その他の人間活動がもたらす大気汚染、水質汚濁、土壌汚染、騒音、振動、地盤沈下、悪臭が、相当の範囲にわたって、人々の健康を損ねたり、生活環境を悪化させるなどの被害を与えたりすることを公害と定義している。
- 4 環境影響評価法は、2000年に制定され、リデュースはごみの発生を抑えること、リユースは出たごみを再利用すること、リサイクルは出たごみを再生利用することが規定された。

〔問 3〕 我が国の政治機構に関する記述として適切なものは、次の 1～4 のうちのどれか。解答番号は 10。

- 1 国会の国政調査権は、国会議員が国政に関する諸問題を究明する権限であり、その対象は、立法や内閣の行政権の行使に対する調査・監督など国政の全般に及び、証人の出頭や証言・記録の提出を要求することができる。
- 2 内閣は、内閣総理大臣とその他の国务大臣で構成される。憲法では、内閣総理大臣は、国会議員の中から国会が指名し、国务大臣は、全て国会議員でなければならないと規定されている。
- 3 裁判官は、心身の故障のために職務を行うことができない場合や、国会に設けられている特別裁判所の裁判による場合を除いて罷免されず、行政機関が裁判官を懲戒処分にはできない。
- 4 中央省庁は1府12省庁体制で、内閣府は12省庁より下位に位置し、各省庁間の総合調整などを行っている。内閣官房は、内閣と内閣総理大臣を直接補佐する機関である。

## 選 択 問 題

8 ページから20ページまでの選択問題 **A** 政治・経済（8 ページ～13ページ）、**B** 倫理（14ページ～20ページ）のうちから、表紙の指示に従って、一つを選択し解答せよ。

なお、解答用紙の【3】の欄には、選択した問題を表す記号（**A**又は**B**）を必ずマークすること。  
◎にマークした場合には、解答は全て無効となる。

### **A** 政治・経済

〔問 1〕 高等学校学習指導要領公民の「各科目」の「政治・経済」の「内容」の「B グローバル化する国際社会の諸課題」において、身に付けることができるよう指導するとされている事項に関する記述として適切なものは、次の 1～4 のうちのどれか。解答番号は

**11**。

- 1 「現代日本の政治・経済」については、経済活動と市場、経済主体と経済循環、国民経済の大きさと経済成長、物価と景気変動、財政の働きと仕組み及び租税などの意義、金融の働きと仕組みについて、現実社会の諸事象を通して理解を深めること。
- 2 「現代の国際政治・経済」については、国際社会の変遷、人権、国家主権、領土（領海、領空を含む。）などに関する国際法の意義、国際連合をはじめとする国際機構の役割、我が国の安全保障と防衛、国際貢献について、現実社会の諸事象を通して理解を深めること。
- 3 政治参加と公正な世論の形成、地方自治、国家主権、領土（領海、領空を含む。）、我が国の安全保障と防衛、国際貢献を含む国際社会における我が国の役割などに関わる現実社会の事柄や課題を基に、よりよい社会は、憲法の下、個人が議論に参加し、意見や利害の対立状況を調整して合意を形成することなどを通して築かれるものであることについて理解すること。
- 4 地域の創造、よりよい国家・社会の構築及び平和で安定した国際社会の形成へ主体的に参画し、共に生きる社会を築くという観点から課題を見だし、その課題の解決に向けて事実を基に協働して考察、構想し、妥当性や効果、実現可能性などを指標にして、論拠を基に自分の考えを説明、論述すること。

〔問 2〕 我が国の司法制度に関する記述として適切なものは、次の 1～4 のうちのどれか。解答番号は 12。

- 1 裁判員制度は、地方裁判所における第一審のうち、殺人などの重大な刑事事件の刑事裁判で、事件ごとに国民の中から選ばれた裁判員が、裁判官とともに審理に参加する裁判制度である。裁判員の候補者は、18歳以上の有権者の中から選ばれ、特別な事情がない限り辞退は認められない。
- 2 検察審査会は、不起訴になった事件に対して、被害者や告訴・告発した人からの申し立てを受けて、18歳以上の有権者の中から選ばれた検察審査員が、検察官の不起訴処分が妥当かどうかを審査するものである。検察官が不起訴にした事件についても、検察審査会で一度でも起訴すべきと議決した場合は、強制的に起訴できる。
- 3 被害者参加制度は、犯罪の被害者やその家族が、裁判に参加できる制度である。希望すれば、犯罪の被害者やその家族は、裁判で検察官の近くに座り、被告人に直接、質問することはできるが、意見陳述をすることはできない。
- 4 三審制は、同一事件に対して三回まで裁判を受けられる制度である。民事事件と刑事事件ともに、三審制を採用しており、一審の判決に不服であれば、二審裁判所に上告して、再び裁判を受けられる。二審の判決にも不服の場合、最高裁判所に控訴して三審に訴えることができる。

〔問 3〕 民主政治に関する記述として適切なものは、次の 1～4 のうちのどれか。解答番号は 13。

- 1 モンテスキューは、「リバイアサン」において、政治権力の存在しない自然状態の下で全ての人は自然権をもつが、そのままでは各人の自然権の主張によって「万人の万人に対する闘争」が生じるとした。
- 2 ホッブズは、「経済と社会」において、政治権力の形式と内容から、支配の正当性を家父長制や君主制などによる伝統的支配、カリスマ性をもつ指導者によるカリスマ的支配、議会制民主主義など近代的諸制度による合法的支配の三つに類型化した。
- 3 ルソーは、「社会契約論」において、自由が完全に保障される共同体の建設を説いた。人間は、社会契約によって、全ての自然権を共同体に引き渡し、誰もが平等に参加して作り出される共同体の意思が一般意志であるとした。
- 4 マックス・ウェーバーは、「法の精神」において、国家の権力を立法・行政・司法の三つに分け、それぞれを異なる機関で運用させ、相互の抑制と均衡をはかる三権分立を説いた。



〔問 4〕 ロールズに関する記述として適切なものは、次の 1～4 のうちのどれか。解答番号は 14。

- 1 公正としての正義を提唱し、人々が自分の境遇などを知らない原初状態では、正義の原理によって、自由、機会、所得などの社会的基本財が公正に分配されると主張した。
- 2 健康である、社会に参加するなど、それらを用いて達成できる状態や活動を機能と呼び、そうした機能をあわせたものをケイパビリティと呼んで、人々が潜在能力において平等であることを主張した。
- 3 個人の自由をできる限り認め、自由を最大限に尊重するリバタリアニズムという立場から、個人は所有物に絶対的な権利をもつという権原理論を説き、政府の役割は、権利の保障に最低限必要な司法や国防などに限定される最小国家であるべきと主張した。
- 4 個人を社会的な存在として考え、共同体やその伝統を重視するコミュニタリアニズムという立場から、個人の善ではなく共同体全体の善である共通善の実現をめざすものであると主張した。

〔問 5〕 最高裁判所の判例に関する記述として適切なものは、次の 1～4 のうちのどれか。解答番号は 15。

- 1 1977年の津地鎮祭訴訟は、地鎮祭は世俗的行事だが、地方公共団体がそれを行った場合、憲法の禁じる宗教的活動にあたると判断し、違憲であるとした。
- 2 1973年の三菱樹脂訴訟は、企業などの私人に、憲法の人権保障規定を直接適用できると判断し、会社側は敗訴した。
- 3 1973年の尊属殺重罰規定違憲判決は、尊属殺人の法定刑が死刑又は無期懲役という刑法第200条の規定は、普通殺人の法定刑に対して著しく不合理な差別であり、違憲であるとした。
- 4 1975年の薬事法距離制限違憲判決は、薬局開設の許可基準として距離の制限を設けていない薬事法第6条の規定は、不良医薬品の供給防止という立法目的から合理的とはいえず、違憲であるとした。

〔問 6〕 地方自治に関する記述として適切なものは、次の 1～4 のうちのどれか。解答番号は

16。

- 1 地方自治の本旨は、団体自治と住民自治からなる。団体自治とは、その地域の住民が議会の議員や首長を直接選挙し、住民の意思に基づいて地方の政治や行政を行うことをいい、住民自治とは、地方公共団体の機関が、国の行政機関の指揮・監督を受けず、国から独立して自主的に地方の行政を行うことをいう。
- 2 首長は、予算案の編成権のほか、議会の解散権や議会の条例や予算の議決に対する拒否権をもつ。また、議会は首長に対して、不信任議決を行うことができ、不信任が議決された場合、首長は、10日以内に議会を解散することができるが、解散をしなければ10日を過ぎた時点で失職する。
- 3 地方公共団体の財源は、自主財源と依存財源に分けられる。自主財源には、地方公共団体が課す地方税や、地方公共団体が発行する地方債があり、依存財源には、国から交付される地方交付税や、国庫支出金がある。
- 4 地方公共団体の仕事は、自治事務と法定受託事務に分類される。自治事務には、戸籍事務、国政選挙、旅券の交付、生活保護があり、法定受託事務には、都市計画の決定、病院・薬局の開設許可、公共施設の管理がある。

〔問 7〕 国際裁判所に関する記述として適切なものは、次の 1～4 のうちのどれか。解答番号は 17。

- 1 常設仲裁裁判所は、1945年に設立され、本部はオランダのハーグである。裁判の対象は、国家間の紛争で、紛争当事国の一方から要請があり当事国間に合意が成立した場合のみ裁判が始まる。裁判官は15人であり、原則的に一審制で、上訴はできない。
- 2 国際刑事裁判所は、2003年に設立され、本部はオランダのハーグである。裁判の対象は、紛争時の個人の重大な犯罪で、加盟国や国連安全保障理事会からの検察官への付託や、検察官の捜査によって裁判が行われる。第一審の判決に不服の場合は上訴可能で、最高刑は終身刑である。
- 3 国際司法裁判所は、1901年に設立され、本部はオランダのハーグである。国と国、国と個人・組織間の紛争を扱い、当事者の合意によって法廷が設置され、当事者が選任する裁判官によって裁判する。
- 4 国際海洋法裁判所は、1996年に設立され、本部はドイツのハンブルクである。国連海洋法条約に基づいて、同条約の運用に関する国家間の紛争の解決を目的としている。判決は法的拘束力を有しない。

〔問 8〕 我が国の財政の仕組みに関する記述として適切なものは、次の 1～4 のうちのどれか。解答番号は 18。

- 1 累進課税制度は、課税対象額が大きいほど、段階的に高い税率が適用される制度であり、所得税、相続税、贈与税に採用されている。
- 2 国の予算には、会計年度当初から実施される本予算、年度途中で予想外の状況が生じた際に組まれる暫定予算、年度当初までに予算の議決ができないときに組まれる補正予算がある。
- 3 基礎的財政収支は、財政の健全化を達成するための指標であり、国債費を含めた歳出を、新たな公債発行に頼らずに、その年度の税収で賄えているかどうかを示している。
- 4 裁量的財政政策は、景気変動に対応して、政府が公共投資や課税の増減を行うことであり、不況期には、公共事業を増やしたり、減税をしたりして有効需要を抑制し、好況期には、公共事業を減らしたり、増税をしたりして有効需要を拡大させるものである。



〔問 9〕 金融市場の仕組みに関する記述として適切なものは、次の 1～4 のうちのどれか。解答番号は 19。

- 1 短期金融市場は、1 年未満の短期資金を取り引きするものであり、株式市場や公社債市場がある。長期金融市場は、1 年以上の長期資金を取り引きするものであり、コール市場や手形市場がある。
- 2 直接金融は、金融機関からの借り入れによって資金を調達するものであり、間接金融は、企業が有価証券を発行して資金を調達するものである。
- 3 信用創造とは、銀行が受け入れた預金の一部を預金準備金として残して、他を貸し出し、返ってきた資金をさらに貸し出すことを行った結果、最初に受け入れた預金の何倍もの額を貸し出すことができるようになる仕組みをいう。
- 4 企業の調達した資金のうち、他人資本は、株式発行や内部留保によるもので、返済の必要がない純資産であり、自己資本は、社債や借り入れによるもので、返済の必要がある負債である。

〔問10〕 国際経済の変化に関する記述として適切なものは、次の 1～4 のうちのどれか。解答番号は 20。

- 1 アメリカのワシントンで開かれた10か国財務相会議でのプラザ合意により、ドルは金 1 オンスが35ドルから38ドルとなり、円は 1 ドルが360円から308円へと切り上げられた。
- 2 ジャマイカで開催された IMF 暫定委員会でのスミソニアン協定では、変動相場制への移行を追認すること、金のかわりに SDR を基礎にすること、金の公定価格を廃止することが取り決められた。
- 3 アメリカのニューヨークで開かれた先進 5 か国財務相中央銀行総裁会議でのキングストン合意により、外国為替市場に協調介入してドル高の是正を行うことで一致した。
- 4 ウルグアイ・ラウンドでは、GATT を改組して WTO を設立することが決定されるとともに、農産物の自由化、サービス貿易、知的所有権などについての合意がなされた。

## **B** 倫 理

〔問 1〕 高等学校学習指導要領公民の「各科目」の「倫理」の「内容」の「B 現代の諸課題と倫理」において、身に付けることができるよう指導するとされている事項に関する記述として適切なものは、次の 1～4 のうちのどれか。解答番号は **21**。

- 1 「公共的な空間における人間としての在り方生き方」については、倫理的価値の判断において、行為の結果である個人や社会全体の幸福を重視する考え方と、行為の動機となる公正などの義務を重視する考え方などを活用し、自らも他者も共に納得できる解決方法を見いだすことに向け、思考実験など概念的な枠組みを用いて考察する活動を通して、人間としての在り方生き方を多面的・多角的に考察し、表現すること。
- 2 「国際社会に生きる日本人としての自覚」については、古来の日本人の心情と考え方や日本の先哲の思想に着目して、我が国の風土や伝統、外来思想の受容などを基に、国際社会に生きる日本人としての在り方生き方について思索するための手掛かりとなる日本人に見られる人間観、自然観、宗教観などの特質について、自己との関わりにおいて理解すること。
- 3 「自然や科学技術に関わる諸課題と倫理」については、生命、自然、科学技術などと人間との関わりについて倫理的課題を見いだし、その解決に向けて倫理に関する概念や理論などを手掛かりとして多面的・多角的に考察し、公正に判断して構想し、自分の考えを説明、論述すること。
- 4 「国際社会に生きる日本人としての自覚」については、古来の日本人の心情と考え方や日本の先哲の思想に関する原典や原典の口語訳などの諸資料から、日本人としての在り方生き方に関わる情報を読み取る技能を身に付けること。

〔問 2〕 我が国の司法制度に関する記述として適切なものは、次の 1～4 のうちのどれか。解答番号は 22。

- 1 裁判員制度は、地方裁判所における第一審のうち、殺人などの重大な刑事事件の刑事裁判で、事件ごとに国民の中から選ばれた裁判員が、裁判官とともに審理に参加する裁判制度である。裁判員の候補者は、18歳以上の有権者の中から選ばれ、特別な事情がない限り辞退は認められない。
- 2 検察審査会は、不起訴になった事件に対して、被害者や告訴・告発した人からの申し立てを受けて、18歳以上の有権者の中から選ばれた検察審査員が、検察官の不起訴処分が妥当かどうかを審査するものである。検察官が不起訴にした事件についても、検察審査会で一度でも起訴すべきと議決した場合は、強制的に起訴できる。
- 3 被害者参加制度は、犯罪の被害者やその家族が、裁判に参加できる制度である。希望すれば、犯罪の被害者やその家族は、裁判で検察官の近くに座り、被告人に直接、質問することはできるが、意見陳述をすることはできない。
- 4 三審制は、同一事件に対して三回まで裁判を受けられる制度である。民事事件と刑事事件ともに、三審制を採用しており、一審の判決に不服であれば、二審裁判所に上告して、再び裁判を受けられる。二審の判決にも不服の場合、最高裁判所に控訴して三審に訴えることができる。

〔問 3〕 民主政治に関する記述として適切なものは、次の 1～4 のうちのどれか。解答番号は 23。

- 1 モンテスキューは、「リバイアサン」において、政治権力の存在しない自然状態の下で全ての人は自然権をもつが、そのままでは各人の自然権の主張によって「万人の万人に対する闘争」が生じるとした。
- 2 ホッブズは、「経済と社会」において、政治権力の形式と内容から、支配の正当性を家父長制や君主制などによる伝統的支配、カリスマ性をもつ指導者によるカリスマ的支配、議会制民主主義など近代的諸制度による合法的支配の三つに類型化した。
- 3 ルソーは、「社会契約論」において、自由が完全に保障される共同体の建設を説いた。人間は、社会契約によって、全ての自然権を共同体に引き渡し、誰もが平等に参加して作り出される共同体の意思が一般意志であるとした。
- 4 マックス・ウェーバーは、「法の精神」において、国家の権力を立法・行政・司法の三つに分け、それぞれを異なる機関で運用させ、相互の抑制と均衡をはかる三権分立を説いた。



〔問 4〕 ロールズに関する記述として適切なものは、次の 1～4 のうちのどれか。解答番号は 24。

- 1 公正としての正義を提唱し、人々が自分の境遇などを知らない原初状態では、正義の原理によって、自由、機会、所得などの社会的基本財が公正に分配されると主張した。
- 2 健康である、社会に参加するなど、それらを用いて達成できる状態や活動を機能と呼び、そうした機能をあわせたものをケイパビリティと呼んで、人々が潜在能力において平等であることを主張した。
- 3 個人の自由をできる限り認め、自由を最大限に尊重するリバタリアニズムという立場から、個人は所有物に絶対的な権利をもつという権原理論を説き、政府の役割は、権利の保障に最低限必要な司法や国防などに限定される最小国家であるべきと主張した。
- 4 個人を社会的な存在として考え、共同体やその伝統を重視するコミュニタリアニズムという立場から、個人の善ではなく共同体全体の善である共通善の実現をめざすものであると主張した。

〔問 5〕 インドの思想に関する記述として適切なものは、次の 1～4 のうちのどれか。解答番号は 25。

- 1 ウパニシャッド哲学の中で、宇宙の根源はアートマンと呼ばれ、一方、個々人の根源はブラフマンと呼ばれる。
- 2 ゴータマ・シッダッタは、真理に対する無知である無明が煩惱の始まりにあるとした。
- 3 アサンガは、この世の一切のものは空であること、すなわち固定的な実体をもたず、縁起の法によって生滅することを論じた。
- 4 ナーガールジュナは、あらゆる物事は、実はただ心の作用である識がうみ出したあらわれにすぎないとする唯識思想を体系化した。

〔問 6〕 次の記述は、ある先哲の著作の一部である。この先哲に関する記述として適切なものは、下の 1～4 のうちのどれか。解答番号は 26 。

- 1 日常使う道具は、ある目的を達成する手段であって、その性質はあらかじめ決まっているが、人間は道具とは異なり、将来を選ぶ自由をもち、自己自身をつくりあげていく投企的存在であるとした。
- 2 実存を自覚した者は、孤独と絶望に耐えながら、互いに高め合うような実存的交わりを他者と結ぼうとし、それは、理性と愛をもって互いの真実を闘わせる、人間と人間との真摯な出会いにほかならないとした。
- 3 実存を、美的実存、倫理実存、宗教実存の三つの段階で説明した。宗教実存の段階では、単独者として神の前に立つことによって、信仰へと飛躍し、本来の主体的自己が回復されることになるとした。
- 4 「存在とは何か」を問う存在の問いを常にいだき、存在へと関わる人間の際立ったあり方を、単に存在するだけの事物と区別して、ダーザインと呼んだ。

[問 7] 次の記述は、ある先哲の著作の一部である。この先哲に関する記述として適切なものは、下の 1～4 のうちのどれか。解答番号は 27。

- 1 風土を類型化し、モンスーン地域の人々は、生命あふれる自然の力を受け入れ、暴威に対しては抵抗をあきらめることから、受容的・忍従的であるとした。
- 2 古代の日本人が信仰していた神は、人々の饗応を受ける「まれびと」として、海の彼方の不老不死の世界である「常世国」から訪れ、人々に豊穡をもたらして去ってゆくのだとした。
- 3 純粹経験とは、例えば、楽曲に心を奪われたり、絵画を描くことに没入したりするときに体験される、主客未分の直接的な世界の経験にほかならないとした。
- 4 日本文化が、諸外国の文化を受け入れて変容してきた「雑種」とあり、その雑種性を認めたうえで新たな可能性を模索していくことを示唆した。

〔問 8〕 次の記述は、ある先哲の著作の一部である。この先哲に関する記述として適切なものは、下の 1～4 のうちのどれか。解答番号は 28。

- 1 正しい教えである「法華経」が興隆すれば、災いが払われ、国土の安穩が実現するとし、  
て、「立正安国論」を著した。
- 2 「興禅護国論」を著し、戒律を守り、身と心を清浄にし、坐禅につとめるならば、真  
理を悟ることが可能になるとした。
- 3 念仏を称えれば信不信、浄不浄の別なく誰もが往生できると悟り、人々に「南無阿弥  
陀仏 決定往生 六十万人」と記した念仏札を配り、諸国を遊行し、踊念仏を広め、時  
宗の開祖となった。
- 4 人はそれぞれ生まれながらに悟りを備えているが、悟りは仏道修行をしなければあら  
われず、仏道修行は、ただひたすら坐禅に打ち込むことに極まり、いかなる人にも開か  
れているとした。

〔問 9〕 近代日本の思想に関する記述として適切なものは、次の 1～4 のうちのどれか。解答番  
号は 29。

- 1 南方熊楠は、日常的に庶民が用いる実用品の中にそれぞれの民族固有の美を発見し、  
民芸ということばで表現した。
- 2 丸山真男は、政府が神社合祀のもとに行った森林伐採に対し、神社は地域の人々の信  
仰の対象であり、貴重な自然環境を保存する機能をもつと主張し、鎮守の森の生態系の  
保護を訴えた。
- 3 小林秀雄は、近代日本において思想と呼ばれているものが単なる意匠にすぎないこと  
を批判し、批評という営みを通じて、思想家や芸術家の宿命を考察し、個としての自己  
の生き方を問い続けた。
- 4 柳宗悦は、日本の伝統は様々な思想を受け入れるが、互いに対立を避け、閉鎖的に雑  
居しているにしか過ぎないと指摘し、これをタコツボ型と呼んだ。




〔問10〕 生命倫理に関する記述として適切なものは、次の1～4のうちのどれか。解答番号は 

30
----

 。

- 1 出生前診断は、出産に備える目的から、胎児の健康状態や異常の有無を調べる検査である。出生前診断による中絶に対しては、生命の選別ではないかという倫理的な問題がある。
- 2 我が国では、1997年に臓器移植法が成立し、臓器提供の場合に限って脳死は人の死であるとされている。2009年の臓器移植法の改正により、本人の意思が不明な場合は、家族の承諾があっても、臓器を摘出することができなくなった。
- 3 人のDNAに含まれる遺伝情報には、本人の健康に関する情報は含まれているが、家族の健康に関する情報は含まれていないため、取扱いには倫理的課題はない。
- 4 機能が失われた組織や臓器に対して、細胞を積極的に利用することによって、機能を再生させる再生医療の研究が進んでいる。iPS細胞は、胚性幹細胞ともいい、受精卵から作られるため、人間生命の萌芽である受精卵を壊していいのかという倫理的な問題がある。







3 問題文中の  $\boxed{2}$ 、 $\boxed{34}$  などの  $\boxed{\quad}$  には、数字又は符号 (－) が入ります。次の(1)～(4)の方法でマークしてください。

(1)  $\boxed{2}$ 、 $\boxed{3}$ 、 $\boxed{4}$ 、……の一つ一つは、それぞれ1～9、0の数字又は符号 (－) のいずれか一つに対応します。それらを  $\boxed{2}$ 、 $\boxed{3}$ 、 $\boxed{4}$ 、……で示された解答欄にマークしてください。

例えば、 $\boxed{234}$  に  $-84$  と解答する場合には、次の(例2)のようにマークします。

(例2)

解答 番号	解答欄
$\boxed{2}$	① ② ③ ④ ⑤ ⑥ ⑦ ⑧ ⑨ ⑩ ●
$\boxed{3}$	① ② ③ ④ ⑤ ⑥ ⑦ ● ⑨ ⑩ ⊖
$\boxed{4}$	① ② ③ ● ⑤ ⑥ ⑦ ⑧ ⑨ ⑩ ⊖

なお、同一の問題文中に  $\boxed{2}$ 、 $\boxed{34}$  などが2度以上現れる場合、原則として、2度目以降は、 $\boxed{2}$ 、 $\boxed{34}$  のように細字で表記します。

(2) 分数形で解答する場合は、符号は分子に付け、分母に付けてはいけません。また、分数は既約分数で答えてください。

例えば、 $\frac{\boxed{56}}{\boxed{7}}$  に  $-\frac{4}{5}$  と解答する場合には、 $\frac{-4}{5}$  として、次の(例3)のように

マークします。

(例3)

解答 番号	解答欄
$\boxed{5}$	① ② ③ ④ ⑤ ⑥ ⑦ ⑧ ⑨ ⑩ ●
$\boxed{6}$	① ② ③ ● ⑤ ⑥ ⑦ ⑧ ⑨ ⑩ ⊖
$\boxed{7}$	① ② ③ ④ ● ⑥ ⑦ ⑧ ⑨ ⑩ ⊖

(3) 小数の形で解答する場合は、特に指示されていなければ、指定された桁数の一つ下の桁を四捨五入して答えてください。また、必要に応じて、指定された桁まで⑩にマークしてください。

例えば、 $\boxed{8.910}$  に  $2.6$  と解答する場合には、 $2.60$  として答えてください。

(4) 根号を含む形で解答する場合は、根号の中に現れる自然数が最小となる形で答えてください。

問題番号			解答 番号	正答	配点	備考
大問	小問					
1	問		1	4	5	
2	問1		2	1	5	
	問2		3	2	5	
	問3		4	2	5	
3	問1		5	3	5	
	問2		6	1	5	
	問3		7	1	5	
4	問1		8	3	5	
	問2		9	3	5	
	問3		10	1	5	
A	問1		11	2	5	
	問2		12	1	5	
	問3		13	3	5	
	問4		14	1	5	
	問5		15	3	5	
	問6		16	2	5	
	問7		17	2	5	
	問8		18	1	5	
	問9		19	3	5	
	問10		20	4	5	

問題番号			解答 番号	正答	配点	備考
大問	小問					
B	問1		21	3	5	
	問2		22	1	5	
	問3		23	3	5	
	問4		24	1	5	
	問5		25	2	5	
	問6		26	3	5	
	問7		27	1	5	
	問8		28	4	5	
	問9		29	3	5	
	問10		30	1	5	