

令和7年度兵庫県公立学校教員採用候補者選考試験

試験 区分	一般教養
----------	------

受験中の心得

- 試験時間中は、試験委員の指示に従うこと。お互いに話をしたり、席を立ったり、その他、人の迷惑になるようなことはしないこと。
 - 解答は、すべて解答用紙にマークすること。
 - 解答用紙には解答欄以外に次の記入欄があるので、試験委員の指示に従って、それぞれ正しく記入し、マーク例にしたがってマークすること。
 - 受験番号欄
受験番号（数字）を記入し、さらにその下のマーク欄にマークすること。正しくマークされていない場合は、採点できないことがあるので、注意すること。
 - 名前欄
名前、フリガナを記入すること。
 - 年月日欄
次のように、6年7月21日と記入すること。

年	月	日
6	7	21
 - 受験区分、教科欄
受験する受験区分、教科を記入すること。
 - 解答はすべて、解答用紙の解答欄に、マーク例にしたがってマークすること。2つ以上マークしている場合は採点されないので、注意すること。
例えば、

10

と表示のある問いに対して、

イ

と解答する場合は、次の例のように、問10の解答欄の

イ

 にマークすること。
- (例)
- | 問 | 解答欄 | | | | |
|----|---|---|---|---|---|
| 10 | <table border="1"><tr><td>ア</td><td>イ</td><td>ウ</td><td>エ</td></tr></table> | ア | イ | ウ | エ |
| ア | イ | ウ | エ | | |
- 試験時間を確認し、時間配分に留意すること。
- 試験問題に落丁、乱丁、印刷不鮮明の箇所及び解答用紙の汚れがあった場合、又は質問のある場合等は黙って手を挙げること。
- その他、試験委員から注意されたことをよく守ること。
- この問題冊子は持ち帰ってもよい。

指示があるまで中をあけないでください

問1 「包丁をとぐ」の「と」と同じ漢字を、次のア～エから1つ選びなさい。 1

ア ケン康 イ ケン約 ウ ケン究 エ ケン固

問2 次の四字熟語A～Dの【 】にそれぞれ入る漢字の組合せとして適切なものを、あとのア～エから1つ選びなさい。

2

A 閑話休【 】 B 時期【 】早 C 虚々【 】々 D 大胆不【 】

ア A： 台 B： 小 C： 実 D： 適

イ A： 題 B： 尚 C： 実 D： 敵

ウ A： 台 B： 尚 C： 偽 D： 適

エ A： 題 B： 小 C： 偽 D： 敵

問3 ことわざ・慣用句を用いた短文として適切なでないものを、次のア～エから1つ選びなさい。 3

ア 仕事でミスをした後輩を励ましたが、「情けは人のためならず」と反省した。

イ ホラー映画好きの彼女は、私からすると「たで食う虫も好き好き」の一言だ。

ウ 「手をこまねいている」と、取りかえしのつかない事態になりかねない。

エ 久しぶりの友人からの手紙は、「木で鼻をくくる」ような内容だった。

問4 次の文章は、ある小説の冒頭である。この小説の作者の説明として適切なものを、あとのア～エから1つ選びなさい。

4

「ある日の事でございます。お釈迦様は極楽の蓮池のふちを、ひとりでぶらぶらお歩きになっていらっしゃいました。」

ア 松山や熊本の旧制中学・高校で英語の教師をし、『坊ちゃん』という小説を書いている。

イ 当時の世情を風刺し、人間の孤独や愚かさを仮託した『山椒魚』という小説を書いている。

ウ 陸軍の軍医としてドイツに留学し、帰国後、日本人留学生とドイツの女性との悲恋を描いた『舞姫』という小説を書いている。

エ 絵の才能があり、河童の絵を好んで描き、晩年には『河童』という小説を書いている。

問5 社会や生活の変化によって、新しい事柄や考え方、制度が生まれるとそれらを表す新しい語句が必要になる。漢字や熟語を組み合わせて作られた語句の説明として適切なでないものを、次のア～エから1つ選びなさい。 5

ア 「中食」とは、店で買い、家に持ち帰ると、すぐに食べられる調理済みの食品のこと。

イ 「公助」とは、災害発生時などに、同じ自治体に住む住民同士で行われる援助のこと。

ウ 「人道回廊」とは、武力紛争の際、民間人の避難や支援物資の輸送を目的とした安全が一時的に保証された経路のこと。

エ 「地球沸騰化」とは、「地球温暖化」ではすまないほど世界の気温が急激に上昇すること。

問6 次の文章は、『源氏物語』の一節である。下線部「辰巳」の意味として適切なものを、あとのア～エから1つ選びなさい。

6

「八月にぞ、六条院造り果てて渡りたまふ。未申の町は、中宮の御旧宮なれば、やがておはしますべし。辰巳は、殿のおはすべき町なり。丑寅は、東の院に住みたまふ対の御方、戌亥の町は、明石の御方と思しおきてさせたまへり。」

ア 南東 イ 北西 ウ 北東 エ 南西

問7 百人一首のうち、旅をテーマとする和歌として適切なものを、次のア～エから1つ選びなさい。 7

ア あしひきの山鳥の尾の垂り尾の長々し夜を独りかも寝む 柿本人麻呂

イ ちはやぶる神代も聞かず竜田川から紅に水くくるとは 在原業平

ウ 花の色は移りにけりないたづらに我が身世にふるながめせしまに 小野小町

エ 天の原降りさけ見れば春日なる三笠の山に出でし月かも 安倍仲磨

問8 右の漢文の意味は、「死んだ馬でさえ大金でこれを買うのだ。まして生きた馬ならもっと大金で買ってもらえると考えるのはいうまでもない。」である。書き下し文として適切なものを、次のア～エから1つ選びなさい。 8

ア しばはなおこれをかうごとし。あにいけるものをや。

イ しばまさにこれをかはんとす。せいにくらぶものならんや。

ウ しばすらかつこれをかふ。いはんやいけるものをや。

エ しばはしばらくこれをかはん。いはんやいけるものならんか。

況 死
生 馬
者 且
乎 買
之 之。

問9 兵庫県の地理について述べた文として適切でないものを、次のア～エから1つ選びなさい。 9

- ア 兵庫県の県庁所在地である神戸市は、淡路島と明石海峡大橋で結ばれている。
- イ 兵庫県の中央部には中国山地があり、北部は山々が連なり、南部は平野が広がっている。
- ウ 兵庫県南西部は瀬戸内の気候で降水量が少ないため、ため池が多くある。
- エ 兵庫県は大阪府、京都府、島根県、岡山県に隣接している。

問10 次の表は、近畿地方の各府県の「農産物産出額」について、農林水産省の「令和4年生産農業所得統計」より作成したものである。表中のA～Dのうち兵庫県にあてはまるものを、あとのア～エから1つ選びなさい。 10

表 近畿地方の各府県別農作物産出額の順位（上位5品目）

	A		B		C		奈良		和歌山		D	
	農産物	産出額(億円)	農産物	産出額(億円)	農産物	産出額(億円)	農産物	産出額(億円)	農産物	産出額(億円)	農産物	産出額(億円)
1位	米	156	米	412	米	54	米	89	みかん	292	米	301
2位	鶏卵	62	鶏卵	210	ぶどう	37	かき	53	うめ	190	肉用牛	76
3位	ねぎ	37	肉用牛	180	ねぎ	30	いちご	36	かき	92	生乳	22
4位	生乳	37	たまねぎ	150	みかん	19	生乳	29	米	69	大豆	21
5位	荒茶	36	生乳	100	なす	19	鶏卵	14	もも	59	いちご	12

- ア A イ B ウ C エ D

問11 兵庫県はかつての「摂津・播磨・但馬・丹波・淡路」という五国からできている。かつての「播磨」とよばれた地域にある都市として適切なものを、次のア～エから1つ選びなさい。 11

- ア 洲本市 イ 豊岡市 ウ 明石市 エ 尼崎市

問12 右の写真は、鎌倉時代の大仏様建築の傑作といわれている兵庫県小野市にある浄土寺浄土堂である。同じく鎌倉時代に建てられた建築物として適切なものを、次のア～エから1つ選びなさい。 12

- ア 東大寺南大門
- イ 慈照寺東求堂
- ウ 平等院鳳凰堂
- エ 鹿苑寺金閣



問13 次のA～Cの出来事について、年代の古い順に並べたものとして適切なものを、あとのア～エから1つ選びなさい。 13

- A 日清戦争後に下関条約が結ばれた。
 - B 日本が韓国を併合した。
 - C 太政官制が廃止され、内閣制度がつけられた。
- ア C→A→B イ C→B→A ウ A→B→C エ A→C→B

問14 右の表中の（ A ）の時期の出来事として適切なものを、次のア～エから1つ選びなさい。 14

- ア キューバ危機が起こる。
- イ サンフランシスコ講和会議が開かれる。
- ウ 第四次中東戦争が起こる。
- エ アジア・アフリカ会議が開かれる。

1965	ベトナム戦争が起こる。
	（ A ）
1990	東西ドイツが統一される。

問15 1950年に設立され、世界の難民の保護と支援を行う国連の機関として適切なものを、次のア～エから1つ選びなさい。 15

- ア UNESCO イ WTO ウ IAEA エ UNHCR

問16 為替相場（為替レート）について述べた文として適切なものを、次のア～エから1つ選びなさい。 16

- ア 円高が進むと、主に商品を海外から輸入する企業にとっては競争上不利となる。
- イ 円安が進むと、主に商品を海外へ輸出する企業にとっては競争上有利となる。
- ウ 円高になると、外貨に対する円の価値が低くなる。
- エ 円安になると、外貨に対する円の価値が高くなる。

問17 次のデータは、20人の生徒に10点満点のテストを行ったときの得点を並べたものである。20人の得点の中央値（メジアン）として適切なものを、あとのア～エから1つ選びなさい。 17

データ

8 1 7 6 3 9 5 5 7 10 9 5 5 8 4 5 8 7 8 6

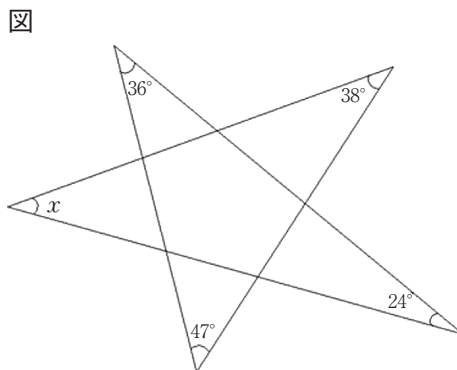
ア 5 イ 5.5 ウ 6 エ 6.5

問18 大小2つのさいころを同時に1回だけ投げたとき、出る目の数の積が6の倍数になる確率として適切なものを、次のア～エから1つ選びなさい。 18

ア $\frac{2}{9}$ イ $\frac{1}{4}$ ウ $\frac{5}{12}$ エ $\frac{4}{9}$

問19 右の図において、 $\angle x$ の大きさとして適切なものを、次のア～エから1つ選びなさい。 19

ア 35°
イ 36°
ウ 37°
エ 38°



問20 ある商品を10個買おうとしたが、持っている金額では200円足りないので、9個買うことにすると120円余ることがわかった。持っている金額として適切なものを、次のア～エから1つ選びなさい。ただし、消費税は考えないものとする。

20
ア 2500円 イ 3000円 ウ 3500円 エ 4000円

問21 千切りにした紫キャベツを煮出した青い煮汁を2つの大型試験管A、Bに分けた。Aに入った青い煮汁にレモン汁を加えたところ赤紫色になった。Bに入った青い煮汁にある物質を加えたところ赤紫色になった。Bに加えたある物質として適切なものを、次のア～エから1つ選びなさい。 21

ア 涙 イ 海水 ウ 石けん水 エ 食酢

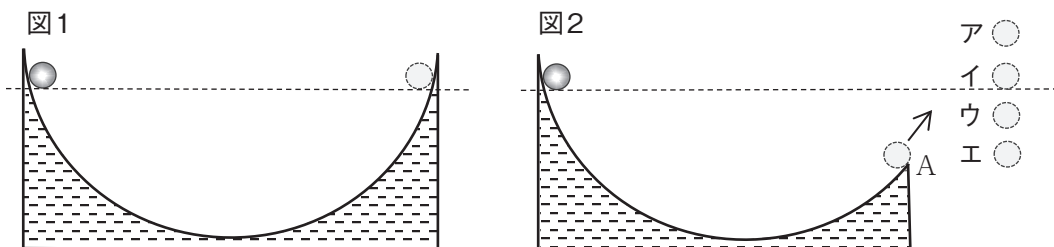
問22 冬の時期に見える「冬の大三角」を構成する星として適切なでないものを、次のア～エから1つ選びなさい。 22

ア シリウス イ デネブ ウ ベテルギウス エ プロキオン

問23 エンドウの種子の形には丸いものとしわのあるものがあり、種子の形は一对の対立遺伝子によって決まっている。代々丸い種子を作る系統の個体と代々しわのある種子を作る系統の個体とを掛け合わせると、できた種子は全て丸いものであった。このできた種子を育て、しわのある種子を作る系統の個体とを掛け合わせるとき、できる種子の形の比は次のようになった。

丸い種子：しわのある種子 = 【 】
【 】に入る比として適切なものを、次のア～エから1つ選びなさい。 23
ア 1：1 イ 3：1 ウ 1：0 エ 0：1

問24 なめらかな曲面状の斜面で、左側のある高さから小球を静かに放すと、小球は斜面上を転がり、右側の斜面上で、はじめと同じ高さまで上った（図1）。次に、図2のように右側の端Aがはじめの高さより低い斜面で、同様に小球を静かに放すと小球は斜面上を転がり、端Aから空中へ飛び出した。この後の小球の達する最高点の高さとして最も適切なものを、あとのア～エから1つ選びなさい。ただし、摩擦力や空気抵抗の影響は考えないものとする。 24



ア はじめの高さより上の高さ イ はじめと同じ高さ ウ はじめの高さと点Aの間の高さ エ 点Aと同じ高さ

問25 次の文の () に入る適切なものを、あとのア～エから1つ選びなさい。 25

I am () of unique cultures of my town.

- ア ready イ difficult ウ expensive エ proud

問26 次の文の () に入る適切なものを、あとのア～エから1つ選びなさい。 26

The Akashi Kaikyo Bridge was () in 1998.

- ア built イ building ウ build エ builds

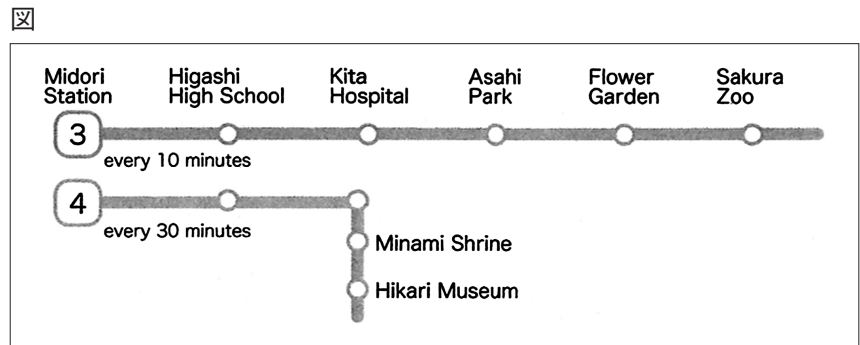
問27 次の会話を読んで、() に入る最も適切なものを、あとのア～エから1つ選びなさい。 27

- A : Hello, this is Habatan Company.
 B : Hello, my name is Chris. Can I speak to Mr. Maeda?
 A : I'm sorry. He is not in the office now.
 B : OK. ()
 ア It's my turn. イ I'll call back later. ウ I agree with you. エ That's a good idea.

問28 右の図は、バスの路線を表している。次の会話を読んで、(①)、(②) に入る語の組合せとして最も適切なものを、あとのア～エから1つ選びなさい。 28

(The conversation is taking place at Midori Station.)

- A : Excuse me. Which bus goes to Hikari Museum?
 B : Take No. 4. It is the (①) stop.
 A : How often does the bus come?
 B : It comes every (②) minutes.
 A : Thank you very much.
 B : You're welcome.



- ア ① : fifth ② : thirty
- イ ① : fourth ② : ten
- ウ ① : fourth ② : thirty
- エ ① : fifth ② : ten

問29 次の英文をを読んで、(①)、(②) に入る語の組合せとして最も適切なものを、あとのア～エから1つ選びなさい。 29

Global warming is a major issue. The temperature is (①) around the world. As a result, the Arctic ice is melting and the sea level is (②). We should act eco-friendly to solve the problem.

- ア ① : falling ② : rising
- イ ① : rising ② : falling
- ウ ① : rising ② : rising
- エ ① : falling ② : falling

問30 次の図は、イベントに関する掲示を表している。あとの英文をを読んで、() に入る最も適切なものを、下のア～エから1つ選びなさい。 30

To the students

English Parties @ Nojigiku High School

1st Party Date : June 17 Time : During lunch break Place : The school yard
 Let's eat lunch together and talk about Japanese foods.
 If you want to come, please tell me by June 12.

2nd Party Date : June 24 Time : After school Place : The music room
 Please tell me about your favorite song. Let's sing together.
 If you want to come, please tell me by June 19. *Please come if you can!*

Your new ALT, Williams

If you want to join the second English party, you have to tell Mr. Williams by ().

- ア June 12 イ June 24 ウ June 17 エ June 19

問31 次の英文を読んで、()に入る最も適切なものを、あとのア～エから1つ選びなさい。 31

A () is a city which usually has the central government of a country.

ア capital イ neighborhood ウ community エ society

問32 話の流れに合うように、()内にあとのア～エを並びかえて文章を完成させたとき、左から3番目となるものを1つ選びなさい。 32

AI technology has made great progress. (→ → →) So, we have to find a better way to live together with AI technology.

ア For example, it can find diseases like cancer better and faster than humans.

イ However, some experts say we should know the bad points of it.

ウ In addition to that, it can do operations more correctly than humans.

エ Some of them say AI will do everything in the future and humans may lose our jobs.

問33 令和6年度「指導の重点」には、「あらゆる場面でICTの活用を推進し、情報活用能力（情報モラルを含む）を着実に育成する。」とあるが、ICTの正式名称として適切なものを、次のア～エから1つ選びなさい。 33

ア Internet and Communication Technology

イ Internet and Customer Technology

ウ Information and Customer Technology

エ Information and Communication Technology

問34 コンピュータを構成する五大装置の組合せとして適切なものを、次のア～エから1つ選びなさい。 34

ア 入力装置・主記憶装置・演算装置・制御装置・出力装置

イ 入力装置・主記録装置・計算装置・抑制装置・出力装置

ウ 入力装置・主記録装置・計算装置・制御装置・出力装置

エ 入力装置・主記憶装置・演算装置・抑制装置・出力装置

問35 コンピュータウイルスの感染予防策について説明した文として適切なでないものを、次のア～エから1つ選びなさい。

35

ア ウイルス対策ソフトウェアの導入と定義ファイルの更新を行うこと。

イ メールに添付されてきたファイルやダウンロードしたファイルをそのまま開くこと。

ウ アプリやOSを最新の状態に保つこと。

エ 怪しいウェブサイトには、アクセスしないこと。

問36 10進数「580」を2進数に変換した結果として適切なものを、次のア～エから1つ選びなさい。 36

ア 1100111010 イ 1010001011 ウ 1001000100 エ 1100101001

問37 インターネットで通信するときには、数多くのプロトコルが必要で、それらの処理を個別に行うと大変複雑になる。そのため、それらのプロトコルを階層分けにして構成し、効率的に処理管理している。インターネットプロトコルスイート第4層（アプリケーション層）の機能として適切なものを、次のア～エから1つ選びなさい。 37

ア 作られたデータに対し、正しくデータを送信・受信するための情報を追加して、通信された内容が正しく届いたかをチェックし、誤ったデータや不足したデータがあれば再送などの処理を行う。

イ 情報先の情報機器がどこにあるかを見つけ、作られたデータに対し送信先の住所にあたる情報（IPアドレス）を追加する。

ウ 作られたデータに対し、通信回線をつなぐ部品の形や通信線を作る信号などの情報を追加する。

エ 「ウェブページを見る」「電子メールを送る」などのインターネットの各サービスに応じたプロトコルを選び、通信したいデータに対し、各プロトコルに従った情報を追加する。

問38 インターネットの情報セキュリティの3要素の組合せとして適切なものを、次のア～エから1つ選びなさい。 38

ア 機密性・信頼性・責任追及性

イ 機密性・真正性・完全性

ウ 機密性・完全性・可用性

エ 機密性・真正性・否認防止性

問39 コンピュータなどの画面を長時間見続けることで、肩こり、目の疲れ、頭痛などの不調をきたすことがある。この名称として適切なものを、次のア～エから1つ選びなさい。 39

ア テクノ依存症

イ VDT症候群

ウ インターネット依存症

エ テクノ不安症

問40 次の表の順位を、表計算ソフトを用いて処理したい。売上金額の大きい順に順位をつける場合、セルF4に入力する設定を行い、セルF8までコピーしてペーストするときにセルF4に入る適切なものを、あとのア～エから1つ選びなさい。 40

表

	A	B	C	D	E	F
1						
2		売上一覧表				
3		商品名	注文数	単価	売上金額	順位
4		カレー	174	600	104,400	
5		かつ丼	98	750	73,500	
6		親子丼	101	700	70,700	
7		うどん	235	450	105,750	
8		そば	265	500	132,500	

なお、使用する表計算ソフトウェアは以下のとおりである。

RANK関数
 順序に従って範囲内の数値を並び替えたとき、数値が何番目に位置するかを返す。
 RANK(数値, 参照, 順序)


- ア =RANK(E4,\$E\$4:\$E\$8,0)
- イ =RANK(E4,E4:E8,1)
- ウ =RANK(E4,\$E\$4:\$E\$8,1)
- エ =RANK(E4,E4:E8,0)

問41 一番低い音を出すことができる弦楽器として適切なものを、次のア～エから1つ選びなさい。 41

- ア ビオラ イ チェロ ウ コントラバス エ バイオリン

問42 右の図の錯視の名称として適切なものを、次のア～エから1つ選びなさい。 42

- ア 大きさ錯視
- イ 色彩錯視
- ウ 長さ錯視
- エ 形状錯視



問43 心肺蘇生法について、大人に対して行う胸骨圧迫の方法として適切でないものを、次のア～エから1つ選びなさい。

- 43
- ア 胸骨が少なくとも5cm沈む程度で押す。
 - イ 平常の拍動に合わせて1分間に70～80回のペースで圧迫する。
 - ウ 胸骨の下半分の位置に手のひらの付け根を当て、その上にもう一方の手を重ねて置いて、垂直に力を入れる。
 - エ 圧迫解除時には胸を完全に元の位置に戻し、力がかからないようにする。

問44 令和5年6月に閣議決定された第4期「教育振興基本計画」の今後の教育政策に関する基本的な方針として適切でないものを、次のア～エから1つ選びなさい。 44

- ア 誰一人取り残されず、全ての人の可能性を引き出す共生社会の実現に向けた教育の推進
- イ 地域社会の担い手となるため、NPO法人の設立に向けた教育の推進
- ウ グローバル化する社会の持続的な発展に向けて学び続ける人材の育成
- エ 教育デジタルトランスフォーメーション(DX)の推進

問45 第4期「ひょうご教育創造プラン」の3つの基本方針として定められていないものを、次のア～エから1つ選びなさい。

45

- ア 地域や家庭で共に学び支え合う社会の実現に向けた教育の推進
- イ 安心・安全で質の高い学びを実現する教育環境の整備・充実
- ウ すべての子どもたちが自分らしく安心して過ごせる学校・家庭・地域等の構築
- エ 予測困難な時代を生き抜く力を育む教育の推進

問46 「誰一人取り残されない学びの保障に向けた不登校対策（COCOLOプラン）」（文部科学省 令和5年3月31日）で示されている取組内容として適切でないものを、次のア～エから1つ選びなさい。 46

- ア 学校の風土の「見える化」を通して、学校を「みんなが安心して学べる」場所にする。
- イ 心の小さなSOSを見逃さず、「チーム学校」で支援する。
- ウ 各都道府県教育委員会に、「誰一人取り残されない学びの保障に向けた不登校対策推進本部」を設置する。
- エ 不登校の児童生徒全ての学びの場を確保し、学びたいと思った時に学べる環境を整える。

問47 校内研修資料「『多様な性』に対する正しい理解のために」（兵庫県教育委員会 令和5年8月）で示されている内容として適切でないものを、次のア～エから1つ選びなさい。 47

- ア 合理的配慮の考え方にに基づき、他の児童生徒への指導や対応とのバランスを考えながら、支援していくことが重要である。
- イ 学級・ホームルームにおいては、いかなる理由でもいじめや差別を許さない適切な生徒指導・人権教育を推進することが、悩みや不安を抱える児童生徒に対する支援の土台となる。
- ウ 性的マイノリティの児童生徒やその保護者は、性的指向や性自認等について、他の児童生徒だけでなく、教職員に対しても秘匿しておきたい場合がある。
- エ 中学校や高等学校への進学の際には、本人の承諾を得なくとも、進学先の学校と連携し、当該児童生徒について引き継ぎをすることも重要である。

問48 「生徒指導提要（改訂版）」（文部科学省 令和4年12月）における「発達支持的生徒指導」の説明として適切なものを、次のア～エから1つ選びなさい。 48

- ア 全ての児童生徒を対象に、生徒指導の諸課題の未然防止をねらいとした、意図的・組織的・系統的な教育プログラムの実施を行う。
- イ 全ての児童生徒を対象に、学校の教育目標の実現に向けて、教育課程内外の全ての教育活動において進められる生徒指導の基盤となるもの。
- ウ 気になる一部の児童生徒を対象に、深刻な問題に発展しないように、初期の段階で諸課題を発見し対応を行う。
- エ 特別な指導・援助を必要とする特定の児童生徒を対象に、校内の教職員（教員、SC、SSW等）だけでなく、校外の教育委員会等との連携・協働による課題対応を行う。

問49 「兵庫県特別支援教育第四次推進計画」（兵庫県教育委員会 令和6年3月）で示されている兵庫県がめざす特別支援教育の内容として適切でないものを、次のア～エから1つ選びなさい。 49

- ア 小・中学校、高等学校のセンター的機能を活用した専門性向上の取組
- イ すべての子どもが認め合い、安心して学べる環境
- ウ 切れ目ない一貫した支援
- エ 幼児児童生徒に応じた合理的配慮の提供

問50 「通常の学級に在籍する特別な教育的支援を必要とする児童生徒に関する調査結果（令和4年）について」（文部科学省 令和4年12月13日）における内容として適切でないものを、次のア～エから1つ選びなさい。 50

- ア 本調査は、平成24年に実施後、10年が経過してから実施した。
- イ 本調査は、発達障害のある児童生徒数の割合を示すものではない。
- ウ 小学校・中学校では、「『行動面』よりも『学習面』で著しい困難を示す」とされた児童生徒の割合が高かった。
- エ 高等学校では、「学習面と行動面ともに著しい困難を示す」とされた生徒の割合が最も高かった。

令7 一般教養 模範解答

1	2	3	4	5	6	7	8	9	10
ウ	イ	ア	エ	イ	ア	エ	ウ	エ	イ

11	12	13	14	15	16	17	18	19	20
ウ	ア	ア	ウ	エ	イ	エ	ウ	ア	イ

21	22	23	24	25	26	27	28	29	30
エ	イ	ア	ウ	エ	ア	イ	ウ	ウ	エ

31	32	33	34	35	36	37	38	39	40
ア	イ	エ	ア	イ	ウ	エ	ウ	イ	ア

41	42	43	44	45	46	47	48	49	50
ウ	ア	イ	イ	ア	ウ	エ	イ	ア	エ

各2点