

高等学校 地理歴史（世界史）

解答についての注意点

- 1 解答用紙は、マーク式解答用紙と記述式解答用紙の2種類があります。
- 2 大問 **1** ~大問 **4** については、マーク式解答用紙に、大問 **5** については、記述式解答用紙に記入してください。
- 3 解答用紙が配付されたら、まずマーク式解答用紙に受験番号等を記入し、受験番号に対応する数字を、鉛筆で黒くぬりつぶしてください。
記述式解答用紙は、全ての用紙の上部に受験番号のみを記入してください。
- 4 大問 **1** ~大問 **4** の解答は、選択肢のうちから、**問題で指示された解答番号**の欄にある数字のうち一つを黒くぬりつぶしてください。
例えば、「解答番号は 」と表示のある問題に対して、「**3**」と解答する場合は、解答番号 の欄に並んでいる ① ② ③ ④ ⑤ の中の ③ を黒くぬりつぶしてください。
- 5 間違ってぬりつぶしたときは、消しゴムできれいに消してください。二つ以上ぬりつぶされている場合は、その解答は無効となります。
- 6 その他、係員が注意したことをよく守ってください。

指示があるまで中をあけてはいけません。

1 日本史について、(1)～(7)の問いに答えよ。

(1) 次のア～オのうち、平安時代に起きた出来事について説明したものとして、正しいものを○、誤っているものを×とした場合、正しい組合せはどれか。下の1～5から一つ選べ。

解答番号は

- ア 藤原良房は応天門の変で地盤を固め正式に摂政となった。
- イ 後三条天皇のもとで菅原道真が右大臣になるが、901年に大宰権帥に左遷された。
- ウ 藤原頼通は宇治に平等院鳳凰堂を建立した。
- エ 藤原道長は清和天皇を立て、太政大臣となり、摂政・関白が常置される基盤を作った。
- オ 藤原基経は光厳天皇を立て、実質上の関白となった。

	ア	イ	ウ	エ	オ
1	○	×	○	×	○
2	×	×	×	○	○
3	○	×	○	×	×
4	×	○	○	○	×
5	○	○	×	×	×

(2) 次のア～オのうち、12世紀に起きた出来事について説明したものとして、正しいものを○、誤っているものを×とした場合、正しい組合せはどれか。下の1～5から一つ選べ。

解答番号は

- ア 源義経は関門海峡の壇ノ浦の戦いで平氏軍を全滅させた。
- イ 源頼朝は源範頼と源義経を派遣し源義仲を討伐した。
- ウ 藤原通憲（信西）は源義朝、源頼朝と結んで平治の乱で藤原信頼に勝利した。
- エ 源義経は藤原泰衡が平氏に加担したとして、本拠地である奥州平泉を攻め滅ぼした。
- オ 源義仲は倶利伽羅峠の戦い（砺波山の戦い）で平維盛の軍勢を破った。

	ア	イ	ウ	エ	オ
1	○	○	×	×	○
2	○	○	○	×	○
3	○	×	×	×	○
4	×	×	○	○	×
5	×	○	○	○	×

(3) 次のア～オのうち、15世紀～16世紀に起きた出来事について説明したものとして、正しいものを○、誤っているものを×とした場合、正しい組合せはどれか。下の1～5から一つ選べ。

解答番号は

- ア 今川氏は領国内の基本法典として今川仮名目録を制定した。
- イ 畠山政長、畠山義就の両軍を退陣させるために山城国一揆が起きた。
- ウ 織田信長が全国に刀狩令を出した。
- エ 石山本願寺一揆（石山合戦）で石山本願寺は豊臣秀吉に降伏した。
- オ 姉川の戦いで武田氏と上杉氏が衝突し、武田氏が勝利した。

	ア	イ	ウ	エ	オ
1	○	○	×	×	○
2	×	○	×	×	○
3	○	○	×	×	×
4	×	×	○	○	×
5	○	×	○	×	○

(4) 江戸時代における次のア～オの出来事を、古い順に左から右へ並べた場合、正しいものはどれか。

下の1～5から一つ選べ。解答番号は

- ア 島原の乱が起こった。
- イ 禁中並公家諸法度が出された。
- ウ 平戸のオランダ商館を長崎出島に移した。
- エ 大坂冬の陣が起こった。
- オ 参勤交代が正式に制度化された。

1	イ → ア → オ → エ → ウ
2	エ → ウ → イ → ア → オ
3	イ → エ → ウ → オ → ア
4	エ → イ → オ → ア → ウ
5	イ → エ → オ → ウ → ア

(5) 19世紀における次のア～オの出来事を、古い順に左から右へ並べた場合、正しいものはどれか。

下の1～5から一つ選べ。解答番号は

- ア 薩長同盟が結ばれた。
- イ 鳥羽・伏見の戦いが起こった。
- ウ 薩英戦争が起こった。
- エ 桜田門外の変が起こった。
- オ 禁門の変（蛤御門の変）が起こった。

- 1 エ → オ → ウ → ア → イ
- 2 オ → ウ → エ → イ → ア
- 3 オ → エ → ウ → ア → イ
- 4 エ → ウ → オ → ア → イ
- 5 エ → ウ → オ → イ → ア

(6) 次のア～オのうち、明治時代の文学作品とその作者の組合せとして、正しいものを○、誤っているものを×とした場合、正しい組合せはどれか。下の1～5から一つ選べ。

解答番号は

- ア 「浮雲」 — 二葉亭四迷
- イ 「たけくらべ」 — 与謝野晶子
- ウ 「小説神髓」 — 島崎藤村
- エ 「金色夜叉」 — 尾崎紅葉
- オ 「一握の砂」 — 正岡子規

- | | ア | イ | ウ | エ | オ |
|---|---|---|---|---|---|
| 1 | ○ | × | ○ | × | × |
| 2 | ○ | × | × | ○ | × |
| 3 | ○ | ○ | × | × | ○ |
| 4 | × | × | × | ○ | × |
| 5 | × | ○ | ○ | ○ | ○ |

(7) 明治時代における次のア～オの出来事を、古い順に左から右へ並べた場合、正しいものはどれか。

下の 1～5 から一つ選べ。解答番号は

- ア 治安警察法が公布された。
- イ 下関条約が調印された。
- ウ ポーツマス条約が調印された。
- エ 鉄道国有法が公布された。
- オ 官営製鉄所として八幡製鉄所の操業が開始された。

- 1 ア → イ → ウ → エ → オ
- 2 ア → イ → オ → ウ → エ
- 3 イ → ア → ウ → オ → エ
- 4 イ → オ → ア → ウ → エ
- 5 イ → ア → オ → ウ → エ

2 次の問1～問2の問いに答えよ。

問1 次の文章は、2025年（令和7年）4月から開催される2025年日本国際博覧会（以下「大阪・関西万博」という）について述べたものである。次の（1）～（4）の問いに答えよ。

国際博覧会（万博）は、世界中からたくさんの人やモノが集まるイベントで、地球規模のさまざまな課題に取り組むために、世界各地から英知が集まる場です。大阪・関西万博では①カナダ、ドイツ、フランスなど各国がパビリオンを出展する予定です。

2024年（令和6年）3月14日現在における大阪・関西万博への公式参加表明国・地域、国際機関は、161か国・地域、9国際機関となり、9国際機関には、②東南アジア諸国連合（ASEAN）事務局も含まれています。また、2005年（平成17年）に日本国際博覧会（愛知万博）が開催された③愛知県も大阪・関西万博に④名古屋市と共同で出展する予定です。

（1）下線部①の国に関して次の（i）～（iii）の問いに答えよ。

（i）下の表1は、2021年におけるカナダ、韓国、ドイツ、ブラジル、フランスの発電量とその内訳（％）を示したものである。カナダとドイツに該当する正しい組合せはどれか。1～5から一つ選べ。解答番号は

表1

	発電量の合計 (億 kWh)	火力 (%)	水力 (%)	原子力 (%)	再生可能 エネルギー (%)
ア	6,430	18.0	59.5	14.4	8.0
イ	5,553	8.4	11.5	68.3	11.8
ウ	6,118	66.5	1.1	25.8	6.6
エ	6,561	20.0	55.3	2.2	22.4
オ	5,883	46.7	4.2	11.7	37.3

フランスにはモナコを含む。

再生可能エネルギーは水力を除く、風力・地熱・太陽光・バイオ燃料・潮力など。

（『データブック オブ・ザ・ワールド』2024年版より作成）

	カナダ	ドイツ
1	ア	ウ
2	ア	オ
3	エ	オ
4	イ	エ
5	エ	ウ

(ii) 日本は多くの木材をカナダから輸入している。下の図1は、2021年における木材の伐採量が多い上位5か国とその割合を、図2は2022年における日本の木材輸入先上位5か国とその割合をそれぞれ示したものである。図1及び図2中の国A、B、Cに該当する正しい組合せはどれか。1～5から一つ選べ。解答番号は

図1

2021年における木材の伐採量が多い上位5か国とその割合(%)

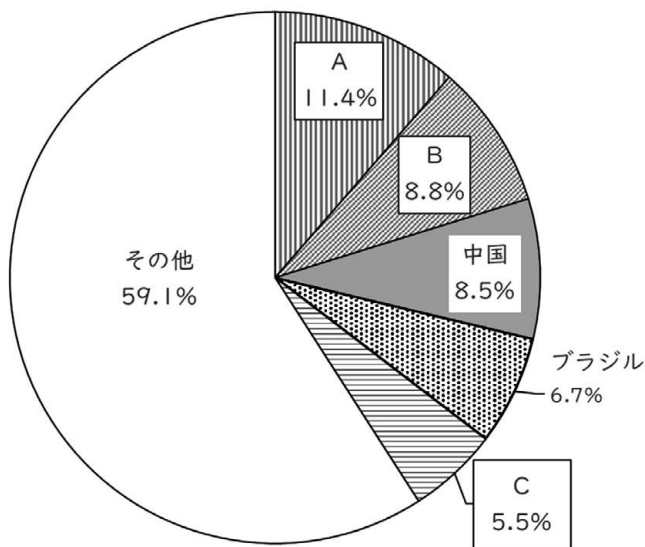
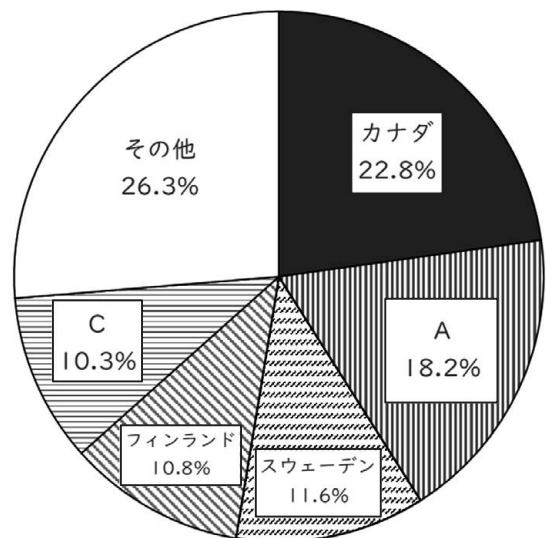


図2

2022年における日本の木材輸入先上位5か国とその割合(%)



(『データブック オブ・ザ・ワールド』2024年版より作成)

	A	B	C
1	アメリカ合衆国	インド	ロシア
2	アメリカ合衆国	ロシア	オーストラリア
3	ロシア	オーストラリア	アメリカ合衆国
4	オーストラリア	アメリカ合衆国	ロシア
5	オーストラリア	インド	アメリカ合衆国

(iii) フランスのナント付近に、地球上の陸地の含まれる割合が最も高くなる陸半球の中心がある。陸半球の中心の経緯度が、北緯47度13分、西経1度32分と考えた場合、対蹠点に位置する水半球の中心の経緯度として、正しいものはどれか。1～5から一つ選べ。

解答番号は

- 1 南緯42度47分、東経1度32分
- 2 南緯42度47分、東経178度28分
- 3 南緯47度13分、西経1度32分
- 4 南緯47度13分、東経132度28分
- 5 南緯47度13分、東経178度28分

(2) 下の図3は東南アジアを示したものであり、図3中のA～Gは国を示している。下線部②に加盟する国々について説明している文章として正しいものはどれか。1～5から一つ選べ。

解答番号は

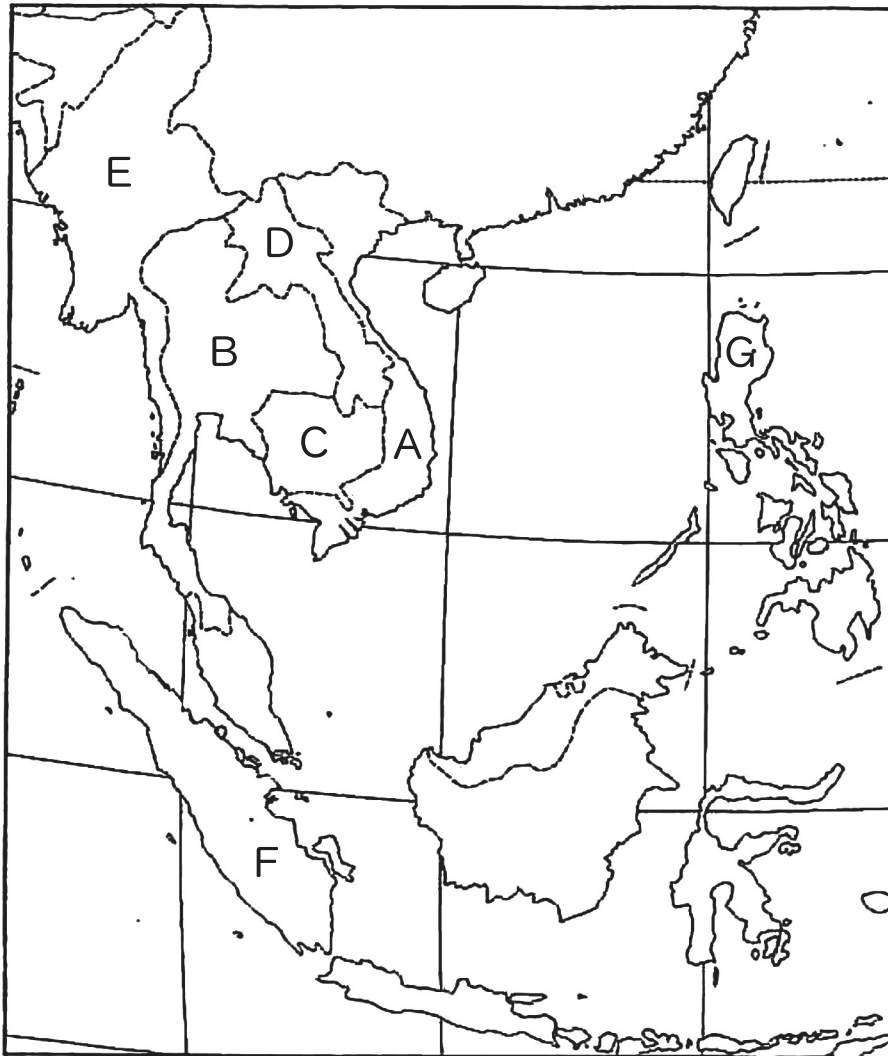


図3

- 1 A国のホイアンやダナンなどには、17世紀初頭、日本人町（日本町）が存在した。また、A国の首都であるハノイは、A国最大の都市であり、2022年における人口は900万人を超える。
- 2 A国、B国、G国、F国は東南アジア諸国連合（ASEAN）の原加盟国であり、1997年にD国とE国、1999年にC国などを加えて、現在は10か国で構成されている。
- 3 B国は緩衝国として独立を保持してきたが、B国以外の国は植民地支配を受け、A国、C国、D国はイギリス、F国はオランダ、G国はフランスが旧宗主国である。
- 4 B国、C国、E国は仏教、F国はイスラーム（イスラム教）、G国はキリスト教が多く信仰されている。G国では2000年におけるキリスト教を信仰している人の割合が90%以上である。
- 5 F国のスマトラ島とマレー半島の間にはマラッカ海峡があり、F国の首都であるジャカルタはカリマンタン（ボルネオ）島に位置する。

(3) 下線部③について、下の表2は、中部地方9県（新潟県、富山県、石川県、福井県、山梨県、長野県、岐阜県、静岡県、愛知県）の統計資料をもとに作成したものである。表2中の県A、D、Fに該当する正しい組合せはどれか。1～5から一つ選べ。解答番号は

表2

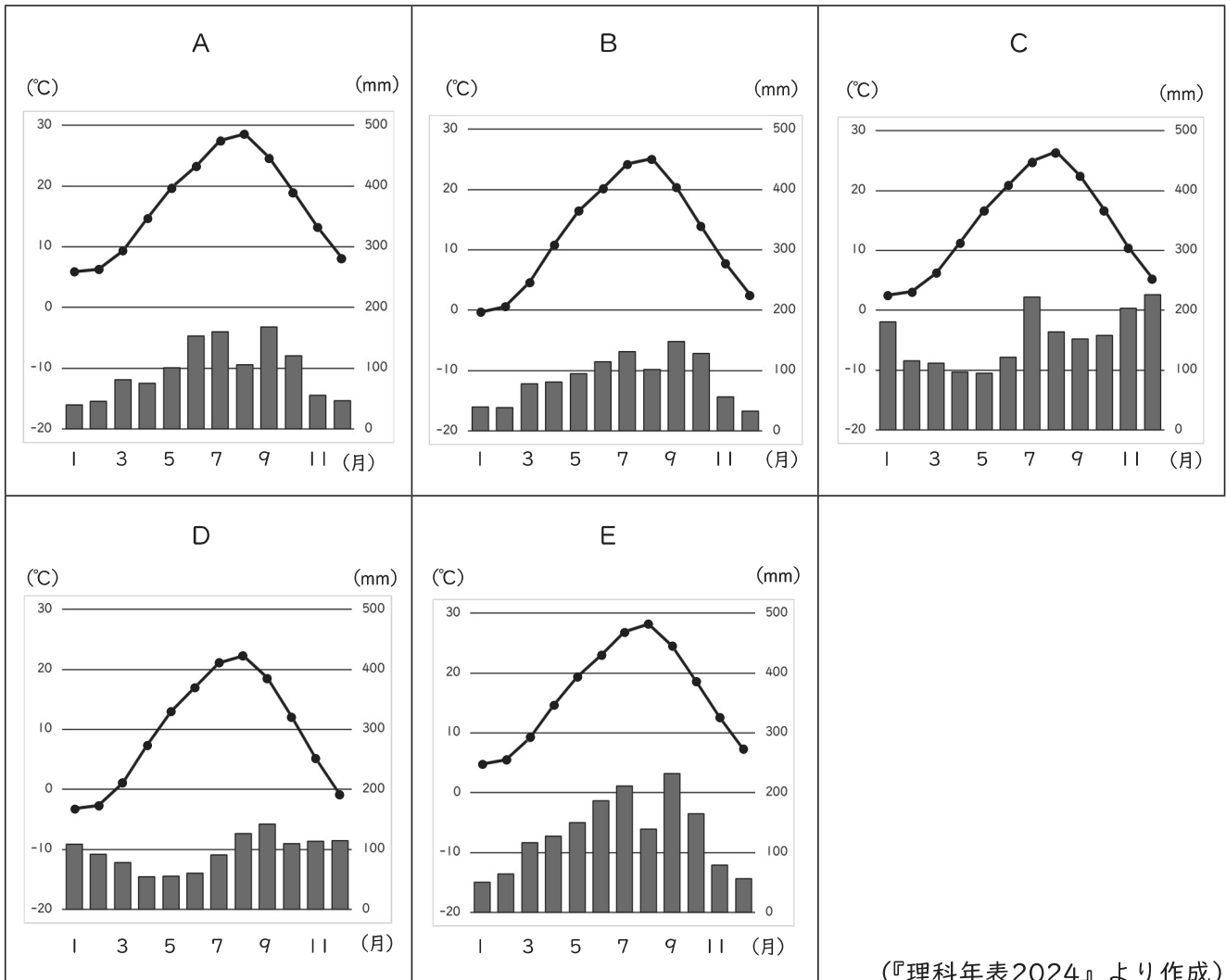
県	人口（千人） （2022年 10月1日）	昼夜間人口 比率（%） （2020年）	製造品出荷額等 （億円） （2020年）	農業産出額 （億円） （2021年）	米（水稻）の 生産量（十） （2022年）	海面漁業 漁獲量（千十） （2021年）
A	1,118	100.2	26,498	480	122,900	46
B	1,017	99.8	36,649	545	197,400	23
C	1,946	96.6	56,708	1,104	100,800	—
D	3,582	99.8	165,147	2,084	76,400	250
E	7,495	101.2	441,162	2,922	130,800	53
F	2,020	99.7	60,729	2,624	187,300	—
G	753	100.1	21,594	394	121,000	9
H	802	99.3	25,409	1,113	25,500	—
I	2,153	100.0	47,784	2,269	631,000	24

昼夜間人口比率：昼間人口÷常住人口（夜間人口）×100。

（『日本国勢図会』2023/24年版及び『データブック オブ・ザ・ワールド』2024年版より作成）

	A	D	F
1	石川県	静岡県	岐阜県
2	福井県	石川県	長野県
3	新潟県	福井県	山梨県
4	富山県	静岡県	山梨県
5	石川県	静岡県	長野県

(4) 下線部④について、下のA～Eのグラフは、札幌、高松、名古屋、新潟、松本の月平均気温と月降水量をそれぞれ示したものである。次の1～5のうち、A～Eのグラフに該当する都市の組合せとして正しいものはどれか。1～5から一つ選べ。解答番号は



(『理科年表2024』より作成)

	A	B	C	D	E
1	名古屋	松本	新潟	札幌	高松
2	高松	松本	新潟	札幌	名古屋
3	松本	高松	札幌	新潟	名古屋
4	名古屋	高松	新潟	札幌	松本
5	高松	新潟	松本	札幌	名古屋

問2 下の図4は、国土地理院が発行する2万5千分1地形図『海津』(平成26年2月1日発行)の原寸の一部である。あとのア～エのうち地形図全般及び図4についての説明として正しいものはどれか。1～5から一つ選べ。解答番号は



図4

- ア 地形図には、地形の高低や傾斜の緩急を表すため、標高の等しい点を連ねた等高線が描かれており、2万5千分1地形図では、主曲線が20mごと、計曲線が100mごとに描かれている。
- イ 百瀬川が流れ出る谷の出口から扇状地が形成されている。
- ウ 2万5千分1地形図において4cm²の面積で表現される領域の実際の面積は25haである。
- エ 近江中庄駅からみて、西側に寺院や市役所があり、近江中庄駅からみて東側の水田地帯の標高は約10mである。また、この地形図は滋賀県のものである。

- 1 アとイ 2 アとウ 3 イとウ 4 イとエ 5 ウとエ

3 次の問いに答えよ。

問1 社会権について、次の(1)・(2)の問いに答えよ。

(1) 日本国憲法の条文の一部を読み、次の問いに答えよ。

第二十五条 すべて国民は、(ア)で文化的な最低限度の生活を営む権利を有する。

2 [略]

第二十六条 すべて国民は、法律の定めるところにより、その(イ)に応じて、ひとしく教育を受ける権利を有する。

2 [略]

第二十七条 すべて国民は、勤労の権利を有し、義務を負ふ。

2 賃金、就業時間、休息その他の勤労条件に関する基準は、法律でこれを定める。

3 (ウ)は、これを酷使してはならない。

第二十八条 勤労者の団結する権利及び団体交渉その他の(エ)をする権利は、これを保障する。

条文中の(ア)～(エ)に入る語句の組合せとして正しいものを1～5から一つ選べ。

解答番号は

	(ア)	(イ)	(ウ)	(エ)
1	健康	能力	子女	団体請求
2	安全	段階	児童	団体行動
3	健康	段階	子女	団体行動
4	安全	段階	子女	団体請求
5	健康	能力	児童	団体行動

(2) 労働及び雇用に関する法律について述べた次のア～オの文のうち、正しいものを○、誤っているものを×とした場合、正しい組合せはどれか。1～5から一つ選べ。

解答番号は

ア 雇用の分野における男女の均等な機会及び待遇の確保等に関する法律（男女雇用機会均等法）では、妊娠・出産などを理由とする不利益な扱いの禁止や、性別を理由とする差別の禁止について定められている。

イ 労働基準法では、労働時間の上限が定められているが、あらかじめ使用者と労働者の間で労使協定を結び、所轄する労働基準監督署に届け出た場合、労働時間の上限を無くすることができる定められている。

ウ 労働基準法では、一定の範囲内で始業と終業時間を労働者が自ら設定できる変形労働時間制の一種であるワークシェアリングに関する規定が設けられている。

エ 労働組合法では、使用者が、労働者の代表者と団体交渉をすることを、どのような場合においても、拒んではならないと定められている。

オ 労働関係調整法では、労働争議が発生したときは、労働関係の当事者が自主的に解決するよう努力しなければならないと定められているが、労働関係の当事者間において、労働関係に関する主張が一致しない場合、原則、当事者の申請により労働委員会が調整（あっせん・調停・仲裁）を行うと定められている。

	ア	イ	ウ	エ	オ
1	×	○	○	○	×
2	○	×	×	×	○
3	×	○	○	×	○
4	○	○	×	×	×
5	○	×	×	○	○

問2 次の文を読み、あとの問いに答えよ。

日本国憲法は、14条以下において、詳細な人権規定（いわゆる「人権カタログ」）を置いている。しかし、それらの人権規定は、歴史的に国家権力によって侵害されることの多かった重要な権利・自由を列挙したもので、すべての人権を網羅的に掲げたものではない。

社会の変革にともない、「自律的な個人が人格的に生存するために不可欠と考えられる基本的な権利・自由」として保護するに値すると考えられる法的利益は、「新しい人権」として、憲法上保障される人権の一つだと解するのが妥当である。

『「新しい人権等」に関する資料』（平成29年5月衆議院憲法審査会事務局）より作成

「新しい人権」についての記述として正しいものを1～5から一つ選べ。

解答番号は

- 1 行政機関の保有する情報の公開に関する法律（情報公開法）は、行政機関が保有する情報の一層の公開を図るものであるが、この法律を根拠として、民間企業が保有する情報の公開を請求することもできる。
- 2 環境影響評価法が制定され、国や企業が行うすべての工事や開発について、事前に環境への影響を調査する環境アセスメントを実施することが義務付けられた。
- 3 個人情報の保護に関する法律（個人情報保護法）により、行政機関の保有する個人情報の訂正を求めることはできるが、民間企業が保有する個人情報は対象とされていない。
- 4 インフォームド・コンセントは、医師の十分な説明を受けたうえで、患者自身が最終的な診療方針を選択するという患者の知る権利・自己決定権を保障する考え方である。
- 5 科学技術の急速な進歩を受けて、知的財産権について、近年、重要な権利であるとの国民的同意が得られたため、憲法上明記されるようになった。

問3 政治制度について、次の(1)～(3)の問いに答えよ。

(1) 参議院・衆議院の比例代表選挙においては、ドント式配分方法により議席数が決められる。仮に、ある衆議院選挙の比例区の選挙結果が次の表のとおりになり、議席の定数が8であった場合、A党の獲得議席数として正しいものを1～5から一つ選べ。解答番号は

政党名	A党	B党	C党	D党
得票数	1,415,618票	806,289票	240,260票	433,126票
政党名	E党	F党	G党	H党
得票数	115,877票	333,981票	19,645票	7,680票

- 1 2議席
- 2 3議席
- 3 4議席
- 4 5議席
- 5 6議席

(2) 日本国憲法で認められている衆議院の優越について述べた次のア～オの文のうち、正しいものを○、誤っているものを×とした場合、正しい組合せはどれか。1～5から一つ選べ。

解答番号は

- ア 内閣不信任の決議は衆議院だけができる。
- イ 衆議院が内閣総理大臣の指名の議決をしたのち、国会休会中の期間を除いて10日以内に、参議院が指名の議決をしない場合は、衆議院の議決を国会の議決とする。
- ウ 衆議院で可決し、参議院でこれと異なった議決をした法律案は、衆議院で総議員の3分の2以上の多数で再び可決した場合は、法律となる。
- エ 衆議院が可決した予算を参議院が受け取った後、国会休会中の期間を除いて10日以内に議決しない場合は、衆議院の議決を国会の議決とする。
- オ 予算は、先に衆議院に提出しなければならない。

	ア	イ	ウ	エ	オ
1	×	×	○	×	○
2	○	○	×	×	○
3	×	○	○	○	×
4	○	○	×	○	×
5	○	×	○	×	○

(3) 2024年4月時点における、アメリカ合衆国の大統領制の説明について述べた次のア～オの文のうち、正しいものを○、誤っているものを×とした場合、正しい組合せはどれか。1～5から一つ選べ。解答番号は

ア 大統領は教書を議会に送ることで、法案を提出することができる。

イ 大統領は2回を超えて選出されることが認められていない。

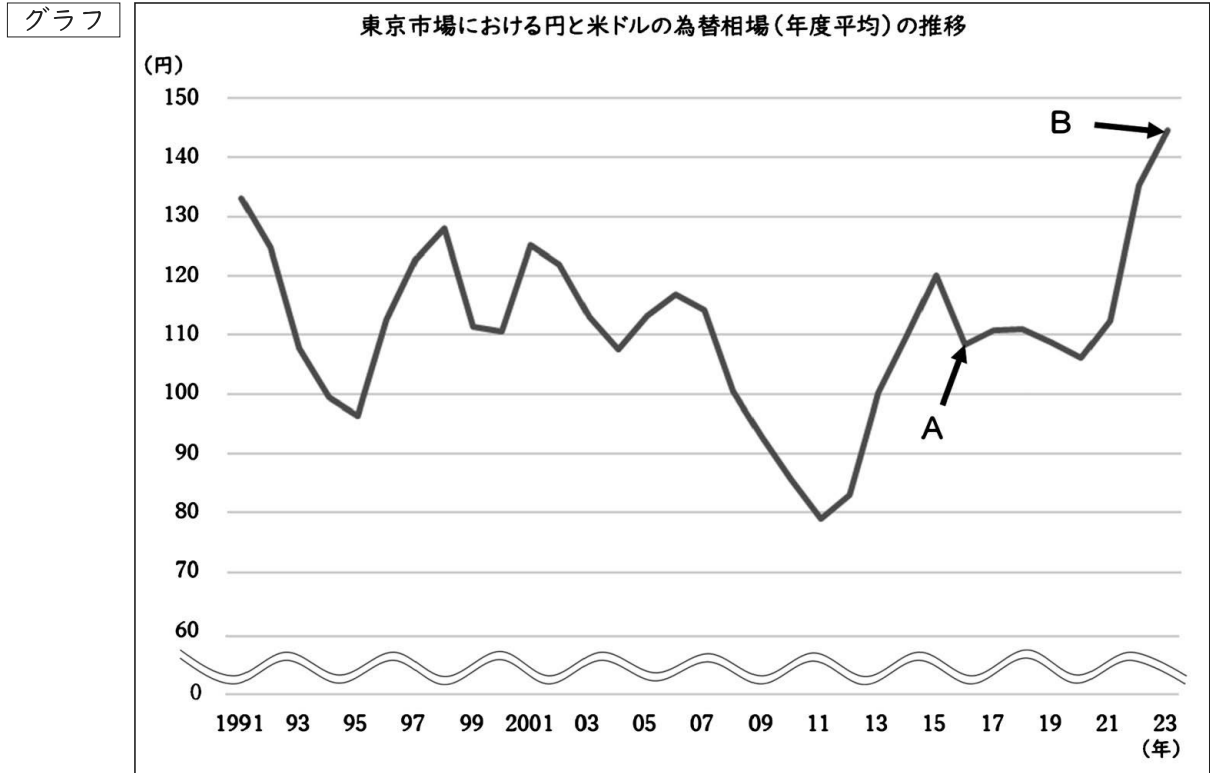
ウ 大統領は議会を通過した法案に対し、拒否権を発動することはできるが、議会の両院がそれぞれ3分の2以上の多数で再可決すれば、その法案は法律となる。

エ 大統領は議会を解散させることができる。

オ 大統領は弾劾裁判にかけられて有罪になった場合、罷免される。

	ア	イ	ウ	エ	オ
1	×	○	○	×	×
2	○	○	×	○	×
3	×	×	×	○	○
4	×	○	○	×	○
5	○	×	○	×	○

問4 次のグラフは、東京市場における円と米ドルの為替相場（年度平均）の推移を示したものである。このグラフから読み取れる内容を説明した下の各文の（ア）～（エ）にあてはまる語句の組合せとして正しいものはどれか。1～5から一つ選べ。解答番号は



日本銀行「時系列統計データ 検索サイト」より作成

- ・ Aの時点とBの時点を比べると、Aの方が（ア）である。
- ・ Aの時点で、同じ製品が日本では120円、アメリカ合衆国では1ドルで販売されていたとしたら、為替相場上、アメリカ合衆国で購入した方が（イ）といえる。
- ・ アメリカ合衆国にある輸出企業が、日本に商品X（商品Xは不定とする）を輸出する場合、Aの時点よりBの時点の方が、日本円での価格が（ウ）し、価格競争上、（エ）になる。

	ア	イ	ウ	エ
1	円高ドル安	高値	下落	有利
2	円安ドル高	高値	下落	不利
3	円高ドル安	安値	上昇	有利
4	円安ドル高	安値	下落	有利
5	円高ドル安	安値	上昇	不利

4 次の(1)～(7)の問いに答えよ。

(1) 東南アジアの王朝に関して述べた文として誤っているものはどれか。1～5から一つ選べ。

解答番号は

- 1 インドネシアのマジャパヒト王国はジャワ島を中心として交易で栄えた。
- 2 カンボジアではアンコール朝のスールヤバルマン2世がアンコールワットを建造した。
- 3 ベトナムの李朝が元の侵略を退け、この時期にチューノムが盛んに用いられた。
- 4 ビルマのパガン朝では上座部仏教の浸透に伴い、仏教建築物の建立が盛んとなった。
- 5 タイのスコタイ朝では上座部仏教を受容した。

(2) 次のア～オのうち、中央アジア・西アジアの王朝に関して述べた文として正しいものを○、誤っているものを×とした場合、正しい組合せはどれか。1～5から一つ選べ。

解答番号は

- ア イル・ハン国のガザン・ハンがイスラームに改宗した。
- イ ティムール朝のウルグ・ベクがサマルカンドに天文台を建設した。
- ウ ヒヴァ・ハン国はウズベク人によって建国された。
- エ サファヴィー朝はスンナ派を国教とし、アッバース1世のときに最盛期を迎えた。
- オ オスマン帝国はバヤジット1世のときにブハラ・ハン国との戦いにやぶれた。

	ア	イ	ウ	エ	オ
1	×	○	○	×	×
2	○	○	○	×	×
3	○	×	○	○	×
4	○	×	×	○	○
5	×	○	×	×	○

(3) アフリカの王朝に関して述べた文として誤っているものはどれか。1～5から一つ選べ。

解答番号は

- 1 クシュ王国はメロエを都として製鉄業を中心に栄えた。
- 2 アクスム王国はキリスト教を受容した。
- 3 ムラービト朝はマラケシュを都としてイベリア半島南部を支配した。
- 4 ガーナ王国は金と塩の交易で栄えた。
- 5 ソンガイ王国のトンブクトゥはナイル川流域にあり交易で栄えた。

(4) 中南米地域に関して述べた文として誤っているものはどれか。1～5から一つ選べ。

解答番号は

- 1 オルメカ文明は紀元前に栄え、石彫の像やピラミッドが作られた。
- 2 マヤ文明はユカタン半島の一帯で栄え、天体観測が行われ、マヤ文字が使用された。
- 3 アステカ王国はメキシコ高原で栄え、テノチティトランを建設した。
- 4 インカ帝国はアンデスで栄え、数量などを記録する楔形文字が使われた。
- 5 16世紀に現在のボリビアで発見されたポトシ銀山からは、大量の銀が産出された。

(5) 次のア～オのうち、南アジアの王朝に関する文として正しいものを○、誤っているものを×とした場合、正しい組合せはどれか。1～5から一つ選べ。解答番号は

- ア ゴール朝はガズナ朝から事実上独立し、インドへの侵入を繰り返した王朝である。
- イ ローディ朝はアイバクが建国したインドで最初のイスラーム王朝である。
- ウ ヴィジャヤナガル王国は南インドのヒンドゥー教の王が支配する国家である。
- エ ムガル帝国はアクバルが建国したイスラーム国家である。
- オ マラータ王国はシヴァージーが建国したヒンドゥー教国家である。

	ア	イ	ウ	エ	オ
1	○	×	○	×	○
2	○	○	○	×	○
3	○	×	×	×	○
4	×	○	○	○	×
5	×	○	×	○	×

(6) 太平洋諸地域に関する文として誤っているものはどれか。1～5から一つ選べ。

解答番号は

- 1 ニュージーランドではイギリス政府が19世紀に先住のマオリとワイタンギ条約を結んだ。
- 2 オーストラリアは1901年に連邦を結成し、イギリスの自治領となった。
- 3 タヒチは19世紀にフランス領となった。
- 4 グアムは1898年のアメリカ＝スペイン戦争の結果、アメリカ合衆国に割譲された。
- 5 ハワイではリリウオカラニ王がハワイ諸島を平定し、カメハメハ朝を創始した。

(7) 世界の万国博覧会について述べたア～エを、古い順に左から右へ並べた場合、正しいものはどれか。1～5から一つ選べ。解答番号は

ア クルップ社の大砲が出品されたパリ万国博覧会では、日本が初めて参加した。

イ フランス革命100年の年に行われたパリ万国博覧会では、エッフェル塔が建設された。

ウ アメリカ独立100年の年に行われたフィラデルフィア万国博覧会では、ベルの電話が一般公開された。

エ アルバート公の強い後押しがあったロンドン万国博覧会では、水晶宮とよばれる建物が展示された。

- 1 エ → ア → イ → ウ
- 2 エ → ア → ウ → イ
- 3 エ → ウ → ア → イ
- 4 ア → エ → ウ → イ
- 5 ア → エ → イ → ウ

(1) イギリスとフランスに関する下の年表を見て、以下の問いに答えよ。

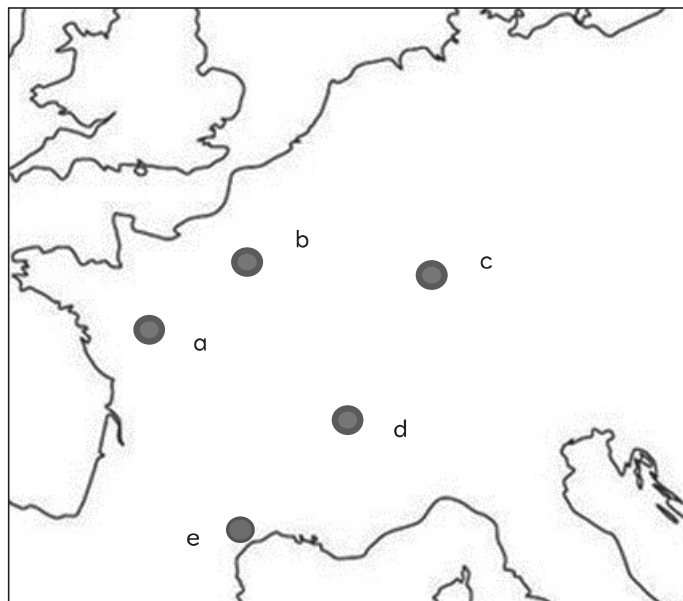
年代	イギリス	フランス
1215年	大憲章（マグナ＝カルタ）制定（ア）	
1248年		ルイ9世、十字軍を起こす（イ）
1302年		全国三部会招集（ウ）
1339年	百年戦争勃発（エ）	
1358年		北東部で農民一揆が起こる（オ）
1381年	ワット＝タイラーの乱が起こる（カ）	
1455年	バラ戦争勃発（キ）	

1 (ア) に関して、イギリスでは13世紀から14世紀に議会制の原型が生まれた。その形成過程を説明せよ。その際、次の四つの語句を必ず使用すること。

二院制 模範議会 ジョン王 シモン＝ド＝モンフォール

2 (イ) に関して、①ルイ9世によって征服された、ローマ教会からは異端とされたキリスト教の一派を何というか。

②また、この異端派の拠点であった都市を、地図中a～eから一つ選び記号で答えよ。



3 (ウ) に関して、この議会を招集した国王は誰か。

- 4 (エ) に関して、この戦争について説明した次の文章の () に当てはまる語句を答えよ。
(※同じ数字の空欄には同じ語句が入る。)

フランスでカペー朝が断絶して (①) 朝がたつと、イギリス国王の (②) は、母がカペー家出身であることを理由にフランス王位継承権を主張し、これをきっかけに両国の間に百年戦争が始まった。戦争の背景には、(③) 地方を支配下に置こうとするフランスと、この (③) 地方に羊毛を輸出していたイギリスとの対立などがあつた。

戦局は、休戦を挟みながらイギリス優勢で進んだが、1429年、ジャンヌ＝ダルグラにより、イギリス軍に包囲されていた (④) が解放されて以降、戦局は逆転した。

(⑤) 年、フランスが (⑥) を除く全領土を回復することで、戦争は終結した。

- 5 (オ) に関して、この農民一揆を何というか。
- 6 (カ) に関して、この乱の思想的指導者で、「アダムが耕しイヴが紡いだ時、だれが貴族であつたか」と説教した聖職者は誰か。
- 7 (キ) に関して、①王位継承を争つた二つの家のうち、1399年にプランタジネット朝から王位を継承した家はどこか。
- ②また、この戦争をおさめて、1485年に即位した国王は誰か。

- (2) 次の文は秦末から漢代の中国に関するものである。これを読んで以下の問いに答えよ。

始皇帝の死後、まもなく各地で反乱がおこり、秦は統一後15年で滅んだ。各地の反乱勢力のなかで、楚の将軍の一族である (a) と農民出身の役人であつた劉邦が力をのばした。劉邦は垓下の戦いで (a) を破ると、前202年に長安に都を建設し漢王朝を開いた。①この王朝は最初、秦の急激な改革による失敗を教訓として緩やかな統治をしていたが、前154年の (b) を機に諸侯の権力を奪い、実質的に中央集権体制を確立した。②この王朝は前2世紀後半の武帝の時代に最盛期を迎えたが、度重なる遠征のため財政難となつた。その解決策として塩・(c) ・酒の専売、さらに③物価調整策などがとられた。税や徭役・兵役の負担増加、さらに飢饉の頻発は農民の没落を招き、富農はこれら没落した農民や奴隷を使用して大土地所有による農業経営を行い、豪族として台頭した。豪族は、④地方長官の推薦により官僚となることができたため、次第に大きな権力を持ち始めた。また、⑤儒学が官学とされ、儒学は以後王朝を支える政治思想となつた。武帝の死後、王朝は衰え、皇后や妃の親族である外戚と後宮に仕える宦官が抗争し、外戚の (d) が後8年に漢王朝を滅ぼした。

(d) が建てた新は、『周礼』の記載などに基づく周の時代の諸制度を理想とした改革を行つたが、たちまち混乱を招き、赤眉などの農民反乱や諸豪族が蜂起して、十数年で滅亡した。この

混乱の中、頭角を現した第6代景帝の子孫である（ e ）が、25年に漢王朝を再興し都を洛陽に定めた。

1 文中の空欄（ a ）～（ e ）に入る最も適切な語句を記入せよ。

（※同じ記号の空欄には同じ語句が入る。）

2 下線部①に関して、漢王朝の初代皇帝が国内を統治するために用いた行政制度の名称を答えよ。また、その制度について説明せよ。

3 下線部②に関して、この時代に武帝の命を受け大宛国に遠征し、西域諸国を服属させ、多数の良馬を獲得したのは誰か。

4 下線部③に関して、武帝の代に施行された物価調整策を二つ答えよ。また、その政策についてそれぞれ説明せよ。

5 下線部④に関して、この官吏任用法を何というか。

6 下線部⑤に関して、儒学の歴史は春秋・戦国時代から始まる。秦代から後漢代までの儒学の歴史を説明せよ。その際、次の三つの語句を必ず使用すること。

官学化 焚書・坑儒 訓詁学

令和7年度大阪府公立学校教員採用選考テスト

第二次選考択一問題の正答について

校種	高等学校	教科・科目	地理歴史（世界史）
----	------	-------	-----------

大問番号	1							2							3							4						
解答番号	1	2	3	4	5	6	7	8	9	10	11	12	13	14	15	16	17	18	19	20	21	22	23	24	25	26	27	28
正答番号	3	1	3	4	4	2	5	2	1	5	4	5	2	3	5	2	4	3	2	4	5	3	2	5	4	1	5	2

受験番号	
------	--

令和7年度大阪府公立学校教員採用選考テスト

高等学校 地理歴史（世界史） 解答用紙 (3枚のうち1)

5

得点	
----	--

(1)	1	イギリスはフランスとの争い等により財政困難に陥り、ジョン王は重税を課したため、貴族は結束して王に反抗し、1215年、新たな課税には高位聖職者や大貴族の承認を必要とすることなどを定めた大憲章を王に認めさせた。 次のヘンリ3世は、大憲章を無視したため、シモン＝ド＝モンフォールは貴族を率いて反乱を起こし、王を破った。そして高位聖職者・大貴族の会議に、州や都市の代表を加えて国政を協議した。 1295年には、高位聖職者・大貴族のほかに各地から騎士・市民・下級聖職者の代表が加わった、いわゆる模範議会が招集された。 14世紀半ばには、議会は高位聖職者・大貴族を代表する上院と、州と都市を代表する下院とに分かれ、二院制が成立した。	/		
	2	① アルビジョワ派（カタリ派）	/	② e	
	3	フィリップ4世	/		
	4	① ヴァロワ	/	② エドワード3世	/
		③ フランドル	/	④ オルレアン	/
		⑤ 1453	/	⑥ カレー	/
	5	ジャックリーの乱	/	6 ジョン＝ボール	/
7	① ランカスター家	/	② ヘンリ7世	/	

受験番号	
------	--

令和7年度大阪府公立学校教員採用選考テスト

高等学校 地理歴史（世界史） 解答用紙 (3枚のうち2)

5

得点	
----	--

(2)	1	a 項羽	/	b 呉楚七国の乱	/	c 鉄	/	
		d 王莽	/	e 光武帝（劉秀）	/			
	2	名称 郡国制						/
		説明 皇帝の直轄地には郡県制を施行し、官僚を通して中央集権的に直接統治するが、それ以外の地には封建制を施行し、功臣や同族を諸侯王に封建して世襲的にその地の支配権を任せる二元的な統治法。						/
	3	李広利	/					
	4	名称 均輸法						/
		説明 特産物を強制的に貢納させ、これを不足地に転売する						/
	4	名称 平準法						/
		説明 物価の低いときに余剰生産物を政府が購入し、物価が高くなったときに売り出す。						/
	5	郷拳里選	/					

受験番号

令和7年度大阪府公立学校教員採用選考テスト

高等学校 地理歴史（世界史） 解答用紙 （3枚のうち3）

5 (続き)

(2)	6	秦代では、始皇帝によって、焚書・坑儒という思想統一の下、儒家は弾圧されていた。しかし、前漢の武帝の時代には董仲舒によって儒学が官学化されるようになり、経典のうち五経が重視されるようになった。これは後漢の時代、馬融と鄭玄によって大成された訓詁学へと発展していった。	/
-----	---	---	---

