

高等学校 公民（倫理）

解答についての注意点

- 1 解答用紙は、マーク式解答用紙と記述式解答用紙の2種類があります。
- 2 大問 **1** ~大問 **4** については、マーク式解答用紙に、大問 **5** については、記述式解答用紙に記入してください。
- 3 解答用紙が配付されたら、まずマーク式解答用紙に受験番号等を記入し、受験番号に対応する数字を、鉛筆で黒くぬりつぶしてください。
記述式解答用紙は、全ての用紙の上部に受験番号のみを記入してください。
- 4 大問 **1** ~大問 **4** の解答は、選択肢のうちから、**問題で指示された解答番号**の欄にある数字のうち一つを黒くぬりつぶしてください。
例えば、「解答番号は 」と表示のある問題に対して、「**3**」と解答する場合は、解答番号 の欄に並んでいる ① ② ③ ④ ⑤ の中の ③ を黒くぬりつぶしてください。
- 5 間違ってぬりつぶしたときは、消しゴムできれいに消してください。二つ以上ぬりつぶされている場合は、その解答は無効となります。
- 6 その他、係員が注意したことをよく守ってください。

指示があるまで中をあけてはいけません。

1 日本史について、(1)～(7)の問いに答えよ。

(1) 次のア～オのうち、平安時代に起きた出来事について説明したものとして、正しいものを○、誤っているものを×とした場合、正しい組合せはどれか。下の1～5から一つ選べ。

解答番号は

- ア 藤原良房は応天門の変で地盤を固め正式に摂政となった。
- イ 後三条天皇のもとで菅原道真が右大臣になるが、901年に大宰権帥に左遷された。
- ウ 藤原頼通は宇治に平等院鳳凰堂を建立した。
- エ 藤原道長は清和天皇を立て、太政大臣となり、摂政・関白が常置される基盤を作った。
- オ 藤原基経は光厳天皇を立て、実質上の関白となった。

	ア	イ	ウ	エ	オ
1	○	×	○	×	○
2	×	×	×	○	○
3	○	×	○	×	×
4	×	○	○	○	×
5	○	○	×	×	×

(2) 次のア～オのうち、12世紀に起きた出来事について説明したものとして、正しいものを○、誤っているものを×とした場合、正しい組合せはどれか。下の1～5から一つ選べ。

解答番号は

- ア 源義経は関門海峡の壇ノ浦の戦いで平氏軍を全滅させた。
- イ 源頼朝は源範頼と源義経を派遣し源義仲を討伐した。
- ウ 藤原通憲（信西）は源義朝、源頼朝と結んで平治の乱で藤原信頼に勝利した。
- エ 源義経は藤原泰衡が平氏に加担したとして、本拠地である奥州平泉を攻め滅ぼした。
- オ 源義仲は倶利伽羅峠の戦い（砺波山の戦い）で平維盛の軍勢を破った。

	ア	イ	ウ	エ	オ
1	○	○	×	×	○
2	○	○	○	×	○
3	○	×	×	×	○
4	×	×	○	○	×
5	×	○	○	○	×

(3) 次のア～オのうち、15世紀～16世紀に起きた出来事について説明したものとして、正しいものを○、誤っているものを×とした場合、正しい組合せはどれか。下の1～5から一つ選べ。

解答番号は

- ア 今川氏は領国内の基本法典として今川仮名目録を制定した。
- イ 畠山政長、畠山義就の両軍を退陣させるために山城国一揆が起きた。
- ウ 織田信長が全国に刀狩令を出した。
- エ 石山本願寺一揆（石山合戦）で石山本願寺は豊臣秀吉に降伏した。
- オ 姉川の戦いで武田氏と上杉氏が衝突し、武田氏が勝利した。

	ア	イ	ウ	エ	オ
1	○	○	×	×	○
2	×	○	×	×	○
3	○	○	×	×	×
4	×	×	○	○	×
5	○	×	○	×	○

(4) 江戸時代における次のア～オの出来事を、古い順に左から右へ並べた場合、正しいものはどれか。

下の1～5から一つ選べ。解答番号は

- ア 島原の乱が起こった。
- イ 禁中並公家諸法度が出された。
- ウ 平戸のオランダ商館を長崎出島に移した。
- エ 大坂冬の陣が起こった。
- オ 参勤交代が正式に制度化された。

1	イ → ア → オ → エ → ウ
2	エ → ウ → イ → ア → オ
3	イ → エ → ウ → オ → ア
4	エ → イ → オ → ア → ウ
5	イ → エ → オ → ウ → ア

(5) 19世紀における次のア～オの出来事を、古い順に左から右へ並べた場合、正しいものはどれか。

下の1～5から一つ選べ。解答番号は

- ア 薩長同盟が結ばれた。
- イ 鳥羽・伏見の戦いが起こった。
- ウ 薩英戦争が起こった。
- エ 桜田門外の変が起こった。
- オ 禁門の変（蛤御門の変）が起こった。

- 1 エ → オ → ウ → ア → イ
- 2 オ → ウ → エ → イ → ア
- 3 オ → エ → ウ → ア → イ
- 4 エ → ウ → オ → ア → イ
- 5 エ → ウ → オ → イ → ア

(6) 次のア～オのうち、明治時代の文学作品とその作者の組合せとして、正しいものを○、誤っているものを×とした場合、正しい組合せはどれか。下の1～5から一つ選べ。

解答番号は

- ア 「浮雲」 — 二葉亭四迷
- イ 「たけくらべ」 — 与謝野晶子
- ウ 「小説神髓」 — 島崎藤村
- エ 「金色夜叉」 — 尾崎紅葉
- オ 「一握の砂」 — 正岡子規

- | | ア | イ | ウ | エ | オ |
|---|---|---|---|---|---|
| 1 | ○ | × | ○ | × | × |
| 2 | ○ | × | × | ○ | × |
| 3 | ○ | ○ | × | × | ○ |
| 4 | × | × | × | ○ | × |
| 5 | × | ○ | ○ | ○ | ○ |

(7) 明治時代における次のア～オの出来事を、古い順に左から右へ並べた場合、正しいものはどれか。

下の 1～5 から一つ選べ。解答番号は

- ア 治安警察法が公布された。
- イ 下関条約が調印された。
- ウ ポーツマス条約が調印された。
- エ 鉄道国有法が公布された。
- オ 官営製鉄所として八幡製鉄所の操業が開始された。

- 1 ア → イ → ウ → エ → オ
- 2 ア → イ → オ → ウ → エ
- 3 イ → ア → ウ → オ → エ
- 4 イ → オ → ア → ウ → エ
- 5 イ → ア → オ → ウ → エ

2 次の(1)～(7)の問いに答えよ。

(1) 中国史上の争乱について述べた文として正しいものを、次の1～5から一つ選べ。

解答番号は

- 1 前漢末期、太平道を創始した張角は、黄巾の乱を起こした。
- 2 後漢滅亡後、新の王莽政権に対し、農民が赤眉の乱を起こした。
- 3 唐代中期、節度使の安祿山が皇帝太宗に対し反乱を起こし、一時は都の長安を陥落させた。
- 4 南宋末期、農民である陳勝と呉広が起こした反乱が、各地に広がった。
- 5 清末期、洪秀全は太平天国を建国し、自らを天王と称して南京を占領した。

(2) イスラームの文化や制度について述べた文として正しいものを、次の1～5から一つ選べ。

解答番号は

- 1 ムワッヒド朝時代に、アルハンブラ宮殿が造営された。
- 2 イスラーム世界各地に、マドラサといわれる教育機関が建設された。
- 3 アッバース朝で開始されたイクター制が、その後のイスラーム王朝の下でも用いられた。
- 4 イスラーム教では偶像崇拜が認められていたため、細密画(ミニアチュール)が発展した。
- 5 ゼロの概念がギリシャで生まれ、イスラーム世界へ伝わった。

(3) 大航海時代について述べた次のア～エを時代の古い順に左から右へ並べた場合に正しいものを、

次の1～5から一つ選べ。解答番号は

- ア ポルトガルの航海者であるバルトロメウ＝ディアスは、アフリカ南端に到達した。
イ マゼラン一行は、西回りで太平洋を横断し、世界一周の航海に成功した。
ウ ヴァスコ＝ダ＝ガマは、アフリカを回り、インドに到達した。
エ コロンブスは大西洋を西に航海し、サンサルバドル島に到達した。

- 1 ア → エ → ウ → イ
- 2 ウ → ア → エ → イ
- 3 ア → エ → イ → ウ
- 4 ウ → ア → イ → エ
- 5 ア → ウ → エ → イ

(4) 1789年にフランス国民議会で採択された、人権宣言を起草した人物として正しいものを、次の1～5から一つ選べ。解答番号は

- 1 ルソー
- 2 シエイエス
- 3 ネットケル
- 4 ラ＝ファイエット
- 5 モンテスキュー

(5) 1938年に開かれたミュンヘン会談に参加しなかった国を、次の1～5から一つ選べ。解答番号は

- 1 イギリス
- 2 イタリア
- 3 ソ連
- 4 ドイツ
- 5 フランス

(6) アメリカ合衆国の歴代大統領について述べた文として誤っているものを、次の1～5から一つ選べ。解答番号は

- 1 モンロー大統領は、ヨーロッパ諸国とアメリカ大陸との相互不干渉を基本とする政策をおこなった。
- 2 リンカーン大統領は、南北戦争において北軍を指導し、奴隷解放宣言を発した。
- 3 ウィルソン大統領は、「十四か条の平和原則（平和十四か条）」を発表し、第一次世界大戦後のパリ講和会議に参加した。
- 4 トルーマン大統領は、第二次世界大戦後、共産主義勢力に対し、封じ込め政策を推進した。
- 5 ニクソン大統領が、キューバを海上封鎖したことで、アメリカとソ連の間で武力衝突の危機となった。

(7) 交易に関して述べた文として正しいものを○、誤っているものを×とした場合、正しい組合せはどれか。次の1～5から一つ選べ。解答番号は

- ア インドのカルカッタ（コルカタ）は、スペインのアジア貿易の拠点であった。
- イ 中国では清の時代、広州において公行という特許商人の組合が貿易を独占していた。
- ウ 自由貿易を促進する目的で、関税と貿易に関する一般協定（GATT）が発足した。
- エ インドのデカン高原で繁栄したサータヴァーハナ朝は、ローマ帝国との交易等で発展した。
- オ 中世のフランドル地方は、イギリス綿花を原料とする綿織物の輸出で繁栄した。

	ア	イ	ウ	エ	オ
1	○	×	×	×	○
2	○	○	×	○	×
3	×	○	○	○	×
4	×	○	○	×	×
5	×	×	○	○	○

3 次の問1～問2の問いに答えよ。

問1 次の文章は、2025年（令和7年）4月から開催される2025年日本国際博覧会（以下「大阪・関西万博」という）について述べたものである。次の（1）～（4）の問いに答えよ。

国際博覧会（万博）は、世界中からたくさんの人やモノが集まるイベントで、地球規模のさまざまな課題に取り組むために、世界各地から英知が集まる場です。大阪・関西万博では①カナダ、ドイツ、フランスなど各国がパビリオンを出展する予定です。

2024年（令和6年）3月14日現在における大阪・関西万博への公式参加表明国・地域、国際機関は、161か国・地域、9国際機関となり、9国際機関には、②東南アジア諸国連合（ASEAN）事務局も含まれています。また、2005年（平成17年）に日本国際博覧会（愛知万博）が開催された③愛知県も大阪・関西万博に④名古屋市と共同で出展する予定です。

（1）下線部①の国に関して次の（i）～（iii）の問いに答えよ。

（i）下の表1は、2021年におけるカナダ、韓国、ドイツ、ブラジル、フランスの発電量とその内訳（％）を示したものである。カナダとドイツに該当する正しい組合せはどれか。1～5から一つ選べ。解答番号は

表1

	発電量の合計 (億 kWh)	火力 (%)	水力 (%)	原子力 (%)	再生可能 エネルギー (%)
ア	6,430	18.0	59.5	14.4	8.0
イ	5,553	8.4	11.5	68.3	11.8
ウ	6,118	66.5	1.1	25.8	6.6
エ	6,561	20.0	55.3	2.2	22.4
オ	5,883	46.7	4.2	11.7	37.3

フランスにはモナコを含む。

再生可能エネルギーは水力を除く、風力・地熱・太陽光・バイオ燃料・潮力など。

（『データブック オブ・ザ・ワールド』2024年版より作成）

	カナダ	ドイツ
1	ア	ウ
2	ア	オ
3	エ	オ
4	イ	エ
5	エ	ウ

(ii) 日本は多くの木材をカナダから輸入している。下の図1は、2021年における木材の伐採量が多い上位5か国とその割合を、図2は2022年における日本の木材輸入先上位5か国とその割合をそれぞれ示したものである。図1及び図2中の国A、B、Cに該当する正しい組合せはどれか。1～5から一つ選べ。解答番号は

図1

2021年における木材の伐採量が多い上位5か国とその割合(%)

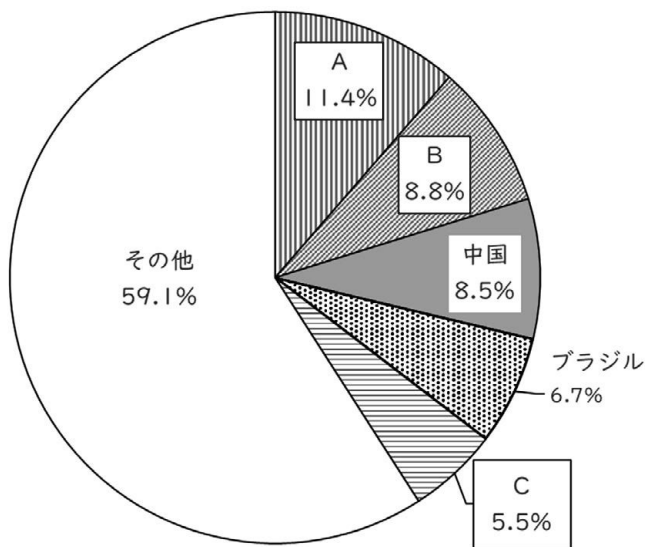
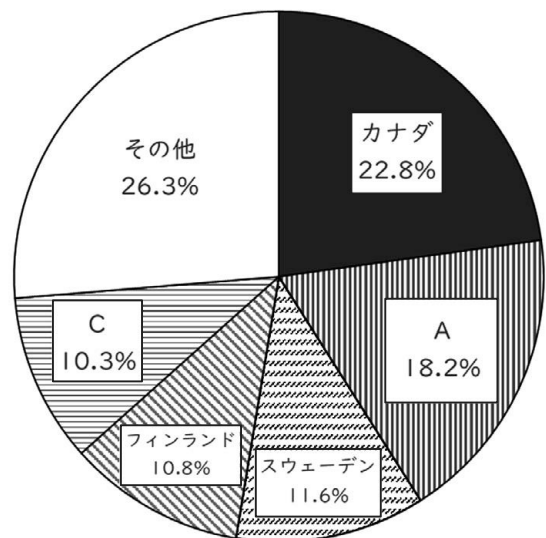


図2

2022年における日本の木材輸入先上位5か国とその割合(%)



(『データブック オブ・ザ・ワールド』2024年版より作成)

	A	B	C
1	アメリカ合衆国	インド	ロシア
2	アメリカ合衆国	ロシア	オーストラリア
3	ロシア	オーストラリア	アメリカ合衆国
4	オーストラリア	アメリカ合衆国	ロシア
5	オーストラリア	インド	アメリカ合衆国

(iii) フランスのナント付近に、地球上の陸地の含まれる割合が最も高くなる陸半球の中心がある。陸半球の中心の経緯度が、北緯47度13分、西経1度32分と考えた場合、対蹠点に位置する水半球の中心の経緯度として、正しいものはどれか。1～5から一つ選べ。

解答番号は

- 1 南緯42度47分、東経1度32分
- 2 南緯42度47分、東経178度28分
- 3 南緯47度13分、西経1度32分
- 4 南緯47度13分、東経132度28分
- 5 南緯47度13分、東経178度28分

(2) 下の図3は東南アジアを示したものであり、図3中のA～Gは国を示している。下線部②に加盟する国々について説明している文章として正しいものはどれか。1～5から一つ選べ。

解答番号は

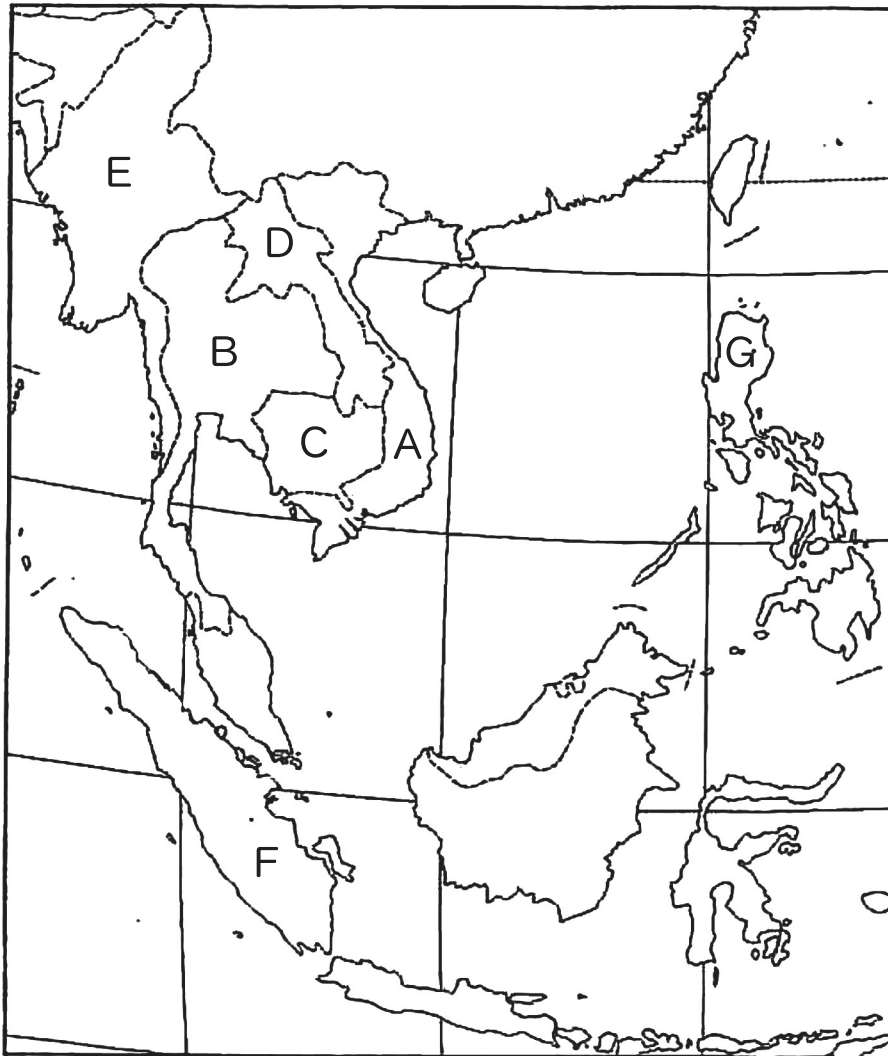


図3

- 1 A国のホイアンやダナンなどには、17世紀初頭、日本人町（日本町）が存在した。また、A国の首都であるハノイは、A国最大の都市であり、2022年における人口は900万人を超える。
- 2 A国、B国、G国、F国は東南アジア諸国連合（ASEAN）の原加盟国であり、1997年にD国とE国、1999年にC国などを加えて、現在は10か国で構成されている。
- 3 B国は緩衝国として独立を保持してきたが、B国以外の国は植民地支配を受け、A国、C国、D国はイギリス、F国はオランダ、G国はフランスが旧宗主国である。
- 4 B国、C国、E国は仏教、F国はイスラーム（イスラム教）、G国はキリスト教が多く信仰されている。G国では2000年におけるキリスト教を信仰している人の割合が90%以上である。
- 5 F国のスマトラ島とマレー半島の間にはマラッカ海峡があり、F国の首都であるジャカルタはカリマンタン（ボルネオ）島に位置する。

(3) 下線部③について、下の表2は、中部地方9県（新潟県、富山県、石川県、福井県、山梨県、長野県、岐阜県、静岡県、愛知県）の統計資料をもとに作成したものである。表2中の県A、D、Fに該当する正しい組合せはどれか。1～5から一つ選べ。解答番号は

表2

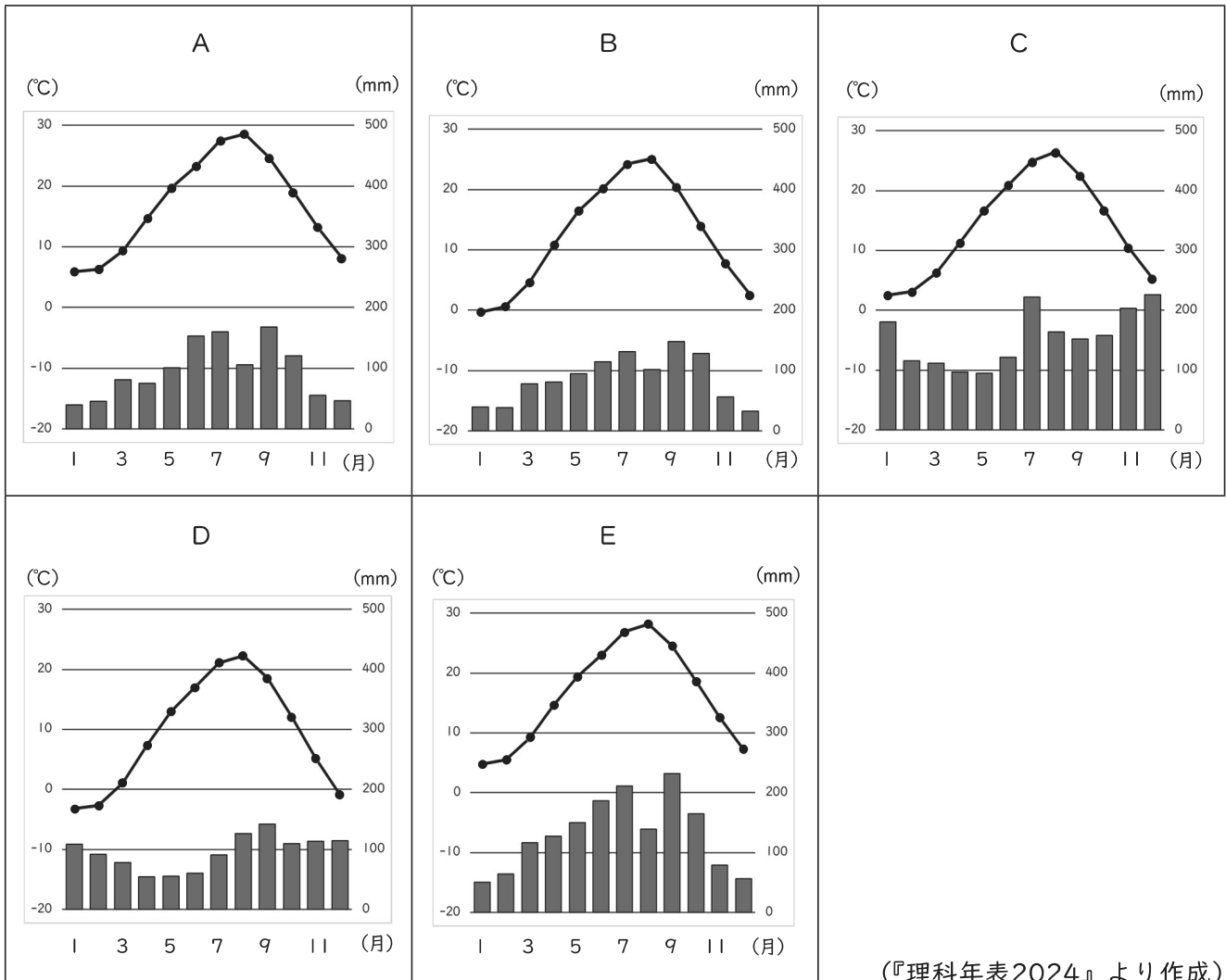
県	人口（千人） （2022年 10月1日）	昼夜間人口 比率（%） （2020年）	製造品出荷額等 （億円） （2020年）	農業産出額 （億円） （2021年）	米（水稻）の 生産量（十） （2022年）	海面漁業 漁獲量（千十） （2021年）
A	1,118	100.2	26,498	480	122,900	46
B	1,017	99.8	36,649	545	197,400	23
C	1,946	96.6	56,708	1,104	100,800	—
D	3,582	99.8	165,147	2,084	76,400	250
E	7,495	101.2	441,162	2,922	130,800	53
F	2,020	99.7	60,729	2,624	187,300	—
G	753	100.1	21,594	394	121,000	9
H	802	99.3	25,409	1,113	25,500	—
I	2,153	100.0	47,784	2,269	631,000	24

昼夜間人口比率：昼間人口÷常住人口（夜間人口）×100。

（『日本国勢図会』2023/24年版及び『データブック オブ・ザ・ワールド』2024年版より作成）

	A	D	F
1	石川県	静岡県	岐阜県
2	福井県	石川県	長野県
3	新潟県	福井県	山梨県
4	富山県	静岡県	山梨県
5	石川県	静岡県	長野県

(4) 下線部④について、下のA～Eのグラフは、札幌、高松、名古屋、新潟、松本の月平均気温と月降水量をそれぞれ示したものである。次の1～5のうち、A～Eのグラフに該当する都市の組合せとして正しいものはどれか。1～5から一つ選べ。解答番号は



(『理科年表2024』より作成)

	A	B	C	D	E
1	名古屋	松本	新潟	札幌	高松
2	高松	松本	新潟	札幌	名古屋
3	松本	高松	札幌	新潟	名古屋
4	名古屋	高松	新潟	札幌	松本
5	高松	新潟	松本	札幌	名古屋

問2 下の図4は、国土地理院が発行する2万5千分1地形図『海津』(平成26年2月1日発行)の原寸の一部である。あとのア～エのうち地形図全般及び図4についての説明として正しいものはどれか。1～5から一つ選べ。解答番号は



図4

- ア 地形図には、地形の高低や傾斜の緩急を表すため、標高の等しい点を連ねた等高線が描かれており、2万5千分1地形図では、主曲線が20mごと、計曲線が100mごとに描かれている。
- イ 百瀬川が流れ出る谷の出口から扇状地が形成されている。
- ウ 2万5千分1地形図において4cm²の面積で表現される領域の実際の面積は25haである。
- エ 近江中庄駅からみて、西側に寺院や市役所があり、近江中庄駅からみて東側の水田地帯の標高は約10mである。また、この地形図は滋賀県のものである。

- 1 アとイ 2 アとウ 3 イとウ 4 イとエ 5 ウとエ

4 政治経済、倫理について、次の(1)～(7)の各問いに答えよ。

(1) 次のア～オは、2000(平成12)年以降に設置された行政機関である。これらが発足された順に並べたものとして、正しいものはどれか。1～5から一つ選べ。解答番号は

- ア 観光庁
- イ 復興庁
- ウ デジタル庁
- エ 消費者庁
- オ スポーツ庁

- 1 ア → イ → エ → ウ → オ
- 2 ア → エ → イ → オ → ウ
- 3 イ → ア → オ → エ → ウ
- 4 イ → エ → ア → ウ → オ
- 5 エ → イ → オ → ア → ウ

(2) 日本の最高裁判所により日本国憲法に違反するとされた法制度についての記述として誤っているものはどれか。1～5から一つ選べ。解答番号は

- 1 1975(昭和50)年に、薬事法6条2項による薬局の適正配置規制は、憲法22条1項(職業選択の自由)に違反するとされた。
- 2 1987(昭和62)年に、森林法186条による共有森林に関する分割請求権の制限は、憲法29条(財産権の保障)に違反するとされた。
- 3 2021(令和3)年に、沖縄県那覇市による孔子等を祀った久米至聖廟への公園使用料の全額免除は、憲法20条3項(政教分離)に違反するとされた。
- 4 2005(平成17)年に、公職選挙法附則8項による在外日本国民の選挙権の制限は、憲法14条1項(法の下での平等)に違反するとされた。
- 5 2015(平成27)年に、民法733条1項による女性の再婚禁止期間の設定は、憲法14条1項(法の下での平等)、憲法24条2項(両性の本質的平等)に違反するとされた。

(3) 再生可能エネルギーについての記述として誤っているものはどれか。1～5から一つ選べ。

解答番号は

- 1 再生可能エネルギー電気とは、自然界に存在し、永続的に利用できるエネルギーで発電した電気のことである。
- 2 再生可能エネルギーは、国産のエネルギー源であるため、エネルギー自給率の改善に寄与することができる。
- 3 日本では、2012（平成24）年に再生可能エネルギーの固定価格買取制度が導入され、再生可能エネルギーの導入が急速に拡大している。
- 4 2021（令和4）年時点において、太陽光発電は、再生可能エネルギーの中で日本の発電電力量に占める割合が最も多い。
- 5 2021（令和4）年時点において、日本の発電電力量のうち、再生可能エネルギーの発電電力量に占める割合は3割を超えている。

(4) 次の表は、日本の1年間の国際収支の状況を示している。この表に関して述べた文として正しいものを○、誤っているものを×とした場合、正しい組合せはどれか。1～5から一つ選べ。

解答番号は

国際収支	(億円)
貿易収支	-155,107
サービス収支	-55,558
第一次所得収支	350,477
第二次所得収支	-25,326
資本移転等収支	-1,144
直接投資	168,228
証券投資	-191,993
外貨準備	-70,571
金融派生商品	50,850
その他投資	107,739
誤差脱漏	-49,089

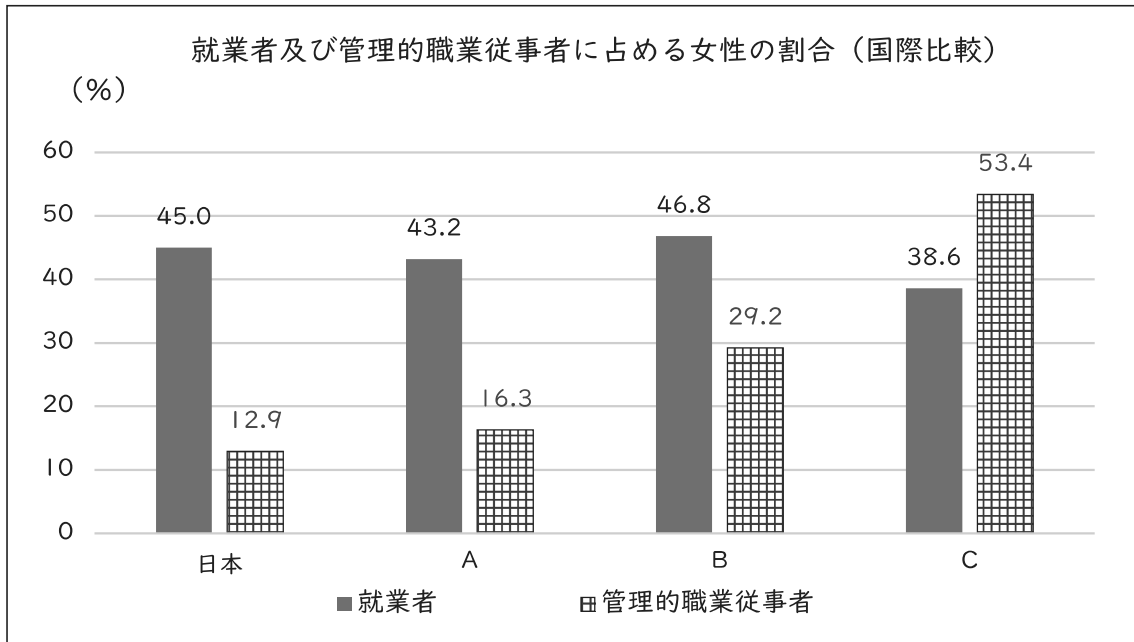
ア 経常収支は黒字である。

イ 金融収支は黒字である。

ウ 経常収支、資本移転等収支、誤差脱漏の額の合計から金融収支を引くと0になる。

	ア	イ	ウ
1	○	○	○
2	○	○	×
3	○	×	○
4	×	×	○
5	×	×	×

(5) 次のグラフは、日本、大韓民国、フィリピン、ドイツにおける、就業者及び管理的職業従事者に占める女性の割合を示したものである。グラフ中のA～Cに該当する国の組合せとして正しいものはどれか。1～5から一つ選べ。解答番号は



令和5年版男女共同参画白書より作成

(備考)

1. 財務省「労働力調査（基本集計）」（2022（令和4）年）、その他の国はILO“ILOSTAT”より作成。
2. 日本は2022（令和4）年、その他の国は2021（令和3）年の値。
3. 総務省「労働力調査」では、「管理的職業従事者」とは、就業者のうち、会社役員、企業の課長相当職以上、管理的公務員等。また、「管理的職業従事者」の定義は国によって異なる。

	A	B	C
1	フィリピン	大韓民国	ドイツ
2	フィリピン	ドイツ	大韓民国
3	大韓民国	ドイツ	フィリピン
4	大韓民国	フィリピン	ドイツ
5	ドイツ	フィリピン	大韓民国

(6) 次のア～オの文のうち、空海について述べた文として正しいものを○、誤っているものを×とした場合、正しい組合せはどれか。1～5から一つ選べ。解答番号は

- ア 日本最初の私立学校である「綜芸種智院」を設立し、庶民にも広く門戸を開いた。
イ 一切の衆生は悉く仏性を有し、従ってみな成仏することができるという万民平等の救済を説いた。
ウ 比叡山に大乘戒壇を設立しようと「山家学生式」を奏進したが、許可を得られぬまま没した。
エ 『三教指帰』を著して、儒・道・仏三教の優劣を論じ、仏教こそ最勝の道であるとした。
オ 阿弥陀仏の名を唱えて市中を遊行し、人々に念仏を勧めたことから阿弥陀聖とも尊称される。

	ア	イ	ウ	エ	オ
1	×	○	×	○	×
2	×	○	○	×	○
3	○	○	×	×	○
4	○	×	×	○	×
5	○	×	○	○	×

(7) 福沢諭吉について述べた文として誤っているものはどれか。1～5から一つ選べ。

解答番号は

- 1 日本初の学会である明六社に参加し、『明六雑誌』を発行して、啓蒙活動を展開した。
- 2 西洋文明を学ぶことによって、「一身独立、一国独立」すべきだと説いた。
- 3 『学問のすゝめ』を公刊し、その中で日本文明の停滞性の原因を権力の偏重にあるとした。
- 4 長崎で蘭学を学んだあと、大坂にでて緒方洪庵の適塾に入門し、やがて塾長となった。
- 5 明治新政府から出仕を求められたが辞退し、慶応義塾における研究教育に一身を捧げた。

5 次の(1)～(3)の問いに答えよ。

(1)『高等学校学習指導要領(平成30年告示)』における「倫理」の内容のうち、「現代に生きる自己の課題と人間としての在り方生き方」に関する次のア～オの問いに答えよ。

ア パーソナリティ(個性・人格)を理解するためには、一般に「類型論」と「特性論」が用いられる。次の①・②の問いに答えよ。

①「類型論」は、パーソナリティを生物学的要因や心理的要因による特徴によっていくつかの類型に分け、概括的に個人のパーソナリティを理解しようとする考え方である。以下は、代表的な「類型論」についてまとめた表である。i～iiiに入る、それぞれの類型論を提唱した人物の組合せとして正しいものはどれか。1～5から一つ選び、数字で答えよ。

人物	(i)	(ii)	(iii)
理論	個人の主たる関心が自分の内側にある場合を「内向型」、外側にある場合を「外向型」と呼ぶ	個人の価値観を、「理論型・経済型・審美型・社会型・権力型・宗教型」の6つに分類する	個人の気質を、「細長型・肥満型・闘士型」の3つの体型の違いによって分類する

	i	ii	iii
1	シュプランガー	クレッチマー	ユング
2	クレッチマー	ユング	シュプランガー
3	ユング	シュプランガー	クレッチマー
4	シュプランガー	ユング	クレッチマー
5	ユング	クレッチマー	シュプランガー

②「特性論」とはどのような考え方であるか、特性の内容に触れたうえで説明せよ。

イ 次の文章は、2023(令和5)年12月に閣議決定された『こども大綱』のうち、「第2 こども施策に関する基本的な方針」で示された文章の一部である。次の①～③の問いに答えよ。

(4) 良好な成育環境を確保し、貧困と格差の解消を図り、全てのこども・若者が幸せな状態で成長できるようにする

。乳幼児期からの安定した愛着(アタッチメント)の形成を保障するとともに、愛着を土台として、こども・若者の良好な成育環境を保障し、貧困と格差の解消を図り、全てのこども・若者が、相互に人格と個性を尊重されながら、安全で安心して過ごすことができる多くの居場所を持ち、様々な学びや多様な体験活動・外遊びの機会を得ることを通じて、自己肯定感や自己有用感を高め、幸せな状態で成長し、尊厳が重んぜられ、自分らしく社会生活を営むことができるように取り組む。

① 下線部 a について、スイスの心理学者であるピアジェ (J.Piaget) らは「3つの山問題 (three mountains problem)」を通じて、前操作期 (2～7歳) には自己視点が唯一の視点である子どもが多いが、具体的操作期 (7歳以後) になると、自己と他者の視点の協応が可能になることを明らかにした。前操作期に見られる、子どもの思考や発話が自己視点のみに立脚し、他者視点を考慮することができない状態のことを何というか、漢字5字で答えよ。

② 下線部 b について、主に幼少期における養育者などとの関係性、ことにアタッチメント (愛着) が、人間の生涯にわたるパーソナリティ社会的適応性などいかに影響を及ぼすかを問う発達理論であるアタッチメント理論を提唱したイギリスの児童精神科医は誰か答えよ。

③ 下線部 c に関連して、アメリカの精神分析学者エリクソン (E.H.Erikson) は、青年期の発達課題として「アイデンティティの確立」をあげ、それが達成できないときは「アイデンティティ拡散 (混乱)」に陥るとした。その症状の一つであり、アメリカの精神科医ウォルターズ (P.Walters) が提唱し、日本では笠原嘉が1970年代以降にことばを広めたとされる、学生に見られる慢性的な無気力状態を何というかカタカナで答えよ。

ウ 「他者」との関係に着目して倫理を探究し、『全体性と無限』などを著した哲学者は誰か答えよ。

エ 日本における仏教についての次の①・②の問いに答えよ。

① 奈良時代・平安時代・鎌倉時代の仏教に関する記述として誤っているものはどれか。1～5から一つ選び、数字で答えよ。

- 1 平安時代中期、源信が著した『往生要集』は、「厭離穢土」「欣求浄土」など十門により構成され、日本浄土教の教えを説いた。
- 2 曹洞宗をひらいた道元は、『普勸坐禅儀』を著し、坐禅の仕方や心得を明らかにして、ひろく人々に禅をすすめた。
- 3 8世紀に官大寺などで研究されていた三論宗・法相宗・俱舍宗・成実宗・華嚴宗・律宗は、南都六宗と呼ばれた。
- 4 仏教が日本に定着する過程で、神仏習合が見られるようになり、平安時代には日本固有の神を本地、仏を垂迹であるとする本地垂迹説が広まった。
- 5 法然は浄土宗をひらき、ひたすら「南無阿弥陀仏」を唱える専修念仏によって、誰もが阿弥陀仏の力で往生すると説いた。

② 鎌倉時代に浄土真宗をひらいた親鸞は、1258 (正嘉2) 年に書かれた「自然といふは、…」という一節に始まる書簡 (『末燈鈔』所収) において、「自然法爾」という考え方を述べた。「自然法爾」とはどのような考え方が説明せよ。

オ 高校生のAさん達は授業の中で「善とは何か」をテーマに哲学対話を行った。以下はその際の参加者の発言である。次の①～④の問いに答えよ。

A：「よく生きる」という言葉があったな。

B：古代ギリシアにおける人間の理想的な生き方をあらわす表現だね。「善」を違う言葉で表現するとどうなるんだろう？

C：アリストテレスは が最高善だとして、ストア派は徳が善だといったよね。

B：「善」は人間の生き方を考える上で重要なキーワードなんだね。

D：そういえば「人間の本性は善である」という思想があった気がするな。

A：春秋・戦国時代、諸子百家の一人とされた が唱えた「性善説」だ。でもヨーロッパでは、教父の アウグスティヌス が人間は罪深い存在だとして、神の恩寵によらなければ善を志すことができないと説いたはず…。

D：そもそも「善」は誰が決めるもの？個人がそれぞれに「善」をめざすのかな。

B：「善とは一言にしていえば人格の実現である」と主張したのは、西田幾多郎 だったかな。

C：そうだね。でも、ベンサムやミルの 功利主義 や、テイラーの共同体主義のように、社会全体や他者の善もめざすべきとの主張もあるね。

A：時代や思想家によって善の考え方は異なるんだね。

① 文章中の空欄 ・ に入る語句を答えよ。

② 下線部 a の人物が、413年に着手し、426年に完成させた22巻にわたる作品で、歴史哲学の古典として、後の西欧の思想潮流に対して多大な影響を与えた作品名を答えよ。

③ 下線部 b の人物は、個人が人格を実現するためには「純粹経験」が必要だと唱えた。「純粹経験」とはどのような経験か簡潔に説明せよ。

④ 下線部 c の考え方を問い直す形で、社会契約の方法を用いながら「公正としての正義」の原理を説いたアメリカの政治哲学者は誰か答えよ。

(2) 次の文章は、渋沢栄一『論語と算盤』の内容の一部である。以下のア～カの問いに答えよ。

著作権保護の観点により、本文を掲載いたしません。

出典：『論語と算盤』

渋沢栄一著 東亜堂書房

273ページ4行目から274ページ8行目まで

ア 下線部 a について、ドイツの哲学者カント (I.Kant) は人格に最高の価値をおく人格主義の立場をとった。以下はカントが著した『道徳形而上学の基礎づけ』の一部である。空欄 ・ に入る語句を答えよ。

著作権保護の観点により、本文を掲載いたしません。

出典：『道徳形而上学の基礎づけ』

イマヌエル・カント著 御子柴善之訳 人文書院

104ページ13行目から15行目まで

イ 下線部 b について、江戸時代中期の学問に関する記述として正しいものはどれか、1～5から一つ選び、数字で答えよ。

- 1 国学の先駆者とされる平田篤胤は、『万葉集』を実証的に研究して、『万葉代匠記』を著した。
- 2 『万民徳用』を著した鈴木正三は、世俗的な職業生活に努力することのうちに仏道修行が実現されると教えた。
- 3 『自然真営道』を著した二宮尊徳は、すべての人が直接田畑を耕して自給自足する万人直耕の世界を理想とした。
- 4 懐徳堂に学んだ山片蟠桃は、『翁の文』を著し、神道・儒教・仏教の三教の成立を論じ、現代に生きる「誠の道」を提唱した。
- 5 『都鄙問答』を著した西川如見は、正直と儉約を中心に商人の最も具体的な道を説き示した。

ウ 下線部 c に関連して、文明開化以降、社会が西洋化する一方で日本の伝統文化に対する意識が高まった。三宅雪嶺ら政教社のメンバーが雑誌『日本人』で提唱した、近代日本の欧化主義的動向に対立して、日本固有の長所や伝統的な価値を擁護し、発展させようとする思潮を何というか。漢字4字で答えよ。

エ 下線部 d に関連して、明代の思想家である王陽明の語録、書簡をまとめた『伝習録』では、「知は行の始、行は知の成れるなり。聖学は只だ一箇の功夫。知行は分ちて両事と作す可らず。」という考え方が示されている。認識と実践は分離できないとするこの考え方を何というか、漢字 4 字で答えよ。

オ 下線部 e について、右の作品はオランダの画家レンブラントが描いたものである。『新約聖書』「ルカによる福音書」で語られている「放蕩息子のたとえ話」が主題となっており、父親が息子を抱きしめる場面を描いている。「放蕩息子のたとえ話」で語られているイエスの教えは何か、たとえ話の内容を踏まえて、簡潔に説明せよ。

著作権保護の観点により、
本作品を掲載いたしません。

出典：
エルミタージュ美術館
公式サイト
(<https://www.hermitagemuseum.org/wps/portal/hermitage/digital-collection/01.paintings/43413>)

カ 下線部 f について、明治時代に人間のエゴイズム（利己主義）の問題を深く見つめ、近代的自我のあり方を鋭く追究した作品を多く執筆し、晩年には「則天去私」という境地を願うようになった作家は誰か答えよ。

(3) 次の文章は、金融庁の概要についてまとめたものである。この文章を読み、以下のア～エの各問いに答えよ。

金融とは、身体をめぐる血液のようなものであり、資金が適切に供給されていくことで、経済や国民の生活の向上が図られます。金融庁は、金融を取り巻く環境が急激に変化する中であっても、(1) 金融システムの安定/金融仲介機能の発揮、(2) 利用者保護/利用者利便、(3) 市場の公正性・透明性/市場の活力のそれぞれを両立させることを通じて、企業・経済の持続的成長と安定的な資産形成等による国民の厚生を増大を目指すことを目標とし、金融行政に取り組んでいます。

(金融庁 HP より)

ア 下線部 a に関連して、銀行など金融機関が預金の受け入れと貸し出しを繰り返すことで、当初の預金の何倍もの貸出しを行うことのできる機能を信用創造と呼ぶが、当初の預金を 360 億円、支払準備率（預金準備率）を 15% とした時の信用創造額を答えよ。

イ 下線部 b に関連して、『経済発展の理論』を著し、資本主義発展の担い手としての企業が導入する新機軸（イノベーション）が経済発展の動力であると考えた、オーストリア生まれで後にアメリカでも研究・執筆活動を行った経済学者は誰か答えよ。

ウ 下線部 c に関連して、日本の社会保障制度における年金制度の運営の財政方式には、積立方式と賦課方式がある。それぞれの方式におけるインフレーション時の特徴を以下の語句を使って説明せよ。

価値 減少 変動

エ 下線部 d に関連して、金融と技術を組み合わせた造語で、スマートフォン等を使った送金など金融サービスと情報技術を結びつけたさまざまな革新的な動きを何というかカタカナ6字で答えよ。

令和7年度大阪府公立学校教員採用選考テスト

第二次選考択一問題の正答について

校種	高等学校	教科・科目	公民（倫理）
----	------	-------	--------

大問番号	<i>1</i>							<i>2</i>							<i>3</i>							<i>4</i>						
解答番号	1	2	3	4	5	6	7	8	9	10	11	12	13	14	15	16	17	18	19	20	21	22	23	24	25	26	27	28
正答番号	3	1	3	4	4	2	5	5	2	1	4	3	5	3	2	1	5	4	5	2	3	2	4	5	1	3	4	3

受験番号	
------	--

令和7年度大阪府公立学校教員採用選考テスト

高等学校 公民（倫理） 解答用紙 (3枚のうち1)

5

得点	
----	--

--

(1)	ア	①	3	/					
		②	個人のパーソナリティ特徴を表す一貫して観察される行動傾向やそのまとまりを特性といい、この特性をパーソナリティの構成単位とみなし、それを組み合わせてパーソナリティを記述・説明する考え方。		/				
	イ	①	自己中心性	/	②	ボウルビィ	/		
		③	スチューデントアパシー	/					
	ウ		レヴィナス	/					
	エ	①	4	/					
		②	阿弥陀仏の本願として、衆生を救済しようという願いがあり、その本願によって信仰者（私たち）の浄土往生がなされるため、信仰者（私たち）は心配して自ら手段を講じずに、阿弥陀仏のはからいに委ねるという絶対他力の信仰。		/				
	オ	①	あ	幸福（エウダイモニア）	/	い	孟子	/	
		②		『神の国』	/				
		③	美しい音楽に聞き惚れて、我を忘れていたときのような、自己の存在（主体）と、認識の対象となる物質（客体）の区別を意識していない主客未分の直接経験のこと。		/				
		④		ロールズ	/				

--

--

--

--

--

受験番号	
------	--

令和7年度大阪府公立学校教員採用選考テスト

高等学校 公民（倫理） 解答用紙 (3枚のうち2)

5 (続き)

(2)	ア	あ	目的	/	い	手段	/	<input type="checkbox"/>
	イ	2		/				<input type="checkbox"/>
	ウ	国粹主義		/				<input type="checkbox"/>
	エ	知行合一		/				<input type="checkbox"/>
	オ	放蕩のかぎりを尽くし全財産を失った(=罪人となった)息子であっても、愛する子どもとして受け入れる父親の姿を通して、神の愛(アガペー)とは、見返りを求めない無償の愛であることを説いた。					/	<input type="checkbox"/>
	カ	夏目漱石		/				<input type="checkbox"/>

受験番号	
------	--

令和7年度大阪府公立学校教員採用選考テスト

高等学校 公民（倫理） 解答用紙 (3枚のうち3)

--

5 (続き)

(3)	ア	2,040 億 円	/	
	イ	シュンペーター	/	
	ウ	積立方式では、将来受け取る予定の年金として、現時点で一定の額を積み立てておいても、インフレーション時には、その額の価値が著しく減少してしまう可能性がある。一方、賦課方式は、その時の現役世代の保険料を原資とするため、インフレーション時には、その額の価値の変動に対応しやすい。		/
	エ	フィンテック	/	

--

--

--

--