

## 高等学校 工業（機械）

### 解答についての注意点

- 1 解答用紙は、記述式解答用紙とマーク式解答用紙の2種類があります。
- 2 大問 **1** については、記述式解答用紙に、大問 **2** ～大問 **5** については、マーク式解答用紙に記入してください。
- 3 解答用紙が配付されたら、まずマーク式解答用紙に受験番号等を記入し、受験番号に対応する数字を、鉛筆で黒くぬりつぶしてください。  
記述式解答用紙は、全ての用紙の上部に受験番号のみを記入してください。
- 4 大問 **2** ～大問 **5** の解答は、選択肢のうちから、**問題で指示された解答番号**の欄にある数字のうち一つを黒くぬりつぶしてください。  
例えば、「解答番号は  」と表示のある問題に対して、「**3**」と解答する場合は、解答番号  の欄に並んでいる ① ② ③ ④ ⑤ の中の ③ を黒くぬりつぶしてください。
- 5 間違ってぬりつぶしたときは、消しゴムできれいに消してください。二つ以上ぬりつぶされている場合は、その解答は無効となります。
- 6 その他、係員が注意したことをよく守ってください。

指示があるまで中をあけてはいけません。

- 1 次の図に示す物体の第三角法による正投影図（三面図）について、定規を用いて等角図（立体図）で描け。ただし、解答用紙に示す、立方体の一辺を正投影図（三面図）の1目盛とする。また、解答用紙の△印を基点とし、かくれ線は記入しない。

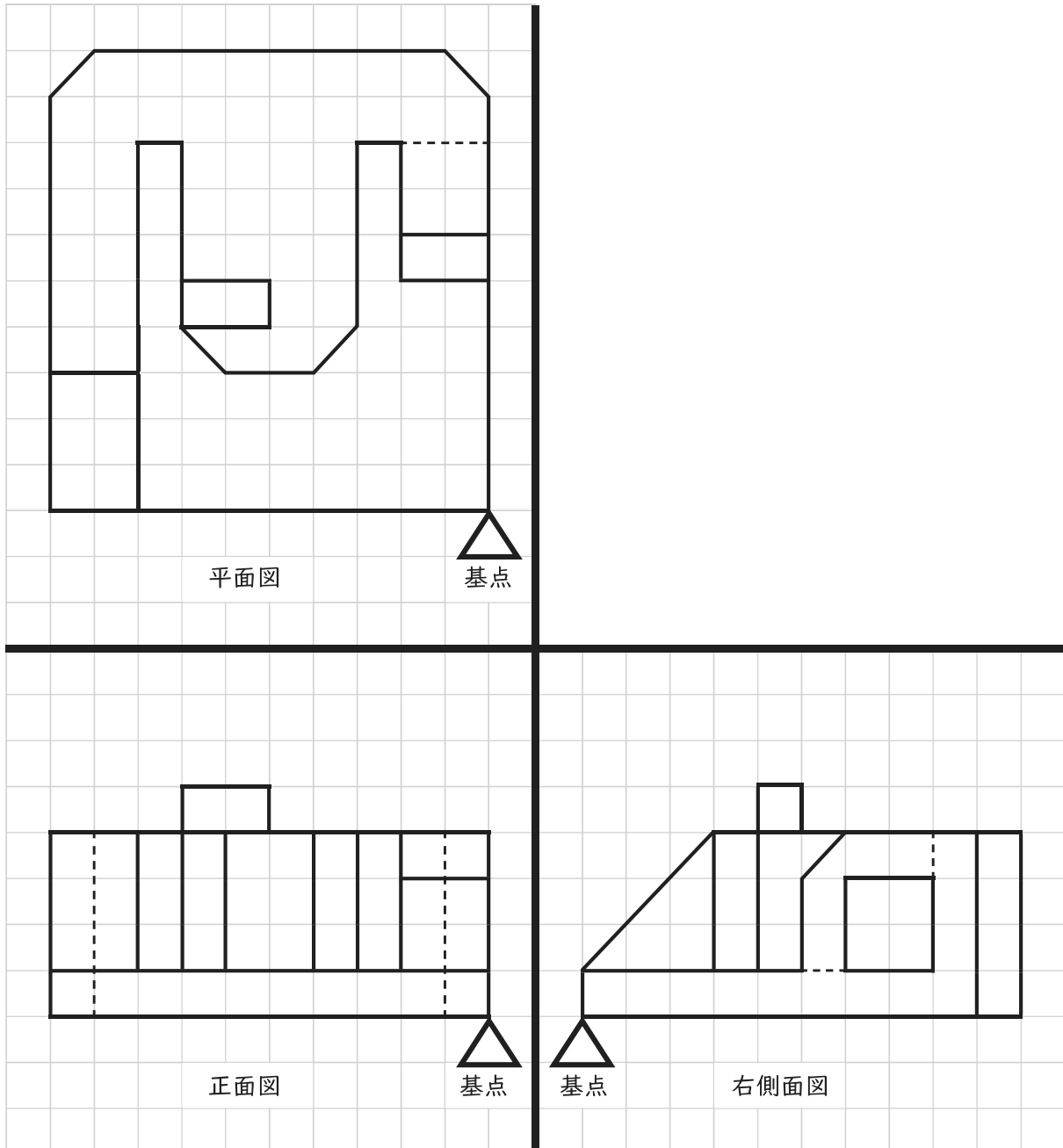


図 正投影図（三面図）

2 次の(1)～(7)の問いに答えよ。

(1) 次の文章の  ～  にあてはまる語句の組合せとして、最も適切なものを 1～5 から一つ選べ。解答番号は

著作権保護の観点により、本文を掲載いたしません。

出典：高校の情報Ⅰが一冊でしっかりわかる問題集  
鎌田高德／御家雄一著 株式会社かんき出版  
19ページ

	ア	イ	ウ
1	コンピュータウイルス	セキュリティ対策ソフトウェア	パスワード
2	コンピュータウイルス	トロイの木馬	ハッキング
3	ホワイトハッカー	トロイの木馬	パスワード
4	ホワイトハッカー	セキュリティ対策ソフトウェア	ハッキング
5	セキュリティ対策ソフトウェア	トロイの木馬	ハッキング

(2) 次の表に示す測定値の有効数字のけた数の  ～  の組合せとして、最も適切なものを 1～5 から一つ選べ。解答番号は

測定値	測定値の有効数字のけた数
0.03005 [V]	<input type="text" value="ア"/>
101 [mg]	<input type="text" value="イ"/>
100.100 [g]	<input type="text" value="ウ"/>
$1.602 \times 10^{-19}$ [C]	<input type="text" value="エ"/>

表

	ア	イ	ウ	エ
1	3	3	6	3
2	3	6	6	19
3	4	3	6	4
4	4	6	4	4
5	5	6	4	19

(3) 2 [m/s] を [km/h] に単位換算すると  [km/h] となる。36 [km/h] を [m/s] に単位換算すると  [m/s] となる。このときの ,  の値の組合せとして、最も適切なものを 1 ~ 5 から一つ選べ。解答番号は

	ア	イ
1	3.6	10
2	3.6	20
3	7.2	5
4	7.2	10
5	7.2	20

(4) 次に示す数を指定された基数に変換したとき、 ~  に当てはまる数の組合せとして、最も適切なものを 1 ~ 5 から一つ選べ。解答番号は

$$(111111)_2 = (\text{ア})_{10}$$

$$(111111)_2 = (\text{イ})_{16}$$

$$(11)_{16} = (\text{ウ})_{10}$$

	ア	イ	ウ
1	63	5F	11
2	63	3F	17
3	127	5F	17
4	127	3F	21
5	255	5F	11

(5) 次の図1に示す論理回路の真理値表中の  ~  に当てはまる値の組合せとして、最も適切なものを1~5から一つ選べ。解答番号は

論理回路

入力		出力
A	B	F
0	0	<input type="text" value="ア"/>
0	1	<input type="text" value="イ"/>
1	0	<input type="text" value="ウ"/>
1	1	<input type="text" value="エ"/>

真理値表

図1

	ア	イ	ウ	エ
1	0	0	0	1
2	0	0	1	0
3	1	0	0	1
4	1	0	1	1
5	1	1	0	1

(6) 次の文章の  ~  にあてはまる語句の組合せとして、最も適切なものを 1 ~ 5 から一つ選べ。解答番号は

図2に示すコンピュータ制御システムでは、コンピュータが  からの信号を判断して、 を制御する。 は、温度・光・圧力・ガスなどの物理量や化学量を電圧や電流などの電気量に変換する装置である。温度を測定する  の例として、 がある。 の例として、油圧や空気圧、電気力によって直線運動を生じさせる  がある。

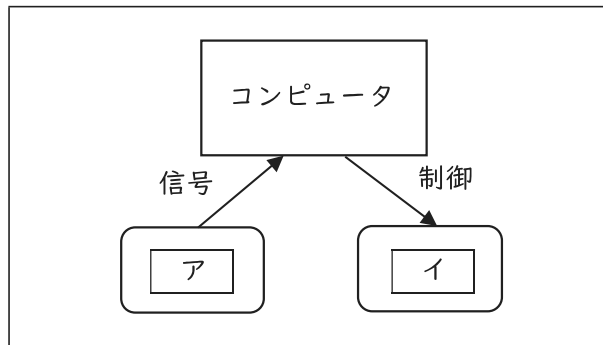


図2

	ア	イ	ウ	エ
1	アクチュエータ	インタフェース	CdSセル	モータ
2	アクチュエータ	センサ	圧電素子	シリンダ
3	インタフェース	センサ	サーミスタ	シリンダ
4	センサ	アクチュエータ	圧電素子	モータ
5	センサ	アクチュエータ	サーミスタ	シリンダ

(7) 次の図3に示す流れ図で出力されるSの値として、最も適切なものを1～5から一つ選べ。

解答番号は

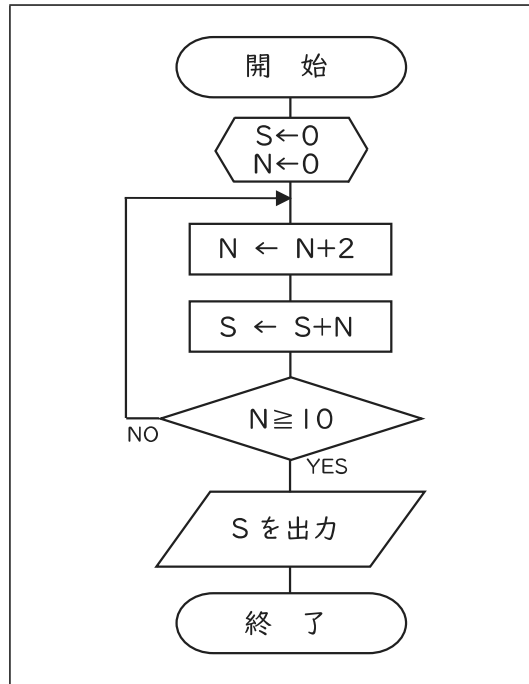


図3

1 2

2 10

3 30

4 50

5 55

3 次の(1)～(7)の問いに答えよ。

(1) 次の表に示すSI基本単位の物理量について、ア～ウに当てはまる単位記号の組合せとして、最も適切なものを1～5から一つ選べ。解答番号は 8

物理量	単位記号
質量	ア
熱力学温度	イ
光度	ウ

表

- |   |    |    |    |
|---|----|----|----|
|   | ア  | イ  | ウ  |
| 1 | g  | °C | lx |
| 2 | g  | K  | lm |
| 3 | kg | °C | cd |
| 4 | kg | °C | lm |
| 5 | kg | K  | cd |

(2) アナログ式回路計を用いて測定レンジを「DCV 5V」に設定し、直流電圧を測定したところ、図1の値を示した。このときの直流電圧[V]の値として、最も適切なものを1～5から一つ選べ。解答番号は 9

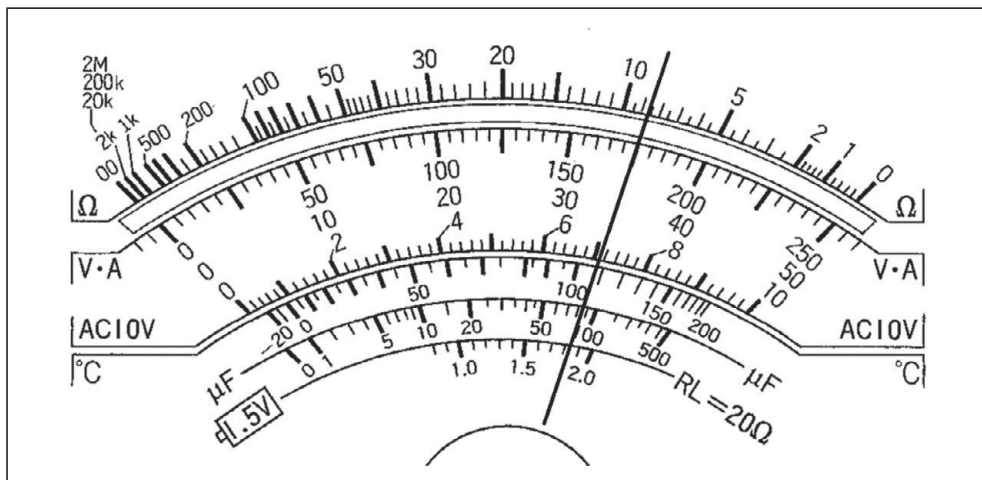


図1

- 1 1.83      2 3.5      3 7.1      4 35      5 175



(3) 次の図2に示す回路について、電流  $I$  [A] の値として最も適切なものを1～5から一つ選べ。

解答番号は

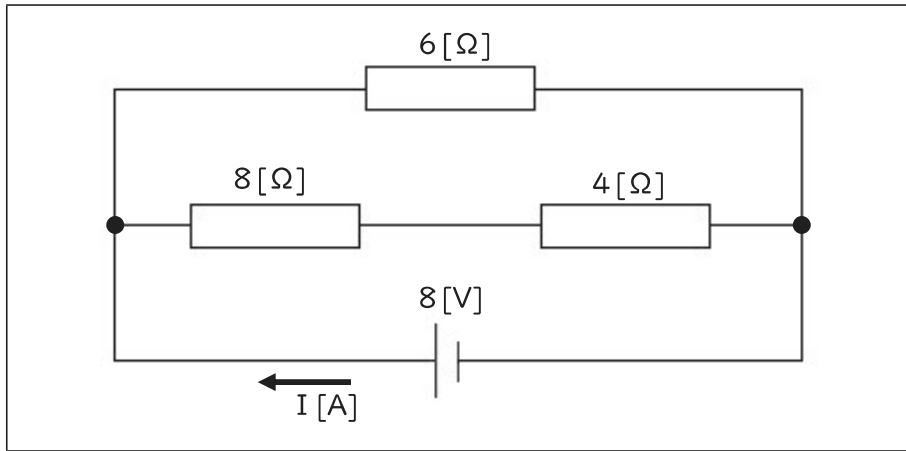


図2

- 1 1            2 2            3 4            4 8            5 16

(4) JIS B 0001に規定されている寸法補助記号と意味の組合せとして、最も適切なものを1～5から一つ選べ。解答番号は

	記号	意味
1	+	45° の面取り
2	□	正方形の辺
3	C	厚さ
4	φ	球半径
5	R	円弧の長さ

(5) 工具の説明として、誤っているものを1～5から一つ選べ。解答番号は

- 1 木工用のこぎりも金属用のこぎり（弓のこ）も、材料を切る際は引くときに力を入れて使う。
- 2 ねじ回し（ドライバ）は用途によりいろいろな形があり、木ねじや小ねじなどを締めつけたり緩めたりする工具である。
- 3 ペンチのうち、丸ペンチには刃部がない。
- 4 斜めニッパは電気コードや細い針金などを切る際に使用する。
- 5 モンキレンチは口幅の開きぐあいをねじで調節し、対象物と密着させ必ず下あご側へ回して使用する。

(6) 知的財産権制度の説明として、最も適切なものを1～5から一つ選べ。解答番号は

- 1 特許制度は、物品に関する技術的な特徴などちょっとした工夫が産業上役立つことも多く、また、日常生活の便宜を増大することから、いわゆる小発明（考案）を保護するための制度である。
- 2 商標制度では、物品の形状、模様若しくは色彩又はこれらの結合、建築物の形状等、又は画像であって、視覚を通じて美感を起こさせるものを「商標」として定義している。
- 3 著作権は、申請や登録といった手続きを一切必要とせず、著作物を創作した時点で自動的に発生する権利であり、著作権の保護期間は、原則として著作者の死後70年を経過するまでの間である。
- 4 意匠制度は、事業者が、自己（自社）の取り扱う商品・サービスを他人（他社）のものとは区別するために使用するマーク（識別標識）を保護する制度である。
- 5 実用新案制度は、発明者に対し、実用新案登録出願の日から30年間、実用新案権という独占的な権利を与えて発明の保護を図る一方、その発明を公開して利用の機会を図り、産業の発達に寄与しようとする制度である。

(7) 環境問題や環境改善についての説明として、誤っているものを1～5から一つ選べ。

解答番号は

- 1 化石燃料の大量使用により、酸性雨、地球温暖化がおり、海面上昇や気象への影響、生態系への影響などが生じる可能性がある。
- 2 省資源化や資源の再利用を推進するためには、廃棄物の発生抑制、再利用、再生利用の3Rが可能な循環型社会の実現が必要である。
- 3 海に流出したプラスチックが紫外線や波の力などによりマイクロプラスチックに分解され、海洋生物・生態系への影響が懸念されている。
- 4 いわゆる家電リサイクル法とは、特定家庭用機器廃棄物から有用な部品や材料をリサイクルし、廃棄物を減量するとともに、資源の有効利用を推進するための法律である。
- 5 燃料を燃やしたり燃料電池などで発電する際、発生する排熱を空調や給湯の熱源として利用し、エネルギーを高効率で利用する技術をヒートポンプという。

4 次の(1)～(6)の問いに答えよ。

(1) 次の図1に示す平面図形の重心として、最も適切なものを1～5から一つ選べ。

解答番号は

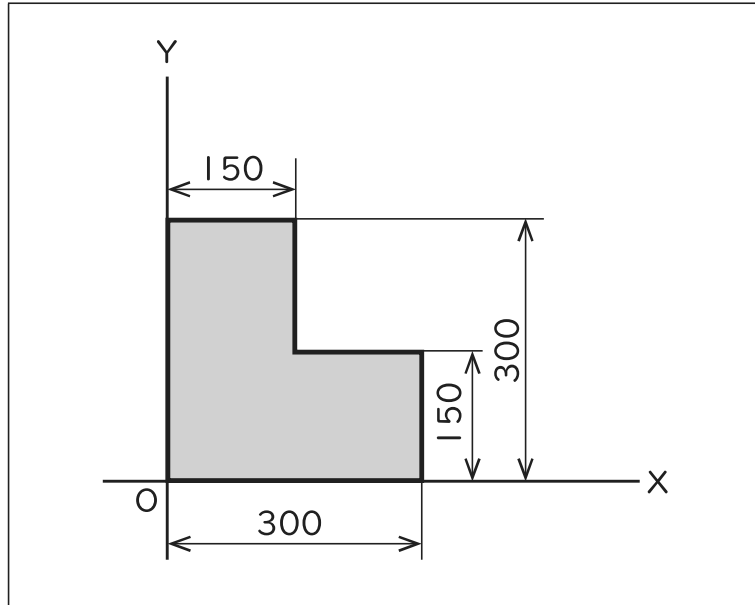


図1

	X	Y
1	75	75
2	75	150
3	125	125
4	150	150
5	150	225

(2) 次の図2に示すフォークリフトを使って質量1000[kg]の荷物を3秒間で高さ1.5[m]までゆっくりと持ち上げた。このときの動力[kW]の値として、最も適切なものを1～5から一つ選べ。ただし、重力加速度  $g = 9.8 [m/s^2]$  とし、エネルギーの損失はないものとする。

解答番号は

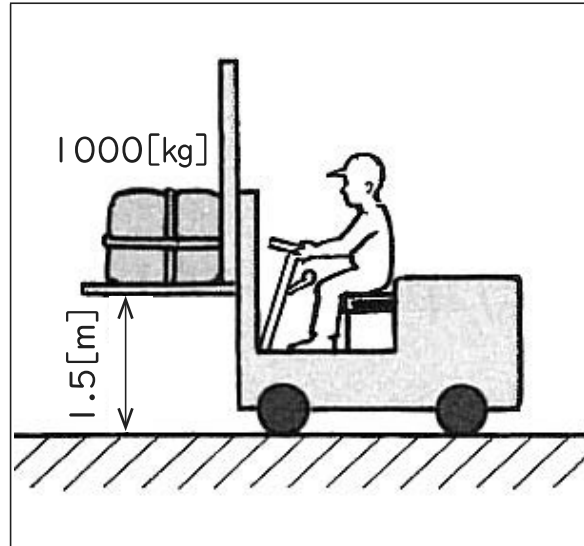


図2

1 1.96

2 3.15

3 4.41

4 4.5

5 4.9

(3) エレベータが上向きに $1.5[m/s^2]$ の加速度で上昇をはじめるとき、エレベータ内にある質量 $50[kg]$ の人がエレベータの床を押す力 $[N]$ の値として、最も適切なものを1~5から一つ選べ。ただし、重力加速度 $g = 9.8[m/s^2]$ とし、エネルギーの損失はないものとする。

解答番号は

- 1 33      2 75      3 327      4 565      5 735

(4) 次の図3に示す滑車のしかけて、物体に働く重力 $W = 1500[N]$ のとき、ロープを引く力 $F[N]$ の値として最も適切なものを1~5から一つ選べ。ただし、ロープ及び滑車の重さは考えないものとする。解答番号は

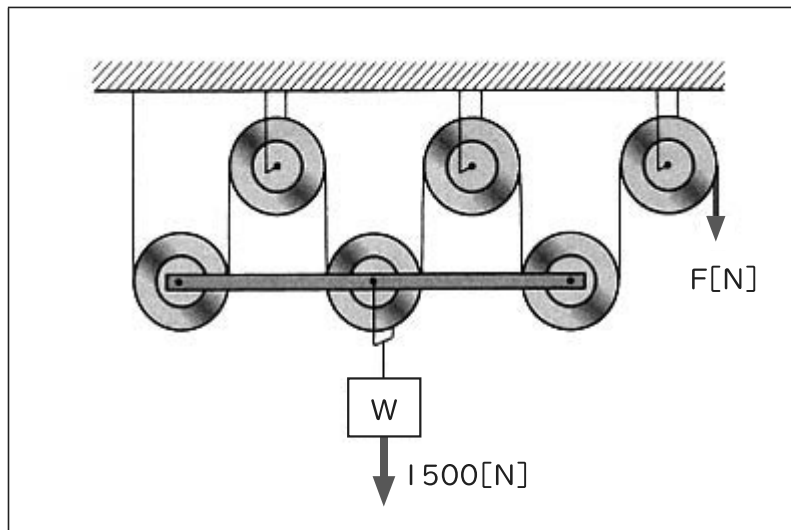


図3

- 1 250      2 300      3 500      4 750      5 1500

(5) 次の図4に示す外接円筒摩擦車の2軸の中心距離が300[mm]、回転速度 $n_1=480[\text{min}^{-1}]$ 、 $n_2=160[\text{min}^{-1}]$ のとき、外接円筒摩擦車の直径 $d_1$ [mm]、 $d_2$ [mm]の値として、最も適切なものを1~5から一つ選べ。解答番号は

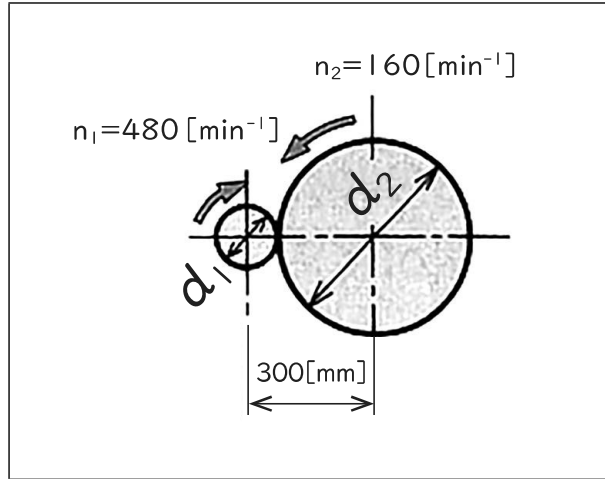


図4

	$d_1$	$d_2$
1	100	400
2	150	450
3	150	600
4	200	400
5	200	600

(6) 次の図5に示す片持ちばりについて、次のア、イの各問いに答えよ。

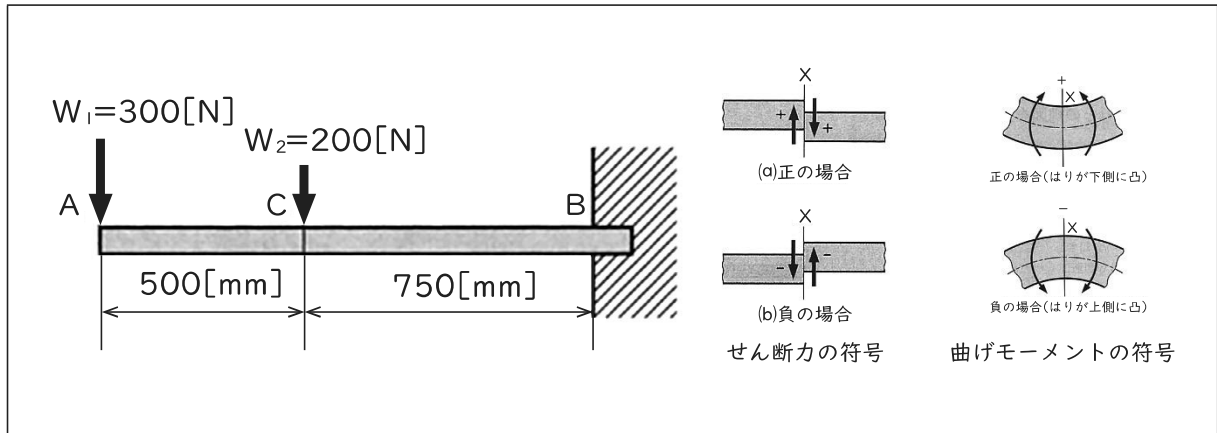


図5

ア CB間におけるせん断力  $F$  [N] の値として、最も適切なものを 1 ~ 5 から一つ選べ。

解答番号は

- 1 -500      2 -200      3 200      4 300      5 500

イ 点Bにおける最大曲げモーメント [N・mm] の値として、最も適切なものを 1 ~ 5 から一つ

選べ。解答番号は

- 1  $-625 \times 10^3$       2  $-525 \times 10^3$       3  $-375 \times 10^3$   
 4  $-150 \times 10^3$       5  $-125 \times 10^3$

5 次の(1)～(7)の問いに答えよ。

(1) 鉄鋼材料について、JISに規定されている種類の記号と鋼材の種類を組合せとして、誤っているものを1～5から一つ選べ。解答番号は

	種類の記号	鋼材の種類
1	SM400A	溶接構造用圧延鋼材
2	SSC400	一般構造用軽量形鋼
3	SKH2	高速度工具鋼鋼材
4	SPV235	圧力容器用鋼板
5	SS400	機械構造用炭素鋼鋼材

(2) 炭素鋼(共析鋼)の熱処理の説明として、最も適切なものを1～5から一つ選べ。  
解答番号は

- 1 焼ならしの操作が完了したときの組織はマルテンサイトである。
- 2 サブゼロ処理は、焼入れの操作前に0 [°C]以下に冷却する操作のことである。
- 3 焼戻しの温度を250 [°C]～350 [°C]に設定すると、脆性が生じる。
- 4 焼入れの操作が完了したときの組織はトルースタイトである。
- 5 焼なましの操作が完了したときの組織はセメントタイトである。

(3) ある金属材料の引張試験を、平行部直径10 [mm]、原標点距離50 [mm]のJIS 4号試験片を用いて行ったところ、破断後の最も細くなった部分の直径が8 [mm]、最終標点距離は56 [mm]であった。この時の絞り [%]の値として、最も適切なものを1～5から一つ選べ。ただし、円周率は3.14とする。解答番号は

1 2                      2 12                      3 20                      4 36                      5 64



(4) 次の文章が示す鑄造法として、最も適切なものを1～5から一つ選べ。解答番号は

ろうで作った模型の周りに耐火性の材料を詰めた後、加熱してろうを流しだすことで空洞を有する鑄型を作り、これに溶湯を流し込むことで部品を鑄造する方法であり、複雑形状を持つ特殊合金の精密鑄造などに使用される。

- 1 Vプロセス法
- 2 ロストワックス法
- 3 遠心鑄造法
- 4 シェルモールド法
- 5 連続鑄造法

(5) 研削砥石の説明として、誤っているものを1～5から一つ選べ。解答番号は

- 1 砥粒には人造研削材と超砥粒があり、超砥粒はアルミナ質研削材と炭化けい素研削材に分けられる。
- 2 砥粒は切削工具でいえば切れ刃に相当し、工作物の微小切込み切削を行う。
- 3 気孔は切りくずを一時ためておく空間で、チップポケットになるとともに、湿式研削の場合は研削油剤のたまり場にもなる。
- 4 砥粒、結合剤、気孔の3項目を「砥石の3要素」という。
- 5 砥粒の種類、粒度、結合剤の種類、結合度、砥石の組織の5項目を「砥石の5因子」という。

(6) 旋盤で直径40[mm]の工作物の外周切削を行うとき、切削速度を20[m/min]とした場合の工作物の回転速度[ $\text{min}^{-1}$ ]の値として、最も適切なものを1～5から一つ選べ。ただし、円周率は3.14とする。解答番号は

- 1 2.5          2 6.3          3 159.2          4 636.9          5 2512

(7) 直径150[mm]、刃数6の正面フライスで、工作物を正面フライス削りする場合、フライス盤のテーブルの送り速度[mm/min]の値として、最も適切なものを1～5から一つ選べ。ただし、フライス盤の主軸の回転速度300[ $\text{min}^{-1}$ ]、1刃あたりの送り量は0.2[mm/刃]とする。解答番号は

- 1 23.55          2 28.26          3 141.3          4 360          5 847.8



令和7年度大阪府・堺市公立学校教員採用選考テスト

第二次選考択一問題の正答について

校種	高等学校	教科・科目	工業（機械）
----	------	-------	--------

大問番号	<b>2</b>							<b>3</b>							<b>4</b>							<b>5</b>						
解答番号	<b>1</b>	<b>2</b>	<b>3</b>	<b>4</b>	<b>5</b>	<b>6</b>	<b>7</b>	<b>8</b>	<b>9</b>	<b>10</b>	<b>11</b>	<b>12</b>	<b>13</b>	<b>14</b>	<b>15</b>	<b>16</b>	<b>17</b>	<b>18</b>	<b>19</b>	<b>20</b>	<b>21</b>	<b>22</b>	<b>23</b>	<b>24</b>	<b>25</b>	<b>26</b>	<b>27</b>	<b>28</b>
正答番号	1	3	4	2	4	5	3	5	2	2	2	1	3	5	3	5	4	1	2	1	2	5	3	4	2	1	3	4

受験番号



令和7年度大阪府・堺市公立学校教員採用選考テスト

高等学校 工業（機械） 解答用紙 (1枚のうち1)

1	得点	
---	----	--

