

(解答上の注意)

- (1) 解答は、全て解答用紙に記入すること。
 (2) 【共通問題】の ～ は、全員が解答すること。
 (3) 【選択問題】は、各自が3問選び解答すること。

【歴史総合】

ゆうきさんは資料1～3の建造物について調べたことをノート1～3にそれぞれまとめた。下記の問いに答えなさい。

資料1

資料2

資料3

ノート1 資料1は①ヴェルサイユ宮殿である。ここでは②第一次世界大戦の講和会議が開かれ、同盟国それぞれを対象とした講和条約が審議された。この講和条約にもとづくヨーロッパ国際秩序を③ヴェルサイユ体制とよんだ。

問1 下線部①に関連して、この建造物がある国はどこか、

右の図中のア～エから1つ選び、記号で答えなさい。

問2 下線部②に関連して、次の問いに答えなさい。

- (1) 第一次世界大戦に関連して述べた次のア～エのうち、
 適当でないものを1つ選び、記号で答えなさい。

ア オーストリア帝位継承者夫妻がセルビア人青年に暗殺されたサラエヴォ事件をきっかけに、オーストリアはセルビアに宣戦布告した。

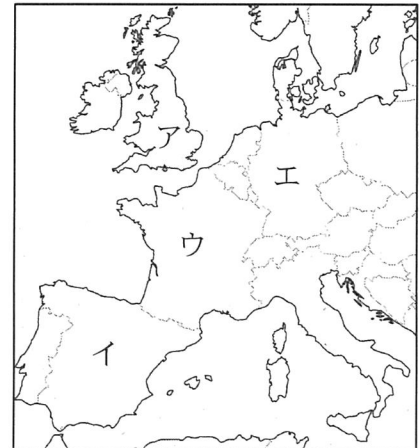
イ ドイツ・オーストリアの同盟国側とロシア・イギリス・フランスの連合国側との戦争となった。

ウ 参戦した国々の国民や物資が全面的に動員される総力戦であった。

エ 当初中立であったアメリカはドイツによる無制限潜水艦作戦を理由に同盟国側で参戦した。

- (2) 日本は、第一次世界大戦において、ある国とのどのような外交関係を理由に参戦し、どのような軍事行動を行ったか、説明しなさい。

図



問3 下線部③に関連して、ヴェルサイユ体制が構築されてから、第二次世界大戦が勃発するまでの出来事について述べた次のア～エが年代順になるように左から記号で答えなさい。

ア ヨーロッパ北西部の国境を維持するロカルノ条約が結ばれた。

イ ニューヨーク証券取引所でおこった株価の大暴落をきっかけに世界恐慌が発生した。

ウ 関東軍が柳条湖で南満州鉄道の線路を爆破し、これを中国軍のしわざとして軍事行動を開始した。

エ ドイツでは、行政府に立法権をゆだねる全権委任法が制定された。

ノート2 資料2はアウシュヴィッツ強制収容所である。④ナチ=ドイツのもとで、ユダヤ人は組織的な迫害と大量殺戮の対象となった。⑤第二次世界大戦が始まると、ユダヤ人の多くはゲットーに収容された。⑥第二次世界大戦中に殺されたユダヤ人は600万人にのぼったといわれる。

問4 下線部④に関連して、次の問いに答えなさい。

(1) ナチ党の党首で、1933年に首相となった人物は誰か、答えなさい。

(2) ドイツ人とユダヤ人はナチ党による体制をそれぞれどのように見ていたか、【資料4】、【資料5】から読み取れることをもとに説明しなさい。

【資料4】 ドイツ人からみたナチ体制

学研究会編「世界史史料10 二〇世紀の世界I」

【資料5】 ユダヤ人からみたナチ体制

史学研究会編「世界史史料10 二〇世紀の世界I」

問5 下線部⑤に関連して、次の問いに答えなさい。

(1) 第二次世界大戦中に日本が行った出来事として最も適当なものを次のア～エから1つ選び、記号で答えなさい。

ア 中国では、国民政府の有力者である毛沢東に南京国民政府をつくらせた。

イ フランス領インドシナでは、援蔣ルートの遮断と資源獲得を目的に南部に進駐した。

ウ 朝鮮では、日本の家族制度を強制し、日本式に名前をかえる創氏改名が実施された。

エ アメリカ領マレー半島では、陸軍による上陸作戦を開始し、太平洋戦争が始まった。

検査Ⅳ 地理歴史・公民 【共通問題】

(2) 第二次世界大戦中に起きた出来事 X・Y と、その説明 a～d との組合せとして最も適当なものを次のア～エから 1 つ選び、記号で答えなさい。

X 大西洋憲章の発表

Y ヤルタ会談の実施

a アメリカとイギリスの首脳が戦後秩序の構想を明らかにした。

b 秘密外交の廃止や平和機構の設立など十四か条の平和原則を示した。

c アメリカ、イギリス、中国の首脳が集まり、日本の植民地を独立・返還させることを求めた。

d アメリカ、イギリス、ソ連の首脳が集まり、ドイツの占領方針が決められた。

ア X-a Y-c イ X-a Y-d ウ X-b Y-c エ X-b Y-d

問 6 下線部⑥に関連して、第一次世界大戦と第二次世界大戦を比較した資料 6 から読み取れることとして適当でないものを下のア～エから 1 つ選び、記号で答えなさい。

資料 6

	戦死兵	傷病兵	民間死者	総戦死者
第一次世界大戦	802 万人	2122 万人	664 万人	1466 万人
第二次世界大戦	2357 万人	1026 万人	3116 万人	5473 万人

ア 第二次世界大戦における総戦死者は、第一次世界大戦の総戦死者よりも多い。

イ 第一次世界大戦では、民間人よりも兵士の方が多く亡くなっている。

ウ 第一次世界大戦と第二次世界大戦で総戦死者に占める民間死者の割合が同じである。

エ 第二次世界大戦では戦死兵と傷病兵の合計より民間死者の数の方が少ない。

ノート 3 資料 3 はベルリンの壁である。⑦東西両陣営の間の冷戦が進行し、ベルリンでの東西対立が激化した。1961 年に東ドイツの人々が西ドイツに脱出・亡命するのを防ぐ目的で築かれ、東西分断の象徴的存在であった。1989 年に東欧諸国で共産党の独裁体制が次々と崩壊し、ベルリンの壁が開放され、⑧12 月のマルタ会談で冷戦の終結が宣言された。

問 7 下線部⑦に関連して、資本主義圏と社会主義圏の対立の状況について述べた文として適当なものを次のア～エからすべて選び、記号で答えなさい。

ア アメリカがトルーマン=ドクトリンやマーシャル=プランといった共産主義に対する封じ込め政策を行うと、ソ連は各国共産党の間の連絡・調整機関としてコムンフォルムを設立した。

イ アメリカ、イギリス、フランス、ソ連の 4 か国によって分割占領されていたドイツは東西に分断され、ドイツ連邦共和国とドイツ民主共和国が成立した。

ウ 朝鮮では、北緯 38 度線を境として、南にソ連軍、北にアメリカ軍が進駐し、1948 年、南部に大韓民国が、北部に朝鮮民主主義人民共和国が成立した。

エ 1949 年には、社会主義圏の国々がコメコンを設立し、アメリカ、カナダ、資本主義圏の西ヨーロッパ諸国は EU を結成した。

問 8 下線部⑧に関連して、次の問いに答えなさい。

- (1) この時会談したアメリカとソ連の首脳は誰か、それぞれ答えなさい。
- (2) ポツダム宣言の受諾から冷戦の終結が宣言されるまでの間に日本で起きた出来事について述べた次のア～エが年代順になるように左から記号で答えなさい。
- ア 国民主権、戦争放棄、基本的人権の尊重をおもな原理とする日本国憲法が制定された。
- イ 日中共同声明が発表され、両国の国交正常化が実現した。
- ウ 日ソ共同宣言によりソ連との国交が回復し、国際連合に加盟した。
- エ 連合国との戦争状態を正式に終結するサンフランシスコ平和条約に調印し、同日には日米安全保障条約が調印された。

2 【地理総合】

I 国家と領域について、下記の問いに答えなさい。

問 1 フランスとスペインの自然的国境として最も適当なものを次のア～エから1つ選び、記号で答えなさい。

ア アルプス山脈 イ ピレネー山脈 ウ ライン川 エ ドナウ川

問 2 国家の領域について述べた文として適当でないものを次のア～エから1つ選び、記号で答えなさい。

- ア 領域とは国家の主権が及ぶ範囲のことで、領海・領空の2つからなる。
- イ 領空には、大気圏を含むが宇宙空間を含まない。
- ウ 領海は、干潮時の海岸線から12海里までの範囲とされている。
- エ 領海の外側には、海岸から200海里まで、接続水域を含む排他的経済水域が認められている。

問 3 表1は、オーストラリア、ブラジル、メキシコ、日本の排他的経済水域（領海を含む）の面積と国土面積を示したものである。表1中のA～Dのうち、オーストラリアと日本に該当する組合せとして最も適当なものを次のア～エから1つ選び、記号で答えなさい。

表1 排他的経済水域（領海を含む）の面積と国土面積（万km²）

	A	B	C	D
排他的経済水域 （領海を含む）の面積	317	701	285	447
国土面積	852	769	196	38

（帝国書院「地理データファイル2023年度版」より作成）

- ア A-オーストラリア C-日本 イ A-オーストラリア D-日本
- ウ B-オーストラリア C-日本 エ B-オーストラリア D-日本

検査Ⅳ 地理歴史・公民 【共通問題】

問4 現在の日本で最南端の島を何というか、答えなさい。

Ⅱ 都市問題について、下記の問いに答えなさい。

問5 都市の機能と構造について述べた次の文X・Yの正誤の組合せとして最も適当なものを、下のア～エから1つ選び、記号で答えなさい。

X 大都市の都心地域では、政治・行政機関や大企業・多国籍企業の本社が集中し、中心業務地区が形成される。中心業務地区は、昼間人口は多いが、夜間人口は極めて少ない。

Y 都市郊外には都心に通勤・通学する人々が居住するニュータウンのような計画的な開発地区も見られるが、入居者の高齢化などにより、機能の維持が困難な地区もある。

ア X－正 Y－正 イ X－正 Y－誤

ウ X－誤 Y－正 エ X－誤 Y－誤

問6 表2は、アジア、アフリカ、ヨーロッパ、アングロアメリカの都市人口率の推移と2018年の都市人口を示したものである。表2中のA～Dのうち、アジア、ヨーロッパに該当する組合せとして最も適当なものを下のア～エから1つ選び、記号で答えなさい。

表2 都市人口率の推移と都市人口

	（％）			（万人）
	1950年	1990年	2018年	2018年の都市人口
A	14.3	31.5	42.5	54,760
B	17.5	32.3	49.9	226,613
C	51.7	69.9	74.5	55,291
D	63.9	75.4	82.2	29,899

（帝国書院「地理データファイル2023年度版」より作成）

ア A－アジア C－ヨーロッパ イ A－アジア D－ヨーロッパ

ウ B－アジア C－ヨーロッパ エ B－アジア D－ヨーロッパ

問7 都市への人口集中に伴い、路上での販売や廃品回収、日雇い労働など、国から就労者として公式に把握されない経済活動に従事する人々が増加した。これらの経済活動を総称して何というか、答えなさい。

問8 先進国におけるインナーシティ問題とはどのようなものか、「ドーナツ化現象」の語を用いて、説明しなさい。

検査Ⅳ 地理歴史・公民 【共通問題】

Ⅲ 次の文を読んで、下記の問いに答えなさい。

(国土地理院ホームページより作成)

問9 下線部①に関連して、気象災害とその原因となる気象現象について述べた文として最も適当なものを次のア～エから1つ選び、記号で答えなさい。

ア 地すべりは岩や土砂が水や流木と一体となって一気に流下するもので、土石流は地面が原形をとどめながらゆっくり移動するものである。

イ 外水氾濫は堤防の決壊や河川からの越水によって起こり、内水氾濫は河川への排水が追いつかずに市街地が浸水することによって起こる。

ウ 熱帯低気圧で風速が強いもののうち、北西太平洋で発生したものをサイクロン、南太平洋で発生したものをハリケーンといい、暴風雨をもたらす。

エ 低温で湿潤な小笠原気団と温暖で湿潤なオホーツク海気団の境目に発達する梅雨前線により、北海道を除く日本全国で梅雨になり、小笠原気団が強まることで梅雨が明ける。

問10 空欄 ② に当てはまる文として最も適当なものを次のア～エから1つ選び、記号で答えなさい。

ア 旧河道や後背湿地で大きく、自然堤防では小さい

イ 旧河道で大きく、後背湿地や自然堤防では小さい

ウ 自然堤防で大きく、旧河道や後背湿地では小さい

エ 自然堤防や旧河道で大きく、後背湿地では小さい

問11 下線部③に関連して、木曽川、長良川、揖斐川の河口部で、水害を防ぐため全体を堤防で囲んだ地域を何というか、答えなさい。

問12 下線部④に関連して、高潮の要因の一つである吸い上げ現象について、「気圧」「海水面」の2語を用いて説明しなさい。

検査Ⅳ

地理歴史・公民

【共通問題】

問 13 下線部⑤に関連して、地図 1 は、揖斐川の河口部の地図のうち、三重県桑名市の一部を拡大したものである。地図 1 から読み取れることについて述べた文 X・Y の正誤の組合せとして最も適当なものを、下のア～エから 1 つ選び、記号で答えなさい。

地図 1

(「地理院地図」(電子国土 Web) より作成)

X 桑名城跡は揖斐川に面し、城跡周辺の水路は揖斐川とつながっている。城跡の、北や西には自然災害伝承碑が、南には裁判所がある。

Y 桑名市には複数の鉄道会社が乗り入れている。桑名駅の南には県庁舎と水準点があり、水準点の表示から標高が 1.8m であることがわかる。

ア X-正 Y-正 イ X-正 Y-誤

ウ X-誤 Y-正 エ X-誤 Y-誤

検査Ⅳ 地理歴史・公民 【共通問題】

3 【公共】

次の文は、公共の授業で情報社会について学んでいる生徒Xと生徒Y、先生Zの会話である。これを読んで、下記の問いに答えなさい。

Z：スマートフォンやタブレットなどの情報端末を使って、インターネットを利用することが多いでしょう。インターネットの便利な面をあげてみましょう。

X：調べものをするのに便利です。本を買ったり借りたりしなくても、①情報が得られます。

Y：②SNSで交流できるので、コミュニケーションできる人の範囲が広がりました。

X：ゲームやマンガ、動画視聴などの趣味にも便利です。③民間企業が行う④ネットショッピングはもちろん、オークションやフリマのサイトで買い物も簡単にできます。

Z：生活に不可欠になっているようですね。逆にインターネットの危険な面は何でしょうか。

Y：SNSでいえば、トラブルも起きると聞きます。⑤プライバシーの侵害、個人情報の流出など、気軽に投稿できるので、不適切な表現が拡散しやすいかもしれません。

X：買い物でいえば、ネットでの買い物が広がることで、ネットでの販売を行わない小売業への影響が心配されます。また最近、⑥画面に表示される広告が自分の好みに偏っている気がして、自分で選んでいるようで、選ばされているような気もします。

Y：Xさんの言っていることはよくわかります。買い物だけでなく、私の端末に表示されるニュースや動画、SNSでも同じようなことが起きている気がします。

X：色々な国の例からも、⑦政府や地方自治体が私たちのどういう個人情報を持ち、どう活用しようとしているのかも明確にはわからないでいます。⑧18歳で選挙権が得られるので、そういったことを知らないのはよくないと思っはいるのですが。

Y：他にも授業の提出物を、生成⑨AIなどで簡単に作成できないか葛藤することもあります。

Z：便利な面と危険な面をあげてもらいましたが、漠然としている部分があるので、実際はどうなっているのか、機会をみて調べる必要がありますね。

問1 下線部①に関連して、中央省庁などに行政文書の原則公開を義務づけた1999年に制定された法律を何というか、答えなさい。

問2 下線部②に関連して、次の問いに答えなさい。

- (1) SNS（ソーシャル・ネットワーキング・サービス）の普及によって活用しやすくなったと注目される、インターネット等を通じてビジネスプランを人々に伝え、賛同した人から資金提供を受ける方法を何というか、カタカナで答えなさい。
- (2) SNSの利用に関する記述として、適当でないものを次のア～エから1つ選び、記号で答えなさい。

ア 災害時において、SNSは刻々と変化する災害の状況を反映することができるため、その点では有利な情報源といえる。

イ SNSによって、災害時におけるボランティアの募集が広く行われたことで、多くの人々による支援に結びついた例もある。

ウ SNSによって、関心や趣味などの共通項があれば、実際に会ったことがなくても仲間やコミュニティをつくることができるようになった。

エ SNSを介した情報には、真偽が不明確なものやフェイクニュースも混在する場合があったため、現在日本においては一元的に管理され、SNSではフェイクニュースは存在しない。

問3 下線部③に関連して、次の問いに答えなさい。

(1) 利潤追求の他に、環境保護など社会的課題の解決を企業の目的に掲げる社会的企業のことを何というか、カタカナで答えなさい。

(2) 民間企業が財務状況や経営にかかわる問題等の情報を開示することを何というか、最も適当なものを次のア～エから1つ選び、記号で答えなさい。

ア M&A

イ フィランソロピー

ウ ディスクロージャー

エ コングロマリット

問4 下線部④に関連して、消費者の消費行動についての記述として、適当でないものを次のア～エから1つ選び、記号で答えなさい。

ア 消費者の消費行動は企業の宣伝や広告に影響されやすい。これを依存効果という。

イ 消費者の消費行動は、関係の近い知人がある商品を所有していると同じ商品の購入を控えやすい。これをネガティブ・オプション効果という。

ウ 消費者は流行や周囲の消費行動に影響されやすい。これをデモンストレーション効果という。

エ 生産者に比べて消費者は、商品の品質や性能について情報を十分に持っていないことが多い。これを情報の非対称性という。

問5 下線部⑤に関連して、プライバシーや個人情報に関わる次の問いに答えなさい。

(1) 私生活をみだりに公開されない権利として、プライバシーの権利が認められた訴訟のもとになった、三島由紀夫の著作名を答えなさい。

(2) 政府や企業による個人情報の収集が容易になった今日、プライバシーの権利には「私生活をみだりに公開されない権利」とあわせて、どのような権利が含まれると考えられるようになったか、答えなさい。

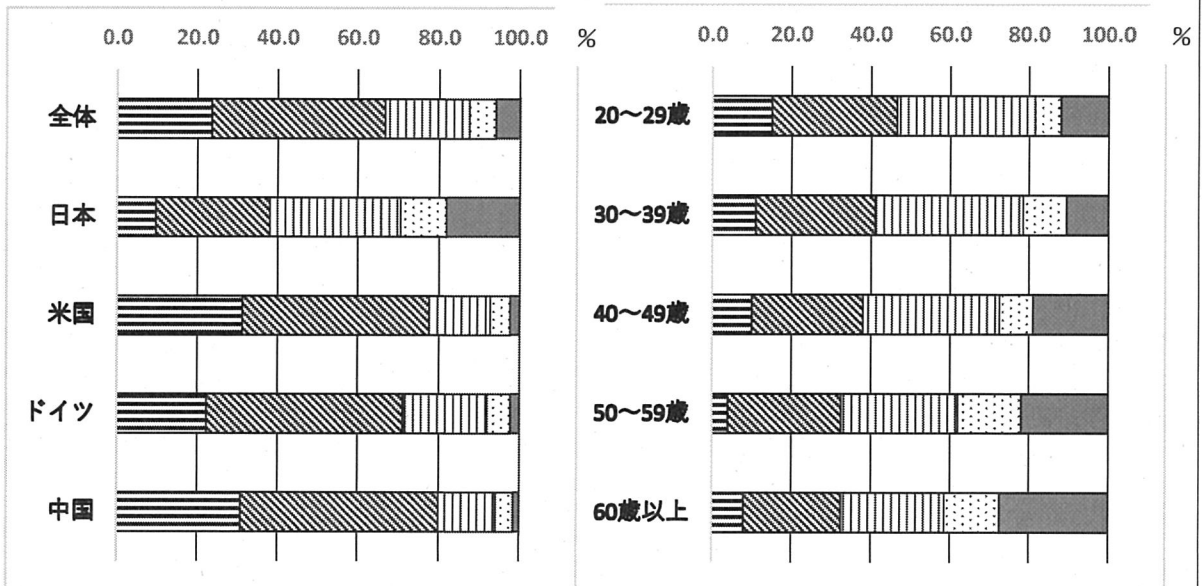
(3) 個人情報を扱う事業者や行政機関に対して、個人情報の開示、訂正、利用停止などを求めることができるように定めた法律の名称を答えなさい。

問6 下線部⑥に関連して、生徒Xは次のような資料を入手した。次の【資料1】は、消費者が「SNS等で自分の考え方に近い意見や情報が表示されやすいことに対して認識しているか」どうかを、左が主な国別、右が日本国内の世代別に示したものである。この【資料1】から読み取れることとして、適当でないものをア～エから1つ選び、記号で答えなさい。

【資料1】 SNS等で自分の考え方に近い意見や情報が表示されやすいことに対して認識しているか (%)

〈主な国別 (対象国)〉

〈世代別 (日本国内)〉



- ☐ よく知っている
- ☐ どちらかと言えば知っている
- ☐ どちらでもない
- ☐ どちらかと言えば知らない
- ☐ よく知らない

(「令和5年版情報通信白書」(総務省)より作成)

- ア 日本では「よく知っている」と「どちらかと言えば知っている」と回答した割合が他の対象国と比べて低い。
- イ 中国では「よく知っている」と「どちらかと言えば知っている」と回答した割合は、日本と比較すると2倍以上であり、対象国の中では最も高い。
- ウ 日本について年代別にみると、「よく知らない」と回答した割合は30歳代が最も低い、
「どちらかと言えば知らない」を含めると、20歳代が最も低い。
- エ 日本について年代別にみると、50歳代及び60歳以上の層は「よく知っている」「どちらかと言えば知っている」と回答した割合が20歳代と比べると3分の2未満である。

問7 下線部⑦に関連して、生徒Yは情報社会の危険性を示す次の【資料2】のような文章を見つけた。この文章の内容として最も適当なものを次のア～エから1つ選び、記号で答えなさい。

【資料2】

(ジョージ・オーウェル 高橋和久訳『一九八四年』)

- ア 進化する通信技術によって、市民の意見を反映させることが容易になり、国家としての政策が立てやすく、かつ市民の意見とも一致するデジタルデバイドを予見している。
- イ 個人が、現実世界とは別の仮想現実(バーチャル・リアリティ)のなかに埋没する危険性を予見している。
- ウ 双方向性の通信技術が用いられることによって、個人の行動や思想が監視や統制される危険性を予見している。
- エ 通信技術によって、市民は事実に即した正確さよりも、物語のような迫真性を備えた擬似イベントを一致して求める危険性を予見している。

問8 下線部⑧に関連して、高校生でも満18歳になれば、公職選挙法に定められた選挙運動をすることができるが、選挙運動でできることとして、適当でないものを次のア～エから1つ選び、記号で答えなさい。

- ア 有権者が友人や知人に電話で投票や応援を依頼すること。
- イ 有権者が電子メールで投票を依頼すること。
- ウ 有権者が自分で選挙運動メッセージを掲示板やブログに書き込むこと。
- エ 有権者が選挙運動の様子を動画サイトに投稿すること。

問9 下線部⑨に関連して、近年のAI(人工知能)はディープラーニングが可能であるという。ディープラーニングとは何か、簡潔に説明しなさい。

(解答上の注意)

- (1) 次の ～ の中から3問を選択して答えなさい。
(2) 解答は、全て解答用紙に記入すること。

【日本史探究】

次の文を読んで、下記の問いに答えなさい。なお、漢字で解答すべき問題は漢字で答えなさい。

検査Ⅳ 地理歴史 【選択問題】

問1 下線部①に関連して、「畿内・七道」に含まれないものを次のア～エからそれぞれ1つずつ選び、記号で答えなさい。

【畿内】 ア 和泉 イ 安芸 ウ 摂津 エ 河内

【七道】 ア 西海道 イ 南海道 ウ 中山道 エ 山陽道

問2 下線部②に関連して、このしくみにより人民に課された税のうち、調・庸の説明として最も適当なものを次のア～エから1つ選び、記号で答えなさい。

ア 調は絹・布や地域の特産品を納める税で、庸は地方での60日以下の労役である。

イ 調は絹・布や地域の特産品を納める税で、庸は歳役にかえて布などを納める税である。

ウ 調は田1段につき稲2束2把を納める税で、庸は歳役にかえて布などを納める税である。

エ 調は春と夏に稲を貸し付け秋の収穫時に5割の利息とともに徴収する税で、庸は地方での60日以下の労役である。

問3 下線部③に関連して、次の問いに答えなさい。

(1) この前年に大宝律令が作成されたが、刑部親王とともにその編纂の中心となり、藤原氏発展の基礎を築いた人物は誰か、答えなさい。

(2) (1)の人物が亡くなったのち政権を握った長屋王が723年に施行した三世一身法について、この法の目的と内容について説明しなさい。

問4 下線部④に関連して、東国に早くから根を下ろした桓武平氏のうち、下総を根拠地として、一族さらには国司と対立し、939年に反乱を起こした人物は誰か、答えなさい。

問5 下線部⑤に関連して、10～11世紀の国風文化について述べた次のア～オのうち、適当なものをすべて選び、記号で答えなさい。

ア 905年、紀貫之らによって最初の勅撰和歌集である『古今和歌集』が編集された。

イ 書の世界では和様と呼ばれる優美な線を表した書風が生まれ、小野道風・藤原佐理・藤原行成は三筆と呼ばれた。

ウ 貴族の住宅は、白木造・檜皮葺で開放的な書院造と呼ばれる日本風のものであった。

エ 平等院鳳凰堂の本尊である阿弥陀如来像は、仏師の定朝によって制作された。

オ 清少納言は『蜻蛉日記』の中で宮廷生活の体験を随筆風に記した。

問6 下線部⑥に関連して、14世紀以降の社会、外交及び経済について次の問いに答えなさい。

(1) 鎌倉時代末頃から各地には農民たちの自立的、自治的な村である惣村が生まれた。この惣村の運営に当たり定められた、村民が守るべき規約を何というか、答えなさい。

(2) 15世紀前半より行われた日明貿易の特徴について、当時の東アジア情勢に触れながら、「朝貢」「勘合」「明」の3語を用いて説明しなさい。

(3) 貨幣の流通について、室町幕府や戦国大名らがしばしば発布した、粗悪貨幣の使用を禁じ、各種貨幣の交換比率を定めるなどした法令を何というか、答えなさい。

検査Ⅳ

地理歴史

【選択問題】

問7 下線部⑦に関連して、次の【資料】は宗門改帳の一例である。この【資料】の戸籍に相当する内容に触れながら、宗門改めの目的と寺院が果たした役割について説明しなさい。

【資料】

『長野県史
近世史料編
第四卷(一)
南信地方』より作成

問8 空欄 に当てはまる、1872年に作成された全国的に統一された戸籍は何か、答えなさい。

2 【日本史探究】

貨幣の歴史に関する次の表について、下記の問いに答えなさい。なお、漢字で解答すべき問題は漢字で答えなさい。

検査Ⅳ

地理歴史

【選択問題】

問1 下線部①に関連して、16世紀以降の中国の動向について述べた文として最も適当なものを次のア～エから1つ選び、記号で答えなさい。

ア 清が衰退し、17世紀半ばには明が清を滅ぼした。

イ 中国は、「四つの窓口」のうち主として薩摩を通して江戸幕府と貿易を行った。

ウ 中国船は、海舶互市新例により貿易額を年間30隻、銀高6000貫に制限された。

エ 中国は、アヘン戦争でアメリカに大敗を喫した。

問2 下線部②に関連して、江戸時代の貨幣や金融に関して述べた文として、適当でないものを次のア～エから1つ選び、記号で答えなさい。

ア 三貨間の交換は基準相場が定められていたが、実際には相場は絶えず変動した。

イ 西日本ではおもに金貨が、東日本ではおもに銀貨がそれぞれ取引や貨幣計算の中心とされた。

ウ 17世紀後半以降には、各藩は領内だけに通用する藩札を発行しはじめた。

エ 大名貸や公金の取り扱いによって領主経済を左右する両替商もあった。

問3 下線部③に関連して、【資料1】は18世紀初め、将軍の下問を受け、儒学者の荻生徂徠が献上した政策提言書である。

【資料1】

(荻生徂徠『政談』現代語訳 一部改)

(1) 【資料1】の空欄 に当てはまる人物の名前を2字で答えなさい。

(2) 【資料1】の下線部に関連して、この時の貨幣改鑄はどのようなものであったか説明しなさい。

問4 空欄 に当てはまる最も適当な元号を答えなさい。

問5 下線部⑤に関連して、18世紀後半から19世紀前半の出来事である次のア～オを年代順に左から並べ替え、記号で答えなさい。

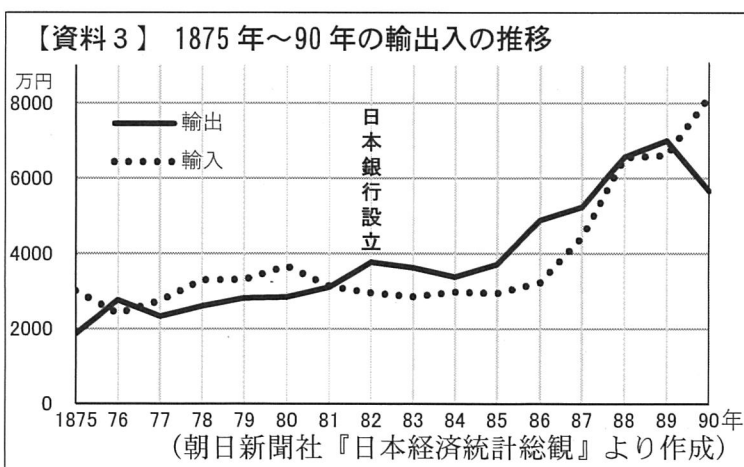
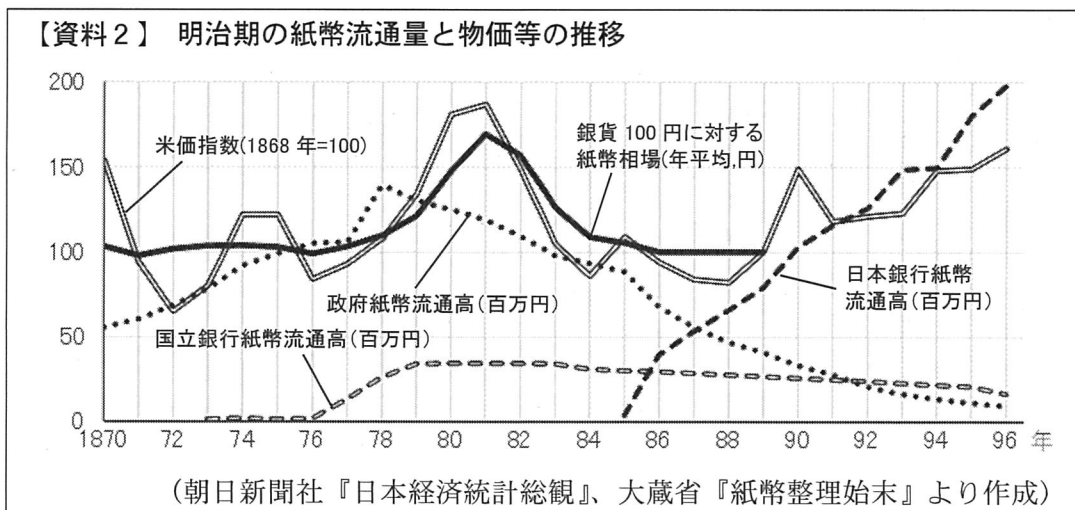
検査Ⅳ 地理歴史 【選択問題】

- ア 関八州の治安維持を目的に関東取締出役がおかれた。
 イ 浅間山噴火や冷害によって大飢饉がおり、東北地方を中心に多くの餓死者を出した。
 ウ 幕府権力の強化等をねらって江戸・大坂周辺を幕府直轄地とする上知令が発せられた。
 エ 金銀通貨の一本化をねらって、計数銀貨として南鐮二朱銀が鑄造されはじめた。
 オ 林家に朱子学以外の学問を聖堂学問所で教えることの禁止令が出された。

問6 下線部⑥に関連して、江戸時代の諸産業について述べた文として最も適当なものを次のア～エから1つ選び、記号で答えなさい。

- ア 大蔵永常が『農業全書』を著すなど農書が広く普及した。
 イ 先進的な漁法である網漁が九十九里浜の漁師によって全国に普及した。
 ウ 絹織物では高機の技術が上野桐生から京都西陣をはじめ各地に伝えられた。
 エ 大坂には二十四組問屋など多様な職種からなる問屋仲間の連合組織があった。

問7 下線部⑦に関連して、兌換制度の確立が必要であった理由について、【資料2】、【資料3】から読み取れることを参考に、「不換紙幣」という語句を用いて、当時の物価と貿易の状況に触れながら説明しなさい。



問8 空欄 に当てはまる最も適当な語句を答えなさい。

検査Ⅳ 地理歴史 【選択問題】

問9 下線部⑨に関連して、この政策は経済安定九原則に基づくドッジ=ラインの一環である。これらの政策を通じて、アメリカが日本の占領政策の転換を図った背景と目的について、東アジア情勢の変化に触れながら説明しなさい。

問10 下線部⑩に関連して、【資料4】の下線部について述べた文として適当なものを下のア～オからすべて選び、記号で答えなさい。

【資料4】 新しい日本銀行券の肖像及び図柄

種類 位置	一万円券	五千円券	千円券
表面(肖像)	A <u>渋沢栄一</u>	C <u>津田梅子</u>	D <u>北里柴三郎</u>
裏面	B <u>東京駅(丸の内駅舎)</u>	フジ(藤)	E <u>富嶽三十六景</u> [<u>神奈川沖浪裏</u>]

(日本銀行ウェブサイトより作成)

- ア Aは大阪紡績会社など多くの企業の設立、経営にかかわった。
- イ Bは辰野金吾が設計した大正期を代表する建造物である。
- ウ Cは新婦人協会を設立し、女性参政権獲得運動を展開した。
- エ Dは細菌学を研究し、伝染病の予防に貢献した。
- オ Eは菱川師宣が風景画として描いた代表的な浮世絵の作品である。

3 【世界史探究】

次の文を読んで、下記の問いに答えなさい。

(鈴木董『文字と組織の世界史 新しい「比較文明史」のスケッチ』 一部改)

問1 下線部①に関連して、マケドニアのアレクサンドロス大王について述べた文として最も適当なものを次のア～エから1つ選び、記号で答えなさい。

ア マラトンの戦いで、重装歩兵軍を中心にペルシア軍を破った。

イ イッソスの戦いで、ペルシア王ダレイオス3世を破った。

ウ アクティウムの海戦で、プトレマイオス朝エジプトの女王クレオパトラと結んだアントニウスを破った。

エ サラミスの海戦で、ペルシア海軍を破った。

問2 下線部②に関連して、イランを支配した諸王朝について述べた次のア～エを年代順に左から並べ替え、記号で答えなさい。

ア この王朝は、漢とローマを結ぶ通商路をおさえて繁栄し、中国では安息と呼ばれた。

イ この王朝は、十二イマーム派を国教とし、イランの伝統的な王の称号であるシャーを用いた。

ウ この王朝は、中央から「王の目」「王の耳」と呼ばれる監察官を派遣し、サトラップの監視などを行った。

エ この王朝は、ニハーヴァンドの戦いでイスラーム勢力に敗れたのち、滅亡した。

検査Ⅳ 地理歴史 【選択問題】

問3 下線部③に関連して、13世紀に世界で起きた出来事として最も適当なものを次のア～オから2つ選び、記号で答えなさい。

- ア メキシコ湾岸地方に、ジャガーへの信仰で知られるオルメカ文明が生まれた。
- イ フランスでは、ルイ9世が異端のアルビジョワ派（カタリ派）を制圧し、王権を南フランスに広げた。
- ウ エジプトでは、サラフ・アッディーンがファーティマ朝を廃して、アイユーブ朝を開いた。
- エ 中国では、宰相となった王安石が財政再建と富国強兵をめざして、新法を実施した。
- オ インドでは、ゴール朝の将軍アイバクがデリーで自立して奴隷王朝を開いた。

問4 下線部④に関連して、中国の王朝と朝鮮半島との関わりについて述べた文として適当でないものを次のア～エから1つ選び、記号で答えなさい。

- ア 前漢の武帝は、衛氏朝鮮を滅ぼし、楽浪郡など4郡を置いた。
- イ 隋の煬帝は、高句麗へ3次にわたり出兵したが、失敗に終わった。
- ウ 高麗は、チンギス・ハンの時代に元に服属した。
- エ 新羅は、唐と連合して百済と高句麗を滅ぼした。

問5 下線部⑤に関連して、前17世紀頃、この地に建国され、鉄製の武器と馬が引く戦車を用いて強力になり、前16世紀にはメソポタミアに侵入して、古バビロニア王国を滅ぼした国家の名称を答えなさい。

問6 下線部⑥に関連して、元が衰退した要因として考えられることを、「交鈔」「天候不順」の2語を用いて説明しなさい。

問7 下線部⑦に関連して、下記の問いに答えなさい。

- (1) 「アラブの大征服」が「モンゴルの大征服」と違う点を、本文から読み取れることをもとに文化面から説明しなさい。
- (2) 「アラブの大征服」は、ヨーロッパでは、トゥール・ポワティエ間の戦いでフランク王国に阻止された。このときのフランク王国の宮宰は誰か、答えなさい。

問8 下線部⑧に関連して、14世紀後半から15世紀初頭にかけて活躍し、この地域に新たな王朝を開いた人物の名前と、その王朝について述べた文の組合せとして最も適当なものを次のア～エから1つ選び、記号で答えなさい。

- X メフメト2世
- Y ティムール
- a 支配地域のキリスト教徒を徴募し、ムスリムとして教育したのち、官僚や軍人とする制度がつけられた。スルタン直属の常備軍であるイエニチェリは、この制度により育成された兵士で組織された。
- b 首都サマルカンドを中心に商工業が発達し、文化も栄えた。また、ウルグ・ベクが建設した天文台を中心に天文学や暦法も発達した。

ア X・a イ X・b ウ Y・a エ Y・b

検査Ⅳ 地理歴史 【選択問題】

問9 下線部⑨に関連して、中世のバルカン半島で起きた出来事として最も適当なものを次のア～エから1つ選び、記号で答えなさい。

- ア ブルガール人はブルガリア王国（帝国）を建国し、ギリシア正教に改宗した。
- イ コムーネ（自治都市）が周囲の農村も支配して、事実上独立した都市国家となった。
- ウ ドイツ人の植民が進み、ドイツ騎士団領やブランデンブルク辺境伯領が形成された。
- エ ベルリン条約により、オーストリアがボスニア・ヘルツェゴヴィナの行政権を獲得した。

問10 下線部⑩に関連して、地中海世界とインドは1～3世紀にかけて、紅海、インド洋を通じて、交易を盛んにおこなっていた。次に示す資料は、1世紀頃、エジプトの商人が当時の交易の様子を記したものである。この資料を参考に、この交易について、「ローマ金貨」「胡椒」の2語を用いて説明しなさい。併せて、資料中の波線部のように書かれていることの理由を説明しなさい。

資料

（村川堅太郎訳註『エリュトゥラー海案内記』 一部改）

- （注1）バリュガザ、インド西北部の港市 （注2）シリアの港市 （注3）宝石の一種
（注4）約46 cm （注5）香木の種類 （注6）香油の原料 （注7）・（注8）鉱石の一種
（注9）・（注10）・（注11）香料の一種 （注12）薬品の原料 （注13）6月25日から7月24日まで

4

 【世界史探究】

次の文を読んで、下記の問いに答えなさい。

(近藤和彦『近世ヨーロッパ』 一部改)

問1 下線部①に関連して、中世の始まりとされる西ローマ帝国が滅亡した5世紀に起こった出来事として最も適当なものを次のア～エから1つ選び、記号で答えなさい。

ア ゲルマン人のローマ帝国領内への侵入が始まった。

イ メロヴィング朝のクローヴィスがアタナシウス派に改宗した。

ウ フランク王国はヴェルダン条約とメルセン条約によってイタリア・西フランク・東フランクの3国に分裂した。

エ 教皇ウルバヌス2世により十字軍の派遣が提唱され、第1回十字軍が出発した。

問2 下線部②に関連して、東ローマ(ビザンツ)帝国が滅亡するまでの出来事について述べた次のア～エを年代順に左から並べ替え、記号で答えなさい。

ア 国家が軍事奉仕を条件として貴族に土地管理をゆだねるプロノイア制が導入された。

イ ユスティニアヌス帝はローマ帝国の旧地中海領土をほぼ回復した。

ウ 第4回十字軍によってコンスタンティノーブルが占領された。

エ ヘラクレイオス1世の治世には、辺境地域の司令官に現地の管理を一任することを追認した軍管区制(テマ制)がしかれた。

問3 下線部③に関連して、ウィーン包囲の説明a・bについて、その正誤の組合せとして最も適当なものを次のア～エから1つ選び、記号で答えなさい。

a オスマン皇帝スレイマン1世はハンガリーを征服し、その後ウィーンまで軍を進めた。

b オーストリアはオスマン帝国による包囲を撃退し、カルロヴィッツ条約でハンガリーを奪還した。

ア a-正 b-正 イ a-正 b-誤 ウ a-誤 b-正 エ a-誤 b-誤

検査IV

地理歴史

【選択問題】

問4 下線部④に関連して、次の【資料1】は百年戦争についてまとめた板書例の一部、【資料2】は百年戦争が始まった頃の状況を表した略地図、【資料3】は百年戦争が始まった前後のフランスとイギリスの王家の系図である。下記の問いに答えなさい。

【資料1】

原因： をめぐる対立

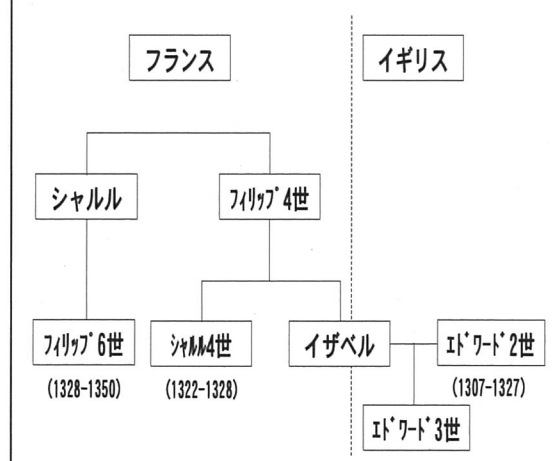
フランスの王位継承問題

戦況：当初はイギリス軍優勢→ の出現→フランス軍の巻返し

影響：両国で諸侯・騎士が没落→中央集権化

【資料2】

【資料3】



- (1) 文中と【資料1】の空欄 には当時のフランス王国の支配下にあった地域名が入る。
【資料2】からこの地域名を明らかにし、この地域をめぐる両国が対立した背景を経済的側面から説明しなさい。
- (2) 【資料1】の下線部に関わって、どのような点が百年戦争の原因となったのか、【資料3】を参考に説明しなさい。
- (3) 【資料1】の空欄 に当てはまる人物は誰か、答えなさい。
- (4) 百年戦争が行われていた期間（1337～1453年）に他の地域で起こった出来事として最も適当なものを次のア～エから1つ選び、記号で答えなさい。
ア 朱元璋が南京で皇帝の座につき、明朝を建てた。
イ 豊臣秀吉が軍事力による東アジア交易体制の再編をねらい、二度にわたって朝鮮侵略を行った。
ウ バールブルが北インドに進出し、ローディー朝を倒してムガル帝国を建てた。
エ テムジンがチンギス・ハンとして即位し、モンゴル系・トルコ系の諸部族を統一して大モンゴル国を建てた。

検査Ⅳ

地理歴史

【選択問題】

問5 下線部⑤に関連して、15世紀末から始まるヨーロッパの膨張がイベリア半島とりわけポルトガルから始まった理由について、下記の【資料4】をもとに説明しなさい。

【資料4】

(I・ウォーラーステイン、川北稔訳『近代世界システムⅠ』一部改)

問6 空欄 ⑥、⑧、⑨ に当てはまる人物の組合せとして最も適当なものを次のア～エから1つ選び、記号で答えなさい。

- | | | | | | | |
|---|---|------------|---|------------|---|------------|
| ア | ⑥ | ーマゼラン | ⑧ | ーヴァスコ・ダ・ガマ | ⑨ | ーコロンブス |
| イ | ⑥ | ーマゼラン | ⑧ | ーコロンブス | ⑨ | ーヴァスコ・ダ・ガマ |
| ウ | ⑥ | ーヴァスコ・ダ・ガマ | ⑧ | ーコロンブス | ⑨ | ーマゼラン |
| エ | ⑥ | ーヴァスコ・ダ・ガマ | ⑧ | ーマゼラン | ⑨ | ーコロンブス |
| オ | ⑥ | ーコロンブス | ⑧ | ーマゼラン | ⑨ | ーヴァスコ・ダ・ガマ |
| カ | ⑥ | ーコロンブス | ⑧ | ーヴァスコ・ダ・ガマ | ⑨ | ーマゼラン |

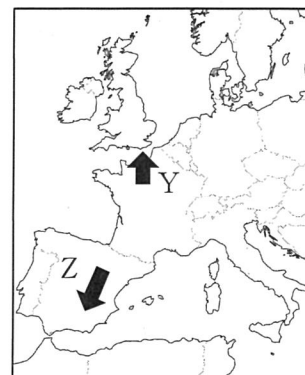
問7 下線部⑦に関連して、レコンキスタの進行方向を示すものとその内容の組合せとして最も適当なものを次のア～エから1つ選び、記号で答えなさい。

ア Y／イスラーム勢力最後の拠点であるナスル朝のグラナダが陥落した。

イ Y／ノルマンディー公ウィリアムがヘースティングズの戦いで勝利を収め、ウィリアム1世としてノルマン朝を開いた。

ウ Z／イスラーム勢力最後の拠点であるナスル朝のグラナダが陥落した。

エ Z／ノルマンディー公ウィリアムがヘースティングズの戦いで勝利を収め、ウィリアム1世としてノルマン朝を開いた。



問8 下線部⑩に関連して、ダ・ヴィンチの作品として最も適当なものを次のア～エから1つ選び、記号で答えなさい。

ア

イ

ウ

エ

検査Ⅳ 地理歴史 【選択問題】

5 【地理探究】

次の文を読んで、下記の問いに答えなさい。

(藤井正・神谷浩夫編著『よくわかる都市地理学』一部改)

問1 次の問いに答えなさい。

- (1) 空欄 ① に当てはまる、市街地の郊外への拡大を抑制し、中心市街地の再生を目指す政策の名称を何というか、カタカナで答えなさい。
- (2) 空欄 ② に当てはまる、日本で1970年代以降進んだ、生活や社会のなかで自動車への依存が高まることを意味する言葉を何というか、カタカナで答えなさい。

検査Ⅳ 地理歴史 【選択問題】

問2 下線部③に関連して、表1は、日本、アメリカ、ロシア、中国、インドの自動車保有台数を示したものである。表1中のア～エのうち、中国に該当するものを1つ選び、記号で答えなさい。

表1 自動車保有台数（2021年）

	自動車合計 (万台) ※	乗用車1台あたり人口(人)		
		2000年	2010年	2021年
ア	29,419	218.6	39.0	5.9
イ	29,288	2.1	2.6	2.9
日本	7,845	2.4	2.2	2.0
ウ	7,445	218.7	92.1	34.5
エ	6,626	8.6	4.1	2.6

※乗用車と商用車（トラック・バス）の合計

（二宮書店「データブック・オブ・ザ・ワールド2024」）

問3 下線部④は、平日に都心部に乗り入れる車に課金し、都市内部の交通量を減らすものであり、アジアではシンガポールで同様の仕組みがとられている。この仕組みをカタカナ9文字で何というか、答えなさい。

問4 下線部⑤に関連して、次の問いに答えなさい。

(1) 表2は、日本、アメリカ、イギリス、ドイツの輸送機関別国内輸送量の割合を示したものである。表2中のA～Cのうち、アメリカ、イギリス、ドイツの組合せとして最も適当なものを下のア～カから一つ選び、記号で答えなさい。

表2 輸送機関別国内輸送量の割合（数値は2009年。ただし、貨物輸送のBは2002年、Cは2003年）

	旅客輸送(%)				貨物輸送(%)				
	鉄道	自動車	航空	水運	鉄道	自動車	航空	パイプライン	水運
日本	28.7	65.6	5.5	0.2	3.9	63.9	0.2	0.0	32.0
A	9.4	90.0	0.6	0.0	23.2	59.4	0.1	3.9	13.5
B	7.9	91.0	1.1	0.0	7.4	61.9	0.0	4.3	26.4
C	0.1	88.4	11.5	0.0	38.5	31.4	0.4	14.7	15.1

（二宮書店「データブック・オブ・ザ・ワールド2024」）

ア A-アメリカ、B-イギリス、C-ドイツ イ A-アメリカ、B-ドイツ、C-イギリス
ウ A-イギリス、B-アメリカ、C-ドイツ エ A-イギリス、B-ドイツ、C-アメリカ
オ A-ドイツ、B-アメリカ、C-イギリス カ A-ドイツ、B-イギリス、C-アメリカ

(2) 公共交通の利用促進政策の具体例について述べた文として適当でないものを次のア～エから1つ選び、記号で答えなさい。

ア 郊外の駅前にパークアンドライドのシステムによる駐車場を整備する。

イ 自治体が運営するコミュニティバスを導入する。

ウ 自家用車で都心部に最短距離で乗り入れできるように、都心から放射状に道路を整備する。

エ 乗り合い型のオンデマンドタクシーを導入する。

検査Ⅳ 地理歴史 【選択問題】

(3) 大都市と地方都市とを結ぶ交通について「ストロー効果」と呼ばれる現象が生じることがある。この原因と、ストロー効果が通学や観光に与える影響を簡潔に説明しなさい。

(4) 公共交通には、航空交通も含まれる。世界には、ドイツのフランクフルトやアラブ首長国連邦のドバイなどハブ空港と呼ばれる空港が存在する。ハブ空港の名前の由来と、その経済効果についてそれぞれ簡潔に説明しなさい。

問5 下線部⑥に関連して、近年日本ではIoTを用いた次世代自転車シェアリングが広がっている。この特徴について述べた文として適当でないものを次のア～エから1つ選び、記号で答えなさい。

ア 借りた場所と異なる場所に自転車を返却することも可能である。

イ 通勤・通学利用のほか、観光客による利用も可能である。

ウ 災害時や、イベント開催時などに一時的に導入することも可能である。

エ 他の公共交通機関の整備に比べると、初期投資に莫大な費用が必要である。

問6 公共交通の充実は、国内の観光産業が発達することに寄与していると考えられる。これに関連して、次の問いに答えなさい。

(1) 近年、一部の観光地に観光客が過度に集中し、観光客の迷惑行為によって地元住民の日常生活に悪影響が出ており、国内でも京都などでこのような問題が発生しているといわれる。このような状況を何と呼ぶか、カタカナで答えなさい。

(2) 戦後、日本人の国内旅行は変容してきた。その様子について、「マストゥリズム」「エコツーリズム」の2語を用いて、それらの語句の意味に触れながら、簡潔に説明しなさい。

6 【地理探究】

次の文を読んで、下記の問いに答えなさい。

①アフリカ大陸は歴史的に交易、あるいは人の移動が激しく存在した世界であり、大陸であります。特に、いわゆる大航海時代といわれる時代以前には、②サハラ砂漠を縦断する形で北に位置するイスラム世界との活発な交易が行われました。その結果、現在の③西アフリカには、その交易で栄える多くの王国や帝国が存在することになりました。現在ガーナという国がありますが、植民地時代にはゴールド・コーストと呼ばれていたとおり、金を産出する地域で、そうした金を目指してさまざまな物資を交換するためにもってくる交易ルートがございましたし、さらには現在のマリ共和国には、トゥンブクトゥという歴史的なモスク、あるいは学校がある有名な町があって、そこには多くの研究蓄積がありました。しかしここも最近の西アフリカにおけるイスラム勢力の台頭によって大きな被害を受けるという事件が起きたりしています。(中略)

また、東アフリカでは現在のケニア、あるいはタンザニアという国において ④ 語という言葉

検査Ⅳ 地理歴史 【選択問題】

葉が話されていますが、これもアラブ世界との海上交易の中でアラブと融合した文明が形成されたことが背景にあります。中心的な街としてキルワが有名で、そこが文明、あるいは交易の拠点として歴史的に形成されました。また、現在のタンザニアの沖合いにザンジバルという島がありますが、そこはオマーンのスルタンが 19 世紀後半に主に⑤奴隷貿易などを行う拠点として使ったという歴史もあります。ダウ船と呼ばれる船による交易が非常に盛んな形で行われた地域です。(中略)

さまざまな商業ネットワークがあり、日本にも多くのアフリカの人たちのコミュニティがあって、中古自動車の輸出などのビジネスに関わっておられます。アフリカのさまざまなディアスポラが世界各地に広がり、ニューヨークなどでも美容室の経営に成功した女性起業家の存在なども世界的にみられます。⑥中国のアフリカ進出は非常によく知られていますが、同時にアフリカの人たちが中国に進出している状況もあります。

しかもこうしたグローバルな商業ネットワークの中にはいろいろなアクターが混じり込んで展開しています。⑦アフリカにおける紛争地域において本来であれば流通させてはならない物を取引する勢力も存在しています。よく知られているのは、電子機器等に使われるコルタンの流通や、紛争ダイヤモンドの流通といったことへの関与も指摘されてきましたし、さらには象牙の取引といった形でいろいろの商品の流通にいろいろなグループが関与している動きもこうしたグローバル化の中における商業ネットワークの1つの形態と考えなければいけないと思います。

(遠藤貢・関谷雄一編『社会人のための現代アフリカ講義』一部改)

問1 下線部①に関連して、表1はアフリカ大陸、ヨーロッパ大陸(カフカスを除く)、アジア大陸(カフカスを含む)、北アメリカ大陸の高度別面積割合と平均高度について示したものである。表1のA～Dのうち、アフリカ大陸と北アメリカ大陸に該当する組合せとして最も適当なものを下のア～エから1つ選び、記号で答えなさい。

表1 大陸の高度別面積割合(%)と平均高度(m)

大陸 高度(m)	A	B	C	D
200未満	9.7	52.7	24.6	29.9
200～500	38.9	21.2	20.2	30.7
500～1,000	28.2	15.2	25.9	12.0
1,000～2,000	19.5	5.0	18.0	16.6
2,000～3,000	2.7	2.0	5.2	9.1
3,000～4,000	1.0	0.0	2.0	1.7
4,000～5,000	0.0	0.0	4.1	0.0
5,000以上	0.0	---	1.1	0.0
平均高度	750	340	960	720

(二宮書店「地理統計要覧2024年度版」より作成)

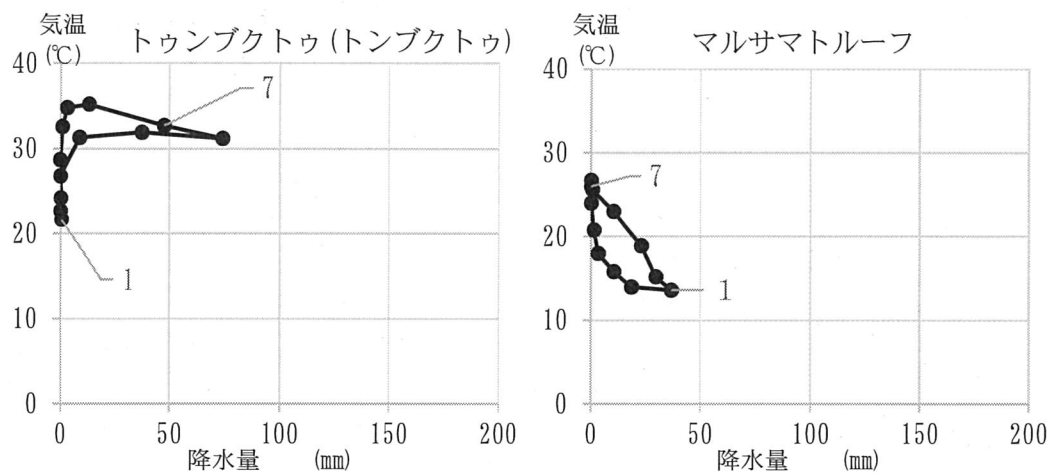
検査IV 地理歴史 【選択問題】

- ア Aーアフリカ大陸 Cー北アメリカ大陸 イ Aーアフリカ大陸 Dー北アメリカ大陸
 ウ Bーアフリカ大陸 Cー北アメリカ大陸 エ Bーアフリカ大陸 Dー北アメリカ大陸

問2 下線部②に関連して、次の問いに答えなさい。

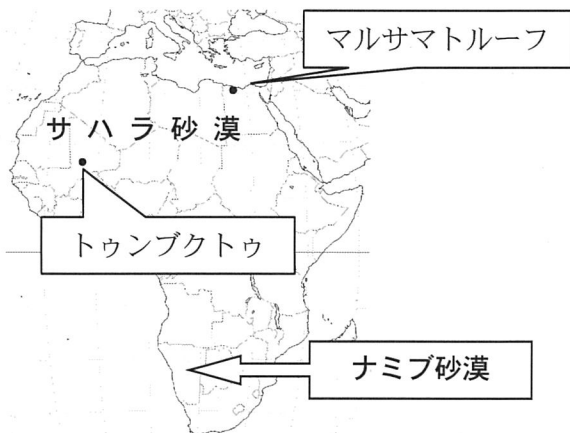
(1) 次のハイサーグラフは図1中の砂漠気候に属する2つの地点のものである。両地点で特に乾燥する時期に、違いがある理由について、「大気大循環」「亜熱帯高圧帯」の2語を用いて説明しなさい。

ハイサーグラフ



(気象庁公表データより作成)

図1



(2) アフリカ南部にあるナミブ砂漠は、サハラ砂漠とは成因が異なる。ナミブ砂漠の成因を「寒流」「上昇気流」の2語を用い、その寒流の名称を挙げて説明しなさい。

問3 下線部③に関連して、表2はガーナ、カメルーン、コートジボワール、ナイジェリアの主要輸出品の輸出額に占める割合と主に信仰されている宗教の割合を示したものである。次の問いに答えなさい。

検査Ⅳ 地理歴史 【選択問題】

表2 主要輸出品の輸出額に占める割合と主に信仰されている宗教の割合

国名	主要輸出品の輸出額に占める割合 (%)			主な宗教 (%)
ガーナ	金(非貨幣用)	A	B	C 71.2
	37.0	31.3	11.0	イスラーム 17.6
カメルーン	A	木材	B	C 69.2
	40.8	13.2	11.1	イスラーム 20.9
コートジボワール	B	金(非貨幣用)	天然ゴム	イスラーム 42.9
	29.1	11.8	8.3	C 33.9
ナイジェリア	A	液化天然ガス	船舶	イスラーム 50.5
	76.2	10.4	3.0	C 48.2

(主要輸出品の輸出額に占める割合：二宮書店「地理統計要覧 2024 年度版」より作成)

(主に信仰されている宗教の割合：帝国書院「地理データファイル 2023 年度版」より作成)

- (1) 表2の A と B に当てはまる品目の組合せとして最も適当なものを次のア～エから1つ選び、記号で答えなさい。

ア A-原油 B-カカオ豆 イ A-原油 B-ヤムいも
ウ A-銅 B-カカオ豆 エ A-銅 B-ヤムいも

- (2) 表2の C に当てはまる宗教名を答えなさい。

問4 空欄 ④ に当てはまる、アラビア語の影響を受けた、ケニアやタンザニアの現在の公用語を何というか、答えなさい。

問5 下線部⑤に関連して、第二次世界大戦後にとられていたアパルトヘイトと呼ばれる政策の内容について、その政策を実施した国名を挙げながら説明しなさい。

問6 下線部⑥に関連して、次の問いに答えなさい。

- (1) 中国の協力で 1976 年に完成した、ザンビアとタンザニアを結ぶ鉄道を何というか、答えなさい。

- (2) 中国はサハラ以南アフリカと、ヨーロッパは北アフリカと、特に結び付きが強いことについて述べた文として適当でないものを次のア～エから1つ選び、記号で答えなさい。

ア 中国は、2000 年代以降、特にサハラ以南アフリカ諸国との関係を強め、対アフリカ貿易額でヨーロッパ諸国やアメリカを上回るようになった。

イ サハラ以南アフリカ諸国では、中国への安価な工業製品の輸出が増えて、自国の工業発展につながっている。

ウ 北アフリカ諸国で産出する天然ガスは、ヨーロッパへ、パイプラインを通じて輸出されるものもある。

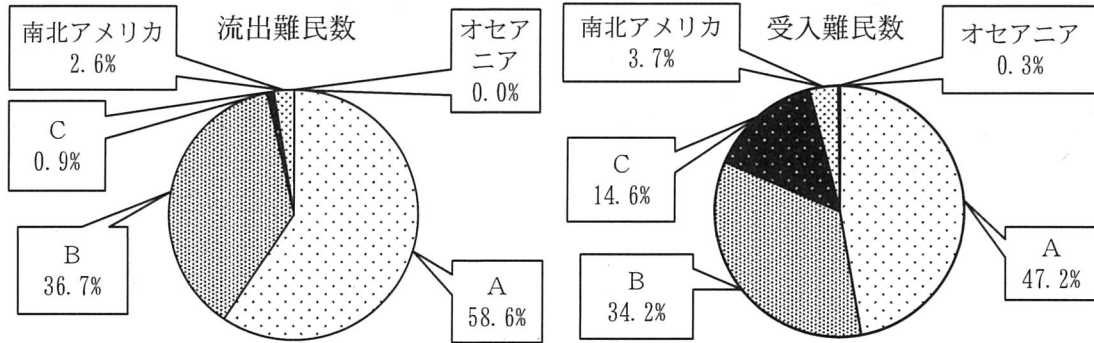
エ チュニジアやモロッコからは、安価な労働力を生かした工業製品の多くがヨーロッパ向けに輸出されている。

検査Ⅳ 地理歴史 【選択問題】

問7 下線部⑦に関連して、次の問いに答えなさい。

- (1) 世界では紛争や迫害などによる難民が発生している。図2は、2020年の世界の流出難民数と受入難民数の発生地域別割合を示したものである。図2中のA～Cのうち、アフリカ・ヨーロッパ・アジアに該当するものはどれか。その組合せとして最も適当なものを下のア～カから1つ選び、記号で答えなさい。

図2 世界の流出難民数と受入難民数の発生地域別割合



図内の数字の合計は、四捨五入のため100%とならないことがある。

(帝国書院「地理データファイル2023年度版」より作成)

	A	B	C
ア	アフリカ	ヨーロッパ	アジア
イ	アフリカ	アジア	ヨーロッパ
ウ	ヨーロッパ	アフリカ	アジア
エ	ヨーロッパ	アジア	アフリカ
オ	アジア	アフリカ	ヨーロッパ
カ	アジア	ヨーロッパ	アフリカ

- (2) ルワンダの紛争と経済発展について述べた次の文X・Yの正誤の組合せとして最も適当なものを、下のア～エから1つ選び、記号で答えなさい。

X この紛争は、オランダ統治時代の差別的な分断統治によって深まった多数派のツチと少数派のフツの対立が要因であり、多くの難民が発生した。

Y 紛争終結後に、欧米などに逃れていた人々が、技術と知識を身に付けて帰国して再興に貢献したため、ルワンダでは急速な経済発展が起こった。

- ア X-正 Y-正 イ X-正 Y-誤 ウ X-誤 Y-正 エ X-誤 Y-誤

記号	地	番号	
----	---	----	--

検査Ⅳ 地理歴史・公民 【共通問題】 解答例

(解答上の注意)

- (1) 解答は、全て解答用紙に記入すること。
 (2) 【共通問題】の 1 ～ 3 は全員が解答すること。

1 (配点 15 点 問 2 (2)、問 4 (2)は 2 点、その他は各 1 点、ただし問 7 は完答のみ 1 点)

問 1	ウ				
問 2	(1)	エ			
	(2)	日英同盟を理由にドイツに宣戦布告し、ドイツが租借していた山東省の青島や、赤道以北のドイツ領南洋諸島に侵攻した。			
問 3	ア → イ → ウ → エ				
問 4	(1)	ヒトラー			
	(2)	ドイツ人はナチ党が掲げた民族共同体のスローガンに期待しているが、ユダヤ人は民族共同体には含まれておらず、迫害の恐怖にふるえていた。			
問 5	(1)	ウ	(2)	イ	
問 6	ウ				
問 7	ア・イ				
問 8	(1)	アメリカ	ブッシュ (父)	ソ連	ゴルバチョフ
	(2)	ア → エ → ウ → イ			

記号	地	番号	
----	---	----	--

検査Ⅳ 地理歴史・公民 【共通問題】 解答例

2

(配点 15 点 問 8、問 12 は 2 点、その他は各 1 点)

問 1	イ
問 2	ア
問 3	エ
問 4	沖ノ鳥島
問 5	ア
問 6	ウ
問 7	インフォーマルセクター
問 8	都心の地価上昇や生活環境の悪化により、人口が郊外へ移動するドーナツ化現象が起こる一方、都心で増加する失業や犯罪などの社会問題。
問 9	イ
問 10	ア
問 11	輪中
問 12	気圧が低下し、海水面が吸い上げられるように上昇する現象。
問 13	イ

記号	地	番号	
----	---	----	--

検査Ⅳ 地理歴史・公民 【共通問題】 解答例

3 (配点 15 点 問 5 (2)、問 9 は 2 点、その他は各 1 点。)

問 1	情報公開法		
問 2	(1)	クラウドファンディング	
	(2)	エ	
問 3	(1)	ソーシャルビジネス	
	(2)	ウ	
問 4	イ		
問 5	(1)	宴のあと	
	(2)	自己の情報をコントロールする権利	
	(3)	個人情報保護法	
問 6	エ		
問 7	ウ		
問 8	イ		
問 9	A I みずからが必要な情報を自動的に判別し、蓄積することで認識精度を高めていく自動学習機能のこと。		

記号	地	番号	
----	---	----	--

検査Ⅳ 地理歴史 【選択問題】 日本史探究 解答例

(解答上の注意)

- (1) 解答は、全て解答用紙に記入すること。
 (2) 【選択問題】は6問中、各自が3問を選び解答すること。その際、選んだ問題番号を必ず下の□に記入すること。

選んだ問題番号を
記入する

--	--	--

1 (配点 25 点 問3 (2)、問6 (2)、問7は3点 その他は各2点 問1、問5は完答)

問1	畿内	イ	七道	ウ
問2	イ			
問3	(1)	藤原不比等		
	(2)	民間の開墾による耕地の拡大を図る目的で出されたもので、新たに灌漑施設を設けて未開地を開墾した場合には3代にわたり、旧来の灌漑施設を利用した場合は1代に限り田地の保有を認めるもの。		
問4	平将門			
問5	ア、エ			
問6	(1)	惣掟 (村法・村掟)		
	(2)	明の冊封下で行われたため、朝貢貿易の形をとった。また、明から交付された勘合を持参する勘合貿易であった。		
	(3)	撰銭令		
問7	幕府はキリスト教徒を根絶するため宗門改めを実施した。宗門改帳には全戸についての氏名、年齢などの情報が記載されており、寺院はその全員についてキリスト教徒ではなく寺院の檀家であることを証明する役割を担った。			
問8	壬申戸籍			

記号	地	番号	
----	---	----	--

検査Ⅳ 地理歴史 【選択問題】 日本史探究 解答例

2

(配点 25 点 問 3 (2)、問 7、問 9 は 3 点、その他は各 2 点、問 10 は完答)

問 1	ウ
問 2	イ
問 3	(1) 綱吉
	(2) 慶長金銀よりも金銀含有量を下げた元禄金銀を鑄造して、その差額（出目）を収益にした。
問 4	正徳
問 5	エ → イ → オ → ア → ウ
問 6	エ
問 7	西南戦争の戦費調達や国立銀行条例の改正で不換紙幣が大量に発行されたことなどにより、急速なインフレーションが進行したため。また、輸入超過による貿易赤字も続いたため。
問 8	管理通貨制度
問 9	中国内戦で共産党の優勢が明らかになったため、日本の経済的自立を援助して、日本を自由主義陣営の東アジアにおける主要友好国にしようとした。
問 10	ア、イ、エ

記号	地	番号	
----	---	----	--

検査Ⅳ 地理歴史 【選択問題】世界史探究 解答例

3

(配点 25 点 問 6、問 7 (1)、問 10 は 3 点、その他は各 2 点、ただし問 3 は完答のみ 2 点)

問 1	イ		
問 2	ウ → ア → エ → イ		
問 3	イ、オ		
問 4	ウ		
問 5	ヒッタイト (王国・帝国)		
問 6	天候不順による飢饉が相次ぎ、さらに交鈔の乱発や塩の専売強化が民衆を苦しめ、社会を不安定にさせたこと。		
問 7	(1)	モンゴル帝国内では、モンゴル系勢力の間を除いて、モンゴル語もモンゴル文字も根づくことはなかったのに対して、「アラブの大征服」では、その支配下に入ったほぼすべての地域において、イスラーム教が定着し、アラビア語、アラビア文字が共通の文化・文明語、文字として幅広く受容されたこと。	
	(2)	カール・マルテル	
問 8	エ		
問 9	ア		
問 10	地中海世界からインドへは、ローマ金貨や鉱石、ワインなどがもたらされ、インドから地中海世界へは、胡椒や香料、象牙などがもたらされた。これは、インド洋西側において、夏には南西から、冬には北東から吹く季節風を利用した航海方法が確立していたためである。		

記号	地	番号	
----	---	----	--

検査Ⅳ 地理歴史 【選択問題】世界史探究 解答例

4

(配点 25 点 問 4 (1)・(2)、問 5 は 3 点、その他は各 2 点)

問 1	イ
問 2	イ → エ → ア → ウ
問 3	ア
問 4	(1) フランドル地方は毛織物生産が盛んであったため。
	(2) カペー朝が断絶してヴァロワ朝がたつと、イギリス国王エドワード 3 世は、母がカペー家出身であることから、フランス王位継承権を主張した。
	(3) ジャンヌ・ダルク
	(4) ア
問 5	大西洋岸にあり、アフリカ大陸に隣接しているという地理的条件や、遠距離貿易の経験を持っていたこと、資本の調達が容易であったこと、他国が内乱に明け暮れていたのにポルトガルだけは平和を享受していたため。
問 6	カ
問 7	ウ
問 8	ウ

記号	地	番号	
----	---	----	--

検査Ⅳ 地理歴史 【選択問題】 地理探究 解答例

5

(配点 25 点 問 4 (3)・(4)、問 6 (2)は各 3 点、その他は各 2 点。)

問 1	(1)	コンパクトシティ
	(2)	モータリゼーション
問 2	ア	
問 3	ロードプライシング	
問 4	(1)	カ
	(2)	ウ
	(3)	高速道路や新幹線の開通で時間距離が短縮することにより、通学先が地方から都市部に移動したり、観光面では、宿泊より日帰りが増加したりすることで、かえって地方が衰退する。
	(4)	名称の由来は、自転車の車輪の主軸（ハブ）のように、航空路が放射状に伸びているため。空港使用料収入、企業の支社や物流施設の設立、宿泊施設の開業などが経済効果としてあげられる。
問 5	エ	
問 6	(1)	オーバーツーリズム
	(2)	1960年代は観光が一般大衆まで広がり、マストツーリズムの時代となる。バブル経済崩壊後は、旅行支出が減少する一方で、自然に親しむエコツーリズムが広がるなど、観光の内容が多様化している。

記号	地	番号	
----	---	----	--

検査Ⅳ 地理歴史 【選択問題】地理探究 解答例

6

(配点 25 点 問 2 (1)、問 2 (2)、問 5 は 3 点、その他は各 2 点)

問 1	イ	
問 2	(1)	大気大循環により、亜熱帯高圧帯の影響下に入り特に乾燥する時季が、両地点では異なるため。
	(2)	沿岸を流れる寒流のベンゲラ海流によって大気が冷やされて、上昇気流が発生しにくくなり、少雨となるため。
問 3	(1)	ア
	(2)	キリスト教
問 4	スワヒリ	語
問 5	南アフリカ共和国でとられていた、有色人種を差別して、白色人種を優遇した政策。	
問 6	(1)	タンザン鉄道
	(2)	イ
問 7	(1)	オ
	(2)	ウ