

専 門 教 養
令 和 6 年 7 月
60分

受 験 教 科 等
中・高等学校共通 公 民

注 意

- 指示があるまで、問題冊子を開いてはいけません。
- 全て係員の指示に従って、静粛に受験してください。
- 机上には、受験票、筆記用具、時計以外のものを出してはいけません。
- 他の受験者の迷惑になるような行為、スマートフォン、スマートウォッチ等の電子機器の使用及び不正行為をしてはいけません。
- 解答時間は60分です。途中退出はできません。
- 問題冊子のページ数は、17ページです。はじめにページ数を確かめてください。
- 解答用紙に、**必要事項が正しく記入・マークされていない場合には、解答は全て無効**となります。解答用紙の【1】の欄には、**受験番号を記入し、受験番号に対応する数字をマーク**してください。【2】の欄には、**氏名を記入**してください。また、【3】の欄には、**選択した問題を表す記号（A又はB）を必ずマーク**してください。Cにマークした場合には、**解答は全て無効**となります。
- この問題は、**共通問題 1**、科目別の**選択問題 A 政治・経済**、**B 倫理**の各問題から構成されています。次の表に従って、解答してください。

共通問題（全員が解答する）	
共通問題 1 （1ページ～6ページ）	
選択問題（いずれか一つを選択して解答する）	
A 政治・経済 (7ページ～12ページ)	B 倫理 (13ページ～17ページ)

- 問題冊子の余白等は、適宜使用しても構いませんが、どのページも切り離してはいけません。
- 問題文中の「学習指導要領」は、特に指示がある場合を除いて、平成29年、平成30年又は平成31年告示の「学習指導要領」を表しています。
- 問題の内容についての質問には一切応じません。


解答上の注意

- 解答は、問題文や解答用紙の注意事項に従って、解答欄にマークしてください。各問に対して、正答は一つだけです。**各解答欄に二つ以上マークした場合は誤り**とします。
- 「解答番号は 1。」と表示のある問に対して、3と解答する場合には、次の（例1）のように解答番号 1 の解答欄の③にマークしてください。

（例1）

解答番号	解答欄
1	① ② ● ④ ⑤ ⑥ ⑦ ⑧ ⑨ ⑩ ⊖

解答上の注意の続きを、問題冊子の裏表紙に記載してあります。問題冊子を裏返して必ず読んでください。



共通問題

1 次の各問に答えよ。

[問 1] 中学校学習指導要領社会の「各分野の目標及び内容」の〔地理的分野〕の「目標」に関する記述として適切なものは、次の1～4のうちのどれか。解答番号は 。

- 1 我が国の歴史の大きな流れを、世界の歴史を背景に、各時代の特色を踏まえて理解するとともに、諸資料から歴史に関する様々な情報を効果的に調べまとめる技能を身に付けるようにする。
- 2 歴史に関わる事象の意味や意義、伝統と文化の特色などを、時期や年代、推移、比較、相互の関連や現在とのつながりなどに着目して多面的・多角的に考察したり、歴史に見られる課題を把握し複数の立場や意見を踏まえて公正に選択・判断したりする力、思考・判断したことを説明したり、それらを基に議論したりする力を養う。
- 3 現代の社会的事象について、現代社会に見られる課題の解決を視野に主体的に社会に関わろうとする態度を養うとともに、多面的・多角的な考察や深い理解を通して涵養される、国民主権を担う公民として、自国を愛し、その平和と繁栄を図ることや、各国が相互に主権を尊重し、各国民が協力し合うことの大切さについての自覚などを深める。
- 4 日本や世界の地域に関わる諸事象について、よりよい社会の実現を視野にそこで見られる課題を主体的に追究、解決しようとする態度を養うとともに、多面的・多角的な考察や深い理解を通して涵養される我が国の国土に対する愛情、世界の諸地域の多様な生活文化を尊重しようとすることの大切さについての自覚などを深める。

[問 2] 時差に関する記述として適切なものは、次の1～4のうちのどれか。解答番号は 。

- 1 日付変更線は、ほぼ経度180度線に沿って設定されている。
- 2 本初子午線から東側では経度15度ごとにグリニッジ標準時に比べ時刻が1時間遅くなり、西側では逆に経度15度ごとに1時間早くなる。
- 3 東西に広い国土をもつロシア、アメリカ合衆国及び中国は、生活時間に合わせるために複数の標準時を設定している。
- 4 我が国では、兵庫県明石市を通る東経140度線を標準時子午線とし、この経線上を太陽が通る時刻を正午としている。

[問 3] 次の表は、2019年における各国の発電量の割合をまとめたものであり、表中の**ア～エ**には、アメリカ、中国、ドイツ、日本のいずれかが当てはまる。**ア～エ**に当てはまる国名の組合せとして適切なものは、下の**1～4**のうちのどれか。解答番号は 3。

表 [%]

	火力	水力	原子力	再生可能エネルギー
ア	67.9	17.4	4.6	10.0
イ	62.5	7.1	19.2	11.1
ウ	45.5	4.2	12.3	37.7
エ	71.9	8.3	6.1	11.9

※ 再生可能エネルギーは、水力を除く。風力・地熱・太陽光・バイオ燃料・潮力など。

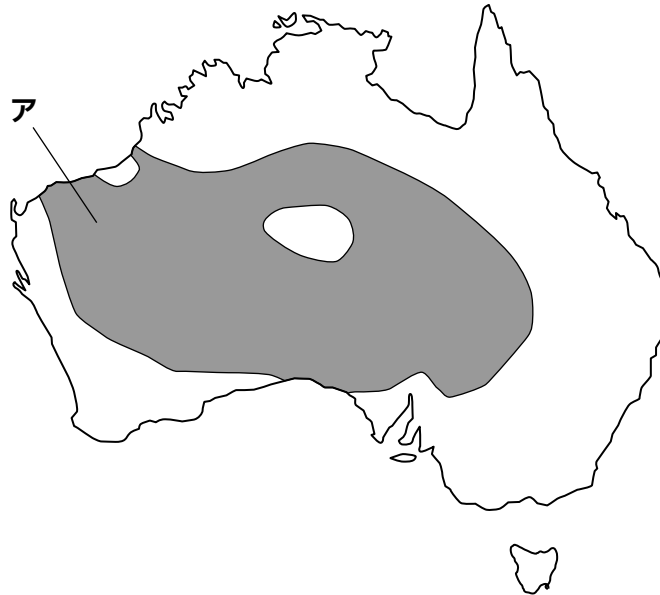
※ 表中の数値は小数第二位を四捨五入したものである。また、合計は100にならないことがある。

(二宮書店「データブック オブ・ザ・ワールド2022年版」から作成)

- | | | | |
|-----------------|--------|-------|-------|
| 1 ア アメリカ | イ 中国 | ウ ドイツ | エ 日本 |
| 2 ア アメリカ | イ 中国 | ウ 日本 | エ ドイツ |
| 3 ア 中国 | イ アメリカ | ウ 日本 | エ ドイツ |
| 4 ア 中国 | イ アメリカ | ウ ドイツ | エ 日本 |

[問 4] 次の図中のオーストラリア大陸上に示したケッペンの気候区分アに当てはまるものとして適切なものは、下の1～4のうちどれか。解答番号は 。

図



- 1 西岸海洋性気候
- 2 砂漠気候
- 3 熱帯雨林気候
- 4 温暖湿潤気候

[問 5] 元禄文化に関する記述として適切なものは、次の1～4のうちのどれか。解答番号は 。

- 1 茶寄合が各地で行われ、茶の異同を飲みわけて、かけ物を争う勝負ごとの闘茶が流行した。
- 2 怨霊や疫神をまつことで疫病や飢饉などの災厄から逃れようとする御霊信仰が始まった。
- 3 十返舎一九の「東海道中膝栗毛」や式亭三馬の「浮世風呂」などの滑稽本が人気を集めた。
- 4 本草学では貝原益軒が日本の薬草・薬物をまとめた「大和本草」を刊行し、農学では宮崎安貞が農作物の新しい栽培技術をまとめた「農業全書」を出版した。

[問 6] 自由民権運動の中で起こった出来事に関する記述として適切なものは、次の1～4のうちのどれか。解答番号は 。

- 1 1874年に、大隈重信らは、民撰議院設立の建白書を左院に提出した。
- 2 1875年に、全国的組織として愛国社が大阪で結成された。
- 3 1880年に、政府は保安条例を定めて、政社の活動を制限した。
- 4 1882年に、福地源一郎を党首として、イギリス流の議院内閣制を主張する立憲改進黨が結成された。

[問 7] 第二次世界大戦後に起こった出来事に関する記述として適切なものは、次の1～4のうちのどれか。解答番号は 。

- 1 ソ連がキューバでのミサイル基地建設に着手すると、アイゼンハワー政権は海上封鎖をおこなった。
- 2 田中角栄首相が北京を訪問して、中国との国交を正常化した。
- 3 マーストリヒト条約に基づいて、ASEANが発足した。
- 4 米ソの首脳が冷戦の終結を宣言したあとに、ベルリンの壁が民衆の手によって破壊された。

[問 8] 価格に関する記述として適切なものは、次の1～4のうちのどれか。解答番号は 。

- 1 独占価格とは、完全競争市場において、需要量と供給量との一致をもたらす価格のことである。
- 2 均衡価格とは、寡占市場において、企業側が生産費に一定の利潤を加えて設定する価格のことである。
- 3 市場価格とは、独占や寡占が行われていない、現実の競争的な市場において、需要と供給の関係によって決まる価格のことである。
- 4 統制価格とは、独占企業が、自らの判断で決定する価格のことである。

[問 9] 日本国憲法の改正の手続きに関する記述として適切なものは、次の1～4のうちのどれか。解答番号は 。

- 1 衆議院50人以上、参議院100人以上の国会議員の賛成により憲法改正案の原案が発議され、衆参各議院において、それぞれ憲法審査会で審査されたのちに、本会議に付される。
- 2 国民投票は、憲法改正を発議した日から起算して40日以後180日以内において、国会の議決した期日に行われる。
- 3 国民投票は、憲法改正案が複数ある場合には、それぞれの改正案ごとに一人一票となる。
- 4 国民投票では、憲法改正案に対する賛成の投票の数が国民投票の有効投票総数の3分の1を超えた場合は、当該憲法改正について、国民の承認があったものとされる。

[問10] 国際連合に関する記述として適切なものは、次の1～4のうちのどれか。解答番号は

10。

- 1 総会は、国際連合の中心的機関で、全加盟国で構成され、一国一票の投票権をもち、一般事項は3分の2以上の賛成、重要事項は多数決で議決される。
- 2 安全保障理事会は、国際連合で安全保障の問題を話し合う主要機関である。安全保障理事会は、総会に優越した権限を持ち、国際平和と安全の維持、国際紛争の解決のための外交的、軍事的、経済的制裁の権限を持っている。
- 3 経済社会理事会は、経済、社会、文化、教育、人類の福祉などに関する国際問題を研究、勧告する機関で、総会選出の18か国で構成される。
- 4 国際連合の本部はジュネーブにあり、三つの地域事務所がそれぞれニューヨーク、ウィーン、ナイロビに置かれている。

選 択 問 題

7ページから17ページまでの選択問題 **A** 政治・経済（7ページ～12ページ）、 **B** 倫理（13ページ～17ページ）のうちから、表紙の指示に従って、一つを選択し解答せよ。

なお、解答用紙の【3】の欄には、選択した問題を表す記号（A又はB）を必ずマークすること。
Cにマークした場合には、解答は全て無効となる。

A 政治・経済

〔問1〕 高等学校学習指導要領公民の「各科目」の「政治・経済」の「内容」の「A 現代日本における政治・経済の諸課題」の「現代日本における政治・経済の諸課題の探究」において、身に付けることができるよう指導するとされている事項に関する記述として適切なものは、次の1～4のうちのどれか。解答番号は **11**。

- 1 少子高齢社会における社会保障の充実・安定化、地域社会の自立と政府、多様な働き方・生き方を可能にする社会、産業構造の変化と起業、歳入・歳出両面での財政健全化、食料の安定供給の確保と持続可能な農業構造の実現、防災と安全・安心な社会の実現などについて、取り上げた課題の解決に向けて政治と経済とを関連させて多面的・多角的に考察、構想し、よりよい社会の在り方についての自分の考えを説明、論述すること。
- 2 日本国憲法における基本的人権の尊重、国民主権、天皇の地位と役割、国会、内閣、裁判所などの政治機構を概観させるとともに、政治と法の意義と機能、基本的人権の保障と法の支配、権利と義務の関係、議会制民主主義、地方自治などについて理解させ、民主政治の本質や現代政治の特質について把握させ、政党政治や選挙などに着目して、望ましい政治の在り方及び主権者としての政治参加の在り方について考察させる。
- 3 地球環境と資源・エネルギー問題、国際経済格差の是正と国際協力、人種・民族問題と地域紛争、国際社会における日本の立場と役割などについて、政治と経済とを関連させて探究させる。
- 4 グローバル化に伴う人々の生活や社会の変容、地球環境と資源・エネルギー問題、国際経済格差の是正と国際協力、イノベーションと成長市場、人種・民族問題や地域紛争の解決に向けた国際社会の取組、持続可能な国際社会づくりなどについて、取り上げた課題の解決に向けて政治と経済とを関連させて多面的・多角的に考察、構想し、よりよい社会の在り方についての自分の考えを説明、論述すること。

[問 2] 我が国の選挙制度に関する記述として適切なものは、次の1～4のうちのどれか。解答番号は 。

- 1 衆議院の選挙制度は、原則として都道府県単位の選挙区選挙と、全国を1選挙区とする非拘束名簿式比例代表制をとっている。
- 2 公職選挙法では、立候補を届け出る前の事前運動は禁止されているが、選挙運動のため住宅を訪問する戸別訪問は認められている。
- 3 仕事や旅行、レジャーなどの予定があり、当日投票できない場合は、選挙期日前に投票できる期日前投票制度がある。
- 4 被選挙権は、満18歳以上の男女に認められている。

[問 3] 景気変動に関する記述として適切なものは、次の1～4のうちのどれか。解答番号は 。

- 1 クズネッツの波は、約7～10年を周期とする景気の循環であり、設備投資の盛衰が主な原因で起こると考えられている。
- 2 キチンの波は、約40か月を周期とする景気の循環であり、在庫投資による在庫調整の変動が主な原因で起こると考えられている。
- 3 ジュグラーの波は、約50～60年を周期とする景気の循環であり、技術革新や資源の大規模開発が主な原因で起こると考えられている。
- 4 コンドラチェフの波は、約20年を周期とする景気の循環であり、住宅や商工業施設の建築需要が主な原因で起こると考えられている。

[問 4] 次の記述は、ある人物の著作の一部である。この人物に関する記述として適切なものは、下の1～4のうちのどれか。解答番号は 。

- 1 ノーベル平和賞の受賞者で、「もったいない」という日本語を、環境保全のために世界に広めた。
- 2 功利主義の立場に基づき、人類が動物よりも優れているという種差別に反対して、動物解放論を唱えた。
- 3 著書「センス・オブ・ワンダー」の中で、自然の不思議さに驚嘆する感性の重要性を説いた。
- 4 アメリカの思想家で、生態系全体を土地とよび、人間が土地に対して尊敬の念や良心をもつことを「土地倫理」とよんだ。

[問 5] 日本国憲法の条文のうち、自由権に当たるものとして適切なものは、次の1～4のうちのどれか。解答番号は 。

- 1 すべて国民は、健康で文化的な最低限度の生活を営む権利を有する。
- 2 勤労者の団結する権利及び団体交渉その他の団体行動をする権利は、これを保障する。
- 3 何人も、いかなる奴隷的拘束も受けない。又、犯罪に因る処罰の場合を除いては、その意に反する苦役に服させられない。
- 4 公務員を選定し、及びこれを罷免することは、国民固有の権利である。

[問 6] 次の記述は、ある政治思想に関するものである。この政治思想として適切なものは、下の1～4のうちのどれか。解答番号は 。

憲法に基づいて政治が行なわれることで、法による権力の制限を通じて個人の権利と自由を守ろうとする政治のあり方。

- 1 法治主義
- 2 立憲主義
- 3 共産主義
- 4 自由主義

[問 7] 日本銀行の金融政策に関する記述として適切なものは、次の1～4のうちのどれか。解答番号は 。

- 1 預金準備率操作は、日本銀行が市中銀行に預金の一定割合を支払準備金として預ける割合を上下させるものである。
- 2 公開市場操作は、日本銀行が国債や手形などを売買することにより、短期金融市場における資金の供給量を調節して、政策金利を誘導するものである。
- 3 2016年に導入されたマイナス金利政策は、金融機関が保有する日本銀行の当座預金の全部にマイナス金利を適用するものである。
- 4 量的緩和政策は、日本銀行が通貨量を減少させるためにとる政策である。

[問 8] 我が国の安全保障に関する記述として適切なものは、次の1～4のうちのどれか。解答番号は 。

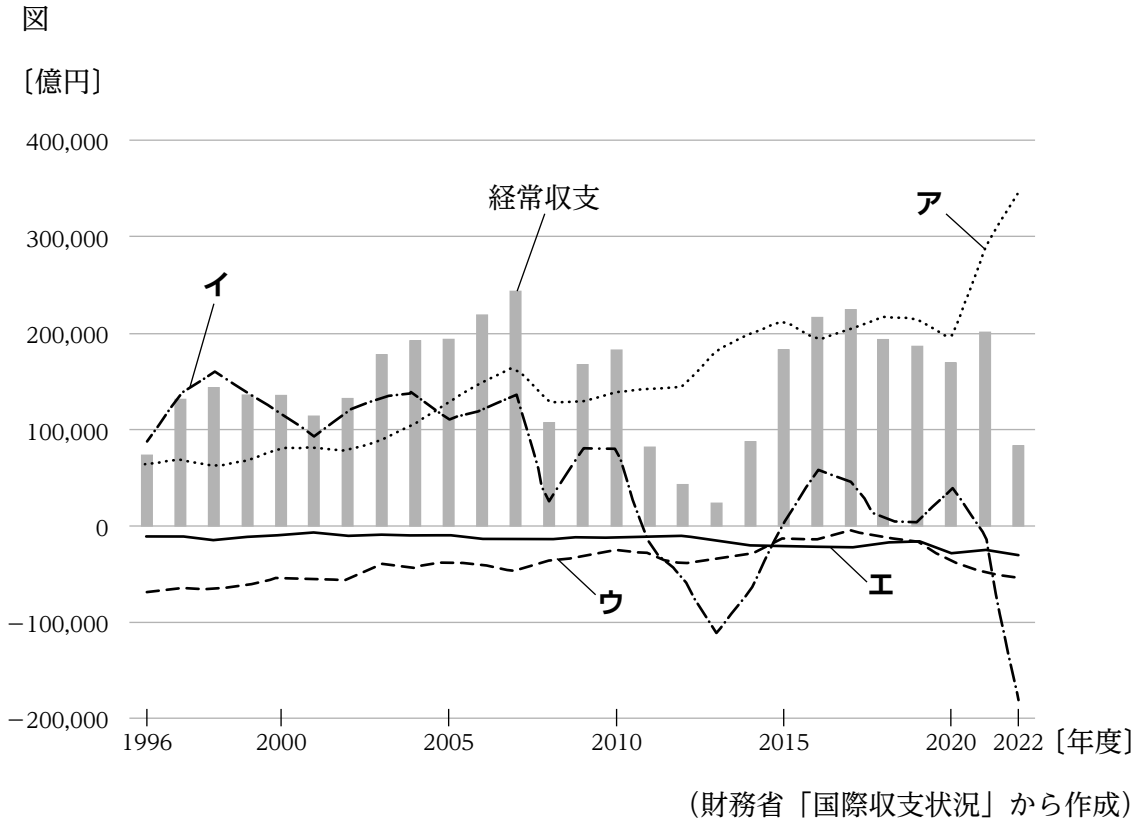
- 1 日米安全保障条約は1960年に改定され、1970年以降は自動延長されている。
- 2 日米相互協力及び安全保障条約に基づいて締結された日米地位協定では、日本における米軍施設・区域の使用については規定していない。
- 3 日米間の安全保障体制の具体的なあり方は、1978年から「日米防衛協力のための指針」(ガイドライン)に基づいて定められてきた。このガイドラインは、2015年に廃止された。
- 4 武器の輸出については、従来の防衛装備移転三原則から、2014年に武器輸出三原則が閣議決定され、武器の輸出が原則禁止から原則容認されることになった。

[問 9] 次の記述は、ある地域経済統合に関するものである。この地域経済統合として適切なものは、下の1～4のうちのどれか。解答番号は 。

アメリカ、カナダ、メキシコの3か国間の自由貿易協定である北米自由貿易協定に代わり、2020年に発効したものである。

- 1 USMCA
- 2 MERCOSUR
- 3 AFTA
- 4 RCEP

[問10] 次の図は、1996年度から2022年度までの我が国の国際収支を表したものである。図中のア～エには、貿易収支、第一次所得収支、第二次所得収支、サービス収支のいずれかが当てはまる。アに当てはまるものとして適切なものは、下の1～4のうちどれか。解答番号は 。



- 1 貿易収支
- 2 第一次所得収支
- 3 第二次所得収支
- 4 サービス収支

B 倫理

[問 1] 高等学校学習指導要領公民の「各科目」の「倫理」の「内容」の「A 現代に生きる自己の課題と人間としての在り方生き方」の「人間としての在り方生き方の自覚」において、身に付けることができるよう指導するとされている事項に関する記述として適切なものは、次の1～4のうちのどれか。解答番号は 21。

- 1 倫理的価値の判断において、行為の結果である個人や社会全体の幸福を重視する考え方と、行為の動機となる公正などの義務を重視する考え方などを活用し、自らも他者も共に納得できる解決方法を見いだすことに向け、思考実験など概念的な枠組みを用いて考察する活動を通して、人間としての在り方生き方を多面的・多角的に考察し、表現すること。
- 2 善、正義、義務などに着目して、社会の在り方と人間としての在り方生き方について思索するための手掛かりとなる様々な倫理観について理解すること。
- 3 社会に参画する自立した主体とは、孤立して生きるのではなく、地域社会などの様々な集団の一員として生き、他者との協働により当事者として国家・社会などの公共的な空間を作る存在であることについて多面的・多角的に考察し、表現すること。
- 4 生命、自然、科学技術などと人間との関わりについて倫理的課題を見いだし、その解決に向けて倫理に関する概念や理論などを手掛かりとして多面的・多角的に考察し、公正に判断して構想し、自分の考えを説明、論述すること。

[問 2] 我が国の選挙制度に関する記述として適切なものは、次の1～4のうちのどれか。解答番号は 。

- 1 衆議院の選挙制度は、原則として都道府県単位の選挙区選挙と、全国を1選挙区とする非拘束名簿式比例代表制をとっている。
- 2 公職選挙法では、立候補を届け出る前の事前運動は禁止されているが、選挙運動のため住宅を訪問する戸別訪問は認められている。
- 3 仕事や旅行、レジャーなどの予定があり、当日投票できない場合は、選挙期日前に投票できる期日前投票制度がある。
- 4 被選挙権は、満18歳以上の男女に認められている。

[問 3] 景気変動に関する記述として適切なものは、次の1～4のうちのどれか。解答番号は 。

- 1 クズネッツの波は、約7～10年を周期とする景気の循環であり、設備投資の盛衰が主な原因で起こると考えられている。
- 2 キチンの波は、約40か月を周期とする景気の循環であり、在庫投資による在庫調整の変動が主な原因で起こると考えられている。
- 3 ジュグラーの波は、約50～60年を周期とする景気の循環であり、技術革新や資源の大規模開発が主な原因で起こると考えられている。
- 4 コンドラチェフの波は、約20年を周期とする景気の循環であり、住宅や商工業施設の建築需要が主な原因で起こると考えられている。

[問 4] 次の記述は、ある人物の著作の一部である。この人物に関する記述として適切なものは、下の1～4のうちのどれか。解答番号は 。

- 1 ノーベル平和賞の受賞者で、「もったいない」という日本語を、環境保全のために世界に広めた。
- 2 功利主義の立場に基づき、人類が動物よりも優れているという種差別に反対して、動物解放論を唱えた。
- 3 著書「センス・オブ・ワンダー」の中で、自然の不思議さに驚嘆する感性の重要性を説いた。
- 4 アメリカの思想家で、生態系全体を土地とよび、人間が土地に対して尊敬の念や良心をもつことを「土地倫理」とよんだ。

[問 5] アリストテレスに関する記述として適切なものは、次の1～4のうちのどれか。解答番号は 。

- 1 水を万物の根源と考え、水によって世界の成り立ちとその諸現象を説明しようとした。
- 2 「万物の尺度は人間である」と考え、ものごとは個々人がどう思うかによって決まるとする、相対主義の考え方をあらわした。
- 3 普遍的なものは、目や耳などを通じた感覚ではなく、思考能力としての理性によってとらえられるとして、そのような普遍的なものをイデアと呼んだ。
- 4 正義を、法を守るという「全体的正義」と、人々の間に公正をもたらす「部分的正義」に大別した。そして、さらに部分的正義を、配分的正義と、調整的正義とに分けた。

[問 6] 次の記述は、ある先哲の著作の一部である。この先哲に関する記述として適切なものは、下の1～4のうちのどれか。解答番号は 。

- 1 朱子学を学び、やがて陽明学を取り入れ、武士だけでなく万人に共通する道德の原理を孝に求めた。
- 2 中国古代の聖人があらわした古典や古文辞を理解しようとする、古文辞学を唱えた。
- 3 「源氏物語」の研究を通して、「もののあはれ」を文芸の本質としてとらえ、国学を大成した。
- 4 「論語」、「孟子」のもともとの意味を究明しようとする古義学を提唱した。

[問 7] 我が国の仏教に関する記述として適切なものは、次の1～4のうちのどれか。解答番号は 。

- 1 唐から渡来した鑑真によって、東大寺に戒壇が設けられ、授戒制度が確立された。
- 2 最澄は大日如来の真実の姿こそ万物の本体と考えた。主著に「三教指帰」がある。
- 3 天台宗の僧である空也は「往生要集」を著し、厭離穢土を説いた。
- 4 法然は親鸞の弟子で、絶対他力の教えを説いた。

[問 8] リップマンに関する記述として適切なものは、次の1～4のうちのどれか。解答番号は 。


- 1 著書「世論」で、大衆社会におけるメディアの働きからステレオタイプと名づけた大衆心理が形成されると説いた。
- 2 メディアは、それが伝える内容によってではなく、その形式によって、人間の思考に大きな影響を与えるとし、電子的なメディアを人の感覚能力を拡張するものと捉えるメディア論を展開した。
- 3 マス・メディアが報道や放映の際に再構成する現実を、擬似イベントと呼んだ。
- 4 現代の消費社会の中で、商品は使用価値としてではなく、他者との差異を示す記号としてあらわれると説いた。

[問 9] 生命倫理に関する記述として適切なものは、次の1～4のうちのどれか。解答番号は 。

- 1 リビング・ウィルとは、治療の際に、医師が患者に対して治療の目的や方法などについて説明し、同意を得ることである。
- 2 ホスピスとは、自分の死のあり方について、生前にあらかじめ自分の意思を表明しておくことである。
- 3 インフォームド・コンセントとは、治療の見込みのない末期患者の苦痛を取り除き、安らかな死を迎えさせるための施設である。
- 4 パターナリズムとは、医療においては、患者の治療についてもっぱら医師の判断と決定に従うのがよいとする考え方のことである。

[問10] 文化相対主義に関する記述として適切なものは、次の1～4のうちのどれか。解答番号は 。

- 1 自民族の文化や価値観だけを正統のものと考え、他民族の文化に対して否定的な態度をとる思想傾向のこと。
- 2 多様性を尊重し、相互承認により、共存の道を探る宗教的立場のこと。
- 3 各文化はそれぞれ与えられた環境に適応する中で歴史的に形成され、固有の価値を有しており、相互に優劣の関係はないという考え方のこと。
- 4 支配する立場の民族が、少数民族や先住民族など、弱い立場の民族に自分たちの文化を受け入れさせること。



3 問題文中の $\boxed{2}$ 、 $\boxed{34}$ などの \square には、数字又は符号（-）が入ります。次の(1)~(4)の方法でマークしてください。

(1) $\boxed{2}$ 、 $\boxed{3}$ 、 $\boxed{4}$ 、……の一つ一つは、それぞれ1~9、0の数字又は符号（-）のいずれか一つに対応します。それらを $\boxed{2}$ 、 $\boxed{3}$ 、 $\boxed{4}$ 、……で示された解答欄にマークしてください。

例えば、 $\boxed{234}$ に -84 と解答する場合には、次の（例2）のようにマークします。

解答番号	解答欄
(例2) $\boxed{2}$	① ② ③ ④ ⑤ ⑥ ⑦ ⑧ ⑨ ⑩ ●
$\boxed{3}$	① ② ③ ④ ⑤ ⑥ ⑦ ● ⑨ ⑩ ⊖
$\boxed{4}$	① ② ③ ● ⑤ ⑥ ⑦ ⑧ ⑨ ⑩ ⊖

なお、同一の問題文中に $\boxed{2}$ 、 $\boxed{34}$ などが2度以上現れる場合、原則として、2度目以降は、 $\boxed{2}$ 、 $\boxed{34}$ のように細字で表記します。

(2) 分数形で解答する場合は、符号は分子に付け、分母に付けてはいけません。また、分数は既約分数で答えてください。

例えば、 $\frac{\boxed{56}}{\boxed{7}}$ に $-\frac{4}{5}$ と解答する場合には、 $-\frac{4}{5}$ として、次の（例3）のように

マークします。

解答番号	解答欄
(例3) $\boxed{5}$	① ② ③ ④ ⑤ ⑥ ⑦ ⑧ ⑨ ⑩ ●
$\boxed{6}$	① ② ③ ● ⑤ ⑥ ⑦ ⑧ ⑨ ⑩ ⊖
$\boxed{7}$	① ② ③ ④ ● ⑥ ⑦ ⑧ ⑨ ⑩ ⊖

(3) 小数の形で解答する場合は、特に指示されていなければ、指定された桁数の一つ下の桁を四捨五入して答えてください。また、必要に応じて、指定された桁まで⑩にマークしてください。

例えば、 $\boxed{8.910}$ に 2.6 と解答する場合には、2.60 として答えてください。

(4) 根号を含む形で解答する場合は、根号の中に現れる自然数が最小となる形で答えてください。

問題番号		解答 番号	正答	配点	備考
大問	小問				
1	問1	1	4	5	
	問2	2	1	5	
	問3	3	4	5	
	問4	4	2	5	
	問5	5	4	5	
	問6	6	2	5	
	問7	7	2	5	
	問8	8	3	5	
	問9	9	3	5	
	問10	10	2	5	
A	問1	11	1	5	
	問2	12	3	5	
	問3	13	2	5	
	問4	14	3	5	
	問5	15	3	5	
	問6	16	2	5	
	問7	17	2	5	
	問8	18	1	5	
	問9	19	1	5	
	問10	20	2	5	

問題番号		解答 番号	正答	配点	備考
大問	小問				
B	問1	21	2	5	
	問2	22	3	5	
	問3	23	2	5	
	問4	24	3	5	
	問5	25	4	5	
	問6	26	4	5	
	問7	27	1	5	
	問8	28	1	5	
	問9	29	4	5	
	問10	30	3	5	