

専 門 教 養
令 和 6 年 7 月
60分

受 験 教 科 等
中・高等学校共通 地理歴史

注 意

- 指示があるまで、問題冊子を開いてはいけません。
- 全て係員の指示に従って、静粛に受験してください。
- 机上には、受験票、筆記用具、時計以外のものを出してはいけません。
- 他の受験者の迷惑になるような行為、スマートフォン、スマートウォッチ等の電子機器の使用及び不正行為をしてはいけません。
- 解答時間は60分です。途中退出はできません。
- 問題冊子のページ数は、23ページです。はじめにページ数を確かめてください。
- 解答用紙に、**必要事項が正しく記入・マークされていない場合には、解答は全て無効**となります。解答用紙の【1】の欄には、**受験番号を記入し、受験番号に対応する数字をマーク**してください。【2】の欄には、**氏名を記入**してください。また、【3】の欄には、**選択した問題を表す記号(A、B又はC)を必ずマーク**してください。
- この問題は、**共通問題 1**、科目別の**選択問題 A 世界史**、**B 日本史**、**C 地理**の各問題から構成されています。次の表に従って、解答してください。

共通問題 (全員が解答する)		
共通問題 1 (1ページ～6ページ)		
選択問題 (いずれか一つを選択して解答する)		
A 世界史 (7ページ～12ページ)	B 日本史 (13ページ～17ページ)	C 地理 (18ページ～23ページ)

- 問題冊子の余白等は、適宜使用しても構いませんが、どのページも切り離してはいけません。
- 問題文中の「学習指導要領」は、特に指示がある場合を除いて、平成29年、平成30年又は平成31年告示の「学習指導要領」を表しています。
- 問題の内容についての質問には一切応じません。


解答上の注意

- 解答は、問題文や解答用紙の注意事項に従って、解答欄にマークしてください。各問に対して、正答は一つだけです。**各解答欄に二つ以上マークした場合は誤り**とします。
- 「解答番号は **1**。」と表示のある問に対して、**3**と解答する場合には、次の(例1)のように解答番号 **1** の解答欄の③にマークしてください。

(例1)

解答番号	解答欄
1	① ② ● ④ ⑤ ⑥ ⑦ ⑧ ⑨ ⑩ ⊖

解答上の注意の続きを、問題冊子の裏表紙に記載してあります。問題冊子を裏返して必ず読んでください。



共通問題

1 次の各問に答えよ。

[問 1] 中学校学習指導要領社会の「各分野の目標及び内容」の〔地理的分野〕の「目標」に関する記述として適切なものは、次の1～4のうちのどれか。解答番号は 。

- 1 我が国の歴史の大きな流れを、世界の歴史を背景に、各時代の特色を踏まえて理解するとともに、諸資料から歴史に関する様々な情報を効果的に調べまとめる技能を身に付けるようにする。
- 2 歴史に関わる事象の意味や意義、伝統と文化の特色などを、時期や年代、推移、比較、相互の関連や現在とのつながりなどに着目して多面的・多角的に考察したり、歴史に見られる課題を把握し複数の立場や意見を踏まえて公正に選択・判断したりする力、思考・判断したことを説明したり、それらを基に議論したりする力を養う。
- 3 現代の社会的事象について、現代社会に見られる課題の解決を視野に主体的に社会に関わろうとする態度を養うとともに、多面的・多角的な考察や深い理解を通して涵養される、国民主権を担う公民として、自国を愛し、その平和と繁栄を図ることや、各国が相互に主権を尊重し、各国民が協力し合うことの大切さについての自覚などを深める。
- 4 日本や世界の地域に関わる諸事象について、よりよい社会の実現を視野にそこで見られる課題を主体的に追究、解決しようとする態度を養うとともに、多面的・多角的な考察や深い理解を通して涵養される我が国の国土に対する愛情、世界の諸地域の多様な生活文化を尊重しようとするものの大切さについての自覚などを深める。

[問 2] 時差に関する記述として適切なものは、次の1～4のうちのどれか。解答番号は 。

- 1 日付変更線は、ほぼ経度180度線に沿って設定されている。
- 2 本初子午線から東側では経度15度ごとにグリニッジ標準時に比べ時刻が1時間遅くなり、西側では逆に経度15度ごとに1時間早くなる。
- 3 東西に広い国土をもつロシア、アメリカ合衆国及び中国は、生活時間に合わせるために複数の標準時を設定している。
- 4 我が国では、兵庫県明石市を通る東経140度線を標準時子午線とし、この経線上を太陽が通る時刻を正午としている。

[問 3] 次の表は、2019年における各国の発電量の割合をまとめたものであり、表中の**ア～エ**には、アメリカ、中国、ドイツ、日本のいずれかが当てはまる。**ア～エ**に当てはまる国名の組合せとして適切なものは、下の**1～4**のうちのどれか。解答番号は 3。

表 [%]

	火力	水力	原子力	再生可能エネルギー
ア	67.9	17.4	4.6	10.0
イ	62.5	7.1	19.2	11.1
ウ	45.5	4.2	12.3	37.7
エ	71.9	8.3	6.1	11.9

※ 再生可能エネルギーは、水力を除く。風力・地熱・太陽光・バイオ燃料・潮力など。

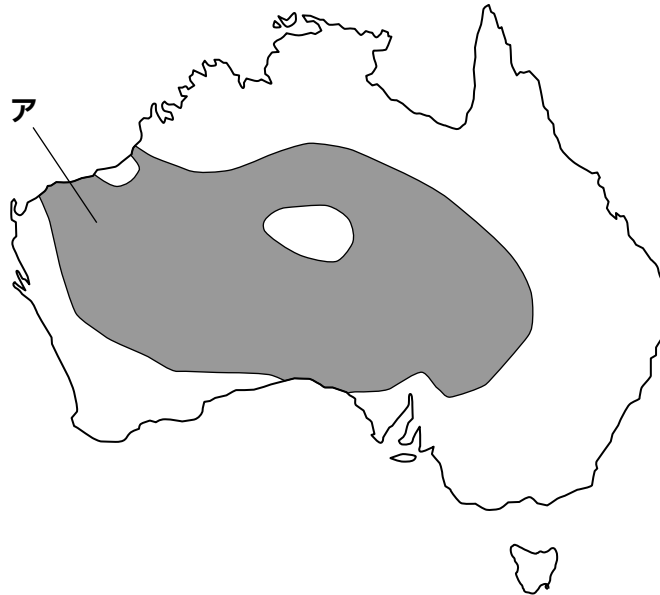
※ 表中の数値は小数第二位を四捨五入したものである。また、合計は100にならないことがある。

(二宮書店「データブック オブ・ザ・ワールド2022年版」から作成)

- | | | | |
|-----------------|--------|-------|-------|
| 1 ア アメリカ | イ 中国 | ウ ドイツ | エ 日本 |
| 2 ア アメリカ | イ 中国 | ウ 日本 | エ ドイツ |
| 3 ア 中国 | イ アメリカ | ウ 日本 | エ ドイツ |
| 4 ア 中国 | イ アメリカ | ウ ドイツ | エ 日本 |

[問 4] 次の図中のオーストラリア大陸上に示したケッペンの気候区分アに当てはまるものとして適切なものは、下の1～4のうちどれか。解答番号は 。

図



- 1 西岸海洋性気候
- 2 砂漠気候
- 3 熱帯雨林気候
- 4 温暖湿潤気候

[問 5] 元禄文化に関する記述として適切なものは、次の1～4のうちのどれか。解答番号は 。

- 1 茶寄合が各地で行われ、茶の異同を飲みわけて、かけ物を争う勝負ごとの闘茶が流行した。
- 2 怨霊や疫神をまつことで疫病や飢饉などの災厄から逃れようとする御霊信仰が始まった。
- 3 十返舎一九の「東海道中膝栗毛」や式亭三馬の「浮世風呂」などの滑稽本が人気を集めた。
- 4 本草学では貝原益軒が日本の薬草・薬物をまとめた「大和本草」を刊行し、農学では宮崎安貞が農作物の新しい栽培技術をまとめた「農業全書」を出版した。

[問 6] 自由民権運動の中で起こった出来事に関する記述として適切なものは、次の1～4のうちのどれか。解答番号は 。

- 1 1874年に、大隈重信らは、民撰議院設立の建白書を左院に提出した。
- 2 1875年に、全国的組織として愛国社が大阪で結成された。
- 3 1880年に、政府は保安条例を定めて、政社の活動を制限した。
- 4 1882年に、福地源一郎を党首として、イギリス流の議院内閣制を主張する立憲改進黨が結成された。

[問 7] 第二次世界大戦後に起こった出来事に関する記述として適切なものは、次の1～4のうちのどれか。解答番号は 。

- 1 ソ連がキューバでのミサイル基地建設に着手すると、アイゼンハワー政権は海上封鎖をおこなった。
- 2 田中角栄首相が北京を訪問して、中国との国交を正常化した。
- 3 マーストリヒト条約に基づいて、ASEANが発足した。
- 4 米ソの首脳が冷戦の終結を宣言したあとに、ベルリンの壁が民衆の手によって破壊された。

[問 8] 価格に関する記述として適切なものは、次の1～4のうちのどれか。解答番号は 。

- 1 独占価格とは、完全競争市場において、需要量と供給量との一致をもたらす価格のことである。
- 2 均衡価格とは、寡占市場において、企業側が生産費に一定の利潤を加えて設定する価格のことである。
- 3 市場価格とは、独占や寡占が行われていない、現実の競争的な市場において、需要と供給の関係によって決まる価格のことである。
- 4 統制価格とは、独占企業が、自らの判断で決定する価格のことである。

[問 9] 日本国憲法の改正の手続きに関する記述として適切なものは、次の1～4のうちのどれか。解答番号は 。

- 1 衆議院50人以上、参議院100人以上の国会議員の賛成により憲法改正案の原案が発議され、衆参各議院において、それぞれ憲法審査会で審査されたのちに、本会議に付される。
- 2 国民投票は、憲法改正を発議した日から起算して40日以後180日以内において、国会の議決した期日に行われる。
- 3 国民投票は、憲法改正案が複数ある場合には、それぞれの改正案ごとに一人一票となる。
- 4 国民投票では、憲法改正案に対する賛成の投票の数が国民投票の有効投票総数の3分の1を超えた場合は、当該憲法改正について、国民の承認があったものとされる。

[問10] 国際連合に関する記述として適切なものは、次の1～4のうちのどれか。解答番号は

10。

- 1 総会は、国際連合の中心的機関で、全加盟国で構成され、一国一票の投票権をもち、一般事項は3分の2以上の賛成、重要事項は多数決で議決される。
- 2 安全保障理事会は、国際連合で安全保障の問題を話し合う主要機関である。安全保障理事会は、総会に優越した権限を持ち、国際平和と安全の維持、国際紛争の解決のための外交的、軍事的、経済的制裁の権限を持っている。
- 3 経済社会理事会は、経済、社会、文化、教育、人類の福祉などに関する国際問題を研究、勧告する機関で、総会選出の18か国で構成される。
- 4 国際連合の本部はジュネーブにあり、三つの地域事務所がそれぞれニューヨーク、ウィーン、ナイロビに置かれている。

選 択 問 題

7 ページから23ページまでの選択問題 **A** 世界史（7 ページ～12ページ）、**B** 日本史（13ページ～17ページ）、**C** 地理（18ページ～23ページ）のうちから、表紙の指示に従って、一つを選択し解答せよ。

なお、解答用紙の【3】の欄には、選択した問題を表す記号（A、B又はC）を必ずマークすること。

A 世界史

[問 1] 高等学校学習指導要領地理歴史の「各科目」の「歴史総合」の「目標」に関する記述として適切なものは、次の1～4のうちのどれか。解答番号は **11**。

- 1 近現代の歴史の変化に関わる諸事象について、世界とその中の日本を広く相互的な視野から捉え、現代的な諸課題の形成に関わる近現代の歴史を理解するとともに、諸資料から歴史に関する様々な情報を適切かつ効果的に調べまとめる技能を身に付けるようにする。
- 2 近現代史を中心とする世界の歴史を諸資料に基づき地理的条件や日本の歴史と関連付けながら理解させ、現代の諸課題を歴史的観点から考察させることによって、歴史的思考力を培い、国際社会に主体的に生きる日本国民としての自覚と資質を養う。
- 3 世界の歴史の大きな枠組みと展開に関わる諸事象について、地理的条件や日本の歴史と関連付けながら理解するとともに、諸資料から世界の歴史に関する様々な情報を適切かつ効果的に調べまとめる技能を身に付けるようにする。
- 4 世界の歴史の大きな枠組みと展開を諸資料に基づき地理的条件や日本の歴史と関連付けながら理解させ、文化の多様性・複合性と現代世界の特質を広い視野から考察させることによって、歴史的思考力を培い、国際社会に主体的に生きる日本国民としての自覚と資質を養う。

[問 2] 次の資料は、ある人物が行った政策に関するものである。この人物に関する記述として適切なものは、下の1～4のうちのどれか。解答番号は 。

資料

- 1 長安を都として、漢を建てた。
- 2 南越や衛氏朝鮮を滅ぼして、漢の支配下に入れた。
- 3 漢の皇帝から帝位を奪って、新を建てた。
- 4 漢を復興して、洛陽に都をおいた。

[問 3] 次の記述は、ある遺跡に関するものである。この遺跡として適切なものは、下の1～4のうちどれか。解答番号は 。

シャイレンドラ朝が、8世紀後半から9世紀前半にかけてジャワ島に造営した。大乘仏教の遺跡である。

1

2

3

4

[問 4] 次の記述**ア**～**ウ**は、十字軍に関するものである。**ア**～**ウ**を、年代の古いものから順に並べたものとして適切なものは、下の**1**～**4**のうちのどれか。解答番号は 。

ア コンスタンティノープルを占領し、ラテン帝国を建てた。

イ 第1回十字軍が出発し、イェルサレム王国を建てた。

ウ ビザンツ皇帝の救援要請に対し、教皇ウルバヌス2世がクレルモン教会会議を開いた。

1 **イ** → **ア** → **ウ**

2 **イ** → **ウ** → **ア**

3 **ウ** → **ア** → **イ**

4 **ウ** → **イ** → **ア**

[問 5] 17世紀から18世紀までのヨーロッパの文化に関する記述として適切なものは、次の**1**～**4**のうちのどれか。解答番号は 。

1 ラヴォワジエは、物体の運動に関する万有引力の法則を発見し、「プリンキピア」を著して、近代物理学の基礎をきずいた。

2 ヴェルサイユ宮殿は、全体として華麗なロココ様式の宮廷の代表である。

3 バッハやヘンデルによってバロック音楽が大成された。

4 ルソーは、「法の精神」を著した。

[問 6] 南北戦争後のアメリカで起こった出来事に関する記述として適切なものは、次の**1**～**4**のうちのどれか。解答番号は 。

1 アメリカ・メキシコ戦争がおこると、合衆国は勝利し、カルフォルニアを獲得して領土とした。

2 合衆国は、通商問題をめぐってイギリスとアメリカ・イギリス戦争をおこなった。

3 西部辺境出身のジャクソン大統領は強制移住法を制定した。

4 ユニオン・パシフィック＝セントラル・パシフィック鉄道という最初の大陸横断鉄道が完成した。

[問 7] 19世紀の西アジアやアフリカで起こった出来事に関する記述として適切なものは、次の1～4のうちのどれか。解答番号は 。

- 1 オスマン帝国では、ムスタファ・ケマルが起草したオスマン帝国憲法が發布された。
- 2 イランでは、タバコ販売の独占利権がイギリス人に譲渡されると、ウラマーと商人を中心にタバコ・ボイコット運動がおこった。
- 3 スーダンでは、マフディーを名乗る指導者が、フランス軍に対する抵抗運動をはじめた。
- 4 エジプトでは、軍人のウラービーが「エジプト人のためのエジプト」を唱えて、王制の樹立と議会の開設を求めた。

[問 8] 第二次世界大戦中に起こった出来事に関する記述として適切なものは、次の1～4のうちのどれか。解答番号は 。

- 1 アメリカ・イギリスの連合軍は、イタリアのノルマンディーに上陸した。
- 2 大西洋憲章は、ローズヴェルトとチャーチルによる会談で発表された。
- 3 フランスの第三共和政は崩壊して、国土の北半はドイツに占領され、南半は軍人のド・ゴールを首班とするヴィシー政府が統治した。
- 4 我が国は、日独伊三国同盟を三国防共協定に発展させるとともに、北方の安全確保のためソ連と日ソ中立条約を結んだ。

[問 9] 20世紀における紛争に関する記述として適切なものは、次の1～4のうちのどれか。解答番号は 。

- 1 1980年に、イランがペルシャ湾岸のアラブ諸国の支援の下で、イラクに攻め込み、イラン・イラク戦争が始まった。
- 2 アルゼンチンは、フォークランド戦争でイギリスに敗れた。
- 3 1960年に、南ベトナム解放民族戦線は、アメリカの支援を受けた。
- 4 「プラハの春」と呼ばれる民主化運動に対し、ソ連はハンガリーに軍事介入した。

[問10] 世界経済に関する記述として適切なものは、次の1～4のうちのどれか。解答番号は

20。

- 1 1929年に、ニューヨーク株式市場で株価が大暴落し、銀行があいついで破綻した。
- 2 1948年に、自由貿易の推進を目的に、世界貿易機関が発足した。
- 3 1973年に、主要国は固定相場制から変動相場制へ移行し、ブレトン・ウッズ体制が成立した。
- 4 2008年に、イギリスの投資銀行の経営破綻をきっかけに世界金融危機が発生した。

B 日本史

[問 1] 高等学校学習指導要領地理歴史の「各科目」の「日本史探究」の「目標」に関する記述として適切なものは、次の1～4のうちのどれか。解答番号は 21。

- 1 我が国の近現代の歴史の展開を諸資料に基づき地理的条件や世界の歴史と関連付け、現代の諸課題に着目して考察させることによって、歴史的思考力を培い、国際社会に主体的に生きる日本国民としての自覚と資質を養う。
- 2 我が国の歴史の展開に関わる事象の意味や意義、伝統と文化の特色などを、時期や年代、推移、比較、相互の関連や現在とのつながりなどに着目して、概念などを活用して多面的・多角的に考察したり、歴史に見られる課題を把握し解決を視野に入れて構想したりする力や、考察、構想したことを効果的に説明したり、それらを基に議論したりする力を養う。
- 3 近現代史を中心とする我が国の歴史の展開を、世界史的視野に立ち我が国を取り巻く国際環境などと関連付けて考察させることによって、歴史的思考力を培い、国民としての自覚と国際社会に主体的に生きる日本人としての資質を養う。
- 4 我が国の歴史の展開を諸資料に基づき地理的条件や世界の歴史と関連付けて総合的に考察させ、我が国の伝統と文化の特色についての認識を深めさせることによって、歴史的思考力を培い、国際社会に主体的に生きる日本国民としての自覚と資質を養う。

[問 2] 縄文時代に関する記述として適切なものは、次の1～4のうちのどれか。解答番号は 22。

- 1 石器は、粗大な握槌などから、しだいに用途に応じてナイフ形石器、突き刺すための尖頭器、細石器などがつくられはじめた。
- 2 気候が温暖となり、弓矢が使用されるとともに磨製石器が使われたり、土器がつくられたりするようになった。
- 3 日本列島は、大陸と陸続きになることがあった。そこを通過してマンモスやナウマンゾウなどの大型の動物とともに人類も列島にやってきたと考えられる。
- 4 水稻耕作をはじめとして、多くの文化や技術が中国や朝鮮半島から伝わり、鉄器や青銅器がもたらされた。

[問 3] 醍醐天皇の在位中に起こった出来事に関する記述として適切なものは、次の1～4のうちのどれか。解答番号は 。

- 1 784年に長岡京へ遷都したが、都の造営を主導した藤原種継が暗殺され、その首謀者として皇太子の早良親王が地位を追われるという事件が起きた。
- 2 兄の平城太上天皇と対立したが、迅速に兵を展開して太上天皇を出家させた。この事件に際し藤原冬嗣が蔵人頭となった。
- 3 藤原良房は天皇の外祖父として政治を主導するようになり、866年の応天門の変後に、皇族以外で初めて正式に摂政に就任した。
- 4 左大臣の藤原時平の策により、右大臣の菅原道真が太宰府に左遷された。

[問 4] 荘園に関する記述として適切なものは、次の1～4のうちのどれか。解答番号は 。

- 1 地頭の荘園侵略が激しくなると、荘園領主は地頭に現地の管理を一任し、そのかわりに一定額の年貢の納入を義務づける地下請を結んだ。
- 2 政府が三世一身法を制定すると、これをきっかけに中央の貴族や大寺社は、地方豪族と結んで大規模な開墾を進めた。
- 3 地方豪族や有力田堵は現地での権限を強め、開発領主へと成長した。開発した所領（開発私領）を支配する開発領主は、所領を中央の有力者に寄進して、その権威を利用し、国衙の干渉に備えようとした。
- 4 後三条天皇は、公領の増加が荘園を圧迫して朝廷の税収の減少をまねいているとして荘園整理令を出し、基準に合わない荘園は停止された。

[問 5] 次の資料は、「玉葉」に記された、ある出来事に関するものである。資料中の下線部の人物名として適切なものは、下の1～4のうちのどれか。解答番号は 。

資料

- 1 北条時頼
- 2 北条泰時
- 3 北条義時
- 4 北条時政

[問 6] 豊臣秀吉が行った政策に関する記述として適切なものは、次の1～4のうちのどれか。解答番号は 。

- 1 バテレン追放令を出して、キリシタン大名の国外追放を命じた。
- 2 関白として天皇の権威を利用して大名間の停戦を命じた。
- 3 近江の寺院で浄土宗と日蓮宗に法論を行わせ、敗れた日蓮宗に弾圧を加えた。
- 4 太閤検地を行い、土地の生産力を銭貨で示す石高に応じて年貢納入額を定めた。

[問 7] 天保の改革に関する記述として適切なものは、次の1～4のうちのどれか。解答番号は 。

- 1 金銭に関する訴訟が減少したため、幕府は訴訟を受理せず、当事者間で解決させようと、相对済し令を出した。
- 2 南鐮二朱銀などの銀貨を鑄造させ、秤量貨幣を基本とする貨幣制度への一本化を試みた。
- 3 特定の業種を独占した株仲間は、買い占めや価格つり上げによる物価高騰の元凶と目されたため、株仲間解散令が出された。
- 4 幕政への風刺や批判などに対して厳しい出版統制を行い、著書で海防の重要性を説いた林子平を処罰した。

[問 8] 次の記述は、江戸時代のある民衆運動に関するものである。この民衆運動の名称として適切なものは、下の1～4のうちのどれか。解答番号は 。

畿内を中心に、菜種・綿などをめぐり、生産地の百姓や在郷商人が、自由な流通を求めて特権商人などによる流通支配に反対し、国や郡全体の広い範囲を巻き込む大規模な訴願闘争のこと。

- 1 村方騒動
- 2 国訴
- 3 打ちこわし
- 4 全藩一揆

[問 9] 我が国の交通に関する記述として適切なものは、次の1～4のうちのどれか。解答番号は 。

- 1 日本郵船会社は、日清戦争前にヨーロッパ、アメリカ、オーストラリアへの航路を開き、日清戦争後にインドのボンベイに航路を開いた。
- 2 第二次大隈重信内閣は、全国の鉄道網の統一的管理を目指す鉄道国有法を公布した。
- 3 地下鉄は、早川徳次の東京地下鉄道会社により、昭和2年に新橋－横浜間で開業した。
- 4 福島事件は、三島通庸が不況下の農民に労役を課して県道をつくろうとしたことに対して農民が抵抗した事件である。

[問10] サンフランシスコ平和条約に関する記述として適切なものは、次の1～4のうちどれか。解答番号は 。

- 1 我が国と、アメリカ、中国、ソ連などを含めた全ての交戦国との間で調印された。
- 2 我が国は独立国としての主権を回復した。
- 3 奄美群島や沖縄諸島、小笠原諸島については、連合国が共同で委任統治した。
- 4 我が国は朝鮮の独立を認めたが、台湾、南樺太、千島列島は放棄しなかった。

C 地理

[問 1] 高等学校学習指導要領地理歴史の「各科目」の「地理探究」の「目標」に関する記述として適切なものは、次の1～4のうちのどれか。解答番号は 。

- 1 現代世界の地理的事象を系統地理的に、現代世界の諸地域を歴史的背景を踏まえて地誌的に考察し、現代世界の地理的認識を養うとともに、地理的な見方や考え方を培い、国際社会に主体的に生きる日本国民としての自覚と資質を養う。
- 2 地理に関わる諸事象に関して、世界の空間的な諸事象の規則性、傾向性や、世界の諸地域の地域的特色や課題などを理解するとともに、地図や地理情報システムなどを用いて、調査や諸資料から地理に関する様々な情報を適切かつ効果的に調べまとめる技能を身に付けるようにする。
- 3 地理に関わる事象の意味や意義、特色や相互の関連を、位置や分布、場所、人間と自然環境との相互依存関係、空間的相互依存作用、地域などに着目して、概念などを活用して多面的・多角的に考察したり、地理的な課題の解決に向けて構想したりする力や、考察、構想したことを効果的に説明したり、それらを基に議論したりする力を養う。
- 4 地理に関わる諸事象に関して、世界の生活文化の多様性や、防災、地域や地球的課題への取組などを理解するとともに、地図や地理情報システムなどを用いて、調査や諸資料から地理に関する様々な情報を適切かつ効果的に調べまとめる技能を身に付けるようにする。

[問 2] 次の記述は、我が国における、ある島しょに関するものである。この島しょとして適切なものは、下の1～4のうちのどれか。解答番号は 。

干潮時には東西約4.5km、南北約1.7kmの、満潮時には露岩のみの環礁である。護岸工事を行ない、領土と200海里排他的経済水域が守られた。

- 1 与那国島
- 2 佐渡島
- 3 沖ノ島
- 4 南鳥島

[問 3] 扇状地に関する記述として適切なものは、次の1～4のうちのどれか。解答番号は 。


- 1 扇端は、扇状地の谷口の部分は大きな礫が多く、川は放射状や網目状に分流することが多い。水に恵まれるため、谷口集落が形成される。
- 2 扇頂は、砂礫からなる厚い堆積物で覆われるため、河川水は伏流し、水無川となることが多い。
- 3 扇央は、伏流していた地下水が地表に湧出する湧水帯で、水に恵まれるため、集落や水田が広がった。
- 4 天井川とは、河床が周囲の平野面より高くなった河川である。洪水を防ぐために流路を堤防で固定した結果、堤防内に土砂が堆積して河床が高くなることでつくられる人工的な地形である。

[問 4] 土壌に関する記述として適切なものは、次の1～4のうちのどれか。解答番号は 。

- 1 栗色土は、ステップに生成する成帯土壌である。生産力は高いが、降水量の変動が大きいいため、灌漑施設が必要となる。
- 2 レグールは、石灰岩地域に分布する赤色の間帯土壌である。イタリア語の赤い土に由来する。
- 3 チェルノーゼムは、黒色の間帯土壌で、綿花土とよばれる。溶岩台地をつくる玄武岩の風化土壌である。
- 4 テラロッサは、湿潤ステップや温帯の長草草原に分布する成帯土壌である。小麦やトウモロコシの栽培地域で、世界の穀倉地帯となっている。

[問 5] 次の図は、2019年における、ある金属鉱の主要生産国を表したものである。この金属鉱として適切なものは、下の1～4のうちのどれか。解答番号は 。

図



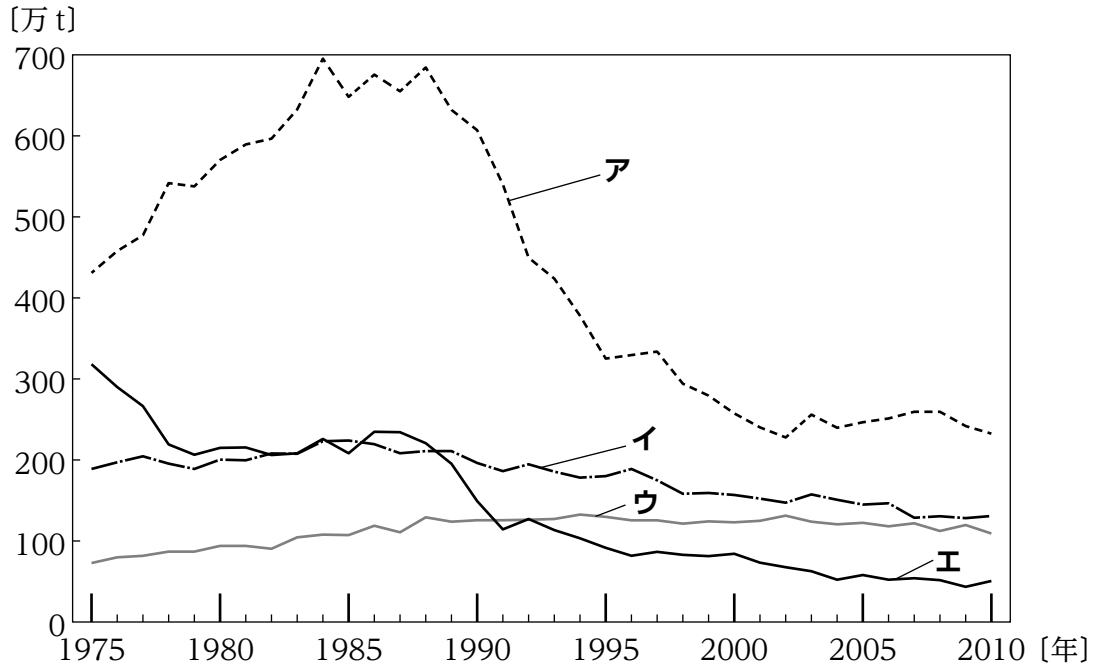
※ 粗鉱量を示す。

(矢野恒太記念会「世界国勢図会2021 / 22年版」から作成)

- 1 銅鉱
- 2 ボーキサイト
- 3 銀鉱
- 4 鉛鉱

[問 6] 次の図は、1975年から2010年における我が国の漁業種類別生産量の推移を表したものであり、図中のア～エには、遠洋漁業、沿岸漁業、沖合漁業、海面養殖業のいずれかが当てはまる。イに関する記述として適切なものは、下の1～4のうちのどれか。解答番号は 。

図

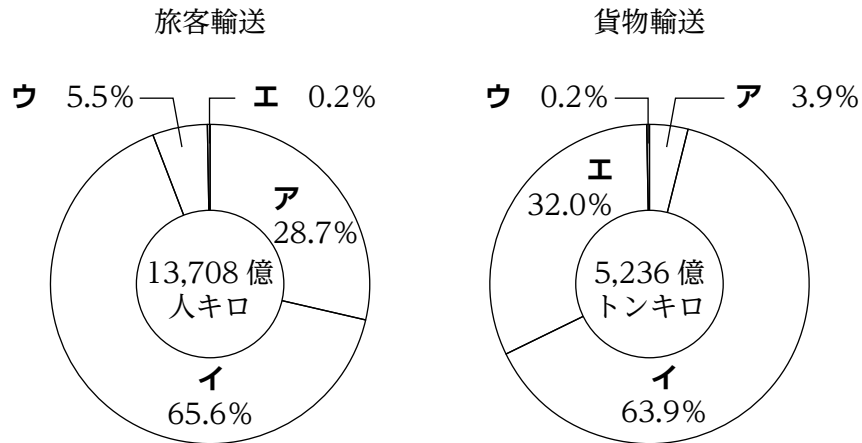


(矢野恒太記念会「日本国勢図会2021 / 22年版」から作成)

- 1 漁業根拠地から遠隔の漁場に出漁して行う漁業で、漁船の動力化や大型化に伴って発達した。大規模な漁業会社によって行われることが多い。
- 2 入江や湾などの海域で行われる水産養殖業で、ハマチ、ホタテ貝、エビ、真珠、カキ、ノリなどの養殖がさかんである。
- 3 海岸から遠くない、自国の領海内で行われる漁業で、我が国では漁船を使用しないか、無動力船および動力10トン未満の漁船を使用する漁業である。
- 4 200海里内の漁業専管水域において航海日数2週間以内で行われる漁業で、労働者を雇用する中規模の漁業経営によるものが多く、大衆魚を大量に供給している。

[問 7] 次の図は、2009年における我が国の輸送機関別国内輸送量（旅客・貨物輸送）の割合を示したものである。図中のア～エには、航空、自動車、水運、鉄道のいずれかが当てはまる。図中のアに当てはまるものとして適切なものは、下の1～4のうちのどれか。解答番号は 。

図



(二宮書店「データブック オブ・ザ・ワールド2022年版」から作成)

- 1 航空
- 2 自動車
- 3 水運
- 4 鉄道

[問 8] 民族衣装に関する記述として適切なものは、次の1～4のうちのどれか。解答番号は 。


- 1 アオザイは、ケニアの民族衣装で、原色で色鮮やかな綿の布地を使ったものである。
- 2 サリーは、ベトナムの民族衣装で、通気性や吸湿性にすぐれた麻や絹を薄い布地に仕立てた裾の長い衣服である。
- 3 ポンチョは、中南米で広く用いられる貫頭衣の総称で、防寒と防風にすぐれたアルパカなどの毛を紡いで織り上げたものである。
- 4 カンガは、南アジアの女性が着用する民族衣装で、通気性や断熱性にすぐれた綿のほか、高級なものは絹やカシミアを使っている。

[問 9] 現代のヨーロッパの産業に関する記述として適切なものは、次の1～4のうちのどれか。解答番号は 。

- 1 ヨーロッパの内陸部では畜産と耕種農業を組み合わせた混合農業が発達した。また、デンマークやオランダではオリーブやコルクがし、かんきつ類などを栽培する地中海式農業がみられる。
- 2 イギリス南西部からベネルクス三国、ルール工業地帯、ライン川流域を経てイタリア北部にかけて各種工業が集積した地域のことを、ヨーロッパのサンベルトと呼んでいる。
- 3 牧草や飼料作物を栽培して乳牛を飼育し、生乳やバター、チーズなどを生産する酪農は、イギリスやデンマークなど、冷涼な気候とやせた土壌のため穀物栽培にはあまり適さない地域で発達した。スイスでは、移牧による山岳酪農もみられる。
- 4 スペインの中部からフランス南部を経てイタリア中部にいたる地中海沿岸地域で、情報通信技術産業や航空機生産など先端技術産業が集積している地域のことを、ブルーバナナと呼んでいる。

[問10] 我が国の都市・居住問題に関する記述として適切なものは、次の1～4のうちのどれか。解答番号は 。

- 1 ドーナツ化現象とは、都市の発展に伴って都心部の人口が増加し、周辺部の人口が減少する現象である。
- 2 インナーシティ問題とは、大都市の都心部で住宅環境が悪化し、昼間人口が減って近隣関係などが崩れ、行政区の存立が危うくなるような地域が生まれることである。
- 3 都市のスポンジ化とは、都市部においても空き家や空き地、空き店舗などが規則的に発生するため、都市の密度が上昇することである。
- 4 スプロール現象とは、住宅や都市施設が無秩序に郊外へ広がっていく現象である。



3 問題文中の $\boxed{2}$ 、 $\boxed{34}$ などの \square には、数字又は符号（-）が入ります。次の(1)~(4)の方法でマークしてください。

(1) $\boxed{2}$ 、 $\boxed{3}$ 、 $\boxed{4}$ 、……の一つ一つは、それぞれ1~9、0の数字又は符号（-）のいずれか一つに対応します。それらを $\boxed{2}$ 、 $\boxed{3}$ 、 $\boxed{4}$ 、……で示された解答欄にマークしてください。

例えば、 $\boxed{234}$ に -84 と解答する場合には、次の（例2）のようにマークします。

解答番号	解答欄
(例2) $\boxed{2}$	① ② ③ ④ ⑤ ⑥ ⑦ ⑧ ⑨ ⑩ ●
$\boxed{3}$	① ② ③ ④ ⑤ ⑥ ⑦ ● ⑨ ⑩ ⊖
$\boxed{4}$	① ② ③ ● ⑤ ⑥ ⑦ ⑧ ⑨ ⑩ ⊖

なお、同一の問題文中に $\boxed{2}$ 、 $\boxed{34}$ などが2度以上現れる場合、原則として、2度目以降は、 $\boxed{2}$ 、 $\boxed{34}$ のように細字で表記します。

(2) 分数形で解答する場合は、符号は分子に付け、分母に付けてはいけません。また、分数は既約分数で答えてください。

例えば、 $\frac{\boxed{56}}{\boxed{7}}$ に $-\frac{4}{5}$ と解答する場合には、 $-\frac{4}{5}$ として、次の（例3）のように

マークします。

解答番号	解答欄
(例3) $\boxed{5}$	① ② ③ ④ ⑤ ⑥ ⑦ ⑧ ⑨ ⑩ ●
$\boxed{6}$	① ② ③ ● ⑤ ⑥ ⑦ ⑧ ⑨ ⑩ ⊖
$\boxed{7}$	① ② ③ ④ ● ⑥ ⑦ ⑧ ⑨ ⑩ ⊖

(3) 小数の形で解答する場合は、特に指示されていないければ、指定された桁数の一つ下の桁を四捨五入して答えてください。また、必要に応じて、指定された桁まで⑩にマークしてください。

例えば、 $\boxed{8.910}$ に 2.6 と解答する場合には、2.60 として答えてください。

(4) 根号を含む形で解答する場合は、根号の中に現れる自然数が最小となる形で答えてください。

問題番号		解答 番号	正答	配点	備考
大問	小問				
1	問1	1	4	5	
	問2	2	1	5	
	問3	3	4	5	
	問4	4	2	5	
	問5	5	4	5	
	問6	6	2	5	
	問7	7	2	5	
	問8	8	3	5	
	問9	9	3	5	
	問10	10	2	5	
A	問1	11	1	5	
	問2	12	2	5	
	問3	13	3	5	
	問4	14	4	5	
	問5	15	3	5	
	問6	16	4	5	
	問7	17	2	5	
	問8	18	2	5	
	問9	19	2	5	
	問10	20	1	5	

問題番号		解答 番号	正答	配点	備考
大問	小問				
B	問1	21	2	5	
	問2	22	2	5	
	問3	23	4	5	
	問4	24	3	5	
	問5	25	4	5	
	問6	26	2	5	
	問7	27	3	5	
	問8	28	2	5	
	問9	29	4	5	
	問10	30	2	5	
C	問1	31	2	5	
	問2	32	3	5	
	問3	33	4	5	
	問4	34	1	5	
	問5	35	2	5	
	問6	36	3	5	
	問7	37	4	5	
	問8	38	3	5	
	問9	39	3	5	
	問10	40	4	5	