

令6 中学校社会 (9枚のうち1)

(解答はすべて、解答用紙に記入すること)

I 次の文章を読んで、あとの問いに答えなさい。

私たちの周辺には多種多様な地理情報が存在している。それらの情報は、地図によって空間的に表現されている。①現代では、科学技術の発達により、様々な地図が開発されており、②地域間の時間距離の縮小と地球の一体化が進む中、地図の重要性は一層大きくなっている。しかし、球体である地球を、平面の地図に写し取ることは難しく、古くから、③使う目的に合わせて、地図が考案されてきた。地図は、作成の意図や目的により、一般図と主題図に大別できる。一般図には、地形や道路などの要素を基本に、地表の事象をできるだけ網羅的に取り上げた地形図などがある。身近な地域を調査する際には、④地形図が活用される。主題図は、気候・土壌・人口分布など、特定の事象を重点的に表現したものであり、土地利用図や⑤統計地図が代表的である。

1 下線部①に関して、現代の地図について述べた次の文中の (A) ~ (C) にあてはまる語句の組合せとして適切なものを、あとのア~カから1つ選んで、その符号を書きなさい。

天気予報でみられる雲の画像のように、人工衛星から地球の様子を監視する技術は (A) とよばれ、穀物の生産予測など様々な地図に加工されている。人工衛星の電波を受信し、位置を正確に知ることができる (B) は、カーナビゲーションや携帯電話などに利用されている。また、コンピュータを利用して、様々な地理情報を収集、分析、地図表現する (C) も、インターネットのデジタル地図のように身近なものになっている。

	ア	イ	ウ	エ	オ	カ
A	リモートセンシング (遠隔探査)	リモートセンシング (遠隔探査)	地理情報システム (GIS)	地理情報システム (GIS)	全球測位衛星システム (GPS)	全球測位衛星システム (GPS)
B	地理情報システム (GIS)	全球測位衛星システム (GPS)	リモートセンシング (遠隔探査)	全球測位衛星システム (GPS)	リモートセンシング (遠隔探査)	地理情報システム (GIS)
C	全球測位衛星システム (GPS)	地理情報システム (GIS)	全球測位衛星システム (GPS)	リモートセンシング (遠隔探査)	地理情報システム (GIS)	リモートセンシング (遠隔探査)

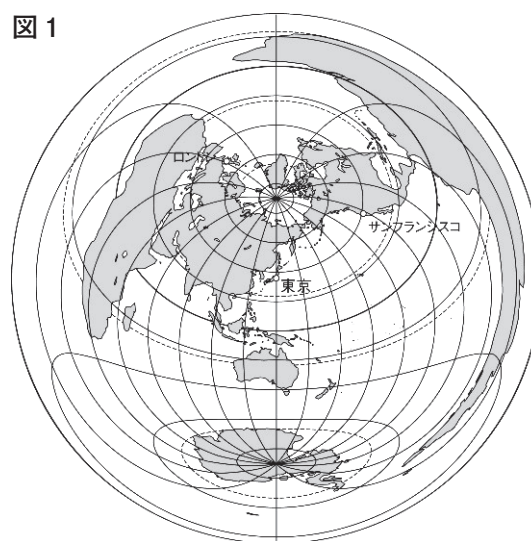
2 下線部②について、関西国際空港を日本時間で7月1日午後11時発の航空便が、ハワイ・ホノルルに現地時間の7月1日午前11時に到着した。このことに関連して述べた文として適切なものを、次のア~カから2つ選んで、その符号を書きなさい。ただし、ハワイの標準時子午線は西経150度であり、ハワイではサマータイムは採用されていない。

- ア 日本とハワイの時差は12時間である。
- イ 日本とハワイの時差は15時間である。
- ウ 日本とハワイの時差は19時間である。
- エ 日本からハワイまでの飛行時間は7時間であった。
- オ 日本からハワイまでの飛行時間は9時間であった。
- カ 日本からハワイまでの飛行時間は12時間であった。

3 下線部③について、次の問いに答えなさい。

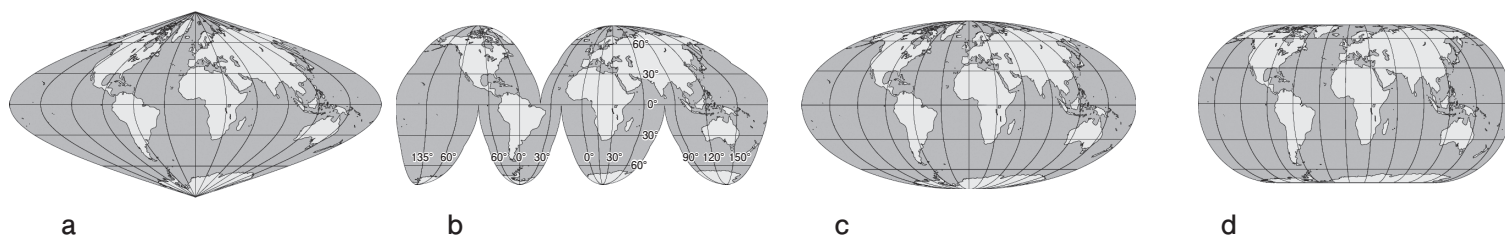
(1) 右の図1は、東京中心の正距方位図法の地図である。この図から読みとれることについて述べた文として適切なものを、次のア~エから1つ選んで、その符号を書きなさい。

- ア 東京の対蹠点は、大西洋上にある。
- イ 東京からみたサンフランシスコの方位はほぼ北東である。
- ウ 東京からロンドンへの最短コースはロシア上空を通過する。
- エ 東京からアフリカ大陸南端までの距離は、東京からサンフランシスコまでの距離よりも短い。



(2) 次の図2は正積図を示したものであり、あとのi・iiはその説明文である。「メルワイデ図法」に該当する組合せとして適切なものを、あとのア~クから1つ選んで、その符号を書きなさい。

図2



- i 中央経線以外の経線は、正弦曲線で描かれており、赤道や中央経線付近の陸地の形が比較的正確に表現されている。
- ii 経線が楕円を用いて描かれており、世界全図や世界全体を対象とした各種の分布図に利用される。

ア a-i イ b-i ウ c-i エ d-i オ a-ii カ b-ii キ c-ii ク d-ii

令6 中学校社会 (9枚のうち2)

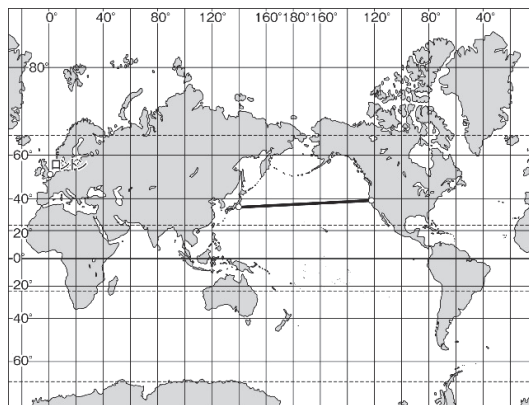
(解答はすべて、解答用紙に記入すること)

(3) 右の図3のメルカトル図法について述べた次の文中の (A)、(B) にあてはまる語句の組合せとして適切なものを、あとのア～カから1つ選んで、その符号を書きなさい。

この図法では、高緯度ほど距離と面積は拡大され、緯度60度では、面積は赤道付近の (A) 倍となる。羅針盤を利用する航海用の図法で、現在でも海図に利用される。任意の2点間を結ぶ直線は (B) 航路になる。

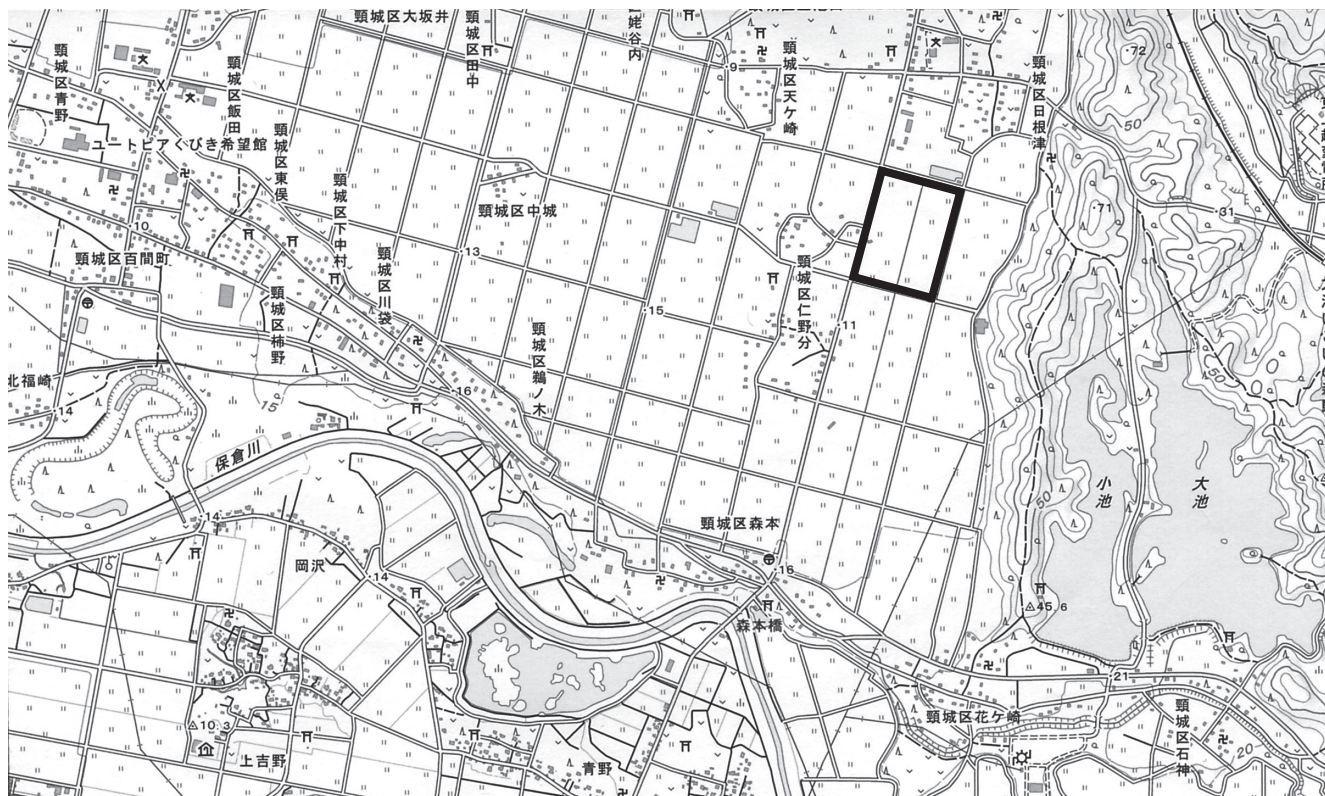
	ア	イ	ウ	エ	オ	カ
A	2	2	4	4	6	6
B	等角	大圏	等角	大圏	等角	大圏

図3



4 下線部④に関して、次の図4から読み取れることについて述べた文として適切なでないものを、あとのア～エから1つ選んで、その符号を書きなさい。

図4




(2万5千分の1地形図「湯町」(平成31年)を一部改変)

ア 図は沖積平野の一部である氾濫原を示しており、後背湿地の大部分は水田に利用されている。

イ 保倉川の流路の変更により、旧流路の一部が河跡湖として残されている。

ウ 大池や小池の南端には、堤防が築かれている。

エ 保倉川は、森本橋付近で天井川となっており、道路が河床の下を通っている。

5 図4の太枠  で囲まれた部分(地図上で縦約1.5cm、横約1cm)の実際の面積に最も近いものを、次のア～エから1つ選んで、その符号を書きなさい。

ア 0.03km² イ 0.06km² ウ 0.09km² エ 0.12km²

6 下線部④に関して、地形図の利用について述べた文として適切なものを、次のア～エから1つ選んで、その符号を書きなさい。

ア 地形図の等高線の間隔が狭いほど傾斜はゆるやかである。

イ 山地で等高線が標高の低い方に向かって張り出しているところは尾根である。

ウ 2万5千分の1地形図は、空中写真や現地測量などをもとにした編集図である。

エ 5万分の1地形図は、2万5千分の1地形図をもとにした実測図である。

7 下線部⑤に関して、地理情報を地図で表すことについて述べた文として適切なでないものを、次のア～エから1つ選んで、その符号を書きなさい。

ア 地域別の人口密度を表すには、ドットマップが用いられることが多い。

イ 多くの地方自治体では、津波や洪水など自然災害による被害を抑えることを目的にハザードマップが作成されている。

ウ 図形表現図は、円や正方形など図形の大きさによって地域ごとの統計数値を比較ができ、絶対分布図といわれる。

エ カルトグラムは、統計数値をより効果的に示すため、もとの地図を変形させて表現したものである。

令6 中学校社会 (9枚のうち3)

(解答はすべて、解答用紙に記入すること)

II 次の文章を読んで、あとの問いに答えなさい。

東南アジアとアフリカには①多様な自然環境がみられ、特徴的な②農業が発達している。また、東南アジアは1980年代半ばに外国企業の工場進出先として注目されるようになった。近年は、③地域経済統合を図る取組も進められている。一方、アフリカでは④自給作物の栽培や先進国に輸出される商品作物の栽培が現在も行われているが、⑤食料不足に悩む地域もあり、⑥特定の農産物や鉱産資源の輸出に頼る傾向がある。近年は市場の相手先として、また資源開発地として、日本との結びつきを深めている。

図1

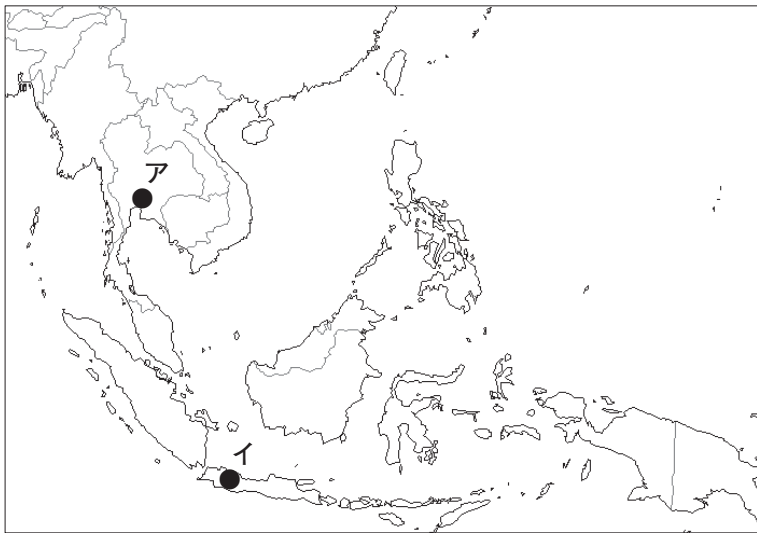
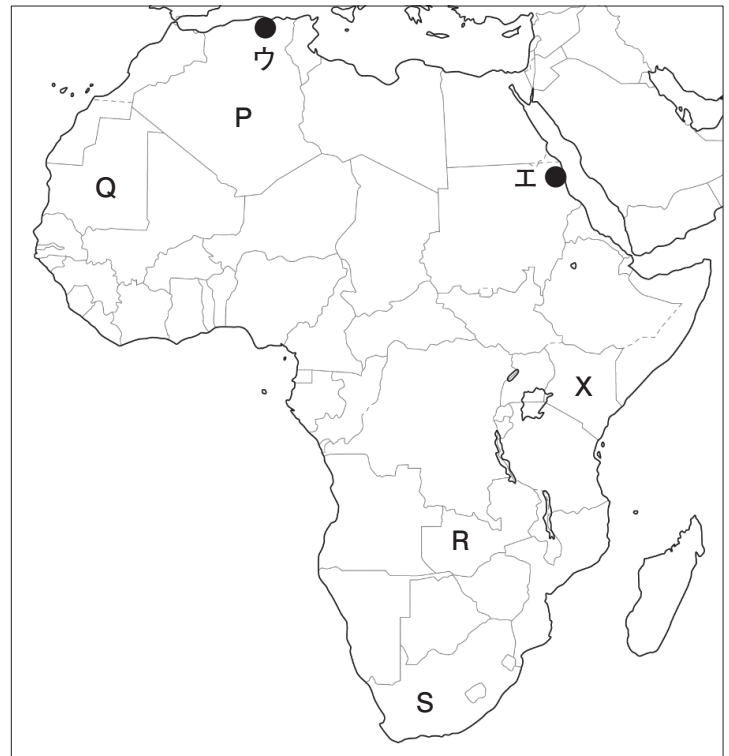
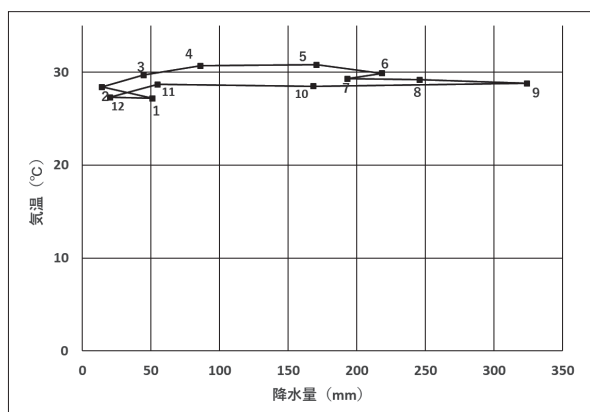


図2



1 下線部①について、次の問いに答えなさい。

(1) 次のハイサーグラフに該当する地点を、図1、図2のA～Iから1つ選んで、その符号を書きなさい。



(気象庁ホームページより作成)

(2) 東南アジアの地帯構造について述べた文として適切なものを、次のA～Iから1つ選んで、その符号を書きなさい。

- A 東南アジアは全域が新期造山帯に該当し、火山活動や地震活動が活発である。
- I スマトラ島やジャワ島周辺にプレート境界はなく、火山の分布はみられない。
- U ニューギニア島西部の海域でアルプス＝ヒマラヤ造山帯と環太平洋造山帯とが接合している。
- E フィリピンの東部にはフィリピン海プレートとインド＝オーストラリアプレートが沈み込む海溝がみられる。

2 下線部②について、東南アジアの農業について述べた文として適切なでないものを、次のA～Iから1つ選んで、その符号を書きなさい。

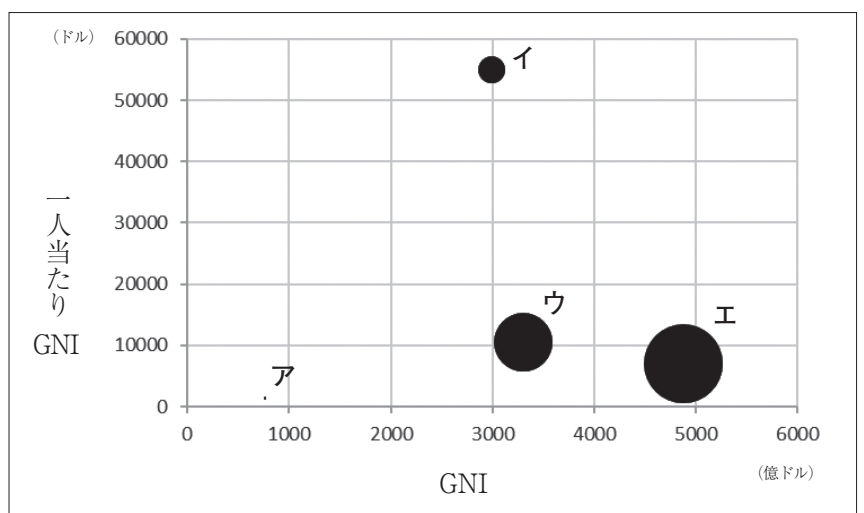
- A インドネシアでは緑の革命が進められ、自国の米の需要に対する国内の供給能力が向上した。
- I タイではプランテーションによる天然ゴムの栽培が盛んであり、世界一の生産量となっている。
- U フィリピンでは多国籍企業によるバナナプランテーションが、ミンダナオ島のダヴァオ北部に集中している。
- E マレーシアでは生産が盛んであった油やしの木が老化したこともあり、なつめやしへの転作を進めている。

3 下線部③について、2015年12月に東南アジア諸国連合加盟10ヶ国で発足し、2018年1月には域内の関税を原則すべて撤廃することになった経済共同体の略称を書きなさい。

4 右の図3は縦軸に一人当たりGNI、横軸にGNI、対日輸出額を円の大きさに示したものであり、A～Iはシンガポール、タイ、マレーシア、ミャンマーのいずれかの国を示している。タイに該当するものを、図3のA～Iから1つ選んで、その符号を書きなさい。

図3

(2020年)



(『データブック オブ ザ ワールド 2023』より作成)

令6 中学校社会 (9枚のうち4)

(解答はすべて、解答用紙に記入すること)

5 下線部④について、**図2**の**X**国の農業に関して述べた文として適切なものを、次の**ア～エ**から1つ選んで、その符号を書きなさい。

- ア コーヒーの原産地とされ、コーヒー豆・もろこし・ごまなどが主要産物である。
- イ 高原地域の気候を生かした農業が行われており、コーヒー豆・茶・花き類・サイザル麻などが主要産物である。
- ウ 国土が乾燥しているため大河川付近に耕地は限られ、小麦・米・綿花などが主要農産物である。
- エ 国土が乾燥しているため遊牧が盛んであり、綿花・米・あわ・もろこしの栽培もみられる。

6 下線部⑤について、慢性的な食糧不足の状況を改善するため、日本政府から派遣された専門家の支援で、病気や乾燥に強いアフリカ稲と高収量のアジア稲を交雑した新品種の栽培が行われている。この新品種の総称を何と書いて書きなさい。

7 下線部⑥について、次の問いに答えなさい。

(1) 次の**表1**、**表2**のいずれかは、アフリカで栽培が盛んなキャッサバ生産量の世界全体に占める割合を示したものであり、あとの文a～cのいずれかはキャッサバを説明した文である。キャッサバに該当する組合せとして適切なものを、あとの**ア～カ**から1つ選んで、その符号を書きなさい。

表1 (2020年)

国名	割合 (%)
コートジボワール	38.2
ガーナ	13.9
インドネシア	12.8
ナイジェリア	5.9
エクアドル	5.7

表2 (2020年)

国名	割合 (%)
ナイジェリア	19.8
コンゴ民主	13.6
タイ	9.6
ガーナ	7.2
インドネシア	6.0

(『データブック オブ ザ ワールド 2023』より作成)

- a 原産地は熱帯アメリカ低地とされる。排水良好な土壌を好み、種子を乾燥させて利用する。
- b 原産地は南米とされる。根からでんぷんを採取して食用に加工したり、飼料として利用したりする。
- c 原産地は地中海沿岸とされる。乾燥に強く、他の樹木が生育困難な岩盤質の土地でも成長し、楕円形の実を利用する。

ア 表1-a **イ** 表1-b **ウ** 表1-c **エ** 表2-a **オ** 表2-b **カ** 表2-c

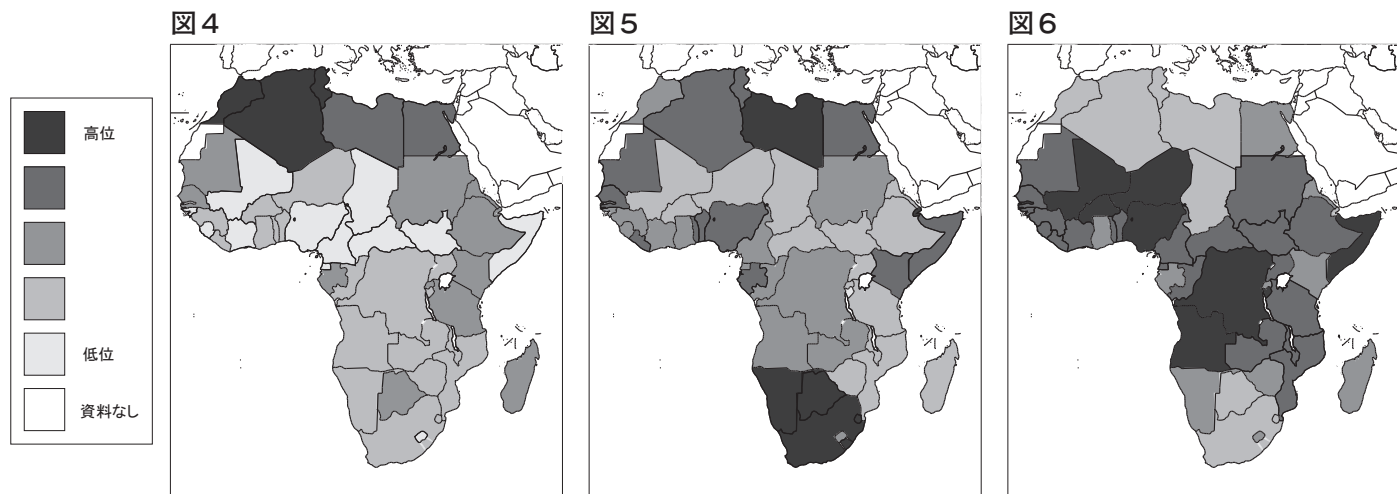
(2) **表3**は**図2**の**P**、**Q**、**R**、**S**国の輸出額の構成と一人当たりGNIを示している。**Q**国に該当するものを、次の**ア～エ**から1つ選んで、その符号を書きなさい。

表3

国名	輸出額構成 (%)								一人当たりGNI (ドル)
ア	銅	73.5	銅鉱	2.3	セメント	1.6	機械類	1.5	1,160
イ	鉄鉱石	34.5	金(非貨幣用)	26.1	魚介類	22.9	銅鉱	7.6	1,670
ウ	原油	36.1	天然ガス	20.3	石油製品	18.3	液化天然ガス	10.4	3,570
エ	白金	12.6	自動車	9.8	金(非貨幣用)	7.9	機械類	7.6	6,010

(『データブック オブ ザ ワールド 2023』より作成)

8 次の**図4～図6**は、アフリカ諸国における2020年の合計特殊出生率、平均寿命、第3次産業人口比率を示したものである。**図4～図6**の指標の組合せとして適切なものを、あとの**ア～カ**から1つ選んで、その符号を書きなさい。



(『データブック オブ ザ ワールド 2023』より作成)

	ア	イ	ウ	エ	オ	カ
合計特殊出生率	図4	図4	図5	図5	図6	図6
平均寿命	図5	図6	図4	図6	図4	図5
第3次産業人口比率	図6	図5	図6	図4	図5	図4

令6 中学校社会 (9枚のうち5)

(解答はすべて、解答用紙に記入すること)

Ⅲ 次の文章を読んで、あとの問いに答えなさい。

14世紀中ごろの中国では、①元がおとろえ、(A) 民族の皇帝が②明を建国し、モンゴル民族は北に追われた。明は、倭寇の対策として、民間貿易を禁止して、③明に朝貢する形式の貿易を行った。日本では、室町幕府の3代将軍 (B) が、朝貢形式の貿易を始め、貿易の利益を幕府の財源にあてた。

14世紀終わりの朝鮮半島では、李成桂が高麗を滅ぼし、国号を④朝鮮とし、1897年に国号を改めるまで存続した。⑤琉球では按司と称される有力者を統率する権力者があられ、3つの勢力が分立したが、15世紀初め、尚巴志が三山を統一して琉球王国をたて、(C) を都とし、東シナ海と⑥南シナ海を結ぶ結節点となった。

1 文中の (A) ~ (C) にあてはまる語句を書きなさい。

2 下線部①について、この国を訪問した人物に関して述べた文として適切でないものを、次のア~エから1つ選んで、その符号を書きなさい。

ア ヴェネツィア出身のマルコ=ポーロは大都に至りフビライに仕えた。

イ 修道士のモンテ=コルヴィノは大都の初代大司教に任じられ、中国で初めてカトリックの布教を行った。

ウ 『大旅行記 (三大陸周遊記)』で知られるイブン=バトゥータは、海路で中国に渡った。

エ イギリスの軍人のマカートニーは、熱河の離宮に至り貿易関係の改善を要求した。

3 下線部②の王朝の官僚体制に関して述べた文として適切なものを、次のア~エから1つ選んで、その符号を書きなさい。

ア 朱子学を官学として科挙を整備し、唐にならって律・令を制定した。

イ 中央官制の要職の定員は満・漢同数とし、皇帝直属の諮問機関の軍機処を設置した。

ウ 科挙によって選ばれた文人官僚が政治をおこなう文治主義が行われた。

エ 中書省をはじめとする三省と六部を中心とした分業体制を行った。

4 下線部③について、明への朝貢貿易の拠点のひとつとなったマラッカ王国は、現在のどこの国に属するか、次のア~エから1つ選んで、その符号を書きなさい。

ア フィリピン イ マレーシア ウ ベトナム エ インドネシア

5 下線部④について、日本との関わりに関して述べた文 a と b の正誤の組合せとして適切なものを、あとのア~エから1つ選んで、その符号を書きなさい。

a 対馬の宗氏は、日本と朝鮮半島の貿易で利益を得た。

b 朝鮮通信使は、江戸幕府の将軍の代替わりの際などに来日した。

ア a-正 b-正 イ a-正 b-誤 ウ a-誤 b-正 エ a-誤 b-誤

6 下線部⑤について、15世紀初めに盛んに行われた中継貿易の輸出入品に関して述べた次の文中の (X)、(Y) にあてはまる語句の組合せとして適切なものを、あとのア~エから1つ選んで、その符号を書きなさい。

日本の刀剣や屏風、東南アジアの (X) などを明に納め、その返礼として明から (Y) を得て、他の国々に輸出した。

ア X 砂糖や木綿 Y 絹織物や陶磁器 イ X 砂糖や木綿 Y 香辛料や象牙

ウ X 香辛料や象牙 Y 絹織物や陶磁器 エ X 絹織物や陶磁器 Y 砂糖や木綿

7 下線部⑥について、沿岸部にあるベトナム中部にあったチャンパーに関して述べた文として適切なものを、次のア~エから1つ選んで、その符号を書きなさい。

ア 日照りに強い占城稻が長江下流域でも栽培された。 イ 山田長政が官位につき日本との通商に尽力した。

ウ ボロブドゥールに大乘仏教の石像がある。 エ マゼランが世界周航の際に到達し、植民地化のきっかけになった。

Ⅳ 次の文章を読んで、あとの問いに答えなさい。

令和6年度に新紙幣が発行される予定である。過去には、右大臣として活躍したが九州へ左遷され、死後に天神としてまつられた (A) が紙幣の肖像画となった。銭貨の歴史をみると、奈良時代に和同開珎が铸造され、①平安時代の10世紀半ばまで国家による銭貨発行が続いた。12世紀半ば以降、中国から銭貨が流入し使用されたが、15世紀後半以降は、中国からの銭貨の流入量が減少し、②私的につくられた私鑄銭の流通により、国内の銭貨流通は混乱した。江戸時代には、幕府は③主要鉱山を直轄し、金・銀・銭の三貨を流通させた。江戸時代を通じて、幕府によりたびたび④貨幣の改鑄が行われた。

明治時代になると政府は、財源に乏しく、太政官札等の不換紙幣を発行した。また財源の安定を目指し、⑤地租改正に着手した。江戸幕府が経営した鉱山や工場を官営事業として経営し、殖産興業にも力を注いだ。貿易赤字を解消するため官営の (B) 製糸場を群馬県に新たに設け、生糸の生産拡大を図った。綿製品は1883年には⑥大阪紡績会社が開業し機械による生産が急増した。日清戦争前後の産業革命期に入ると、工場労働者のストライキが始まり、政府は労資対立を緩和するため、日本で最初の労働者保護法である (C) 法の制定に向かい、1911年に成立した。⑦第一次世界大戦で日本は未曾有の好景気を迎えたが、ヨーロッパ諸国の復興が進むと、戦後恐慌が発生し、その後日本経済は関東大震災で大きな打撃を受け、⑧1920年代以降複数の恐慌にみまわれた。

1 文中の (A) ~ (C) にあてはまる人名または語句を書きなさい。

2 下線部①に関して述べた文 a ~ c について、古いものから順に並べたものを、あとのア~カから1つ選んで、その符号を書きなさい。

a 東国に進出していた源氏が、東国の武士を率いて東北地方の豪族安倍氏を滅ぼした。

b 現在の茨城県周辺を根拠地としていた人物が、国司と対立して反乱を起こし新皇と称したが鎮圧された。

c 院の近臣のあいだの対立を原因として都で乱がおこり、貴族社会の争いも武士の実力で解決された。

ア a→b→c イ a→c→b ウ b→a→c エ b→c→a オ c→a→b カ c→b→a

令6 中学校社会 (9枚のうち6)

(解答はすべて、解答用紙に記入すること)

- 3 下線部②から類推される中世社会の特徴を述べた文として適切なものを、次のア～エから1つ選んで、その符号を書きなさい。
ア 圧倒的軍事力を背景とした政権により秩序が安定した時代 イ 様々な勢力が独自の権力をもち、政治権力が分散した時代
ウ 文書主義を特徴とし、中国をモデルとした中央集権の時代 エ 国土の領域が確定し、人々の行動様式が画一化した時代
- 4 下線部③について、次の資料1が示す鉱山を、あとのア～エから1つ選んで、その符号を書きなさい。

資料1 この鉱山は、1542年の山名氏の時代に採掘が始まりました。織田・豊臣時代を経て、江戸時代、幕府が代官所を置き、最盛期を迎えます。明治元年、政府直轄となりフランス人技師が着任し、めざましい近代化を成し遂げました。明治29年に三菱合資会社に払い下げられ、昭和48年の閉山まで国内有数の大鉱山として採掘が続きました。平成29年、日本遺産(「播但貫く銀の馬車道鉱石の道」)に認定され鉱山の歴史を伝えています。(観光パンフレットを要約)

ア 佐渡 イ 石見 ウ 別子 エ 生野

- 5 下線部④に関して、次の資料2は、1860年の改鋳を説明したものである。(X)と(Y)にあてはまる文の組合せとして、適切なものを、あとのア～エから1つ選んで、その符号を書きなさい。

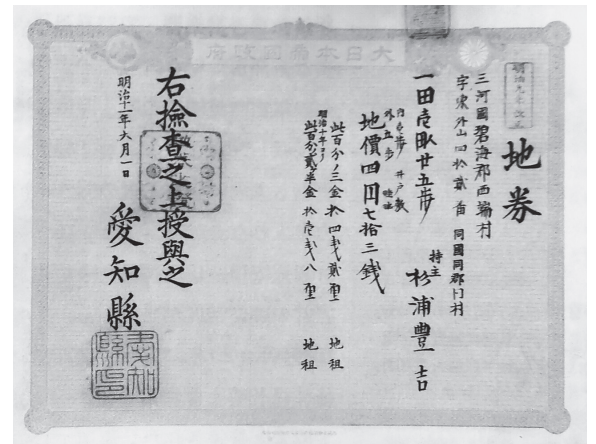
資料2 貿易の開始とその影響

(X) ⇔ 幕府は金貨の品質を大幅に引き下げる改鋳を行った ⇔ (Y)

- あ 輸出超過により、金が大量に海外へ流出した。 い 金銀比価の違いにより、金が大量に海外へ流出した。
う デフレーションにより人々の生活は混乱した。 え インフレーションにより人々の生活は混乱した。
ア X あ Y う イ X あ Y え ウ X い Y う エ X い Y え

- 6 下線部⑤について、右の資料3から読み取れることとして述べた文として適切なものを、次のア～エから1つ選んで、その符号を書きなさい。

資料3



- ア 土地の譲渡が可能になったので、土地の所有者の名前は記されていない。
イ この地券は、地租の税率が変更される以前に発行された。
ウ この地券には、十進法を採用した通貨の単位が記載されている。
エ 土地を検査し、地券を授与した県令の名前が記されている。

- 7 下線部⑥について、大阪紡績会社を設立した人物として適切なものを、次のア～エから1つ選んで、その符号を書きなさい。

ア 岩崎弥太郎 イ 渋沢栄一 ウ 豊田佐吉 エ 松方正義

- 8 下線部⑦について述べた文aとbの正誤の組合せとして適切なものを、あとのア～エから1つ選んで、その符号を書きなさい。

- a 第2次大隈重信内閣は、日英同盟を理由に参戦した。
b 中国におけるドイツの根拠地青島と山東省の權益を接収した。

ア a-正 b-正 イ a-正 b-誤 ウ a-誤 b-正 エ a-誤 b-誤

- 9 下線部⑧について、1920年代のできごとを述べた文a～cについて、古いものから順に並べたものを、あとのア～カから1つ選んで、その符号を書きなさい。

- a 片岡直温大蔵大臣の失言により、取付け騒ぎが起こり、銀行が休業した。
b 関東大震災が発生し、地震と火災によって東京市の大部分が廃墟と化した。
c 東京・大阪・名古屋でラジオ放送が開始された。

ア a→b→c イ a→c→b ウ b→a→c エ b→c→a オ c→a→b カ c→b→a

V 次の文章を読んで、あとの問いに答えなさい。

アメリカでは、立法府である議会に所属する議員は、国民による選挙によって選ばれる。議会は立法権、予算議決権に加えて、3分の2以上の多数の議決による法案再可決権などをもつ。また、行政府の長は①大統領であり、選挙によって(A)年間の任期で選ばれる。

②イギリスでは、議員が議会に集まり、立法権を行使する。そして、議会のなかで多数を占める政党によって内閣が組織され、行政権を執行する。(B)院が内閣の政策や判断に反対する場合、不信任決議を行い、新たな内閣がつくられる。また、内閣は不信任決議に対し議会を解散し、総選挙で国民の審判をおおぐことができる。

日本の国会は、国権の最高機関であり、唯一の③立法機関である。二院制を採用しており、④衆議院と参議院の両院ともに国民の直接選挙によって選ばれた議員で組織されている。議員の任期と⑤選挙制度は両院で異なるものとなっており、多様な意見を審議に反映できるしくみをとっている。両院の議決が一致せず、両院協議会を開いても妥協が得られない場合、予算の議決などについては⑥衆議院の優越が認められている。

- 1 文中の(A)、(B)にあてはまる語句や数字を書きなさい。

- 2 下線部①について、アメリカ大統領を説明した文aとbの正誤の組合せとして適切なものを、あとのア～エから1つ選んで、その符号を書きなさい。

a 大統領は、2期まで再選が可能であるが、第二次世界大戦後は実際に2期務めた大統領はいない。

b 大統領は軍の最高司令官であり、条約の締結権をもつが、議会を解散する権限や法案の提出権はもたない。

ア a-正 b-正 イ a-正 b-誤 ウ a-誤 b-正 エ a-誤 b-誤

令6 中学校社会 (9枚のうち7)

(解答はすべて、解答用紙に記入すること)

- 3 下線部②に関して、イギリスの選挙制度について述べた次の文中の (X)、(Y) にあてはまる語句の組合せとして適切なものを、あとのア～エから1つ選んで、その符号を書きなさい。

現在、イギリスの選挙制度は、(X) 制を採用しており、これまで (Y)。

- ア X 小選挙区 Y 頻繁な政権交代が行われてきた イ X 小選挙区 Y 小党が乱立してきた
ウ X 大選挙区 Y 頻繁な政権交代が行われてきた エ X 大選挙区 Y 小党が乱立してきた

- 4 下線部③について、法案の提出に関して述べた次の文中の (X)、(Y) にあてはまる語句の組合せとして適切なものを、あとのア～エから1つ選んで、その符号を書きなさい。

国会議員は (X)、国会は法律を制定する権限を有しているが、(Y) の成立率は低い。

- ア X - 特定の選挙区を代表し Y - 議員提出法案 イ X - 特定の選挙区を代表し Y - 内閣提出法案
ウ X - 主権者である国民を代表し Y - 議員提出法案 エ X - 主権者である国民を代表し Y - 内閣提出法案

- 5 下線部④について説明した文 a と b の正誤の組合せとして適切なものを、あとのア～エから1つ選んで、その符号を書きなさい。

- a 参議院議員選挙は大選挙区制で行われるため、衆議院議員選挙より大政党に有利となっている。
b 参議院は、内閣の要求により緊急集会が召集されることがある。

- ア a - 正 b - 正 イ a - 正 b - 誤
ウ a - 誤 b - 正 エ a - 誤 b - 誤

- 6 下線部⑤について、ある議会の定員は5人であり、各選挙区から1名選出されるとする。この議会の選挙において、3つの政党P～Rが5つの選挙区あ～おで、それぞれ1人の候補者を立てた。右の表は、その選挙での各候補者の得票数を示している。この選挙結果を述べた文 a と b の正誤の組合せとして適切なものを、あとのア～エから1つ選んで、その符号を書きなさい。

表

選挙区	得票数			計
	P党	Q党	R党	
あ	45	30	25	100
い	10	70	20	100
う	40	30	30	100
え	10	50	40	100
お	40	25	35	100
計	145	205	150	500

- a 得票数の合計が2番目の政党は、獲得した議席数も2番目である。
b P党は得票数は最も少ないが、死票も少なく、当選者の数は最も多い。

- ア a - 正 b - 正 イ a - 正 b - 誤
ウ a - 誤 b - 正 エ a - 誤 b - 誤

- 7 下線部⑥について、衆議院の優越に関する記述として適切なものを、次のア～エから1つ選んで、その符号を書きなさい。

- ア 条約締結の承認に関して両院が異なる議決をし、両院協議会を開いても意見が一致しないときや10日以内に参議院が議決しないときは、衆議院の議決が国会の議決となる。
イ 弾劾裁判所の設置、国政調査権の行使は衆議院のみに権限が与えられている。
ウ 内閣不信任決議は、両院で議決されてはじめて国会の議決となる。
エ 衆議院で可決した法律案を参議院が否決した場合、衆議院が出席議員の3分の2以上の多数で再可決すれば法律が成立する。

VI 次の文章を読んで、あとの問いに答えなさい。

①株式会社の勃興期には株主が経営者を兼ねる場合が多かったが、現在は中小企業を除くと②株主が経営にあたることはまれである。③社会の変化に伴って、人々の行動など大量のデータ(ビッグデータ)を有効活用することが企業の戦略上の課題となっている。新たな発想に基づくサービスを創造することが求められており、企業間での激しい競争も繰り広げられている。産業構造が変化する中で、④高い技術力を持つ中小企業の中には新しい市場の開拓に挑む企業もある。また、中小企業は大企業と比較して⑤スケールメリットでは劣るが、その分機動的な経営ができ、経営者自身が株主となっていることが多いため、経営者の意向により、⑥社会的活動に力を注ぎやすいとも言われている。

- 1 下線部①について、現在の日本の株式会社に関する文 a と b の正誤の組合せとして適切なものを、あとのア～エから1つ選んで、その符号を書きなさい。

- a 株主の責任は有限責任であり、出資している株式会社が倒産したとしても、個人的財産を拠出して負債を弁償する必要はない。
b 株式の発行により資本を調達し、株主に対しては会社の利益があるなしにかかわらず、毎月一定額の配当が支払われる。

- ア a - 正 b - 正 イ a - 正 b - 誤 ウ a - 誤 b - 正 エ a - 誤 b - 誤

- 2 下線部②に関して述べた次の文中の (X)、(Y) にあてはまる語句の組合せとして適切なものを、あとのア～エから1つ選んで、その符号を書きなさい。

株式会社の最高議決機関は (X) であり、そこで選任された経営者が会社の経営にあたる。近年では、(Y) が経営方針に積極的に意見を言うことが増えている。

- ア X 取締役会 Y 株主 イ X 株主総会 Y 株主
ウ X 取締役会 Y 取締役 エ X 株主総会 Y 取締役

- 3 下線部③に関して、電化製品などをインターネットに接続する「モノのインターネット」のことを、アルファベット3字で書きなさい。

令6 中学校社会 (9枚のうち8)

(解答はすべて、解答用紙に記入すること)

4 下線部④に関して、次の問いに答えなさい。

- (1) 中小企業向けの政策について、次の文中の (X)、(Y) にあてはまる語句の組合せとして適切なものを、あとのア～エから1つ選んで、その符号を書きなさい。

中小企業政策については、(X)、大企業と同様の市場競争を促す政策をとるか、法律の制定などによって大企業の進出を抑制する (Y) 的な政策をとるか、そのバランスが課題となる。

ア X 規制を緩和して Y 保護主義 イ X 規制を緩和して Y 自由主義
ウ X 規制を強化して Y 保護主義 エ X 規制を強化して Y 自由主義

- (2) 表A、表Bは、大企業と中規模企業のいずれかの資金調達構造の推移を示している。この表を説明した次の文中の (X)、(Y) にあてはまる語句の組合せとして適切なものを、あとのア～エから1つ選んで、その符号を書きなさい。

1990年と2019年の大企業と中規模企業を比較すると、大企業も中規模企業も借入金依存度は低下している。(X) は中規模企業の状況を表しており、2019年は1990年と比べて、大企業と中規模企業の自己資本比率の差は (Y)。

表A

	1990年	1999年	2009年	2019年
借入金依存度	47.3%	51.6%	45.7%	34.0%
自己資本比率	14.3%	14.0%	27.8%	42.8%

表B

	1990年	1999年	2009年	2019年
借入金依存度	40.6%	37.5%	29.9%	30.8%
自己資本比率	26.1%	31.5%	42.4%	44.8%

(『2021年版中小企業白書』より作成)

ア X 表A Y 縮まっている イ X 表B Y 縮まっている
ウ X 表A Y 広がっている エ X 表B Y 広がっている

- (3) 資金調達力は低い、高い成長率が期待される未上場企業に投資する会社を何というか、カタカナで書きなさい。

5 下線部⑤に関して、スケールメリットを説明した次の文中の (X)、(Y) にあてはまる語句の組合せとして適切なものを、あとのア～エから1つ選んで、その符号を書きなさい。

企業は、経営、生産、販売などの規模が (X) なることで、経済効率を上げ、生産性を (Y) ことができる。

ア X 小さく Y 下げる イ X 小さく Y 上げる
ウ X 大きく Y 下げる エ X 大きく Y 上げる

6 下線部⑥に関して説明した次の文中の (X)、(Y) にあてはまる語句の組合せとして適切なものを、あとのア～エから1つ選んで、その符号を書きなさい。

近年、企業の社会的責任といわれる (X) が世界的に重視されており、(Y) といわれる慈善事業による社会貢献をさかんに行っている企業も多い。

ア X CSR Y メセナ イ X CSR Y フィランソロピー
ウ X ESG Y メセナ エ X ESG Y フィランソロピー

令6 中学校社会解答用紙 (9枚のうち9)

総計		

中社

I	1			2				
	3	(1)			(2)			(3)
	4			5			6	7

I		

II	1	(1)			(2)			2			3		
	4			5			6						
	7	(1)			(2)			8					

II		

III	1	A				B			C		
	2			3			4				
	5			6			7				

III		

IV	1	A				B			C			
	2			3			4			5		
	6			7			8			9		

IV		

V	1	A				B			
	2			3			4		
	5			6			7		

V		

VI	1			2			3					
	4	(1)			(2)			(3)				
	5			6								

VI		

令6 中学校社会模範解答 (9枚のうち9)

総計	200

中社

I	1	イ	2	ウ (エ)	エ (ウ)		
	3	(1)	エ	(2)	キ	(3)	ウ
	4	エ	5	ウ	6	イ	7

I	33

II	1	(1)	ア	(2)	ウ	2	エ	3	AEC
	4	エ	5	イ	6	ネリカ米 (NERICA)			
	7	(1)	オ	(2)	イ	8	オ		

II	33

III	1	A	漢	B	足利義満	C	首里
	2	エ	3	ア	4	イ	
	5	ア	6	ウ	7	ア	

III	33

IV	1	A	菅原道真	B	富岡	C	工場	
	2	ウ	3	イ	4	エ	5	エ
	6	ウ	7	イ	8	ア	9	エ

IV	33

V	1	A	4	B	下	
	2	ウ	3	ア	4	ウ
	5	ウ	6	ウ	7	エ

V	34

VI	1	イ	2	イ	3	IoT	
	4	(1)	ア	(2)	ア	(3)	ベンチャーキャピタル
	5	エ	6	イ			

VI	34