

# 令和6年度兵庫県公立学校教員採用候補者選考試験

試験 区分	一般教養
----------	------

## 受験中の心得

- 試験時間中は、試験委員の指示に従うこと。お互いに話をしたり、席を立ったり、その他、人の迷惑になるようなことはしないこと。
  - 解答は、すべて解答用紙にマークすること。
  - 解答用紙には解答欄以外に次の記入欄があるので、試験委員の指示に従って、それぞれ正しく記入し、マーク例にしたがってマークすること。
    - 受験番号欄  
受験番号（数字）を記入し、さらにその下のマーク欄にマークすること。正しくマークされていない場合は、採点できないことがあるので、注意すること。
    - 名前欄  
名前、フリガナを記入すること。
    - 年月日欄  
下のように、5年7月23日と記入すること。

年	月	日
5	7	23
    - 受験区分、教科欄  
受験する受験区分、教科を記入すること。
  - 解答はすべて、解答用紙の解答欄に、マーク例にしたがってマークすること。2つ以上マークしている場合は採点されないので、注意すること。  
例えば、

10
----

と表示のある問いに対して、

イ
---

と解答する場合は、次の例のように、問10の解答欄の

イ
---

にマークすること。
- (例)
- | 問  | 解答欄   |   |   |   |   |
|----|---|---|---|---|---|
| 10 | <table border="1"><tr><td>ア</td><td>イ</td><td>ウ</td><td>エ</td></tr></table> | ア | イ | ウ | エ |
| ア  | イ   | ウ | エ |   |   |
- 試験時間を確認し、時間配分に留意すること。
- 試験問題に落丁、乱丁、印刷不鮮明の箇所及び解答用紙の汚れがあった場合、又は質問のある場合等は黙って手を挙げること。
- その他、試験委員から注意されたことをよく守ること。
- この問題冊子は持ち帰ってもよい。

指示があるまで中をあけないでください

問1 「うけたまわる」の送り仮名として適切なものを、次のア～エから1つ選びなさい。 1

- ア 承たまわる      イ 承まわる      ウ 承わる      エ 承る

問2 「オゴソかに式が進む」の「オゴソ」と同じ漢字を、次のア～エから1つ選びなさい。 2

- ア ゲン泉      イ ゲン格      ウ ゲン界      エ ゲン況

問3 対義語として適切なでないものを、次のア～エから1つ選びなさい。 3

- ア 一般 ⇔ 特殊      イ 具体 ⇔ 抽象      ウ 日常 ⇔ 平素      エ 偶然 ⇔ 必然

問4 ことわざ・慣用句を用いた短文として適切なでないものを、次のア～エから1つ選びなさい。 4

- ア 小学校からの親友は、気のおけない関係だから、何でも話せる。  
イ 所属している野球チームは、破竹の勢いで連勝を続けている。  
ウ 木に竹を接いだようにわかりやすい説明をした。  
エ 目に入れても痛くないくらいのかわいがりようだ。

問5 次の言葉のうち、外来語として適切なでないものを、次のア～エから1つ選びなさい。 5

- ア マヨネーズ      イ ワクチン      ウ オートバイ      エ カルタ

問6 司馬遼太郎の『菜の花の沖』、阿久悠の『瀬戸内少年野球団』は、兵庫県に関係する小説である。2つの小説に共通する舞台として適切なものを、次のア～エから1つ選びなさい。 6

- ア 淡路島      イ 神戸      ウ 姫路      エ 城崎

問7 次の文は兼好法師の『徒然草』の一節である。内容の説明として適切なものを、あとのア～エから1つ選びなさい。

7

「仁和寺にある法師、年寄るまで、石清水を拝まざりければ、心うく覚えて、あるとき思ひ立ちて、ただ一人、かちより詣でけり。極楽寺・高良などを拝みて、かばかりと心得て帰りにけり。」

- ア 仁和寺の老法師は、石清水八幡宮を参拝していないことを残念に思い、ひとり徒歩で参詣したが、極楽寺・高良神社など他の寺社を見て帰ってきた。  
イ 仁和寺の老法師は、自分だけ石清水八幡宮に参拝していないことに慌てて、馬に乗って極楽寺・高良神社など他の寺社とともに参詣して戻ってきた。  
ウ 仁和寺の老法師は、自分だけ石清水八幡宮に参拝していないことに不安を感じ、馬に乗って極楽寺・高良神社など他の寺社を見て帰ってきた。  
エ 仁和寺の老法師は、石清水八幡宮を参拝していないことを妬ましく思い、ひとり徒歩で参詣し、八幡宮以外に極楽寺・高良神社など他の寺社も見て帰ってきた。

問8 次の漢文の意味は、「それは、思いやりの心だろうな。自分が人にされたくないことは、人にしてはならないことだよ。」である。訓読するとき置き字として読まないものを、「書き下し文」を参考にして、あとのア～エから1つ選びなさい。

8

勿己其	【本文】
施所恕	
於不乎。	
人欲、	

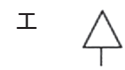
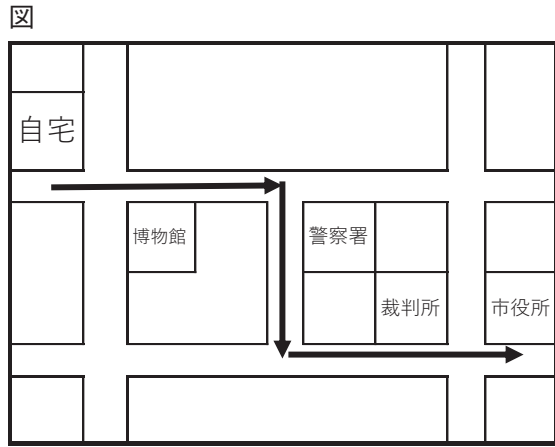
れ。	【書き下し文】
とにほどこすことなか	
ほつせざるところは、ひ	
それじよか。おのれの	
それじよか。おのれの	

- ア 乎      イ 所      ウ 勿      エ 於

問9 日本の地理について述べた文として適切なものを、次のア～エから1つ選びなさい。 9

- ア 太平洋沖には、赤道から北上してくる暖流の親潮と、北から南下してくる寒流の黒潮が流れている。  
イ 瀬戸内地方は、冬の季節風が四国山地に遮られ、夏の季節風が中国山地に遮られるため、年間を通じて温暖で降水量が少ない。  
ウ 日本はオーストラリア、ニュージーランドとともに、領海と排他的経済水域を合わせた面積が国土面積よりも広い国である。  
エ 南海トラフではフィリピン海プレートがユーラシアプレートの下に沈み込むことで、巨大地震の発生が予想されている。

問10 次の図のように自宅から市役所に行く途中に出てくる建物の地図記号として適切でないものを、あとのア～エから1つ選びなさい。 10



問11 兵庫県西脇市は北緯35度線と東経135度線が交差することから、「日本のへそ」のまちとして知られている。北緯35度線を通らない県を、次のア～エから1つ選びなさい。 11

ア 島根県

イ 奈良県

ウ 静岡県

エ 千葉県

問12 江戸時代に幕府が錢座で鑄造させ、全国に流通した銅貨として適切なものを、次のア～エから1つ選びなさい。 12



問13 次の表の（ A ）の時期の出来事として適切なものを、あとのア～エから1つ選びなさい。 13

表

1602	オランダの東インド会社が設立された ( A )
1776	アメリカで独立宣言が出された

ア 高度な石造技術を持ったインカ帝国が繁栄した。

イ マゼランの一行が世界一周に成功した。

ウ ルイ14世によって絶対王政が行われた。

エ ダーウィンの『種の起源』が出版された。

問14 次の写真は鶴林寺（加古川市）の本堂である。この寺を創建した聖徳太子に関連して述べた文として適切なものを、あとのア～エから1つ選びなさい。 14



ア 家柄によらず才能のある人物を役人に登用するため、冠位十二階の制を定めた。

イ 中国の進んだ制度や文化の摂取のため、607年に小野妹子などを唐に派遣した。

ウ 十七条の憲法を定め、土地と人民を国家が直接支配する公地公民の方針を示した。

エ 法隆寺を建立し、日本で最初の仏教文化である白鳳文化が栄えた。

問15 国際社会に対する日本の協力体制について述べた文として適切なものを、次のア～エから1つ選びなさい。 15

- ア アジア太平洋経済協力（A P E C）に参加している。
- イ 環太平洋パートナーシップ（T P P）協定から離脱した。
- ウ これまで国際連合の平和維持活動（P K O）に参加したことがない。
- エ 気候変動枠組条約締約国会議（C O P）が1997年に東京で開催した。

問16 地方自治について述べた文として適切なものを、次のア～エから1つ選びなさい。 16

- ア 地方分権一括法により自治事務と法定受託事務が廃止され、機関委任事務が設けられた。
- イ 地方公共団体が条例に基づいて実施する住民投票の結果は、法的な拘束力をもたない。
- ウ 地方公共団体における市町村長・都道府県知事の被選挙権は、ともに30歳以上とされている。
- エ 「ふるさと納税」制度を利用した寄付によって差し引かれる税は、所得税だけである。

問17 自然数3と4の間にある数として適切なものを、次のア～エから1つ選びなさい。 17

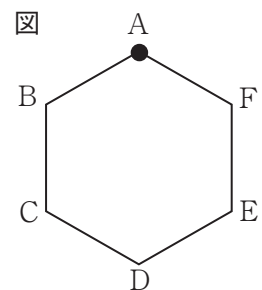
- ア  $\sqrt{5}$                       イ  $\sqrt{7}$                       ウ  $\sqrt{13}$                       エ  $\sqrt{17}$

問18  $(x^2 + ax + 1)(x^2 - 3x + 4)$ を展開したとき、 $x^2$ の係数が11となった。このとき、 $a$ の値として適切なものを、次のア～エから1つ選びなさい。 18

- ア -3                      イ -2                      ウ 2                      エ 3

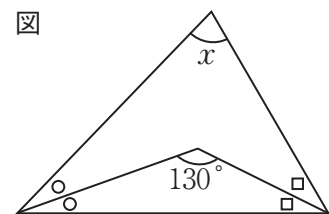
問19 右の図で、はじめに正六角形A B C D E Fの頂点Aにコマを置き、2つのさいころを同時に投げて、出た目の和の数だけA→B→C→…と左まわりにコマを進める。このとき、コマがA以外の位置にある確率として適切なものを、次のア～エから1つ選びなさい。 19

- ア  $\frac{3}{4}$                       イ  $\frac{1}{6}$                       ウ  $\frac{5}{6}$                       エ  $\frac{7}{36}$



問20 右の図で、同じ印をつけた角の大きさが等しいとき、 $\angle x$ の大きさとして適切なものを、次のア～エから1つ選びなさい。 20

- ア  $65^\circ$                       イ  $70^\circ$                       ウ  $75^\circ$                       エ  $80^\circ$



問21 次の物質について、共通の性質として適切なでないものを、あとのア～エから1つ選びなさい。 21

アルミニウム    鉄    銅    金    鉛

- ア 磨くと光沢がでる。
- イ 磁石につく。
- ウ 電気を通す。
- エ 展性、延性がある。

問22 雲のでき方について述べた次の文の ( ① )、( ② ) に入る語句の組合せとして適切なものを、あとのア～エから1つ選びなさい。 22

空気が上昇して膨張すると、気温が ( ① ) がり、( ② ) より低い温度になると雲ができる。

- ア ① 上 ② 融点            イ ① 下 ② 融点            ウ ① 上 ② 露点            エ ① 下 ② 露点

問23 チューリップの特徴について述べた文として適切なものを、次のア～エから1つ選びなさい。 23

- ア 被子植物の仲間で、葉脈は平行に通じ、根は主根と側根からなる。
- イ 裸子植物の仲間で、葉脈は網目状に通じ、根は主根と側根からなる。
- ウ 被子植物の仲間で、子葉は1枚、根はひげ根である。
- エ 裸子植物の仲間で、子葉は2枚、葉脈は網目状に通る。

問24 洋ばさみと和ばさみは、てこを利用した道具である。洋ばさみと和ばさみについて述べた文として適切なものを、次のア～エから1つ選びなさい。 24

- ア 洋ばさみは、作用点が間にあり、加えた力よりも大きな力で対象物を切ることができる。
- イ 洋ばさみは、力点が間にあり、加えた力よりも小さな力で対象物を切ることができる。
- ウ 和ばさみは、作用点が間にあり、加えた力よりも大きな力で対象物を切ることができる。
- エ 和ばさみは、力点が間にあり、加えた力よりも小さな力で対象物を切ることができる。

問25 次の文の ( ) に入る適切なものを、あとのア～エから1つ選びなさい。 25

Kobe is a nice city ( ) has many places to visit.

- ア where
- イ who
- ウ what
- エ which

問26 次の会話について、( ) に入る最も適切なものを、あとのア～エから1つ選びなさい。 26

- A : May I help you?  
 B : Yes, I'm looking for a nice jacket.  
 A : How about this one?  
 B : Cool. ( )  
 A : Of course.  
 ア How much is this?      イ May I try it on?      ウ Where should I pay?      エ Whose jacket is this?

問27 次の会話について、( ) に入る最も適切なものを、あとのア～エから1つ選びなさい。 27


- A : Have you ever been to Awaji Island before?  
 B : Yes, I have. My father drove me to Awaji Island many times.  
 A : Wow! By the way, why don't we go there next month?  
 B : ( ) I'll check my schedule.  
 ア You're welcome.      イ I went there last week.      ウ Sounds good.      エ It's too far.

問28 右の図は、メニューを表したものである。次の会話について、( ) に入る適切なものを、あとのア～エから1つ選びなさい。 28

- A : Shall I take your order?  
 B : Yes, please. Can I have a large-size pizza with two toppings?  
 A : What kind of toppings?  
 B : Olives and meatballs, please.  
 A : Anything else?  
 B : One french fries and two bottled water, please.  
 How much is that?  
 A : It's ( ) dollars.  
 ア 26      イ 28      ウ 31      エ 34

<b>PIZZA</b>		<b>SIDES</b>	
Small	\$15.00	French Fries	\$3.00
Large	\$20.00	Salad	\$4.50
<b>TOPPINGS</b>		Bread	\$2.00
each \$3.00		<b>DRINKS</b>	
• Tomatoes	• Onions	Soda	\$3.00
• Olives	• Mushrooms	Iced Tea	\$3.00
• Sausage	• Meatballs	Bottled Water	\$2.50

問29 下の図について説明した英文を読み、( ① )、( ② ) に入る語の組合せとして最も適切なものを、あとのア～エから1つ選びなさい。 29



Today pictograms ( ① ) used in various places such as public facilities and transportation. They are very useful for small children and foreigners who do not understand Japanese well. Pictograms make our lives ( ② ) convenient.

- ア ① aren't ② less
- イ ① aren't ② more
- ウ ① are ② less
- エ ① are ② more

問30 下の図は、時間割を表している。英文を読み、問いに対する答えとして適切なものを、あとのア～エから1つ選びなさい。 30

図

School Open Day <span style="float: right; font-size: small;">Honcho J.H.S.</span>				
Date: <b>Saturday, October 29</b>	Time: <b>9:45 - 12:35</b>			
	1-A		1-B	
Time	Subject	Place	Subject	Place
<b>9:45 - 10:35</b>	science	science room	English	English room
<b>10:45 - 11:35</b>	Japanese	library	art	art room
<b>11:45 - 12:35</b>	P.E.	schoolyard	math	classroom

If you go to the schoolyard at noon, what subject can you see?

ア math      イ P.E.      ウ Japanese      エ art

問31 次の英文を読み、問いに対する答えとして適切なものを、あとのア～エから1つ選びなさい。 31

There is a 9-hour time difference between Akashi and London. It's 6 p.m. in Akashi now. What time is it in London now? (You don't have to consider daylight saving time.)

ア 3 a.m.      イ 3 p.m.      ウ 9 a.m.      エ 9 p.m.

問32 話の流れに合うように、(      ) 内にあとのア～エを並びかえて文章を完成させたとき、左から3番目に来るものを1つ選びなさい。 32

The way students study has been changing. Let's look at one example. (      →      →      →      )

- ア In addition to that, BYOD (Bring Your Own Device) has just started at school now.
- イ Previously, a lot of students used paper dictionaries to look up the meaning of words.
- ウ So students can use their own devices according to the situation and learn more.
- エ However, they started using e-dictionaries rather than paper ones recently.

問33 5G (第5世代移動通信システム) の説明として適切なものを、次のア～エから1つ選びなさい。 33

- ア 電話線を用いるインターネット接続を数Mbpsに高速化し、常時接続を可能にした非対称デジタル加入者線である。
- イ データ伝送用の64KbpsのBチャンネルと制御用のDチャンネルから構成され、電話、データ通信、ファクシミリなどのさまざまなサービスを一本の回線で行う。
- ウ 10～20Gbpsの通信速度を可能とし、高速・低遅延・多数同時接続が特徴である。
- エ 無線通信技術の一つで、とくに高速なデータ転送に主軸をおいて開発され、IEEE (電気・情報工学分野学会) により標準化が定められている。

問34 従業員が会社以外の場所で業務を行う「テレワーク」について述べた文として適切でないものを、次のア～エから1つ選びなさい。 34

- ア 日本では新型コロナウイルス感染症の流行で本格的にテレワークが普及したが、定着させるには従来のように労働時間で評価する雇用形態をさらに進める必要がある。
- イ 通勤の負担が減り、時間を有効に使えるため、子育てや介護と仕事の両立が実現しやすくなるなどの利点がある。
- ウ 自宅で仕事をする人が増えたため、インターネットを介して多人数での会議を可能にするウェブ会議システムが急速に普及した。
- エ 日本の旧来の商習慣である「押印」もテレワークの普及を阻む要因であり、確認が必要な書類には電子署名を利用するといった改革が求められる。

問35 SNS (ソーシャル・ネットワーキング・サービス) に関する説明として適切でないものを、次のア～エから1つ選びなさい。 35

- ア フェイクニュースとは、何らかの理由で故意に流される虚構、歪曲、あるいはねつ造された情報や報道のことである。
- イ リツイートは、ほかのユーザーのツイートをワンタップで転載できる機能で、主に自分のフォロワーにほかのユーザーのツイートを紹介するために利用される。
- ウ ハッシュタグとは、特定のキーワードを強調し、フォロワーの関連情報へのアクセスを助けるために使われる記号「#」のことである。
- エ 炎上とは、SNSやブログなどで、情報が良いイメージで急拡散してしまう状況をさし、注目度や認知度を上げる目的で意図的に試みられる場合もある。

問36 2進数「11001」を4倍した結果として適切なものを、次のア～エから1つ選びなさい。 36

- ア 1100010    イ 1100011    ウ 1100100    エ 1100101

問37 文部科学省が示した「遠隔教育の推進に向けた施策方針」(遠隔教育の推進に向けたタスクフォース 平成30年)において、遠隔教育の推進にあたり、遠隔システムの積極的な活用が有効な教育活動に繋がることを説明した文として適切なでないものを、次のア～エから1つ選びなさい。 37

- ア 小規模校の場合、社会性やコミュニケーション能力を身に付ける機会を得にくいなどの課題が生じることから、より質の高い教育活動を行うためには、遠隔システムの活用は有効である。  
 イ 不登校児童生徒や病気療養児など、様々な事情により通学して教育を受けることが困難な児童生徒にとって、自宅や病院等において行う遠隔教育は、学習機会の確保を図る観点から、重要な役割を果たす。  
 ウ 外部人材の活用や幅広い科目の開設などにより、学習活動の幅を広げることができるなど、遠隔システムの活用は重要な意義を持つ。  
 エ 遠隔教育を推進すれば、配信側の者は、学習上や生活指導上の困難を有する児童生徒への対応を含め、日常的な児童生徒理解に基づいた指導を、対面で行う場合よりも効果的に行うことができる。

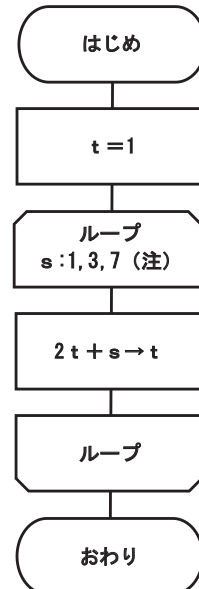
問38 ChatGPT について説明した文として適切なものを、次のア～エから1つ選びなさい。 38

- ア ChatGPT は、大規模な自然言語処理 AI モデルである。  
 イ ChatGPT は、人間のよう感情を持った AI モデルである。  
 ウ ChatGPT は、高度な計算処理に特化した AI モデルである。  
 エ ChatGPT は、音声認識に特化した AI モデルである。

問39 右の流れ図で示す処理を実行するとき、変数 t の値として適切なものを、次のア～エから1つ選びなさい。(注 ループ端の繰り返し指定は、変数名：初期値, 増分, 終値を示す。) 39

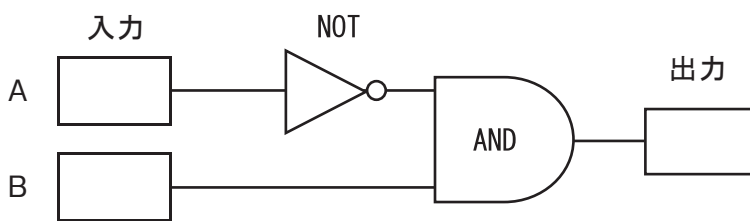
- ア 23    イ 25    ウ 27    エ 30

流れ図



問40 次の図のような論理回路で、右のように A、B にそれぞれ 0 と 1 を入力した場合に出力される結果として適切なものを、あとのア～エから1つ選びなさい。 40

図




入力		→	出力
A	B		
0	0	→	
1	0	→	
0	1	→	
1	1	→	

- | ア | 出力 |
|---|----|
| 0 |    |
| 0 |    |
| 0 |    |
| 1 |    |
- | イ | 出力 |
|---|----|
| 0 |    |
| 0 |    |
| 1 |    |
| 1 |    |
- | ウ | 出力 |
|---|----|
| 0 |    |
| 1 |    |
| 1 |    |
| 1 |    |
- | エ | 出力 |
|---|----|
| 0 |    |
| 0 |    |
| 1 |    |
| 0 |    |

問41 1929（昭和4）年に作曲された「春の海」の作曲者として適切な人物を、次のア～エから1つ選びなさい。 41

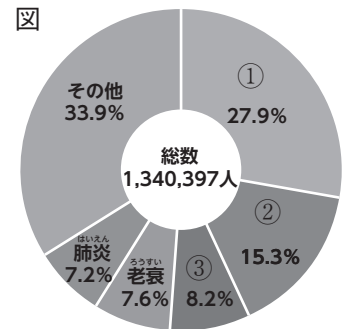
- ア 八橋検校      イ 宮城道雄      ウ 滝廉太郎      エ 中田喜直

問42 レオナルド・ダ・ヴィンチが描いた作品として適切なものを、次のア～エから1つ選びなさい。 42



問43 右の図は、日本人の生活習慣病による死亡原因とその割合を示したものである。図中の①～③にあてはまる死亡原因として適切なものを、次のア～エから1つ選びなさい。 43

- ア ① がん      ② 心臓病      ③ 脳卒中  
イ ① がん      ② 脳卒中      ③ 心臓病  
ウ ① 脳卒中      ② がん      ③ 心臓病  
エ ① 心臓病      ② がん      ③ 脳卒中



厚生労働省 「平成29年人口動態統計」

問44 令和4年12月に示された「生徒指導提要」では、「児童の権利に関する条約」に留意するよう記載されている。この条約の4つの原則として適切でないものを、次のア～エから1つ選びなさい。 44

- ア 児童の最善の利益  
イ 気候変動に具体的な対策を講じる義務  
ウ 生命・生存・発達に対する権利  
エ 意見を表明する権利

問45 第3期「ひょうご教育創造プラン」の3つの基本方針として定めていないものを、次のア～エから1つ選びなさい。 45

- ア 「生きる力」を育む教育の推進  
イ 子どもたちの学びを支える環境の充実  
ウ 人生100年を通じた学びの推進  
エ 専門機関等と連携したチーム支援の推進

問46 令和3年1月に示された「令和の日本型学校教育の構築を目指して ～全ての子供たちの可能性を引き出す、個別最適な学びと、協働的な学びの実現～（答申）」の内容として適切でないものを、次のア～エから1つ選びなさい。 46

- ア 小学校における教科担任制の導入は、教師の持ちコマ数の軽減や授業準備の効率化により、学校教育活動の充実や教師の負担軽減に資するものである。  
イ 小学校、中学校、高等学校段階における1人1台端末環境の実現や学校内の通信ネットワーク環境の整備などにより、全国津々浦々の学校において指導・支援の充実等がなされている。  
ウ 高等学校改革を取り上げた本提言において、STEAM教育は「各教科での学習を実社会での問題発見・解決にいかしていくための教科横断的な教育」とされている。  
エ 特別支援教育は、発達障害のある子どもも含めて、障害により特別な支援を必要とする子どもが在籍する一部の学校において実施されるものである。

問47 「教育は、人格の完成を目指し、平和で民主的な国家及び社会の形成者として必要な資質を備えた心身ともに健康な国民の育成を期して行われなければならない。」と規定している法令として適切なものを、次のア～エから1つ選びなさい。 47

- ア 日本国憲法      イ 学校教育法      ウ 教育基本法      エ 地方公務員法



問48 持続可能な開発目標（SDGs）について説明した文として適切でないものを、次のア～エから1つ選びなさい。

48

- ア 2015（平成27）年の国連サミットで採択された2035（令和17）年までの国際目標である。
- イ 「誰一人取り残さない」ことを理念としている。
- ウ 兵庫県教育委員会では、子どもたちが主体となって取り組んでいるSDGs活動をたたえ、「ひょうごSDGsスクールアワード」として表彰している。
- エ 持続可能な世界を実現するための17のゴール・169のターゲットから構成されている。

問49 次の文は、「小学校学習指導要領（平成29年告示）平成29年3月告示」、「中学校学習指導要領（平成29年告示）平成29年3月告示」、「高等学校学習指導要領（平成30年告示）平成30年3月告示」の「不登校児童への配慮」（中学校学習指導要領、高等学校学習指導要領では児童を生徒と表記）より一部を抜粋したものである。文中の（①）、（②）に入る語句の組合せとして適切なものを、あとのア～エから1つ選びなさい。 49

2 特別な配慮を必要とする児童への指導

（略）

（3）不登校児童への配慮

ア 不登校児童については、保護者や関係機関と連携を図り、（①）や福祉の専門家の助言又は援助を得ながら、社会的自立を目指す観点から、個々の児童の（②）に応じた情報の提供その他の必要な支援を行うものとする。

ア ① 医療 ② 要請      イ ① 心理 ② 実態      ウ ① 就労 ② 発達      エ ① 教育 ② 意向

問50 「副籍ガイド ～共に助け合う地域でのつながりをめざして～ 令和4年3月 兵庫県教育委員会」において述べられている内容として適切なものを、次のア～エから1つ選びなさい。 50

- ア 特別支援学校に在籍する児童生徒は、副籍によって特別支援学校と小・中・義務教育学校に二重学籍を設けることとする。
- イ 特別支援学校に在籍する児童生徒が、病気治療等のために一時的に入院した場合、入院先の医療機関に近い小・中・義務教育学校に副籍を置くものとする。
- ウ 特別支援学校に在籍する児童生徒が、直接交流として副籍校の授業に参加する場合は、年間で10時間を上限とする。
- エ 副籍の導入については、本県において、令和5年度は全県で実施とした。なお、副籍を導入する学年は毎年、小・中学部新生を対象に副籍校に通知する。

## 令6 一般教養 模範解答

1	2	3	4	5	6	7	8	9	10
エ	イ	ウ	ウ	ウ	ア	ア	エ	エ	ウ

11	12	13	14	15	16	17	18	19	20
イ	エ	ウ	ア	ア	イ	ウ	イ	ウ	エ

21	22	23	24	25	26	27	28	29	30
イ	エ	ウ	エ	エ	イ	ウ	エ	エ	イ

31	32	33	34	35	36	37	38	39	40
ウ	ア	ウ	ア	エ	ウ	エ	ア	ウ	エ

41	42	43	44	45	46	47	48	49	50
イ	ウ	ア	イ	エ	エ	ウ	ア	イ	エ

各2点