

令4 高等学校地理歴史・公民 (9枚のうち1)

(解答はすべて、解答用紙に記入すること)

I 次の文章を読み、あとの問いに答えなさい。

1368年に明を建てた朱元璋は、①元末の社会混乱を收拾すべく、②社会全般への統制を強めた。中央では皇帝への権力集中をはかり、軍事面では、(A)制を編制して防衛・運輸などを担わせた。一方で息子たちを王として北方などの辺境に配置して防衛にあたらせた。対外関係では厳格な管理体制をしき、海禁政策をとって民間人の海上貿易を許さず、政府の管理する朝貢貿易を推進した。

その後、③南京を占領して即位した永楽帝は北京に都を移し、積極的な対外政策を展開した。④周辺諸国との間に朝貢関係を結ぶことによって新王朝の権威を高め、政権を安定させようとした。そのため、明への朝貢は広範囲で盛んにおこなわれ、明の朝貢制度のもとで、地域間の交流も活発化した。明代後期には、活発化する海外貿易を通じ、中国の製品が輸出され、その対価として流入した銀が中国の商工業の発展をうながした。

⑤16世紀に国際貿易が盛んになると、明の周縁部では、規制を破って貿易の利益を得ようとする動きが活発化した。貿易の活発化によって政府の統制は崩れ、軍事と商業が結びついた新興勢力が台頭した。⑥中国東北地方では、(B)が頭角をあらわして女真諸部族を統一し、1616年に後金を建てた。(B)を継いだホンタイジは内モンゴルに進出し、チャハル部を従え、国号を清と改めた。これら新興勢力との戦争によって明の軍事費は増大し、それをまかなうための増税が政府への批判を激化させ、明朝は国内に対しても支配力を失っていった。重税と飢饉により各地で反乱がおこり、李自成の率いる反乱軍が北京を占領して明は滅亡した。

明が滅亡した後、清は呉三桂の手引きで中国本土に入って北京を占領して遷都した。その後、李自成を倒し、明の残存勢力を平定して中国皇帝の位も継承した。1661年、康熙帝が即位して漢人の武将が起こした三藩の乱を平定し、⑦清朝統治の基礎を固めた。⑧康熙帝・雍正帝・乾隆帝と続く3代約130年間が清の最盛期となった。

1 文中の(A)、(B)にあてはまる適切な語句を書きなさい。

2 下線部①について、元末の社会混乱に関して述べた次の文中(X)～(Z)に入る語句の組み合わせとして適切なものを、あとのア～クから1つ選んで、その符号を書きなさい。

モンゴルの貴族層が(X)への過度の帰依・寄進をしたことによって財政が悪化したため、(Y)や専売制度の強化を行った。この政策が飢饉とあいまって民衆を苦しめ、(Z)をはじめとして各地で反乱がおこった。

- | | | | | | |
|------------|---------|--------|------------|---------|--------|
| ア X 白蓮教 | Y 交鈔の濫発 | Z 紅巾の乱 | イ X 白蓮教 | Y 交鈔の濫発 | Z 黄巢の乱 |
| ウ X 白蓮教 | Y 均輸の実施 | Z 紅巾の乱 | エ X 白蓮教 | Y 均輸の実施 | Z 黄巢の乱 |
| オ X チベット仏教 | Y 交鈔の濫発 | Z 紅巾の乱 | カ X チベット仏教 | Y 交鈔の濫発 | Z 黄巢の乱 |
| キ X チベット仏教 | Y 均輸の実施 | Z 紅巾の乱 | ク X チベット仏教 | Y 均輸の実施 | Z 黄巢の乱 |

3 下線部②について、この時の統制に関して述べた文として適切なものを、次のア～エから1つ選んで、その符号を書きなさい。

- ア 戸籍と租税台帳である魚鱗図冊を作成して財政基盤を確立した。 イ 民衆の教化をめざして儒教にもとづく六諭を制定した。
ウ 三長制のもとに民戸を組織して治安維持や徴税を担わせた。 エ 耕作地の一定の割合を商品作物生産にあてさせた。

4 下線部③について、南京に関して述べた文として適切なものを、次のア～エから1つ選んで、その符号を書きなさい。

- ア 三国時代には建業とよばれ、魏の都となった。 イ 南北朝時代には建康とよばれ、南朝の都となった。
ウ 靖康の変後、宋を再興した高宗が都をおいた。 エ 太平天国が占領して首都とし、臨安と改称した。

5 下線部④について、明の周辺諸国に関して述べた文 a と b の正誤の組み合わせとして適切なものを、あとのア～エから1つ選んで、その符号を書きなさい。

- a ベトナムの李朝は明と朝貢関係を結び、朱子学を振興して支配を固めた。
b マラッカ王国は鄭和が遠征艦隊の基地としたことで、明への朝貢貿易の拠点となった。
ア a-正 b-正 イ a-正 b-誤 ウ a-誤 b-正 エ a-誤 b-誤

6 下線部⑤について、16世紀の国際貿易に関して述べた文として適切なものを、次のア～エから1つ選んで、その符号を書きなさい。

- ア ムガル帝国はフランス商人に対して領内での免税、治外法権などの特権を与えた。
イ オランダは、ジャワ島のバタヴィアを拠点として香辛料貿易を独占した。
ウ サファヴィー朝は、貿易上の要衝であったホルムズ島からポルトガル人を追放した。
エ スペインはマニラを建設し、メキシコと中国を結ぶ貿易の中継地とした。

7 下線部⑥について、中国東北地方を支配した王朝に関して述べた文として適切なものを、次のア～エから1つ選んで、その符号を書きなさい。

- ア 高句麗は広開土王の時に全盛を迎え、朝鮮半島北部まで支配下におさめた。
イ 渤海は、後晋の建国を援助した代償として燕雲十六州を獲得した。
ウ 西夏は華北に侵入し、澶淵の盟を結んで宋に貢納を約束させた。
エ 金は、漢民族には州県制を用いて支配する一方、女真族には千戸制を適用した。

8 下線部⑦について、清の中国統治に関して述べた文として適切なものを、次のア～エから1つ選んで、その符号を書きなさい。

- ア 辮髪や纏足などの悪習を廃止し、土地の均分などの政策をうち出した。
イ 反清の言論に対して焚書・坑儒で厳しく弾圧し、禁書を行って思想を統制した。
ウ 『古今圖書集成』『四庫全書』など大規模な編纂事業をおこして学者を優遇した。
エ 武人や実務官僚を重視する一方、儒教を重視せず、科挙を廃止した。

9 下線部⑧について、この間の出来事に関して述べた文として適切なものを、次のア～エから1つ選んで、その符号を書きなさい。

- ア ネルチンスク条約を結び、アルゲン川とスタノヴォイ山脈を国境とした。
イ キャプタ条約を結び、ウスリー川以東をロシアとの共同管理地と定めた。
ウ モンゴル・青海・チベット・新疆を藩部とし、軍機処に統轄させた。
エ 地税を廃止し、人頭税に一本化する地丁銀制を採用した。

令4 高等学校地理歴史・公民 (9枚のうち2)

(解答はすべて、解答用紙に記入すること)

II 次の文章を読み、あとの問いに答えなさい。

第二次世界大戦後の世界は、国際連合による平和秩序の維持が期待されたが、アメリカを中心とする資本主義・自由主義陣営（西側）と、①ソ連がひきいる社会主義・共産主義陣営（東側）とに二極化した。欧米での直接対決こそ回避されたものの、②国際的な緊張関係は、核兵器を主とする軍拡競争や外交、経済だけでなく、宇宙開発や文化、スポーツなどにも大きな影響を与えた。こうした状況は冷たい戦争（冷戦）といわれた。

両陣営の対立は、局地的代理戦争である③朝鮮戦争のように戦火を交えることもあったが、米ソが全面戦争の危機に直面した④キューバ危機を契機に、平和共存の気運が高まった。また、⑤ベトナム戦争や⑥中ソ対立は米ソの指導力を低下させ、1960年代後半以降の国際政治情勢は⑦多極化した。1980年代後半に始まった⑧ソ連での社会主義体制の改革に刺激されて、⑨1989年春になると東ヨーロッパ諸国の民衆の間で変革の機運が急激に高まった。そして、同年12月には、米ソ首脳によるマルタ会談で冷戦の終結が宣言された。

1990年代以降、情報技術革命の急速な進展などを背景に、世界が一体化して相互依存を高めるグローバル化の時代となった。しかし、国際間の経済格差や⑩多発する地域紛争、環境破壊など、よりよい未来の実現に向けて解決すべき多くの課題を抱えている。

1 下線部①について、1946年、イギリスの前首相チャーチルは「鉄のカーテン」という表現で、ソ連の閉鎖的な勢力圏獲得政策を非難している。発言当時の「鉄のカーテン」の位置として適切なものを、右の図中のア～エから1つ選んで、その符号を書きなさい。

図



2 下線部②について、国際的な緊張関係に関して述べた文として適切でないものを、次のア～エから1つ選んで、その符号を書きなさい。

ア アメリカがマーシャル＝プランを発表しヨーロッパの経済復興を援助したのに対し、ソ連・東ヨーロッパ諸国はコミンフォルムを結成して対抗した。

イ 西側が軍事同盟の北大西洋条約機構を結成したのに対し、東側は共同防衛を定めたワルシャワ条約機構を発足させた。

ウ 連合国4か国の分割占領下にあったドイツは、戦争の危機が高まったベルリン封鎖の解除後、東西に分裂して独立を回復した。

エ アメリカとソ連は核爆弾と大陸間弾道ミサイルの開発でも競い合い、ソ連は太平洋のビキニ環礁で原子爆実験を繰り返した。

3 下線部③について、朝鮮戦争に関して述べた文として適切なものを、次のア～エから1つ選んで、その符号を書きなさい。

ア 李承晩が率いる大韓民国軍が南北統一をめざして朝鮮民主主義人民共和国へ侵攻したことにより発生した。

イ 北緯38度線付近を境とする休戦協定が成立し、現在も続く南北の分断が固定化されていった。

ウ 日本は、アメリカ軍に必要な軍需物資の提供を求められたため、国内経済は混乱し、戦後復興に遅れがでた。

エ 日本は、朝鮮戦争中にサンフランシスコ講和会議で米ソを含む48か国と平和条約に調印し、独立を回復した。

4 下線部④について、キューバ危機とその影響に関して述べた文 a と b の正誤の組み合わせとして適切なものを、あとのア～エから1つ選んで、その符号を書きなさい。

a キューバでソ連の支援によるミサイル基地建設が発覚すると、ケネディ大統領はソ連船の機材搬入を海上封鎖で阻止した。

b キューバ危機は、多くの人々に核戦争が現実となる危険性を認識させ、米・英・ソ3国が部分的核実験禁止条約に調印した。

ア a-正 b-正 イ a-正 b-誤 ウ a-誤 b-正 エ a-誤 b-誤

5 下線部⑤について、ベトナム戦争に関して述べた次の文中の (X)、(Y) にあてはまる語句の組み合わせとして適切なものを、あとのア～エから1つ選んで、その符号を書きなさい。

南ベトナムでアメリカの支援のもとに反共政策をおしすすめていた政権が倒されると、1965年、(X) 大統領は北ベトナムへの大規模爆撃に踏み切る一方、南ベトナムに地上兵力を投入した。戦局は泥沼化し、アメリカの軍事介入は国際的にも多くの批判を受け、政権は大きく揺らいだ。次の (Y) 大統領は軍事介入を縮小し、1973年にパリ和平協定が成立、アメリカ軍は撤退した。

ア X アイゼンハワー Y ニクソン イ X ジョンソン Y フォード

ウ X アイゼンハワー Y フォード エ X ジョンソン Y ニクソン

6 下線部⑥について、中国における社会主義の展開に関して述べた文 a と b の正誤の組み合わせとして適切なものを、あとのア～エから1つ選んで、その符号を書きなさい。

a 毛沢東は急激な社会主義建設をめざす大躍進政策を指示して、農村での人民公社設立をすすめた。

b 鄧小平は全国にプロレタリア文化大革命という新たな革命運動を呼びかけ、紅衛兵など全国的な大衆運動が組織された。

ア a-正 b-正 イ a-正 b-誤 ウ a-誤 b-正 エ a-誤 b-誤

7 下線部⑦について、多極化に関して述べた文として適切なものを、次のア～エから1つ選んで、その符号を書きなさい。

ア 西ヨーロッパでは、地域統合によってヨーロッパの再生をはかろうとして、イギリスを中心にヨーロッパ共同体が発足した。

イ インドネシアのバンドンで、アジア＝アフリカ会議が開催され、反植民地主義をうたった平和五原則が採択された。

ウ ユーゴスラヴィアのベオグラードで、国際平和・中立・自主外交を掲げる第1回非同盟諸国首脳会議が開催された。

エ 西ドイツは、核兵器保持や高度経済成長を背景に、米英主導の外交とは一線を画す独自外交を展開した。

8 下線部⑧について、ゴルバチョフが改革の政策理念に掲げた「グラスノスチ」は、日本語では何と訳されるか、書きなさい。

9 下線部⑨について、1989年の出来事として適切でないものを、次のア～エから1つ選んで、その符号を書きなさい。

ア チェコスロヴァキアで民主化運動「プラハの春」が起きた。 イ 東ドイツでベルリンの壁が開放された。

ウ ポーランドで自主管理労組「連帯」中心の連立政権が発足した。 エ ルーマニアでチャウシェスク大統領が処刑された。

10 下線部⑩について、地域紛争に関して述べた文として適切なものを、次のア～エから1つ選んで、その符号を書きなさい。

ア スリランカでは、大半が仏教徒の多数勢力タミル人と、ヒンドゥー教徒の少数勢力シンハラ人の内戦が起きた。

イ ソマリアでは、ツチ人とフツ人の内戦が発生し、多数の死者や難民が出た。

ウ ロシア連邦内では、ムスリム住民の運動により、チェチェン共和国が独立を宣言したが、ロシア軍が介入した。

エ 中東では、イラクのサダム＝フセインが隣国シリアに侵攻したが、アメリカ軍中心の多国籍軍の反撃をうけて撤退した。

令4 高等学校地理歴史・公民 (9枚のうち3)

(解答はすべて、解答用紙に記入すること)

Ⅲ 次の文章を読み、あとの問いに答えなさい。

江戸時代後期の歴史書『大勢三転考』では、日本の歴史は「時の勢」によって、二度の大変化を遂げたとしている。

この歴史書は、①「骨の代」と呼ばれる古代から記されている。この時代は、(A) 制度に基づき、血縁やその他の政治的関係をもとに構成された組織に編成され、その組織ごとにヤマト政権の職務が分担されていた。血族と居住地と職務が一体化された時代とされ、世襲的に国を支配したが、中央集権が進められた孝徳天皇時代の諸改革である (B) を機に衰退することになる。次は、②「職の代」と呼ばれる律令制度に基づく時代である。これは天皇主導で行われた変革であり、官職によって職務が定められた時代とされる。最後に、守護・地頭設置以後の③「名の代」と呼ばれる封建時代である。これは④武士主導で行われた変革であり、大名が実力で土地を支配する時代とされる。江戸時代には将軍と大名の主従関係をもとに、幕府と諸藩が全国の大部分の土地・人民を支配する (C) 体制が確立したとされている。

なお、この歴史書は、陸奥宗光の実父であり、⑤国学者である⑥紀伊藩重臣の伊達千広が、1848年に著したものである。

1 文中の (A) ~ (C) にあてはまる適切な語句を書きなさい。

2 下線部①について、この時代に関して述べた文 a と b の正誤の組み合わせとして適切なものを、あとのア~エから1つ選んで、その符号を書きなさい。

a 埼玉県の稲荷山古墳出土の鉄剣にある大王は、雄略天皇にあたと考えられている。

b 百済と結んだ筑紫国造磐井が起こした大規模な戦乱をヤマト政権は制圧し、九州北部に屯倉を設けた。

ア a-正 b-正 イ a-正 b-誤 ウ a-誤 b-正 エ a-誤 b-誤

3 下線部②について、次の問いに答えなさい。

(1) この時代に関して、次の史料で示された帝について述べた文として適切なものを、あとのア~エから1つ選んで、その符号を書きなさい。

史料

勅有りて、参議右衛門督從四位下藤原朝臣緒嗣と参議左大弁正四位下菅野朝臣真道とをして、天下の徳政を相論ぜしむ。時に緒嗣、議して云ふ、「方今、天下の苦しむ所は軍事と造作となり。此の両事を停めば百姓安んぜむ」と。真道、意義を確執し肯えて聞かず。帝、緒嗣の議を善しとし、即ち停廢に従ふ。

ア 国家の平安を祈るため、国ごとに僧寺・尼寺を設け、近江紫香樂宮で廬舎那仏造立の詔を宣言した。

イ 4人の娘を天皇の後とし、摂政、太政大臣となり、御堂関白といわれ、約30年にわたって権勢をふるった。

ウ 8階の制に分け、天皇と関係の深いものを上位におき、豪族を新しい身分秩序に編成した。

エ 国司が交替する際、事務の引継ぎを厳しく監督する官職を設置した。

(2) 右の表はこの時代における出来事を時代順に並べたものである。「三世一身法」が施行された時期として適切なものを、次のア~エから1つ選んで、その符号を書きなさい。

ア Iの前 イ IとIIの間 ウ IIとIIIの間 エ IIIの後

I	壘田永年私財法が発せられる
II	延喜の荘園整理令が出される
III	延久の荘園整理令が出される

4 下線部③について、次の問いに答えなさい。

(1) 将軍源実朝が暗殺された後、朝幕関係が不安定になったことに関して述べた次の文中の (X)、(Y) にあてはまる語句の組み合わせとして適切なものを、あとのア~エから1つ選んで、その符号を書きなさい。

後鳥羽上皇は、新たに (X) をおいて軍事増強をはかり、北条義時追討の兵を挙げたが、北条泰時、時房らの活躍により幕府の圧倒的な勝利に終わった。幕府は新たに (Y) をおいて朝廷を監視した。

ア X 北面の武士 Y 京都所司代 イ X 北面の武士 Y 六波羅探題

ウ X 西面の武士 Y 京都所司代 エ X 西面の武士 Y 六波羅探題

(2) この時代に関して述べた文として適切でないものを、次のア~エから1つ選んで、その符号を書きなさい。

ア 宋に渡った天台宗の僧栄西は、ひたすら坐禅することによって悟りの境地を体得しようとする曹洞宗を伝えた。

イ 堺の商人と結んだ細川氏と博多の商人と結んだ大内氏が貿易の実権をめぐり、寧波で激しく衝突した。

ウ 大村純忠が長崎をイエズス会の教会に寄付したことが契機に、豊臣秀吉はバテレン追放令を出した。

エ ポルトガル商人が中国産の生糸を長崎に運んで巨利を得ていたので、幕府は糸割符制度を設けて利益独占を排除した。

5 下線部④について、幕府が制定した、紫衣の寺の住持に関する許可を規定している法令として適切なものを、次のア~エから1つ選んで、その符号を書きなさい。

ア 武家諸法度 イ 禁中並公家諸法度 ウ 諸宗寺院法度 エ 諸社禰宜神主法度

6 下線部⑤について、国学者に関して述べた文として適切なものを、次のア~エから1つ選んで、その符号を書きなさい。

ア 荷田春満は、古典研究を進めて復古神道を主張し、『源氏物語』の注釈書である『源氏物語玉の小櫛』等を著した。

イ 賀茂真淵は、契沖の『万葉代匠記』を学び、『古事記』『日本書紀』を研究し、江戸に出て『創学校啓』を幕府に献呈した。

ウ 本居宣長は、『万葉集』『古事記』の研究から古道説を説き、『万葉集』の注釈書である『万葉考』や『国意考』を著した。

エ 塙保己一は、江戸に和学講談所を設け、国史講習と史料編纂に従事し、ここで『群書類従』を編纂した。

7 下線部⑥について、この藩の藩主であった江戸幕府の将軍が実施した政策として適切なものを、次のア~エから1つ選んで、その符号を書きなさい。

ア 足高の制 イ 棄捐令 ウ 囲米 エ 七分積金

Ⅳ 次の文章を読み、あとの問いに答えなさい。

わが国における政党の歴史は、明治時代の自由民権運動から始まる。1874年、板垣退助・後藤象二郎らは東京で (A) を設立し、民撰議院設立の建白書を提出した。その後、自由民権運動の中心的な政党となったのが、①自由党と立憲改進黨である。やがて、

令4 高等学校地理歴史・公民 (9枚のうち4)

(解答はすべて、解答用紙に記入すること)

大日本帝国憲法が制定され、帝国議会在開設されると、旧自由党系と旧立憲改進黨系の両グループは政党内閣の実現をめざして合同し、1898年に②新政党を結成した。当初政党政治に否定的であった藩閥政治家らも、1900年に伊藤博文が(B)を結成し、まもなく軍部・官僚・貴族院勢力と政界を二分するまでに成長した。

大正の時代になり、政党は一般民衆とのつながりを強めるようになった。③第一次護憲運動で桂太郎内閣が在職50日余りで退陣したり、社会運動の高揚により社会主義勢力が④複数の無産政党を立ち上げて、社会改造をめざしたりするようになった。

昭和の時代になり、軍人や右翼が急進的に国家改造を唱え始めると、政党政治の打倒をめざすようになった。この象徴的な出来事が1932年に起こった⑤五・一五事件である。この事件により、戦前の政党内閣は崩壊した。

太平洋戦争後、⑥連合軍による占領政策の一環として、複数の政党が相次いで復活ないし結成された。戦後当初の約10年間は、政党間で離合集散が繰り返された。やがて、⑦55年体制が構築され、⑧1993年までこの体制が続いた。

- 文中の(A)、(B)にあてはまる適切な語句を書きなさい。
- 下線部①について、自由党と立憲改進黨に関して述べた文として適切なものを、次のア～エから1つ選んで、その符号を書きなさい。
ア 自由党の主な支持層は都市の実業家や知識人であった。
イ 立憲改進黨は政府要人であった大隈重信を党首に迎え、超然主義を提唱した。
ウ フランス流の急進的な自由主義を唱える自由党に対し、政府は板垣退助らの洋行を援助するなどの懐柔策をとった。
エ 松方財政下での生活困窮によって起こった福島事件では、立憲改進黨の党員が大量に検挙された。
- 下線部②について、新政党名として適切なものを、次のア～エから1つ選んで、その符号を書きなさい。
ア 憲政会 イ 憲政党 ウ 立憲同志会 エ 立憲国民党
- 下線部③について、第一次護憲運動に関して述べた文aとbの正誤の組み合わせとして適切なものを、あとのア～エから1つ選んで、その符号を書きなさい。
a この運動の中心人物は、西郷隆盛と大久保利通であった。
b 「閥族打破・憲政擁護」を掲げ、全国的な運動に発展した。
ア a-正 b-正 イ a-正 b-誤 ウ a-誤 b-正 エ a-誤 b-誤
- 下線部④について、無産政党に関して述べた文として適切なでないものを、次のア～エから1つ選んで、その符号を書きなさい。
ア 無産政党に大きな影響力を及ぼした立憲帝政党は結党以来、合法政党として活動していた。
イ 全国的な無産政党として結成された農民労働党は、当時の非合法政党との関係が疑われ、即日禁止となった。
ウ 1926年、合法的な無産政党として労働農民党が組織された。
エ 普通選挙制度による最初の総選挙で、無産政党勢力から複数名の当選者を出した。
- 下線部⑤について、この事件に関して述べた文として適切なものを、次のア～エから1つ選んで、その符号を書きなさい。
ア この事件の背景に、海軍内の皇道派と統制派の派閥争いがあった。
イ この事件で総辞職した内閣にかわって広田弘毅内閣が成立し、軍部大臣現役武官制がとられることとなった。
ウ この事件で天皇が厳罰を指示したこともあり、事件の首謀者らは反乱軍として鎮圧された。
エ この事件により犬養毅首相が海軍青年将校の団により、首相官邸で射殺された。
- 下線部⑥について、この占領政策に関して述べた文として適切なものを、次のア～エから1つ選んで、その符号を書きなさい。
ア この占領政策は、連合軍最高司令官総司令部による直接統治の方法で行われた。
イ 教育制度の自由主義的改革を行うために、国定教科書の制度が導入された。
ウ 各産業部門の巨大独占企業の分割をめざし、過度経済力集中排除法が制定された。
エ 公害を批判する世論の高まりを背景に、環境省の設立を指示した。
- 下線部⑦について、右の表はこの前後の出来事を時代順に並べたものである。表
55年体制が構築された時期として適切なものを、次のア～エから1つ選んで、その符号を書きなさい。
ア Iの前 イ IとIIの間 ウ IIとIIIの間 エ IIIの後

I	湯川秀樹がノーベル物理学賞を受賞した。
II	円が変動為替相場制へ移行した。
III	消費税を導入した。
- 下線部⑧について、1993年に首相に就任した人物名と所属政党の組み合わせとして適切なものを、次のア～エから1つ選んで、その符号を書きなさい。
ア 小泉純一郎・日本新党 イ 小泉純一郎・新党さきがけ ウ 細川護熙・日本新党 エ 細川護熙・新党さきがけ

V 次の文章を読み、あとの問いに答えなさい。

17世紀のヨーロッパでは、製品の販売を目的に工業を営む資本家が現れた。工場には労働者が集められ、分業によって加工生産を行う(A)が普及していった。18世紀後半になるとイギリスで(B)が進行し、工業生産は急速に拡大した。その後、①鉱産資源の開採が進むとともに②工業立地や工業製品の生産形態も変化していった。③都市において工業が発達すると、人々の暮らしや生産活動に必要な設備も充実する。第二次世界大戦後には、技術革新が進み、コンピュータや④産業用ロボットの導入により、工業生産は飛躍的に発展を遂げたが、地域に根差した⑤伝統工芸技術や中小企業のネットワークの重要性も見直されている。

- 文中の(A)、(B)にあてはまる適切な語句を書きなさい。
- 下線部①について、次の問いに答えなさい。
 - 図1～図4は、金鉱(2017年)、すず鉱(2016年)、鉄鉱石(2016年)、銅鉱(2015年)の世界産出に占める上位5か国の割合を示している。金鉱の世界産出に占める割合を示した図として適切なものを、次のア～エから1つ選んで、その符号を書きなさい。
ア 図1 イ 図2 ウ 図3 エ 図4

令4 高等学校地理歴史・公民 (9枚のうち5)

(解答はすべて、解答用紙に記入すること)

図1

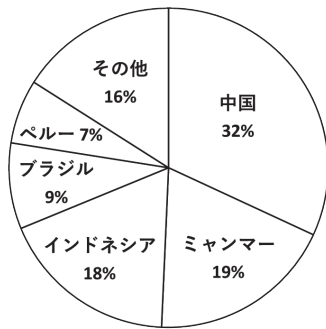


図2

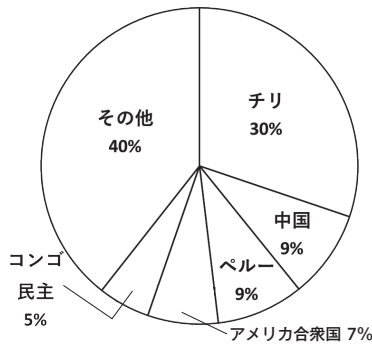


図3

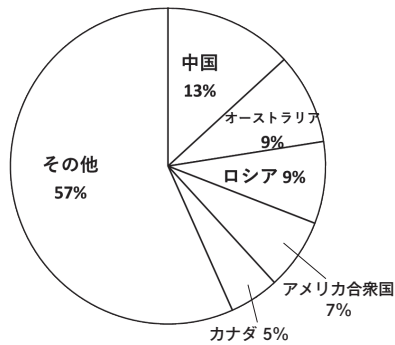
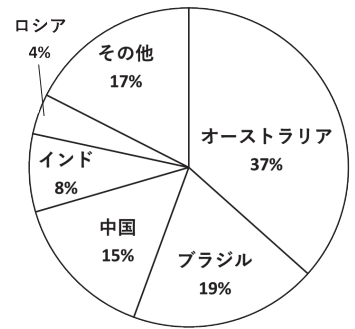


図4



(『データブック オブ ザ ワールド 2021』より作成)

(2) 次の文ア～エは金鉱、すず鉱、鉄鉱石、銅鉱のうちいずれかの鉱産資源について述べたものである。すず鉱について述べた文として適切なものを1つ選んで、その符号を書きなさい。

- ア 高い導電性と腐食に対する強い耐性から、電子部品の電導体やコネクタの部品として利用されている。
- イ 比較的加工しやすい金属材料であり、はんだやメッキでの利用の他に工芸品原料としても利用されている。
- ウ 金属製品や硬貨の材料として古くから利用されており、電線や屋根ふき材及び配管としても利用が多い。
- エ 固くて強く細密な加工ができるため、あらゆる産業の基盤として利用されており、生産量・流通量ともに多い。

3 下線部②について、次の問いに答えなさい。

(1) アルフレッド＝ウェーバーが著書『工業立地論』の中で、工業生産の利潤を大きくするために最も重視した要素として適切なものを、次のア～エから1つ選んで、その符号を書きなさい。

- ア 輸送費 イ 電力費 ウ 地価 エ 人口

(2) 次に示した立地の条件に適した工業の組み合わせとして適切なものを、あとのア～カから1つ選んで、その符号を書きなさい。

- a 原料産地が特定の場所に限定されており、製品の重量が原料とほとんど変わらないため、労働力が豊富な場所に立地する。
- b 原料産地が限定されず、どこでも入手可能なため、都市近郊に立地する。
- c 原料産地が特定の場所に限定されており、製品の重量が原料よりも著しく軽くなるため、原料産地に立地する。

	ア	イ	ウ	エ	オ	カ
a	セメント工業	セメント工業	繊維工業	繊維工業	ビール工業	ビール工業
b	繊維工業	ビール工業	セメント工業	ビール工業	セメント工業	繊維工業
c	ビール工業	繊維工業	ビール工業	セメント工業	繊維工業	セメント工業

4 下線部③について、次の問いに答えなさい。

(1) 都市の機能について述べた文として適切なでないものを、次のア～エから1つ選んで、その符号を書きなさい。

- ア ニースやカンヌは、観光保養都市として知られている。
- イ ブラジリアやキャンベラは、計画的な市街地を持つ政治都市として知られている。
- ウ チュキカマタやイタビラは、世界でも有数の鉱産資源を産出する鉱業都市として知られている。
- エ アバディーンやベルゲンは、宗教に関わる機能が卓越した宗教都市として知られている。

(2) 都市・居住問題について述べた文として適切なものを、次のア～エから1つ選んで、その符号を書きなさい。

- ア 先進国で早くから都市化が進んだ大都市では、高所得者層が郊外に流出し、都心周辺の漸移地帯で商店街の衰退やコミュニティの崩壊などが起きるスプロール現象がみられることがある。
- イ 日本のいくつかの都市では、都市計画がほとんど実行されなかった結果として、住宅、商業開発、道路などが、都市周縁の広範な地帯に無秩序に拡大するドーナツ化現象がみられることがある。
- ウ 発展途上国の都市では、小規模な小売業・サービス業・製造業などのうち、正式な雇用契約や社会保障がないような労働環境で働くインフォーマルセクターに分類される人も多い。
- エ 発展途上国の都市では、近年の経済成長により貧富の差が拡大して、ストリートチルドレンと呼ばれる富裕層の子どもたちが増加している。

(3) 旧市街地や都市内域における建物の改修や再開発の結果として比較的裕福な人が流入し、地域における居住者の階層の上位化とともに居住空間の質の向上が進行する現象のことを何というか、書きなさい。

5 下線部④について、次の表1は産業用ロボット稼働台数(2018年)の上位5か国・地域の世界に占める割合を示している。また、表2のア～エは、化学繊維生産量(2016年)、携帯電話生産台数(2015年)、船舶竣工量(2019年)、自動車生産台数(2018年)のいずれかの上位5か国・地域の世界に占める割合を、表中のア～Dは、アメリカ合衆国、韓国、中国、日本のいずれかの国を示している。表1と表2に関するあとの問いに答えなさい。

表1

産業用ロボット稼働台数	
国・地域名	%
A	22.6
B	13.0
C	12.3
D	11.7
ドイツ	8.8

表2

ア		イ		ウ		エ	
国・地域名	%	国・地域名	%	国・地域名	%	国・地域名	%
A	35.0	A	78.6	A	28.7	A	68.9
C	32.8	ベトナム	10.7	D	11.7	インド	8.6
B	24.4	C	3.6	B	10.0	D	3.1
フィリピン	1.2	インド	2.8	インド	5.3	インドネシア	3.0
ベトナム	0.8	台湾	1.8	ドイツ	5.3	台湾	2.9

(『データブック オブ ザ ワールド 2021』より作成)

(1) 自動車生産台数を示す表を、表2のア～エから1つ選んで、その符号を書きなさい。

(2) 表2中のB及びDにあてはまる国名を書きなさい。

令4 高等学校地理歴史・公民 (9枚のうち6)

(解答はすべて、解答用紙に記入すること)

- 6 下線部⑤について、イタリアにおいて、ヴェネツィアやフィレンツェ等、中世以来の伝統的な技術を持った職人たちが集積している地域を何とよぶか、書きなさい。

VI 次の図は和歌山県の串本町付近の地図である。図を見て、あとの問いに答えなさい。

図



(2万5千分の1地形図「串本」(2015年)を一部改変)

- 1 国土地理院が作成している地図の説明として適切なものを、次のア～エから1つ選んで、その符号を書きなさい。

ア 縮尺1万分の1の地形図は、建物の形状が表示され、主曲線は10m間隔で描かれている。
 イ 縮尺2万5千分の1の地形図では、1kmは2.5cmで表される。
 ウ 縮尺5万分の1の地形図の計曲線は50m間隔で描かれている。
 エ 縮尺20万分の1の地勢図は、実測図を編集して作成した編集図である。
- 2 図の線———の両端のAとBの高低差の値として適切なものを、次のア～エから1つ選んで、その符号を書きなさい。

ア 20m イ 40m ウ 60m エ 80m
- 3 図から読み取れることについて述べた文として適切なものを、次のア～エから1つ選んで、その符号を書きなさい。

ア 近畿自然歩道に沿って、果樹園が並んでいる。 イ 町役場の周辺の街路区画は碁盤目状になっている。
 ウ 苗我島は海底トンネルによって対岸とつながっている。 エ 「権現」、「出雲」付近には茶畑が見られる。
- 4 図に見られる地形について述べた次の文の(X)～(Z)にあてはまる適切な語句を書きなさい。

串本町の中心市街地は、(X)と呼ばれる平地上に広がっている。この平地は、沿岸潮流によって流された土砂が堆積し、沖にある島とつながってできたものであり、つながった島を(Y)と呼ぶ。また、(Y)の沿岸部は、かつて海水面付近で形成された波食棚が、隆起を繰り返してできた(Z)が発達している。

- 5 串本町の中心市街地が立地する平地と同じ要因で形成された平地に中心市街地がみられる都市名を、次のア～エから1つ選んで、その符号を書きなさい。

ア 函館市 イ 鹿児島市 ウ 釜石市 エ 長崎市

令4 高等学校地理歴史・公民 (9枚のうち7)

(解答はすべて、解答用紙に記入すること)

6 右の表は宮城県、和歌山県、兵庫県、山口県、佐賀県、長崎県のそれぞれの海岸線の総延長 (km)、海面漁獲量 (百 t、2018 年)、かき養殖収穫量 (t、2018 年)、板のり養殖収穫量 (百万枚、2018 年) を示している。表を見て次の問いに答えなさい。

表

	海岸線の 総延長	X	Y	Z
和歌山県	651	—	—	152
I	1,580	19	19	255
II	850	8,652	1,706	401
III	829	26,086	345	1,847
佐賀県	383	282	1,817	84
IV	4,183	1,348	11	2,906

(『地理統計 2021 年版』『海岸統計 平成 28 年度版』)
表中の「—」は、1 未満もしくは秘匿

(1) 表の X、Y、Z に該当するものの組み合わせとして適切なものを、次のア～カから 1 つ選んで、その符号を書きなさい。

- | | | | | | | |
|---|---|----------|---|----------|---|----------|
| ア | X | 板のり養殖収穫量 | Y | 海面漁獲量 | Z | かき養殖収穫量 |
| イ | X | 板のり養殖収穫量 | Y | かき養殖収穫量 | Z | 海面漁獲量 |
| ウ | X | 海面漁獲量 | Y | 板のり養殖収穫量 | Z | かき養殖収穫量 |
| エ | X | 海面漁獲量 | Y | かき養殖収穫量 | Z | 板のり養殖収穫量 |
| オ | X | かき養殖収穫量 | Y | 板のり養殖収穫量 | Z | 海面漁獲量 |
| カ | X | かき養殖収穫量 | Y | 海面漁獲量 | Z | 板のり養殖収穫量 |

(2) 宮城県にあたるものを、表の I～IV から選んで、その符号を書きなさい。

7 海岸の地形について述べた文 a と b の正誤の組み合わせとして適切なものを、あとのア～エから 1 つ選んで、その符号を書きなさい。

- a 海岸平野は、平坦な海底が沈水したことで形成されたものである。
b リアス海岸は、U 字谷に海水が入り込み、山地の奥まで谷に沿った入り江となったものである。

ア a-正 b-正 イ a-正 b-誤 ウ a-誤 b-正 エ a-誤 b-誤

VII 次の文章を読み、あとの問いに答えなさい。

16～17 世紀のヨーロッパでは、自然を人間の理性によって理解しようとする近代の自然科学が誕生した。その先駆者となり、『()』を著わしたデカルトは、「方法的懐疑」を説いた。また、17 世紀後半以降、①国家や社会についても、旧来の宗教的な伝統や身分制度から、合理的な枠組みに変えていこうとする動きが生み出された。これにより、科学技術の急速な発展や、②自由や平等を実現する民主的な社会がもたらされた。

一方で、交通や ICT 技術の進歩により③グローバル化が進む現代では、異文化との摩擦や共存が大きな課題となっている。④医学や生命科学の発展は、よりよい医療の提供につながったが、これまでなかったような生命への介入により、従来の価値観や生命観を大きく揺さぶっている。自由な経済活動は人々に豊かな生活を与えるが、反面、激しい経済競争を生み、⑤人間的な心を失わせる要因になったりしているのではないかと。⑥様々な課題に直面する今日、新たな時代の社会の在り方や価値観を問い直す時期なのかもしれない。

1 文章中の空欄 () に当てはまる語句と「方法的懐疑」を説明した文の組み合わせとして適切なものを、あとのア～カから 1 つ選んで、その符号を書きなさい。

語句 a-論理学体系 b-省察 c-自然哲学の数学的原理

説明 x-理性や感情を疑い、人間には絶対的な真理に到達できない y-およそ疑いうるもの全て疑うことで真理に到達できる

	ア	イ	ウ	エ	オ	カ
語句	a	a	b	b	c	c
説明	x	y	x	y	x	y

2 下線部①について、この時期の啓蒙思想家ジョン＝ロックについて述べた文として適切なものを、次のア～エから 1 つ選んで、その符号を書きなさい。

- ア 私所有財産制により生まれた不平等を克服するため、人々は自己を一般意志に従わせることが必要だと説いた。
イ 人々は自然権を確実に保証するため、政府に法の制定・実行の権利を信託するのであり、主権は人民にあると説いた。
ウ 権力の濫用を未然に防ぐためには、権力を分立させ、互いに制限しあうような仕組みが必要であると説いた。
エ 人々は自己の生命・自由・財産に対する所有権を持ち、その源泉は労働であると説いた。

3 下線部②について、次の問いに答えなさい。

(1) 人間の在り方を自由という観点から考察し、「人間は自由の刑に処せられている」としたフランスの思想家は誰か、書きなさい。

(2) 2000 年以降の日本の選挙について述べた文 a と b の正誤の組み合わせとして適切なものを、あとのア～エから 1 つ選んで、その符号を書きなさい。

- a 成年年齢が 18 歳以上に引き下げられたことにより、高校生であっても 18 歳以上であれば選挙権を付与されるようになった。
b 公職選挙法改正により、それまでの不在者投票制度が廃止され、期日前投票制度が導入された。

ア a-正 b-正 イ a-正 b-誤 ウ a-誤 b-正 エ a-誤 b-誤

4 下線部③について、国連開発計画が 1994 年版『人間開発報告』の中で提唱した、人間の生存、生活、尊厳に対する脅威から各個人を守り、その生活に欠かせない自由と可能性を保障する考え方を何というか、書きなさい。

5 下線部④について述べた文として、適切なものの組み合わせを、あとのア～カから 1 つ選んで、その符号を書きなさい。

- a 人権運動を背景に、患者の自己決定権を尊重した医療を行うパートナーリズムの考え方が浸透してきている。
b 日本では、臓器移植法の改正で、生前の本人の意思表示が不明な場合は家族の承諾により脳死からの臓器移植が可能である。
c 生命維持治療や治療困難な病気の治療については、残された時間の生き方を尊重する「生命の尊厳 (SOL)」という考え方が浸透してきている。
d クローン技術の進展に伴い、クローン人間の可能性も出てきたが、日本ではそれを制限する法律がなく、不安視されている。
e ヒトゲノム解析によって、ヒトの遺伝情報の解読が進み、遺伝子診断や遺伝子治療が進んできている。
f ユニバーサルデザインという考え方から、バリアフリーの考え方が生み出された。

ア a と d イ a と f ウ b と c エ b と e オ c と f カ d と e

令4 高等学校地理歴史・公民 (9枚のうち8)

(解答はすべて、解答用紙に記入すること)

- 6 下線部⑤について述べた文 a と b の正誤の組み合わせとして適切なものを、あとのア～エから1つ選んで、その符号を書きなさい。
- a 古代日本が理想とした「清き明き心」の精神は、後世の「正直」や「誠」、武士道の「いさぎよさ」などにつながった。
 b 荀子は「人の性は悪にして其の善なる者は偽なり」と説き、欲望を抑え、矯正するための「法」の教えを重視した。
- ア a-正 b-正 イ a-正 b-誤 ウ a-誤 b-正 エ a-誤 b-誤
- 7 下線部⑥について、その著作『論理哲学論考』の中で「およそ語りうるものは明晰に語りうる、そして語りえぬものについては、沈黙せねばならない」と述べ、科学が探究すべき事実と生き方にかかわる倫理上の問題を混合してはならないとした思想家を、ア～エから1つ選んで、その符号を書きなさい。
- ア ソシュール イ レヴィ＝ストロース ウ ハーバーマス エ ウィットゲンシュタイン

VIII 次の文章を読み、あとの問いに答えなさい。

第二次世界大戦後、①イギリスのポンド経済圏のようなブロック経済の反省を踏まえて、新たな制度の下で国際経済秩序の再建がはかれることになった。その柱の一つである②GATTは③自由貿易を促進するため自由・無差別・(A)主義の三原則に立ち、関税の引き下げ、非関税障壁の撤廃等を行った。(B)は国際収支の赤字国には一時的に短期資金を供給するなど、国際収支の不均衡を調整することを目的とした。この秩序のもと、先進国と、④農産物や鉱産物などの特定の一次産品に特化した経済を余儀なくされた⑤発展途上国との経済格差はさらに広がった。発展途上国の先進国に対する格差是正の要求は、1973年のOPECによる石油価格の大幅な引き上げに象徴される(C)ナショナリズムの動きにあと押しされてしだいに勢いを増した。格差の問題は単に経済上の問題であるばかりでなく、教育、医療、福祉など社会全般に関わるものであり、2015年には⑥国際連合で持続可能な開発目標が採択され、さらなる取組がすすめられている。⑦貧困削減に向けた支援の取組では、国家レベルの支援に加え、非政府組織や企業などによる様々な取組も進められている。

- 1 文中の(A)～(C)にあてはまる適切な語句を書きなさい。
- 2 下線部①について、イギリスの政治について述べた文として適切なものを、次のア～エから1つ選んで、その符号を書きなさい。
- ア 政権に就かない野党は政権交代に備えて「影の内閣」を形成している。
 イ 国民の選挙で選ばれる貴族院と下院からなる二院制を採用している。
 ウ 特別の憲法裁判所を設け、違憲審査を行っている。
 エ 国民の直接選挙で選ばれる大統領制を採用している。
- 3 下線部②について、GATTに関して述べた文 a と b の正誤の組み合わせとして適切なものを、あとのア～エから1つ選んで、その符号を書きなさい。
- a ウルグアイ・ラウンドの交渉の結果、日本はコメの部分的な市場開放を受け入れた。
 b ドーハ・ラウンドでは先進国が発展途上国への開発支援を大幅に認め、交渉が大きく進展した。
- ア a-正 b-正 イ a-正 b-誤 ウ a-誤 b-正 エ a-誤 b-誤
- 4 下線部③について、X国とY国が機械と小麦の生産において、右の資料のような状況であった場合、下の文中の下線部について適切でないものを、ア～エから1つ選んで、その符号を書きなさい。

資料

	1単位の生産に必要な労働量	
	機械	小麦
X国	100人	120人
Y国	80人	40人

Y国は機械、小麦の両方でX国に対しア絶対優位といえる。しかし、イギリスの経済学者イリカードの比較生産費説に基づくならば、X国が機械の、Y国が小麦の生産に特化すれば、両国で生産される総量は特化前と比べて、機械はウ1.1倍に小麦はエ3倍になる。

- 5 下線部④について、このような経済構造を何というか、書きなさい。
- 6 下線部⑤について、発展途上国の間で産油国や成長軌道に乗った国々と資源を持たない国々との格差が表面化した。このような問題を何というか、書きなさい。
- 7 下線部⑥について、国際連合について述べた文として適切なものを、次のア～エから1つ選んで、その符号を書きなさい。
- ア 国際司法裁判所は、紛争当事国の一方が提訴すれば、早期解決に向けて迅速に訴訟を開始する。
 イ 国際連盟の反省に基づき、安全保障理事会では全会一致の原則を採用している。
 ウ PKOは、中立的で非強制的な紛争処理方式であるが、国連憲章に明文規定はない。
 エ 包括的核実験禁止条約が国連総会において採択され、核保有国すべてが批准し発効した。
- 8 下線部⑦について、発展途上国の原料や製品を、持続可能な発展のために適正価格で取引する貿易を何というか、書きなさい。
- 9 次の文は、学習指導要領(平成30年告示)の科目「公共」の目標の一部である。文中の(A)～(C)にあてはまる語句の組み合わせとして適切なものを、あとのア～カから1つ選んで、その符号を書きなさい。

よりよい社会の実現を視野に、現代の諸課題を(A)に解決しようとする態度を養うとともに、多面的・多角的な考察や深い理解を通して涵養される、現代社会に生きる人間としての在り方生き方についての自覚や、公共的な空間に生き(B)を担う公民として、自国を愛し、その平和と繁栄を図ることや各国が相互に(C)を尊重し、各国民が協力し合うことの大切さについての自覚などを深める。

- ア A 合理的 B 国民主権 C 領土 イ A 合理的 B 世界平和 C 主権
 ウ A 合理的 B 世界平和 C 領土 エ A 主体的 B 国民主権 C 主権
 オ A 主体的 B 国民主権 C 領土 カ A 主体的 B 世界平和 C 主権

令4 高等学校地理歴史・公民解答用紙 (9枚のうち9)

総計		

I	1	A				B									
	2			3			4			5			6		
	7			8			9								

I		

II	1			2			3			4			5		
	6			7			8				9			10	

II		

III	1	A				B				C							
	2			3	(1)			(2)			4	(1)			(2)		
	5			6			7										

III		

IV	1	A				B									
	2			3			4			5			6		
	7			8			9								

IV		

V	1	A				B								
	2	(1)			(2)			3	(1)			(2)		
	4	(1)			(2)			(3)						
	5	(1)			(2)	B			D					
	6													

V		

VI	1			2			3					
	4	X				Y				Z		
	5			6	(1)			(2)			7	

VI		

VII	1			2			3	(1)			(2)		
	4				5			6			7		

VII		

VIII	1	A				B				C			
	2			3			4			5			
	6				7			8				9	

VIII		

令4 高等学校地理歴史・公民 模範解答

総計	
200	

I	1	A	衛所		B	ヌルハチ					25		
	2	オ	3	イ	4	イ	5	ウ	6	エ			
	7	ア	8	ウ	9	ア							

II	1	ウ	2	エ	3	イ	4	ア	5	エ	25		
	6	イ	7	ウ	8	情報公開		9	ア	10			

III	1	A	氏姓		B	大化の改新			C	幕藩			25		
	2	イ	3	(1)	エ	(2)	ア	4	(1)	エ	(2)	ア			
	5	イ	6	エ	7	ア									

IV	1	A	愛国公党		B	立憲政友会 (政友会)						25		
	2	ウ	3	イ	4	ウ	5	ア	6	エ				
	7	ウ	8	イ	9	ウ								

V	1	A	マニュファクチュア		B	産業革命						25		
	2	(1)	ウ	(2)	イ	3	(1)	ア	(2)	エ				
	4	(1)	エ	(2)	ウ	(3)	ジェントリフィケーション							
	5	(1)	ウ	(2)	B 日本		D アメリカ合衆国							
	6	第3のイタリア (サドイタリ)												

VI	1	エ	2	ウ	3	イ							25		
	4	X	トンボロ (陸繋砂州)		Y	陸繋島			Z	海岸段丘					
	5	ア	6	(1)	オ	(2)	III	7	エ						

VII	1	エ	2	ア	3	(1)	サルトル			(2)	エ	25		
	4	人間の安全保障			5	エ	6	イ	7	エ				

VIII	1	A	多角		B	IMF (国際通貨基金)			C	資源			25		
	2	ア	3	イ	4	エ	5	モノカルチャー経済							
	6	南南問題			7	ウ	8	フェアトレード		9	エ				