

令5 高等学校地理歴史・公民 (9枚のうち1)

(解答はすべて、解答用紙に記入すること)

I 次の文章を読み、あとの問いに答えなさい。

紀元前16世紀ごろ、黄河中・下流域を中心に成立した殷では、神の意志を占って政治をおこない、その結果を(A)文字で記録した。紀元前11世紀ごろ、西方の周が殷を滅ぼし、①鎬京に都をおいて、華北を支配した。周では、②封建制と呼ばれる統治体制がとられた。

紀元前8世紀前半、西方の異民族の侵入を受けた周は、都を東方の(B)に移した。このころから、周王の権威はおとろえ、諸侯は自立し、互いに争うようになった。この時代には、③農業の生産性が高まり、社会や経済の変化にともない、政治も大きく変化した。諸侯は富国強兵をはかり、君主権の強化をめざした。新しい秩序が模索された戦国時代には、④諸子百家とよばれる多くの思想家があらわれた。

西方辺境からおこった新興国の秦は、法家の政策を採用し富国強兵に成功した。⑤紀元前3世紀、秦王の政は中国を統一し、はじめて「皇帝」の称号をつくり、始皇帝と称されるようになった。始皇帝は、度量衡、⑥貨幣、文字などの統一を進め、全国を郡、県にわけ、官僚を派遣して統治した。また、北方の⑦匈奴が中国にしばしば侵入するのを防ぐため、万里の長城を修築した。秦の政治の仕組みは、その後2000年あまり続く皇帝による政治体制の基礎となったが、始皇帝死後、⑧各地で反乱が起きたため秦は滅亡した。

- 文中の(A)、(B)にあてはまる語句を書きなさい。
- 下線部①について、**図**中のあ・いは鎬京と開封のいずれかの位置を示しており、下の文aとbはそれぞれの都市を説明したものである。鎬京の位置と説明の組合せとして適切なものを、あとのア～エから1つ選んで、その符号を書きなさい。

図



- 天然の要害を持つ渭水平原の中心に位置し、唐の都がこの付近に築かれた。
- 黄河と大運河の合流点に位置し、宋の都が置かれた。

ア あ-a イ あ-b ウ い-a エ い-b

- 下線部②について、周の封建制に関して述べた文として適切なものを、次のア～エから1つ選んで、その符号を書きなさい。

- 父系の血縁的なつながりを基礎にした族長間の主従関係であった。
- 土地の徴税権を軍人に与え、俸給にみあう金額を農民や都市民から徴税させた。
- 土地を仲立ちとした個別の契約によって結ばれる主従関係であった。
- 在地の貴族を伯に任命して現地の統治を委任する一方、巡察使を派遣して伯を監督させた。

- 下線部③について、この時代に農業の生産性が高まった要因について述べた文として適切なものを、次のア～エから1つ選んで、その符号を書きなさい。

- 施肥の普及と品種改良、二毛作が進展した。
- 低湿地を堤防で囲んで干拓した開田がつけられた。
- 鉄製農具や牛の使用がはじまった。
- 日照りに強い早稲の占城稲が導入された。

- 下線部④に関して述べた文として適切なものを、次のア～エから1つ選んで、その符号を書きなさい。

- 儒家は血縁関係にとらわれない無差別の愛を説くとともに、平和論を主張した。
- 道家は人為的なものを排し、自然の道と天命に従う無為自然を主張した。
- 墨家は家族道徳を基礎にする人間のあり方を仁とし、その実践による社会秩序の実現を説いた。
- 法家は周代の封建制を理想としながら、君主が法によって人民を統治すべきことを説いた。

- 下線部⑤について、紀元前3世紀における出来事に関して述べた文として適切なものを、次のア～エから1つ選んで、その符号を書きなさい。

- ローマがタレントゥムを占領してイタリア半島を統一した。
- アレクサンドロス大王がエジプトを征服した。
- ナーガールジュナによって大乘仏教の教理が体系化された。
- パレンバンを中心とするシュリーヴィジャヤが交易帝国として栄えた。

- 下線部⑥について、中国における貨幣に関して述べた文aとbの正誤の組合せとして適切なものを、あとのア～エから1つ選んで、その符号を書きなさい。

- 漢の武帝は、民間貨幣の流通による混乱を収めるため、半両銭だけを正式な通貨とした。
 - 元は銀を通貨の要として、交子とよばれる紙幣を補助として広く流通させた。
- ア a-正 b-正 イ a-正 b-誤 ウ a-誤 b-正 エ a-誤 b-誤

- 下線部⑦に関して述べた文として適切なものを、次のア～エから1つ選んで、その符号を書きなさい。

- 君主はカガン(可汗)と称して鮮卑人が建てた北魏と対抗した。
- ササン朝ペルシアと協力してエフタルを攻撃した。
- 冒頓単于に率いられて強力になり、漢の武帝を破った。
- 八王の乱に乗じて自立し、洛陽・長安を陥落させて晋を滅ぼした。

- 下線部⑧について、新や唐においても、王朝末期に民衆の不満が増大して反乱が起こっている。次の表中のI・IIに入る語句の組合せとして適切なものを、あとのア～エから1つ選んで、その符号を書きなさい。

王朝名	民衆の不満が増大した原因	反乱の名称
新	I	赤眉の乱
唐	両税法と塩の専売の導入	II

民衆の不満が増大した原因(I)	反乱の名称(II)
あ 周代を理想とする非現実的な政策	X 黄巢の乱
い 大運河建設の負担と高句麗遠征の失敗	Y 安史の乱

ア I-あ II-X イ I-あ II-Y ウ I-い II-X エ I-い II-Y

令5 高等学校地理歴史・公民 (9枚のうち2)

(解答はすべて、解答用紙に記入すること)

II 次の文章を読み、あとの問いに答えなさい。

18世紀には、①産業革命とアメリカ・フランスでの革命が起こった。広大な海外市場を確保したイギリスで最初におこった産業革命は、②綿工業から始まって、ほかの産業部門にもおよび、工業中心の社会を生み出した。これによってイギリスは、世界の市場形成に主導的役割を果たした。

③アメリカの独立革命は近代民主主義の基本原則を表明して、イギリスからの独立を達成した。④フランス革命は多様な社会層の複雑なからみあいのなかで、国王を頂点とした絶対王政下の古い政治・社会体制である()を廃棄し、有産市民層に政治的発言力をもたらした。アメリカとフランスの革命は、近代国家と近代市民社会の重要な原則を提起するものであった。

1 文中の()にあてはまる語句をカタカナで書きなさい。

2 下線部①について、次の問いに答えなさい。

(1) 産業革命がイギリスで生じた背景を述べた文として適切なものを、次のア～エから1つ選んで、その符号を書きなさい。

- ア 石炭・鉄などの資源を輸入に頼っていたため。
- イ 豊かな国内市場と有利な投資先を求める資本が用意されていたため。
- ウ アジアやアフリカから締め出され、海外市場の確保に失敗したため。
- エ 島国のため、他国からの自然科学や技術の流入が遅れたため。

(2) 産業革命を契機とする社会問題に関して述べた文として適切なでないものを、次のア～エから1つ選んで、その符号を書きなさい。

- ア 機械制工業が出現し、大量生産で安価な商品が供給されはじめると、家内工業や手工業は没落した。
- イ 大工場を経営する資本家は経済の大勢を左右することになり、社会的地位を高め、資本主義体制が確立した。
- ウ 都市への人口集中が問題となり、グリーンベルトが設けられるなど都市環境の改善が進められた。
- エ 資本家の多くは、利潤の追求を優先し、労働者に不衛生な生活環境のもとでの長時間労働や低賃金を強制した。

3 下線部②について、綿花は、大西洋の三角貿易で重要な商品となったが、三角貿易に関して述べた次の文中の(X)、(Y)にあてはまる語句の組合せとして適切なものを、あとのア～エから1つ選んで、その符号を書きなさい。

ヨーロッパから武器や雑貨などを(X)に送りそれと交換で得た奴隷を(Y)や西インド諸島におくりこんで、そこから砂糖・綿花・タバコ・コーヒーなどの農産物をヨーロッパに持ち帰って売りさばくという三角貿易の一環としておこなわれた。

- ア X アメリカ Y 中国
- イ X アメリカ Y アフリカ
- ウ X アフリカ Y 中国
- エ X アフリカ Y アメリカ

4 下線部③について、次の問いに答えなさい。

(1) 北アメリカ植民地の形成について述べた文として適切なでないものを、次のア～エから1つ選んで、その符号を書きなさい。

- ア イギリスは、東岸に最初の植民地としてヴァージニアを設けた。
- イ 北部では自営農民や自営の商工業者が多く、信仰の自由を求めて移住する者が多かった。
- ウ イギリスは、重農主義政策によって、植民地の自由な貿易や工業の発展を促した。
- エ 南部ではタバコや米を栽培する大農園が拡大した。

(2) 周辺諸国の対応について述べた文 a と b の正誤の組合せとして適切なものを、あとのア～エから1つ選んで、その符号を書きなさい。

- a イギリスと対立していたフランスやスペインは独立軍側に参戦した。
- b ロシアなどによる武装中立同盟の結成によって、中立国の航行の自由を要求し、イギリスを外交的に孤立させた。

ア a-正 b-正 イ a-正 b-誤 ウ a-誤 b-正 エ a-誤 b-誤

(3) この革命の影響について述べた文として適切なものを、次のア～エから1つ選んで、その符号を書きなさい。

- ア ポーランドのラ＝ファイエットが独立戦争に参戦した経験を生かし、ロシアによるポーランド分割に対して抵抗した。
- イ 先住民が居住するアパラチア山脈以西への移住を解禁したため、先住民と融和が進んだ。
- ウ 広大な領域の国でも共和政が実現可能であることを示し、絶対王政が多かったヨーロッパ諸国に衝撃を与えた。
- エ 合衆国憲法で、人民の権利を保護する条項も明記されたため、黒人奴隷制度が解消された。

5 下線部④について、次の問いに答えなさい。

(1) 革命前のフランスの文化について述べた文として適切なものを、次のア～エから1つ選んで、その符号を書きなさい。

- ア フリードリヒ2世は、優美で調和のとれたロココ様式のサン＝シユ宮殿を造営させた。
- イ ルイ14世は、豪壮華麗なバロック様式のヴェルサイユ宮殿を造営させた。
- ウ レオポルド1世は、のちハプスブルク家の王宮となるシェーンブルン宮殿を造営させた。
- エ ユリウス2世が、ブラマンテに命じ古典主義的なルネサンス様式のサン＝ピエトロ大聖堂を造営させた。

(2) 右の表は立憲民主政が成立する頃の出来事を時代順に並べたものである。

表

「球戯場(テニスコート)の誓い」の時期として適切なものを、次のア～エから1つ選んで、その符号を書きなさい。

ア Iの前 イ IとIIの間 ウ IIとIIIの間 エ IIIの後

- | | |
|-----|-------------|
| I | 三部会が招集される |
| II | バスティーユ牢獄を攻撃 |
| III | 人権宣言を採択 |

(3) 立憲君主政から共和政へ移行する頃の出来事について述べた文として適切なでないものを、次のア～エから1つ選んで、その符号を書きなさい。

- ア 立法議会では、これ以上の革命進行を望まない立憲君主派と共和政を主張するジロンド派が対立した。
- イ オーストリアはプロイセンと共同でフランス王を包囲攻撃することを各国君主に呼びかけていた。
- ウ オーストリア・プロイセンの侵入の危機にパリ民衆の義勇軍は、王政を廃止し、共和政の樹立を宣言した。
- エ 急進共和主義のジャコバン派が力を増し、フランス王は処刑された。

令5 高等学校地理歴史・公民 (9枚のうち3)

(解答はすべて、解答用紙に記入すること)

Ⅲ 次の文章を読み、あとの問いに答えなさい。

東アジア文化圏形成の一翼を担ったのが、遣唐使等の外交使節であった。①日本から入唐した人々、唐から来日した人々それぞれが、日本の仏教界や政治・文化の発展に大きな影響を与えた。しかし、唐が衰亡するなか、②菅原道真の献言で遣唐使が中止された。

平安時代後期から鎌倉中期にかけて、日本と宋の貿易が発展した。平安末期に勢力を拡大した平氏政権では、平清盛が音戸の瀬戸を開削したとされ、③瀬戸内海の航路を整備して貿易を奨励した。

室町時代は明による朝貢貿易の活性化を背景に、④琉球王国が中継貿易で繁栄した。やがて豊臣秀吉の朝鮮出兵で明との交易ができなくなった日本は、東南アジアで中国船との出会貿易を行った。その際、オランダなどのヨーロッパ船もこの貿易に加わり、利益を上げた。

江戸時代になると、幕府は鎖国政策をとるようになるが、1609年にオランダ人に通商許可が与えられ、鎖国政策下においても日本との交易関係は継続された。このころになると、海外に渡航する日本人の商人には()が与えられ、東南アジアとの貿易を盛んに行った。

19世紀初頭、イギリスは東洋貿易の独占を図るため、アジアにおけるオランダの拠点をつぶそうとした。⑤1808年にイギリス軍艦フェートン号がオランダ商船を捕獲するために長崎港内に侵入した。この後、1825年に⑥異国船打払令が発令されるなど、江戸幕府の外交方針は強硬姿勢に変わっていく。アヘン戦争後の清の状況に危機感を抱いた幕府は、異国船打払令を緩和する一方、あくまでも鎖国体制は守ろうとした。しかし、1853年にペリーやプチャーチンが開国を迫るとその強い圧力に屈し、1854～55年に⑦諸外国と和親条約を結び開国した。

1 文中の()にあてはまる語句を漢字3字で書きなさい。

2 下線部①について、次の問いに答えなさい。

(1) 入唐した人物として適切でないものを、次のア～エから1つ選んで、その符号を書きなさい。

ア 空海 イ 行基 ウ 玄昉 エ 最澄

(2) 入唐したが帰国を果たせなかった著名な人物として、阿倍仲麻呂がいる。この人物が詠んだ有名な和歌を次のア～エから1つ選んで、その符号を書きなさい。

ア ちはやぶる 神代も聞かず 龍田川 からくれなゐに 水くくるとは

イ 春すぎて 夏来にけらし 白妙の 衣ほすてふ 天の香具山

ウ いにしへの 奈良の都の 八重桜 けふ九重に 匂ひぬるかな

エ 天の原 ふりさけ見れば 春日なる 三笠の山に 出でし月かも

3 下線部②について、右の表はこの前後の出来事を時代順に並べたものである。表

菅原道真の献言で遣唐使が中止された時期として適切なものを、次のア～エから1つ選んで、その符号を書きなさい。

ア Iの前 イ IとIIの間 ウ IIとIIIの間 エ IIIの後

I	古今和歌集が編集された。
II	承平・天慶の乱が発生した。
III	尾張国郡司百姓等解が提出された。

4 下線部③について、修築された大輪田泊が所在した旧国名として適切なものを、次のア～エから1つ選んで、その符号を書きなさい。

ア 但馬国 イ 淡路国 ウ 播磨国 エ 摂津国

5 下線部④について、琉球王国に関して述べた文aとbの正誤の組合せとして適切なものを、あとのア～エから1つ選んで、その符号を書きなさい。

a 分立していた三山を中山王の尚巴志が統一して、琉球王国を建国した。

b 都的那覇では、日本産の銅や武具、中国からの陶磁器や絹織物などが取引された。

ア a-正 b-正 イ a-正 b-誤 ウ a-誤 b-正 エ a-誤 b-誤

6 下線部⑤について、この出来事に関して述べた文として適切なものを、次のア～エから1つ選んで、その符号を書きなさい。

ア 長崎港に侵入したフェートン号は市街地に向けて砲撃を行い、日本人に多数の犠牲者が出た。

イ 佐賀藩は、フェートン号に対して砲撃し、これに大きな損傷を与えた。

ウ 出島のオランダ商館長は、長崎奉行にフェートン号への徹底抗戦を主張した。

エ フェートン号を港内に侵入させた責任を取り、長崎奉行が自刃した。

7 下線部⑥の法令が出された頃の出来事に関して述べた文aとbの正誤の組合せとして適切なものを、あとのア～エから1つ選んで、その符号を書きなさい。

a 松平定信が推進した寛政の改革において、この法令が制定された。

b シーボルト事件は、この法令が制定された数年後に発生した。

ア a-正 b-正 イ a-正 b-誤 ウ a-誤 b-正 エ a-誤 b-誤

8 下線部⑦について、日本が和親条約を締結した国として適切でないものを、次のア～エから1つ選んで、その符号を書きなさい。

ア フランス イ オランダ ウ イギリス エ ロシア

Ⅳ 次の文章を読み、あとの問いに答えなさい。

明治新政府にとって、不平等条約の改正が大きな問題となっていた。そこで、岩倉使節団がアメリカ・ヨーロッパに条約改正予備交渉のために派遣され、外国の制度・文物の視察を目的として①留学生も同行した。使節団の帰国後に、対外姿勢の相違から一部の参議が下野する②「明治六年の政変」が起こった。

その後、③寺島宗則が、条約の一部改正交渉に成功しかけたが、諸外国に反対され成立せず、その後を受け継いだ井上馨も、交渉促進のための④極端な欧化主義をとったことで、条約改正交渉自体に否定的な声が高まり、交渉を中止して外相を辞任するなど、条約交渉は不調が続いた。一方で、日本が近代化を推進し、⑤欧米列強の一員となるべきとの世論も高まっていた。

令5 高等学校地理歴史・公民 (9枚のうち4)

(解答はすべて、解答用紙に記入すること)

日本の国力が高まるにつれて、条約改正交渉が進むと同時に、各国との軋轢が生まれるようにもなった。⑥1894年、陸奥宗光がイギリスと一部条約改正を成功させた。同年起きた日清戦争の講和のため、下関条約が締結されたが、日本の影響力が大陸に広がるのを警戒した国による⑦三国干渉が起きた。

1904年に起こった日露戦争の講和条約として⑧ポーツマス条約が締結された。その後、他の欧米諸国とも改正条約が調印され、課題として残されていた関税自主権の回復も、1911年、⑨小村寿太郎外相のもとで達成された。

1 下線部①について、帰国後、女子英学塾を創設し、女子教育に尽力した人物として適切なものを、次のア～エから1つ選んで、その符号を書きなさい。

- ア 山川捨松 イ 陸奥亮子 ウ 津田梅子 エ 渋沢兼子

2 下線部②に関して述べた文として適切なものを、次のア～エから1つ選んで、その符号を書きなさい。

- ア 西郷隆盛は、下野せず、有司専制を行った。 イ 木戸孝允は、下野して、征台の役を起こした。
ウ 西郷従道は、下野して、佐賀の乱を起こした。 エ 後藤象二郎は、下野して、愛国公党を設立した。

3 下線部③について、この時、条約改正に同意した国として適切なものを、次のア～エから1つ選んで、その符号を書きなさい。

- ア イギリス イ ドイツ ウ アメリカ エ イタリア

4 下線部④について、右の図は極端な欧化主義を揶揄した風刺画である。この作品の作者の名前をカタカナで書きなさい。



5 下線部⑤について、この時期「脱亜論」を発表した人物として適切なものを、次のア～エから1つ選んで、その符号を書きなさい。

- ア 福沢諭吉 イ 中江兆民 ウ 森有礼 エ 植木枝盛

6 下線部⑥について、このことに関して述べた文 a と b の正誤の組合せとして適切なものを、あとのア～エから1つ選んで、その符号を書きなさい。

- a 相互平等の最恵国待遇が成立した。 b 内地開放を条件に治外法権が撤廃された。

- ア a-正 b-正 イ a-正 b-誤 ウ a-誤 b-正 エ a-誤 b-誤

7 下線部⑦によって清国に返還した地名として適切なものを、次のア～エから1つ選んで、その符号を書きなさい。

- ア 山東半島 イ 遼東半島 ウ 天津 エ 香港

8 下線部⑧について、この時のアメリカ大統領として適切なものを、次のア～エから1つ選んで、その符号を書きなさい。

- ア セオドア・ローズヴェルト イ ウィルソン ウ ハーディング エ フーヴァー

9 下線部⑨について、この人物に関して述べた文 a と b の正誤の組合せとして適切なものを、あとのア～エから1つ選んで、その符号を書きなさい。

- a ポーツマス条約全権大使として派遣されたが、賠償金は全く取れなかった。
b 外交記録として『蹇蹇録』を著した。

- ア a-正 b-正 イ a-正 b-誤 ウ a-誤 b-正 エ a-誤 b-誤

V 次の文章を読み、あとの問いに答えなさい。

①地図は地球の表面上の様子を、記号や図形などを使い平面に表現したものである。国土地理院が発行する地図には、②地形図、地勢図、地方図などがある。このうち2万5千分の1地形図は、空中写真や現地測量をもとにした(A)図であり、比較的ひずみの少ない(B)図法で描かれている。また、国土地理院では③GISの活用促進を目的として電子国土基本図の整備を進めている。地理の学習では④このような地図を出発点に、その他さまざまな資料を用いて多角的に地域の特色を理解することが重要である。

1 文中の(A)、(B)にあてはまる語句を書きなさい。

2 下線部①について、次に示した内容を表現するのに適した統計地図として適切なものを、あとのア～カから1つ選んで、その符号を書きなさい。

- a ドイツの各都市の人口規模の違いについて表現する。 b ニュージーランドの羊と乳牛の分布を表現する。
c 日本の桜の開花日を表現する。

	ア	イ	ウ	エ	オ	カ
a	ドットマップ	ドットマップ	等値線図	等値線図	図形表現図	図形表現図
b	等値線図	図形表現図	ドットマップ	図形表現図	ドットマップ	等値線図
c	図形表現図	等値線図	図形表現図	ドットマップ	等値線図	ドットマップ

3 下線部②について、2万5千分の1地形図上で2点間の距離が4cmで標高差が20mであった場合、その平均勾配として適切なものを、次のア～エから1つ選んで、その符号を書きなさい。

- ア 0.02 イ 0.04 ウ 0.10 エ 0.20

4 下線部③について、GISの活用に関して述べた文として適切でないものを、次のア～エから1つ選んで、その符号を書きなさい。

ア 道路や住宅などの地図に、洪水発生時の浸水域や避難場所の位置を組合せることで、ハザードマップが作成できる。

イ 新しい店舗の出店を検討するとき、出店予定地からの徒歩圏やその中の人口分布、競合店の位置などを地図上に示し、予定地の市場を分析することができる。

ウ 観光地を訪れた際、車両の位置情報を利用して、バスの位置をリアルタイムで地図上に示すことで乗客が運行状況を閲覧・活用できる。

エ 地図上に示された同じ住所に位置する複数の建物や戸数を区別することができるため、その建物に住む居住者の性別や家賃が確認できる。

令5 高等学校地理歴史・公民 (9枚のうち5)

(解答はすべて、解答用紙に記入すること)

5 下線部④について、図1、図2の比較や統計資料の活用、他県との比較等の地理的技能を使い、岡山県の特徴を考察した。これについて、あとの問いに答えなさい。

図1 (昭和44年)

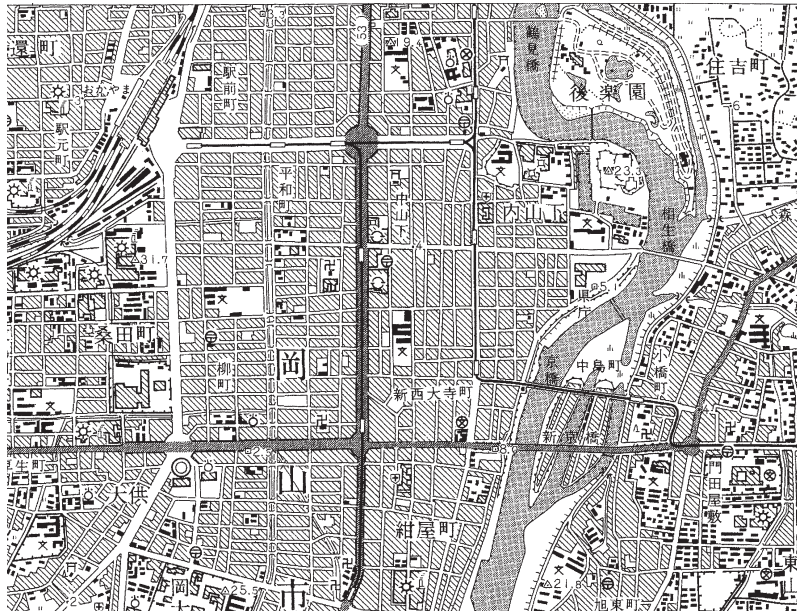
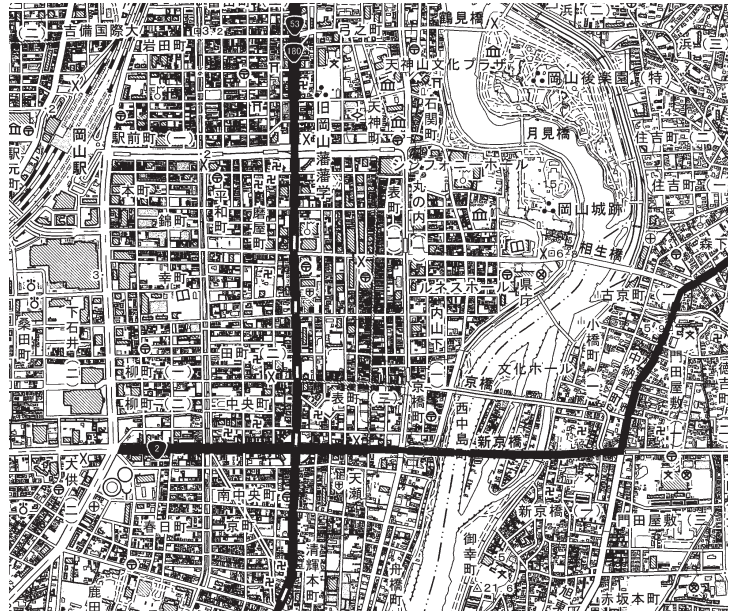


図2 (平成29年)



(昭和44年発行及び平成29年発行25,000分の1地形図「岡山南部」を一部改変)

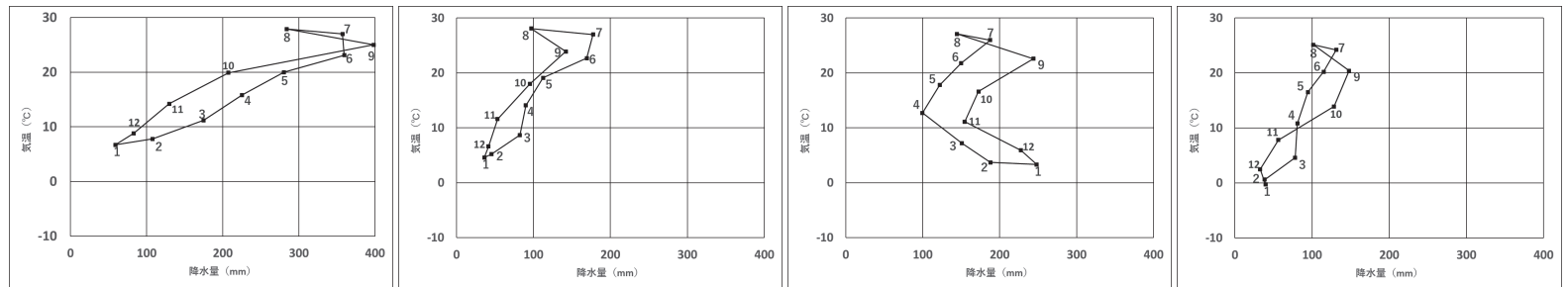
(1) 図1、図2から読み取れることについて述べた文として適切なものを、次のア～エから1つ選んで、その符号を書きなさい。

- ア 駅前町は区画整理のため町名が変更された。
- イ かつて学校であった場所が、図書館になっているところがある。
- ウ 県庁も市役所も移転して、ともにその所在地が変わった。
- エ 市内を走っていた路面電車はすべて廃止され、バス路線となった。

(2) 図1、図2にみられる都市の特徴について述べた文として適切なものを、次のア～エから1つ選んで、その符号を書きなさい。

- ア 唐の長安をモデルに格子状道路網を備えた計画都市
- イ 江戸時代に幕府によって開拓が奨励された際に作られた計画都市
- ウ 城郭を中心に身分・職業による町割りで構成された計画都市
- エ 産業革命以降、経済成長を背景に形成された計画都市

(3) 岡山市のハイサーグラフとして適切なものを、次のア～エから1つ選んで、その符号を書きなさい。



(気象庁データより作成)

(4) 表は、岡山県、広島県、山口県、香川県、愛媛県の産業別製造品出荷額を示している。岡山県に該当するものを、次のア～エから1つ選んで、その符号を書きなさい。

	表 (百万円)			
	飲料・たばこ・飼料	繊維工業品	化学工業製品	輸送用機械器具
愛媛県	62,162	178,414	410,019	330,289
ア	45,729	144,145	365,249	2,866,458
イ	166,850	200,250	1,091,398	956,056
ウ	50,435	38,411	1,772,322	1,149,920
エ	17,740	39,028	157,459	283,407

(工業統計調査(2020年)より作成)

VI 次の文章を読み、あとの問いに答えなさい。

農業と工業は、人間の暮らしを支える重要な産業である。人間は、農業を基盤とした社会に移行することにより、食料を安定的・効率的に確保できるようになった。人間の暮らしは①自然環境からさまざまな影響を受けるが、②農業も各地の自然条件などを反映して多様な形態に発達した。

また、18世紀以降の工業化は、人々に豊かな生活をもたらすとともに、国家間の経済的な結びつきを強め、今日では、③貿易がなければ各国の経済状況は成り立たない状況になっている。ヨーロッパでは④ヨーロッパ連合(EU)を結成し、加盟国の多くで単一通

令5 高等学校地理歴史・公民 (9枚のうち6)

(解答はすべて、解答用紙に記入すること)

貨()による決済が行われるなど、従来の国家の枠を超える取組が行われている。一方で、工業の発達は⑤地球規模で新たな問題をもたらしたことも事実である。

1 文中の()にあてはまる語句をカタカナ3字で書きなさい。

2 下線部①について、あとの問いに答えなさい。

表1

上段…月平均気温(℃)、下段…月降水量(mm)

1月	2月	3月	4月	5月	6月	7月	8月	9月	10月	11月	12月	全年
8.3	9.1	11.3	13.5	17.5	21.0	23.9	24.1	20.7	16.9	12.1	9.0	15.6
71.9	42.4	38.6	70.3	46.1	35.9	14.9	18.4	75.3	130.8	108.9	85.7	739.2

(『データブック オブ ザ ワールド 2022』より作成)

(1) 表1はヨーロッパのある都市の気温と降水量を示したものである。この都市が属する気候区を表すケッペンの気候記号として適切なものを、次のア～オから1つ選んで、その符号を書きなさい。

ア Aw イ Cfa ウ BS エ Cs オ Cfb

(2) 表1の都市が属する気候区の特徴を述べた文として適切なものを、次のア～エから1つ選んで、その符号を書きなさい。

ア 南半球には見られない気候区である。 イ 大陸の西岸で、緯度40度～60度の緯度帯に分布する。

ウ 亜熱帯高圧帯の影響で、夏季に降水量が減少する。 エ 赤道低圧帯の影響で、明瞭な雨季と乾季がある。

(3) フランス北部のパリ盆地にみられる、硬軟がある地層が地表に露出し、不均一に浸食を受けて緩傾斜と急傾斜が繰り返す非対称な断面を持つ地形の名称をカタカナで書きなさい。

(4) 氷河の末端や砂漠から風によって細かい土が運ばれ、厚く堆積した土壌の名称として適切なものを、次のア～エから1つ選んで、その符号を書きなさい。

ア テラロッサ イ テラローシャ ウ レグール エ レス

3 下線部②について、ヨーロッパで発達した農業に関して述べた文として適切でないものを、次のア～エから1つ選んで、その符号を書きなさい。

ア 大都市近郊などで、現金収入を目的とする野菜や果樹・花きなどの栽培が、多くの資本を投入して集約的に行われてきた。

イ 地下水路によって供給される水や外来河川の水を用いて、ナツメヤシや小麦などの栽培が行われてきた。

ウ 三圃式農業から発達した、小麦、ライ麦などの穀物や飼料作物の栽培と家畜飼育を組み合わせた農業が行われてきた。

エ 牧草や飼料作物を栽培して乳牛を飼育し、生乳やバター、チーズなどの生産が行われてきた。

4 下線部③について、貿易の自由化に関して述べた文aとbの正誤の組合せとして適切なものを、あとのア～エから1つ選んで、その符号を書きなさい。

a GATTにより、工業製品を中心に関税の引き下げを図って自由貿易を促進したが、先進国間での貿易摩擦問題も頻発した。

b WTOでは、サービス貿易や投資の自由化、知的財産権の保護など、モノの貿易以外にも交渉が行われている。

ア a-正 b-正 イ a-正 b-誤 ウ a-誤 b-正 エ a-誤 b-誤

5 下線部④について、次の問いに答えなさい。

(1) 1993年にマーストリヒト条約が発効したことにより、初めて実現したこととして適切なものを、次のア～エから1つ選んで、その符号を書きなさい。

ア 加盟国の国境管理が廃止され、域内の人の移動が完全に自由化された。

イ 石炭や鉄鋼などの戦略物資を共有することを目的に共同体が設立された。

ウ 統一市場の実現に向けて、ヨーロッパ中央銀行が設立された。

エ 農業市場を統一し、域内の関税を撤廃した共通農業政策が採用された。

(2) 表2は、フランス、ポーランド、ギリシア、スウェーデンの1人あたりGNI、輸出額、輸入額、産業別人口構成を示している。ポーランドに該当するものを、次のア～エから1つ選んで、その符号を書きなさい。

表2

国名	1人あたり GNI(ドル)	輸出額 (百万ドル)	輸入額 (百万ドル)	産業別人口構成(%)		
				第1次	第2次	第3次
ア	56,090	154,152	148,385	1.7	18.2	80.1
イ	42,290	478,333	572,028	2.5	20.3	77.2
ウ	19,690	35,170	55,695	12.3	15.2	72.5
エ	15,350	270,939	257,064	9.6	31.8	58.6

(『データブック オブ ザ ワールド 2022』より作成)

6 下線部⑤について、地球規模の問題に関して述べた文として適切なものを、次のア～エから1つ選んで、その符号を書きなさい。

ア 地球温暖化を食い止めるため、京都議定書に代わる新たな枠組みとしてパリ協定が採択された。

イ 発展途上国では、工業化が進み、経済状態が大幅に改善したことから、1990年代半ばに南北問題は解消された。

ウ チタンやリチウムなどのレアメタルは、都市鉱山からのリサイクルが進み、世界規模で供給が過剰になっている。

エ 1960年代以降、OPECが世界の原油供給の主導権を握り、産油地が偏在しないよう北海油田等の新たな油田開発を進めている。

令5 高等学校地理歴史・公民 (9枚のうち7)

(解答はすべて、解答用紙に記入すること)

Ⅶ 次の文章を読み、あとの問いに答えなさい。

①地方自治は大きく団体自治と住民自治に二分される。住民自治においては国政では認められていない②直接請求権が認められている。しかし、戦後の日本において、地方公共団体の自立性は高いものではなく、財政面でも③地方税を中心とする自主財源の割合が少なく、残りを国から用途を指定されない (A) や地方債などの財源に頼ってきた。1990年代になると④地方分権改革が進められ、1999年には地方分権一括法が制定され、地方公共団体の仕事は、自治体が固有の事務として独自に処理できる (B) 事務と、本来国が果たす役割に関連したもので、自治体が処理する (C) 事務に分類された。しかし、これらの分権改革が長期的な不況や財政危機の時期に重なったため、地方財源は充実しなかった。1980年代以降には、国においても税制改革が進められ、1989年には⑤消費税を導入し、消費支出に「広く薄く」課税し、安定した財源を確保することをめざした。また、政府は租税だけで歳入を賄うことができない場合には⑥国債を発行することもある。

- 文中の (A) ~ (C) にあてはまる語句を書きなさい。
- 下線部①について、「地方自治は民主主義の学校」だと述べたイギリスの政治学者は誰か書きなさい。
- 下線部②について、直接請求権に関する次の文の空欄 (X)、(Y) にあてはまる語句の組合せを、あとのア~エから1つ選んで、その符号を書きなさい。

条例の制定や改廃の請求に必要な署名数は有権者の (X) 以上である。請求先は (Y) である。

ア X - 50分の1 Y - 議会 イ X - 3分の1 Y - 議会
ウ X - 50分の1 Y - 首長 エ X - 3分の1 Y - 首長

- 下線部③について、地方税として適切なものを、次のア~エから1つ選んで、その符号を書きなさい。
ア 固定資産税 イ 所得税 ウ 相続税 エ 法人税
- 下線部④について、地方分権改革に関連することがらとして適切なものを、次のア~エから1つ選んで、その符号を書きなさい。
ア 住民投票条例に基づく住民投票の結果に、法的拘束力の付与が義務づけられた。
イ きめ細かな住民サービスを提供するため、大きな市町村を分割する動きが進んだ。
ウ 独自課税が国の許可制から、総務大臣の同意を要する協議制へと緩和された。
エ 公共施設や道路整備が推進され、国からの補助金が増額された。
- 下線部⑤に関して述べた文aとbの正誤の組合せとして適切なものを、あとのア~エから1つ選んで、その符号を書きなさい。
a 商品やサービス等を購入した際に、消費者がその代金とともに税金を納める直接税である。
b 2000年代初めに行われた地方分権の動きの中で、税源がすべて地方公共団体に移譲された。
ア a - 正 b - 正 イ a - 正 b - 誤 ウ a - 誤 b - 正 エ a - 誤 b - 誤
- 下線部⑥に関して述べた次の文のうち、適切なものを次のア~エから1つ選んで、その符号を書きなさい。
ア 安易な国債発行は、財政危機を招き、経済への不安感からデフレーションを引き起こしたりした。
イ 国債の発行は、原則として公共事業の費用などをまかなう建設国債に財政法で限定されている。
ウ 第二次石油危機にともなって税収が大幅に減少した1975年度のみ、特例的な赤字国債が発行された。
エ 国債は、いったん日本銀行が直接引き受け、市中へ売却することが原則とされている。

Ⅷ 社会生活に関するあとの問いに答えなさい。

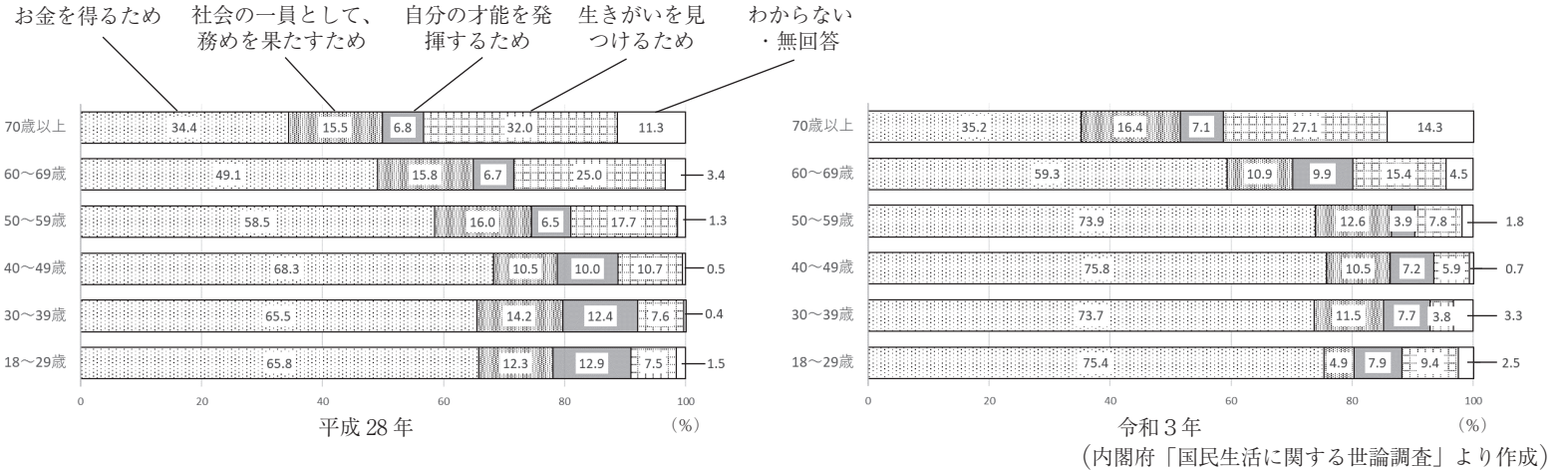
- 令和4年4月1日から成年年齢が18歳に引き下げられたことについて、次の問いに答えなさい。
 - 成年年齢を定めた法律の名称を漢字で答えなさい。
 - このことについて述べた文として適切でないものを、次のア~エから1つ選んで、その符号を書きなさい。
ア 18歳になると父母の親権に服さなくなる。 イ 婚姻開始の年齢が、男女とも18歳になる。
ウ 裁判員になることができる年齢は20歳のまま維持される。 エ 国民年金の加入義務は20歳のまま維持される。
- 人々は労働によって社会参画を行っている側面がある。このことについて、次の問いに答えなさい。
 - 1830年代から1850年代にイギリスで起こった、選挙法改正と社会変革を要求する急進派知識人と下層労働者の社会運動を何と
いうか、解答欄にあうようにカタカナ6字で答えなさい。
 - 日本の労働や雇用に関して述べた文として適切なものを、次のア~エから1つ選んで、その符号を書きなさい。
ア あらかじめ労働契約上雇用期間が定められている労働者を派遣労働者という。
イ 同一企業内における正社員と非正規労働者との間の不合理な待遇の差をなくすための法改正が行われた。
ウ 実際の労働時間に関係なく一定時間働いたとみなして賃金を支払うフレックスタイム制を導入する企業がある。
エ 高校生のアルバイトは雇用契約を伴わない非正規雇用であるため、労働基準法の適用を受けない。

令5 高等学校地理歴史・公民 (9枚のうち8)

(解答はすべて、解答用紙に記入すること)

(3) 次の図は、平成28年と令和3年の国民の「働く目的」についての意識調査の結果を年代別にまとめたものである。この図から読み取れることを述べた文として適切なものを、あとのア～オから1つ選んで、その符号を書きなさい。

図



- ア いずれの年代も、令和3年は平成28年と比べて、「お金を得るため」と回答した割合が10%以上増加している。
- イ いずれの年代も、令和3年は平成28年と比べて、「お金を得るため」と答えた割合が増加したのに対し、「自分の才能を発揮するため」と回答した割合が減少した。
- ウ 令和3年は平成28年と比べて、「生きがいを見つけるため」と回答した割合は、すべての年代の中で60～69歳の年代が最も大きく減少した。
- エ 平成28年、令和3年とも、40～49歳の年代において、「お金を得るため」以外の回答の割合が30%を超えている。
- オ 令和3年は平成28年と比べて、18～29歳の年代だけが「社会の一員として、務めを果たすため」と回答した割合が5%以上減少した。

3 成年年齢の引き下げは、契約や消費生活にも影響を与えている。このことについて、次の問いに答えなさい。

(1) 契約や消費生活について述べた次の文中の (X) ～ (Z) にあてはまる語句を、あとのア～キからそれぞれ1つ選んで、その符号を書きなさい。ただし、同じ記号には同じ語句が入る。

契約が成立すると、当事者同士は (X) を果たす必要が生じる。売買契約では、購入する側は代金を支払う (X) を果たすことで、販売する側に対して (Y) を持つことになる。契約や物の所有について、誰もが対等の立場にあることを (Z) の原則という。

- ア 情報の非対称性 イ 賠償責任 ウ 債権 エ 債務 オ 所有権絶対 カ 契約自由 キ 権利能力平等
- (2) 契約や消費生活に関して述べた文aとbの正誤の組合せとして適切なものを、あとのア～エから1つ選んで、その符号を書きなさい。

- a 成年年齢引き下げにより、18歳になると保護者の同意なく契約が結べるようになるが、クレジットカードの契約については、若年者保護の観点から、18歳、19歳は児童福祉法で特定少年とされ、継続して保護者の同意が必要である。
- b 訪問販売や連鎖販売取引など、消費者トラブルが起りやすい契約には、消費者契約法上のクーリング・オフ制度が適用され、一定の期間内であれば消費者から一方的に契約を解除できる。

ア a-正 b-正 イ a-正 b-誤 ウ a-誤 b-正 エ a-誤 b-誤

4 学校教育においては、社会とのつながりを意識した「生きる力」や、主体的に社会の形成に参画する態度の育成が一層求められている。これに関して述べた文として適切なものを、次のア～エから1つ選んで、その符号を書きなさい。

- ア 政治的教養の教育に関しては、教育基本法で「良識ある公民として必要な政治的教養は、教育上尊重されなければならない」と規定されている。
- イ 高等学校公民科科目「公共」においては、合意形成や社会参画を視野に入れた学習が設定されており、中学校社会・公民的分野においても、合意形成や社会参画に配慮した内容の取扱いが求められている。
- ウ キャリア教育については、中学校学習指導要領、高等学校学習指導要領とも、社会的・職業的自立に向けて必要な基礎となる資質・能力を、特別活動を中心に、各教科（・科目）等の特質に応じて充実することとされている。
- エ 「消費者に関する教育」については、児童生徒の発達段階を考慮し、小学校学習指導要領にはこれに関する記載はなく、中学校以降の教育課程に位置付けられている。

令5 高等学校地理歴史・公民解答用紙 (9枚のうち9)

総計		

I	1	A				B			
	2			3			4		
	5			6			7		

I		

II	1				2	(1)			(2)			3		
	4	(1)			(2)			(3)						
	5	(1)			(2)			(3)						

II		

III	1				2	(1)			(2)			3		
	4			5			6			7			8	

III		

IV	1			2			3			4				5		
	6			7			8			9						

IV		

V	1	A				B						
	2			3			4					
	5	(1)			(2)			(3)			(4)	

V		

VI	1														
	2	(1)			(2)			(3)			(4)				
	3			4			5	(1)			(2)			6	

VI		

VII	1	A				B				C			
	2				3			4			5		
	6			7									

VII		

VIII	1	(1)				(2)										
	2	(1)	運動			(2)			(3)							
	3	(1)	X			Y			Z			(2)			4	

VIII		

令5 高等学校地理歴史・公民 模範解答

総計	
200	

I	1	A	甲骨			B	洛邑			
	2	ウ		3	ア	4	ウ			
	5	イ	6	ア	7	エ	8	エ	9	ア

I	25		

II	1	アンシャンレジーム			2	(1)	イ	(2)	ウ	3	エ
	4	(1)	ウ		(2)	ア		(3)	ウ		
	5	(1)	イ	(2)	イ		(3)	イ			

II	25		

III	1	朱印状			2	(1)	イ	(2)	エ	3	ア
	4	エ	5	イ		6	エ	7	ウ	8	ア

III	25		

IV	1	ウ	2	エ	3	ウ	4	ビゴ		5	ア
	6	ア	7	イ	8	ア	9	イ			

IV	25		

V	1	A	実測 (一般)			B	ユニバーサル横メルカトル (UTM)				
	2	オ		3	ア	4	エ				
	5	(1)	イ	(2)	ウ		(3)	イ	(4)	イ	

V	25		

VI	1	ユーロ									
	2	(1)	エ	(2)	ウ	(3)	ケスタ		(4)	エ	
	3	イ		4	ア	5	(1)	ウ	(2)	エ	6

VI	25		

VII	1	A	地方交付税 (交付金)			B	自治		C	法定受託		
	2	ブライス			3	ウ	4	ア	5	ウ		
	6	エ		7	イ							

VII	25		

VIII	1	(1)	民法			(2)	ウ				
	2	(1)	チャーチスト		運動	(2)	イ	(3)	オ		
	3	(1)	X	エ	Y	ウ	Z	キ	(2)	エ	4

VIII	25		