



⑤ 中高 社会科問題の解答について (注意)

1. 解答はすべて、別紙のマークシートに記入すること。
2. マークシートは、電算処理するので、折り曲げたり、汚したりしないこと。また、マーク欄はもちろん、余白にも不要なことを書かないこと。
3. 記入は、HBまたはBの鉛筆を使って、ていねいに正しく行うこと。(マークシート右上の記入方法を参照) 消去は、プラスチック消しゴムで念入りに行うこと。
4. 名前の記入 名前を記入すること。
5. 教科名の記入 教科名に「社会」と記入すること。
6. 受験番号の記入 受験番号欄に5けたの数で記入したのち、それをマークすること。
7. 解答の記入
 - ア. 小問の解答番号は1から59までの通し番号になっており、例えば、20番を 20 のように表示してある。
 - イ. マークシートのマーク欄は、すべて1から0まで10通りあるが、各小問の選択肢は必ずしも10通りあるとは限らないので注意すること。
 - ウ. どの小問も、選択肢には①、②、③……の番号がついている。
 - エ. 各問いに対して一つずつマークすること。

(マークシート記入例)

フリガナ ユウベ タロウ 名前 神戸 太郎	教科名 社会
--------------------------	--------

	受験番号	小問 番号	解答記入欄	小問 番号	解答記入欄	小問 番号	解答
			1 - 25		26 - 50		51
数字で記入……	1 2 3 4 0	1	●	26	○	51	○
	● ○ ○ ○ ○ ○	2	○	27	○	52	○
	○ ● ○ ○ ○ ○	3	○	28	○	53	○
	○ ○ ○ ○ ○ ●	4	○	29	○	54	○
	○ ○ ○ ● ○ ○	5	○	30	○	55	○
	○ ○ ○ ○ ○ ○	6	○	31	○	56	○
	○ ○ ○ ○ ○ ○	7	○	32	○	57	○
	○ ○ ○ ○ ○ ○	8	○	33	○	58	○
	○ ○ ○ ○ ○ ○	9	○	34	○	59	○
	○ ○ ○ ○ ○ ○	10	○	35	○	60	○
	○ ○ ○ ○ ○ ○	11	○	36	○	61	○

PROBING
THE
FUTURE

【1】 次の問いに答えよ。

(1) 「小学校（中学校）学習指導要領解説 特別の教科 道徳編」（平成29年7月 文部科学省）における道徳教育に関する記述のうち、適切でないものを①～⑤から選び、番号で答えよ。

- ① 特定の価値観を押し付けたり、主体性をもたず言われるままに行動するよう指導したりすることは、道徳教育が目指す方向の対極にある。
- ② 多様な価値観の、時に対立がある場合は、対立が大きくならないように、問題に触れないように振る舞うことが、道徳教育で養うべき基本的資質である。
- ③ 道徳教育は、自己の生き方を考え、主体的な判断の下に行動し、自立した一人の人間として他者と共によりよく生きるための基盤となる道徳性を養うことを目標とする。
- ④ 学校における道徳教育は、特別の教科である道徳科を要として学校の教育活動全体を通じて行うものである。
- ⑤ 学校における道徳教育は、児童（*生徒）の発達の段階を踏まえて行わなければならない。（*は、中学校、特別支援学校中学部）

1

(2) 次の文は、「小学校（中学校）学習指導要領解説 特別の教科 道徳編」（平成29年7月 文部科学省）における道徳科の目標の一部である。（ア）～（ウ）にあてはまる適切な語句の組合せを①～⑤から選び、番号で答えよ。

よりよく生きるための基盤となる道徳性を養うため、（ア）についての理解を基に、自己を見つめ、物事を（*広い視野から）（イ）に考え、自己の（*人間としての）生き方についての考えを深める学習を通して、道徳的な判断力、心情、（ウ）と態度を育てる。

（*は、中学校、特別支援学校中学部）

- ① （ア） 道徳的諸価値 （イ） 多面的・多角的 （ウ） 実践意欲
- ② （ア） 道徳的諸価値 （イ） 総合的 （ウ） 論理的思考力
- ③ （ア） 人権 （イ） 多面的・多角的 （ウ） 論理的思考力
- ④ （ア） 人権 （イ） 総合的 （ウ） 実践意欲
- ⑤ （ア） 道徳的諸価値 （イ） 多面的・多角的 （ウ） 論理的思考力

2

- (3) 「小学校（中学校）学習指導要領解説 特別の教科 道徳編」（平成29年7月 文部科学省）「第3章 道徳科の内容」では、指導すべき内容項目をA B C Dの4つの視点で分類整理し、その内容を端的に表す言葉を付記したものを見出しにして、内容項目ごとの概要、（*学年段階ごとの）指導の要点を示している。次のアとイはA B C Dのどの視点に分類されるものであるか、適切な組合せを①～⑤から選び、番号で答えよ。（*は、小学校、特別支援学校小学部）

ア [礼儀]

イ [伝統と文化の尊重, 国家や郷土を愛する態度]

項目

- A 「主として自分自身に関すること」
B 「主として人との関わりに関すること」
C 「主として集団や社会との関わりに関すること」
D 「主として生命や自然, 崇高なものとの関わりに関すること」

- ① ア A イ B
② ア A イ C
③ ア B イ C
④ ア B イ D
⑤ ア C イ B

【2】 次の問いに答えよ。

- (1) 「中学校学習指導要領解説 社会編」(平成29年3月 文部科学省) の内容の一部である。文中の(ア)～(ウ)にあてはまる語句の適切な組合せを①～⑤から選び、番号で答えよ。

中学校社会地理的分野においては、「世界の諸地域の学習」において(ア)を主題として取り上げた学習を充実させるとともに、(イ)教育に関して空間情報に基づく危険の予測に関する指導を充実させるなどの改善を行う。

公民的分野においては、防災情報の発信・活用に関する指導、情報化などの知識基盤社会化による産業や社会の構造的な変化やその中での起業に関する扱い、選挙権年齢引き下げに伴う(ウ)に関する指導を充実させるなどの改善を行う。

- | | | |
|-----------------|-----------|-----------|
| ① (ア) 地球規模の課題等 | (イ) 防衛・安全 | (ウ) 消費活動等 |
| ② (ア) 世界各国の文化等 | (イ) 防犯・安全 | (ウ) 消費活動等 |
| ③ (ア) 世界各国の文化等 | (イ) 防災・安全 | (ウ) 政治参加等 |
| ④ (ア) 地球規模の課題等 | (イ) 防災・安全 | (ウ) 政治参加等 |
| ⑤ (ア) 世界各地の民族紛争 | (イ) 防犯・安全 | (ウ) 政治参加等 |

4

- (2) 「中学校学習指導要領」(平成29年3月 文部科学省) における社会科の目標の一部である。文中の(ア)～(ウ)にあてはまる語句の適切な組合せを①～⑤から選び、番号で答えよ。

社会的事象について、よりよい社会の実現を視野に課題を(ア)に解決しようとする態度を養うとともに、多面的・多角的な考察や深い理解を通して涵養される我が国の国土や歴史に対する愛情、(イ)を担う公民として、自国を愛し、その平和と繁栄を図ることや、(ウ)を尊重することの大切さについての自覚などを深める。

- | | | |
|-----------|----------|--------------|
| ① (ア) 主体的 | (イ) 国民主権 | (ウ) 他国や他国の文化 |
| ② (ア) 多面的 | (イ) 国民主権 | (ウ) 我が国の伝統文化 |
| ③ (ア) 主体的 | (イ) 国際社会 | (ウ) 我が国の伝統文化 |
| ④ (ア) 多面的 | (イ) 国際社会 | (ウ) 他国や他国の文化 |
| ⑤ (ア) 主体的 | (イ) 国民主権 | (ウ) 我が国の伝統文化 |

5

- (3) 「高等学校学習指導要領解説 公民編」(平成30年7月 文部科学省)の一部である。下線部 a～c の正誤の適切な組合せを①～⑤から選び、番号で答えよ。

「公共」は、小・中学校社会科や地理歴史科などで育んだ資質・能力を用いるとともに、現実社会の諸課題の解決に向け、a 自己と社会との関わりを踏まえ、社会に参画する主体としてb 自立することや、c 法や規則を通してよりよい社会を形成することなどについて考察する必履修科目として設定しており、こうした科目固有の性格を明確にした指導が求められる。

- ① a ○ b ○ c ○
② a ○ b ○ c ×
③ a ○ b × c ○
④ a × b ○ c ○
⑤ a × b × c ○

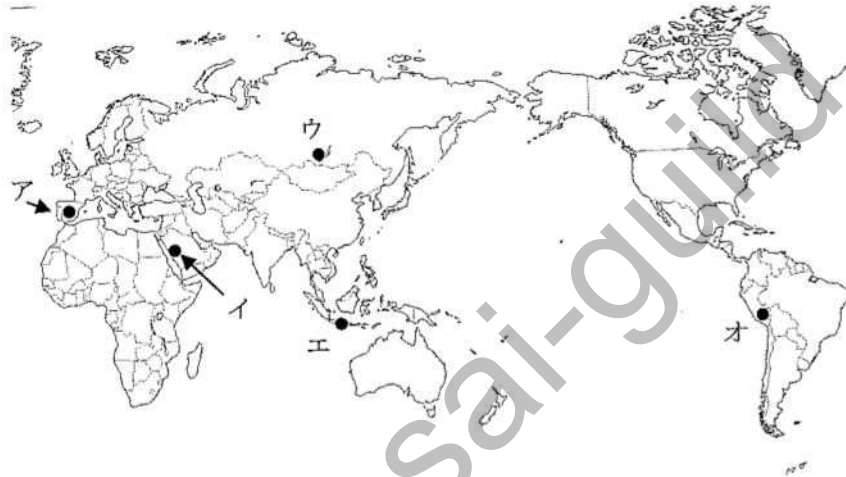
【3】 地理に関する次の問いに答えよ。

(1) 次の図は、世界のおもなプレートの分布とその動き (➡) を示している。この図からわかる世界の地形等についての説明として適切なものを①～⑤から選び、番号で答えよ。



- ① 地球上を覆っているプレートとは大陸のことを指し、大陸はいずれもゆっくりと水平方向に滑り動いている。
- ② 日本は、フィリピン海プレートと北アメリカプレートとインド・オーストラリアプレートとユーラシアプレートの境界に位置している。
- ③ 大西洋でプレートとプレートが狭まる場所では、大西洋中央海嶺のような海底山脈がみられる。
- ④ ヒマラヤ山脈は、インド・オーストラリアプレートとユーラシアプレートが衝突する場所に位置している。
- ⑤ 地震の多いインドネシアは、フィリピン海プレートと太平洋プレートの境界に位置している。

(2) 次のア～オの地域における伝統的な暮らし等に関する記述として適切な組合せを①～⑤から選び、番号で答えよ。



- A この地域の伝統的な家は、柱や壁に木材を使い、屋根は草などを重ねて作られる。床は地面から離れた高床になっていて、家の中に湿気がこもらないように工夫されている。
- B この地域の伝統的な衣服は、日中の強い日ざしや砂ほこりから身を守るために、長袖で、丈の長いものを着ている。伝統的な家には、土をこねて作った日干しレンガを利用している。
- C この地域の家の多くは、夏の強い日ざしをさえぎるために窓が小さく、壁も厚く作られている。強い日ざしをはねかえして家の中を涼しく保つために、壁を石灰で白く塗った家もある。
- D この地域の建物の多くは高床になっており、窓は二重、三重に作られ壁も30cmほどの厚みがある。町の暖房センターから送られてくる温水を使った暖房によって、部屋の中は薄着で過ごせるほど暖かく保たれている。
- E 1日の昼と夜の気温差が20～30℃と大きく、夜は0℃くらいまで冷え込むため、人々はアルパカの毛で作った衣服を重ね着して帽子をかぶり、高地の寒さと強い紫外線を防いでいる。

- ① A ア B エ C イ D オ E ウ
 ② A イ B オ C ウ D エ E ア
 ③ A イ B エ C オ D ア E ウ
 ④ A エ B イ C ア D ウ E オ
 ⑤ A エ B ウ C イ D ア E オ

- (3) 次の表は、1990年から2015年における5か年ごとの世界各国の茶の生産量を表したものである。この表について、おおまかな傾向や全体の様子などをわかりやすくするためにグラフへ変換する際の説明A～Cの正誤の組合せとして適切なものを①～⑤から選び、番号で答えよ。

(万t)

	1990年	1995年	2000年	2005年	2010年	2015年
インド	68.8	75.4	82.6	89.3	99.1	123.3
中国	56.2	60.9	70.4	95.4	146.7	224.9
スリランカ	23.3	24.6	30.6	31.7	28.2	34.2
ケニア	19.7	24.5	23.6	32.9	39.9	39.9
4カ国合計	168.0	185.4	207.2	249.3	313.9	422.3

- A インドや中国といった各国の茶の生産量について、5年ごとの増減を表す際には折れ線グラフが有効であるが、各国の折れ線グラフから、4カ国の茶の生産量の合計がどのくらい増えたのかを調べるには適していない。
- B 2015年の4カ国の茶の生産量が、世界全体でどのくらいの割合であるかを表す際には、円グラフや帯グラフが有効であるが、生産量総数の変化は一目ではわかりにくい。
- C 2000年の4カ国の茶の生産量を比較する場合には、棒グラフが有効であり、全生産量に占める各国の割合もわかる。

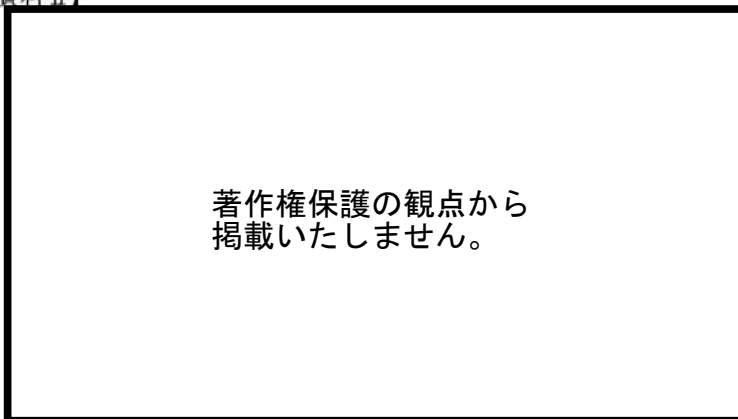
- ① A ○ B ○ C ○
 ② A ○ B ○ C ×
 ③ A ○ B × C ○
 ④ A × B ○ C ○
 ⑤ A × B × C ×

(4) 次の資料Ⅰは、世界の穀物自給率と1 haあたりの穀物収量を、資料Ⅱは世界の穀物の使われ方を示したものである。資料Ⅰ、Ⅱを参照しつつ、世界の食糧問題に関する記述のうち適切なものを①～⑤から選び、番号で答えよ。

【資料Ⅰ】

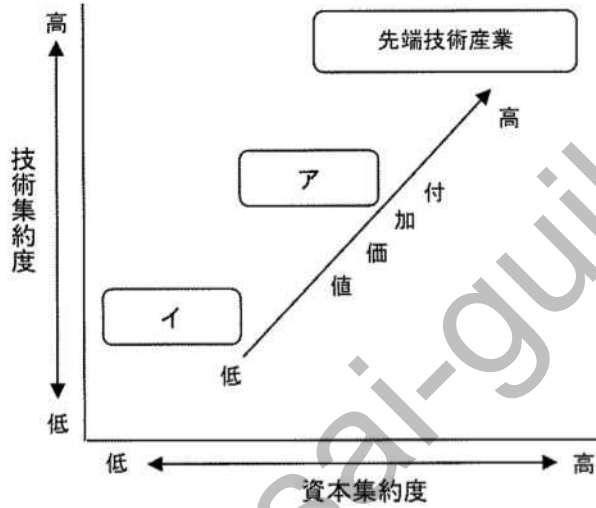


【資料Ⅱ】



- ① 日本の穀物自給率が低いのは、1 haあたりの穀物収量が他国に比べて低いからである。
- ② アフリカ大陸の各国では、穀物自給率が低く、穀物を自給できている国はない。
- ③ バングラデシュの1 haあたりの穀物収量は日本とほぼ同じレベルであるが、栽培されたものはほとんどが自給用であり、輸出はされていない。
- ④ アメリカ合衆国は、穀物の多くを飼料用に用いているため、穀物を輸入している。
- ⑤ 世界全体と開発途上国の平均を比べると、開発途上国の平均の方が穀物を飼料用に使用している割合が少ない。

(5) 次の図を参照し、(ア)～(エ)に当てはまる語句の適切な組合せを①～⑤から選び、番号で答えよ。



技術集約度と資本集約度が共に高いことが必要であるのが先端技術産業であるが、工業の付加価値を高めるためには、技術と資本を集約することが求められる。

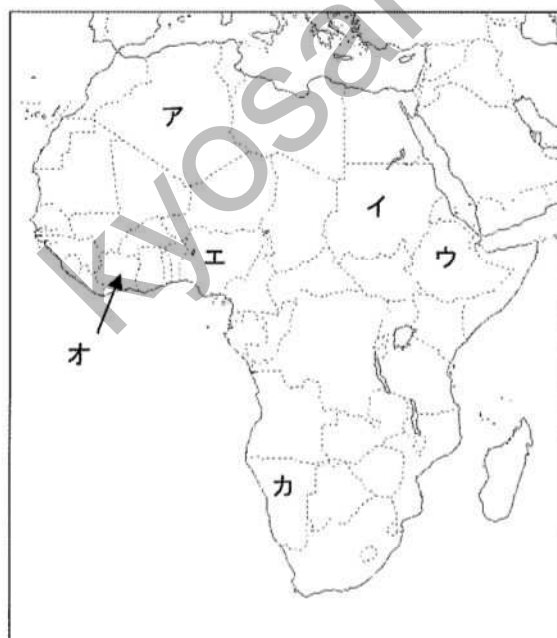
技術集約度と資本集約度が中程度であるのが(ア)で、低いのが(イ)である。(ア)の工業の例として挙げられる鉄鋼は、(ウ)志向型工業である。一方、(イ)の工業の例として挙げられるのは衣服であるが、衣服は(エ)志向型工業である。

- | | | | |
|-------------|-----------|---------|---------|
| ① (ア) 重化学工業 | (イ) 軽工業 | (ウ) 原料 | (エ) 市場 |
| ② (ア) 軽工業 | (イ) 重化学工業 | (ウ) 労働力 | (エ) 原料 |
| ③ (ア) 軽工業 | (イ) 重化学工業 | (ウ) 労働力 | (エ) 市場 |
| ④ (ア) 重化学工業 | (イ) 軽工業 | (ウ) 市場 | (エ) 原料 |
| ⑤ (ア) 重化学工業 | (イ) 軽工業 | (ウ) 原料 | (エ) 労働力 |

(6) 次のA～Cはコートジボワール、ナイジェリア、エチオピアのいずれかにおける2018年の輸出品目である。A～Cが示す国名とその位置の正しい組合せを①～⑤から選び、番号で答えよ。

単位 (百万ドル)					
A		B		C	
コーヒー豆	377	カカオ豆	3,576	原油	51,371
野菜・果実	295	石油製品	1,119	液化天然ガス	6,151
ごま	282	金 (非貨幣用)	1,078	船舶	1,493
肉類	102	野菜・果実	1,031	石油ガス	490
機械類	79	天然ゴム	906	液化石油ガス	309

『2021/22 世界国勢図会』より作成



- ① A コートジボワール：ア B エチオピア：イ C ナイジェリア：ウ
 ② A コートジボワール：エ B ナイジェリア：ウ C エチオピア：ウ
 ③ A エチオピア：イ B コートジボワール：エ C ナイジェリア：ア
 ④ A エチオピア：ウ B コートジボワール：オ C ナイジェリア：エ
 ⑤ A ナイジェリア：ウ B エチオピア：カ C コートジボワール：オ

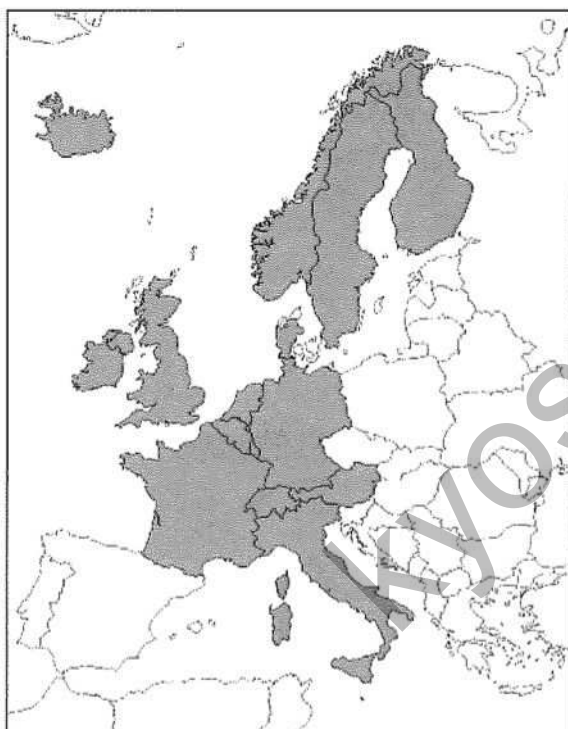
(7) 次の図は、世界の各地域における牛の頭数と豚の頭数を表したものである。これらを参照し、世界の牧畜業等に関する記述として適切なものを①～⑤から選び、番号で答えよ。



- ① 乾燥気候区では、乾燥に弱い豚の飼育が難しいことから、牛が飼育されている地域が多い。
- ② ヨーロッパでは、牛肉を食肉の中心とするので、豚の飼育数が牛の飼育数よりも少ない。
- ③ インドで牛の頭数が多いのは、植民地時代に牛肉を食する文化が導入されたことによる。
- ④ 大きな資本と最新の農業技術を用いた企業的牧畜が行われているのは牛や豚の頭数が多い中国である。
- ⑤ 北アフリカから中央アジアで豚の飼育が見られないのは、これらの地域には豚を忌避するヒンドゥー教徒が多いからである。

(8) 次の資料Ⅰと資料Ⅱでは、ある条件に当てはまる国に着色をおこなっている。資料Ⅰと資料Ⅱにおける着色の条件の適切な組合せを①～⑤から選び、番号で答えよ。

【資料Ⅰ】 2019年統計



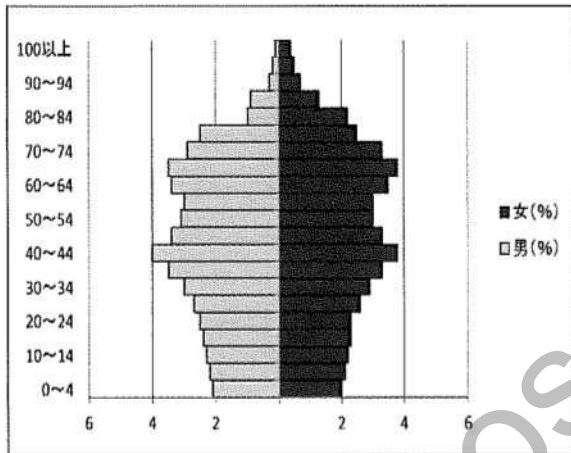
【資料Ⅱ】 2022年3月現在



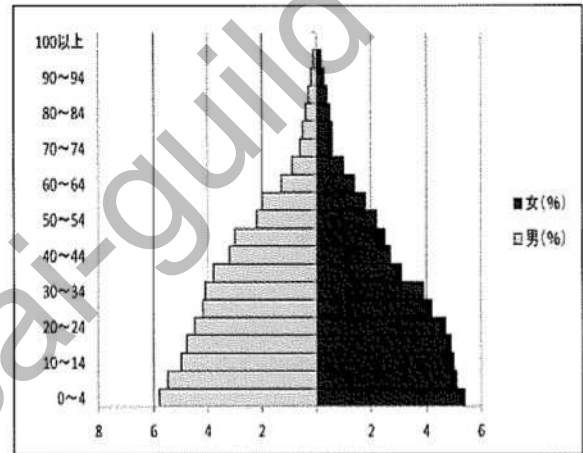
	資料Ⅰ	資料Ⅱ
①	人口の自然増加数がプラス	EU加盟国
②	国民1人あたりのGDPが3万ドル以上	EU加盟国
③	EUの発足当時の加盟国	人口の自然増加数がプラス
④	国民1人あたりのGDPが3万ドル以上	人口の自然増加数がプラス
⑤	人口の自然増加数がプラス	NATO加盟国

(9) 次のグラフは、人口ピラミッドである。グラフのア～ウの説明と、日本における人口ピラミッドの変化を古い順に並べたものとの組合せとして適切なものを①～⑤から選び、番号で答えよ。

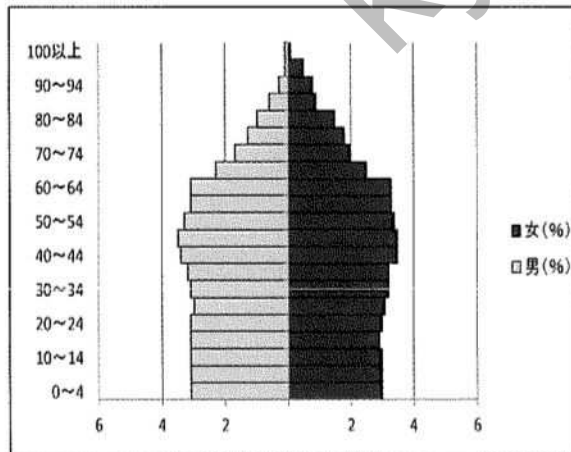
ア



イ



ウ



- A 出生率、死亡率ともに高い型
- B 出生率、死亡率ともに低い人口停滞型
- C 出生率、死亡率ともに低下している人口減少型

	ア	イ	ウ	順番
①	A	C	B	ア→ウ→イ
②	B	C	A	ウ→ア→イ
③	C	A	B	イ→ウ→ア
④	B	A	C	イ→ウ→ア
⑤	C	B	A	ア→ウ→イ

(10) 次の表は、日本の耕地面積（田畑）の推移を示したものである。この表から読み取れることと、その背景について述べた文章として適切でないものを①～⑤から選び、番号で答えよ。

【表】

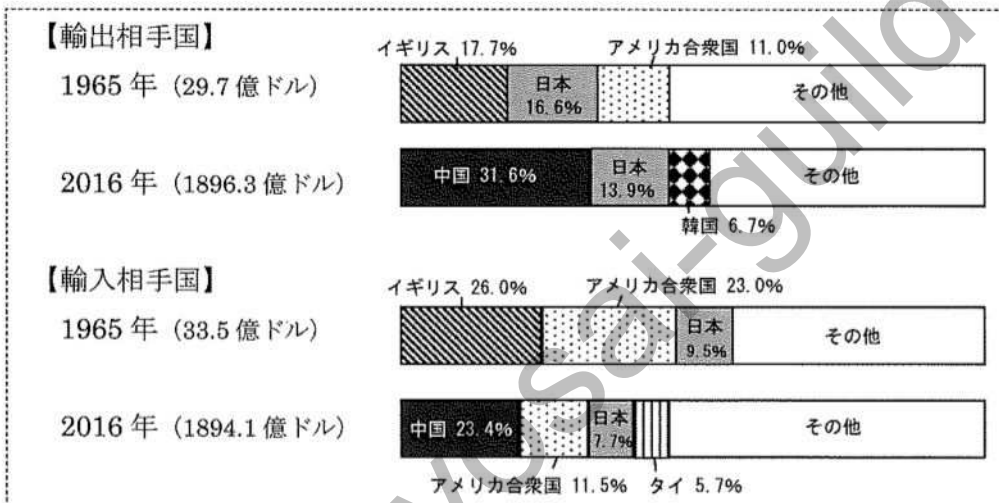
単位：千ha

	1960年	1980年	2000年	2018年	2019年
耕地面積計	6,071	5,461	4,830	4,420	4,397
田	3,381	3,055	2,641	2,405	2,393
畑	2,690	2,406	2,189	2,014	2,004
作付（栽培）延べ面積	8,129	5,706	4,563	4,048	4,019

- ① 1960年から2019年まで、耕地面積は減少してきているが、これは田の面積が減少してきたことが耕地面積全体の減少の要因となっている。
- ② 1960年に耕地面積計よりも作付（栽培）延べ面積が大きいのは、1年の間に複数回利用される耕地面積が多かったと考えられる。
- ③ 2000年以降、耕地面積計よりも作付（栽培）延べ面積が小さくなっているのは、耕作放棄地が増加していることを示している。
- ④ 1960年と2019年の田の面積を比べると、田の面積の減少率は畑の減少率よりも大きい。
- ⑤ 2000年以降、耕地面積と作付（栽培）延べ面積がともに減少している一つの背景に、農業人口の減少と高齢化による後継者不足が挙げられる。

(11) 次の資料を参照し、空欄 (ア)、(イ) に当てはまる語句の組合せとして適切なものを①～⑤から選び、番号で答えよ。

【資料】



資料が示しているのは、(ア) の1965年と2016年の貿易相手国の変化である。1965年に輸出入ともに1位を占めていたイギリスとの貿易は1973年の(イ) を契機にしだいに減少していき、2016年の主要貿易相手国は、中国や日本、アメリカ合衆国などのアジア・太平洋圏の国々へと変化した。

- | | |
|------------|-----------|
| (ア) | (イ) |
| ① ニュージーランド | イギリスのEC加盟 |
| ② ニュージーランド | APEC加盟 |
| ③ オーストラリア | イギリスのEC加盟 |
| ④ オーストラリア | イギリスからの独立 |
| ⑤ オーストラリア | APEC加盟 |

(12) 瀬戸内海沿岸で盛んな農牧業の説明として適切なものを①～⑤から選び、番号で答えよ。

- ① 多くの雨が降るが、古い火山の噴出物が厚く積もってできた台地が広がることから、大規模な地下ダムを建設して、農業用水として利用している。
- ② 雨が多く、暖かい気候が木の生育に適しているため、豊かな森林が広がり、古くから林業が行われてきた。
- ③ 温暖な気候を生かして、日照りや台風にも強いさとうきびの栽培が盛んである。
- ④ 温暖な気候を生かして、夏が旬であるナスやピーマンなどの野菜を端境期の冬から春にかけて出荷するため、ビニールハウスを利用した促成栽培が盛んである。
- ⑤ 1年中温暖で日照時間が長い、降水量の少ない気候のため、水不足になりやすく、農業用のため池や用水路が整備されてきた。

18

(13) 日本に見られる地形に関する説明として適切なものを①～⑤から選び、番号で答えよ。

- ① 河道の近くには、洪水時に水と一緒にあふれ出た土砂が堆積して、河岸段丘とよばれる微高地を形成する。
- ② 河川の河口付近には、河川の流れが減速して河川は運搬力を失うため、土砂が堆積して三角江（エスチュアリー）が形成される。
- ③ 扇状地では扇端では河川が伏流するが、扇央では水が湧き出てくることから、水田が開かれている。日本で扇状地が見られるのは伊那盆地である。
- ④ 起伏の大きい山地などが海面下に沈むことで形成される沈水海岸は、平坦な海岸線を形成し、階段状の台地である海岸段丘を形成することがある。
- ⑤ 砂が沿岸流に運ばれて堆積すると砂浜に砂州が形成される。堆積により砂州が長くのびると、陸と島が地続きになって陸繋島ができる。

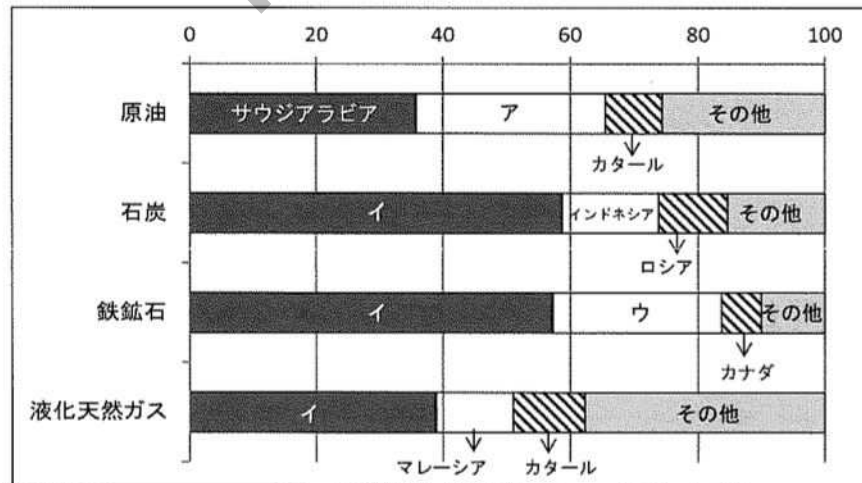
19

(14) 日本の工業の変化に関する記述として、適切なものを①～⑤から選び、番号で答えよ。

- ① 明治以降、日本の工業は製鉄などの重化学工業から始まり、繊維工業などの軽工業に進み、海外への輸出を増加させるとともに、造船業が活発になっていた。
- ② 第2次世界大戦後、原油や鉄鉱石などを輸入するのに便利な製鉄所や石油化学コンビナートが太平洋岸につくられ、中継貿易を中心に発展していった。
- ③ 1970年代以降は、輸送機械工業や電気機械工業などが発展し、輸送に便利な鉄道の駅を中心に内陸部にも工業地域が形成されていった。
- ④ 1980年代には、外国製品との競争の中で貿易摩擦が生じたが、日本企業は国内での生産に力を入れ、輸出を増加し、日本製品は世界各地に売られ、貿易赤字は解消された。
- ⑤ 現在、企業の工場海外移転による国内生産が衰退し、産業の空洞化が問題となっており、中国などのアジア諸国の急成長から、機械工業などの分野で競争が激しくなっている。

20

(15) 次の図は、日本で消費している資源の輸入先を示したものである。図中の空欄ア～ウにあてはまる国名の組合せとして適切なものを①～⑤から選び、番号で答えよ。



「2019年財務省 貿易統計」より

	ア	イ	ウ
①	アメリカ合衆国	中国	ブラジル
②	アメリカ合衆国	オーストラリア	ロシア
③	イラン	中国	チリ
④	アラブ首長国連邦	オーストラリア	ブラジル
⑤	アラブ首長国連邦	インドネシア	チリ

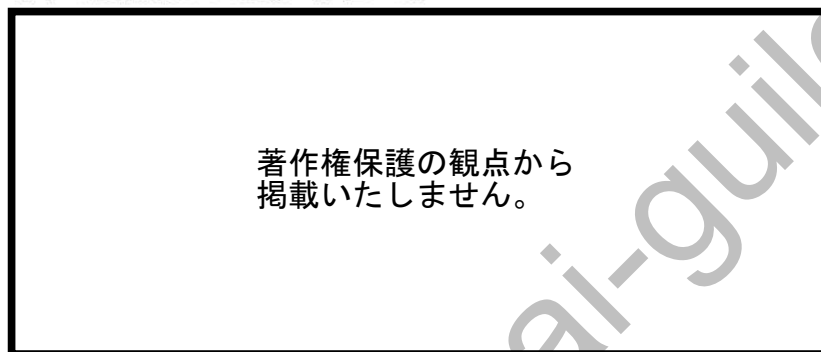
21

(16) レアメタルに関する記述として適切なものを①～⑤から選び、番号で答えよ。

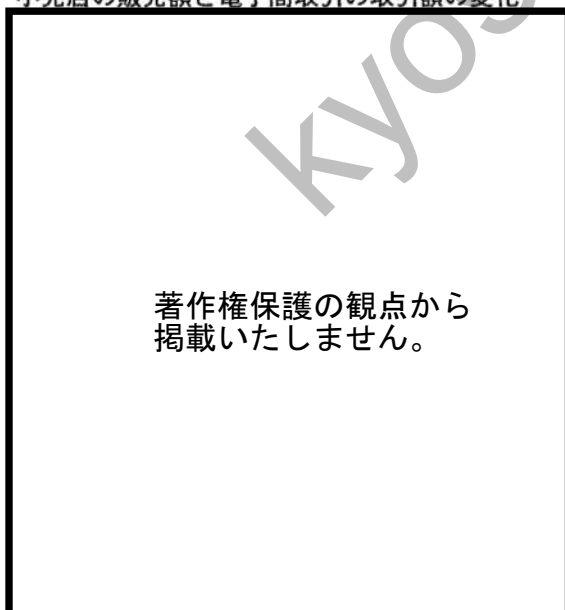
- ① レアメタルは、地球上に豊富に産出しているが、純粋なものを取り出すことが難しい金属であり、高度な技術をもっている先進工業国で産出が多い。
- ② レアメタルのうち、希土類17種を総称してレアアースと呼ぶ。レアアースはアメリカが世界の生産量の大部分を占めている。
- ③ 廃棄物から鉱物を解体・分離して不要物質を除去し、再利用が可能な金属に素材化する技術はほとんど確立されておらず、そうした技術を確認することが都市鉱山の利用を進めるにあたっての課題となっている。
- ④ 近年、「地上資源」としての活用に注目が集まっている都市鉱山であるが、電気・電子機器廃棄物に対して資源であるという考えが浸透しておらず、パソコンなどの廃棄物が本来の価格より安価に海外に放出されていることが課題となっている。
- ⑤ レアメタルは半導体や特殊合金の材料となり、先端技術産業には欠かせないものであることから、国際管理が進み、日本国内の安定供給が脅かされたことはない。

(17) 次の図は、日本における産業別人口の割合の変化と、小売店での販売額と電子商取引の取引額の変化を示したグラフである。図Ⅰと図Ⅱを参照して以下の問いに答えよ。

図Ⅰ 日本の産業別人口の推移 (単位：%)



図Ⅱ 小売店の販売額と電子商取引の取引額の変化



a. 日本における商業やサービスの形態変化に関する説明として適切なものを①～⑤から選び、番号で答えよ。

- ① 時代とともに、医療や福祉に従事する第1次産業人口が減少してきている。
- ② かつては産業の空洞化が見られたが、サプライチェーン確保のため、製造業が国内に戻り、第3次産業人口が増加している。
- ③ 1980年代の商業の中心は、デパートや大型スーパーマーケットである。
- ④ 1990年代には電子商取引額が大きく伸びて、デパートの販売額が減少している。
- ⑤ 2000年代は、電子商取引額が増加する一方で、コンビニエンスストアや大型スーパーの販売額は減少している。

b. 情報通信技術（ICT）の活用やそのメリットやデメリットに関する説明として適切でないものを①～⑤から選び、番号で答えよ。

- ① インターネットを利用した電子商取引は、高齢者など自動車の運転ができない人や離島に住む人でも買い物ができるというメリットがある。
- ② インターネットや国際電話を使って、世界中の人々と情報の交換や商品の取引ができるようになったというメリットがある。
- ③ 情報通信技術を利用できる人と、利用できない人との間で情報格差が生まれていることがデメリットである。
- ④ ICTの活用は教育の分野でも導入されており、情報活用能力を育成することや、教科の学習目標を達成することなどを目的としている。
- ⑤ 日本では、大企業におけるICT化は進んでいるが、農業などではICTの活用がまったく進んでいない。

【4】歴史に関する次の問いに答えよ。

(1) 次の史料に関する説明として適切なものを①～⑤から選び、番号で答えよ。



- ① 史料は東三条殿の模型図であり、寝殿造の邸宅である。
- ② 史料は円覚寺の舍利殿の模型図であり、禅宗様の代表建築である。
- ③ 史料は厳島神社の模型図であり、航海の安全を祈願した建築である。
- ④ 史料は慈照寺の模型図であり、銀閣が見て取れる。
- ⑤ 史料は龍安寺の模型図であり、中央部に石庭が見られる。

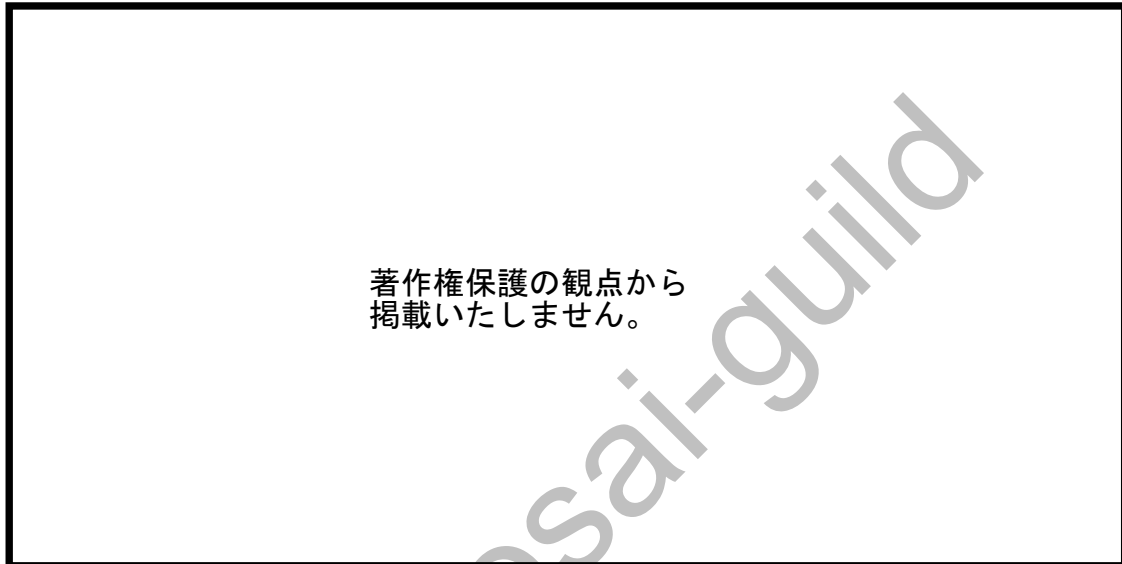
25

(2) 古代の土地制度に関する説明として適切でないものを①～⑤から選び、番号で答えよ。

- ① 初期荘園の多くは、国司や郡司の力によって経営されていた。
- ② 国司の地方支配が強化されたのちは、国司が不輸を認める国免荘が生まれた。
- ③ 開発領主の中には、所領を中央の貴族や寺院に寄進する者も現れた。
- ④ 寄進を受けた貴族などが、さらに上級の天皇家や摂関家に寄進することがあった。
- ⑤ 警察権の介入を拒める不輸の権を得た荘園は国家の手が及ばぬ領域となった。

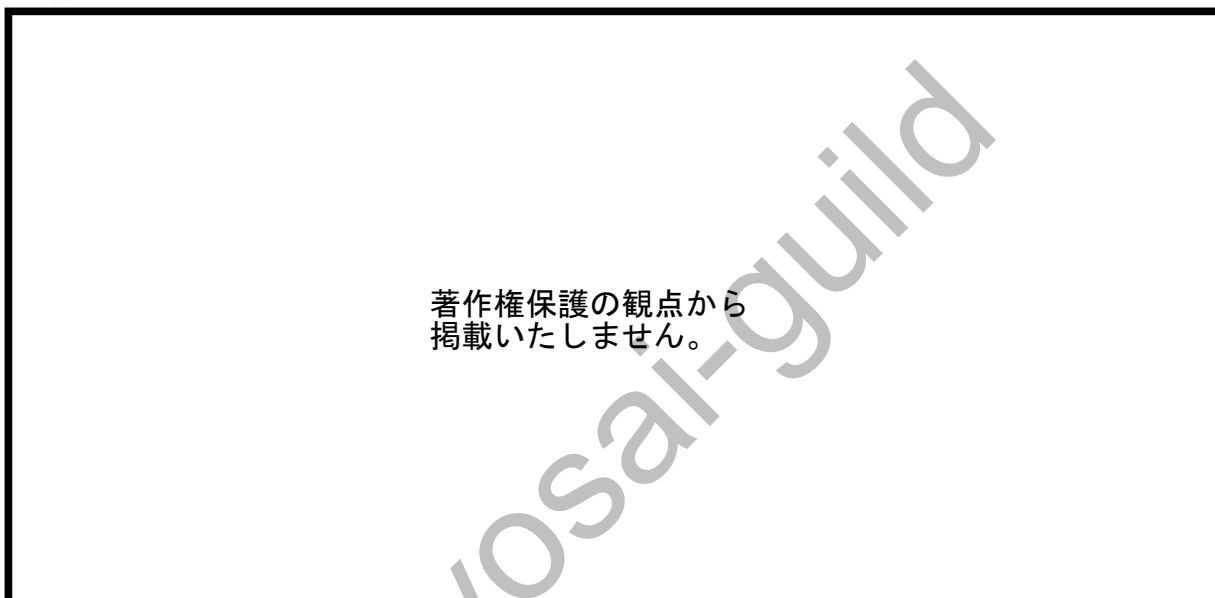
26

(3) 次の資料を参考に、鎌倉幕府に関する説明として適切なものを①～⑤から選び、番号で答えよ。



- ① 源頼朝は地図で示された地に鎌倉幕府を開いた。地図中のア～ウは鎌倉幕府の所在地を指している。
- ② 源頼家が重病になると、北条氏が後見していた頼家の弟に將軍職を後継させようという動きが強まった。地図中のア～ウは北条氏が頼家に強制した住居である。
- ③ 承久の乱後、鎌倉幕府は上皇側の人々を厳しく罰した。ア～ウは、後鳥羽上皇、土御門上皇、順徳上皇が配流された場所を指している。
- ④ 北条時頼は政治の実権を得宗に集中させるために、幕府の有力者であった九条道家、藤原頼経、三浦康村らを地図中のア～ウで示された地に返し失脚させた。
- ⑤ 地図中央を流れる川の下流は博多湾になっており、文永の役後、鎌倉幕府はア～ウの位置に石築地を築かせて再度の元軍による侵略に備えた。

(4) 次の史料に関する文の空欄（ア）～（ウ）にあてはまる語句の適切な組合せを①～⑤から選び、番号で答えよ。



- | | | | |
|---|-----------|------------|-------------|
| ① | (ア) 夜襲や悪口 | (イ) 天皇の命令書 | (ウ) 機密文書漏洩 |
| ② | (ア) 夜襲や悪口 | (イ) 徳政令 | (ウ) 機密文書漏洩 |
| ③ | (ア) 夜襲や悪口 | (イ) 天皇の命令書 | (ウ) 戦のでっちあげ |
| ④ | (ア) 強盗や一揆 | (イ) 徳政令 | (ウ) 戦のでっちあげ |
| ⑤ | (ア) 強盗や一揆 | (イ) 天皇の命令書 | (ウ) 機密文書漏洩 |

28

(5) 中世の自治に関する説明として適切なものを①～⑤から選び、番号で答えよ。

- ① 鎌倉時代初期の村は、村方三役と呼ばれる代表者による運営がなされていたが、鎌倉幕府の支配力が強く、自治と呼べるほどの状態ではなかった。
- ② 鎌倉時代には自治が進むことで、自ら海運による貿易を行う商人も現れた。京都と鎌倉の間では、そのような商人による樽廻船や菱垣廻船の就航がはじまった。
- ③ 室町時代の中ごろには、全国に通用する日本独自の貨幣が登場し、これが自治的な村の運営を可能にした。
- ④ 戦国時代になると、京都では富裕な商工業者である町衆から選出された月行事を中心に自治的な運営がなされた。
- ⑤ 戦国時代の博多は、対外貿易で栄えており、豪商たちの中から36人の会合衆が出て、自治が行われた。

29

(6) 次のア～オの説明は日本の土地制度に関するものである。年代が古い順に並べ替えたものとして適切なものを①～⑤から選び、番号で答えよ。

ア 納税のための土地の調査の際、それまで地域によってばらばらだったものさしやますは統一され、予想される収穫量が石高で表された。

イ 灌漑施設を新設して墾田したものには三世のあいだ、旧来の施設を利用した場合は本人一代のあいだ、その田地の保有を認めた。

ウ 農民が田畑を手放して没落するのを防ぐために田畑永代売買禁止令が出され、その30年後には分割相続による経営規模の零細化を防ぐための法令も出た。

エ 税制度の改革にともない、地価を決定し、土地の所有者に地価に対する一定の割合を現金で納めさせることとした。

オ 近江、美濃、尾張の三か国の荘園年貢の半分が1年間だけ兵糧料所として守護に預けられた。

① イーオーアーウーエ

② イーオーアーエーウ

③ イーアーオーウーエ

④ オーイーアーウーエ

⑤ オーアーイーエーウ

(7) 次のア～オの説明は江戸時代の日本と海外のつながりに関するものである。年代が古い順に並べ替えたものとして適切なものを①～⑤から選び、番号で答えよ。

- ア 洋書を漢文に翻訳した漢訳洋書のうち、キリスト教と関係のない書籍の輸入を許可して実学を奨励した。
- イ 通商の国とは外交関係はなかったが、日本は生糸や香木、絹織物や砂糖を輸入する一方、銀や銅を輸出して制限なく貿易額を増加させていた。
- ウ キリスト教の布教への危惧と、イギリス捕鯨船員が上陸した事件を契機に、幕府は外国船の撃退を命じた。
- エ 海外に移住する日本人が増え、東南アジア各地に日本町が生まれ、山田長政のように現地の政治に深く関わる者も現れた。
- オ 浦賀に軍艦が来航し、艦隊の司令官が幕府に対してフィリピン大統領の国書を提出した。

- ① イーエーアーウーオ
② イーエーアーオーウ
③ エーイーウーアーオ
④ エーイーアーウーオ
⑤ エーイーアーオーウ

(8) 次の資料は江戸時代における開港の影響に関する説明である。空欄(ア)～(ウ)にあてはまる語句の適切な組合せを①～⑤から選び、番号で答えよ。

安政の五カ国条約以後、貿易は横浜・長崎・函館で始まった。貿易に大きく関与した生糸は国内で(ア)となり、機械生産による良質で安価な綿織物と綿糸の輸入は日本の農村の綿作や綿織物業に打撃を与えた。流通においては在郷商人が、輸出品を開港場に直送したため従来の流通が崩れ、さらに急速に増大した輸出のため国内の物価が(イ)した。

また、海外と国内とでは金と銀の交換比率が異なっていたため、(ウ)が海外に大量に流出した。

- | | | |
|------------|--------|-------|
| ① (ア) 品不足 | (イ) 高騰 | (ウ) 金 |
| ② (ア) 品不足 | (イ) 暴落 | (ウ) 金 |
| ③ (ア) 供給過多 | (イ) 高騰 | (ウ) 金 |
| ④ (ア) 供給過多 | (イ) 暴落 | (ウ) 銀 |
| ⑤ (ア) 供給過多 | (イ) 高騰 | (ウ) 銀 |

(9) 次の(ア)～(エ)の史料は近代の出来事を表したビゴアの絵画である。これらの絵画と最も関連が深い出来事の年代が古い順になるように並べ替えたものとして適切なものを①～⑤から選び、番号で答えよ。



- ① (ア) - (エ) - (ウ) - (イ)
- ② (イ) - (エ) - (ウ) - (ア)
- ③ (エ) - (イ) - (ウ) - (ア)
- ④ (イ) - (エ) - (ア) - (ウ)
- ⑤ (エ) - (イ) - (ア) - (ウ)

- (10) 次のGHQの占領政策に関する記述を読み、空欄（ア）～（ウ）にあてはまる語句の適切な組合せを①～⑤から選び、番号で答えよ。

戦後、マッカーサー率いるGHQの5大改革指令を受けた（ア）内閣は、（イ）の廃止や、選挙法の改正、労働組合結成の奨励を行った。また、農地改革による自作農創設、財閥解体による経済民主化、労働組合法による労働者の権利拡大が進んだ。その後も民主化は進み、1947年には過度経済力集中排除法、（ウ）、労働基準法が制定された。

- ① （ア） 幣原喜重郎 （イ） 治安維持法 （ウ） 独占禁止法
② （ア） 東久邇宮稔彦 （イ） 警察予備隊 （ウ） 独占禁止法
③ （ア） 幣原喜重郎 （イ） 警察予備隊 （ウ） 工場法
④ （ア） 東久邇宮稔彦 （イ） 警察予備隊 （ウ） 工場法
⑤ （ア） 幣原喜重郎 （イ） 治安維持法 （ウ） 工場法

【5】世界史に関する次の問いに答えよ。

(1) 古代インドに関する記述として適切なものを①～⑤から選び、番号で答えよ。

- ① バラモン教を支えたのがヴァルナとよばれる厳しい身分制度であり、クシャトリヤを最上位とした。
- ② 仏教はマウリヤ朝の時代、前3世紀のカニシカ王の保護のもとで盛んになった。
- ③ イラン系のクシャーナ朝は、2世紀半ばのアショーカ王のとき最盛期をむかえた。
- ④ インド北部を統一したグプタ朝の時代に、『マハーバーラタ』『ラーマーヤナ』の二大叙事詩が完成した。
- ⑤ 7世紀のヴァルダナ朝の時代には、ギリシア彫刻の手法を取り入れた仏教美術としてガンダーラ美術が生まれた。

35

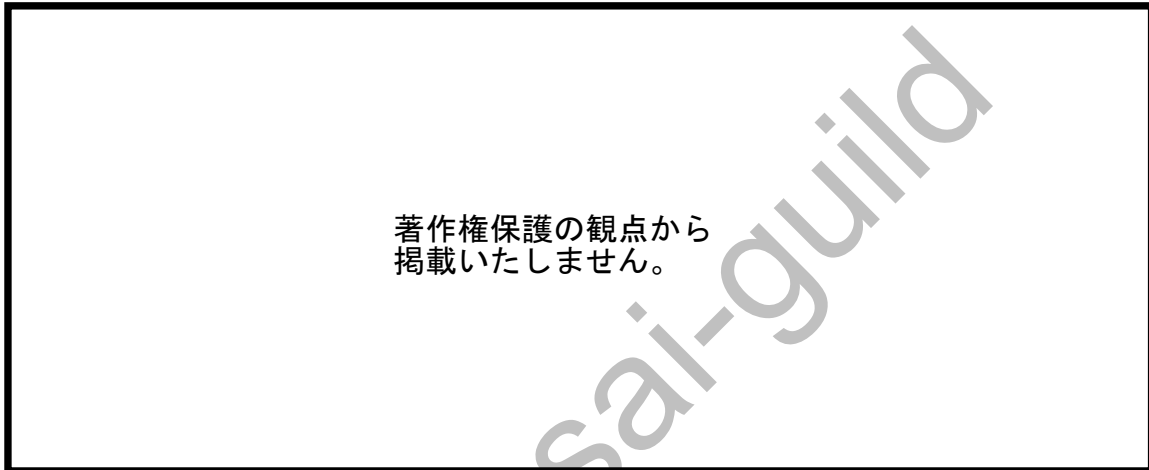
(2) 次は、マケドニアの王アレクサンドロス大王の遠征路を示した図である。この時代に成立した文化の特徴を説明したものとして適切なものを①～⑤から選び、番号で答えよ。

著作権保護の観点から
掲載いたしません。

- ① ギリシア文化が東方に拡大し、オリエント文化と融合した文化が形成された。
- ② 視野が拡大し、世界を合理的にとらえるタレスなどの自然哲学者が登場した。
- ③ 征服地の拡大で、様々な風俗や習慣をもつ民族に適用できる万民法が整備された。
- ④ 「目には目を、歯には歯を」の同害復讐の原則にたつ刑法が定められた。
- ⑤ 西アジアからもたらされた一神教の影響を受けて、キリスト教が成立した。

36

(3) 下の地図は、紀元前2世紀末の世界を表している。16世紀に世界の一体化が始まる以前におけるシルクロードを中心とする東西交流の説明として適切なものを①～⑤から選び、番号で答えよ。



- ① 前2世紀後半、秦の始皇帝が張騫を西域に派遣したことが契機となって、西域方面に対する中国の関心が高まり、オアシス諸都市を西域都護の監督下においた。
- ② 漢との交流によってもたらされた正倉院の宝物の中には、シルクロードを通して、西アジアやインドから伝えられたものもある。
- ③ 中央アジアのイスラーム化以前にシルクロードの主役として長距離交易を担ったのは、ゾロアスター教やマニ教を信仰するイラン系のソグド人であった。
- ④ シルクロードを通して、中国から西方へは良馬やぶどうが、西方から中国へは絹織物などがもたらされた。
- ⑤ シルクロードは、商品のみならず、宗教や文化の伝播する道でもあり、仏教が中国からインドに伝わったのもシルクロードを通じてである。

- (4) 下の地図は、モンゴル帝国の拡大を表している。モンゴル帝国の拡大や13世紀の東西交流に関する説明として適切なものを①～⑤から選び、番号で答えよ。



- ① チンギス=ハンは、主に西の草原・オアシス地帯に向けて征服戦争に乗り出し、ビザンツ帝国を滅ぼした。
- ② フラグの率いるモンゴル軍は、西北ユーラシアの草原を制圧してヨーロッパに侵攻し、ワールシュタットの戦いでフランス軍を破った。
- ③ モンゴル帝国に関心をもったローマ教皇は、宣教師であるマルコ=ポーロを陸路元に派遣し、マルコ=ポーロは帰国後に「三大陸周遊記」を著した。
- ④ バトゥの率いたモンゴル軍は、イスラーム世界に侵攻したが、アッバース朝の都であったバクダードを攻略することができなかった。
- ⑤ 陸上だけでなく海上の交通路も整え、ヨーロッパの商人や、キリスト教を布教する宣教師、中央アジアで活動していたムスリムなども元を訪れた。

(5) アメリカの独立革命に関する記述として適切なものを①～⑤から選び、番号で答えよ。

- ① イギリスは「代表なくして課税なし」と主張して、独立運動を弾圧した。
- ② イギリスはフランスなどの支援を受けたが、アメリカが勝利した。
- ③ 合衆国憲法を定め、初代大統領にジェファーソンを選んだ。
- ④ 独立直後のアメリカは、大陸の西部だけを領土とする国であった。
- ⑤ アメリカでは、イギリスから独立した後も奴隷制が続いていた。

39

(6) オスマン帝国に関する記述として適切なものを①～⑤から選び、番号で答えよ。

- ① オスマン朝の軍隊では、イエニチェリと呼ばれる騎士軍団が主力であったが、それに加えて、徐々にシパーヒーと呼ばれる歩兵軍団が整備された。
- ② スレイマン1世の時代にはハンガリーを征服し、ハプスブルク家の本拠地ウィーンを包囲した。
- ③ オスマン帝国は17世紀末にオーストリアとの戦争に敗れ、カルロヴィッツ条約でブルガリアをオーストリアに割譲した。
- ④ 19世紀に即位したアブデュルメジト1世は、改革派の官僚ムシタファ＝レシト＝パシャにミドハト憲法を起草させた。
- ⑤ 第一次世界大戦にあってイギリス側に立って参戦したオスマン帝国はセープル条約で新たな領土を獲得した。

40

(7) 次の18世紀から19世紀のイギリスとアジアの関係に関する記述として適切なものを①～⑤から選び、番号で答えよ。

- ① 18世紀の中国は、イギリスから工業製品や綿織物を輸入していた。
- ② 18世紀のインドは、イギリスや中国にアヘンを輸出していた。
- ③ 19世紀のインドからは中国とのアヘン貿易により、銀が流出した。
- ④ 19世紀のイギリスは、大量に生産した綿織物をインドへ輸出した。
- ⑤ 19世紀のインドでは綿織物業が盛んとなり、イギリスへ輸出した。

41

(8) 第一次世界大戦後の各国の政策に関する記述として適切なものを①～⑤から選び、番号で答えよ。

- ① アメリカは、ウィルソン大統領の強いイニシアティブのもとで国際連盟を設立し、常任理事国となって国際政治の舞台で指導力を発揮した。1921年から軍縮を目標にワシントン会議を開催し、ワシントン海軍軍備制限条約の締結に成功した。
- ② イギリスは、北部アルスター地方を除くアイルランドに自治権を認めてアイルランド自由国を成立させ、大戦で本国に協力した自治領には、本国と対等な関係をもつ独立国であることを認める決定をし、イギリス連邦を組織した。
- ③ フランスは戦勝国のなかでは最大の戦争被害を受けた国であったことから、ドイツに多額の賠償金の支払いを要求するとともに、その支払いの遅れを口実にドイツの工業地帯であったアルザス・ロレーヌに侵攻し、占領した。
- ④ 戦後のソ連では、内戦と干渉戦争を乗り切るために新経済政策を実施し、産業国有化の徹底と農民に対する強制的な穀物徴発をおこなったが、農民が強く反発した。さらに、国際的にも孤立し、西欧諸国や日本との国交樹立はならなかった。
- ⑤ ドイツでは戦後、空前のインフレーションが進行したため、エーベルト大統領が新紙幣を発行してインフレを収束させた。その後、ドイツでは協調外交が展開されたが、敗戦国であるドイツは国際連盟には参加できなかった。

42

(9) 次のA～Cは第2次世界大戦後に起こった戦争・紛争の説明である。A～Cは下の年表のア～カのどの時期に起こったものか、適切な組合せを①～⑤から選び、番号で答えよ。

年	事項
1945年	第2次世界大戦終結
	↕ア
1948年	パレスティナ戦争勃発
1949年	中華人民共和国の成立
	↕イ
1955年	バンドン会議
	↕ウ
1960年	アフリカの年
	↕エ
1979年	イラン革命
	↕オ
1993年	パレスティナ暫定自治協定成立
	↕カ
2003年	イラク戦争

- A ホーチミンがベトナム民主共和国を成立させたが、これを認めないフランスとの間に戦争が起こった。
- B イラクがクウェートに侵攻し、併合したことに対して、国連安全保障理事会の決議によりイラクへの武力行使が容認され、多国籍軍が派遣された。
- C 北朝鮮が、38度線を越えて大韓民国に侵攻し、戦争が開始されたことを受けて、アメリカ軍を中心とする国連軍が派遣され、一方、中国が人民義勇軍を派遣して戦局が膠着した。

- ① A－ア B－カ C－イ
 ② A－ア B－オ C－ウ
 ③ A－ア B－オ C－イ
 ④ A－エ B－オ C－イ
 ⑤ A－エ B－カ C－ア

(10) 第2次世界大戦後の世界に関する記述として適切なものを①～⑤から選び、番号で答えよ。

- ① アメリカのルーズベルト大統領はギリシアとトルコに軍事援助を与え、ソ連の「封じ込め」をはかる宣言をした。
- ② 戦後処理のため米英仏ソ4か国によって分割占領されたドイツは、西側にドイツ民主共和国、東側にドイツ連邦共和国に分断された。
- ③ 中国の首相周恩来はインドの首相ガンジーとともに、主権の尊重、平等互恵、平和共存などをうたった平和5原則を発表した。
- ④ チェコスロヴァキアで起こった民主化運動に対して、ソ連のフルシチョフ書記長はワルシャワ条約機構軍を率いて改革路線を抑圧した。
- ⑤ 東ヨーロッパ諸国で1989年に共産党政権が次々と倒れ、ソ連のゴルバチョフ書記長とアメリカのブッシュ大統領はマルタ島で会談し、冷戦の終結を宣言した。

【6】政治経済に関する次の問いに答えよ。

(1) 次の文章が示す権利が保障されたものとして適切なものを①～⑤から選び、番号で答えよ。

経済生活の秩序は、全ての人に人間に値する生存を保障することを目指す、正義の諸原則にかなうものでなければならない。

- ① マグナ・カルタ
- ② アメリカ独立宣言
- ③ フランス人権宣言
- ④ 大日本帝国憲法
- ⑤ ワイマール憲法

45

(2) 次の基本的人権に関する記述として適切なものを①～⑤から選び、番号で答えよ。

- ① 経済活動の自由は、精神の自由や身体の自由に比べて、法律による制限を受けにくい。
- ② 刑事補償請求権は、国や地方の公務員の不法行為で受けた損害に対して、賠償を求める権利である。
- ③ 国や地方の役所等に何かを要望する請願権は、広い意味での参政権に含まれる。
- ④ 公務員による拷問及び残虐な刑罰は、正当な理由がないかぎり、禁止されている。
- ⑤ 日本国憲法に直接規定されていない権利は新しい人権とよばれ、環境権や裁判を受ける権利、知る権利などがある。

46

(3) 三権（立法権・行政権・司法権）の相互関係に関する記述として適切なものを①～⑤から選び、番号で答えよ。

- ① 国の権力を三つに分け、抑制・均衡によって国の権力が一つの機関に集中することを防ぐ三権分立を唱えたのはフランスのルソーである。
- ② 内閣は最高裁判所長官を任命するのに対して、国会は弾劾裁判所を設置して、裁判官を辞めさせることができる。
- ③ 最高裁判所および下級裁判所の裁判官に対しては、国民が直接、任命が適切かどうか、国民審査を行う。
- ④ 違憲審査制は、国会が制定した法律等が憲法に違反していないかを具体的事件の裁判を通じて審査する仕組みであるが、下級裁判所は違憲審査できない。
- ⑤ 裁判所は国会が制定した法律の違憲審査を実施するが、内閣が制定する政令なども違憲審査の対象となる。

47

(4) 地方自治に関する記述として適切なものを①～⑤から選び、番号で答えよ。

- ① 議会は予算を作って実行することが主な仕事であり、首長は地方公共団体の独自の法である条例を定めたり、予算を承認したりする。
- ② 条例の制定または改廃の請求には有権者の3分の1以上の署名が必要とされている。
- ③ 議会の解散請求および首長・議員の解職請求には有権者の50分の1以上の署名が必要とされている。
- ④ 議員の被選挙権は満25歳以上である一方、首長の被選挙権は知事では満30歳以上、市（区）町村長では満25歳以上である。
- ⑤ 重要な政策決定に住民の意思を反映させる手段として住民投票が実施されており、その結果には法的拘束力がともなう。

48

(5) 企業の種類や株式会社等に関する記述として適切なものを①～⑤から選び、番号で答えよ。

- ① 企業には個人企業や独立行政法人のような私企業と、法人企業や地方公営企業のような公企業がある。
- ② 日本の企業数では、大企業と中小企業がおおよそ50%ずつを占めているが、売上高の90%以上を大企業が占めている。
- ③ 株主は会社の経営に直接参加し、重要事項を決定する株主総会で選出された株主が会社を経営する。
- ④ 株主には、株主総会に出席して議決に参加する権利や、利潤の一部を配当として受け取る権利などが保障されている。
- ⑤ 株式会社が倒産した場合、株主は出資金も含めた会社の負債の全てを引き受けなくてはならない。

49

(6) 租税に関する記述として適切なものを①～⑤から選び、番号で答えよ。

- ① 税金を納める人と実際に負担する人が同じ税金を直接税、違う場合を間接税というが、我が国では租税全体に占める間接税の割合が直接税よりも高い。
- ② 国税には家計が納める所得税、土地・家屋などにかかる固定資産税などがある一方、地方税には住民税や遺産相続の際の相続税などがある。
- ③ 消費税などの間接税には累進課税が適用され、低所得者の税負担が軽くなる一方、その分を高所得者が多く負担する。
- ④ 所得税などの直接税は間接税と比べて、低所得者の方が所得全体に占める税負担の割合が高くなる逆進性の問題がある。
- ⑤ 政府は、国会や地方議会が税金の種類や対象者などを定めた法律に基づかなければ、国民に税金を課すことはできない。

50

(7) 次の日本の環境に対する動きとして、古いものから年代順に並べ替えた時、適切なものを次の①～⑤から選び、番号で答えよ。

- ア 循環型社会形成推進基本法の制定
- イ 環境省の設置
- ウ 公害対策基本法の制定
- エ 環境基本法の制定
- オ 環境影響評価法（環境アセスメント法）の制定

- ① ウ→エ→ア→オ→イ
- ② ウ→エ→オ→ア→イ
- ③ イ→ウ→エ→オ→ア
- ④ ウ→イ→エ→オ→ア
- ⑤ ウ→エ→オ→イ→ア

51

(8) 中小企業の現状と問題に関する記述として適切なものを①～⑤から選び、番号で答えよ。

- ① 戦後の日本経済において、中小企業は常に企業数の約69%、全従業員数の約99%を占めている。
- ② 中小企業には、下請け型、産地型、ニッチ型、新興市場型の4つのタイプが存在する。
- ③ 中小企業基本法により中小企業とは、サービス業では従業員300人以下、資本金3億円以下の企業のことをさす。
- ④ 1963年には中小企業基本法が制定され、中小企業の保護・育成が図られたが、1980年代の複合不況によってその環境は激変した。
- ⑤ 1999年には中小企業基本法が改正され、最低資本金の規定が廃止されることとなり、株式会社・合同会社が設立しにくくなった。

52

(9) 社会保障制度に関する記述として適切なものを①～⑤から選び、番号で答えよ。

- ① 年金財源の調達方式には積立方式と賦課方式の2種類があり、日本ではかつては賦課方式の要素が強かったが、現在では積立方式の要素が強まっている。
- ② 社会福祉とは、疾病・失業・事故・老齢などで収入を失った国民に所得を保障する、社会保障の中心である。
- ③ 社会保障の財源の集め方は、スウェーデンのような北欧型（租税中心）と、フランスやドイツのような大陸型（保険料中心）に分類できるが、日本は大陸型とされる。
- ④ 日本の社会保障制度は、社会保険・公的扶助・社会福祉・公衆衛生の4つの体系からなり、1961年には国民皆保険・国民皆年金が実現した。
- ⑤ 年金保険については、1985年の制度改革でサラリーマンの厚生年金と農協職員の農林共済年金の統合が行われた。

53

(10) 農業問題に関する記述として適切なものを①～⑤から選び、番号で答えよ。

- ① 1961年に食料・農業・農村基本法が制定され、農業経営の規模拡大による自立経営農家の育成と、米作に畜産等をくわえた「選択的拡大」がはかられた。
- ② 零細農業を保護するための農産物の輸入制限は、1993年のG A T Tウルグアイ・ラウンドでの合意によって存続が決定された。
- ③ 1994年に食糧法が成立し、食糧管理制度にもとづく米価政策などの農業保護政策がおこなわれた。
- ④ 1999年に農業基本法が制定され、農業の多面的機能の発揮や持続的な発展などが図られることとなった。
- ⑤ 食の安全に対する不安に対して、2003年には食品安全基本法が制定され、食品健康影響評価を実施する食品安全委員会が設置された。

54

(11) 次の資料を参考に、会話文中の（ア）にあてはまる文章を①～⑤より選び、番号で答えよ。

著作権保護の観点から
掲載いたしません。

著作権保護の観点から
掲載いたしません。

- ① 立場の強い先進国の消費者の生活を豊かにする
- ② 立場の弱い開発途上国の生産者や労働者の利益を抑制する
- ③ 立場の弱い開発途上国の生産者や労働者の生活改善と自立を目指す
- ④ 立場の強い先進国の消費者の利益を抑制する
- ⑤ 立場の弱い開発途上国の生産者や労働者の生活向上と貿易への依存を目指す

【7】倫理に関する次の問いに答えよ。

- (1) 次はプラトンのイデア論についての記述である。空欄（ア）（イ）にあてはまる語句の適切な組合せを①～⑤より選び、番号で答えよ。

プラトンは物事全般についての本質を問題とし、個々の具体的なものではなく、それらの本質・根拠となる（ア）こそが、確実な知識の対象であると考えた。そして、（ア）は、目や耳などを通じた感覚ではなく、思考能力としての（イ）によって捉えられるとして、そのような（ア）をイデアとよんだ。

- ① （ア） 倫理的な徳 （イ） 直感
② （ア） 倫理的な徳 （イ） 理性
③ （ア） 倫理的な徳 （イ） 観想
④ （ア） 普遍的なもの （イ） 理性
⑤ （ア） 普遍的なもの （イ） 直感

56

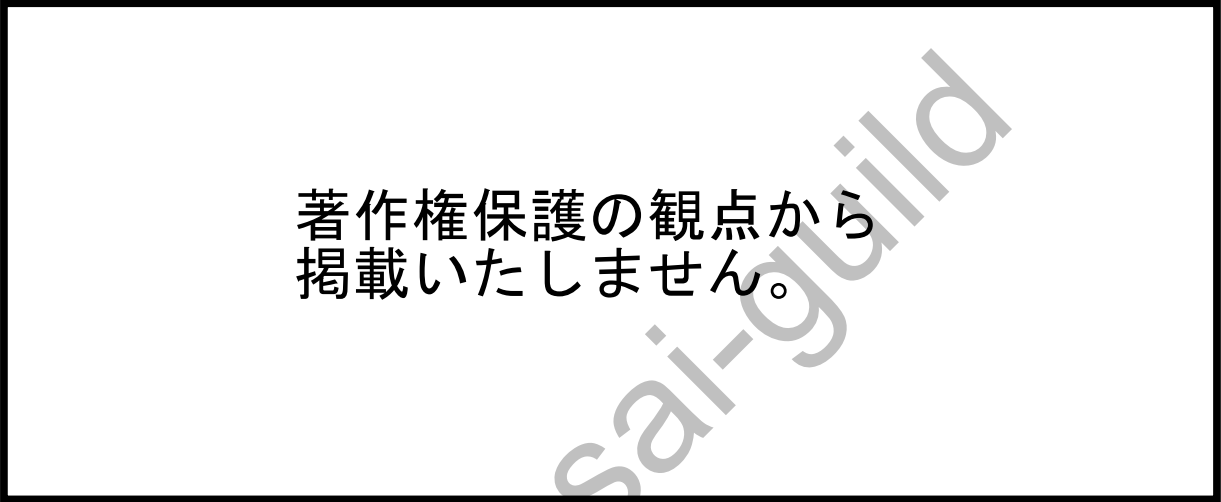
- (2) 下線部ア～ウの正誤の適切な組合せを①～⑤より選び、番号で答えよ。

ベンサムは、個人の経済的な自由を可能にする原理として功利性の原理を唱えた。功利性とは、幸福をもたらす性質のことであり、功利性の原理とは人々の幸福を増やす行為を正しい行為とし、人々の幸福を減らす行為を不正な行為とする原理である。この原理に従えば、最も多くの人に最も多くの幸福を、つまり最大多数の最大幸福をもたらす行為が最も正しい行為である。

- | | ア | イ | ウ |
|---|---|---|---|
| ① | 正 | 正 | 正 |
| ② | 正 | 誤 | 誤 |
| ③ | 誤 | 正 | 正 |
| ④ | 誤 | 正 | 誤 |
| ⑤ | 誤 | 誤 | 正 |

57

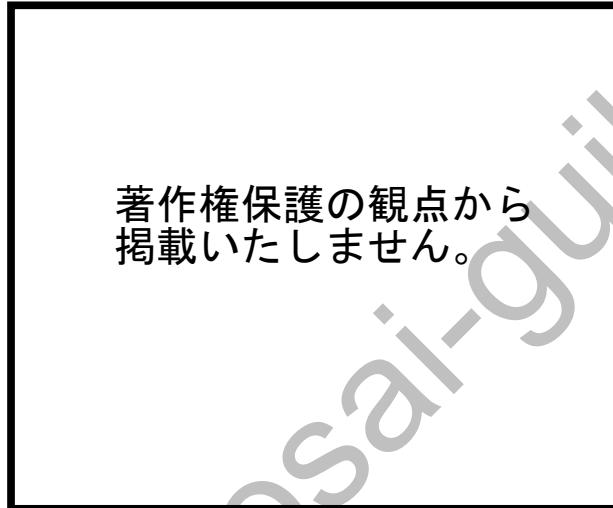
(3) 次の図を参照しながら、文章中の空欄 (ア) (イ) にあてはまる語句の適切な組合せを①～⑤より選び、番号で答えよ。



帰納法では「ソクラテスもプラトンも死んだ」と「ソクラテスもプラトンも人間である」から (ア) が導き出されるのに対し、演繹法では (ア) と (イ) から「ソクラテスは死ぬ」が導き出される。

- | (ア) | (イ) |
|----------------------|-----------------|
| ① 「プラトンは人間である」 | 「すべての人間は死ぬ」 |
| ② 「すべての人間は死ぬ」 | 「プラトンは人間である」 |
| ③ 「ソクラテスかプラトンが人間である」 | 「ソクラテスかプラトンは死ぬ」 |
| ④ 「すべての人間は死ぬ」 | 「ソクラテスは人間である」 |
| ⑤ 「ソクラテスは人間である」 | 「すべての人間は死ぬ」 |

(4) 次は、ヘーゲルの弁証法を図式化したものである。図中の空欄 (ア) (イ) にあてはまる語句の適切な組合せを①～⑤より選び、番号で答えよ。



- | (ア) | (イ) |
|------|-----|
| ① 総合 | 止揚 |
| ② 総合 | 矛盾 |
| ③ 矛盾 | 止揚 |
| ④ 矛盾 | 否定 |
| ⑤ 矛盾 | 人倫 |

kyosai-guild

教科名 (中高 社会) (120点)

マーク 番号	解答	配点	備考	マーク 番号	解答	配点	備考
1	2	1		31	4	2	
2	1	2		32	1	2	
3	3	2		33	5	2	
4	4	3		34	1	2	
5	1	3		35	4	2	
6	2	3		36	1	2	
7	4	2		37	3	2	
8	4	2		38	5	2	
9	2	2		39	5	2	
10	5	2		40	2	2	
11	5	2		41	4	2	
12	4	2		42	2	2	
13	1	2		43	3	2	
14	2	2		44	5	2	
15	3	2		45	5	2	
16	1	2		46	3	2	
17	3	2		47	5	2	
18	5	2		48	4	2	
19	5	2		49	4	2	
20	5	2		50	5	2	
21	4	2		51	2	2	
22	4	2		52	2	2	
23	3	2		53	4	2	
24	5	2		54	5	2	
25	1	2		55	3	2	
26	5	2		56	4	2	
27	1	2		57	3	2	
28	3	2		58	4	2	
29	4	2		59	3	2	
30	1	2		60			