

令和6年度

社 会

(解答はすべて解答用紙に記入すること)

この試験問題は持ち帰ることができます。
なお、本問題で利用した著作物は、著作権法第36条により、試験の目的上必要と認められる限度において複製したものです。
同目的以外の利用はできません。

(長野県教育委員会)

受験 番号	氏 名	
----------	-------	--------	--

〔問1〕 次の問いに答えなさい。

(1) 次の文1を読み、以下の問いに答えなさい。

文1

世界地図を見ると、国と国の境界線には直線的なものや曲がりくねったものなど、様々な境界線がある。こうした境界線を国境と呼び、**a** 山脈や河川、湖沼、海洋などの自然の地形に沿って定められている（**あ**）国境と、**b** 緯線や経線、建造物などを利用した（**い**）国境がある。

- ① 文1の（**あ**）、（**い**）に当てはまる適切な語句を、それぞれ漢字3字で書きなさい。
- ② 文1の下線部**a**にかかわって、フランスとスペインの国境に利用した山脈として最も適切なものを、次のア～エから1つ選び、記号を書きなさい。
- [ア アトラス山脈 イ ウラル山脈 ウ アパラチア山脈 エ ピレネー山脈]
- ③ 文1の下線部**b**にかかわって、アフリカ州には、**資料1** カナダ、アメリカ、メキシコの人口密度と1人当たりのGNI（2020年）
まっすぐな国境線がいくつか見られる。その理由として考えられることを、アフリカ州の歴史にふれながら簡潔に書きなさい。
- ④ **資料1**は、北アメリカ大陸において国境を挟み接するカナダ、アメリカ、メキシコについてまとめたものである。カナダに当たるものを**資料1**の**ア～ウ**から1つ選び、記号を書きなさい。
- ⑤ 次の文2は、日本の領域についてまとめたものである。文2の（**う**）～（**お**）に当てはまる語句や数として適切なものを、下の**ア～キ**からそれぞれ1つ選び、記号を書きなさい。

（「世界国勢図会 2022/23」より作成）

文2

日本の領域は広域におよぶ。東端の（**う**）と西端の（**え**）の経度差は約（**お**）度あり、日の出と日の入りの時刻が約2時間ずれる。

[ア 択捉島 イ 南鳥島 ウ 沖ノ鳥島 エ 与那国島 オ 20 カ 30 キ 45]

(2) 次の文3を読み、以下の問いに答えなさい。

文3

経済の**c** グローバル化が進展し、さまざまな活動が地球規模で行われるようになった現在では、**d** 地域ごとの経済的な結び付きが重要となっている。また、**e** それぞれの地域内で経済圏がつくられ、貿易の自由化などによって活発な経済活動が行われている。

- ① 文3の下線部**c**にかかわって、複数の国に生産・販売の拠点を置く企業を何と呼ぶか、漢字5字で書きなさい。
- ② 文3の下線部**d**にかかわって、**資料2**は、アメリカ合衆国、日本、ASEAN、EU、MERCOSURの面積、人口、GDP（名目）、貿易額についてまとめたものである。ASEAN、EUを示すものとして最も適切なものを、**資料2**の**A～C**からそれぞれ1つ選び、記号を書きなさい。
- ③ 文3の下線部**e**にかかわって、北アメリカにおいて、2020年にNAFTAにかわり発効した貿易協定を何と呼ぶか、書きなさい。

資料2 主な経済地域等の面積、人口、GDP（名目）、貿易額（2020年）

（「世界国勢図会 2022/23」より作成）

- (3) 資料3は、世界における大豆の生産国、輸出国、輸入国及び生産量、輸出量、輸入量の割合をまとめたものである。資料3から読み取ることができることとして適切なものを、次のア～オから2つ選び、記号を書きなさい。

- ア ブラジルは、大豆の生産量、輸出量、輸入量のいずれも上位5か国に含まれている。
- イ アルゼンチンは、大豆の輸入量に比べ、輸出量が多い。
- ウ 中国の大豆の輸入量は、中国の大豆の生産量の10倍以上である。
- エ アメリカの大豆の輸出量は、アルゼンチンの大豆の生産量を上回っている。
- オ 大豆の輸出量の上位5か国は、南アメリカ州の国々より北アメリカ州の国々の方が国の数が多い。

資料3 大豆の生産国、輸出国、輸入国及び生産量、輸出量、輸入量の割合 (2020年)

(「世界国勢図会2022/23」より作成)

- (4) 日本の漁業にかかわって、資料4は、日本の漁業と養殖業の生産量の推移をまとめたものである。また、資料5は、日本の沖合漁業生産量の主要魚種別内訳の推移についてまとめたものである。以下の問いに答えなさい。

- ① 資料4について、日本の遠洋漁業の生産量が300万t以上の時期に起きた世界や日本の出来事として最も適切なものを、次のア～エから1つ選び、記号を書きなさい。

- ア 第四次中東戦争の影響を受けて、第1次石油危機が発生した。
- イ 吉田茂内閣がアメリカなど48か国とサンフランシスコ平和条約を結んだ。
- ウ マルタ会談で米ソの首脳が冷戦の終結を宣言した。
- エ 気候変動枠組条約第3回締約国会議 (COP3) で京都議定書が採択された。

- ② 養殖漁業は、一般的に、稚魚を生け簀などで飼育し、食べられる大きさになったら出荷する。一方で、栽培漁業とはどのような漁業か、「卵」、「稚魚」の2語を用いて簡潔に書きなさい。

- ③ 資料4、5から読み取れることとして適切なものを、次のア～オから3つ選び、記号を書きなさい。

資料4 日本の漁業・養殖業の生産量の推移

- ア 日本の海面養殖業が、日本の遠洋漁業の生産量を上回ったのは1990年以降である。
- イ 日本の沿岸漁業は、日本の遠洋漁業と沖合漁業のいずれの生産量も上回った年がある。
- ウ 日本の遠洋漁業の生産量が最も多い年は、1965年の遠洋漁業と比べ、生産量が4倍以上に増えた。
- エ 日本の沖合漁業の生産量が600万t以上の時期において、日本の沖合漁業生産量の主要魚種別内訳の50%以上をマイワシが占めた年がある。
- オ 1998年と2008年を比べると、2008年には日本の沖合漁業生産量の主要魚種別内訳でマイワシが占める割合は低くなる一方、サンマが占める割合は高くなった。


資料5 日本の沖合漁業生産量の主要魚種別内訳の推移

(「資料4・5は令和元年度水産白書」より作成)

〔問2〕 次の各問いに答えなさい。

(1) 資料1について、次の問いに答えなさい。

資料1




(「続日本紀」)

- ① 資料1の詔を出した天皇の名前を、漢字で書きなさい。
- ② 資料1の詔が出された理由の1つとして考えられることを、資料1から読み取れる当時の社会情勢に触れて、25字以内で書きなさい。
- ③ 資料1の詔が出された時期に起きた次のア～エの出来事を、年代の古い順に並び替え、左から順に記号を書きなさい。
- | | |
|----------------|--------------|
| ア 藤原広嗣の乱が起きる | イ 大宝律令が制定される |
| ウ 墾田永年私財法が出される | エ 都を長岡京に移す |
- ④ 資料1の詔が出された奈良時代につくられたものや行われたこととして適切なものを、次のア～エから2つ選び、記号を書きなさい。
- [ア 万葉集の編集 イ 法隆寺金堂釈迦三尊像 ウ 唐招提寺金堂 エ 古今和歌集の編集]

(2) 資料2について、次の問いに答えなさい。

資料2




とうじひやくごもんじよ
(「東寺百合文書」)

- ① 資料2の(あ)、(い)、(う)に当てはまる語句の組み合わせとして正しいものを、次のア～エから1つ選び、記号を書きなさい。
- | | |
|------------------------|------------------------|
| ア あ-領家 い-受領 う-本家 | イ あ-荘官 い-預所 う-名主 |
| ウ あ-受領 い-本家 う-名主 | エ あ-領家 い-預所 う-本家 |
- ② 資料2のようにしてできた荘園の中には、「不輸」「不入」という特権を獲得する荘園もあらわれた。「不輸」「不入」について述べた文として最も適切なものを、次のア～エから1つ選び、記号を書きなさい。
- | |
|---|
| ア 不入の特権とは、荘園領主の権威を利用し、田堵など国衙の使者の立ち入りを許可するものである。 |
| イ 12世紀ごろからは、不輸・不入の権をもつ荘園が一般化し、不入の権の内容も警察権の排除にまで拡大された。 |
| ウ 政府の出した太政官符や民部省符によって不輸の権を認められた荘園を国免荘と呼んだ。 |
| エ 国司によって不輸が認められた荘園を蔵入地と呼んだ。 |


(3) 資料3, 4について, 次の問いに答えなさい。

資料3



おふれがきてんぽうしゅうせい
〔「御触書天保集成」〕

資料4



ぞくしゅう
〔「通航一覧統輯」〕

① 資料3は, 1825年に幕府によって出されたものの一部である。これを何というか, 最も適切なものを, 次のア～エから1つ選び, 記号を書きなさい。

〔ア 異国船打払令 イ 相对済し令 ウ 海舶互市新例 エ 分地制限令 〕

② 資料3にかかわって, モリソン号事件について, 幕府の対外政策を批判し, 幕府によって処罰された人物として適切なものを, 次のア～オから2つ選び, 記号を書きなさい。


〔ア 大塩平八郎 イ 渡辺崋山 ウ 間宮林蔵 エ 高野長英 オ 杉田玄白 〕

③ 資料4は, 資料3が出された後, 1842年に幕府によって出されたものの一部である。資料4が出される背景となった出来事として最も適切なものを, 次のア～エから1つ選び, 記号を書きなさい。

〔ア 薩英戦争 イ ノルマントン号事件 ウ 生麦事件 エ アヘン戦争 〕

(4) 資料5について, 次の問いに答えなさい。

資料5



〔「法令全書」〕

① 資料5は, 政府が1873年7月に公布した太政官布告の一部である。資料5の(え)は, 土地の地価を定め, 土地の所有者に発行したものである。(え)に当てはまる語句を, 漢字2字で書きなさい。

② 資料5の下線部aにかかわって, 税率は, 地価の何%と定められたか, 資料5から読み取り, 書きなさい。

〔問3〕 次の各問いに答えなさい。

(1) 人権について述べた次の文1を読み、あとの問いに答えなさい。

文1

日本国憲法制定後、急激な経済変化をとげ、社会も国民生活も大きく変容した。そのような中、私たち一人ひとりが人間らしく生きていくために、a 知る権利、b プライバシーの権利、c 環境権などに代表される d 「新しい人権」が主張されるようになってきた。

① 文1の下線部 a～c の権利について述べた文として最も適切なものを、次のア～オからそれぞれ1つ選び、記号を書きなさい。

- ア 国民が、その能力に応じてひとしく教育を受けることができる権利
- イ 良好な環境を維持し、環境を破壊する行為を差し止めたり予防したりすることを請求できる権利
- ウ 私生活や個人の情報がみだりに公開されない権利
- エ 政治や政策を通して権利の実現をはかるための権利
- オ 国民が、政府や地方公共団体に対し情報公開を求めることができる権利

② 文1の下線部 b の権利にかかわって、2016年から国民一人ひとりに固有の「個人番号」を割り当てる制度が開始された。この制度を何というか、書きなさい。

③ 次の資料は、文1の下線部 c の権利の根拠とされる、憲法第25条の条文である。資料の (あ) に当てはまる語句を、日本国憲法の条文に即して書きなさい。

資料

第25条 すべて国民は、健康で文化的な (あ) を営む権利を有する。

④ 文1の下線部 d にかかわって、医療の分野では、患者が治療方法などを自分で決定できるように、手術の方法などを十分に説明して同意を得ることが求められている。このことを何というか、最も適切なものを、次のア～エから1つ選び、記号を書きなさい。

- 〔 ア アカウンタビリティ イ インフォームド・コンセント ウ ノーマライゼーション エ 環境アセスメント 〕

(2) 日本の税制について述べた次の文2を読み、あとの問いに答えなさい。

文2

○1949年に日本政府とGHQが招聘した使節団により出された (い) により、直接税を中心とした制度と地方財源の強化など税制の近代化が図られた。

○現在、日本の税金は、所得税などの直接税と、消費税などの間接税に分けることができる。所得税は高所得者ほど高い税率を適用する (う) 制度をとっている。これに対して間接税は、同じ商品を買うと誰でも同額の税金を負担しなければならないというように、所得にかかわらず同率で課税されるので、(え) という傾向がある。

① 文2の (い) に当てはまる語句として最も適切なものを、次のア～エから1つ選び、記号を書きなさい。

- 〔 ア マーシャル・プラン イ プラザ合意 ウ シャウプ勧告 エ スミソニアン協定 〕

② 文2の (う) に当てはまる語句を漢字4字で書きなさい。

③ 文2の (え) に当てはまる文を、「所得」、「税負担」の2語を使って25字以内で書きなさい。

④ 日本の税制とそれにかかわることについて述べた文として最も適切なものを、次のア～エから1つ選び、記号を書きなさい。

- ア 地方交付税は、地方公共団体が自由に使い道を決定できるが、国庫支出金は定められた目的にしか支出できない。
- イ 所得税・法人税・自動車税は国税で、相続税・住民税・事業税は地方税である。
- ウ 2000年代には、地方税の一部を国に移譲する税源移譲、国庫支出金の削減等「三位一体の改革」が行われた。
- エ 法人税や相続税は、納税者と担税者が一致する税金である間接税に分類される。

(3) 日本の企業について書かれた次の文3を読み、あとの問いに答えなさい。

文3

日本の企業の多くは (お) の発行によって得られた資金をもとに (お) 会社の形態をとり、e 利潤を追求している。また、企業活動は社会に対して大きな影響を及ぼすことから、企業を外部に開かれた存在にする取り組みとして、f 芸術活動への支援や、寄付活動やボランティア活動など、企業の社会的責任 (CSR) を問う声が高まっている。

① 文3の (お) に当てはまる語句を、漢字2字で書きなさい。

② 文3の下線部 e にかかわって、ある会社では、製品を製造する原料をアメリカから輸入した。原料代として5万ドル支払うとした場合、日本円に換算すると、より多くの日本円を支払うのは、円高時、円安時のどちらか、書きなさい。

③ 文3の下線部 f を何というか、最も適切なものを、次のア～エから1つ選び、記号を書きなさい。

- 〔 ア コンプライアンス イ メセナ ウ フィランソロピー エ イノベーション 〕

〔問4〕 「中学校学習指導要領」(平成29年告示)第2章 第2節 社会 について、次の問いに答えなさい。

(1) 第2 各分野の目標及び内容 に即して、あとの問いに答えなさい。

〔公民的分野〕

1 目 標
略

2 内 容
A～C 略

D 私たちと国際社会の諸課題

(1) 世界平和と人類の福祉の増大
対立と (A) , (B) と公正, (C) , 持続可能性などに着目して, 課題を追究したり解決したりする活動を通して, 次の事項を身に付けることができるよう指導する。
ア 次のような知識を身に付けること。
(ア) 略
(イ) 略
イ 次のような思考力, 判断力, 表現力等を身に付けること。
(ア) 略

(2) よりよい社会を目指して
持続可能な社会を形成することに向けて, (D) な見方・考え方を働かせ, 課題を (E) する活動を通して, 次の事項を身に付けることができるよう指導する。
ア 私たちがよりよい社会を築いていくために解決すべき課題を多面的・多角的に考察, 構想し, X , 論述すること。

① (A) ~ (E) に当てはまる適切な語句をそれぞれ書きなさい。

② X に当てはまる適切な語句を, 次のア～エから1つ選び, 記号を書きなさい。

- | | |
|----------------|------------|
| ア 社会的事象について説明 | イ 自分の考えを説明 |
| ウ よりよい社会について説明 | エ 持続可能性を説明 |

(2) 第3 指導計画の作成と内容の取扱い に即して, (F) ~ (I) に当てはまる適切な語句を, あとのア～コからそれぞれ1つ選び, 記号を書きなさい。

第3 指導計画の作成と内容の取扱い

1 指導計画の作成に当たっては, 次の事項に配慮するものとする。
(1)～(5) 略

2 第2の内容の取扱いについては, 次の事項に配慮するものとする。
(1) 略
(2) 情報の収集, 処理や発表などに当たっては, (F) や地域の公共施設などを活用するとともに, コンピュータや情報通信ネットワークなどの情報手段を積極的に活用し, 指導に生かすことで, 生徒が主体的に調べ分ろうとして学習に取り組めるようにすること。その際, 課題の追究や解決の見通しをもって生徒が主体的に情報手段を活用できるようにするとともに, (G) の指導にも留意すること。
(3) 調査や諸資料から, 社会的事象に関する様々な情報を効果的に収集し, 読み取り, まとめる技能を身に付ける学習活動を重視するとともに, 作業的で具体的な (H) を伴う学習の充実を図るようにすること。その際, 地図や年表を読んだり作成したり, 現代社会の諸課題を捉え, 多面的・多角的に考察, 構想するに当たっては, 関連する新聞, 読み物, 統計その他の資料に平素から親しみ適切に活用したり, 観察や調査などの過程と結果を整理し報告書にまとめ, 発表したりするなどの活動を取り入れるようにすること。
(4) 社会的事象については, 生徒の考えが深まるよう様々な (I) を提示するよう配慮し, 多様な (I) のある事柄, 未確定な事柄を取り上げる場合には, 有益適切な教材に基づいて指導するとともに, 特定の事柄を強調し過ぎたり, 一面的な (I) を十分な配慮なく取り上げたりするなどの偏った取扱いにより, 生徒が多面的・多角的に考察したり, 事実を客観的に捉え, 公正に判断したりすることを妨げるものがないよう留意すること。

3 略

- | | | | | |
|-----------|----------|------|------|---------|
| ア 情報モラル | イ 見方や考え方 | ウ 体験 | エ 経験 | オ 学校図書館 |
| カ 情報リテラシー | キ 郷土博物館 | ク 見解 | ケ 技術 | コ 理論 |

受験 番号						氏 名	
----------	--	--	--	--	--	--------	--

令和6年度

社会解答用紙

得 点	
--------	--

【問1】 30点 (1)⑤う, えは各1点, その他は各2点

(1)	①	あ	自然的	い	人為的	②	エ
	(例) ③	かつてヨーロッパの国々が, 植民地として支配した時に引いた境界の名残があるため。					
	④	イ					
(2)	①	う	イ	え	エ	お	カ
	②	多国籍企業	②	ASEAN	C	EU	A
	③	USMCA	(2) ③ アメリカ(米国)・メキシコ・カナダ協定も可。				
(3)	イ, エ		(3) 順不同				
(4)	①	ア					
	(例) ②	卵から稚魚まで人の手で育て, その後, 川や海へ放流し, 成長したものをとる漁業。					
	③	ア, エ, オ		(4) ③ 順不同			

【問2】 25点 (1)②③, (2)①は各3点, その他は各2点

(1)	①	聖武 (天皇)					
	(例) ②	仏教の力で, ききんや疫病等の不安から国を守るため。 ²⁵					
	③	イ → ア → ウ → エ			④	ア, ウ	
(2)	①	エ		②	イ		
(3)	①	ア		②	イ, エ		
	③	エ					
(4)	①	地券		②	(地価の) 3 (%)		

【問3】 25点 (1)①は各1点, (2)②③は各3点, その他は各2点

(1)	①	a	オ	b	ウ	c	イ
	②	マイナンバー (制度)		③	最低限度の生活		④
(2)	①	ウ		②	累進課税 (制度)		(1) ② 社会保障・税番号 (制度), 個人番号 (制度) も可。
	(例) ③	低所得者ほど, 所得に占める税負担の割合が高くなる。 ²⁵					
	④	ア					
(3)	①	株式		②	円安時		
	③	イ					

【問4】 20点 各2点

(1)	①	A	合意	B	効率	c	協調
		D	社会的	E	探究		
(2)	②	イ					
	F	オ		G	ア		
	H	ウ		I	ク		