

# 令和6年度採用 高等学校 地理歴史 (地理)

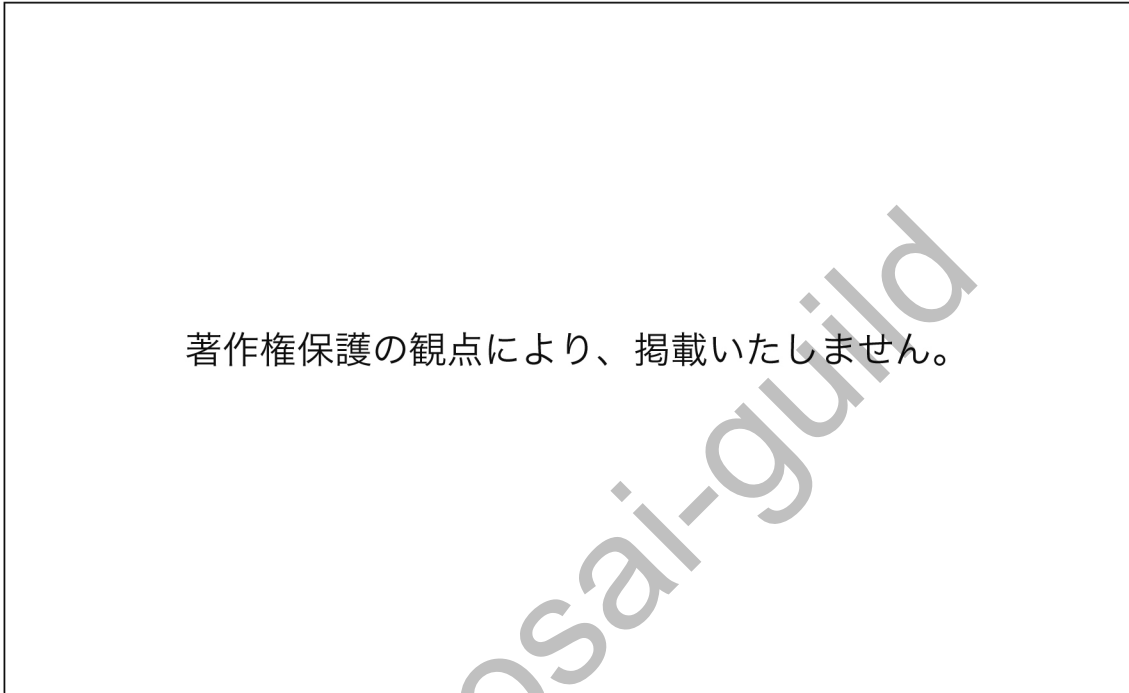
教科 (科目)	受験番号
地理歴史 (地理)	

1 次の設問 (1) ~ (12) に答えよ。

(1) 主題図に関する記述として最も適切なものを、次の①~⑤の中から一つ選べ。解答番号は11。

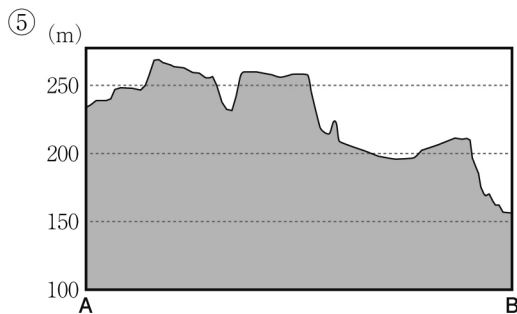
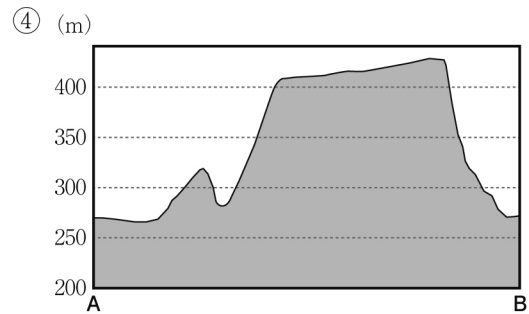
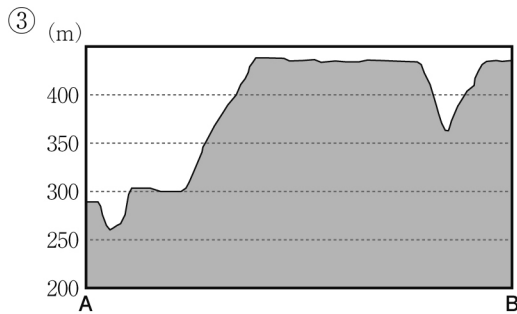
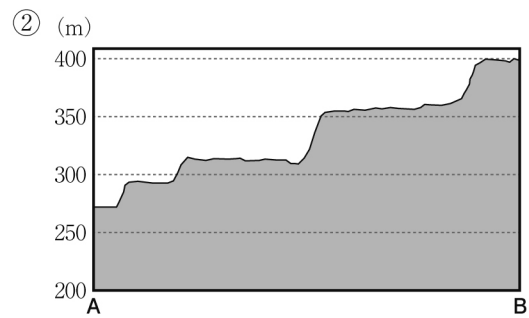
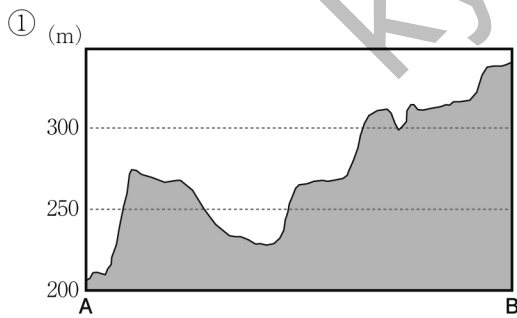
- ① ドットマップは、数量を円や棒、物や人の形などの図形の大きさで表した地図である。例えば人口や家畜頭数の分布、農産物の産出量の分布などを把握するときに用いられる。
- ② 等値線図は、等しい数値の地点を線で結んだ地図である。例えば人がどの州からどの州に多く移動しているかなど、移動の方向と量を示すときに用いられる。
- ③ 流線図は、物や人の移動を矢印で示し、その量を太さで表した地図である。例えば等高線図や等温線図、等降水量線図などがある。
- ④ 図形表現図は、数量を点で表し、分布の状態を示した地図である。例えば人口や家畜頭数の分布、農産物の産出量の分布などを把握するときに用いられる。
- ⑤ 階級区分図は、地域ごとの割合をランク分けし、色彩や模様などで表した地図である。例えば市町村ごとの高齢者の人口割合を示すときなどに用いられる。

- (2) 次の地形図上の点A, Bを結ぶ線A—Bの断面図として最も適切なものを, 次の①~⑤の中から一つ選べ。解答番号は12。



(2万5千分の1 原寸の地図から120%に拡大)

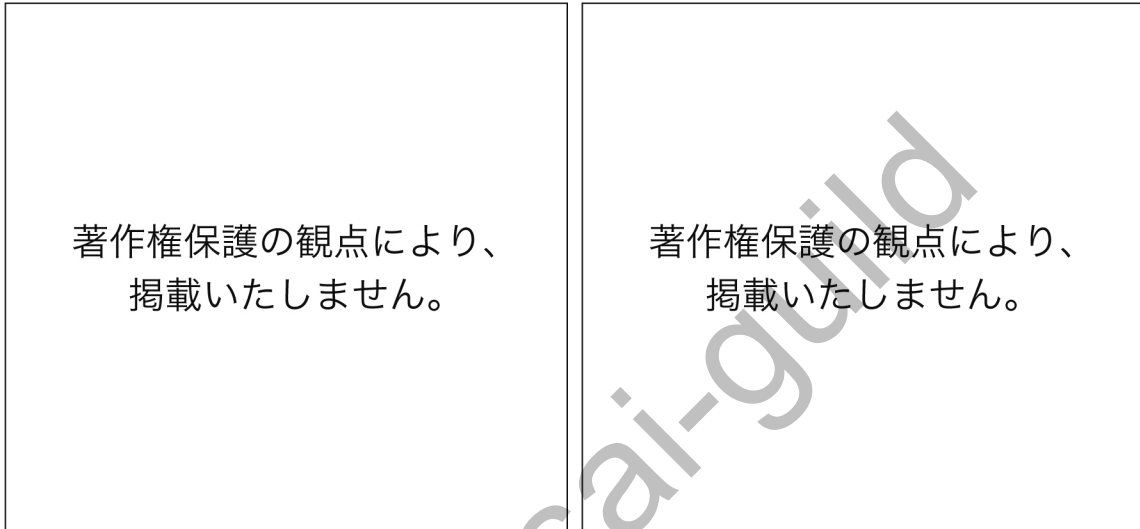
(国土地理院 地形図「大割野」平成26年)



- (3) 次の地図と円グラフは、ラテンアメリカの鉱産資源の分布と主な国の輸出品目を示したものである。円グラフのア～ウに当てはまる国の組合せとして最も適切なものを、次の①～⑥の中から一つ選べ。解答番号は13。

ラテンアメリカの鉱産資源分布

ラテンアメリカの主な国の輸出品目



(「世界国勢図会2022/23」より作成)

	ア	イ	ウ
①	ブラジル	アルゼンチン	チリ
②	アルゼンチン	チリ	ブラジル
③	チリ	ブラジル	アルゼンチン
④	ブラジル	チリ	アルゼンチン
⑤	アルゼンチン	ブラジル	チリ
⑥	チリ	アルゼンチン	ブラジル

- (4) 次の文章と雨温図が示す場所として最も適切なものを，地図中の①～⑤の中から一つ選べ。解答番号は14。

私は，ある山脈の標高3000mをこえる場所に住んでいます。ここでは，昼と夜の気温差が大きいのので，いつでも着たり脱いだりできる，家畜の毛で作った帽子や上着を身に着けています。

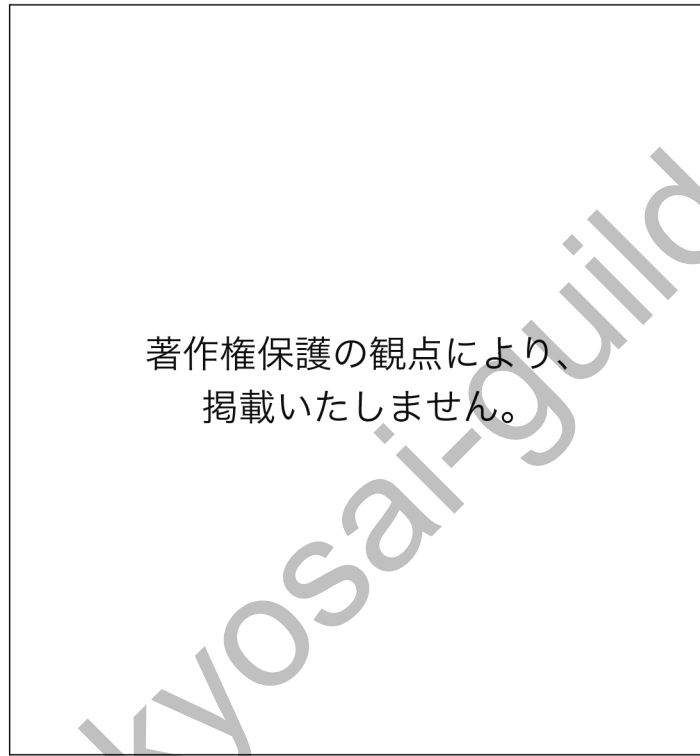
雨温図

地図

著作権保護の観点により、掲載いたしません。

(気象庁ホームページ 2019年データより作成)

- (5) 次の地図は、ある工業における主な工場の分布を示したものである。この分布図に当てはまるものとして最も適切なものを、次の①～⑤の中から一つ選べ。解答番号は15。

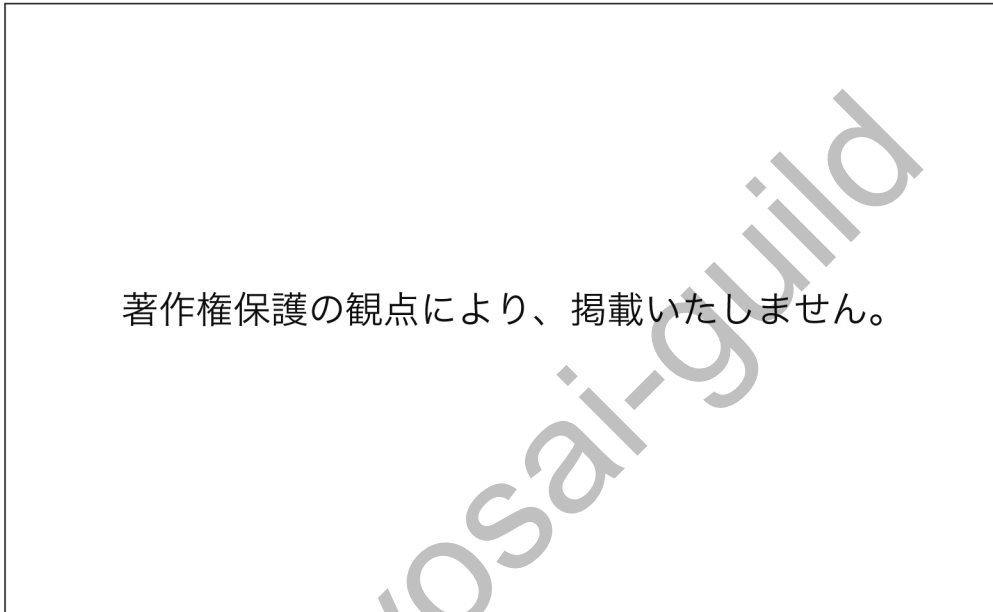


(新詳地理資料 COMPLETE2022 より作成)

- ① セメント工場
- ② パルプ・製紙工場
- ③ 石油化学コンビナート
- ④ I C工場
- ⑤ 自動車組み立て工場

- (6) 次の図は、主な国の穀物輸出入量を示したものである。図中のア～ウに当てはまる国の組合せとして最も適切なものを、次の①～⑥の中から一つ選べ。解答番号は16。

主な国の穀物輸出入量



(2018年 FAOSTAT より作成)

	ア	イ	ウ
①	アメリカ合衆国	フランス	中国
②	フランス	アメリカ合衆国	中国
③	中国	フランス	アメリカ合衆国
④	アメリカ合衆国	中国	フランス
⑤	中国	アメリカ合衆国	フランス
⑥	フランス	中国	アメリカ合衆国

- (7) 次の史料に関連した記述として最も適切なものを、次の①～⑤の中から一つ選べ。  
解答番号は17。

著作権保護の観点により、掲載いたしません。

(「続日本紀」原漢文)

- ① この詔による仏像造立は、当初から平城京で行われ、末法思想の理念を多くの人々に示すための国家事業として位置付けられた。
- ② この詔による仏像造立は、行基を大僧正に任じて促進されたが、民衆布教に努めた行基の活動は、僧尼令により当初は弾圧の対象とされていた。
- ③ この詔が出された年には、三世一身法が出され、制限付きながらも田地の保有が認められ、民間の開墾による耕地の拡大が図られた。
- ④ この詔が出される以前に、藤原広嗣が高向玄理や旻らの排除を求めて大規模な反乱を起こしたが、鎮圧された。
- ⑤ この詔が出された後、皇族で左大臣であった長屋王が、藤原氏の策謀によって自殺に追いこまれる事件が起こった。

- (8) 次の地図は、室町時代の東アジアについて示したものである。地図に関連する14世紀から16世紀の日本と周辺諸国の対外関係についての説明として最も適切なものを、次の①～⑤の中から一つ選べ。解答番号は18。



- ① 室町時代の後半に、中国・朝鮮半島の沿岸部（地図中の■部分）を襲撃したのは、日本人を中心とした倭寇であった。
- ② 明との交易とともに朝鮮との交易も16世紀まで活発に行われ、朝鮮からは特に大量の生糸が輸入され、民衆の衣料として広く用いられた。
- ③ 地図から、この時代に蝦夷地との交易が行われていたことが分かる。この交易は室町幕府から交易独占権を与えられた松前氏を中心となっていた。
- ④ 朝鮮が倭寇の根拠地を対馬であると考え襲撃した応永の外寇によって、日朝貿易は一時中断した。
- ⑤ 応仁の乱後、守護大名が勢力を伸ばし、大内氏は堺、細川氏は博多を拠点とし、琉球を通して東南アジア諸国と中継貿易を行った。



- (9) 次の史料について、この史料の名称と下線部に示された考え方に影響を与えた思想家の組合せとして最も適切なものを、次の①～⑥の中から一つ選べ。解答番号は19。

われわれは以下の原理は自明のことと考える。まず、人間はすべて平等に創造されており、創造主から不可譲の諸権利をあたえられており、それらのなかには生命、自由、幸福追求の権利がある。次に、これらの権利を保障するためにこそ、政府が人間のあいだで組織されるのであり、公正なる権力は被治者の同意に由来するものである。さらに、いかなる形態の政府であれ、この目的をそこなうものとなった場合は、政府を改変、廃止して、国民の安全と幸福とを達成する可能性を最も大きくするとの原則に従い、しかるべく機構をととのえた権力を組織して新しい政府を樹立するのが、国民の権利である。

- ① アメリカ独立宣言 — ロック
- ② アメリカ独立宣言 — ルソー
- ③ アメリカ独立宣言 — モンテスキュー
- ④ フランス人権宣言 — ロック
- ⑤ フランス人権宣言 — ルソー
- ⑥ フランス人権宣言 — モンテスキュー

- (10) 次の史料は、明治時代に制定された日本のある法律の一部である。この法律が制定された頃の日本の社会について説明した文として適切なものを、次の①～⑤の中から**全て**選べ。解答番号は20。

第二条 工場主ハ十二歳未満ノ者ヲシテ工場ニ於テ就業セシムルコトヲ得ス 但シ本法施行ノ際十歳以上ノ者ヲ引続き就業セシムル場合ハ此ノ限ニ在ラス…

第三条 工場主ハ十五歳未満ノ者及女子ヲシテ一日ニ付十二時間ヲ超エテ就業セシムルコトヲ得ス…

第四条 工場主ハ十五歳未満ノ者及女子ヲシテ午後十時ヨリ午前四時ニ至ル間ニ於テ就業セシムルコトヲ得ス…

- ① 第一次世界大戦のもたらした不景気によって急激な物価下落が起こり、都市民衆の生活が苦しくなった。
- ② 日露戦争後、労働者の団結によって労働条件の改善をすすめようとする機運が高まり、労働組合期成会が結成された。
- ③ 女性の労働者の権利を守るため、津田梅子を中心に青鞥社が結成された。
- ④ この法律の制定以前の日本の紡績業や製糸業は、労働者を低賃金で長時間働かせ、その結果、国際競争力を維持して輸出を伸ばした。
- ⑤ 明治期の日本の紡績業や製糸業は、「女工」と呼ばれた多くの女性労働者によって支えられていた。

- (11) 次の史料は、南京条約と日米和親条約の一部である。この2つの条約に関連して、史料と次ページの史料に関する文章中の(ア)～(ウ)に当てはまる語句や文の組合せとして最も適切なものを、次の①～⑧の中から一つ選べ。解答番号は21。

<南京条約>

- 一、今後、大皇帝は次のことをお許しになった。イギリスの人民が一族郎党を連れて沿海の広州、福州、厦門、寧波、上海などの五港に寄居し、妨げられることなく貿易通商をおこなうこと。英国君主が、領事や管理者などといった官を派遣し、五港の城邑に居住し、商業貿易事宜に関連する業務をおこない、当該地方の地方官と公文を往来しながら、イギリス人たちに以下に示すルールに従って、貨物にかかる税金をしっかりと納付させること。
- 一、イギリスの商船は、遠路はるばる海を渡ってくるので、往々にして船に損壊が生じ、修理を要する。そこで沿岸の一か所をイギリスに与えて、船舶の修理や必要な資材を保守管理させるとよい。ここに大皇帝は、(ア)をイギリス君主に与え、以後も君主の位を継承した者が永きにわたってここを主管し、任意に制度や法をつくり、治めていくことをお許しになった。

<日米和親条約>

第一ヶ条

- 一 日本と合衆国とは其人民永世不朽の和親を取結び、場所人柄の差別無之候事。

第二ヶ条

- 一 伊豆下田、松前地箱館の両港は、日本政府に於て、亜墨利加船薪水、食料、(イ)、欠乏の品を日本人に而調候丈は給候為め、渡来の儀差免し候。尤下田港は約条書面調印之上即時相開き、箱館は来年三月より相始候事。

- 一 給すへき品物直段書之儀は、日本役人より相渡可申、右代料は金銀錢を以可相弁候事。

(中略)

第九ヶ条

- 一 日本政府、外国人え、当節亜墨利加人え不差免候廉相免し候節は、亜墨利加人えも同様差免し可申、右に付談判猶予不致候事。

アヘン戦争で清を圧倒したイギリスは、自国主導の貿易を行うことを目的に南京条約で（ア）を割譲させ、上海など五港の開港を認めさせた。一方、アメリカ合衆国は太平洋横断航路や捕鯨船への薪水や食料、（イ）の補給を行うことを目的として日本に開港を求め、日米和親条約を結んだ。この条約により（ウ）。

	ア	イ	ウ
①	香港一島	石炭	日米の貿易が始まると、日本では物価が高騰したため、幕府は五品江戸廻送令を発布した
②	香港一島	石炭	片務的最恵国待遇が定められたため、後に幕府がロシアに対し長崎を開港した際には、それをアメリカにも適用した
③	香港一島	石油	日米の貿易が始まると、日本では物価が高騰したため、幕府は五品江戸廻送令を発布した
④	香港一島	石油	片務的最恵国待遇が定められたため、後に幕府がロシアに対し長崎を開港した際には、それをアメリカにも適用した
⑤	マカオ	石炭	日米の貿易が始まると、日本では物価が高騰したため、幕府は五品江戸廻送令を発布した
⑥	マカオ	石炭	片務的最恵国待遇が定められたため、後に幕府がロシアに対し長崎を開港した際には、それをアメリカにも適用した
⑦	マカオ	石油	日米の貿易が始まると、日本では物価が高騰したため、幕府は五品江戸廻送令を発布した
⑧	マカオ	石油	片務的最恵国待遇が定められたため、後に幕府がロシアに対し長崎を開港した際には、それをアメリカにも適用した

(12) 日本国憲法について述べた文ア～ウのうち、その説明が適切であるものを「○」、適切でないものを「×」としたとき、その組合せとして最も適切なものを、次の①～⑥の中から一つ選べ。解答番号は22。

ア 帝国議会での審議・修正を経て日本国憲法が公布された。

イ 日本国憲法に基づき、教育基本法と学校教育法が定められ、教育勅語が失効した。

ウ 日本国憲法が施行され、その後の選挙で初の女性国会議員が誕生した。

	ア	イ	ウ
①	○	○	○
②	×	○	○
③	○	○	×
④	×	×	○
⑤	○	×	×
⑥	×	×	×

2 次の設問（１）～（８）に答えよ。

（１）次の文章は、「高等学校学習指導要領（平成３０年告示）解説 地理歴史編（平成３０年７月 文部科学省）第１章 総説 第３節 地理歴史科の目標」の一部である。文章中の（ア）～（ウ）に当てはまる語句の組合せとして最も適切なものを、次の①～⑥の中から一つ選べ。解答番号は２３。

（３）地理や歴史に関わる諸事象について、よりよい社会の実現を視野に課題を主体的に解決しようとする態度を養うとともに、多面的・多角的な考察や深い理解を通して涵養される（ア）としての自覚、我が国の国土や歴史に対する愛情、他国や他国の文化を尊重することの大切さについての自覚などを深める。

地理や歴史に関わる諸事象について、よりよい社会の実現を視野に課題を主体的に解決しようとする態度については、地理や歴史に関わる諸事象に関連して、学習上の課題を主体的、（イ）に解決しようとする態度や、よりよい社会の実現に向けて、多面的・多角的に考察、構想したことを社会生活に生かそうとする態度などを意味している。

多面的・多角的な考察や深い理解とは、地理歴史科の学習における考察や理解の特質を示している。そうした学習を通して涵養される（ア）としての自覚、我が国の国土や歴史に対する愛情、他国や他国の文化を尊重することの大切さについての自覚は、地理歴史科において育成することが期待される「学びに向かう力、（ウ）等」であることを意味している。

（ア）としての自覚、我が国の国土や歴史に対する愛情、他国や他国の文化を尊重することの大切さについての自覚などについては、いずれも現代世界の地域的特色と日本及び世界の歴史の展開についての多面的・多角的な考察や深い理解を通して涵養されるものであり、既述の資質・能力を含む三つの柱に沿った資質・能力の全てが相互に結び付き、養われることが期待される。

	ア	イ	ウ
①	公民	意欲的	人間性
②	日本国民	対話的	人間性
③	公民	対話的	道徳性
④	日本国民	意欲的	人間性
⑤	日本国民	対話的	道徳性
⑥	公民	意欲的	道徳性

(2) 次のア～ウは、地図中のⅠ～Ⅲのいずれかの断面図である。断面図ア～ウと地図中のⅠ～Ⅲの組合せとして最も適切なものを、次の①～⑥の中から一つ選べ。解答番号は24。

著作権保護の観点により、掲載いたしません。

[地理院地図（電子国土 Web）より]



	ア	イ	ウ
①	Ⅱ	Ⅲ	Ⅰ
②	Ⅰ	Ⅱ	Ⅲ
③	Ⅰ	Ⅲ	Ⅱ
④	Ⅲ	Ⅰ	Ⅱ
⑤	Ⅱ	Ⅰ	Ⅲ
⑥	Ⅲ	Ⅱ	Ⅰ





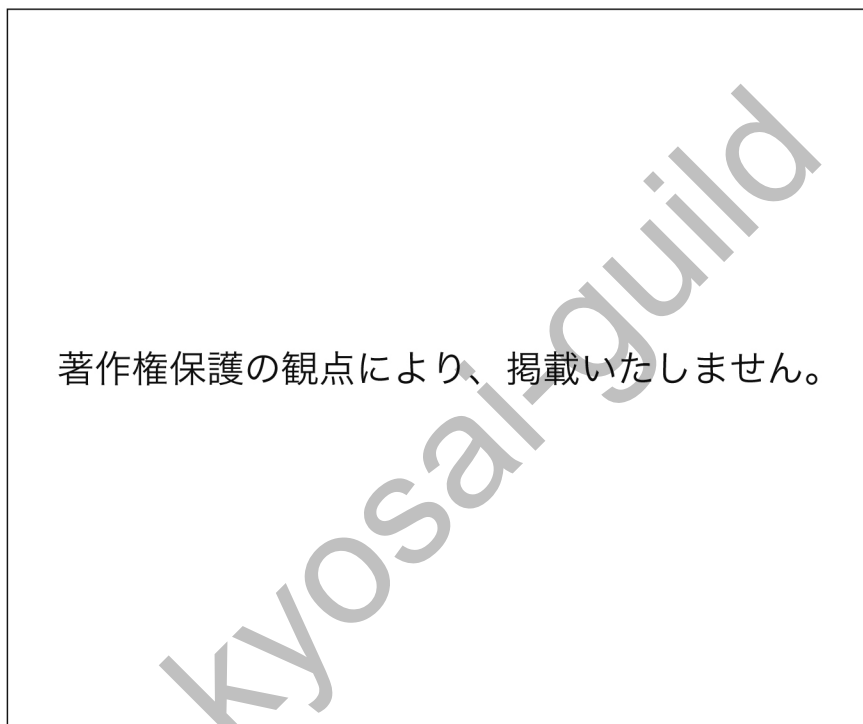
(4) 次のグラフは、3つの国ア～ウにおける産業別人口構成の変化（1990年、2000年、2010年）を示したものである。ア～ウに当てはまる国の組合せとして最も適切なものを、次の①～⑥の中から一つ選べ。解答番号は26。



（「データブック国際比較」より作成）

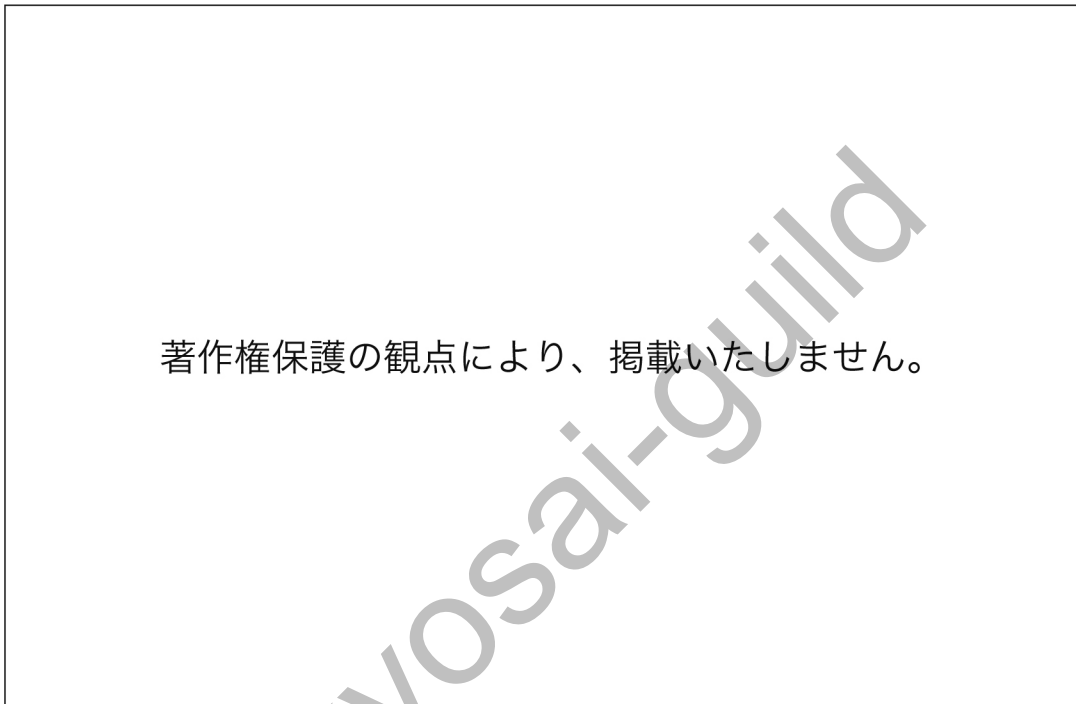
	ア	イ	ウ
①	日本	韓国	中国
②	韓国	中国	日本
③	中国	韓国	日本
④	中国	日本	韓国
⑤	韓国	日本	中国
⑥	日本	中国	韓国

(5) 次のグラフは、いくつかの国における全人口に対する首位都市の人口の割合と都市人口の割合を示したものである。①～⑤は、ペルー、韓国、タイ、コンゴ共和国、フランスのいずれかである。フランスを示したものを、図中の①～⑤のうちから一つ選べ。解答番号は27。



(Demographic Yearbook 2016, 世界国勢図会 2021/22年版より作成)

- (6) 次のグラフは、地図中のラテンアメリカの3か国における人種・民族構成の割合を示したものである。グラフ中のア～ウに当てはまる組合せとして最も適切なものを、次の①～⑥の中から一つ選べ。解答番号は28。



(Demographic Yearbook 2019 ほかより)

	ア	イ	ウ
①	混血 (メスチーソ)	先住民	ヨーロッパ系
②	先住民	混血 (メスチーソ)	ヨーロッパ系
③	ヨーロッパ系	先住民	混血 (メスチーソ)
④	ヨーロッパ系	混血 (メスチーソ)	先住民
⑤	混血 (メスチーソ)	ヨーロッパ系	先住民
⑥	先住民	ヨーロッパ系	混血 (メスチーソ)

(7) 次のア～ウは、東京都の3つの自治体の2020年時点での年齢階級別人口構成を示したものである。ア～ウと、3つの自治体について説明した文A～Cの組合せとして最も適切なものを、次の①～⑥の中から一つ選べ。解答番号は29。

ア	イ
著作権保護の観点により、 掲載いたしません。	著作権保護の観点により、 掲載いたしません。
ウ	
著作権保護の観点により、 掲載いたしません。	

(人口ピラミッドは、統計ダッシュボードの人口ピラミッド作成ページで作成)

- A 東京の都心に位置し、日本の首都機能や大企業、金融機関が集積する千代田区
- B 東京都の郊外に位置し、大学やニュータウンや戸建て住宅地が多い八王子市
- C 東京都の山間部に位置し、森林が大半を占めている奥多摩町

	ア	イ	ウ
①	A	B	C
②	A	C	B
③	B	A	C
④	B	C	A
⑤	C	A	B
⑥	C	B	A

- (8) 次の図は、長野盆地北部における令和元年台風19号に伴う大雨による浸水推定段彩図と同地域の治水地形分類図である。2つの図を見てわかることとして適切でないものを、次の①～⑥の中から一つ選べ。解答番号は30。

著作権保護の観点により、掲載いたしません。

令和元年台風19号に伴う大雨による浸水推定段彩図

著作権保護の観点により、掲載いたしません。

治水地形分類図（地理院地図を改変）

- ① 扇状地の部分（地点 A）は，末端付近の一部が浸水している。
- ② 段丘の部分（地点 B）は，ほとんど浸水していない。
- ③ 自然堤防の部分（地点 C）は，浸水している。
- ④ 千曲川本流に近い（地点 D）は，最も浸水深が大きくなっている。
- ⑤ 盛土地（地点 E）にも浸水しているところがある。
- ⑥ 後背湿地（地点 F）は，千曲川支流の堤防に遮られているためか浸水深が浅かった。

Kyosai-guild