

令6 高等学校地理歴史・公民 (11枚のうち1)

(解答はすべて、解答用紙に記入すること)

I 次の文章を読んで、あとの問いに答えなさい。

①隋は、中国の南北を結ぶ大運河の建設にとりかかり、2代皇帝(A)は、608年に黄河から北の涿郡(北京)まで達する永濟渠を完成させた。その後も工事は続き、南の②余杭(杭州)まで達する大運河が完成すると、南北の交流が盛んになり、永濟渠は、③朝鮮半島への遠征の際、物資輸送にも使われた。この大運河は、唐においては、近隣地域の生産力のみでは支えきれなかった首都の(B)や洛陽の食糧事情を安定させた。また、永濟渠と通濟渠の結節点として発展した開封は、④北宋の都となり経済的な重要性が高まった。

⑤モンゴル帝国では、内陸部の開封を経由しない済州河と会通河が開かれた。大都には、運河を経由して渤海湾からの船舶が停泊する港が設けられ、ムスリム商人が利用した海上ルートが繋がり、世界各地の産品が集まる商業の中心地として栄えた。

⑥明代以降の、⑦海禁政策の下では、内陸水運が見直され、杭州から天津へつながる運河が開削され、これが現在の大運河となっている。2014年には、その文化的価値が認められ⑧京杭大運河として世界文化遺産に登録されている。

1 文中の(A)、(B)にあてはまる語句を書きなさい。

2 下線部①について、隋の統治制度に関して述べた文として適切なものを、次のア～エから1つ選んで、その符号を書きなさい。

- ア 中央政府には三省・六部を中心とした分業体制を確立した。
- イ 全国を複数の郡に分け、郡の下に県を置き、中央から派遣した官吏に治めさせた。
- ウ 一族や功臣などに封土と人民を与え、世襲の諸侯として国を建てさせ治めた。
- エ 九品中正にかわる新しい人材登用制度として科挙を始めた。

3 下線部②に関して述べた文として適切なものを、次のア～エから1つ選んで、その符号を書きなさい。

- ア 三国時代には建業と称され、明の洪武帝が都とした。
- イ 貿易港として栄え、マルコ＝ポーロは『世界の記述(東方見聞録)』でヨーロッパに紹介した。
- ウ 唐代より市舶司が置かれ、乾隆帝よりヨーロッパ船の来航が唯一許される海港都市であった。
- エ 中国第一の陶磁器の生産地、高品質の白磁の産地でもあった。

4 下線部③について、朝鮮半島の出来事に関して述べた文 a～c について、古いものから順に並べたものを、あとのア～カから1つ選んで、その符号を書きなさい。

- a 新羅は、唐を排除して朝鮮半島を統一した。
- b 高麗は、仏教を保護し中国の官制を導入した。
- c 高句麗は、漢が支配していた楽浪郡を滅ぼした。

ア a→b→c イ a→c→b ウ b→a→c エ b→c→a オ c→a→b カ c→b→a

5 下線部④について、この王朝を趙匡胤が建てた頃の出来事に関して述べた文として適切なものを、次のア～エから1つ選んで、その符号を書きなさい。

- ア 李成桂が朝鮮を建国し、都を漢城とした。
- イ 源頼朝が、征夷大將軍に任命された。
- ウ ユーグ＝カペーが王位につき、カペー朝を開いた。
- エ グプタ朝では、チャンドラグプタ2世が北インド全域を統治した。

6 下線部⑤について、この帝国を訪問した人物に関して述べた文として適切なものを、次のア～エから1つ選んで、その符号を書きなさい。

- ア ルイ9世によって派遣されたウィリアム＝ルブルックは、カラコラムに至りモンケと会見を行った。
- イ モンテ＝コルヴィノは、大都の初代大司教に任じられ中国で初めてカトリックの布教を行った。
- ウ 『大旅行記(三大陸周遊記)』で知られるイブン＝バトゥータは、海路で中国に渡った。
- エ イギリスの軍人のマカートニーは、熱河の離宮に至り貿易関係の改善を要求した。

7 下線部⑥に関して、当時の社会を説明した次の文中の(X)～(Z)にあてはまる語句の組合せとして適切なものを、あとのア～エから1つ選んで、その符号を書きなさい。

長江(X)域は、人口に比べて穀物が不足するようになり、長江(Y)域が新たな穀倉地帯となり、明代後期には「(Z)」と言われた。

- ア X 下流 Y 中流 Z 湖広熟すれば天下足る イ X 下流 Y 中流 Z 蘇湖熟すれば天下足る
- ウ X 中流 Y 下流 Z 湖広熟すれば天下足る エ X 中流 Y 下流 Z 蘇湖熟すれば天下足る

8 下線部⑦に関して述べた文 a～c について、古いものから順に並べたものを、あとのア～カから1つ選んで、その符号を書きなさい。

- a 明は、モンゴルを統合したアルタン＝ハンの侵入に苦しんだ。
- b 鄭和は、南海遠征を行い、一部はアフリカ東岸に達した。
- c 康熙帝は、海禁策により鄭氏台湾の財源を絶ち、降伏させた。

ア a→b→c イ a→c→b ウ b→a→c エ b→c→a オ c→a→b カ c→b→a

9 下線部⑧に関して、世界の代表的な運河に関して述べた文 a と b の正誤の組合せとして適切なものを、あとのア～エから1つ選んで、その符号を書きなさい。

- a パナマ運河は太平洋と大西洋を結ぶ運河であり、アメリカ大統領ウィルソンの時代には、運河の管理権を得て、中米やカリブ海域でのアメリカの覇権を確立した。
- b スエズ運河は地中海と紅海を結ぶ運河であり、イギリス首相ディズレーリの時代には、運河の管理権を得て、「インドへの道」を確保した。

ア a-正 b-正 イ a-正 b-誤 ウ a-誤 b-正 エ a-誤 b-誤

令6 高等学校地理歴史・公民 (11枚のうち2)

(解答はすべて、解答用紙に記入すること)

II 次の文章を読んで、あとの問いに答えなさい。

帝国とは皇帝が君臨する国家をいうが、世界支配を行おうとする国家を世界帝国ともいう。史上初めての世界帝国は紀元前671年全オリエントを統一した(A)と言われるがその統治は長く続かなかった。やがて、イラン高原では、インド=ヨーロッパ系のペルシア人が台頭して、①アケメネス朝ペルシアを建国し、(B)が統治した時代にはエーゲ海北岸からインダス川に及ぶ大帝国となった。この帝国は、諸民族に対し寛容であり、長く大国の地位を保った。②ギリシアに対し介入を続けたアケメネス朝討伐のため、東方遠征を開始したのは③アレクサンドロスである。彼はペルシア帝国の継承者を自称し、宮廷と官僚機構を引き継いだ。紀元前30年に地中海世界を統一したのは④ローマである。オクタヴィアヌスは共和政の形式を尊重したが、要職を兼任して、事実上帝政を開始した。

10世紀にカロリング家が断絶すると、空位となっていたローマ皇帝の冠をオットー1世が教皇から授けられ神聖ローマ帝国が成立し、後に⑤ハプスブルク家が世襲的に皇帝に選出されるようになり、その支配は、⑥ナポレオンによるライン同盟の成立まで続いた。

19世紀後半には、列強と呼ばれる国々が、商品市場や原料供給地などを確保しようと⑦植民地の拡大をはかった。

1 文中の(A)、(B)にあてはまる語句を書きなさい。

2 下線部①に関して述べた文として適切なものを、次のア～エから1つ選んで、その符号を書きなさい。

ア ペルセポリスの宮殿跡のレリーフには、各地から貢納する人々が描かれている。

イ サトラップとよばれる王直属の監察官を派遣し、総督を監視させた。

ウ スサからミレトスまで「王の道」を建設し、駅伝制を整備した。

エ 善悪二元論の立場に立つマニ教が信仰された。

3 下線部②について、ペルシア戦争に関して述べた文a～cについて、古いものから順に並べたものを、あとのア～カから1つ選んで、その符号を書きなさい。

a テミストクレスの指導のもと、アテネ市民は結束しギリシア海軍の主力となりサラミスの海戦でペルシアを破った。

b ペルシアの支援を受けたスパルタがアテネを破った。

c アテネではペリクレスの指導のもと、徹底した民主政が実現した。

ア a→b→c イ a→c→b ウ b→a→c エ b→c→a オ c→a→b カ c→b→a

4 下線部③の人物が行った遠征に関して説明した次の文中の(X)、(Y)にあてはまる語句の組合せとして適切なものを、あとのア～エから1つ選んで、その符号を書きなさい。

大王の遠征を契機に、(X)文化が東方に波及し、(X)美術の様式はインドにも伝わり、ガンダーラ菩薩像などがその影響を受けたと考えられる。また、多数建設されたギリシア風の都市の中でもエジプトのアレクサンドリアには、王立研究所である(Y)がつくられた。

ア X ギリシア Y ニザーミーヤ学院

イ X オリエン特 Y ムセイオン

ウ X ギリシア Y ムセイオン

エ X オリエン特 Y ニザーミーヤ学院

5 下線部④に関して、ローマ帝国を説明した文として適切なものを、次のア～エから1つ選んで、その符号を書きなさい。

ア カラカラ帝のときに、帝国の全自由人にローマ市民権が与えられた。

イ 円形闘技場では富裕な貴族や市民によって剣闘士競技などの娯楽が提供された。

ウ 広大な版図には道路網が敷かれ「すべての道はローマに通ず」と言われた。

エ 隷属的小作農民を用いたコロナトゥス制の発達により中央集権が強化された。

6 下線部⑤に関して述べた文aとbの正誤の組合せとして適切なものを、あとのア～エから1つ選んで、その符号を書きなさい。

a スペインのカルロス1世は、カール5世として神聖ローマ皇帝に即位した。

b マリア=テレジアはプロイセンと同盟を結んで、七年戦争を戦った。

ア a-正 b-正 イ a-正 b-誤 ウ a-誤 b-正 エ a-誤 b-誤

7 下線部⑥に関して述べた文aとbの正誤の組合せとして適切なものを、あとのア～エから1つ選んで、その符号を書きなさい。

a ナポレオンは、私有財産の不可侵などを成文化した「ナポレオン法典」を制定した。

b フランス軍が駐留したプロイセンでは、ハルデンベルクが講演「ドイツ国民に告ぐ」を行って国民意識の形成をよびかけた。

ア a-正 b-正 イ a-正 b-誤 ウ a-誤 b-正 エ a-誤 b-誤

8 下線部⑦に関して、アジアの植民地化について述べた文として適切なものを、次のア～エから1つ選んで、その符号を書きなさい。

ア インド人傭兵シパーヒーがフランスに対して反乱を起こすと、反乱は北インド各地に広がった。

イ フィリピンは、王室を先頭に統治制度・軍隊や教育の近代化を推進したため独立を保った。

ウ フランスは、ベトナムとカンボジアをあわせてフランス領インドシナ連邦を形成し、後にマレーシアも編入した。

エ イギリスは、シンガポールなどの港市を獲得して、海峡植民地とした。

9 世界各地の様々な時代の帝国に関して述べた文として適切なものを、次のア～エから1つ選んで、その符号を書きなさい。

ア ビザンツ帝国のユスティニアヌス帝は、首都ラヴェンナに壮大な聖ソフィア大聖堂を建立して、帝国の威信を高めた。

イ アッバース朝では、少数のアラブ人ムスリムが多数の異民族・異教徒を軍事力で支配したため「アラブ帝国」とよばれる。

ウ オスマン帝国では、キリスト教徒はジズヤを支払うことで大幅な自由が認められ、イスラーム教徒と共存した。

エ ムガル帝国では、仏教とイスラーム文化が融合したインド=イスラーム文化が栄え、タージ=マハルがつくられた。

令6 高等学校地理歴史・公民 (11枚のうち3)

(解答はすべて、解答用紙に記入すること)

Ⅲ 次の文章を読んで、あとの問いに答えなさい。

令和6年度、新紙幣が発行される予定である。過去には、大化の改新を主導した(A)や、宇多天皇により重用されたが九州へ左遷された(B)の肖像画が紙幣に使用された。銭貨では、①奈良時代から②平安時代の10世紀半ばに至るまで、国家による銭貨の発行が行われた。12世紀半ばに、中国から銭貨が流入し、13世紀以降には、③年貢を銭貨で納めることが増加した。15世紀後半以降、銭貨需要はさらに増大したが、④中国からの銭貨の流入量は減少した。このため、⑤私的につくられた私鑄銭の流通により、国内の銭貨流通は混乱した。江戸時代には、幕府は⑥主要鉱山を直轄し、金・銀・銭の三貨を流通させた。18世紀後半、貨幣経済はより浸透し、幕府は⑦南鑛二朱銀を発行し、貨幣の統一を図った。また、江戸時代を通じて、幕府により⑧貨幣の改鑄が頻繁に行われた。

1 文中の(A)と(B)に入る人物の組合せとして適切なものを、次のア～エから1つ選んで、その符号を書きなさい。

ア A 厩戸王(聖徳太子) B 藤原頼通 イ A 厩戸王(聖徳太子) B 菅原道真
ウ A 中臣鎌足 B 藤原頼通 エ A 中臣鎌足 B 菅原道真

2 下線部①について、この時代の仏教について述べた文aとbの正誤の組合せとして適切なものを、あとのア～エから1つ選んで、その符号を書きなさい。

a 仏法の力により国家を安定させるという思想から、国家の保護を受けて発展した。
b 現世利益を求める信仰と並んで、現世の不安から逃れようとする教えが流行した。

ア a-正 b-正 イ a-正 b-誤 ウ a-誤 b-正 エ a-誤 b-誤

3 下線部②について、この時代に関して述べた文a～cについて、古いものから順に並べたものを、あとのア～カから1つ選んで、その符号を書きなさい。

a 4人の娘を皇后や皇太子妃とした人物が「この世をば我が世とぞ思ふ望月の……」と和歌に詠むほど、権勢をふるった。
b 時の大納言が平安京大内裏の門に放火し、その罪を左大臣に負わせようとして発覚し、流罪に処せられた事件が起こった。
c 皇位継承や政権内での主導権をめぐり、2つの乱が平安京でおこり、貴族社会の争いごととも武士の実力で解決された。

ア a→b→c イ a→c→b ウ b→a→c エ b→c→a オ c→a→b カ c→b→a

4 下線部③について、この行為の用語とこの時の社会の変化について述べた文の組合せとして適切なものを、あとのア～エから1つ選んで、その符号を書きなさい。

用語 あ 代銭納 変化 a これまで税として都に流入していた品物が、商品として流入するようになった。
い 本途物成 b 作物を安定して生産するため、刈敷・草木灰に加えて干鰯などの金肥が普及した。

ア あ-a イ あ-b ウ い-a エ い-b

5 下線部④の背景として適切なものを、次のア～エから1つ選んで、その符号を書きなさい。

ア 日本の中国王朝との交易事務は大宰府に一元化された。 イ 日本船の海外渡航には、老中発行の許可状が必要となった。
ウ 中国王朝が朝貢貿易を除いた貿易を禁止、制限した。 エ 中国王朝が紙幣を発行し、銭貨の利用価値が低下した。

6 下線部⑤から類推できる中世社会の特徴を述べた文として適切なものを、次のア～エから1つ選んで、その符号を書きなさい。

ア 圧倒的軍事力を背景とした政権により秩序が安定した時代 イ 様々な勢力が独自の権力をもち、政治権力が分散した時代
ウ 文書主義を特徴とし、中国をモデルとした中央集権の時代 エ 国土の領域が確定し、人々の行動様式が画一化した時代

7 下線部⑥について、次の資料1が示す鉱山を、あとのア～エから1つ選んで、その符号を書きなさい。

資料1 この鉱山は、1542年の山名氏の時代に採掘が始まりました。織田・豊臣時代を経て、江戸時代、幕府が代官所を置き、最盛期を迎えます。明治元年、政府直轄となりフランス人技師が着任し、めざましい近代化を成し遂げました。明治29年に三菱合資会社に払い下げられ、昭和48年の閉山まで国内有数の大鉱山として採掘が続きました。平成29年、日本遺産に認定され鉱山の歴史を伝えています。(観光パンフレットを要約)

ア 佐渡 イ 石見 ウ 別子 エ 生野

8 下線部⑦について、南鑛二朱銀の発行を主導した幕府老中には異なる評価がある。異なる評価とそれを説明するとき使用する資料の組合せとして適切なものを、あとのア～エから1つ選んで、その符号を書きなさい。

評価 あ 幕府役人のあいだで賄賂や縁故による人事が横行するなど、武士の気風を退廃させた。
い 商人資本を活用した政策に刺激を受け、民間の学問・文化・芸術が多様な発展をとげた。

資料 a この上は なほたぬまるる 度毎に めった取込む との(殿)も家来も
b 上げ米と いへ上米は 気に入らず 金納ならば しじょうろふぞ
c 白河の 清きに魚も 住みかねて もとの濁りの 田沼こひしき
d 金とりて たぬまるる身の にくさゆへ 命捨てても さのみ惜しまん

ア あ-a い-c イ あ-b い-c ウ あ-a い-d エ あ-b い-d

9 下線部⑧について、次の資料2は、1860年の貨幣改鑄を説明したものである。(X)、(Y)にあてはまる文の組合せとして適切なものを、あとのア～エから1つ選んで、その符号を書きなさい。

資料2 貿易の開始とその影響
(X) ⇔ 幕府は金貨の品質を大幅に引き下げる改鑄を行った ⇔ (Y)

あ 輸出超過により、金が大量に海外へ流出した。 い 金銀比価の違いにより、金が大量に海外へ流出した。
う デフレーションにより人々の生活は混乱した。 え インフレーションにより人々の生活は混乱した。
ア X あ Y う イ X あ Y え ウ X い Y う エ X い Y え

令6 高等学校地理歴史・公民 (11枚のうち4)

(解答はすべて、解答用紙に記入すること)

IV 次の文章を読んで、あとの問いに答えなさい。

明治政府は、①地租改正などの大規模な内政改革を精力的に推進し、富国強兵をめざして殖産興業に力を注いだ。1872年には(A)省が中心となって新橋・横浜間、ついで神戸・大阪・京都間に鉄道を敷設した。西洋文明の摂取による近代化を推進するために、政府は、小学校教育の普及に努力を払うなど、②教育にも力を入れた。工業分野では貿易赤字を解消するため官営の(B)製糸場を群馬県に設け、生糸の生産拡大を図った。綿製品はイギリス製品の輸入に圧迫されたが、1883年には③大阪紡績会社が開業し機械による生産が急増した。

20世紀になると、④第一次世界大戦により日本は未曾有の好景気を迎え、⑤都市化が進展し、都市の景観や市民生活も大きく変貌した。しかし、ヨーロッパ諸国の復興が進むと、戦後恐慌が発生し、その後日本経済は⑥関東大震災で大きな打撃を受け、⑦1920年代以降複数の恐慌に見舞われた。そのような状況の中で、1931年に犬養毅内閣の(C)大蔵大臣は金輸出再禁止を断行し、事実上の管理通貨制度に移行し、諸産業は円相場的大幅な下落を利用して輸出を飛躍的に伸ばした。

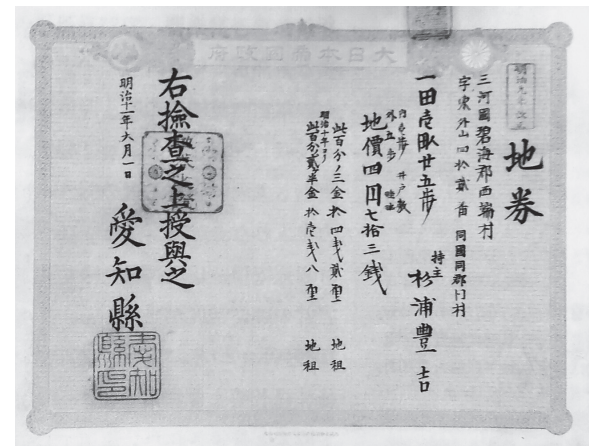
第二次世界大戦後、⑧経済復興に向けての積極的な措置がとられ、1968年には資本主義諸国の中でアメリカに次ぐ世界第2位のGNPを実現した。

1 文中の(A)～(C)にあてはまる語句を書きなさい。

2 下線部①について、右の資料を説明した文として適切なものを、次のア～エから1つ選んで、その符号を書きなさい。

- ア 土地の譲渡が可能になったので、土地の所有者名は記されていない。
- イ この地券は、地租の税率が変更される以前に発行された。
- ウ この地券には、十進法を採用した通貨の単位が記載されている。
- エ 土地を検査し、地券を授与した県令の名前が記されている。

資料



3 下線部②について、近代以降の教育の制度について述べた文として適切なものを、次のア～エから1つ選んで、その符号を書きなさい。

- ア フランスの制度にならった学制は、地方の実情を無視した画一的な制度であったため、政府内外から批判があった。
- イ 1879年に公布された教育令では、小学校の管理を地方に移管し、義務教育期間の授業料を廃止した。
- ウ 高等教育の充実をめざした原敬内閣は1918年に大学令を制定し、総合大学である帝国大学が初めて設立された。
- エ 第二次世界大戦後、教育制度の改革において、教育の機会均等や男女共学の原則をうたった学校教育法が制定された。

4 下線部③について、大阪紡績会社を設立した人物として適切なものを、次のア～エから1つ選んで、その符号を書きなさい。

- ア 岩崎弥太郎
- イ 渋沢栄一
- ウ 豊田佐吉
- エ 松方正義

5 下線部④について述べた文aとbの正誤の組合せとして適切なものを、あとのア～エから1つ選んで、その符号を書きなさい。

- a 第2次大隈重信内閣は、日英同盟を理由に参戦した。 b 中国におけるドイツの根拠地青島と遼東半島の権益を接収した。
- ア a-正 b-正
- イ a-正 b-誤
- ウ a-誤 b-正
- エ a-誤 b-誤

6 下線部⑤に関して述べた文aとbの正誤の組合せとして適切なものを、あとのア～エから1つ選んで、その符号を書きなさい。

- a 都心では鉄筋コンクリート造のオフィスビルが出現し、ガス灯の設置がすすんだ。
- b 阪神間では、私鉄の経営するターミナルデパート、住宅地開発、遊園地などの娯楽施設がつくられた。
- ア a-正 b-正
- イ a-正 b-誤
- ウ a-誤 b-正
- エ a-誤 b-誤

7 下線部⑥について、関東大震災が発生した時期は、右の表のどの時期に該当するか。適切なものを、次のア～エから1つ選んで、その符号を書きなさい。

表

I	シーメンス事件の発覚により内閣が退陣した。
II	ラジオ放送が東京・大阪・名古屋で開始された。
III	大蔵大臣の失言に端を発し、取付け騒ぎが発生した。

- ア Iの前
- イ IとIIの間
- ウ IIとIIIの間
- エ IIIの後

8 下線部⑦について、1920年代の出来事として適切なものを、次のア～エから1つ選んで、その符号を書きなさい。

- ア 工場制工業が勃興し、賃金労働者が増加したため、日本で最初の労働者保護法である工場法が制定された。
- イ ワシントン会議が開かれ、米・英・日・仏・伊の五大国の補助艦の保有比率を定める条約が結ばれた。
- ウ 「閥族打破・憲政擁護」をスローガンとする第1次護憲運動が全国に広まり、内閣不信任案が提出された。
- エ 新婦人協会などによる運動の結果、治安警察法が改正され、女性も政治演説会に参加できるようになった。

9 下線部⑧について、戦後の経済について述べた文として適切なものを、次のア～エから1つ選んで、その符号を書きなさい。

- ア 経済安定九原則を実行するため、ドッジが特別公使として派遣され、国債の発行による通貨の増発を指示した。
- イ シャープを団長とする税制専門家チームの勧告により、間接税中心主義や累進課税制度が採用された。
- ウ 第3次吉田内閣は1ドル308円の単一為替レートを設定して国際競争の中で輸出の振興を図った。
- エ 池田勇人内閣は「所得倍増」をスローガンに高度経済成長を促進する経済政策を展開した。

令6 高等学校地理歴史・公民 (11枚のうち5)

(解答はすべて、解答用紙に記入すること)

V 次の文章を読んで、あとの問いに答えなさい。

私たちの周辺には多種多様な地理情報が存在している。それらの情報は、地図によって空間的に表現されている。①現代では、科学技術の発達により、様々な地図が開発されており、②地域間の時間距離の縮小と地球の一体化が進む中、地図の重要性は一層大きくなっている。しかし、球体である地球を、平面の地図に写し取ることは難しく、古くから、③使う目的に合わせて、地図が考案されてきた。地図は、作成の意図や目的により、一般図と主題図に大別できる。一般図には、地形や道路などの要素を基本に、地表の事象をできるだけ網羅的に取り上げた地形図などがある。身近な地域を調査する際には、④地形図が活用される。主題図は、気候・土壌・人口分布など、特定の事象を重点的に表現したものであり、土地利用図や⑤統計地図が代表的である。

1 下線部①に関して、現代の地図について述べた次の文中の (A) ~ (C) にあてはまる語句の組合せとして適切なものを、あとのア~カから1つ選んで、その符号を書きなさい。

天気予報でみられる雲の画像のように、人工衛星から地球の様子を監視する技術は (A) とよばれ、穀物の生産予測など様々な地図に加工されている。人工衛星の電波を受信し、位置を正確に知ることができる (B) は、カーナビゲーションや携帯電話などに利用されている。また、コンピュータを利用して、様々な地理情報を収集、分析、地図表現する (C) も、インターネットのデジタル地図のように身近なものになっている。

	ア	イ	ウ	エ	オ	カ
A	リモートセンシング (遠隔探査)	リモートセンシング (遠隔探査)	地理情報システム (GIS)	地理情報システム (GIS)	全球測位衛星システム (GPS)	全球測位衛星システム (GPS)
B	地理情報システム (GIS)	全球測位衛星システム (GPS)	リモートセンシング (遠隔探査)	全球測位衛星システム (GPS)	リモートセンシング (遠隔探査)	地理情報システム (GIS)
C	全球測位衛星システム (GPS)	地理情報システム (GIS)	全球測位衛星システム (GPS)	リモートセンシング (遠隔探査)	地理情報システム (GIS)	リモートセンシング (遠隔探査)

2 下線部②について、関西国際空港を日本時間で7月1日午後11時発の航空便が、ハワイ・ホノルルに現地時間の7月1日午前11時に到着した。このことに関連して述べた文として適切なものを、次のア~カから2つ選んで、その符号を書きなさい。ただし、ハワイの標準時子午線は西経150度であり、ハワイではサマータイムは採用されていない。

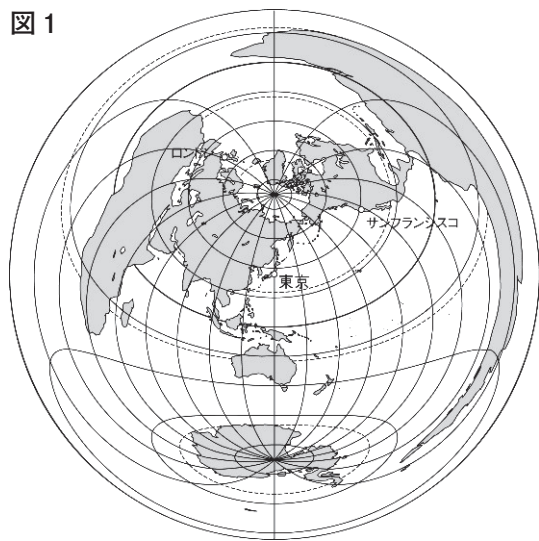
- ア 日本とハワイの時差は12時間である。
- イ 日本とハワイの時差は15時間である。
- ウ 日本とハワイの時差は19時間である。
- エ 日本からハワイまでの飛行時間は7時間であった。
- オ 日本からハワイまでの飛行時間は9時間であった。
- カ 日本からハワイまでの飛行時間は12時間であった。

3 下線部③について、次の問いに答えなさい。

(1) 右の図1は、東京中心の正距方位図法の地図である。この図から読みとれることについて述べた文として適切なでないものを、次のア~エから1つ選んで、その符号を書きなさい。

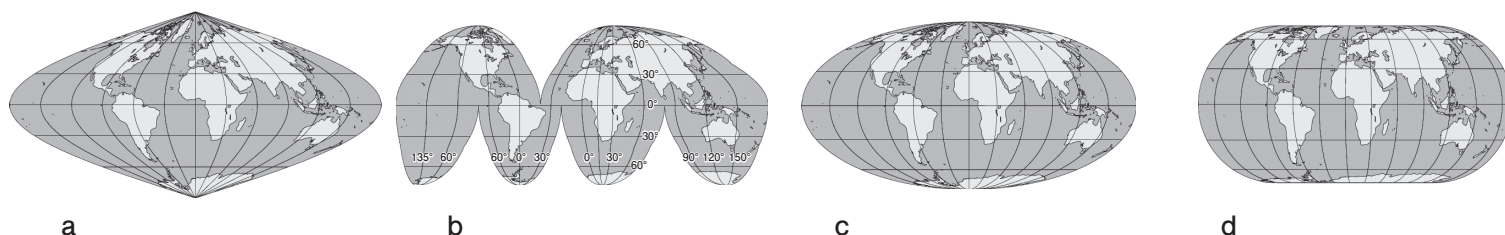
- ア 東京の対蹠点は、大西洋上にある。
- イ 東京からみたサンフランシスコの方位はほぼ北東である。
- ウ 東京からロンドンへの最短コースはロシア上空を通過する。
- エ 東京からアフリカ大陸南端までの距離は、東京からサンフランシスコまでの距離よりも短い。

図1



(2) 次の図2は正積図を示したものであり、あとのi・iiはその説明文である。「メルワイデ図法」に該当する組合せとして適切なものを、あとのア~クから1つ選んで、その符号を書きなさい。

図2



- i 中央経線以外の経線は、正弦曲線で描かれており、赤道や中央経線付近の陸地の形が比較的正確に表現されている。
- ii 経線が楕円を用いて描かれており、世界全図や世界全体を対象とした各種の分布図に利用される。

- ア a-i イ b-i ウ c-i エ d-i オ a-ii カ b-ii キ c-ii ク d-ii

令6 高等学校地理歴史・公民 (11枚のうち6)

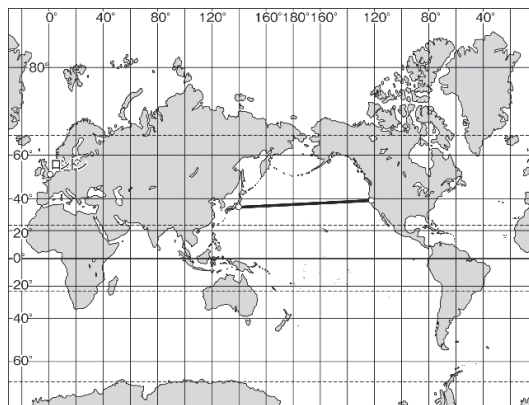
(解答はすべて、解答用紙に記入すること)

(3) 右の図3のメルカトル図法について述べた次の文中の (A)、(B) にあてはまる語句の組合せとして適切なものを、あとのア～カから1つ選んで、その符号を書きなさい。

この図法では、高緯度ほど距離と面積は拡大され、緯度60度では、面積は赤道付近の (A) 倍となる。羅針盤を利用する航海用の図法で、現在でも海図に利用される。任意の2点間を結ぶ直線は (B) 航路になる。

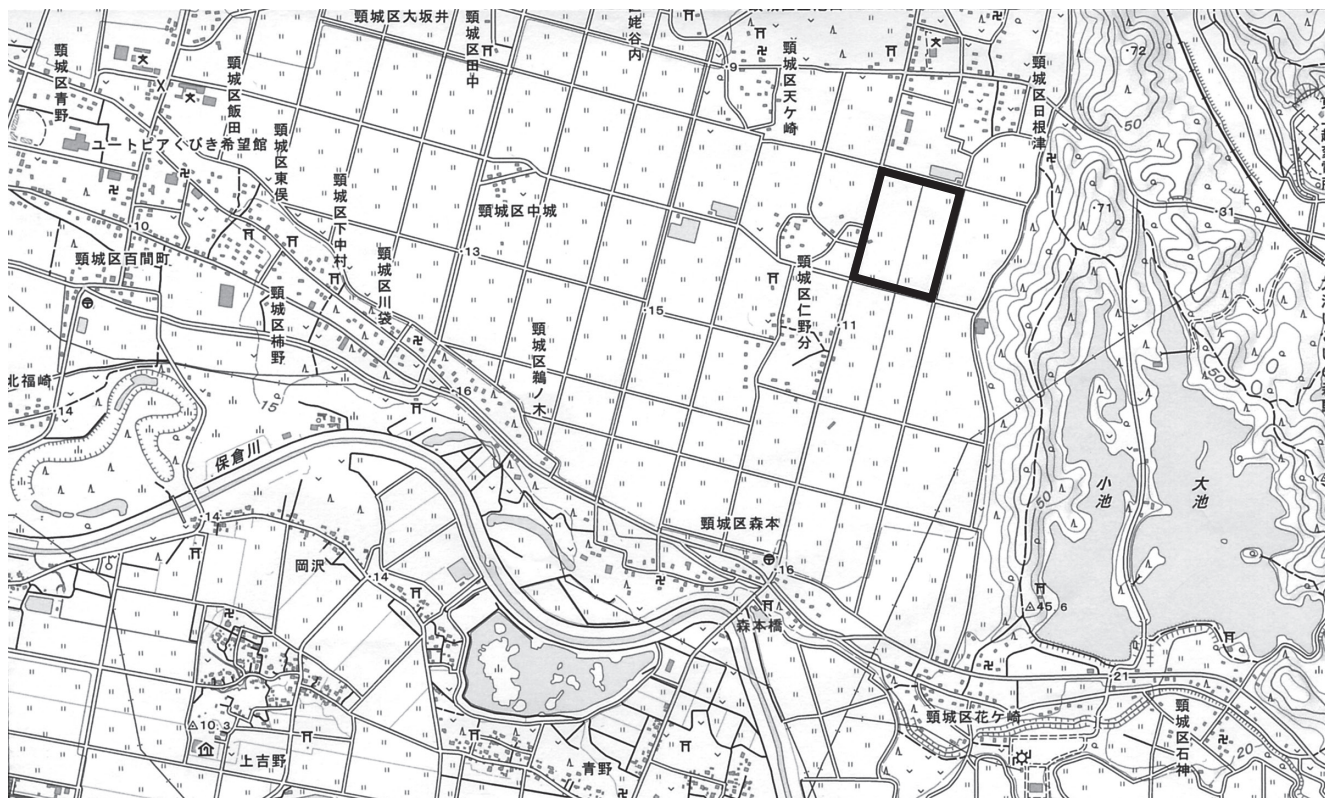
	ア	イ	ウ	エ	オ	カ
A	2	2	4	4	6	6
B	等角	大圏	等角	大圏	等角	大圏

図3



4 下線部④に関して、次の図4から読み取れることについて述べた文として適切なでないものを、あとのア～エから1つ選んで、その符号を書きなさい。

図4



(2万5千分の1地形図「湯町」(平成31年)を一部改変)

ア 図は沖積平野の一部である氾濫原を示しており、後背湿地の大部分は水田に利用されている。

イ 保倉川の流路の変更により、旧流路の一部が河跡湖として残されている。

ウ 大池や小池の南端には、堤防が築かれている。

エ 保倉川は、森本橋付近で天井川となっており、道路が河床の下を通っている。

5 図4の太枠 で囲まれた部分(地図上で縦約1.5cm、横約1cm)の実際の面積に最も近いものを、次のア～エから1つ選んで、その符号を書きなさい。

ア 0.03km² イ 0.06km² ウ 0.09km² エ 0.12km²

6 下線部④に関して、地形図の利用について述べた文として適切なものを、次のア～エから1つ選んで、その符号を書きなさい。

ア 地形図の等高線の間隔が狭いほど傾斜はゆるやかである。

イ 山地で等高線が標高の低い方に向かって張り出しているところは尾根である。

ウ 2万5千分の1地形図は、空中写真や現地測量などをもとにした編集図である。

エ 5万分の1地形図は、2万5千分の1地形図をもとにした実測図である。

7 下線部⑤に関して、地理情報を地図で表すことについて述べた文として適切なでないものを、次のア～エから1つ選んで、その符号を書きなさい。

ア 地域別の人口密度を表すには、ドットマップが用いられることが多い。

イ 多くの地方自治体では、津波や洪水など自然災害による被害を抑えることを目的にハザードマップが作成されている。

ウ 図形表現図は、円や正方形など図形の大きさによって地域ごとの統計数値を比較ができ、絶対分布図といわれる。

エ カルトグラムは、統計数値をより効果的に示すため、もとの地図を変形させて表現したものである。

令6 高等学校地理歴史・公民 (11枚のうち7)

(解答はすべて、解答用紙に記入すること)

VI 次の文章を読んで、あとの問いに答えなさい。

東南アジアとアフリカには①多様な自然環境がみられ、特徴的な②農業が発達している。また、東南アジアは1980年代半ばに外国企業の工場進出先として注目されるようになった。近年は、③地域経済統合を図る取組も進められている。一方、アフリカでは④自給作物の栽培や先進国に輸出される商品作物の栽培が現在も行われているが、⑤食料不足に悩む地域もあり、⑥特定の農産物や鉱産資源の輸出に頼る傾向がある。近年は市場の相手先として、また資源開発地として、日本との結びつきを深めている。

図1

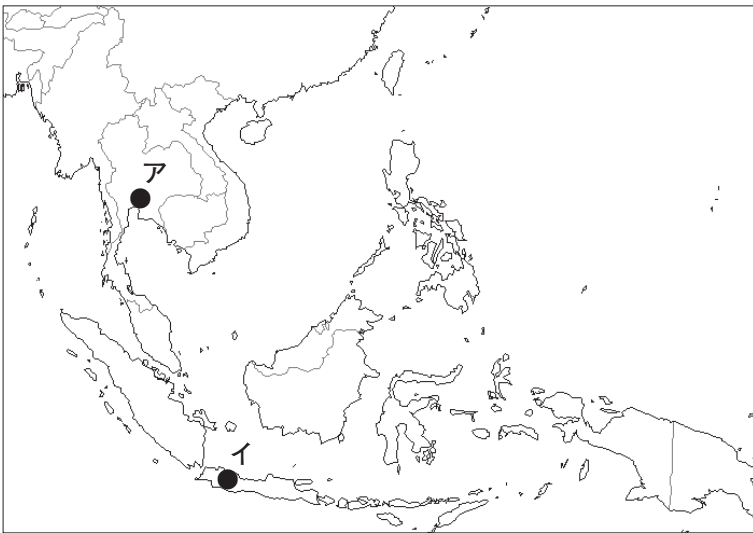
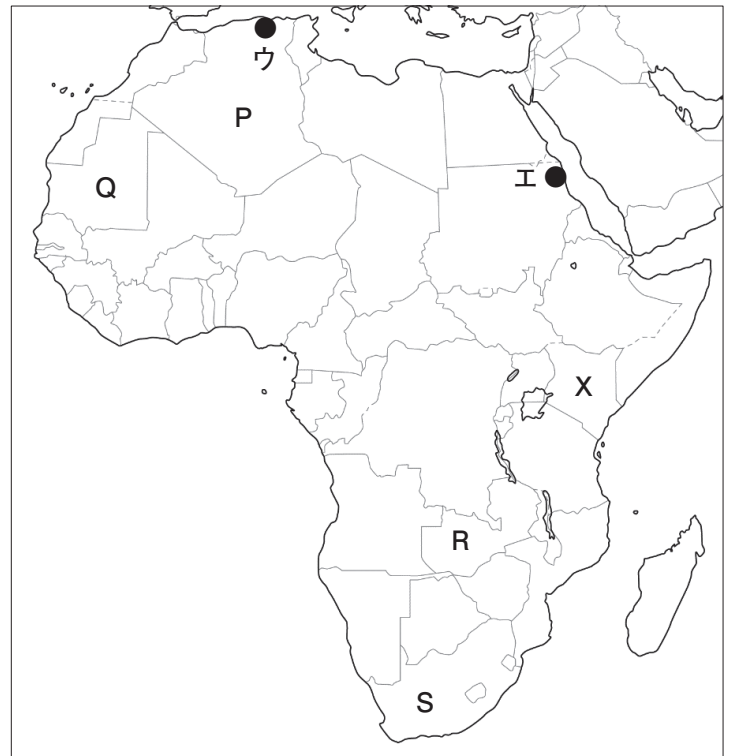
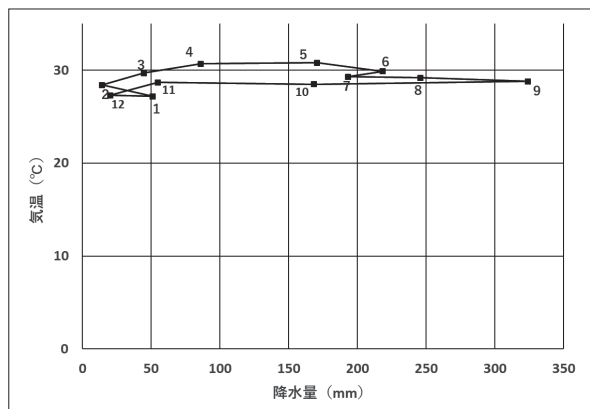


図2



1 下線部①について、次の問いに答えなさい。

(1) 次のハイサーグラフに該当する地点を、図1、図2のA～Iから1つ選んで、その符号を書きなさい。



(気象庁ホームページより作成)

(2) 東南アジアの地帯構造について述べた文として適切なものを、次のA～Iから1つ選んで、その符号を書きなさい。

- A 東南アジアは全域が新期造山帯に該当し、火山活動や地震活動が活発である。
- I スマトラ島やジャワ島周辺にプレート境界はなく、火山の分布はみられない。
- U ニューギニア島西部の海域でアルプス＝ヒマラヤ造山帯と環太平洋造山帯とが接合している。
- E フィリピンのは東部にはフィリピン海プレートとインド＝オーストラリアプレートが沈み込む海溝がみられる。

2 下線部②について、東南アジアの農業について述べた文として適切なでないものを、次のA～Iから1つ選んで、その符号を書きなさい。

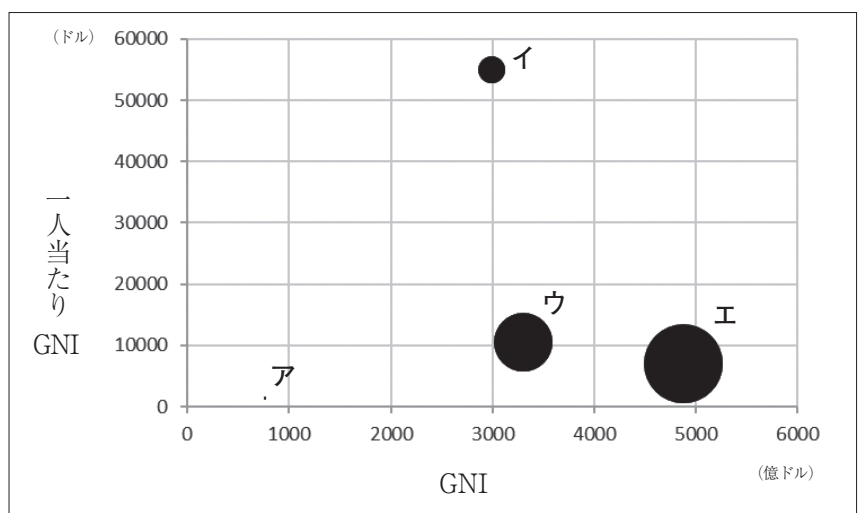
- A インドネシアでは緑の革命が進められ、自国の米の需要に対する国内の供給能力が向上した。
- I タイではプランテーションによる天然ゴムの栽培が盛んであり、世界の生産量となっている。
- U フィリピンでは多国籍企業によるバナナプランテーションが、ミンダナオ島のダヴァオ北部に集中している。
- E マレーシアでは生産が盛んであった油やしの木が老化したこともあり、なつめやしへの転作を進めている。

3 下線部③について、2015年12月に東南アジア諸国連合加盟10ヶ国で発足し、2018年1月には域内の関税を原則すべて撤廃することになった経済共同体の略称を書きなさい。

4 右の図3は縦軸に一人当たりGNI、横軸にGNI、対日輸出額を円の大きさに示したものであり、A～Iはシンガポール、タイ、マレーシア、ミャンマーのいずれかの国を示している。タイに該当するものを、図3のA～Iから1つ選んで、その符号を書きなさい。

図3

(2020年)



(『データブック オブ ザ ワールド 2023』より作成)

令6 高等学校地理歴史・公民 (11枚のうち8)

(解答はすべて、解答用紙に記入すること)

5 下線部④について、**図2**の**X**国の農業に関して述べた文として適切なものを、次の**ア～エ**から1つ選んで、その符号を書きなさい。

- ア コーヒーの原産地とされ、コーヒー豆・もろこし・ごまなどが主要産物である。
- イ 高原地域の気候を生かした農業が行われており、コーヒー豆・茶・花き類・サイザル麻などが主要産物である。
- ウ 国土が乾燥しているため大河川付近に耕地は限られ、小麦・米・綿花などが主要農産物である。
- エ 国土が乾燥しているため遊牧が盛んであり、綿花・米・あわ・もろこしの栽培もみられる。

6 下線部⑤について、慢性的な食糧不足の状況を改善するため、日本政府から派遣された専門家の支援で、病気や乾燥に強いアフリカ稲と高収量のアジア稲を交雑した新品種の栽培が行われている。この新品種の総称を何と書くか書きなさい。

7 下線部⑥について、次の問いに答えなさい。

(1) 次の**表1**、**表2**のいずれかは、アフリカで栽培が盛んなキャッサバ生産量の世界全体に占める割合を示したものであり、あとの文a～cのいずれかはキャッサバを説明した文である。キャッサバに該当する組合せとして適切なものを、あとの**ア～カ**から1つ選んで、その符号を書きなさい。

表1 (2020年)		表2 (2020年)	
国名	割合 (%)	国名	割合 (%)
コートジボワール	38.2	ナイジェリア	19.8
ガーナ	13.9	コンゴ民主	13.6
インドネシア	12.8	タイ	9.6
ナイジェリア	5.9	ガーナ	7.2
エクアドル	5.7	インドネシア	6.0

(『データブック オブザワールド2023』より作成)

- a 原産地は熱帯アメリカ低地とされる。排水良好な土壌を好み、種子を乾燥させて利用する。
- b 原産地は南米とされる。根からでんぷんを採取して食用に加工したり、飼料として利用したりする。
- c 原産地は地中海沿岸とされる。乾燥に強く、他の樹木が生育困難な岩盤質の土地でも成長し、楕円形の実を利用する。

ア 表1-a イ 表1-b ウ 表1-c エ 表2-a オ 表2-b カ 表2-c

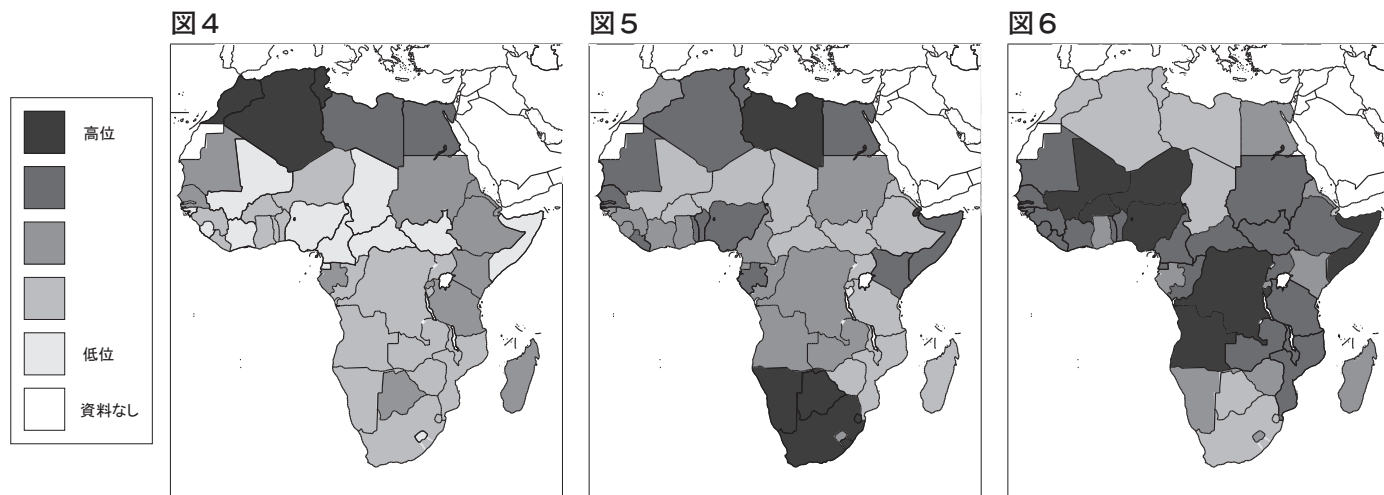
(2) **表3**は**図2**の**P**、**Q**、**R**、**S**国の輸出額の構成と一人当たりGNIを示している。**Q**国に該当するものを、次の**ア～エ**から1つ選んで、その符号を書きなさい。

国名	輸出額構成 (%)								一人当たり GNI (ドル)
	銅	鉄鉱石	原油	白金	銅鉱	金(非貨幣用)	天然ガス	自動車	
ア	73.5	2.3	1.6	1.5	1,160	セメント	1.6	機械類	1.5
イ	34.5	26.1	22.9	7.6	1,670	魚介類	22.9	銅鉱	7.6
ウ	36.1	20.3	18.3	10.4	3,570	石油製品	18.3	液化天然ガス	10.4
エ	12.6	9.8	7.9	7.6	6,010	金(非貨幣用)	7.9	機械類	7.6

(『データブック オブザワールド2023』より作成)

8 次の**図4～図6**は、アフリカ諸国における2020年の合計特殊出生率、平均寿命、第3次産業人口比率を示したものである。

図4～図6の指標の組合せとして適切なものを、あとの**ア～カ**から1つ選んで、その符号を書きなさい。



(『データブック オブザワールド2023』より作成)

	ア	イ	ウ	エ	オ	カ
合計特殊出生率	図4	図4	図5	図5	図6	図6
平均寿命	図5	図6	図4	図6	図4	図5
第3次産業人口比率	図6	図5	図6	図4	図5	図4

令6 高等学校地理歴史・公民 (11枚のうち9)

(解答はすべて、解答用紙に記入すること)

Ⅶ 次の文章を読んで、あとの問いに答えなさい。

アメリカの連邦議会は、立法権、予算議決権に加えて、3分の2以上の多数による法案再可決権などを持っている。行政の長は①大統領で、選挙によって(A)年間の任期で選ばれる。

②イギリスでは、議会の中で多数を占める政党によって内閣が組織され、行政権を執行する。(B)院が内閣の政策や判断に反対する場合、不信任決議を行い、新たな内閣を樹立することができる。また、内閣は不信任決議に対し議会を解散し、総選挙で国民の審判をおおぐこともできる。

日本では、二院制を採用しており、③衆議院と参議院の両院ともに国民の直接選挙によって選ばれた議員で組織されている。議員の任期と④選挙制度は両院で異なるものとなっており、多様な意見を審議に反映できるしくみをとっている。両院の議決が一致しない場合、⑤衆議院の優越が憲法に規定されている。

1 文中の(A)、(B)にあてはまる語句、数字を書きなさい。

2 下線部①について、アメリカ大統領を説明した文として適切なものを次のア～エから1つ選んで、その符号を書きなさい。

ア 大統領は、2期まで再選が可能であるが、第二次世界大戦後は実際に2期務めた大統領はいない。

イ 大統領は、条約の締結権や、議会を解散する権限をもち、軍の最高司令官を兼ねている。

ウ 大統領は、各州で選ばれた大統領選挙人が大統領を選出する方法で行われる。

エ 大統領は、議会には教書を送る権限を持っているが、可決した法案への署名は拒否できない。

3 下線部②に関して、イギリスの選挙制度について述べた次の文中の(X)、(Y)にあてはまる語句の組合せとして適切なものを、あとのア～エから1つ選んで、その符号を書きなさい。

現在、イギリスの選挙制度は、(X)制を採用しており、これまで(Y)。

ア X 小選挙区 Y 頻繁な政権交代が行われてきた イ X 小選挙区 Y 小党が乱立してきた

ウ X 大選挙区 Y 頻繁な政権交代が行われてきた エ X 大選挙区 Y 小党が乱立してきた

4 下線部③について説明した文として適切なものを、次のア～エから1つ選んで、その符号を書きなさい。

ア 衆議院にのみ常任委員会が設置されており、国会議論の中心となっている。

イ 参議院議員選挙は大選挙区制で行われるため、衆議院議員選挙より大政党に有利となっている。

ウ 参議院は、内閣の要求により緊急集会が召集されることがある。

エ 衆議院、参議院ともに解散があるので、国会議員はその任期を最後まで全うできない場合がある。

5 下線部④について、ある議会の定員は5人であり、各選挙区から1名選出されるとする。この議会の選挙において、3つの政党P～Rが5つの選挙区あ～おで、それぞれ1人の候補者を立てた。右の表は、その選挙での各候補者の得票数を示している。この選挙結果を述べた文aとbの正誤の組合せとして適切なものを、あとのア～エから1つ選んで、その符号を書きなさい。

表

選挙区	得票数			計
	P党	Q党	R党	
あ	45	30	25	100
い	10	70	20	100
う	40	30	30	100
え	10	50	40	100
お	40	25	35	100
計	145	205	150	500

a 得票数の合計が2番目の政党は、獲得した議席数も2番目である。

b P党は得票数は最も少ないが、死票も少なく、当選者の数は最も多い。

ア a-正 b-正 イ a-正 b-誤

ウ a-誤 b-正 エ a-誤 b-誤

6 下線部⑤について、衆議院の優越に関する記述として適切なものを、次のア～エから1つ選んで、その符号を書きなさい。

ア 条約締結の承認に関して両院が異なる議決をし、両院協議会を開いても意見が一致しないときや10日以内に参議院が議決しないときは、衆議院の議決が国会の議決となる。

イ 弾劾裁判所の設置、国政調査権の行使は衆議院のみに権限が与えられている。

ウ 内閣不信任決議は、両院で議決されてはじめて国会の議決となる。

エ 衆議院で可決した法律案を参議院が否決した場合、衆議院が出席議員の3分の2以上の多数で再可決すれば法律が成立する。

7 世界の様々な政治体制について述べた次の文中の(X)、(Y)にあてはまる語句の組合せとして適切なものを、あとのア～エから1つ選んで、その符号を書きなさい。

アメリカの議会と大統領の関係は、議院内閣制より互いに(X)関係にある。イギリスは、国王をおいた立憲君主制の国であり、他にも(Y)などのように、憲法の下で議院内閣制と世襲君主制を両立している国もある。

ア X 抑制し、均衡し合う Y オランダ イ X 抑制し、均衡し合う Y フランス

ウ X 密接で、協力し合う Y オランダ エ X 密接で、協力し合う Y フランス

令6 高等学校地理歴史・公民 (11枚のうち10)

(解答はすべて、解答用紙に記入すること)

VIII 次の文章を読んで、あとの問いに答えなさい。

①株式会社の勃興期には株主が経営者を兼ねる場合が多かったが、現在は中小企業を除くと②株主が経営にあたることはまれである。③社会の変化に伴って、人々の行動など大量のデータ(ビッグデータ)を有効活用することが企業の戦略上の課題となっている。新たな発想に基づくサービスを創造することが求められており、企業間での激しい競争も繰り広げられている。産業構造が変化する中で、④高い技術力を持つ中小企業の中には新しい市場の開拓に挑む企業もある。また、中小企業は大企業と比較して⑤スケールメリットでは劣るが、その分機動的な経営ができ、経営者自身が株主となっていることが多いため、経営者の意向により、⑥社会的活動に力を注ぎやすいとも言われている。

1 下線部①について、現在の日本の株式会社に関する文として適切なものを、次のア～エから1つ選んで、その符号を書きなさい。

ア 株式の発行により資本を調達し、株主に対しては会社の利益があるなしにかかわらず、毎月一定額の配当が支払われる。

イ 農家や個人商店のように、個人が自己の財産を用いて自ら経営にあたる企業も株式会社に含まれる。

ウ 株主の責任は有限責任であり、出資している株式会社が倒産したとしても、個人的財産を拠出して負債を弁償する必要はない。

エ 上場企業の株式は証券市場などで売買されるが、経営が安定している場合、株価は需要と供給の影響を受けない。

2 下線部②に関して述べた次の文中の(X)、(Y)にあてはまる語句の組合せとして適切なものを、あとのア～エから1つ選んで、その符号を書きなさい。

株式会社の最高議決機関は(X)であり、そこで選任された経営者が会社の経営にあたる。近年では、(Y)が、経営方針に関して積極的に意見を言うことが増えている。

ア X 取締役会 Y 株主 イ X 株主総会 Y 株主

ウ X 取締役会 Y 取締役 エ X 株主総会 Y 取締役

3 下線部③に関して、電化製品などをインターネットに接続する「モノのインターネット」のことを、アルファベット3字で書きなさい。

4 下線部④に関して、次の問いに答えなさい。

(1) 中小企業向けの政策について、次の文中の(X)、(Y)にあてはまる語句の組合せとして適切なものを、あとのア～エから1つ選んで、その符号を書きなさい。

中小企業政策については、(X)、大企業と同様の市場競争を促す政策をとるか、法律の制定などによって大企業の進出を抑制する(Y)的な政策をとるか、そのバランスが課題となる。

ア X 規制を緩和して Y 保護主義 イ X 規制を緩和して Y 自由主義

ウ X 規制を強化して Y 保護主義 エ X 規制を強化して Y 自由主義

(2) 表A、表Bは、大企業と中規模企業の資金調達構造の推移を示している。この表を説明した次の文中の(X)、(Y)にあてはまる語句の組合せとして適切なものを、あとのア～エから1つ選んで、その符号を書きなさい。

1990年と2019年の大企業と中規模企業を比較すると、大企業も中規模企業も借入金依存度は低下している。(X)は中規模企業の状況を表しており、2019年は1990年と比べて、大企業と中規模企業の自己資本比率の差は(Y)。

表A

	1990年	1999年	2009年	2019年
借入金依存度	47.3%	51.6%	45.7%	34.0%
自己資本比率	14.3%	14.0%	27.8%	42.8%

表B

	1990年	1999年	2009年	2019年
借入金依存度	40.6%	37.5%	29.9%	30.8%
自己資本比率	26.1%	31.5%	42.4%	44.8%

(『2021年版中小企業白書』より作成)

ア X 表A Y 縮まっている イ X 表B Y 縮まっている

ウ X 表A Y 広がっている エ X 表B Y 広がっている

(3) 資金調達力は低い、高い成長率が期待される未上場企業に投資する会社を何というか、カタカナで書きなさい。

5 下線部⑤に関して、スケールメリットを説明した次の文中の(X)、(Y)にあてはまる語句の組合せとして適切なものを、あとのア～エから1つ選んで、その符号を書きなさい。

企業は、経営、生産、販売などの規模が(X)なることで、経済効率を上げ、生産性を(Y)ことができる。

ア X 小さく Y 下げる イ X 小さく Y 上げる

ウ X 大きく Y 下げる エ X 大きく Y 上げる

6 下線部⑥に関して説明した次の文中の(X)、(Y)にあてはまる語句の組合せを、あとのア～エから1つ選んで、その符号を書きなさい。

近年、企業の社会的責任といわれる(X)が世界的に重視されており、(Y)といわれる慈善事業による社会貢献をさかんに行っている企業も多い。

ア X CSR Y メセナ イ X CSR Y フィランソロピー

ウ X ESG Y メセナ エ X ESG Y フィランソロピー

令6 高等学校地理歴史・公民解答用紙 (11枚のうち11)

総計		

I	1	A			B			
	2			3			4	5
	6			7			8	9

I		

II	1	A			B			
	2			3			4	5
	6			7			8	9

II		

III	1			2			3			4			5		
	6			7			8			9					

III		

IV	1	A			B			C				
	2			3			4			5		
	6			7			8			9		

IV		

V	1			2							
	3	(1)			(2)			(3)			
	4			5			6			7	

V		

VI	1	(1)			(2)			2			3		
	4			5			6						
	7	(1)			(2)			8					

VI		

VII	1	A			B				
	2			3			4		
	5			6			7		

VII		

VIII	1			2			3			
	4	(1)			(2)			(3)		
	5			6						

VIII		

令6 高等学校地理歴史・公民模範解答 (11枚のうち11)

総計	200

I	1	A	煬帝		B	長安		
	2	エ	3	イ	4	オ	5	ウ
	6	エ	7	ア	8	ウ	9	ア

I	25

II	1	A	アッシリア		B	ダレイオス1世		
	2	ア	3	イ	4	ウ	5	エ
	6	イ	7	イ	8	エ	9	ウ

II	25

III	1	エ	2	イ	3	ウ	4	ア	5	ウ
	6	イ	7	エ	8	ア	9	エ		

III	25

IV	1	A	工部		B	富岡		C	高橋是清	
	2	ウ	3	ア	4	イ	5	イ		
	6	ウ	7	イ	8	エ	9	エ		

IV	25

V	1	イ	2	ウ(エ)	エ(ウ)			
	3	(1)	エ	(2)	キ	(3)	ウ	
	4	エ	5	ウ	6	イ	7	ア

V	25

VI	1	(1)	ア	(2)	ウ	2	エ	3	AEC
	4	エ	5	イ	6	ネリカ米 (NERICA)			
	7	(1)	オ	(2)	イ	8	オ		

VI	25

VII	1	A	4		B	下	
	2	ウ	3	ア	4	ウ	
	5	ウ	6	エ	7	ア	

VII	25

VIII	1	ウ	2	イ	3	IoT			
	4	(1)	ア	(2)	ア	(3)	ベンチャーキャピタル		
	5	エ	6	イ					

VIII	25