

令和4年度 兵庫県公立学校教員採用候補者選考試験

試験 区分	一般教養
----------	------

受験中の心得

- 試験時間中は、試験委員の指示に従うこと。お互いに話をしたり、席を立ったり、その他、人の迷惑になるようなことはしないこと。
- 解答は、すべて解答用紙に記入、マークすること。
- 解答用紙には解答欄以外に次の記入欄があるので、試験委員の指示に従って、それぞれ正しく記入し、マーク例にしたがってマークすること。
 - 受験番号欄
受験番号（数字）を記入し、さらにその下のマーク欄にマークすること。正しくマークされていない場合は、採点できないことがあるので、注意すること。
 - 名前欄
名前、フリガナを記入すること。
 - 年月日欄
下のように、3年7月11日と記入すること。

年	月	日
3	7	11
 - 受験区分、教科欄
受験する受験区分、教科を記入すること。
- 解答はすべて、解答用紙の解答欄に、マーク例にしたがってマークすること。2つ以上マークしている場合は採点されないので、注意すること。
例えば、

10

と表示のある問いに対して イ と解答する場合は、次の例のように、問10の解答欄の イ にマークすること。
- (例)

問	解答欄
10	<input type="radio"/> ア <input checked="" type="radio"/> イ <input type="radio"/> ウ <input type="radio"/> エ
- 試験時間を確認し、時間配分に留意すること。
- 試験問題に落丁、乱丁、印刷不鮮明の箇所及び解答用紙の汚れがあった場合、又は質問のある場合等は黙って手を挙げること。
- その他、試験委員から注意されたことをよく守ること。
- この問題冊子は持ち帰ってもよい。

指示があるまで中をあけないでください

問1 「用件は電話でスんだ」の「ス」と同じ漢字を、次のア～エから1つ選びなさい。 1

- ア 来年度使用する教科書をサイ扱する。 イ 奨学金を返サイする。
ウ 生徒の作品が新聞に掲サイされた。 エ サイ判を傍聴する。

問2 「泰然自若」の対義語として適切な四字熟語を、次のア～エから1つ選びなさい。 2

- ア 大胆不敵 イ 優柔不断 ウ 試行錯誤 エ 戦々恐々

問3 A文を読み、この文脈においてBの文中の（ ）にあてはまる最も適当なものを、あとのア～エから1つ選びなさい。 3

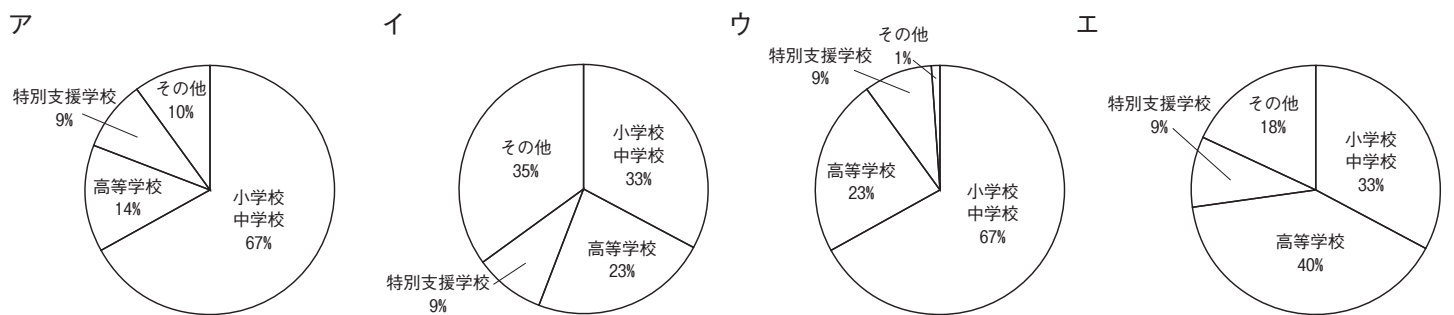
【A】
ヨーロッパには多くの国が形成され、さまざまな民族が住み、民族ごとにそれぞれ異なる言語を使ってきました。北西部では英語やドイツ語などのゲルマン系言語が、南部ではフランス語やイタリア語などのラテン系言語が、また東部ではロシア語などのスラブ系言語が使われています。

【B】 ラテン系言語が使われているのは、ヨーロッパ（ ）である。

- ア 北西部 イ 東部 ウ 南部 エ 民族

問4 次の文の内容を表す円グラフとして最も適切なものを、あとのア～エから1つ選びなさい。 4

「令和2年度学校基本調査」によると兵庫県の小学校、中学校、義務教育学校、高等学校、中等教育学校、特別支援学校に勤める教員のうち33%は小学校と中学校以外の校種であるが、その校種を見ると高等学校が最も多く71%であった。



問5 神戸市須磨区を舞台にした『平家物語』「一ノ谷の戦い」で、源氏の武将が平氏の若武者を斬ったことを題材に作られた歌舞伎の演目（または独立して上演される段）を、次のア～エから1つ選びなさい。 5

- ア 勧進帳 イ 渡海屋 大物浦 ウ 熊谷陣屋 エ 俊寛

問6 夏の句として適切なものを、次のア～エから1つ選びなさい。 6

- ア さみだれや大河を前に家二軒 イ ^{さえず} 囀りをこぼさじと抱く大樹かな
ウ 朝顔につるべ取られてもらひ水 エ 古池や蛙飛びこむ水の音

問7 次の和歌に関する説明として適切でないものを、あとのア～エから1つ選びなさい。 7

- A あしひきの山のしづくに妹待つと我立ち濡れぬ山のしづくに
B 我を待つと君が濡れけむあしひきの山のしづくにならましものを
ア AとBの歌で使われている「あしひきの」は「山」などのことばの前に置かれる枕詞である。
イ AとBの歌は万葉集に収められており、親しい男女の間で贈答された「相聞」に分類されている。
ウ Aの歌は山のしづくに濡れてでも、来るのを待つほど相手に対して強い思いを抱いていることが表されている。
エ Bの歌はあなたが濡れたという山のしづくになれるはずなどないと相手をせめている。

問8 次の故事成語を用いた短文のうち、使い方が誤っているものを、次のア～エから1つ選びなさい。 8

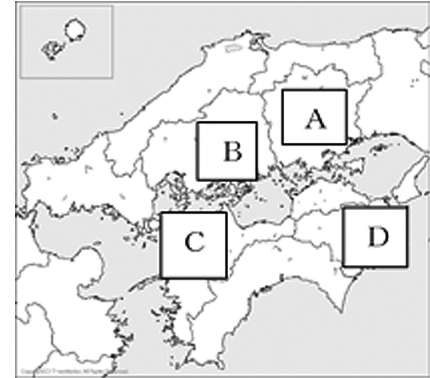
- ア 受験勉強は苦しいけれど、第一志望校に合格するため「臥薪嘗胆」の気持ちでがんばろう。
イ 彼の失敗を「他山の石」とはせず、部員みんなの問題として、原因と対策を考えよう。
ウ 彼の人生を振り返ると「塞翁が馬」とはよく言ったもので、何が幸せかはわからないものだね。
エ あの二人は日ごろ仲が悪いが、試合となると「呉越同舟」で見事なチームワークを発揮するよ。

問9 兵庫県明石市は日本の標準時子午線が通っていることで知られている。日本が1月1日の午前0時のとき、西経120°の太平洋標準時を基準にするアメリカ西海岸のシアトルの日付と時刻として適切なものを、次のア～エから1つ選びなさい。 9

- ア 12月31日 午前7時 イ 12月31日 午後7時 ウ 1月1日 午前7時 エ 1月1日 午後7時

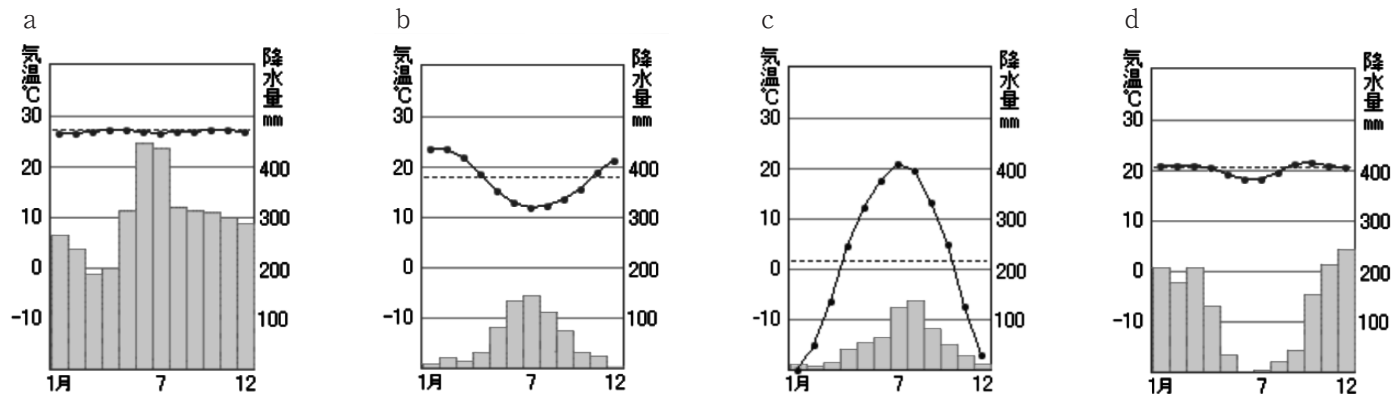
問10 兵庫県から右の図のA→B→C→Dの順で、バスで各県をめぐる旅行を行った。訪問したA～Dの県での体験を説明した文のうち、その内容が適切でないものを、次のア～エから1つ選びなさい。 10

- ア A県では、倉敷市の石油化学コンビナートの工場を見学した。
 イ B県では、平清盛が宋との貿易の航海安全を祈って改修した厳島神社を訪問した。
 ウ C県では、松山城を見学し、天守が姫路城と同じ連立式天守であることを学んだ。
 エ D県からは、バスで神戸淡路鳴門道を通して、瀬戸大橋と明石海峡大橋からの眺めを楽しんだ。



問11 次のA～Cは兵庫県が友好・姉妹提携を行っている国や州省の主要都市の気候について説明したものである（気候はケッペンの気候区分に基づく）。A～Cの説明と下の雨温図a～dの組み合わせとして適切なものを、あとのア～エから1つ選びなさい。 11

- A パラオ最大の都市コロールは熱帯雨林気候である。
 B ロシアの極東の都市ハバロフスクは亜寒帯冬季少雨気候である。
 C オーストラリア西部の都市パースは地中海性気候である。



折れ線グラフは気温、棒グラフは降水量を表す。「理科年表2021」に基づいて作成

- ア A-a B-b C-c イ A-d B-c C-b ウ A-d B-b C-c エ A-a B-c C-b

問12 平城京に都が置かれた時代に関する説明として適切なものを、次のア～エから1つ選びなさい。 12

- ア 中大兄皇子や中臣鎌足らが蘇我蝦夷・入鹿を倒して大化の改新を行った。
 イ 坂上田村麻呂を征夷大將軍とする大軍が律令制に抵抗する蝦夷の拠点を攻め、朝廷の支配を東北まで広げた。
 ウ 東西におかれた市では、各地から都に送られてきたさまざまな品物が売り買いされ、和同開珎などの貨幣が使われた。
 エ 唐の律令にならった大宝律令が作られ、新しい国家の仕組みが定まった。

問13 日本と中国の関わりについて述べた文のうち「弘安の役」以前の内容として適切なものを、次のア～エから1つ選びなさい。 13

- ア 朝貢の使節を送った足利義満が、「日本国王」と認められ勘合を用いる貿易がはじまった。
 イ 日本は朝貢と服属を求められたが、北条時宗を中心とする幕府はこれを拒否した。
 ウ 戦争で勝利した日本は、下関条約を結んで巨額の賠償金や領土を獲得すると、三国干渉を受けた。
 エ 朱印船貿易では、生糸や絹織物が主に輸入され、日本からは大量の銀が輸出された。

問14 次のA～Dの文で述べた女性に関する説明について、古い順に正しく並べたとき、3番目の出来事として適切なものを、あとのア～エから1つ選びなさい。 14

- A 津田梅子は、2度のアメリカ留学を経験し、帰国したのちに女子英学塾を設立した。
 B ナイチンゲールは、クリミア戦争で従軍看護婦として活躍した。
 C 則天武后は、中国史上唯一の女帝となり、学科試験を活用して人材登用を進めた。
 D 北条政子は、出家して自ら幕府の政治を取り仕切り、のちに尼將軍と呼ばれた。
- ア A イ B ウ C エ D

問15 為替相場が1ドル=106円から1ドル=90円に変動したときに起こる影響を説明した文として適切なものを、次のア～エから1つ選びなさい。 15

- ア 日本で製造された200万円の自動車は、アメリカでの販売価格が安くなるので、アメリカで売れやすくなる。
- イ アメリカ産の2万ドルの小麦は、日本での販売価格が高くなるので、日本で売れにくくなる。
- ウ アメリカに留学している息子に20万円を仕送りすると、息子がドルで受け取る金額は増える。
- エ 200万円の日本の株式をドルで購入する場合、投資家は準備する金額が約3千ドル減る。

問16 次の文は、共生社会を築いていくために必要なことについて説明したものである。この文章の(A) (B)に入る語句の組み合わせとして適切なものを、あとのア～エから1つ選びなさい。 16

(A)とは、さまざまな違いを認め、関わる全ての人々が参加して支え合うことを指します。そのために例えば、公共交通機関や建物では、障がいのある人々も利用しやすいように、段差をなくすといった(B)化が進められている。

- ア A-インクルージョン
- B-バリアフリー
- イ A-ユニバーサル
- B-バリアフリー
- ウ A-インクルージョン
- B-グローバル
- エ A-ユニバーサル
- B-グローバル

問17 ある商品を仕入れて原価の7割の利益を見込んで定価をつけたが、売れなかったため定価の4割引で販売した。すると商品1個についての利益は20円になった。この商品1個の原価として適切なものを、次のア～エから1つ選びなさい。 17

- ア 50円
- イ 100円
- ウ 500円
- エ 1000円

問18 半径が $3\sqrt{2}$ cmの円Aと半径が x cmの円Bの2つの円の面積の和は 45π cm²になった。円Bの半径として適切なものを、次のア～エから1つ選びなさい。円周率は π とする。 18

- ア $\sqrt{3}$ cm
- イ $3\sqrt{3}$ cm
- ウ $3\sqrt{5}$ cm
- エ $3\sqrt{7}$ cm

問19 1つのさいころを2回連続で投げた場合、1回目に2以下の目が出て、2回目に3以下の目が出る確率として適切なものを、次のア～エから1つ選びなさい。ただし、さいころの目の出方は同様に確からしいものとする。 19

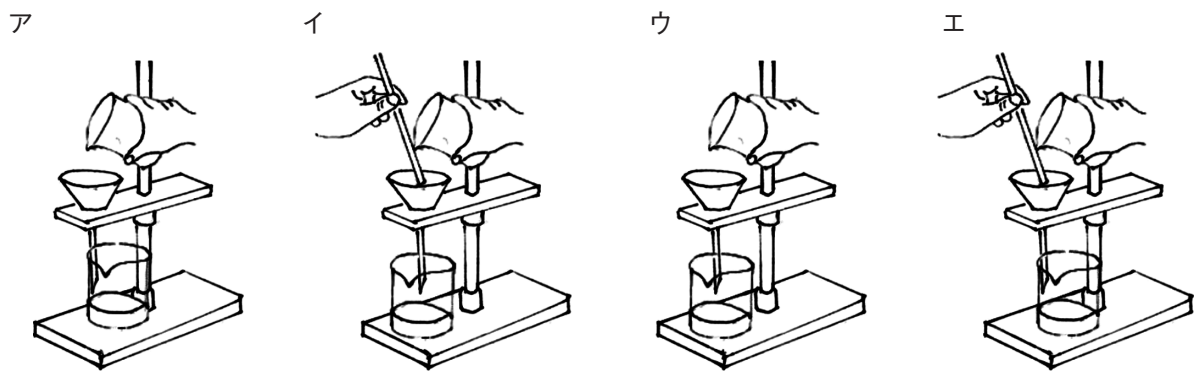
- ア $\frac{1}{36}$
- イ $\frac{1}{6}$
- ウ $\frac{1}{3}$
- エ $\frac{5}{6}$

問20 下の資料は、ある運動部に所属する部員のハンドボール投げの記録を表にまとめたものである。記録の中央値として正しいものを、あとのア～エから1つ選びなさい。 20

生徒	A	B	C	D	E	F	G	H	I
記録 (m)	12.8	16.6	13.8	13.5	10.4	13.2	18.3	12.4	14.1

- ア 12.8m
- イ 13.5m
- ウ 14.1m
- エ 16.6m

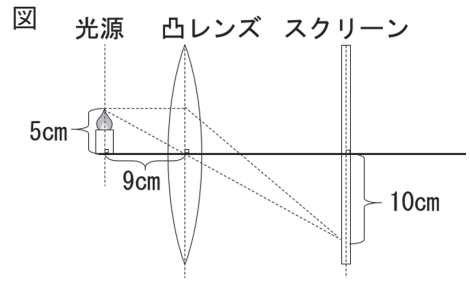
問21 水溶液のろ過のしかたとして適切なものを、次のア～エから1つ選びなさい。 21



問22 顕微鏡観察について、顕微鏡の倍率を600倍から100倍にしたとき、顕微鏡観察の視野と明るさの関係として適切なものを、次のア～エから1つ選びなさい。 22

- ア 視野は広くなり明るくなる
- イ 視野は狭くなり明るくなる
- ウ 視野は広くなり暗くなる
- エ 視野は狭くなり暗くなる

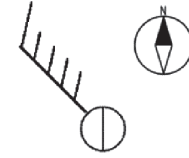
問23 右の図のように、高さ5cmの光源から凸レンズまでの距離と凸レンズからスクリーンまでの距離を変化させ、スクリーンに映る光源の像の高さを測定すると、スクリーンにはっきりと映った光源の像の高さが10cmで、光源から凸レンズまでの距離が9cmであった。この凸レンズの焦点距離として適切なものを、次のア～エから1つ選びなさい。



- ア 4.5cm イ 6cm ウ 9cm エ 12cm

問24 右に示した記号が示す風向、風力、天気として適切なものを、次のア～エから1つ選びなさい。

- ア 南東の風 風力5 曇り イ 南東の風 風力4 晴れ
 ウ 北西の風 風力4 曇り エ 北西の風 風力5 晴れ



問25 (1) (2)の会話について () に入れるのに適切なものを、あとのア～エから1つ選びなさい。

- (1) A : Do you want to do something together next Saturday?
 B : Yes. How about hiking?

A : ()

B : Why don't we go to a movie then?

- ア I want to have a barbecue outside. イ I'm happy with your plan.
 ウ I'm good at swimming. エ I'm afraid that it'll rain.

- (2) A : Excuse me. I think I left my bag somewhere on the train.

B : OK. I'll check the lost-and-found office for you. ()

A : It's a small, black backpack.

B : And which train did you take?

- ア What does it look like? イ How often do you go there?
 ウ How late is it open? エ What do you do?

問26 次の問いに答えなさい。

- (1) テーマパークの3種類の入園チケットに関する次の説明を読み、その内容に合うように英文の () に入る適切なものを、あとのア～エから1つ選びなさい。

Daytime Ticket	Night Show Ticket	One-Day Ticket
For use from 10 a.m. to 4 p.m. 20 dollars	For use from 7 p.m. to 10 p.m. 15 dollars	For use from 9 a.m. to 10 p.m. 30 dollars

The night show ticket is () of the three per hour.

- ア the most expensive イ the best value
 ウ the least expensive エ the cheapest

- (2) 右の図を説明する会話について () に入る適切なものを、あとのア～エから1つ選びなさい。

A : Do you know what this symbol means?

B : Yes, I do. This sign means you must seek shelter. It shows a person ().

A : I see.

- ア getting into an ambulance イ evacuating to a safe area
 ウ running through a door エ jumping on to the road



- (3) 右の図は動物園で掲示されている標識である。この標識の意味を説明している英文について () に入る適切なものを、あとのア～エから1つ選びなさい。

() is prohibited by this sign.

- ア Taking a picture of the animals イ Touching the animals
 ウ Looking at the animals エ Observing the animals



問27 兵庫県を旅行する際の旅行プラン Plan A～Cについての英文を読み、あとの問いに答えなさい。

Plan A : Japanese History and Culture

This course focuses on history and culture in Japan. You will stay 2 days and 1 night, and visit historical sites such as Himeji Castle, UNESCO World Cultural Heritage Sites. To learn about Japanese culture, you will visit the Japan Toy Museum, Awaji Ningyo-za (puppet theater), and Takenaka Carpentry Tools Museum. Honpukuji Temple on Awaji Island has a very unique main hall (1) by Tadao Ando. You will stay at an onsen resort in the south of Awaji Island. Awaji Onsen and good seafood will (2) your mind.

Plan B :

This course is for those who want to experience onsen and pop culture. You will watch a show by Takarazuka Revue, an all-woman musical theater group in Takarazuka. You can also visit the birthplace of Tezuka Osamu, a Japanese famous comic artist. In Osamu Tezuka Manga Museum, you can see how Japanese animation began. On the second day, enjoy hot spring bath in Kinosaki Onsen. There are 7 different bath houses in Kinosaki Onsen, so why not try all of them?

Plan C :

This course will take you to Tamba district from the northern part of Kobe city. On the first day you will enjoy shopping and food in the center of Kobe city. Next, you will go to the northern part of Kobe. Mt. Rokko is a famous spot in Kobe for beautiful scenery. At night you will stay in the oldest onsen in Japan, Arima Onsen. You can go to Kobe-Sanda premium outlets by car from there, where you can buy famous brand items for a discounted price. In Sasayama, you can experience traditional Japanese culture such as old castles, and Tamba-Yaki (famous pottery).

HYOGO TOURISM BUREAU ホームページ (一部改変)

(1) Plan B , Plan C の見出しとして と に入る適切な組み合わせを、あとのア～エから1つ選びなさい。

- | | |
|--|--|
| ① Nature and Shopping | ② Sport and Shopping |
| ③ Food and Museum | ④ Onsen and Pop Culture |
| ア <input type="text" value="I"/> ② <input type="text" value="II"/> ④ | イ <input type="text" value="I"/> ③ <input type="text" value="II"/> ② |
| ウ <input type="text" value="I"/> ① <input type="text" value="II"/> ③ | エ <input type="text" value="I"/> ④ <input type="text" value="II"/> ① |

(2) Plan A の (1) (2) に入る適切な組み合わせを、次のア～エから1つ選びなさい。

- | | |
|--------------------------------|-------------------------|
| ア (1) described (2) experience | イ (1) designed (2) ease |
| ウ (1) held (2) excite | エ (1) drawn (2) relax |

(3) Plan A～C の内容として 適切でないもの を、次のア～エから1つ選びなさい。

- ア Himeji Castle is a UNESCO World Cultural Heritage Site.
イ There is a puppet theater in Awaji.
ウ Kinosaki Onsen is the oldest hot spring in Japan.
エ All three plans recommend that you should visit hot springs.

問28 インターネットの認証は、利用者を識別する情報とそれを確認する情報を組み合わせることで行われる。個人認証のうち、2要素認証として適切なものを、次のア～エから1つ選びなさい。

- ア 静脈の形状パターンと暗証番号で認証する。
イ パスワードと秘密の質問の答えで認証する。
ウ 親指と人差し指の指紋で認証する。
エ 異なる2種類の特殊文字を組み合わせたパスワードで認証する。

問29 次の問いに答えなさい。

(1) パソコンとプロジェクターを繋ぐとき、ケーブル1本で映像・音声両方とも流すことができるケーブルとして適切なものを、次のア～エから1つ選びなさい。

- | | |
|-------------|-----------------------|
| ア HDMI ケーブル | イ DVI-HDMI 変換ケーブル |
| ウ RGB ケーブル | エ D-Sub-コンポーネント変換ケーブル |

問32 「学習者用デジタル教科書の効果的な活用の在り方等に関するガイドライン」(文部科学省 令和3年3月改訂)で示されている学習者用デジタル教科書を使用した指導上の留意点の内容として適切でないものを、次のア～エから1つ選びなさい。 38

- ア 全児童生徒に一人一台の学習者用コンピュータが整備されていない場合には、クラス間における利用調整等を行い、当該授業において一人一台の学習者用コンピュータを用意すること。
- イ 紙の教科書に代えて学習者用デジタル教科書を使用できるのは、各学年における各教科等の授業時数の2分の1未満であること。ただし、特別な配慮を必要とする児童生徒等については、この限りではないこと。
- ウ 学習者用デジタル教科書や学習者用デジタル教材を単に視聴させるだけではなく「主体的・対話的で深い学び」の視点からの授業改善に資するよう活用すること。
- エ 漢字や計算等に関する繰り返し学習や学習内容をまとめる等で書くことが大事な場面では、ノートの使用を基本とすること。

問33 美術における表現する活動について、「いろいろな材料をはり付けて表現する方法。好きな形に切り抜き、組み合わせの効果を工夫しながらはり付ける。」技法として適切なものを、次のア～エから1つ選びなさい。 39

- ア スパッタリング
- イ コラージュ
- ウ フロッタージュ
- エ デカルコマニー

問34 次の楽譜をA～Hまで演奏したあとの演奏の順番として適切なものを、あとのア～エから1つ選びなさい。 40

- ア C → D → I → J → K
- イ C → D → E → F → G → H → I → J → K
- ウ E → F → G → H → G → I → J → K
- エ I → J → K

問35 食中毒の原因となるカンピロバクターを最も多く含んでいる可能性のある食品として適切なものを、次のア～エから1つ選びなさい。 41

- ア ジャガイモ
- イ 二枚貝
- ウ 鶏肉
- エ 鶏卵

問36 心肺蘇生法における胸骨圧迫の方法について述べた文として適切でないものを、次のア～エから1つ選びなさい。 42

- ア 圧迫の深さは、成人の場合で胸が約5cm、小児の場合で胸の厚さの約1/3沈むくらい圧迫する。
- イ 圧迫のしかたは、両足を肩幅に開き、両肘を伸ばしたまま、垂直に体重をかけて圧迫する。
- ウ 圧迫する場所に手のひらのつけ根だけに力が加わるようにするため、両手の指を重ねて圧迫する。
- エ 圧迫する回数は、胸骨の下半分の位置を2秒に1回のテンポで絶え間なく圧迫する。

問37 会議や研修などにおいて、さまざまな課題に対する解決策を導く手法を説明した文として適切でないものを、次のア～エから1つ選びなさい。 43

- ア プレーンストーミングは、一定のルールに基づき複数人で自由に数多くのアイデアを出す手法である。
- イ KJ法は、集めた情報をカードに書き込み、内容の類似するカードをグループ化し、整理する手法である。
- ウ ござね法は、対象となる事柄をツリー構造であらわしながら、論理的に原因と解決策を考える手法である。
- エ ウェビングは、自分の頭の中にある知識やものとのとらえ方を図にあらわす手法である。

問38 「学校の設置者は、感染症の予防上必要があるときは、臨時に、学校の全部又は一部の休業を行うことができる。」と定めている法令として適切なものを、次のア～エから1つ選びなさい。 44

- ア 教育公務員特例法
- イ 学校教育法
- ウ 地方公務員法
- エ 学校保健安全法

問39 研修について、教育公務員特例法に定められている内容として適切でないものを、次のア～エから1つ選びなさい。

45

- ア 教員は、授業に支障のない限り、任命権者の承認を受けて、勤務場所を離れて研修を行うことができる。
- イ 教育公務員は、任命権者の定めるところにより、現職のままで、長期にわたる研修を受けることができる。
- ウ 公立の小学校等の教諭等の任命権者は、当該教諭等に対して、その採用の日から一年間の教諭又は保育教諭の職務の遂行に必要な事項に関する実践的な研修を実施しなければならない。
- エ 指導教員は、初任者に対して教諭又は保育教諭の職務の遂行に必要な事項について指導及び助言を行うものとする。

問40 通級による指導の対象となる障害の種類として学校教育法施行規則に記載されていないものを、次のア～エから1つ選びなさい。 46

- ア 学習障害
- イ 言語障害
- ウ 知的障害
- エ 注意欠陥多動性障害

問41 「人権教育の指導方法等の在り方について〔第三次とりまとめ〕」（文部科学省 平成20年3月）に示されている、学校における人権教育の指導方法等の改善・充実の内容として適切でないものを、次のア～エから1つ選びなさい。 47

- ア 人権教育は、「生きる力」を育む教育活動の基盤として、各教科、道徳、特別活動及び総合的な学習の時間や、教科外活動等のそれぞれの特質を踏まえつつ、教科指導を中心としてこれを推進することが大切である。
- イ 校内に人権尊重の理念に基づく教育活動を行き渡らせることは、学習指導の効果的な実施を図る上でも、重要な観点の一つとなるものと考えられる。
- ウ 学級活動やホームルーム活動などでの人間としての在り方生き方についての自覚を深める学習や、進路指導の機会等を通して長期的・広域的視野から人権教育を推進する。
- エ 教職員による厳しさと優しさを兼ね備えた指導と、全ての教職員の意識的な参画、児童生徒の主体的な学級参加等を促進し、人権が尊重される学校教育を実現・維持するための環境整備に取り組むことが大切である。

問42 「不登校児童生徒への支援の在り方について（通知）」（文部科学省 令和元年10月）で示されている内容として適切でないものを、次のア～エから1つ選びなさい。 48

- ア 「学校に登校する」という結果のみを目標とするのではなく、児童生徒が自らの進路を主体的に捉えて、社会的に自立することを目指す必要がある。
- イ 個々の児童生徒ごとに不登校になったきっかけや継続理由を的確に把握し、その児童生徒に合った支援策を策定することが重要である。
- ウ いじめが原因で不登校となっている場合等には、いじめられている児童生徒の緊急避難としての欠席が弾力的に認められてもよく、そのような場合には、その後の学習に支障がないよう配慮が求められる。
- エ 不登校児童生徒に多様な教育機会を確保する必要があるが、フリースクールなどの民間施設、ICTを活用した学習支援などを行った場合は必ず指導要録上出席扱いとなる。

問43 「令和の日本型学校教育の構築を目指して—全ての子供たちの可能性を引き出す、個別最適な学びと協働的な学びの実現—（答申）」（中央教育審議会 令和3年1月）の中で、令和の日本型学校教育の構築に向けた今後の方向性として適切でないものを、次のア～エから1つ選びなさい。 49

- ア 憲法第14条及び第26条、教育基本法第4条の規定に基づく学問の自由等を真の意味で実現していく必要がある。
- イ 修得主義の考え方と一定の期間の中で多様な成長を許容する履修主義の考え方を組み合わせ、「学習の個性化」により児童生徒の興味・関心等を生かした探究的な学習等を充実すること。
- ウ 今般の新型コロナウイルス感染症の発生のような危機的な状況を乗り越えるためには、特に保護者や地域と協働し、学校運営や教育行政を推し進めることが必要である。
- エ 校長を中心に学校組織のマネジメント力の強化を図るとともに、学校内、あるいは学校外との関係で、「連携と分担」による学校マネジメントを実現することが重要となる。

問44 地方公務員法における懲戒処分の事由として正しいものを、次のア～エから1つ選びなさい。ただし、ア～エの表記は地方公務員法の原文のままである。 50

- ア 心身の故障のため、職務の遂行に支障があり、又はこれに堪えない場合
- イ 全体の奉仕者たるにふさわしくない非行のあつた場合
- ウ 人事評価又は勤務の状況を示す事実を照らして、勤務実績がよくない場合
- エ 職制若しくは定数の改廃又は予算の減少により廃職又は過員を生じた場合

R4 一般教養 模範解答

配点

1	2	3	4	5	6	7	8
イ	エ	ウ	ウ	ウ	ア	エ	イ

16 (2×8)

9	10	11	12	13	14	15	16
ア	エ	エ	ウ	イ	イ	ウ	ア

16 (2×8)

17	18	19	20	21	22	23	24
エ	イ	イ	イ	エ	ア	イ	エ

16 (2×8)

25	26	27	28	29	30	31	32
エ	ア	ア	イ	イ	エ	イ	ウ

16 (2×8)

33	34	35	36	37	38
ア	ア	エ	ウ	イ	イ

12 (2×6)

39	40	41	42
イ	ア	ウ	エ

8 (2×4)

43	44	45	46	47	48	49	50
ウ	エ	ア	ウ	ア	エ	ア	イ

16 (2×8)