

④ 中高 社会科問題の解答について (注意)

1. 解答はすべて、別紙のマークシートに記入すること。
2. マークシートは、電算処理するので、折り曲げたり、汚したりしないこと。また、マーク欄はもちろん、余白にも不要なことを書かないこと。
3. 記入は、HBまたはBの鉛筆を使って、ていねいに正しく行うこと。(マークシート右上の記入方法を参照) 消去は、プラスチック消しゴムで念入りに行うこと。
4. 名前の記入 名前を記入すること。
5. 教科名の記入 教科名に「社会」と記入すること。
6. 受験番号の記入 受験番号欄に5けたの数で記入したのち、それをマークすること。
7. 解答の記入
 - ア. 小問の解答番号は1から57までの通し番号になっており、例えば、20番を

20

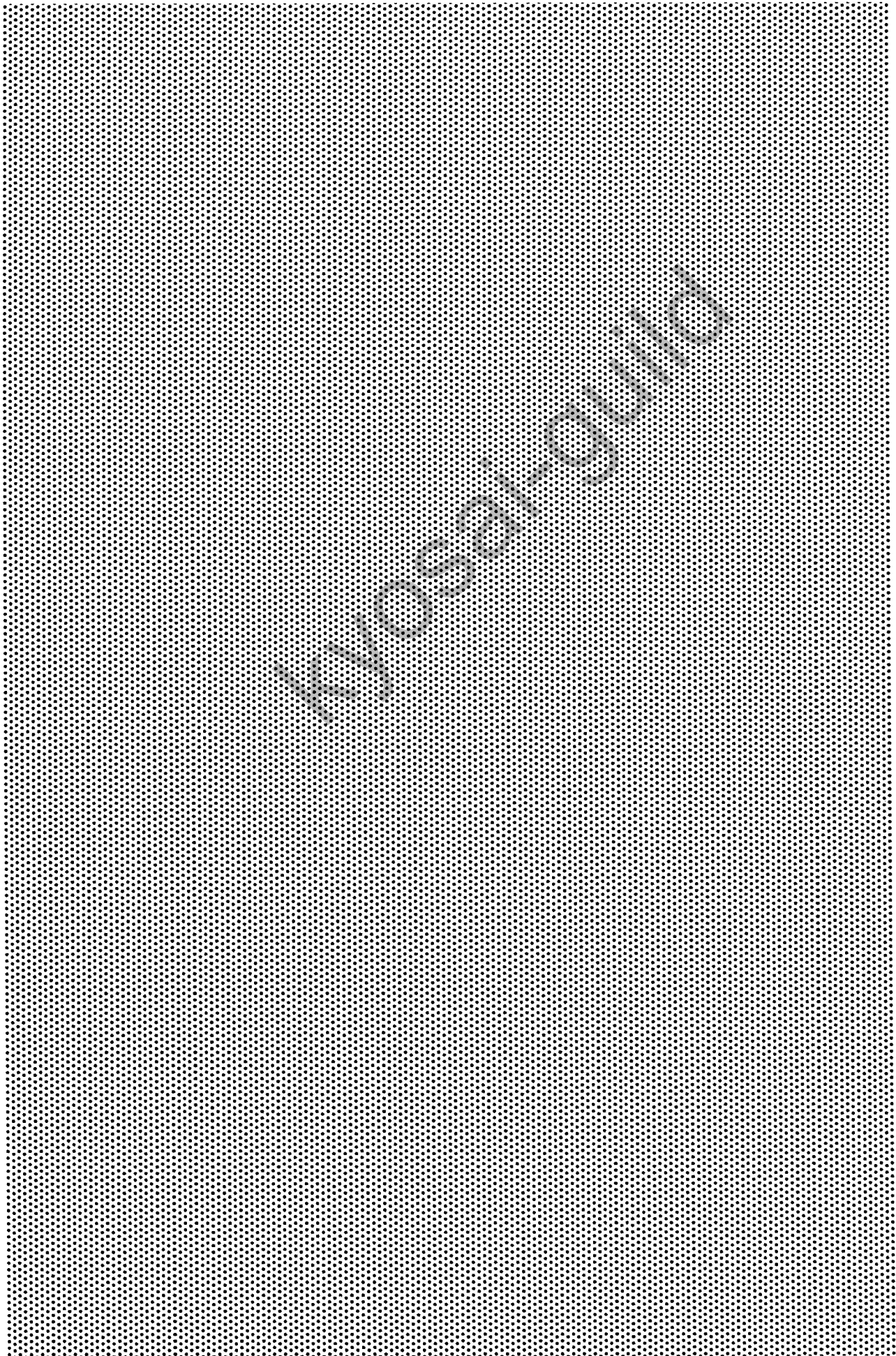
 のように表示してある。
 - イ. マークシートのマーク欄は、すべて1から0まで10通りあるが、各小問の選択肢は必ずしも10通りあるとは限らないので注意すること。
 - ウ. どの小問も、選択肢には①、②、③……の番号がついている。
 - エ. 各問いに対して一つずつマークすること。

(マークシート記入例)

フリガナ	コウベ タロウ		
名前	神戸 太郎	教科名	社会

数字で記入……

受験番号					小問 番号	解答記入欄 1 - 25	小問 番号	解答記入欄 26 - 50	小問 番号	解答 51
1	2	3	4	0	1	0 0 0 0 0 0 0 0 0 0	26	0 0 0 0 0 0 0 0 0 0	51	0 0 0 0
0	0	0	0	0	2	0 0 0 0 0 0 0 0 0 0	27	0 0 0 0 0 0 0 0 0 0	52	0 0 0 0
0	0	0	0	0	3	0 0 0 0 0 0 0 0 0 0	28	0 0 0 0 0 0 0 0 0 0	53	0 0 0 0
0	0	0	0	0	4	0 0 0 0 0 0 0 0 0 0	29	0 0 0 0 0 0 0 0 0 0	54	0 0 0 0
0	0	0	0	0	5	0 0 0 0 0 0 0 0 0 0	30	0 0 0 0 0 0 0 0 0 0	55	0 0 0 0
0	0	0	0	0	6	0 0 0 0 0 0 0 0 0 0	31	0 0 0 0 0 0 0 0 0 0	56	0 0 0 0
0	0	0	0	0	7	0 0 0 0 0 0 0 0 0 0	32	0 0 0 0 0 0 0 0 0 0	57	0 0 0 0
0	0	0	0	0	8	0 0 0 0 0 0 0 0 0 0	33	0 0 0 0 0 0 0 0 0 0	58	0 0 0 0
0	0	0	0	0	9	0 0 0 0 0 0 0 0 0 0	34	0 0 0 0 0 0 0 0 0 0	59	0 0 0 0
0	0	0	0	0	10	0 0 0 0 0 0 0 0 0 0	35	0 0 0 0 0 0 0 0 0 0	60	0 0 0 0
0	0	0	0	0	11	0 0 0 0 0 0 0 0 0 0	36	0 0 0 0 0 0 0 0 0 0	61	0 0 0 0



【1】「学習指導要領解説特別の教科 道徳編」（平成29年7月 文部科学省）に記載されている道徳教育と道徳科について、次の問いに答えよ。

(1) 小学校（中学校）学習指導要領解説特別の教科 道徳編（平成29年7月 文部科学省）における道徳教育の目標に関する記述のうち、適切でないものを①～⑤から選び、番号で答えよ。

- ① 学校における道徳教育は、自己の生き方を考え、主体的な判断の下に行動し、自立した一人の人間として他者と共によりよく生きるための道徳性を養うことを目標とする。
- ② 学校における道徳教育は、社会の変化に対応しその形成者として生きていくことができる人間を育成する上で重要な役割をもっている。
- ③ 道徳教育は、学校や児童生徒の実態などを踏まえ設定した目標を達成するために、道徳科はもとより、あらゆる教育活動を通じて、適切に行われなくてはならない。
- ④ 各教育活動での道徳教育は、その特質に応じて意図的、計画的に推進することが大切であるが、相互に関連を図ることは適当ではない。
- ⑤ 学校における道徳教育は、児童生徒の発達の段階を踏まえて行われなければならない。

1

(2) 次の文は、小学校（中学校）学習指導要領解説特別の教科 道徳編（平成29年7月 文部科学省）における道徳科の目標に関する記述の一部である。次の（ア）～（ウ）に入る語句の適切な組合せを①～⑤から選び、番号で答えよ。

道徳科が目指すものは、学校の教育活動全体を通じて行う道徳教育の目標と同様に（ア）ための基盤となる道徳性を養うことである。その中で、道徳科が学校の教育活動全体を通じて行う道徳教育の（イ）としての役割を果たすことができるよう、計画的、（ウ）な指導を行うことが重要である。

- ① （ア） よりよく生きる （イ） 要 （ウ） 応用的
- ② （ア） よりよく生きる （イ） 要 （ウ） 発展的
- ③ （ア） 主体的に生きる （イ） 要 （ウ） 応用的
- ④ （ア） よりよく生きる （イ） 中枢 （ウ） 発展的
- ⑤ （ア） 主体的に生きる （イ） 中枢 （ウ） 系統的

2

(3) 小学校(中学校)学習指導要領解説特別の教科 道徳編(平成29年7月 文部科学省)「第3章 道徳科の内容」では、指導すべき内容項目をA B C Dの4つの視点で分類整理し、その内容を端的に表す言葉を付記したものを見出しにして、内容項目ごとの概要、指導の要点を示している。次に示す5つは、内容項目の見出しである。このなかで「B 主として人との関わりに関すること」の視点に分類されるものはどれか、①～⑤から選び、番号で答えよ。

- ① 公正、公平、社会正義
- ② 家族愛、家庭生活の充実
- ③ よりよい学校生活、集団生活の充実
- ④ 礼儀
- ⑤ 生命の尊さ

【2】 次の問いに答えよ。

- (1) 「中学校学習指導要領解説」(平成29年3月 文部科学省)における地理的分野に関する記述の一部である。文中の(ア)～(ウ)にあてはまる語句の適切な組合せを①～⑤から選び、番号で答えよ。

社会的事象の地理的な(ア)を働かせ、課題を追究したり解決したりする活動を通して、広い視野に立ち、グローバル化する国際社会に(イ)に生きる平和で民主的な国家及び社会の形成者に必要な公民としての(ウ)の基礎を次のとおり育成することを目指す。

	(ア)	(イ)	(ウ)
①	概念	主体的	資質・能力
②	見方・考え方	主体的	資質・能力
③	見方・考え方	協働的	思考力・判断力・表現力
④	見方・考え方	主体的	思考力・判断力・表現力
⑤	概念	協働的	資質・能力

4

- (2) 「中学校学習指導要領解説」(平成29年3月 文部科学省)における人間の尊重と日本国憲法の基本的原則に関する記述の一部である。適切でないものを①～⑤から選び、番号で答えよ。

- ① 人間の尊重についての考え方を、基本的人権を中心に深め、法の意義を理解すること。
- ② 民主的な社会生活を営むためには、法に基づく政治が大切であることを理解すること。
- ③ 日本国憲法が基本的人権の尊重、法の下での平等及び平和主義を基本的原則としていることについて理解すること。
- ④ 日本国及び日本国民統合の象徴としての天皇の地位と天皇の国事に関する行為について理解すること。
- ⑤ 我が国の政治が日本国憲法に基づいて行われていることの意義について多面的・多角的に考察し、表現すること。

5

(3) 「高等学校学習指導要領」(平成30年3月 文部科学省)における歴史総合による資質・能力の育成に関する記述の一部である。下線部 a～c の正誤の適切な組合せを①～⑤から選び、番号で答えよ。

- (1) 近現代の歴史の変化に関わる諸事象について、世界とその中の日本を広く、a 相互的な視野から捉え、現代的な諸課題の形成に関わる近現代の歴史を理解するとともに、諸資料から歴史に関する様々な情報を適切かつ効果的に、b 取捨選択する技能を身に付けるようにする。
- (2) 近現代の歴史の変化に関わる事象の意味や意義、特色などを、時期や年代、推移、比較、相互の関連や現在とのつながりなどに着目して、c 概念などを活用して多面的・多角的に考察したり、歴史に見られる課題を把握し解決を視野に入れて構想したりする力や、考察、構想したことを効果的に説明したり、それらを基に議論したりする力を養う。

	①	②	③	④	⑤
a	正	正	正	誤	誤
b	正	正	誤	正	誤
c	正	誤	正	正	正

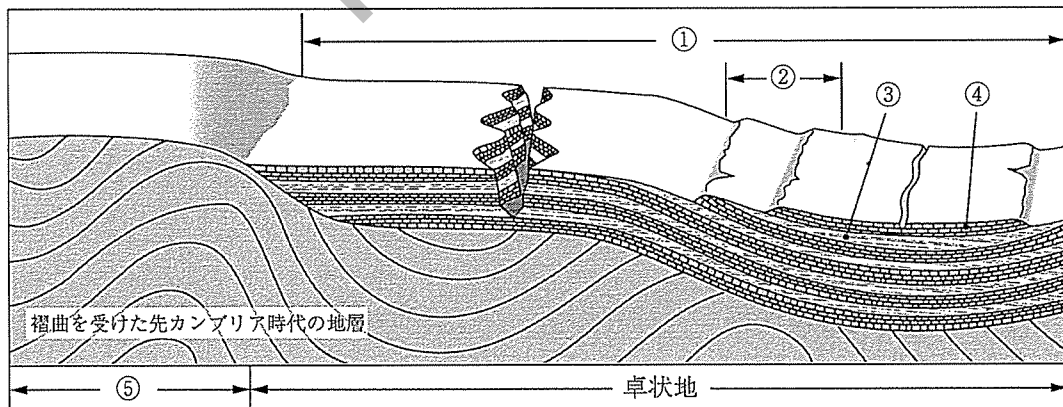
【3】 地理に関する次の問いに答えよ。

(1) 地形に関する記述として適切でないものを①～⑤から選び、番号で答えよ。

- ① アルプス山脈のような高くけわしい山脈は、おもに地球の内部からの力によって地表が押し上げられる地殻変動によって形成される。
- ② 富士山などの火山を形成する火山活動は、地球の内部からの力である内的営力によって引き起こされる。
- ③ 内的営力で生じた地表の高まりは、風化して崩れやすくなるとともに、河川や氷河などによる侵食を受けて、深い谷やけわしい山々となる。
- ④ 削り取った土砂を低いところへ運んで埋め立てる運搬・堆積作用を引き起こす力を外的営力という。
- ⑤ 外的営力の作用が不活発になると、高くけわしい山地は徐々に高度を下げ、起伏が小さくなり、なだらかな地形ができる。

7

(2) 次の図は、安定大陸の平野（侵食平野）の模式図である。この図をもとに、次の問いに答えよ。

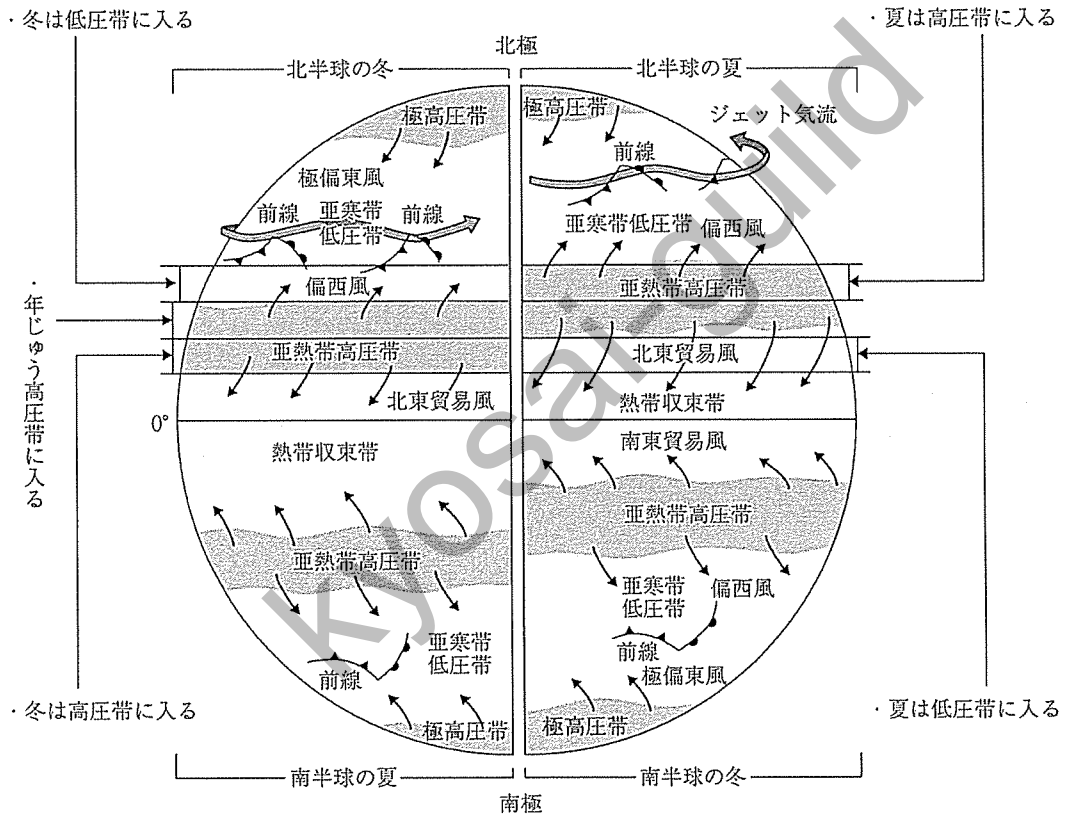


「卓状地がわずかに傾き、軟らかい地層が侵食されて硬い地層が残った場合、その断面はゆるやかな斜面と急な斜面が続く丘陵の列をつくる」

上記のような特徴をもつ地形の位置として適切なものを図の①～⑤から選び、番号で答えよ

8

(3) 次の図は、大気の大循環の模式図である。その模式図についての説明として適切なものを①～⑤から選び、番号で答えよ。



- ① 赤道付近では上昇気流が生まれるため、北半球から北西の風が、南半球から南西の風が吹き、一年中雨がよく降ることになる。
- ② 南北回帰線付近(20度～30度付近)あたりでは、亜熱帯高压帯が形成され、よく雨が降ることになる。
- ③ 北極、南極では空気が冷やされ、極高压帯から北東貿易風が常に低緯度へ吹くことになる。
- ④ 中緯度地域(40度～65度付近)では、偏西風が極高压帯から吹く風とぶつかることで、前線がよく発達することになる。
- ⑤ 中緯度地域(40度～65度付近)にできる前線は、極高压帯からの風の影響で、冬の方が高緯度にできやすくなる。

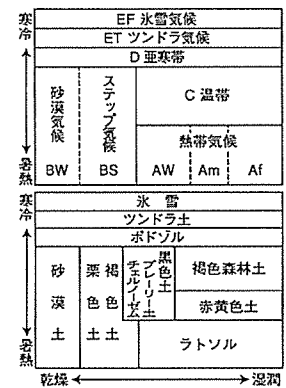
(4) 植生に関する記述として適切でないものを①～⑤から選び、番号で答えよ。

- ① 赤道付近には熱帯雨林がある。
- ② 砂漠の周辺はステップになる。
- ③ 地中海周辺は冬に気温が下がるため、ニレやブナなどの落葉広葉樹がある。
- ④ 針葉樹林はユーラシア大陸全体にわたって東西に広がっている。
- ⑤ ユーラシア大陸の北端近くは、樹木が生育できない森林限界となる。

10

(5) 次の図は、気候帯と植生帯、土壌の関係を示したものである。気候と土壌の関係として適切なものを①～⑤から選び、番号で答えよ。

- ① ラトソル - 温帯にみられる
- ② ポドソル - 亜寒帯にみられる
- ③ ツンドラ土 - 氷雪気候にみられる
- ④ 氷雪 - ステップ気候にみられる
- ⑤ 黒色土 - 砂漠気候にみられる



11

(6) 地球環境に関する条約などの採択年として、最も古いものを①～⑤から選び、番号で答えよ。

- ① 水鳥の保護のための湿地に関するラムサール条約
- ② 野生動植物の国際取引に関するワシントン条約
- ③ 有害廃棄物の越境移動の規制に関するバーゼル条約
- ④ 地球温暖化防止に関する京都議定書
- ⑤ オゾン層破壊物質に関するモントリオール議定書

12

(7) 産業と地域構造に関する記述として適切でないものを①～⑤から選び、番号で答えよ。

- ① 産業に従事する人々によって構成される社会が、全体として財やサービスを生産し、交換することを社会的分業と呼ぶ。
- ② それぞれの産業の構成や産業間の結び付きのあり方を産業構造と呼ぶ。
- ③ 二つ以上の異なる産業（農業と鉱業など）が混ざり合った立地の地域を産業地域と呼ぶ。
- ④ 産業地域が互いに結合して一つの国や世界をつくりあげる際、その結び付きを地域的分業と呼ぶ。
- ⑤ 社会は多くの地域によって構成され、地域どうしが多様な関わりをもって結合しており、その全体としての結合の仕方を地域構造と呼ぶ。

13

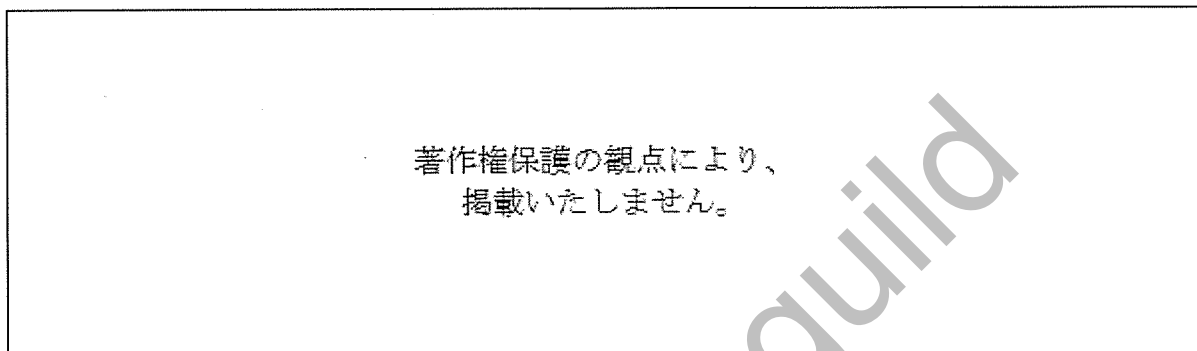
(8) 次の地形図を正しく読み取っているものとして適切なものを①～⑥から選び、番号で答えよ。



- ア 青ノ山の標高は、丸亀城跡の標高の3倍よりも低い。
- イ 市役所から丸亀城跡まで地図上では約2cmだったので、実際は約5kmである。
- ウ 丸亀城跡の東側にある川は丸亀城跡から見て、北方面から南東方面に向かって流れている。
- エ 青ノ山の南の斜面には果樹園が点在している。
- オ 丸亀駅から南南東にまっすぐ進み、2つ目の郵便局を曲がったところに裁判所がある。

- ① アとイ ② イとオ ③ ウとエ ④ ウとオ ⑤ エとオ ⑥ エのみ

(9) 日本の特色ある地形を示している写真ア～ウを見て、下の問いに答えよ。



a. 写真と特色ある地形の名称の適切な組合せを①～⑤から選び、番号で答えよ。

- ① ア 三角州 イ 扇状地 ウ 台地
- ② ア 三角州 イ 台地 ウ 扇状地
- ③ ア 扇状地 イ 三角州 ウ 台地
- ④ ア 扇状地 イ 台地 ウ 三角州
- ⑤ ア 台地 イ 扇状地 ウ 三角州

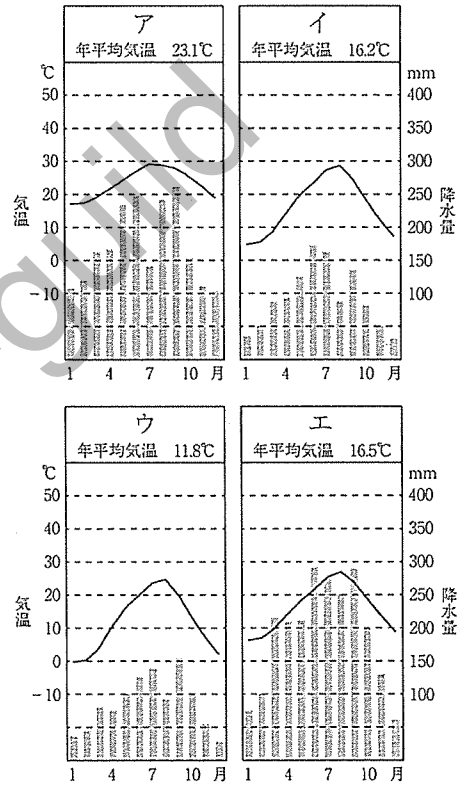
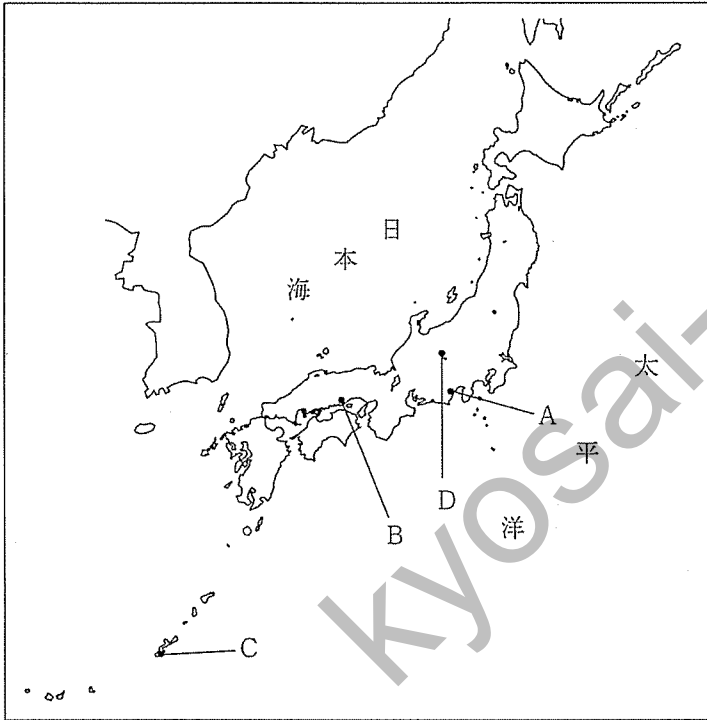
15

b. 写真アの特色ある地形についての説明として適切なものを①～⑤から選び、番号で答えよ。

- ① 水はけがよく、果樹園として使用できる。
- ② つぶの細かい砂や石からできており、水がしみこみにくい。
- ③ 水田として利用されることが多い。
- ④ 川や海沿いの平地よりも一段高い位置に水平に広がる土地なので、水が得にくい。
- ⑤ 川の氾濫などによる被害を受けやすく、治水の工夫をする地域が多い。

16

(10) 次の日本の気候区分の地図と各地の雨温図を見て、下の問いに答えよ。



a. 地図中のA～Dの地域と雨温図ア～エの適切な組合せを①～⑤から選び、番号で答えよ。

	A	B	C	D
①	イ	ア	エ	ウ
②	ウ	エ	イ	ア
③	エ	イ	ア	ウ
④	ア	エ	ウ	イ
⑤	エ	ウ	ア	イ

17

b. 右の写真は気候を利用して、屋外に寒天を干し、乾燥させている。
地図中の寒天づくりが有名な地域を①～④から選び、番号で答えよ。

- ① A ② B ③ C ④ D

18

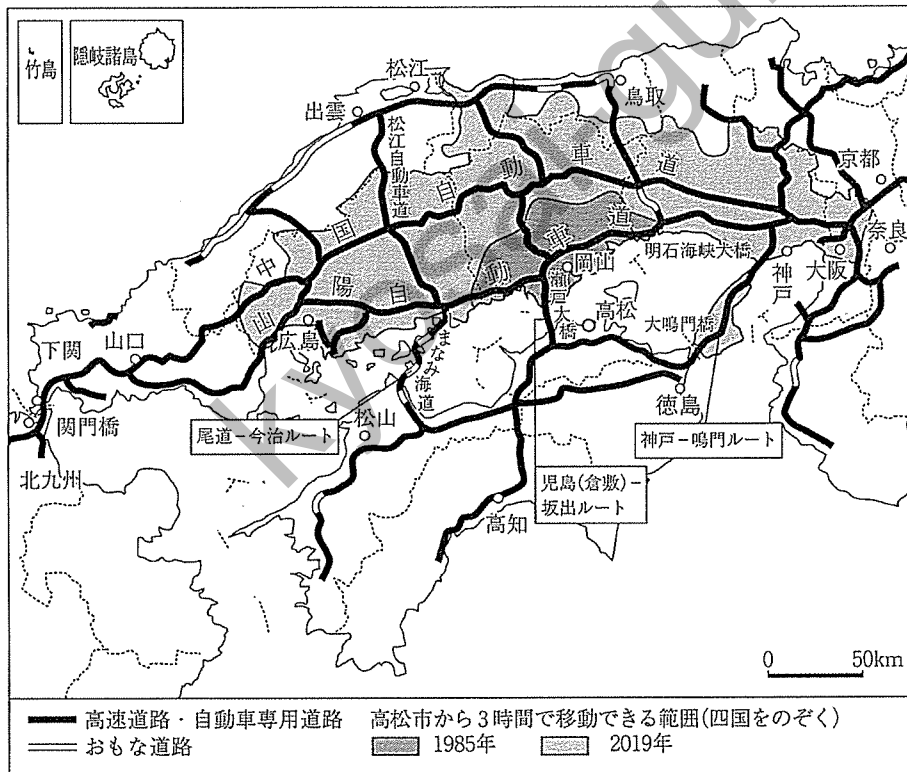
著作権保護の観点により、
掲載いたしません。

c. ア～エの都市のうち、年降水量が2,000mmを超えた都市の適切な組合せを①～⑤から選び、番号で答えよ。

- ① アのみ ② アとイとエ ③ アとエ ④ イとウ ⑤ エのみ

19

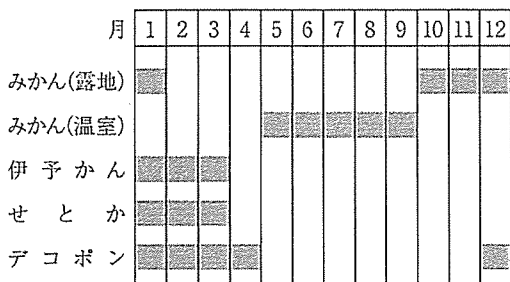
(11) 次の地図を見て、交通網の発達に対する影響として適切なものを①～⑤から選び、番号で答えよ。



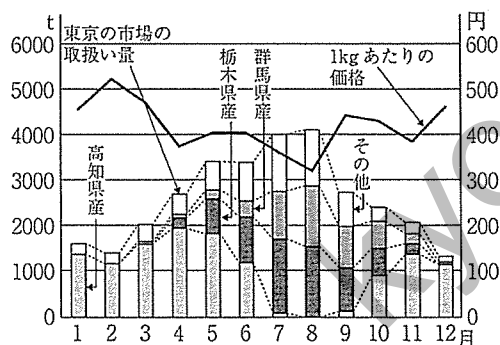
- ① 本州四国連絡橋は尾道—今治ルートと倉敷—坂出ルートの2つのルートしかできていないが、四国と本州を結ぶ時間短縮につながった。
- ② 2019年には本州四国連絡橋・松江自動車道などの交通網の発達で、高松から自動車を利用して3時間以内に出雲大社に初詣が可能になった。
- ③ 本州四国連絡橋ができたために、瀬戸内海の島々の島民は通勤・通学も本州へ通うようになり、フェリーの利用はあっそう活性化していった。
- ④ 本州四国連絡橋の開通により、便利になったので、地方都市への人口移動が盛んにおこなわれるようになり、ストロー現象が問題となっていった。
- ⑤ 本州四国連絡橋の開通により、徳島から高速バスを利用して大阪まで3時間以内で買い物に出かけることができるようになった。

20

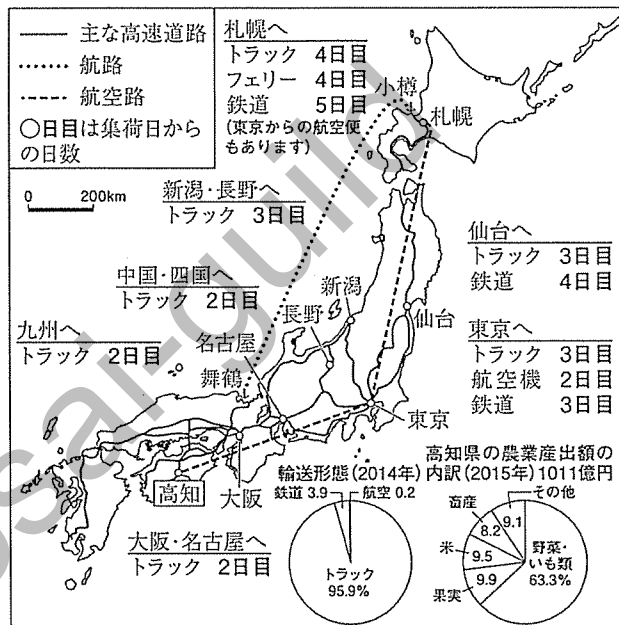
(12) 次のグラフ、図表から読み取れることについて、適切なものを①～⑤から選び、番号で答えよ。



グラフ1：愛媛県で生産される柑橘類の出荷カレンダー（愛媛県資料）



グラフ3：東京へ出荷されるナシの量と価格（2018年）（東京都中央卸売市場資料）



図表2：高知県の農業産出額と野菜の輸送形態、主な出荷先への輸送手段（農林水産省資料、ほか）

- ① グラフ1から、みかんの露地栽培では夏の時期に出荷されるが、品種改良を行うことで伊予かんやデコポンなどはみかんと出荷時期をかえて販売できるようにしたことが分かる。
- ② 図表2から、高知では野菜・いも類の産出額が約600億円と昨年より多くなっていることが分かる。
- ③ 図表2から、トラック長距離輸送が多くなっているのは、橋の開通や高速道路の整備によって、鉄道を利用するより鮮度を落とさずに輸送できるようになったことが原因だと分かる。
- ④ グラフ3から、東京の市場での5月のナシの出荷量は栃木県が一番多いということが分かる。
- ⑤ グラフ3から、高知県産のナシは他の地域と栽培している時期をずらすことで少しでも安く買ってもらえるように工夫していることが分かる。

(13) 交通網の発達によって、各地ではその土地にある様々な観光資源を利用し、地域おこしを行っているが、適切でないものを①～⑤から選び、番号で答えよ。

- ① 境港市の水木しげるロードでは、漫画のキャラクターの銅像や記念館、グッズの販売などで観光客が増加している。
- ② 鳥取市では砂丘やなしの観光農園、新鮮な海の幸を楽しめる漁港などを観光資源に利用している。
- ③ 江戸時代より城下町として栄え、武家屋敷や商家などの伝統的街づくりなどを保存している萩市では、毎年、多くの観光客が訪れている。
- ④ 倉敷市から坂出市の連絡橋では瀬戸内海の島々に徒歩や自転車でも渡ることができ、国内外から多くの観光客が訪れている。
- ⑤ 讃岐うどんで有名な高松市では連絡橋の開通や高松空港の開港によって、全国からうどんを食べにくる観光客が増加している。

【4】日本の歴史に関する次の問いに答えよ。

(1) 中国の歴史書に述べられている3世紀の日本の社会に関する記述として適切なものを①～④から選び、番号で答えよ。

- ① 朝鮮半島における外交・軍事上の立場を優位にするため、倭の五王が中国南朝に断続的に朝貢してきた。
- ② 奴国の王の使者が後漢の都に派遣されて光武帝から印綬を受け、その後、帥升が奴隷にあたる生口を安帝に献じた。
- ③ 朝鮮半島南部の鉄資源を確保する目的で、倭国は朝鮮に派兵し高句麗の騎馬軍団と戦闘行為に及んだ。
- ④ 邪馬台国の女王卑弥呼は魏の皇帝に使者を派遣して、「親魏倭王」の称号と金印、さらに多数の銅鏡を賜った。

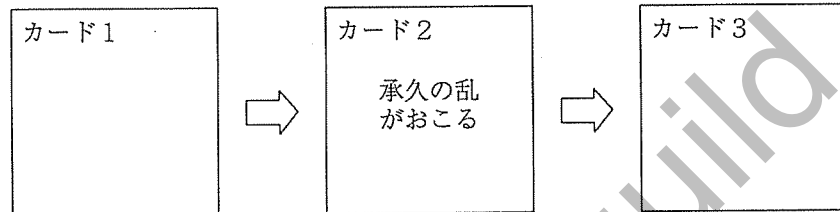
23

(2) 藤原氏が関与した出来事についての記述として適切でないものを①～④から選び、番号で答えよ。

- ① 藤原不比等は、文武天皇の時代に完成した大宝律令を、刑部親王らとともに編集した。
- ② 藤原仲麻呂（恵美押勝）は、孝謙太上天皇の寵愛を受けた道鏡の台頭に危機感を募らせ挙兵したが滅ぼされた。
- ③ 藤原冬嗣は、嵯峨天皇により天皇の命令を円滑に太政官組織に伝達するために設置された蔵人頭に任命された。
- ④ 藤原頼通は、醍醐天皇の在位中に六国史の最後として成立した『日本三代実録』の編纂事業に関白として参画した。

24

- (3) 1221年に勃発した「承久の乱」の前後関係を説明するために3枚のカードを作成した。a～dの文のうち、カード1とカード3に入る文として適切な組合せを①～④から選び、番号で答えよ。



- a 鎌倉幕府3代将軍源実朝が、公暁に暗殺された事件を契機として、朝幕関係が不安定となった。
- b 平家滅亡後、源頼朝は軍勢を京都におくって後白河法皇にせまり、諸国に守護を、荘園・公領に地頭を任命する権利を獲得した。
- c 惣領制における相続法が単独相続から分割相続に変化し、以後、貨幣経済の浸透も相まって御家人の生活は窮乏化していった。
- d 朝廷と幕府との二元的支配の状況は大きく変化し、以後、幕府が皇位の継承や朝廷の政治にも干渉するようになった。

- ① カード1 - a カード3 - b
- ② カード1 - a カード3 - d
- ③ カード1 - c カード3 - b
- ④ カード1 - c カード3 - d

25

- (4) 中世の建築に関する記述として適切でないものを①～④から選び、番号で答えよ。

- ① 重源は、東大寺再建の際、その南大門に細かな部材を組み合わせた整然とした美しさを特色とする大仏様の建築様式を採用した。
- ② 蓮華王院本堂（三十三間堂）は、緩やかな屋根の勾配など、平安時代以来の日本的建築様式を特色とする和様が採用されている。
- ③ 足利義満が京都北山に造営した金閣は三層の楼阁建築で、義満の死後、鹿苑寺となった。
- ④ 銀閣の東求堂同仁齋にみられる違い棚などの施設をもつ書院造は、和風住宅の原型となった。

26

(5) 次のア～エは15世紀に起こった一揆に関する史料である。ア～エを起こった順に並べたものとして適切なものを①～④から選び、番号で答えよ。

ア 近日、向辺の土民蜂起す。土一揆と号し、御徳政と称して、借物を破り、少分を以て押して質物を請く。……今土民等、代始に此の沙汰は先例と称すと云々。言語道断の事なり。……

イ 叔和西堂語りて云く。今月五日越前府中に行く。それ以前越前の合力勢賀州に赴く。しかりといえども、一揆衆二十万人、富樫城を取り回く。故を以て、同九日城を攻め落さる。皆生害して、富樫一家の者一人これを取り立つ。

ウ 今日山城国人集会す。上は六十歳、下は十五六歳と云々。同じく一國中の土民等群衆す。今度兩陣の時宜を申し定めんがための故と云々。しかるべきか。但し又下極上のいたりなり。

エ 一天下の土民蜂起す。徳政と号し、酒屋、土倉、寺院等を破却せしめ、雑物等恣にこれを取り、借錢等悉これを破る。管領これを成敗す。凡そ亡国の基、これに過ぐべからず。日本開白以来、土民蜂起是れ初めなり。

- ① ア→エ→イ→ウ ② エ→ア→ウ→イ ③ エ→ア→イ→ウ ④ ア→エ→ウ→イ

27

(6) 豊臣秀吉が1585年に発布した戦闘の停止と領地の確定を秀吉に委ねさせたいわゆる「惣無事令」と最も関係の深い出来事として適切なものを①～④から選び、番号で答えよ。

- ① 姉川の戦いで近江の浅井氏、越前の朝倉氏を討伐した。
② 大友氏を圧迫した理由から、薩摩の島津義久を討伐した。
③ 比叡山延暦寺の焼き討ちをおこない、反抗的な仏教勢力に打撃を与えた。
④ 越前の一方向一揆に対して、大軍を派遣して鎮定した。

28

(7) 江戸幕府の老中に就任した人物についてX・Yのような評価がある。それぞれの評価を根拠づける情報を、Xはa・bから、Yはc・dから選ぶとき、評価と根拠の適切な組合せを①～④から選び、番号で答えよ。

評価：X 松平定信は、治安対策に力を注いだ老中であった。

Y 水野忠邦は、物価対策に力を注いだ老中であった。

根拠：a 関東8カ国の治安維持を強化する役職を設け、博徒や無宿人を取り締まった。

b 無宿人を強制的に収容する施設を設け、技術を身に付け職業に就かせようと試みた。

c 株仲間の結成を奨励し、物資の供給安定により物価の変動を抑制しようとした。

d 株仲間を解散させ、在郷商人による自由な取引による物価引下げを企図した。

	X	Y
①	a	c
②	a	d
③	b	c
④	b	d

29

(8) 明治政府が1870年代に展開した内政・外交政策に関する記述a～dについて、正しいものの適切な組合せを①～④から選び、番号で答えよ。

a 学制を公布し、官立の大学以外に公立・私立・単科大学を公認した。

b 5年～14年分の金禄公債証書を与えることで、士族層の秩禄を全廃した。

c ロシアとの間に樺太・千島交換条約を締結して、政府は千島全島の領有を放棄した。

d 朝鮮との間に日本の領事裁判権や関税免除を容認させた日朝修好条規を締結した。

① a・c ② a・d ③ b・c ④ b・d

30

(9) 大正・昭和初期の人々の生活や大衆文化についての記述として適切でないものを①～④から選び、番号で答えよ。

- ① タイピストや電話交換手などを職業にもつ女性がみられるようになり、それらの女性は職業婦人と呼ばれた。
- ② 電灯が農村部を含めて広く一般家庭に普及し、都市ではガス・水道などの供給事業が本格化していった。
- ③ マス＝メディアが急速に発展し、『中央公論』や『太陽』などの総合雑誌が創刊され、ラジオ放送も開始された。
- ④ 銀座や心斎橋などの盛り場では、断髪にスカートといったいでたちのモダンガールが闊歩するようになった。

31

(10) 米ソ冷戦に伴う、『占領政策の転換』について述べたものとして適切でないものを①～④から選び、番号で答えよ。

- ① GHQが日本の経済復興にむけて、経済安定九原則を日本政府に指示したこと。
- ② 衆議院議員選挙法が改正され、20歳以上の男女に選挙権が付与されたこと。
- ③ レッド＝パージにより、公職追放が解除され保守的政治家が復帰したこと。
- ④ 朝鮮戦争勃発に際し、マッカーサーが警察予備隊の設置を指示したこと。

32

【5】世界の歴史に関する次の問いに答えよ。

(1) ペルシア戦争に関する記述として適切でないものを①～④から選び、番号で答えよ。

- ① アテネでは、軍船の漕ぎ手として活躍した下層市民も国政に参加するようになった。
- ② ペルシア帝国支配下にあったイオニアのポリスの反乱が契機となった。
- ③ ペルシア軍の再来に備えてデロス同盟が結成された。
- ④ ペルシア戦争後、アテネではテミстокレスの指導のもとで民主政が実現された。

33

(2) ノルマン人の活動に関する記述として適切なものを①～④から選び、番号で答えよ。

- ① ノルマン人は、もともとイベリア半島やユトランド半島に暮らしていた。
- ② ノルマン人は、イスラム勢力からシチリア島を奪い取り、両シチリア王国を建てた。
- ③ デーン人の王クヌートによるイングランド侵入はノルマン=コンクエストと呼ばれる。
- ④ ノルマン人の中で、ロロの率いる一派は、西フランク王を倒してノルマンディー公国を建てた。

34

(3) ギリシア正教が広がった地域の諸国に関する記述として適切なものを①～④から選び、番号で答えよ。

- ① キエフ公国のウラディミル1世は、ビザンツ皇帝と姻戚関係をむすんでギリシア正教を国教と定めた。
- ② 7世紀にバルカン半島に定住した西スラブ系のチェック人は、その後ギリシア正教に改宗した。
- ③ マジャール人は、7世紀にバルカン半島にブルガリア王国を建国し、ギリシア正教に改宗した。
- ④ ロシアの諸侯国は、モンゴルの攻撃を受けて、イル=ハン国の支配に服した。

35

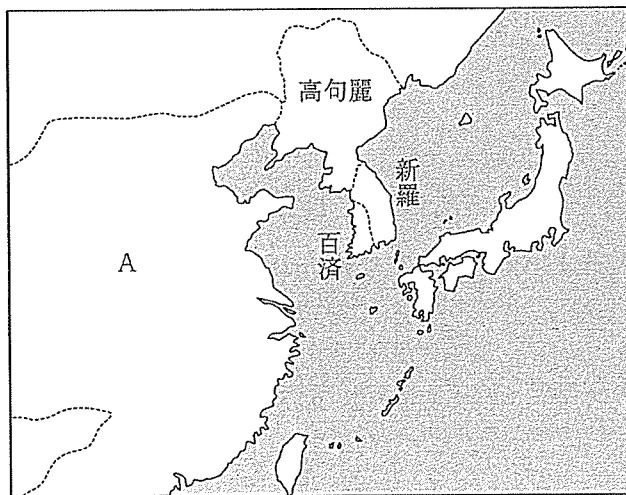
(4) 次の中世ヨーロッパ社会の変化に関する記述を読み、空欄の(ア)～(ウ)にあてはまる語句の適切な組合せを①～⑥から選び、番号で答えよ。

中央アジアより商人らを介してヨーロッパにもちこまれた(ア)は、14世紀半ばに大流行し、大きな被害をもたらした。農村部では、人口減少により労働力が不足し、農民の地位が上昇した。また、農村部にも(イ)が浸透すると、農民が地代を納める地代荘園が増加し、その結果、荘園制の解体が進展し、(ウ)の解放が進んだ。

	(ア)	(イ)	(ウ)
①	コレラ	マニュファクチャー	奴隷
②	ペスト	貨幣経済	農奴
③	ペスト	マニュファクチャー	農奴
④	コレラ	貨幣経済	奴隷
⑤	コレラ	貨幣経済	農奴
⑥	ペスト	マニュファクチャー	奴隷

36

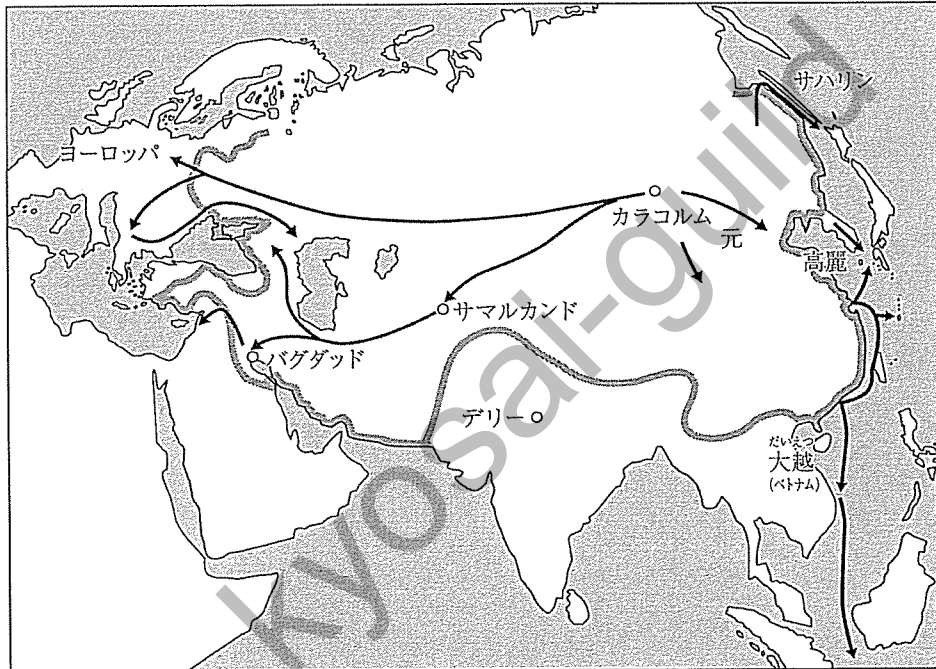
(5) 次の地図は、ある時期の東アジアの様子を示したものである。地図中のAの王朝に関する記述として適切なものを①～④から選び、番号で答えよ。



- ① 大都に都を移し、陸上だけでなく海上の交通路も整備した。
- ② 倭の五王が派遣した使者がたびたび訪れた。
- ③ 律令で国を治め、人々に土地を割りあてて、税や労役を課した。
- ④ 武帝のときには、朝鮮半島に楽浪郡などを設け、中央アジアも支配下に入れた。

37

(6) 次の地図は、モンゴル帝国の最大領域とモンゴル軍の遠征路を示したものである。この地図を参考にしながら、モンゴル帝国に関する記述として適切なものを①～④から選び、番号で答えよ。



- ① モンゴル軍は、西アジアにも攻め込み、バグダッドやカイロを占領した。
- ② モンゴル帝国の領域は遠く西ヨーロッパにまで及んだ。
- ③ モンゴル帝国は、大越を滅ぼし、現在のベトナム南部にまで支配を広げた。
- ④ モンゴル軍は、サハリンにも攻め込み、アイヌの人々と戦った。

(7) 次のイスラムの発展に関する記述を読み、空欄 (ア) ~ (ウ) にあてはまる語句の適切な組合せを①~④から選び、番号で答えよ。

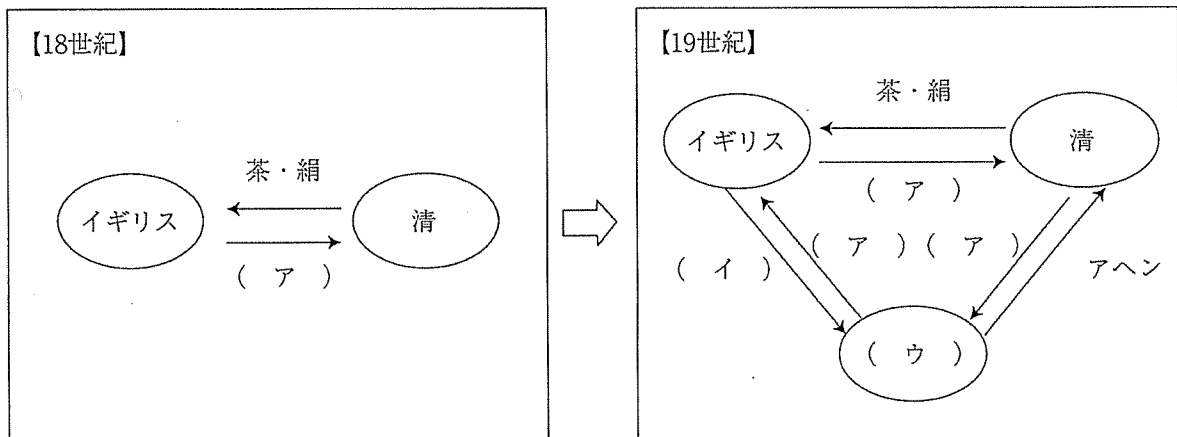
(ア) から広まったイスラム教の勢力は、8世紀には西アジアから北アフリカにまたがる大帝国内に発展した。イスラム商人は、(イ) から南シナ海にかけての海の道を利用し、貿易の担い手として活躍した。

11世紀末にはじまった十字軍の遠征を契機に、ヨーロッパ諸国とイスラム勢力が接触したことで、(ウ) とイスラム商人との間で貿易が活発になり、イスラム諸国の進んだ学問や技術がヨーロッパに伝わった。

	(ア)	(イ)	(ウ)
①	アラビア半島	インド洋	イタリア商人
②	イベリア半島	地中海	フランス商人
③	アラビア半島	インド洋	フランス商人
④	アラビア半島	地中海	イタリア商人

39

(8) 次の図は、18世紀から19世紀におけるイギリスと清との貿易の変化を示したものである。空欄の (ア) ~ (ウ) にあてはまる語句の適切な組合せを①~④から選び、番号で答えよ。



	(ア)	(イ)	(ウ)
①	銀	絹織物	イラン
②	金	綿織物	イラン
③	銀	綿織物	インド
④	金	絹織物	インド

40

(9) アヘン戦争後の南京条約によって開港した港とイギリスが清から獲得した土地とその位置の適切な組合せを①～④から選び、番号で答えよ。

	開港した港	イギリスが獲得した土地	イギリスが獲得した土地の位置
①	南京	香港	A
②	上海	広州	B
③	南京	広州	A
④	上海	香港	B



41

(10) 第一次世界大戦と第二次世界大戦の戦間期の出来事として適切でないものを①～④から選び、番号で答えよ。

- ① アメリカのローズベルト大統領が、農業や工業の生産を調整し、積極的な公共事業を起こした。
- ② イタリアが植民地を獲得しようとエチオピアを侵略し、これを併合した。
- ③ アメリカでは、男女普通選挙が実現し、ラジオ・冷蔵庫などの家電製品の登場などによって人々の生活も豊かになった。
- ④ インドでは、ガンディーの指導によって、イギリスからの独立を達成した。

42

【6】政治・経済に関する次の問いに答えよ。

(1) 古典的な政治理論に関する記述として適切なものを①～④から選び、番号で答えよ。

- ① ウェーバーは、政治権力の正当性を、君主制などのカリスマ的支配、非凡な能力をもった者による合法的支配、官僚制のような伝統的支配に類型化した。
- ② ボーデンは、国家の主権は絶対かつ永久・不可分であるとして、君主が主権を握り権力を行使する絶対主義を擁護した。
- ③ ホッブズは、自然状態で人々は「万人の万人に対する闘争」になるため、民主的な政府を形成し秩序を維持する必要があるとして、専制政治を批判した。
- ④ コークは、国王も神と法の下にあるため、法に基づいて国王が政治を行わなければならないとして、人の支配の重要性を唱えた。

43

(2) 最高裁判所の判決に関する記述として適切でないものを①～④から選び、番号で答えよ。

- ① 薬事法訴訟において、最高裁判所は、薬局間の開設距離制限の規定は不良医薬品の供給防止という目的を達成するための合理的なものではないとした。
- ② 家永教科書訴訟において、最高裁判所は、教科書検定は子どもの教育を受ける権利を侵害するものではないとした。
- ③ 津地鎮祭訴訟において、最高裁判所は、市の地鎮祭は世俗的行為であり宗教的意義をもたないとした。
- ④ 『宴のあと』事件において、最高裁判所は、モデルとなった女性のプライバシーが小説によって侵害されているとして損害賠償と出版差し止めを認めた。

44

(3) 平等に関して、すべての人を一律に均一に取り扱おうとする考え方や、社会的な格差に着目して積極的にその是正を図ろうとする考え方がある。後者の考え方に基づく事例として適切なものを①～④から選び、番号で答えよ。

- ① 国政選挙の男女候補者数をできる限り均等にするように政党に求める。
- ② 住宅の入居や就職についての差別を禁止する法律を定める。
- ③ 国籍を理由として入学試験の受験資格を与えないことを法律で禁止する。
- ④ ホテルや飲食店は盲導犬の同伴を拒んではならないと法律で定める。

45

(4) 次の表は、軍拡や軍縮のあゆみに関するものである。表中のC～Eとそれぞれにあてはまる事項ア～カの適切な組合せを①～⑧から選び、番号で答えよ。

年	事 項
1962	A キューバ危機が起こる
	B アメリカとソ連が戦略兵器制限条約（SALT I）に調印する
1972	C アメリカとソ連が中距離核戦力（INF）全廃条約に調印する
	D 国際連合で包括的核実験禁止条約が採択される
1987	E アメリカとロシアが新START条約に調印する
	F 核実験禁止条約が採択される

- ア マルタ会談が行われる
- イ 国際連合で核兵器禁止条約が採択される
- ウ ソ連がアフガニスタンに侵攻を開始する
- エ 国際連合でクラスター爆弾を禁止する条約が採択される
- オ 地下核実験以外の核実験を禁止する条約が調印される
- カ 核廃絶を訴える国際科学者会議がはじめて開催される

	C	D	E
①	ア	エ	カ
②	ア	ウ	オ
③	イ	オ	カ
④	イ	エ	オ
⑤	ウ	ア	エ
⑥	ウ	ア	カ
⑦	エ	オ	カ
⑧	エ	ア	イ

(5) 日本銀行に関する記述として適切でないものを①～④から選び、番号で答えよ。

- ① 日本銀行は政府から独立して、物価の安定と国民経済の発展を目的として金融政策を行っている。
- ② 預金準備率を変更して資金の供給量を調節する金融政策は、実質的な意味を失っている。
- ③ 日本銀行は、不況時には市中銀行に国債を売却し、好況時には市中銀行から国債を買い上げている。
- ④ 日本銀行は、市中銀行が日本銀行に新たに預ける当座預金の一部にマイナス金利を適用して、金融緩和を図っている。

47

(6) 企業の種類A～Cとその具体例ア～ウの適切な組合せを①～⑥から選び、番号で答えよ。

- A 独立行政法人 B 特殊法人 C 会社企業
- ア 国立印刷局 イ NHK ウ 合同会社

	A	B	C
①	ア	イ	ウ
②	ア	ウ	イ
③	イ	ア	ウ
④	イ	ウ	ア
⑤	ウ	ア	イ
⑥	ウ	イ	ア

48

(7) 労働に関する記述として適切なものを①～④から選び、番号で答えよ。

- ① 同一労働同一賃金を実現するために、労働組合が重視されるようになっており組織率が向上している。
- ② 働き方改革関連法では、残業時間の上限規制が撤廃され、好きな時間帯に自由に働くことが可能になった。
- ③ 一人当たりの働く時間を短縮し多くの人で仕事を分け合うワーク・シェアリングには、失業率が増加するが、仕事以外の自由時間が増える効果が見込まれている。
- ④ 労働基準法は、賃金の最低基準や労働時間などの基準を定め、時間外労働や休日労働には制限を設けている。

49

(8) 日本の農業に関して次の記述中の(ア)～(ウ)にあてはまる語句の適切な組合せを①～⑧から選び、番号で答えよ。

日本の食料自給率をカロリーベースで見ると約40%である。食料を他国に依存しすぎることは(ア)の観点から望ましいことではない。輸入元の国で不作になったり、政情不安が起きたりした場合を想定すると、日本国内で食料自給率を向上させることが重要である。

一方、(イ)の考え方に基づけば、農作物の生産にかかる各国のコストの違いに着目して自国にとって有利な生産条件の商品に特化して生産し、(ウ)を行うことが合理的となる。

	(ア)	(イ)	(ウ)
①	6次産業化	比較優位	保護貿易による農業保護
②	6次産業化	比較優位	自由貿易による国際分業
③	6次産業化	絶対優位	保護貿易による農業保護
④	6次産業化	絶対優位	自由貿易による国際分業
⑤	食料安全保障	比較優位	保護貿易による農業保護
⑥	食料安全保障	比較優位	自由貿易による国際分業
⑦	食料安全保障	絶対優位	保護貿易による農業保護
⑧	食料安全保障	絶対優位	自由貿易による国際分業

50

(9) 国際収支に関する記述として適切でないものを①～④から選び、番号で答えよ。

- ① 日本人が海外旅行でホテル代を支払うことは、サービス収支のマイナスとして計上される。
- ② 発展途上国のインフラを整備するための無償資金協力は、第一次所得収支のプラスとして計上される。
- ③ 外国に留学している子供への仕送りは、第二次所得収支のマイナスとして計上される。
- ④ 外国の企業の株式を購入することは、金融収支のプラスとして計上される。

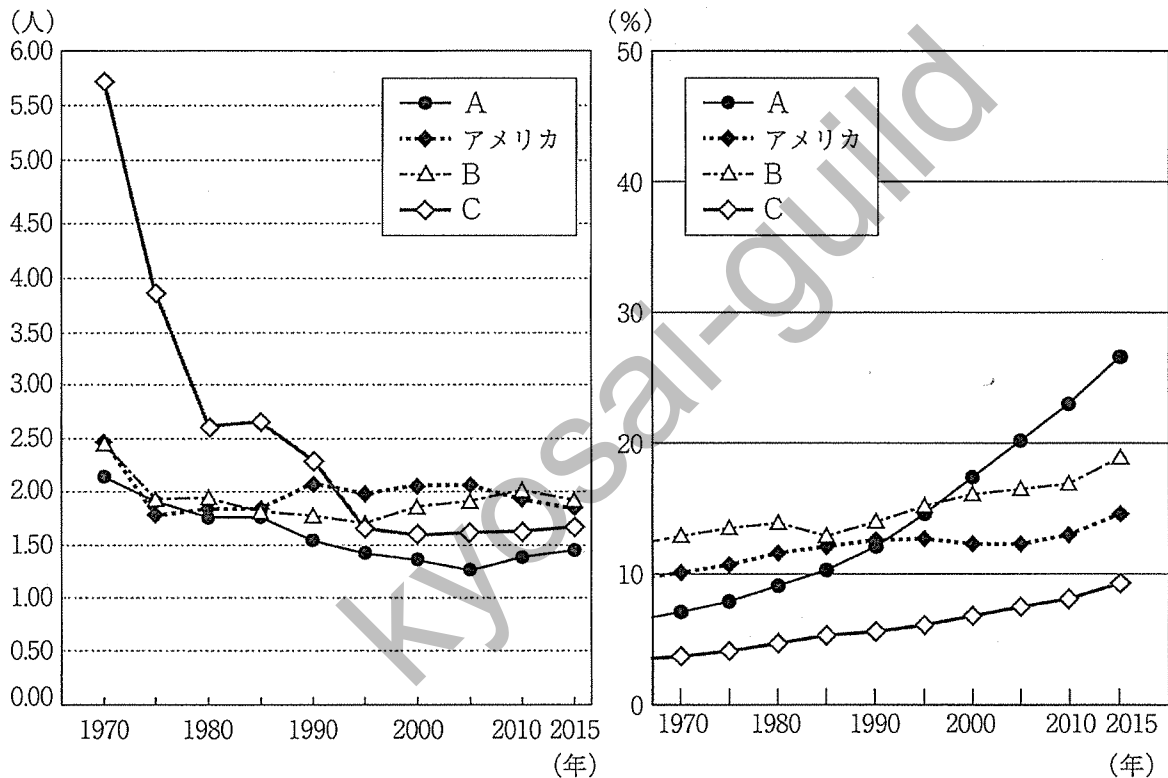
51

(10) 情報に関する記述として適切なものを①～④から選び、番号で答えよ

- ① 公職選挙法の改正によって、インターネットを活用した選挙運動が解禁されている。
- ② インターネット上での誹謗中傷はデジタル・デバイドとよばれ問題となっている。
- ③ 個人情報保護法が施行されて以降、ウイルスを送りつけるなどのサイバー犯罪は減少している。
- ④ 2010年からはじまった「アフリカの年」とは、ソーシャル・ネットワーク・サービス(SNS)等で情報が共有されて民主化運動に発展したことをあらわしている。

52

(11) 次のグラフは、世界の主な国の合計特殊出生率と高齢化率の推移を示したものである。グラフ中のA～Cと下の記述ア～ウの組合せとして適切なものを①～⑥から選び、番号で答えよ。



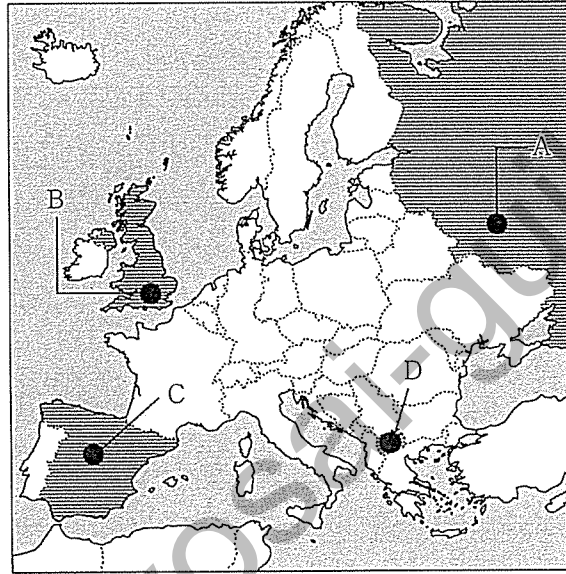
世界の主な国の合計特殊出生率と高齢化率の推移

(『令和2年版少子化社会対策白書』、『令和2年版高齢社会白書』より)

- ア 人口抑制政策のため、出生率の低下が見られたが、少しずつ高齢化が進んでいる。
- イ 多様な仕事と子育て支援策などの施策により、出生率は1990年代以降やや安定してきている。
- ウ 急速に高齢化率が高まっており、2015年時点で超高齢社会である。

	A	B	C
①	ア	イ	ウ
②	ア	ウ	イ
③	イ	ア	ウ
④	イ	ウ	ア
⑤	ウ	ア	イ
⑥	ウ	イ	ア

(12) 次の地図中のA～Dの国と記述ア～エの適切な組合せを①～④から選び、番号で答えよ。



- ア この国では、2020年に憲法が改正され、改憲成立時の大統領経験者は任期後も大統領選挙に出馬することができるようになった。
- イ この国では、2017年、カタルーニャ州で独立を問う住民投票が行われ、独立賛成派が勝利した。
- ウ この国は、独立後に国名問題でギリシャとの関係が悪化したが、長期にわたる交渉を経て新国名の合意が結ばれ、2020年にNATO加盟が実現した。
- エ この国は、ヨーロッパ連合（EU）から離脱した後、EUと自由貿易協定（FTA）を締結し、日本とは経済連携協定（EPA）を結んだ。

- ① A-ア ② B-イ ③ C-ウ ④ D-エ

【7】 倫理に関する次の問いに答えよ。

(1) ギリシア思想に関する記述として適切でないものを①～④から選び、番号で答えよ。

- ① 自然哲学者といわれるタレスは、万物の根源は水であると考えた。
- ② ソフィストといわれるプロタゴラスは、万物の尺度は人間であると考えた。
- ③ 問答法を行ったソクラテスは、よく生きることを説き、魂への配慮を求めた。
- ④ イデア論を唱えたプラトンは、観想的な生活こそが最高の幸福であると考えた。

55

(2) 日本思想に関する記述として適切なものを①～④から選び、番号で答えよ。

- ① 和辻哲郎は、モンスーン型の日本の風土では、人は自然と融和し受容的・忍従的態度が育まれるとした。
- ② 賀茂真淵は、人間の生まれながらの自然な情である真心が日本固有の精神であるとした。
- ③ 藤原惺窩は、君臣上下の関係は、天地間の自然を貫く道理と同じように定められているという上下定分の理を説いた。
- ④ 法然は、阿弥陀仏の他力と本願をひたすら信じ、ひたすら念仏を唱えることが現世で利益をえる唯一の道であるとした。

56

(3) 近現代の思想における著書に関する記述A～Cとその著者の適切な組合せを①～④から選び、番号で答えよ。

A 「人は女に生まれるのではない、女になるのだ。社会において人間の雌がとっている形態を定めているのは生理的宿命、心理的宿命、経済的宿命のどれでもない。文明全体が、男と去勢者の中間物、つまり女と呼ばれるものを作りあげるのである。他人の介在があつてはじめて個人は〈他者〉となる。」

B 「概念、理論、思想体系は、道具である。すべての道具の場合と同じように、その価値は、それ自身のうちにあるのではなく、その使用の結果にあらわれる作業能力のうちにある。」

C 「現象学的還元とは、一切の超越者に無効の符号をつけることであり、すなわちその超越者の実在と妥当性をそのまま定立しないで、せいぜい妥当現象として定立することである。」

- | | | | | | | |
|---|---|---------|---|------|---|-------|
| ① | A | ボーヴォワール | B | パース | C | アドルノ |
| ② | A | ボーヴォワール | B | デューイ | C | フッサール |
| ③ | A | 平塚らいてう | B | パース | C | フッサール |
| ④ | A | 平塚らいてう | B | デューイ | C | アドルノ |

教科名 (中高 社会) (120点)

マーク 番号	解答	配点	備考	マーク 番号	解答	配点	備考
1	4	1	道徳	31	3	2	
2	2	2		32	2	2	
3	4	2		33	4	2	
4	2	1		34	2	2	
5	3	2		35	1	2	
6	3	2		36	2	2	
7	5	2		37	3	2	
8	2	2		38	4	2	
9	4	3		39	1	2	
10	3	2		40	3	2	
11	2	2		41	4	2	
12	1	3		42	4	2	
13	3	2		43	2	2	
14	5	3		44	4	2	
15	3	2		45	1	2	
16	1	3		46	5	2	
17	3	2		47	3	2	
18	4	3		48	1	2	
19	3	2		49	4	2	
20	5	3		50	6	2	
21	3	3		51	2	2	
22	4	3		52	1	2	
23	4	2		53	6	2	
24	4	2		54	1	2	
25	2	2		55	4	2	
26	1	2		56	1	2	
27	2	2		57	2	2	
28	2	2		58			
29	4	2		59			
30	4	2		60			