

(解答上の注意)

- |  |
|--|
| (1) 解答は、全て解答用紙に記入すること。   |
| (2) 【共通問題】の <input type="text" value="1"/> ～ <input type="text" value="5"/> は、全員が解答すること。 |
| (3) 【選択問題】は、各自が3問選び解答すること。   |

【日本史】

- (1) 近現代の日本の内政について、下記の問いに答えなさい。
- ① 明治期の実業界を指導し、第一国立銀行や大阪紡績会社設立の中心として、日本の近代企業確立に尽力した人物は誰か、答えなさい。
  - ② 1874年、板垣退助らは、政府に国会の開設を要求する文書を提出した。この文書名は何か、答えなさい。
  - ③ 1927年に発生した金融恐慌を收拾するために田中義一内閣がとった政策を2つあげ、説明しなさい。
  - ④ 1940年、新体制運動として結成され、総裁を総理大臣、支部長を道府県知事などとし、部落会・町内会・隣組を下部組織とする機関名を漢字5字で答えなさい。
  - ⑤ 高度経済成長は、環境破壊や公害などの社会問題を生み出した。これに対し政府は、1967年に公害対策基本法を制定し、1971年に環境庁(現 環境省)を設置したが、この時の内閣総理大臣は誰か、答えなさい。
- (2) 19世紀後半の日本の外交について、下記の問いに答えなさい。
- ① 1856年、日米和親条約により下田駐在の初代アメリカ総領事として来日した人物は誰か、答えなさい。
  - ② 1895年に締結された下関条約で、清国は日本に遼東半島等を譲渡した。それに対して、ロシア等が日本に遼東半島の清国への返還を要求したが、この要求を何というか、答えなさい。

【世界史】

- (1) 近代の状況について、下記の問いに答えなさい。
- ① 1789年5月、ヴェルサイユで三部会が開かれたが、議決方法をめぐって特権身分と第三身分が対立した。この時、第三身分の議員は自分たちの議会を何と称したか、答えなさい。

- ② 19世紀後半、イギリスがケープ植民地以北の諸地域に進出をはかったことをきっかけに、イギリスよりも早く入植していたオランダ系植民者と衝突が起きた。この戦いを何というか、答えなさい。
- ③ オランダは、19世紀前半に本国の財政危機をまかなうため、植民地政庁が指定する作物を栽培させて安価に買い上げる制度をジャワ島に導入した。この制度を何というか、答えなさい。
- (2) 20世紀の欧米について、下記の問いに答えなさい。
- ① フランクリン＝ローズヴェルトが行ったニューディール政策に該当しないものを次のア～エから1つ選び、記号で答えなさい。  
ア TVA イ NIRA ウ AAA エ NPT
- ② 1939年に独ソ不可侵条約が結ばれた理由について、宥和政策という語を用いて説明しなさい。
- ③ 1947年、アメリカの国務長官はヨーロッパの経済復興のための援助計画を発表した。この計画を何というか、答えなさい。
- ④ 1968年にチェコスロバキアではドプチェクらの指導のもと、経済の自由化や市民的な自由の拡大を含む改革を実施し、民衆もこれを支持した。この改革運動を何というか、答えなさい。

**3 【地理】**

- (1) 世界のエネルギーについて、下記の問いに答えなさい。
- ① 下記のグラフは中国、アメリカ合衆国、日本、ドイツ、ブラジル他4ヶ国（インド、カナダ、フランス、ロシア）の発電エネルギー源別割合（2017年）を示したものである。C、D国の組合せとして正しいものを次のア～オから1つ選び、記号で答えなさい。  
ア C インド D フランス イ C ロシア D カナダ ウ C インド D ロシア  
エ C カナダ D フランス オ C カナダ D ロシア

- ② ブラジルの水力発電は、国境沿いに作られた世界有数の発電量を誇るイタイプダムが有名であるが、このダムをブラジルと共同管理している国の名称を答えなさい。
- ③ 1995年にラテンアメリカの経済を活性化するために発足した、ブラジル、アルゼンチン、②の国など南米諸国の経済同盟を何というか、答えなさい。
- (2) 世界の都市について、下記の問いに答えなさい。
- ① アメリカのボストンからニューヨーク、ワシントンD.C.などの北東岸地域や日本の東京から大阪などの東海道沿線などのように、連続する複数の都市が交通網や情報通信網などで密接につながった都市群地域の名称を何というか、答えなさい。
- ② ドイツ中西部、ライン川の支流沿岸に位置し、同国の経済・金融の中心地であり、ヨーロッパを代表するハブ空港が所在する都市名を答えなさい。
- ③ 一国の都市人口を比較した場合、人口規模で第1の都市が第2位以下の都市を大きく上まわっている都市を首位都市（プライメートシティ）という。この首位都市が発展途上国の首都に多い理由を政治、経済の側面から説明しなさい。
- (3) サハラ砂漠の南縁に沿って東西にのびる帯状の地域を何というか、答えなさい。

4	【倫理】
---	------

- (1) 民俗学について、下記の問いに答えなさい。
- ① 民俗学の創始者である柳田国男は、日本人固有の生き方を古くからある共同体に生きる無名の民衆に見出そうとした。このような人々を何と呼んだか、漢字2字で答えなさい。
- ② 柳田国男に学んだ折口信夫は、日本の神の原型を、共同体の外部から村落を訪れるものと考えたが、これを何と呼んだか、答えなさい。
- (2) 社会契約説について、下記の問いに答えなさい。
- ① 自然法は、神の意志ではなく、人間が本来もつ理性にもとづくものであると主張したオランダの法学者は誰か、答えなさい。
- ② 国家権力の起源が人民にあると主張したイギリスのロックは、政府が権力を濫用する場合、人民には政府に対する抵抗権に加え、新たに政府を樹立する権利があると主張した。その権利を何というか、答えなさい。
- (3) 現代の諸課題について、下記の問いに答えなさい。
- ① メディアが提供する本当らしいできごとを疑似イベントと表現して、情報社会の問題点を指摘したアメリカの歴史家は誰か、答えなさい。
- ② 社会や文化が人為的に作りあげてきた性差を意味する概念を何というか、答えなさい。

- ③ アメリカの社会学者リースマンは、『孤独な群衆』のなかで、現代社会では「他人指向型」の人間が多いと分析している。彼のいう「他人指向型」について説明しなさい。

5 【政治・経済】

(1) 日本の防衛政策と国際協力について、下記の問いに答えなさい。

- ① 朝鮮戦争の勃発を機に、1950年に国内の治安維持を目的に創設された、自衛隊の前身となる組織を何とよぶか、答えなさい。
- ② 日本の安全保障に関する重要事項を審議するために内閣に置かれている機関を何とよぶか、答えなさい。
- ③ 1992年に成立した、国際秩序の維持・形成に日本も国際貢献するべきとの議論の高まりから、自衛隊を海外に派遣することを認めた法律を何とよぶか、答えなさい。
- ④ 2014年、日本政府は閣議決定により「集団的自衛権」の行使に関する憲法解釈を改めた。「集団的自衛権」について説明しなさい。

(2) 経済について、下記の問いに答えなさい。

- ① 日本政府の令和2年度一般会計の歳入の中で、租税収入に占める割合の高いものを3つあげた場合、所得税の他、2つを答えなさい。
- ② 消費者問題の中には、消費者自身の意識から生じる問題もある。商品に対する正しい知識や情報を持つことなく、周りの人が持っているから、流行しているからという理由だけで購入するなど、周囲の消費水準や消費パターンに影響されることを何とよぶか、答えなさい。
- ③ 水銀を使った製品の製造や輸出入について国際的に原則禁止とする条約が2017年に発効したが、この条約の名称を何とよぶか、答えなさい。

- (解答上の注意) 1 次の□1～□6の中から3問を選択して答えなさい。  
2 解答は、全て解答用紙に記入すること。

## □1 【日本史】

次の文を読んで、下記の問いに答えなさい。なお漢字で解答すべき問題は漢字で答えなさい。

(飯沼賢司ほか『大航海時代の日本と金属交易』 一部改)

- 問1 下線部①に関連して、宋銭は日宋貿易の主要な輸入品であった。貿易を経済的基盤のひとつにしていた平氏において、平清盛が貿易促進のために修築した摂津の港を何というか、答えなさい。

問2 下線部②に関連して、東大寺にある次のア～オの中で、鎌倉文化に該当するものをすべて選び、記号で答えなさい。

- ア 法華堂不空羂索観音像      イ 僧形八幡神像      ウ 南大門金剛力士像  
エ 大仏殿八角灯籠      オ 戒壇院四天王像

問3 空欄③にあてはまる語句を答えなさい。

問4 下線部④に関連して、次の問いに答えなさい。

(1) 1931(昭和6)年に金本位制を離れ、管理通貨制度に移行した際の内閣総理大臣および大蔵大臣の名前を答えなさい。

(2) (1)の内閣が行った金輸出再禁止は日本経済にどのような影響を与えたか、それに対する列強の反応を含めて説明しなさい。

問5 17世紀末から18世紀初頭にかけて江戸幕府の勘定吟味役(勘定奉行)であった荻原重秀が行った経済政策について、「物価が高騰し経済に混乱を招いた」とする一方、近年、この時代にすでに彼が下線部⑤につながる貨幣観を持っていたという評価もある。荻原重秀の貨幣政策について説明しなさい。

問6 下線部⑥は、寺社・仏像などの造立・修復のために寄付を集めることである。源平の争乱によって焼失した東大寺の再建のため大勧進職に就き、宋人の協力を得てこれにあたった人物は誰か、答えなさい。

問7 次の資料を読み、下記の問いに答えなさい。

(村井章介 他編『地球的世界の成立』 一部改)

(1) 下線部aについて、16世紀前半に朝鮮の新しい精錬技術が博多商人により伝えられて発展し、世界有数の銀山として海外にもその名を知られた、島根県大田市にある銀山の名前を答えなさい。

(2) 良銭を選び、悪銭を排除する行為として、空欄bにあてはまる語句を答えなさい。

(3) 下線部cについて、日本への銅銭輸入が途絶し、日本での価値表示は貫高制から石高制へと転換した。貫高と石高の違いについて説明しなさい。

## 2 【日本史】

次の文を読んで、下記の問いに答えなさい。なお漢字で解答すべき問題は漢字で答えなさい。

(季武嘉也『原敬 日本政党政治の原点』 一部改)

問1 下線部①に関連して、次の問いに答えなさい。

- (1) 初めての政党内閣であった第一次大隈重信内閣（隈板内閣）は、4か月という短命で終わったが、その理由を説明しなさい。
- (2) 日露戦争後、選挙によらない藩閥勢力を母体として構成された内閣と、政党を母体に構成された内閣が交互に政権を担った。この時代を何というか、答えなさい。
- (3) 1924（大正13）年には、明治憲法下において初めて選挙結果によって首相が誕生した。衆議院第一党の憲政会総裁であったこの人物は誰か、答えなさい。

問2 空欄②について、原敬が華族でも藩閥でもなく、衆議院に議席をもつ首相であったことからこう呼ばれた。あてはまる語句を答えなさい。

問3 下線部③に関連して、原敬が「保守的・現実的独裁者」と批判された理由のひとつに、普通選挙制の導入について積極的でなかったことが考えられる。【資料】も参考に、原が普通選挙制の導入についてどのように考えていたか、当時の社会情勢を踏まえ、用語を用いて述べなさい。なお、用語には下線を引くこと。

用語 【 ロシア革命 労働争議 山県有朋 】

【資料1】

(『原敬日記』 大正九年二月二十日 一部改)

【資料2】

(井上寿一『政友会と民政党 戦前の二大政党制に何を学ぶか』 一部改)

問4 下線部④に関連して、次の問いに答えなさい。

(1) 日本は何を根拠としてドイツに宣戦布告したのか、答えなさい。

(2) 次のア～エの記述のうち、適切なものをすべて選び、記号で答えなさい。

ア 1918年休戦が成立し、翌年ポーツマスで講和会議が開かれた。

イ 国際紛争の平和的解決と国際協力のための機関として国際連合の設立が決まった。

ウ 日本は山東省の旧ドイツ権益の継承を認められたが、これに反対する三・一独立運動がおきた。

エ アジア・太平洋地域の新しい国際秩序はワシントン体制と呼ばれ、協調外交に転じた日本では海軍軍縮が行われた。

(3) 国境を越えた人の移動、軍隊における集団感染等があいまって、1918年頃から20年頃にインフルエンザ(スペイン風邪)が世界的に流行することとなった。原敬首相本人も罹患したほか、文豪らも例外でなくこの感冒の脅威にさらされた。次のア～エのうち、時期的にインフルエンザの脅威にさらされたと想定される人物に該当するものをすべて選び、記号で答えなさい。

ア 夏目漱石    イ 宮沢賢治    ウ 永井荷風    エ 志賀直哉



問5 下線部⑤に関連して、大正時代に起こった出来事に関する記述として適切でないものを次のア～オからすべて選び、記号で答えなさい。

- ア 労働組合法が制定され、労働者の団結権・団体交渉権・争議権が保障された。
- イ 大日本労働総同盟友愛会が第1回メーデーを主催した。
- ウ 市川房枝らが設立した新婦人協会が参政権の要求など女性の地位を高める運動を進めた。
- エ 全国水平社が結成され、被差別部落の住民に対する差別を撤廃しようとする動きが本格化した。
- オ 暴力主義的破壊活動の規制をめざす破壊活動防止法が成立した。

問6 次の生徒と教師との会話文を読み、下記の問いに答えなさい。

kyosai-guide

(筒井清忠『昭和戦前期の政党政治』/御厨貴『さかのぼり日本史・挫折した政党政治』を参考に作成)

- (1) 下線部 a の「積極政策」について、具体的に2つ答えなさい。
- (2) 下線部 b に関わって、日本の政党政治の歴史について学ぶ際、あなたなら生徒にどのような態度を身につけさせたいと考えるか、簡潔に述べなさい。

3 【世界史】

次の文を読んで、下記の問いに答えなさい。

kyosai-guild

- 問1 下線部①に関連して、イタリアの海港都市は11世紀頃から地中海交易圏の中心として繁栄した。この海港都市のうち1例挙げ、どのような貿易を行って繁栄したか説明しなさい。
- 問2 下線部②に関連して、ヘレニズム時代、地中海世界から中央アジアまでギリシア風の都市が各地に建設され、ギリシア人が移住した。これらの都市を中心に共通語として普及したギリシア語は何と呼ばれたか、答えなさい。
- 問3 下線部③に関連して、この宗派は、人たるイエスと神たるイエスを分離する説をとったため異端とされ、サーサン朝ペルシアを経て唐まで伝播し、景教と呼ばれた。この宗派が異端とされた431年の公会議を何というか、答えなさい。
- 問4 下線部④に関連して、この国の王で、6世紀に突厥と組んで中央アジアの遊牧民エフタルを滅ぼした王は誰か、答えなさい。
- 問5 下線部⑤に関連して、サーサン朝ペルシアではゾロアスター教が国教とされ、教義を整備するために経典が編纂された。その経典を何というか、答えなさい。
- 問6 下線部⑥の期間中の出来事として正しいものを次のア～エから1つ選び、記号で答えなさい。
- ア トゥール=ボワティエ間の戦い      イ ムハンマド、神の啓示を受ける  
 ウ 黄巢の乱                                      エ 遣唐使の停止
- 問7 下線部⑦に関連して、次の文を読み、下記の問いに答えなさい。

(南川高志編『378年失われた古代帝国の秩序』)

- (1) 下線部について、上記の文中の語句を1つ以上使用して説明しなさい。(使用した語句には全て下線を付すこと)
- (2) 上記の文によると、唐朝において江南地方からの収入が財政的に大きなウェイトを占めていったことがうかがえる。大運河が江南の物資を華北へと運ぶ大動脈として機能するようになると、宋代には江南が中国の穀倉地帯として大きな役割を持つことになった。このことを端的に示す言葉を答え、この地方で米の生産量が増加していった理由について説明しなさい。
- 問8 下線部⑧に関連して、この戦いで唐の軍隊を破ったイスラーム王朝の、第2代カリフによって造営された首都を何というか、答えなさい。
- 問9 空欄⑨にあてはまる人物の名前を漢字で答えなさい。また、空欄⑩には空欄⑨の人物が大乗仏教を学んだとされる東南アジアの国名が入る。その国名を答えなさい。

4 【世界史】

次の文を読んで、下記の問いに答えなさい。

kyosai-guild

問1 下線部①に関連して、1804年に制定されたナポレオン法典の代表的な内容として誤っているものを次のア～エから1つ選び、記号で答えなさい。

ア 私有財産の不可侵    イ 法の下での平等    ウ 契約の自由    エ 夫婦間の平等

問2 下線部②に関連して、ナポレオン軍に抵抗してスペイン市民が殺されている場面を描いた『1808年5月3日』というタイトルの絵画を描いた人物は誰か、答えなさい。

問3 下線部③に関連して、1804年にラテンアメリカで初めて黒人共和国が誕生したが、その独立運動を指導した人物は誰か、答えなさい。

問4 下線部④に関連して、16世紀以降、ラテンアメリカの銀がヨーロッパに大量に流入したことによりヨーロッパではどのような影響があったか。領主の生活に関連付けて説明しなさい。

問5 下線部⑤に関連して、1773年にイギリスが茶法を制定して東インド会社に茶の独占販売権を与えたことにより、イギリスの植民地で起こった騒動を何とというか、答えなさい。

問6 下線部⑥に関連して、マカートニーが謁見した乾隆帝が行った出来事について、文化面と外征面についてそれぞれ説明しなさい。

問7 下線部⑦に関連して、18世紀の清で人口が急激に増大した原因の1つとして考えられることに、新たな税制の導入によりこれまで税を逃れるために隠れていた人々が表に出てきたということがある。地税に人頭税が組み込まれた、この新たな税制を何とというか、漢字4字で答えなさい。

問8 下線部⑧に関連して、空欄 A には次の文が入る。文中の空欄(Ⅰ)～(Ⅲ)に当てはまる国名・王朝名の組み合わせとして正しいものを次のア～カから1つ選び、記号で答えなさい。

「アヘンは銀不足のおり、(Ⅰ)が(Ⅱ)でそれを栽培し、対中貿易に利用したもので、各地の中国商人も交易に応じることで大量のアヘンが(Ⅲ)にはいり、そして(Ⅲ)からは大量の銀が外に流れ出すことになった。そしてその銀は(Ⅱ)から(Ⅰ)へと流れ、(Ⅰ)からは綿織物が(Ⅱ)に輸出された。」

ア Ⅰ－イギリス    Ⅱ－清    Ⅲ－インド

イ Ⅰ－イギリス    Ⅱ－インド    Ⅲ－清

ウ Ⅰ－インド    Ⅱ－イギリス    Ⅲ－清

エ Ⅰ－インド    Ⅱ－清    Ⅲ－イギリス

オ Ⅰ－清    Ⅱ－イギリス    Ⅲ－インド

カ Ⅰ－清    Ⅱ－インド    Ⅲ－イギリス

問9 下線部⑨に関連して、アヘン戦争が起こった1840年代のヨーロッパの状況について述べた文として誤っているものを次のア～エから1つ選び、記号で答えなさい。


ア イギリスではピューリタン革命が起こり、チャールズ1世が処刑され共和政が樹立された。

イ フランスではパリで二月革命が起こり、共和政の臨時政府が樹立された。

ウ プロイセンではベルリンで三月革命が起こり、自由主義内閣が誕生した。

エ オーストリアではウィーンで三月革命が起こり、メッテルニヒが追放された。

問 10 下線部㉑に関連して、次の文はアヘン戦争敗戦の責任を問われ職を免ぜられた林則徐からの原稿をもとに、魏源が1842年に編纂した『海国図志』の序文である。次の文を読み、下記の問いに答えなさい。



(歴史学研究会編『世界史史料9 帝国主義と各地の抵抗Ⅱ』)

問 魏源はアヘン戦争に敗れた清が今後どのようにして欧米諸国に対抗していくべきだと主張しているか。中国人が古くから抱き続けてきた周辺に対する文化的優越意識の名称を明らかにし、それと比較して説明しなさい。

問 11 下線部㉒に関連して、朝鮮と清朝の朝貢・冊封にもとづく国際関係はある戦争により消滅した。その戦争の名称を答えなさい。

5 【地理】

次の文Ⅰ・Ⅱを読んで、下記の問いに答えなさい。

Ⅰ

(竹中克行編著『人文地理学への招待』 一部改)

問1 下線部①に関連して、資料1は自動車の生産上位国を示している。表中のA・Bに当てはまる国名を答えなさい。

【資料1】

(『世界国勢図会 2020/21』、『2020 データブック オブ・ザ・ワールド』より作成)

問2 下線部②に関連して、1980年代後半から、日本の自動車企業をはじめ多くの製造業はアジア諸国へ進出したが、そのおもな理由を説明しなさい。

問3 空欄③・④にあてはまる語句を答えなさい。

問4 下線部⑤に関連して、資料2のa～fの表は、東南アジア諸国の上位輸出品目および輸出額に占める割合を示している。aとcの表に該当する国名を、下の語群からそれぞれ選び、答えなさい。

シンガポール	フィリピン	インドネシア	タイ	ベトナム	マレーシア
--------	-------	--------	----	------	-------

【資料2】

(『2020 データブック オブ・ザ・ワールド』より作成)

問5 下線部⑥に関連して、企業が海外に進出することに伴い、製造業を中心にした国内の産業が衰退していく現象を何というか、答えなさい。

Ⅱ

kyosai-guild

(加賀美雅弘編『世界地誌シリーズ③EU』 一部改)

問6 下線部⑦に関連して、カトリックが多数を占める国を、下の語群から1つ選び、答えなさい。

アイルランド    フィンランド    イギリス    アイスランド    ルーマニア

問7 下線部⑧に関連して、資料3のa～cは日本、韓国、ベルギーいずれかの1人あたり貿易額と貿易依存度を示している。a～cの国名の組み合わせとして正しいものを次のア～カから1つ選び、記号で答えなさい。

【資料3】

	日本	韓国	ベルギー
ア	a	b	c
イ	a	c	b
ウ	b	a	c
エ	b	c	a
オ	c	a	b
カ	c	b	a

(『世界国勢図会 2020/21』より作成)

問8 空欄⑨にあてはまる語句を答えなさい。



- 問9 下線部⑩に関連して、2004年以降、東ヨーロッパの旧社会主義国に、EU域内・域外の企業が多く進出するようになった契機と理由について説明しなさい。
- 問10 下線部⑪に関連して、イギリス南部から、ライン川流域を経てイタリア北部にいたる工業が発達し、ヨーロッパ経済の中核となっている地域を何というか、答えなさい。

6 【地理】

次の文Ⅰ～Ⅲを読んで、下記の問いに答えなさい。

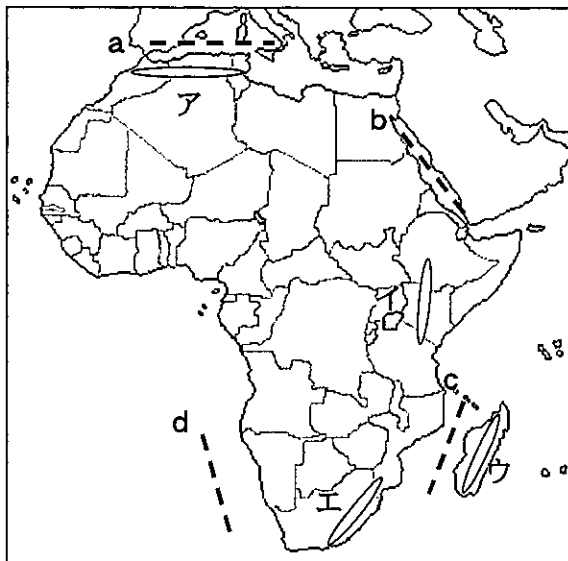
Ⅰ

Kyosai-guild

(佐藤久、町田洋編『総観地理学講座6 地形学』 一部改)

- 問1 下線部①に関連して、資料1のなかで、地震や火山が特に多い地域をア～エから2つ選び、記号で答えなさい。
- 問2 下線部②に関連して、資料1のなかで、生産境界（開く境界）を示しているものをa～dから1つ選び、記号で答えなさい。

【資料1】



問3 資料2は大陸別(注1)の海岸線の発達を示している。アフリカ大陸に該当するものをア～カから1つ選び、記号で答えなさい。

(注1) ユーラシア大陸は、アジア大陸とヨーロッパ大陸に区分している

【資料2】

(『2020 データブック オブ・ザ・ワールド』より作成)

Ⅱ

(小林望、徳久球雄、小林徹『現代地理学への招待』 一部改)

問4 下線部③に関連して、資料3のア～エはブエノスアイレス、オークランド、ケープタウン、ラパスのいずれかの都市の月平均気温と月降水量を示している。オークランドに該当するものをア～エから1つ選び、記号で答えるとともに、その気候名を漢字で答えなさい。

【資料3】

(『2020 データブック オブ・ザ・ワールド』より作成)

問5 下線部④に関連して、都心部で郊外よりも気温が高くなる現象の名称を何というか、答えなさい。

Ⅲ

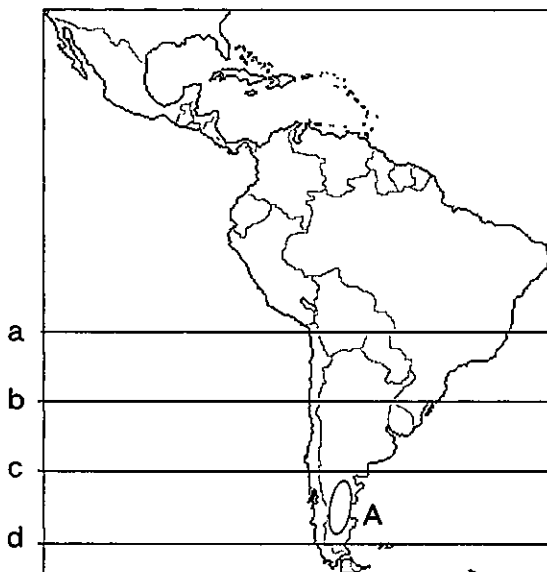
kyosai-guild

(矢ヶ崎典隆、加賀美雅弘、牛垣雄矢編著『地理学基礎シリーズ3 地誌学概論第2版』 一部改)

問6 下線部⑤に関連して、資料4のなかで、南緯40度の緯線をa～dから1つ選び、記号で答えなさい。

問7 下線部⑥に関連して、資料4のなかで、Aの地域には乾燥気候が分布しているが、その要因を風と地形との関係から説明しなさい。

【資料4】



問 8 下線部⑦に関連して、資料 5 のア～エは、ブラジル、アルゼンチン、チリ、ペルーのいずれかの国の民族構成を示している。ブラジルに該当するものをア～エから 1 つ選び、記号で答えなさい。

【資料 5】

(『2020 データブック オブ・ザ・ワールド』より作成)

問 9 下線部⑧に関連して、資料 6 はブラジルの主要輸出品と輸出相手国を示している。表中の A に当てはまる輸出品名を答えなさい。

【資料 6】

(『2020 データブック オブ・ザ・ワールド』より作成)

問 10 下線部⑨に関連して、ブラジル高原南部に分布するコーヒー栽培に適した肥沃な土壌で、玄武岩が風化した間帯土壌の名称を何とよいか、答えなさい。

問 11 下線部⑨に関連して、ブラジルの大土地所有制に基づく大牧場または大農園の名称を何とよいか、答えなさい。

問 12 下線部⑩に関連して、ラテンアメリカ諸国では、外国資本や借金に依存して急速な工業化がすすめられた。その結果、無理な経済政策が行われ、どのような課題が生じたのかを説明しなさい。

問 13 下線部⑪に関連して、ブラジルのリオデジャネイロなどの大都市にみられるスラムを何とよいか、答えなさい。

記号		番号	
----	--	----	--

検査IV 地理歴史・公民 [共通問題] 解答例

(解答上の注意)

- (1) 解答は、全て解答用紙に記入すること。  
 (2) 【共通問題】の 1 ～ 5 は全員が解答すること。

1 (配点 15 点 (1)③は 3 点、その他は 2 点)

(1)	①	渋沢栄一	②	民撰議院設立建白書
	③	3 週間のモラトリアム（支払猶予令）を発して銀行が預金者へ預金を払い戻すことを一時停止し、日本銀行から巨額の救済融資を行った。		
	④	大政翼賛会	⑤	佐藤栄作
(2)	①	ハリス	②	三国干渉

2 (配点 15 点 (2)②は 3 点、その他は 2 点)

(1)	①	国民議会	②	南アフリカ戦争（ボーア戦争・ブール戦争）
	③	強制裁培制度		
(2)	①	エ		
	②	西と東からの挟撃を避けたいドイツの思惑と、ドイツに譲歩するイギリス・フランスの宥和政策が反ソ陣営の形成につながるのではないかとソ連の不安感により条約が締結された。		
	③	マーシャル=プラン（ヨーロッパ経済復興援助計画）	④	プラハの春

記号		番号	
----	--	----	--

検査IV 地理歴史・公民 [共通問題] 解答例

3 (配点 15 点 (2)③は 3 点、その他は 2 点)

(1)	①	エ	②	パラグアイ
	③	メルコスール (MERCOSUR) (南米南部共同市場)		
(2)	①	メガロポリス (巨帯都市)	②	フランクフルト
	③	首都に優先的に国内外からの資本が投下された結果、政治・経済の中核機能が集中し、農村から職を求めて人口が流入したため。		
(3)	サヘル			

記号		番号	
----	--	----	--

検査IV 地理歴史・公民 [共通問題] 解答例

4 (配点 15 点 (3)③は 3 点、その他は 2 点)

(1)	①	常民	②	まれびと (客人・来訪神)
(2)	①	グロティウス	②	革命権
(3)	①	ブーアスティン	②	ジェンダー
	③	孤立することを恐れて、マス＝メディアの報道や他人の価値観に同調し、他人の承認を強く求めたがる社会的性格のこと。		

5 (配点 15 点 (1)④は 3 点、その他は 2 点、ただし(2)①は完答のみ 2 点)

(1)	①	警察予備隊	②	国家安全保障会議
	③	国連平和維持活動 (PKO) 協力法		
	④	自国と密接な関係にある他国が武力攻撃を受けたときに、その武力攻撃を自国の安全に対する脅威とみなして、武力をもって対抗する権利。		
(2)	①	消費税、法人税	②	デモンストレーション効果
	③	水俣条約 (水銀に関する水俣条約)		

記号	地	番号	
----	---	----	--

検査IV 地理歴史 [選択問題] 日本史 解答例

(解答上の注意)

- (1) 解答は、全て解答用紙に記入すること。  
 (2) 【選択問題】は6問中、各自が3問を選び解答すること。その際、選んだ問題番号を必ず下の□に記入すること。

選んだ問題番号を  
記入する

--	--	--

- 1 (配点15点 問4 (2) は3点、問5、問7 (3) は2点、他は各1点 ただし問2は完  
答のみ1点)

問1	大輪田泊	問2	イ、ウ
問3	兌換		
問4	(1)	内閣総理大臣 犬養 毅	大蔵大臣 高橋是清
	(2)	恐慌下で産業合理化を進めていた諸産業は、円相場の大幅な下落(円安)を利用して積極的に輸出を伸ばした。列強はこれをソーシャル=ダンピングと非難した。	
問5	貨幣の改鋳を行い、金銀含有量を下げた元禄金銀を鋳造して、その差額(出目)を幕府の収益とした。		
問6	重源		
問7	(1)	石見銀山(大森銀山)	(2) 撰銭
	(3)	貫高は、戦国大名が国人や地侍の収入額を銭に換算したもの。石高は太閤検地の際に定められたもので、田畑に等級をつけ、全国の土地の生産力を米の量で換算したもの。	



記号	地	番号	
----	---	----	--

検査IV 地理歴史 [選択問題] 日本史 解答例

2 (配点 15 点 問3は3点、問1 (1)、問6 (2) は2点、他は各1点 ただし問4(3)、問5は完答のみ1点)

問1	(1)	旧自由党と旧進歩党間の対立が激しく、憲政党が分裂したため。	
	(2)	桂園時代	(3) 加藤高明
問2	平民宰相		
問3	<p>ロシア革命をきっかけに日本でも社会運動が勃興し、労働争議の件数も急激に増加している中、原は、納税資格を撤廃すると有権者の多数を占める労働者や小作人が支持する議員・政党が議会で多数を占め、社会主義が台頭する可能性が高まり、危険であるということ。また元老として大きな影響力をもっていた山県有朋の支持を得ながら政権を運営する必要があったことから普選導入には慎重であった。</p>		
問4	(1)	日英同盟	(2) エ
	(3)	イ、ウ、エ	
問5	ア、オ		
問6	(1)	鉄道の拡充・高等学校の増設	
	(2)	(例) 健全な批判的精神を持った市民として、現代の政治に関心を持ち、政党や政党政治の望ましいあり方を主体的に考えていくことのできる態度。	

記号	地	番号	
----	---	----	--

検査IV 地理歴史 [選択問題] 世界史 解答例

3

(配点 15点 問7(2)は3点、問1、問7(1)は2点、その他は各1点)

問1	ヴェネツィア（ピサ・ジェノヴァ）。東方貿易に独占的に従事し、香辛料や絹織物を交易して大きな利益をあげた。		
問2	コインー	問3	エフェソス公会議
問4	ホスロー1世	問5	アヴェスター
問6	ア		
問7	(1)	安史の乱後、内地におかれた節度使が財政・行政権も握って勢力を持った軍閥。	
	(2)	「蘇湖（江浙・蘇常・常州）熟すれば天下足る」と称され、長江下流域の低地や湿地の干拓、日照りに強い占城稻などの導入や農業技術の改良により中国の穀倉地帯として生産量を増やした。	
問8	バグダード		
問9	人物	義浄	国 シュリーヴィジャヤ王国

記号	地	番号	
----	---	----	--

検査IV 地理歴史 [選択問題] 世界史 解答例

4

(配点15点 問10は3点、問4、問6は2点、その他は各1点)

問1	エ	問2	ゴヤ
問3	トゥサン=ルヴェルチュール		
問4	物価が急騰し、固定地代の収入で生活する領主は打撃をうけた。		
問5	ボストン茶会事件		
問6	文化面では、『四庫全書』などを編纂し学者を優遇する一方、禁書を行って思想弾圧を行った。外征面では、ジュンガルを滅ぼし新疆とし、現在の中国にほぼ重なる領土を完成した。		
問7	地丁銀制	問8	イ
問9	ア		
問10	これまでの中国は中華思想により他国に対して保守・排外主義的傾向であったが、ヨーロッパ諸国に対抗するためには、それらの国の軍事技術を学ぶことが必要であると説いている。		
問11	日清戦争		

記号	地	番号	
----	---	----	--

検査IV 地理歴史 [選択問題] 地理 解答例

5

(配点 15 点 問 2・問 9 は 2 点、その他は各 1 点)

問 1	A	中国	B	インド
問 2	円高で、生産コストを下げるために安価な人件費や安い用地などを求めて進出した。			
問 3	③	貿易摩擦	④	労働力
問 4	a	タイ	c	ベトナム
問 5	産業の空洞化		問 6	アイルランド
問 7	カ		問 8	リスボン
問 9	2004 年以降東ヨーロッパ諸国が EU に加盟したことにより、安価で豊富な労働力や EU 域内の巨大市場を求めて進出した。			
問 10	青いバナナ (ブルーバナナ)			

記号	地	番号	
----	---	----	--

検査IV 地理歴史 [選択問題] 地理 解答例

6

(配点 15 点 問 7・問 12 は 2 点、その他は各 1 点 ただし問 1・問 4 は完答のみ 1 点)

問 1	ア ・ イ	問 2	b
問 3	エ	問 4	記号 ( ウ ) 気候名 ( 西岸海洋性気候 )
問 5	ヒートアイランド現象	問 6	C
問 7	偏西風帯にあって、アンデス山脈の風下に位置することから、年間を通じて降水量が少なく乾燥気候となっている。		
問 8	イ	問 9	大豆
問 10	テラローシャ	問 11	ファゼンダ
問 12	外国からの融資を受けて工業化を進めたが、1980 年代の一次産品の価格下落、金利上昇のため財政赤字が拡大し、1980 年代以降、深刻な累積債務に悩まされることになった。		
問 13	ファベータ		