

専 門 教 養
令和 2 年 7 月
60 分

受 験 教 科 等
中・高等学校共通 地理歴史

注 意

- 指示があるまで、問題冊子を開いてはいけません。
- 全て係員の指示に従って、静粛に受験してください。
- 机上には、受験票、筆記用具、時計以外のものを出してはいけません。
- 他の受験者の迷惑になるような行為、スマートフォン等の使用及び不正行為をしてはいけません。
- 解答時間は60分です。途中退出はできません。
- 問題冊子のページ数は、52ページです。はじめにページ数を確かめてください。
- 解答用紙に、**必要事項の記入やマークがない場合や誤っている場合には、解答は全て無効**となります。解答用紙の【1】の欄には、**受験番号を記入し、受験番号に対応する数字をマーク**してください。【2】の欄には、**氏名を記入**してください。また、【3】の欄には、**選択した問題を表す記号（A、B又はC）を必ずマーク**してください。
- この問題は、**共通問題 1 ~ 4**、科目別の**選択問題 A 世界史、B 日本史、C 地理**の各問題から構成されています。次の表に従って、解答してください。

共通問題（全員が解答する）		
共通問題 1 ~ 4（1ページ~14ページ）		
選択問題（いずれか一つを選択して解答する）		
A 世界史 (15ページ~26ページ)	B 日本史 (27ページ~38ページ)	C 地 理 (39ページ~52ページ)

- 問題冊子の余白等は、適宜使用しても構いませんが、どのページも切り離してはいけません。
- 問題文中の「学習指導要領」は、特に指示がある場合を除いて、平成29年、平成30年又は平成31年告示の「学習指導要領」を表しています。
- 問題の内容についての質問には一切応じません。


解答上の注意

- 解答は、問題文や解答用紙の注意事項に従って、解答欄にマークしてください。問題には、選択肢から選び解答する場合や、数字又は符号（-）を入れて問題文を完成させて解答する場合などがあり、解答方法が複数ある場合とどれか一つのみの場合とがあります。
- 「解答番号は **1**。」と表示のある問に対して、**3**と解答する場合には、次の（例1）のように解答番号 **1** の解答欄の③にマークしてください。

(例1)

解答番号	解答欄
1	① ② ● ④ ⑤ ⑥ ⑦ ⑧ ⑨ ⑩ ⊖

解答上の注意の続きを、問題冊子の裏表紙に記載してあります。問題冊子を裏返して必ず読んでください。

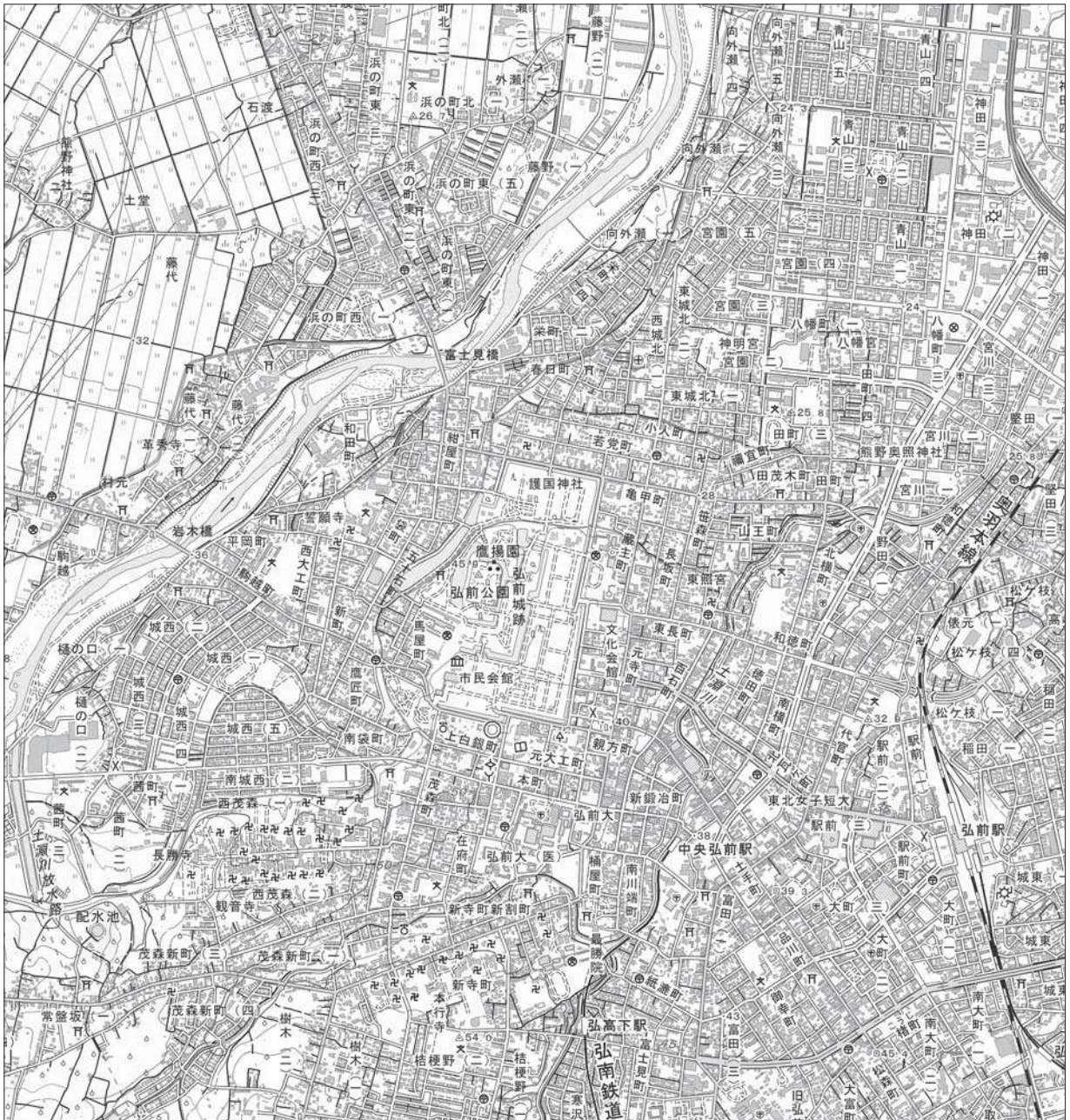


問題は、次のページから始まります。

共通問題

1 地理的分野に関する次の各問に答えよ。

[問 1] 次の国土地理院発行の地形図の一部から読み取れるものに関する次のページの記述ア～オのうち、正しいものを選んだ組合せとして適切なものは、次のページの1～0のうち
のどれか。解答番号は 。



(1 : 25,000 「弘前」平成28年発行から作成)

- ア** 岩木橋のかかる河川の右岸に位置する城西地区は、計画的に造成された住宅地区で、規則的に建物が並んでおり、かつて河川の流路であった痕跡は見られない。
- イ** 弘前公園の北東方向にある若党町の郵便局から八幡町（三）の警察署までの直線距離は、約4 kmである。また、標高差は約4 mである。
- ウ** 奥羽本線の弘前駅の東側には、私鉄の駅が隣接しており、ここを出発する列車の進行方向に向かって右側には、発電所に続いて神社がある。
- エ** 弘前城周辺は、町人町や職人町の地名や、寺町や丁字交差が見られることから、かつては、商工業的、軍事的機能を備えていたことがうかがえる。
- オ** 弘前城跡の南側は、官公庁の集中する行政の中心地区であるとともに、博物館や図書館、市民会館も見られる地区である。

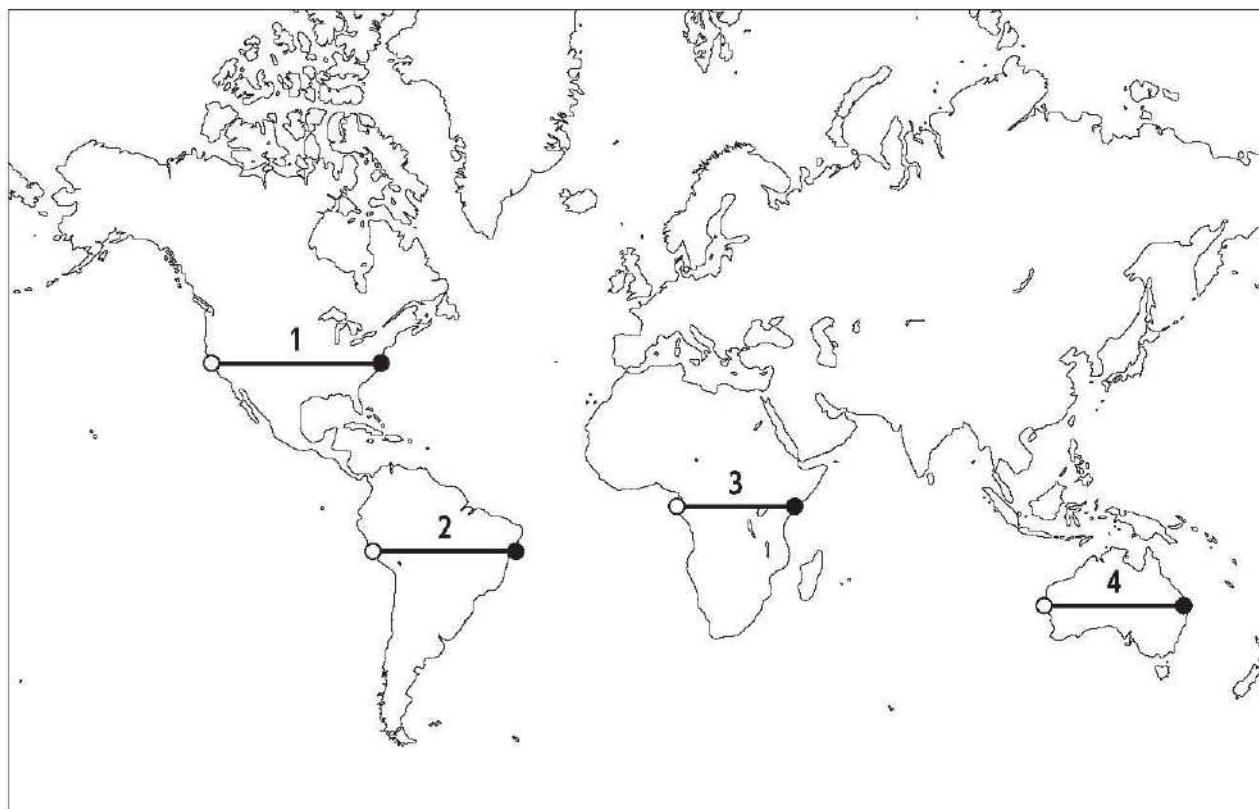
- 1 ア・イ
- 2 ア・ウ
- 3 ア・エ
- 4 ア・オ
- 5 イ・ウ
- 6 イ・エ
- 7 イ・オ
- 8 ウ・エ
- 9 ウ・オ
- 0 エ・オ

[問 2] 次の図は、下の地図中 1～4 のいずれかの断面を模式的に示したものである。この図が表しているものとして最も適切なものは、下の 1～4 のうちではどれか。ただし、図は高さを強調して表現しており、図と地図中の線の○印と●印の位置は対応しているものとする。解答番号は 。

図

掲載許可が得られていませんので、掲載いたしません。

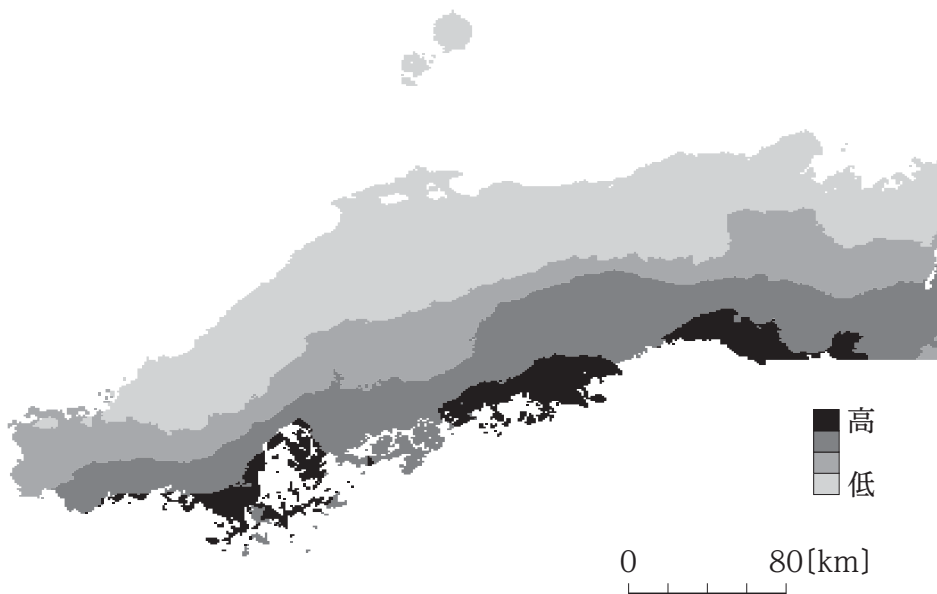
(東京法令出版「新編地理資料2018」から作成)



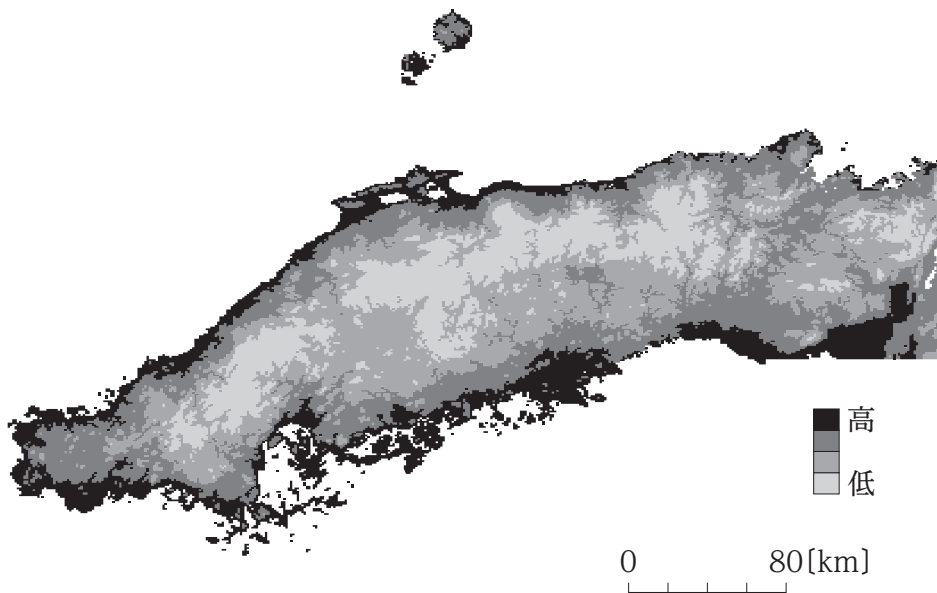
余 白

[問 3] 次の図ア～ウは、それぞれ1月の中国地方における月降水量、月日照時間及び月平均気温の平年値の高位から低位を相対的に表現したものである。ア～ウが示しているものの組合せとして適切なものは、次のページの1～6のうちのどれか。解答番号は 3。

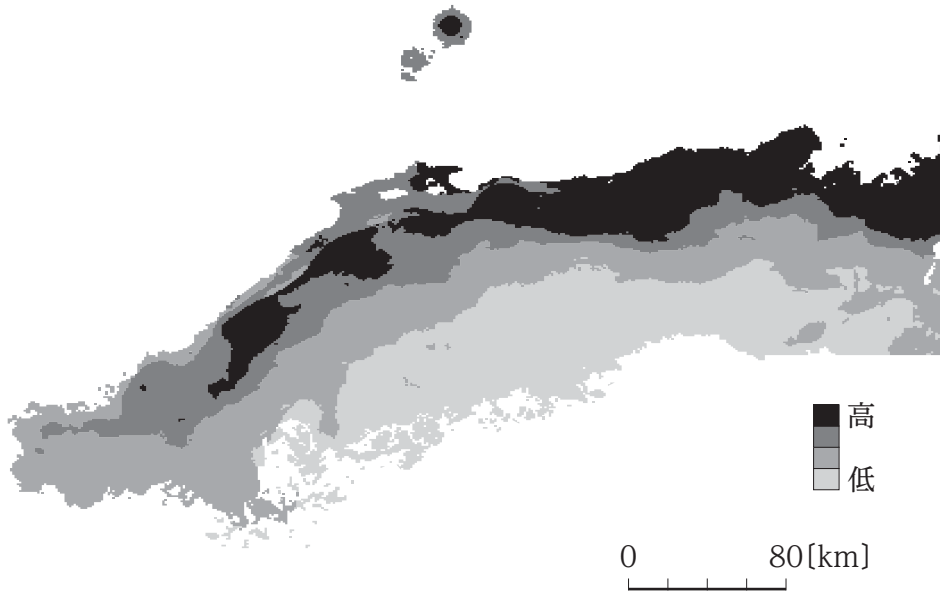
ア



イ



ウ



	ア	イ	ウ
1	月降水量	月日照時間	月平均気温
2	月降水量	月平均気温	月日照時間
3	月日照時間	月降水量	月平均気温
4	月日照時間	月平均気温	月降水量
5	月平均気温	月降水量	月日照時間
6	月平均気温	月日照時間	月降水量

[問 4] 次の表は、米の生産量及び輸出量の上位12か国を、下の図は、2016年における収穫面積1ha当たり穀物収量と耕地1ha当たり肥料消費量を示しており、それぞれア～オには、インド、タイ、中国、アメリカ、ブラジルのいずれかが当てはまる。タイと、中国との組合せとして適切なものは、次のページの1～0のうちのどれか。解答番号は 4。

表

米の生産 (2016年)		米の輸出 (2016年)	
国	米の生産量 [千t]	国	米の輸出量 [千t]
ア	211,094	ウ	9,870
イ	163,700	イ	9,869
インドネシア	79,355	ベトナム	5,211
バングラデシュ	50,453	パキスタン	3,947
ベトナム	43,112	オ	3,316
ウ	26,653	ウルグアイ	900
ミャンマー	25,673	イタリア	651
フィリピン	17,627	エ	630
ナイジェリア	11,346	パラグアイ	554
エ	10,622	カンボジア	530
パキスタン	10,274	アルゼンチン	527
オ	10,167	ア	460

(矢野恒太記念会「世界国勢図会 2019/20年版」から作成)

図

掲載許可が得られていませんので、掲載いたしません。

(矢野恒太記念会「世界国勢図会 2019/20年版」から作成)

	タイ	中国
1	ア	イ
2	ア	オ
3	イ	ア
4	イ	ウ
5	ウ	ア
6	ウ	エ
7	エ	イ
8	エ	オ
9	オ	ウ
0	オ	エ

2 歴史的分野に関する次の各問に答えよ。

[問 1] 次の文章の下線部①～④に関する記述として適切なものは、下の 1～4 のうちのどれか。解答番号は 。

パクスとは平和を意味するラテン語であり、「パクス・ローマナ」は、2世紀にローマ帝国の支配によってもたらされた、全般的に比較的平和な状態を指す語として用いられる。歴史上、この「パクス・ローマナ」になぞらえた言葉としては、「パクス・モンゴリカ」^②、「パクス・ブリタニカ」^③、「パクス・アメリカナ」^④などがある。

- 1 下線部①の下で、五賢帝の2人目のアントニヌス・ピウス帝は、ダキアやメソポタミアを征服し、この国の領土は最大になった。
- 2 下線部②の下で、5代目の大ハンのフビライは、冬の都として現在の南京の地に大都を建設し、中国王朝の伝統的な官制を受け継いで行政のために中書省を置いた。
- 3 下線部③の下で、ディズレーリ首相は、スエズ運河会社株の買収、インド帝国の樹立、キプロスの獲得など、帝国主義外交を行った。
- 4 下線部④の下で、ニューフロンティアをスローガンに掲げて大統領に就任したトルーマンは、キューバ危機でソ連との武力衝突を回避した。

[問 2] 13世紀から15世紀の著作物に関する次の記述ア～エを、著作物の成立年代の古いものから順に並べたものとして適切なものは、下の 1～4 のうちのどれか。解答番号は 。

- ア 北畠親房は『神皇正統記』を著し、神代から後村上天皇までの皇位継承の経緯を叙述し、南朝の正統性を主張した。
- イ 二条良基は『百寮訓要抄』を著し、官職を仮名文で略説する一方、当時の朝官の零落ぶりを慨嘆した。
- ウ 慈円は『愚管抄』を著し、保元の乱後、武者の世が出現したと指摘し、道理の理念によって歴史の展開を叙述した。
- エ 一条兼良は『樵談治要』を著し、放火や略奪を行う足輕を停止すべきであると言及するなど、将軍の諮問に答え、政治の要諦を説いた。

- 1 ア → ウ → エ → イ
- 2 ア → エ → ウ → イ
- 3 ウ → ア → イ → エ
- 4 ウ → エ → ア → イ

[問 3] 次の文章は、宋の時代に関するものである。文章中の空欄 **ア** と **イ** に当てはまるものの組合せとして適切なものは、下の 1～4 のうちのどれか。解答番号は **7**。

中国の江西省北東部に位置する **ア** は、宋代になると製陶の技術が急速に向上し、中国第一の窯業都市として発展した。その後、朝鮮半島では北宋の青磁や白磁の影響を受け **イ** 青磁が発展し、独特の色調と独自の技法の青磁が完成した。

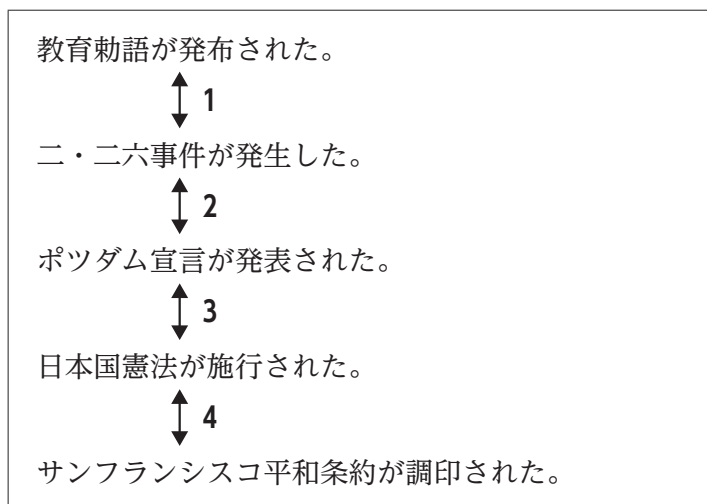
- | | | | | |
|---|----------|-----|----------|----|
| 1 | ア | 開封 | イ | 新羅 |
| 2 | ア | 開封 | イ | 高麗 |
| 3 | ア | 景德鎮 | イ | 新羅 |
| 4 | ア | 景德鎮 | イ | 高麗 |

[問 4] 次の史料は、ある公的文書の一部である。この文書が出された時期として適切なものは、下の図中 1～4 のうちのどれか。解答番号は **8**。

史料

朕ト爾等国民トノ間ノ紐帯ハ、終始相互ノ信賴ト敬愛トニ依リテ結バレ、単ナル神話ト伝説トニ依リテ生ゼルモノニ非ズ。天皇ヲ以テ現御神トシ、且日本国民ヲ以テ他ノ民族ニ優越セル民族ニシテ、延テ世界ヲ支配スベキ運命ヲ有ストノ架空ナル觀念ニ基クモノニモ非ズ。朕ノ政府ハ国民ノ試煉ト苦難トヲ緩和センガ為、アラユル施策ト経営トニ万全ノ方途ヲ講ズベシ。

図



3 公民的分野に関する次の各問に答えよ。

[問 1] 宗教に関する記述として適切なものは、次の**1**～**4**のうちのどれか。解答番号は **9**。

- 1 ユダヤ教は、ヤハウェを天地の創造主、支配者、唯一絶対の神として崇める一神教を特徴としている。
- 2 キリスト教のうちローマ・カトリック教会は、パウロの後継者であるローマ教皇を最高指導者とし、各地の司教や司祭からなるヒエラルヒーをもつ。
- 3 バラモン教は、生き物を傷付けたり殺したりしてはならないとする不殺生を倫理の中心にすえ、厳しい苦行と禁欲の実践を説いている。
- 4 上座部仏教は、修行の結果、人々の尊敬に値する境地に達した人物である菩薩になることを最大の目標としている。

[問 2] 我が国の選挙制度に関する記述として適切なものは、次の**1**～**4**のうちのどれか。解答番号は **10**。

- 1 小選挙区制は、死票が少なく、有権者の民意を比較的正確に反映することができるが、小党分立を招き、安定した政権を生み出しにくい傾向がある。
- 2 被選挙権は、衆議院議員や市町村長については満25歳以上、参議院議員や都道府県知事については満30歳以上の国民に認められている。
- 3 政党が候補者の名簿順位を決めない非拘束名簿式比例代表制は、衆議院議員選挙で採用されており、参議院議員選挙では採用されていない。
- 4 1990年代以降では、衆議院議員選挙における一票の最大の格差は、参議院議員選挙における一票の最大の格差と比べると大きくなっている。

[問 3] 我が国の消費者保護に関する記述として適切なものは、次の1～4のうちのどれか。解答番号は 。

- 1 事業者を規制することで消費者を保護しようとする消費者基本法が改正されて、消費者の権利が初めて明記された消費者保護基本法として成立した。
- 2 通信販売で消費者が購入申込みをして商品を受け取り、代金を支払った後でも、一定期間内であれば無条件に契約を解除できる制度をクーリングオフ制度という。
- 3 アメリカのケネディ大統領によって消費者の四つの権利が提唱された1960年代に、我が国の消費者行政の一元化を目的として消費者庁が設立された。
- 4 国民生活センターは国民生活に関する情報の提供等を目的とし、国や全国の消費生活センター等と連携して、消費者問題における中核的機関としての役割を果たしている。

[問 4] 次の文章は、国際収支に関するものである。下の表は、我が国における2010年から2017年にかけての国際収支の推移に関するものであり、表中の**ア**～**エ**には、貿易・サービス収支、第一次所得収支、第二次所得収支、直接投資のいずれかが当てはまる。貿易・サービス収支と、直接投資との組合せとして適切なものは、下の1～4のうちのどれか。解答番号は 。

国際収支は、国の一年間における国内居住者と非居住者の間で行われた全ての経済取引を記録した統計で、経常収支、資本移転等収支、金融収支の大項目で構成される。このうち、経常収支は貿易・サービス収支、第一次所得収支、第二次所得収支からなり、金融収支は直接投資、証券投資、金融派生商品、外貨準備等からなる。

表 [億円]

	2010年	2011年	2012年	2013年	2014年	2015年	2016年	2017年
経常収支	190,903	101,333	46,835	32,343	39,215	165,194	210,615	219,514
ア	136,173	146,210	141,322	164,755	194,148	213,032	188,183	198,374
イ	65,646	-33,781	-83,041	-122,521	-134,988	-28,169	43,888	42,297
ウ	62,511	93,101	94,999	130,237	125,877	161,319	145,293	168,271
エ	-10,917	-11,096	-11,445	-9,892	-19,945	-19,669	-21,456	-21,157

(矢野恒太記念会「日本国勢図会 2014/15年版」「日本国勢図会 2018/19年版」から作成)

	貿易・サービス収支	直接投資
1	ア	ウ
2	ア	エ
3	イ	ウ
4	イ	エ

4

学習指導要領に関する次の各問に答えよ。

[問 1] 中学校学習指導要領社会の「各分野の目標及び内容」における〔歴史的分野〕の「内容」のうち、「C 近現代の日本と世界」において身に付けることができるよう指導することとされている思考力、判断力、表現力等についての記述として適切なものは、次の1～4のうちのどれか。解答番号は **13**。

- 1 小学校での学習を踏まえて歴史上の人物や文化財、出来事などから適切なものを取り上げ、時代区分との関わりなどについて考察し表現すること。
- 2 これまでの学習を踏まえ、歴史と私たちとのつながり、現在と未来の日本や世界の在り方について、課題意識をもって多面的・多角的に考察、構想し、表現すること。
- 3 地域に残る文化財や諸資料を活用して、身近な地域の歴史的な特徴を多面的・多角的に考察し、表現すること。
- 4 産業の発達と文化の担い手の変化、社会の変化と幕府の政策の変化などに着目して、社会の変化の様子を多面的・多角的に考察し、表現すること。

[問 2] 高等学校学習指導要領地理歴史の「地理総合」の「内容」において身に付けることができるよう指導することとされている知識及び技能についての記述として適切なものは、次の1～4のうちのどれか。解答番号は **14**。

- 1 地球儀と世界地図との比較、様々な世界地図の読図などを通して、地理的技能を身に付けること。
- 2 直接的に調査できる地域を地図を活用して多面的・多角的に調査し、生活圏の地域的特色をとらえる地理的技能を身に付けること。
- 3 現代世界の様々な地理情報について、地図や地理情報システムなどを用いて、その情報を収集し、読み取り、まとめる基礎的・基本的な技能を身に付けること。
- 4 身の回りにある様々な地図の収集や地形図の読図、目的や用途に適した地図の作成などを通して、地理的技能を身に付けること。

余 白

選 択 問 題

15ページから52ページまでは、選択問題である。

15ページから52ページまでの選択問題 **A** 世界史 (15ページ～26ページ)、**B** 日本史 (27ページ～38ページ)、**C** 地理 (39ページ～52ページ) のうちから、表紙の指示に従って、一つを選択し解答せよ。

なお、解答用紙の【3】の欄には、選択した問題を表す記号 (A、B又はC) を必ずマークすること。

A 世界史

A 1 次の各問に答えよ。

[問 1] 次の資料は、イタリアのポンペイ遺跡から出土したイッソスの戦いが描かれたモザイク画の一部である。ここに描かれている人物名ア～エと、この人物が樹立した帝国の最大領域を表す地図A・Bとの組合せとして適切なものは、次のページの1～8のうちのどれか。解答番号は **15**。

資料

掲載許可が得られていませんので、掲載いたしません。

【人物名】

ア フィリッポス2世

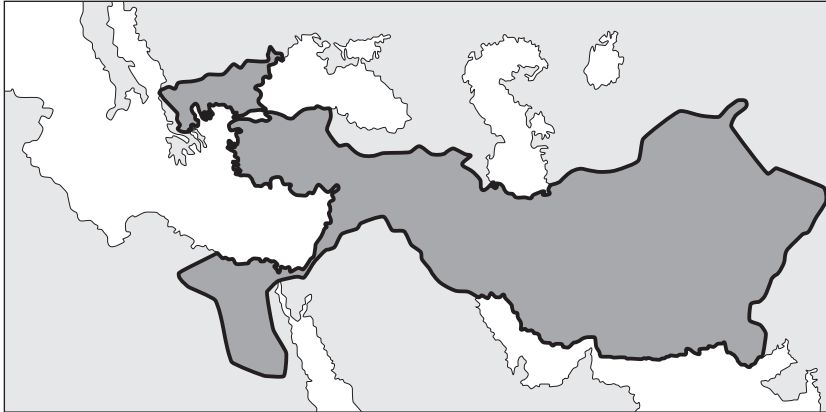
イ ダレイオス3世

ウ アレクサンドロス3世

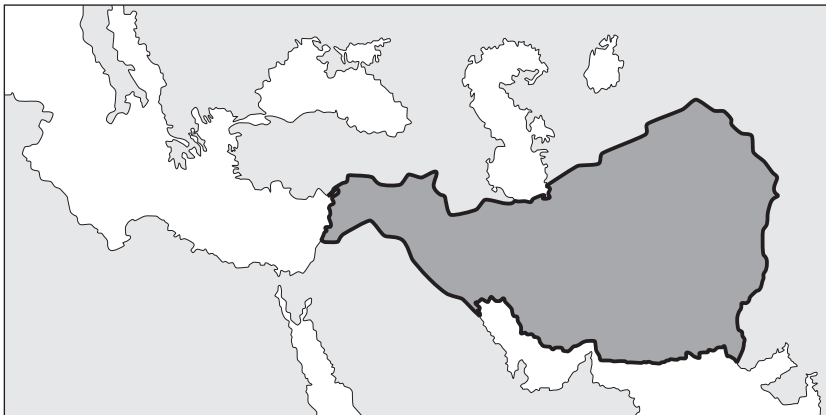
エ キュロス2世

【地図】

A



B



…帝国の最大領域

1 アーA

2 アーB

3 イーA

4 イーB

5 ウーA

6 ウーB

7 エーA

8 エーB

[問 2] 次の資料 1～3 に表される状況が見られた時期として最も適切なものは、A 群の 1～4 のうちではどれか。また、その時期に起こった出来事として適切なものは、B 群の 1～6 のうちのどれか。解答番号は A 群が 、B 群が 。

資料 1

資料 2

資料 3

掲載許可が得られていませんので、
掲載いたしません。

掲載許可が得られていませんので、
掲載いたしません。

掲載許可が得られていませんので、
掲載いたしません。

【A 群】

- 1 1861年から1865年
- 2 1914年から1919年
- 3 1939年から1945年
- 4 1965年から1975年

【B 群】

- 1 ベトナム和平協定の調印
- 2 ホームステッド法の制定
- 3 大西洋上会談の実施
- 4 アメリカのニクソン大統領の訪中
- 5 日独伊三国同盟の結成
- 6 ブレスト・リトフスク条約の締結

〔問 3〕 世界史に影響を与えた感染症のうち、ペストに関する記述として適切なものは、A群の1～4のうちのどれか。また、ペスト菌を発見した人物として最も適切なものは、B群の1～4のうちではどれか。解答番号はA群が 、B群が 。

【A群】

- 1 伝染力が強く古くから人類に甚大な被害を及ぼしたが、予防の方法が確立されると1980年にはWHOによる根絶宣言が行われた。
- 2 主に犬に見られる感染症であり、人に対しては古くから精神神経病として記録されてきたが、この感染症への研究を通じて免疫学の基礎が築かれた。
- 3 14世紀のヨーロッパでの大流行により、農業人口が激減し、封建社会の変動に多大な影響を与えた。
- 4 インドのガンジス川流域の風土病として存在していたが、19世紀の初め、鉄道と船舶の発達による交通の活発化によりヨーロッパ諸国に流行した。

【B群】

- 1 北里柴三郎
- 2 コッホ
- 3 ジェンナー
- 4 パストゥール

A 2 次の文章を読んで、下の各問に答えよ。

慈善あるいはその組織的な形態を意味する慈善事業とは、宗教的動機や感情的動機に基づく^①善行であり、貧民の救済や病人に対する施療などがその例である。慈善は宗教においても重要な徳目の一つとして位置づけられてきた。例えば、イスラーム世界において と呼ばれる制度は、社会福祉制度のなかった時代には大きな意味をもっていた。

しかしながら、慈善は次第に宗教的背景を薄れさせ、産業革命以降になるといっそうその世俗化が進んだ。^②19世紀、イギリスは「世界の工場」とも呼ばれるようになり、農村から都市への人口集中が盛んになると、農村、都市を問わず、共同体の崩壊が激しくなった。19世紀後半には、世俗的な慈善事業が新興の中産階級である産業家や商人によって活発に展開された。

20世紀初頭には、貧困状態に陥ってしまうのは、個人にその原因があるのではなく、資本主義社会の構造的な問題とする認識が広がるようになり、^③国家が社会問題に積極的に取り組もうとする機運が広がり始めた。

[問 1] 下線部①に関連して、イスラームの五行のうち、各人の収入資産と貯蓄の双方に課せられた一種の救貧税の名称として適切なものは、A群の1～5のうちのどれか。また、空欄 に入る語句として適切なものは、B群の1～4のうちのどれか。解答番号はA群が 、B群が 。

【A群】

- 1 シャハーダ
- 2 サラート
- 3 ザカート
- 4 サウム
- 5 ハッジ

【B群】

- 1 ワクフ
- 2 マワーリー
- 3 アター
- 4 ミスル

[問 2] 下線部②に関連して、次の史料は、イギリスの法律の一部である。この法律を施行したときの国王ア～ウと、その国王の治世の出来事A～Cとの組合せとして適切なものは、下の1～9のうちのどれか。解答番号は 。

掲載許可が得られていませんので、掲載いたしません。

(歴史学研究会「世界史史料5 ヨーロッパ世界の成立と膨張」から作成)

- ア チャールズ2世
イ エリザベス1世
ウ ヘンリ8世

- A 国王至上法を發布した。
B 人身保護法を制定した。
C 統一法を公布した。

- | | | | | | |
|---|-----|---|-----|---|-----|
| 1 | ア-A | 2 | ア-B | 3 | ア-C |
| 4 | イ-A | 5 | イ-B | 6 | イ-C |
| 7 | ウ-A | 8 | ウ-B | 9 | ウ-C |

[問 3] 下線部③に関連して、20世紀の国家の社会問題への取組みに関する記述として適切なものは、次の1～4のうちのどれか。解答番号は 。

- 1 イギリス首相に就任した労働党のマクドナルドは、重要産業の国営化や社会福祉制度の充実といった社会民主主義的な一連の政策を実施した。
- 2 労働者擁護に努め幅広い支持を得て第29代アルゼンチン大統領に就任したペロンは、民族主義に基づき、主要産業の国有化や労働者の保護などの社会改革を推進した。
- 3 初代西ドイツ首相であるアデナウアーは、「経済の奇跡」と呼ばれる高い経済成長、失業率の低下、物価安定を実現した。
- 4 第36代アメリカ大統領に就任した民主党のジョンソンは、「偉大な社会」建設を掲げ、貧困の解消、人種差別の廃止などを目指した。

A 3 次の文章を読んで、下の各問に答えよ。

通信は人類が地球上に生存し、社会生活を営むようになって以来、それぞれの時代における通信技術の水準及び社会活動の広がりなどを反映しながら、次第に発展を遂げてきた。通信は人間の五感のうち、主として視覚と聴覚によって行うものであるが、その態様は時代とともに変化している。このうち、視覚による通信をみると、文字が発明される以前には絵画が用いられ、各地に洞穴絵画としてその痕跡をとどめている^①。その後、象形文字が考案され、さらに紙の発明で文字による通信が発達した。文字をもたない文化^②においては、例えば縄の結び目によって通信が行われるなどのこともあった。

[問 1] 下線部①に関連して、次の資料は後期旧石器時代の代表的な洞穴絵画遺跡のものである。この洞穴絵画を描いたと考えられる化石人類の名称として適切なものは、A群の1～4のうちどれか。また、次のページの略地図中の地域ア～エのうち、この遺跡の位置として適切なものは、B群の1～4のうちどれか。解答番号はA群が 、B群が 。

資料

掲載許可が得られていませんので、掲載いたしません。

【A群】

- 1 ネアンデルタール人
- 2 アウストラロピテクス
- 3 クロマニヨン人
- 4 北京原人

略地図



【B群】

- 1 ア
- 2 イ
- 3 ウ
- 4 エ

[問 2] 下線部②に関連して、15世紀から16世紀にかけて領土を拡大したある帝国では、文字は使用されていなかったが、縄の結び目で統計や数字を記録していた。次の略地図中の地域ア～エのうち、この帝国のおおよその位置として適切なものは、A群の1～4のうちのどれか。また、この帝国に関する記述として適切なものは、B群の1～4のうちのどれか。解答番号はA群が 、B群が 。

略地図



【A群】

- 1 ア
- 2 イ
- 3 ウ
- 4 エ

【B群】

- 1 独特な巨石人頭像を残した。ジャガー崇拝やヒスイの重視、神殿ピラミッドが特徴的で、周辺地域の文明に大きな影響を与えた。
- 2 皇帝は太陽の化身とされた。太陽の神殿を代表とする石造建築や金属加工術が発達したが、16世紀にピサロによって滅ぼされた。
- 3 石造の階段ピラミッドや神殿が建造された。天文学の発展からゼロが記号化され、二十進法が用いられていた。
- 4 テスココ湖上の島に都を建設した。優れた軍事組織を通じて広大な領域を支配したが、16世紀にコルテスによって滅ぼされた。

余 白

A 4 次の問に答えよ。

[問] 高等学校「世界史B」の世界恐慌とその影響の学習において、調べた内容を発表する活動を行った。次の資料1・2は、調べる際に教師が生徒に提示したものである。発表に向けて、生徒A～Dは下のような発言を行った。それぞれの発言を教師が補足するときに、生徒A～Dの発言と、提示する次のページの資料ア～エとの組合せとして最も適切なものは、次のページの1～4のうちではどれか。解答番号は 28。

資料1 各国の失業率の変化

資料2 世界経済のブロック化

掲載許可が得られていませんので、
掲載いたしません。

掲載許可が得られていませんので、
掲載いたしません。

生徒A：「1929年にアメリカ合衆国で始まった恐慌は、世界中に広がって世界恐慌となり、各地で大量の失業者を生み出したことは分かったので、実際に労働者たちはどのような生活をしていただのかを調べてみたいと思います。」

生徒B：「フランスがフラン・ブロック、イギリスがスターリング・ブロックなど、経済的にブロック経済を行ったことは分かりましたが、政治的には本国と自治領との関係がどうなったのか疑問に思いました。」

生徒C：「アメリカでは、1933年に民主党のフランクリン・ローズヴェルトが大統領に就任し、ニューディールと呼ばれる政策を実施したことは分かったので、その具体的な内容まで調べて更に理解を深めたいと思います。」

生徒D：「ドイツでは、世界恐慌により経済危機にとどまらず、深刻な政治危機が引き起こされ、1933年にヒトラーが政権を掌握したことは分かりましたが、ドイツ国民はなぜヒトラーを支持するようになっていったのか疑問に思いました。」

ア ある工業製品の写真

掲載許可が得られていませんので、
掲載いたしません。

イ ある政治家の声明

掲載許可が得られていませんので、
掲載いたしません。

ウ ある都市の景観

掲載許可が得られていませんので、
掲載いたしません。

エ ある法律の前文及び条文

掲載許可が得られていませんので、
掲載いたしません。

	生徒A	生徒B	生徒C	生徒D
1	イ	ア	エ	ウ
2	イ	エ	ウ	ア
3	ウ	ア	イ	エ
4	ウ	エ	イ	ア

B 日本史

B 1 次の文章を読んで、下の各問に答えよ。

徳川家康は、1601年に江戸と京都・大坂間を結ぶ東海道に宿駅を定めて、幕府公用の人馬を確保した。その後、中山道・甲州道中・奥州道中・日光道中にも宿駅を定め、江戸を拠点とした交通制度を確立した。宿駅には、問屋場や幕府公用旅行者のための休泊施設などが次第に整えられた。

1635年の「武家諸法度」による参勤交代の制度化は、各街道に交通量の増大を招き、宿駅の整備をより進めた。1659年、道中筋を担当する道中奉行が設置され、その後、幕府の宿駅政策は道中奉行を中心に進められた。17世紀後半以降になると、参勤交代に伴う大名の通行に加えて、一般庶民の移動も増加するようになった。

海上交通では、1620年代から菱垣廻船や樽廻船もひらかれ、大坂から江戸への物資輸送が行われていたが、やがて東廻り・西廻りの廻運が整備されて、全国流通の機構ができあがり、大坂を中心にした全国市場が成立した。

大坂とともに、江戸・京都の三都は、特別重要な位置を占め、また各地の都市商業も盛んとなった。問屋や仲買が活動し始め、米や魚などを専門とする卸売市場ができるなど、町の姿が多様化し、商人たちは村へも入り込み始めた。

[問 1] 下線部①について、次の資料ア～エは東海道や中山道に関する史跡や景観である。資料ア～エに関連する地点として最も適切なものは、次のページの略地図中の1～0のうちではどれか、それぞれ選び答えよ。解答番号はアが 、イが 、ウが 、エが 。

資料

ア



イ



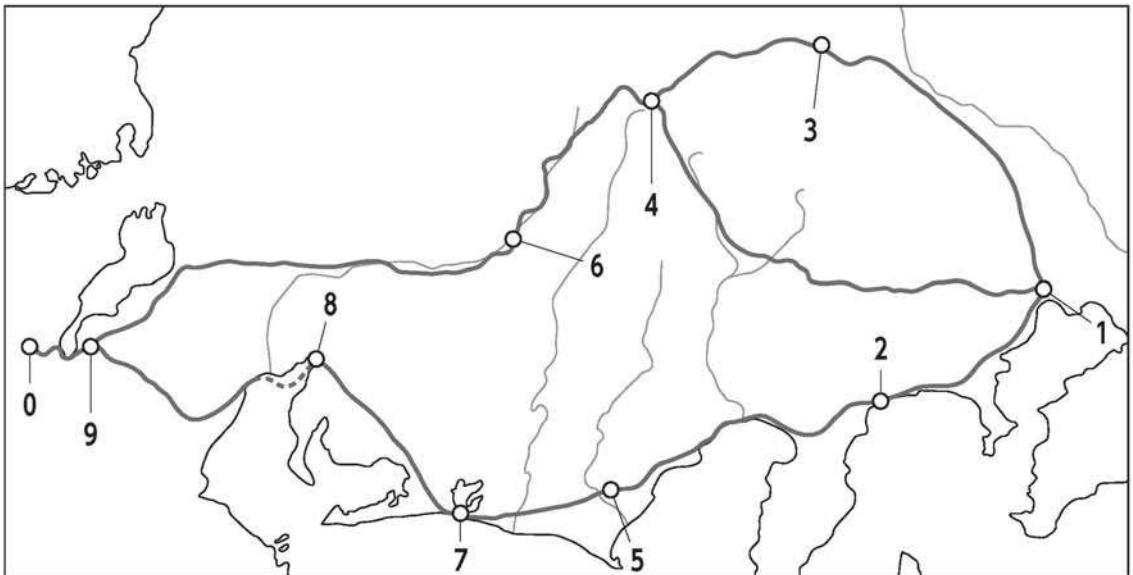
ウ

掲載許可が得られていませんので、
掲載いたしません。

エ

掲載許可が得られていませんので、
掲載いたしません。

略地図



[問 2] 下線部②について、次の史料ア～エは武家諸法度の条文である。武家諸法度は江戸幕府の基本法規の一つで、一部の将軍を除き、将軍就任後に諸大名に公示した。各将軍は前将軍の武家諸法度を改訂したり、踏襲したりしたが、次の史料ア～エの条文が最初に規定された年代の古いものから順に並べたものとして適切なものは、下の1～4のうちのどれか。解答番号は 。

ア 一 五百石以上之船停止事、

イ 一 殉死の禁、更に厳制を加ふる所也、或ハ徒党を植て、或は誓約を結ふのとき、妄りに非義を行ひて敢て憲法を犯すの類、一切に厳禁すへき事、

ウ 一 文武忠孝を励し、可正礼儀之事、

エ 一 諸国居城雖為修補、必可言上、況新儀之構宮堅令停止事、

1 ア → エ → イ → ウ

2 ア → エ → ウ → イ

3 エ → ア → イ → ウ

4 エ → ア → ウ → イ

[問 3] 下線部③に関連して、江戸時代の海上交通や流通に関する記述として適切なものは、次の1～4のうちのどれか。解答番号は 。

1 大坂と江戸の間を航行した菱垣廻船は、荷役が速く、木綿などの下り荷を安価で運送し、江戸時代後期には樽廻船を圧倒した。

2 北前船などが航行する西廻り海運は、日本海沿岸から下関を回って瀬戸内海に入り、大坂を経由して江戸に達する航路で、京都の商人である角倉了以によって刷新された。

3 大坂の二十四組問屋は江戸の仕入れ問屋である十組問屋の注文に応じて、江戸積み商品を集荷し、これを運送業者に委託した。

4 商品流通が発展する背景には三貨の成立があるが、東日本では主に秤量貨幣の銀貨が、西日本では主に計数貨幣の金貨が使われ、「大坂の金遣い、江戸の銀遣い」と言われた。

[問 4] 下線部④に関連して、次の史料は、ある人物の著作物の一部である。史料中の「某」が表す人物ア～エと、史料の引用した部分の内容から読み取れることに関する記述A～Dとの組合せとして適切なものは、下の1～8のうちのどれか。解答番号は 35。

昔ハ在々ニ殊ノ外銭払底ニテ、一切ノ物ヲ銭ニテハ不買、皆米麦ニテ買タルコト、某田舎ニテ覚タル事也。近年ノ様子ヲ聞合スルニ、元禄ノ頃ヨリ田舎ヘモ銭行渡テ、銭ニテ物ヲ買コトニ成タリ。・・(中略)・・当時ハ旅宿ノ境界ナル故、金無テハナラヌ故、米ヲ売テ金ニシテ、商人ヨリ物ヲ買テ日々ヲ送ルコトナレバ、商人主ト成テ武家ハ客也。故ニ諸色ノ直段、武家ノ心儘ニナラヌ事也。

ア 田中丘隅 イ 太宰春台 ウ 三井高利 エ 荻生徂徠

- A 以前は農村には大量の銭貨が余り、他村の米や麦を買い入れることが多かった。
- B 商品作物の栽培の発展により、村にも銭貨が入ってきた。
- C かつては農村に銭貨が不足していたため、銭貨ではなく米や麦で購入していた。
- D 将軍が徳川綱吉の頃には、田舎へも銭貨が行き渡ったが、都市では銭が不足した。

- 1 アーA
- 2 アーC
- 3 イーB
- 4 イーD
- 5 ウーA
- 6 ウーD
- 7 エーB
- 8 エーC

B 2 次の文章を読んで、下の各問に答えよ。

掲載許可が得られていませんので、掲載いたしません。

(岩波書店「ベルツの日記(上)」から作成)

[問 1] 下線部①に関連して、近代の教育制度に関する記述ア～エを年代の古いものから順に並べたものとして適切なものは、下の 1～4 のうちのどれか。解答番号は 36。

- ア 教育令によって全国画一の学区制を廃止した。
- イ 旧幕府の開成所・医学所を起源とする諸校を統合して東京大学を設立した。
- ウ 政府はフランスの学校制度に倣って、学制を公布した。
- エ 森有礼文部大臣のもとでいわゆる学校令が公布された。

- 1 イ → ウ → ア → エ
- 2 イ → ウ → エ → ア
- 3 ウ → イ → ア → エ
- 4 ウ → イ → エ → ア

[問 2] 下線部②に関連して、幕末から明治期において日露間で結ばれた条約ア～エを、結ばれた年代の古いものから順に並べたものとして適切なものは、下の1～4のうちのどれか。解答番号は 。

ア 北緯50度以南の樺太とその付属の諸島を日本に譲渡した条約。

イ 安政の五カ国条約の一つで、日本とロシアの通商を規定した条約。

ウ 千島全島を日本領とし、占守島とカムチャツカ半島の間を国境とした条約。

エ 千島列島中の択捉島を日本領、得撫島以北をロシア領とし、樺太は両国人雑居の地とした条約。

1 イ → エ → ア → ウ

2 イ → エ → ウ → ア

3 エ → イ → ア → ウ

4 エ → イ → ウ → ア

[問 3] 下線部③の建物と同じく明治時代に完成したものとして適切なものは、次の1～4のうちのどれか。解答番号は 。

1

掲載許可が得られていませんので、
掲載いたしません。

2

掲載許可が得られていませんので、
掲載いたしません。

3

掲載許可が得られていませんので、
掲載いたしません。

4

掲載許可が得られていませんので、
掲載いたしません。

B 3 次の年表を見て、下の各問に答えよ。

年月日	出来事
1914年 7月	第一次世界大戦が始まる。
1915年 1月	日本が中国へ <u>二十一カ条の要求</u> を行う。
1922年 2月	九カ国条約に調印する。
1931年 9月18日	(X) が起きる。

[問 1] 年表中の下線部について、この時の日本の内閣総理大臣をア～ウから、下線部に関連する史料をA～Cからそれぞれ選んだ組合せとして適切なものは、下の1～6のうちのどれか。解答番号は 。

ア 原敬

イ 寺内正毅

ウ 大隈重信

- A 支那ノ領土ヲ通シテ一切ノ国民ノ商業及工業ニ対スル機会均等主義ヲ有効ニ樹立維持スル為各尽カスルコト
- B 支那国政府ハ支那国沿岸ノ港湾及島嶼ヲ他国ニ譲与シ若クハ貸与セサルヘキコトヲ約ス
- C 支那ニ於ケル帝国ノ権利利益並在留邦人ノ生命財産ニシテ不法ニ侵害セラルル虞アルニ於テハ必要ニ応シ断乎トシテ自衛ノ措置ニ出テ之ヲ擁護スルノ外ナシ

1 アーA

2 アーB

3 イーA

4 イーC

5 ウーB

6 ウーC

[問 2] 年表中の空欄 (X) の出来事は、次の略地図中のア～エのいずれかの都市の郊外で起きた。その都市の位置ア～エと、出来事に関する記述 A～D との組合せとして適切なものは、下の 1～8 のうちのどれか。解答番号は

40

。

略地図

掲載許可が得られていませんので、
掲載いたしません。

- A 関東軍参謀河本大作らが、満州軍閥の張作霖の排除を計画し、列車ごと爆破し殺害した事件。
- B 関東軍が南満州鉄道の線路を爆破し、これを中国側の仕業として軍事行動を起こした事件。
- C 盧溝橋付近で、夜間演習中の日本軍と中国軍が衝突を起こし、現地では停戦協定が成立した事件。
- D 濟南城に入城した国民革命軍と日本軍との間に戦闘が起こり、濟南城を日本軍が占領した事件。

- 1 アーA
- 2 アーB
- 3 イーA
- 4 イーC
- 5 ウーB
- 6 ウーD
- 7 エーC
- 8 エーD

[問 3] 次の資料ア・イを読んで、読み取れる内容や関連する事柄として最も適切なものは、下の1～4のうちではどれか。解答番号は 41。

ア 「支那問題処理方針要綱」(一部抜粋)

以上各般の施策実行に当りては努めて国際法乃至国際条約抵触を避け就中満蒙政権問題に関する施策は九国条約等の関係上出来得る限り新国家側の自主的発意に基くが如き形式に依るを可とす

イ 「リットン報告書」(一部抜粋)

掲載許可が得られていませんので、掲載いたしません。

- 1 満州国は、その地の民族の自発的意思によって成立したものである。
- 2 日本は、国際法ないし国際条約との抵触を避けようとしていた。
- 3 資料イが公表された後に、日本は満州国と日満議定書を締結し、満州国を承認した。
- 4 国際連盟臨時総会は、資料イに基づく対日勧告案を採決し、日本全権幣原喜重郎はこれを拒否した。

余 白

B 4

次の問に答えよ。

〔問〕 高等学校「日本史B」の古代の外交や文化の学習において、調べた内容を発表する活動を行った。次の資料1・2は、調べる際に教師が生徒に提示したものである。発表に向けて、生徒A～Dは下のような発言を行った。それぞれの発言を教師が補足するときに、生徒A～Dの発言と、提示する次のページの資料ア～エとの組合せとして最も適切なものは、次のページの1～4のうちではどれか。解答番号は 42。

資料1 仏教伝来時の様子

資料2 遣唐使の一覧

乃ち群臣に歴問ひて曰はく、「西蕃の献れる仏の相貌、端巖にして全く未だ曾て看ず。礼ふべきや以不や」とのたまふ。蘇我大臣稲目宿禰奏して曰さく、「西蕃の諸国、一に皆礼ふ。豊秋日本、豈独り背かむや」とまをす。物部大連尾輿・中臣連鎌子、同じく奏して曰さく、「我が国家の、天下に王とましますは、恒に天地社稷の百八十神を以ちて、春夏秋冬、祭拜りたまふことを事とす。方今し、改めて蕃神を拝みたまはば、恐るらくは国神の怒を致したまはむ」とまをす。天皇の日はく、「情願ふ人稲目宿禰に付けて、試に礼拝せしむべし」とのたまふ。

天皇	出発年	おもな使節と随行した留学生・僧ら
舒明	630	犬上御田鍬
孝徳	653	吉士長丹、高田根麻呂、道昭
孝徳	654	高向玄理、河辺麻呂
斉明	659	坂合部石布
天智	665	守大石
天智	667	伊吉博徳
天智	669	河内鯨
文武	702	粟田真人、山上憶良
元正	717	多治比県守、玄昉、吉備真備、阿倍仲麻呂、井真成
聖武	733	多治比広成
聖武	(746)	石上乙麻呂
孝謙	752	藤原清河、吉備真備
淳仁	759	高元度
淳仁	(761)	仲石伴、石上宅嗣
淳仁	(762)	中臣鷹主
光仁	777	佐伯今毛人、小野石根
光仁	779	布勢清直
桓武	804	藤原葛野麻呂、空海、最澄、橘逸勢
仁明	838	藤原常嗣、小野篁、円仁
宇多	(894)	菅原道真

※ 出発年に () があるものは、派遣が中止されたもの

生徒A：「仏教伝来の当初は、一部の豪族は仏教を受容すると日本の神が怒ると主張していますが、その後、日本の神との関係はどのようになっていったのか調べたいと思います。」

生徒B：「仏教の受容に関して、当初は中央の豪族間で対立があったことは分かりましたが、その後、地域社会では仏教はどのように普及したのか調べたいと思います。」

生徒C：「遣唐使には、使節に加えて、留学生、僧など多くの人々が随行したことが分かったので、その後の国内の政治や文化にみられる唐の影響についても調べたいです。」

生徒D：「遣唐使は16回も渡航していることが分かりましたが、その一方で、それを受け入れる唐の側にも何か利点はあったのかという疑問が湧いてきました。」

ア ある橋の袂にある碑文

澗澗横流、其疾如箭、修修征人、停騎成市。欲赴重深、人馬亡命。從古至今、莫知杭竿。世有积子、名曰道登。出自山尻惠満之家。大化二年、丙午之歳、構立此橋、濟度人畜。即因微善、爰発大願、結因此橋、成果彼岸。法界衆生、普同此願、夢裏空中、導其昔縁。

イ 冕冠と袞衣

ウ ある寺院に残る彫刻

掲載許可が得られていませんので、
掲載いたしません。

掲載許可が得られていませんので、
掲載いたしません。

エ 延喜式に見える朝貢品のリスト

例貢品	銀	大	500両
	絁	水織絁	200匹
		美濃絁	200匹
		細絁	300匹
		黄絁	300匹
	糸	黄糸	500絢
綿	細屯綿	1000屯	
別送品	綵帛		200匹
	綿	疊綿	200帖
		屯綿	200屯
	布	紵布	30端
		望陀布	100端
	木綿		100帖
	出火水精		10顆
	瑪瑙		10顆
	出火鉄		10具
	海石榴油		6斗
	甘葛汁		6斗
	金漆		4斗

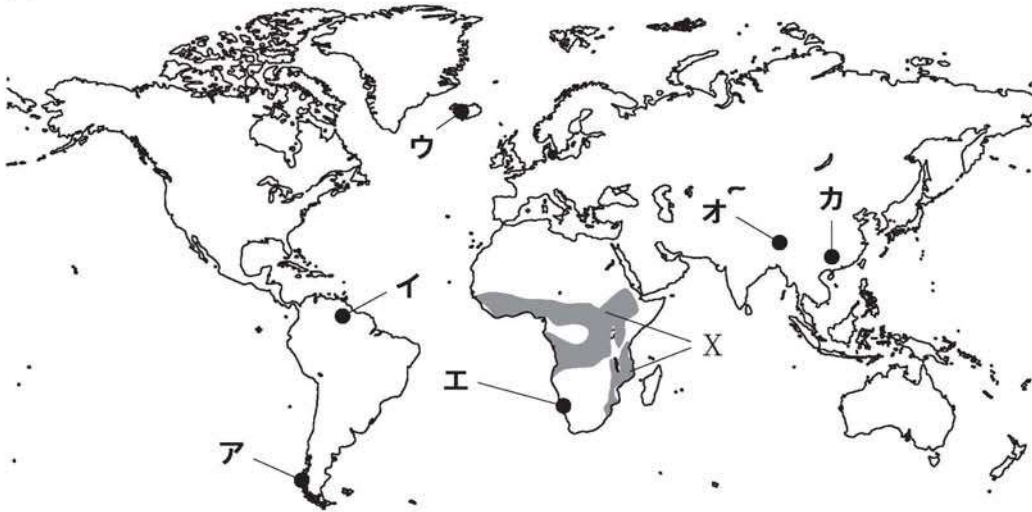
	生徒A	生徒B	生徒C	生徒D
1	イ	ウ	ア	エ
2	イ	エ	ウ	ア
3	ウ	ア	イ	エ
4	ウ	イ	エ	ア

C 地理

C1 世界の自然環境と環境問題に関する次の各問に答えよ。

[問 1] 次の図を見て、下の(1)及び次のページの(2)の各問に答えよ。

図



(1) 図中のア～カの地点で見られる自然景観について、イとエの地点で見られるものとして適切なものは、次の1～6のうちのどれか、それぞれ選び答えよ。解答番号はイが 、エが 。

1

掲載許可が得られていませんので、
掲載いたしません。

2

掲載許可が得られていませんので、
掲載いたしません。

3

掲載許可が得られていませんので、
掲載いたしません。

4

掲載許可が得られていませんので、
掲載いたしません。

5

掲載許可が得られていませんので、
掲載いたしません。

6

掲載許可が得られていませんので、
掲載いたしません。

- (2) 図中のXの地域について、次の図ア・イは、アフリカ大陸付近の1月と7月のいずれかの風向を示したものである。図ア・イのうち1月の風向を示したものと、下の表中のA～Dの月平均気温と月降水量のデータのうちXの地域の気候区に当てはまるものとの組合せとして適切なものは、下の1～8のうちどれか。解答番号は 45。

ア

イ

掲載許可が得られていませんので、
掲載いたしません。

掲載許可が得られていませんので、
掲載いたしません。

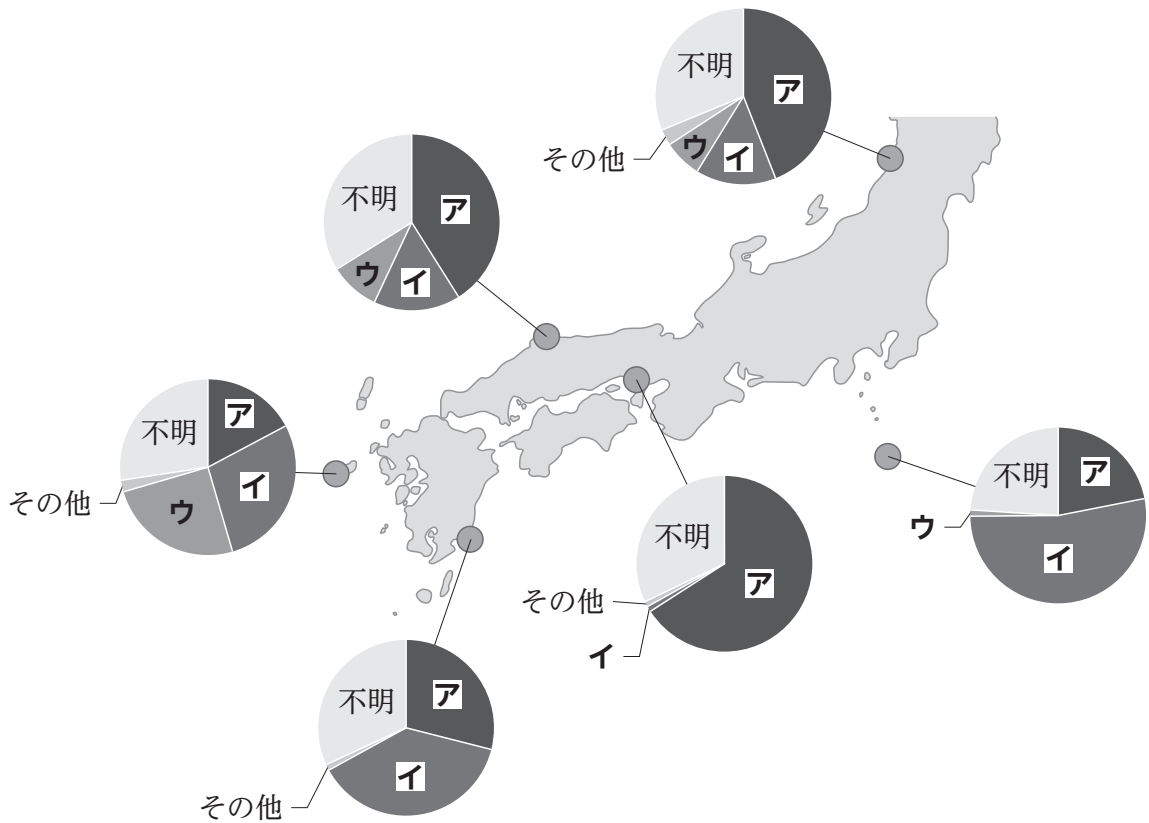
	1月	2月	3月	4月	5月	6月	7月	8月	9月	10月	11月	12月
A	13.8 50.8	16.0 36.5	17.3 34.4	17.8 11.4	19.0 4.8	20.6 1.1	21.6 0.1	22.1 0.1	21.8 1.2	20.4 15.3	18.1 48.3	14.8 62.5
B	24.8 0.0	27.9 0.1	31.6 2.0	33.4 23.6	32.2 52.8	29.8 86.5	27.7 174.5	26.6 195.3	27.5 133.0	29.2 30.5	28.0 0.6	25.4 0.1
C	20.4 84.1	20.9 103.3	20.1 119.5	20.1 158.1	20.4 95.9	20.6 20.5	20.9 12.5	21.7 42.8	21.3 71.1	20.3 112.3	19.8 164.2	20.0 75.2
D	16.2 0.7	18.1 0.0	22.4 0.8	27.6 0.4	31.8 0.3	33.9 0.0	34.8 0.0	34.4 0.0	32.3 0.0	28.6 0.6	22.4 0.2	17.4 0.1

(上段：月平均気温 [°C]、下段：月降水量 [mm])
(気象庁ホームページのデータから作成)

- 1 ア-A
- 2 ア-B
- 3 ア-C
- 4 ア-D
- 5 イ-A
- 6 イ-B
- 7 イ-C
- 8 イ-D

[問 2] 次の図は、平成29年度に環境省が行った漂着ごみのモニタリング調査において、各地点で回収された漂着ペットボトルの言語表記別割合を示したものであり、図中のア～ウは日本語、韓国語、中国語のいずれかである。ア～ウと、言語名との組合せとして適切なものは、下の1～6のうちのどれか。解答番号は 。

図



(環境省「平成29年度海洋ごみ調査の結果について」から作成)

- | | | | |
|---|-------|-------|-------|
| 1 | アー日本語 | イー韓国語 | ウー中国語 |
| 2 | アー日本語 | イー中国語 | ウー韓国語 |
| 3 | アー韓国語 | イー日本語 | ウー中国語 |
| 4 | アー韓国語 | イー中国語 | ウー日本語 |
| 5 | アー中国語 | イー日本語 | ウー韓国語 |
| 6 | アー中国語 | イー韓国語 | ウー日本語 |

C2 交通・観光に関する次の各問に答えよ。

[問 1] 次の表 1 は、国・地域別の外国人訪問者数の推移を示したもので、**ア～オ**には、日本、タイ、中国、イギリス、アメリカのいずれかが当てはまる。また、下の表 2 は、訪日外客数が上位の国及び地域の推移を示したもので、A～Dにはタイ、中国、イギリス、アメリカのいずれかが当てはまる。中国とアメリカを表す組合せとして適切なものは、下の**1～0**のうちのどれか。解答番号は **47**。

表 1

国	外国人訪問者数 [千人]		
	2006年	2011年	2016年
ア	7,334	6,219	24,039
イ	30,654	29,306	35,814
ウ	13,822	19,230	32,588
エ	50,977	62,821	75,868
オ	49,913	57,581	59,270

※ 中国のデータには香港、マカオ、台湾への外国人訪問者数は含んでいない。

(日本政府観光局 (JNTO)「各国・地域別外国人訪問者数」、「国籍／目的別訪日外客数(確定値)」から作成)

表 2

	訪日外客数が上位の国及び地域		
	2006年	2011年	2016年
1 位	韓国	韓国	B
2 位	台湾	B	韓国
3 位	A	台湾	台湾
4 位	B	A	香港
5 位	香港	香港	A
6 位	C	オーストラリア	D

※ 訪日外客とは、国籍に基づく法務省集計による外国人正規入国者から日本に居住する外国人を除き、これに外国人一時上陸客等を加えた入国外国人旅行者のこと。

(日本政府観光局 (JNTO)「国籍／目的別訪日外客数(確定値)」から作成)

- | | | |
|---|-----------------|-------------------|
| 1 | 中国－ ア ・B | アメリカ－ オ ・A |
| 2 | 中国－ ア ・D | アメリカ－ オ ・C |
| 3 | 中国－ イ ・B | アメリカ－ ア ・A |
| 4 | 中国－ イ ・D | アメリカ－ ア ・C |
| 5 | 中国－ ウ ・B | アメリカ－ イ ・A |
| 6 | 中国－ ウ ・D | アメリカ－ イ ・C |
| 7 | 中国－ エ ・B | アメリカ－ ウ ・A |
| 8 | 中国－ エ ・D | アメリカ－ ウ ・C |
| 9 | 中国－ オ ・B | アメリカ－ エ ・A |
| 0 | 中国－ オ ・D | アメリカ－ エ ・C |

[問 2] 次の図ア～エは、2018年における我が国の三大都市圏以外を訪れた外国人旅行者のコト消費のうち、「スキー・スノーボード」、「四季の体感」、「自然体験ツアー・農山漁村体験」、「温泉入浴」のいずれかについて、誘引力の高い道県上位5位までを着色したものである。各体験活動と、ア～エとの組合せとして適切なものは、次のページの1～0のうちのどれか。解答番号は 48。

※ 四季の体感とは、花見、紅葉、雪等を示す。

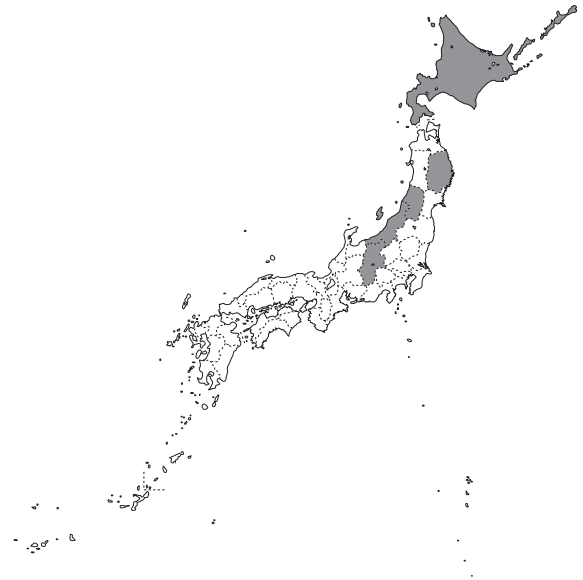
※ 誘引力 = (体験した場合の訪問率) ÷ (体験の有無に関わらない全体の訪問率)

図

ア



イ



ウ



エ



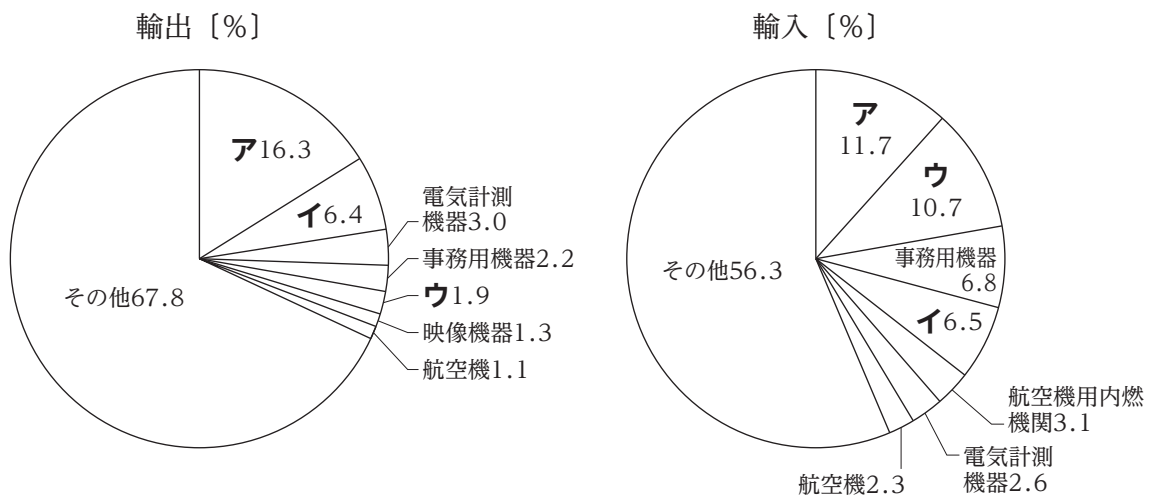
(国土交通省「令和元年版 観光白書」から作成)

	スキー・ スノーボード	四季の体感	自然体験ツアー・ 農山漁村体験	温泉入浴
1	ア	イ	ウ	エ
2	ア	イ	エ	ウ
3	イ	ア	ウ	エ
4	イ	ア	エ	ウ
5	イ	エ	ア	ウ
6	ウ	エ	ア	イ
7	ウ	エ	イ	ア
8	エ	イ	ウ	ア
9	エ	ウ	ア	イ
0	エ	ウ	イ	ア

[問 3] 次の図1は、2017年における我が国の主な航空貨物の輸出額と輸入額における品目別割合を示しており、品目ア～ウはそれぞれ医薬品、半導体等電子部品、科学光学機器のいずれかである。また、図2のA・Bは、2017年における旅客又は貨物のいずれかの世界の定期輸送による民間航空輸送量上位10か国の輸送量を示したものである。図1中ア～ウのうち科学光学機器を示したものと、図2のA・Bのうち貨物輸送量を示したものととの組合せとして適切なものは、次のページの1～6のうちのどれか。解答番号は 49。

※ 科学光学機器は、カメラ、レンズ、計測機器などを示す。

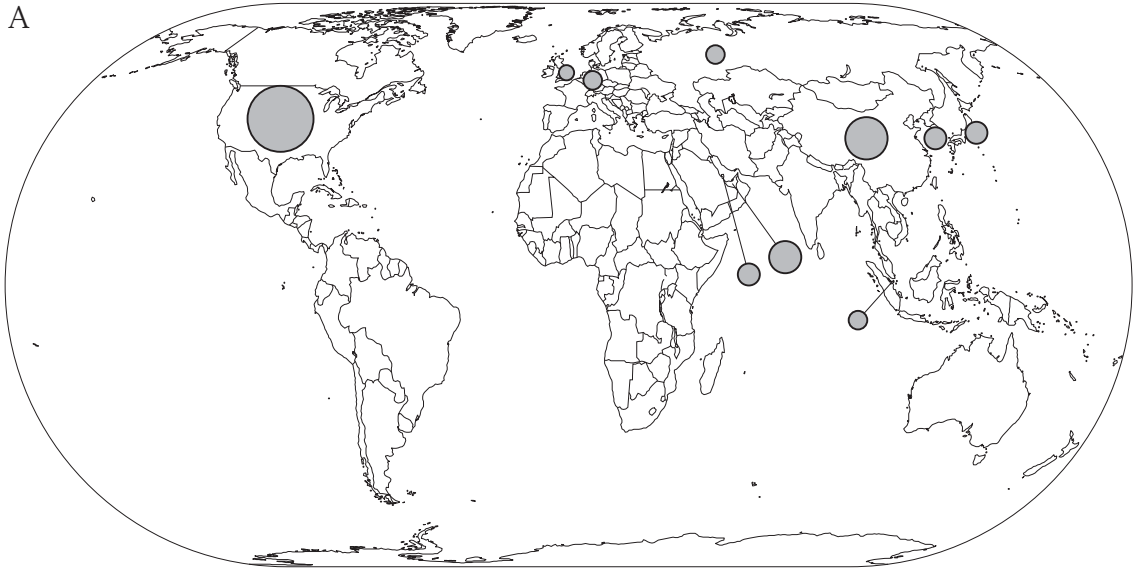
図1



(二宮書店「データブック オブ・ザ・ワールド 2019年版」から作成)

図 2

A



B



旅客輸送量 [百万人km]

貨物輸送量 [百万t. km]

1,500,000

40,000

150,000

4,000

(矢野恒太記念会「世界国勢図会 2019/20年版」から作成)

1 アーA

2 アーB

3 イーA

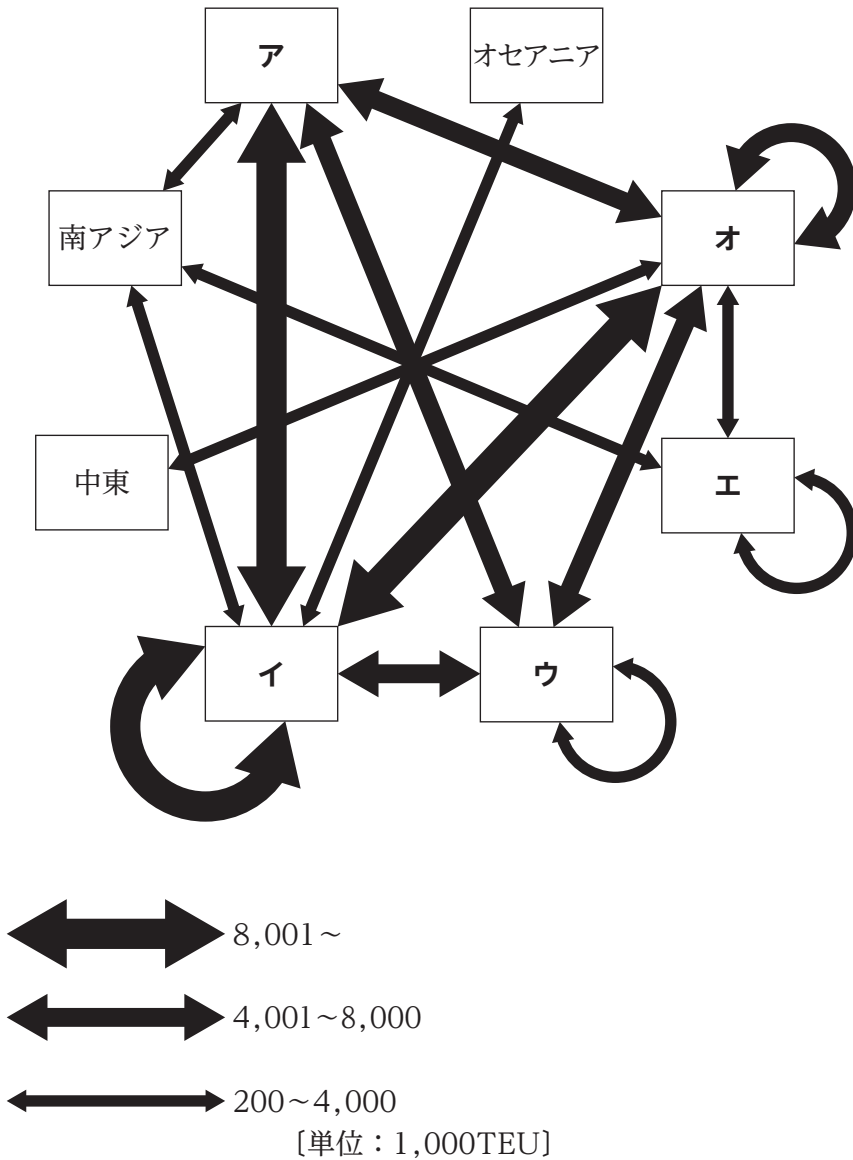
4 イーB

5 ウーA

6 ウーB

[問 4] 次の図は、2011年の水上交通における世界のコンテナの荷動きを模式的に示したものであり、図中のア～オにはヨーロッパ、アフリカ、東アジア、北アメリカ、中南アメリカのいずれかが当てはまる。ア～オのうち、東アジアに当てはまるものと、アフリカに当てはまるものとの組合せとして適切なものは、次のページの1～0のうちのどれか。解答番号は 。

図



※ TEUはコンテナ数の単位。1 TEUは20フィートコンテナ1個分を示す。

(東京法令出版「地理資料」から作成)

	東アジア	アフリカ
1	ア	ウ
2	ア	エ
3	イ	ウ
4	イ	エ
5	ウ	イ
6	ウ	オ
7	エ	ア
8	エ	オ
9	オ	ア
0	オ	イ

C3 地域調査に関する次の問に答えよ。

[問] 次の図1に示したA市について、ある生徒が地図や統計資料などを用いて地域調査を行った。下の(1)及び次のページの(2)の各問に答えよ。

図1

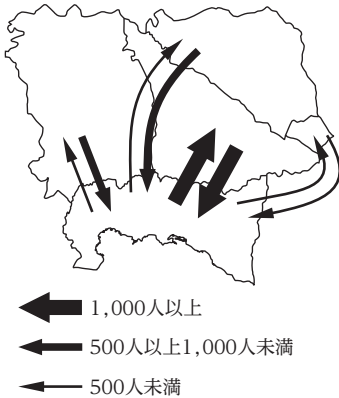


表

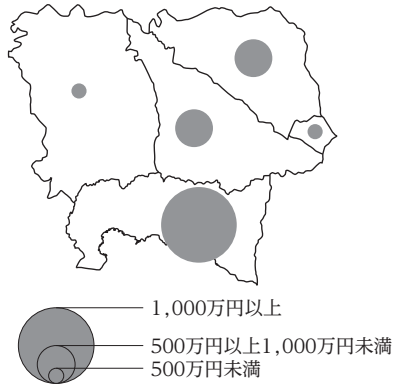
	面積 [km ²]	人口 [人]
A市	63.6	139,157
B市	99.3	38,054
C市	68.4	156,532
D市	61.2	75,236
E市	6.4	47,216

(1) 次の主題図1～5は、A市と周辺の4自治体について、それぞれ流線図、図形表現図、階級区分図、ドットマップ、メッシュマップを用いて作成したものである。表現しようとした主題や内容と、それに対する表現方法との組合せが**適切でないもの**は、次の1～5のうちのどれか。解答番号は 。

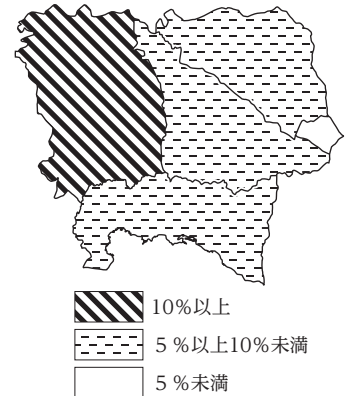
1 自治体間の通勤者数



2 観光収入



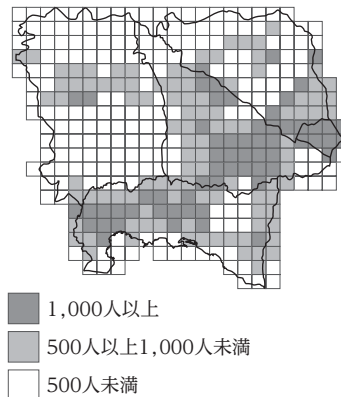
3 農地割合



4 みかん出荷量

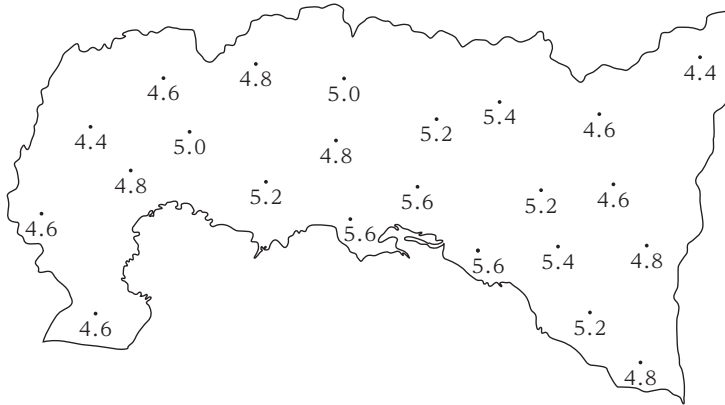


5 人口密度



(2) A市の都市化の進展とヒートアイランド現象との関係調べるため、A市内の複数の地点で同時に気温の観測を行い、図2の観測結果を得た。そこで、図2に5℃の等温線を書き込むことにした。下の図ア～エのうち図2に書き込んだ等温線と同じ形になるものと、ヒートアイランド現象をより観測しやすくなる条件A・Bとの組合せとして最も適切なものは、下の1～8のうちではどれか。解答番号は 52。

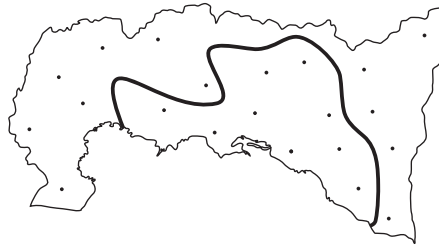
図2



ア



イ



ウ



エ



【観測しやすくなる条件】

A 夏季の日中 B 冬季の朝

- | | | | | | | | |
|---|-----|---|-----|---|-----|---|-----|
| 1 | ア-A | 2 | イ-A | 3 | ウ-A | 4 | エ-A |
| 5 | ア-B | 6 | イ-B | 7 | ウ-B | 8 | エ-B |

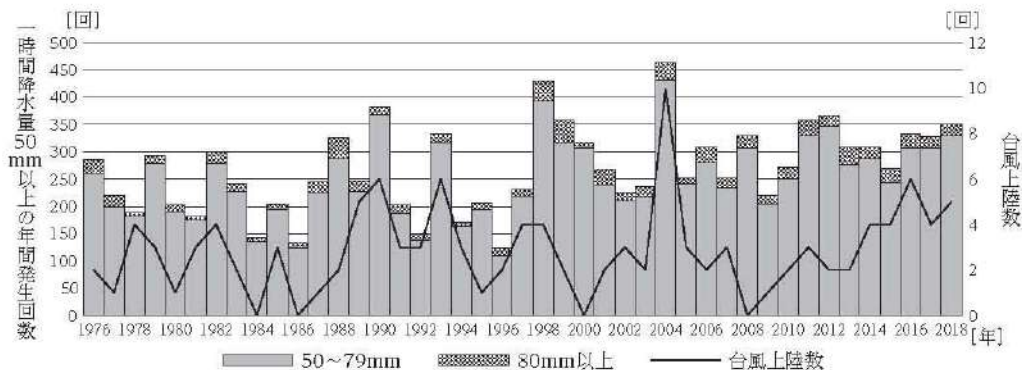
C4 次の問に答えよ。

[問] 高等学校「地理A」の自然環境と防災の学習において、我が国の自然環境と災害の関係及び災害対策について調べた内容を発表する活動を行った。次の資料1・2は、調べる際に教師が生徒に提示したものである。発表に向けて、生徒A～Dは下のような発言を行った。それぞれの発言を教師が補足するとき、生徒A～Dの発言と、提示する次のページの資料ア～エとの組合せとして最も適切なものは、次のページの1～4のうちではどれか。解答番号は **53** 。

資料1 日本の周辺で発生した地震

掲載許可が得られていませんので、
掲載いたしません。

資料2 全国アメダス1,300地点当たりの1時間降水量50mm以上の年間発生回数と台風上陸数



生徒A：「日本近海において、規模の大きな地震が集中して発生しています。地震の発生原因と、自然環境との関係について調べてみたいと思います。」

生徒B：「地震の多い国に住んでいるからこそ、地震によって引き起こされる災害についての知識を得ることや、必要な情報を事前に得ることがとても大切だと思います。」

生徒C：「日本では近年、台風の上陸などによる集中的な豪雨の発生回数が増加傾向にあります。これは河川の治水や利水に大きく影響すると思います。」

生徒D：「集中的な豪雨によって、人々の居住地域にも浸水被害をもたらすことが考えられます。被害の大小は、地形の成り立ちと関係があります。」

ア ハザードマップ



イ 治水地形分類図




ウ 日本のおもな河川の流量の季節変化

掲載許可が得られていませんので、
掲載いたしません。

エ 主要活断層帯

掲載許可が得られていませんので、
掲載いたしません。

	生徒A	生徒B	生徒C	生徒D
1	ウ	ア	エ	イ
2	ウ	イ	ア	エ
3	エ	ア	ウ	イ
4	エ	ウ	イ	ア



3 問題文中の $\boxed{2}$ 、 $\boxed{34}$ などの $\boxed{\quad}$ には、数字又は符号（-）が入ります。次の(1)~(4)の方法でマークしてください。

(1) $\boxed{2}$ 、 $\boxed{3}$ 、 $\boxed{4}$ 、……の一つ一つは、それぞれ1~9、0の数字又は符号（-）のいずれか一つに対応します。それらを $\boxed{2}$ 、 $\boxed{3}$ 、 $\boxed{4}$ 、……で示された解答欄にマークしてください。

例えば、 $\boxed{234}$ に -84 と解答する場合には、次の(例2)のようにマークします。

(例2)

解答番号	解答欄
$\boxed{2}$	① ② ③ ④ ⑤ ⑥ ⑦ ⑧ ⑨ ⑩ ●
$\boxed{3}$	① ② ③ ④ ⑤ ⑥ ⑦ ● ⑨ ⑩ ⊖
$\boxed{4}$	① ② ③ ● ⑤ ⑥ ⑦ ⑧ ⑨ ⑩ ⊖

なお、同一の問題文中に $\boxed{2}$ 、 $\boxed{34}$ などが2度以上現れる場合、原則として、2度目以降は、 $\boxed{2}$ 、 $\boxed{34}$ のように細字で表記します。

(2) 分数形で解答する場合は、符号は分子に付け、分母に付けてはいけません。また、分数は既約分数で答えてください。

例えば、 $\frac{\boxed{56}}{\boxed{7}}$ に $-\frac{4}{5}$ と解答する場合には、 $\frac{-4}{5}$ として、次の(例3)のように

マークします。

(例3)

解答番号	解答欄
$\boxed{5}$	① ② ③ ④ ⑤ ⑥ ⑦ ⑧ ⑨ ⑩ ●
$\boxed{6}$	① ② ③ ● ⑤ ⑥ ⑦ ⑧ ⑨ ⑩ ⊖
$\boxed{7}$	① ② ③ ④ ● ⑥ ⑦ ⑧ ⑨ ⑩ ⊖

(3) 小数の形で解答する場合は、特に指示されていなければ、指定された桁数の一つ下の桁を四捨五入して答えてください。また、必要に応じて、指定された桁まで⑩にマークしてください。

例えば、 $\boxed{8.910}$ に 2.6 と解答する場合には、2.60 として答えてください。

(4) 根号を含む形で解答する場合は、根号の中に現れる自然数が最小となる形で答えてください。

4 「ただし、選んだ数字の小さい順にマークすること。解答番号は $\boxed{11}$ 、 $\boxed{12}$ 、 $\boxed{13}$ 。」と表示のある間に対して、 $\mathbf{2}$ と $\mathbf{5}$ と $\mathbf{8}$ と解答する場合には、次の(例4)のように「 $\mathbf{2}$ 、 $\mathbf{5}$ 、 $\mathbf{8}$ 」の順にマークします。

このとき、「 $\mathbf{2}$ 、 $\mathbf{5}$ 、 $\mathbf{8}$ 」以外の「 $\mathbf{5}$ 、 $\mathbf{2}$ 、 $\mathbf{8}$ 」や「 $\mathbf{8}$ 、 $\mathbf{2}$ 、 $\mathbf{5}$ 」などの順にマークした場合には、不正解となります。

(例4)

解答番号	解答欄
$\boxed{11}$	① ● ③ ④ ⑤ ⑥ ⑦ ⑧ ⑨ ⑩ ⊖
$\boxed{12}$	① ② ③ ④ ● ⑥ ⑦ ⑧ ⑨ ⑩ ⊖
$\boxed{13}$	① ② ③ ④ ⑤ ⑥ ⑦ ● ⑨ ⑩ ⊖

2 (3採用) 【 中・高等学校共通 地理歴史 】

問題番号		解答番号	正答1	正答2	正答3	配点	備考
大問番号	小問番号						
1	問1	1	0			4	
	問2	2	3			4	
	問3	3	4			4	
	問4	4	5			4	
2	問1	5	3			4	
	問2	6	3			4	
	問3	7	4			4	
	問4	8	3			4	
3	問1	9	1			4	
	問2	10	2			4	
	問3	11	4			4	
	問4	12	3			4	
4	問1	13	2			2	
	問2	14	3			2	
A1	問1	15	5			4	
	問2	A	16	2		3	16が不正解の場合 採点しない。
		B	17	6		3	
	問3	A	18	3		3	
		B	19	1		3	
A2	問1	A	20	3		3	
		B	21	1		3	
	問2	22	6		4		
	問3	23	1		4		
A3	問1	A	24	3		3	24が不正解の場合 採点しない。
		B	25	1		3	
	問2	A	26	4		3	
		B	27	2		3	26が不正解の場合 採点しない。
A4	問	28	4		6		
B1	問1	ア	29	7		1	
		イ	30	1		1	
		ウ	31	9		1	
		エ	32	6		1	
	問2	33	4		4		
	問3	34	3		3		
	問4	35	8		5		
B2	問1	36	3		4		
	問2	37	4		4		
	問3	38	1		4		
B3	問1	39	5		5		
	問2	40	5		5		
	問3	41	2		4		
B4	問	42	3		6		
C1	問1	(1)	43	6		4	
			44	4		4	
	問2	(2)	45	3		4	
			46	2		4	
C2	問1	47	9		4		
	問2	48	5		4		
	問3	49	3		5		
	問4	50	4		4		
C3	問	(1)	51	4		5	
		(2)	52	6		4	
C4	問	53	3		6		