

高等学校 地理歴史（世界史）

解答についての注意点

- 1 解答用紙は、マーク式解答用紙と記述式解答用紙の2種類があります。
- 2 大問 **1**～大問 **4** については、マーク式解答用紙に、大問 **5** については、記述式解答用紙に記入してください。
- 3 解答用紙が配付されたら、まずマーク式解答用紙に受験番号等を記入し、受験番号に対応する数字を、鉛筆で黒くぬりつぶしてください。
記述式解答用紙は、全ての用紙の上部に受験番号のみを記入してください。
- 4 大問 **1**～大問 **4** の解答は、選択肢のうちから、**問題で指示された解答番号**の欄にある数字のうち一つを黒くぬりつぶしてください。
例えば、「解答番号は 」と表示のある問題に対して、「**3**」と解答する場合は、解答番号 の欄に並んでいる ① ② ③ ④ ⑤ の中の ③ を黒くぬりつぶしてください。
- 5 間違ってぬりつぶしたときは、消しゴムできれいに消してください。二つ以上ぬりつぶされている場合は、その解答は無効となります。
- 6 その他、係員が注意したことをよく守ってください。

指示があるまで中をあけてはいけません。

1 日本史について、次の各問いに答えよ。

問1 次の(1)～(5)の問いに答えよ。

(1) 紀元前後から、日本のようすは中国の歴史書によって知ることができる。

次のA～Eのうち、正しいものを○、誤っているものを×とした場合、正しい組合せはどれか、次の1～5から一つ選べ。解答番号は

A 『漢書』地理志には、紀元前1世紀に、日本は倭とよばれ、100あまりの小国に分裂しており、その小国の一部が朝鮮半島の楽浪郡と定期的に通交していたことが記載されている。

B 『後漢書』東夷伝には、57年に倭の奴国の王が後漢に使者を送り、光武帝から印綬を授けられたことが記載されている。

C 『魏志』倭人伝には、卑弥呼が使者を帯方郡に派遣し、朝貢することを求めたところ、魏は卑弥呼に対し、「親魏倭王」の称号と金印紫綬・銅鏡100枚などを授けたことが記載されている。

D 『宋書』倭国伝には、日本の使者が中国に「日出処の天子書を日没する処の天子に致す」の国書を携えて行ったが、中国の皇帝の不興を買ったことが記載されている。

E 『隋書』倭国伝には、倭王武が朝貢したことなど、5人の倭王の名が記載されている。

	A	B	C	D	E
1	×	○	×	○	×
2	○	×	○	○	○
3	○	×	×	○	○
4	×	○	○	×	×
5	○	○	○	×	×

(2) 奈良時代には、仏教は国家の保護を受けてさらに発展した。

この頃の仏教の展開について次の文を読み、 に当てはまる人物名を次の1～5から一つ選べ。解答番号は

奈良時代には、鎮護国家思想が重んじられ、中央には東大寺・西大寺などの官寺が、地方にも国家的事業として国分寺・国分尼寺が造営された。仏教は豪族を通じて民衆にも広がり、 のように、道路や橋の建設など土木事業や救済施設を作るなどの社会事業を通じて民衆布教に努める者もあった。

- 1 行基
- 2 鑑真
- 3 義淵
- 4 空也
- 5 最澄

(3) 9世紀末頃から、中央政府は一定額の租税納入を国司に請け負わせることで、国司に国内支配の全権をまかせる体制へと転換していった。国司の中には、巨利を得ようとする強欲なものもあり、郡司や有力農民からしばしば暴政を訴えられた。

次の史料は、その暴政を郡司や有力農民が太政官に訴えたものである。史料中の に入る人物名を次の1～5から一つ選べ。解答番号は

- 1 良房
- 2 兼家
- 3 時平
- 4 元命
- 5 冬嗣

史料

尾張国郡司百姓等解し申し請ふ官裁の事。
裁断せられむことを請ふ、当国の守
藤原朝臣 、三箇年の内に責め取
る非法の官物并せて濫行横法三十一
箇条の 愁状

(4) 江戸時代において、大量の物資を安価に運ぶためには陸路より海上交通が適していた。

このころの物資の輸送について、次の文を読み、(A) ~ (C) に当てはまる語句・人名の組合せとして正しいものを次の 1 ~ 5 から一つ選べ。解答番号は

17世紀前半に、(A) など大型の帆船を用いて、大坂から江戸へ多様な商品を運送し始めた。17世紀後半になると、江戸の商人 (B) が出羽酒田を起点とし、江戸に至る東廻り海運・西廻り海運のルートを整備し、その途中には、各地で港町が発達した。

また、18世紀前半になると、大坂・江戸間では酒をおもな積荷とした (C) が新たに運航を始めた。

	A	B	C
1	北前船	角倉了以	菱垣廻船
2	樽廻船	河村瑞賢	北前船
3	菱垣廻船	河村瑞賢	樽廻船
4	樽廻船	角倉了以	北前船
5	菱垣廻船	三井高利	樽廻船

(5) 外国船の接近が、鎖国政策を続ける江戸幕府に大きな影響を与えることとなった。

18世紀後半から19世紀初め頃の日本とロシアの動きについて、説明した次のア~エの文を年代の古い順に並べたとき、適当なものを一つ選べ。解答番号は

ア 幕府は近藤重蔵らを択捉島に派遣し、「大日本恵登呂府」の木標を立てさせた。

イ 松前藩に対する武力闘争としてクナシリ・メナシ地方でアイヌの蜂起が起こった。

ウ ラクスマンが根室に到着し、漂流民を届けるとともに通商を求めた。

エ レザノフがロシア皇帝アレクサンドル1世の親書を携えて長崎に来航した。

- 1 イ → エ → ウ → ア
- 2 ウ → イ → エ → ア
- 3 ア → イ → エ → ウ
- 4 イ → ウ → ア → エ
- 5 ウ → ア → エ → イ

問2 次の(1)・(2)の問いに答えよ。

(1) 1872(明治5)年、群馬県に官営模範工場として、富岡製糸場が設けられた。この富岡製糸場について、調べようとしたSさんは、史料A「上州富岡製糸場之図」と富岡製糸場の工女であった和田英の記した史料B「富岡日記」を入手し、富岡製糸場についてわかったことを簡条書きにした。

この簡条書きの文(ア～エ)のうち、正しいものを○、誤っているものを×とした場合、正しい組合せはどれか、次の1～5から一つ選べ。解答番号は

史料A「上州富岡製糸場之図」



史料B「富岡日記」

私の父は信州^{まつしろ}松代の旧藩士の一人でありまして、横田数馬と申しました。明治六年頃は松代の区長を致して居りました。それで信州新聞にも出て居りました通り、信州は養蚕が最も盛んな国であるから、一区につき何人（たしか一区につき十六人）十三歳より二十五歳までの女子を富岡製糸場へ出すべしと申す県庁からの達しがありましたが、^{ひとみこくう}人身御供にでも上るように思いまして一人も応じる人はありません。父も心配致しまして、段々人民にすすめますが、何の効もありません。やはり血をとられるのあぶらをしぼられるのと大評判になりまして、中には「区長の所に丁度年頃の娘が有るに出さぬのが何よりの証拠だ」と申すようになりました。それで父も決心致しまして、私を出すことに致しました。

私も兼ねて親類の娘が東京へメリヤスを製しますことを習いに行きました時、私も行きたいと申しましたが、私より下に四人の弟妹がありまして、中々忙しゅうありましたから許しません。残念に思って居りましたところでありましたから、大喜びで、一人でも^{よろ}宜しいから行きたいと申しました。母はその時末の弟を妊娠して居りました（後で承知致しました）。さぞ迷惑であったろうと後になりましてから思いました。しかし父がそのように申しますから何とも申しません。第一許さぬと申しはせぬかと心配致しました。祖父は大喜びで申しますには、「たとい女子たりとも、天下の御為になることなら参るが宜しい。入場致し候上は諸事心を用い、人後にならぬよう精々励みまするよう」と申されました時の私の喜びは、とても筆には尽されません。

- ア 血をとりあぶらをしぼるとのうわさから、開業当初は工女を募集しても応じるものがいなかった。
イ 和田英のように工女の多くは、強制的に集められた貧農の子女であった。
ウ 史料Aは生糸を生産する工場を表したものであるが、建物の中央に柱のない大空間があった。
エ 史料Aの建物は、木の骨組みにレンガで壁を積み上げて造る建築方法で建てられた。

	ア	イ	ウ	エ
1	○	×	○	○
2	×	×	○	○
3	○	○	×	○
4	○	○	○	×
5	×	×	×	×

(2) 下の資料は、昭和初期に起きた、ある事件に関する新聞記事（『東京朝日新聞』）である。

この記事で報道されている「当時の首相が暗殺された事件」の後、1945年8月の終戦に至るまでの期間におこった次の1～5の出来事を、年代の古い順に並べたとき、古い順から3番目に当たるものを一つ選べ。解答番号は

資料



- 1 日本とソ連との間では、満州国とモンゴル人民共和国の国境ノモンハン付近で日ソ両軍の大規模な武力衝突事件がおき、日本軍はソ連軍の戦車部隊との戦闘で多くの死者を出した。
- 2 斎藤実内閣が日満議定書を結んで満州国を承認した。議定書には「住民の意思に基づきて自由に成立し」と記されているが、満州国は関東軍の無条件駐留を認め、人事権を日本がにぎるなど、事実上日本の傀儡国家であった。
- 3 近衛文麿が首相に就任し、その近衛内閣が成立した直後に北京郊外の盧溝橋付近で日中両軍が衝突する盧溝橋事件が起きた。
- 4 近衛文麿は枢密院議長を退いて、新体制運動の先頭に立った。これは強力な大衆組織を基盤とする一大指導政党を樹立し、既成の政党政治を打破して一元的な指導のもとで全国民の戦争協力への動員をめざす革新運動であった。
- 5 北一輝の思想的影響を受けていた皇道派の一部青年将校たちが、約1400名の兵を率いて首相官邸・警視庁などを襲い、内大臣・蔵相・教育総監などを殺害し、国会を含む国政の中枢を4日間にわたって占拠した。

問3 次の年表を見て、(1)～(3)の問いに答えよ。

年	主なできごと
1989年	元号が、「平成」に改められた
1992年… A	①国連平和維持活動等協力が成立
1993年	55年体制の崩壊
1995年	阪神・淡路大震災復興の基本方針及び組織に関する法律が成立
1997年… B	財政構造改革の推進に関する特別措置法が成立
1999年… C	②新ガイドライン関連法が成立
2001年	中央省庁再編
2005年	③郵政民営化法が成立
2006年… D	④教育基本法を改正
2011年… E	東日本大震災復興基本法が成立
2015年	⑤公職選挙法を改正
2016年	<input type="text"/> 開催

(1) 下の写真は、NHKで放映された新元号「平成」が発表された場面である。写真の人物は内閣官房長官としてこれを発表した。後には内閣総理大臣となった。この人物が内閣総理大臣在任中におこったことは、年表中の①～⑤のうちどれか、次の1～5から一つ選べ。解答番号は

著作権保護の観点により、
本作品を掲載いたしません。

出典：NHK 政治マガジン
<https://www.nhk.or.jp/politics/wp-content/uploads/2019/03/0320obuti01.jpg>

1 ① 2 ② 3 ③ 4 ④ 5 ⑤

(2) 消費者に広く公平に負担を求める間接税である消費税が3%から5%に引き上げられた年は、年表中のA～Eのうちどれか、次の1～5から一つ選べ。解答番号は

1 A 2 B 3 C 4 D 5 E

(3) 年表中の には日本で開催された国際会議が入る。この国際会議名を次の1～5から一つ選べ。解答番号は

1 APEC大阪会議 2 G8北海道洞爺湖サミット 3 G20大阪サミット
 4 G8九州・沖縄サミット 5 G7伊勢志摩サミット

2 地理に関する次の(1)～(10)の問いに答えよ。

(1) 下のA～Cのグラフは、日本のある都市の月別気温と月別降水量を示したものである。次の1～5のうち、瀬戸内気候の説明として正しいものはどれか。1～5から一つ選べ。

解答番号は

著作権保護の観点により、本作品を掲載いたしません。

出典：『日本国勢図会』2019/2020版
公益財団法人 矢野恒太記念会
33ページ

(『日本国勢図会』2019/20年版により作成)

- 1 Aの気候は、季節風の影響で季節によっては雨が多い時や、乾燥して晴れの日も多い。
- 2 Bの気候は、夏は晴天が多く、気温も高くなる。冬は湿気を含む季節風により、降水量が多くなる。
- 3 Bの気候は、夏は降水量が多い。冬は季節風が山脈を吹き超えて乾燥し、降水量が少ない。
- 4 Cの気候は、年間を通じて降水量が少なく、明瞭な梅雨の現象も見られない。
- 5 Cの気候は、山地が季節風をさえぎり、通年で晴れる日が多く降水量が少ない。

(2) 下の表1は、都道府県別に2015(平成27)年の人口密度、工業出荷額、小売業販売額を多い順に示したものである。表1中のA～Eは愛知・大阪・神奈川・千葉・兵庫のいずれかである。愛知に該当するものはどれか。1～5から一つ選べ。解答番号は

表 1

人口密度	東京 20.0%	A 15.0%	B 12.2%	埼玉 6.2%	C 4.6%	D 3.9%	福岡 3.3%	E 2.1%	沖縄 2.0%
工業出荷額	C 14.7%	B 5.6%	A 5.4%	静岡 5.2%	E 4.9%	埼玉 4.1%	D 4.0%	茨城 3.8%	三重 3.5%
小売業販売額	東京 13.8%	A 7.1%	B 6.4%	C 6.1%	埼玉 5.0%	北海道 4.6%	D 4.4%	福岡 4.1%	E 4.0%

(『日本国勢図会』2017/18年版、2018/19年版により作成)

- 1 A 2 B 3 C 4 D 5 E

(3) 次の1～5は、経済産業省が認めている日本の伝統工芸品の一部である。関東地方の伝統工芸品として誤っているものはどれか。1～5から一つ選べ。解答番号は

1

著作権保護の観点により、
本作品を掲載いたしません。

出典：伝統工芸 青山スクエア HP
<https://kougeihin.jp/craft/0610/>

品目名：箱根寄木細工

2

著作権保護の観点により、
本作品を掲載いたしません。

出典：伝統工芸 青山スクエア HP
https://kougeihin.jp/assets/cache/images/resized_p1414411_w154_h116.jpg

品目名：江戸切子

3

著作権保護の観点により、
本作品を掲載いたしません。

出典：伝統工芸 青山スクエア HP
<https://kougeihin.jp/craft/1402/>

品目名：房州うちわ

4

著作権保護の観点により、
本作品を掲載いたしません。

出典：伝統工芸 青山スクエア HP
からのリンク 木竹工芸品産地一覧
<https://www.pinterest.jp/pin/335447872222138491/>

品目名：都城大弓

5

著作権保護の観点により、
本作品を掲載いたしません。

出典：伝統工芸 青山スクエア HP
https://www.kanto.meti.go.jp/seisaku/creative/20191120dentou_kougeihin_shitei.html
※「行田足袋」の写真

品目名：行田足袋

(経済産業省の資料により作成)

(4) 下の表2は、1960（昭和35）年、2000（平成12）年、2017（平成29）年それぞれにおける日本の主要な農産物の食料自給率と、2017年における日本の主要な農産物の輸入額が多い上位3か国の割合を示したものである。品目A～Dの正しい組合せはどれか。1～5から一つ選べ。

解答番号は

表 2

品目	日本の自給率（%）			2017年の日本の輸入額に占める割合（%）		
	1960年	2000年	2017年	1位	2位	3位
A	28	5	7	アメリカ合衆国 71.6	ブラジル 13.8	カナダ 13.0
B	39	11	14	アメリカ合衆国 50.4	カナダ 30.7	オーストラリア 17.5
C	100	44	39	アメリカ合衆国 21.8	フィリピン 18.8	中国 15.2
D	91	52	52	アメリカ合衆国 27.6	タイ 14.3	オーストラリア 14.0

（『日本国勢図会』2018／19年版、2019／20年版により作成）

	A	B	C	D
1	小麦	大豆	果実	肉類
2	果実	小麦	肉類	大豆
3	大豆	小麦	肉類	果実
4	肉類	大豆	果実	小麦
5	大豆	小麦	果実	肉類

(5) 下の図1は南極点、図2は北極点の正方位図である。図1と図2それぞれにおいて、中心から見て日本が位置する方向を示した正しい組合せはどれか。1～5から一つ選べ。

解答番号は

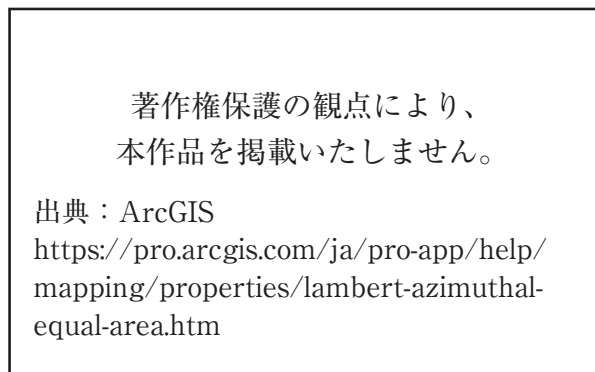


図 1

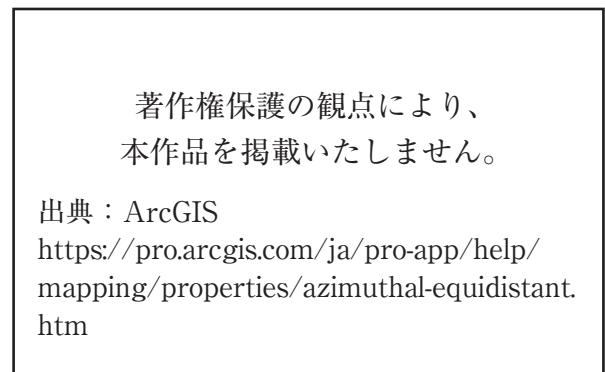


図 2

- 1 AとE 2 BとF 3 CとD 4 AとD 5 CとE

(6) 次の1～5は、世界遺産をそれぞれ示したものである。その世界遺産の位置する緯度が、日本の位置する緯度の範囲に含まれるものとして正しいものはどれか。1～5から一つ選べ。

解答番号は

1

著作権保護の観点により、
本作品を掲載いたしません。

出典：UNESCO HP
<https://whc.unesco.org/en/list/252>

タージ・マハル

2

著作権保護の観点により、
本作品を掲載いたしません。

出典：UNESCO HP
https://whc.unesco.org/uploads/thumbs/site_0031_0025-500-310-20151207171908.jpg

アウシュヴィッツ・ビルケナウ ナチス
ドイツの強制絶滅収容所 (1940-1945)

3

著作権保護の観点により、
本作品を掲載いたしません。

出典：UNESCO HP
https://whc.unesco.org/uploads/thumbs/site_0292_0029-500-436-20151105100703.jpg

ケルン大聖堂

4

著作権保護の観点により、
本作品を掲載いたしません。

出典：UNESCO HP
https://whc.unesco.org/uploads/thumbs/site_0080_0050-500-332-20151104130651.jpg

モンサンミッシェルとその湾

5

著作権保護の観点により、
本作品を掲載いたしません。

出典：ACCU 奈良事務所 HP
<http://www.nara.accu.or.jp/news/heritage/heritage/angkor/1.jpg>

アンコール

(国際連合教育科学文化機関 (ユネスコ) の資料により作成)

(7) 次の1～5は、2016年におけるイギリス・インド・サウジアラビア・スイス・中国の5か国の輸出額と輸入額に占める上位4品目の割合をそれぞれ示したものである。インドに該当するものはどれか。1～5から一つ選べ。解答番号は

1

輸出	%	輸入	%
金(非貨幣用)	27.0	金(非貨幣用)	31.6
医薬品	23.6	機械類	11.5
機械類	11.4	医薬品	9.7
精密機械	9.4	自動車	5.3

2

輸出	%	輸入	%
石油製品	10.5	機械類	19.2
ダイヤモンド	9.2	原油	17.1
機械類	8.7	金(非貨幣用)	6.4
衣類	6.9	ダイヤモンド	5.3

3

輸出	%	輸入	%
原油	65.6	機械類	24.7
石油製品	11.4	自動車	13.7
プラスチック	6.8	鉄鋼	4.2
有機化合物	3.7	医薬品	3.8

4

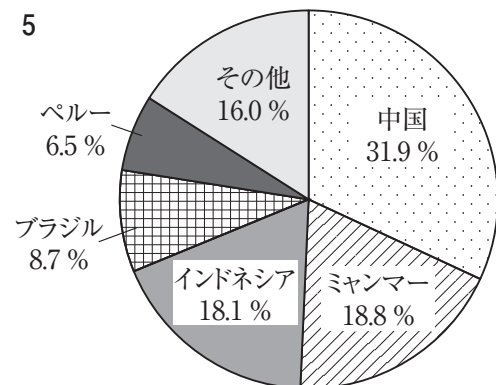
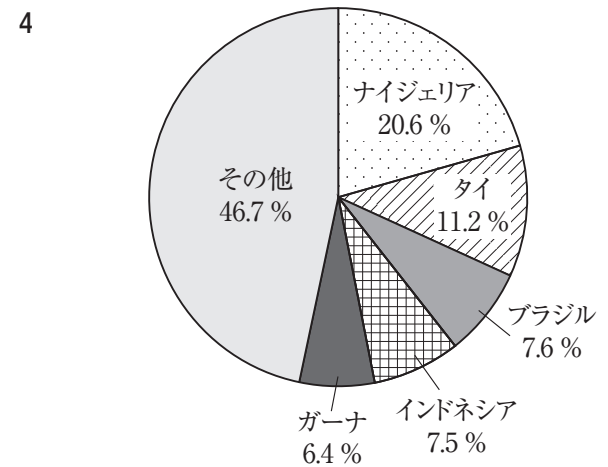
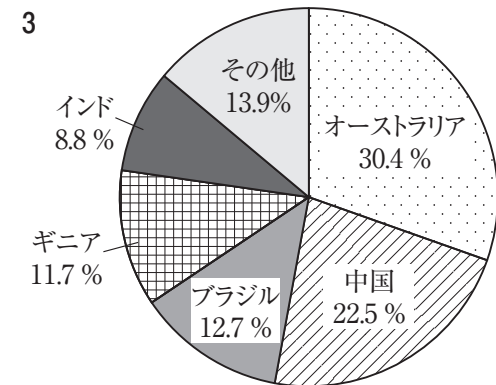
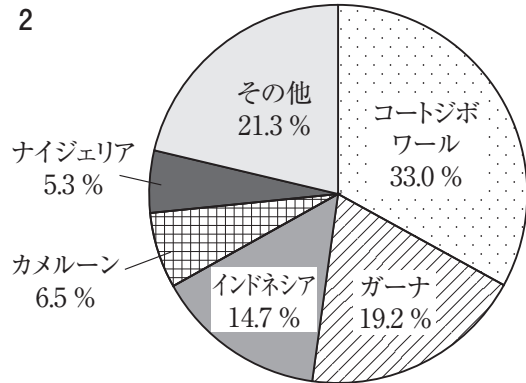
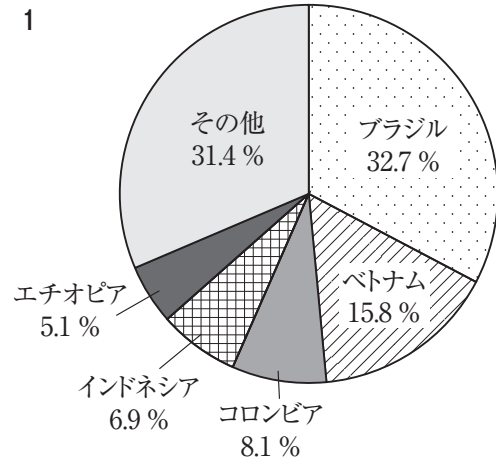
輸出	%	輸入	%
機械類	42.6	機械類	35.3
衣類	7.5	原油	7.3
繊維品	5.0	精密機械	5.5
金属製品	3.7	自動車	4.5

5

輸出	%	輸入	%
機械類	21.4	機械類	20.8
自動車	12.1	自動車	11.5
医薬品	8.1	金(非貨幣用)	9.2
航空機	5.0	医薬品	5.3

(『世界国勢図会』2018/19年版により作成)

(8) 次の1～5は、身近な製品の原材料となるカカオ豆、キャッサバ、コーヒー豆、すず鉱、ボーキサイトの2016年におけるそれぞれの原材料の総生産量に占める各国の生産量の割合のうち、生産量の割合の多い上位5か国を示したものである。キャッサバに該当するものはどれか。1～5から一つ選べ。解答番号は



(『世界国勢図会』2018/19年版、2019/20年版により作成)

(9) 下の図3は、アメリカ合衆国の行政区分を示したものである。図3中のA～Dで示す州の位置として正しいものを○、誤っているものを×とした場合、正しい組合せはどれか。1～5から一つ選べ。解答番号は

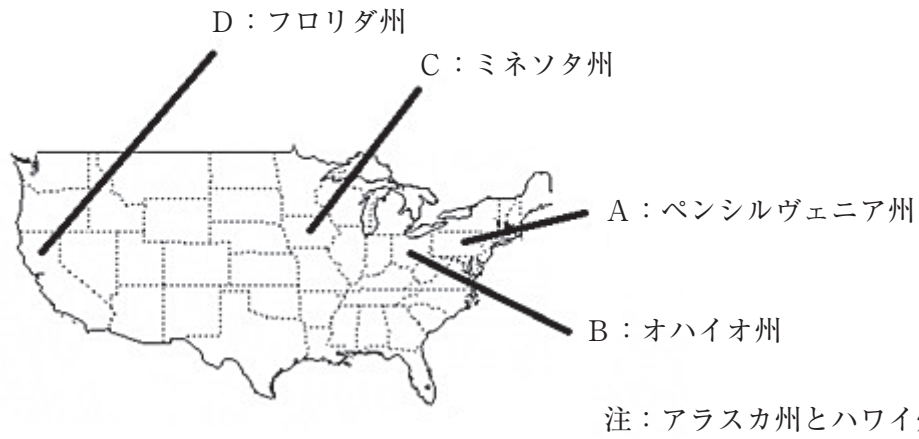


図 3

	A	B	C	D
1	○	×	○	○
2	○	○	×	×
3	×	×	×	○
4	×	○	×	×
5	×	○	○	×

(10) 下の表3は、2016年における金、銀、銅の生産が多い上位3か国の割合を示したものである。
 表3中のAに該当する国の国土の形と首都名はどれか。1～5から一つ選べ。解答番号は

表 3

金	A 14.5%	オーストラリア 9.3%	ロシア 8.1%
銀	メキシコ 21.4%	ペルー 15.3%	A 12.3%
銅	チリ 30.2%	A 9.0%	ペルー 8.9%

(『世界国勢図会』2019/20年版により作成)

1



首都：ペキン(北京)

2



首都：ニューデリー

3



首都：オタワ

4



首都：プレトリア

5



首都：ブラジリア

注：国土の大きさについて、縮尺は共通ではない。

3 次の日本国憲法の前文と条文の一部を読み、次の問いに答えよ。

前文

日本国民は、恒久の平和を念願し、人間相互の関係を支配する崇高な理想を深く自覚するのであつて、平和を愛する諸国民の公正と信義に信頼して、われらの安全と^(a)生存を保持しようと決意した。われらは、平和を維持し、(A)と隷従、(B)と偏狭を地上から永遠に除去しようと努めてゐる^(b)国際社会において、名誉ある地位を占めたいと思ふ。われらは、全世界の国民が、ひとしく恐怖と(C)から免かれ、平和のうちに生存する権利を有することを確認する。

われらは、いづれの^(c)国家も、^(d)自国のことのみ^(e)に専念して他国を無視してはならないのであつて、^(e)政治道徳の法則は、普遍的なものであり、この法則に従ふことは、自国の^(f)主権を維持し、他国と対等関係に立たうとする各国の責務であると信ずる。

第九条

日本国民は、正義と秩序を基調とする^(g)国際平和を誠実に希求し、国権の発動たる^(h)戦争と、武力による威嚇又は武力の行使は、⁽ⁱ⁾国際紛争を解決する手段としては、永久にこれを放棄する。

(1) 前文中の(A)～(C)にあてはまる語句の組合せとして正しいものを、次の1～5から一つ選べ。解答番号は

- | | | | |
|---|------|------|------|
| 1 | A 専制 | B 抑圧 | C 困窮 |
| 2 | A 独裁 | B 圧迫 | C 困窮 |
| 3 | A 専制 | B 圧迫 | C 欠乏 |
| 4 | A 独裁 | B 抑圧 | C 欠乏 |
| 5 | A 専制 | B 抑圧 | C 欠乏 |

(2) 前文中の下線部(a)に関連して、日本の社会保障について述べた次の文章のうち、正しいものを、次の1～5から一つ選べ。解答番号は

- 1 公的年金制度は、自分が積み立てた保険料が将来年金として戻ってくる「積立方式」をとっている。
- 2 介護保険に加入するのは40歳以上の人であり、保険料は所得水準に応じて決まる。
- 3 地域保健法に規定されている保健事業は、都道府県や政令指定都市、中核市等を単位として設置される「保健センター」と市町村を単位に設置される「保健所」を中心に行われている。
- 4 雇用保険制度は、任意の保険制度であり、労働者を一人でも雇用する事業主は加入することができる。
- 5 1938年、国民健康保険法の制定により、国民すべてが公的な医療保険に加入する「国民皆保険」制度が実現した。

(3) 前文中の下線部(b)に関連して、地球環境に関する取組みについての記述として誤っているものを、次の1～5から一つ選べ。解答番号は

- 1 フランスのパリで開催された第21回国連気候変動枠組条約締約国会議（COP21）において、2020年以降の温室効果ガス排出削減等のための新たな国際枠組みとして、パリ協定が採択された。
- 2 1992年、国連環境開発会議において採択された「人間環境宣言」および「環境国際行動計画」を実施に移すための機関として、国連環境計画（UNEP）が設立された。
- 3 「特に水鳥の生息地として国際的に重要な湿地に関する条約（ラムサール条約）」は各締約国がその領域内にある国際的に重要な湿地を1ヶ所以上指定し、条約事務局に登録するとともに、湿地の保全及び賢明な利用促進のために各締約国がとるべき措置等について規定している。
- 4 「生物の多様性に関する条約（生物多様性条約）」は、個別の野生生物種や、特定地域の生態系に限らず、生物の多様性の包括的な保全を目指す国際条約として、1993年に発効した。
- 5 「水銀に関する水俣条約」は、水銀が人の健康や環境に与えるリスクを低減するための包括的な規制を定める条約で、日本は2016年に条約を締結した。

(4) 前文中の下線部(c)に関連して、「主権」は「国家の三要素」の一つとされている。「国家の三要素」の残る二つの組合せとして正しいものを、次の1～5から一つ選べ。解答番号は

- | | | |
|---|----|----|
| 1 | 国民 | 領域 |
| 2 | 憲法 | 領域 |
| 3 | 憲法 | 国民 |
| 4 | 領域 | 元首 |
| 5 | 国民 | 元首 |

(5) 前文中の下線部(d)に関連して、次の表は2018年に日本が実施した二国間政府開発援助の供与相手国（支出純額ベース）の上位5か国と、それぞれの国の年齢別人口構成をあらわしたものである。表中のA～Cに当てはまる国の組合せとして正しいものを、下の1～5から一つ選べ。

解答番号は

国名	政府開発援助合計 (単位は百万ドル)	年齢別人口 (%)		
		0～14歳	15歳～64歳	65歳以上
A	1375.4	30.9	63.6	5.5
バングラディシュ	1179.3	30.8	64.6	4.6
ミャンマー	536.9	28.0	66.0	6.0
B	474.2	40.2	56.6	3.2
C	203.8	23.8	68.2	8.0

(『2019年版 開発協力白書』ならびに『世界国勢図会 2019/20年版』による)

- | | | | |
|---|----------|----------|--------|
| 1 | A インドネシア | B ベトナム | C インド |
| 2 | A インド | B インドネシア | C 中国 |
| 3 | A 中国 | B インド | C イラク |
| 4 | A インド | B イラク | C ベトナム |
| 5 | A インドネシア | B インド | C 中国 |

(6) 前文中の下線部(e)に関連して、現在の各国の政治制度について述べたものとして、正しいものを○、誤っているものを×とした場合、正しい組合せはどれか。次の1～5から一つ選べ。

解答番号は

ア フランスの大統領は間接選挙によって選出される。大統領は首相を任命し、首相の提案に基づいて、政府の他の構成員を任命する。

イ イギリスの議会は上院（貴族院）及び下院（庶民院）からなる二院制であり、両院の議員は小選挙区制による直接選挙で選出される。

ウ アメリカの大統領は連邦議会の解散権をもつが、法案の拒否権はもたない。

エ ベトナムは社会主義共和制をとっており、唯一の合法政党である共産党の単独独裁制である。

- | | ア | イ | ウ | エ |
|---|---|---|---|---|
| 1 | ○ | ○ | × | ○ |
| 2 | ○ | × | ○ | × |
| 3 | × | × | ○ | × |
| 4 | × | ○ | × | ○ |
| 5 | × | × | × | ○ |

(7) 前文中の下線部(f)について、主権の概念を提唱した思想家とその著書の組合せとして正しいものを、次の1～5から一つ選べ。解答番号は

- 1 ホッブズ『法の精神』
- 2 グロティウス『リヴァイアサン』
- 3 ボダン『国家論』
- 4 ルソー『市民政府二論』
- 5 モンテスキュー『社会契約論』

(8) 条文中の下線部(g)に関連して、国連安全保障理事会について述べた次の文章のうち、誤っているものを、次の1～5から一つ選べ。解答番号は

- 1 安全保障理事会は、常任理事国5か国と、総会で選出される非常任理事国10か国の15か国で構成される。
- 2 非常任理事国は任期4年で、全加盟国による公開投票により選出され、連続して任期を務めることが認められていない。
- 3 安全保障理事会の決定について、手続事項を除くすべての事項に関する決定は、常任理事国の1か国の反対があった場合には成立しない。
- 4 全ての国連加盟国は、安全保障理事会の決定を国連憲章に従って受諾しかつ履行することに同意している。
- 5 日本は、2015年10月に行われた安全保障理事会非常任理事国選挙において、加盟国最多となる11回目の当選を果たした。

(9) 条文中の下線部(h)に関連して、兵器の開発や保持などを制限または禁止する条約についての記述として誤っているものを、次の1～5から一つ選べ。解答番号は

- 1 化学兵器禁止条約は、サリンなどの化学兵器の開発、生産、保有などを包括的に禁止し、締結国が保有している化学兵器を一定期間内に全廃することを定めている。
- 2 核拡散防止条約はアメリカ、ロシア、イギリス、フランス、中国の5か国を「核兵器国」と定め、「核兵器国」以外への核兵器の拡散を防止すると規定されている。
- 3 包括的核実験禁止条約は、宇宙空間、大気圏内、水中、地下における核兵器の実験的爆発及び未臨界核実験を含む一切の核実験を禁止している。
- 4 世界最初の非核兵器地帯条約であるトラテロルコ条約は、中南米33か国が対象で、全ての国が締結国となっている。
- 5 対人地雷禁止条約は、基本的に対人地雷の使用、貯蔵、生産、移譲などを全面的に禁止するとともに、地雷除去、被害者支援についての国際協力・援助等を規定している。

(10) 条文中の下線部(i)に関連して、国連平和維持活動(PKO)に関する記述として正しいものを○、誤っているものを×とした場合、正しい組合せを下の1～5から一つ選べ。

解答番号は

- ア 日本は「国際連合平和維持活動等に対する協力に関する法律」の成立をうけ、この法律に基づく初めての要員派遣として、1992年第2次国連アンゴラ監視団に選挙監視要員を派遣した。
- イ 世界で初めてのPKOは、第一次中東戦争の休戦監視を目的として設立された国連休戦監視機構である。
- ウ PKOは国連憲章に明文規定があり、主要な紛争当事者の受入れ同意、不偏性、自衛及び任務の防衛以外の実力の不行使の三つの基本原則のもと、活動を実施している。
- エ PKOは、国連加盟国が義務で派遣する要員と、任意で拠出するPKO分担金により活動を実施している。

	ア	イ	ウ	エ
1	○	×	○	×
2	×	×	○	○
3	○	○	×	○
4	×	○	×	○
5	○	○	×	×

4 次の(1)～(10)の問いに答えよ。

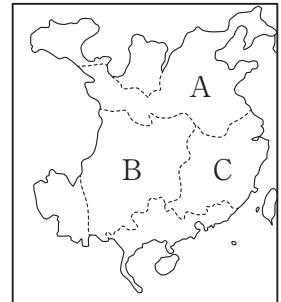
(1)『漢宮秋』は、紀元前1世紀の漢と匈奴を題材とした戯曲である。次の文1～5のうち、『漢宮秋』で描かれている紀元前1世紀の匈奴について述べたものとして正しいものを一つ選べ。

解答番号は

- 1 冒頓単于のもとで全盛期を迎え、漢の高祖との戦いに勝利した。
- 2 漢の武帝によって大月氏に派遣された張騫を捕らえた。
- 3 東西に分裂し、西匈奴は漢に滅ぼされた。
- 4 南北に分裂し、北匈奴の一部は西方へ移動した。
- 5 五胡の一つとして勢力をのぼし、洛陽を攻略した。

(2)『三国志演義』は、中国における三国時代を題材とした物語である。次の文1～5のうち、三国時代について述べたものとして誤っているものを一つ選べ。解答番号は

- 1 A王朝は曹操の子曹丕が樹立した。
- 2 A王朝の都は洛陽に置かれた。
- 3 B王朝は劉備が、C王朝は孫権がそれぞれ樹立した。
- 4 A王朝は九品官人法や屯田制を採用した。
- 5 A王朝ではC王朝を滅ぼした後、司馬炎が実権を握り、晋王朝となった。



(3)『アーサー王物語』は古代ヨーロッパに広く住んでいた民族の伝説を題材とした物語である。アルプス以北のヨーロッパやイギリスなどに居住していたこの民族を次の1～5から一つ選べ。

解答番号は

- 1 ケルト
- 2 ゴート
- 3 アヴァール
- 4 ヴァンダル
- 5 ブルグンド

(4) 『ローランの歌』は、フランク王国のカール大帝と騎士たちを描いた物語である。カール大帝について述べた文を次のA～Gから二つ選び、その組合せとして正しいものを下の1～5から一つ選べ。解答番号は

- A メロヴィング朝の国王でフランク人を統一した。
- B アタナシウス派のキリスト教に改宗し、領土を拡大した。
- C ウマイア朝とトゥール・ポワティエ間で戦い勝利した。
- D ランゴバルト王国と戦い、ラヴェンナ地方を教皇に寄進した。
- E 広大な領地を統一するために各地の豪族などを伯に任じ、巡察使を派遣して監督した。
- F マジャール人を撃退し、北イタリアを制圧した。
- G ラテン語による文芸の復興に努め、アーヘンにアルクインなど多くの学識者を招いた。

- 1 AとC 2 BとD 3 EとG 4 CとE 5 FとG

(5) 『ロミオとジュリエット』は、14世紀の北イタリアの都市ヴェローナにおける皇帝派と教皇派との対立を背景とした物語である。次の文A～Eのうち、正しいものを○、誤っているものを×とした場合、正しい組合せはどれか。下の1～5から一つ選べ。解答番号は

- A 14世紀の北イタリアではヴェネツィア・ミラノ・ジェノヴァなどの都市国家が分立していた。
- B イタリアにおける皇帝派はギベリン、教皇派はゲルフと呼ばれていた。
- C ローマ教皇と神聖ローマ皇帝の聖職叙任権をめぐる対立は、11世紀の十字軍の遠征をきっかけとして始まった。
- D 右の図は、聖職叙任権闘争の結果、ポニファティウス8世がフランス国王フィリップ4世に捕らえられた様子を描いたものである。
- E 聖職叙任権をめぐる対立の結果、15世紀にイタリア戦争が起こった。

	A	B	C	D	E
1	×	×	○	○	×
2	○	○	×	×	×
3	×	○	×	×	○
4	○	○	×	○	×
5	○	×	○	○	○

著作権保護の観点により、
本作品を掲載いたしません。

出典：「世界の歴史3
中世ヨーロッパ」
編者：堀米庸三
中公文庫
163ページ 図

(6) 『ガリヴァー旅行記』は、18世紀のイギリス社会を批判的に描いた物語である。次の文1～5のうち、18世紀のイギリスやアイルランドについて述べたものとして正しいものを一つ選べ。

解答番号は

- 1 ウォルポールのもとで責任内閣制が確立した。
- 2 アイルランドでジャガイモ飢饉が起り、多くの人々が移民としてアメリカ合衆国に渡った。
- 3 議会の承認なき課税を禁止する権利の章典が制定された。
- 4 アジアにおける香辛料貿易を目的として東インド会社が設立された。
- 5 穀物法が廃止され自由貿易政策が実現した。

(7) 次の資料は、小説『最後の授業』の一部である。 に当てはまる地名を下のA群から、この小説で著されたドイツとフランスとの戦争をB群からそれぞれ選び、その組合せとして正しいものを後の1～5から一つ選べ。解答番号は

著作権保護の観点により、本文を掲載いたしません。

出典：「最後の授業」

アルフォンス・ドーデ著（訳：桜田佐） 偕成社

12ページ4行目から7行目まで

（アルフォンス・ドーデ/桜田佐訳『最後の授業』）

〔A群〕

- ア アルザスとロレーヌ
- イ シュレスヴィヒとホルシュタイン
- ウ ヴィシー

〔B群〕

- エ 三十年戦争
- オ 七年戦争
- カ 普仏戦争

- 1 アとエ 2 イとエ 3 ウとカ 4 アとカ 5 イとオ

(8) 『阿Q正伝』は、近代中国の農村社会を描いた小説である。次の文1～5のうち、この小説が著された1920年代の中国の様子を述べたものとして正しいものを一つ選べ。解答番号は

- 1 辛亥革命が始まり南京で中華民国が建国された。
- 2 上海での労働争議をきっかけとして五・三〇運動がひろがった。
- 3 北京大学の学生の抗議デモが五・四運動に発展した。
- 4 科挙が廃止され、憲法大綱が発表された。
- 5 張学良が蒋介石を監禁する西安事件を起こした。

(9) 『西部戦線異状なし』は、第一次世界大戦の西部戦線を描いた小説である。第一次世界大戦に関連する次の文A～Cを起こった順に左から右へ並べた場合、正しいものはどれか。下の1～5から一つ選べ。解答番号は

- A ソンムの戦いで、初めて戦車が投入された。
- B ドイツがベルギーへ侵入し、その後フランスへ侵攻した。
- C マルヌの戦いで、ドイツの侵攻が阻止された。

- 1 A → B → C 2 A → C → B 3 B → C → A
4 B → A → C 5 C → A → B

(10) 『怒りの葡萄』は、1930年代のアメリカ合衆国の社会状況を背景とした小説である。次の文1～5のうち、1930年代のアメリカ合衆国の政策として誤っているものを一つ選べ。
解答番号は

- 1 フーヴァー＝モラトリアムを宣言した。
- 2 農業調整法によって農産物の生産調整と価格の安定をはかった。
- 3 全国産業復興法によって工業製品の価格協定を公認した。
- 4 ドイツの賠償金支払いについてのヤング案を作成した。
- 5 キューバに対する内政干渉をひかえ、善隣外交を展開した。

5 次の(1)～(4)の問いに答えよ。

(1) 次の文を読み、後の①～⑤の問いに答えよ。

著作権保護の観点により、本文を掲載いたしません。

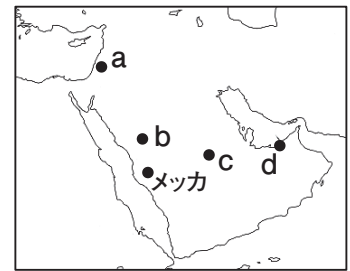
出典：「マホメット」

井筒俊彦著 講談社

100ページ6行目から13行目まで

(井筒俊彦『マホメット』)

- ① (ア)～(ウ)に当てはまる語句を答えよ。
- ② (イ)の現在の位置を右の地図中a～dから選び、記号で答えよ。
- ③ 下線部に関して、この一文が意味する内容を「統一」の語句を用いて簡潔に説明せよ。
- ④ イスラーム教におけるスンナ派とシーア派について、100字以内で説明せよ。
- ⑤ ウマイヤ朝とアッバース朝における人頭税と地租について、課税対象の相違点を簡潔に説明せよ。



(2) イスラーム化がすすんだイベリア半島、西アフリカ、東南アジアについて、次の①～③の問いに答えよ。

- ① 右の写真は、13世紀から15世紀末までイベリア半島南部に存在していたナスル朝によって造営された宮殿である。

ア 写真の宮殿名を答えよ。

イ ナスル朝の首都であり、アの宮殿が所在する都市を答えよ。

- ② 右の写真は、西アフリカ地方の交易の中心地として、マリ王国やソングアイ王国の時代に栄えた交易都市にあるモスクである。

ア ニジェール川の中流にあるこの都市を答えよ。

イ アの都市などで行われていた「沈黙交易」について、具体的な交易品を含む内容で簡潔に説明せよ。

著作権保護の観点により、
本作品を掲載いたしません。

出典：フリー百科事典

『ウィキペディア (Wikipedia)』

https://upload.wikimedia.org/wikipedia/commons/thumb/c/c6/Vista_de_la_Alhambra.jpg/250px-Vista_de_la_Alhambra.jpg

著作権保護の観点により、
本作品を掲載いたしません。

出典：ナショナル ジオグラフィック

(NATIONAL GEOGRAPHIC)

日本版サイト

https://cdn-natgeo.nikkeibp.co.jp/atcl/news/18/080300346/00.jpg?__scale=w:1900,h:1424&_sh=0005f03f0a

③ 東南アジアのイスラーム化は、マラッカを拠点にジャワやフィリピンへひろまった。16世紀に中部ジャワで成立したイスラームの王国名を答えよ。

(3) オスマン帝国とヨーロッパ諸国との関係に関する次の①、②の問いに答えよ。

① 15～16世紀のオスマン帝国は、領土を拡大し経済的に繁栄した。次のA～Cの国を征服したスルタンを答えよ。

A ビザンツ帝国 B エジプト（マムルーク朝） C ハンガリー

② 16世紀のオスマン帝国がフランス人の特権を認めた「カピチュレーション」について、「ハプスブルク」の語句を用いて簡潔に説明せよ。

(4) 次の資料は1853年の様子を記したものである。資料を読み、後の①～⑥の問いに答えよ。

著作権保護の観点により、本文を掲載いたしません。

出典：「世界の教科書＝歴史 トルコ2」

N.アクシト著（訳者（代表）：永田雄三）ほるぷ出版
239ページ左段29行目から右段7行目まで

(N.アクシト/永田雄三訳「世界の教科書＝歴史 トルコ2」)

- ① 下線部aについて、この皇帝は誰か答えよ。
- ② 下線部bについて、ワラキアとモルタヴィアが統合されて独立した国の国名を答えよ。
- ③ 下線部cについて、セルビアやブルガリアなどバルカン半島に関する取り決めが行われた1878年の条約を説明せよ。
- ④ 下線部dについて、19世紀にエジプトがオスマン帝国から自立し、後にイギリスによって事実上の保護国となる過程を説明せよ。
- ⑤ 下線部eについて、ロシアが行動した結果、イギリスなどの国々との間に起こったできごとは何か答えよ。
- ⑥ バルカン半島が「ヨーロッパの火薬庫」と呼ばれる状況となった20世紀初頭のバルカン半島の国々の対立について説明せよ。

令和3年度大阪府公立学校教員採用選考テスト

三次選考択一問題の正答について

校種	高等学校	教科・科目	世界史
----	------	-------	-----

解答番号	正答番号	解答番号	正答番号	解答番号	正答番号	解答番号	正答番号
1	5	11	5	21	3	31	3
2	1	12	3	22	2	32	5
3	4	13	4	23	2	33	1
4	3	14	5	24	1	34	3
5	4	15	3	25	4	35	2
6	1	16	1	26	5	36	1
7	3	17	2	27	3	37	4
8	2	18	4	28	2	38	2
9	2	19	2	29	3	39	3
10	5	20	1	30	5	40	4

受験番号	
------	--

令和3年度大阪府公立学校教員採用選考テスト

高等学校 地理歴史(世界史) 解答用紙 (4枚のうち1)

5

得点	
----	--

(1)	①	ア 622	/	イ メディナ	/	ウ ヒジュラ (聖遷)	/	
	②	b	/					
	③	ムハンマドはメディナでムスリムの共同体 (ウンマ) を建設した。このウンマを率いたムハンマドは、630年にメッカを征服し、さらにアラビア半島を統一する。こうして、それまで国家のなかったアラビア半島がイスラーム教のもとで統一されることになるが、その出発点こそがこのイスラーム勢力の基盤となったウンマが建設されたヒジュラであり、まさにここから、イスラームの時代が始まるのである。						/
	④	ス ン ナ 派 は 、 ム ハ ン マ ド の 言 行 を 生 活 の 規 範 と し 、 ウ マ イ ヤ 朝 や ア ッ バ ー ス 朝 の カ リ フ を 正 統 な 指 導 者 と 認 め る 多 数 派 で 、 シ ー ア 派 は 、 第 4 代 カ リ フ の ア リ ー の 子 孫 だ け に 政 治 的 指 導 権 が あ る と 主 張 す る 少 数 派 で あ る 。						/
	⑤	ウマイヤ朝では、支配者であるアラブ人はジズヤ (人頭税) やハラージュ (地租) が免除され、被征服者の異民族には税が課された。アッバース朝ではアラブ人の特権が失われ、イスラーム教徒であれば異民族でもジズヤが免除となり、アラブ人でも征服地に土地を所有すればハラージュが課せられるようになった。						/

受験番号	
------	--

令和3年度大阪府公立学校教員採用選考テスト

高等学校 地理歴史(世界史) 解答用紙 (4枚のうち2)

5 (続き)

--

--

(2)	①	ア	アルハンブラ宮殿	/	イ	グラナダ	/			
	②	ア	トンプクトゥ	/						
		イ	取引の当事者どうしが互いに姿を見せず言葉も交わさず塩と金を交換した					/		
	③	マタラム王国			/					
(3)	①	A	メフメト2世	/	B	セリム1世	/	C	スレイマン1世	/
	②	神聖ローマ帝国を支配するハプスブルク家に対抗するフランスと同盟関係となり、フランス商人に領内での居住と通商の自由を認めた。								


--

受験番号	
------	--

令和3年度大阪府公立学校教員採用選考テスト

高等学校 地理歴史(世界史) 解答用紙 (4枚のうち3)

5 (続き)



	① ニコライ 1 世	/	② ルーマニア	/	
(4)	③	<p>ロシアは、オスマン帝国との戦争に勝利し、1878年のサン=ステファノ条約でブルガリアを保護下におくことを認めさせ、バルカン半島への勢力拡大に成功した。しかし、イギリスとオーストリアがこれに抗議したため、ドイツ首相のビスマルクがベルリン会議を主催して諸国間の調整をはかった。その結果、サン=ステファノ条約は破棄され、新たに結ばれたベルリン条約により、イギリスはキプロス島を獲得、オーストリアはボスニア・ヘルツェゴヴィナの統治権を獲得し、セルビア、ルーマニア、モンテネグロの独立が承認され、ロシアが影響力をもつブルガリアは領土を大幅に縮小された上で、オスマン帝国内の自治国にとどまった。</p>			/
	④	<p>オスマン帝国の属州であったエジプトは、ナポレオン率いるフランス軍の侵入を受けたが、オスマン帝国はイギリス海軍と結んでこれを撃退した。その後、民衆の支持を得て実権を握ったムハンマド=アリーは、オスマン帝国からエジプト総督に任命された。ムハンマド=アリーは、マムルーク勢力を一掃し西欧式の強力な軍を組織するとともに、近代的な教育制度を整え、また近代的な工場を建設し農業を振興するなど、富国強兵策を採用した。また、ムハンマド=アリーは、シリアの領有を要求しオスマン帝国と戦い勝利した。しかし、エジプトの強大化をおそれた列強が干渉し、1840年のロンドン会議で、ムハンマド=アリーのエジプト・スーダン総督の世襲は認められたが、シリアの放棄、軍備の縮小などが強制された。エジプトはその後、事実上オスマン帝国から自立し、鉄道の建設などの近代化政策をおしすすめ、スエズ運河を開削した。しかし、これらの経費のために、国家財政は破綻し、スエズ運河会社の株をイギリスに売却して運河の管理権を譲り、国家財政もイギリスとフランスの管理下に置かれた。こうした列強の内政干渉に反対して、1881年に、この運動に呼応して陸軍将校のウラービー=パシャが反乱を起こすと、イギリスは単独でエジプトを軍事占領し、エジプトは事実上イギリスの保護国となった。</p>			/

受験番号	
------	--

令和3年度大阪府公立学校教員採用選考テスト

高等学校 地理歴史(世界史) 解答用紙 (4枚のうち4)

5 (続き)

	⑤ クリミア戦争	/
(4)	⑥	<p>バルカン半島では、パン=スラヴ主義を唱えるロシアと、オーストリアが勢力拡大をねらって対立していた。1908年、オスマン帝国内で青年トルコ革命がおきると、ブルガリアが独立を宣言し、オーストリアは管理下にあったボスニア・ヘルツェゴヴィナを併合した。ロシアは、オーストリアのバルカン半島進出に対抗して、1912年、セルビア、モンテネグロ、ブルガリア、ギリシアをバルカン同盟に結束させた。同盟諸国は、イタリア=トルコ戦争に乗じてオスマン帝国に宣戦し、この第1次バルカン戦争でバルカン半島内のオスマン帝国領土の大半を奪った。しかし、獲得した領土をめぐるブルガリアと他のバルカン同盟国間で第2次バルカン戦争がおき、やぶれたブルガリアはドイツ、オーストリア側に接近した。このように、バルカン諸国はそれぞれ特定の列強と結びついていたことから、バルカン半島での勢力関係の変動は列強間の対立をさらに悪化させた。このため、バルカン半島は「ヨーロッパの火薬庫」と呼ばれるようになった。</p>