

## 高等学校 地理歴史（世界史）

### 解答についての注意点

- 1 解答用紙は、マーク式解答用紙と記述式解答用紙の2種類があります。
- 2 大問 **1** ~大問 **4** については、マーク式解答用紙に、大問 **5** については、記述式解答用紙に記入してください。
- 3 解答用紙が配付されたら、まずマーク式解答用紙に受験番号等を記入し、受験番号に対応する数字を、鉛筆で黒くぬりつぶしてください。  
記述式解答用紙は、全ての用紙の上部に受験番号のみを記入してください。
- 4 大問 **1** ~大問 **4** の解答は、選択肢のうちから、**問題で指示された解答番号**の欄にある数字のうち一つを黒くぬりつぶしてください。  
例えば、「解答番号は  」と表示のある問題に対して、「**3**」と解答する場合は、解答番号  の欄に並んでいる ① ② ③ ④ ⑤ の中の ③ を黒くぬりつぶしてください。
- 5 間違ってぬりつぶしたときは、消しゴムできれいに消してください。二つ以上ぬりつぶされている場合は、その解答は無効となります。
- 6 その他、係員が注意したことをよく守ってください。

指示があるまで中をあけてはいけません。



1 日本史について、次の各問いに答えよ。

(1) 7世紀における次のア～オの出来事を、古い順に左から右へ並べた場合、正しいものはどれか。

下の1～5から一つ選べ。解答番号は

- ア 近江大津宮への遷都
- イ 壬申の乱
- ウ 乙巳の変
- エ 改新の詔の宣布
- オ 庚寅年籍の作成

- 1 ウ → エ → ア → イ → オ
- 2 オ → ア → イ → エ → ウ
- 3 ウ → ア → イ → エ → オ
- 4 オ → ウ → ア → エ → イ
- 5 エ → ウ → ア → イ → オ

(2) 次のア～オのうち、平安時代に起きた出来事として、正しいものを○、誤っているものを×と

した場合、正しい組合せはどれか。下の1～5から一つ選べ。解答番号は

- ア 平治の乱
- イ 承平・天慶の乱
- ウ 前九年合戦（前九年の役）
- エ 文永の役
- オ 長屋王の変

- |   | ア | イ | ウ | エ | オ |
|---|---|---|---|---|---|
| 1 | × | ○ | × | ○ | × |
| 2 | ○ | ○ | ○ | × | × |
| 3 | × | × | ○ | ○ | ○ |
| 4 | × | × | × | ○ | ○ |
| 5 | ○ | ○ | × | × | × |

(3) 12世紀～13世紀に成立した宗派について説明したものとして、正しいものはどれか。次の1～5から一つ選べ。解答番号は

- 1 法然が臨済宗を開いた。
- 2 親鸞が時宗を開いた。
- 3 宋に渡った道元が、曹洞宗を日本に伝えた。
- 4 宋に渡った栄西が、法華宗を日本に伝えた。
- 5 浄土宗を開いた一遍は、踊念仏をおこなった。

(4) 京都を主戦場として戦った応仁の乱(応仁・文明の乱)において、東西両軍それぞれの大將となった人物として正しい組合せはどれか。次の1～5から一つ選べ。解答番号は

- |   | 東    | 西    |
|---|------|------|
| 1 | 畠山政長 | 山名氏清 |
| 2 | 細川勝元 | 山名持豊 |
| 3 | 細川政元 | 斯波義敏 |
| 4 | 大内義隆 | 斯波義廉 |
| 5 | 畠山義就 | 大内義弘 |

(5) 16世紀に起きた次のア～オの戦いを、古い順に左から右へ並べた場合、正しいものはどれか。下の1～5から一つ選べ。解答番号は

- ア 小牧・長久手の戦い  
イ 長篠の戦い  
ウ 関ヶ原の戦い  
エ 山崎の戦い  
オ 桶狭間の戦い

- 1 ア → イ → オ → ウ → エ
- 2 オ → イ → ウ → エ → ア
- 3 ア → オ → エ → ウ → イ
- 4 オ → ア → イ → エ → ウ
- 5 オ → イ → エ → ア → ウ

(6) 次のア～オのうち、江戸時代におこなわれた政策について説明したものとして、正しいものを○、誤っているものを×とした場合、正しい組合せはどれか。下の1～5から一つ選べ。

解答番号は

- ア 徳川綱吉は優秀な人材を登用するため、足高の制を取り入れた。
- イ 徳川吉宗は享保の改革において、上げ米の制を実施した。
- ウ 田沼意次が老中の時に、異国船打払令が発令された。
- エ 松平定信は寛政の改革において、物価高を抑えるため株仲間の解散を命令した。
- オ 水野忠邦は天保の改革において、幕領支配の再編強化を目的に上知令を出した。

	ア	イ	ウ	エ	オ
1	○	○	×	×	×
2	×	○	×	×	○
3	○	×	○	○	×
4	×	×	×	○	○
5	×	○	○	×	○

(7) 次のア～オのうち、江戸時代に描かれた絵画とその絵師の名前として、正しいものを○、誤っているものを×とした場合、正しい組合せはどれか。下の1～5から一つ選べ。

解答番号は

- ア 「東海道五十三次」 — 歌川広重
- イ 「富嶽三十六景」 — 葛飾北斎
- ウ 「紅白梅図屏風」 — 鈴木春信
- エ 「見返り美人図」 — 喜多川歌麿
- オ 「婦女人相十品」 — 尾形光琳

	ア	イ	ウ	エ	オ
1	○	○	×	×	×
2	×	×	×	○	○
3	○	○	○	×	×
4	×	○	×	×	○
5	○	○	×	×	○

(8) 江戸幕府滅亡以後における次のア～オの出来事を、古い順に左から右へ並べた場合、正しいものはどれか。下の1～5から一つ選べ。解答番号は

- ア 西南戦争が起きる。
- イ 廃刀令が出される。
- ウ 五箇条の誓文が出される。
- エ 立志社が結成される。
- オ 集会条例が制定される。

- 1 ウ → エ → イ → ア → オ
- 2 ウ → イ → エ → ア → オ
- 3 オ → ウ → イ → エ → ア
- 4 オ → ア → イ → エ → ウ
- 5 ウ → オ → エ → イ → ア

(9) ロシア皇太子の遭難と犯人の処刑をめぐる政治問題に発展した大津事件が起きた時期はいつか。次の年表中の1～5から一つ選べ。解答番号は

年	出来事
1879	沖縄県の設置 ・・・ 1 ・・・
1884	秩父事件の発生 ・・・ 2 ・・・
1889	大日本帝国憲法の発布 ・・・ 3 ・・・
1894	日清戦争の勃発 ・・・ 4 ・・・
1899	日英通商航海条約の発効 ・・・ 5 ・・・
1904	日露戦争の勃発

(10) 1902（明治35）年、日英同盟を締結した当時の内閣総理大臣はだれか。次の1～5から一つ選べ。解答番号は

- 1 西園寺公望
- 2 桂太郎
- 3 山県有朋
- 4 松方正義
- 5 伊藤博文

2 次の問1～問2の問いに答えよ。

問1 地図の見方に関する次の(1)～(4)の問いに答えよ。

(1) 地図には使う目的に応じたさまざまな図法がある。下のA～Dの図は、サンソン図法、正距方位図法、メルカトル図法、モルワイデ図法により作成されたものである。次の1～5のうち、A～Dの名称の組合せとして正しいものはどれか。1～5から一つ選べ。解答番号は

著作権保護の観点により、図を掲載いたしません。

出典：デジタル大辞泉  
小学館

(『デジタル大辞泉』より作成)

	A	B	C	D
1	サンソン図法	モルワイデ図法	メルカトル図法	正距方位図法
2	メルカトル図法	サンソン図法	正距方位図法	モルワイデ図法
3	モルワイデ図法	サンソン図法	メルカトル図法	正距方位図法
4	サンソン図法	正距方位図法	メルカトル図法	モルワイデ図法
5	メルカトル図法	モルワイデ図法	サンソン図法	正距方位図法

(2) 地図において、赤道は緯度を測る基準となる。次の1～5のうち、領土に赤道が通っている国として誤っているものはどれか。1～5から一つ選べ。解答番号は

- 1 ケニア
- 2 ブラジル
- 3 エチオピア
- 4 コロンビア
- 5 インドネシア

(3) 地図上の経度0度の経線は本初子午線であり、世界各地の時刻の基準となる。12月24日午後5時50分に大阪からロサンゼルスに向けて飛行機で出発し、ロサンゼルスには12月24日午前10時50分に到着した。飛行機のフライト時間を10時間として、2つの都市の時差からロサンゼルスが位置する経度を求めると約何度になるか。1～5から一つ選べ。なお、サマータイムは実施していないものとする。解答番号は

- 1 東経約15度
- 2 東経約30度
- 3 西経約75度
- 4 西経約105度
- 5 西経約120度

(4) 地形図は、土地の高低や土地の使われ方、道路や建物、市町村の境など、地表面の情報を規則に従って表現した地図である。2万5千分1地形図上において、実際の距離1,250mは何cmで表現されるか。1～5から一つ選べ。解答番号は

- 1 2.5cm
- 2 5cm
- 3 20cm
- 4 25cm
- 5 50cm



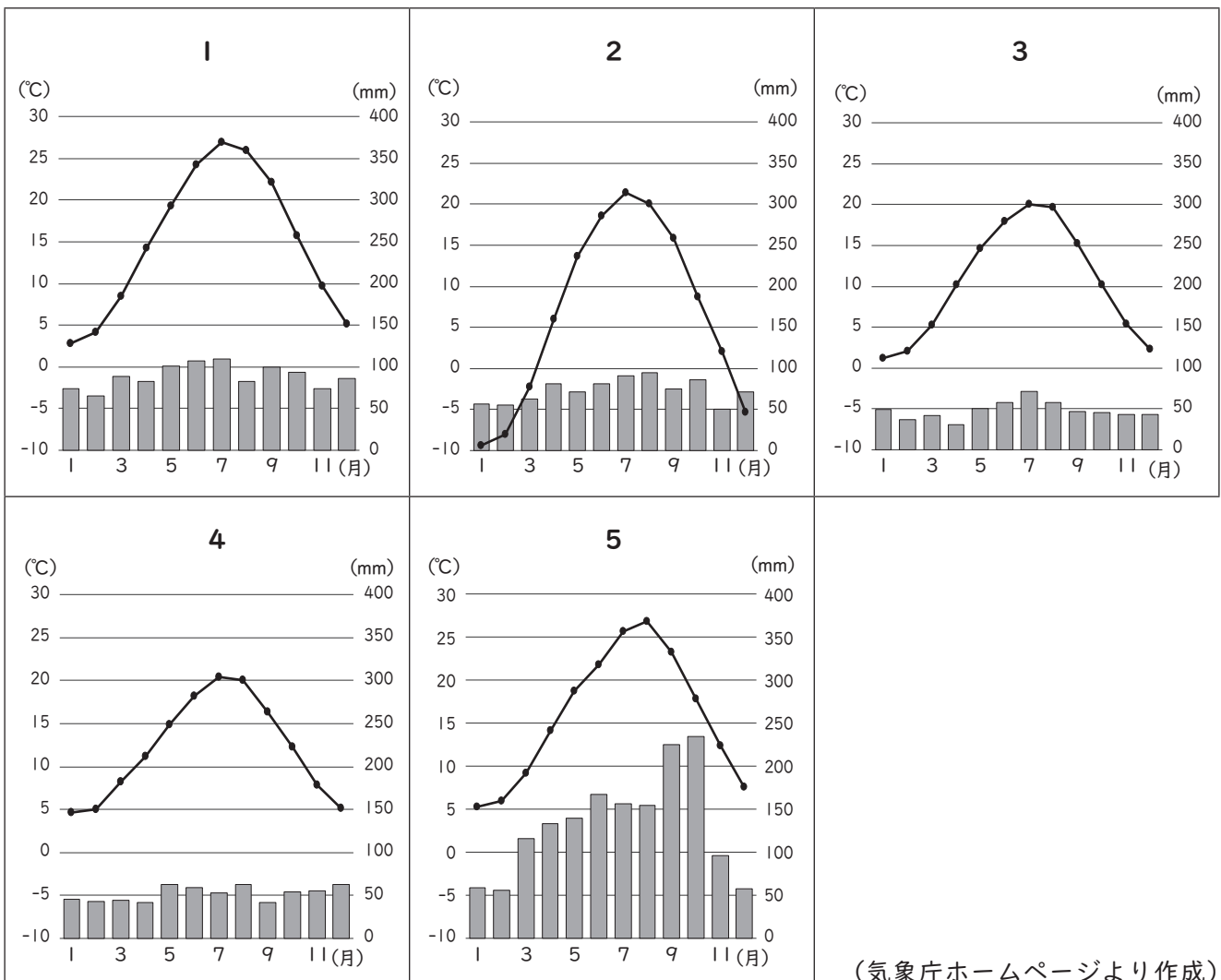
問2 次の文章は、2023（令和5）年に開催のG7サミット（主要国首脳会議）について述べたものである。次の（1）～（2）の問いに答えよ。

G7サミット（主要国首脳会議）とは、① フランス、アメリカ合衆国、イギリス、ドイツ、日本、イタリア、カナダの7か国及び欧州連合（EU）の首脳が参加して毎年開催される国際会議です。

2023年のG7サミットでは、② 広島での首脳会議のほか、日本各地で関係閣僚会合を開催し、各分野の重要課題について議論します。一年を通じ、10を超える関係閣僚会合が開催され、各国から政府関係者やメディアの皆さんなど多くの人たちが日本を訪れます。

（1）下線部①のG7メンバーの国に関する次の（i）～（iii）の問いに答えよ。

（i）次の1～5のグラフは、アメリカ合衆国、カナダ、ドイツ、日本、フランスの首都の月平均気温と月降水量をそれぞれ示したものである。アメリカ合衆国の首都の月平均気温と月降水量に該当するものはどれか。1～5から一つ選べ。解答番号は



(ii) 下の表1は、イギリス、イタリア、ドイツ、日本、フランスの面積及び2019（平成31／令和元）年における、人口密度、国民総所得、1人当たり国民総所得、輸出額、輸入額をそれぞれ示したものである。イタリアに該当するものはどれか。1～5から一つ選べ。

解答番号は

表 1

	面積（千km <sup>2</sup> ）	人口密度（人／km <sup>2</sup> ）	国民総所得（億ドル）	1人当たり国民総所得（ドル）	輸出額（百万ドル）	輸入額（百万ドル）
1	242	278.5	27,788	42,130	475,705	641,609
2	302	200.4	20,224	34,830	532,667	473,516
3	357	233.7	39,661	48,550	1,489,190	1,234,463
4	378	330.1	52,524	41,580	705,619	720,764
5	552	118.1	27,718	42,290	569,740	651,143

フランスの面積と人口密度については、海外県を含まない。

（『データブック オブ・ザ・ワールド』2020年版、2021年版、2022年版より作成）

(iii) 下の表2は、2018（平成30）年から2021（令和3）年における、アメリカ合衆国、イギリス、ドイツ、日本、フランスの電気自動車保有台数をそれぞれ示したものである。日本に該当するものはどれか。1～5から一つ選べ。解答番号は

表 2

単位（千台）

	2018年	2019年	2020年	2021年
1	1,123	1,450	1,778	2,064
2	236	264	293	337
3	184	259	434	746
4	177	239	633	1,315
5	165	227	416	725

（『世界国勢図会』2022/23より作成）

(2) 下線部②の開催地のうち、広島県と大阪府に関する次の(i)～(iii)の問いに答えよ。

(i) 下の図1は、国土地理院が発行する5万分1地形図『広島』(平成20年1月1日発行)の一部を約90%に縮小したものである。図1中にみられる、河川が運搬した砂泥が河口付近に堆積して形成された低平な地形は何と呼ばれているか。1～5から一つ選べ。

解答番号は



図 1

- 1 リアス式海岸
- 2 フィヨルド
- 3 三角州
- 4 扇状地
- 5 峡谷

(ii) 下の表3は、2020（令和2）年における、岡山県、島根県、鳥取県、広島県、山口県の耕地面積、林野面積、農業産出額、海面漁業産出額をそれぞれ示したものである。広島県に該当するものはどれか。1～5から一つ選べ。解答番号は

表 3

	耕地面積 (ha)	林野面積 (千ha)	農業産出額 (億円)	海面漁業産出額 (億円)
1	34,300	258	764	185
2	36,400	528	620	169
3	63,600	489	1,414	16
4	53,500	618	1,190	61
5	44,900	440	589	123

海面漁業産出額については、海面養殖業産出額を含まない。  
 (『データでみる県勢』2022、2023より作成)

(iii) 全国各地で開催する関係閣僚会合のうち、大阪府では貿易大臣会合が開催される。下の表4は、2019（平成31／令和元）年の大阪港、神戸港、東京港、名古屋港、横浜港の5港における、貿易額と主要貿易品目をそれぞれ示したものである。次の1～5のうち、港A～Eの組合せとして正しいものはどれか。1～5から一つ選べ。解答番号は

表 4

港	貿易額（億円）		主要貿易品目	
	輸出額	輸入額	輸出品目	輸入品目
A	58,237	114,913	半導体等製造装置	衣類
B	123,068	50,849	自動車	液化ガス
C	69,461	48,920	自動車	石油
D	37,742	47,781	集積回路	衣類
E	55,571	33,103	プラスチック	たばこ

(『日本国勢図会』2020/21より作成)

	A	B	C	D	E
1	横浜港	東京港	大阪港	神戸港	名古屋港
2	名古屋港	東京港	横浜港	大阪港	神戸港
3	東京港	名古屋港	神戸港	大阪港	横浜港
4	名古屋港	横浜港	東京港	神戸港	大阪港
5	東京港	名古屋港	横浜港	大阪港	神戸港

3 次の問いに答えよ。

問1 地方自治について、次の(1)～(3)の問いに答えよ。

(1) 日本国憲法の条文の一部を読み、次の問いに答えよ。

第九十二条 地方公共団体の組織及び運営に関する事項は、地方自治の(ア)に基づいて、法律でこれを定める。

第九十三条 地方公共団体には、法律の定めるところにより、その議事機関として議会を設置する。

2 地方公共団体の長、その議会の議員及び法律の定めるその他の(イ)は、その地方公共団体の住民が、(ウ)これを選挙する。

第九十四条 地方公共団体は、その財産を管理し、事務を処理し、及び行政を執行する権能を有し、法律の範囲内で(エ)を制定することができる。

条文中の(ア)～(エ)に入る語句の組合せとして正しいものを1～5から一つ選べ。

解答番号は、

	(ア)	(イ)	(ウ)	(エ)
1	本旨	官吏	間接的に	政令
2	本旨	官吏	直接	条例
3	本旨	吏員	直接	条例
4	原則	吏員	直接	政令
5	原則	官吏	間接的に	条例

(2) 地方公共団体の選挙権と被選挙権、首長や都道府県・市(区)町村議会議員の任期について述べた次のア～オの文のうち正しいものを○、誤っているものを×とした場合、正しい組合せを1～5から一つ選べ。解答番号は、

ア 市(区)町村議会議員・市(区)町村長の選挙権は、日本国民で満18歳以上であり、引き続き2か月以上その市(区)町村の区域内に住所を有する者が有する。

イ 市(区)町村議会議員の被選挙権は、日本国民で満25歳以上かつその市(区)町村議会議員の選挙権を有する者が有する。

ウ 市(区)町村長・都道府県知事の被選挙権は、日本国民で満25歳以上の者が有する。

エ 市(区)町村議会議員・都道府県議会議員の任期は、4年である。

オ 市(区)町村長・都道府県知事の任期は、6年である。

	ア	イ	ウ	エ	オ
1	×	○	×	○	×
2	○	×	×	×	○
3	×	×	○	○	×
4	○	×	○	×	○
5	○	○	×	○	×

(3) 地方自治法第76条の条文を読み、次の問いに答えよ。

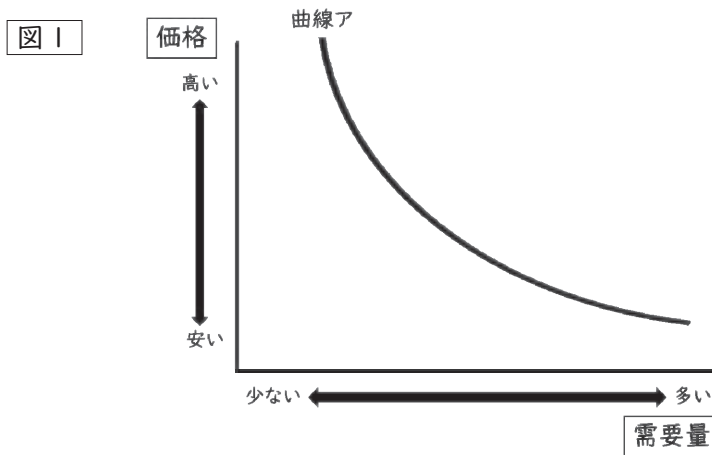
第七十六条 選挙権を有する者は、政令の定めるところにより、その総数の三分の一（その総数が四十万を超え八十万以下の場合にあつてはその四十万を超える数に六分の一を乗じて得た数と四十万に三分の一を乗じて得た数とを合算して得た数、その総数が八十万を超える場合にあつてはその八十万を超える数に八分の一を乗じて得た数と四十万に六分の一を乗じて得た数と四十万に三分の一を乗じて得た数とを合算して得た数）以上の者の連署をもつて、その代表者から、普通地方公共団体の選挙管理委員会に対し、当該普通地方公共団体の議会の解散の請求をすることができる。

有権者が87万人のある自治体において、この条文に基づいて議会の解散請求を行う場合、必要とされる署名数として最も近いものを1～5から一つ選べ。解答番号は、

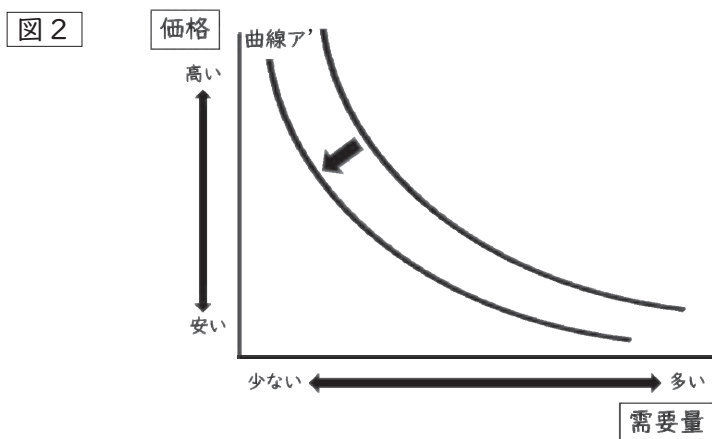
- 1 13万人分
- 2 17万人分
- 3 21万人分
- 4 25万人分
- 5 29万人分

問2 需要・供給と価格との関係について、次の(1)・(2)の問いに答えよ。

(1) 図1の曲線アは、商品A（商品Aは不定とする）の需要量と商品Aの価格との関係を示す曲線である。



あとの1～5の事例のうち、図2のように曲線アが曲線ア'にシフトする事例として最も適したものを一つ選べ。解答番号は、24



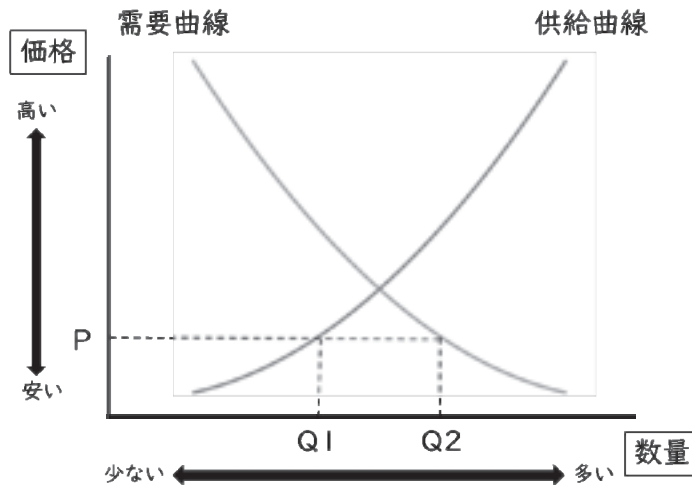
- 1 商品Aをマーガリンとするととき、商品Aの代替財であるバターが価格が上昇した。
- 2 商品Aをタイヤとするととき、商品Aの補完財である自動車の価格が上昇した。
- 3 商品Aをキャベツとするととき、豊作で商品Aの収穫量が増加した。
- 4 商品Aをココアとするととき、商品Aがメディアに取り上げられ、流行した。
- 5 商品AをSSD（ソリッドステートドライブ）とするととき、技術革新により商品Aの生産コストが減少した。



(2) 一般に、財・サービスの価格は市場にあらわれる需要・供給の状態に規定されて定まる。

【資料①】は、商品B（商品Bは不定とする）の価格と商品Bの需要・供給の関係をあらわしたものであり、【資料②】は【資料①】について述べた文である。

【資料①】



【資料②】

自由な競争が行われている市場において、商品Bの価格がPと設定された場合、供給量Q1が需要量Q2を（ア）おり、（イ）の式で表される量の（ウ）が生じている。この市場において、価格の自動調節機能がはたらいている場合、商品Bの価格は（エ）して均衡価格に近付いていくと考えられる。

【資料②】の（ア）～（エ）に入る語句の組合せとして正しいものを1～5から一つ選べ。解答番号は、

- |   | (ア)  | (イ)       | (ウ)  | (エ) |
|---|------|-----------|------|-----|
| 1 | 上回って | $Q1 + Q2$ | 超過需要 | 下落  |
| 2 | 下回って | $Q2 - Q1$ | 超過需要 | 上昇  |
| 3 | 上回って | $Q1 + Q2$ | 超過需要 | 上昇  |
| 4 | 下回って | $Q2 - Q1$ | 超過供給 | 上昇  |
| 5 | 上回って | $Q2 - Q1$ | 超過供給 | 下落  |

問3 消費生活について、次の(1)・(2)の問いに答えよ。

(1) 1962年にアメリカ合衆国のケネディ大統領が「消費者の4つの権利」を提唱した。この「消費者の4つの権利」にあたらないものを1～5から一つ選べ。解答番号は、

- 1 安全への権利
- 2 被害の救済を受けられる権利
- 3 選択をする権利
- 4 情報を与えられる権利
- 5 意見を聴かれる権利

(2) 消費者を保護し、消費者の自立を支援するための法律や国の施策についての記述として誤っているものを1～5から一つ選べ。解答番号は、

- 1 消費者契約法では、商品の重要事項について事実と異なる説明があったり、事業者の不当な勧誘行為で消費者が契約したりした場合に、契約期間に関わりなく契約を取り消すことができると定められている。
- 2 消費者庁は、事業者の保護育成を通じた行政を国民一人一人の立場に立ったものへと改めるため、各府省庁の所管分野に横断的にまたがる事案に対して、消費者行政の「司令塔」として機能することを求められて設置された内閣府外局の行政機関である。
- 3 製造物責任法（PL法）では、製造物の欠陥が原因で生命、身体又は財産に損害を被った場合に、被害者が製造業者等に対して損害賠償を求めることができることを規定している。
- 4 消費者教育の推進に関する法律では、国や地方公共団体に対して、学校における消費者教育の推進、発達段階に応じた教育機会の確保、研修の充実、人材の活用を義務付けている。
- 5 2004年に消費者保護基本法を改正して成立した消費者基本法では、国や地方公共団体の責務として、法律や制度の整備や、情報開示の推進によって、消費者が被害にあうことを防ぎ、自立した消費生活を送れるよう支援することを定めている。

問4 国際連合について、次の(1)・(2)の問いに答えよ。

(1) 国際連合に関する説明として誤っているものを1～5から一つ選べ。解答番号は、

28
----

- 1 1945年6月にサンフランシスコ会議で採択された国際連合憲章に基づき、同年10月に発足した国際連合は、アメリカ合衆国のニューヨークに本部が置かれている。
- 2 国際連合の主たる審議機関である総会は、すべての加盟国の代表から構成され、各国はそれぞれ1票の投票権を持っている。
- 3 国際連合憲章のもとに、国際の平和と安全の維持につき主要な責任を持つ安全保障理事会は、5か国の常任理事国と、総会が4年の任期で選ぶ10か国の非常任理事国とで構成されている。
- 4 経済・社会・文化・教育・保健衛生・人権など幅広い分野を担当し、調査・研究、政策の提案を行う経済社会理事会は、総会が3年の任期で選ぶ54か国の理事国で構成されている。
- 5 条約の解釈や国際法上の問題に関する紛争についての裁判を行う国際司法裁判所は、オランダのハーグに置かれ、15名の裁判官で構成されている。

(2) 国際連合における専門機関及び関連機関の略称及び機関の役割について説明したア～エのうち、正しいものを○、誤っているものを×とした場合、正しい組合せを1～5から一つ選べ。

解答番号は、

	略称	説明
ア	IMF	国際貿易の促進・加盟国の高水準の雇用と国民所得の増大・為替の安定に寄与するため、加盟国の為替政策の監視や、国際収支が著しく悪化した加盟国に対して融資を実施している。
イ	UNESCO	すべての子どもたちの権利が守られる世界を実現するため、子どもの生存に必要な基礎的な社会サービスの支援や、子どもたちをめぐる現状の分析・モニタリングを実施し、具体的な政策提言を各国の指導者や国際社会に対して行っている。
ウ	WHO	「すべての人々が可能な最高の健康水準に到達すること」を目的に、国際保健事業の指導・調整、各国に対する保健事業への援助などを行っている。
エ	ILO	原子力の平和的利用を促進するとともに、原子力が平和的利用から軍事的利用に転用されることを防止するため、技術援助、科学者・技術者の交換や訓練、核物質の軍事転用防止のための査察などを行っている。

	ア	イ	ウ	エ
1	×	○	×	○
2	×	×	○	○
3	○	×	×	○
4	○	○	○	×
5	○	×	○	×

問5 地球環境問題の解決に向けた次のA～Dの条約、協定、議定書と、その説明であるア～エの組合せとして正しいものを1～5から一つ選べ。解答番号は、

- A パリ協定
- B モントリオール議定書
- C ラムサール条約
- D ワシントン条約

- ア 国際的に重要な湿地及びそこに生息・生育する動植物の保全を促進する。
- イ 世界におけるオゾン層を破壊する物質の総放出量を衡平に規制する。
- ウ 世界の平均気温の上昇を産業革命以前と比べて2℃以内におさえることを目標とする。
- エ 輸出国と輸入国とが協力して国際取引の規制を実施することで、国際取引のための過度の利用による野生動植物種の絶滅を防止し、それらの種の保全を図る。

- |   |     |     |     |     |
|---|-----|-----|-----|-----|
| 1 | A－ウ | B－イ | C－エ | D－ア |
| 2 | A－エ | B－ア | C－ウ | D－イ |
| 3 | A－イ | B－ウ | C－ア | D－エ |
| 4 | A－ウ | B－イ | C－ア | D－エ |
| 5 | A－ウ | B－エ | C－イ | D－ア |

4 次の(1)～(10)の問いに答えよ。

(1) 古代ギリシアの詩人ホメロスの作とされる、トロイア軍とギリシア軍との戦争を題材にした作品を、次の1～5から一つ選べ。解答番号は

- 1 『アガ멤ノン』
- 2 『神統記』
- 3 『歴史』
- 4 『イリアス』
- 5 『オイディプス王』

(2) 次のA～Eのうち、紀元前1世紀のローマの様子を述べた文として正しいものを○、誤っているものを×とした場合、正しい組合せはどれか。下の1～5から一つ選べ。

解答番号は

- A アクティウムの海戦ののち、ローマの地中海支配体制は完成し、「内乱の1世紀」に終止符が打たれた。
- B イエスや使徒の言行などがまとめられた『新約聖書』が成立した。
- C ウェルギリウスがローマ建国叙事詩である『アエネイス』を著した。
- D カエサル没後の覇権争いのなかで、オクタウィアヌスはエジプト女王クレオパトラと結びアントニウスと対立していた。
- E 平民会の議決が元老院の許可なしに国法となるホルテンシウス法が制定された。

	A	B	C	D	E
1	×	×	×	○	○
2	×	○	×	○	○
3	○	×	○	×	×
4	○	×	○	○	×
5	○	○	○	×	×

(3) 7世紀の出来事として誤っているものを、次の1～5から一つ選べ。解答番号は

- 1 隋の煬帝は、大土木工事に着手し通済渠をはじめとする大運河の開削、改修を行った。
- 2 ウマイヤ家のムアーウィヤがダマスクスを首都としてウマイヤ朝を建てた。
- 3 日本・百済の連合軍が唐・新羅の連合軍と白村江で戦い、敗れた。
- 4 玄奘が、ハルシャ王の時代のインドを訪問した。
- 5 エグバートが七王国を制し、侵入したバイキングを撃退するなど、イングランドの統一に道をひらいた。

(4) トゥール＝ポワティエ間の戦いは8世紀にフランク王国が、ウマイヤ朝の軍に勝利した戦いである。この戦いにおいて、フランク王国の宮宰としてフランク王国軍を率いた人物を、次の1～5から一つ選べ。解答番号は

- 1 カール＝マルテル
- 2 ピピン
- 3 クローヴィス
- 4 カール大帝
- 5 テオドリック

(5) 中世の東欧に関して述べた文として誤っているものを、次の1～5から一つ選べ。  
解答番号は

- 1 キエフ公国のウラディミル1世は、ギリシア正教を国教とした。
- 2 セルビア人は、バルカン半島に定住後、ギリシア正教に改宗した。
- 3 ポーランド王国は、カジミエシュ大王の時にリトアニアと合体してヤゲウォ朝が成立した。
- 4 ブルガール人はバルカン半島に定住後、ギリシア正教に改宗した。
- 5 マジャール人はパンノニア平原に定住後、ローマ＝カトリックを受容した。

(6) ヨーロッパにおける宗教をめぐる対立に関して述べた文として誤っているものを、次の1～5から一つ選べ。解答番号は

- 1 ハインリヒ4世は、聖職叙任権をめぐる対立で、グレゴリウス7世と対立した。
- 2 ボニファティウス8世は、教皇権の絶対性を主張し、フィリップ4世と対立した。
- 3 ベーメンで起きたフス戦争の結果、フスは処刑された。
- 4 アウクスブルクの和議で、ドイツ諸侯にはルター派を選択する権利が認められた。
- 5 三十年戦争において、旧教国であるフランスは新教側で参戦した。

(7) 次の文A～Eのうち、東方問題に関する内容について述べた文として正しいものを○、誤っているものを×とした場合、正しい組合せはどれか。下の1～5から一つ選べ。

解答番号は

- A ギリシア独立戦争では、ロシアはギリシアを支援した。
- B 第一次エジプト＝トルコ戦争では、ロシアはオスマン帝国を支援した。
- C クリミア戦争後、アレクサンドル3世は農奴解放令を発して、全国の農奴農民を解放した。
- D 1878年のベルリン会議では、モンテネグロ、ブルガリア、ルーマニアが独立国として承認された。
- E オーストリア＝ハンガリー帝国は青年トルコ革命が勃発すると、ボスニア・ヘルツェゴヴィナを併合した。

	A	B	C	D	E
1	○	×	×	○	○
2	○	○	×	×	○
3	×	×	○	○	×
4	○	○	○	×	×
5	×	×	×	○	○

(8) アフリカの植民地化やそれに対する抵抗に関して述べた文として正しいものを、次の1～5から一つ選べ。解答番号は

- 1 スーダンでは、イギリスに対して、マフディー派の反乱が起こった。
- 2 トランスヴァール共和国は、南アフリカ戦争に敗れ、オランダ領となった。
- 3 エチオピアは、侵入したイギリス軍をアドワの戦いで破り、独立を維持した。
- 4 マダガスカルは、ドイツの植民地となったが第一次世界大戦後に独立を達成した。
- 5 ベルギーは、フランスのモロッコ支配に干渉するモロッコ事件を起こした。

(9) 19世紀にアジア諸国が列強と結んだ条約に関して述べた文として正しいものを、次の1～5から一つ選べ。解答番号は

- 1 ロシアはアイグン条約により、清から黒竜江左岸を獲得した。
- 2 フランスはフエ条約により、清からベトナムの保護権を獲得した。
- 3 イランはトルコマンチャーイ条約により、ロシアへアフガニスタンを割譲した。
- 4 清は黄埔条約により、アメリカに対する関税自主権を失った。
- 5 イギリスは南京条約により、清に天津を開港させた。



(10) 第二次世界大戦後に起こった紛争や民族対立について述べた文として正しいものを、次の1～5から一つ選べ。解答番号は

- 1 朝鮮戦争では、中国は義勇軍を派遣して、国連軍に加わった。
- 2 ユーゴスラヴィア内戦による混乱の結果、ティトーが退陣を余儀なくされた。
- 3 ベトナム戦争において、ケネディ政権は北ベトナムへの爆撃（北爆）を行った。
- 4 ユダヤ人がイスラエルの建国を宣言したことをきっかけに、これに反対するアラブ諸国との間にパレスティナ戦争（第一次中東戦争）が起こった。
- 5 スリランカでは、シンハラ人とタミル人の内戦（スリランカ内戦）を経て、インドからの分離独立を果たした。

5 次の問いに答えよ。

(1) 下の年表を見て、これらに関連する以下の問いに答えなさい。

1789年	全国三部会開催 (ア) 人権宣言採択
1791年	憲法制定 (イ)
1793年	ルイ16世処刑 (ウ) 恐怖政治開始 (エ)
1794年	テルミドール反動
1795年	総裁政府成立
1799年	ブリュメール十八日のクーデタ
1804年	第一帝政開始 (オ)
1806年	ライン同盟結成 (カ) 大陸封鎖令 (キ)
1808年	スペイン独立戦争開始 (ク)
1812年	ロシア遠征
1813年	ライプツィヒの戦い
1815年	ワーテルローの戦い

1. (ア) に関して、1789年に『第三身分とは何か』を刊行し、旧体制を打倒しようとする世論形成に大きな影響を与えた聖職者は誰か。
2. (イ) の憲法制定から (ウ) のルイ16世処刑へと至る経緯について説明せよ。その際、次の三つの語句を必ず使用すること。  
山岳派      国民公会      立法議会
3. (エ) に関して、山岳派右派の指導者で、恐怖政治の強化に反対し、1794年4月に処刑された人物は誰か。
4. (オ) に関して、第一帝政の樹立を機に、イギリス首相ピットの提唱で、第(    )回対仏大同盟が結成された。(    )に入る数字を答えよ。
5. (カ) に関して、これにより神聖ローマ帝国は完全に崩壊した。神聖ローマ帝国の変遷について、以下の年代に起こった出来事に触れながら、説明せよ。  
962年      1356年      1648年
6. (キ) に関して、この目的とその影響を説明せよ。

7. (ク)に関して、下の絵画の(a)作品名と(b)作者名を答えよ。

著作権保護の観点により、本作品を掲載いたしません。

出典：<https://ja.wikipedia.org/wiki/%E3%83%9E%E3%83%89%E3%83%AA%E3%83%BC%E3%83%89%E3%80%811808%E5%B9%B45%E6%9C%883%E6%97%A5>

(2) 次の文章を読み、以下の問いに答えなさい。

唐末から五代十国時代、中国社会は変動期を迎え、かつての支配層であった門閥貴族は没落し、開発の進んだ江南を中心に①新興地主が台頭した。

モンゴル高原では、契丹の勢力が強まり、10世紀初めに耶律阿保機によって統一・建国された。②契丹は、五代の後晋の建国を援助した見返りとして、華北平野の領土を獲得し、時期によって遼という中国風の国号を用いた。中国西北部では、11世紀前半にチベット系のタングートが、③西夏を建国した。西夏は東西交易の要所をおさえ、また民族固有の西夏文字をつくるなど独自の文化を発展させた。

後周の武将出身の趙匡胤は、960年に宋を建国し、④大運河と黄河の接点で物資の集積地であった開封に都をおき、次の太宗が中国の主要部を統一した。宋は、唐末以来の軍人優位の風潮をおさえるために、節度使を廃止して、皇帝の親衛軍を強化し、⑤科挙によって選ばれた文人官僚が政治をとりおこなうようにした。

12世紀になると、中国東北部のツングース系の女真が契丹から自立し、1115年に完顔阿骨打が金を建国した。⑥契丹と同じく金も、中国から受け継いだ文化や制度を独自に発展させていった。

1125年、金は宋と結んで契丹を滅ぼした。しかしその後、⑦金と宋との間で争いがおこり、宋は都の開封を占領され、多数の皇族・高官が捕虜となった。江南に逃れた皇帝の弟は、⑧1127年に宋を再興した(南宋)。南宋は、金と戦い華北の奪還をはかったが、やがて和平派が主戦派をおさえて⑨金と和議を結んだ。

宋代には経済が大きく発展した。中国商人の海上進出も活発化し、絹や陶磁器・銅銭等が輸出された。⑩宋は市舶司を広州などの港において、海上交易を管理した。南宋時代には江南の開発がさらに進み、干拓や占城稻の導入などによって稲の生産量が増大したことで、⑪長江下流域は穀倉地帯となった。また、⑫宋代は文化の面においても転換期であり、唐代の貴族にかわって新たに文化の担い手となったのは、官僚や地主、都市の繁栄を背景とする庶民であった。

1. 下線部①に関して、唐末から台頭してきた新興地主層は、宋代になると何と呼ばれるようになったか。
2. 下線部②に関して、
  - ア この獲得した地域を何と呼ぶか。
  - イ この獲得した地域に含まれる現在の中国の都市を、次から一つ選べ。  
大連 瀋陽 青島 長春 北京
3. 下線部③に関して、西夏の建国者は誰か。
4. 下線部④に関して、首都開封のにぎわいを描いた、張択端の作である下の絵巻物の作品名を答えよ。

著作権保護の観点により、本作品を掲載いたしません。

出典：東京国立博物館ウェブサイト

[https://www.tnm.jp/modules/r\\_free\\_page/index.php?id=1445](https://www.tnm.jp/modules/r_free_page/index.php?id=1445)

5. 下線部⑤に関して、宋代に行われた変革とその影響について説明せよ。
6. 下線部⑥に関して、契丹と金の統治政策について、共通点に触れながら説明せよ。その際、次の語句を必ず使用すること。  
二重統治体制
7. 下線部⑦に関して、
  - ア この事件を何と呼ぶか。
  - イ この事件で北に連れ去られた宋の前皇帝は誰か。
8. 下線部⑧に関して、南宋の首都名を答えよ。

9. 下線部⑨に関して、金と南宋の国境線となった河川名を答えよ。

10. 下線部⑩に関して、

ア 福建省の港市で、のちにマルコポーロによってザイトンの名で西方に紹介された港市名を答えよ。

イ アで答えた港市の位置を、地図中 a～e から一つ選び記号で答えよ。



11. 下線部⑪に関して、宋代中期から、江南地方が中国の穀倉地帯となったことを示す言葉として、「( ) 熟すれば天下足る」がある。( ) に入る語句を答えよ。

12. 下線部⑫に関して、宋代の文化について、以下の問いに答えなさい。

ア 道家思想や仏教哲学を導入しながら、『太極図説』を著し、宋学の先駆者となった北宋の儒学者は誰か。

イ 心の内省を重んじて「心即理」説を唱え、のちの陽明学の源流をなした南宋の儒学者は誰か。

ウ 『新唐書』『新五代史』を編纂した北宋の学者は誰か。

エ 宋代に最盛期を迎えた、写実的で装飾的な宮廷様式の画風を何と呼ぶか。



# 令和6年度大阪府公立学校教員採用選考テスト

## 三次選考択一問題の正答について

校種	高等学校	教科・科目	地理歴史（世界史）
----	------	-------	-----------

解答番号	正答番号	解答番号	正答番号	解答番号	正答番号	解答番号	正答番号
1	1	11	1	21	3	31	4
2	2	12	3	22	1	32	3
3	3	13	5	23	3	33	5
4	2	14	2	24	2	34	1
5	5	15	1	25	2	35	3
6	2	16	2	26	2	36	3
7	1	17	2	27	1	37	2
8	1	18	3	28	3	38	1
9	3	19	4	29	5	39	1
10	2	20	5	30	4	40	4

受験番号	
------	--

令和6年度大阪府公立学校教員採用選考テスト

高等学校 地理歴史（世界史） 解答用紙 (3枚のうち1)

5

得点	
----	--

(1)	1	シエイエス	/	
	2	1791年に憲法が制定され、立法議会が成立した。一方、周辺国へ亡命した貴族が革命への干渉を働きかけていた。1792年4月、革命に反対するオーストリア、プロイセンとの戦争が始まった。フランス軍は当初劣勢であり、祖国の危機に際し、全国から義勇兵がパリに集結した。8月、義勇兵と民衆は、国内の敵を一掃するために、王宮を襲い、王権が停止された。これにより立法議会は解散し、新たに普通選挙によって国民公会が招集された。国民公会は王政の廃止を宣言し、共和政が樹立された。穏健共和派のジロンド派と急進共和派の山岳派が対立する中で、ルイ16世は裁判にかけられ、1793年1月、処刑された。	/	
	3	ダントン	/	4 3




受験番号

令和6年度大阪府公立学校教員採用選考テスト

高等学校 地理歴史（世界史） 解答用紙 （3枚のうち2）

5 （続き）



(1)	5	東フランクのオットー1世は、962年に教皇からローマ皇帝の位を与えられた。これが神聖ローマ帝国の始まりである。帝国内は諸侯や自由都市の力が強く、政治的分裂が深まった。13世紀には皇帝不在の大空位時代を経て、皇帝カール4世は、1356年に金印勅書を発布して、皇帝選出権を聖俗7選帝侯に認めた。15世紀以降、皇帝はハプスブルク家から出されるようになり、大小300ほどの領邦が分立した。1648年、三十年戦争後のウェストファリア条約で、各領邦には主権が認められ、帝国は形骸化した。	/	<input type="checkbox"/>	
	6	イギリスへの経済的打撃を与えること、またフランス産業のためのヨーロッパ市場確保を目的に行った。しかし、海上権を握るイギリスはさして影響を受けず、イギリスとの貿易禁止によりヨーロッパ諸国は経済的苦境に陥った。大陸封鎖の励行を求めるナポレオンの政策は、ヨーロッパ諸国の反発を招いた。	/	<input type="checkbox"/>	
	7	a (マドリード、1808年) 5月3日	/	b (フランシスコ・デ・) ゴヤ	/

受験番号	
------	--

令和6年度大阪府公立学校教員採用選考テスト

高等学校 地理歴史（世界史） 解答用紙 (3枚のうち3)

5 (続き)

--

(2)	1 形勢戸	/	2 ア 燕雲十六州	/	イ 北京	/		
	3 李元昊	/	4 清明上河図	/				
	5	最終試験に皇帝みずからが試験官となって行う殿試が設けられ、皇帝と官僚との結びつきが強化された。					/	
	6	契丹と金、どちらも狩猟・遊牧民には部族制を、農耕民には州県制によっておさめる二重統治体制をしいた。金で実施していた部族制は猛安・謀克と呼ばれる。					/	
	7 ア 靖康の変	/	イ 徽宗	/	8 臨安（杭州）	/		
	9 淮河（淮水）	/	10 ア 泉州	/	イ b	/		
	11 蘇湖（江浙）	/						
	12	ア 周敦頤			/	イ 陸九淵		/
		ウ 欧陽脩			/	エ 院体画（院画）		/

--

--

--

--