

高等学校 地理歴史（日本史）

解答についての注意点

- 1 解答用紙は、マーク式解答用紙と記述式解答用紙の2種類があります。
- 2 大問 **1** ~大問 **4** については、マーク式解答用紙に、大問 **5** については、記述式解答用紙に記入してください。
- 3 解答用紙が配付されたら、まずマーク式解答用紙に受験番号等を記入し、受験番号に対応する数字を、鉛筆で黒くぬりつぶしてください。
記述式解答用紙は、全ての用紙の上部に受験番号のみを記入してください。
- 4 大問 **1** ~大問 **4** の解答は、選択肢のうちから、**問題で指示された解答番号**の欄にある数字のうち一つを黒くぬりつぶしてください。
例えば、「解答番号は 」と表示のある問題に対して、「**3**」と解答する場合は、解答番号 の欄に並んでいる ① ② ③ ④ ⑤ の中の ③ を黒くぬりつぶしてください。
- 5 間違ってぬりつぶしたときは、消しゴムできれいに消してください。二つ以上ぬりつぶされている場合は、その解答は無効となります。
- 6 その他、係員が注意したことをよく守ってください。

指示があるまで中をあけてはいけません。

1 世界史に関する次の(1)～(10)の問いに答えよ。

(1) 古代エジプト王国について述べた次の文章を読み、1～5より誤っているものを一つ選べ。

解答番号は

- 1 古王国時代には、クフ王がギザに巨大なピラミッドを築かせた。
- 2 古王国時代の首都はメンフィスであった。
- 3 中王国時代の末期には、シリア方面からヒッタイトが流入した。
- 4 新王国においてアメンホテプ4世(イクナートン)は、従来の神々の崇拜を否定してアトン神だけを信仰する改革を行った。
- 5 古代エジプト文字には、象形文字の神聖文字(ヒエログリフ)や民衆文字(デモティック)などがあった。

(2) 古代アテネの政治家について述べた次の文章を読み、1～5より誤っているものを一つ選べ。

解答番号は

- 1 ドラコンはアテネの慣習法をはじめて成文化した。
- 2 ソロンは家柄に応じて市民の参政権を定めた。
- 3 ペイシストラトスは、前6世紀半ばに僭主政治を行った。
- 4 クレイステネスは、僭主の出現を防止するために陶片追放(オストラキスマス)の法を制定した。
- 5 ペリクレスの主導によって、民会を中心とする民主政が実現された。

(3) 前漢第7代の皇帝である武帝が行った一連の政策について述べた次の文章を読み、1～5より

誤っているものを一つ選べ。解答番号は

- 1 衛氏朝鮮を征服し、楽浪郡をはじめとする4郡を設置した。
- 2 董仲舒の提案により、儒学を官学とした。
- 3 価格が下がったときに物資を買い入れて、価格が上がったときに売りに出すことで物価の水準を保つ均輸法を実施した。
- 4 匈奴に対抗するために、張騫を交渉役として大月氏に派遣した。
- 5 地方の有力者から推薦された人物を官吏として採用する郷挙里選を制度化した。

(4) 十字軍に関連する次の文章を読み、1～5より誤っているものを一つ選べ。

解答番号は

- 1 第1回十字軍はクレルモン公会議において教皇ウルバヌス2世の提唱により開始された。
- 2 第1回十字軍はイェルサレムを占領してイェルサレム王国を建設した。
- 3 第3回十字軍には神聖ローマ皇帝、フランス王、イングランド王が参加した。
- 4 第4回十字軍は教皇インノケンティウス3世の提唱で行われたが、ジェノヴァ商人の要求にせまられて、ビザンツ帝国の首都であるコンスタンティノープルを攻めた。
- 5 1291年に最後の拠点であるアッコンが陥落し、イェルサレム王国は滅亡した。

(5) 明について、次のア～オの出来事をおこった順に左から右へと並び替えた場合、正しいものはどれか。1～5より一つ選べ。解答番号は

- ア 永楽帝が命じた鄭和の遠征は、アフリカ沿岸にまで至った。
- イ 正統帝がオイラト部に捕らえられた。
- ウ 洪武帝が中書省を廃止し、六部を皇帝の直属に置いた。
- エ 建文帝の時代に靖難の変が起こった。
- オ 崇禎帝の時代に李自成の反乱軍が北京を占領した。

- 1 ウ → イ → エ → オ → ア
- 2 ウ → エ → イ → ア → オ
- 3 ウ → エ → ア → イ → オ
- 4 エ → ウ → ア → イ → オ
- 5 エ → ア → ウ → オ → イ

(6) オスマン帝国について述べた次の文章を読み、1～5より誤っているものを一つ選べ。

解答番号は

- 1 1402年のアンカラの戦いでティムール朝に敗れた。
- 2 1453年にコンスタンティノープルを征服し、ビザンツ帝国を滅ぼした。
- 3 1517年にエジプトへ遠征して、マムルーク朝を滅ぼした。
- 4 1538年のプレヴェザの海戦にてスペイン、ヴェネツィアなどの連合艦隊を破った。
- 5 1699年のカルロヴィッツ条約により、ハンガリーをポーランドに割譲した。

(7) 15～18世紀のロシアに関連する次の文章を読み、1～5より誤っているものを一つ選べ。

解答番号は

- 1 イヴァン3世は分裂していたロシアを統一し、はじめてツァーリの称号を用いた。
- 2 イヴァン4世は、コサックの首長であったイェルマークが占領したシベリアの一部を領土に組み入れた。
- 3 ミハイル＝ロマノフが即位してロマノフ朝を開いた。
- 4 ピョートル1世は中国の清朝とアイグン条約を結び、両国の境界を定め通商を開始した。
- 5 エカチェリーナ2世はポーランド分割に参加して領土を拡大した。

(8) 17・18世紀のヨーロッパにおける自然・哲学・政治思想について、1～5よりそれぞれの人物と著作の組合せとして誤っているものを一つ選べ。解答番号は

- | | | | |
|---|---------|---|------------|
| 1 | グロティウス | — | 『戦争と平和の法』 |
| 2 | アダム＝スミス | — | 『諸国民の富』 |
| 3 | ルソー | — | 『人間不平等起源論』 |
| 4 | デイドロ | — | 『哲学書簡』 |
| 5 | ロック | — | 『統治二論』 |

(9) ビスマルクが行った政策に関連する次の文章を読み、1～5より誤っているものを一つ選べ。

解答番号は

- 1 ヴィルヘルム1世から首相に任じられると、議会の支持のもと軍備を拡張する鉄血政策を行った。
- 2 カトリック勢力を警戒し、「文化闘争」を開始してカトリック教徒を弾圧した。
- 3 社会主義者鎮圧法を制定して、社会主義政党や社会主義運動を弾圧した。
- 4 ドイツ・オーストリア・ロシアとの間に三帝同盟を結んだ。
- 5 プロイセン＝フランス戦争に勝利し、ドイツ帝国を建設した。

(10) 世界恐慌に対する1930年代のアメリカの政策に関連する次の文章を読み、1～5より誤っているものを一つ選べ。解答番号は

- 1 全国産業復興法によって工業製品の価格協定を公認した。
- 2 経済の復興・救済の施策として、金本位制から離脱した。
- 3 農業調整法で農作物の生産量を調整し、価格を引き下げた。
- 4 地域総合開発事業として、テネシー川流域開発公社(TVA)などを設立した。
- 5 ラテンアメリカ諸国に対して善隣外交を展開した。

2 次の問1～問2の問いに答えよ。

問1 地図の見方に関する次の(1)～(4)の問いに答えよ。

(1) 地図には使う目的に応じたさまざまな図法がある。下のA～Dの図は、サンソン図法、正距方位図法、メルカトル図法、モルワイデ図法により作成されたものである。次の1～5のうち、A～Dの名称の組合せとして正しいものはどれか。1～5から一つ選べ。解答番号は

著作権保護の観点により、図を掲載いたしません。

出典：デジタル大辞泉
小学館

(『デジタル大辞泉』より作成)

	A	B	C	D
1	サンソン図法	モルワイデ図法	メルカトル図法	正距方位図法
2	メルカトル図法	サンソン図法	正距方位図法	モルワイデ図法
3	モルワイデ図法	サンソン図法	メルカトル図法	正距方位図法
4	サンソン図法	正距方位図法	メルカトル図法	モルワイデ図法
5	メルカトル図法	モルワイデ図法	サンソン図法	正距方位図法

(2) 地図において、赤道は緯度を測る基準となる。次の1～5のうち、領土に赤道が通っている国として誤っているものはどれか。1～5から一つ選べ。解答番号は

- 1 ケニア
- 2 ブラジル
- 3 エチオピア
- 4 コロンビア
- 5 インドネシア

(3) 地図上の経度0度の経線は本初子午線であり、世界各地の時刻の基準となる。12月24日午後5時50分に大阪からロサンゼルスに向けて飛行機で出発し、ロサンゼルスには12月24日午前10時50分に到着した。飛行機のフライト時間を10時間として、2つの都市の時差からロサンゼルスが位置する経度を求めると約何度になるか。1～5から一つ選べ。なお、サマータイムは実施していないものとする。解答番号は

- 1 東経約15度
- 2 東経約30度
- 3 西経約75度
- 4 西経約105度
- 5 西経約120度

(4) 地形図は、土地の高低や土地の使われ方、道路や建物、市町村の境など、地表面の情報を規則に従って表現した地図である。2万5千分1地形図上において、実際の距離1,250mは何cmで表現されるか。1～5から一つ選べ。解答番号は

- 1 2.5cm
- 2 5cm
- 3 20cm
- 4 25cm
- 5 50cm

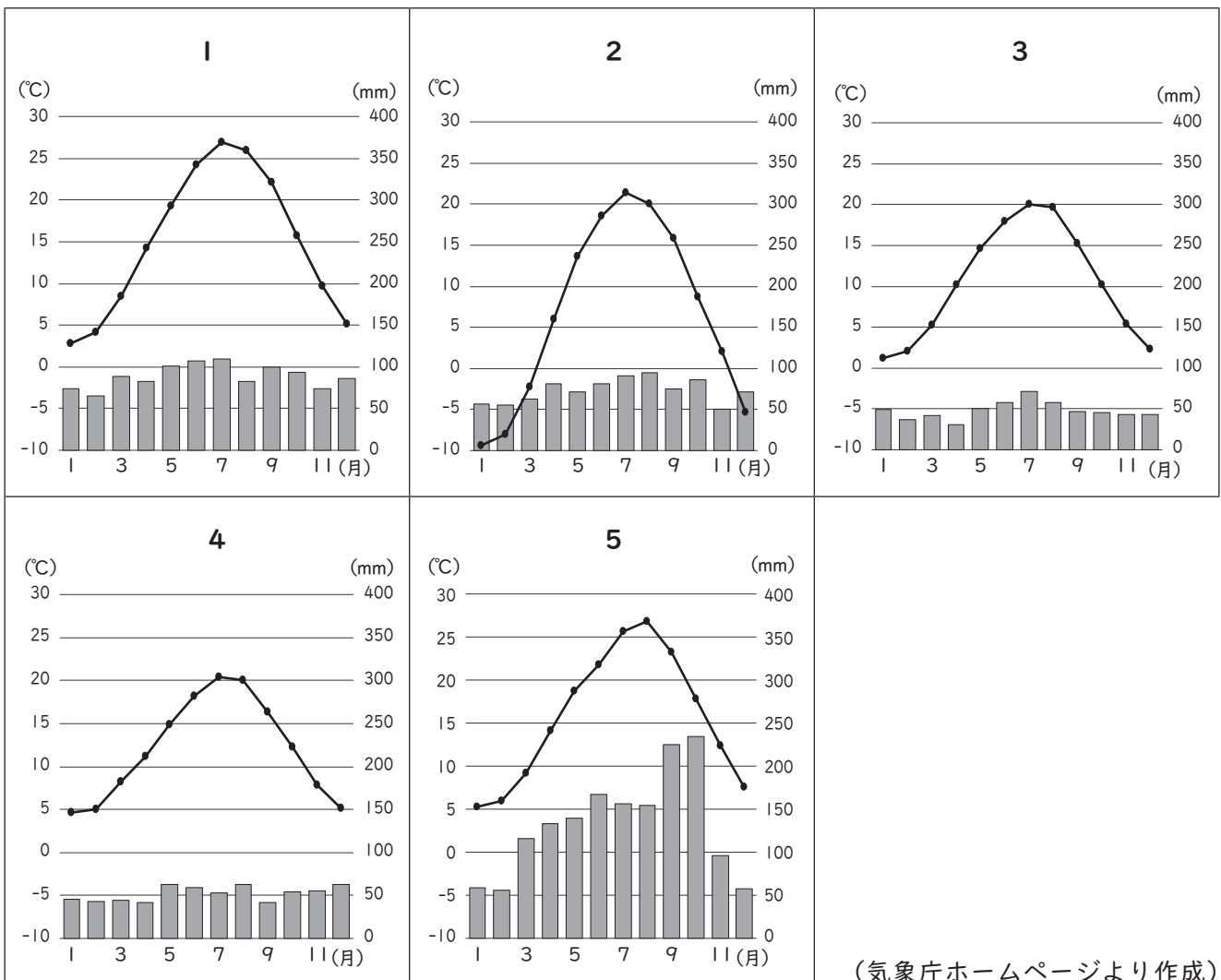
問2 次の文章は、2023（令和5）年に開催のG7サミット（主要国首脳会議）について述べたものである。次の（1）～（2）の問いに答えよ。

G7サミット（主要国首脳会議）とは、① フランス、アメリカ合衆国、イギリス、ドイツ、日本、イタリア、カナダの7か国及び欧州連合（EU）の首脳が参加して毎年開催される国際会議です。

2023年のG7サミットでは、② 広島での首脳会議のほか、日本各地で関係閣僚会合を開催し、各分野の重要課題について議論します。一年を通じ、10を超える関係閣僚会合が開催され、各国から政府関係者やメディアの皆さんなど多くの人たちが日本を訪れます。

（1）下線部①のG7メンバーの国に関する次の（i）～（iii）の問いに答えよ。

（i）次の1～5のグラフは、アメリカ合衆国、カナダ、ドイツ、日本、フランスの首都の月平均気温と月降水量をそれぞれ示したものである。アメリカ合衆国の首都の月平均気温と月降水量に該当するものはどれか。1～5から一つ選べ。解答番号は



(ii) 下の表1は、イギリス、イタリア、ドイツ、日本、フランスの面積及び2019（平成31／令和元）年における、人口密度、国民総所得、1人当たり国民総所得、輸出額、輸入額をそれぞれ示したものである。イタリアに該当するものはどれか。1～5から一つ選べ。

解答番号は

表 1

	面積（千km ² ）	人口密度（人/km ² ）	国民総所得（億ドル）	1人当たり国民総所得（ドル）	輸出額（百万ドル）	輸入額（百万ドル）
1	242	278.5	27,788	42,130	475,705	641,609
2	302	200.4	20,224	34,830	532,667	473,516
3	357	233.7	39,661	48,550	1,489,190	1,234,463
4	378	330.1	52,524	41,580	705,619	720,764
5	552	118.1	27,718	42,290	569,740	651,143

フランスの面積と人口密度については、海外県を含まない。

（『データブック オブ・ザ・ワールド』2020年版、2021年版、2022年版より作成）

(iii) 下の表2は、2018（平成30）年から2021（令和3）年における、アメリカ合衆国、イギリス、ドイツ、日本、フランスの電気自動車保有台数をそれぞれ示したものである。日本に該当するものはどれか。1～5から一つ選べ。解答番号は

表 2

単位（千台）

	2018年	2019年	2020年	2021年
1	1,123	1,450	1,778	2,064
2	236	264	293	337
3	184	259	434	746
4	177	239	633	1,315
5	165	227	416	725

（『世界国勢図会』2022/23より作成）

(2) 下線部②の開催地のうち、広島県と大阪府に関する次の(i)～(iii)の問いに答えよ。

(i) 下の図1は、国土地理院が発行する5万分1地形図『広島』(平成20年1月1日発行)の一部を約90%に縮小したものである。図1中にみられる、河川が運搬した砂泥が河口付近に堆積して形成された低平な地形は何と呼ばれているか。1～5から一つ選べ。

解答番号は



図 1

- 1 リアス式海岸
- 2 フィヨルド
- 3 三角州
- 4 扇状地
- 5 峡谷

(ii) 下の表3は、2020（令和2）年における、岡山県、島根県、鳥取県、広島県、山口県の耕地面積、林野面積、農業産出額、海面漁業産出額をそれぞれ示したものである。広島県に該当するものはどれか。1～5から一つ選べ。解答番号は

表 3

	耕地面積 (ha)	林野面積 (千ha)	農業産出額 (億円)	海面漁業産出額 (億円)
1	34,300	258	764	185
2	36,400	528	620	169
3	63,600	489	1,414	16
4	53,500	618	1,190	61
5	44,900	440	589	123

海面漁業産出額については、海面養殖業産出額を含まない。
 (『データでみる県勢』2022、2023より作成)

(iii) 全国各地で開催する関係閣僚会合のうち、大阪府では貿易大臣会合が開催される。下の表4は、2019（平成31／令和元）年の大阪港、神戸港、東京港、名古屋港、横浜港の5港における、貿易額と主要貿易品目をそれぞれ示したものである。次の1～5のうち、港A～Eの組合せとして正しいものはどれか。1～5から一つ選べ。解答番号は

表 4

港	貿易額（億円）		主要貿易品目	
	輸出額	輸入額	輸出品目	輸入品目
A	58,237	114,913	半導体等製造装置	衣類
B	123,068	50,849	自動車	液化ガス
C	69,461	48,920	自動車	石油
D	37,742	47,781	集積回路	衣類
E	55,571	33,103	プラスチック	たばこ

(『日本国勢図会』2020/21より作成)

	A	B	C	D	E
1	横浜港	東京港	大阪港	神戸港	名古屋港
2	名古屋港	東京港	横浜港	大阪港	神戸港
3	東京港	名古屋港	神戸港	大阪港	横浜港
4	名古屋港	横浜港	東京港	神戸港	大阪港
5	東京港	名古屋港	横浜港	大阪港	神戸港

3 次の問いに答えよ。

問1 地方自治について、次の(1)～(3)の問いに答えよ。

(1) 日本国憲法の条文の一部を読み、次の問いに答えよ。

第九十二条 地方公共団体の組織及び運営に関する事項は、地方自治の(ア)に基づいて、法律でこれを定める。

第九十三条 地方公共団体には、法律の定めるところにより、その議事機関として議会を設置する。

2 地方公共団体の長、その議会の議員及び法律の定めるその他の(イ)は、その地方公共団体の住民が、(ウ)これを選挙する。

第九十四条 地方公共団体は、その財産を管理し、事務を処理し、及び行政を執行する権能を有し、法律の範囲内で(エ)を制定することができる。

条文中の(ア)～(エ)に入る語句の組合せとして正しいものを1～5から一つ選べ。

解答番号は、

	(ア)	(イ)	(ウ)	(エ)
1	本旨	官吏	間接的に	政令
2	本旨	官吏	直接	条例
3	本旨	吏員	直接	条例
4	原則	吏員	直接	政令
5	原則	官吏	間接的に	条例

(2) 地方公共団体の選挙権と被選挙権、首長や都道府県・市(区)町村議会議員の任期について述べた次のア～オの文のうち正しいものを○、誤っているものを×とした場合、正しい組合せを1～5から一つ選べ。解答番号は、

ア 市(区)町村議会議員・市(区)町村長の選挙権は、日本国民で満18歳以上であり、引き続き2か月以上その市(区)町村の区域内に住所を有する者が有する。

イ 市(区)町村議会議員の被選挙権は、日本国民で満25歳以上かつその市(区)町村議会議員の選挙権を有する者が有する。

ウ 市(区)町村長・都道府県知事の被選挙権は、日本国民で満25歳以上の者が有する。

エ 市(区)町村議会議員・都道府県議会議員の任期は、4年である。

オ 市(区)町村長・都道府県知事の任期は、6年である。

	ア	イ	ウ	エ	オ
1	×	○	×	○	×
2	○	×	×	×	○
3	×	×	○	○	×
4	○	×	○	×	○
5	○	○	×	○	×

(3) 地方自治法第76条の条文を読み、次の問いに答えよ。

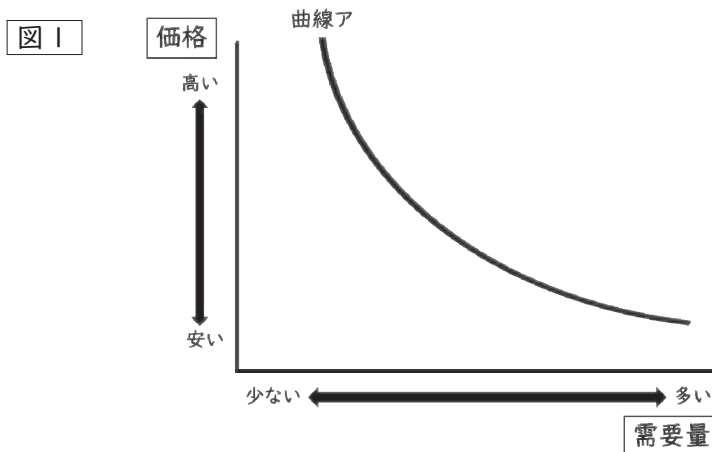
第七十六条 選挙権を有する者は、政令の定めるところにより、その総数の三分の一（その総数が四十万を超え八十万以下の場合にあつてはその四十万を超える数に六分の一を乗じて得た数と四十万に三分の一を乗じて得た数とを合算して得た数、その総数が八十万を超える場合にあつてはその八十万を超える数に八分の一を乗じて得た数と四十万に六分の一を乗じて得た数と四十万に三分の一を乗じて得た数とを合算して得た数）以上の者の連署をもつて、その代表者から、普通地方公共団体の選挙管理委員会に対し、当該普通地方公共団体の議会の解散の請求をすることができる。

有権者が87万人のある自治体において、この条文に基づいて議会の解散請求を行う場合、必要とされる署名数として最も近いものを1～5から一つ選べ。解答番号は、

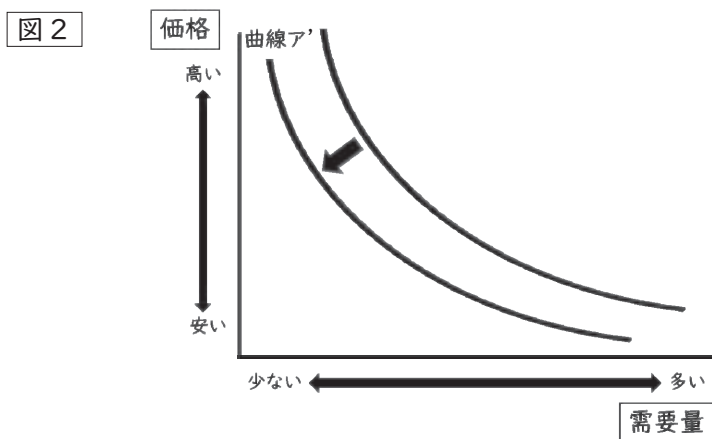
- 1 13万人分
- 2 17万人分
- 3 21万人分
- 4 25万人分
- 5 29万人分

問2 需要・供給と価格との関係について、次の(1)・(2)の問いに答えよ。

(1) 図1の曲線アは、商品A（商品Aは不定とする）の需要量と商品Aの価格との関係を示す曲線である。



あとの1～5の事例のうち、図2のように曲線アが曲線ア'にシフトする事例として最も適したものを一つ選べ。解答番号は、

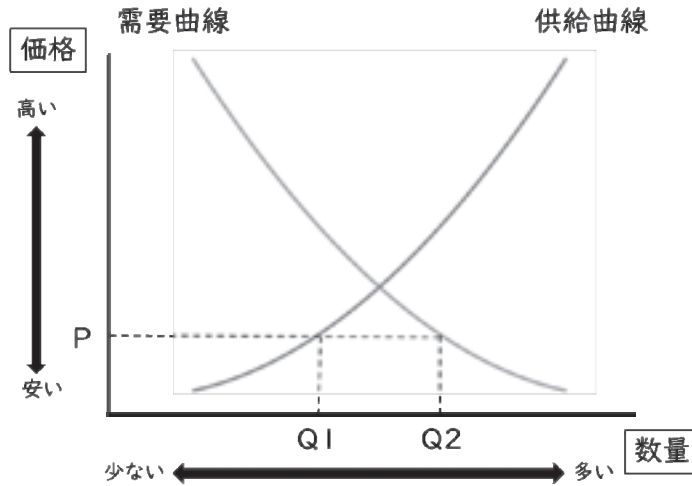


- 1 商品Aをマーガリンとするととき、商品Aの代替財であるバターが価格が上昇した。
- 2 商品Aをタイヤとするととき、商品Aの補完財である自動車の価格が上昇した。
- 3 商品Aをキャベツとするととき、豊作で商品Aの収穫量が増加した。
- 4 商品Aをココアとするととき、商品Aがメディアに取り上げられ、流行した。
- 5 商品AをSSD（ソリッドステートドライブ）とするととき、技術革新により商品Aの生産コストが減少した。

(2) 一般に、財・サービスの価格は市場にあらわれる需要・供給の状態に規定されて定まる。

【資料①】は、商品B（商品Bは不定とする）の価格と商品Bの需要・供給の関係をあらわしたものであり、【資料②】は【資料①】について述べた文である。

【資料①】



【資料②】

自由な競争が行われている市場において、商品Bの価格がPと設定された場合、供給量Q1が需要量Q2を（ア）おり、（イ）の式で表される量の（ウ）が生じている。この市場において、価格の自動調節機能がはたらいている場合、商品Bの価格は（エ）して均衡価格に近付いていくと考えられる。

【資料②】の（ア）～（エ）に入る語句の組合せとして正しいものを1～5から一つ選べ。解答番号は、

- | | (ア) | (イ) | (ウ) | (エ) |
|---|------|-----------|------|-----|
| 1 | 上回って | $Q1 + Q2$ | 超過需要 | 下落 |
| 2 | 下回って | $Q2 - Q1$ | 超過需要 | 上昇 |
| 3 | 上回って | $Q1 + Q2$ | 超過需要 | 上昇 |
| 4 | 下回って | $Q2 - Q1$ | 超過供給 | 上昇 |
| 5 | 上回って | $Q2 - Q1$ | 超過供給 | 下落 |

問3 消費生活について、次の(1)・(2)の問いに答えよ。

(1) 1962年にアメリカ合衆国のケネディ大統領が「消費者の4つの権利」を提唱した。この「消費者の4つの権利」にあたらないものを1～5から一つ選べ。解答番号は、

- 1 安全への権利
- 2 被害の救済を受けられる権利
- 3 選択をする権利
- 4 情報を与えられる権利
- 5 意見を聴かれる権利

(2) 消費者を保護し、消費者の自立を支援するための法律や国の施策についての記述として誤っているものを1～5から一つ選べ。解答番号は、

- 1 消費者契約法では、商品の重要事項について事実と異なる説明があったり、事業者の不当な勧誘行為で消費者が契約したりした場合に、契約期間に関わりなく契約を取り消すことができると定められている。
- 2 消費者庁は、事業者の保護育成を通じた行政を国民一人一人の立場に立ったものへと改めるため、各府省庁の所管分野に横断的にまたがる事案に対して、消費者行政の「司令塔」として機能することを求められて設置された内閣府外局の行政機関である。
- 3 製造物責任法（PL法）では、製造物の欠陥が原因で生命、身体又は財産に損害を被った場合に、被害者が製造業者等に対して損害賠償を求めることができることを規定している。
- 4 消費者教育の推進に関する法律では、国や地方公共団体に対して、学校における消費者教育の推進、発達段階に応じた教育機会の確保、研修の充実、人材の活用を義務付けている。
- 5 2004年に消費者保護基本法を改正して成立した消費者基本法では、国や地方公共団体の責務として、法律や制度の整備や、情報開示の推進によって、消費者が被害にあうことを防ぎ、自立した消費生活を送れるよう支援することを定めている。

問4 国際連合について、次の(1)・(2)の問いに答えよ。

(1) 国際連合に関する説明として誤っているものを1～5から一つ選べ。解答番号は、

28

- 1 1945年6月にサンフランシスコ会議で採択された国際連合憲章に基づき、同年10月に発足した国際連合は、アメリカ合衆国のニューヨークに本部が置かれている。
- 2 国際連合の主たる審議機関である総会は、すべての加盟国の代表から構成され、各国はそれぞれ1票の投票権を持っている。
- 3 国際連合憲章のもとに、国際の平和と安全の維持につき主要な責任を持つ安全保障理事会は、5か国の常任理事国と、総会が4年の任期で選ぶ10か国の非常任理事国とで構成されている。
- 4 経済・社会・文化・教育・保健衛生・人権など幅広い分野を担当し、調査・研究、政策の提案を行う経済社会理事会は、総会が3年の任期で選ぶ54か国の理事国で構成されている。
- 5 条約の解釈や国際法上の問題に関する紛争についての裁判を行う国際司法裁判所は、オランダのハーグに置かれ、15名の裁判官で構成されている。

(2) 国際連合における専門機関及び関連機関の略称及び機関の役割について説明したア～エのうち、正しいものを○、誤っているものを×とした場合、正しい組合せを1～5から一つ選べ。

解答番号は、

	略称	説明
ア	IMF	国際貿易の促進・加盟国の高水準の雇用と国民所得の増大・為替の安定に寄与するため、加盟国の為替政策の監視や、国際収支が著しく悪化した加盟国に対して融資を実施している。
イ	UNESCO	すべての子どもたちの権利が守られる世界を実現するため、子どもの生存に必要な基礎的な社会サービスの支援や、子どもたちをめぐる現状の分析・モニタリングを実施し、具体的な政策提言を各国の指導者や国際社会に対して行っている。
ウ	WHO	「すべての人々が可能な最高の健康水準に到達すること」を目的に、国際保健事業の指導・調整、各国に対する保健事業への援助などを行っている。
エ	ILO	原子力の平和的利用を促進するとともに、原子力が平和的利用から軍事的利用に転用されることを防止するため、技術援助、科学者・技術者の交換や訓練、核物質の軍事転用防止のための査察などを行っている。

	ア	イ	ウ	エ
1	×	○	×	○
2	×	×	○	○
3	○	×	×	○
4	○	○	○	×
5	○	×	○	×

問5 地球環境問題の解決に向けた次のA～Dの条約、協定、議定書と、その説明であるア～エの組合せとして正しいものを1～5から一つ選べ。解答番号は、

- A パリ協定
- B モントリオール議定書
- C ラムサール条約
- D ワシントン条約

- ア 国際的に重要な湿地及びそこに生息・生育する動植物の保全を促進する。
- イ 世界におけるオゾン層を破壊する物質の総放出量を衡平に規制する。
- ウ 世界の平均気温の上昇を産業革命以前と比べて2℃以内におさえることを目標とする。
- エ 輸出国と輸入国とが協力して国際取引の規制を実施することで、国際取引のための過度の利用による野生動植物種の絶滅を防止し、それらの種の保全を図る。

- 1 A－ウ B－イ C－エ D－ア
- 2 A－エ B－ア C－ウ D－イ
- 3 A－イ B－ウ C－ア D－エ
- 4 A－ウ B－イ C－ア D－エ
- 5 A－ウ B－エ C－イ D－ア

4 次の問1～問3の問いに答えよ。

問1 次の史料を読んで、(1)～(3)の問いに答えよ。

上天の眷命せる①大蒙古国皇帝書を日本国王に奉る。朕惟ふに、古より小国の君、境土相接するは尚講信修睦に務む。況んや我が祖宗は天の明命を受け、区夏を奄有す。遐方異域の威を畏れ徳に懐く者数へつくすべからず。…中略…(ア)は朕の東藩なり。日本は(ア)に蜜邇し、開国以来、亦時に中国に通ず。朕の躬に至つて一乗の使も以て和好を通ずること無し。尚王の国これを知ること未だ審ならざるを恐る。故に特に使を遣はし、書を持して朕が志を布告せしむ。冀くは、今より以往、問を通じ好を結び、以て相親睦せん。且つ聖人は四海を以て家と為す。相通好せざるは豈一家の理ならんや。兵を用ふるに至るは、夫れ孰か好む所ならん。王其れ之を図れ。不宣

②至元三年八月 日

(『東大寺尊勝院蔵本 蒙古国牒状』)

(1) 下線部①に関して、当時の「大蒙古国皇帝」はだれか。次の1～5から一つ選べ。

解答番号は

- 1 フビライ・ハーン
- 2 モンケ・ハーン
- 3 オゴタイ・ハーン
- 4 チンギス・ハーン
- 5 フレグ・ハーン

(2) 空欄(ア)に当てはまる語句として、正しいものはどれか。次の1～5から一つ選べ。

解答番号は

- 1 高麗
- 2 渤海
- 3 新羅
- 4 契丹
- 5 刀伊

(3) 下線部②に関して、この年代以前に起こった出来事として、正しいものはどれか。次の1～5から一つ選べ。解答番号は

- 1 御家人の安達泰盛が、御内人勢力の代表と対立し滅ぼされた。
- 2 京都守護にかわり、朝廷との交渉や西国の政務、裁判に当たる機関が設置された。
- 3 建長寺造営のために、幕府が許可した貿易船が中国に派遣された。
- 4 得宗北条貞時によって、得宗家の内管領である平頼綱らが滅ぼされた。
- 5 九州統治機関として、現地において訴訟を裁決する鎮西探題が設置された。

問2 次の史料を読んで、(1)～(3)の問いに答えよ。

- 一 ①日本は神国たる処、きりしたん国より邪法を授け候儀、太以て然るべからず候事。
一 其国郡の者を近付け、門徒になし、神社仏閣を打破るの由、前代未聞に候。…中略…
一 伴天連其知恵の法を以て、心ざし次第に檀那を持ち候と思召され候へば、右の如く日域の仏法を相破る事曲事に候条、伴天連儀日本の地にはおかせられ間敷候間、今日より廿日の間に用意仕り、帰国すべく候。…中略…
一 ②黒船の儀は商売の事に候間、各別に候の条、年月を経、諸事売買いたすべき事。
(ア)十五年 六月十九日

(『松浦家文書』)

(1) 下線部①に関して、日本におけるキリスト教に関する記述として正しいものはどれか。次の1～5から一つ選べ。解答番号は

- 1 最初のキリシタン大名とされる肥前の有馬晴信は、長崎の地をイエズス会に寄進した。
- 2 正使に伊東マンショと千々石ミゲル、副使に原マルチノと中浦ジュリアンが選ばれて慶長遣欧使節として教皇グレゴリウス13世に謁した。
- 3 江戸時代に行われた宗門改めにおいて、禁制された宗派であるキリシタンや日蓮宗不受不施派などの信徒ではないことを、檀那寺が証明する本末制度が実施された。
- 4 徳川家康によってキリスト教禁令が出されると、キリシタン大名の高山右近はマニラに追放され、帰国できず没した。
- 5 オランダ商館は、オランダとの国交が開かれたとき長崎の出島に置かれたが、ポルトガル人の来航が禁止されると、平戸に移転を命ぜられた。

(2) 下線部②に関して、この「黒船」はポルトガルやスペイン(イスパニア)などの南蛮船を表していると考えられる。南蛮文化に関する記述として誤っているものはどれか。次の1～5から一つ選べ。解答番号は

- 1 ポルトガルやスペインとの交易の様子を描いた南蛮屏風が数多く制作され、代表的作品として狩野内膳の『南蛮屏風』がある。
- 2 ポルトガル人のイエズス会士ルイス＝フロイスによって始められた外科医学は、南蛮医学として興隆し、多くの外科医を輩出したが、禁教によりしだいに衰えた。
- 3 南蛮菓子的一种であるカステラや、南蛮船によって船載されたビロードなどの言葉は、南蛮文化のなごりである。
- 4 イエズス会のバリニャーノ(ヴァリニャーニ)は、活字印刷機によるキリシタン版の出版を開始した。
- 5 イエズス会宣教師数名によって編集された『日葡辞書』は、日本語をポルトガル語で説明したものである。

(3) 空欄(ア)に当てはまる元号として正しいものはどれか。次の1～5から一つ選べ。

解答番号は

- 1 文禄 2 天正 3 天文 4 元和 5 寛永

問3 次の史料を読んで、(1)～(4)の問いに答えよ。

異国船渡来の節取計方、前々より数度仰せ出されこれ有り、(ア)船の儀については、文化の度改めて相触れ候次第も候処、(イ)の船、①先年長崎において狼藉に及び、近来は所々へ小船にて乗寄せ、薪水食料を乞ひ、②去年に至り候ては猥に上陸致し、…中略… 一体(イ)に限らず、南蛮・西洋の儀は御制禁邪教の国に候間、以来何れの浦方におみても異国船乗寄候を見受候はば、其所に有合候人夫を以て、有無に及ばず一箇に打払い、逃延候はば追船等差出すに及ばず、其分に差置き、若し押して上陸いたし候はば、搦捕又は打留め候ても苦しからず候。…中略… (ウ)船は見分も相成かね申すべく、右等の船、万一見損ひ、打誤り候共、御察度はこれある間敷候間、(エ)、打払を心掛け、箇を失はざる取計候処、専要の事に候 …中略…

(『御触書天保集成』)

(1) 空欄(ア)～(ウ)に当てはまる語句の組合せとして、正しいものはどれか。次の1～5から一つ選べ。解答番号は

	ア	イ	ウ
1	いきりす	おろしや	阿蘭陀
2	おろしや	めりけん	伊太利
3	おろしや	いきりす	阿蘭陀
4	めりけん	おろしや	西班牙
5	めりけん	いきりす	伊太利

(2) 下線部①が示す事件に関連する記述として正しいものはどれか。次の1～5から一つ選べ。解答番号は

- 1 外国船が対日貿易の開始と漂流民の送還を目的として来航したが、長崎で砲撃をうけ、鹿児島湾においても再び砲撃された。
- 2 根室で交付された貿易許可証明書を携えて外国船が長崎に来航したが、幕府によって親書は突き返され、交易は拒絶された。
- 3 この事件の責任を負って長崎奉行の松平康英は切腹し、佐賀藩主も処分をうけた。
- 4 この事件に驚いた幕府は、長崎の防備に着手し海軍伝習所を設置した。
- 5 この事件について蘭学者高野長英は、『戊戌夢物語』を書いて批判した。

(3) 下線部②に関して、この「去年」にあたる年、異国船の船員が牛を強奪しようとし、現地に派遣されていた役人との間で銃撃戦が繰り広げられた場所がある。この銃撃戦が繰り広げられた場所として正しいものはどれか。次の1～5から一つ選べ。解答番号は

- 1 蝦夷地択捉島
- 2 浦賀久里浜
- 3 薩摩宝島
- 4 土佐浦戸
- 5 豊後臼杵湾

(4) 空欄(エ)に当てはまる語句として、正しいものはどれか。次の1～5から一つ選べ。解答番号は

- 1 二念無く
- 2 一心に
- 3 専一に
- 4 左右無く
- 5 夢中に

5 次の問1～問3の問いに答えよ。

問1 文化に関連した問い(1)～(6)に答えよ。

(1) 次の年表は、1868年から1877年までにおける、宗教政策に関連する主な出来事を示している。下の問いア・イに答えよ。

年代	出来事
1868	<u>キリスト教禁止の高札の掲示</u> / 神仏分離令の発布
1869	【 i 】を太政官から独立させる
1870	【 ii 】の詔(詔書)を発布
1871	【 i 】を神祇省に格下げする
1872	神祇省の廃止。教部省の設置。
1873	キリスト教禁止の高札の撤去 / 祝祭日の制定
1876	黒住教を【 iii 】として公認
1877	教部省の廃止

ア) 年表中の下線部に関連して、長崎の浦上村の村民がキリスト教信仰を神父に表明し、キリスト教の改宗を拒否したことから、明治新政府は長崎の浦上教徒を弾圧した。1865年、長崎の浦上村の村民がキリスト教信仰を神父に表明した場所とされているカトリック教会堂の名称を答えよ。

イ) 神道に関する政策の展開および国家神道の確立の経緯について、年表に示された出来事に基づき、年表中の空欄【 i 】～【 iii 】に入る適切な語句をすべて用いて100字以上160字以内で説明せよ。

(2) 明治期、主として欧米諸国から、外国人が様々な分野の指導者として日本に招かれた。次の説明ア・イが示している「御雇外国人」はだれか、それぞれ答えよ。

ア) 1877年に来日したアメリカの生物学者。同年に大森貝塚を発見し、その発掘調査の報告書『大森介墟古物編』を刊行した。

イ) 1877年に来日したイギリスの建築家。設計の代表作には、上野博物館(1882年)、鹿鳴館(1883年)、ニコライ堂(1891年)などがある。

(3) 1880年代、民友社を創立して『国民之友』を発刊して平民的欧化主義を唱えたが、1890年代には国家膨張主義の立場へと移り、のちに大日本言論報国会および大日本文学報国会の会長となった人物はだれか、答えよ。

(4) アメリカの美術研究家フェノロサとともに新しい日本絵画の創造を唱え、また、1903(明治36)年には、アジアの解放を主張しアジアの文化的優秀性を強調した著書『東洋の理想(The Ideals of the East, with Special Reference to the Art of Japan)』を出版した人物はだれか、答えよ。

(5) 次の説明ア～ウが示している美術家の作品を、それぞれ1～6(5,6は次ページ)から一つずつ選び、番号で答えよ。

ア) 1888(明治21)年、東京美術学校の創立とともに最初の日本画教授となった日本画家。日本美術院の創立にあたり、その主幹となった。

イ) フランスに留学して外光派の画家ラファエル＝コランに師事した洋画家。帰国後の1896(明治29)年、久米桂一郎らとともに白馬会を結成した。

ウ) 木彫の衰退期に、西洋画の写実を参考とした写生を取り入れ、新しい作風を開いた彫刻家。1893(明治26)年のシカゴ万国博覧会では、妙技二等賞を受賞した。

1

著作権保護の観点により、本作品を掲載いたしません。

出典：静嘉堂文庫美術館「龍虎図屏風」

<https://www.seikado.or.jp/collection/modern/001.html>

橋本雅邦「龍虎図屏風」

(静嘉堂文庫美術館蔵)

2

著作権保護の観点により、
本作品を掲載いたしません。

出典：東京藝術大学大学美術館
「悲母観音」

https://jmapps.ne.jp/geidai/det.html?data_id=1368

狩野芳崖「悲母観音」

(東京藝術大学蔵)

3

著作権保護の観点により、
本作品を掲載いたしません。

出典：東京藝術大学大学美術館「収穫」

https://jmapps.ne.jp/geidai/det.html?data_id=3500

浅井忠「収穫」

(東京藝術大学蔵)

4

著作権保護の観点により、
本作品を掲載いたしません。

出典：東京国立博物館「読書」

https://www.tnm.jp/modules/r_collection/index.php?controller=dtl&colid=A10937

黒田清輝「読書」

(東京国立博物館蔵)

5

著作権保護の観点により、
本作品を掲載いたしません。

出典：東京国立博物館「老猿」
[https://www.tnm.jp/modules/
r_collection/index.php?contro
ller=dtl&colid=C232](https://www.tnm.jp/modules/r_collection/index.php?controller=dtl&colid=C232)
高村光雲「老猿」

(東京国立博物館蔵)

6

著作権保護の観点により、
本作品を掲載いたしません。

出典：島根県立美術館「手」
[https://jmapps.ne.jp/
shimane_art_museum2/
det.html?data_id=2667](https://jmapps.ne.jp/shimane_art_museum2/det.html?data_id=2667)
高村光太郎「手」

(島根県立美術館蔵)

(6) 近代芸術の確立を目的とする文化改革運動をめざし、1906(明治39)年、島村抱月らによって創立され、坪内逍遙の『桐一葉』や『ハムレット』『人形の家』などを上演して新劇運動の先駆けとなった団体の名称を答えよ。

問2 次の表は、1891(明治24)年度から1940(昭和15)年度までの日本の会計年度(4月～翌年3月)における、軍事費総額および国家財政に占める軍事費の比率を示している。次ページの問い(1)～(7)に答えよ。

表

年度	軍事費総額 (万円)	国家財政に占める 軍事費の比率(%)	年度	軍事費総額 (万円)	国家財政に占める 軍事費の比率(%)
1891	2382	28.5	1916	24207	40.4
1892	2390	31.1	1917	34614	47.4
1893	2296	27.1	1918	48117	51.9
1894	12857	69.4	1919	85848	65.1
1895	11719	65.6	1920	90428	58.4
1896	7342	43.5	1921	84188	52.7
1897	11073	49.5	1922	69257	45.7
1898	11265	51.3	1923	52955	34.2
1899	11444	45.0	1924	48732	29.6
1900	13381	45.7	1925	44824	29.4
1901	10696	40.1	1926	43675	27.7
1902	8652	29.9	1927	49663	28.1
1903	15132	47.9	1928	51974	28.6
1904	67302	81.9	1929	49641	28.6
1905	73061	82.3	1930	44430	28.5
1906	37874	54.4	1931	46120	31.2
1907	21512	34.9	1932	70103	35.9
1908	21376	33.6	1933	88106	39.1
1909	17762	33.3	1934	94839	43.8
1910	18557	32.6	1935	103924	47.1
1911	20622	35.2	1936	108545	47.6
1912	20093	33.8	1937	329399	69.5
1913	19230	33.5	1938	597906	77.0
1914	22006	35.6	1939	648957	73.7
1915	22004	37.0	1940	796349	72.5

※『日本長期統計総覧』より作成。

- ・軍事費総額 = 一般会計(陸海軍省所管経費・徴兵費・臨時事件費) + 臨時軍事費特別会計年度別支出額
- ・国家財政に占める軍事費の比率 = 軍事費総額 / (一般会計, 臨時軍事費特別会計の純計) × 100

(1) 表を参考にして、日本の軍事費や戦争に関連して述べた文として正しいものを、次の1～5から一つ選び、番号で答えよ。ただし、文中の「〇〇年に始まる会計年度」は「〇〇年度」を意味し、例えば、「1890年に始まる会計年度」は「1890年度」を意味する。

- 1 帝国国防方針が最初に制定された年に始まる会計年度から5年間、軍事費総額も国家財政に占める軍事費の比率も増え続けている。
- 2 日露戦争が勃発した年に始まる会計年度における国家財政に占める軍事費の比率は、1891年度から1940年度までの中で最も大きい。
- 3 第1次山東出兵が実施された年に始まる会計年度は、軍事費総額は5億円以下であり、国家財政に占める軍事費の比率は30%以下である。
- 4 シベリア出兵が宣言された年に始まる会計年度からシベリア出兵の撤退が完了した年に始まる会計年度までの間、軍事費総額はいずれも5億円以上である。
- 5 日清戦争が勃発した年に始まる会計年度は、その前年に始まる会計年度と比べると、軍事費総額は5倍以上に増え、国家財政に占める軍事費の比率は3倍以上に増えている。

(2) 1890(明治23)年、内閣総理大臣の山県有朋は、国家の独立には「主権線」の外側にある朝鮮の確保が必要であるという趣旨の施政方針演説をおこなった。この時、山県首相は、「主権線」に対する言葉として、朝鮮についてどのように表現したのか。漢字3字で答えよ。

(3) 1912(大正元)年、陸軍の二個師団増設案が閣議で否決されると、当時の陸軍大臣は、帷幄上奏の形で単独辞職し、陸軍は後任陸相を推薦しなかったため当時の内閣は総辞職に追い込まれた。帷幄上奏の形で単独辞職したこの陸相はだれか、答えよ。

(4) 1922(大正11)年、日本を含む5カ国によって締結されたワシントン海軍軍縮条約で、主力艦の保有量の上限が定められた。主力艦の保有量の上限について、総トン数を比率で表した場合、イギリス・アメリカの比率を10とすると、日本の比率はいくらか。整数で答えよ。

(5) 1925(大正14)年、加藤高明内閣の陸軍大臣は、陸軍の軍備縮小を実施した。この陸相は、後の1937(昭和12)年に組閣の命を受けた際に、陸軍の反対にあって組閣を断念することとなった。陸軍の軍備縮小を実施したこの陸相はだれか、答えよ。

(6) 1936(昭和11)年に組閣し、軍部大臣現役武官制を復活させた内閣総理大臣はだれか、答えよ。

(7) 1931年度から1940年度までの軍事費総額の推移とその背景について、大蔵大臣高橋是清が主導した財政政策および軍部の動向を踏まえ、次の枠内の言葉をすべて使って100字以上160字以内で説明せよ。

赤字公債

二・二六事件

問3 次の史料Ⅰ～史料Ⅴを読み、それらに関連した(1)～(15)の問いに答えよ。

史料Ⅰ

臣等伏シテ①方今政権ノ帰スル所ヲ察スルニ、上帝室ニ在ラス、下人民ニ在ラス、而独有司ニ帰ス。夫有司、上帝室ヲ尊フト曰ハサルニハ非ス、而帝室漸ク其尊榮ヲ失フ。下人民ヲ保ツト云ハサルニハ非ス、而政令百端、朝出暮改、政情実ニ成リ、賞罰愛憎ニ出ツ。言路壅蔽、困苦告ルナシ。夫如是ニシテ天下ノ治安ナラン事ヲ欲ス、三尺ノ童子モ猶其不可ナルヲ知ル。因仍改メス、恐クハ国家土崩ノ勢ヲ致サン。臣等愛國ノ情自ラ已ム能ハス、乃チ之ヲ振救スルノ道ヲ講求スルニ、唯天下ノ公議ヲ張ルニ在ル而已。天下ノ公議ヲ張ルハ、【ア】ヲ立ルニ在ル而已。則有司ノ権限ル所アツテ、而シテ上下其安全幸福ヲ受ル者アラン。

(『②日新真事誌』)

- (1) 史料Ⅰの下線部①は、当時の政権への批判を表現したものである。当時、参議兼内務卿として政府の実権を握っていた人物はだれか、答えよ。
- (2) 史料Ⅰの空欄【ア】に入る適切な語句を答えよ。
- (3) 史料Ⅰの下線部②が示す新聞を創刊したイギリス人はだれか、答えよ。

史料Ⅱ

朕祖宗ノ遺烈ヲ承ケ万世一系ノ帝位ヲ踐ミ朕カ親愛スル所ノ【イ】ハ即チ朕カ祖宗ノ恵撫慈養シタマヒシ所ノ【イ】ナルヲ念ヒ其ノ康福ヲ増進シ其ノ懿徳良能ヲ發達セシメムコトヲ願ヒ又其ノ翼賛ニ依リ与ニ俱ニ国家ノ進運ヲ扶持セムコトヲ望ミ乃チ明治【ウ】年十月十二日ノ詔命ヲ履踐シ茲ニ大憲ヲ制定シ朕カ率由スル所ヲ示シ朕カ後嗣及【イ】及【イ】ノ子孫タル者ヲシテ永遠ニ循行スル所ヲ知ラシム

……

朕ハ我カ【イ】ノ権利及財産ノ安全ヲ貴重シ及之ヲ保護シ此ノ憲法及法律ノ範囲内ニ於テ其ノ享有ヲ完全ナラシムヘキコトヲ宣言ス

帝国議會ハ明治二十三年ヲ以テ之ヲ召集シ議會開会ノ時ヲ以テ此ノ憲法ヲシテ有効ナラシムルノ期トスヘシ

……

朕カ在廷ノ大臣ハ朕カ為ニ此ノ憲法ヲ施行スルノ責ニ任スヘク朕カ現在及将来ノ【イ】ハ此ノ憲法ニ対シ永遠ニ従順ノ義務ヲ負フヘシ

御名御璽

明治二十二年二月十一日

内閣総理大臣 伯爵 黒田清隆

【エ】議長 伯爵 伊藤博文

外務大臣 伯爵 大隈重信

……

(『官報 号外』)

- (4) 史料Ⅱの空欄【イ】に入る適切な語句を答えよ。
- (5) 史料Ⅱの空欄【ウ】に入る適切な語句を、漢字で答えよ。
- (6) 史料Ⅱの空欄【エ】に入る適切な語句を答えよ。

史料Ⅲ

著作権保護の観点により、本文を掲載いたしません。

出典：『憲法講話』

美濃部達吉著 有斐閣

66ページ11行目から67ページ6行目まで

- (7) 史料Ⅲの空欄【オ】に入る適切な語句を答えよ。
(8) 史料Ⅲの下線部③が示す書籍の著者はだれか、答えよ。
(9) 史料Ⅲに示された学説を排除するため、1935（昭和10）年、政府は二度の声明を出した。この声明は何と呼ばれているか、漢字6字で答えよ。

史料Ⅳ

著作権保護の観点により、本文を掲載いたしません。

出典：『太平洋戦争への道 開戦外交史』別巻資料編

稲葉正夫ほか著 朝日新聞社

71ページ18行目から35行目まで

- (10) 史料Ⅳの空欄【カ】に入る都市の名称を、カタカナで答えよ。
(11) 史料Ⅳの下線部④が示す「全権」の首席であった人物はだれか、答えよ。
(12) 史料Ⅳの下線部⑤が示す「問題」に関して、衆議院の議席数において第二党であった政党は、野党として政府を批判した。当時、衆議院の議席数において第二党であったこの政党の正式名称を答えよ。

史料Ⅴ

著作権保護の観点により、本文を掲載いたしません。

出典：『資料日本占領』Ⅰ 天皇制

山極晃ほか著 大月書店

542ページ6行目から20行目まで

- (13) 史料Ⅴの「三原則」を提示した人物はだれか、答えよ。
(14) 史料Ⅴの内容に基づき、GHQ（連合国最高司令官総司令部）では、民主化政策を推進する専門部局において憲法草案が作成された。この専門部局の名称を答えよ。
(15) 上記（14）の専門部局は、憲法草案の作成にあたり、1945（昭和20）年に発表された憲法研究会の憲法草案を参考にしたとされる。この憲法研究会を結成した人物のうち、大原社会問題研究所の初代所長に就任した経歴をもつのはだれか、答えよ。

令和6年度大阪府公立学校教員採用選考テスト

三次選考択一問題の正答について

校種	高等学校	教科・科目	地理歴史（日本史）
----	------	-------	-----------


解答番号	正答番号	解答番号	正答番号	解答番号	正答番号	解答番号	正答番号
1	3	11	1	21	3	31	1
2	2	12	3	22	1	32	1
3	3	13	5	23	3	33	2
4	4	14	2	24	2	34	4
5	3	15	1	25	2	35	2
6	5	16	2	26	2	36	2
7	4	17	2	27	1	37	3
8	4	18	3	28	3	38	3
9	1	19	4	29	5	39	3
10	3	20	5	30	4	40	1

受験番号	
------	--

令和6年度大阪府公立学校教員採用選考テスト

高等学校 地理歴史（日本史） 解答用紙 (2枚のうち1)

5	得点	
---	----	--



問1	(1) ア	大浦天主堂	/		
	(1) イ	政府は祭政一致の立場から、神仏習合を禁じて神道国教化の方針を示し、神祇官を設置した。また、大教宣布の詔によって天皇崇拝に基づく国民教化を進め、神社制度や祝祭日を制定した。しかし、信教の自由を求める他宗教の反発もあり、宗教としての教派神道を認めるなど国民教化は挫折し、宗教と分離した祭祀として位置付ける国家神道を確立した。			/
		(2) ア	モース	/	
		(2) イ	コンドル	/	
		(3)	徳富蘇峰	/	
		(4)	岡倉天心	/	
		(5)	ア:1 イ:4 ウ:5	/	
		(6)	文芸協会	/	

問2	(1)	3	/	
	(2)	利益線	/	
	(3)	上原勇作	/	
	(4)	6	/	
	(5)	宇垣一成	/	
	(6)	広田弘毅	/	
	(7)	高橋是清蔵相は、積極財政のもと赤字公債を発行して満州事変の軍事費を捻出し、軍事費が増加した。景気回復がみられると、財政の健全化を図って公債漸減の方針を掲げ、軍事費を抑えようとしたが、二・二六事件で高橋蔵相は暗殺された。その後、日中戦争が勃発すると歳出を増税や公債の発行で補い、軍部の要求どおりに軍事費総額は膨張し続けた。		



受験番号	
------	--

令和6年度大阪府公立学校教員採用選考テスト

高等学校 地理歴史（日本史） 解答用紙 (2枚のうち2)

5 (続き)

--

問 3	(1) 大久保利通	/	(2) 民撰議院	/	(3) ブラック	/
	(4) 臣民	/	(5) 十四	/	(6) 枢密院	/
	(7) 統治	/	(8) 美濃部達吉	/	(9) 国体明徴声明	/
	(10) ロンドン	/	(11) 若槻礼次郎	/	(12) 立憲政友会	/
	(13) マッカーサー	/	(14) 民政局	/	(15) 高野岩三郎	/

--