

高等学校 地理歴史（日本史）

解答についての注意点

- 1 解答用紙は、マーク式解答用紙と記述式解答用紙の2種類があります。
- 2 大問 **1** ~大問 **4** については、マーク式解答用紙に、大問 **5** については、記述式解答用紙に記入してください。
- 3 解答用紙が配付されたら、まずマーク式解答用紙に受験番号等を記入し、受験番号に対応する数字を、鉛筆で黒くぬりつぶしてください。
記述式解答用紙は、全ての用紙の上部に受験番号のみを記入してください。
- 4 大問 **1** ~大問 **4** の解答は、選択肢のうちから、**問題で指示された解答番号**の欄にある数字のうち一つを黒くぬりつぶしてください。
例えば、「解答番号は 」と表示のある問題に対して、「**3**」と解答する場合は、解答番号 の欄に並んでいる ① ② ③ ④ ⑤ の中の ③ を黒くぬりつぶしてください。
- 5 間違ってぬりつぶしたときは、消しゴムできれいに消してください。二つ以上ぬりつぶされている場合は、その解答は無効となります。
- 6 その他、係員が注意したことをよく守ってください。

指示があるまで中をあけてはいけません。

1 世界史に関する次の(1)～(10)の問いに答えよ。

(1) 古代オリエントについて述べた次の文章を読み、ア～エの国名の組み合わせとして正しいものを1～5より一つ選べ。解答番号は

(ア) は前7世紀前半に、オリエント全土のさまざまな民族を支配し統合した。しかし、諸民族の反乱を受け首都のニネヴェは陥落し、その後オリエントには4つの王国が分立した。4つの王国とはエジプト、ユダ王国を滅ぼした(イ)、イラン高原を支配した(ウ)、最古の金属貨幣を鑄造したとされる(エ)である。

- | | | | | |
|---|----------|----------|----------|--------|
| 1 | ア 新バビロニア | イ メディア | ウ アッシリア | エ リディア |
| 2 | ア アッシリア | イ リディア | ウ 新バビロニア | エ メディア |
| 3 | ア アッシリア | イ 新バビロニア | ウ リディア | エ メディア |
| 4 | ア 新バビロニア | イ アッシリア | ウ メディア | エ リディア |
| 5 | ア アッシリア | イ 新バビロニア | ウ メディア | エ リディア |

(2) 中国の諸子百家の人物とそれぞれの主張について、1～5より誤っているものを一つ選べ。

解答番号は

- 1 墨子は普遍的な相互愛を意味する「兼愛説」を説いた。
- 2 老子はあるがままの自然な状態(無為自然)を理想とした。
- 3 荀子は性悪説を唱え、法律による統治(法治主義)を重視した。
- 4 孔子は家族の間の礼節と愛情を広く天下におよぼしていけば、理想的な社会秩序が実現できると唱えた。
- 5 孟子は性善説を唱え、人は生まれながらに善であると強調した。

(3) 中国の北宋における王安石の新法の説明として、1～5より正しいものを一つ選べ。

解答番号は

- 1 市易法とは、政府が大商人から商品を適正価格で買い上げ、それを担保もしくは保証人のある中小商人に売りさばかせることを定めたものである。
- 2 青苗法とは、各地の特産物を輸送させ、不足地で売却することを定めたものである。
- 3 保甲法とは、政府が徴税や治安維持などの労役の代わりに免役税を徴収し、労役を望む者に雇金を給して募集することを定めたものである。
- 4 均輸法とは、政府が民に低利で穀物を貸し付け、収穫時に返済させることを定めたものである。
- 5 募役法とは、治安維持を目的として民に軍事訓練を行うことを定めたものである。

(4) 大航海時代に関連する人物について述べたア～オのうち、正しいものを○、誤っているものを×とした場合、正しい組み合わせはどれか。1～5より一つ選べ。解答番号は

- ア エンリケ航海王子は、アフリカ大陸最南端の岬に到達した。
- イ カブラルは現在のブラジルに到達し、同地をポルトガルが領有するきっかけを作った。
- ウ コロンブスは、1492年にサン＝サルバドル島に到着した。
- エ マゼランはスペイン国王と契約を結び、西回りのアジア航路を発見するため航海に出発した。
- オ バルボアはパナマ地峡を横断し、インド洋に到達した。

	ア	イ	ウ	エ	オ
1	○	×	×	○	×
2	×	○	○	×	×
3	×	○	×	○	○
4	○	×	○	×	○
5	×	○	○	○	×

(5) 南北アメリカ文明について、以下の説明にあてはまる文明を1～5より一つ選べ。

解答番号は

建築、土木技術の面では高度の水準に達し、整然たる都市計画に基づく壮大な石造建築物や道路網が生まれた。文字を使用しなかったが、記録にはキープ（結縄）が用いられた。独自の発展を遂げたが、16世紀にスペイン人によって征服された。

- 1 オルメカ文明
- 2 テオティワカン文明
- 3 インカ文明
- 4 アステカ文明
- 5 マヤ文明

(6) 宗教改革に関連する人物について述べた次の文章を読み、1～5より誤っているものを一つ選べ。

解答番号は

- 1 マルティン＝ルターは贖宥状（免罪符）の販売に対して、九十五カ条の論題で批判した。
- 2 ツヴィングリはエラスムスらの影響を受け、スイスで宗教改革を展開した。
- 3 カルヴァンは、魂が救われるかどうかはあらかじめ神によって決定されているという「予定説」を唱えた。
- 4 メアリ1世は、首長法によって国王がイギリス国教会の首長であると宣言した。
- 5 イグナティウス＝ロヨラは宗教改革に対抗して、フランシスコ＝ザビエルらとともにイエズス会を設立した。

(7) フランス革命の一連の流れについて、次のア～オの出来事をおこった順に左から右へと並び替えた場合、正しいものはどれか。1～5より一つ選べ。解答番号は

- ア 国民公会で王政の廃止を宣言し、第一共和政が樹立された。
- イ パリ民衆がバスティーユ牢獄を襲撃した。
- ウ ブリュメール18日のクーデタがおこった。
- エ 男子普通選挙制を認めた1793年憲法が制定された。
- オ 国王ルイ16世と王妃マリ＝アントワネットがオーストリアへの逃亡を試みたが失敗し、パリに送還された。

- 1 イ → ア → オ → エ → ウ
- 2 イ → オ → ア → エ → ウ
- 3 イ → オ → ア → ウ → エ
- 4 オ → ア → イ → ウ → エ
- 5 オ → ア → イ → エ → ウ

(8) アヘン戦争について述べた次の文章を読み、1～5より誤っているものを一つ選べ。

解答番号は

- 1 清の茶をイギリスに、イギリスの綿製品をインドに、インド産のアヘンを清に運ぶ三角貿易により、清から大量の銀が国外に流出した。
- 2 アヘンの密貿易の増加に伴い、清は林則徐を上海に派遣して取締りにあたさせた。
- 3 清はイギリスと南京条約を結び、香港島の割譲、上海・寧波・福州・厦門・広州の5港の開港、公行の廃止、賠償金の支払いなどを認めた。
- 4 虎門寨追加条約により、清はイギリスに片務的最恵国条款や開港場におけるイギリス人の土地租借および住居建築などを認めた。
- 5 清はイギリスに続き、アメリカと望厦条約、フランスと黄埔条約を結んだ。

(9) 次の表はアメリカ合衆国への移民の数の推移を年代別に表しており、表中のア～エは日本、メキシコ、アイルランド、ソ連（ロシア）のいずれかを示している。各国の組み合わせとして正しいものを1～5より一つ選べ。解答番号は

<表> 1861年～1960年におけるアメリカ合衆国への移民の推移

著作権保護の観点により、表を掲載いたしません。

出典：アメリカ合衆国国土安全保障省 (<https://www.dhs.gov/immigration-statistics/yearbook/2000>)
webページよりDLできるPDFファイル19-20ページに掲載されている表より数値を引用して、問題を作成。

『2000 Statistical Yearbook of the Immigration and Naturalization Service』より作成

- | | | | | |
|---|-----------|-----------|-----------|--------|
| 1 | ア ソ連（ロシア） | イ アイルランド | ウ メキシコ | エ 日本 |
| 2 | ア メキシコ | イ アイルランド | ウ ソ連（ロシア） | エ 日本 |
| 3 | ア ソ連（ロシア） | イ 日本 | ウ アイルランド | エ メキシコ |
| 4 | ア アイルランド | イ ソ連（ロシア） | ウ メキシコ | エ 日本 |
| 5 | ア アイルランド | イ 日本 | ウ ソ連（ロシア） | エ メキシコ |

(10) 第一次世界大戦において、同盟国側で参戦した国の正しい組み合わせを、1～5より一つ選べ。
解答番号は

- | | | | |
|---|--------|-------|----------------|
| 1 | オスマン帝国 | ロシア | オーストリア＝ハンガリー帝国 |
| 2 | オスマン帝国 | フランス | ロシア |
| 3 | フランス | ポルトガル | オーストリア＝ハンガリー帝国 |
| 4 | ロシア | ブルガリア | ポルトガル |
| 5 | オスマン帝国 | ブルガリア | オーストリア＝ハンガリー帝国 |

2 地理に関する次の(1)～(10)の問いに答えよ。

(1) 次のア～エのうち、A国の排他的経済水域において、A国の権利義務を害しない限り、A国以外の国も有する権利として正しいものを○、誤っているものを×とした場合、正しい組合せはどれか。1～5から一つ選べ。解答番号は

- ア 漁獲の自由
- イ 航行の自由
- ウ 上空飛行の自由
- エ 海底電線・パイプライン敷設の自由

	ア	イ	ウ	エ
1	×	×	○	×
2	×	○	○	○
3	×	×	×	×
4	○	○	×	○
5	○	○	○	×

(2) 下の表1は、2018(平成30)年における日本、イタリア、オランダ、スウェーデン、フランスの穀類、野菜類、果実類、肉類、牛乳・乳製品の品目別自給率をそれぞれ示したものである。イタリアに該当するものはどれか。1～5から一つ選べ。解答番号は

表 1

単位(%)

	穀類	野菜類	果実類	肉類	牛乳・乳製品
1	102	34	6	76	84
2	176	72	65	103	104
3	10	347	39	253	157
4	63	149	109	74	85
5	28	78	38	51	59

(農林水産省の資料より作成)

(3) 次の文章は、アジアのある国について述べたものである。該当する国はどれか。1～5から一つ
選べ。解答番号は

東南アジア諸国連合（ASEAN）の原加盟国であり、「東南アジア諸国連合（ASEAN）設立
宣言」はこの国の首都で採択された。2019年における天然ゴムの生産量は484万トンで
世界1位、輸出量も世界1位である。国土はインドシナ半島の中央部を占め、国土面積は
51.3万km²で日本の1.36倍である。

(外務省の資料及び『データブック オブ・ザ・ワールド』2022年版より作成)

- 1 タイ
- 2 ベトナム
- 3 マレーシア
- 4 ミャンマー
- 5 インドネシア

(4) 下の表2は、1994年におけるブラジルの輸出額の多い上位10品目と、総輸出額に占める品目別輸出額の割合をそれぞれ示したものである。表3は、2019年におけるブラジルの輸出額の多い上位10品目と、総輸出額に占める品目別輸出額の割合をそれぞれ示したものである。表2及び表3中の品目ア～エの組合せとして正しいものはどれか。1～5から一つ選べ。

解答番号は

表 2

品目	輸出額(百万ドル)	割合(%)
ア	5,230	12.0
鉄鋼	4,120	9.5
自動車	2,958	6.8
鉄鉱石	2,294	5.3
イ	2,220	5.1
植物性油かす	2,029	4.7
はきもの	1,537	3.5
果実	1,337	3.1
肉類	1,333	3.1
ウ	1,316	3.0

総輸出額は43,558百万ドル

(『世界国勢図会』1998/99年版より作成)

表 3

品目	輸出額(百万ドル)	割合(%)
ウ	26,077	11.6
原油	24,200	10.7
鉄鉱石	22,682	10.1
肉類	16,325	7.2
ア	16,299	7.2
鉄鋼	11,546	5.1
自動車	8,912	4.0
パルプ・古紙	7,477	3.3
エ	7,290	3.2
石油製品	6,112	2.7

総輸出額は225,383百万ドル

(『世界国勢図会』2021/22年版より作成)

- | | ア | イ | ウ | エ |
|---|-------|--------|--------|--------|
| 1 | コーヒー豆 | 大豆 | 機械類 | とうもろこし |
| 2 | コーヒー豆 | 機械類 | とうもろこし | 大豆 |
| 3 | 機械類 | コーヒー豆 | 大豆 | とうもろこし |
| 4 | 大豆 | とうもろこし | 機械類 | コーヒー豆 |
| 5 | 機械類 | コーヒー豆 | とうもろこし | 大豆 |

(5) 下の表4は、アジア、アフリカ、オーストラリア、北アメリカ、南極、南アメリカ、ヨーロッパにおける高度別面積割合をそれぞれ示したものである。南極に該当するものはどれか。1～5から一つ選べ。解答番号は

表 4

単位(%)

	200m 未満	200m 以上 500m 未満	500m 以上 1,000m 未満	1,000m 以上 2,000m 未満	2,000m 以上 3,000m 未満	3,000m 以上 4,000m 未満	4,000m 以上 5,000m 未満	5,000m 以上
1	6.4	2.8	5.0	22.0	37.6	26.2	0.0	—
2	24.6	20.2	25.9	18.0	5.2	2.0	4.1	1.1
3	52.7	21.2	15.2	5.0	2.0	0.0	0.0	—
4	29.9	30.7	12.0	16.6	9.1	1.7	0.0	0.0
5	9.7	38.9	28.2	19.5	2.7	1.0	0.0	0.0
オーストラリア	39.3	41.6	16.9	2.2	0.0	0.0	0.0	—
南アメリカ	38.2	29.8	19.2	5.6	2.2	2.8	2.2	0.0

アジアにはカフカスを含む、ヨーロッパにはカフカスを含まない。

オーストラリアにはニューギニアなどを含む。

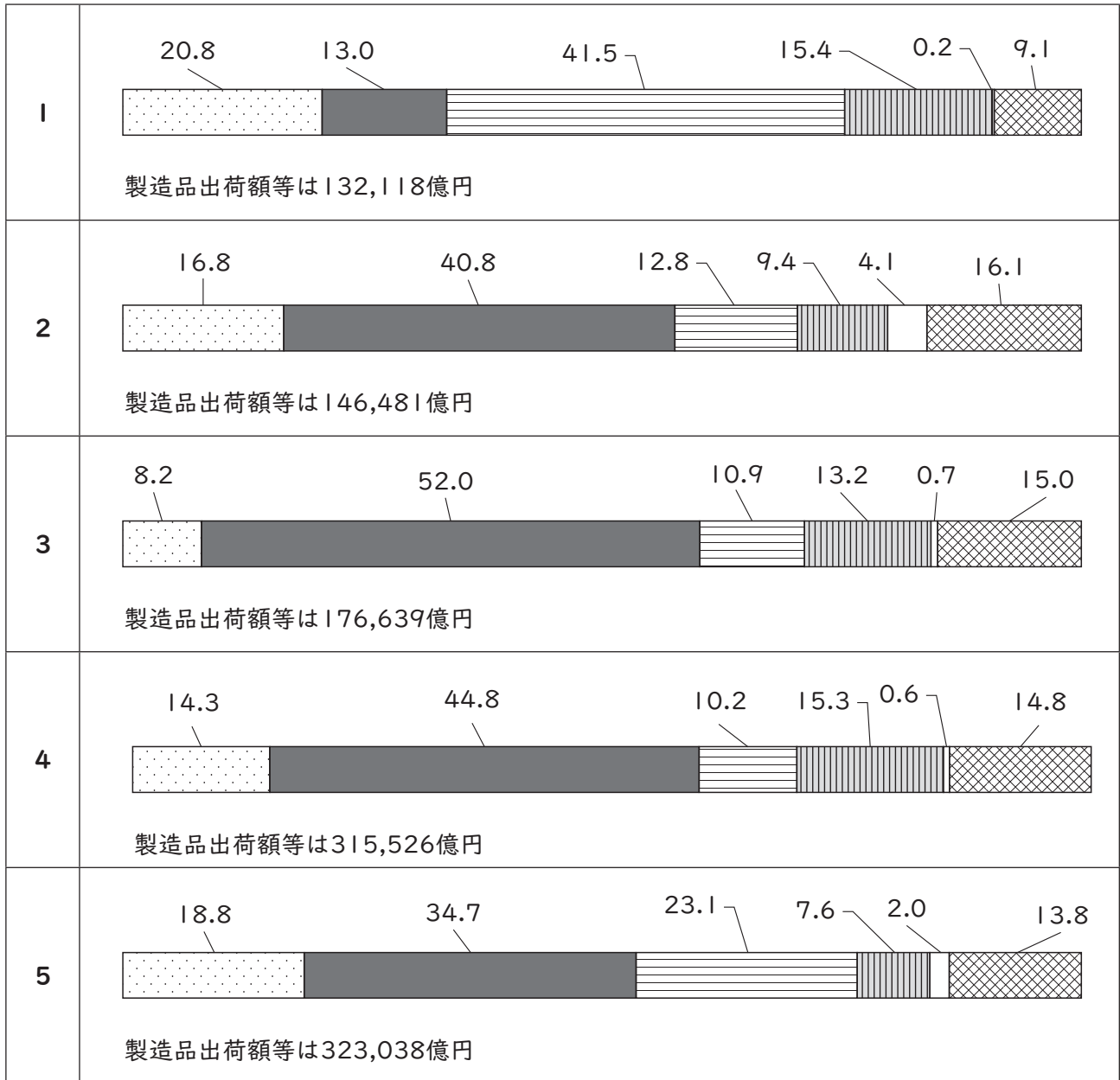
「0.0」について陸地は存在するが数値処理の関係で0.1に満たないことを、「—」について陸地が存在しないことをそれぞれ示している。

(『データブック オブ・ザ・ワールド』2022年版より作成)

(6) 次の1～5のグラフは、2018（平成30）年における北関東工業地域、京葉工業地域、瀬戸内工業地域、東海工業地域、北陸工業地域の製造品出荷額等と製造品出荷額等の構成をそれぞれ示したものである。瀬戸内工業地域に該当するものはどれか。1～5から一つ選べ。

解答番号は

単位(%)



金属工業
 機械工業
 化学工業
 食料品工業
 繊維工業
 その他の工業

各工業地域の製造品出荷額等と製造品出荷額等の構成は、下記に示す県を合計したものである。

北関東工業地域は、茨城県、栃木県、群馬県。

京葉工業地域は、千葉県。

瀬戸内工業地域は、岡山県、広島県、山口県、香川県、愛媛県。

東海工業地域は、静岡県。

北陸工業地域は、新潟県、富山県、石川県、福井県。

(『日本国勢図会』2021/22年版より作成)

(7) 下の表5は、2020（令和2）年における青森県、岩手県、高知県、長野県、宮崎県の農業産出額、農業産出額に占める米、野菜、果実、畜産のそれぞれの産出額割合、耕地率、林野面積率を示したものである。青森県と岩手県に該当する正しい組合せはどれか。1～5から一つ選べ。

解答番号は

表 5

	農業 産出額 (億円)	農業産出額に占める割合 (%)				耕地率 (%)	林野 面積率 (%)
		米 (%)	野菜 (%)	果実 (%)	畜産 (%)		
ア	3,262	16.8	25.2	27.8	27.1	15.5	64.9
イ	3,348	5.2	20.3	3.9	64.4	8.4	75.7
ウ	1,113	10.2	63.9	10.0	7.4	3.7	83.7
エ	2,741	20.6	10.7	5.2	59.4	9.8	75.4
オ	2,697	15.3	33.0	33.1	10.0	7.8	75.9

(農林水産省の資料及び『データブック オブ・ザ・ワールド』2022年版より作成)

	青森県	岩手県
1	ア	イ
2	ア	エ
3	オ	イ
4	ウ	エ
5	オ	エ

(8) 下の表6は、2019年におけるイギリス、イタリア、オランダ、スペイン、フランスの輸出比率、輸出額の多い上位3品目、輸出相手国のうち輸出額の多い上位3か国をそれぞれ示したものである。イギリスに該当するものはどれか。1～5から一つ選べ。解答番号は

表 6

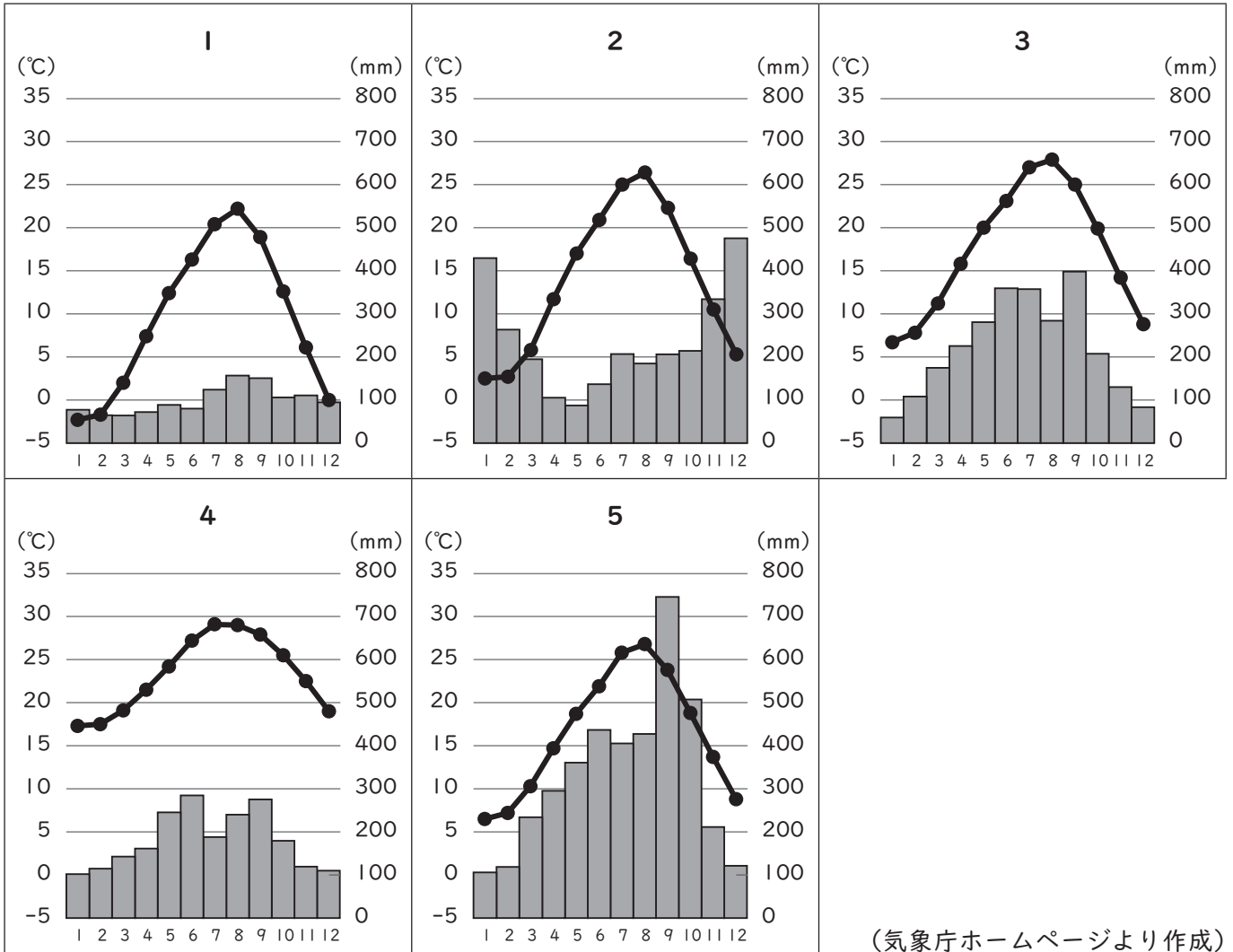
	輸出比率 (%)	輸出額上位3品目			輸出相手国上位3か国		
		1位	2位	3位	1位	2位	3位
1	42.6	機械類	自動車	医薬品	アメリカ	ドイツ	フランス
2	46.7	機械類	航空機	自動車	ドイツ	アメリカ	イタリア
3	47.3	自動車	機械類	野菜と果実	フランス	ドイツ	イタリア
4	52.9	機械類	石油製品	医薬品	ドイツ	ベルギー	フランス
5	52.9	機械類	自動車	医薬品	ドイツ	フランス	アメリカ

輸出比率は輸出入額合計に対する輸出の割合を示す。
フランスはモナコを含む。

(『データブック オブ・ザ・ワールド』2021年版より作成)

(9) 次の1～5のグラフのうち、図1中の地点Aの月平均気温、月降水量を示したものはどれか。

1～5から一つ選べ。解答番号は



(気象庁ホームページより作成)

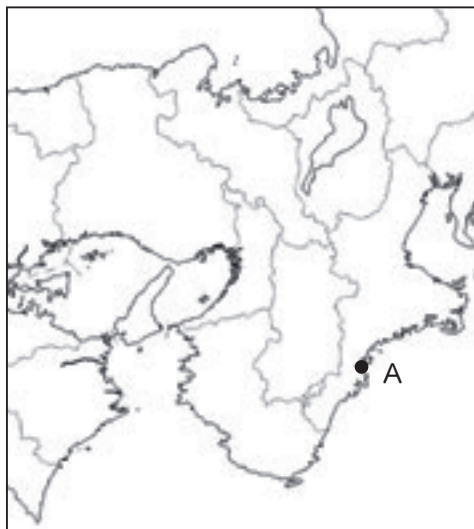



図 1

(10) 下の図2は、国土地理院が発行する2万5千分1地形図『西宮』（平成30年5月1日発行）の一部を約150%に拡大したものである。下の文章は、図2について読み取った内容をまとめたものである。文中のア～エに当てはまる語句の正しい組合せはどれか。1～5から一つ選べ。

解答番号は



図 2

保健所はJR東海道本線より（ア）にある。
 芦屋川とJR東海道本線が交差する地点の地形について、芦屋川は（イ）となっている。
 国土地理院が発行する2万5千分1地形図において、芦屋川駅と阪神電鉄本線芦屋駅との直線距離は4cmであり、実際の距離は（ウ）mである。
 JR東海道本線芦屋駅の近くにある  の地図記号は（エ）を示している。

- | | ア | イ | ウ | エ |
|---|---|-----|-------|------|
| 1 | 北 | 天井川 | 1,000 | 工場 |
| 2 | 北 | かれ川 | 2,000 | 発電所等 |
| 3 | 南 | 天井川 | 1,000 | 発電所等 |
| 4 | 南 | 天井川 | 2,000 | 工場 |
| 5 | 南 | かれ川 | 1,000 | 発電所等 |

3 下の(1)～(10)の問いに答えよ。

(1) 2015年、国連持続可能な開発サミットが開催され、持続可能な開発目標が設定された。

(ア)～(オ)に当てはまる語句の組合せとして正しいものを1～5から一つ選べ。

解答番号は

- | | | |
|-----------------------|-----------------------|--------------------|
| 1. (ア)をなくそう | 2. 飢餓をゼロに | 3. すべての人に健康と福祉を |
| 4. 質の高い(イ)をみんなに | 5. ジェンダー平等を実現しよう | 6. 安全な水とトイレを世界中に |
| 7. エネルギーをみんなにそしてクリーンに | 8. 働きがいも(ウ)も | 9. 産業と技術革新の基盤をつくろう |
| 10. 人や国の不平等をなくそう | 11. 住み続けられるまちづくりを | 12. つくる責任つかう責任 |
| 13. (エ)に具体的な対策を | 14. 海の豊かさを守ろう | 15. 陸の豊かさも守ろう |
| 16. 平和と(オ)をすべての人に | 17. パートナーシップで目標を達成しよう | |

	(ア)	(イ)	(ウ)	(エ)	(オ)
1	貧困	教育	働き方	南北問題	幸福
2	貧困	教育	経済成長	気候変動	公正
3	貧困	福祉	働き方	気候変動	公正
4	紛争	福祉	経済成長	気候変動	公正
5	紛争	教育	働き方	南北問題	幸福

(2) 持続可能な社会をめざす国際的な活動の説明として、正しい文章を1～5から一つ選べ。

解答番号は

- 1 1972年に開かれた国連人間環境会議では、環境分野での国際的な取組に関する行動計画「アジェンダ21」が採択された。
- 2 1997年に京都で開かれた気候変動枠組条約締約国会議において、全ての批准国に温室効果ガス削減義務が課せられた。
- 3 2015年に採択されたパリ協定を中国とアメリカは当初批准をしていたが、2018年に離脱した。
- 4 2021年にグラスゴーで開かれた気候変動枠組条約締約国会議において、全ての批准国が石炭の使用を停止することを宣言した。
- 5 2020年に日本政府は、2050年までに日本の温室効果ガス排出量を全体としてゼロとする、カーボン・ニュートラルをめざすことを宣言した。

(3) 日本の選挙制度の説明として、誤っている文章を1～5から一つ選べ。

解答番号は

- 1 2013（平成25）年に公職選挙法の一部を改正する法律が成立し、ソーシャルネットワークサービスやインターネット共有サービスを利用した選挙運動が可能になった。
- 2 2015（平成27）年に公職選挙法の一部を改正する法律が成立し、2016年から選挙権年齢が「満20歳以上」から「満18歳以上」に引き下げられた。
- 3 衆議院議員総選挙では、小選挙区選挙と比例代表選挙が同じ投票日に行われている。
- 4 参議院議員選挙については、3年ごとに議員の半数を改選することが日本国憲法で定められている。
- 5 衆議院議員、都道府県知事の被選挙権資格年齢は、ともに「満30歳以上」である。

(4) 日本の国会の説明として、誤っている文章を1～5から一つ選べ。

解答番号は

- 1 国会には、裁判官の罷免の訴追を行うための裁判官訴追委員会及び罷免の訴追を受けた裁判官を裁判するための裁判官弾劾裁判所が設けられている。
- 2 法律案は、衆議院で可決し、参議院でこれと異なる議決をした場合に、衆議院において出席議員の3分の2以上の多数で再び可決すれば法律となる。
- 3 内閣不信任決議について、両院協議会を開いても意見が一致しない時、または参議院が一定期間内に議決しない場合には、衆議院の議決が国会の議決となる。
- 4 特別会（特別国会）は、解散による衆議院の総選挙の日から30日以内に召集される。
- 5 衆議院の解散中、国に緊急の問題が起こった場合には、内閣の要請によって参議院だけで集まる参議院の緊急集会が開かれる。

(5) 日本銀行の説明として、誤っている文章を1～5から一つ選べ。

解答番号は

- 1 日本銀行は、「発券銀行」として、銀行券を発行し、金融機関との間で銀行券の受払を行うことなどを通じて、銀行券の安定供給を確保する業務を行っている。
- 2 日本銀行は、物価の安定を目的として、オペレーション（公開市場操作）などの手段を用い、金融政策を行っている。
- 3 日本銀行は、民間の金融機関が資金を日本銀行に預けずに、企業への融資や、投資を促す政策を行うため、2016年にマイナス金利政策を導入した。
- 4 日本銀行は、国の資金である国庫金に関する事務や政府に対して資金提供を行っていることから「政府の銀行」と呼ばれている。
- 5 日本銀行は、銀行をはじめとする民間の金融機関から当座預金を受け入れたり、金融機関との間で貸し出しや有価証券の売買を行う役割を担うことから「銀行の銀行」と呼ばれている。

(6) 日本の税の説明として、誤っている文章を1～5から一つ選べ。

解答番号は

- 1 日本国憲法では「あらたに租税を課し、又は現行の租税を変更するには、法律又は法律の定める条件によることを必要とする」と記されている。
- 2 所得税や法人税は国税、住民税や固定資産税は地方税に分類される。
- 3 所得税や法人税は直接税、消費税や関税は間接税に分類される。
- 4 所得税の税率は、所得が多くなるほど段階的に高くなる累進税率となっている。
- 5 令和3年度の歳出は、当初予算で約107兆円であり、その90%を所得税や法人税、消費税などの「租税・印紙収入」で賅っている。

(7) 日本の労働者の権利の説明として、誤っている文章を1～5から一つ選べ。

解答番号は

- 1 日本国憲法では、労働者の権利と義務について「すべて国民は、勤労の権利を有し、義務を負ふ」ということともに、「児童は、これを酷使してはならない」ということが記されている。
- 2 日本国憲法では、使用者による不当労働行為を防ぐために「勤労者の団結する権利及び団体交渉その他の団体行動をする権利は、これを保障する」と記されている。
- 3 国家公務員法や地方公務員法では、公務員の地位の特殊性と職務の公共性にかんがみ、公務員によるストライキなどの争議行為等は禁止されている。
- 4 労働基準法では、1日8時間、1週40時間を労働時間の限度と定め、時間外労働は原則として1か月45時間、1年540時間を超えないものと記されている。
- 5 労働組合法では、労働組合に加入したことを理由とし、解雇等の不利益な取扱いをすることを不当労働行為とし、そのような行為をしてはならないと規定されている。

(8) 日本における人権への取組に関する説明として、誤っている文章を1～5から一つ選べ。

解答番号は

- 1 法務省の人権擁護機関では、1949（昭和24）年から毎年、人権デーを最終日とする1週間を「人権週間」と定めている。
- 2 1985年には男女雇用機会均等法が制定されたが、2020年の労働力人口総数に占める女性の割合は30%を下回っている。
- 3 1989年の国連総会で、子どもの人権や自由を尊重し、子どもに対する保護と援助を目的とした「児童の権利に関する条約」が採択され、日本は1994年にこの条約を批准した。
- 4 2004年に障害者基本法が改正され、障がいを理由とする差別禁止の理念が法律に明記されるとともに、12月9日の「障害者の日」が12月3日から9日までの「障害者週間」に拡大された。
- 5 2004年に「性同一性障害者の性別の取扱いの特例に関する法律」が施行され、この法律により、性同一性障がい者であって一定の条件を満たす者については、性別の取扱いの変更の審判を受けることができるようになった。

(9) 日本国憲法第96条について、以下の条文中の（ア）～（エ）に当てはまる語句の組合せとして正しいものを1～5から一つ選べ。

解答番号は

第九十六条

1. この憲法の改正は、各議院の総議員の（ア）の賛成で、国会が、これを発議し、国民に提案してその承認を経なければならない。この承認には、特別の国民投票又は国会の定める選挙の際行はれる投票において、その（イ）の賛成を必要とする。
2. 憲法改正について前項の承認を経たときは、（ウ）は、国民の名で、この憲法と一体を成すものとして、直ちにこれを（エ）する。

	（ア）	（イ）	（ウ）	（エ）
1	三分の二以上	過半数	天皇	公布
2	過半数	三分の二以上	天皇	公布
3	三分の二以上	三分の二以上	内閣総理大臣	公布
4	過半数	三分の二以上	内閣総理大臣	施行
5	三分の二以上	過半数	内閣総理大臣	施行

(10) 日本の司法制度の説明として、正しい文章を 1～5 から一つ選べ。

解答番号は

- 1 刑事事件において第一審は全て地方裁判所が取り扱うこととなっている。
- 2 日本国憲法では、「最高裁判所は、一切の法律、命令、規則又は処分が憲法に適合するかしないかを決定する権限を有する終審裁判所である」と記されているが、これまで最高裁判所が違憲判決を出した判例はない。
- 3 日本国憲法では、「何人も、法律の定める手続によらなければ、その生命若しくは自由を奪はれ、又はその他の刑罰を科せられない」と記されている。
- 4 日本国憲法では、「最高裁判所の裁判官の任命は、その任命後初めて行はれる参議院議員選挙の際国民の審査に付し、その後十年を経過した後初めて行はれる参議院議員選挙の際更に審査に付し、その後も同様とする」と記されている。
- 5 裁判員制度では、職種を問わず、選挙権のある人の中から、翌年の裁判員候補者となる人を毎年抽選で選ばれ、裁判所ごとに裁判員候補者名簿が作成される。

4 次の問1～問3の問いに答えよ。

問1 次の文章を読んで、(1)～(4)の問いに答えよ。

前方後円墳は畿内を中心として、北は北奥の地を除いた東北地方、南は南西諸島を除いた九州地方の各地に発達している。① 4世紀末から5世紀末は、各地で前方後円墳が最も大型化する時期であり、副葬品も② 武具や馬具など軍事的性格の強いものになっていった。

また、③『宋書』には、倭の五王が相ついで南朝の宋に使節を派遣したことが記されている。5世紀を通じて行われたヤマト政権の朝鮮進出や南朝との交渉によって、進んだ大陸の文物と機織・金属工芸・土木その他の新しい技術が朝鮮を介して移入された。

(1) 下線部①の時期につくられた前方後円墳の例として、最も適切なものはどれか。次の1～5から一つ選べ。解答番号は

1 箸墓古墳 2 岩戸山古墳 3 造山古墳 4 高松塚古墳 5 竹原古墳

(2) 下線部②に関連して、これらの主な素材である「鉄」について述べた文として、誤っているものはどれか。次の1～5から一つ選べ。解答番号は

- 1 稲の穂摘み道具として用いられた石包丁とともに、弥生時代後期から根刈り用の鉄鎌も用いられるようになった。
- 2 島根県に所在する弥生時代の遺跡である荒神谷遺跡からは、大量の鉄剣が出土した。
- 3 ヤマト政権は、製鉄が盛んな朝鮮半島南部の加羅と、政治・軍事的に深い関係にあった。
- 4 渡来人からなる韓鍛冶部が朝鮮半島伝来の新しい技術を伝習するとともに、金属加工生産に従事した。
- 5 出雲国は古代から砂鉄の産地として知られ、13世紀頃から「たたら製鉄」が行われた。

(3) 下線部③に関連して、中国の歴史書に記された次の文ア～オについて、その内容の示す時期が古い順に左から右へ並べた場合、正しいものはどれか。下の1～5から一つ選べ。

解答番号は

ア 景初二年六月、倭の女王、大夫難升米等を遣はし、郡に詣り、天子に詣りて朝献せむことを求む。

イ 建武中元二年、倭の奴国、奉貢朝賀す。使人自ら大夫と称す。倭国の極南界なり。光武、賜ふに印綬を以てす。

ウ 順帝の昇明二年、使を遣はして表を上りて曰はく、「封国は偏遠にして藩を外に作す。昔より祖禰躬ら甲冑を擐き、山川を跋涉して、寧処に違あらず。……」

エ 夫れ楽浪海中に倭人有り、分れて百余国を為す。歳時を以て来り献見すと云ふ。

オ 大業三年、其の王多利思比孤、使を遣はして朝貢す。使者曰はく「聞く、海西の菩薩天子、重ねて仏法を興すと。故に遣はして朝拜せしめ、兼ねて沙門数十人をして、来りて仏法を学ばしめん」と。

1 エ → イ → ウ → ア → オ

2 イ → エ → ア → オ → ウ

3 エ → イ → オ → ア → ウ

4 イ → エ → オ → ウ → ア

5 エ → イ → ア → ウ → オ

(4) 次のア～オについて、古代日本における諸外国との交流に関する説明として正しいものを○、誤っているものを×とした場合、正しい組合せはどれか。下の1～5から一つ選べ。

解答番号は

ア 吉備真備らとともに遣唐留学生となった阿倍内麻呂は、唐では朝衡とも称され、唐朝の官吏として玄宗に仕えた。

イ 日本律宗の開祖である鑑真は、度重なる渡航に失敗しながらも来日し、戒律の普及に尽力した。

ウ 日本天台宗の開祖である最澄は、『顕戒論』を著し、大乘戒壇設立をめざして南都の仏教勢力と対立した。

エ 日本と高麗との公的外交が終わり、唐も安史の乱後から次第に衰運に向かいつつあるなか、遣唐大使であった菅原道真が遣唐使の停止を要請した。

オ 北宋の商人が、貿易港に指定された博多へ頻繁に来航して貿易を行うなか、裔然や成尋らは北宋商人の船で渡宋した。

ア イ ウ エ オ

1 ○ ○ ○ × ○

2 ○ × × ○ ×

3 × × × ○ ○

4 × ○ ○ ○ ×

5 × ○ ○ × ○

問2 次の史料を読んで、(1)～(3)の問いに答えよ。

日本准三后^①某、書を

大明皇帝陛下に上る。日本国は開闢以来聘問を上邦に通ぜざること無し。某幸に国鈞を乗り、海内虞無し。特に往古の規法に遵て、肥富をして祖阿に相副え、好を通じ、^②方物を献ぜしむ。金千両・馬十匹・薄様千帖・扇百本・屏風三双・鎧一領・筒丸一領・劍十腰・刀一柄・硯筥一合・同じく文台一箇。海島に漂寄せる者幾許人を搜し尋ねて之を還す。某誠惶誠恐、頓首頓首、謹言。

応永八年〈辛巳〉五月十三日

(『善隣国宝記』)

(1) 下線部①の人物に関する説明として正しいものを、次の1～5から一つ選べ。

解答番号は

- 1 命令に反するものを厳罰に処するなど、政策が厳しかったことで諸将の不满を招き、赤松満祐に誘殺された。
- 2 天竜寺の造営費用を得るため、天竜寺船を元に送った。
- 3 京の東山に山荘を構築して、東山殿と称された。
- 4 九州地方の安定化のため、今川了俊を九州探題に任命した。
- 5 初代鎌倉公方として、鎌倉府管轄十カ国の守護体制の確立に尽力した。

(2) 明との貿易を中断した征夷大將軍は誰か。次の1～5から一つ選べ。解答番号は

- 1 足利義詮 2 足利義持 3 足利義量 4 足利義教 5 足利義政

(3) 下線部②に関連して、日本が明から輸入した主な貿易品として適切でないものはどれか。次の1～5から一つ選べ。解答番号は

- 1 銅銭 2 蘇木 3 陶磁器 4 書籍 5 生糸

問3 次の史料を読んで、(1)～(3)の問いに答えよ。

当世の俗習にて、異国船の入津ハ長崎に限たる事にて、別の浦江船を寄ル事ハ決して不成事ト
思リ。実に太平に鼓腹する人ト云べし。既に古ハ の坊の津、 の博多、肥前の
平戸、摂州の兵庫、泉州^{さかい}の界、 の敦賀等江異国船入津して物を献シ、物を商イたること
数多あり。……

窃に憶へば当時長崎に嚴重に石火矢の備有て、却て安房、相模の海港に其備なし。此事甚
不審。細カに思へば江戸の日本橋より唐、阿蘭陀迄境なしの水路也。然ルを此に不備して
長崎にのミ備ルは何ぞや。 (『海国兵談』)

(1) 空欄 ～ に該当する語句の組合せとして、正しいものはどれか。次の1～5から
一つ選べ。解答番号は

	ア	イ	ウ
1	薩摩	肥後	越前
2	薩摩	筑前	越前
3	薩摩	筑前	越後
4	大隅	肥後	越後
5	大隅	肥後	越前

(2) この史料の著者は、蟄居の処分を受け、本書の板木も没収された。これと同年に起こった出来事は
どれか。次の1～5から一つ選べ。解答番号は

- 1 フェートン号がオランダ船の捕獲を目的として来航し、人質をたてに食糧・飲料水を強要した。
- 2 宝島でおきたイギリス捕鯨船の暴行事件に対応して、幕府は異国船打払令を發布した。
- 3 ラクスマンが日本漂流民の送還と通商交渉の使節として日本に派遣され、根室に入港した。
- 4 オランダ国王ウィレム2世が親書で開国を勧告したが、幕府はこれを拒否した。
- 5 通商を求めて来航したアメリカ船モリソン号が砲撃され退去した。

(3) 渡来する外国船や国内の窮民への対応など「内憂外患」の危機に対応するため、幕府では、12代
將軍徳川家慶のもとで老中を中心として幕政改革がおこなわれた。その内容として正しいものを、
次の1～5から一つ選べ。解答番号は

- 1 ある役職に任じられた者の家禄が、役職ごとに設定された基準の家禄に及ばない場合、在職中に
限り不足分を幕府が支給する足高の制を施行した。
- 2 看病人のいない極貧の病人を収容し、治療する施設である小石川養生所を設置した。
- 3 農業労働力の不足と都市下層民の増大に対応するため、人返し令が出された。
- 4 広く民意を聴き出し、政治の参考とするため、目安箱を創設した。
- 5 江戸の町入用の節減額の7割を町会所に毎年積金し、その積金を貧困者への手当などに使用する
七分積金を実施した。

5 次の問1～問3の問いに答えよ。

問1 貿易に関連した問い(1)～(7)に答えよ。

- (1) 1871(明治4)年、本位貨幣の金貨の他に、貿易上の便宜から補助貨幣の銀貨の鑄造も定め、また、円・銭・厘の貨幣単位を定めた法令の名称を答えよ。
- (2) 1880(明治13)年に貿易の増進を図って設立された後、外国貿易関係業務を専門的に担当する特殊銀行として規定され、大正期には香港上海銀行、チャータード銀行とともに世界三大為替銀行の一つと称された銀行の名称を答えよ。
- (3) 次の表1は、1884(明治17)～1886(明治19)年と1898(明治31)～1900(明治33)年における日本の主要な貿易品目の平均の金額・割合を示しており、表1の【A】～【D】には「生糸」「米」「棉花」「綿糸」のいずれかが当てはまる。【A】～【D】に当てはまる貿易品目の組合せとして正しいものはどれか。下の1～8から一つ選び、番号で答えよ。

表1

単位：千円(%)

	1884～1886年平均		1898～1900年平均	
	輸 出	【A】	13,787 (34.5)	【A】
茶		6,799 (17.0)	【C】	23,076 (11.8)
水産物		2,842 (7.1)	石炭	12,577 (6.4)
【B】		2,079 (5.2)	銅	10,458 (5.4)
銅		1,787 (4.5)	茶	8,583 (4.4)
その他		12,671 (31.7)	その他	90,567 (46.4)
合計		39,965 (100.0)	合計	195,038 (100.0)
輸 入	1884～1886年平均		1898～1900年平均	
	【C】	5,416 (17.8)	【D】	55,809 (21.3)
	砂糖	5,289 (17.4)	砂糖	24,318 (9.3)
	毛織物	2,951 (9.7)	【B】	21,067 (8.0)
	綿織物	2,563 (8.4)	鉄類	20,251 (7.7)
	石油	1,933 (6.4)	綿織物	12,851 (4.9)
	その他	12,247 (40.3)	その他	127,426 (48.7)
合計	30,399 (100.0)	合計	261,722 (100.0)	

※『日本産業革命の研究』(大石嘉一郎編)より作成。数値は四捨五入をして算出。

	【A】	【B】	【C】	【D】
1	生糸	米	棉花	綿糸
2	生糸	棉花	米	綿糸
3	生糸	米	綿糸	棉花
4	生糸	綿糸	米	棉花
5	綿糸	米	棉花	生糸
6	綿糸	棉花	米	生糸
7	綿糸	米	生糸	棉花
8	綿糸	生糸	米	棉花

(4) 下の史料は、1897（明治30）年、松方正義首相（蔵相を兼任）によって閣議でおこなわれた「貨幣法」案に関する説明である。この史料から読み取れる「貨幣法」を制定すべき根拠について、次の枠内の言葉をすべて使って80字以上160字以内で説明せよ。

賠償金	資金調達	銀価格
-----	------	-----

史料

金本位実施ノ必要モハヤ疑ヲ容レス。依テ爾来専ラ金吸収ノ方策ヲ求メタリ。恰モ好シ下ノ関条約ニ依リ清国ハ償金貳億兩ヲ支払フコトヲ約セリ。然ルニ清国ハ償金支払ノ為メ公債ヲ欧州ニ於テ募集スルノ必要アルヲ以テ彼我ノ便益ヲ計リ償金ハ英京ニ於テ金貨ヲ以テ受取ルコトニ追約セリ。茲ニ於テ金ノ吸収ニハ非常ノ便益ヲ得タリ。……果シテ然ラハ金準備ノ維持ハ敢テ難キニアラサルヘシ。又金本位ノ実施ハ欧米諸国貨幣市場ノ中心ト我国市場トヲ連絡セシメ相互ノ間気脈ヲ通スルノ便ヲ開キ貿易ノ発達期シテ俟ツヘキナリ。而シテ支那朝鮮等ノ銀国ニ対シ金貨国ト競争ヲ為ス上ニ於テ我ハ地形ノ接近其他生産上必要ナル事項ニ富メルヲ以テ深く憂フルニ足ラサルヘシ。之ニ反シテ他日若シ銀価ノ下落一層甚シキニ至ルトキハ支那朝鮮等ノ銀国ハ金貨国ニ対スル輸出貿易上多少競争ノ利ヲ占ムル所アルハ免レサルヘキモ之レ亦一時ニ止リ幣制改革ニ依テ生スル利益ト比較スルニ足ラサルナリ。之ヲ要スルニ貨幣ノ基礎今日ノ如ク動揺常ナクシテハ決シテ経済ノ確實ト貿易ノ発達トハ望ムヘキニアラス。

（『日本金融史資料』）

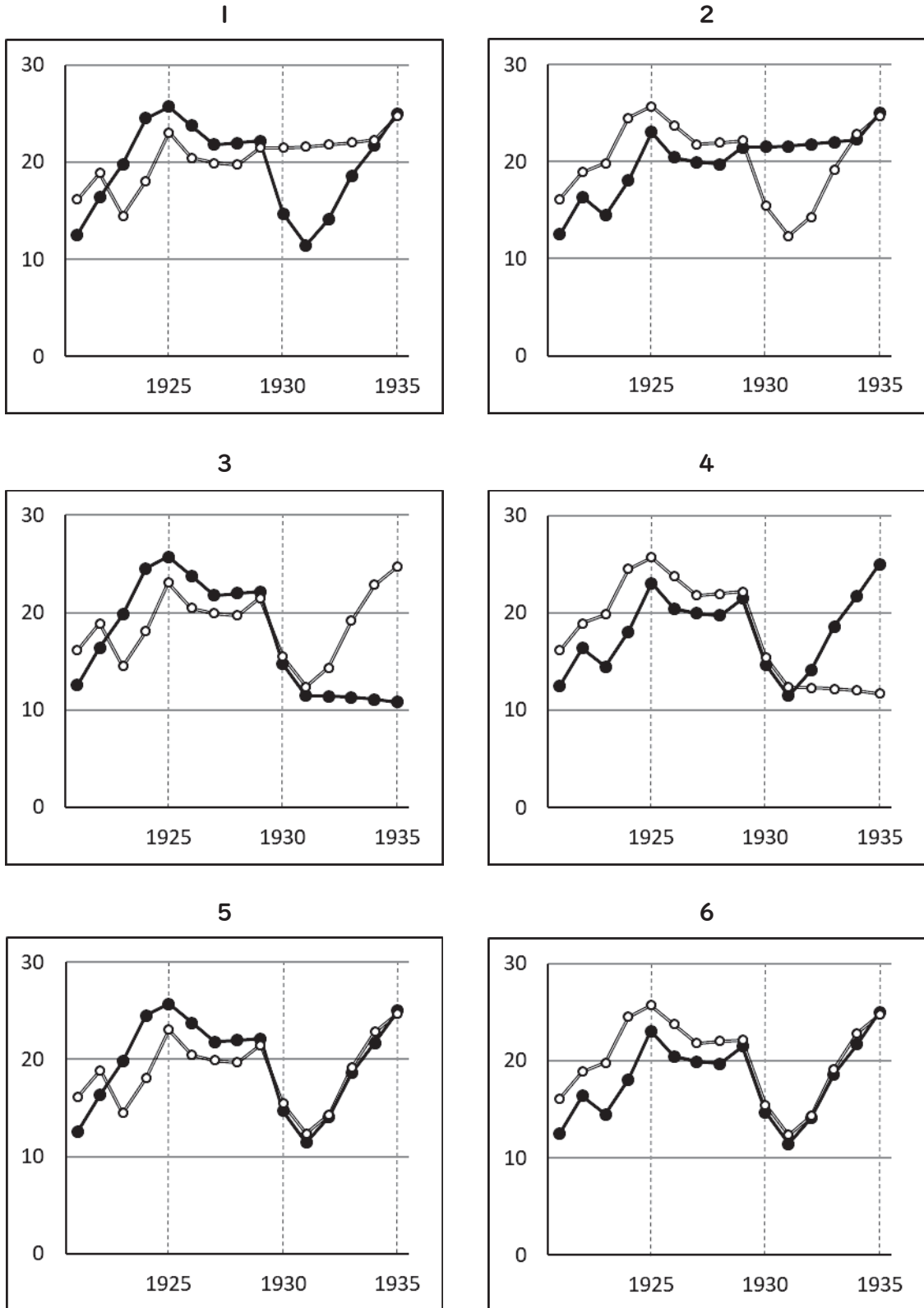
(5) 1911（明治44）年以降、欧米諸国と日本との間において日本の税権の全面的回復が認められた対等条約のうち、最初に調印が実現された条約の名称を答えよ。

(6) 第一次世界大戦が勃発すると、日本は輸出の増大によって国際収支が好転し、大戦景気が訪れた。第一次世界大戦が勃発した時からヴェルサイユ（ベルサイユ）条約が調印された時までの間に起きた出来事について述べた文として正しいものを、次の1～5から二つ選び、番号で答えよ。

- 1 南満州鉄道会社が経営する鞍山製鉄所が、満州に設立された。
- 2 日本の全工業原動力中、馬力数において電力が蒸気力を超えた。
- 3 日本の重化学工業の生産額が、日本の全工業生産額の50%を上回った。
- 4 軍需会社シーメンスからの艦船購入をめぐり、日本海軍の収賄が発覚した。
- 5 日本の生糸の輸出量は中国の生糸の輸出量を抜き、初めて世界第一位となった。

(7) 1921 (大正10) 年から1935 (昭和10) 年までにおける、日本 (本州・四国・九州・北海道に限る) と外国との輸出入額を示すグラフとして最も適切なものを、次の1~6から一つ選び、番号で答えよ。

●輸出 ○輸入 (縦軸：億円 横軸：年)



問2 社会問題および社会運動に関連した問い(1)～(6)に答えよ。

- (1) アメリカ合衆国において城常太郎や沢田半之助らとともに職工義友会を組織し、日本への帰国後の1897(明治30)年には労働組合期成会を結成して同会の幹事長になるなど、日本の労働組合運動の創始者と称される人物はだれか、答えよ。
- (2) 1868(明治元)年から1912年(明治45)年までの明治期に起きた出来事を述べた文として、正しいものはどれか。次の1～5から二つ選び、番号で答えよ。
- 1 治安警察法が制定され、労働者や小作人の争議行為が禁止された。
 - 2 工場法が施行され、15人以上の労働者を使用する工場に適用された。
 - 3 天満紡績会社の女工らが、日本で最初とされるストライキを起こした。
 - 4 工場労働者に関する農商務省の調査報告書『職工事情』が刊行された。
 - 5 女工の労働や生活を記録した横山源之助の著書『女工哀史』が刊行された。
- (3) 日本初の全国的な農民組合である日本農民組合の指導者の一人であり、1920(大正9)年に社会小説『死線を越えて』を出版したキリスト教社会運動家はだれか、答えよ。
- (4) 次の表2は、1921(大正10)年から1940(昭和15)年までの全国における労働争議・小作争議の発生件数を示している。下の問いi・iiに答えよ。

表2

年	労働争議(件)	小作争議(件)
1921	246	1,680
1922	250	1,578
1923	270	1,917
1924	333	1,532
1925	293	2,206
1926	495	2,751
1927	383	2,052
1928	397	1,866
1929	576	2,434
1930	906	2,478
1931	998	3,419
1932	893	3,414
1933	610	4,000
1934	626	5,828
1935	590	6,824
1936	547	6,804
1937	628	6,170
1938	262	4,615
1939	358	3,578
1940	271	3,165

※『近代日本経済史要覧』より作成。
労働争議は、争議行為を伴うものの件数を示している。

- i) 1920年代、労働組合・農民組合は社会主義政党の影響下で勢力を伸張して労働争議・小作争議は地方へも波及したが、政府は社会運動を抑圧した。政府がおこなった社会運動に対する抑圧のうち、田中義一内閣による政策について、次の枠内の言葉をすべて使って80字以上160字以内で説明せよ。

普通選挙	労働農民党	特高警察
------	-------	------

ii) 表2を参考にして、労働争議・小作争議の発生件数に関連して述べた文として正しいものを、次の1～5から一つ選び、番号で答えよ。

- 1 関東大震災が起きた年は、その前年よりも労働争議・小作争議ともに発生件数が減少した。
- 2 日中戦争が勃発した年からその翌年にかけて、労働争議・小作争議ともに発生件数が増加した。
- 3 五・一五事件において犬養毅首相が襲撃された年から以後3年間、労働争議の発生件数は減り続けた。
- 4 日ソ基本条約が調印された年からその翌年にかけて、労働争議の発生件数は増加したが、小作争議の発生件数は減少した。
- 5 岡田啓介内閣が国体明徴声明を発した年は、1921年から1940年までの間において小作争議の発生件数が最も多い年であった。

(5) GHQ(連合国最高司令官総司令部)の勧告にもとづいて実施された第二次農地改革は、地主的土地所有を基本的に解体させた。改正農地調整法とともに第二次農地改革を推進する、1946(昭和21)年に公布および施行された法律の名称を答えよ。

(6) 1950(昭和25)年、GHQ(連合国最高司令官総司令部)の指示を受けて労働戦線を再編成することで結成された労働組合全国中央組織の正式名称を答えよ。

問3 次の史料I～史料Vを読み、それらに関連した(1)～(15)の問いに答えよ。

史料I

著作権保護の観点により、本文を掲載いたしません。

出典：一外交官の見た明治維新 上

坂田精一(訳) 岩波書店

50ページ10行目から51ページ16行目まで

(『一外交官の見た明治維新』坂田精一 訳)

(1) 史料Iの原著者であるE.M.サトウ(サトー)は、1865年に駐日特命全権公使兼総領事に任命されて横浜に着任した「イギリスの外交官」に従い、対日政策の樹立を助けた。この「イギリスの外交官」はだれか、答えよ。

(2) 史料Iの下線部①が示す人物はだれか、答えよ。

(3) 史料Iの空欄【ア】に入る適切な地名を答えよ。

史料Ⅱ

著作権保護の観点により、本文を掲載いたしません。

出典：ベルツの日記

菅沼龍太郎（訳） 岩波書店

108ページ3行目から109ページ16行目まで

（『ベルツの日記』菅沼龍太郎 訳）

- (4) 史料Ⅱの下線部②は、神武天皇が即位したと伝えられる日にもとづいて制定された国家の祝日にあたる。1873（明治6）年3月の太政官布告によって名付けられた、この祝日の名称を答えよ。
- (5) 史料Ⅱの下線部③が示す当時、内閣総理大臣に在任していた人物はだれか、答えよ。
- (6) 史料Ⅱの下線部④は、当時の文部大臣が暗殺された事件のことを示している。この文部大臣はだれか、答えよ。

史料Ⅲ

著作権保護の観点により、本文を掲載いたしません。

出典：国際ニュース事典 外国新聞に見る日本④ 1906-1915本編上

国際ニュース事典出版委員会 毎日コミュニケーションズ（編集） 株式会社毎日コミュニケーションズ

482ページ9行目から24行目まで

（『国際ニュース事典 外国新聞に見る日本』ニューヨーク・タイムズ記事）

- (7) 史料Ⅲの空欄【イ】に入る適切な省名を答えよ。ただし、「省」は書かなくてよい。
- (8) 史料Ⅲの下線部⑤は、日本が中国の製鉄会社の日中合併を要求したことを示している。この製鉄会社の事業の一つとして経営された鉄山の名称を答えよ。
- (9) 史料Ⅲの下線部⑥に関連して、この「要求」がおこなわれた当時の日本の外務大臣はだれか、答えよ。

史料Ⅳ

著作権保護の観点により、本文を掲載いたしません。

出典：日支紛争に関する国際連盟調査委員会の報告

外務省（仮訳） 国際連盟協会

207ページ12行目から208ページ13行目まで

（『日支紛争に関する国際連盟調査委員会の報告』外務省 仮訳）

(10) 史料Ⅳの下線部⑦が示す日、南満州鉄道の線路が爆破されるという出来事が起きた。この出来事
の名称を、漢字5字で答えよ。

(11) 史料Ⅳの空欄【ウ】に入る適切な語句を答えよ。

(12) 史料Ⅳの下線部⑧は、国際連盟が任命した調査委員会のことを示している。この調査委員会の
委員長はだれか、答えよ。

史料Ⅴ

著作権保護の観点により、本文を掲載いたしません。

出典：朝日新聞1949年3月8日 東京・朝刊

朝日新聞社著 朝日新聞社

(朝日新聞クロスサーチ・フォーライブラリーPI)

(『朝日新聞』1949(昭和24)年3月8日)

(13) 史料Ⅴに示される声明を発表した当時のデトロイト銀行頭取はだれか、答えよ。

(14) 史料Ⅴの下線部⑨に関連して、第二次世界大戦後、アメリカ合衆国は、主として疾病・飢餓を防いで
社会不安を除くことによって占領行政を円滑にさせる目的で、占領地に対して食料・医療品などを
供給し、その資金をアメリカ合衆国政府の予算から支出した。日本に対しては1945(昭和20)年
の小麦供給を最初として支出された、この資金の名称を答えよ。ただし、略称も可とする。

(15) 史料Ⅴの下線部⑩に関連して、史料Ⅴに示される声明が発表された後、日本ではインフレーション
が収束すると同時に不況が始まった。この不況下、上記(13)の人物による政策の一環である
行政機関職員定員法に基づき人員整理に着手していた日本国有鉄道(国鉄)では、総裁が死亡する
事件が起きた。雑誌『文藝春秋』の連載「日本の黒い霧」においてこの事件を取り上げ、その真相
を推理した作家はだれか、答えよ。

令和5年度大阪府公立学校教員採用選考テスト

三次選考択一問題の正答について

校種	高等学校	教科・科目	日本史
----	------	-------	-----

解答番号	正答番号	解答番号	正答番号	解答番号	正答番号	解答番号	正答番号
1	5	11	2	21	2	31	3
2	3	12	4	22	5	32	2
3	1	13	1	23	5	33	5
4	5	14	3	24	3	34	5
5	3	15	1	25	4	35	4
6	4	16	5	26	5	36	2
7	2	17	2	27	4	37	2
8	2	18	1	28	2	38	2
9	4	19	5	29	1	39	3
10	5	20	3	30	3	40	3

受験番号	
------	--

令和5年度大阪府公立学校教員採用選考テスト

高等学校 地理歴史（日本史） 解答用紙 (2枚のうち1)

5	得点	
---	----	--

--

問 1	(1) 新貨条例	/	(2) 横浜正金銀行	/	(3) 3	/	
	(4)	<p>下関条約で得た賠償金で金が蓄積されたことを機に、金本位制を採用すれば、欧米諸国との資金調達の利便や貿易振興を図ることができると見られる。また、朝鮮・中国等との貿易における金本位制国との競争では日本は地理的条件等で恵まれ、銀価格の下落による銀本位制国の輸出伸張も一時的なものであるため、その結果、日本の利益は大きくなると予測される。</p>					/
	(5) 日米通商航海条約	/	(6) 1・2	/	(7) 6	/	

--

問 2	(1) 高野房太郎	/	(2) 1・4	/	(3) 賀川豊彦	/	
	(4) i	<p>普通選挙制による最初の総選挙で非合法の日本共産党が公然と活動したため、日本共産党員に対する一斉検挙を行い、三・一五事件および四・一六事件が起こった。さらに、労働農民党や日本労働組合評議会に解散を命じた他、治安維持法を緊急勅令によって改正して最高刑を死刑にするなど厳罰化し、また特高警察を全国に設置して弾圧体制を整備した。</p>					/
	(4) ii	5	/	(5) 自作農創設特別措置法	/	(6) 日本労働組合総評議会	/

--

受験番号	
------	--

令和5年度大阪府公立学校教員採用選考テスト

高等学校 地理歴史（日本史） 解答用紙 (2枚のうち2)

5 (続き)

--

問 3	(1) パークス	/	(2) 徳川齊昭	/	(3) 下田	/
	(4) 紀元節	/	(5) 黒田清隆	/	(6) 森有礼	/
	(7) 山東 [省]	/	(8) ^{ターイエ} 大冶鉄山	/	(9) 加藤高明	/
	(10) 柳条湖事件	/	(11) 満州 (満洲)	/	(12) リットン	/
	(13) ドッジ	/	(14) ガリオア資金 (占領地統治救済資金)	/	(15) 松本清張	/

--