

専 門 教 養
令和 3 年 7 月
60 分

受 験 教 科 等
特別支援学校 家 庭

注 意

- 1 指示があるまで、問題冊子を開いてはいけません。
- 2 全て係員の指示に従って、静粛に受験してください。
- 3 机上には、受験票、筆記用具、時計以外のものをを出してはいけません。
- 4 他の受験者の迷惑になるような行為、スマートフォン等の使用及び不正行為をしてはいけません。
- 5 解答時間は60分です。途中退出はできません。
- 6 問題冊子のページ数は、22ページです。はじめにページ数を確かめてください。
- 7 解答用紙に、**必要事項が正しく記入・マークされていない場合には、解答は全て無効**となります。解答用紙の【1】の欄には、**受験番号**を記入し、**受験番号に対応する数字をマーク**してください。【2】の欄には、**氏名**を記入してください。ただし、【3】の選択問題を表す欄のマークは**不要**です。
- 8 この問題は、**教科等に関する問題** 1 ~ 7、**特別支援教育の専門に関する問題** I ~ IV の各問題から構成されています。
- 9 問題冊子の余白等は、適宜使用しても構いませんが、どのページも切り離してはいけません。
- 10 問題文中の「学習指導要領」は、特に指示がある場合を除いて、平成31年告示の「学習指導要領」を表しています。
- 11 問題の内容についての質問には一切応じません。

解答上の注意

- 1 解答は、問題文や解答用紙の注意事項に従って、解答欄にマークしてください。各問に対して、正答は一つだけです。**各解答欄に二つ以上マークした場合は誤り**とします。
- 2 「解答番号は 。」と表示のある問に対して、3と解答する場合には、次の(例)のように解答番号 の解答欄の③にマークしてください。

(例)

解答番号	解答欄
<input type="text" value="1"/>	① ② ● ④ ⑤ ⑥ ⑦ ⑧ ⑨ ⑩ ⊖

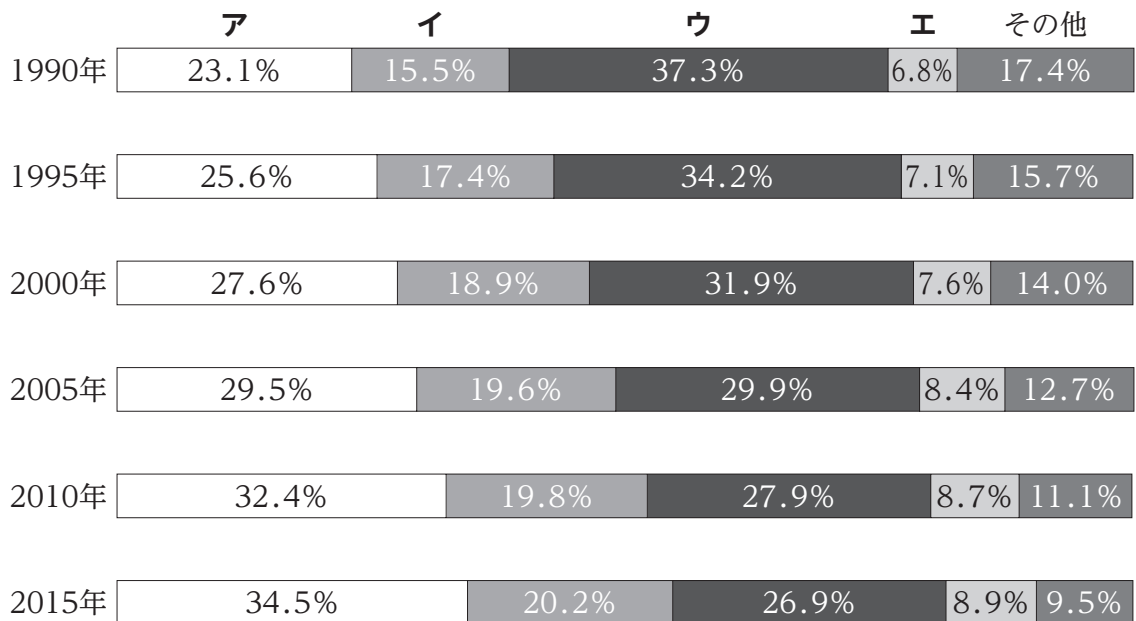


教科等に関する問題

1 家族・家庭生活に関する次の各問に答えよ。

[問 1] 次の図は、家族類型別の一般世帯数の割合についてまとめたものである。図中の**ア**～**エ**と、家族類型A～Dとの組合せとして適切なものは、下の**1**～**6**のうちのどれか。解答番号は 。

図



※「一般世帯」とは、住居と生計を共にしている人の集まり又は一戸を構えて住んでいる単身者等をいう。

※「その他」とは、国勢調査の家族類型で親族のみの世帯のうちの「核家族以外の世帯」と「非親族を含む世帯」からなる。

※四捨五入のため合計は必ずしも一致しない。

(国立社会保障・人口問題研究所「日本の世帯数の将来推計(全国推計)2018(平成30)年推計」から作成)

A 夫婦と子 B 夫婦のみ C ひとり親と子 D 単独世帯

- | | | | |
|-------|-----|-----|-----|
| 1 アーA | イーB | ウーD | エーC |
| 2 アーB | イーA | ウーC | エーD |
| 3 アーB | イーD | ウーC | エーA |
| 4 アーC | イーB | ウーA | エーD |
| 5 アーD | イーA | ウーB | エーC |
| 6 アーD | イーB | ウーA | エーC |

[問 2] 次の記述は、男女が相互に協力し、共に支え合う社会を作るための法令及び条約に関するものである。記述中の空欄 **ア** ~ **ウ** に当てはまるものの組合せとして適切なものは、下の 1 ~ 4 のうちのどれか。解答番号は **2**。

1979年に国連総会で採択され、1985年に日本が締結した **ア** は、締約国に対し、経済的及び社会的活動における差別をなくすよう求めた。**ア** の批准に向けて **イ** が制定され、1986年に施行された。さらに、**イ** は2006年に改正されて男性に対する差別禁止が追加された。1999年には男性も女性も意欲に応じてあらゆる分野で活躍できる社会の形成を推進するための **ウ** が制定された。

	ア	イ	ウ
1	家族的責任を有する 労働者条約	男女雇用機会均等法	男女共同参画社会基本法
2	家族的責任を有する 労働者条約	男女共同参画社会基本法	男女雇用機会均等法
3	女子差別撤廃条約	男女雇用機会均等法	男女共同参画社会基本法
4	女子差別撤廃条約	男女共同参画社会基本法	男女雇用機会均等法

2 子供の発達に関する次の各問に答えよ。

[問 1] 子供の心の発達に関する記述として最も適切なものは、次の1～4のうちではどれか。

解答番号は **3**。

- 1 他人も自分と同じように考えると思ってしまうことを、アタッチメントという。
- 2 目の前にない物や人に対するイメージを心の中で描くことを、自己中心性という。
- 3 ある特定の人や物に対して形成する、情緒的に強い結びつきを、表象作用という。
- 4 生物と無生物とを区別せず、全てに生命があると考えていることを、アニミズムという。

[問 2] 児童に関する法令及び条約等の一部に関する次の記述ア～ウと、その名称A～Cとの組合せとして適切なものは、下の1～6のうちのどれか。解答番号は 4。

ア

児童は、人として尊ばれる。
児童は、社会の一員として重んぜられる。
児童は、よい環境の中で育てられる。

イ

すべて国民は、児童が心身ともに健やかに生まれ、且つ、育成されるよう努めなければならない。
すべて児童は、ひとしくその生活を保障され、愛護されなければならない。

ウ

児童に関するすべての措置をとるに当たっては、公的若しくは私的な社会福祉施設、裁判所、行政当局又は立法機関のいずれによって行われるものであっても、児童の最善の利益が主として考慮されるものとする。

- A 児童福祉法
- B 児童の権利に関する条約
- C 児童憲章

- | | | | |
|---|-----|-----|-----|
| 1 | ア－A | イ－B | ウ－C |
| 2 | ア－A | イ－C | ウ－B |
| 3 | ア－B | イ－A | ウ－C |
| 4 | ア－B | イ－C | ウ－A |
| 5 | ア－C | イ－A | ウ－B |
| 6 | ア－C | イ－B | ウ－A |

3 共生社会に関する次の問に答えよ。

[問] 高齢者を取り巻く社会環境に関する次の(1)、(2)の各問に答えよ。

- (1) 次の記述は、我が国の人口の高齢化に関するものである。記述中の空欄 **ア** ~ **エ** に当てはまる語句の組合せとして適切なものは、下の 1 ~ 4 のうちのどれか。解答番号は **5**。

高齢者人口の割合が1970年には7%に達し、**ア** 社会となり、**イ** 年後には、**ウ** %を超え、2005年には20%を超えた。
2060年には、高齢者人口の割合は **エ** %となることが予測されている。

	ア	イ	ウ	エ
1	高齢化	12	10	49.9
2	高齢化	24	14	39.9
3	高齢	12	14	39.9
4	高齢	24	10	49.9

- (2) 次の記述は、加齢に関するものである。記述中の空欄 **ア** ・ **イ** に当てはまる語句の組合せとして適切なものは、下の 1 ~ 4 のうちのどれか。解答番号は **6**。

高齢になると、老化と呼ばれる現象はだれにも生じるが、高齢期においても、過去に習得した知識や経験をもとにして対処する能力である **ア** はあまり低下しない。これは、高齢になっても学び、習得することができることを示している。

高齢者を一様に、「衰えている」「がんこ」のようなマイナスなイメージでとらえると、高齢であるという年齢を理由に差別することである **イ** に結びつく恐れがあるため、一人ひとりの高齢者と向き合い、個人差を理解して接することが重要である。

- | | | | | |
|---|---|-------|---|-------|
| 1 | ア | 流動性知能 | イ | エイジズム |
| 2 | ア | 流動性知能 | イ | エイジング |
| 3 | ア | 結晶性知能 | イ | エイジズム |
| 4 | ア | 結晶性知能 | イ | エイジング |

4 食生活に関する次の各問に答えよ。

[問 1] 次の記述**ア**～**ウ**は、それぞれ下の食品群A～Cのいずれかに関するものである。**ア**～**ウ**と、A～Cとの組合せとして適切なものは、下の**1**～**6**のうちのどれか。解答番号は **7**。

ア 良質なタンパク質を多く含むものとして、「魚、肉、卵、大豆」が示されている。

イ 栄養を完全にするものとして、「乳・乳製品、卵」が示されている。

ウ 血や肉をつくるものとして、「魚、肉、豆類、乳、卵」が示されている。

A 4つの食品群

B 6つの基礎食品群

C 三色食品群

1 **ア**－A **イ**－B **ウ**－C

2 **ア**－A **イ**－C **ウ**－B

3 **ア**－B **イ**－A **ウ**－C

4 **ア**－B **イ**－C **ウ**－A

5 **ア**－C **イ**－A **ウ**－B

6 **ア**－C **イ**－B **ウ**－A

〔問 2〕 次の記述は、混合だしの作り方の手順についてまとめたものである。記述中の下線部①～③のうち**適切でないもの**は、A群の**1～3**のうちのどれか。また、混合だしに含まれる主なうまみ成分の組合せとして最も適切なものは、B群の**1～3**のうちではどれか。解答番号はA群が 、B群が 。

混合だしの作り方の手順

- (1) 水にこんぶをつけておく。
- (2) 火にかけて、沸騰する前にこんぶを取り出す。
- (3) 続いて沸騰したらかつお節を入れる。
- (4) 5分ほど沸騰させ、火を止めてかつお節が沈むのを待つ。
- (5) かつお節が沈んだら上澄みをふきんでこし取る。

【A群】

- 1 下線部①
- 2 下線部②
- 3 下線部③

【B群】

- 1 イノシン酸・グアニル酸
- 2 イノシン酸・グルタミン酸
- 3 グアニル酸・グルタミン酸

5 衣生活に関する次の各問に答えよ。

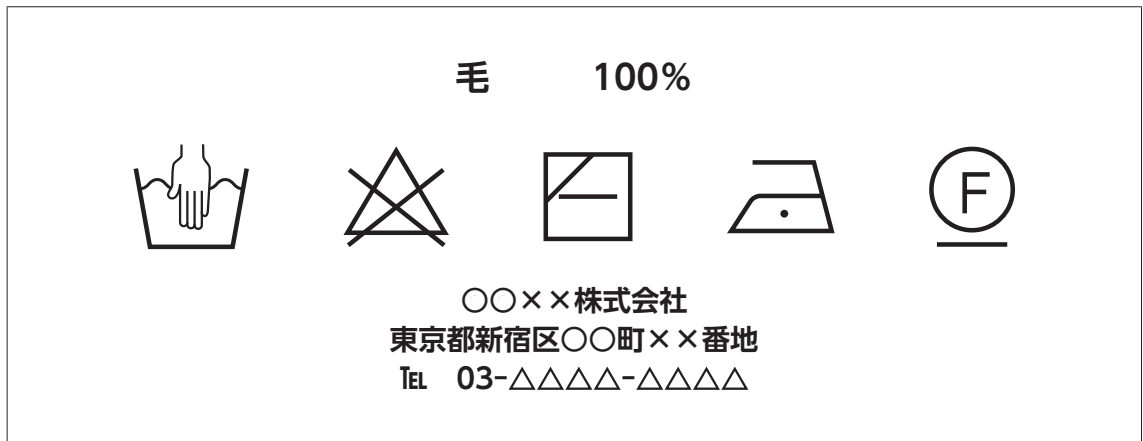
[問 1] 次の和服の各部の名称ア～カのうち、女物ひとえ長着と男物ひとえ長着に共通するものを選んだ組合せとして適切なものは、下の1～4のうちのどれか。解答番号は 。

- ア 合づま幅
- イ 内揚げ
- ウ けん先
- エ 人形
- オ 身八つ口
- カ ゆき

- 1 ア・イ・オ
- 2 ア・ウ・カ
- 3 イ・エ・カ
- 4 ウ・エ・オ

[問 2] 次の図は、あるセーターの品質表示である。このセーターを洗濯する際の取扱い方法に関する下の記述ア～エのうち適切なものには○を、適切でないものには⊖をそれぞれマークせよ。解答番号はアが 、イが 、ウが 、エが 。

図



- ア 弱アルカリ性洗剤で手洗いすることがよい。
- イ 日陰の平干しがよい。
- ウ 底面温度150℃を限度としてアイロン仕上げができる。
- エ 石油系溶剤による弱いドライクリーニングができる。

6

住生活に関する次の各問に答えよ。

[問 1] 我が国の住居に関する記述として適切なものは、次の 1～4 のうちのどれか。解答番号は **15**。

- 1 岩手県盛岡市周辺や遠野盆地を中心に多く見られる「曲り屋」は、雪深い冬でも牛の世話がしやすいように、母屋とL字型につながった牛舎で構成されている。
- 2 京都府や奈良県に見られる「町家」は間口が狭く奥行きが深いため、通風や採光のための坪庭が見られる。一般的に主屋は街路に接道していない。
- 3 徳島県美馬市に見られる「卯建」は、隣家との境界に取り付けられた小さな屋根付きの壁で、防火対策として造られるようになった。
- 4 沖縄県竹富島では台風の暴風雨対策として、赤瓦を漆喰で塗り固めた切り妻屋根の家屋が多く見られる。

[問 2] 住宅の安全対策に関する記述として適切なものは、次の 1～4 のうちのどれか。解答番号は **16**。

- 1 消防法施行令では、住宅用火災警報器を個人住宅でも設置することが義務化されたが、設置場所の規定はない。
- 2 住宅の品質確保の促進等に関する法律では、住宅のデザインや工事費を含む住宅性能評価基準及びこれに基づく評価の制度を設けるよう定められている。
- 3 建築基準法施行令では、階段での安全な昇降を確保するために、住宅の階段の蹴上げは15cm以下、踏面は23cm以上にしなければならない。
- 4 建築基準法施行令では、シックハウス症候群の対策のため、建築材料の制限や換気設備の設置について定められている。

7

消費生活・環境に関する次の各問に答えよ。

[問 1] 家計の収支に関する次の記述**ア**～**エ**と、総務省「家計調査」における収支項目の名称 A～Fとの組合せとして適切なものは、下の**1**～**6**のうちのどれか。解答番号は **17**。

ア 有価証券の売却**イ** 失業による社会保障給付**ウ** クレジットカードによるボーナス一括払いの銀行口座からの引き落とし**エ** 日用品購入時に支払う消費税

A 実収入の経常収入

B 実収入の特別収入

C 実収入以外の受取

D 実支出の消費支出

E 実支出の非消費支出

F 実支出以外の支払

1 **ア**－A **イ**－B **ウ**－D **エ**－E**2** **ア**－A **イ**－C **ウ**－E **エ**－F**3** **ア**－B **イ**－A **ウ**－D **エ**－E**4** **ア**－B **イ**－C **ウ**－F **エ**－D**5** **ア**－C **イ**－A **ウ**－F **エ**－D**6** **ア**－C **イ**－B **ウ**－F **エ**－E

[問 2] 環境や経済・消費生活に関する次のマークア～ウと、その説明A～Fとの組合せとして適切なものは、下の1～6のうちのどれか。解答番号は 18。

ア



イ



ウ



- A ライフサイクル全体を考慮して環境保全に資する商品を認定し、表示するマークである。
- B 生分解性と安全性が一定の基準以上にあることが確認された材料だけから構成されるプラスチック製品に付けられるマークである。
- C 使用済みペットボトルのリサイクル品を使用した商品に付けられるマークである。
- D 焼却処分時の二酸化炭素を増やさない、植物から作ったプラスチックなどに付けられるマークである。
- E ペットボトルの分別回収を促進するためのマークである。
- F 原料に古紙を規定の割合以上利用していることを示すマークである。

- | | | | |
|---|-----|-----|-----|
| 1 | ア－B | イ－C | ウ－A |
| 2 | ア－B | イ－C | ウ－F |
| 3 | ア－B | イ－E | ウ－F |
| 4 | ア－D | イ－C | ウ－A |
| 5 | ア－D | イ－E | ウ－A |
| 6 | ア－D | イ－E | ウ－F |

余 白

特別支援教育の専門に関する問題

I 特別支援教育に関する次の各問に答えよ。

[問 1] 「特別支援教育の推進について（通知）」（文部科学省 平成19年4月1日）に関する次の記述ア～エのうち、正しいものを選んだ組合せとして適切なものは、下の1～6のうちのどれか。解答番号は 。

- ア** 特別支援教育は、障害のある幼児児童生徒の自立や社会参加に向けた主体的な取組を支援するという視点に立ち、幼児児童生徒一人一人の教育的ニーズを把握し、その持つ力を高め、生活や学習上の困難を改善又は克服するため、適切な指導及び必要な支援を行うものである。
- イ** 障害のある幼児児童生徒と障害のない幼児児童生徒との交流及び共同学習について、各学校においては、双方の幼児児童生徒の教育的ニーズに対応した内容・方法を十分検討し、早期から組織的、計画的、継続的に実施することなど、一層の効果的な実施に向けた取組を推進する。
- ウ** 特別支援学校においては、地域における特別支援教育のセンターとしての機能の充実を図り、地域の各学校等の要請に応じて、発達障害を含む障害のある幼児児童生徒のための個別の指導計画や個別の教育支援計画の作成及びその内容を踏まえた幼児児童生徒への直接の指導を行う。
- エ** 各学校においては、特別支援学校での勤務経験のある者の中から校長が指名した特別支援教育コーディネーターが、全校的な支援体制を確立し、発達障害を含む障害のある幼児児童生徒の実態把握や支援方策の検討を行うための校内委員会を設置する。

- 1 ア・イ
- 2 ア・ウ
- 3 ア・エ
- 4 イ・ウ
- 5 イ・エ
- 6 ウ・エ

[問 2] 就学に関する次の記述**ア**～**エ**のうち、学校教育法施行令に照らして、正しいものを選んで組合せとして適切なものは、下の**1**～**6**のうちのどれか。解答番号は 20。

ア 都道府県の教育委員会は、就学予定者のうち、その者の障害の状態に照らして、区市町村の設置する小学校又は中学校において適切な教育を受けることができる特別の事情があるものと認める者について、その保護者に対し、翌学年の初めから二月前までに、小学校、中学校又は義務教育学校の入学期日を通知しなければならない。

イ 特別支援学校に在学する学齢児童又は学齢生徒でその障害の状態、その者の教育上必要な支援の内容、地域における教育の体制の整備の状況その他の事情の変化により、当該学齢児童又は学齢生徒の住所の存する区市町村の設置する小学校、中学校又は義務教育学校に就学することが適当であると思料するもの（視覚障害者でなくなった者を除く。）があるときは、当該学齢児童又は学齢生徒の在学する特別支援学校の校長は、速やかに、当該学齢児童又は学齢生徒の住所の存する都道府県の教育委員会に対し、その旨を通知しなければならない。

ウ 都道府県の教育委員会は、当該都道府県の設置する特別支援学校が2校以上ある場合においては、区域外就学等の届出の通知を受けた児童生徒等を除き、特別支援学校への就学についての通知を受けた児童生徒等を就学させるべき特別支援学校を指定しなければならない。

エ 区市町村の教育委員会は、児童生徒等のうち視覚障害者等について、小学校、中学校又は特別支援学校への就学又は転学に係る通知をしようとするときは、教育学、医学、心理学その他の障害のある児童生徒等の就学に関する専門的知識を有する者の意見を当該児童生徒等の保護者の意見に優先して聴かななければならない。

1 ア・イ

2 ア・ウ

3 ア・エ

4 イ・ウ

5 イ・エ

6 ウ・エ

[問 3] 特別支援教育に関連する法令の内容に関する次の記述ア～エのうち、正しいものを選んで組合せとして適切なものは、下の 1～6 のうちのどれか。解答番号は 21。

ア 「学校教育法施行規則」では、特別支援学校の小学部又は中学部の 1 学級の児童又は生徒の数は、法令に特別の定めのある場合を除き、視覚障害者又は聴覚障害者である児童又は生徒に対する教育を行う学級にあつては15人以下を標準とするとされている。

イ 「障害者基本法」では、全ての国民が、障害の有無によって分け隔てられることなく、相互に人格と個性を尊重し合いながら共生する社会を実現するため、障害者の自立及び社会参加の支援等のための施策に関し、基本原則を定め、障害者の自立及び社会参加の支援等のための施策を総合的かつ計画的に推進することを目的としている。

ウ 「発達障害者支援法」では、国及び地方公共団体は、発達障害のある児童生徒が、その年齢及び能力に応じ、かつ、その特性を踏まえた十分な教育や必要な支援を受けられるようにするため、発達障害のある児童生徒のみを対象とした教育を受けられるよう特別支援学校の体制を整備するなど、必要な措置を講じるものとしている。

エ 「障害を理由とする差別の解消の推進に関する法律」では、国、都道府県、区市町村などの行政機関や、会社や店などの事業者が、障害のある人に対して、正当な理由なく、障害を理由として差別することを禁止しており、ボランティア活動をするグループなども事業者として捉えている。

- 1 ア・イ
- 2 ア・ウ
- 3 ア・エ
- 4 イ・ウ
- 5 イ・エ
- 6 ウ・エ

Ⅱ

学習指導要領に関する次の各問に答えよ。

[問 1] 特別支援学校高等部学習指導要領総則の「教育課程の編成」に関する次の記述**ア**～**エ**のうち、正しいものを選んだ組合せとして適切なものは、下の**1**～**6**のうちのどれか。解答番号は 。

ア 教育課程の編成に当たっては、学校教育全体、各教科・科目等及び各教科等において、それぞれの指導を通して育成を目指す資質・能力を踏まえつつ、各学校の教育目標を明確にするとともに、教育課程の編成についての基本的な方針が家庭や地域とも共有されるよう努めるものとする。

イ 各学校においては、生徒の障害の状態や特性及び心身の発達の段階等を考慮し、言語能力、情報活用能力（情報モラルを含む。）、問題発見・解決能力等の学習の基盤となる資質・能力を育成していくことができるよう、各教科・科目等又は各教科等の特質を生かし、教科等横断的な視点から教育課程の編成を図るものとする。

ウ 肢体不自由者又は病弱者である生徒に対する教育を行う特別支援学校にあつては、主として専門学科において開設される、印刷やクリーニングなどの各教科・科目及び設置者の定めるそれぞれの標準単位数を踏まえ、生徒に履修させる各教科・科目及びその単位数について適切に定めるものとする。

エ 知的障害者である生徒に対する教育を行う特別支援学校にあつては、各教科等の総授業時数は、各学年とも1,015単位時間を標準とし、特に必要がある場合には、これを増加することができる。この場合、各教科等の目標及び内容を考慮し、各教科及び総合的な探究の時間の配当学年及び当該学年における授業時数、道徳科、特別活動及び自立活動の各学年における授業時数を適切に定めるものとする。

1 ア・イ

2 ア・ウ

3 ア・エ

4 イ・ウ

5 イ・エ

6 ウ・エ

[問 2] 特別支援学校高等部学習指導要領総則の「教育課程の編成」の「教育課程の編成における共通的事項」の「キャリア教育及び職業教育に関して配慮すべき事項」に関する次の記述ア～エのうち、正しいものを選んだ組合せとして適切なものは、下の1～6のうちどれか。解答番号は 。

ア 職業に関する各教科・科目については、就業体験活動をもって実習に替えることができること。この場合、就業体験活動は、その各教科・科目の内容に直接関係がなくても、あらかじめ計画し、評価されるものであることを要すること。

イ 普通科においては、生徒の障害の状態や特性及び心身の発達の段階等、学校や地域の実態等を考慮し、必要に応じて、適切な職業に関する各教科・科目の履修の機会の確保について配慮するものとする。

ウ 職業教育を主とする専門学科においては、生徒の実態を考慮し、職業に関する各教科・科目の履修を容易にするため特別な配慮が必要な場合には、各分野における基礎的又は中核的な科目を重点的に選択し、その内容については基礎的・基本的な事項が確実に身に付くように取り扱い、また、主として実験・実習によって指導するなどの工夫をこらすようにすること。

エ 職業に関する各教科・科目については、工業、家庭及び情報に関する各教科・科目の指導に当たっては、ホームプロジェクトなどの活動を活用して、学習の効果を上げるよう留意すること。この場合、ホームプロジェクトについては、適切な授業時数をこれに充てることができること。

- 1 ア・イ
- 2 ア・ウ
- 3 ア・エ
- 4 イ・ウ
- 5 イ・エ
- 6 ウ・エ

Ⅲ 次の事例を読み、下の各問に答えよ。

生徒Aは知的障害特別支援学校中学部第1学年に在籍する知的障害と自閉症のある生徒である。

生徒Aの様子

- ・ 手指の巧緻性が高く、創作活動が好きである。
- ・ ①創作活動に取り組んでいると、教員の指示があってもやめることができず、作り続けることがしばしばある。
- ・ 活動の見通しがもてないときや困ったことがあったときに、気持ちを伝えることが難しい。
- ・ 安心できる担任には、「できました」など言葉での報告ができるときがある。
- ・ ②要求がかなわないときや、嫌いな音がするなどの不快なことがあったときに、大きな声を出したり、人やものなどをたたこうとしたりするなどの行動が見られる。
- ・ 一斉指導や音声による指示は、理解できないことがしばしばある。
- ・ 周りの動きに合わせて行動しているが、1日の細かいスケジュール等を理解することは難しい。

(「知的障害特別支援学校の教育課程の充実に向けて」(東京都教育委員会 平成29年3月)から作成)

[問 1] 下線部①について、次の記述ア～エのうち、「生徒Aの様子」や障害の特性等を踏まえた支援として、正しいものを選んだ組合せとして最も適切なものは、下の1～6のうちではどれか。解答番号は 。

ア 興味や関心のある活動中に教員が「楽しいね」、「うれしいね」などと言葉をかけて、人とやり取りすることや通じ合う楽しさを感じられるようにする。

イ 活動に固執し切り換えるのが難しいのは、自分にとって快適な刺激を得るためなので、毅然と対応してやめさせる。

ウ 活動に固執してやめられないときには、「もう少し」、「そのくらい」など、意味内容に幅のある言葉で、やめるタイミングを示す。

エ 固執してしまう活動では、あらかじめ活動する時間を決めておき、タイマーを使って残り時間が視覚的にわかるようにする。

- | | | | | | |
|---|-----|---|-----|---|-----|
| 1 | ア・イ | 2 | ア・ウ | 3 | ア・エ |
| 4 | イ・ウ | 5 | イ・エ | 6 | ウ・エ |

[問 2] 下線部②について、次の記述**ア**～**エ**のうち、「生徒Aの様子」や障害の特性等を踏まえた支援として、正しいものを選んだ組合せとして最も適切なものは、下の**1**～**6**のうちではどれか。解答番号は 。

- ア** 嫌いな音に反応したときは、ノイズキャンセルヘッドホン等を使用して音量を調整する。
- イ** 生徒Aにとって苦手な音は、他の生徒にとっても一律に不快なので、音を除去する。
- ウ** 不快な気持ちを伝えられるように、感情を表した絵カードを使用する。
- エ** その場で初めて経験する新しい活動を用意し、取り組めるようにする。

- 1** ア・イ
- 2** ア・ウ
- 3** ア・エ
- 4** イ・ウ
- 5** イ・エ
- 6** ウ・エ

[問 3] 生徒Aに対して、指導目標を「いろいろな教員に対して作業が完了したら『できました』と伝えられるようになる。」と設定した。次の記述**ア**～**エ**のうち、この目標を達成するために「生徒Aの様子」や障害の特性等を踏まえた支援として、正しいものを選んだ組合せとして最も適切なものは、下の**1**～**6**のうちではどれか。解答番号は 。

- ア** 話す人の方向を見て報告することは、障害の特性上困難なので指導しない。
- イ** 日頃関わりのない多くの教員とのやり取り場面を設定する。
- ウ** 日常的に報告の場面を作ったり、自分の気持ちを言葉で表現する経験を重ねたりすることで、相談することのよさが実感できるようにする。
- エ** 人と協力して遂行するゲーム等をして、適切な関わりができるようにする。

- 1** ア・イ
- 2** ア・ウ
- 3** ア・エ
- 4** イ・ウ
- 5** イ・エ
- 6** ウ・エ

IV 障害に関する次の各問に答えよ。

[問 1] 視覚障害の眼疾患の一つである網膜色素変性症に関する記述として最も適切なものは、次の 1～4 のうちではどれか。解答番号は 。

- 1 視神経乳頭、視野に特徴的变化を示し、通常、眼圧を十分に下げることにより視神経障害の改善あるいは進行の阻止が可能な、眼の機能的構造的異常を特徴とする疾患である。眼球破裂の危険性があり、防御眼鏡の装着を検討することも必要である。
- 2 未熟児に生後まもなく発症する可能性のある網膜の異常であり、視力や視野は正常な人から全盲の人まで個人差がある疾患である。屈折異常の矯正、網膜剥離の予防などへの対応が必要である。
- 3 乳幼児の網膜に発生する悪性腫瘍で、腫瘍が大きくなると光で反射して瞳孔が光る疾患である。二次腫瘍発生の可能性があり、生涯にわたり経過観察が必要である。
- 4 網膜桿体の機能低下が生じた状態で、暗い所が見えにくい夜盲や周辺が見えない視野狭窄が生じていく疾患である。多くは進行性であり、そのため心理的ケアが必要である。

[問 2] 聴覚障害の起因疾患とその特徴に関する記述として最も適切なものは、次の 1～4 のうちではどれか。解答番号は 。

- 1 耳硬化症は、骨の異常増殖によりツチ骨が固着することを原因とし、進行性難聴や耳鳴の症状を特徴とする両側性の疾患である。
- 2 滲出性中耳炎は、耳管機能が不良となり中耳腔に滲出液が貯留することを原因とし、軽度の難聴や低音性の耳鳴、耳閉塞感の症状を特徴とする疾患である。
- 3 メニエール病は、回転性のめまいや難聴、耳鳴の症状が反復消長することを特徴とし、一側性より両側性の症例が多い疾患である。
- 4 音響外傷は、騒音職場などで長期間就労していることを原因とし、徐々に聴力が低下していく症状を特徴とする慢性発症型の難聴である。

[問 3] 肢体不自由児の知的機能の発達の検査に関する記述として適切なものは、次の1～4のうちのどれか。解答番号は 。

- 1 言語障害や上肢の障害による表出手段の著しい困難などのために、妥当性の高い検査値を求めることができない場合があるので、検査目的を明確にするとともに、その結果を弾力的に解釈できるような工夫を行って実施する必要がある。
- 2 標準化された知能検査を行う場合には、時間制限があったり、運動速度を必要としたりする個別式知能検査のみではなく、子供が持っている力を十分に発揮させるために検査者との関係性を大切にしたい集団式知能検査を併用して実施する必要がある。
- 3 運動・動作の障害や言語障害などがある子供に対する配慮が十分になされていない検査があるため、知能検査を厳密に行うと目と手の協応、運動速度、言語などを必要とする検査項目の成績が高く現れることに留意して実施する必要がある。
- 4 知能検査を実施する場合には、問題内容の変更や音声出力装置などの代替表現の工夫、障害の状態や程度を考慮した検査時間の延長などを行うことで、子供に合わせて実施する必要がある。

[問 4] 知的障害の起因疾患とその特徴に関する次の記述ア～エのうち、正しいものを選んだ組合せとして最も適切なものは、下の1～6のうちではどれか。解答番号は 。

- ア** プラダー・ウィリー症候群は、アミノ酸の代謝異常を原因とし、低緊張、過食とそれによる肥満、小さい手足などを特徴とする疾患である。
- イ** ダウン症候群は、21番染色体の過剰を原因とし、低緊張、先天性心疾患、低身長などを伴う疾患である。
- ウ** レット症候群は、女兒に多くみられ、視線回避、上肢の常同運動、小頭症などを特徴とする疾患である。
- エ** フェニルケトン尿症は、15番染色体の異常を原因とし、わずかな発語、発作的な笑い、失調性歩行などを特徴とする疾患である。

- 1 ア・イ
- 2 ア・ウ
- 3 ア・エ
- 4 イ・ウ
- 5 イ・エ
- 6 ウ・エ

[問 5] 「教育支援資料～障害のある子供の就学手続と早期からの一貫した支援の充実～」(文部科学省 平成25年10月)の「V 病弱・身体虚弱」に関する次の記述**ア**～**エ**のうち、正しいものを選んだ組合せとして適切なものは、下の**1**～**6**のうちのどれか。解答番号は

31

。


ア 病弱とは、病気ではないが身体が不調な状態が続く、病気にかかりやすいといった状態を表している。また、身体虚弱とは心身の病気のため弱っている状態を表している。これらの用語は、このような状態が継続して起こる、又は繰り返して起こる場合に用いられる。


イ 病弱教育では、病気の自己管理能力を育成することは重要な指導事項の一つである。そのため、病弱児にとって必要な生活規制とは、他人からの規制ではなく「生活の自己管理」と考えて取り組むことが大切である。

ウ 白血病は、血液の製造所である骨髄で異常な未熟白血球が増殖し、その浸潤により、正常造血機能の抑制を来す病気である。急性骨髄性白血病、急性リンパ性白血病、慢性骨髄性白血病など多くの種類があり、子供には急性リンパ性白血病が多い。

エ 気管支喘息は、気道の慢性的な炎症によって反応性が低くなり、種々の刺激により気管支平滑筋の弛緩、粘膜の腫れなどを来し、発作性に咳や喘鳴を伴う呼吸困難を繰り返す疾患である。

- 1 ア・イ
- 2 ア・ウ
- 3 ア・エ
- 4 イ・ウ
- 5 イ・エ
- 6 ウ・エ





3 (4採用) 【特別支援学校 家庭】

問題番号		解答番号	正答1	正答2	正答3	配点	備考
大問番号	小問番号						
1	問1	1	6			4	
	問2	2	3			4	
2	問1	3	4			4	
	問2	4	5			4	
3	問1	(1)	5	2		4	
		(2)	6	3		4	
4	問1	7	3			4	
	問2	A	8	2		4	完全解答
		B	9	2			
5	問1	10	2			4	
	問2	ア	11	—		2	
		イ	12	1		2	
		ウ	13	—		2	
		エ	14	1		2	
6	問1	15	3			4	
	問2	16	4			4	
7	問1	17	5			4	
	問2	18	2			4	
I	問1	19	1			4	
	問2	20	4			3	
	問3	21	5			3	
II	問1	22	1			3	
	問2	23	4			3	
III	問1	24	3			3	
	問2	25	2			3	
	問3	26	6			3	
IV	問1	27	4			3	
	問2	28	2			3	
	問3	29	1			3	
	問4	30	4			3	
	問5	31	4			3	