

専門教養
令和4年7月
60分

受験教科等
中・高等学校共通 地理歴史

注意

- 指示があるまで、問題冊子を開いてはいけません。
- 全て係員の指示に従って、静粛に受験してください。
- 机上には、受験票、筆記用具、時計以外のものを出してはいけません。
- 他の受験者の迷惑になるような行為、スマートフォン等の使用及び不正行為をしてはいけません。
- 解答時間は60分です。途中退出はできません。
- 問題冊子のページ数は、48ページです。はじめにページ数を確かめてください。
- 解答用紙に、必要事項が正しく記入・マークされていない場合には、解答は全て無効となります。解答用紙の【1】の欄には、受験番号を記入し、受験番号に対応する数字をマークしてください。【2】の欄には、氏名を記入してください。また、【3】の欄には、選択した問題を表す記号（A、B又はC）を必ずマークしてください。
- この問題は、共通問題 1 ~ 4、科目別の選択問題 A 世界史、B 日本史、C 地理の各問題から構成されています。次の表に従って、解答してください。

共通問題（全員が解答する）		
共通問題 1 ~ 4 （1ページ~13ページ）		
選択問題（いずれか一つを選択して解答する）		
A 世界史 (14ページ~24ページ)	B 日本史 (25ページ~34ページ)	C 地理 (35ページ~48ページ)


- 問題冊子の余白等は、適宜使用しても構いませんが、どのページも切り離してはいけません。
- 問題文中の「学習指導要領」は、特に指示がある場合を除いて、平成29年、平成30年又は平成31年告示の「学習指導要領」を表しています。
- 問題の内容についての質問には一切応じません。

解答上の注意

- 解答は、問題文や解答用紙の注意事項に従って、解答欄にマークしてください。各問に対して、正答は一つだけです。各解答欄に二つ以上マークした場合は誤りとなります。
- 「解答番号は 1。」と表示のある問に対して、3と解答する場合には、次の（例）のように解答番号 1 の解答欄の③にマークしてください。

(例)

解答番号	解答欄
1	① ② ● ④ ⑤ ⑥ ⑦ ⑧ ⑨ ⑩ ⊖



問題は、次のページから始まります。

共通問題

1 地理的分野に関する次の各問に答えよ。

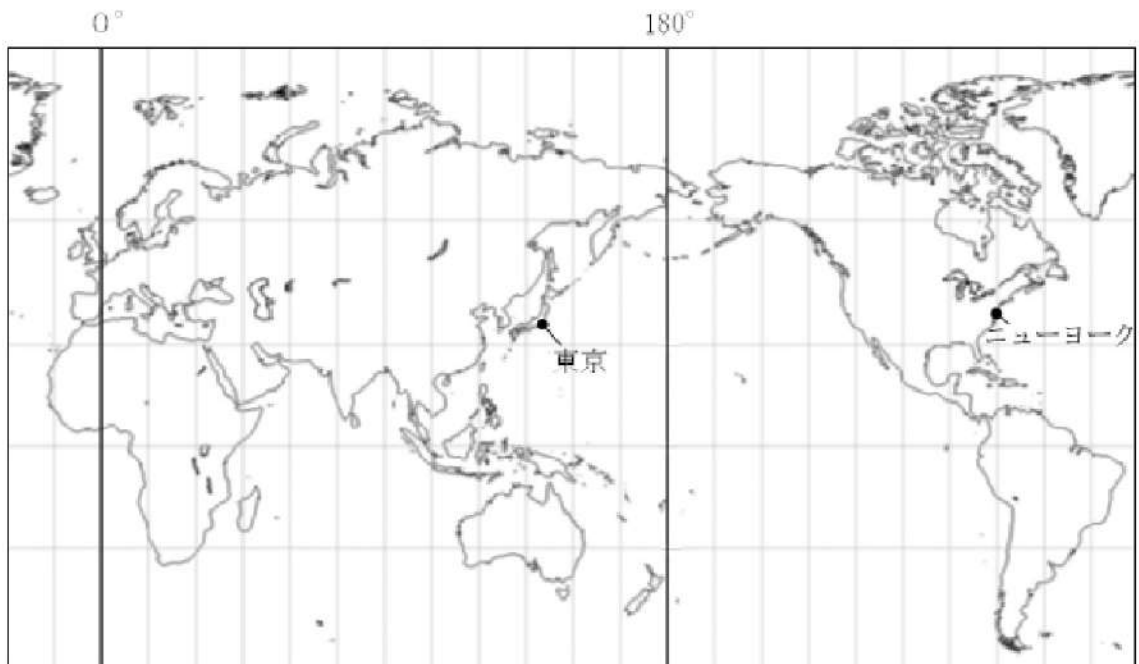
[問 1] 次の国土地理院発行の地形図の一部から読み取れるものとして適切なものは、次のページの1～4のうちのどれか。解答番号は **1**。



(1 : 25,000 「山寺」平成28年調製から作成)

- 1 「正法寺川」の上流には、水田が広がっている。
- 2 「大森」にある老人ホームと「荒谷」にある老人ホームとの地図上の距離を測ったところ9cmであったので、この2地点間の実際の距離は4.5kmである。
- 3 「楯山駅」から「高瀬駅」までの線路は、「高瀬駅」に向かってなだらかに下がっている。
- 4 「大森山」の山頂付近と「警察学校」付近には共に三角点があり、高低差は約230mである。

[問 2] 東京国際空港（羽田空港）を日本時間2月2日の11時35分に離陸した旅客機は、アメリカのジョン・F・ケネディ国際空港に日本時間2月3日0時30分に到着した。このとき、ニューヨークの現地時間として適切なものは、下の1～4のうちのどれか。ただし、時間の表記は全て24時間制とする。解答番号は 2。



- 1 2月2日 8時30分
- 2 2月2日 10時30分
- 3 2月2日 12時30分
- 4 2月2日 14時30分

[問 3] 次の表は、東京都、香川県、長崎県、鹿児島県、沖縄県のそれぞれの都県の有人離島数、離島の総面積、耕地化率、住民登録人口、水産業生産額及び観光客数をまとめたものである。表中の**ア～エ**に当てはまる県名の組合せとして適切なものは、下の**1～9**のうちどれか。なお、沖縄県の統計には沖縄本島は含まれていない。解答番号は 3。

表

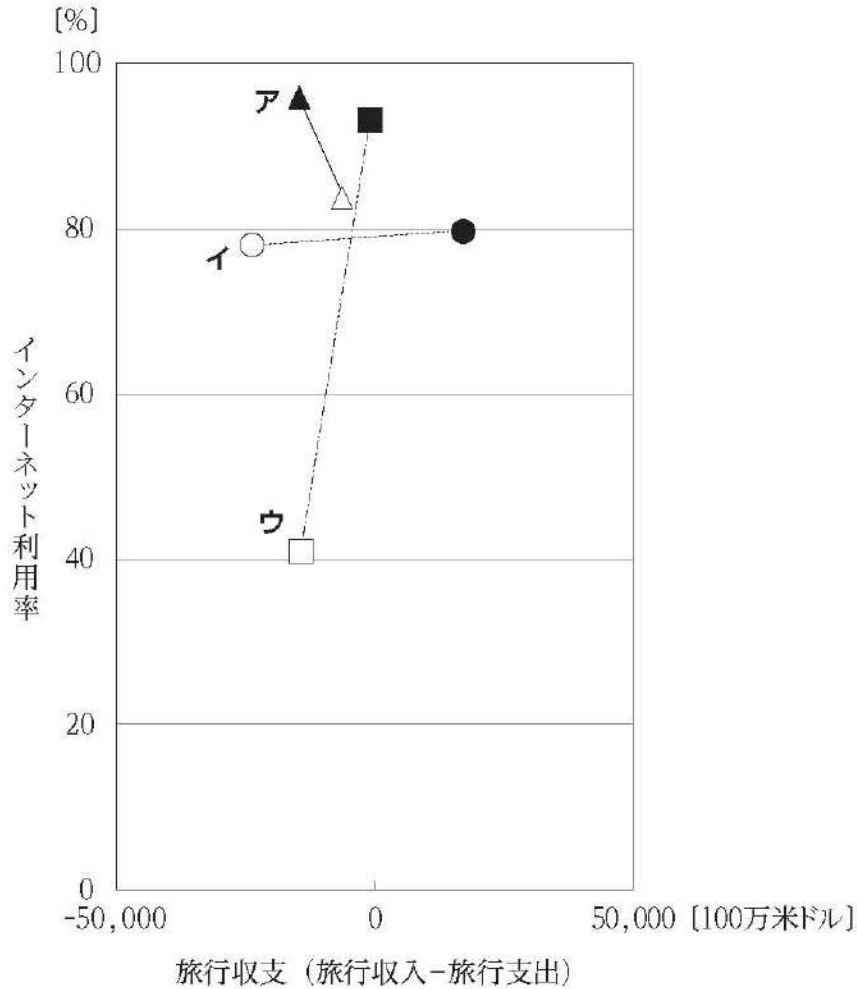
	有人 離島数	離島の 総面積 (ha)	離島の 耕地化率 (%)	離島の 住民登録人口 (人)	離島の 水産業 生産額 (百万円)	離島の 観光客数 (千人)
東京都	11	33,385	3.3	25,354	3,592.6	492.6
ア	24	21,748	4.4	34,530	8,189.0	5,186.3
イ	26	247,415	11.8	157,008	5,681.9	1,527.7
ウ	39	101,224	27.2	129,593	4,136.0	4,119.6
エ	51	155,115	9.3	123,048	40,102.5	1,266.1

※ 統計は、2018年4月1日現在、離島振興法、小笠原諸島振興開発特別措置法、奄美群島振興開発特別措置法、沖縄振興特別措置法の各法に基づき指定されている離島のうち、住民の居住が同日付けの住民基本台帳で確認された島についてのものである。なお、総面積と耕地化率は2018年3月末、水産業生産額は2017年1～12月、観光客数は2017年度のものである。

(公益財団法人日本離島センター「2019 離島統計年報」から作成)

- | | | | | | | | | |
|---|----------|------|----------|------|----------|------|----------|------|
| 1 | ア | 沖縄県 | イ | 香川県 | ウ | 鹿児島県 | エ | 長崎県 |
| 2 | ア | 沖縄県 | イ | 香川県 | ウ | 長崎県 | エ | 鹿児島県 |
| 3 | ア | 沖縄県 | イ | 長崎県 | ウ | 香川県 | エ | 鹿児島県 |
| 4 | ア | 香川県 | イ | 沖縄県 | ウ | 鹿児島県 | エ | 長崎県 |
| 5 | ア | 香川県 | イ | 鹿児島県 | ウ | 沖縄県 | エ | 長崎県 |
| 6 | ア | 香川県 | イ | 鹿児島県 | ウ | 長崎県 | エ | 沖縄県 |
| 7 | ア | 鹿児島県 | イ | 沖縄県 | ウ | 長崎県 | エ | 香川県 |
| 8 | ア | 鹿児島県 | イ | 長崎県 | ウ | 沖縄県 | エ | 香川県 |
| 9 | ア | 鹿児島県 | イ | 長崎県 | ウ | 香川県 | エ | 沖縄県 |

[問 4] 次の図中のア～ウは、2010年と2018年における韓国、サウジアラビア及び日本の旅行収支とインターネット利用率の変化を示している。図中のイとウに当てはまる国名の組合せとして適切なものは、下の1～6のうちのどれか。解答番号は 4。



※ ○△□は、2010年を示し、●▲■は、2018年を示す。

(総務省統計局「世界の統計 2020」、「世界の統計 2021」から作成)

- | | | | | |
|---|---|---------|---|---------|
| 1 | イ | 韓国 | ウ | サウジアラビア |
| 2 | イ | 韓国 | ウ | 日本 |
| 3 | イ | サウジアラビア | ウ | 韓国 |
| 4 | イ | サウジアラビア | ウ | 日本 |
| 5 | イ | 日本 | ウ | 韓国 |
| 6 | イ | 日本 | ウ | サウジアラビア |

2 歴史的分野に関する次の各問に答えよ。

[問 1] 次の資料の銅銭が製造された時代に関する記述として適切なものは、下の 1～4 のうちのどれか。解答番号は **5**。

資料

- 1 我が国と新羅の関係が悪化すると、長安への往来の際に、東シナ海を通る航路をとることとなり、遭難する船が多かった。
- 2 六波羅には武家政権が登場し、兵庫の港を整備すると、高麗などからの商人との貿易により利益を上げた。
- 3 江南で新たに興った王朝は、大陸の沿岸部を荒らす倭寇の取り締まりや海上の秩序回復を目指し、民間海上貿易を禁止した。
- 4 九州の諸港には、マカオを經由して多くの南蛮船が来航し、鉄砲や中国の生糸・絹織物をもたらした。

[問 2] 次のア～エは、我が国の歴史上の出来事の絵と、その出来事に関する記述をまとめたものである。また、記述中の空欄 ～ には、ある地名が入る。ア～エに関する記述として適切なものは、下の 1～4 のうちのどれか。解答番号は 。

	歴史上の出来事の絵	出来事に関する記述
ア		この絵は、出島である。三代将軍徳川家光の時代に、幕府は、オランダ船以外の来航を禁止し、 <input type="text" value="あ"/> に平戸のオランダ商館を移した。この出来事以降、幕府は、オランダ商館、中国の民間商船や朝鮮国、琉球王国、アイヌ民族以外との交渉を閉ざした。
イ		この絵の船は、菱垣廻船である。大型の帆船を用いて、主として大坂から江戸に様々な商品を輸送する廻船集団であった。また、富商の河村瑞賢によって、 <input type="text" value="い"/> を起点とし、東廻り海運と、日本海沿岸をまわって下関を経て瀬戸内海に入り大坂、江戸に至る西廻り海運のルートが整備された。
ウ		この絵の船は、 <u>フェートン号</u> である。この船は、当時敵国であったオランダ船のだ捕をねらって <input type="text" value="う"/> 港に侵入する事件を起こした。 この後、幕府は、清や朝鮮の船を除いた外国船を対象とする異国船打払令を出し、この令によって撃退された <u>モリソン号</u> 事件を機に幕府の対外政策を批判した渡辺崋山や高野長英らが厳しく処罰された。
エ		この絵は、東インド艦隊司令長官の <u>ペリー</u> が <input type="text" value="え"/> に再来した様子である。彼は幕府に条約の締結を強硬に迫り、下田、函館の2港を開かせるとともに、領事を置くことや食料や水、石炭などを供給させることを認めさせた。

- 1 アとイの記述中の下線部の人物は、江戸で生まれた。
- 2 ウとエの記述中の二重下線部の船や人物は、全て同じ国から来た。
- 3 記述中の空欄 ～ の場所は、現在の都道府県単位では全て異なっている。
- 4 アの出来事とエの出来事の間は約210年で、この間、いわゆる鎖国の状態が続いた。

[問 3] 次の資料の使節団に関する記述として適切なものは、下の1～4のうちのどれか。解答番号は 。

資料

- 1 帰国後に、版籍奉還、廃藩置県及び徴兵令などの重要な政策を実施した。
- 2 欧米に留学する年少の華族や士族の子弟も同行し、その中には帰国後、女子教育に尽力した人物もいた。
- 3 イギリス、アメリカ、フランス、ベルギーの順に、総計12か国を歴訪した。
- 4 アメリカとの間で条約改正交渉を行い、関税自主権の回復に合意が得られた。

[問 4] 次の史料ア・イは、ある政治家の演説の一部である。また、下の図中のA～Dは、19世紀後半から20世紀初頭におけるアメリカ、イギリス、ドイツ、フランスのいずれかの国の世界工業生産に占めるシェアの推移を示している。史料ア・イの演説が行われた国を、A～Dからそれぞれ選んだ組合せとして適切なものは、下の1～8のうちのどれか。解答番号は

。

史料

ア

イ

図

(東京大学出版会「近代国際経済要覧」から作成)

- | | | |
|---|-----|-----|
| 1 | ア-A | イ-B |
| 2 | ア-A | イ-D |
| 3 | ア-B | イ-A |
| 4 | ア-B | イ-C |
| 5 | ア-C | イ-B |
| 6 | ア-C | イ-D |
| 7 | ア-D | イ-A |
| 8 | ア-D | イ-C |

3 公民的分野に関する次の各問に答えよ。

[問 1] 日本国憲法で規定されている社会権に関する記述として適切なものは、次の**1**～**4**のうちのどれか。解答番号は **9**。

- 1 財産権は、これを侵してはならない。財産権の内容は、公共の福祉に適合するやうに、法律でこれを定める。
- 2 婚姻は、両性の合意のみに基いて成立し、夫婦が同等の権利を有することを基本として、相互の協力により、維持されなければならない。
- 3 何人も、公務員の不法行為により、損害を受けたときは、法律の定めるところにより、国又は公共団体に、その賠償を求めることができる。
- 4 すべて国民は、法律の定めるところにより、その能力に応じて、ひとしく教育を受ける権利を有する。

[問 2] 我が国における男女共同参画社会の実現に向けた次の法律に関する記述**ア**～**エ**を、年代の古いものから順に並べたものとして適切なものは、下の**1**～**4**のうちのどれか。解答番号は **10**。

- ア** 雇用の分野における男女の均等な機会及び待遇の確保を図るとともに、女性労働者の就業に関して妊娠中及び出産後の健康の確保を図る等の措置を推進することを目的として、勤労婦人福祉法が改正され、男女雇用機会均等法が公布された。
- イ** 労働者がそれぞれの事情に応じた多様な働き方を選択できる社会を実現する働き方改革を総合的に推進するため、長時間労働の是正、多様で柔軟な働き方の実現、雇用形態にかかわらず公正な待遇の確保等を目的として、働き方改革関連法が公布された。
- ウ** 男女共同参画社会の形成の促進に関する施策の基本となる事項を定めることにより、男女共同参画社会の形成を総合的かつ計画的に推進することを目的として、男女共同参画社会基本法が公布された。
- エ** 子の養育又は家族の介護を行う労働者等の雇用の継続及び再就職の促進を図り、もってこれらの者の職業生活と家庭生活との両立に寄与することを通じて、これらの者の福祉の増進を図り、あわせて経済及び社会の発展に資することを目的として、育児休業法が改正され、育児・介護休業法が公布された。

- 1 **ア** → **イ** → **ウ** → **エ**
- 2 **ア** → **エ** → **ウ** → **イ**
- 3 **ウ** → **イ** → **ア** → **エ**
- 4 **ウ** → **エ** → **ア** → **イ**

[問 3] 次の表は、我が国の1960年度、1980年度、2000年度、2020年度における一般会計歳出（当初ベース）の合計に占める主要経費別の割合を示したものである。表中の**ア**～**エ**に当てはまるものの組合せとして適切なものは、下の**1**～**4**のうちのどれか。解答番号は **11**。

[%]

	1960年度	1980年度	2000年度	2020年度
ア	11.6	19.3	19.7	34.9
文教及び科学振興費	13.1	10.6	7.7	5.4
イ	1.7	12.5	25.8	22.7
地方交付税交付金	18.1	15.4	16.5	15.2
ウ	9.8	5.2	5.8	5.2
エ	17.6	15.6	11.1	6.7
その他	28.0	21.4	13.4	9.9

※ 表中の主要経費別の割合の数値は小数第二位を四捨五入したものである。また、合計が100にならないことがある。

※ 1960年度の文教及び科学振興費は、文教関係費と科学技術振興費を合算したものである。

(財務省資料から作成)

- | | | |
|---|------------------|------------------|
| 1 ア 社会保障関係費
エ 公共事業関係費 | イ 国債費 | ウ 防衛関係費 |
| 2 ア 社会保障関係費
エ 防衛関係費 | イ 国債費 | ウ 公共事業関係費 |
| 3 ア 国債費
エ 公共事業関係費 | イ 社会保障関係費 | ウ 防衛関係費 |
| 4 ア 国債費
エ 防衛関係費 | イ 社会保障関係費 | ウ 公共事業関係費 |

[問 4] 次の資料ア～エは、国際連合で採択された人権に関する条約等の一部である。ア～エを、国際連合で採択された年代の古いものから順に並べたものとして適切なものは、下の1～4のうちのどれか。解答番号は 。

ア

締約国は、この規約に規定する権利が人種、皮膚の色、性、言語、宗教、政治的意見その他の意見、国民的若しくは社会的出身、財産、出生又は他の地位によるいかなる差別もなしに行使されることを保障することを約束する。

イ

締約国は、児童がその父母、法定保護者又は家族の構成員の地位、活動、表明した意見又は信念によるあらゆる形態の差別又は処罰から保護されることを確保するためのすべての適切な措置をとる。

ウ

締約国は、難民を、いかなる方法によっても、人種、宗教、国籍若しくは特定の社会的集団の構成員であること又は政治的意見のためにその生命又は自由が脅威にさらされるおそれのある領域の国境へ追放し又は送還してはならない。

エ

締約国は、障害に基づくいかなる差別もなしに、全ての障害者のあらゆる人権及び基本的自由を完全に実現することを確保し、及び促進することを約束する。

1 ア → ウ → イ → エ

2 ア → ウ → エ → イ

3 ウ → ア → イ → エ

4 ウ → ア → エ → イ

4 学習指導要領に関する次の各問に答えよ。

[問 1] 中学校学習指導要領社会の「各分野の目標及び内容」の〔地理的分野〕の「内容」の「C 日本の様々な地域」において、身に付けることができるよう指導するとされている事項に関する記述として適切なものは、次の 1～4 のうちのどれか。解答番号は **13**。

- 1 我が国の国土の位置、世界各地との時差、領域の範囲や変化とその特色などを基に、日本の地域構成を大観し理解すること。
- 2 日本の地域構成の特色を、周辺の海洋の広がりや国土を構成する島々の位置などに着目して多面的・多角的に考察し、表現すること。
- 3 人々の生活は、その生活が営まれる場所の自然及び社会的条件から影響を受けたり、その場所の自然及び社会的条件に影響を与えたりすることを理解すること。
- 4 地域調査において、対象となる場所の特徴などに着目して、適切な主題や調査、まとめとなるように、調査の手法やその結果を多面的・多角的に考察し、表現すること。

[問 2] 高等学校学習指導要領地理歴史の「日本史探究」の「内容」の「D 近現代の地域・日本と世界」において、身に付けることができるよう指導するとされている事項に関する記述として適切なものは、次の 1～4 のうちのどれか。解答番号は **14**。

- 1 公武関係の変化、宋・元（モンゴル帝国）などユーラシアとの交流と経済や文化への影響などに着目して、主題を設定し、中世の国家・社会の展開について、事象の意味や意義、関係性などを多面的・多角的に考察し、歴史に関わる諸事象の解釈や歴史の画期などを根拠を示して表現すること。
- 2 社会・経済の仕組みの変化、幕府や諸藩の政策の変化、国際情勢の変化と影響、政治・経済と文化との関係などに着目して、主題を設定し、近世の国家・社会の変容について、事象の意味や意義、関係性などを多面的・多角的に考察し、歴史に関わる諸事象の解釈や歴史の画期などを根拠を示して表現すること。
- 3 歴史の画期、地域社会の諸相と日本や世界との歴史的な関係、それ以前の時代からの継続や変化などに着目して、現代の日本の課題の形成に関わる歴史について、多面的・多角的に考察、構想して表現すること。
- 4 地球世界の課題の形成に関わる諸事象の歴史的背景や原因、結果や影響、事象相互の関連、諸地域相互のつながりなどに着目し、諸資料を比較したり関連付けたりして読み解き、地球世界の課題の形成に関わる世界の歴史について多面的・多角的に考察、構想し、表現すること。

余 白

選 択 問 題

14ページから48ページまでの選択問題 **A** 世界史 (14ページ～24ページ)、**B** 日本史 (25ページ～34ページ)、**C** 地理 (35ページ～48ページ) のうちから、表紙の指示に従って、一つを選択し解答せよ。

なお、解答用紙の【3】の欄には、選択した問題を表す記号 (A、B又はC) を必ずマークすること。

A 世界史

A1 次の各問に答えよ。

[問 1] 次の記述の民族に関する下の記述**ア**～**エ**を、年代の古いものから順に並べたものとして適切なものは、下の**1**～**4**のうちのどれか。解答番号は **15**。

この民族の名称は、交易品を代表するアクキガイの体液を抽出して得られる赤紫の染料に由来すると考えられている。

- ア** マケドニアと同盟軍の侵略を受けて、東地中海の支配権を失った。
- イ** 北アフリカに植民市を建設し、西地中海の交易に参入した。
- ウ** シチリア島を巡る戦争に敗れ、西地中海の支配権を失った。
- エ** イオニア地方の反乱から発展した戦争に、海軍として従軍した。

- 1 **イ** → **エ** → **ア** → **ウ**
- 2 **イ** → **エ** → **ウ** → **ア**
- 3 **エ** → **イ** → **ア** → **ウ**
- 4 **エ** → **イ** → **ウ** → **ア**

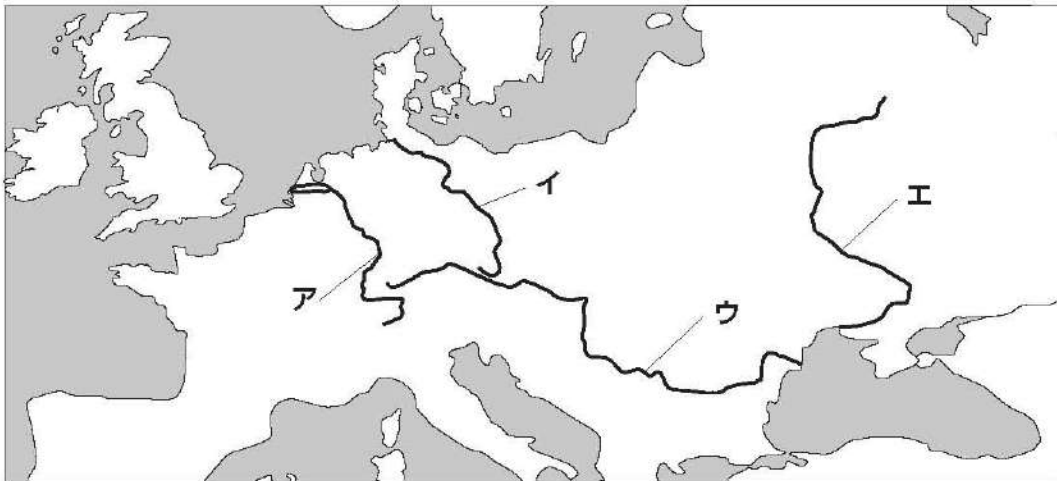
[問 2] 次の史料を読んで、後の(1)、(2)の各問に答えよ。

史料



(1) 史料中の下線部について、次の略地図中のア～エのうち、エルベ川を示したものは、下の1～4のうちどれか。解答番号は 。

略地図



- 1 ア
- 2 イ
- 3 ウ
- 4 エ

(2) 史料中の下線部で行われたある運動の中心となった集団に関する記述として適切なものは、次の1～4のうちのどれか。解答番号は 。

- 1 第3回十字軍の際にアッコで組織された騎士団で、神聖ローマ皇帝の支援を受けて組織を拡大し、16世紀前半に廃止された。
- 2 ソロモン神殿跡に創設された騎士団で、諸階層の寄進に加えて金融業や交易で莫大な富を蓄えたが、後にフランス王により廃絶された。
- 3 イタリアで創設された西欧最古の修道会で、創始者の定めた戒律や、労働による経済的自立を重んじ、その後の修道院運動の規範となった。
- 4 アッシジに創設された托鉢修道会で、その創設者は裕福な家庭に生まれたが富を放棄し、生涯清貧を貫く姿勢に多くの信奉者を引きつけた。

[問 3] 次の資料は、アメリカ大陸横断鉄道開通の場面である。アメリカ東岸からのユニオン＝パシフィック鉄道の主力労働者となった人々は、他国からの移民である。この人々が、移民となった背景として適切なものは、下の1～4のうちのどれか。解答番号は 。

資料

- 1 国王の宗教政策に反発した人々が、信仰の自由を求め移住した。
- 2 ポグロムによる迫害から逃れるため、難民たちが新天地を求め移住した。
- 3 新政府の誕生後、政府が移民業務を進める官約移民として移住した。
- 4 ジャガイモ飢饉による食糧難から、移住した。

A 2 次の各問に答えよ。

[問 1] 次の資料は、2世紀のある遠征の勝利を記念して建てられたモニュメントである。この遠征に関する記述として適切なものを次のページの**ア～エ**から、2世紀のローマの世相に関する記述として適切なものを次のページのA～Dからそれぞれ選んだ組合せとして適切なものは、次のページの**1～8**のうちのどれか。解答番号は **19**。

資料

- ア この遠征でローマはブリタニアを属州にした。
- イ この遠征でローマはマケドニアを属州にした。
- ウ この遠征でローマはダキアを属州にした。
- エ この遠征でローマはガリアを属州にした。

- A 小作人を大所領で働かせるコロナトゥスが広がった。
- B 同盟市戦争が起き、イタリア半島の全自由民にローマ市民権を与えた。
- C 国境近辺にもローマ風の都市が建設された。
- D ラティフンディウムが成立し、貴族は巨大な富を得た。

- 1 アーA
- 2 アーD
- 3 イーB
- 4 イーC
- 5 ウーB
- 6 ウーC
- 7 エーA
- 8 エーD

[問 2] 次の資料の西ヨーロッパのある建築様式の特徴をもつ建物に関する記述として適切なものは、下の1～4のうちのどれか。解答番号は 。

資料

- 1 11世紀に起工されたロマネスク様式の聖堂である。ラテン十字形のプランをもち、会堂部は五廊、袖廊は三廊式、交差部に楕円形のドームを載せ、円形の洗礼堂、鐘楼もある。
- 2 11世紀に起工されたロマネスク様式の聖堂である。後に内陣、袖廊が増築され、身廊に石造の交差ヴォールトが架せられ、6基の塔をもち、三廊式である。
- 3 12世紀に起工されたゴシック様式の聖堂である。身廊部は五廊式、内陣は二重周歩廊をめぐらし、側廊には階上廊が付く。フランス革命で損傷を受けた。
- 4 13世紀中頃のゴシック様式の聖堂である。身廊部は三廊式、内陣は二重周歩廊と5個の放射状祭室が付属する。12～13世紀頃のステンドグラスが保存されている。

[問 3] イスラーム文化に関する記述として適切なものは、次の1～4のうちのどれか。解答番号は 。

- 1 8世紀末から9世紀前半のフワーリズミーは、高次方程式の解法を開発し、正確な太陽暦のジャラーリー暦の作成に関わった。
- 2 10世紀末から11世紀前半のイブン＝ルシュドは、古代ギリシアのガレノスやヒポクラテスの医学とオリエント独自の本草学を融合して『医学典範』を著した。
- 3 12世紀のイドリーシーは、プトレマイオスの世界図にイスラームの新たな知識を加えて世界図を作成した。
- 4 12世紀のイブン＝シーナーは、古代ギリシアのプラトンやアリストテレスの哲学の注釈書を著した。

A3 次の史料ア・イを読んで、後の各問に答えよ。

史料ア

史料イ

[問 1] 下線部①について、この版本をドイツ語に翻訳した人物に関する記述として適切なものは、次の 1～4 のうちのどれか。解答番号は 22。

- 1 教会の贖宥状販売を批判し、信仰の根拠は聖書であるという説を主張した。
- 2 古典の翻訳やキリスト教の原典回復に努め、その著書で既成の教会を風刺した。
- 3 神の意志の絶対性を強調し、救いと滅びは善行や努力には無関係であると主張した。
- 4 イギリスの神学者の影響を受け、教会を批判したことで異端とされ、火刑に処された。

[問 2] 下線部②について、次の史料1は、あるキリスト教宣教師が自国の国王に宛てた報告書の一部である。下の(1)、(2)の各問に答えよ。

史料1

(1) 史料1の報告書を作成したキリスト教宣教師の、中国における名前として適切なものは、次の1～4のうちのどれか。解答番号は 。

- 1 南懐仁
- 2 郎世寧
- 3 白進
- 4 湯若望

(2) 史料1中の空欄 の人物は、ある中国の皇帝である。この中国の皇帝の治世の出来事に関する記述として適切なものは、次の1～4のうちのどれか。解答番号は 。

- 1 ジュンガルを滅ぼして、東トルキスタン全域を清の支配下に置いた。
- 2 北京に常駐する外国公使との外交交渉のために、総理各国事務衙門を設置した。
- 3 ロシアとの間で、国境地帯での通商規定やモンゴル地区の国境を画定した。
- 4 三藩の廃止を決定したことで、漢人藩王による反乱が起こった。

[問 3] 下線部③について、次の史料 2 は、ある修道会の布教活動に対して出された教皇令の一部である。また、下の記述ア～エは、東アジア・東南アジアの出来事に関する記述である。ア～エのうち、この修道会が布教活動を盛んに行った時期に当てはまるものを選んで組合せとして適切なものは、下の 1～4 のうちのどれか。解答番号は 。

史料 2

- ア 朝鮮半島や遼東半島の沿岸部では、日本人を主体とする海賊行為が頻発した。
- イ マラッカ占領以降、ポルトガル人はマカオを対中貿易の拠点とした。
- ウ イギリス使節が中国に派遣され、広州以外への貿易拡大や外国公使の交換を求めた。
- エ 五島列島等を拠点とする密貿易を行っている武装船団の船が、種子島に漂着し鉄砲が伝来した。

- 1 ア・イ
- 2 ア・ウ
- 3 イ・エ
- 4 ウ・エ

A4 次の問に答えよ。

[問] 高等学校「世界史探究」において、香港の歴史について調べた内容を発表する活動を行った。次の資料1・2は、調べる際に教師が生徒に提示したものである。発表に向けて、生徒A～Dは下のような発言を行った。また、次のページの資料ア～エは、生徒A～Dに対し、教師が補足するときに提示する資料である。生徒A～Dと、次のページの資料ア～エとの組合せとして最も適切なものは、次のページの1～4のうちではどれか。解答番号は **26**。

資料1 香港の略年表

資料2 イギリス領香港の形成

生徒A： アヘン戦争で敗れた清国がイギリスに香港島を割譲したことは分かりましたが、そのころのイギリス国内はどのような様子だったのでしょうか。


生徒B： アロー戦争で敗れた清国がイギリスに九竜半島を割譲したことは分かりましたが、イギリスがなぜここを支配しようとしたのか調べてみたいと思います。

生徒C： 19世紀末に新界まで含むイギリス領香港が成立したことは分かりましたが、同じころの他の列強の動きはどのようなものだったか調べてみたいと思います。

生徒D： 第二次世界大戦後、香港がイギリスのアジア貿易の中継基地として繁栄したことは分かりましたが、同じ時期の中国はどのような様子だったのでしょうか。

ア ある風刺画

イ ある書簡の一部



ウ ある通知文

エ あるポスターの一部



	生徒A	生徒B	生徒C	生徒D
1	ア	ウ	イ	エ
2	ア	エ	イ	ウ
3	イ	ウ	ア	エ
4	イ	エ	ア	ウ

B 日本史

B1 次の各問に答えよ。

[問 1] 戦国時代に関する次の記述ア～エを、年代の古いものから順に並べたものとして適切なものは、下の1～4のうちのどれか。解答番号は 。

- ア 今川氏親は、『今川仮名目録』を制定した。
- イ 朝倉孝景は、『朝倉孝景条々』を制定した。
- ウ 武田信玄は、『甲州法度之次第』を制定した。
- エ 伊達植宗は、『塵芥集』を制定した。

- 1 ア → イ → ウ → エ
- 2 ア → イ → エ → ウ
- 3 イ → ア → ウ → エ
- 4 イ → ア → エ → ウ

[問 2] 豊臣秀吉に関する出来事の記述として適切なものは、次の1～4のうちのどれか。解答番号は 。

- 1 聚楽第に正親町天皇を迎え、その權威を背景に諸大名に忠誠を誓わせた。
- 2 太閤検地において、土地の面積表示を統一し、枲の容量も京枲に統一した。
- 3 リターン号事件をきっかけに、宣教師や信者26名を長崎で処刑した。
- 4 京都の広隆寺の大仏造立を口実として、刀狩令を出して農民の武器を没収した。

[問 3] 次の資料ア～エは城郭に関する史跡や絵画史料である。資料ア～エの史跡がある場所として適切なものは、略地図中の 1～0 のうちのどれか、それぞれ選び答えよ。解答番号はアが 、イが 、ウが 、エが 。

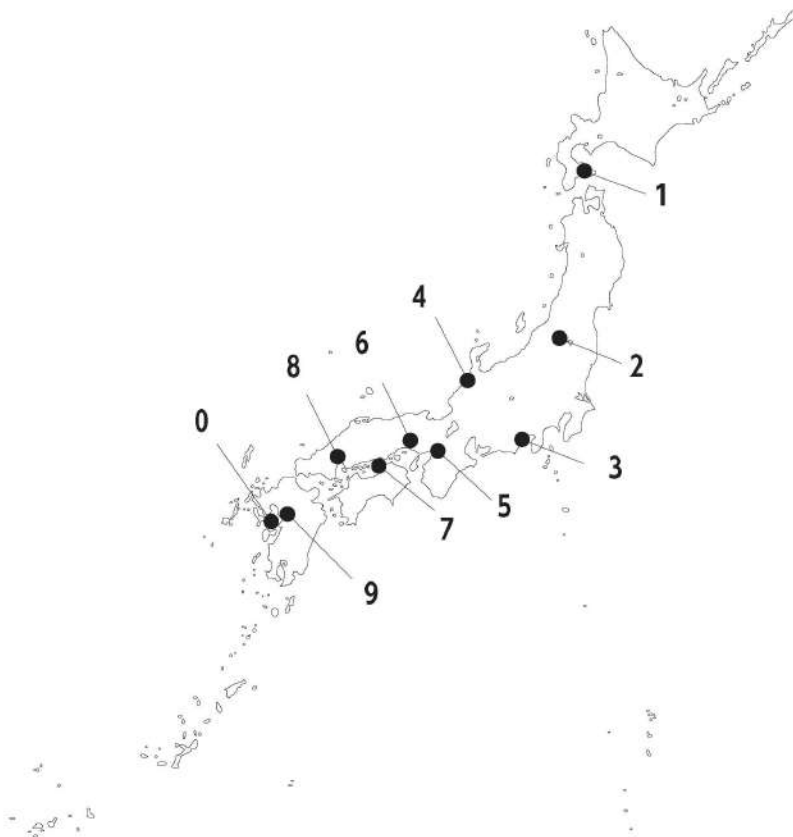
ア

イ

ウ

エ

略地図



- [問 4] 次の史料はある農書の一部である。この農書の著者名として適切なものを下のア～エから、史料に関する記述として適切なものを下のA～Dからそれぞれ選んだ組合せとして適切なものは、下の1～8のうちどれか。解答番号は 。

史料

- ア 土居清良
- イ 宮崎安貞
- ウ 大蔵永常
- エ 田中丘隅

- A 綿を用いる国があまりないので、何れの地域でもあまり作るべき物ではない。
- B 綿は東海道では、現在の愛知県や静岡県、さらには関東や北国では作っていない。
- C 綿は九州でも盛んに作ってはいるが、中国の綿を用いている。
- D 綿を農村で栽培することによって、農家に利益をもたらす仕事となる。

- 1 アーB
- 2 アーD
- 3 イーA
- 4 イーC
- 5 ウーB
- 6 ウーD
- 7 エーA
- 8 エーC

B 2 次の史料ア・イを読んで、後の各問に答えよ。

史料ア

史料イ

[問 1] 史料ア・イに関する記述として適切なものは、次の 1～4 のうちのどれか。解答番号は **34** 。

- 1 史料アから、我が国は朝鮮を清国の属国であると認識し、清国及び朝鮮国に対して宣戦を布告し戦争を開始している。
- 2 史料アから、我が国は清国の内政干渉の不当性を批判し、戦争の大義が朝鮮の独立維持にあるとしている。
- 3 史料イから、韓国の保全是我が国にとって重要ではなく、安危につながる問題とは認識していなかった。
- 4 史料イから、我が国は、ロシアの満州占領はあくまでもロシアと清国間の問題であって、韓国の保全とは切り離して認識していた。

[問 2] 次の表の戦争A・Bは、それぞれ史料ア・イに関するものである。表に関する記述として適切なものは、下の1～4のうちのどれか。解答番号は 。

表

(東京大学出版会「講座日本の歴史Ⅷ近代2」から作成)

- 1 動員総兵力及び戦闘死者数は、戦争Aが戦争Bに比べて少ないため、戦争Aが史料イに関連する戦争であることが分かる。
- 2 戦死者に占める病死者の比率は、戦争Bが戦争Aに比べて高いため、戦争Bが史料アに関連する戦争であることが分かる。
- 3 砲兵火力及び主要海戦の軍備は、戦争Bが戦争Aに比べて増強されているため、戦争Bが史料アに関連する戦争であることが分かる。
- 4 戦費支出合計に占める内国債の割合は、戦争Bが戦争Aに比べて低いため、戦争Bが史料イに関連する戦争であることが分かる。

[問 3] 史料イの戦争に関する風刺画として適切なものは、次の1～4のうちのどれか。解答番号は 。

1

2

3

4

[問 4] 史料イの戦争後の出来事に関する記述として適切なものは、次の1～4のうちのどれか。解答番号は 。

- 1 日本政府は、国力を増強するために国民に勤労と儉約に励むように求めた戊申詔書を発布した。
- 2 ドイツ、フランス、ロシアの三国は、講和条約調印後に、遼東半島の割譲に異議を唱え、我が国にその放棄を申し入れてきた。
- 3 アメリカ大統領フランクリン・ルーズベルトの斡旋により、日本側首席全権陸奥宗光外相とロシア側全権ウイッテとの間で、講和条約の調印が行われた。
- 4 我が国は、講和条約によって、朝鮮国が独立国であること、日本国汽船の内陸航路延長、相手国内での商品売買の自由などを認めさせた。

B3 金融恐慌に関する次の各問に答えよ。

[問 1] 金融恐慌の発生以前における我が国の経済に関する記述として適切なものは、次の 1～4 のうちのどれか。解答番号は **38**。

- 1 三井・三菱・住友・安田・第一の五大銀行に預金の 8 割が集中しており、銀行業における大銀行の独占体制は確立していた。
- 2 第一次世界大戦後に列強諸国の生産力が回復し生産需要が増えると、輸出が拡大し貿易収支は輸出超過に転じていた。
- 3 1920年をピークに物価水準が下落したが、それまで投機的な取引も加わって上昇を続けていた株価は著しく上昇した。
- 4 関東大震災により、京浜地区の工場や事業所のほとんどが倒壊あるいは焼失し、銀行手持ちの手形が大量に決済不能となった。

[問 2] 金融恐慌発生時における、我が国の情勢に関する記述として適切なものは、次の 1～4 のうちのどれか。解答番号は **39**。

- 1 大蔵大臣井上準之助の失言を契機に、銀行の取り付け騒ぎが起こり、銀行の休業と倒産が相次いだ。政府は、震災手形善後処理法案を出した。
- 2 台湾銀行は、鈴木商店の倒産により、多額の不良債権を抱えた。政府は、台湾銀行救済緊急勅令案を出したが、枢密院で否決されたため、田中義一内閣は総辞職した。
- 3 大蔵大臣高橋是清によって閣議に提案されたモラトリアムは、3 週間の支払猶予をさせるため緊急勅令で発令され、全国の民間銀行を一斉休業させた。
- 4 日本銀行は、銀行の再開に向け、非常貸し出し用の紙幣の印刷が間に合わなかったため、裏に証紙を貼った紙幣を大量に発行した。

[問 3] 金融恐慌後における我が国の経済政策に関する次の記述ア～エを、年代の古いものから順に並べたものとして適切なものは、下の 1～4 のうちのどれか。解答番号は 40。


- ア 恐慌に対処するため金輸出再禁止を断行し、管理通貨制度に移行した。
- イ 広田弘毅内閣での公債の増発による軍事予算の膨張が、輸入の増加を招き、国際収支が悪化した。
- ウ 国家総動員法に基づいた国民徴用令や価格等統制令により、経済統制を強化した。
- エ 産業合理化の一環として重要産業統制法を制定し、指定産業での不況カルテル結成を容認した。

- 1 ア → エ → イ → ウ
- 2 ア → エ → ウ → イ
- 3 エ → ア → イ → ウ
- 4 エ → ア → ウ → イ

B4 次の問に答えよ。

[問] 高等学校「日本史探究」の中世後期における土地支配の学習において、調べた内容を発表する活動を行った。次の資料1・2は、調べる際に教師が生徒に提示したものである。発表に向けて、生徒A～Dは下のような発言を行った。また、次のページの資料ア～エは、生徒A～Dに対し、教師が補足するときに提示する資料である。生徒A～Dと、次のページの資料ア～エとの組合せとして最も適切なものは、次のページの1～4のうちではどれか。解答番号は **41** 。

資料1 ある武士の手紙の一部 資料2 あるお寺の所領の絵図の一部



生徒A： 南北朝の内乱により武士たちが軍事動員に苦勞していたことは分かりましたが、こうした手紙はどのようにして現在に伝えられたのでしょうか。

生徒B： 南北朝の内乱が全国化したことにより、負担の大変さは分かりましたが、こうした負担を軽減するような方法はなかったのでしょうか。

生徒C： 荘園や公領には、集落や水田、野畠が展開していたことは分かりましたが、畠では具体的にどのようなものが作られていたのでしょうか。

生徒D： 荘園や公領は武士たちによって押領されることは分かりましたが、戦乱がより激しい戦国時代に荘園領主たちはどのように支配を実行したのか調べたいと思います。

ア ある関白の日記の一部

--

イ ある法令の一部

--

ウ ある文化財の解説文

エ ある荘園の公事の一部

--

	生徒A	生徒B	生徒C	生徒D
1	ア	ウ	エ	イ
2	ア	エ	ウ	イ
3	ウ	ア	イ	エ
4	ウ	イ	エ	ア

C 地理

C1 自然環境に関する次の各問に答えよ。

[問 1] 次の略地図中のア・イにはそれぞれ共通する地形が見られる。ア・イに関する記述として適切なものは、下の1～4のうちどれか。解答番号は 42。

略地図



- 1 アの地形は、多輪廻の中心噴火によって噴出した溶岩流、火砕流及び降下火砕物質が山頂火口の周囲に積み重なって生じた複成火山である。
- 2 アの地形は、緩傾斜した硬岩層と軟岩層の互層が侵食されてできた非対称の断面形を持つ丘陵状の地形である。
- 3 イの地形は、1日あるいは数年にわたる1回のひと続きの噴火でできた比較的小さな単成火山である。
- 4 イの地形は、地表の石灰岩が削剥から免れて、台地状に残されている地形である。

[問 2] 次の略地図中のア～エに見られる地形に関する記述として適切なものは、下の1～4のうちどれか。解答番号は 。

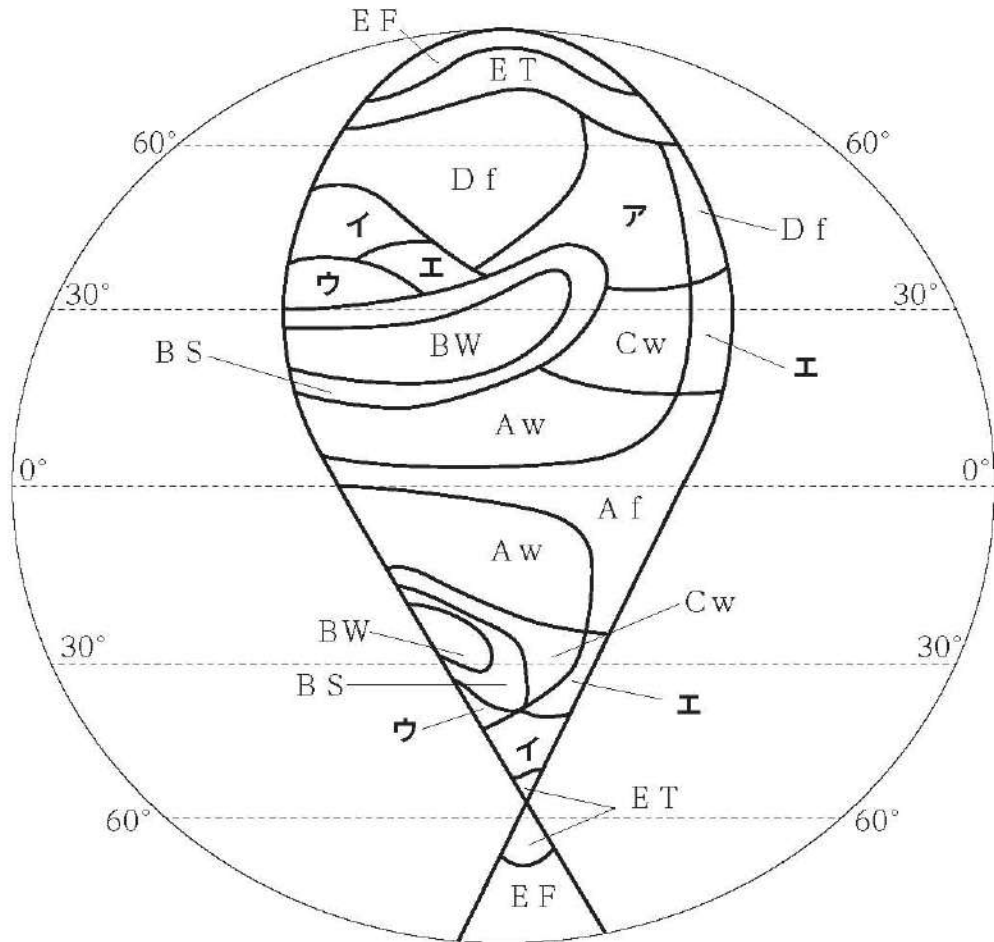
略地図



- 1 アの地形は、山地や丘陵が沈水して谷の下流域に海水が侵入してできた、複雑に入り組んだ海岸線である。
- 2 イの地形は、U字谷に海水が侵入して、水深の大きい入り江が形成されている。両岸は急崖となり、平地は少ない。
- 3 ウの地形は、河川の河口部では、河川沿いの低地に海水が侵入することで、ラッパ状の入り江となっている。
- 4 エの地形は、浅海域の一部が沿岸州、砂嘴、トンボロなどの砂礫堆によって、外海から切り離されて形成されている。

[問 3] 次の図は、ケッペンによる気候区分を仮想大陸上に模式的に表したものである。図中のア～エの気候区分の組合せとして適切なものは、下の 1～4 のうちのどれか。ただし、海洋の気候区分は除いている。解答番号は 44。

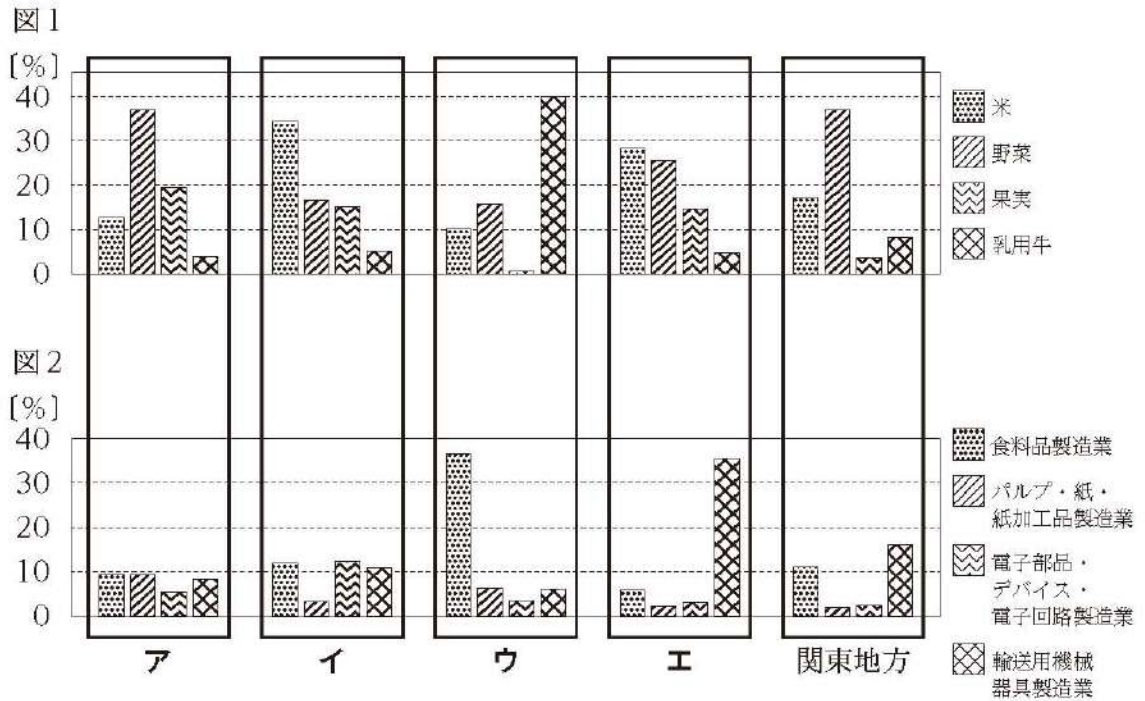
図



- | | | | | | | | | |
|---|---|-----|---|-----|---|-----|---|-----|
| 1 | ア | Cfa | イ | Cs | ウ | Cfb | エ | Dw |
| 2 | ア | Cfb | イ | Cfa | ウ | Cs | エ | Dw |
| 3 | ア | Dw | イ | Cs | ウ | Cfa | エ | Cfb |
| 4 | ア | Dw | イ | Cfb | ウ | Cs | エ | Cfa |

C2 次の各問に答えよ。

[問 1] 次の図1は、2019年における北海道地方、東北地方、関東地方、中部地方及び四国地方の農業産出額構成割合を、下の図2は、2019年における同じ地方の製造品出荷額等に占める製造業別の割合を示したものである。図中のア～エのうち、東北地方と四国地方を選んだ組合せとして適切なものは、下の1～9のうちのどれか。解答番号は **45**。



(図1：農林水産省「令和元年 生産農業所得統計」から作成)

(図2：経済産業省大臣官房調査統計グループ「2020年 工業統計表『地域別統計表』」から作成)

	東北地方	四国地方
1	イ	ア
2	イ	ウ
3	イ	エ
4	ウ	ア
5	ウ	イ
6	ウ	エ
7	エ	ア
8	エ	イ
9	エ	ウ

[問 2] 次の表は、2017年におけるイギリス、イタリア、スウェーデン及び日本の国民1人・1年当たり供給食料を示したものである。また、下の図は、1961年から2017年までにける同じ4か国のカロリーベースの食料自給率の推移を表している。ア～ウと、A～Cのうち、イギリスを選んだ組合せとして適切なものは、次のページの1～9のうちのどれか。解答番号は 。

表

	穀類	いも類	野菜類	果実類	肉類	牛乳・乳製品	魚介類	油脂類
ア	162.7	35.9	130.9	124.3	81.0	270.1	29.8	27.1
イ	116.3	52.7	85.7	69.0	77.1	454.9	32.8	8.3
ウ	119.8	92.5	82.9	92.2	79.9	261.6	19.7	14.6
日本	104.9	23.4	103.6	46.4	49.6	93.4	45.9	20.0

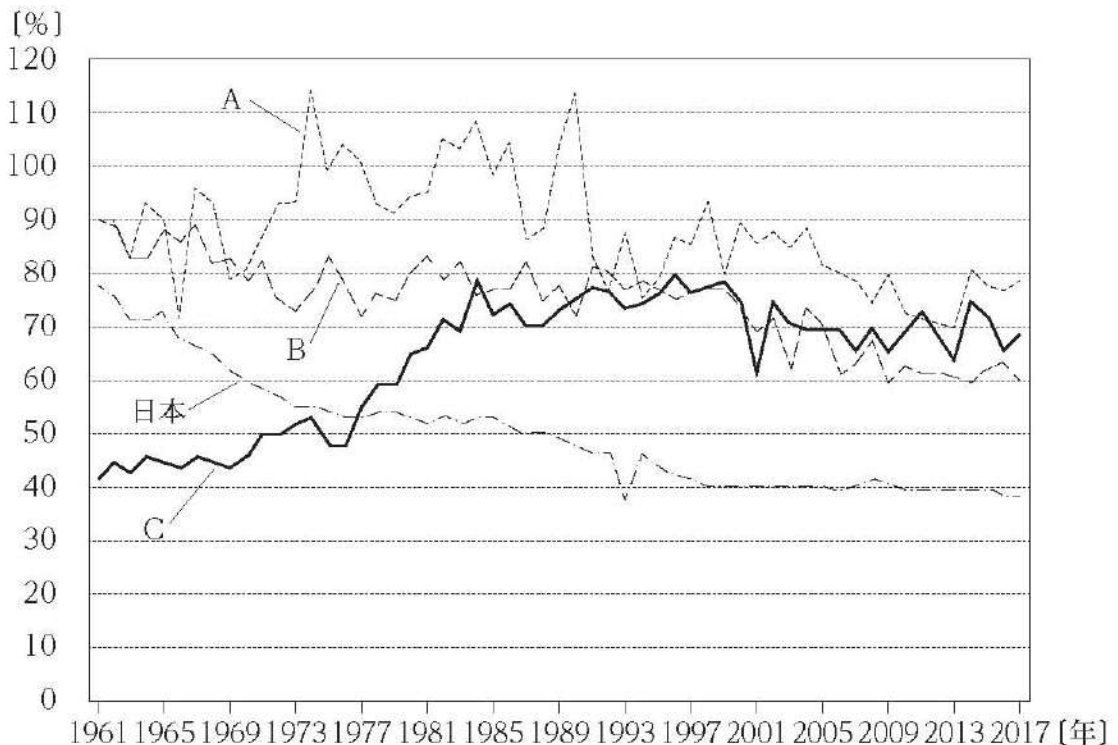
※ 供給粗食料ベースの数値である。

※ 穀類のうち、米については玄米に換算している。

※ 牛乳・乳製品については、生乳換算によるのものであり、バターを含んでいる。

(農林水産省「令和元年度 食料需給表」から作成)

図



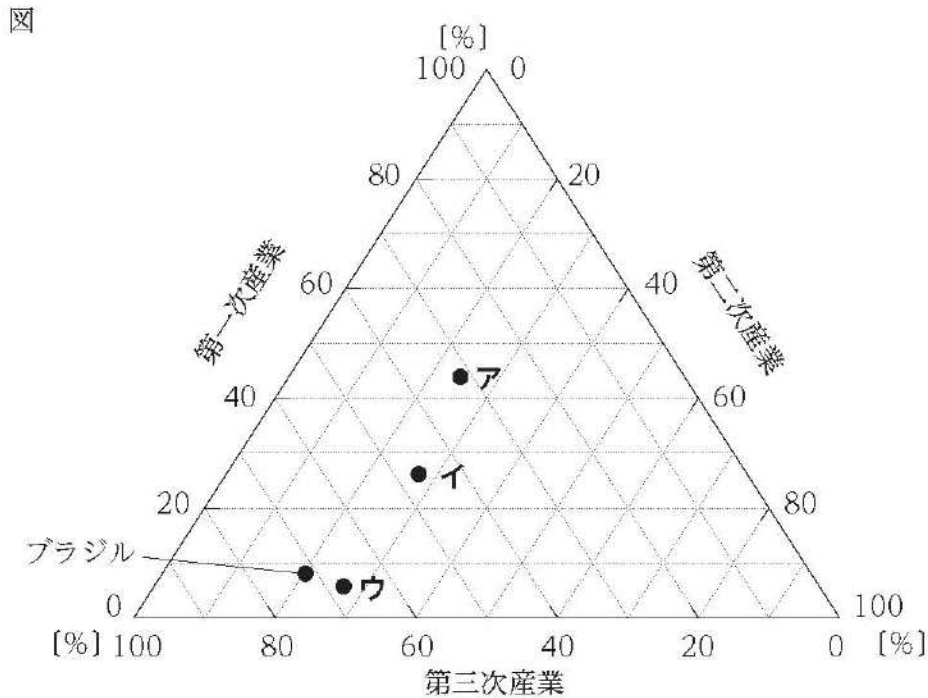
※ 食料自給率(カロリーベース)は、総供給熱量に占める国産供給熱量の割合である。

畜産物、加工食品については、輸入飼料、輸入原料を考慮している。

(農林水産省「令和元年度 食料需給表」から作成)

- 1 ア-A
- 2 ア-B
- 3 ア-C
- 4 イ-A
- 5 イ-B
- 6 イ-C
- 7 ウ-A
- 8 ウ-B
- 9 ウ-C

[問 3] 次の図は、2018年におけるインド、中国、ブラジル及びロシアの産業別人口構成の割合を示したものである。また、下の表は、2017年における同じ4か国の排出源別の二酸化炭素排出量を示したものである。**ア～ウ**と、**A～C**のうち、インドを選んだ組合せとして適切なものは、下の**1～9**のうちのどれか。解答番号は 47。



表

[百万トン]

	固体燃料	液体燃料	気体燃料	その他	合計
中国	7444.2	1339.8	441.1	32.8	9257.9
A	1507.0	579.1	74.1	1.4	2161.6
B	387.9	322.4	795.7	30.9	1536.9
C	64.5	292.5	70.6	0	427.6

(二宮書店「データブック オブ・ザ・ワールド2021年版」から作成)

- 1 アーA
- 2 アーB
- 3 アーC
- 4 イーA
- 5 イーB
- 6 イーC
- 7 ウーA
- 8 ウーB
- 9 ウーC

余 白

[問 4] 次の略地図中のア～ウで示した3か国について、下の表1は2005年における宗教構成を、表2は2018年における各国の輸出入を示したものである。表1中のA～Cと、表2中のD～Fは、ア～ウのいずれかの国である。A～Cと、D～Fのうち、イとウをそれぞれ選んだ組合せとして適切なものは、次のページの1～9のうちのどれか。解答番号は 48 。

略地図

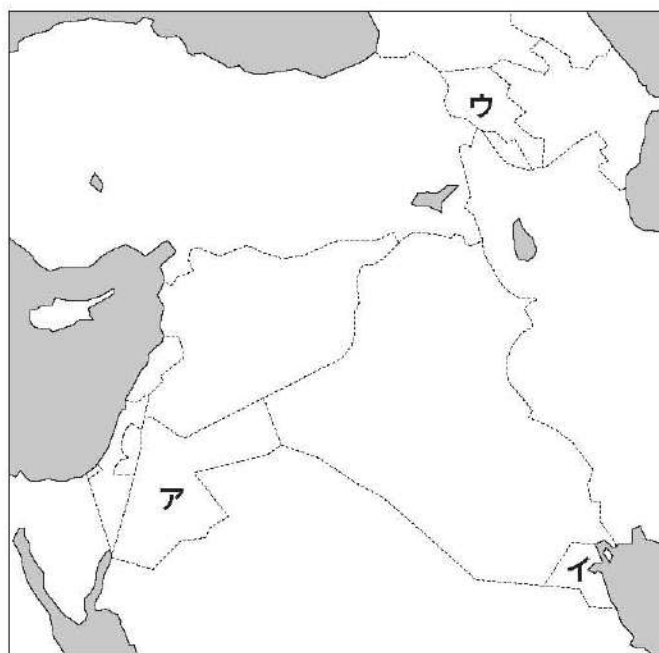


表1

A	キリスト教78%、イスラム教2%、ヤジューディー教
B	イスラム教74%、キリスト教13%、ヒンドゥー教10%、仏教3%
C	イスラム教95%、キリスト教3%

(二宮書店「データブック オブ・ザ・ワールド2021年版」から作成)

表2

		輸出入額 [億ドル]	輸出入額に占める大分類の割合 [%]			
			食料品	原材料・燃料	工業製品	その他
D	輸出額	549	0.9	91.1	7.8	0.2
	輸入額	336	15.0	4.5	78.6	1.9
E	輸出額	77	15.4	8.6	75.7	0.3
	輸入額	203	18.9	23.7	54.5	2.9
F	輸出額	24	27.7	34.8	29.8	7.7
	輸入額	49	16.2	17.2	64.7	1.9

(二宮書店「データブック オブ・ザ・ワールド2021年版」から作成)

	イ	ウ
1	A-D	C-E
2	A-E	C-F
3	A-F	C-D
4	B-D	A-F
5	B-E	C-D
6	B-F	C-E
7	C-D	B-E
8	C-E	B-F
9	C-F	A-E

C3

次の問に答えよ。

[問] 次の記述ア～エは、環境等の国際会議に関するものである。これらが実施された年を、年代の古いものから順に並べたものとして適切なものは、下の1～4のうちのどれか。解答番号は

49。

ア 平和と安全、開発と貧困、環境、人権とグッドガバナンス、アフリカの特別なニーズなどを課題として掲げ、21世紀の国連の役割に関する明確な方向性を提示した。開発分野における国際社会共通の目標として、8つの目標を掲げた。

イ 持続可能な環境や社会を実現するために先進国を含む全ての国が取り組むという「ユニバーサリティ」を特徴とする行動計画を採択した。また、17ゴール、169ターゲットからなる持続可能な開発目標が策定された。

ウ オゾン層の破壊、地球温暖化、熱帯林の破壊や生物多様性の喪失など地球環境問題が極めて深刻化し、世界的規模での早急な対策の必要性が指摘されて開催され、環境分野での国際的な取組に関する行動計画である「アジェンダ21」が採択された。

エ 「かけがえのない地球」を会議のテーマとし、人間環境の保全と向上に関し、世界の人々を励まし、導くため共通の見解と原則が必要であると考え、26項目の原則からなる「人間環境宣言」及び109の勧告からなる「環境国際行動計画」が採択された。

1 ウ → エ → ア → イ

2 ウ → エ → イ → ア

3 エ → ウ → ア → イ

4 エ → ウ → イ → ア

余 白

C4

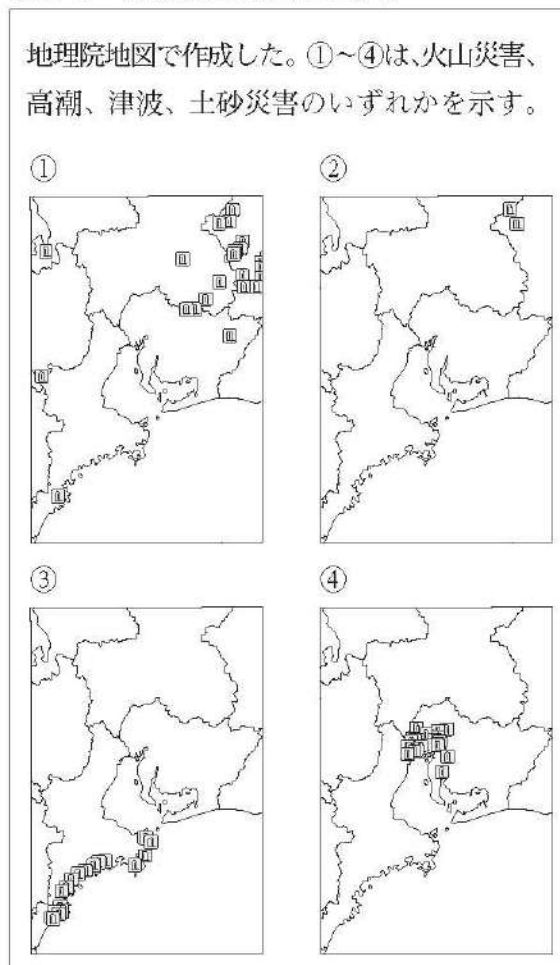
次の問に答えよ。

[問] 高等学校「地理総合」における「自然災害と防災」の学習において、調べた内容を発表する活動を行った。次の資料1・2は、調べる際に教師が生徒に提示したものである。発表に向けて、生徒A～Dは以下のような発言を行った。また、次のページの資料ア～エは、生徒A～Dに対し、教師が補足するときに提示する資料である。生徒A～Dと、次のページの資料ア～エとの組合せとして最も適切なものは、次のページの1～4のうちではどれか。解答番号は

50。

資料1 自然災害伝承碑の分布

資料2 災害連鎖構造に対応させた防災対応策



(国立研究開発法人防災科学技術研究所
ホームページから作成)

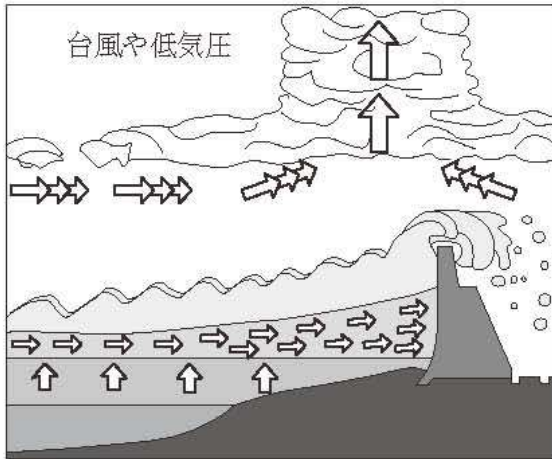
生徒A： 資料1－①は、自然災害伝承碑が内陸に多く、土砂災害であることは分かりましたが、洪水との違いを調べてみたいと思います。

生徒B： 資料1－②は、自然災害伝承碑が内陸にあり、火山災害であることは分かりましたが、この災害の誘因について調べてみたいと思います。

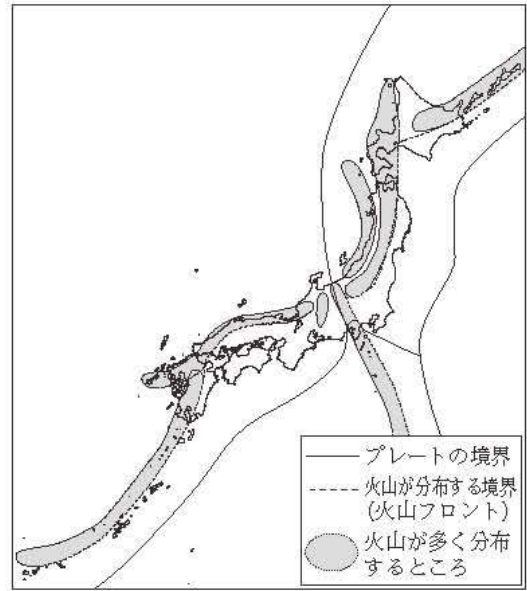
生徒C： 資料1－③は、自然災害伝承碑が沿岸部に多く、津波であることは分かりましたが、この災害の自然素因について調べてみたいと思います。

生徒D： 資料1－④は、自然災害伝承碑が沿岸部に多く、高潮であることは分かりましたが、この災害の誘因について調べてみたいと思います。

ア ある災害の発生メカニズム



イ 日本付近のプレート境界と火山フロント

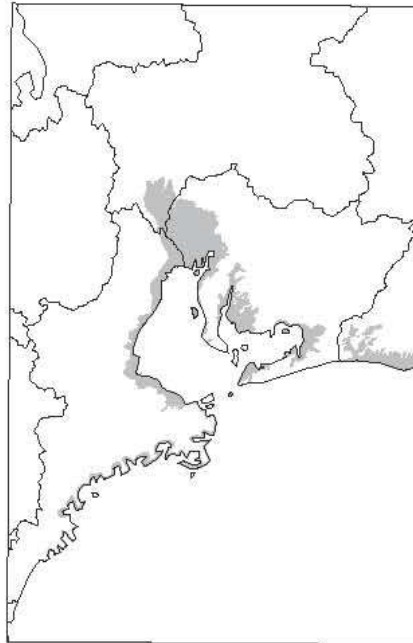


ウ 傾斜量図




黒いほど急峻であることを意味する。

エ 標高5m以下の土地



	生徒A	生徒B	生徒C	生徒D
1	ウ	イ	ア	エ
2	ウ	イ	エ	ア
3	エ	イ	ア	ウ
4	エ	ウ	イ	ア





問題番号		解答番号	正答	配点	備考
大問	小問				
1	問1	1	4	4	
	問2	2	2	4	
	問3	3	5	4	
	問4	4	6	4	
2	問1	5	1	4	
	問2	6	4	4	
	問3	7	2	4	
	問4	8	3	4	
3	問1	9	4	4	
	問2	10	2	4	
	問3	11	1	4	
	問4	12	3	4	
4	問1	13	4	2	
	問2	14	3	2	
A1	問1	15	1	4	
	問2	(1)	16	2	2
		(2)	17	1	2
問3	18	4	5		
A2	問1	19	6	5	
	問2	20	2	5	
	問3	21	3	5	
A3	問1	22	1	5	
	問2	(1)	23	3	2
		(2)	24	4	3
問3	25	3	5		
A4	問	26	2	5	

問題番号		解答番号	正答	配点	備考
大問	小問				
B1	問1		27	4	4
	問2		28	2	4
	問3	ア	29	0	1
		イ	30	5	1
		ウ	31	1	1
		エ	32	6	1
	問4		33	6	4
B2	問1		34	2	4
	問2		35	2	4
	問3		36	3	4
	問4		37	1	4
B3	問1		38	4	4
	問2		39	3	4
	問3		40	3	4
B4	問		41	4	4
C1	問1		42	1	6
	問2		43	3	6
	問3		44	4	6
C2	問1		45	1	5
	問2		46	9	5
	問3		47	1	5
	問4		48	4	5
C3	問		49	3	5
C4	問		50	2	5