

高等学校 公民（政治経済）

解答についての注意点

- 1 解答用紙は、マーク式解答用紙と記述式解答用紙の2種類があります。
- 2 大問 **1** ~大問 **4** については、マーク式解答用紙に、大問 **5** については、記述式解答用紙に記入してください。
- 3 解答用紙が配付されたら、まずマーク式解答用紙に受験番号等を記入し、受験番号に対応する数字を、鉛筆で黒くぬりつぶしてください。
記述式解答用紙は、全ての用紙の上部に受験番号のみを記入してください。
- 4 大問 **1** ~大問 **4** の解答は、選択肢のうちから、**問題で指示された解答番号**の欄にある数字のうち一つを黒くぬりつぶしてください。
例えば、「解答番号は 」と表示のある問題に対して、「**3**」と解答する場合は、解答番号 の欄に並んでいる ① ② ③ ④ ⑤ の中の ③ を黒くぬりつぶしてください。
- 5 間違っぬりつぶしたときは、消しゴムできれいに消してください。二つ以上ぬりつぶされている場合は、その解答は無効となります。
- 6 その他、係員が注意したことをよく守ってください。

指示があるまで中をあけてはいけません。

1 日本史について、次の各問いに答えよ。

(1) 7世紀における次のア～オの出来事を、古い順に左から右へ並べた場合、正しいものはどれか。

下の1～5から一つ選べ。解答番号は

- ア 近江大津宮への遷都
- イ 壬申の乱
- ウ 乙巳の変
- エ 改新の詔の宣布
- オ 庚寅年籍の作成

- 1 ウ → エ → ア → イ → オ
- 2 オ → ア → イ → エ → ウ
- 3 ウ → ア → イ → エ → オ
- 4 オ → ウ → ア → エ → イ
- 5 エ → ウ → ア → イ → オ

(2) 次のア～オのうち、平安時代に起きた出来事として、正しいものを○、誤っているものを×と

した場合、正しい組合せはどれか。下の1～5から一つ選べ。解答番号は

- ア 平治の乱
- イ 承平・天慶の乱
- ウ 前九年合戦（前九年の役）
- エ 文永の役
- オ 長屋王の変

- | | ア | イ | ウ | エ | オ |
|---|---|---|---|---|---|
| 1 | × | ○ | × | ○ | × |
| 2 | ○ | ○ | ○ | × | × |
| 3 | × | × | ○ | ○ | ○ |
| 4 | × | × | × | ○ | ○ |
| 5 | ○ | ○ | × | × | × |

(3) 12世紀～13世紀に成立した宗派について説明したものとして、正しいものはどれか。次の1～5から一つ選べ。解答番号は

- 1 法然が臨済宗を開いた。
- 2 親鸞が時宗を開いた。
- 3 宋に渡った道元が、曹洞宗を日本に伝えた。
- 4 宋に渡った栄西が、法華宗を日本に伝えた。
- 5 浄土宗を開いた一遍は、踊念仏をおこなった。

(4) 京都を主戦場として戦った応仁の乱(応仁・文明の乱)において、東西両軍それぞれの大將となった人物として正しい組合せはどれか。次の1～5から一つ選べ。解答番号は

- | | 東 | 西 |
|---|------|------|
| 1 | 畠山政長 | 山名氏清 |
| 2 | 細川勝元 | 山名持豊 |
| 3 | 細川政元 | 斯波義敏 |
| 4 | 大内義隆 | 斯波義廉 |
| 5 | 畠山義就 | 大内義弘 |

(5) 16世紀に起きた次のア～オの戦いを、古い順に左から右へ並べた場合、正しいものはどれか。下の1～5から一つ選べ。解答番号は

- ア 小牧・長久手の戦い
イ 長篠の戦い
ウ 関ヶ原の戦い
エ 山崎の戦い
オ 桶狭間の戦い

- 1 ア → イ → オ → ウ → エ
- 2 オ → イ → ウ → エ → ア
- 3 ア → オ → エ → ウ → イ
- 4 オ → ア → イ → エ → ウ
- 5 オ → イ → エ → ア → ウ

(6) 次のア～オのうち、江戸時代におこなわれた政策について説明したものとして、正しいものを○、誤っているものを×とした場合、正しい組合せはどれか。下の1～5から一つ選べ。

解答番号は

- ア 徳川綱吉は優秀な人材を登用するため、足高の制を取り入れた。
- イ 徳川吉宗は享保の改革において、上げ米の制を実施した。
- ウ 田沼意次が老中の時に、異国船打払令が発令された。
- エ 松平定信は寛政の改革において、物価高を抑えるため株仲間の解散を命令した。
- オ 水野忠邦は天保の改革において、幕領支配の再編強化を目的に上知令を出した。

	ア	イ	ウ	エ	オ
1	○	○	×	×	×
2	×	○	×	×	○
3	○	×	○	○	×
4	×	×	×	○	○
5	×	○	○	×	○

(7) 次のア～オのうち、江戸時代に描かれた絵画とその絵師の名前として、正しいものを○、誤っているものを×とした場合、正しい組合せはどれか。下の1～5から一つ選べ。

解答番号は

- ア 「東海道五十三次」 — 歌川広重
- イ 「富嶽三十六景」 — 葛飾北斎
- ウ 「紅白梅図屏風」 — 鈴木春信
- エ 「見返り美人図」 — 喜多川歌麿
- オ 「婦女人相十品」 — 尾形光琳

	ア	イ	ウ	エ	オ
1	○	○	×	×	×
2	×	×	×	○	○
3	○	○	○	×	×
4	×	○	×	×	○
5	○	○	×	×	○

(8) 江戸幕府滅亡以後における次のア～オの出来事を、古い順に左から右へ並べた場合、正しいものはどれか。下の1～5から一つ選べ。解答番号は

- ア 西南戦争が起きる。
- イ 廃刀令が出される。
- ウ 五箇条の誓文が出される。
- エ 立志社が結成される。
- オ 集会条例が制定される。

- 1 ウ → エ → イ → ア → オ
- 2 ウ → イ → エ → ア → オ
- 3 オ → ウ → イ → エ → ア
- 4 オ → ア → イ → エ → ウ
- 5 ウ → オ → エ → イ → ア

(9) ロシア皇太子の遭難と犯人の処刑をめぐる政治問題に発展した大津事件が起きた時期はいつか。次の年表中の1～5から一つ選べ。解答番号は

年	出来事
1879	沖縄県の設置 ・・・ 1 ・・・
1884	秩父事件の発生 ・・・ 2 ・・・
1889	大日本帝国憲法の発布 ・・・ 3 ・・・
1894	日清戦争の勃発 ・・・ 4 ・・・
1899	日英通商航海条約の発効 ・・・ 5 ・・・
1904	日露戦争の勃発

(10) 1902（明治35）年、日英同盟を締結した当時の内閣総理大臣はだれか。次の1～5から一つ選べ。解答番号は

- 1 西園寺公望
- 2 桂太郎
- 3 山県有朋
- 4 松方正義
- 5 伊藤博文

2 世界史に関する次の(1)～(10)の問いに答えよ。

(1) 古代エジプト王国について述べた次の文章を読み、1～5より誤っているものを一つ選べ。

解答番号は

- 1 古王国時代には、クフ王がギザに巨大なピラミッドを築かせた。
- 2 古王国時代の首都はメンフィスであった。
- 3 中王国時代の末期には、シリア方面からヒッタイトが流入した。
- 4 新王国においてアメンホテプ4世(イクナートン)は、従来の神々の崇拜を否定してアトン神だけを信仰する改革を行った。
- 5 古代エジプト文字には、象形文字の神聖文字(ヒエログリフ)や民衆文字(デモティック)などがあった。

(2) 古代アテネの政治家について述べた次の文章を読み、1～5より誤っているものを一つ選べ。

解答番号は

- 1 ドラコンはアテネの慣習法をはじめて成文化した。
- 2 ソロンは家柄に応じて市民の参政権を定めた。
- 3 ペイシストラトスは、前6世紀半ばに僭主政治を行った。
- 4 クレイステネスは、僭主の出現を防止するために陶片追放(オストラキスマス)の法を制定した。
- 5 ペリクレスの主導によって、民会を中心とする民主政が実現された。

(3) 前漢第7代の皇帝である武帝が行った一連の政策について述べた次の文章を読み、1～5より

誤っているものを一つ選べ。解答番号は

- 1 衛氏朝鮮を征服し、楽浪郡をはじめとする4郡を設置した。
- 2 董仲舒の提案により、儒学を官学とした。
- 3 価格が下がったときに物資を買い入れて、価格が上がったときに売りに出すことで物価の水準を保つ均輸法を実施した。
- 4 匈奴に対抗するために、張騫を交渉役として大月氏に派遣した。
- 5 地方の有力者から推薦された人物を官吏として採用する郷挙里選を制度化した。

(4) 十字軍に関連する次の文章を読み、1～5より誤っているものを一つ選べ。

解答番号は

- 1 第1回十字軍はクレルモン公会議において教皇ウルバヌス2世の提唱により開始された。
- 2 第1回十字軍はイェルサレムを占領してイェルサレム王国を建設した。
- 3 第3回十字軍には神聖ローマ皇帝、フランス王、イングランド王が参加した。
- 4 第4回十字軍は教皇インノケンティウス3世の提唱で行われたが、ジェノヴァ商人の要求にせまられて、ビザンツ帝国の首都であるコンスタンティノープルを攻めた。
- 5 1291年に最後の拠点であるアッコンが陥落し、イェルサレム王国は滅亡した。

(5) 明について、次のア～オの出来事をおこった順に左から右へと並び替えた場合、正しいものはどれか。1～5より一つ選べ。解答番号は

- ア 永楽帝が命じた鄭和の遠征は、アフリカ沿岸にまで至った。
- イ 正統帝がオイラト部に捕らえられた。
- ウ 洪武帝が中書省を廃止し、六部を皇帝の直属に置いた。
- エ 建文帝の時代に靖難の変が起こった。
- オ 崇禎帝の時代に李自成の反乱軍が北京を占領した。

- 1 ウ → イ → エ → オ → ア
- 2 ウ → エ → イ → ア → オ
- 3 ウ → エ → ア → イ → オ
- 4 エ → ウ → ア → イ → オ
- 5 エ → ア → ウ → オ → イ

(6) オスマン帝国について述べた次の文章を読み、1～5より誤っているものを一つ選べ。

解答番号は

- 1 1402年のアンカラの戦いでティムール朝に敗れた。
- 2 1453年にコンスタンティノープルを征服し、ビザンツ帝国を滅ぼした。
- 3 1517年にエジプトへ遠征して、マムルーク朝を滅ぼした。
- 4 1538年のプレヴェザの海戦にてスペイン、ヴェネツィアなどの連合艦隊を破った。
- 5 1699年のカルロヴィッツ条約により、ハンガリーをポーランドに割譲した。

(7) 15～18世紀のロシアに関連する次の文章を読み、1～5より誤っているものを一つ選べ。

解答番号は

- 1 イヴァン3世は分裂していたロシアを統一し、はじめてツァーリの称号を用いた。
- 2 イヴァン4世は、コサックの首長であったイェルマークが占領したシベリアの一部を領土に組み入れた。
- 3 ミハイル＝ロマノフが即位してロマノフ朝を開いた。
- 4 ピョートル1世は中国の清朝とアイグン条約を結び、両国の境界を定め通商を開始した。
- 5 エカチェリーナ2世はポーランド分割に参加して領土を拡大した。

(8) 17・18世紀のヨーロッパにおける自然・哲学・政治思想について、1～5よりそれぞれの人物と著作の組合せとして誤っているものを一つ選べ。解答番号は

- | | | | |
|---|---------|---|------------|
| 1 | グロティウス | — | 『戦争と平和の法』 |
| 2 | アダム＝スミス | — | 『諸国民の富』 |
| 3 | ルソー | — | 『人間不平等起源論』 |
| 4 | デイドロ | — | 『哲学書簡』 |
| 5 | ロック | — | 『統治二論』 |

(9) ビスマルクが行った政策に関連する次の文章を読み、1～5より誤っているものを一つ選べ。

解答番号は

- 1 ヴィルヘルム1世から首相に任じられると、議会の支持のもと軍備を拡張する鉄血政策を行った。
- 2 カトリック勢力を警戒し、「文化闘争」を開始してカトリック教徒を弾圧した。
- 3 社会主義者鎮圧法を制定して、社会主義政党や社会主義運動を弾圧した。
- 4 ドイツ・オーストリア・ロシアとの間に三帝同盟を結んだ。
- 5 プロイセン＝フランス戦争に勝利し、ドイツ帝国を建設した。

(10) 世界恐慌に対する1930年代のアメリカの政策に関連する次の文章を読み、1～5より誤っているものを一つ選べ。解答番号は

- 1 全国産業復興法によって工業製品の価格協定を公認した。
- 2 経済の復興・救済の施策として、金本位制から離脱した。
- 3 農業調整法で農作物の生産量を調整し、価格を引き下げた。
- 4 地域総合開発事業として、テネシー川流域開発公社(TVA)などを設立した。
- 5 ラテンアメリカ諸国に対して善隣外交を展開した。

3 次の問1～問2の問いに答えよ。

問1 地図の見方に関する次の(1)～(4)の問いに答えよ。

(1) 地図には使う目的に応じたさまざまな図法がある。下のA～Dの図は、サンソン図法、正距方位図法、メルカトル図法、モルワイデ図法により作成されたものである。次の1～5のうち、A～Dの名称の組合せとして正しいものはどれか。1～5から一つ選べ。解答番号は

著作権保護の観点により、図を掲載いたしません。

出典：デジタル大辞泉
小学館

(『デジタル大辞泉』より作成)

	A	B	C	D
1	サンソン図法	モルワイデ図法	メルカトル図法	正距方位図法
2	メルカトル図法	サンソン図法	正距方位図法	モルワイデ図法
3	モルワイデ図法	サンソン図法	メルカトル図法	正距方位図法
4	サンソン図法	正距方位図法	メルカトル図法	モルワイデ図法
5	メルカトル図法	モルワイデ図法	サンソン図法	正距方位図法

(2) 地図において、赤道は緯度を測る基準となる。次の1～5のうち、領土に赤道が通っている国として誤っているものはどれか。1～5から一つ選べ。解答番号は

- 1 ケニア
- 2 ブラジル
- 3 エチオピア
- 4 コロンビア
- 5 インドネシア

(3) 地図上の経度0度の経線は本初子午線であり、世界各地の時刻の基準となる。12月24日午後5時50分に大阪からロサンゼルスに向けて飛行機で出発し、ロサンゼルスには12月24日午前10時50分に到着した。飛行機のフライト時間を10時間として、2つの都市の時差からロサンゼルスが位置する経度を求めると約何度になるか。1～5から一つ選べ。なお、サマータイムは実施していないものとする。解答番号は

- 1 東経約15度
- 2 東経約30度
- 3 西経約75度
- 4 西経約105度
- 5 西経約120度

(4) 地形図は、土地の高低や土地の使われ方、道路や建物、市町村の境など、地表面の情報を規則に従って表現した地図である。2万5千分1地形図上において、実際の距離1,250mは何cmで表現されるか。1～5から一つ選べ。解答番号は

- 1 2.5cm
- 2 5cm
- 3 20cm
- 4 25cm
- 5 50cm

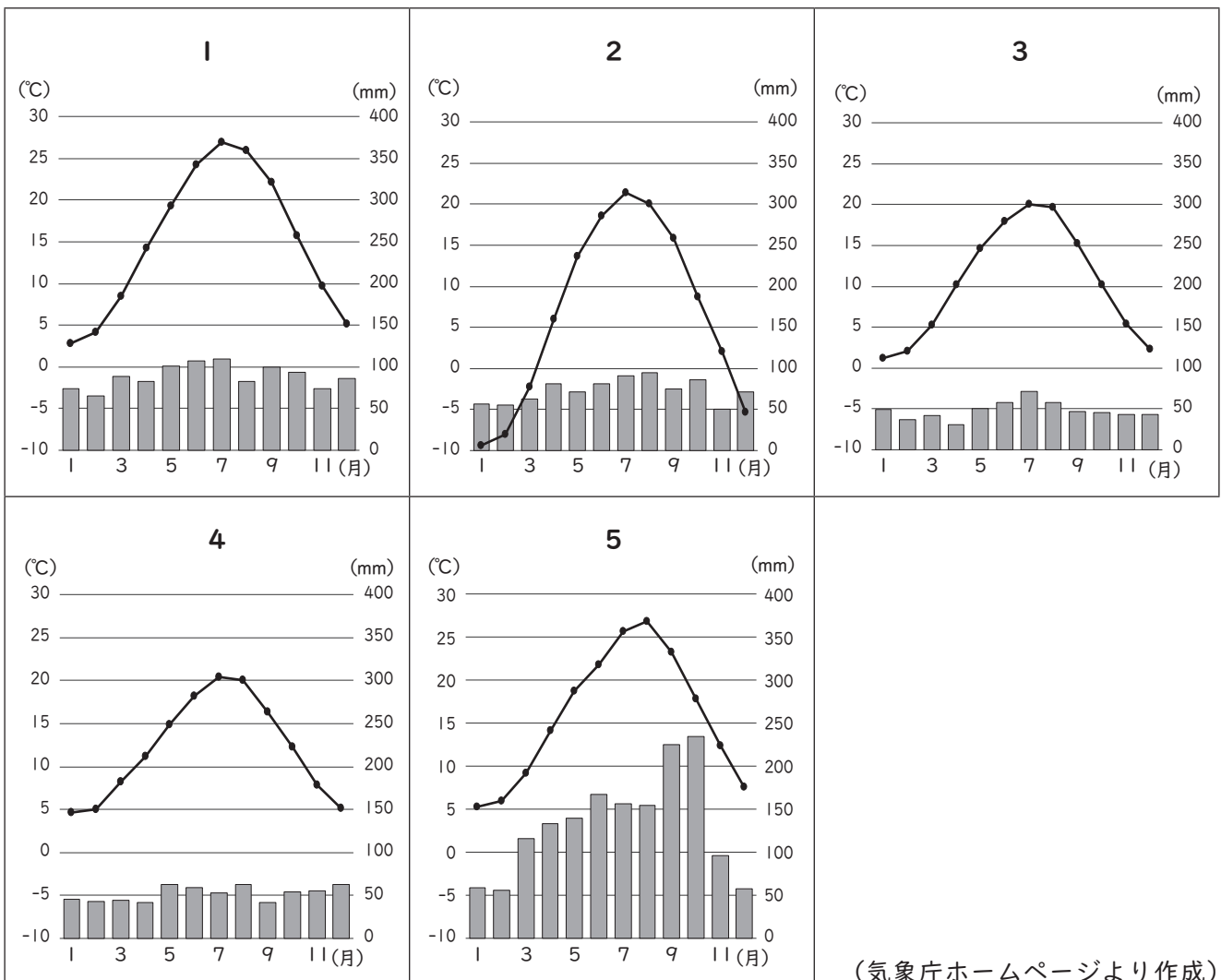
問2 次の文章は、2023（令和5）年に開催のG7サミット（主要国首脳会議）について述べたものである。次の（1）～（2）の問いに答えよ。

G7サミット（主要国首脳会議）とは、① フランス、アメリカ合衆国、イギリス、ドイツ、日本、イタリア、カナダの7か国及び欧州連合（EU）の首脳が参加して毎年開催される国際会議です。

2023年のG7サミットでは、② 広島での首脳会議のほか、日本各地で関係閣僚会合を開催し、各分野の重要課題について議論します。一年を通じ、10を超える関係閣僚会合が開催され、各国から政府関係者やメディアの皆さんなど多くの人たちが日本を訪れます。

（1）下線部①のG7メンバーの国に関する次の（i）～（iii）の問いに答えよ。

（i）次の1～5のグラフは、アメリカ合衆国、カナダ、ドイツ、日本、フランスの首都の月平均気温と月降水量をそれぞれ示したものである。アメリカ合衆国の首都の月平均気温と月降水量に該当するものはどれか。1～5から一つ選べ。解答番号は



(ii) 下の表1は、イギリス、イタリア、ドイツ、日本、フランスの面積及び2019（平成31／令和元）年における、人口密度、国民総所得、1人当たり国民総所得、輸出額、輸入額をそれぞれ示したものである。イタリアに該当するものはどれか。1～5から一つ選べ。

解答番号は

表 1

	面積（千km ² ）	人口密度（人／km ² ）	国民総所得（億ドル）	1人当たり国民総所得（ドル）	輸出額（百万ドル）	輸入額（百万ドル）
1	242	278.5	27,788	42,130	475,705	641,609
2	302	200.4	20,224	34,830	532,667	473,516
3	357	233.7	39,661	48,550	1,489,190	1,234,463
4	378	330.1	52,524	41,580	705,619	720,764
5	552	118.1	27,718	42,290	569,740	651,143

フランスの面積と人口密度については、海外県を含まない。

（『データブック オブ・ザ・ワールド』2020年版、2021年版、2022年版より作成）

(iii) 下の表2は、2018（平成30）年から2021（令和3）年における、アメリカ合衆国、イギリス、ドイツ、日本、フランスの電気自動車保有台数をそれぞれ示したものである。日本に該当するものはどれか。1～5から一つ選べ。解答番号は

表 2

単位（千台）

	2018年	2019年	2020年	2021年
1	1,123	1,450	1,778	2,064
2	236	264	293	337
3	184	259	434	746
4	177	239	633	1,315
5	165	227	416	725

（『世界国勢図会』2022/23より作成）

(2) 下線部②の開催地のうち、広島県と大阪府に関する次の(i)～(iii)の問いに答えよ。

(i) 下の図1は、国土地理院が発行する5万分1地形図『広島』(平成20年1月1日発行)の一部を約90%に縮小したものである。図1中にみられる、河川が運搬した砂泥が河口付近に堆積して形成された低平な地形は何と呼ばれているか。1～5から一つ選べ。

解答番号は



図 1

- 1 リアス式海岸
- 2 フィヨルド
- 3 三角州
- 4 扇状地
- 5 峡谷

(ii) 下の表3は、2020（令和2）年における、岡山県、島根県、鳥取県、広島県、山口県の耕地面積、林野面積、農業産出額、海面漁業産出額をそれぞれ示したものである。広島県に該当するものはどれか。1～5から一つ選べ。解答番号は

表 3

	耕地面積 (ha)	林野面積 (千ha)	農業産出額 (億円)	海面漁業産出額 (億円)
1	34,300	258	764	185
2	36,400	528	620	169
3	63,600	489	1,414	16
4	53,500	618	1,190	61
5	44,900	440	589	123

海面漁業産出額については、海面養殖業産出額を含まない。
 (『データでみる県勢』2022、2023より作成)

(iii) 全国各地で開催する関係閣僚会合のうち、大阪府では貿易大臣会合が開催される。下の表4は、2019（平成31／令和元）年の大阪港、神戸港、東京港、名古屋港、横浜港の5港における、貿易額と主要貿易品目をそれぞれ示したものである。次の1～5のうち、港A～Eの組合せとして正しいものはどれか。1～5から一つ選べ。解答番号は

表 4

港	貿易額（億円）		主要貿易品目	
	輸出額	輸入額	輸出品目	輸入品目
A	58,237	114,913	半導体等製造装置	衣類
B	123,068	50,849	自動車	液化ガス
C	69,461	48,920	自動車	石油
D	37,742	47,781	集積回路	衣類
E	55,571	33,103	プラスチック	たばこ

(『日本国勢図会』2020/21より作成)

	A	B	C	D	E
1	横浜港	東京港	大阪港	神戸港	名古屋港
2	名古屋港	東京港	横浜港	大阪港	神戸港
3	東京港	名古屋港	神戸港	大阪港	横浜港
4	名古屋港	横浜港	東京港	神戸港	大阪港
5	東京港	名古屋港	横浜港	大阪港	神戸港

(1) 日本の地方自治制度に関する記述として、誤っているものを1～5から一つ選べ。

解答番号は

- 1 日本国憲法には地方自治に関する規定があるが、大日本帝国憲法には地方自治に関する規定はない。
- 2 地方自治体の首長を決める選挙を間接選挙で実施することはできない。
- 3 地方公共団体の首長の任期は地方自治法で4年と定められており、条例によって任期を変更することはできない。
- 4 普通地方公共団体には、特別区は含まれない。
- 5 地方公共団体の議会において、当該地方公共団体の長に対する不信任の議決をするためには、議員数の過半数の者が出席しなければならない。

(2) 日本の安全保障に関する記述として、誤っているものを1～5から一つ選べ。

解答番号は

- 1 1960年に結ばれた日米地位協定では、アメリカ合衆国の軍隊の構成員は、外国人の登録及び管理に関する日本国の法令の適用から除外されている。
- 2 日本国とアメリカ合衆国との間の安全保障条約（日米安全保障条約）は、サンフランシスコ平和条約と同じ年に調印された。
- 3 2001年に日本はテロ対策特別措置法を制定して、同法に基づき自衛隊をイラクに派遣した。
- 4 1999年に制定された周辺事態法では、周辺事態下でのアメリカ合衆国の軍隊に対する後方支援活動を行うことを定めた。
- 5 2004年に制定された国民保護法は、武力攻撃事態における、国、地方公共団体等の責務、国民の協力等について定めている。

(3) 次のうち、インドネシアからの分離独立を背景とした紛争はどれか。1～5から一つ選べ。

解答番号は

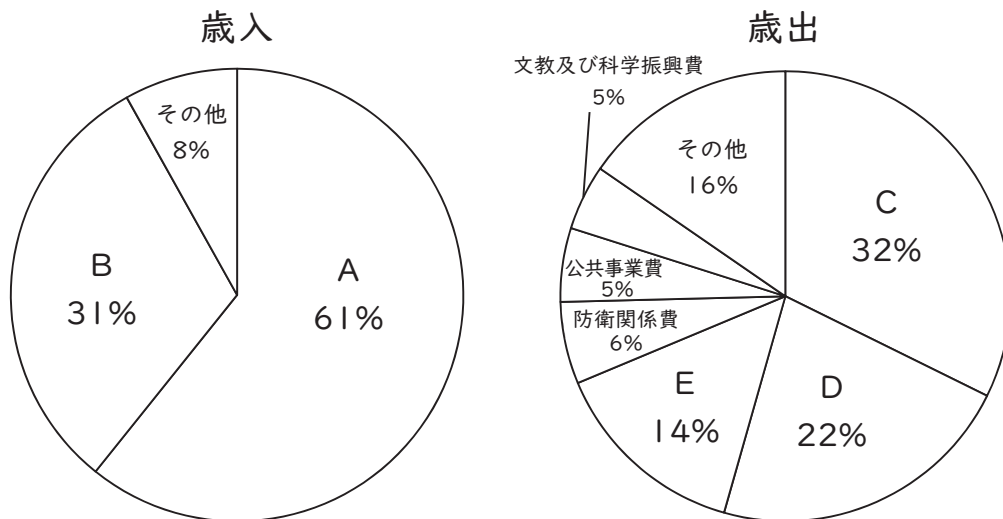
- 1 フォークランド紛争
- 2 チェチェン紛争
- 3 カシミール紛争
- 4 東ティモール紛争
- 5 南オセチア紛争

(4) 欧州連合 (EU) に関する記述として、誤っているものを 1 ~ 5 から一つ選べ。

解答番号は

- 1 1952年に欧州石炭鉄鋼共同体 (ECSC) が設立され、西ドイツ、フランス、イタリア、ベルギー、オランダ、ルクセンブルクの6か国が加盟した。
- 2 1993年に加盟国間の外交・安全保障、司法・内務協力を行うマーストリヒト条約が発効し、欧州連合 (EU) が設立された。
- 3 1999年に単一通貨であるユーロが導入され、2023年7月現在、すべての欧州連合 (EU) 加盟国で採用されている。
- 4 2023年のG7サミット (主要国首脳会議) には、欧州理事会議長及び欧州委員会委員長が参加した。
- 5 2019年に日本と欧州連合 (EU) との間で経済連携協定 (EPA) が発効され、将来的に日本産の乗用車の関税は撤廃されることになった。

(5) 下の表は、日本の令和5年度一般会計予算の歳入・歳出の構成割合を示している。表のA～Eに当てはまる費目の組合せとして適当なものを1～5から一つ選べ。解答番号は



(財務省ホームページ 財政に関する資料より作成)

	A	B	C	D	E
1	公債金	租税及び印紙収入	社会保障関係費	国債費	地方交付税 交付金等
2	公債金	租税及び印紙収入	地方交付税 交付金等	社会保障関係費	国債費
3	公債金	租税及び印紙収入	国債費	地方交付税 交付金等	社会保障関係費
4	租税及び印紙収入	公債金	社会保障関係費	国債費	地方交付税 交付金等
5	租税及び印紙収入	公債金	地方交付税 交付金等	社会保障関係費	国債費

(6) 中国の儒家思想家の一人である孟子に関する説明として、誤っているものを1～5から一つ選べ。

解答番号は

- 1 徳治主義を説き、王道政治による天下統一を主張した。
- 2 中国の戦国時代に活躍し「亜聖」と評され、孔子に影響を与えた。
- 3 弟子たちとの問答等を記録した『孟子』は、四書の一つに数えられている。
- 4 人間の道徳的基準として仁義を重視し、道徳成立の根拠として性善説を説いた。
- 5 人には誰でも「惻隠・羞惡・辞讓・是非の心」の四端の心がそなわっていると説いた。

(7) 『支配の社会学』を著し、近代官僚制は、職務権限や給与体系の法制化、専門職による分業、文書による処理などの特徴があると指摘した、ドイツの社会学者はだれか。1～5から一つ選べ。

解答番号は

- 1 オルテガ
- 2 ウェーバー
- 3 リースマン
- 4 フロム
- 5 フーコー

(8) 近代の日本における人物についての説明として、誤っているものを1～5から一つ選べ。

解答番号は

- 1 幸徳秋水は、中江兆民に師事し、『廿世紀之怪物帝国主義』を著した。
- 2 片山潜は、安部磯雄らと社会主義政党である社会民主党を結成した。
- 3 河上肇は、『貧乏物語』を著し、マルクス主義にもとづいた社会主義運動を展開した。
- 4 美濃部達吉は、国民の代表機関たる議会は、天皇と立法権においては対等の権限をもつと説いた。
- 5 吉野作造は、「政治の目的は一般民衆の利福と意向」に沿うことにあると論じ、天皇主権を前提としない民本主義を唱えた。

(9) ヤスパースの思想の説明として正しいものを1～5から一つ選べ。解答番号は

- 1 人間は極限状態のなかに投げ出され、「存在とはなにか」などの根源的な問いを発することをとおして、永遠の存在に根ざしたみずからの実存が明らかになると説いた。
- 2 人が真の自己を取り戻すには、自らが「死への存在」であることを自覚することが必要だと説いた。
- 3 この世界は意味も目的もなく無限に反復する永劫回帰の世界であるが、そのことを受け止め、生きる意味や目的を自ら生み出す「超人」のごとくに生きなければならないと説いた。
- 4 全人類にも及ぼす責任を自覚して、自己や社会問題に積極的に関わるべきだという社会参加「アンガージュマン」の思想を説いた。
- 5 客観的真理ではなく、自分のすべてを賭けて実現すべき「主体的真理」を追究すべきであると説いた。

(10) 地球環境問題に関する記述として、誤っているものを1～5から一つ選べ。

解答番号は

- 1 レイチェル・カーソンは、その著書『沈黙の春』において、地球温暖化やオゾン層破壊を原因として生じる生態系の破壊に警鐘をならした。
- 2 コルボーンは、その著書『奪われし未来』において、環境ホルモンの危険性に警鐘をならした。
- 3 ボールディングは、「宇宙船地球号」という言葉をもって、人類は循環的な生態システムの中で生活しなければならないと説いた。
- 4 ハーディン は、海洋問題、大気汚染などの地球環境問題が「共有地（コモンズ）の悲劇」につながると説いた。
- 5 ローマ・クラブは、『成長の限界』で、資源枯渇と環境汚染に注目し、人類の危機に対する警鐘をならした。

5 現代社会の諸課題に関する次の(1)～(3)に答えよ。

(1) 次は、「日本国憲法 第三章 国民の権利及び義務」に示されている条文およびその一部である。以下のア～キの問いに答えよ。

第十一条	国民は、すべての _A 基本的人権の享有を妨げられない。この憲法が国民に保障する基本的人権は、侵すことのできない永久の権利として、現在及び将来の国民に与えられる。
第十二条	この憲法が国民に保障する自由及び権利は、国民の <input type="text" value="あ"/> によつて、これを保持しなければならない。
第十四条	すべて国民は、法の下に平等であつて、人種、信条、性別、社会的身分又は門地により、政治的、経済的又は社会的関係において、差別されない。
第十五条	公務員を選定し、及びこれを罷免することは、国民固有の権利である。
2	すべて公務員は、 <input type="text" value="い"/> であつて、一部の奉仕者ではない。
3	公務員の選挙については、 _B 成年者による普通選挙を保障する。
第二十二條	何人も、 <input type="text" value="う"/> に反しない限り、居住、移転及び職業選択の自由を有する。
_C 第二十五條	すべて国民は、健康で文化的な最低限度の生活を営む権利を有する。
_D 第二十八條	勤労者の団結する権利及び団体交渉その他の団体行動をする権利は、これを保障する。
第三十一條	何人も、法律の定める手続によらなければ、その生命若しくは自由を奪はれ、又はその他の刑罰を科せられない。
_E 第三十七條	すべて刑事事件においては、被告人は、公平な裁判所の迅速な公開裁判を受ける権利を有する。

ア 上記の空欄 ～ に入る適切な語句を記せ。

イ ① 下線部Aの考え方は、17～18世紀の市民革命の中で打ち出された人権宣言によって確立された。次の表は、市民革命を支えた思想である社会契約説を唱えた思想家についてまとめたものである。

空欄 ・ に入る適切な語句を記せ。

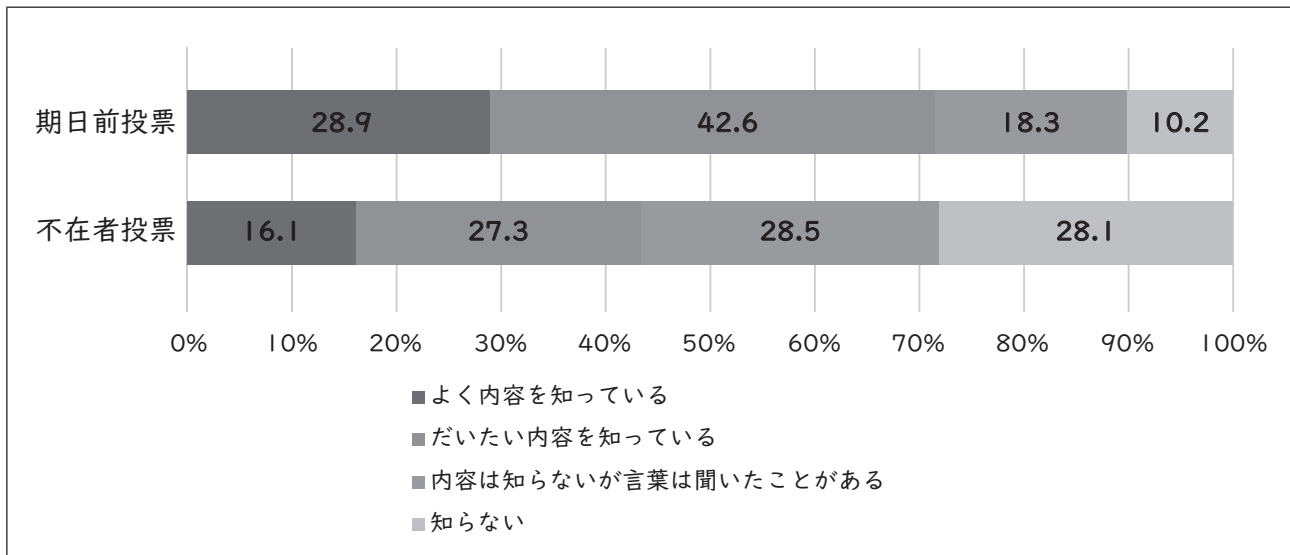
思想家	ホッブズ	ロック	ルソー
主著	『リバイアサン』	『市民政府論』	『社会契約論』
理論	人間の自然状態を闘争とみなし、各人の自然権を全面的に君主に譲渡する社会契約を結ぶ	各人の自然権の一部を政府に信託する社会契約を結び、国民の抵抗権を主張	人民はすべての自然権を、公共の利益の実現をめざす意志である <input type="text" value="II"/> に基づく集合体に譲渡する社会契約を結ぶ
革命への影響		<input type="text" value="I"/> (1775～83年)に影響を与えた	フランス革命(1789～99年)に影響を与えた

② 下線部Aに関連して、国際連合憲章第1条は、国際連合の目的の一つとして、人権及び基本的自由の尊重を謳っている。国際連合は設立以来、世界人権宣言（1948年）や、それに続く各種人権条約の採択を初めとして、世界の人権問題への対処、国際的な枠組における人権の保護・促進に取り組んでいる。次は、国際連合で採択された人権に関するある条約の一部である。この条約の名称を答えよ。

締約国は、自己の意見を形成する能力のある児童がその児童に影響を及ぼすすべての事項について自由に自己の意見を表明する権利を確保する。この場合において、児童の意見は、その児童の年齢及び成熟度に従って相応に考慮されるものとする。

ウ 日本国憲法の施行から70年以上が経過したこんにちでは、日本国憲法に明記はされていない人権が「新しい人権」として主張されている。「新しい人権」と関連して、「環境権」について、「背景となった社会問題」「根拠となる憲法の条文と内容」「権利の内容とその発展」の3点に触れながら説明せよ。

エ 下線部Bについて、次は『18歳選挙権に関する意識調査報告書』（総務省、平成28年12月）の一部である。選挙権年齢引き下げ後、初の国政選挙となった第24回参議院議員通常選挙に関する意識調査を行ったところ、18～20歳の「期日前投票制度」「不在者投票制度」についての認識は以下のとおりであった。「不在者投票制度」について、「滞在」の語句を用いて簡潔に説明せよ。



オ 下線部Cの法的性格をめぐっては、法的権利説とプログラム規定説とで解釈が分かれている。朝日訴訟（生活保護法による保護に関する不服の申立に対する裁決取消請求、昭和39（行ツ）14、昭和42年5月24日、最高裁判所大法廷）において最高裁判所は「プログラム規定説」を採用したが、「プログラム規定説」とはどのような考え方が説明せよ。

カ 下線部Dで示された三つの権利のうち、すべての公務員に禁止されているのはどの権利か答えよ。

キ 下線部Eに関連して、2009（平成21）年5月21日から、国民の司法参加を促すある制度が開始された。この制度は、1999（平成11）年7月、内閣に設置された司法制度改革審議会が、2001（平成13）年6月に取りまとめた司法制度改革審議会意見書の中で「司法制度改革の三つの柱」の一つとして国民的基盤の確立を掲げ、その中核として導入が提言された制度である。この制度を何というか答えよ。

(2) 次の表は第二次世界大戦後の国際経済の動きをまとめたものである。以下のア～オの問いに答えよ。

年	出来事
1945年	前年に締結されたブレトン・ウッズ協定により、国際通貨基金（IMF）と国際復興開発銀行（IBRD・世界銀行）が設立
1948年	関税及び貿易に関する一般協定（GATT）発足
1964年	国連貿易開発会議（UNCTAD）設立
1965年	アメリカが北ベトナムに北爆を開始し、ベトナム戦争に本格的に介入
1968年	日本のGDPが世界第2位となる
1971年	7月にヨーロッパ共同体（EC）、8月に日本が ^A 特恵関税制度を導入 アメリカのニクソン大統領が ^B 米ドルと金の兌換一時中止を発表
1973年	^C 第1次石油危機が起こる
1985年	プラザ合意が行われる
1986年	GATTウルグアイ・ラウンドが行われる（～1994年）
1989年	マルタ会談が行われ、冷戦終結宣言がなされる
1995年	GATTに代わり、 ^D 世界貿易機関（WTO）が設立
2001年	^E ミレニアム開発目標（MDGs）策定
2008年	リーマンショックが起こる
2015年	^F 持続可能な開発目標（SDGs）策定

ア ① 下線部Aは、国連貿易開発会議（UNCTAD）の第1回総会において提出された『開発のための新しい貿易政策を求めて』と題する報告書における提案に基づいて導入された。この報告を行ったUNCTAD初代事務局長の名前を答えよ。

② 下線部Aは、どのような制度であるか簡潔に説明せよ。

イ 下線部Bの背景にあったアメリカの経済状況について、「ドル危機」の内容に触れながら説明せよ。

ウ ① 下線部Cは、第4次中東戦争が勃発し、アラブ諸国が原油輸出禁止や価格の引き上げといった「石油戦略」をとったことが契機となっている。「石油戦略」の背景にあった天然資源に対する国家管理を強化し、自国の主導権のもとで開発・生産を行おうとする動きを何というか答えよ。

② 下線部Cを契機として、当時のジスカール・デスタン大統領の提案により、1975年に6か国の元首及び首相が参加し第1回サミット(主要国首脳会議)が開催された。第1回サミット(主要国首脳会議)が開催された国を答えよ。

エ 下線部Dは、経済のグローバル化への対応が協議されたGATTウルグアイ・ラウンド交渉(1986~1994年)での合意に基づいて設立された国際機関である。この機関は、加盟国の貿易紛争を迅速に解決するための紛争解決制度を有している。紛争解決手続において、議長がある決定案を採択してよいか加盟国に問い、これに対し全加盟国が異議を唱える場合のみ案が否決される方式のことを何というか答えよ。

オ 下線部Eでは「絶対的貧困層の半減」が目標として掲げられ、下線部Fへと引き継がれる形となった。世界銀行が「貧困」を定義するために、購買力平価(PPP)に基づいて設定した国際的な基準を何というか答えよ。

(3) 近代西洋思想に関する次のア～ウの問いに答えよ。

ア イギリスの人文主義者であるトマス＝モア (Thomas More) が著した、当時のイギリス社会を批判し理想的な社会を描いた、ギリシア語で「どこにもない場所」を意味する作品名を記せ。

イ ドイツの哲学者カント (I.Kant) に関する説明として、誤っているものはどれか。次の 1～5 から一つ選び、数字を記せ。

- 1 認識が対象に従うのではなく、対象が認識に従うという新しい認識論を論じた発想の転回は、コペルニクスの転回と呼ばれる。
- 2 『法の哲学』(『法哲学』) を著し、市民社会という社会のあり方を取り入れて、家族、市民社会、国家という社会集団と個人の間を考察した。
- 3 三批判書と称される『純粋理性批判』、『実践理性批判』、『判断力批判』を著し、理論、実践、美的感情、目的論に及ぶ批判哲学全体の広がりを提示した。
- 4 『永遠平和のために』(『永久平和のために』) を著し、永遠平和を政治的最高善ととらえ、国際法は、自由な諸国家の連合制度に基礎を置くべきであると主張した。
- 5 啓蒙思想の完成者とされ、イギリス経験論と大陸合理論の両者を止揚し総合することによって、新たな認識批判・認識理論の根拠を築いた。

ウ イギリスの哲学者ベンサム (J.Bentham) に関連した次の文章の空欄【 A 】には、ベンサムが社会の利益とは何であるかについて述べた内容が入る。空欄【 A 】に入れるのに適している内容を、「成員」の語句を用いて簡潔に記せ。

ベンサムは著書『道徳および立法の諸原理序説』の中で、「社会とは、いわばその成員を構成すると考えられる個々の人々から形成される、擬制的な団体である。」と述べ、社会の利益とは、【 A 】に他ならないとした。

令和6年度大阪府公立学校教員採用選考テスト

三次選考択一問題の正答について

校種	高等学校	教科・科目	公民（政治経済）
----	------	-------	----------

解答番号	正答番号	解答番号	正答番号	解答番号	正答番号	解答番号	正答番号
1	1	11	3	21	1	31	5
2	2	12	2	22	3	32	3
3	3	13	3	23	5	33	4
4	2	14	4	24	2	34	3
5	5	15	3	25	1	35	4
6	2	16	5	26	2	36	2
7	1	17	4	27	2	37	2
8	1	18	4	28	3	38	5
9	3	19	1	29	4	39	1
10	2	20	3	30	5	40	1

受験番号	
------	--

令和6年度大阪府公立学校教員採用選考テスト

高等学校 公民（政治・経済） 解答用紙 （3枚のうち1）

5

得点	
----	--

--

(1)	ア	あ 不断の努力	/	い 全体の奉仕者	/		
		う 公共の福祉	/				
	イ	① I アメリカ独立革命	/	II 一般意志	/		
		② 児童の権利に関する条約 (子どもの権利条約)	/				
	ウ	<p>高度経済成長のなかで、さまざまな公害が発生し、人々の生命や健康が損なわれる事態が発生した。四大公害訴訟ではいずれも原告が勝訴し、公害反対の世論の中で、政府は公害対策基本法などの法整備を行い、環境庁を発足させた。</p> <p>公害による健康被害や生活困難を経験するなかで、憲法 25 条（生存権）や 13 条（幸福追求権）を根拠に、良好な環境を享受する権利として環境権が主張されることとなった。こんにちでは公害などの環境破壊だけでなく、日照権や静穏権、景観権、嫌煙権なども環境権として主張されている。</p>				/	
	エ	<p>仕事や旅行などで、選挙期間中、名簿登録地以外の市区町村に滞在している人が、滞在先の市区町村の選挙管理委員会で投票することができる制度。</p>				/	
	オ	<p>憲法 25 条 1 項の規定は、すべての国民が健康で文化的な最低限度の生活を営み得るように国政を運営すべきことを国の責務として宣言したにとどまり、直接個々の国民に対して具体的権利を賦与したものではないという考え方。</p>				/	
	カ	団体行動権（争議権）	/				
	キ	裁判員制度	/				

受験番号	
------	--

令和6年度大阪府公立学校教員採用選考テスト

高等学校 公民（政治・経済） 解答用紙 (3枚のうち2)

5 (続き)

(2)	ア	① (ラウル・) プレビッシュ /		
		② 開発途上国の経済発展を支援する観点から、先進国が開発途上国の産品に対して一般の関税率より低い関税率(特恵税率)を適用する制度。 /		
	イ	<p>対外経済援助、軍事支出、資本支出の増大により、アメリカの対外債務は金準備を上回るようになった。アメリカの経常収支の赤字が恒常化し、1960年代にはドル価値への信頼が揺らいだ。そのため諸国は、ドルと金の交換を要求するようになり、金が大量に流出しアメリカはドル危機という事態に陥った。</p>		/
	ウ	① 資源ナショナリズム /	② フランス /	
	エ	ネガティブ・コンセンサス /		
	オ	国際貧困ライン /		

受験番号	
------	--

令和6年度大阪府公立学校教員採用選考テスト

高等学校 公民（政治・経済） 解答用紙 (3枚のうち3)

5 (続き)

--

(3)	ア	ユートピア	/
	イ	2	/
	ウ	社会を構成している個々の成員の利益の総計	/

--

--

--