

高等学校 公民（政治経済）

解答についての注意点

- 1 解答用紙は、マーク式解答用紙と記述式解答用紙の2種類があります。
- 2 大問 **1** ~大問 **4** については、マーク式解答用紙に、大問 **5** については、記述式解答用紙に記入してください。
- 3 解答用紙が配付されたら、まずマーク式解答用紙に受験番号等を記入し、受験番号に対応する数字を、鉛筆で黒くぬりつぶしてください。
記述式解答用紙は、全ての用紙の上部に受験番号のみを記入してください。
- 4 大問 **1** ~大問 **4** の解答は、選択肢のうちから、**問題で指示された解答番号**の欄にある数字のうち一つを黒くぬりつぶしてください。
例えば、「解答番号は 」と表示のある問題に対して、「**3**」と解答する場合は、解答番号 の欄に並んでいる ① ② ③ ④ ⑤ の中の ③ を黒くぬりつぶしてください。
- 5 間違ってぬりつぶしたときは、消しゴムできれいに消してください。二つ以上ぬりつぶされている場合は、その解答は無効となります。
- 6 その他、係員が注意したことをよく守ってください。

指示があるまで中をあけてはいけません。

1 日本史について、(1)～(10)の問いに答えよ。

(1) 天智天皇の死後、皇位継承をめぐる起こった大海人皇子と大友皇子の争いを何というか。

次の1～5から一つ選べ。解答番号は

- 1 応仁の乱
- 2 承久の乱
- 3 壬申の乱
- 4 平治の乱
- 5 保元の乱

(2) 次のア～オについて、7世紀に起きた出来事として正しいものを○、誤っているものを×とした

場合、正しい組合せはどれか。下の1～5から一つ選べ。解答番号は

- ア 蘇我馬子によって物部守屋が討たれた。
- イ 遣唐留学生として阿倍仲麻呂が派遣された。
- ウ 東大寺の盧舎那大仏像が鑄造された。
- エ 白村江の戦いで、日本は唐と新羅の連合軍に敗れた。
- オ 防人が対馬・壱岐・筑紫に初めて設置された。

	ア	イ	ウ	エ	オ
1	×	×	×	○	○
2	○	×	○	○	×
3	○	○	×	×	○
4	×	○	×	○	×
5	×	○	○	×	×

(3) 平安時代に成立した作品とその作者の組合せとして、正しいものはどれか。次の1～5から一つ
選べ。解答番号は

- 1 『徒然草』 — 吉田兼好
- 2 『枕草子』 — 紫式部
- 3 『方丈記』 — 鴨長明
- 4 『蜻蛉日記』 — 和泉式部
- 5 『更級日記』 — 菅原孝標女

(4) 平安時代に起きた出来事として、正しいものはどれか。次の1～5から一つ選べ。
解答番号は

- 1 征夷大將軍に任じられた坂上田村麻呂が胆沢を平定し、朝廷の支配を現在の北海道まで広げた。
- 2 最澄や空海は遣唐使とともに唐に渡って仏教を学び、帰国後に最澄が真言宗、空海が天台宗を開いた。
- 3 貴族は書院造とよばれる住居に住み、服装も唐風から日本風に変化した。
- 4 白河上皇は、幼少の皇子が堀河天皇として即位した後も、政治の実権をにぎった。
- 5 平清盛は、武家として初めて太政官の最高の官である内大臣となった。

(5) 鎌倉時代、裁判基準としての法典である御成敗式目が制定された時の執権は誰か。次の1～5
から一つ選べ。解答番号は

- 1 北条時宗
- 2 北条泰時
- 3 北条義時
- 4 北条時政
- 5 北条時頼

(6) 次のア～オについて、室町時代に関する説明として正しいものを○、誤っているものを×とした場合、正しい組合せはどれか。下の1～5から一つ選べ。解答番号は

- ア 海の交通が発達し、菱垣廻船や樽廻船などが活躍した。
- イ 墨の濃淡で描く水墨画が雪舟により大成された。
- ウ 借金の帳消しを認める徳政令を求めて、打ちこわしが起きた。
- エ 商人や手工業者らの同業者ごとに五人組とよばれる組合がつくられた。
- オ 勘合を所持した勘合船によって日明間の貿易が行われた。

	ア	イ	ウ	エ	オ
1	○	○	×	○	×
2	×	○	○	×	○
3	×	○	×	×	○
4	○	×	○	○	×
5	○	×	×	×	○

(7) 江戸時代に起きた次のア～オの出来事を、古い順に左から右へ並べた場合、正しいものはどれか。下の1～5から一つ選べ。解答番号は

- ア 新井白石は、通貨改良に努めるとともに、長崎貿易に関する海舶互市新例を發布し、貿易を制限することで金・銀・銅の海外流出を防いだ。
- イ 寛政の改革では、農村と都市の復興に取り組むとともに、朱子学を振興するため朱子学以外の儒学を禁じた。
- ウ 田沼意次は、商品流通に課税することを考え、株仲間に冥加金を課したうえで独占権を与えたほか、通貨制度の改革も行った。
- エ 享保の改革では、足高の制を設けて人材登用を図るとともに、年貢増徴と新田開発に努めた。
- オ 徳川綱吉は、儒学の教えを現実の政治の上に反映させようとし、諸国に忠孝を奨励する高札を立てさせた。

1	ア	→	オ	→	エ	→	ウ	→	イ
2	オ	→	ア	→	エ	→	ウ	→	イ
3	ア	→	オ	→	イ	→	エ	→	ウ
4	オ	→	ア	→	エ	→	イ	→	ウ
5	ア	→	オ	→	ウ	→	エ	→	イ

(8) 「五箇条の誓文」に記されている内容として当てはまらないものはどれか。次の1～5から一つ
選べ。解答番号は

- 1 智識ヲ世界ニ求メ大ニ皇基ヲ振起スヘシ
- 2 旧来ノ陋習ヲ破リ天地ノ公道ニ基クヘシ
- 3 人タルモノ五倫ノ道ヲ正シクスヘキ事
- 4 官武一途庶民ニ至ル迄各其志ヲ遂ケ人心ヲシテ倦マサラシメンコトヲ要ス
- 5 広ク会議ヲ興シ万機公論ニ決スヘシ

(9) 明治時代に起きた次のア～オの出来事を、古い順に左から右へ並べた場合、正しいものはどれか。
下の1～5から一つ選べ。解答番号は

- ア 版籍奉還により、領地と領民が藩主から天皇に返上された。
- イ 地租改正法を公布し、土地収益から算定した地価の3%の地租を徴収した。
- ウ 日本の近代学校制度に関する最初の基本法令である学制が発布された。
- エ 天皇は廃藩置県の詔を示し、361の藩が県となった。
- オ 近代の日本と朝鮮との間での最初の条約となる日朝修好条規が結ばれた。

- 1 ア → エ → ウ → イ → オ
- 2 ア → エ → イ → ウ → オ
- 3 ア → イ → ウ → エ → オ
- 4 ウ → エ → オ → ア → イ
- 5 ウ → ア → イ → オ → エ

(10) 昭和時代に起きた次のア～オの出来事を、古い順に左から右へ並べた場合、正しいものはどれか。

下の 1～5 から一つ選べ。解答番号は

ア 日本が国際連盟を脱退する通告を行った。

イ 戦時に際して人的及び物的資源を統制・運用する権限を政府に与える国家総動員法が、第一次近衛内閣のもとで制定された。

ウ 奉天付近の柳条湖で、日本の関東軍が南満州鉄道の線路を爆破した。

エ 陸軍将校が反乱を起こし、斎藤実や高橋是清らを襲撃し、首相官邸などを占拠した。

オ 海軍将校らが首相官邸を襲い、犬養毅首相を射殺した。

1 ウ → オ → ア → イ → エ

2 ウ → オ → ア → エ → イ

3 ウ → オ → エ → ア → イ

4 オ → ウ → エ → ア → イ

5 オ → ウ → ア → イ → エ

2 世界史に関する次の(1)～(10)の問いに答えよ。

(1) 古代オリエントについて述べた次の文章を読み、ア～エの国名の組み合わせとして正しいものを1～5より一つ選べ。解答番号は

(ア) は前7世紀前半に、オリエント全土のさまざまな民族を支配し統合した。しかし、諸民族の反乱を受け首都のニネヴェは陥落し、その後オリエントには4つの王国が分立した。4つの王国とはエジプト、ユダ王国を滅ぼした(イ)、イラン高原を支配した(ウ)、最古の金属貨幣を鑄造したとされる(エ)である。

- | | | | | |
|---|----------|----------|----------|--------|
| 1 | ア 新バビロニア | イ メディア | ウ アッシリア | エ リディア |
| 2 | ア アッシリア | イ リディア | ウ 新バビロニア | エ メディア |
| 3 | ア アッシリア | イ 新バビロニア | ウ リディア | エ メディア |
| 4 | ア 新バビロニア | イ アッシリア | ウ メディア | エ リディア |
| 5 | ア アッシリア | イ 新バビロニア | ウ メディア | エ リディア |

(2) 中国の諸子百家の人物とそれぞれの主張について、1～5より誤っているものを一つ選べ。解答番号は

- 1 墨子は普遍的な相互愛を意味する「兼愛説」を説いた。
- 2 老子はあるがままの自然な状態(無為自然)を理想とした。
- 3 荀子は性悪説を唱え、法律による統治(法治主義)を重視した。
- 4 孔子は家族の間の礼節と愛情を広く天下におよぼしていけば、理想的な社会秩序が実現できると唱えた。
- 5 孟子は性善説を唱え、人は生まれながらに善であると強調した。

(3) 中国の北宋における王安石の新法の説明として、1～5より正しいものを一つ選べ。解答番号は

- 1 市易法とは、政府が大商人から商品を適正価格で買い上げ、それを担保もしくは保証人のある中小商人に売りさばかせることを定めたものである。
- 2 青苗法とは、各地の特産物を輸送させ、不足地で売却することを定めたものである。
- 3 保甲法とは、政府が徴税や治安維持などの労役の代わりに免役税を徴収し、労役を望む者に雇金を給して募集することを定めたものである。
- 4 均輸法とは、政府が民に低利で穀物を貸し付け、収穫時に返済させることを定めたものである。
- 5 募役法とは、治安維持を目的として民に軍事訓練を行うことを定めたものである。

(4) 大航海時代に関連する人物について述べたア～オのうち、正しいものを○、誤っているものを×とした場合、正しい組み合わせはどれか。1～5より一つ選べ。解答番号は

- ア エンリケ航海王子は、アフリカ大陸最南端の岬に到達した。
- イ カブラルは現在のブラジルに到達し、同地をポルトガルが領有するきっかけを作った。
- ウ コロンブスは、1492年にサン＝サルバドル島に到着した。
- エ マゼランはスペイン国王と契約を結び、西回りのアジア航路を発見するため航海に出発した。
- オ バルボアはパナマ地峡を横断し、インド洋に到達した。

	ア	イ	ウ	エ	オ
1	○	×	×	○	×
2	×	○	○	×	×
3	×	○	×	○	○
4	○	×	○	×	○
5	×	○	○	○	×

(5) 南北アメリカ文明について、以下の説明にあてはまる文明を1～5より一つ選べ。

解答番号は

建築、土木技術の面では高度の水準に達し、整然たる都市計画に基づく壮大な石造建築物や道路網が生まれた。文字を使用しなかったが、記録にはキープ（結縄）が用いられた。独自の発展を遂げたが、16世紀にスペイン人によって征服された。

- 1 オルメカ文明
- 2 テオティワカン文明
- 3 インカ文明
- 4 アステカ文明
- 5 マヤ文明

(6) 宗教改革に関連する人物について述べた次の文章を読み、1～5より誤っているものを一つ選べ。

解答番号は

- 1 マルティン＝ルターは贖宥状（免罪符）の販売に対して、九十五カ条の論題で批判した。
- 2 ツヴィングリはエラスムスらの影響を受け、スイスで宗教改革を展開した。
- 3 カルヴァンは、魂が救われるかどうかはあらかじめ神によって決定されているという「予定説」を唱えた。
- 4 メアリ1世は、首長法によって国王がイギリス国教会の首長であると宣言した。
- 5 イグナティウス＝ロヨラは宗教改革に対抗して、フランシスコ＝ザビエルらとともにイエズス会を設立した。

(7) フランス革命の一連の流れについて、次のア～オの出来事をおこった順に左から右へと並び替えた場合、正しいものはどれか。1～5より一つ選べ。解答番号は

- ア 国民公会で王政の廃止を宣言し、第一共和政が樹立された。
イ パリ民衆がバスティーユ牢獄を襲撃した。
ウ ブリュメール18日のクーデタがおこった。
エ 男子普通選挙制を認めた1793年憲法が制定された。
オ 国王ルイ16世と王妃マリ＝アントワネットがオーストリアへの逃亡を試みたが失敗し、パリに送還された。

- 1 イ → ア → オ → エ → ウ
- 2 イ → オ → ア → エ → ウ
- 3 イ → オ → ア → ウ → エ
- 4 オ → ア → イ → ウ → エ
- 5 オ → ア → イ → エ → ウ

(8) アヘン戦争について述べた次の文章を読み、1～5より誤っているものを一つ選べ。

解答番号は

- 1 清の茶をイギリスに、イギリスの綿製品をインドに、インド産のアヘンを清に運ぶ三角貿易により、清から大量の銀が国外に流出した。
- 2 アヘンの密貿易の増加に伴い、清は林則徐を上海に派遣して取締りにあたさせた。
- 3 清はイギリスと南京条約を結び、香港島の割譲、上海・寧波・福州・厦門・広州の5港の開港、公行の廃止、賠償金の支払いなどを認めた。
- 4 虎門寨追加条約により、清はイギリスに片務的最恵国條款や開港場におけるイギリス人の土地租借および住居建築などを認めた。
- 5 清はイギリスに続き、アメリカと望厦条約、フランスと黄埔条約を結んだ。

(9) 次の表はアメリカ合衆国への移民の数の推移を年代別に表しており、表中のア～エは日本、メキシコ、アイルランド、ソ連（ロシア）のいずれかを示している。各国の組み合わせとして正しいものを1～5より一つ選べ。解答番号は

<表> 1861年～1960年におけるアメリカ合衆国への移民の推移

著作権保護の観点により、表を掲載いたしません。

出典：アメリカ合衆国国土安全保障省 (<https://www.dhs.gov/immigration-statistics/yearbook/2000>)
webページよりDLできるPDFファイル19-20ページに掲載されている表より数値を引用して、問題を作成。

『2000 Statistical Yearbook of the Immigration and Naturalization Service』より作成

- | | | | | |
|---|-----------|-----------|-----------|--------|
| 1 | ア ソ連（ロシア） | イ アイルランド | ウ メキシコ | エ 日本 |
| 2 | ア メキシコ | イ アイルランド | ウ ソ連（ロシア） | エ 日本 |
| 3 | ア ソ連（ロシア） | イ 日本 | ウ アイルランド | エ メキシコ |
| 4 | ア アイルランド | イ ソ連（ロシア） | ウ メキシコ | エ 日本 |
| 5 | ア アイルランド | イ 日本 | ウ ソ連（ロシア） | エ メキシコ |

(10) 第一次世界大戦において、同盟国側で参戦した国の正しい組み合わせを、1～5より一つ選べ。
解答番号は

- | | | | |
|---|--------|-------|----------------|
| 1 | オスマン帝国 | ロシア | オーストリア＝ハンガリー帝国 |
| 2 | オスマン帝国 | フランス | ロシア |
| 3 | フランス | ポルトガル | オーストリア＝ハンガリー帝国 |
| 4 | ロシア | ブルガリア | ポルトガル |
| 5 | オスマン帝国 | ブルガリア | オーストリア＝ハンガリー帝国 |

3 地理に関する次の(1)～(10)の問いに答えよ。

(1) 次のア～エのうち、A国の排他的経済水域において、A国の権利義務を害しない限り、A国以外の国も有する権利として正しいものを○、誤っているものを×とした場合、正しい組合せはどれか。1～5から一つ選べ。解答番号は

- ア 漁獲の自由
- イ 航行の自由
- ウ 上空飛行の自由
- エ 海底電線・パイプライン敷設の自由

	ア	イ	ウ	エ
1	×	×	○	×
2	×	○	○	○
3	×	×	×	×
4	○	○	×	○
5	○	○	○	×

(2) 下の表1は、2018(平成30)年における日本、イタリア、オランダ、スウェーデン、フランスの穀類、野菜類、果実類、肉類、牛乳・乳製品の品目別自給率をそれぞれ示したものである。イタリアに該当するものはどれか。1～5から一つ選べ。解答番号は

表 1

単位(%)

	穀類	野菜類	果実類	肉類	牛乳・乳製品
1	102	34	6	76	84
2	176	72	65	103	104
3	10	347	39	253	157
4	63	149	109	74	85
5	28	78	38	51	59

(農林水産省の資料より作成)

(3) 次の文章は、アジアのある国について述べたものである。該当する国はどれか。1～5から一つ
選べ。解答番号は

東南アジア諸国連合（ASEAN）の原加盟国であり、「東南アジア諸国連合（ASEAN）設立
宣言」はこの国の首都で採択された。2019年における天然ゴムの生産量は484万トンで
世界1位、輸出量も世界1位である。国土はインドシナ半島の中央部を占め、国土面積は
51.3万km²で日本の1.36倍である。

(外務省の資料及び『データブック オブ・ザ・ワールド』2022年版より作成)

- 1 タイ
- 2 ベトナム
- 3 マレーシア
- 4 ミャンマー
- 5 インドネシア

(4) 下の表2は、1994年におけるブラジルの輸出額の多い上位10品目と、総輸出額に占める品目別輸出額の割合をそれぞれ示したものである。表3は、2019年におけるブラジルの輸出額の多い上位10品目と、総輸出額に占める品目別輸出額の割合をそれぞれ示したものである。表2及び表3中の品目ア～エの組合せとして正しいものはどれか。1～5から一つ選べ。

解答番号は

表 2

品目	輸出額(百万ドル)	割合(%)
ア	5,230	12.0
鉄鋼	4,120	9.5
自動車	2,958	6.8
鉄鉱石	2,294	5.3
イ	2,220	5.1
植物性油かす	2,029	4.7
はきもの	1,537	3.5
果実	1,337	3.1
肉類	1,333	3.1
ウ	1,316	3.0

総輸出額は43,558百万ドル

(『世界国勢図会』1998/99年版より作成)

表 3

品目	輸出額(百万ドル)	割合(%)
ウ	26,077	11.6
原油	24,200	10.7
鉄鉱石	22,682	10.1
肉類	16,325	7.2
ア	16,299	7.2
鉄鋼	11,546	5.1
自動車	8,912	4.0
パルプ・古紙	7,477	3.3
エ	7,290	3.2
石油製品	6,112	2.7

総輸出額は225,383百万ドル

(『世界国勢図会』2021/22年版より作成)

- | | ア | イ | ウ | エ |
|---|-------|--------|--------|--------|
| 1 | コーヒー豆 | 大豆 | 機械類 | とうもろこし |
| 2 | コーヒー豆 | 機械類 | とうもろこし | 大豆 |
| 3 | 機械類 | コーヒー豆 | 大豆 | とうもろこし |
| 4 | 大豆 | とうもろこし | 機械類 | コーヒー豆 |
| 5 | 機械類 | コーヒー豆 | とうもろこし | 大豆 |

(5) 下の表4は、アジア、アフリカ、オーストラリア、北アメリカ、南極、南アメリカ、ヨーロッパにおける高度別面積割合をそれぞれ示したものである。南極に該当するものはどれか。1～5から一つ選べ。解答番号は

表 4

単位(%)

	200m 未満	200m 以上 500m 未満	500m 以上 1,000m 未満	1,000m 以上 2,000m 未満	2,000m 以上 3,000m 未満	3,000m 以上 4,000m 未満	4,000m 以上 5,000m 未満	5,000m 以上
1	6.4	2.8	5.0	22.0	37.6	26.2	0.0	—
2	24.6	20.2	25.9	18.0	5.2	2.0	4.1	1.1
3	52.7	21.2	15.2	5.0	2.0	0.0	0.0	—
4	29.9	30.7	12.0	16.6	9.1	1.7	0.0	0.0
5	9.7	38.9	28.2	19.5	2.7	1.0	0.0	0.0
オーストラリア	39.3	41.6	16.9	2.2	0.0	0.0	0.0	—
南アメリカ	38.2	29.8	19.2	5.6	2.2	2.8	2.2	0.0

アジアにはカフカスを含む、ヨーロッパにはカフカスを含まない。

オーストラリアにはニューギニアなどを含む。

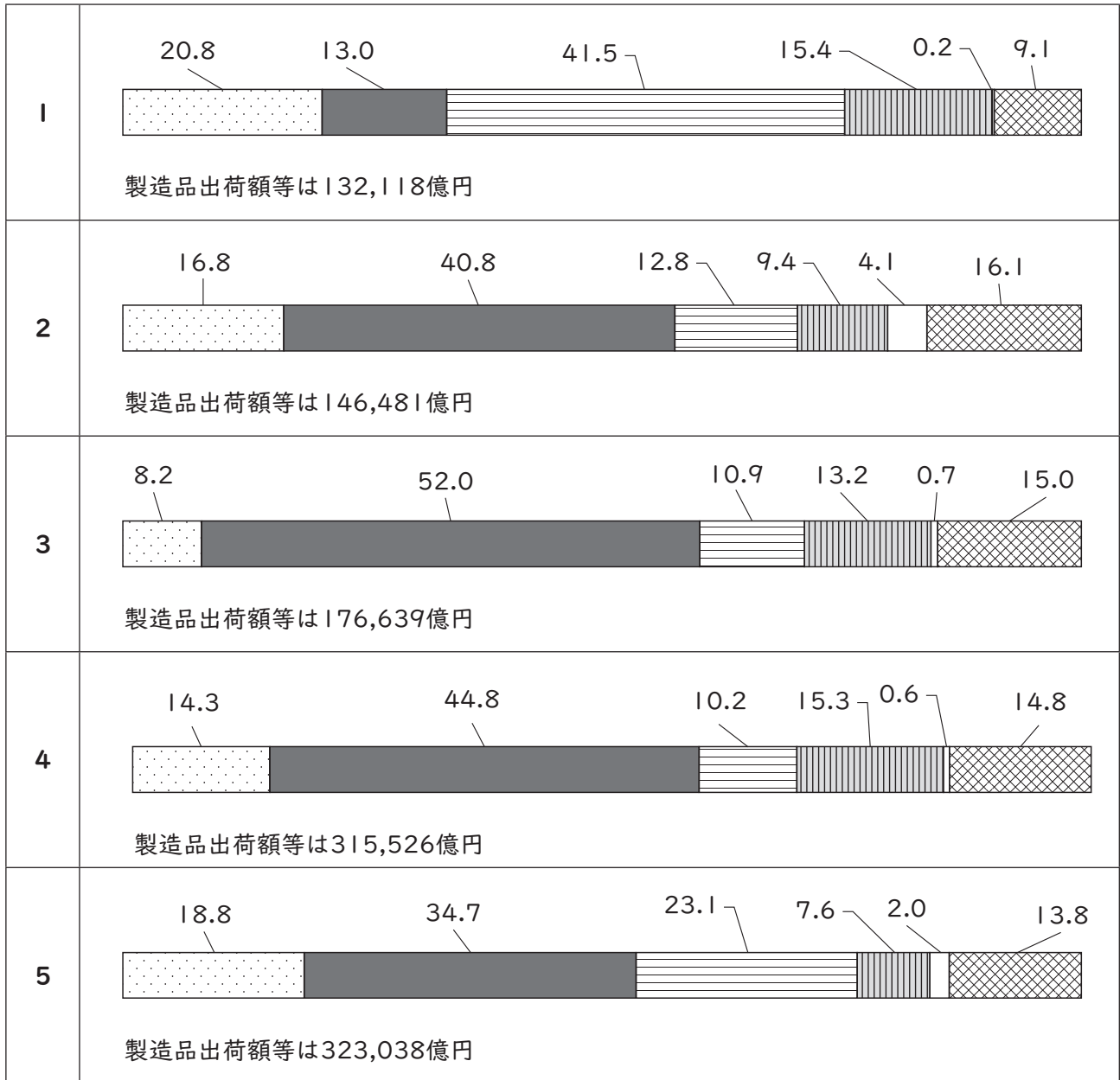
「0.0」について陸地は存在するが数値処理の関係で0.1に満たないことを、「—」について陸地が存在しないことをそれぞれ示している。

(『データブック オブ・ザ・ワールド』2022年版より作成)

(6) 次の 1～5 のグラフは、2018（平成30）年における北関東工業地域、京葉工業地域、瀬戸内工業地域、東海工業地域、北陸工業地域の製造品出荷額等と製造品出荷額等の構成をそれぞれ示したものである。瀬戸内工業地域に該当するものはどれか。1～5から一つ選べ。

解答番号は

単位(%)



金属工業
 機械工業
 化学工業
 食料品工業
 繊維工業
 その他の工業

各工業地域の製造品出荷額等と製造品出荷額等の構成は、下記に示す県を合計したものである。

北関東工業地域は、茨城県、栃木県、群馬県。

京葉工業地域は、千葉県。

瀬戸内工業地域は、岡山県、広島県、山口県、香川県、愛媛県。

東海工業地域は、静岡県。

北陸工業地域は、新潟県、富山県、石川県、福井県。

(『日本国勢図会』2021/22年版より作成)

(7) 下の表5は、2020（令和2）年における青森県、岩手県、高知県、長野県、宮崎県の農業産出額、農業産出額に占める米、野菜、果実、畜産のそれぞれの産出額割合、耕地率、林野面積率を示したものである。青森県と岩手県に該当する正しい組合せはどれか。1～5から一つ選べ。

解答番号は

表 5

	農業 産出額 (億円)	農業産出額に占める割合 (%)				耕地率 (%)	林野 面積率 (%)
		米 (%)	野菜 (%)	果実 (%)	畜産 (%)		
ア	3,262	16.8	25.2	27.8	27.1	15.5	64.9
イ	3,348	5.2	20.3	3.9	64.4	8.4	75.7
ウ	1,113	10.2	63.9	10.0	7.4	3.7	83.7
エ	2,741	20.6	10.7	5.2	59.4	9.8	75.4
オ	2,697	15.3	33.0	33.1	10.0	7.8	75.9

(農林水産省の資料及び『データブック オブ・ザ・ワールド』2022年版より作成)

	青森県	岩手県
1	ア	イ
2	ア	エ
3	オ	イ
4	ウ	エ
5	オ	エ

(8) 下の表6は、2019年におけるイギリス、イタリア、オランダ、スペイン、フランスの輸出比率、輸出額の多い上位3品目、輸出相手国のうち輸出額の多い上位3か国をそれぞれ示したものである。イギリスに該当するものはどれか。1～5から一つ選べ。解答番号は

表 6

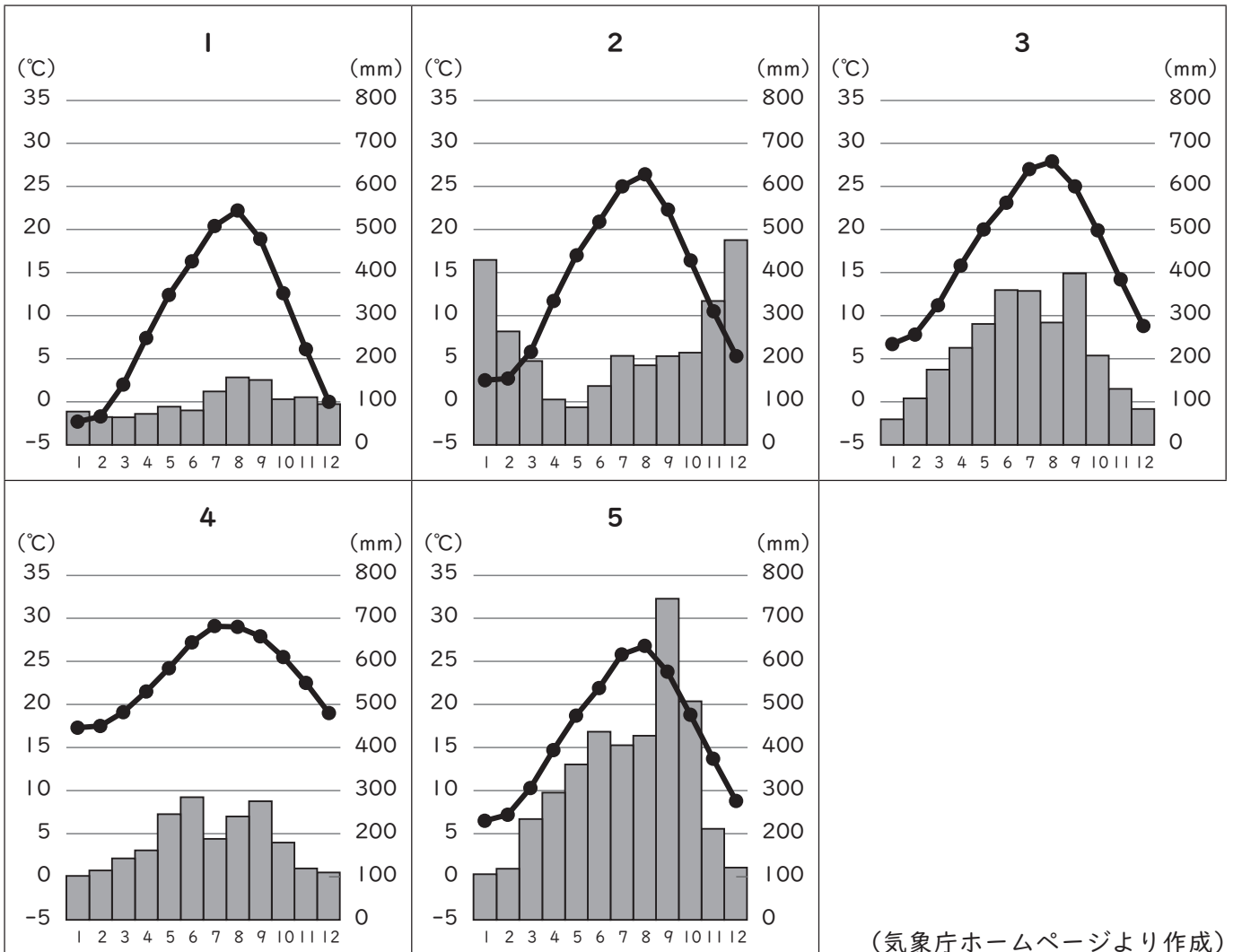
	輸出比率 (%)	輸出額上位3品目			輸出相手国上位3か国		
		1位	2位	3位	1位	2位	3位
1	42.6	機械類	自動車	医薬品	アメリカ	ドイツ	フランス
2	46.7	機械類	航空機	自動車	ドイツ	アメリカ	イタリア
3	47.3	自動車	機械類	野菜と果実	フランス	ドイツ	イタリア
4	52.9	機械類	石油製品	医薬品	ドイツ	ベルギー	フランス
5	52.9	機械類	自動車	医薬品	ドイツ	フランス	アメリカ

輸出比率は輸出入額合計に対する輸出の割合を示す。
フランスはモナコを含む。

(『データブック オブ・ザ・ワールド』2021年版より作成)

(9) 次の1～5のグラフのうち、図1中の地点Aの月平均気温、月降水量を示したものはどれか。

1～5から一つ選べ。解答番号は



(気象庁ホームページより作成)

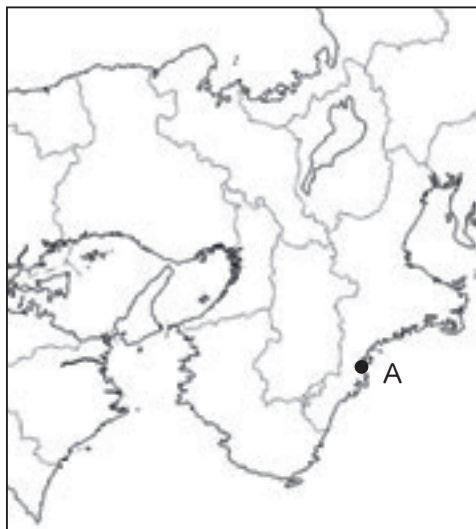



図 1

(10) 下の図2は、国土地理院が発行する2万5千分1地形図『西宮』（平成30年5月1日発行）の一部を約150%に拡大したものである。下の文章は、図2について読み取った内容をまとめたものである。文中のア～エに当てはまる語句の正しい組合せはどれか。1～5から一つ選べ。

解答番号は



図 2

保健所はJR東海道本線より（ア）にある。
 芦屋川とJR東海道本線が交差する地点の地形について、芦屋川は（イ）となっている。
 国土地理院が発行する2万5千分1地形図において、芦屋川駅と阪神電鉄本線芦屋駅との直線距離は4cmであり、実際の距離は（ウ）mである。
 JR東海道本線芦屋駅の近くにある  の地図記号は（エ）を示している。

- | | ア | イ | ウ | エ |
|---|---|-----|-------|------|
| 1 | 北 | 天井川 | 1,000 | 工場 |
| 2 | 北 | かれ川 | 2,000 | 発電所等 |
| 3 | 南 | 天井川 | 1,000 | 発電所等 |
| 4 | 南 | 天井川 | 2,000 | 工場 |
| 5 | 南 | かれ川 | 1,000 | 発電所等 |

4 次の問1、問2に答えよ。

問1 次の文章は、『高等学校学習指導要領（平成30年告示）解説 公民編』の一部である。この文章を読み、下の(1)～(5)の問いに答えよ。

政治と法の意義と機能、①基本的人権の保障と法の支配、権利と義務との関係、②議会制民主主義、③地方自治、経済活動と市場、経済主体と経済循環、国民経済の大きさと経済成長、物価と景気変動、④財政の働きと仕組み及び⑤租税などの意義、金融の働きと仕組みについて理解できるようにするとともに、現代日本の政治・経済に関わる諸課題について多面的・多角的に考察、構想し、その過程や結果を適切に表現できるようにする。

(1) 下線部①に関連して、日本国憲法に規定されている基本的人権の一つである自由権の内容についての説明として、誤っているものを1～5から一つ選べ。解答番号は

- 1 日本国憲法では、集会・結社・言論・出版の自由を保障しており、通信の秘密についても規定されている。
- 2 日本国憲法では、国及びその機関が宗教的活動をすることを禁じているが、これまで最高裁判所において、愛媛県が特定の神社への玉串料等を公金から支出することについて、違憲判決が出されたことがある。
- 3 日本国憲法では、居住・移転・職業選択の自由を保障しており、外国への移住や国籍の離脱の自由についても規定されている。
- 4 日本国憲法では、財産権を保障しており、その権利の内容は、個人の尊厳に適合するように、法律において定めると規定されている。
- 5 日本国憲法では、令状主義や拷問の禁止に加え、自己に不利益な唯一の証拠が本人の自白である場合には、有罪とされ、又は刑罰を科せられないと規定されている。

(2) 下線部②に関連して、日本の国会の説明として、誤っているものを1～5から一つ選べ。

解答番号は

- 1 衆議院と参議院の議決が一致しない場合に意見を調整するために設けられる両院協議会は、各議院とも10名の委員で組織される。
- 2 法律案や予算の議決などにおいて、衆議院と参議院の議決が一致しない場合、一定の要件の下で衆議院の優越が認められている。
- 3 衆議院と参議院では、現在それぞれ17の常任委員会が設けられており、その他特別の案件を審査するための特別委員会が設置されている。
- 4 衆議院の解散による衆議院議員総選挙の日から30日以内に臨時国会が開かれ、内閣総理大臣の指名が行われる。
- 5 衆議院と参議院にそれぞれ議院規則制定権があり、規則に違反した議員を懲罰にかけることができる。

(3) 下線部③に関連して、地方公共団体に関する説明として、正しいものを1～5から一つ選べ。

解答番号は

- 1 現在、地方公共団体で行われている事務は、自治事務、法定受託事務、機関委任事務に分類される。
- 2 法定受託事務は、国政選挙や旅券の交付、介護保険サービスなど国が本来果たす役割に係る事務を国に代わって地方公共団体が行う事務である。
- 3 国庫補助負担金改革、税源移譲、地方交付税の見直しの三つを一体として行う「三位一体の改革」と呼ばれる改革が2002（平成14）年の閣議決定から進められ、その後に国から地方へ税源移譲がなされた。
- 4 地方公共団体の歳出は、地方債以外の歳入をもって、その財源としなければならないとされており、地方債の発行は現在認められていない。
- 5 地方財政における国からの地方交付税交付金は義務教育や道路の整備などの特定の事業に用途が限定されている。

(4) 下線部④に関連して、財政や財政の役割に関する説明として、誤っているものを1～5から一つ選べ。解答番号は

- 1 政府は、所得格差を是正するために、累進課税制度や社会保障制度を通じて、高所得者から低所得者に所得の再分配を行う。
- 2 政府は、警察・防衛・消防などの公共サービスや、道路・橋などの社会資本を供給することにより資源配分の調整を行う。
- 3 政府が、好況時には公共投資を増加させ、不況時には減少させるフィスカル・ポリシーを行うことにより、経済の安定化が図られている。
- 4 政府が行う租税制度や社会保障制度には、景気変動とともに自動的に経済の安定を図るように作用するビルト・イン・スタビライザーの機能をみることができるとされている。
- 5 政府は、財政と金融を関連づける政策など、複数の政策手段を組み合わせるポリシー・ミックスにより、現代における複雑な経済状況に対応している。

(5) 下線部⑤に関連して、日本における税は、課税主体が国である国税と、地方公共団体である地方税に分類することができる。国税と地方税の分類として、正しい組合せを1～5から一つ選べ。

解答番号は

- | | |
|------------------|------------------|
| 1 (国税)：関税・たばこ税 | (地方税)：所得税・住民税 |
| 2 (国税)：法人税・固定資産税 | (地方税)：関税・住民税 |
| 3 (国税)：関税・酒税 | (地方税)：法人税・自動車税 |
| 4 (国税)：所得税・住民税 | (地方税)：たばこ税・酒税 |
| 5 (国税)：所得税・酒税 | (地方税)：固定資産税・自動車税 |

問2 倫理に関する下の(1)～(5)の問いに答えよ。

(1) 外的環境からの危険や内的な心理的葛藤によって生じる不安や衝動から自己を守るために行われる反応様式(防衛の手段)を一般に防衛機制と呼ぶが、防衛機制の説明として正しいもの1～5から一つ選べ。解答番号は

- 1 退行とは、反対の傾向を強調することによって自らが受容しがたい衝動を制御しようとする心的な態度のこと。
- 2 反動形成とは、適応するのが困難な状況下において、より未熟な段階に戻って困難を回避あるいは、それにより欲求不満を解消しようとする事。
- 3 抑圧とは、自らの受け入れがたい感情や衝動を排除し、他の人や物に位置付ける無意識の働きのこと。
- 4 投影(投射)とは、個人の不安や葛藤などの、苦痛をとまなう感情が生起するような問題となる観念を、意識から排除しようとする無意識の心的な働きのこと。
- 5 昇華とは、社会的に実現不可能な目標や満たすことができない欲求から、別のより高度で社会に認められる目標の実現によって自己実現を図ろうとすること。

(2) 紀元前6世紀から紀元前3世紀における古代ギリシャの哲学者や思想家に関する説明として、誤っているものを1～5から一つ選べ。解答番号は

- 1 タレス(Thalēs)は、生命は水気によって維持されるという生物観察から、万物の原理は水であるとされた。
- 2 ゴルギアス(Gorgiās)は、真理の基準を個々の人間の感覚に見立て、絶対的な真理の存在を否定し、相対主義の考え方をあらわした。
- 3 ソクラテス(Sōkratēs)は、徳は知であり、魂への配慮としての知の追求こそが真によく生きるために心がけるべきことであるとされた。
- 4 アリストテレス(Aristotelēs)は、自然の事象の原因となるものには、形相因、質料因、始動因、目的因の4種類あるとされた。
- 5 エピクロス(Epikouros)は、死後の不安などから解放されるならば、それだけでも人間はアタラクシアの境地に入ることができるが、生きているうちは安んじて快楽を追求すべきとされた。

- (3) 次の史料は、聖徳太子が制定したとされる十七条憲法の一部である。史料中の【ア】～【エ】に当てはまる適切な語句の組合せとして正しいものを1～5から一つ選べ。解答番号は

著作権保護の観点により、本文を掲載いたしません。

出典：高等学校 新倫理 新訂版
菅野覚明、熊野純彦、山田忠彰、柏木寧子、唐沢かおり、鈴木泉、古田徹也、
矢倉芳則、株式会社清水書院編集部著 株式会社清水書院
150ページ 上部

	【ア】	【イ】	【ウ】	【エ】
1	信	天	仁	正直
2	和	僧	礼	凡夫
3	和	天	礼	正直
4	義	天	仁	凡夫
5	和	僧	智	本願

- (4) 明治時代の自由民権思想家で、『民約訳解』を発表してルソーの社会契約・人民主権論を紹介するほか、西洋の近代民主主義思想を伝え、自由民権運動に理論的影響与えた人物は誰か。正しいものを1～5から一つ選べ。解答番号は

- 1 福沢諭吉
- 2 西周
- 3 中江兆民
- 4 森有礼
- 5 植木枝盛

- (5) 『存在と無』などを著したフランスの哲学者であるサルトル (Jean-Paul Sartre) の思想についての説明として、正しいものを1～5から一つ選べ。解答番号は

- 1 神との関係のもとで人間の自己に生じる絶望状態のことを死に至る病とし、肉体の死をもってすら終わることのない病であるとした。
- 2 人間存在としての実存が避けることができない死・苦悩・争い・罪などに直面している状況を限界状況とした。
- 3 キリスト教的・民主主義的倫理を弱者の奴隷道徳とみなし、強者の自律的道徳すなわち君主道徳を説き、その具現者を「超人」とした。
- 4 人間にあっては、実存が本質に先立つとし、人間の本質をあらかじめ規定するような神は存在しないとされた。
- 5 世界のうちに現に投げ出されて存在する人間を現存在と呼び、現存在が存在することを実存と名付けた。

5 現代社会の諸課題に関する次の(1)～(3)に答えよ。

(1) 次の文章は、内閣府ホームページ(「バブル/デフレ期の日本経済と経済政策」)の一部である。この文章を読み、ア～カの問いに答えよ。

- ・長期にわたって高度経済成長を続けてきた A 日本経済は、1970年代前半、その成長路線の変更を迫られることとなった。B 公害等の環境問題の深刻化、C IMF体制の揺らぎと変動相場制への移行、世界市場における日本の輸出品のシェアの拡大と貿易摩擦の発生、等が日本経済の成長の限界を示唆し始めていた。D 1973年末に発生した第1次石油危機は、世界の原油価格を一挙に4倍に高騰させ、激しいインフレをもたらした。
- ・E 1980年代後半は、急激に円高が進んだ時代でもあった。
- ・輸出関連産業を中心に業績が悪化、1985年6月からの1年余りの景気後退は「円高不況」と呼ばれた。
- ・1986年以降の F 低金利政策を受けて、銀行預金等の金利が低下したため、法人・個人は余剰資金の運用先として高利回りを求めて証券投資を選好した。

ア 下線部Aについて、次の①～②の問いに答えよ。

① 国民経済の大きさは一国の豊かさを示し、ストックとフローの両側面から見ることができる。次のa～eからストックに当たるものをすべて選び、記号で答えよ。

- a ある年の新車販売台数
- b ある年の卵の消費量
- c ある年の国債発行残高
- d ある年の着工建築物数
- e ある年の株式の保有株数

② 次の表はある国の経済指標を示している。表の中の数値を使って、GNI、NNP、NIを求めよ。

表

総生産額	350兆円
中間生産物	100兆円
海外からの純所得	8兆円
固定資本減耗	GDPの18%
間接税	30兆円
補助金	10兆円

イ 下線部Bについて、次の年表の【i】～【iv】に当てはまる適切な語句を答えよ。なお、【i】は漢字7字、【ii】【iii】は漢字5字、【iv】は4字で答えよ。

年	環境をめぐる動き・国内法制定等
1967	「【i】」公布
1971	環境庁発足
1993	【i】を発展的に継承し、環境に関する分野についての国の政策の基本的な方向を示す「【ii】」公布
1997	「環境影響評価法」公布
	気候変動枠組条約COP3（地球温暖化防止京都会議）「気候変動に関する国際連合枠組条約の【iii】」採択
2001	環境省発足
2015	国連気候変動枠組条約締約国会議（COP21）「【iv】」採択

ウ 下線部Cについて、ブレトン・ウッズ体制において採用された固定相場制での日本円は、1ドル何円であったか答えよ。

エ 下線部Dについて、1970年代の石油危機と最も関係があるものを一つ選び、記号で答えよ。

- a 世界貿易機関の設立
- b 産業構造の転換
- c デフレスパイラル
- d 消費者庁の設置
- e 戦後初の赤字国債発行

オ 下線部Eについて、1980年代後半、冷戦の終結が宣言されたが、国際社会は様々な課題に直面しており、国際連合が果たすべき役割はますます増大している。我が国は、2022年国連安保理非常任理事国選挙へ立候補し、12回目の当選を果たした。非常任理事国の地位と権限について、次の語句をすべて使って説明せよ。

「任期」 「再選」 「拒否権」

カ 下線部Fについて、低金利政策を実施したのはなぜか、次の語句をすべて使って説明せよ。

「プラザ合意」 「円高不況」 「為替相場」

(2) 次の文章は、令和3年版『高齢社会白書』、令和3年版『少子化社会対策白書』、首相官邸ホームページ（「今後の社会保障の在り方について」）の一部である。この文章を読み、ア～オの問いに答えよ。

- ・我が国の総人口は、2020年10月1日現在、1億2,571万人となっている。65歳以上人口は、3,619万人となり、総人口に占める割合（高齢化率）も28.8%となった。
- ・A 合計特殊出生率をみると、第1次ベビーブーム期には4.3を超えていたが、1950年以降急激に低下した。（中略）その後、B 2015年には1.45まで上昇したものの、2019年は1.36となり、前年の1.42を0.06ポイント下回った。
- ・少子高齢化の進行により、年金、医療、介護等のC 社会保障制度は、給付の面でもD 負担の面でも国民生活にとって大きなウエイトを占めてきており、家計や企業の経済活動に与える影響も大きくなっている。（中略）団塊世代が後期高齢者となる2025年も念頭に、今後の社会保障の在り方を考えるに当たっては、人口の高齢化や支え手の減少に対応した持続可能なものとするのが重要であり、E 給付と負担の在り方に加え、就業対策による担い手の拡大、関連する施策なども視野に入れて、一体的な見直しに取り組まなければならない。

ア 下線部Aについて、人口が増加も減少もしない均衡した状態となる合計特殊出生率の水準のことを何とよいか漢字6字で答えよ。

イ 下線部Bについて、2015年に最高裁判所は民法の女性の再婚禁止期間を6か月と定めた規定について、100日を超える部分は違憲とした。最高裁判所は一切の法律、命令、規則又は処分が憲法に適合するかしないかを決定する権限を有する終審裁判所である。この権限を何とよいか答えよ。

ウ 下線部Cについて、次の①～③に答えよ。

- ① 日本国憲法において生存権が規定されて以降、日本の社会保障制度は大きく発展し、様々な仕組みが整備されてきた。憲法25条の【i】～【iii】に当てはまる適切な語句を答えよ。

第二十五条 すべて国民は、【 i 】で文化的な【 ii 】の生活を営む権利を有する。
2 国は、すべての生活部面について、【 iii 】、社会保障及び公衆衛生の向上及び増進に努めなければならない。

- ② すべての国民に所得制限などの条件を設けず、定期的に一定額を政府が支給する社会保障政策を何とよいかカタカナ9字で答えよ。

- ③ 日本の公的年金は、20歳以上60歳未満の人が加入する「1階部分」と、会社などに勤務している人が加入する「2階部分」からなる「2階建て」の仕組みになっている。1階部分の年金を何とよいか答えよ。

エ 下線部Dについて、国民所得に対する租税負担と社会保障負担の割合を何とよいか漢字5字で答えよ。

オ 下線部Eについて、少子高齢社会における年金の賦課方式の課題を簡潔に説明せよ。

(3) 日本の思想に関する次のア～ウの問いに答えよ。

ア 鎌倉時代、浄土真宗を開いた親鸞の根本的な教えである「悪人正機」とはどのような教えか。「悪人」と「善人」の違いにも触れながら簡潔に説明せよ。

イ 江戸時代、『三徳抄』などを著し、師の藤原惺窩により幕府に推薦され、徳川家康から家綱まで4代の将軍に仕えた朱子学者は誰か。名前を記せ。

ウ 明治から昭和にかけて、西田幾多郎は、西洋哲学を吸収しつつ、自らの思索と体験に基づいて独自の哲学を形成した。次の文章は『善の研究』の一部であり、文中の空欄【 D 】には同じ語句が入る。空欄【 D 】に入る語句を記せ。

著作権保護の観点により、本文を掲載いたしません。

出典：善の研究
西田幾多郎著 株式会社岩波書店
74ページ13行目から14行目まで

令和5年度大阪府公立学校教員採用選考テスト

三次選考択一問題の正答について

校種	高等学校	教科・科目	政治経済
----	------	-------	------

解答番号	正答番号	解答番号	正答番号	解答番号	正答番号	解答番号	正答番号
1	3	11	5	21	2	31	4
2	1	12	3	22	4	32	4
3	5	13	1	23	1	33	3
4	4	14	5	24	3	34	3
5	2	15	3	25	1	35	5
6	3	16	4	26	5	36	5
7	2	17	2	27	2	37	2
8	3	18	2	28	1	38	2
9	1	19	4	29	5	39	3
10	2	20	5	30	3	40	4

受験番号	
------	--

令和5年度大阪府公立学校教員採用選考テスト

高等学校 公民（政治・経済） 解答用紙 (3枚のうち1)

5

得点	
----	--

--

(1)	ア	①	c・e	/		
		②	GNI 258兆円	/	NNP 213兆円	/
			NI 193兆円	/		
	イ	【i】 公害対策基本法	/	【ii】 環境基本法	/	
		【iii】 京都議定書	/	【iv】 パリ協定	/	
	ウ	360円	/			
	エ	b	/			
		<p>非常任理事国は、全加盟国による投票によって毎年半数が改選され、任期は2年で引き続いて再選される資格はない。安保理（安全保障理事会）の決定事項に関する投票権を有するが、常任理事国が有する拒否権は有さない。</p>			/	
		<p>プラザ合意以降、円高が進行し日本経済は円高不況に見舞われた。日本銀行は円高不況からの回復と為替相場の安定化を図るため、公定歩合の引き下げを行い、低金利政策を実施した。</p>			/	

--

--

--

--

--

--

受験番号	
------	--

令和5年度大阪府公立学校教員採用選考テスト

高等学校 公民（政治・経済） 解答用紙 (3枚のうち2)

5 (続き)

(2)	ア	人口置換水準	/		
	イ	法令審査権（違憲審査権）	/		
	ウ	①	【i】 健康	/	【ii】 最低限度 /
			【iii】 社会福祉	/	
	エ	②	ベーシックインカム	/	
		③	国民年金（基礎年金）	/	
		エ	国民負担率	/	
		<p>現役世代が負担する保険料を財源とする賦課方式では、少子高齢化が進行すると、保険料を負担する現役世代の人数が減り、年金を受け取る高齢者の人数が増加するため、年金財政の安定化に課題が生じる。</p>		/	

受験番号	
------	--

令和5年度大阪府公立学校教員採用選考テスト

高等学校 公民（政治・経済） 解答用紙 （3枚のうち3）

5 (続き)

--

(3)	ア	阿弥陀仏は、自力作善の善人でさえ救済（往生）するのだから、煩惱具足を自覚して阿弥陀仏の本願を無条件に信じる悪人は、当然救済（往生）され るといふ教え。	/	<input type="checkbox"/>
	イ	林羅山	/	<input type="checkbox"/>
	ウ	主観客観	/	<input type="checkbox"/>